

# باقية الأسئلة النظرية

المادة: فيزياء



# الأستاذة: كنانة شموط

KENANA SHAMMOUT

2025/2024

KENANA SHAMMOUT

الصف: التاسع

11. تكون جهة التيار الكهربائي المتحرض بحيث يولد أفعالاً مغناطيسية:

توافق السبب الذي أدى إلى نشوء الحقل المغناطيسي	تعاكس السبب الذي أدى إلى نشوء الحقل المغناطيسي
توافق السبب الذي أدى إلى حدوث التيار الكهربائي	تعاكس السبب الذي أدى إلى حدوث التيار الكهربائي

12. يقوم المولد بتحويل الطاقة الحركية إلى:

مغناطيسية	كهربائية
نووية	حرارية

13. يتولد تيار متحرض في دائرة مغلقة إذا:

ازداد التدفق المغناطيسي الذي يجتاز سطحها فقط	تناقص التدفق المغناطيسي الذي يجتاز سطحها فقط
تغير التدفق المغناطيسي الذي يجتاز سطحها	تغير التيار المتحرض نفسه

14. المولد الكهربائي يحول الطاقة الميكانيكية إلى طاقة:

مغناطيسية	كهربائية
حركية	كامنة

15. المحرك الكهربائي يحول الطاقة الكهربائية إلى طاقة:

مغناطيسية	كهربائية
حركية	كامنة

16. إذا تغير التدفق المغناطيسي في دائرة مغلقة تولد فيها:

تيار كهربائي منحرض	طاقة حركية
تيار كهربائي محرض	طاقة نووية

17. عند تقرب القطب الجنوبي للمغناطيس من وشيعة يصبح وجه الوشيعة المقابل للمغناطيس:

شمالي	جنوبي
موجب	سالب

18. شدة الحقل المغناطيسي المتولد في مركز وشيعة يمر فيها تيار كهربائي تعطى بالعلاقة:

$B = \pi \times 10^{-7} \frac{NI}{l}$	$B = 2\pi \times 10^{-7} \frac{NI}{l}$
$B = 4\pi \times 10^{-7} \frac{NI}{l}$	$B = 2\pi \times 10^{-7} \frac{NI}{l}$

19. شدة الحقل المغناطيسي المتولد في مركز ملف دائري يمر فيه تيار كهربائي تعطى بالعلاقة:

$B = \pi \times 10^{-7} \frac{NI}{l}$	$B = 2 \times 10^{-7} \frac{NI}{r}$
$B = 2\pi \times 10^{-7} \frac{NI}{l}$	$B = 4\pi \times 10^{-7} \frac{NI}{r}$

20. يعطى عزم قوة حول محور الدوران بالعلاقة:

$\Gamma = d \div F$	$\Gamma = d + F$
$\Gamma = d \cdot F$	$\Gamma = d - F$

21. وحدة قياس عزم القوة في الجملة الدولية:

$m/N$	$kg \cdot m$
$m/g$	$m \cdot N$

السؤال الأول: اختر الإجابة الصحيحة لكل مما يأتي:

1. تيار كهربائي مستقيم يولد في نقطة تبعد عنه مسافة  $d$  حقلاً مغناطيسياً تساوي  $B$  تكون شدة الحقل المغناطيسي على بعد  $2d$  تساوي:

$3B$	$B$
$B/2$	$2B$

2. التسلا: هي وحدة قياس:

شدة الحقل المغناطيسي	فرق الكمون
شدة التيار	شدة الحقل الكهربائي

3. يولد سلك مستقيم حوله وفي نقطة ما حقلاً مغناطيسياً شدته  $B$  نضاعف طول السلك فتكون شدة الحقل المغناطيسي:

$3B$	$B$
$B/2$	$2B$

4. عندما يمر تير في وشيعة فإنها تولد حقلاً مغناطيسياً:

منتظماً داخل الوشيعة وخارجها	منتظماً خارج الوشيعة فقط
منتظماً داخل الوشيعة فقط	غير منتظم

5. وشيعة عدد لفاتها  $N$  لفة تمر فيها تياراً متواصلاً شدته  $I$  ، فيتولد عند مركز الوشيعة حقل مغناطيسي شدته  $B$  نزيد عدد اللفات ليصبح  $4N$  ، ونمرر التيار نفسه ، فتصبح شدة الحقل المغناطيسي المتولد في مركز الوشيعة:

$3B$	$B$
$4B$	$2B$

6. ملف دائري يمر فيه تيار كهربائي شدته  $I$  ، فتكون شدة الحقل المغناطيسي في مركزه  $0.02T$  ، عند زيادة شدة التيار الكهربائي إلى  $3I$  ، فإن شدة الحقل المغناطيسي تصبح:

$0.06T$	$0.01T$
$0.001T$	$0.03T$

7. تكون شدة القوة الكهرطيسية عظمى في تجربة السكتين إذا كانت خطوط الحقل المغناطيسي:

تعامد الساق المتدرجة	تصنع زاوية حادة مع الساق
توازي الساق المتدرجة	تصنع زاوية منفرجة مع الساق المتدرجة

8. يدور دولا ببارلو عند مرور تيار كهربائي فيه بتأثير عزم القوة:

الكهربائية	المغناطيسية
العضلية	الكهرطيسية

9. تتحول الطاقة الكهربائية إلى طاقة حركية في:

المصباح الكهربائي	الخلية الشمسية
المحرك الكهربائي	المولد الكهربائي

10. يكون التدفق المغناطيسي أعظمية في وشيعة إذا كانت:

خطوط الحقل المغناطيسي تعامد وجه الوشيعة	خطوط الحقل المغناطيسي تصنع زاوية منفرجة مع وجه الوشيعة
خطوط الحقل المغناطيسي تعامد وجه الوشيعة	خطوط الحقل المغناطيسي تصنع زاوية حادة مع وجه الوشيعة

22. قوة شدتها 60N وعزمها حول محور الدوران  $1.2m \cdot N$  ، فيكون طول ذراعها:

0.2m	1m
2m	0.02m

23. قوة شدتها F عزمها حول محور الدوران  $\Gamma$  ، تزيد شدة القوة إلى مثلي ما كانت عليه ، وننقص طول الذراع إلى نصف ما كان عليه ، فيصبح عزمها:

$\Gamma$	$2\Gamma$
$3\Gamma$	$6\Gamma$

24. قوة شدتها F عزمها حول محور الدوران  $\Gamma$  ، تزيد شدة القوة إلى أربعة أمثال ما كانت عليه، فيصبح عزمها:

$4\Gamma$	$2\Gamma$
$3\Gamma$	$6\Gamma$

25. حاملًا قوتي المزدوجة:

متوازنان	منطبقان
متلاقيان	متعامدان

26. وحدة قياس عزم المزدوجة في الجملة الدولية:

m. kg	m/N
m. N	m/g

27. يعطى عزم المزدوجة بالعلاقة:

$\Gamma = d + F$	$\Gamma = d \div F$
$\Gamma = d - F$	$\Gamma = d \cdot F$

28. تؤثر مزدوجة على الفرجار، فإذا كانت شدة من قوتها  $10N$  وقطر مقبض الفرجار  $2.5mm$  فيكون عزم المزدوجة المؤثرة على الفرجار مساويًا:

$250m \cdot N$	$0.025m \cdot N$
$0.25m \cdot N$	$25m \cdot N$

**السؤال الثاني: ضع كلمة (صح) أمام العبارة الصحيحة وكلمة (غلط) أمام العبارة المغلوطة فيها، ثم صححها:**

- تزداد شدة الحقل المغناطيسي المتولد عن سلك مستقيم يمر فيه تيار كهربائي كلما ابتعدنا عنه. **غلط الصواب: تنقص**
- أشعة الحقل المغناطيسي المتولدة عن تيار كهربائي ماسة لخطوط الحقل. **صح**
- خطوط الحقل المغناطيسي المتولدة داخل وشيعة يمر فيها تيار كهربائي **تعتمد محور الوشيعة. غلط الصواب: توازي**
- خطوط الحقل المغناطيسي المتولدة في مركز ملف دائري يمر فيه تيار كهربائي تنطبق على أقطار الملف. **غلط الصواب: تعامد**
- في تجربة السكتين تتعدم شدة القوة الكهرومغناطيسية إذا كانت خطوط الحقل المغناطيسي المنتظم **تعتمد** الساق التي يمر فيها التيار الكهربائي المتواصل. **غلط الصواب: توازي**
- تزداد شدة القوة الكهرومغناطيسية كلما زادت شدة التيار الكهربائي المسبب لها. **صح**
- في تجربة السكتين **تزداد** شدة القوة الكهرومغناطيسية بنقصان شدة الحقل المغناطيسي المؤثر على الساق المتحركة. **غلط الصواب: تنقص**
- المحرك الكهربائي يحول الطاقة الحركية إلى الكهربائية. **غلط الصواب: الكهربائية إلى حركية**
- يتولد تيار كهربائي متحرض في دارة مغلقة إذا تغير التدفق الكهربائي الذي يجتازها. **غلط الصواب: المغناطيسي**
- يقوم المولد بتحويل الطاقة الكهربائية إلى طاقة حركية. **غلط الصواب: الحركية إلى كهربائية**

11. عند تقريب القطب الشمالي لمغناطيس من وشيعة يصبح وجه الوشيعة المقابل للمغناطيس شماليًا. **صح**

12. يتولد تيار كهربائي متحرض عند تحريك ملف دائري في حقل مغناطيسي منتظم بحيث تكون خطوط الحقل المغناطيسي **توازي** سطح الملف. **غلط الصواب: لا توازي**

13. كلما اقتربنا من سلك يمر فيه تيار كهربائي زادت شدة الحقل المغناطيسي المتولد عنه. **صح**

14. شدة القوة الكهرومغناطيسية تتناسب طرديًا مع شدة التيار الكهربائي المار بالسلك الخاضع للحقل المغناطيسي فقط. **غلط الصواب: (هناك عوامل**

**أخرى، شدة الحقل المغناطيسي، طول الجزء المتعرض للحقل من السلك،.....)**

15. يمكن لسلك يمر فيه تيار كهربائي أن يؤثر بسلك يوازيه ويمر فيه تيار كهربائي آخر بقوة كهرومغناطيسية. **صح**

16. تكون شدة القوة الكهرومغناطيسية عظمى عندما **يتوازي** الحقل المغناطيسي مع السلك الذي يمر فيه تيار كهربائي. **غلط الصواب: يتعامد**

17. ينعدم عزم القوة إذا كان حاملها يلاقي محور الدوران. **صح**

18. يتعلق عزم القوة بشدة القوة فقط. **غلط الصواب: يتعلق عزم القوة بشدة القوة وذراع القوة**

19. يكون عزم القوة موجباً إذا استطاعت القوة تدوير الجسم **بجهة** دوران عقارب الساعة. **غلط الصواب: بعكس جهة عقارب الساعة**

20. يمكن فتح الباب بتطبيق قوة حاملها **يمر** بمحور الدوران. **غلط الصواب: لا يمر ولا يوازي**

**السؤال الثالث: أعط تفسيراً "علمياً" لكل مما يأتي:**

- انحراف الإبرة المغناطيسية عند مرور تيار كهربائي في الساق النحاسية ضمن الدارة الكهربائية المغلقة.
  - بسبب تولد حقل مغناطيسي نتيجة مرور تيار كهربائي في الساق النحاسية الخشبية.
  - تدحرج الساق المعدنية في تجربة السكتين الكهرومغناطيسية.
  - بسبب القوة الكهرومغناطيسية المؤثرة على الساق.
  - حركة شفرات المروحة عند مرور التيار الكهربائي فيها.
  - بسبب وجود قوة محركية تحرك هذه الشفرات تدعى القوة الكهرومغناطيسية
  - تزداد سرعة دوران شفرات المروحة بزيادة شدة التيار الكهربائي المار فيها.
  - بسبب ازدياد شدة القوة الكهرومغناطيسية المتولدة.
  - تتغير جهة دوران دولا ببارلو بتبديل قطبي المغناطيس.
  - بسبب تغير جهة القوة الكهرومغناطيسية.
  - توضع قبضة الباب أبعد ما يمكن عن محور دورانه.
  - لجعل الذراع أكبر ما يمكن وبالتالي عزم القوة أكبر ما يمكن.
  - تكون شفرات العنفات الهوائية ذات سطح، ونصف قطر كبير.
  - لجعل القوة أكبر ما يمكن، وللحصول على عزم أكبر.
  - نستخدم بكرة قطر ها كبير لرفع الأثقال الكبيرة.
  - لجعل الذراع أكبر ما يمكن وبالتالي عزم القوة أكبر ما يمكن.
  - نلجأ إلى استخدام مفتاح الصامولة عندما يصعب علينا فك الصامولة باليد.
  - لجعل الذراع أكبر ما يمكن وبالتالي عزم القوة أكبر ما يمكن.
  - لا تسبب المزدوجة حركة انحنائية للجسم.
- لأن قوتي المزدوجة متساويتان بالشدة ومتعاكستان بالاتجاه فتكون محصلتهما معدومة، وبالتالي لا تسببان حركة انحنائية.

**السؤال الرابع: قارن بين المحرك والمولد من حيث:**

(الطاقة المقدمة، الطاقة المأخوذة، الأجزاء التي يتألف منها)

المولد	المحرك	
حركية	كهربائية	الطاقة المقدمة
كهربائية	حركية	الطاقة المأخوذة
ملف + مغناطيس + مسفرنئين + خاتم	ملف + مغناطيس + مسفرنئين + خاتم	الأجزاء التي يتألف منها

**السؤال الخامس: أكمل الفراغات بالكلمات في كل من العبارات الآتية:**

2. قوتان متساويتان شدة ومتعاكستان جهة ومتوازيتان حاملا" ، إذا أثرتا في


جسم جعلته يدور. **المزدوجة**

3. البعد العمودي بين حامل القوة ومحور الدوران. **ذراع القوة**

4. الفعل التديوري للمزدوجة في الجسم **عزم المزدوجة**

5. يقاس عزم المزدوجة بالوحدة  **$m.N$**  في الجملة الدولية


6. يتناسب عزم القوة طردا" مع **شدة القوة و ذراع القوة**




**KENANA SHAMMOUT**

**KENANA SHAMMOUT**

**لازتناسم موفقين**



**KENANA SHAMMOUT**



**KENANA SHAMMOUT**