



موقع سوريا التعليمية

قناة التيلجرام

<https://t.me/syriaST>

طريقة الإجابة عن الأسئلة الامتحانية (مؤتمتة) لخريطة  
الجمهورية العربية السورية في مادة الجغرافية لطلاب الثالث  
الثانوي الأدبي بالاعتماد على الأجزاء من الخريطة

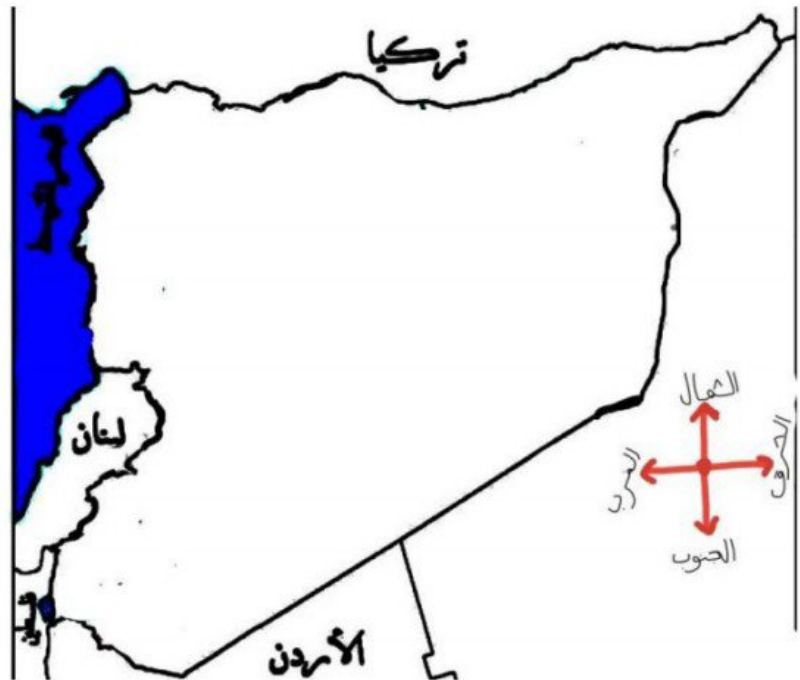
ملاحظات :

- في الامتحان النهائي يأتي لدينا الجزء الأول من الأسئلة لمادة الجغرافية تحتوي على ثلاث صفحات
- الصفحة الأولى تحتوي على أسئلة تتعلق بأجزاء من الخريطة وحدودها وبالإضافة إلى الأنهار والتضاريس التي تتميز بها كل جزء وكل محافظة.



موقع سوريا التعليمية

أولاً: الحدود الطبيعية والحدود السياسية



## العبارات التي يجب عليك حفظها.

- ينبع نهر العاصي من الجزء : الغربي ( من لبنان )
- يسير نهر العاصي في الجزء : الشمالي الغربي في المحافظات حمص . حماه
- يصيب نهر العاصي في البحر المتوسط في خليج السويدية
- ينبع نهر الفرات في الجزء الشمالي ( تركيا )
- يسير نهر الفرات في الجزء : الشمالي الشرقي في المحافظات ( الرقة راقده البليخ ) دير الزور ( راقده الخابور ) الحسكة . موقع سوريا التعليمية
- ينبع نهر الكبير الجنوبي في الجزء : الغربي (لبنان) ويصب في البحر المتوسط
- ينبع نهر الكبير الشمالي في : سفوح جبال اللاذقية ويصب في البحر المتوسط في محافظة اللاذقية
- يصب نهر السن في : البحر المتوسط
- ينبع نهر الاعوج : جبل الشيخ
- يشكل نهر اليرموك حدوداً طبيعية مع الأردن وفلسطين
- تتركز الرؤوس والخلجان في الجزء : الغربي
- تشكل جبال **الأمانوس** حدوداً طبيعية مع سورية وتركيا في الجزء : الشمالي الغربي
- تتركز التضاريس الجبلية من رؤوس وخلجان في الجزء : الشمالي الغربي
- يقع جبل سمعان في الجزء : الشمالي
- يقع جبل حارم وجبل الزاوية في الجزء الشمالي

- من الشمال : تركيا
- من الجنوب : الاردن وفلسطين
- من الغرب : البحر المتوسط ولبنان
- من الشرق : العراق
- الحدود الطبيعية من الغرب : (البحر المتوسط)

## موقع سوريا التعليمية

ثانياً: الأنهار والمحافظات : لدينا العديد من الأنهار الطبيعية منها أنهار عابرة (حدودية) والأنهار داخلية.

- الأنهار العابرة ( الحدودية ) الجزء الشمالي الشرقي:



لدينا من الشمال : نهر الفرات والذي ينبع تركيا شمالاً ويسير في الأراضي السورية باتجاه المحافظات الشرقية ولديه روافد عديدة ومنها : ( شمالي شرقي )

• محافظة الرقة: تقع على مجرى نهر الفرات ورافده البليخ

• محافظة دير الزور: تقع على مجرى نهر الفرات ورافده

الخابور

• محافظة الحسكة : تقع على روافد نهر الفرات ( الخابور )

لدينا أيضا في أقصى الجزء الشمالي الشرقي نهر دجلة : ينبع من تركيا ويعبر الحدود السورية العراقية

ب. من الأنهار العابرة ( الحدودية ) نهر العاصي :



ينبع نهر العاصي من لبنان (غربا) يسر في الأراضي السورية شمالاً في محافظات الوسطى ( حمص وحماه ) ويصب في البحر المتوسط في خليج السويدية .

• الأنهار الداخلية في الجزء الشمالي الغربي :



لدينا نهر الكبير الشمالي: ينبع من سفوح جبال اللاذقية ويصب في البحر المتوسط في محافظة اللاذقية ( غربا )

نهر السن : يعد اقصر مجرى له ينبع من جبال اللاذقية يصب في البحر المتوسط .



أ. الأنهار الداخلية في القسم الجنوبي الغربي :

## موقع سوريا التعليمية

SYRIA EDUCATION



لدينا نهر بردى : ينبع من منطقة الزبداني ويسر في العاصمة السورية دمشق من جهة الجنوبية الغربية.

نهر الأعوج : ينبع من جبل الشيخ ويسر في الأراضي السورية من جهة الجنوبية الغربية

نهر اليرموك : بشكل حدوداً طبيعية مع الأردن وفلسطين في جهة الجنوبية الغربية

موقع سوريا التعليمية

SYRIA EDUCATION



لدينا في الشريط الساحلي :

- أ. خليج اسكندرونة يشكل حدوداً طبيعية مع سورية وتركيا في الجهة الشمالية والغربية.
- ب. رأس الخنزير :
- ت. خليج السويدية : يصب بها نهر العاصي
- ث. رأس البسيط السوري
- ج. رأس ابن الهاني : في ريف اللاذقية

رابعاً : اماكن تواجد التضاريس الجبلية في القسم الشمالي:



موقع سوريا التعليمية

لدينا جبل حلب و جبل سمعان . ومحافظة حلب

لدينا جبل حارم . ومحافظة إدلب و جبل الزاوية

أماكن تواجد التضاريس في القسم الشمالي الغربي:



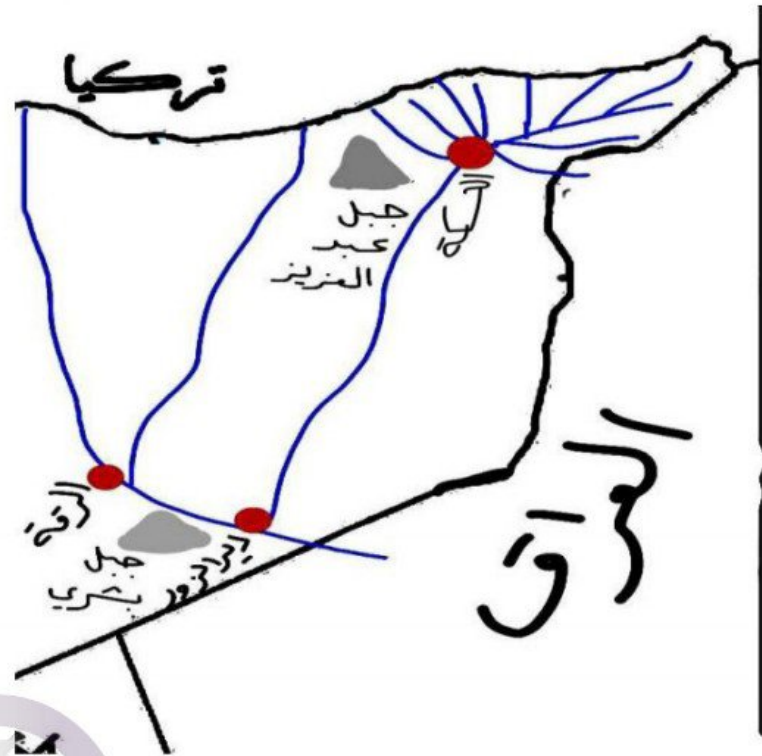
### موقع سوريا التعليمية

لدينا جبال الأمانوس مشكلة حدود طبيعية مع تركيا من الجهة الشمالية الغربية.

لدينا جبال البير والبسيط في القسم الشمالي الغربي.

لدينا سلسلة جبال اللاذقية في جزء الشمالي الغربي

أماكن تواجد التضاريس في الجزء الشمالي الشرقي:



موقع سوريا التعليمية

لدينا جبل عبد العزيز في ريف الحسكة.

لدينا جبل البشري في ريف دير الزور.

أماكن تواجد التضاريس في القسم الجنوبي الغربي:



لدينا سلسلة جبال القلمون في الجزء الجنوبي الغربي الموازية لحدود لبنان. موقع سوريا التعليمية

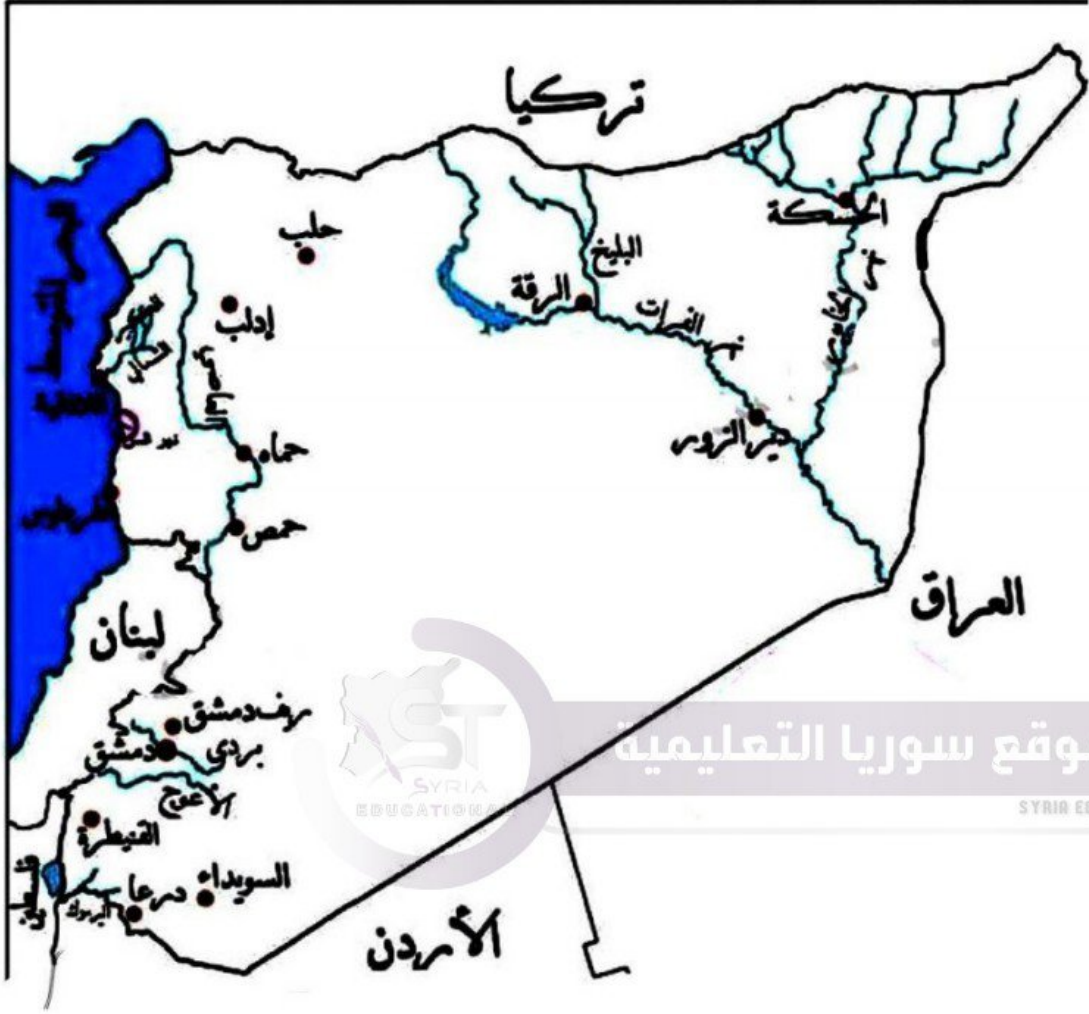
لدينا جبل الشيخ الحدودي والتي ينبع به نهر الاعوج

لدينا جبل العرب في محافظة السويداء الجنوبية

لدينا سلسلة جبال التدمرية الجنوبية

لدينا سلسلة جبال التدمرية الشمالية في الوسط السوري (البادية السورية)

## خامساً: توزيع المحافظات السورية :



من الشمال: محافظة حلب وادلب

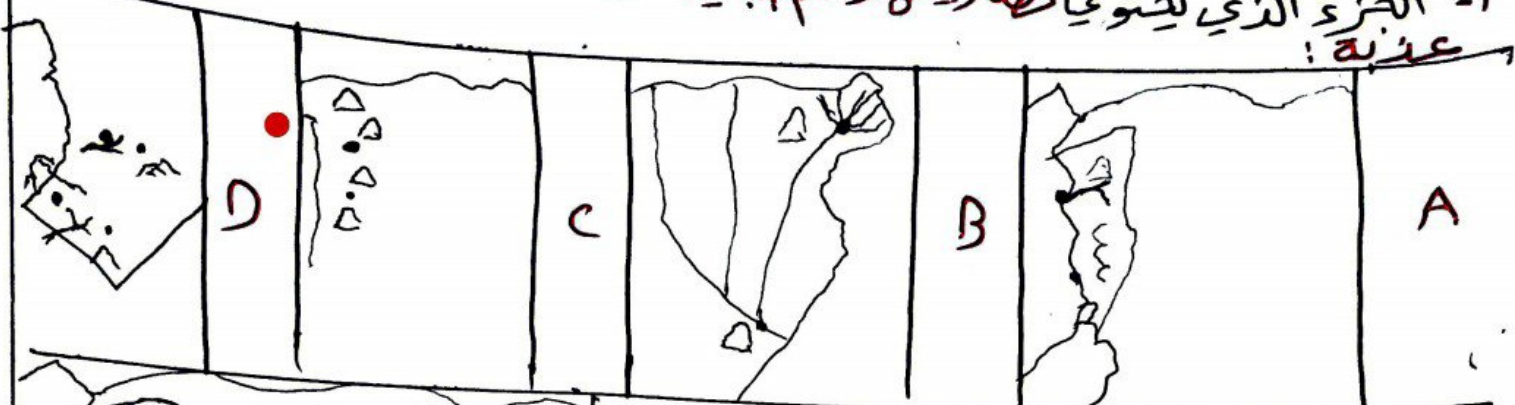
من الجنوب: العاصمة السورية دمشق، ريف دمشق، القنيطرة، درعا، السويداء.

من الغرب: اللاذقية وطرطوس

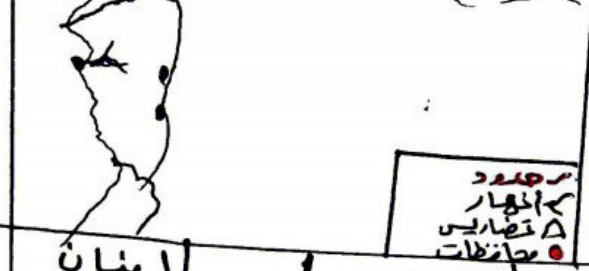
من الشرق: الرقة، دير الزور، الحسكة

تسبيق (c) ✓

١- الجزء الذي يحتوي تضاريس وشم جبلية متعككة حدود طبيعية وأنهار عذبة:



٢- جزء من خريطة الجمهورية العربية السورية يحدودها البرية والبحرية وأنهار ومراكز محافظات وحدودها منها:



لبنان نهر العاصي هص- حماه البحر المتوسط خليج السويدية	D	لبنان نهر العاصي لبنان هص- حماه اللاذقية خليج السويدية	C	لبنان، دمشق العاصي، حماه ادلب، فليج السكندرية البحر المتوسط	B	لبنان، نهر الأعوج هص، حماه اللاذقية البحر المتوسط	A
--	---	--	---	---	---	---	---

٣- نهر يدير الحدود السورية الأردنية يسمى:

الكبير الجنوبي	D	البرموك	C	العاصي	B	بردي	A
-------------------	---	---------	---	--------	---	------	---

٤- من المحافظات الشرقية على مجرى نهر الفرات:

دير النور العسكة	D	الرقعة دير النور العسكة	C	الرقعة دير النور	B	الرقعة العسكة	A
------------------------	---	-------------------------------	---	------------------------	---	------------------	---

٥- يقع جبل العرب في الجزء:

الشمالي الغربي	D	الجنوبي الغربي	C	الجنوبي الشرقي	B	الجنوبي	A
-------------------	---	-------------------	---	-------------------	---	---------	---

تطبيق: جمل الأسئلة الواردة عن خريطة الجمهورية العربية السورية

1	الجزء الذال على الجهة الشمالية من خريطة الجمهورية العربية السورية:				
A		B		C	
2	امتداد جبال الأمانوس توازي الحدود السورية - التركية في الجهة:				
A	الشمالية	B	الشمالية الغربية	C	الجنوبية
3	يصب نهر الماصي في:				
A	خليج اسكندرونة	B	خليج السويدية	C	البحر المتوسط
4	ينبع نهر الكبير الشمالي من:				
A	جبال اللاذقية	B	جبال البايق والبيضا	C	جبال القامون
5	من روافد نهر الفرات				
A	البلخ الساجور	B	البلخ القابور	C	الخابور
6	يتركز النشاط الزراعي في سهول جبال اللاذقية على نهر:				
A	الفرات	B	الن	C	الكبير الشمالي