

# سلاح التلهين

منذ عام ١٩٦٠



## الدراسات الاجتماعية

2024-2025

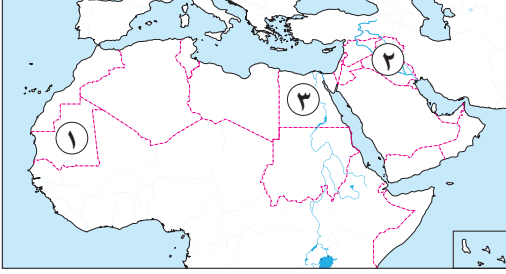
الصف السادس الابتدائي  
الفصل الدراسي الثاني

نماذج اختبارات شهر مارس

6

## الاختبار ١

السؤال الأول لاحظ خريطة الوطن العربي المقابلة، ثم أجب:



- ١ صواب أم خطأ: يشير الرقم (١) إلى دولة يقل بها معدل الأمية. ( )
- ٢ يشير الرقم (٢) إلى دولة يتركز سكانها حول السهول الفيضية وهي .....
- ٣ يشير الرقم (٣) إلى أولى الدول العربية من حيث عدد السكان وهي .....

السؤال الثاني اكتب كلمة (صواب) أمام العبارة الصحيحة، وكلمة (خطأ) أمام العبارة غير الصحيحة:

- ١ سجلت دولة الصومال أدنى متوسط عمر متوقع للفرد في الوطن العربي. ( )
- ٢ تعددت القيم التي تأسس عليها المجتمع الإسلامي، ومنها احترام العلم والعلماء. ( )
- ٣ يتميز الجناح الآسيوي في الوطن العربي بارتفاع عدد السكان مقارنة بالجناح الإفريقي. ( )
- ٤ نجح الخليفة عبد الملك بن مروان في تعريب الدواوين بالدولة الإسلامية. ( )

السؤال الثالث اختر الإجابة الصحيحة مما بين القوسين:

- ١ الزراعة وشق قنوات الري كانت من اهتمامات الخليفة .....
- (أبي جعفر المنصور - أبي العباس عبد الله - هارون الرشيد - المعتصم بالله)
- ٢ أحد مظاهر العمران في عهد الخليفة معاوية بن أبي سفيان تشييد مدينة .....
- (دمشق - القاهرة - القيروان - يثرب)
- ٣ أي من الفئات التالية ينتمي إلى الطبقة الخاصة في المجتمع الإسلامي؟ .....
- (رؤساء الحرف - أصحاب الأملاك - كبار العمال - كبار الأدباء)

السؤال الرابع أكمل العبارات التالية بما يناسبها من كلمات:

- ١ بنيت مدينة بغداد في عهد الخليفة .....
- ٢ الخليفة الأموي الذي اهتم ببناء الخانات لاستضافة المسافرين هو .....
- ٣ يتميز شكل الهرم السكاني للوطن العربي بالقاعدة .....

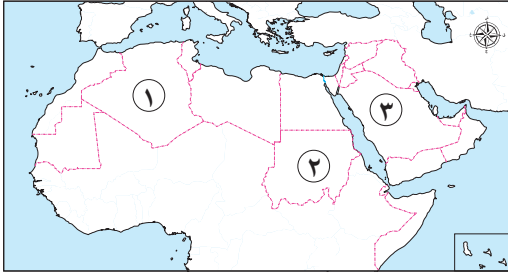
السؤال الخامس أجب عما يلي:

- ١ اكتب تفسيرًا واحدًا لـ: سقوط الدولة العباسية. ....
- ٢ قدم مقترحًا واحدًا لـ: القضاء على مشكلة الأمية في الوطن العربي. ....



## لاحظ خريطة الوطن العربي المقابلة، ثم أجب:

### السؤال الأول



- ١ يشير رقم (١) إلى ثالث الدول العربية من حيث عدد السكان وهي دولة .....
- ٢ صواب أم خطأ: يشير رقم (٢) إلى دولة سجلت أعلى متوسط عمر للمواطن العربي. ( )
- ٣ يشير رقم (٣) لدولة عربية تتميز بوفرة مواردها وهي .....

### السؤال الثاني اكتب كلمة (صواب) أمام العبارة الصحيحة، وكلمة (خطأ) أمام العبارة غير الصحيحة:

- ١ تُعد مرتفعات لبنان من المناطق نادرة السكان في الوطن العربي. ( )
- ٢ ظهرت الدعوة العباسية على يد أبي مسلم الخراساني. ( )
- ٣ شُيد مسجد قبة الصخرة في عهد الخليفة عمر بن عبد العزيز. ( )

### السؤال الثالث اختر الإجابة الصحيحة مما بين القوسين:

- ١ تزيد نسبة الأمية عن ٤٠ ٪ في دولة .....
  - ٢ عملت السيدة ربيعة الأسلمية (رضي الله عنها) خلال عهد الرسول (ﷺ) في ..... (التجارة - القضاء - التمريض - الزراعة)
  - ٣ بُنيت في عهد الخليفة المعتصم بالله مدينة .....
  - ٤ أنشأ الخليفة معاوية بن أبي سفيان ديواناً لمنع تزوير مراسلات الخليفة يسمى بديوان .....
- (سامراء - القيروان - بغداد - الأنبار)
- (الخراج - الخاتم - البريد - الجند)

### السؤال الرابع أكمل العبارات التالية بما يناسبها من كلمات:

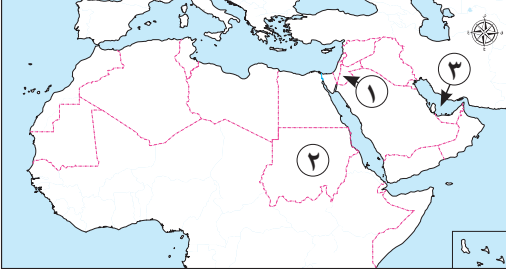
- ١ تعتمد فئة كبار السن في إعالتها على فئة .....
- ٢ تتمثل الأهمية الاقتصادية للتراث العربي الثقافي في دعم نشاط .....
- ٣ أنشئ أول مرصد فلكي في بغداد في عهد الخليفة .....

### السؤال الخامس اكتب تفسيرًا واحدًا لكل مما يلي:

- ١ أهمية منظمة المرأة العربية. ....
- ٢ تسمية العصر العباسي الأوّل بالعصر الذهبي. ....



السؤال الأول: لاحظ خريطة الوطن العربي المقابلة، ثم اكتب مدلول الأرقام التي عليها:



- ١ دولة تعاني من قلة الموارد وزيادة السكان .....
- ٢ دولة يقل بها نسبة المقعدين بالتعليم .....
- ٣ الخليج .....

السؤال الثاني: اكتب كلمة (صواب) أمام العبارة الصحيحة، وكلمة (خطأ) أمام العبارة غير الصحيحة:

- ١ ازدهرت أحوال الدولة الأموية بعد وفاة الخليفة عمر بن عبد العزيز. ( )
- ٢ ينتمي رؤساء الحرف إلى الطبقة الوسطى في المجتمع الإسلامي. ( )
- ٣ تمثل نسبة سكان الحضر حوالي ثلث سكان الوطن العربي. ( )
- ٤ سيطر الجنود الأتراك على الشؤون الداخلية للدولة في العصر العباسي الأول. ( )

السؤال الثالث: اختر الإجابة الصحيحة مما بين القوسين:

- ١ عملت على مراقبة التجار والعمال خلال عهد الخليفة عمر بن الخطاب (رضي الله عنه) هي السيدة ..... (رضي الله عنها).
- ٢ (أسماء بنت أبي بكر - سمراء الأسيديّة - مريم الإسطرلابي - خديجة بنت خويلد)
- ٣ اتخذها الخليفة أبو العباس عبد الله لتكون عاصمة للدولة العباسية ..... (الأنبار - دمشق - بغداد - البصرة)
- ٤ بنى الخليفة الوليد بن عبد الملك المسجد ..... (النبيوي - الحرام - الأقصى - الأموي)

السؤال الرابع: أكمل العبارات التالية بما يناسبها من كلمات:

- ١ تحسّن المستوى الصحي في الوطن العربي أدى لانخفاض معدل .....
- ٢ المؤسس الحقيقي للدولة العباسية هو .....
- ٣ شيد الأمويون مسجد قبة الصخرة في دولة ..... حالياً.

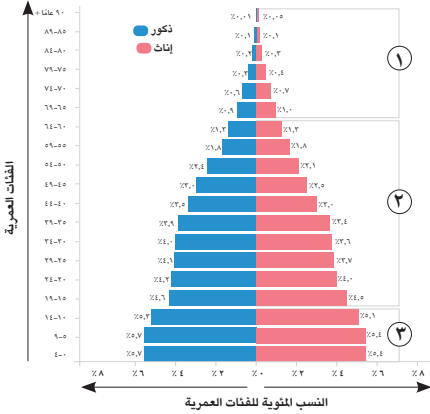
السؤال الخامس: اكتب دليلاً واحداً على صحة كل عبارة مما يلي:

- ١ تأتي مصر في المرتبة الأولى عربياً من حيث عدد السكان. ....
- ٢ يعاني سكان الوطن العربي من مشكلة البطالة. ....



السؤال الأول: لاحظ الهرم السكاني المقابل للوطن العربي، ثم أجب:

السؤال الأول



١ يشير الرقم (١) إلى فئة .....

٢ صواب أم خطأ: يشير الرقم (٢) إلى فئة غير منتجة. ( )

٣ صواب: يشير الرقم (٣) لفئة قوة العمل. (.....)

السؤال الثاني: اكتب كلمة (صواب) أمام العبارة الصحيحة، وكلمة (خطأ) أمام العبارة غير الصحيحة:

١ تحتفل جامعة الدول العربية باليوم العربي للتراث الثقافي العربي. ( )

٢ يتشابه الهرم السكاني لمصر والهرم السكاني للوطن العربي من حيث الشكل. ( )

٣ يقل معدل النمو السكاني في الوطن العربي عن المعدل العالمي. ( )

السؤال الثالث: اختر الإجابة الصحيحة مما بين القوسين:

١ يرجع اختراع الإسطرلاب إلى عهد الخليفة .....

( هارون الرشيد - أبي جعفر المنصور - المأمون بن هارون - المعتصم بالله )

٢ أي مما يلي يُعد منطقة تركز سكاني؟ .....

( سهول نهر النيل - صحراء الربع الخالي - الصحراء الكبرى - الصحراء الشرقية )

٣ إحدى العادات السيئة التي انتشرت بين العرب قبل ظهور الإسلام .....

( تعليم المرأة - وأد البنات - المساواة - توريث النساء )

٤ أحد أفراد الطبقة العامة في المجتمع في عصر الدولة الإسلامية .....

( العالم - الوزير - المزارع - الأمير )

السؤال الرابع: أكمل العبارات التالية بما يناسبها من كلمات:

١ اعتمد الخليفة المعتصم بالله في الجيش على الجنود .....

٢ خليفة أنشأ العديد من المصانع لبناء السفن في العصر الأموي هو .....

٣ تعاني سوريا من مشكلة محدودية الموارد وزيادة عدد .....

السؤال الخامس: اكتب نتيجة واحدة ترتبت على كل مما يلي:

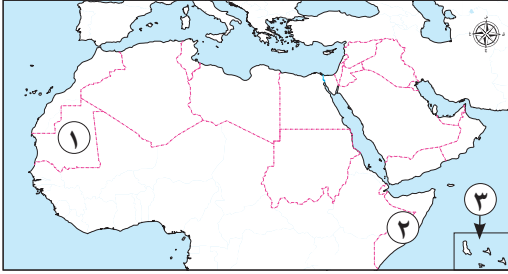
١ تأسيس سوق الوراقين في بغداد.

٢ تعريب الدواوين في عهد الخليفة عبد الملك بن مروان.



لاحظ خريطة الوطن العربي المقابلة، ثم اكتب مدلول الأرقام الموقعة عليها:

## السؤال الأول



١ دولة تنخفض بها نسبة المتعلمين .....

٢ دولة تعاني من مشكلة البطالة .....

٣ أقل دول الوطن العربي من حيث عدد السكان .....

## السؤال الثاني اكتب كلمة (صواب) أمام العبارة الصحيحة، وكلمة (خطأ) أمام العبارة غير الصحيحة:

( )

١ فتح خالد بن الوليد (رضي الله عنه) بيت المقدس وعفا عن أهله.

( )

٢ تهتم دول الوطن العربي بإتاحة التعليم للجميع.

( )

٣ توقفت الفتوحات الإسلامية في عصر الدولة الأموية.

( )

٤ تزداد نسبة الإناث عن الذكور في الوطن العربي.

## السؤال الثالث اختر الإجابة الصحيحة مما بين القوسين:

١ أي من الدول التالية تتسم بنقص في عدد السكان وزيادة في الموارد؟ (مصر - سوريا - الأردن - قطر)

٢ يُنسب معاوية بن أبي سفيان إلى ..... (بني هاشم - بني أمية - خزاعة - بكر)

٣ تأسس سوق الوراقين في عهد الخليفة العباسي .....

(الناصر لدين الله - المعتصم بالله - هارون الرشيد - أبي جعفر المنصور)

## السؤال الرابع صوب ما تحته خط فيما يلي:

١ وصلت الفتوحات الإسلامية إلى بلاد الأندلس في عهد الخليفة علي بن أبي طالب.

٢ صنّف أصحاب الأملاك في المجتمع الإسلامي ضمن الطبقة الخاصة.

٣ بدأ عصر الدولة العباسية بعد انتصارها على الدولة الفاطمية.

## السؤال الخامس أجب عما يلي:

١ حدد واحدة من: أهم أعمال الخليفة المعتصم بالله.

٢ ماذا يحدث إذا: أهملت حقوق المرأة في العصر الحديث؟



# سلاح التلهين

منذ عام ١٩٦٠



## الدراسات الاجتماعية

2024-2025

الصف السادس الابتدائي  
الفصل الدراسي الثاني

إجابات نماذج اختبارات شهر مارس

6

## إجابة الاختبار ١

### السؤال الأول:

١ خطأ.

٢ العراق.

٣ مصر.

### السؤال الثاني:

١ صواب.

٢ صواب.

٣ خطأ.

٤ صواب.

### السؤال الثالث:

١ هارون الرشيد.

٢ القيروان.

٣ كبار الأدباء.

### السؤال الرابع:

١ أبو جعفر المنصور.

٢ عمر بن عبد العزيز.

٣ العريضة.

### السؤال الخامس:

١ الصراع على الحكم وضعف الدولة سياسياً واقتصادياً، وسيطرة العناصر غير العربية على الجيش والإدارة، وانغماس الملوك في حياة الترف.

٢ أحب بنفسك.

## إجابة الاختبار ٢

### السؤال الأول:

١ الجزائر.

٢ خطأ.

٣ السعودية.

### السؤال الثاني:

١ خطأ.

٢ صواب.

٣ خطأ.

### السؤال الثالث:

١ موريتانيا.

٢ التمريض.

٣ سامراء.

٤ الخاتم.

### السؤال الرابع:

١ قوة العمل.

٢ السياحة.

٣ المأمون بن هارون.



### السؤال الخامس:

- ١) تعمل على نشر الوعي بقضايا المرأة العربية في مختلف المجالات، بالإضافة إلى تعزيز التعاون العربي المشترك في مجال تحسين وضع المرأة وتدعيم دورها في المجتمع.
- ٢) بسبب الإنجازات الملحوظة في مجالات متعدّدة.

### إجابة الاختبار ٣

#### السؤال الأول:

- ١) الأردن. ٢) السودان. ٣) العربي.

#### السؤال الثاني:

- ١) خطأ. ٢) صواب. ٣) خطأ. ٤) خطأ.

#### السؤال الثالث:

- ١) سمراء الأسدية. ٢) الأنبار. ٣) الأموي.

#### السؤال الرابع:

- ١) الوفيات. ٢) أبو جعفر المنصور. ٣) فلسطين.

#### السؤال الخامس:

- ١) حيث تضم نحو ربع سكان الوطن العربي.
- ٢) حيث بلغ معدّل البطالة نحو ١١٪ عام ٢٠٢١م، وسجّلت كلّ من جيبوتي وفلسطين والأردن والصومال أعلى معدّلات البطالة في الوطن العربي.

### إجابة الاختبار ٤

#### السؤال الأول:

- ١) كبار السن. ٢) خطأ. ٣) صغار السن.

#### السؤال الثاني:

- ١) صواب. ٢) صواب. ٣) خطأ.



### السؤال الثالث:

- ١ المأمون بن هارون.
- ٢ سهول نهر النيل.
- ٣ وأد البنات.
- ٤ المزارع.

### السؤال الرابع:

- ١ الأتراك.
- ٢ معاوية بن أبي سفيان.
- ٣ السكان.

### السؤال الخامس:

- ١ أدى إلى انتشار نسخ الكتب العلمية وترجمتها.
- ٢ أصبحت اللغة العربية هي اللغة الرسمية في الإدارة.

## إجابة الاختبار ٥

### السؤال الأول:

- ١ موريتانيا.
- ٢ الصومال.
- ٣ جزر القمر.

### السؤال الثاني:

- ١ خطأ.
- ٢ صواب.
- ٣ خطأ.
- ٤ خطأ.

### السؤال الثالث:

- ١ قطر.
- ٢ بني أمية.
- ٣ هارون الرشيد.

### السؤال الرابع:

- ١ الوليد بن عبد الملك.
- ٢ الوسطى.
- ٣ الأموية.

### السؤال الخامس:

- ١ اهتمّ بالجيش وزوّده بالجنود الأتراك كما بنى مدينة سامراء.
- ٢ أجب بنفسك.

