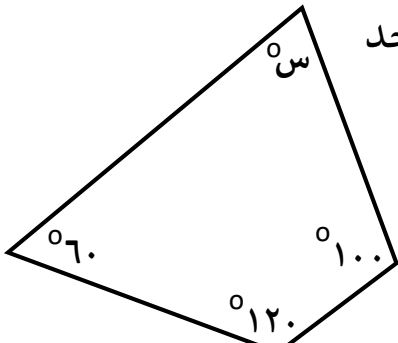
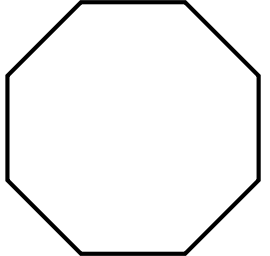
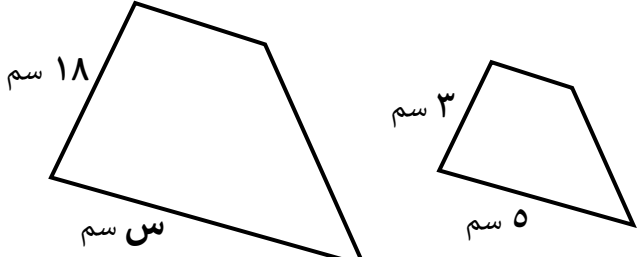


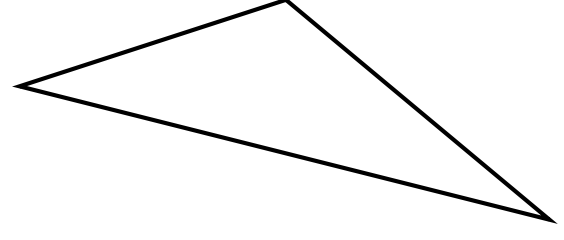
 <p>١٤ صف الشكل المقابل بأفضل اسم يصفه؟</p>	أ	مربع
	ب	مستطيل
	ج	شبه منحرف
	د	معيّن

 <p>١٣ فيما يأتي أوجد قيمة س؟</p>	أ	60°
	ب	80°
	ج	135°
	د	36°

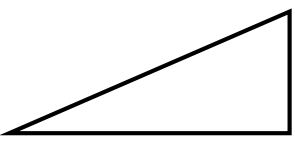
 <p>١٦ أوجد قياس الزاوية في المضلع الثماني المنتظم؟</p>	أ	108°
	ب	135°
	ج	54°
	د	108°

 <p>١٥ إذا كان الشكلان متشابهين فما قيمة س؟</p>	أ	6
	ب	18
	ج	24
	د	30

 <p>١٨ عند تدوير مؤشر القرص المجاور - فإنّ ح (ليس ج) = في أبسط صورة</p>	أ	$\frac{1}{2}$
	ب	$\frac{1}{5}$
ج	$\frac{5}{6}$	
د	$\frac{1}{6}$	

 <p>١٧ صفّ المثلث أدناه من حيث زواياه؟</p>	أ	منفرج الزاوية
	ب	حاد الزوايا
	ج	مختلف الأضلاع
	د	قائم الزاوية

<p>٢٠ المضلع الرباعي الذي فيه ضلعان فقط متوازيين يُسمّى</p>	أ	مربع
	ب	مستطيل
	ج	شبه منحرف
	د	معيّن

 <p>١٩ في المثلث أ ب ج القائم الزاوية في أ ق $\angle ب = 60^\circ$ ، أوجد ق $\angle ج$ ؟</p>	أ	180°
	ب	150°
	ج	90°
	د	30°

مُسوّدة .. 