



# الثاني عشر التاريخ

الفترة  
الثانية

اسئلة اختبارات  
وإجاباتها النموذجية

2025/2024



مدير المدرسة  
أ. فهد العجمي





العام الدراسي : ٢٠٢٣ / ٢٠٢٤ م

الزمن : ساعتان وربع

عدد الصفحات : ( ٥ )

امتحان نهاية الفترة الدراسية الثانية

مقرر / تاريخ العالم الحديث والمعاصر

للصف الثاني عشر / القسم الأدبي

وزارة التربية

التوجيه الفني العام للاجتماعيات

\*\*\*\*\*

أجب عن جميع الاسئلة

السؤال الأول : موضوعي يتكون من ( أ - ب - ج - د ) :

( أ ) ظلل الخيار الصحيح من بين الخيارات التي تلي كل عبارة :

١- المدينة التي أُغتيل فيها ولي عهد النمسا الأرشيدوق فرديناند وزوجته عام ١٩١٤ م :

ميونخ	فاران	سراييفو	جنيف
-------	-------	---------	------


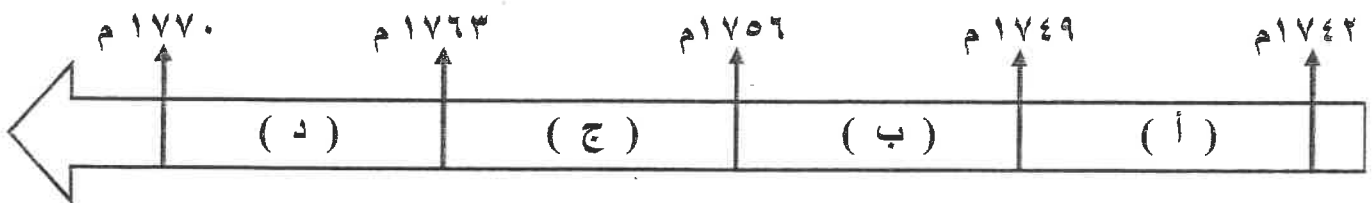
٢- المجلس الذي يمثل السلطة التشريعية الفرنسية في عهد حكومة الإدارة :

الشيوخ	اللوردات	العموم	طبقات الأمة
--------	----------	--------	-------------

٣- البند السري الذي وقّع عليه هتلر مع الإتحاد السوفيتي في معاهدة عدم الاعتداء :

ضم النمسا لألمانيا وتشيكوسلوفاكيا للسوفييت	اقتسام بولندا ودول البلطيق بين الطرفين
اقتسام منطقة الراين بين الطرفين	ضم السويد للبولنديين والبلغان لألمانيا

٤- الفترة الزمنية التي استمرت فيها حرب السنوات السبع يمثلها على المخطط الزمني الحرف :



٥- القوانين التي أصدرت بعد وقوع الحدث المشار له في

الصورة المقابلة :

التمغة	الملاحة
الجائرة	سيئة السمعة

السؤال الرابع مقالتي يتكون من ( أ - ب - ج ) :



( أ ) لاحظ الصورة المقابلة ثم أجب عن الأسئلة التالية :

١- أكتب اسم صاحب الصورة المقابلة ؟

.....

٢- عدد - مبادئ النظام الذي ينتمي إليه ؟

.....

.....

( ب ) قارن بين كل من حسب المطلوب منك في الجدول التالي :

وجه المقارنة	معركة ساراتوجا	معركة فالمي
السنة	م.....	م.....
النتائج	• .....	• .....
	• .....	• .....
	• .....	• .....

( ج ) علل لما يلي:

١- انقسام العالم سياسياً في أواخر القرن التاسع عشر وبداية القرن العشرين الميلادي .

.....

.....

٢- وقوف منظمة عصبة الأمم عاجزة عن حل قضايا مهمة .

.....

.....

١٣

( انتهت الأسئلة مع تمنياتنا لكم بالتوفيق والنجاح )



نموذج إجابة



التوجيه الفني العام للتربية  
العام الدراسي ٢٠٢٣/٢٠٢٤  
الزمن : ساعتان ورُبَع

امتحان نهاية الفترة الدراسية الثانية  
مقرر / تاريخ العالم الحديث والمعاصر  
للفص الثاني عشر / القسم الأدبي

وزارة التربية  
التوجيه الفني العام للاجتماعيات

عدد الصفحات : ( ٦ )



أجب عن جميع الاسئلة

السؤال الأول : موضوعي يتكون من ( أ - ب - ج - د ) : ( لكل سؤال درجة = ١٧ درجة )

( أ ) ظل الخيار الصحيح من بين الخيارات التي تلي كل عبارة :

١- المدينة التي أُغتيل فيها ولي عهد النمسا الأرشيدوق فريديناند وزوجته عام ١٩١٤م : ص ١٠٠

جنيف	<u>سراييفو</u>	فاران	ميونخ
------	----------------	-------	-------

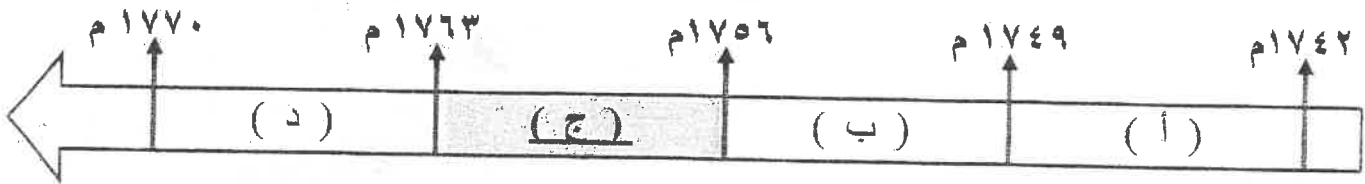
٢- المجلس الذي يمثل السلطة التشريعية الفرنسية في عهد حكومة الإدارة : ص ٩٢

طبقات الأمة	العموم	اللوردات	<u>الشيوخ</u>
-------------	--------	----------	---------------

٣- البند السري الذي وقّع عليه هتلر مع الإتحاد السوفيتي في معاهدة عدم الاعتداء : ص ١٠٩

<u>اقتسام بولندا ودول البلطيق بين الطرفين</u>	ضم النمسا لألمانيا وتشيكوسلوفاكيا للسوفييت
ضم السويد للسويفيت والبلقان لألمانيا	اقتسام منطقة الراين بين الطرفين


٤- الفترة الزمنية التي استمرت فيها حرب السنوات السبع يمثلها على المخطط الزمني الحرف : ص ٨٤



٥- القوانين التي أصدرت بعد وقوع الحدث المشار له في

الصورة المقابلة : ص ٧٩

الملاحة	التمغة
سيئة السمعة	<u>الجائرة</u>



تابع / السؤال الأول : موضوعي

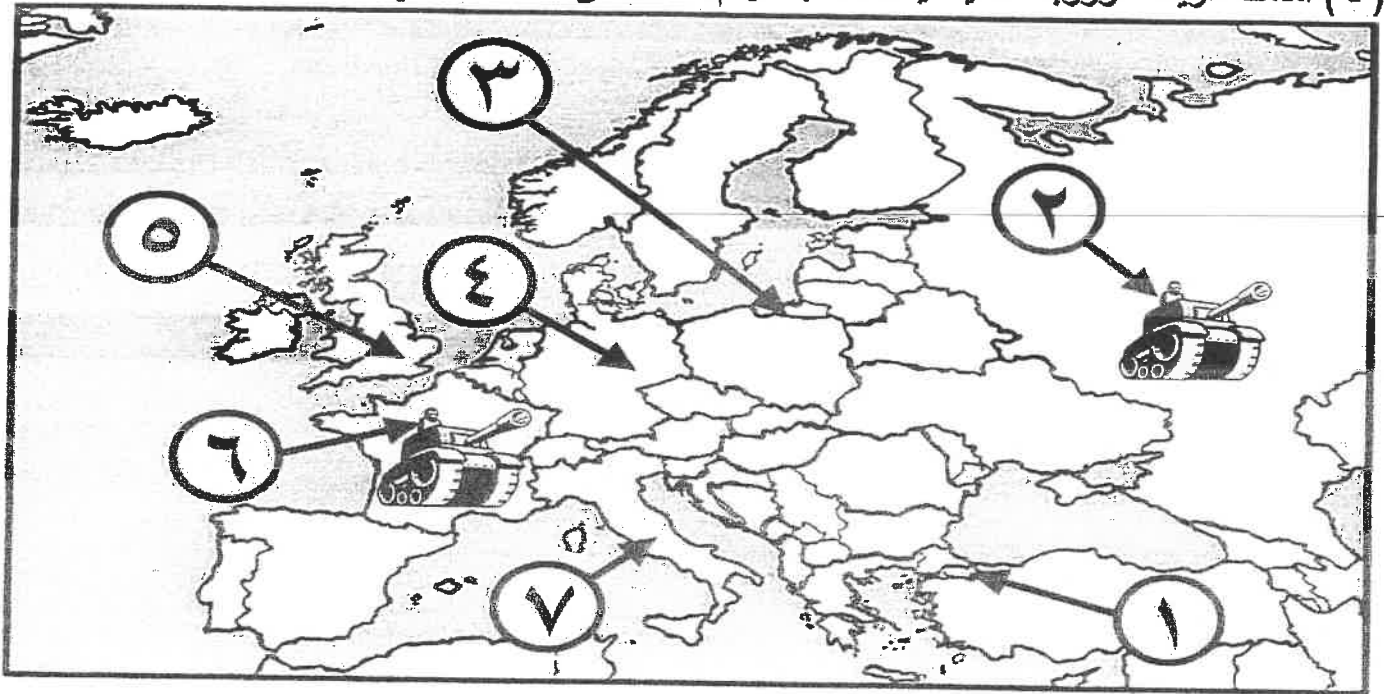
( ب ) أكتب المفاهيم أو المصطلحات الدالة على العبارات التالية :

م	المفهوم أو المصطلح	العبارة
١	العامية	طبقة اجتماعية تشمل الزراعة والصناع وأصحاب الحرف وصغار التجار في المجتمع الفرنسي قبل الثورة . ص ٨٥
٢	النظام الجديد new deal	سياسة اقتصادية تبناها الرئيس الأمريكي السابق روزفلت (١٩٣٢ - ١٩٣٩م) تقوم على الدخول في المشاريع الكبرى بهدف تشغيل أكبر عدد ممكن من العمالة ص ١٠٥
٣	فيتو ( veto )	حق النقض الذي منح للدول الدائمة العضوية في مجلس الأمن . ص ١١٧
٤	العمل الدولية ( ILO )	منظمة دولية تساعد في تحسين ظروف العمل والمعيشة في أنحاء العالم . ص ١١٨

( ج ) أكمل العبارات التالية بما يناسبها فيما درست :

- ١- المُفكر الذي اشتهرت نظريته السياسية المعروفة بـ ( السيادة الشعبية ) اسمه جون لوك ص ٧٦
- ٢- المناسبة التي يحتفل فيها الأمريكيين بيوم ٤ يوليو من كل عام تسمى الاستقلال ص ٨١
- ٣- القائد الذي لقب بالزعيم الأوحده ( الفوهرر ) اسمه أدولف هتلر ص ١٠٧
- ٤- الدولة التي تزعمت الكتلة الغربية الرأسمالية في عالمنا المعاصر اسمها الولايات المتحدة ص ١١٥

( د ) أمامك خريطة أوروبا السياسية - أكتب الرقم الدال على العبارات التي تليها :



- دولة انطلقت منها الثورة المجيدة عام ١٦٨٩م يمثلها على الخريطة الرقم (٥) ص ٧٣
- معركة ستالينجراد عام ١٩٤٢م يمثلها على الخريطة الرقم (٢) ص ١١١
- ممر دانريغ ( دانزيغ ) يمثل على الخريطة الرقم (٣) ص ١١٠
- مقر نظام الحزب الفاشي يمثل على الخريطة الرقم (٧) ص ١٠٨



**السؤال الثاني مقالتي يتكون من ( أ - ب - ج ) :**

**( أ ) أكتب دور كل من الشخصيات التاريخية التالية : ( ثلاث درجات لكل نقطة درجة )**

١- الوزير " نيكرو " في الأزمة المالية الفرنسية : دعا نيكرو وزير الخزانة الفرنسي مجلس طبقات الأمة للانعقاد لبحث الخروج من الأزمة المالية الطاحنة التي كانت تمر بالبلاد . ص ٨٧

٢- المستشار " بسمارك " في ألمانيا : المستشار الألماني اتبع أسلوب الأحلاف والتكتلات - بعد تحقيق الاتحاد الألماني عمد لعزل فرنسا بالتحالف مع النمسا وروسيا فيما يسمى (عصبة الأباطرة) . ص ٩٧ يكتفى بنقطة واحدة

٣- القائد " رومل " في الحرب العالمية الثانية : قائد القوات الألمانية الإيطالية هزم أمام البريطانيين ( الخلفاء ) في معركة العلمين غرب مدينة الإسكندرية عام ١٩٤٢م . ص ١١١

**( ب ) فرّق بين كل مما يلي : ( أربع درجات لكل نقطة درجة )**

مواد وثيقة إعلان حقوق الإنسان المواطن ( الفرنسية )	مواد لائحة الحقوق ( الإنجليزية )
■ يولد الناس أحرار متساوين في الحقوق والواجبات . ■ أن هدف الحكومة هو الحفاظ على الحقوق الأساسية للشعب ( الحرية ، الملكية ، الشعور بالأمن ، مقاومة الظلم ) . / ■ الأمة هي صاحبة السيادة . / ■ لا عقوبة بدون قانون . / ■ الجيش في خدمة الشعب والدفاع عنه لا لخدمة الملك وأغراضه الخاصة . / ■ المتهم بريء حتى تثبت إدانته . ص ٨٨ ( يكتفى بنقطتين )	■ لا يجوز للملك ابطال أو تعديل قانون صادر عن البرلمان ■ لا يحق للملك فرض ضرائب جديدة أو تشكيل الجيش أو إعلان الحرب دون موافقة البرلمان . / ■ للبرلمان الحق الكامل في التعبير عن آرائهم بحرية تامة . / ■ أعطى البرلمان حصانة للمواطنين بحيث لا يمكن اعتقال مواطن دون محاكمة تجري وفق القوانين السائدة . ص ٧٤ ( يكتفى بنقطتين )

**( ج ) نفذ المطلوب منك فيما بين القوسين : ( ست درجات لكل نقطة درجة )**

١- رفعت نتائج مؤتمر الصلح فرساي عام ١٩١٩م من مكانة ألمانيا. ( فند العبارة ) ص ١٠٣ ( يكتفى بنقطتين )

■ تفكك إمبراطوريات عريقة مثل ( الألمانية ) .

■ أن تتحمل ألمانيا مسؤولية الحرب حيث فرض عليها دفع تعويضات مالية كبيرة للحلفاء

■ تخفيض عدد الجيش الألماني ومنع ألمانيا من تصنيع أو اقتناء الأسلحة العسكرية.

■ اقتطاع أجزاء من ألمانيا وضمها لدول أخرى.

■ وضع إقليم (الساار) تحت الإدارة الدولية.

٢- أحداث الدور الثالث من الحرب العالمية الثانية . ( جبهة المحيط الهادي ) ص ١١٢ ( يكتفى بنقطتين )

■ استطاعت الولايات المتحدة إيقاف التقدم الياباني.

■ استعادة الولايات المتحدة كل ما فقدته في المحيط الهادي.

■ عملت الولايات المتحدة على احتلال الجزر اليابانية .

■ القوات اليابانية لم تستسلم إلا بعد إلقاء القنبلتين الذريتين على مدينتي هيروشيما وناجازاكي يوم ٦ و ٩ أغسطس ١٩٤٥م.

٣- هيئة الأمم المتحدة. ( الأهداف ) ص ١١٦ ( يكتفى بنقطتين )

■ المحافظة على السلام والأمن الدوليين وحل النزاعات بالطرق السلمية .

■ تنمية العلاقات الودية بين الدول على المساواة واحترام حقوق الانسان .

■ تحقيق التعاون الدولي في جميع المجالات . / ■ تكون الأمم المتحدة أداة للتنسيق بين أعمال الدول والمنظمات الأخرى .

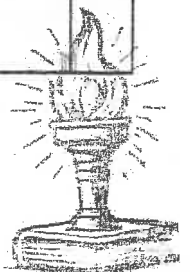
**السؤال الثالث مقالتي يتكون من ( أ - ب - ج ) :**

**( أ ) ما أوجه الاختلاف بين كل من : ( أربع درجات لكل نقطة درجة )**

- ١- مهام الحاكم و المجلس النيابي في نظام الحكم بالمستعمرات الإنجليزية في أمريكا . ص ٧٧  
■ مهام الحاكم : - يمثل الملك الإنجليزي في المستعمرة . / - هو المسؤول الأول عن رعاية شؤون الولاية / - والمحافظة على الأمن . ( يكتفى بنقطة واحدة ) درجة واحدة  
■ مهام المجلس النيابي : - يقوم بسن القوانين والضرائب . / - مراقبة الموظفين في الولاية / - كان رمزاً للحكم الديمقراطي في ظل السيادة الإنجليزية . ( يكتفى بنقطة واحدة ) درجة واحدة
- ٢- معركة المارن الأولى و معركة المارن الثانية . ص ١٠١  
■ معركة المارن الأولى : - حدثت عام ١٩١٤م في المرحلة الأولى من الحرب العالمية الأولى . / - أوقف الحلفاء زحف الألمان على باريس . ( يكتفى بنقطة واحدة ) درجة واحدة  
■ معركة المارن الثانية : حدثت عام ١٩١٨م في المرحلة الثالثة من الحرب العالمية الأولى . / - شن الحلفاء هجوماً معاكساً أدى إلى إنزال الهزيمة بالألمان . ( يكتفى بنقطة واحدة ) درجة واحدة .

**( ب ) أكتب النتائج المترتبة على كل من : ( خمس درجات لكل نقطة درجة )**

١	الثورة الأمريكية ص ٨٣	● انتشرت عدواها إلى سكان أمريكا الجنوبية (اللاتينية) . ● تشجيع سكان المستعمرات البريطانية في آسيا وأفريقيا على القيام بثورات ضدها كي يتخلصوا من استعمارها . ● أصبحت الولايات المتحدة ملاذاً لدعاة الفكر من الأوروبيين ورمزاً للحرية والتجديد . ● كانت الثورة الأمريكية السبب المباشر لقيام الثورة الفرنسية . ( يكتفى بنقطتين )
٢	الحرب العالمية الأولى ( ١٩١٤ - ١٩١٨م ) ص ١٠٢	● تركت الحرب دماراً هائلاً . ● تسببت في خسائر مادية وبشرية فسط ملايين القتلى والجرحى . ● الركود الاقتصادي في العالم . ● حدث تغير جذري في خريطة أوروبا السياسية . ( يكتفى بنقطتين )
٣	إعدام الملك لويس السادس عشر عام ١٧٩٣ ص ٩١	● اندلعت في الداخل الثورة المضادة من أصحاب تيار الملكية الدستورية . ● في الخارج تشكل التحالف الدولي الأول ضد الثورة الفرنسية بانضمام كل من إنجلترا وأسبانيا و البابوية و الدويلات الإيطالية و بروسيا ضد فرنسا في فبراير ١٧٩٣م . ( يكتفى بنقطة واحدة )



تابع / إجابة السؤال الثالث مقالياً

( ج ) دلل على صحة العبارات التالية : ( أربع درجات لكل نقطة درجة )

- ١- اهتمام نابليون بوناپرت بالإصلاح الإداري والتعليمي في فرنسا . ص ٩٣ ( يكتفى بنقطتين )
  - الإصلاح الإداري : اهتم نابليون بالإدارة وأصدر قانوناً سنة ١٨٠٠م الذي تبنى التقسيم الإداري القديم الذي أصدرته الجمعية الوطنية إلا أنه جعل الحكام يعينون من قبل القنصل الأول " نابليون " .
  - إصلاح التعليم : وضع نابليون مشروعاً لتنظيم التعليم في كل أنحاء فرنسا والعمل على مجانية التعليم للفقراء وخاصة التعليم الثانوي وبذلك أتاح للطبقات الفقيرة إمكانية التعليم .
- ٢ - تعاون بريطانيا وفرنسا بقيام الأحلاف والتكتلات في أوروبا . ص ٩٨ و ١١٠
  - حلف الاتفاق الودي : تقاربت بريطانيا مع فرنسا لشعورها بالخطر من تقدم ألمانيا الصناعي والاقتصادي ونمو قوتها البحرية مما يهدد سيادتها فوقعت الدولتان الاتفاق الودي عام ١٩٠٤ م .
  - حلف الوفاق الودي : سعت فرنسا للتقريب بين بريطانيا وروسيا لتسوية مناطق النفوذ في آسيا ( إيران / أفغانستان / التبت ) و وقعت الدول الثلاث الوفاق الودي عام ١٩٠٧ م .
  - الحلفاء : حلف شاركت فيه بريطانيا وفرنسا مع دول أخرى منها الاتحاد السوفيتي والولايات المتحدة ضد دول المحور أثناء الحرب العالمية الثانية . ( يكتفى بنقطتين )

وزارة التربية



التوجيه الفني العام للإجتماعيات



مركز التوجيه الفني  
بمركز الدراسات والبحوث

السؤال الرابع مقالتي يتكون من ( أ - ب - ج ) :

( أ ) لاحظ الصورة المقابلة ثم أجب عن الأسئلة التالية : ( ثلاث درجات لكل نقطة درجة ) ص ١٠٦



١- أكتب اسم صاحب الصورة المقابلة ؟ درجة واحدة  
■ ستالين .

٢- عدد - مبادئ النظام الذي ينتمي إليه ؟ درجتان

- سيطرت الدولة على جميع مصادر الثروة ووسائل الإنتاج .
- إلغاء الملكية الخاصة وإشراف الدولة على التخطيط الاقتصادي .
- تحقيق العدالة الاجتماعية بين أفراد الشعب .
- محور الفوارق بين القوميات في روسيا . ( يكتفى بنقطتين )

( ب ) قارن بين كل من حسب المطلوب منك في الجدول التالي : ( ست درجات لكل نقطة درجة )

وجه المقارنة	معركة ساراتوجا ص ٨٢	معركة فالمي ص ٩٠
السنة	١٧٧٧م	١٧٩٢م
النتائج	<ul style="list-style-type: none"> <li>● خسر الإنجليز جيشاً كاملاً من ستة آلاف جندي واستسلم .</li> <li>● سيطر الأمريكيون على حوض هدسون .</li> <li>● اعتراف فرنسا باستقلال الثوار الأمريكيين ودخولها الحرب إلى جانبهم .</li> <li>● زاد تعاطف الشعوب الأوروبية مع الثورة الأمريكية . ( يكتفى بنقطتين )</li> </ul>	<ul style="list-style-type: none"> <li>● انتصار الجيش الفرنسي .</li> <li>● انقذت أفكار الثورة الفرنسية من الضياع .</li> <li>● حالت دون وقوع باريس .</li> <li>● رفعت الروح المعنوية للفرنسيين .</li> <li>● تحول جيش الثورة بعدها من الدفاع إلى الهجوم</li> <li>● أصبح جيش الثورة الفرنسية مصدر رُعب للدول الأوروبية فيما بعد . ( يكتفى بنقطتين )</li> </ul>

( ج ) علل لما يلي : ( أربع درجات لكل نقطة درجة )

١- انقسام العالم سياسياً في أواخر القرن التاسع عشر وبداية القرن العشرين الميلادي . ص ٩٧ ( يكتفى بنقطتين )

- بروز النزعة القومية .
- تصادم الأيديولوجيات .
- تضارب المصالح الاقتصادية .
- سياسة التوسع للسيطرة على مناطق مختلفة من العالم وما صاحبه من السباق إلى التسلح .

٢- وقوف منظمة عصبة الأمم عاجزة عن حل قضايا مهمة . ص ١٠٤ ( يكتفى بنقطتين )

- عدم التزام الدول الكبرى بميثاق العصبة .
- لم يكن للعصبة قوة عسكرية قادرة على تنفيذ قراراتها .
- أصبحت أداة لمصلحة الدول الكبرى في ذلك الوقت فانهارت هذه المنظمة نتيجة لسياسة الدول المنتصرة في الحرب .
- لم تشارك الولايات المتحدة في عضويتها على الرغم من أنها صاحبة الفكرة .

( انتهت الإجابة )

ثانوية  
سلمان الفارسي  
بنين

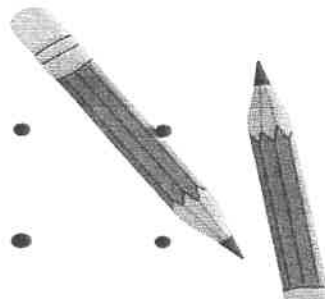
# الثاني عشر

## التاريخ

اسئلة اختبارات  
واجاباتها النموذجية

2023/2022

الفترة الثانية





امتحان نهاية الفترة الدراسية الثانية العام الدراسي: ٢٠٢٣/٢٠٢٤ م

مقرر / تاريخ العالم الحديث والمعاصر الزمن: ساعتان وربع

وزارة التربية

التوجيه الفني العام للاجتماعيات

للسف الثاني عشر / القسم الأدبي عدد الأوراق: ( ٥ )

\*\*\*\*\* ( الدور الثاني ) \*\*\*\*\*

أجب عن جميع الاسئلة

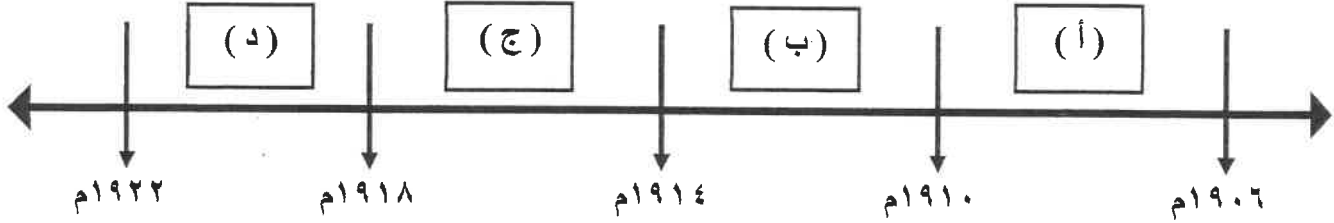
السؤال الأول : موضوعي يتكون من ( أ - ب - ج - د ) :

( أ ) ظلل الخيار الصحيح من بين الخيارات التي تلي كل عبارة :

١- قانون فرض رسوم مالية جديدة على كل المستندات التجارية وعقود البيع والرهن :

الملاحة	التمغة	الجائرة	المدني
---------	--------	---------	--------

٢- الفترة الزمنية التي امتدت فيها الحرب العالمية الأولى يمثلها على المخطط الزمني الحرف :



٣- النتيجة السياسية المترتبة على الحرب العالمية الثانية :

تغيير خريطة أوروبا	بروز مشكلة المشوهين	تطور مجال الأسلحة	دمار الطرق
--------------------	---------------------	-------------------	------------

٤- الدول الثلاثة المجتمعون في مؤتمر يالطا عام ١٩٤٥ م :

فرنسا - إيطاليا - الولايات المتحدة	الولايات المتحدة - بريطانيا - الاتحاد السوفيتي
اليابان - بريطانيا - الاتحاد السوفيتي	الصين - ألمانيا - بريطانيا

( ب ) أكمل العبارات التالية بما يناسبها فيما درست :

١- صاحب مقولة " إننا هنا بإرادة الشعب ولن نبرح أماكننا إلا على أسنة الرماح " اسمه .....

٢- المحكمة التي اتخذت الناس بالشبهات دون محاكمة عادلة بعصر الإرهاب اسمها .....

٣- المنظمة الدولية التي طالب في إنشائها الرئيس الأمريكي " ولسن " لإحلال السلام اسمها .....

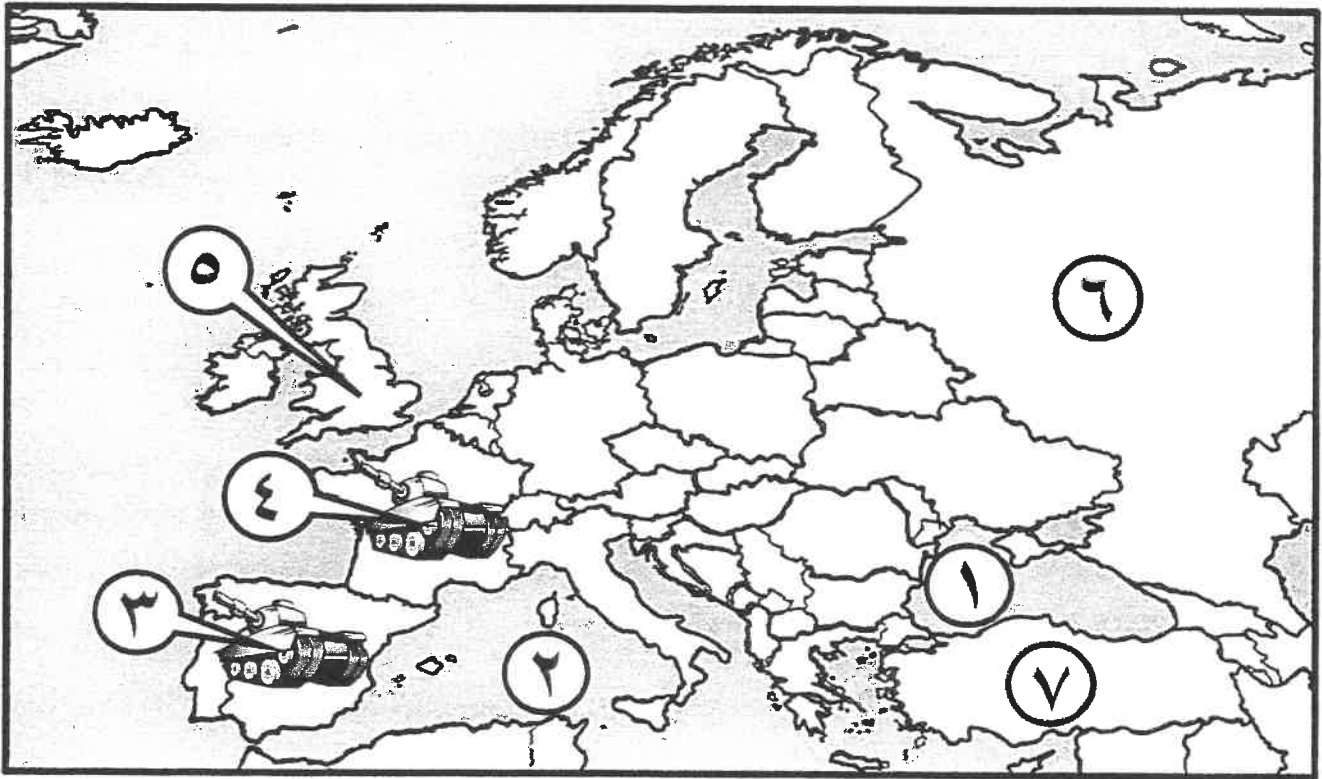
٤- الجنرال الذي قاد القوات الإنجليزية عقب إعلان الاستقلال في المستعمرات الأمريكية اسمه .....

تابع / السؤال الأول موضوعي :

( ج ) صحح ما تحته خط في العبارات التالية :

م	العبرة	التصويب
١	المجلس النيابي الذي يُمثل الطبقة الأرستقراطية الإنجليزية <u>الشيوخ</u> .	
٢	مؤتمر عُقد عام ١٩٣٨م وضم هتلر بموجبه تشيكوسلوفاكيا <u>فرساي</u> .	
٣	زوجة الملك لويس ١٦ لعبت دوراً كبيراً في إضعاف مكانته الشعبية <u>إيزابيلا</u> .	
٤	المدينة التي يوجد فيها مقر محكمة العدل الدولية <u>فيينا</u> .	
٥	هُزم قائد القوات الألمانية - الإيطالية رومل عام ١٩٤٢م في معركة <u>ستالينجراد</u> .	

( د ) أمامك خريطة أوروبا السياسية - أكتب الرقم الدال على العبارات التي تليها :

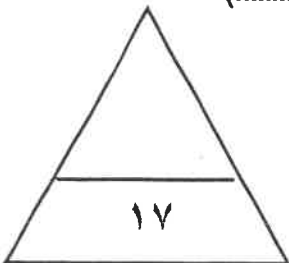


- الدولة التي وقَّعت مع فرنسا حلف الاتفاق الودي عام ١٩٠٤م يمثلها على الخريطة الرقم (.....).

- الإمبراطورية العثمانية يمثلها على الخريطة الرقم (.....).

- البحر المتوسط يمثلها على الخريطة الرقم (.....).

- موقع معركة المارن الأولى يمثلها على الخريطة الرقم (.....).



السؤال الثاني مقالى يتكون من ( أ - ب - ج ) :

( أ ) إقرأ الفقرة التالية ثم أجب عما يليها من أسئلة :

" بعد أن وضعت الحرب العالمية الثانية أوزارها ، وبدأت ملامح العالم المعاصر بالظهور خصوصاً بعد انقسام العالم إلى كتلتين ، الكتلة الغربية ( الرأسمالية ) بقيادة الولايات المتحدة الأمريكية ، والشرقية ( الاشتراكية ) بقيادة الاتحاد السوفييتي ، وظهور الصين كدولة كبرى مستقلة عن الكتلتين ، والزيادة السكانية الهائلة وما صاحبها من التقدم العلمي والانفجار المعرفي ، فأصبحت الحاجة ملحة إلى اتفاقيات عالمية لحفظ السلام والأمن الدوليين مثل اتفاقيات ( سالت ) "

١- عرف ما تحته خط . - اتفاقيات سالت : .....

٢- استخرج من الفقرة ملامح من عالمنا المعاصر .

( ب ) أكتب النتائج المترتبة على كل من :

..... .....	سقوط حصن الباستيل	١
..... .....	معركة ساراتوجا ( ١٧٧٧ م )	٢
..... .....	الثورة الأمريكية	٣

( ج ) علل لما يلي :

١- ظهور الحركة الفاشية في إيطاليا .

٢- اختلفت الحرب العالمية الثانية عن جميع الحروب التي سبقتها .

السؤال الثالث مقالتي يتكون من ( أ - ب - ج ) :



(أ) لاحظ الصورة المقابلة ثم أجب عن الأسئلة التالية :

١- ما أسم صاحب الصورة المقابلة ؟

..... ■

٢- عدد - الإصلاحات الداخلية التي قام بها .

..... ■

..... ■

( ب ) فرّق بين كل مما يلي :

مميزات الطبقة العامة في فرنسا قبل الثورة	مميزات الطبقة الممتازة في فرنسا قبل الثورة
..... ■ .....	..... ■ .....
السبب المباشر للحرب العالمية الثانية	السبب المباشر للحرب العالمية الأولى
..... ■ .....	..... ■ .....

( ج ) أكثب نقطتين لكل مما يلي :

١- الآثار المترتبة على أزمة انهيار سوق الأوراق المالية ( وول ستريت ) .

..... ■

..... ■

٢- الأسباب التي جعلت القارة الأوروبية محور العلاقات الدولية في بداية القرن العشرين .

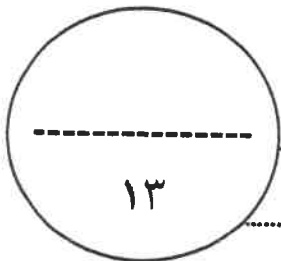
..... ■

..... ■

٣- مواد لائحة الحقوق ( الإنجليزية ) .

..... ■

..... ■



١٣

السؤال الرابع مقالى يتكون من ( أ - ب - ج ) :

( أ ) دلى على صحة العبارات التالية :

١ - أثر حرب السنين السبع على سكان المستعمرات الأمريكية .

..... ■  
..... ■

٢- انتصار الحلفاء فى الدور الثالث من الحرب العالمية الثانية بجهة المحيط الهادى.

..... ■  
..... ■

( ب ) قارن بين كل من حسب المطلوب منك فى الجدول التالى :

وجه المقارنة	الحزب الشيوعى	الحزب النازى
اسم القائد	.....	.....
المبادئ	.....	.....

( ج ) عدد ما يلى :

١- القرارات التى اتخذها البرلمان الإنجليزى لمعاينة ميناء بوسطن .

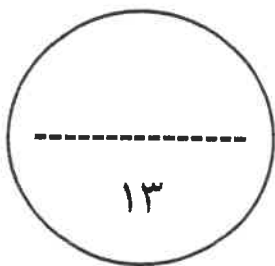
..... ■  
..... ■

٢- إصلاحات الجمعية الوطنية فى فرنسا .

..... ■  
..... ■

٣- مهام منظمة التغذية والزراعة الفاو ( FAO ) .

..... ■



( انتهت الأسئلة )



وزارة التربية  
التوجيه الفني العام للاجتماعيات

## نموذج إجابة

العام الدراسي: ٢٠٢٣/٢٠٢٤ م

الزمن: ساعتان وربع

عدد الأوراق: (٦)

امتحان نهاية الفترة الدراسية الثانية

مقرر / تاريخ العالم الحديث والمعاصر

للسف الثاني عشر / القسم الأدبي

### أجب عن جميع الاسئلة

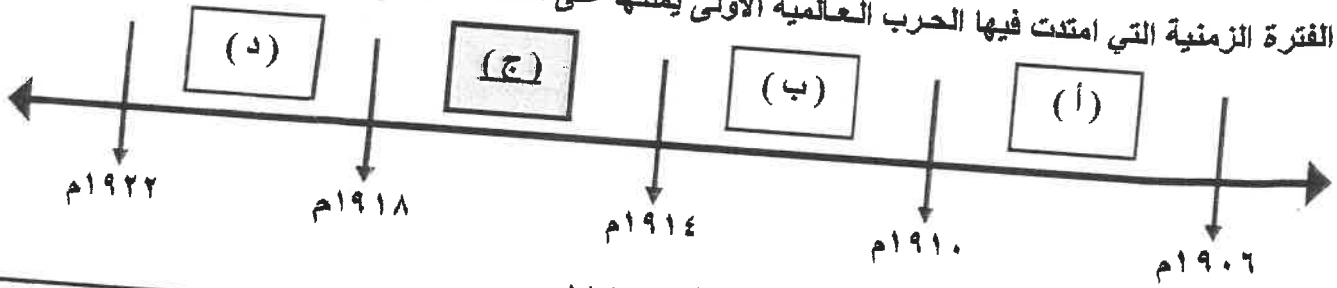
السؤال الأول : موضوعي يتكون من ( أ - ب - ج - د ) : ( لكل سؤال درجة = ١٧ درجة )

( أ ) ظلل الخيار الصحيح من بين الخيارات التي تلي كل عبارة :

١- قانون فرض رسوم مالية جديدة على كل المستندات التجارية وعقود البيع والرهن : ص ٧٨

الملاحة	التمغة	الجائرة	المدني
---------	--------	---------	--------

٢- الفترة الزمنية التي امتدت فيها الحرب العالمية الأولى يمثلها على المخطط الزمني الحرف : ص ٩٧



٣- النتيجة السياسية المترتبة على الحرب العالمية الثانية : ص ١١٤

تغيير خريطة أوروبا	تطور في مجال الأسلحة	بروز مشكلة المشوهين	دمار الطرق
--------------------	----------------------	---------------------	------------

٤- الدول الثلاثة المجتمعون في مؤتمر بالطا عام ١٩٤٥ م : ص ١١٦

الولايات المتحدة - بريطانيا - الاتحاد السوفيتي	فرنسا - إيطاليا - الولايات المتحدة
الصين - ألمانيا - بريطانيا	اليابان - بريطانيا - الاتحاد السوفيتي

( ب ) أكمل العبارات التالية بما يناسبها فيما درست :

١- صاحب مقولة " إننا هنا بإرادة الشعب ولن نبرح أماكننا إلا على أسنة الرماح " اسمه ميرابو ص ٨٧

٢- المحكمة التي اتخذت الناس بالشبهات دون محاكمة عادلة بعصر الإرهاب اسمها محكمة الثورة ص ٩١

٣- المنظمة الدولية التي طالب في إنشائها الرئيس الأمريكي " ولسن " لإحلال السلام اسمها عصبة الأمم ص ١٠٤

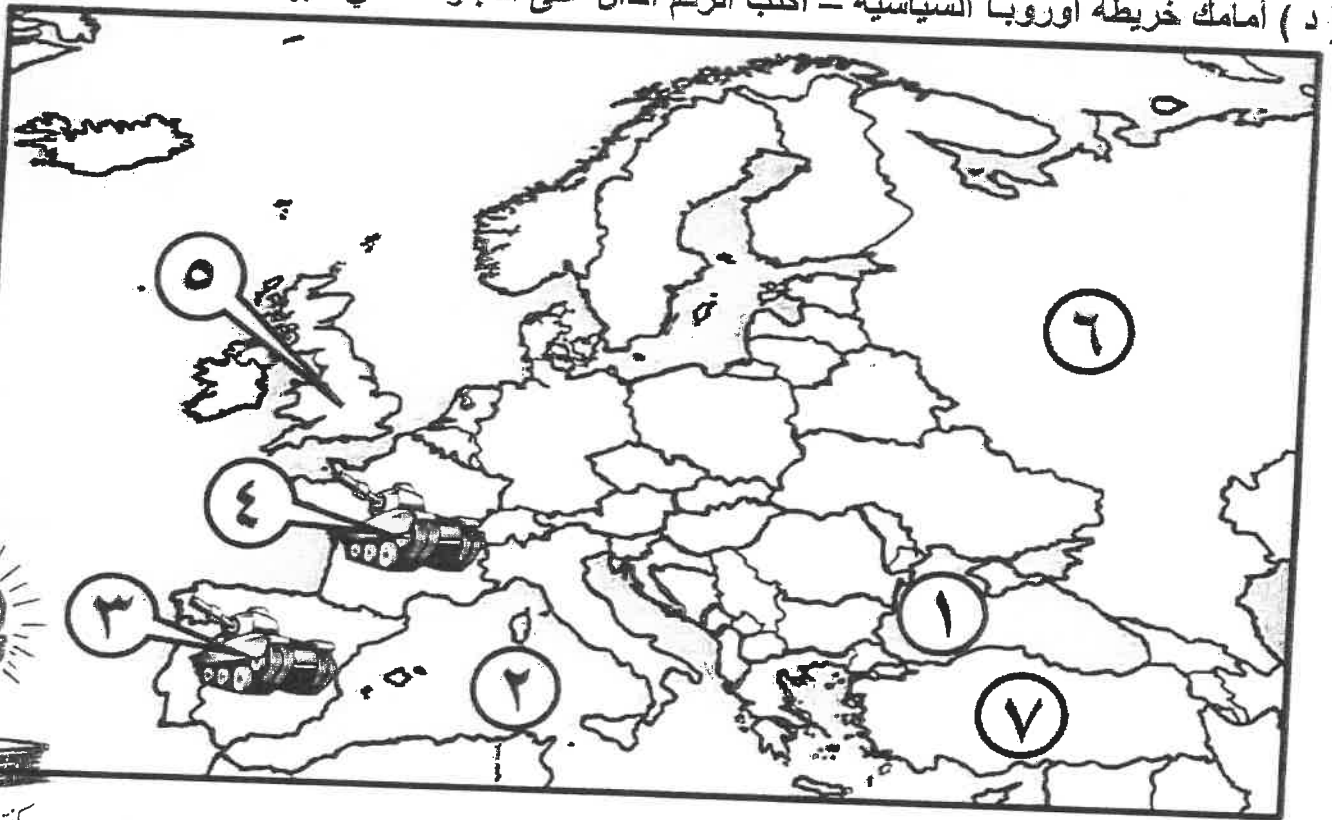
٤- الجنرال الذي قاد القوات الإنجليزية عقب إعلان الاستقلال في المستعمرات الأمريكية اسمه هاو ص ٨١

تابع/ احانة امتحان نهاية الفترة الدراسية الثانية لمقرر تاريخ العالم الحديث والمعاصر - للصف الثاني عشر الأدنى - العام الدراسي ٢٠٢٣/٢٠٢٤م  
تابع / السؤال الأول موضوعي :

( ج ) صحح ما تحته خط في العبارات التالية :

العبارة	التصويب
٣ المجلس النيابي الذي يُمثل الطبقة الأرستقراطية الإنجليزية الشيوخ . ص ٧٥	اللوردات
٢ مؤتمر عُقد عام ١٩٣٨م وضم هتلر بموجبه تشيكوسلوفاكيا <u>فرساي</u> . ص ١٠٩	ميونخ
٣ زوجة الملك لويس ١٦ لعبت دوراً كبيراً في إضعاف مكانته الشعبية <u>إيزابيلا</u> . ص ٨٤	ماري أنطوانيت
٤ المدينة التي يوجد فيها مقر محكمة العدل الدولية <u>قينا</u> . ص ١١٧	لاهاي
٥ هُزم قائد القوات الألمانية - الإيطالية رومل عام ١٩٤٢م في معركة <u>ستالينجراد</u> . ص ١١١	العلمين

( د ) أمامك خريطة أوروبا السياسية - أكتب الرقم الدال على العبارات التي تليها :

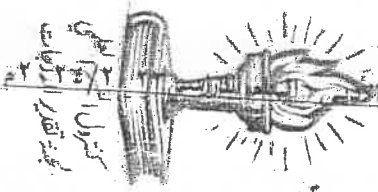


- الدولة التي وقعت مع فرنسا حلف الاتفاق الودي عام ١٩٠٤م يمثلها على الخريطة الرقم ( ٥ ) ص ٩٨

- الإمبراطورية العثمانية يمثلها على الخريطة الرقم ( ٧ ) ص ١٠١

- البحر المتوسط يمثلهُ على الخريطة الرقم ( ٢ ) ص ١٠٣

- موقع معركة المارن الأولى يمثلها على الخريطة الرقم ( ٤ ) ص ١٠١



تابع / احابة امتحان نهاية الفترة الدراسية الثانية لمقرر تاريخ العالم الحديث ، المعاصر - للصف الثاني عشر

السؤال الثاني مقالتي يتكون من ( أ - ب - ج ) :

( أ ) إقرأ الفقرة التالية ثم أجب عما يليها من أسئلة : ( ثلاث درجات لكل نقطة درجة )

" بعد أن وضعت الحرب العالمية الثانية أوزارها ، وبدأت ملامح العالم المعاصر بالظهور خصوصاً بعد انقسام العالم إلى كتلتين ، الكتلة الغربية ( الرأسمالية ) بقيادة الولايات المتحدة الأمريكية ، والشرقية ( الاشتراكية ) بقيادة الاتحاد السوفييتي ، وظهور الصين كدولة كبرى مستقلة عن الكتلتين ، والزيادة السكانية الهائلة وما صاحبها من التقدم العلمي والانفجار المعرفي ، فأصبحت الحاجة ملحة إلى اتفاقيات عالمية لحفظ السلام والأمن الدوليين مثل اتفاقيات ( سالت ) "

١- عرف ما تحته خط . - اتفاقيات سالت . اتفاقيات لوقف التسلح واستخدام الأسلحة الفتاكة . ص ١١٥

٢- استخرج من الفقرة ملامح من عالما المعاصر . ( يكتفى بنقطتين )  
■ ظهور الصين كدولة كبرى مستقلة عن الكتلتين .  
■ الكتلة الغربية ( الرأسمالية ) بقيادة الولايات المتحدة الأمريكية .  
■ الزيادة السكانية الهائلة وما صاحبها من التقدم العلمي والانفجار المعرفي .  
■ اتفاقيات عالمية لحفظ السلام والأمن الدوليين مثل اتفاقيات ( سالت ) .

( ب ) أكتب النتائج المترتبة على كل من : ( ست درجات لكل نقطة درجة )

١	سقوط حصن الباستيل	■ عمت الفوضى في كل مكان . / توقف الفلاحون عن دفع الضرائب . / أنقض الفلاحون على قصور النبلاء وأحرقوها وقتلوا من فيها / أحرقوا الوثائق التي تعطيهم حقوق إقطاعية . / هجرة النبلاء خارج فرنسا هرباً بحياتهم وأصبحوا أكبر خطر على الثورة الفرنسية . ص ٨٨
٢	معركة ساراتوجا ( ١٧٧٧م )	■ خسر الإنجليز جيشاً كاملاً من ستة آلاف جندي واستسلم . / سيطر الأمريكيون على حوض هدسون . / اعترف فرنسا باستقلال الثوار الأمريكيين . ودخلها الحرب إلى جانبهم . زاد تعاطف الشعوب الأوروبية مع الثورة الأمريكية . ص ٨٢ ( <u>يكتفى بنقطتين</u> )
٣	الثورة الأمريكية	■ انتشرت عدواها إلى سكان أمريكا الجنوبية ( اللاتينية ) . / تشجيع سكان المستعمرات البريطانية في آسيا وأفريقيا على القيام بثورات ضدها كي يتخلصوا من استعمارها . ■ صارت الولايات المتحدة ملاذاً لدعاة الفكر من الأوروبيين ورمزاً للحرية والتجديد . ■ كانت الثورة الأمريكية السبب المباشر لقيام الثورة الفرنسية . ص ٨٣ ( <u>يكتفى بنقطتين</u> )

( ج ) علل لما يلي : ( أربع درجات لكل نقطة درجة )

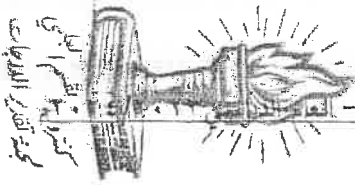
١- ظهور الحركة الفاشية في إيطاليا . ص ١٠٨ ( يكتفى بنقطتين )  
■ عجز الحكومات الضعيفة التي تعاقبت على إيطاليا في معالجة آثار الأزمة الاقتصادية بعد الحرب العالمية الأولى .  
■ انتشرت الأفكار اليسارية والشيوعية والحركات الثورية التي تأثرت بالحركة الشيوعية في روسيا  
■ محاولة العمال في الاستيلاء على السلطة . / ظهور حركة يمينية متطرفة قادها الحزب الفاشي اليميني الذي شجعه الأغنياء والطبقة الوسطى ورجال الدين .

٢- اختلفت الحرب العالمية الثانية عن جميع الحروب التي سبقتها . ص ١١٣ ( يكتفى بنقطتين )

■ حرب عالمية شاملة : شملت معظم دول العالم بالاشتراك المباشر أو بالتحالف مع الدول .  
■ تسخير الطاقات البشرية : حيث سخرت دول المحور أسرى الحروب للعمل في المصانع و الحقول ودفع الحلفاء بالإناث للعمل في هذا المجال بدل الرجال وفتحت الولايات المتحدة باب الهجرة للعمل .  
■ مواجهة بين أيديولوجيات وصراع بين نظريات دكتاتورية عنصرية تبنتها دول المحور بينما تبني الحلفاء الديمقراطية التي تنادي بالمساواة و حقوق الإنسان .  
■ تنافس صناعي : سخرت جميع الدول المشتركة في الحرب مقدراتها ومقدرات الشعوب التي احتلتها بهدف تطوير الإنتاج الصناعي الحربي و تطوير الاقتصاد .  
■ سياق تسليح تكنولوجي : تطور أساليب القتال و الأسلحة فاستخدمت التكنولوجيا في الأرض و الجو و البحر فكان الدمار أكبر وشمل جميع المجالات .

وزارة التربية





تابع/ إجابة امتحان نهاية الفترة الدراسية الثانية لمقرر تاريخ العالم الحديث والمعاصر - للصف الثاني عشر الأدبي - العاشر من شهر ربيع الثاني ١٤٣٥ هـ  
السؤال الثالث مقالتي يتكون من ( أ - ب - ج ) :

( أ ) لاحظ الصورة المقابلة ثم أجب عن الأسئلة التالية : ( ثلاث درجات لكل نقطة درجة )

١- ما أسم صاحب الصورة المقابلة ؟ ص ٩٢  
\* نابليون بونابرت.



٢- عدد - الإصلاحات الداخلية التي قام بها . ( يكتفى بنقطتين ) ص ٩٣  
- الإصلاح الإداري : اهتم نابليون بالإدارة وأصدر قانوناً سنة ١٨٠٠م الذي تبني التقسيم الإداري القديم الذي أصدرته الجمعية الوطنية إلا أنه جعل الحكام يعينون من قبل القنصل الأول " نابليون "

- القانون المدني: أصدر نابليون قانون يعرف بـ ( قانون نابليون ) في ١٨٠٤م حيث أعطى هذا القانون فرنسا والعالم كله تشريعاً يحافظ على القيم والتقاليد القديمة في مجال الأسرة والملكية الخاصة .

- إصلاح أوضاع الكنيسة : في يوليو ١٨٠١م وقع نابليون مع البابا ( بيوس السابع ) اتفاقاً نهائياً اعترفت فرنسا في الكنيسة الكاثوليكية وسيادتها الروحية وفي المقابل اعترفت البابوية بقوانين مصادرة أملاك الكنيسة التي أصدرتها الثورة ويتم تعيين رجال الكنيسة بالتعاون بين البابوية والدولة الفرنسية .

- إصلاح التعليم : وضع نابليون مشروعاً لتنظيم التعليم في كل أنحاء فرنسا والعمل على مجانية التعليم للفقراء وخاصة التعليم الثانوي وبذلك أتاح للطبقات الفقيرة إمكانية التعليم .

( ب ) فرّق بين كُـلِّ مما يلي : ( أربع درجات لكل نقطة درجة )

مميزات الطبقة المُمتازة في فرنسا قبل الثورة ص ٨٥	مميزات الطبقة العامة في فرنسا قبل الثورة ص ٨٥
<ul style="list-style-type: none"><li>• ارتفاع مكائنتهم في المجتمع</li><li>• تولي المناصب العليا في الدولة والجيش</li><li>• ليس عليهم أي حقوق تجاه الدولة</li><li>• التصاقها الشديد بالملك</li><li>• تمثل أقلية لا تزيد على ١٪ من مجموع الشعب الفرنسي .</li></ul> ( يكتفى بنقطة واحدة )	<ul style="list-style-type: none"><li>• تمثل نحو ٩٩٪ من مجموع الشعب الفرنسي حيث عانت هذه الطبقة من جميع صنوف الظلم والاستعباد .</li><li>• فرضت عليهم جميع أنواع الضرائب .</li><li>• استبعدت من جميع الوظائف العليا في الدولة وعاشت في بؤس وشقاء شديدين جعلها تتحين الفرصة للتخلص من هذا النظام الذي أثقل كاهلها .</li></ul> ( يكتفى بنقطة واحدة )
السبب المباشر للحرب العالمية الأولى ص ١٠٠	السبب المباشر للحرب العالمية الثانية ص ١١٠
<ul style="list-style-type: none"><li>• قيام طالب صربي باغتيال ولي عهد النمسا الأرشيدوق فريديناند وزوجته في مدينة سراييفو عاصمة البوسنة .</li></ul>	<ul style="list-style-type: none"><li>• فاجأ هتلر العالم في الأول من سبتمبر ١٩٣٩م بأجتياح بولندا ورفض إنذار بريطانيا وفرنسا فإن قسم العالم كله إلى معسكرين الحلفاء والمحور وكانت هذه بداية الحرب .</li></ul>

( ج ) عدد نقطتين لكل مما يلي : ( ست درجات لكل نقطة درجة )

١- الآثار المترتبة على أزمة انهيار سوق الأوراق المالية ( وول ستريت ) . ص ١٠٥ ( يكتفى بنقطتين )

■ إفلاس كثير من البنوك والمؤسسات / ■ انخفاض الأسعار في الولايات المتحدة فقامت هذه البنوك والمؤسسات الأمريكية بالمطالبة بديونها من أوروبا . / ■ توقف التطور الاقتصادي الأوروبي الذي اعتمد على الاستقرار المالي للولايات المتحدة / ■ فأغلقت المصانع . / ■ انتشرت البطالة / ■ انهيار المؤسسات والبنوك في أوروبا .

■ انتشرت آثار هذه الأزمة في كافة أنحاء العالم فشهدت الفترة ما بين ( ١٩٢٩/١٩٣٩م ) تراجعاً في التجارة الخارجية والإنتاج العالمي.



وزارة التربية  
التوجيه الفني العام للاجتماعيات

العام الدراسي: ٢٠٢٢ / ٢٠٢٣ م

الزمن : ساعتان وربع

عدد الصفحات : ٥

امتحان نهاية الفترة الدراسية الثانية  
مقرر / تاريخ العالم الحديث والمعاصر  
للصف الثاني عشر / القسم الأدبي

أجب عن جميع الاسئلة

السؤال الأول : موضوعي ويتكون من ( أ - ب - ج - د ) :

( أ ) ظلل الخيار الصحيح من بين الخيارات التي تلي كل عبارة :

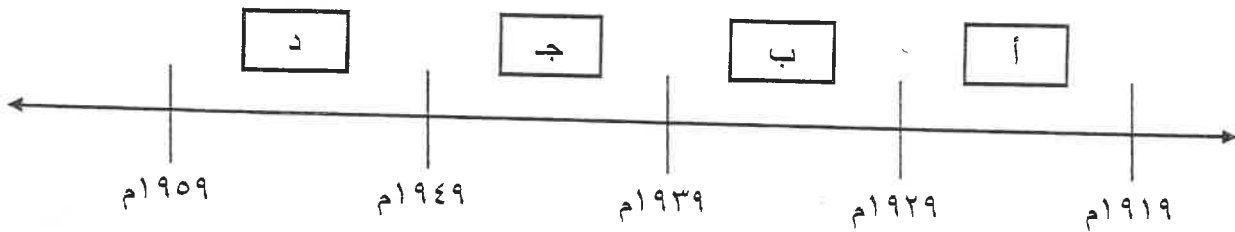
١- الحلف الذي ضم ( روسيا و بريطانيا وفرنسا ) عام ١٩٠٧ م :

عصبة الأباطرة	الحلف الثلاثي	الاتفاق الودي	الوفاق الودي
---------------	---------------	---------------	--------------

٢- الوكالة المتخصصة والتي لها صلة بالأمم المتحدة :

الأمانة العامة	مجلس الأمن	منظمة الصحة الدولية	محكمة العدل الدولية
----------------	------------	---------------------	---------------------

٣- الفترة الزمنية للأزمة الاقتصادية العالمية يمثلها على الخط الزمني الحرف :



٤- المؤتمر الذي اجتمع فيه الزعماء الثلاثة في الصورة المقابلة :



يالطا	فرساي
-------	-------

ميونيخ	سان فرانسيسكو
--------	---------------

تابع السؤال الأول : موضوعي

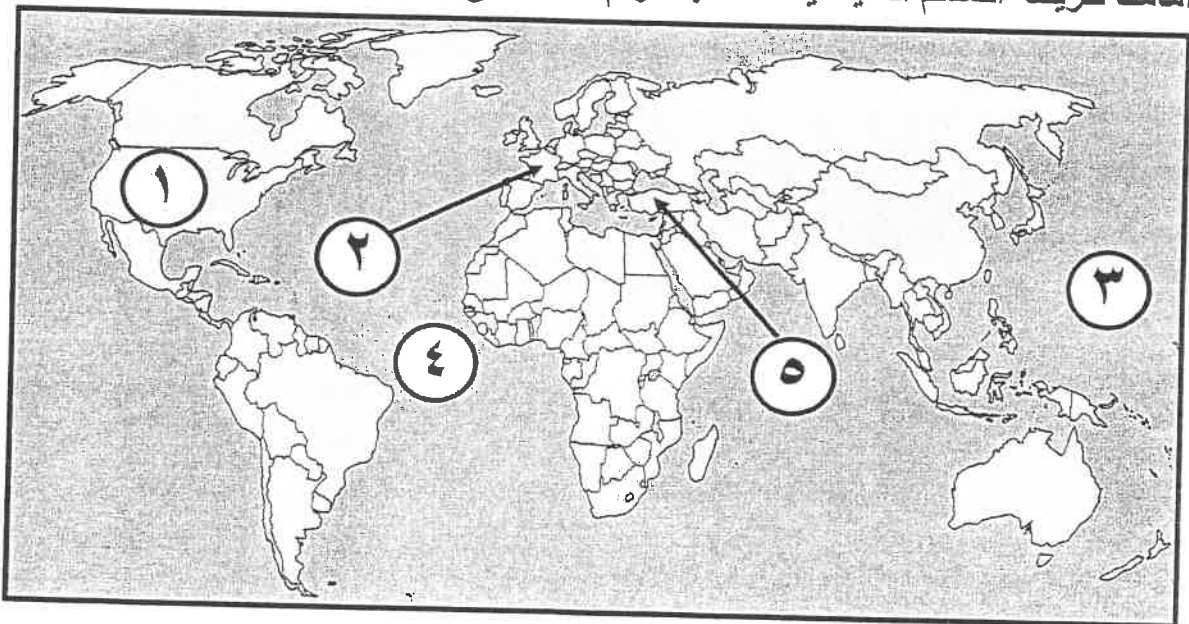
(ب) صوب ما تحته خط في العبارات التالية :

م	العبرة	التصويب
١	مفكر ألف كتاب (العقد الاجتماعي) فولتير .	
٢	مستعمرة إسبانية منافسة لإنجلترا في أمريكا جيمس تون .	
٣	دولة اجتاحتها موسوليني عام ١٩٣٦ م الصومال .	
٤	مدينة أعتقل فيها الملك " لويس السادس عشر" بعد محاولة هروبه الفاشلة باريس .	

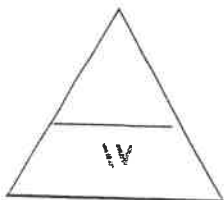
(ج) أكمل العبارات التالية بما يناسبها فيما درست :

- ١- زعيم أمريكي دعا المستعمرات لإعلان الاستقلال عن إنجلترا اسمه .....
- ٢- مجلس نيابي يمثل الأرستقراطية الإنجليزية اسمه .....
- ٣- دولة أعلنت الحرب على ألمانيا عام ١٩١٤م بعد أن انتهكت حياد البلجيك اسمها .....
- ٤- ملك فرنسي توالى الهزائم العسكرية على الجيش الفرنسي في أواخر عهده اسمه .....
- ٥- معاهدة عُقدت بعد حرب السنين السبع عام ١٧٦٣م أسمها .....

(د) أمامك خريطة العالم السياسية - أكتب الرقم الدال على العبارات التي تليها :



- دولة أوروبية يقع فيها نهر المارن يمثلها على الخريطة الرقم ( )
- مدينة " يورك تاون " تقع في دولة يمثلها على الخريطة الرقم ( )
- دولة تزعمها الدكتاتور " مصطفى كمال أتاتورك " يمثلها على الخريطة الرقم ( )
- مسطح مائي تقع فيه جزر هاواي يمثلها على الخريطة الرقم ( )



السؤال الثاني : مقالتي ويتكون من ( أ - ب - ج ) :

( أ ) لاحظ الصورة المقابلة ثم أجب عن الأسئلة التالية :

١- ما اسم النظام الذي يتزعمه صاحب الصورة المقابلة .



٢- عدد عوامل نجاح نظامه في الوصول إلى السلطة .

( ب ) فرّق بين أحداث كل مما يلي :

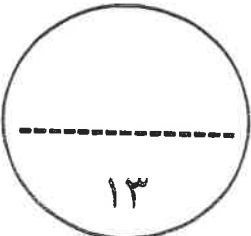
حفلة شاي بوسطن عام ١٧٧٣م	مذبحة بوسطن عام ١٧٧٠م
..... .....	..... .....
الحرب العالمية الأولى ( المرحلة الثانية )	الحرب العالمية الأولى ( المرحلة الأولى )
..... .....	..... .....

( ج ) دلل على صحة العبارات التالية :

١- شهدت الحرب العالمية الثانية تسخير للطاقات البشرية .

٢- إهتمام " نابليون بوناپرت " بإصلاح التعليم في زمن حكومة القناصل .

٣- تقارب الأنظمة الدكتاتورية التي قامت في ما بين الحربين العالميتين .



السؤال الثالث : مقالتي ويتكون من ( أ - ب - ج ) :

( أ ) أقرأ الفقرة التالية ثم أجب عما يليها من أسئلة :

٩  
"كان ثمن هجوم اليابان على ميناء بيرل هاربر في جزر هاواي وتدميرها للأسطول الأمريكي ، كارثة عليها حيث استطاعت الولايات المتحدة الأمريكية من وقف التقدم الياباني في الحرب العالمية الثانية ، وإجبارها على الاستسلام دون قيد ، وذلك بعد إلقاء القنبلتين الذريتين على مدينتي " هيروشيما وناجازاكي " ، ليعم الدمار والخراب ، مما أثار مخاوف الدول إلى عقد إتفاقيات سالت لحماية نفسها ."

١- عرف ما تحته خط :

٢- استخرج من الفقرة السابقة النتائج المترتبة على إلقاء القنبلة الذرية على مدينتي " هيروشيما وناجازاكي "

( ب ) قارن بين كل من:

وجه المقارنة	مؤتمر فيلادلفيا الأول ( الكونجرس الأول )	مؤتمر فيلادلفيا الثاني ( الكونجرس الثاني )
سبب الإنعقاد	.....	.....
القرارات	.....	.....

( ج ) علل لما يلي :

١- تعتبر معركة فالمي من أهم معارك التاريخ على الرغم من صغرها.

٢- وقوف عصبة الأمم المتحدة عاجزة أمام القضايا المهمة .

السؤال الرابع : مقالتي ويتكون من ( أ - ب - ج ) :

( أ ) أكتب نتيجة واحدة فقط لكل من :

١- توقيع معاهدة " كامبو فروميو " .

.....

٢- مهاجمة الغواصات الألمانية السفن التجارية الأمريكية عام ١٩١٧ م .

.....

٣- هجوم ألمانيا على ممر دانزج عام ١٩٣٩ م .

.....

٤- عهد الأرهااب في فرنسا .

.....

( ب ) عرّف المفاهيم والمصطلحات التالية :

.....	١- حصن الباستيل
.....	٢- العلاقات الدولية
.....	٣- الحلف الفولاذي
.....	٤- قانون التمهغه

( ج ) فنّد العبارات التالية :

١- انحصرت نتائج الثورة الأمريكية على أمريكا فقط .

.....

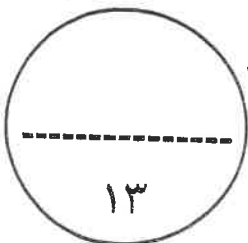
.....

.....

٢- تأييد البرلمان الإنجليزي سياسة الملك جيمس الثاني .

.....

.....



( انتهت الأسئلة )



وزارة التربية  
التوجيه الفني العام للاجتماعيات

### نموذج الإجابة

العام الدراسي: ٢٠٢٢ / ٢٠٢٣ م  
الزمن: ساعتان وربع  
عدد الصفحات: ٥

امتحان نهاية الفترة الدراسية الثانية  
مقرر / تاريخ العالم الحديث والمعاصر  
للفصل الثاني عشر / القسم الأدبي

### أجب عن جميع الاسئلة

السؤال الأول: موضوعي ويتكون من ( أ - ب - ج - د ) : ( لكل نقطة درجة = ١٧ درجة )

( أ ) ظلل الخيار الصحيح من بين الخيارات التي تلي كل عبارة :

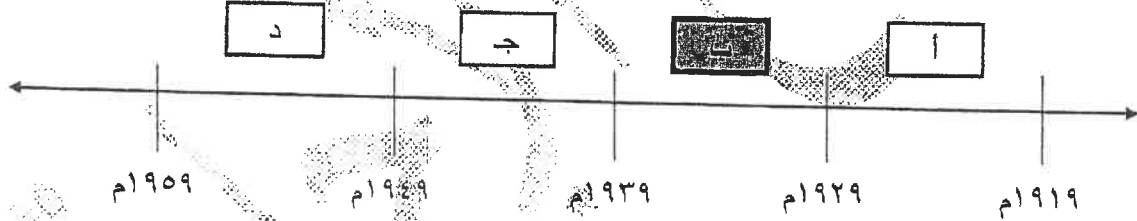
١- الحلف الذي ضم (روسيا وبريطانيا وفرنسا ) عام ١٩٠٧م : ص ٩٨

عصبة الأباطرة	الحلف الثلاثي	الاتفاق الودي	الوفاق الودي
---------------	---------------	---------------	--------------

٢- الوكالة المتخصصة والتي لها صلة بالأمم المتحدة: ص ١١٨

الأمانة العامة	مجلس الأمن	منظمة الصحة الدولية	محكمة العدل الدولية
----------------	------------	---------------------	---------------------

٣- الفترة الزمنية للأزمة الاقتصادية العالمية يمثلها على الخط الزمني الحرف: ص ١٠٥



٤- المؤتمر الذي اجتمع فيه الزعماء الثلاثة في الصورة المقابلة: ص ١٠١



بالظن	فرساي
ميونيخ	سان فرانسيسكو



وزارة التربية  
التوجيه الفني العام للاجتماعيات

تابع السؤال الأول : موضوعي


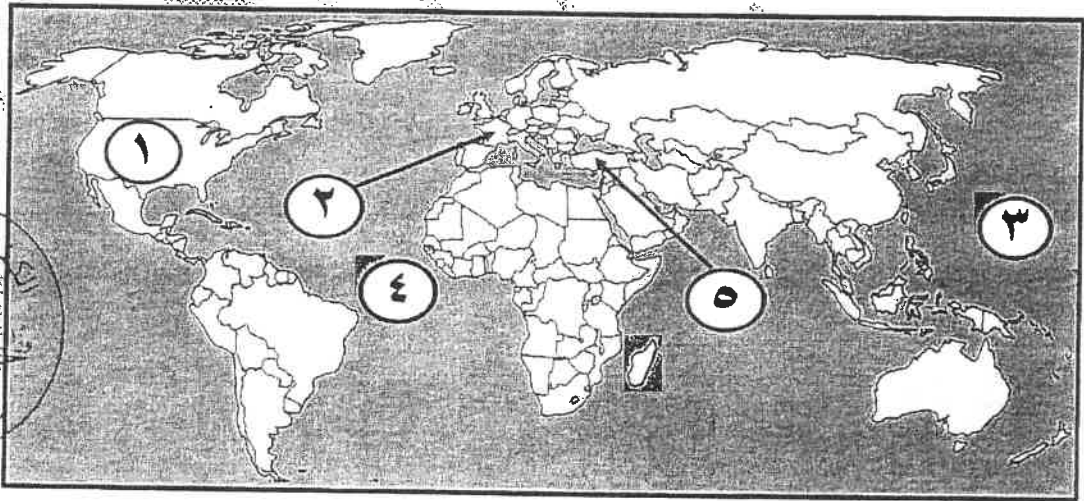
( ب ) صوب ما تحته خط في العبارات التالية :

م	العبرة	التصويب
١	مفكر ألف كتاب (العقد الاجتماعي) فولتير .	روسو / ص ٨٥
٢	مستعمرة إسبانية منافسة لإنجلترا في أمريكا <u>جيمس تون</u> .	فلوريدا / ص ٧٧
٣	دولة اجتاحتها موسوليني عام ١٩٣٩ م <u>الصومال</u> .	أثيوبيا / ص ١٠٩
٤	مدينة أعتقل فيها الملك " لويس السادس عشر" بعد محاولة هروبه الفاشلة <u>باريس</u> .	فاران / ص ٨٩

( ج ) أكمل العبارات التالية بما يناسبها فيما درست :

- ١- زعيم أمريكي دعا المستعمرات لإعلان الاستقلال عن إنجلترا اسمه لي ص ٨١
- ٢- مجلس نيابتي يمثل الأرستقراطية الإنجليزية اسمه مجلس اللوردات ص ٧٥
- ٣- دولة أعلنت الحرب على ألمانيا عام ١٩١٤م بعد أن انتهكت حياد البلجيك اسمها بريطانيا ص ١٠٠
- ٤- ملك فرنسي توالته الهزائم العسكرية على الجيش الفرنسي في أواخر عهده اسمه لويس الرابع عشر ص ٨٤
- ٥- معاهدة عقدت بعد حرب السنين السبع عام ١٧٦٣م اسمها معاهدة باريس ص ٧٧

( د ) أمامك خريطة العالم السياسية - أكتب الرقم الدال على العبارات التي تليها :



- دولة أوروبية يقع فيها نهر المارن يمثلها على الخريطة الرقم (٢) ص ١٠١
- مدينة " يورك تاون " تقع في دولة يمثلها على الخريطة الرقم (١) ص ٨٢
- دولة تزعمها الدكتاتور " مصطفى كمال أتاتورك " يمثلها على الخريطة الرقم (٥) ص ١٠٨
- مسطح مائي تقع فيه جزر هاواي يمثلها على الخريطة الرقم (٣) ص ١١١

**السؤال الثاني : مقالتي ويتكون من ( أ - ب - ج ) : ( أربع درجات لكل نقط درجة )**



**( أ ) لاحظ الصورة المقابلة ثم أجب عن الأسئلة التالية :**

- ١- ما اسم النظام الذي يتزعمه صاحب الصورة المقابلة :  
النظام الشيوعي في روسيا . ص ١٠٦
- ٢- عدد عوامل نجاح نظامه في الوصول إلى السلطة : **( يكتفى بثلاث نقاط )**  
- فساد الحكم القيصري في روسيا واستبداده- الهزائم الكبرى التي حلت بالجيش الروسي منذ عام ١٩٠٥م على يد اليابان ثم الحرب العالمية الأولى وسقوط ملايين من الجرحى والقتلى .  
- سوء الحالة الاقتصادية التي تأثر بها العمال والفلاحون إنتشار البطالة والمجاعات والأمراض.  
- شخصية "النين" وقدرته على إقناع الجماهير من خلال رفع شعاره المشهور (السلام للجيش /الأرض للفلاحين /الغذاء للجميع /الحكم السوفيتي ) وتنظيم الحزب الشيوعي.

**( ب ) فرّق بين أحداث كل مما يلي : ( أربع درجات لكل نقطة درجة )**

<p>مذبحة بوسطن ١٧٧٠م / ص ٧٩</p> <p>حفلة شاي بوسطن ١٧٧٣م / ص ٧٩</p>	<p>مهاجمة المواطنين في بوسطن للقوات الإنجليزية (عترضاً على تطبيق إنجلترا للقوانين سيئة السمعة فاطلقت القوات النار على السكان وقررت الحكومة الإنجليزية إلغاء جميع الضرائب عدا ضريبة الشاي ليبقى حق فرض الضرائب قائماً على المستعمرات .</p>
<p>الحرب العالمية الأولى ( المرحلة الثانية ) / ص ١٠١</p> <p>الحرب العالمية الأولى ( المرحلة الأولى ) / ص ١٠١</p>	<p>الحرب العالمية الأولى ( المرحلة الأولى ) / ص ١٠١</p> <p>اجتاحت ألمانيا بليجكا وشمال فرنسا . - تمكنوا الحلفاء من إيقاف زحف الألمان في معركة المارن الأولى ١٩١٤م .</p>
<p>( يكتفى بنقطة )</p>	<p>( يكتفى بنقطة )</p>

**( ج ) دمل على صحة العبارات التالية :**

**( يكتفى بنقطتين )**

- ١- شهدت الحرب العالمية الثانية تسخير للطاقات البشرية.  
- سخرت دول المحور أسرى الحروب للعمل في المصانع والحقول . ص ١١٣  
- دفع الحلفاء بالإناث للعمل في هذا المجال بدل الرجال- فتحت الولايات المتحدة باب الهجرة للعمل.

- ٢- إهتمام " نابليون بوناپرت " بإصلاح التعليم في زمن حكومة القنصل . **( يكتفى بنقطتين )**  
- وضع " نابليون بوناپرت " مشروع لتنظيم التعليم في كل أنحاء فرنسا .  
- العمل على مجانية التعليم للفقراء خاصة التعليم الثانوي / أتاح للطبقات الفقيرة إمكانية التعليم . ص ٩٣

**( يكتفى بنقطة واحدة )**

- ٣- تقارب الأنظمة الديكتاتورية التي قامت في ما بين الحربين العالميتين .  
- دعمت كل من النازية والفاشية النظام الديكتاتوري بقيادة " فرانكو " في أسبانيا / سيطر العسكريون في اليابان على الحكم وتحالفوا مع ألمانيا النازية ونشأ ما يسمى بمحور ( برلين / طوكيو ) . ص ١٠٨

وزارة التربية

السؤال الثالث : مقالتي ويتكون من ( أ - ب - ج ) :

( أربع درجات لكل نقطة درجة )

( أ ) اقرأ الفقرة التالية ثم أجب عما يليها من أسئلة :

"كان ثمن هجوم اليابان على ميناء بيرل هاربر في جزر هاواي وتدميرها للأسطول الأمريكي ، كارثة عليها حيث استطاعت الولايات المتحدة الأمريكية من وقف التقدم الياباني في الحرب العالمية الثانية ، وإجبارها على الاستسلام دون قيد ، وذلك بعد إلقاء القنبلتين الذريتين على مدينتي " هيروشيما وناجازاكي " ، ليعم الدمار والخراب ، مما أثار مخاوف الدول إلى عقد إتفاقيات سالت لحماية نفسها ."

١- عرف ما تحته خط :

إتفاقيات سالت : إتفاقيات لوقف التسليح واستخدام الأسلحة الفتاكة . ص ١١٥

٢- استخرج من الفقرة السابقة النتائج المترتبة على إلقاء القنبلة الذرية على مدينتي " هيروشيما وناجازاكي " :

- وقف التقدم الياباني في الحرب العالمية الثانية .

- عم الدمار والخراب

- إستسلام اليابان دون قيد أو شرط .



( ب ) قارن بين كل من: (أربع درجات لكل نقطة درجة)

وجه المقارنة	مؤتمر فيلادلفيا الأول ( الكونجرس الأول )	مؤتمر فيلادلفيا الثاني ( الكونجرس الثاني )
سبب الإنعقاد	- لمساعدة وتأييد بوسطن على تجاوز القوانين الجائرة .	- قيام المواطنين الأمريكيون طرد الحكومات الملكية الإنجليزية واستلام زمام الأمور .
القرارات	- عدم الرضوخ للقوانين الجائرة التي أصدرتها إنجلترا ضد ميناء بوسطن . / وجهوا طلباً من الشعب الأمريكي للملك الإنجليزي بإلغاء تلك القوانين الجائرة . / إعادة سلاح المقاطعة التجارية للبضائع الإنجليزية وتشكيل لجان فني كل المدن لتنظيم عملية المقاطعة والأشرف عليها .	- اعتبر جيش بوسطن جيشاً أمريكياً يخص كل المستعمرات . / تعيين " جورج واشنطن " قائد الجيش الوطني الذي سيخوض حرب الإستقلال الأمريكية ضد إنجلترا .
	( يكتفى بنقطه ) ص ٨٠	( يكتفى بنقطه ) ص ٨٠

( خمس درجات لكل نقطة درجة )

( يكتفى بثلاثة نقاط )

( ج ) علل لما يلي :

١- تعتبر معركة فالمي من أهم معارك التاريخ على الرغم من صغرها . ص ٩٠

- انقذت أفكار الثورة الفرنسية من الضياع . / انتصار الجيش الفرنسي .

- رفعت الروح المعنوية للفرنسيين . / حالت دون وقوع باريس .

- تحول جيش الثورة بعدها من الدفاع إلى الهجوم . / أصبح مصدر رعب للدول الأوروبية فيما بعد .

( يكتفى بنقطتين )

٢- وقوف عصبة الأمم المتحدة عاجزة أمام القضايا المهمة . ص ١٠٤

- عدم التزام الدول الكبرى بميثاق العصبة . / لم يكن للعصبة قوة عسكرية قادرة على تنفيذ قراراتها .

- لم تشارك الولايات المتحدة في عضويتها على الرغم من أنها صاحبة الفكرة . وزارة

للسريية

**السؤال الرابع : مقالتي ويتكون من ( أ - ب - ج ) :**

**( أربع درجات لكل نقطة درجة )**

**( أ ) أكتب نتيجة واحدة فقط لكل من :**

- ١- توقيع معاهدة " كامبو فروميو " . ص ٩٢ .  
- أعطت فرنسا مكاسب كبيرة . / - حققت للفرنسين الفخر والعزة للإنتصار على عددهم اللود النمسا .
- ٢- مهاجمة الغواصات الألمانية السفن التجارية الأمريكية عام ١٩١٧ م . ص ١٠٠ .  
- دخول الولايات المتحدة الحرب ضد ألمانيا في الحرب العالمية الأولى .
- ٣- هجوم ألمانيا على ممر دانزج عام ١٩٣٩ م . ص ١١٠ .  
- انقسم العالم إلى معسكرين الحلفاء والمحور / - بداية الحرب العالمية الثانية .
- ٤- عهد الأرهاط في فرنسا . ص ٩١ .  
- عقدت فيها محاكمة أطلق عليها " محكمة الثورة " لمئات من المواطنين وقتل الكثير دون محاكمة عادلة بل كانت تأخذ الناس في الشبهات ووجهت لهم تهمة الخيانة العظمى .

**( أربع درجات لكل نقطة درجة )**

**( ب ) عرّف المفاهيم والمصطلحات التالية :**

١- حصن الباستيل	من الحصون الإقطاعية القديمة وتحول إلى سجن للدولة وأصبح رمزاً من رموز الظلم والطغيان والاستبداد . ص ٨٨ .
٢- العلاقات الدولية	الاتصالات بين الدول وبين المنظمات الدولية في جميع المجالات . ص ٩٧ .
٣- الحلف الفولاذي	حلف وقعه هتلر مع موسوليني في أغسطس عام ١٩٣٩ م . ص ١٠٩ .
٤- قانون التمغه	قانون فرض رسوم مالية جديدة على كل المستندات التجارية وعقود البيع والرهن . ص ٧٨ .

**( خمس درجات لكل نقطة درجة )**

**( ج ) فُتد العبارات التالية :**

- ١- انحصرت نتائج الثورة الأمريكية على أمريكا فقط . ص ٨٣ .  
العبارة خاطئة بل على العكس:  
- أنتشرت عدواها إلى سكان أمريكا الجنوبية اللاتينية .  
- تشجيع سكان المستعمرات البريطانية في آسيا وأفريقيا على القيام بثورات ضدها كي يتخلصوا من استعمارها .  
- صارت الولايات المتحدة ملاذ لدعاة الفكر من الأوروبيين ورمزا للحرية والتجديد/كانت الثورة الأمريكية السبب المباشر في قيام الثورة الفرنسية لأن فرنسا انفقت أموال طائلة في حربها ضد بريطانيا في العالم الجديد .
- ٢- تأييد البرلمان الإنجليزي سياسة الملك جيمس الثاني . ص ٧٣ .  
العبارة خاطئة بل على العكس تبني الملك سياسة ذات عناصر ثلاثة :  
- إيمانه بمبدأ الملكية المطلقة .  
- التسامح حيال الكاثوليكية . / التعاون مع "الويس الرابع" عشر ملك فرنسا .



التسريعية

وزارة

التوجيه الفني العام للإجتماعيات



وزارة التربية

التوجيه الفني العام للاجتماعيات

امتحان الدور الثاني ( الفترة الدراسية الثانية ) العام الدراسي: ٢٠٢٢ / ٢٠٢٣ م

الزمن: ساعتان وربع

مقرر / تاريخ العالم الحديث والمعاصر

عدد الصفحات: ( ٥ )

للسف الثاني عشر / القسم الأدبي

\*\*\*\*\*

**أجب على جميع الاسئلة**

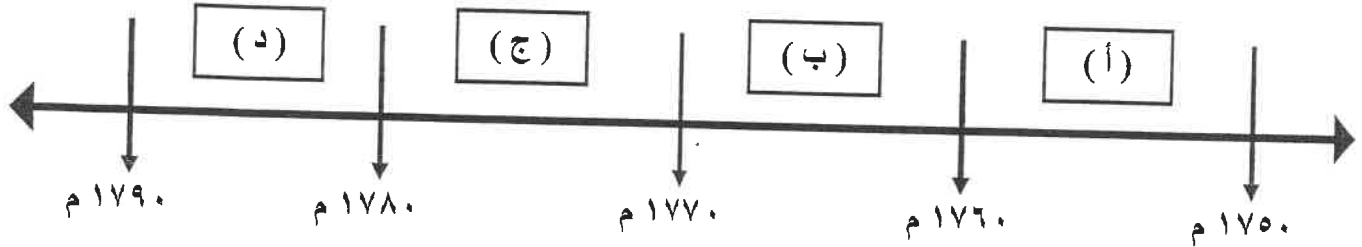
السؤال الأول : موضوعي و يتكون من ( أ - ب - ج - د ) :

(أ) ظلل الخيار الصحيح من بين الخيارات التي تلي كل عبارة :

١- صاحب النظرية السياسية المعروفة بـ ( السيادة الشعبية ) :

فولتير	جون لوك	روسو	مونتسكيو
--------	---------	------	----------

٢- الفترة الزمنية التي وقعت فيها معركة ساراتوجا يمثلها على المخطط الزمني الحرف :



٣- مؤتمر عقد عام ١٩٣٨م طالب فيه هتلر بحق تقرير مصير الألمان في منطقة السوديت :

ميونخ	باريس	فرساي	برلين
-------	-------	-------	-------

٤- القائد الذي رفع شعار ( السلام للجيش / الأرض للفلاحين / الغذاء للجميع / الحكم للسوفييت ) :

ستالين	زوكوف	رومل	لينين
--------	-------	------	-------

٥- مهام المنظمة التي يمثلها الشعار المقابل :



تحسين إنتاج المزارع والغابات	الإنشاء والتعمير
مواجهة المشاكل الصحية	تحسين ظروف العمل

( ب ) صنف الأحلاف العسكرية التالية طبقاً لأسباب نشأتها في الجدول التالي:

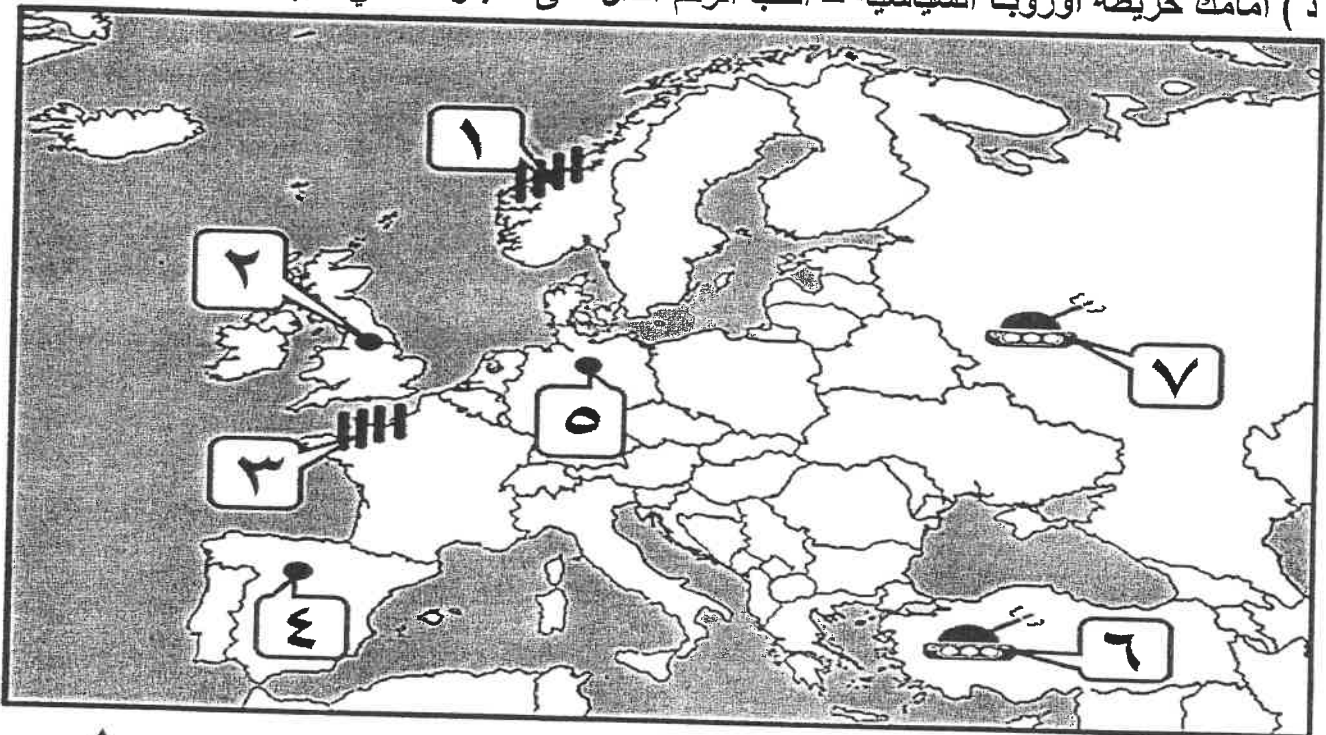
( عصبة الأباطرة - الثلاثي - الاتفاق الودي - الفولاذي - الوفاق الودي )

تقدم ألمانيا الصناعي والاقتصادي ونمو قوتها البحرية	قيام الإتحاد الألماني على عزل فرنسا بالتحالف مع النمسا وروسيا	انضمت إيطاليا لتحالف ألمانيا والنمسا رداً على احتلال فرنسا لتونس	تسوية مناطق النفوذ في آسيا ( إيران / أفغانستان / التبت )
.....	.....	.....	.....

( ج ) أكمل العبارات التالية بما يناسبها فيما درست :

- ١- المجلس النيابي الذي يمثل الأرسقراطية الإنجليزية اسمه .....
- ٢- المستعمرة الأسبانية المنافسة لإنجلترا في أمريكا بعد حرب السنين السبع اسمها .....
- ٣- الرئيس الأمريكي الذي تبنى سياسة اقتصادية جديدة عُرفت بالنظام الجديد new deal اسمه .....
- ٤- الحركة اليمينية المتطرفة التي قادها موسوليني في إيطاليا اسمها .....

( د ) أمامك خريطة أوروبا السياسية - أكتب الرقم الدال على العبارات التي تليها :

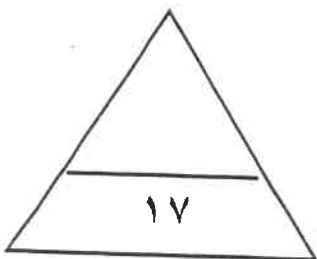


- معركة ستالينجراد عام ١٩٤٢م يمثلها على الخريطة الرقم (.....)

- دولة تزعمها الدكتاتور " فرانسيس فرانكو " يمثلها على الخريطة الرقم (.....)

- ساحل النورماندي يمثلها على الخريطة الرقم (.....)

- دولة قامت بها الثورة المجيدة عام ١٦٨٩م يمثلها على الخريطة الرقم (.....)



السؤال الثاني مقالي و يتكون من ( أ - ب - ج ) :

( أ ) اقرأ الفقرة التالية ثم أجب عما يليها من أسئلة :

" اختلفت الحرب العالمية الثانية عن جميع الحروب التي سبقتها بما فيها الحرب العالمية الأولى إذ أنها لم تكن مواجهة عسكرية بين شعوب متخاصمة بل كانت شاملة معظم دول العالم بالاشتراك المباشر أو بالتحالف مع الدول ، فكانت احتياجات الحرب دافعاً للتطور العلمي والتقني في مجال الأسلحة التي ساعدت على إنهاء الديكتاتوريات في إيطاليا وألمانيا واليابان ، ولمخاوف العالم من التطور التكنولوجي للأسلحة تمَّ عقد اتفاقيات سالت . "

١- عرف ما تحته خط .

..... : اتفاقيات سالت :

٢- استخرج من الفقرة السابقة ما يلي :

■ دليل على اختلاف الحرب العالمية الثانية عن جميع الحروب التي سبقتها.

..... -

■ نتائج الحرب العالمية الثانية في المجالات .

..... : العلمية :

..... : السياسية :

( ب ) قارن بين كل من:

وجه المقارنة	مؤتمر فيلادلفيا الأول ( الكونجرس الأول )	مؤتمر فيلادلفيا الثاني ( الكونجرس الثاني )
العام	..... م	..... م
القرارات	..... -	..... -

( ج ) أكتب فيما يلي :

١- العوامل الاقتصادية لقيام الثورة الفرنسية .

..... -

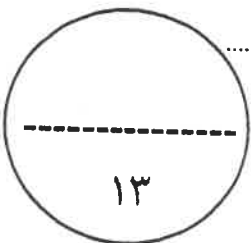
..... -

..... -

٢- سبب عجز منظمة عصبة الأمم في حل القضايا المهمة .

..... -

..... -



السؤال الثالث مقالى و يتكون من ( أ - ب - ج ) :

( أ ) لاحظ الصورة المقابلة ثم أجب عن الأسئلة التالية :



١- أكتب - اسم المؤتمر الدالة عليه الصورة ؟

..... -

٢- عدد - أهداف منظمة " الأمم المتحدة " ؟

..... -

..... -

( ب ) فرّق بين كل مما يلي :

مبادئ الحزب النازي	مبادئ الحزب الشيوعي
..... - ..... -	..... - ..... -
السبب المباشر لقيام الحرب العالمية الثانية	السبب المباشر لقيام الحرب العالمية الأولى
..... - ..... -	..... - ..... -

( ج ) فند العبارات التالية :

١- اقتصر إصلاحات الجمعية الوطنية على إصدار وثيقة الحقوق الفرنسية ودستور ١٧٩١م .

..... -

..... -

٢- امتياز الملك الإنجليزي بصلاحيات مطلقة وفق لائحة الحقوق الإنجليزية الصادرة عن البرلمان .

..... -

..... -

السؤال الرابع مقالى و يتكون من ( أ - ب - ج ) :

( أ ) أكتب النتائج المترتبة على كل من :

..... .....	١ حرب السنين السبع على سكان المستعمرات الإنجليزية
..... .....	٢ معركة فالمي عام ١٧٩٢ م
..... .....	٣ مؤتمر صلح فرساي عام ١٩١٩ م

( ب ) علل لما يلى :

١- تعتبر الثورة الفرنسية واحدة من أهم الثورات الكبرى في العالم .

.....  
.....

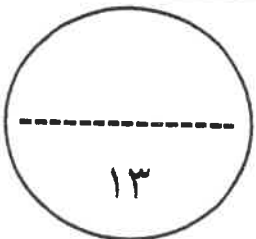
٢- كانت القارة الأوروبية محور العلاقات الدولية في بداية القرن العشرين .

.....  
.....

( ج ) عَرِّف المفاهيم والمصطلحات التالية :

.....	١- القوانين الجائرة
.....	٢- الثورة المضادة
.....	٣- المارن

( انتهت الأسئلة مع تمنياتنا لكم بالتوفيق والنجاح )



١٣

نموذج احابة



الدور الثاني

العام الدراسي: ٢٠٢٢ / ٢٠٢٣ م

الزمن: ساعتان وربع

عدد الصفحات: ( ٦ )

امتحان نهاية الفترة الدراسية الثانية

مقرر / تاريخ العالم الحديث والمعاصر

للفص الثاني عشر / القسم الأدبي

وزارة التربية

التوجيه الفني العام للاجتماعيات

تم التحميل من شبكة ياكويت التعليمية

اجب على جميع الاسئلة



Telegram: ykuwait\_net\_home

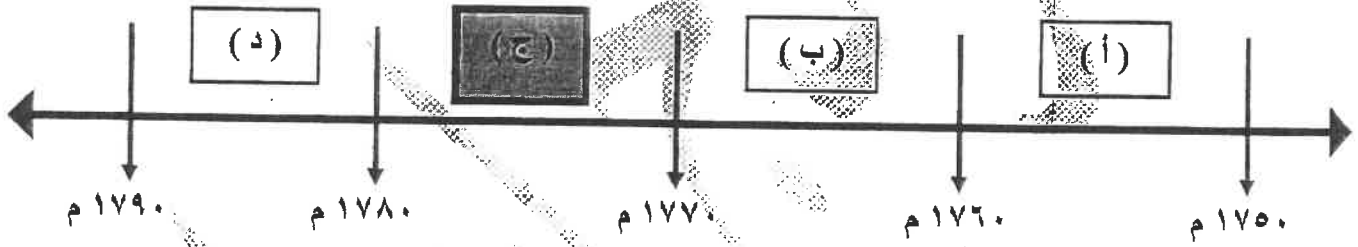
السؤال الأول : موضوعي و يتكون من ( أ - ب - ج - د ) : ( لكل نقطة درجة = ١٧ درجة )

( أ ) ظلل الخيار الصحيح من بين الخيارات التي تلي كل عبارة :

١- صاحب النظرية السياسية المعروفة بـ ( السيادة الشعبية ) : ص ٧٦

فولتير	جون لوك	روسو	مونتيسكيو
--------	---------	------	-----------

٢- الفترة الزمنية التي وقعت فيها معركة ساراتوجا يمثلها على المخطط الزمني الحرف : ص ٨٢



٣- مؤتمر عقد عام ١٩٣٨م طالب فيه هتلر بحق تقرير مصير الألمان في منطقة السودان : ص ١٠٩

ميونخ	باريس	فرنساي	برلين
-------	-------	--------	-------

٤- القائد الذي رفع شعار ( السلام للجيش / الأرض للفلاحين / الغذاء للجميع / الحكم للسوفييت ) : ص ١٠٦

ستالين	زوكوف	رومل	لينين
--------	-------	------	-------

٥- مهام المنظمة التي يمثلها الشعار المقابل : ص ١١٨



تحسين إنتاج المزارع والغابات	الإنشاء والتعمير
------------------------------	------------------

مواجهة المشاكل الصحية	تحسين ظروف العمل
-----------------------	------------------

وزارة التربية

التوجيه الفني العام للاجتماعيات

( ب ) صنف الأحلاف العسكرية التالية طبقاً لأسباب نشأتها في الجدول التالي : ص ٩٧ و ٩٨

( عصابة الأباطرة - الثلاثي - الاتفاق الودي - الفولاذي - الوفاق الودي )

تقدم ألمانيا الصناعي والاقتصادي ونمو قوتها البحرية	قيام الإتحاد الألماني على عزل فرنسا بالتحالف مع النمسا وروسيا	انضمت إيطاليا لتحالف ألمانيا والنمسا رداً على احتلال فرنسا لتونس	تسوية مناطق النفوذ في آسيا ( إيران / أفغانستان / ألبانيا )
الاتفاق الودي	عصابة الأباطرة	الثلاثي	الوفاق الودي

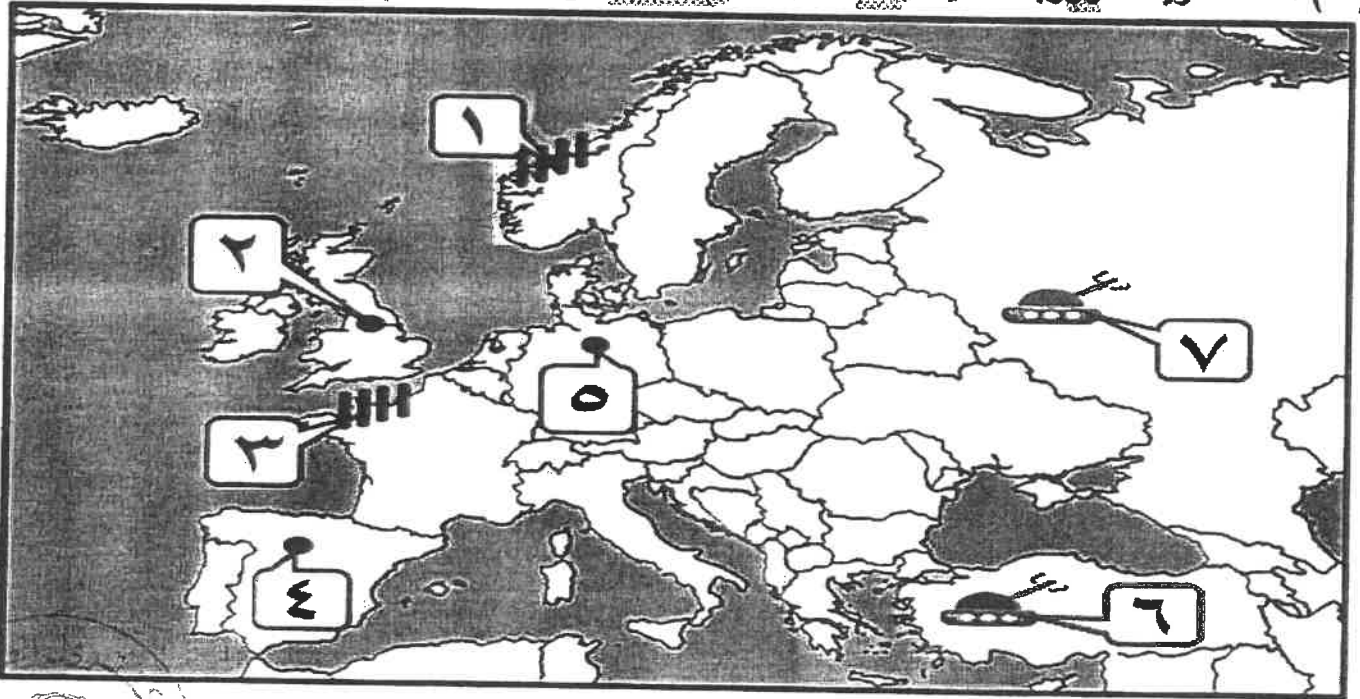
تم التّحميل من شبكة يالويت القطيبيّة



Telegram: ykuwait\_net\_home

- ( ج ) أكمل العبارات التالية بما يناسبها فيما درست :
- ١- المجلس النيابي الذي يمثل الأرستقراطية الإنجليزية أسمه اللوردات ص ٧٥
  - ٢- المستعمرة الأسبانية المنافسة لإنجلترا في أمريكا بعد حرب السنين السبع اسمها فلوريدا ص ٧٧
  - ٣- الرئيس الأمريكي الذي تبني سياسة اقتصادية جديدة عُرفت بالبرنامج الجديد **new deal** اسمه فرانكلين روزفلت ص ١٠٥
  - ٤- الحركة اليمينية المتطرفة التي قادها موسوليني في إيطاليا اسمها الفاشية ص ١٠٨

( د ) أمامك خريطة أوروبا السياسية - أكتب الرقم الدال على العبارات التي تليها :



- ١ - معركة ستالينجراد عام ١٩٤٢م يمثلها على الخريطة الرقم ( ٧ ) ص ١١١
- ٢ - دولة تزعمها الدكتاتور " فرانسيس فرانكو " يمثلها على الخريطة الرقم ( ٤ ) ص ١٠٨
- ٣ - ساحل النورماندي يمثلها على الخريطة الرقم ( ٣ ) ص ١١٢
- ٤ - دولة قامت بها الثورة المجيدة عام ١٦٨٩م يمثلها على الخريطة الرقم ( ٢ ) ص ٧٣

التسريبيّة

وزارة

السؤال الثاني مقالى و يتكون من ( أ - ب - ج ) :

( أ ) اقرأ الفقرة التالية ثم أجب عما يليها من أسئلة : ( أربع درجات لكل نقطة درجة )

" اختلفت الحرب العالمية الثانية عن جميع الحروب التي سبقتها بما فيها الحرب العالمية الأولى إذ أنها لم تكن مواجهة عسكرية بين شعوب متخاصمة بل كانت شاملة معظم دول العالم بالاشتراك المباشر أو بالتحالف مع الدول ، فكانت احتياجات الحرب دافعاً للتطور العلمي والتقني في مجال الأسلحة التي ساعدت على إنهاء الديكتاتوريات في إيطاليا وألمانيا واليابان ، ولمخاوف العالم من التطور التكنولوجي للأسلحة تمَّ عقد اتفاقيات سالت ."

١- عرف ما تحته خط :

- اتفاقيات سالت : اتفاقيات وقف التسليح واستخدام الأسلحة الفتاكة . ص ١١٥

٢- استخرج من الفقرة السابقة ما يلي :

أ - دليل على اختلاف الحرب العالمية الثانية عن جميع الحروب التي سبقتها. ص ١١٣

- كانت شاملة معظم دول العالم بالاشتراك المباشر أو بالتحالف مع الدول .

ب - نتائج الحرب العالمية الثانية في المجالات . ص ١١٤

العلمية : كانت احتياجات الحرب دافعاً للتطور العلمي والتقني في مجال الأسلحة .

السياسية : إنهاء الديكتاتوريات في إيطاليا وألمانيا واليابان .

( ب ) قارن بين كل من : ( أربع درجات لكل نقطة درجة )

وجه المقارنة	مؤتمر فيلادلفيا الأول ( الكونجرس الأول )	مؤتمر فيلادلفيا الثاني ( الكونجرس الثاني )
العام	١٧٧٤ م	١٧٧٥ م
القرارات	- عدم الرضوخ للقوانين الجائرة التي أصدرتها إنجلترا ضد ميناء بوسطن . - وجهوا طلباً من الشعب الأمريكي للملك الإنجليزي بإلغاء تلك القوانين الجائرة . - إعادة سلاح المقاطعة التجارية للبضائع الإنجليزية و تشكيل لجان في كل المدن لتنظيم عملية المقاطعة و الاشراف عليها .	- اعتبر جيش بوسطن جيشاً أمريكياً يخص كل المستعمرات . - تعيين جورج واشنطن قائد الجيش الوطني الأمريكي الذي سيخوض حرب الاستقلال الأمريكية ضد إنجلترا .
	(الاكْتفاء بنقطة واحدة) ص ٨٠	(الاكْتفاء بنقطة واحدة) ص ٨٠

تابع / السؤال الثاني :

( ج ) اكتب فيما يلي : ( خمس درجات لكل نقطة درجة )

١- العوامل الاقتصادية لقيام الثورة الفرنسية . ص ٨٦ ( يكتفى بنقطتين )

- الخسائر الكبيرة التي ترتبت على الحروب الخاسرة التي خاضتها فرنسا خلال القرن الثامن عشر أدت إلى استنزاف كثير من أموال الخزانة الفرنسية وفقد الفرنسيون الكثير من المستعمرات التي كانت تدر دخلاً كبيراً لا سيما تلك المستعمرات الفرنسية في أمريكا الشمالية والهند .

- اشتراك فرنسا في حرب الاستقلال الأمريكية مدفوعة في ذلك بالثأر لكرامتها من جراء هزيمتها أمام إنجلترا في حرب السنين السبع ونتيجة لذلك تحملت الخزانة الفرنسية أموالاً طائلة أجهزت على خزينة الدولة وأصبحت فرنسا على شفا الإفلاس.

- سياسة الامتيازات والإعفاءات الضريبية التي كانت فرنسا تطبقها حيث كانت الطبقة الممتازة التي تملك الثروة مفعاة من جميع أنواع الضرائب وكذلك الكنيسة مما حرم الخزانة الفرنسية من مصدر مهم من مصادر الدخل وساهمت بشكل كبير في تفاقم الأوضاع الاقتصادية في فرنسا ولا سيما في عصر الملك لويس السادس عشر.

- حياة الترف والبذخ التي يعيش فيها البلاط الفرنسي في الوقت الذي كان الشعب الفرنسي فيه يئن تحت وطأة المجاعة والفقر والحرمان وارتفاع الأسعار والبطالة.

٢- سبب عجز منظمة عصبة الأمم في حل القضايا المهمة . ص ١٠٤ ( يكتفى بثلاث نقاط )

- عدم التزام الدول الكبرى بميثاق العصبة .

- لم يكن للعصبة قوة عسكرية قادرة على تنفيذ قراراتها .

- أصبحت أداة لمصلحة الدول الكبرى في ذلك الوقت فانهارت هذه المنظمة نتيجة لسياسة الدول المنتصرة في الحرب.

- لم تشارك الولايات المتحدة في عضويتها على الرغم من أنها صاحبة الفكرة.

تم التحميل من شبكة ياكويت التعليمية



Telegram:  
[ykuwait\\_net\\_home](https://t.me/ykuwait_net_home)



السؤال الثالث مقال و يتكون من ( أ - ب - ج ) :

( أ ) لاحظ الصورة المقابلة ثم أجب عن الأسئلة التالية : ( ثلاث درجات لكل نقطة درجة ) ص ١١٦



١- اكتب - اسم المؤتمر الدالة عليه الصورة ؟ - مؤتمر يالطا

٢- عدد - أهداف منظمة "الأمم المتحدة" ؟ ( يكتفى بنقطتين )

- المحافظة على السلام والأمن الدوليين وحل النزاعات بالطرق السلمية .
- تنمية العلاقات الودية بين الدول على المساواة واحترام حقوق الانسان .
- تحقيق التعاون الدولي في جميع المجالات .
- تكون الأمم المتحدة أداة للتنسيق بين أعمال الدول والمنظمات الأخرى .

( ب ) فرّق بين كل مما يلي : ( ست درجات لكل نقطة درجة )

مبادئ الحزب الشيوعي ص ١٠٦	مبادئ الحزب النازي ص ١٠٧
- سيطرت الدولة على جميع مصادر الثروة ووسائل الإنتاج / - إلغاء الملكية الخاصة وإشراف الدولة على التخطيط الاقتصادي . - تحقيق العدالة الاجتماعية بين أفراد الشعب - محو الفوارق بين القوميات في روسيا . ( الاكتفاء بنقطتين )	- تفوق العنصر البشري الجرمانى الألماني على جميع العناصر البشرية / - قيام ألمانيا الكبرى التي تضم كل الألمان - امتلاك الدولة للشركات الاحتكارية / - إلغاء معاهدة فرساي / - استعادة المستعمرات الألمانية . ( الاكتفاء بنقطتين )
السبب المباشر لقيام الحرب العالمية الأولى ص ١٠٠	السبب المباشر لقيام الحرب العالمية الثانية ص ١١٠
اغتيال طالب صربي ولي عهد النمسا الأرشدوق فرينانلد وزوجته في مدينة سراييفو عاصمة البوسنة عام ١٩١٤ م.	- اجتياح هتلر بولندا عام ١٩٣٩ م والهجوم على ممر دانزج ( دانريغ )

( ج ) فند العبارات التالية : ( أربع درجات لكل نقطة درجة )

١- اقتصررت إصلاحات الجمعية الوطنية على إصدار وثيقة الحقوق الفرنسية ودستور ١٧٩١ م . ص ٨٩ عبارة غير صحيحة و الدليل على ذلك بنود اللانحة : - إصلاح النظام الإداري حيث قسمت فرنسا إلى محافظات جغرافية وليس على أساس طبقي . / - ألغت النظام القضائي القديم وأصبح منصب القاضي انتخابياً . / - إصلاح النظام الضريبي والمالي حيث وزعت الضرائب على أساس التساوي بين جميع الأفراد وطبقاً لدخل كل فرد . / - وجهت إصلاحاتها نحو الكنيسة الفرنسية فصدر قرار لمصادرة أملاكها . ( يكتفى بنقطتين )

٢- امتياز الملك الإنجليزي بصلاحيات مطلقة وفق لائحة الحقوق الإنجليزية الصادرة عن البرلمان . ص ٧٤

عبارة غير صحيحة و الدليل على ذلك بنود اللانحة : ( يكتفى بنقطتين )

- لا يجوز للملك ابطال أو تعديل قانون صادر عن البرلمان .

- لا يحق للملك فرض ضرائب جديدة أو تشكيل الجيش أو إعلان الحرب دون موافقة البرلمان .

**السؤال الرابع مقال و يتكون من ( أ - ب - ج ) :**

**( أ ) أكتب النتائج المترتبة على كل من : ( ست درجات لكل نقطة درجة )**

١	حرب الستين السبع على سكان المستعمرات الإنجليزية ص ٧٨	- شعورهم بقوتهم الحقيقية وقدرتهم . / - برز كثير من أبنائهم في تلك الحروب من أمثال جورج واشنطن. / - اشتركهم في الحرب جعلهم يعتادون التعاون فيما بينهم ويشعرون بأنهم كيان واحد . / - الانتصارات أزالت التهديد الخارجي من الفرنسيين نحو المستعمرات الأمريكية. / - فتح الباب أمام الأمريكيين للتوسع نحو الغرب دون حدود أو قيود . ( يكتفى بنقطتين )
٢	معركة فالمي عام ١٧٩٢ م ص ٩٠	- انتصار الجيش الفرنسي / - انقذت أفكار الثورة الفرنسية من الضياع . - حالت دون وقوع باريس . / - رفعت الروح المعنوية للفرنسيين . - تحول جيش الثورة بعدها من الدفاع إلى الهجوم . / - أصبح جيش الثورة الفرنسية مصدر رعب للدول الأوروبية فيما بعد . ( يكتفى بنقطتين )
٣	مؤتمر صلح فرساي عام ١٩١٩ م ص ١٠٣	- تفكك إمبراطوريات عريقة مثل ( الألمانية / النمسا / الروسية / الدولة العثمانية ) وظهرت دول قومية جديدة في أوروبا مثل ( بولندا / تشيكوسلوفاكيا / يوغسلافيا / المجر ) . / - أن تتحمل ألمانيا مسؤولية الحرب حيث فرض عليها دفع تعويضات مالية كبيرة للحلفاء. / - تخفيض عدد الجيش الألماني و منع ألمانيا من تصنيع أو اقتناء الأسلحة العسكرية. / - اقتطاع أجزاء من ألمانيا و ضمها لدول أخرى . - وضع إقليم (الساار) تحت الإدارة الدولية . ( يكتفى بنقطتين )

**( ب ) علل ما يلي : ( أربع درجات لكل نقطة درجة )**

- ١- تعتبر الثورة الفرنسية واحدة من أهم الثورات الكبرى في العالم . ص ٨٣ ( يكتفى بنقطتين )  
- لأنها أعطت مفاهيم جديدة للعالم . / - وُضعت في حيز التنفيذ مبادئ عامة كانت قبلها مجرد نظريات .  
- شمل التغيير جميع مناحي الحياة الفرنسية . / - لم تقتصر على فرنسا بل شملت جميع أنحاء العالم فاستحقت أن تلقب بالنموذج الشامل للثورة .
- ٢- كانت القارة الأوروبية محور العلاقات الدولية في بداية القرن العشرين . ص ٩٧ ( يكتفى بنقطتين )  
- مركز الثورة الصناعية .  
- وفرة الموارد والإمكانات الاقتصادية .  
- نشوء الإمبراطوريات الكبرى .  
- النفوذ الاستعماري في جميع القارات .

**( ج ) عَرَف المفاهيم والمصطلحات التالية : ( ثلاث درجات لكل نقطة درجة )**

١- القوانين الجائرة	القوانين التي أصدرها البرلمان الإنجليزي لمعاقبة ميناء بوسطن عام ١٧٧٣م بعد حادثة حفلة الشاي ص ٧٩
٢- الثورة المضادة	ثورة قام بها أصحاب تيار الملكية الدستورية احتجاجاً على إعدام الملك . ص ٩١
٣- المارن	نهر في فرنسا كان مسرحاً لمعركتين حاسمتين في الحرب العالمية الأولى . ص ١٠١



وزارة التربية

التوجيه الفني العام للاجتماعيات

امتحان نهاية الفترة الدراسية الثانية  
مقرر / تاريخ العالم الحديث والمعاصر

للمصف الثاني عشر / القسم الأليبي

العلم الدراسي: ٢٠٢١ / ٢٠٢٢ م

الزمن: ساعتان وربع

عدد الصفحات: ( ٥ )

أجب عن جميع الاسئلة

السؤال الأول : موضوعي ويتكون من ( أ - ب - ج - د ) :

( أ ) ظلل الخيار الصحيح من بين الخيارات التي تلي كل عبارة :

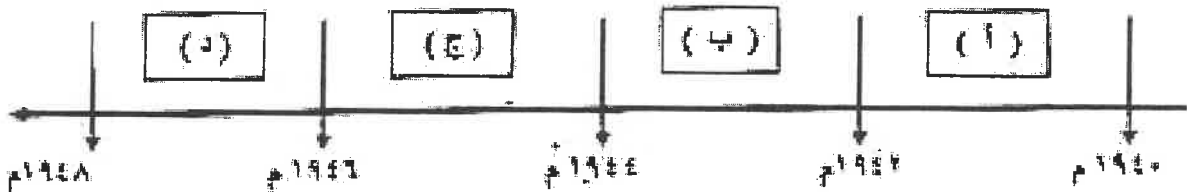
١- المدينة التي تضم مقر محكمة العدل الدولية :

واشنطن	لاهاي	بوتس	برلين
--------	-------	------	-------

٢- الاتفاق الذي عقد عام ١٩٥٤م بين كل من بريطانيا وفرنسا :

الاتفاق الودي	الاتفاق الطوعي	صلح باريس	الحلف الثلاثي
---------------	----------------	-----------	---------------

٣- الفترة الزمنية لبعث الميثاق على " ميداء بيرل هاربر " بمقاتها على الخط الزمني العرفي :



٤- النظام الذي أقامه صلاح الدين في المقاومة :

التبويعي	الفتري
----------	--------

الفتحي	الزائدي
--------	---------



تابع / السؤال الأول : موضوعي :

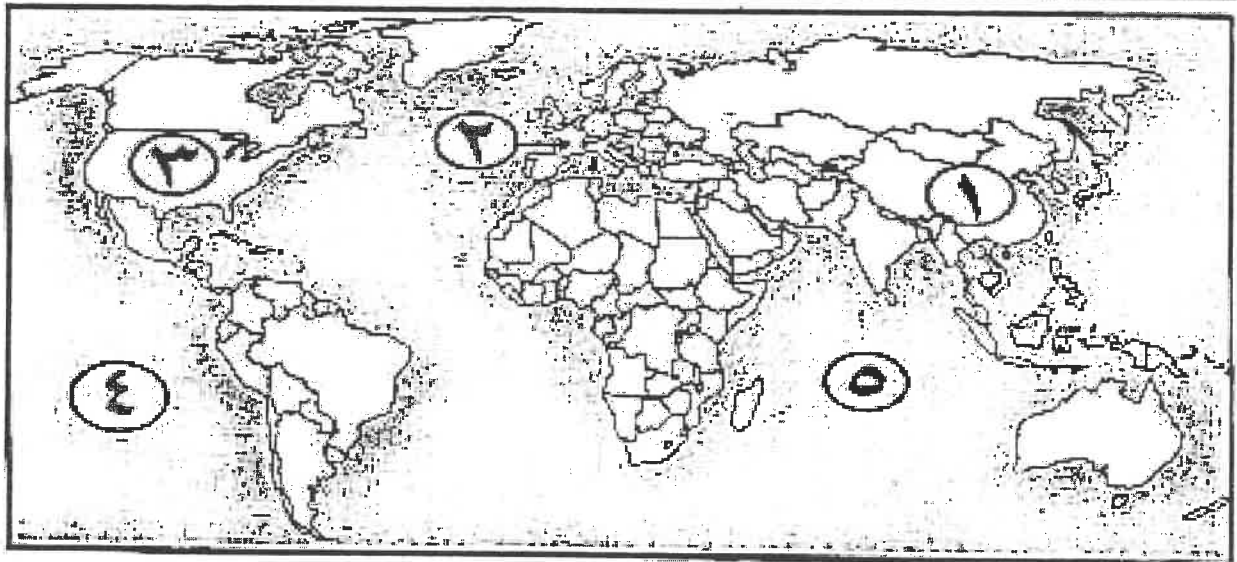
( ب ) صوب ما تحته خط في العبارات التالية :

م	العبارة	التصويب
١	قاتل القوات الأمريكية في معركة " بلاتونجا " <u>لافييت</u> .	
٢	معاهدة أعضت فرنسا مكاسب كبيرة وحفظت الفخر والفزة <u>فرسايون</u> .	
٣	مدينة أختين فيها ولي عهد النمسا الأرشيدوق <u>فريدريك</u> و زوجته <u>برونا</u> .	
٤	حصن إقطاعي قديم في فرنسا تحول إلى سجن لنفولة <u>باريسون</u> .	

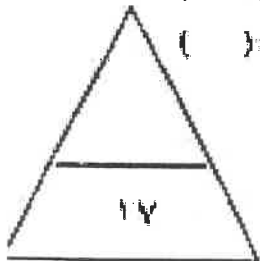
( ج ) أكمل العبارات التالية بما يناسبها فيما درست :

- ١- العام الذي حدثت فيه الأزمة الاقتصادية العلمية ..... م
- ٢- الوزير الفرنسي الذي دعا لفتح مجلس طينقات الأمة عام ١٧٨٩ م اسمه .....
- ٣- المستعمرة الإنجليزية التي تأسست في أمريكا الشمالية عام ١٦٠٧ م اسمها .....
- ٤- المعركة التي انتصر فيها الجيش الفرنسي على القوات المشتركة عام ١٧٩٢ م اسمها .....
- ٥- العمر المئتي الذي كان سبباً ميلانو في قيام الحرب العالمية الثانية بسببه .....

( د ) أمامك خريطة العلم الميلادية - اكتب الرقم الدال على العبارات التي تليها :



- ( ) دولة كبرى مستقلة ظهرت بعد الحرب العالمية الثانية بقيادة " ماوتسي تونج " يمثلها على الخريطة الرقم ( )
- ( ) سطح مائي كان مسرحاً لتصراع أمريكي الياباني في الحرب العالمية الثانية يمثلها على الخريطة الرقم ( )
- ( ) الدولة التي يقع فيها سبلح التروماندي يمثلها على الخريطة الرقم ( )
- ( ) معركة " لكنجستون " وقعت في دولة يمثلها على الخريطة الرقم ( )



عدد / السجون بالملا العربية القديمة لعام / تاريخ تولد الحث و فهداير - أصل الشافي على النبي - تاريخ 2011 / 2022

المسائل الشافي مقالي و يتكون من ( أ - ب - ج ) :

( أ ) عطل لما يلي :

١- انضمام إيطاليا للحلف الثلاثي عام ١٨٨٢ م .

٢- دخول الولايات المتحدة الأمريكية للحرب العالمية الأولى عام ١٩١٧م ضد ألمانيا .

٣- تطور الثورة الفرنسية واحدة من أهم الثورات الكبرى في العالم .

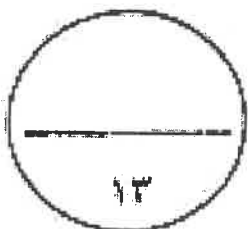
( ب ) أكتب النتائج المترتبة على كل من :

الحرب العالمية الثانية من الناحية الاقتصادية	الحرب العالمية الثانية من الناحية البشرية
.....	.....
معركة المارن الثانية	معركة فلان الأولى
.....	.....

( ج ) فند العبارات التالية :

١- اختصرت نتائج الحرب العالمية الأولى على الجانب الإنجليزي فقط .

٢- فشلت الجمعية الوطنية في دورها الإصلاحية في فرنسا .



تبع / استخرج القضا الدراسة التالية : تاريخ تطور الجنس والمجتمع - مصادر قاضي منكر الجنس - تطور الجنس في القرنين 19 و 20 .

السؤال الثالث عدلي ورتكون من ( أ - ب - ج ) :

( أ ) اقرأ الفقرة التالية ثم أجب عما يليها من أسئلة :

"الثورة الأوروبية جزء من العالم الذي انقسم سياسياً في أواخر القرن التاسع عشر وبداية القرن العشرين بسبب عدة عوامل وأهمها بروز النزعة القومية وتسلخ الأيديولوجيات وتضارب المصالح الاقتصادية ، ومنهتة التوسع للسيطرة على مناطق مختلفة من العالم وما سلبه من سبق للتصالح فالتجيت إلى الانقلابات الدولية لتفادي الآثار السلبية الناتجة من الانقسام ."

١ - عرف ما تحته خط .

الانقلابات الدولية :

١ - استخرج من الفقرة السابقة عوامل انقسام العالم سياسياً في أواخر القرن التاسع عشر وبداية القرن العشرين .

( ب ) قارن بين كل من :

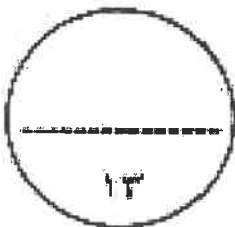
وجه المقارنة	الطبقة المعنزة في المجتمع الفرنسي	الطبقة فعنة في المجتمع الفرنسي
فئات	.....	.....
الخصائص	.....	.....

( ج ) نقذ المطلوب منك فيما بين القوسين :

١ - مؤثر فيلانثيا الأول 1774 م " الكونجرس الأول " . ( القبولات )

( للعوامل )

٢ - الثورة الشيوعية في روسيا بقيادة لينين .



فتح / امتحان اللغة الفرنسية الثانية لغير دارس العلم الحديث - الفصل الثاني - علم التاريخ - 2021 / 2022 م

المسائل الرابع مقالتي ويتكون من ( أ - ب - ج ) :

( أ ) عرف المفاهيم والمصطلحات التالية :

.....	١- جماعة أبناء الحرية
.....	٢- عصبة الأمم
.....	٣- الثورة
.....	٤- اتفاقيات سانت

( ب ) نل على صحة العبارات التالية :

١- نتج عن حرب المئتين للمسح ( ١٧٥٦ - ١٧٦٣ م ) أثراً إيجابية على سكان المستعمرات الإنجليزية في أمريكا .


.....  
.....

٢- الثورة التولية سهل قيام الحرب العظمى بالتحفة .

.....  
.....

٣- اتخذ البرلمان الإنجليزي قرارات صارمة لمعالجة ميثاق بوسطن عام ١٧٧٣ م .

.....  
.....



( ج ) لاحظ الصورة المقابلة ثم أجب عن الأسئلة التالية :

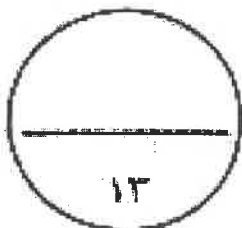
١- أكتب اسم الحدث الذأفة عليه الصورة .

.....

٢- ما النتائج المترتبة على هذا الحدث؟

- داخليا : .....

- خارجيا : .....



( انتهت الأسئلة مع تعنيقتا لكم بالتوفيق والنجاح )

نموذج الاجابة

العام الدراسي: ٢٠٢١/٢٠٢٢ م

امتحان نهاية الفترة الدراسية الثانية

الزمن: ساعتان وربع

مقرر / تاريخ العالم الحديث والمعاصر

عدد الصفحات: ( ٥ )

للسف الثاني عشر / القسم الأدبي

التوجيه الفني العام للاجتماعيات



وزارة التربية

أجب عن جميع الاسئلة

السؤال الأول : موضوعي ويتكون من ( أ - ب - ج - د ) : ( لكل نقطة درجة = ١٧ درجة )

( أ ) ظلل الخيار الصحيح من بين الخيارات التي تلي كل عبارة :

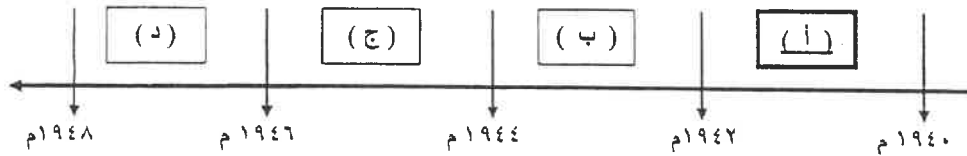
١- المدينة التي تضم مقر محكمة العدل الدولية : ص ١٠٤

واشنطن	لاهاي	باريس	برلين
--------	-------	-------	-------

٢- الاتفاق الذي عُقد عام ١٩٠٤م بين كل من بريطانيا وفرنسا : ص ٩٨

الاتفاق الودي	الوفيق الودي	صلح باريس	الحلف الثلاثي
---------------	--------------	-----------	---------------

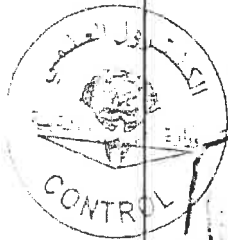
٣- الفترة الزمنية لهجوم اليابان على " ميناء بيرل هاربر " يمثلها على الخط الزمني الحرف : ص ١١١



٤- النظام الذي أقامه صاحب الصورة المقابلة : ص ١٠٨

الشيوعي	النازي
---------	--------

الفاشي	الراسمالي
--------	-----------



وزارة التربية

التوجيه الفني العام للاجتماعيات

تابع / نموذج اجابة امتحان الفترة الدراسية الثانية لعام تاريخ العالم الحديث و المعاصر - الصف الثاني عشر الأسي - العام الدراسي ٢٠٢١ / ٢٠٢٢ م

تابع / السؤال الأول : موضوعي :

( ب ) صوب ما تحته خط في العبارات التالية :

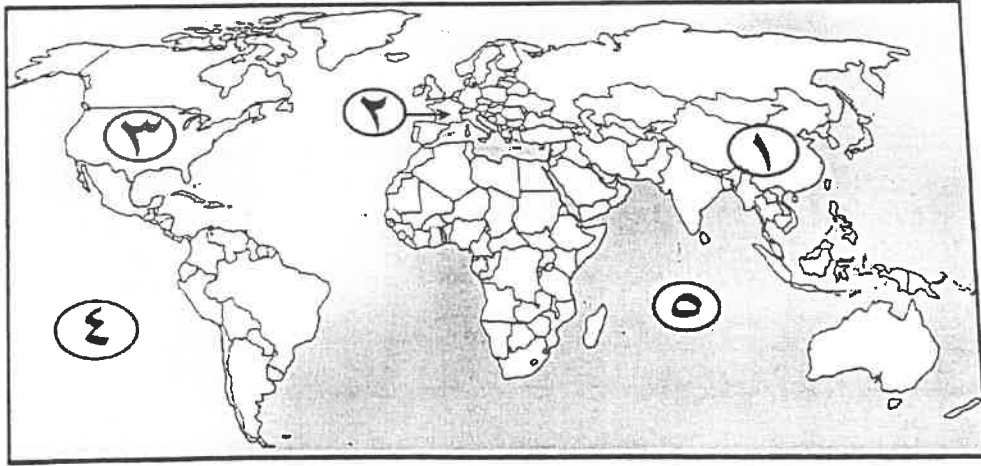
م	العبرة	التصويب
١	قائد القوات الأمريكية في معركة " ساراتوجا " <u>لافيت</u> .	واشنطن ص ٨٢
٢	معاهدة أعطت فرنسا مكاسب كبيرة وحقت الفخر والعزة <u>فرساي</u> .	كامبوفرومير ص ٩٢
٣	مدينة أُغتيل فيها ولي عهد النمسا الأرشيدوق فرديناند وزوجته <u>روما</u> .	سرايفو ص ١٠٠
٤	حصن إقطاعي قديم في فرنسا تحول إلى سجن للدولة <u>باريس</u> .	الباستيل ص ٨٨

( ج ) أكمل العبارات التالية بما يناسبها فيما درست :



- ١- العام الذي حدثت فيه الأزمة الاقتصادية العالمية ١٩٢٩م ص ١٠٥
- ٢- الوزير الفرنسي الذي دعا لعقد مجلس طبقات الأمة عام ١٧٨٩م اسمه نيكر ص ٨٧
- ٣- المستعمرة الإنجليزية التي تأسست في أمريكا الشمالية عام ١٦٠٧م اسمها جيمس تون ص ٧٦
- ٤- المعركة التي انتصر فيها الجيش الفرنسي على القوات المشتركة عام ١٧٩٢م اسمها فالمي ص ٩٠
- ٥- الممر المائي الذي كان سبباً مباشراً في قيام الحرب العالمية الثانية اسمه دانريخ / دانزج ص ١١٠

( د ) أمامك خريطة العالم السياسية - أكتب الرقم الدال على العبارات التي تليها :



- ١ - دولة كبرى مستقلة ظهرت بعد الحرب العالمية الثانية بقيادة " ماوتسي تونج " يمثلها على الخريطة الرقم ( ١ ) ص ١١٥
- ٢ - مسطح مائي كان مسرحاً للصراع الأمريكي الياباني في الحرب العالمية الثانية يمثلها على الخريطة الرقم ( ٤ ) ص ١١٢
- ٣ - الدولة التي يقع فيها ساحل النورماندي يمثلها على الخريطة الرقم ( ٢ ) ص ١١٢
- ٤ - معركة " لکنجستون " وقعت في دولة يمثلها على الخريطة الرقم ( ٣ ) ص ٨٠

وزارة التربية



التوجيه الفني العام للإجتماعيات

تابع / نموذج اعادة امتحان الفترة الدراسية الثانية لمقرر تاريخ العالم الحديث - المعاصر - الصف الثاني عشر الإلزامي - العام الدراسي ٢٠٢١ / ٢٠٢٢ م

السؤال الثاني مقالتي و يتكون من ( أ - ب - ج ) :

( أ ) علل لما يلي: (أربع درجات لكل نقطة درجة )

- ١- انضمام إيطاليا للحلف الثلاثي عام ١٨٨٢ م . ص ٩٨  
- رداً على احتلال فرنسا لتونس .
  - ٢- دخول الولايات المتحدة الأمريكية للحرب العالمية الأولى عام ١٩١٧ م ضد ألمانيا . ص ١٠٠  
- بسبب مهاجمة الغواصات الألمانية السفن التجارية الأمريكية .
  - ٣- تعتبر الثورة الفرنسية واحدة من أهم الثورات الكبرى في العالم . ( يكتفى بنقطتين ) ص ٨٣  
- لأنها أعطت مفاهيم جديدة للعالم .  
- وضعت في حيز التنفيذ مبادئ عامة كانت قبلها مجرد نظريات .  
- شمل التغيير جميع مناحي الحياة الفرنسية / - لم يكن قاصراً على فرنسا أو أوروبا فقط بل تعداه ليصل إلى جميع أنحاء العالم .
- ( ب ) أكتب النتائج المترتبة على كل من : (أربع درجات لكل نقطة درجة )

الحرب العالمية الثانية من الناحية الاقتصادية ( يكتفى بنقطة واحدة ) . ص ١١٤	الحرب العالمية الثانية من الناحية البشرية ( يكتفى بنقطة واحدة )
كانت نفقات الحرب باهظة أدت إلى تحمل كثير من الدول ديوناً كبيرة . / - الدمار الذي حل بالمساكن والمصانع والطرق والمؤسسات . / - تحولت دول أوروبا إلى دول مستوردة بعد أن كانت دولاً مصدرة .	سقط حوالي ٥٠ مليون قتيل / - شرد الملايين في أوروبا واليابان / - عمّ الخراب والدمار معظم أنحاء العالم . / - برزت مشكلة المشوهين والمعاقين / - انتشار ممارسة العنف .
معركة المارن الثانية ص ١٠١	معركة المارن الأولى
شن الحلفاء هجوماً معاكساً أدى إلى إنزال الهزيمة بالألمان	أوقف الحلفاء فيها زحف الألمان على باريس

(ج) فند العبارات التالية : (خمس درجات لكل نقطة درجة )



- ١- اقتضت نتائج الحرب العالمية الأولى على الجانب الإيجابي فقط .  
- تسببت في دماراً هائلاً وخسائر مادية وبشرية فسقط ملايين القتلى والجرحى .  
- الركود الاقتصادي في العالم .  
- تغيير جذري في خريطة أوروبا السياسية .
- ٢- فشلت الجمعية الوطنية في دورها الإصلاحي في فرنسا .  
- اصدار وثيقة الحقوق الفرنسية ودستور ١٧٩١ م .  
- إصلاح النظام الإداري حيث قسمت فرنسا إلى محافظات جغرافية وليس على أساس طبقي .  
- إصلاح النظام الضريبي والمالي حيث قسمت الضرائب على أساس التساوي بين جميع الأفراد وطبقاً لدخل كل فرد .  
- ألغت النظام القضائي القديم وأصبح منصب القاضي انتخابياً .  
- إصلاحاتها نحو الكنيسة الفرنسية فصدر قرار بمصادرة أملاكها .

وزارة التربية

التوجيه الفني العام للإجتماعيات

السؤال الثالث مقالتي و يتكون من ( أ - ب - ج ) :

( أ ) اقرأ الفقرة التالية ثم أجب عما يليها من أسئلة : ( أربع درجات لكل نقطة درجة )

"القارة الأوروبية جزء من العالم الذي انقسم سياسياً في أواخر القرن التاسع عشر وبداية القرن العشرين بسبب عدة عوامل ، أهمها بروز النزعة القومية وتصادم الأيديولوجيات وتضارب المصالح الاقتصادية ، وسياسة التوسع للسيطرة على مناطق مختلفة من العالم وما صاحبه من سباق للتسلح فاتجهت إلى الاتفاقات الدولية لتفادي الأثر السلبية الناتجة من الإنقسام ."

- ١- عرف ما تحته خط .  
الاتفاقات الدولية : تشريعات يتفق عليها دولياً وهي مقننة تلتزم الدول المشتركة بها . ص ٩٧
- ٢- استخرج من الفقرة السابقة عوامل انقسام العالم سياسياً في أواخر القرن التاسع عشر وبداية القرن العشرين .  
- بروز النزعة القومية وتصادم الأيديولوجيات .  
- تضارب المصالح الاقتصادية . / - سياسة التوسع للسيطرة على مناطق مختلفة من العالم . / - سباق للتسلح .

( ب ) قارن بين كل من : ( أربع درجات لكل نقطة درجة )

وجه المقارنة	الطبقة الممتازة في المجتمع الفرنسي	الطبقة العامة في المجتمع الفرنسي ص ٨٥
الفئات	الطبقة الأرستقراطية الغنية ورجال الدين	تشمل عامة الشعب من الزراع والصناع وأصحاب الحرف وصغار التجار
الخصائص	تمتعوا بجميع المزايا الاجتماعية من ارتفاع مكانتهم في المجتمع / تولي المناصب العليا في الدولة والجيش / ليس عليهم أي حقوق تجاه الدولة / التصاقها الشديد بالملك / تمثل أقلية لا تزيد على ١٪ من مجموع الشعب الفرنسي .	تمثل نحو ٩٩٪ من مجموع الشعب الفرنسي حيث عانت هذه الطبقة من جميع صنوف الظلم والاستعباد / - فرضت عليهم جميع أنواع الضرائب / - استبعدت من جميع الوظائف العليا في الدولة وعاشت في بؤس وشقاء شديدين جعلها تتحيز الفرصة للتخلص من هذا النظام الذي أثقل كاهلها

( ج ) نفذ المطلوب منك فيما بين القوسين : ( خمس درجات لكل نقطة درجة )

- ١- مؤتمر فيلادلفيا الأول ١٧٧٤ م " الكونجرس الأول " . ( القرارات ) ص ٨٠  
- عدم الرضوخ للقوانين الجائرة التي أصدرتها إنجلترا ضد ميناء بوسطن .  
- وجهوا طلباً من الشعب الأمريكي للملك الإنجليزي بإلغاء تلك القوانين الجائرة .  
- إعادة استخدام سلاح المقاطعة للضمان الإنجليزي وتشكيل لجان في كل المدن لتنظيم عملية المقاطعة والإشراف عليها .

- ٢- الثورة الشيوعية في روسيا بقيادة لينين .  
- فساد الحكم القيصري في روسيا واستبداده . / - الهزائم الكبرى التي حلت بالجيش الروسي منذ عام ١٩٠٥ م على يد اليابان ثم الحرب العالمية الأولى وسقوط ملايين من الجرحى والقتلى . / - سوء الحالة الاقتصادية التي تأثر بها العمال والفلاحون وانتشار البطالة والمجاعات والأمراض . / - شخصية لينين وقدرته على اقناع الجماهير من خلال رفع شعاره المشهور " السلام للجيش / الأرض للفلاحين / الغذاء للجميع / الحكم للسوفيت " وتنظيم الحزب الشيوعي .

وزارة التربية

التوجيه الفني العام للإجتماعيات

تابع / نموذج إجابة امتحان الفترة الدراسية الثانية لمقرر تاريخ العالم الحديث و المعاصر - الصف الثاني عشر الأبي - العام الدراسي ٢٠٢١ / ٢٠٢٢ م

السؤال الرابع مقال و يتكون من ( أ - ب - ج ) :

( أ ) عَرِّف المفاهيم والمصطلحات التالية : ( أربع درجات لكل نقطة درجة )

١- جماعة أبناء الحرية	جماعة أخذت على عاتقها تنظيم معارضة ومقاومة الضرائب الإنجليزية الجديدة. ص ٧٨
٢- عصبة الأمم	منظمة دولية أنشأت عام ١٩١٩م لتنظيم العلاقات الدولية وإحلال السلام. ص ١٠٤
٣- النازية	كلمة ألمانية مختصرة تعني الاشتراكية الوطنية وهي التسمية التي أطلقها أدولف هتلر على الحزب النازي ص ١٠٧
٤- اتفاقيات سالت	اتفاقيات لوقف التسليح واستخدام الأسلحة الفتاكة. ص ١١٥

( ب ) دلل على صحة العبارات التالية : ( ست درجات لكل نقطة درجة )

١- نتج عن حرب السنين السبع ( ١٧٥٦ - ١٧٦٣ م ) آثاراً إيجابية على سكان المستعمرات الإنجليزية في أمريكا.

- شعورهم بقوتهم الحقيقية وقدرتهم / بروز شخصيات أمثال جورج واشنطن. ( يكتفى بنقطتين ) ص ٧٨

- اشتراكهم في الحرب جعلهم يعتادون التعاون فيما بينهم ويشعرون بأنهم كيان واحد.

- الانتصارات أزالته التهديد الخارجي من الفرنسيين نحو المستعمرات الأمريكية.

- فتح الباب أمام الأمريكيين للتوسع نحو الغرب دون حدود أو قيود.

٢- التوتر الدولي سهل قيام الحرب العالمية الثانية. ( يكتفى بنقطتين ) ص ١٠٩

- احتلال موسوليني أثيوبيا عام ١٩٣٦ م. / - احتلال هتلر منطقة الراين عام ١٩٣٦ م. / - مساندة هتلر

وموسوليني نظام فرانكو في أسبانيا عام ١٩٣٨ - ١٩٣٩ م. / - ضمت ألمانيا كل من النمسا وطالبت بضم منطقة


السويد في تشيكوسلوفاكيا. / - اعترضت بريطانيا وفرنسا على هذه الخطوة. / - عقد مؤتمر ميونخ عام ١٩٣٨ م.

٣- اتخذ البرلمان الإنجليزي قرارات صارمة لمعاقبة ميناء بوسطن عام ١٧٧٣ م. ( يكتفى بنقطتين ) ص ٧٩

- إغلاق ميناء بوسطن حتى يتم دفع ثمن الشاي. / - تعيين الجنرال جيد حاكماً عسكرياً على بوسطن.

- منع الاجتماعات إلا بإذن من السلطات العسكرية الإنجليزية.

( ج ) لاحظ الصورة المقابلة ثم أجب عن الأسئلة التالية : ( ثلاث درجات لكل نقطة درجة ) ص ٩١



١- أكتب اسم الحدث الدالة عليه الصورة. - اعدام الملك لويس السادس عشر

٢- ما النتائج المترتبة على هذا الحدث؟

- داخليا: اندلاع الثورة المضادة من أصحاب تيار الملكية الدستورية.

- خارجياً: تشكل التحالف الدولي الأول ضد الثورة الفرنسية بانضمام كل من

إنجلترا وأسبانيا والبابوية والدويلات الإيطالية وبروسيا ضد فرنسا في فبراير سنة ١٧٩٣م.

وزارة التربية

التوجيه الفني العام للإجتماعيات



وزارة التربية

التوجيه الفني العام للاجتماعيات

امتحان نهاية الفترة الدراسية الثانية

مقرر / تاريخ العالم الحديث والمعاصر

للمصف الثاني عشر / القسم الأدبي

العام الدراسي: ٢٠٢٠ / ٢٠٢١ م

الزمن: ساعتان وربع

عدد الصفحات: ( ٥ )

\*\*\*\*\*

اجب على جميع الاسئلة

السؤال الأول : موضوعي يتكون من ( أ - ب ) :

( أ ) ظل الخيار الصحيح من بين الخيارات التي تلي كل عبارة :

١- أول مستعمرة انجليزية في أمريكا الشمالية تأسست عام ١٦٠٧ م :

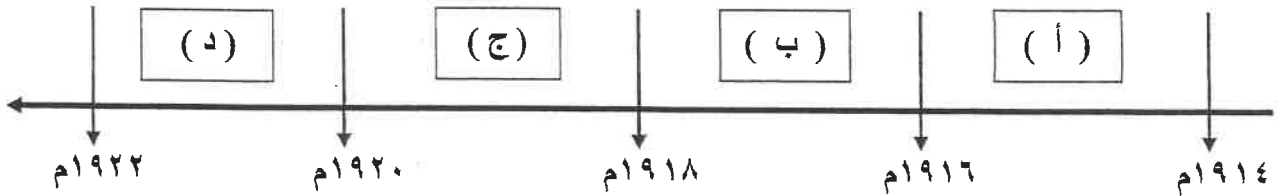
فيلادلفيا	جيمس تون	بوسطن	كونكوردي
-----------	----------	-------	----------

٢- صاحب مقولة "إننا هنا بإرادة الشعب ولن نبرح أماكننا إلا على أسنة الرماح" :

دمورييه	دانتون	جيدج	ميرابو
---------	--------	------	--------

--	--	--	--

٤- الفترة الزمنية التي دخلت بها الولايات المتحدة الأمريكية الحرب العالمية الأولى يمثلها على المخطط الزمني الحرف :



٥- الحركة التي قادها صاحب الصورة المقابلة :

الفاشية	النازية
الشيوعية	الرأسمالية

تابع / امتحان مقرر تاريخ العالم الحديث والمعاصر - نهاية الفترة الدراسية الثانية للصف الثاني عشر الأدبي - العام الدراسي ٢٠٢٠ / ٢٠٢١ م

### تابع السؤال الأول :

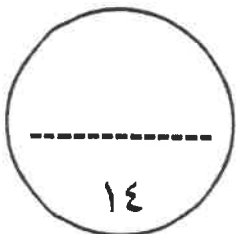
٦- المدينة التي أُغتيل فيها ولي عهد النمسا الأرشيدوق "فريديناند" وزوجته :

سراييفو	روما	لندن	جنيف
---------	------	------	------




( ب ) صوب ما تحته خط في العبارات التالية :

م	العبارة	التصويب
١	ألمانيا	
٢	معاهدة أبرمت عام ١٧٨٣م اعترفت فيها بريطانيا باستقلال الولايات المتحدة الأمريكية تسمى <u>صلح فرساي</u> .	
٣	الملك الفرنسي الذي نفذ فيه حكم الإعدام بتاريخ ٢١ يناير ١٧٩٣م اسمه <u>لويس الرابع عشر</u> .	
٤	نهر في فرنسا كان مسرحاً لمعركتين حاسمتين في الحرب العالمية الأولى اسمه <u>الراين</u> .	
٥	الأزمة الاقتصادية العالمية حدثت عام ١٩١٩م .	
٦	أحدى ملامح عالمنا المعاصر بروز "الولايات المتحدة" كزعامة للكتلة الغربية <u>الشيوعية</u> .	
٧	كتاب ألفه المفكر منتيسكيو ( <u>العقد الاجتماعي</u> ).	

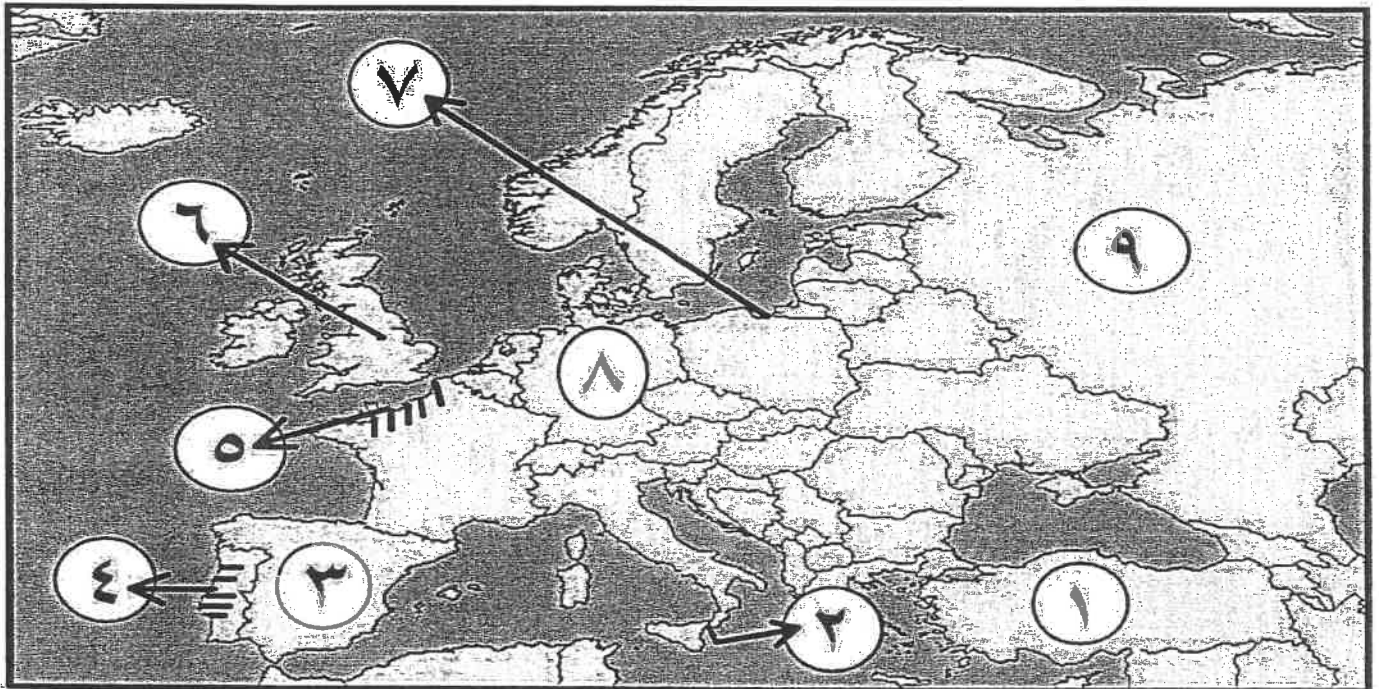


**السؤال الثاني : موضوعي يتكون من ( أ - ب ) :-**

**( أ ) اكمل العبارات التالية بما يناسبها فيما درست :**

- ١- وزير الخزانة الفرنسي الذي دعا إلى انعقاد مجلس طبقات الأمة لبحث الأزمة المالية اسمه .....
- ٢- زوجة الملك لويس السادس عشر ساهمت بإضعاف شخصيته اسمها .....
- ٣- الرئيس الأمريكي الذي طالب بإنشاء منظمة عصبة الأمم عام ١٩١٩ م اسمه .....
- ٤- دولة أُلقيت عليها قنبلتين نريتين عام ١٩٤٥ م في الحرب العالمية الثانية اسمها .....
- ٥- المعاهدة التي حققت للفرنسيين مكاسب كبيرة بعد هزيمة الجيش النمساوي في إيطاليا عام ١٧٩٧ م اسمها .....
- ٦- قانون أثار الأمريكيين لفرضه رسوم مالية جديدة على المستندات التجارية وعقود البيع والرهن اسمه .....
- ٧- المدينة التي وقعت على أرضها معركة العلمين عام ١٩٤٢ م اسمها .....

**( ب ) أمامك خريطة أوروبا الصماء - اكتب الرقم الدال على العبارات التي تليها :**



- دولة ظهر فيها حزب السوفييت بقيادة لينين عام ١٩١٧ م يمثلها على الخريطة الرقم ( ..... )
- ساحل النورماندي الذي نزلت فيه قوات الحلفاء لتحرير فرنسا يمثله على الخريطة الرقم (.....)
- دولة تزعمها الديكتاتور " فرانكو " يمثلها على الخريطة الرقم ( ..... )
- ممر دانريغ الذي كان السبب المباشر لقيام الحرب العالمية الثانية يمثله على الخريطة الرقم (.....)
- الدولة العثمانية يمثلها على الخريطة الرقم ( ..... )
- ألمانيا يمثلها على الخريطة الرقم ( ..... )

السؤال الثالث (مقالى) يتكون من ( أ - ب - ج ) :

( أ ) علل لما يلى :

١- كانت القارة الأوروبية محور العلاقات الدولية في بداية القرن العشرين .

.....  
.....

٢- قيام الثورة الشيوعية في روسيا .

.....  
.....  
.....

( ب ) فرق بين كل من :

الإصلاح الإداري	إصلاح التعليم
..... .....	..... .....
سبب انشاء الحلف الثلاثي	سبب انشاء حلف الوفاق الودي
..... .....	..... .....

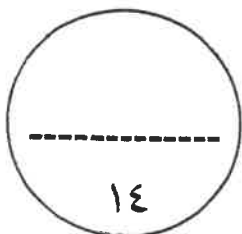
( ج ) اكتب فيما يلى :

١- قرارات مؤتمر فيلادلفيا سنة ١٧٧٤م ( الكونجرس الأول ) .

.....  
.....

٢- النتائج السياسية للحرب العالمية الثانية .

.....  
.....  
.....



السؤال الرابع (مقالى) يتكون من ( أ - ب - ج ) :

( أ ) اقرأ الفقرة التالية ثم أجب عما يليها من أسئلة :

" في ١٤ يوليو سنة ١٧٨٩م هاجم الجمهور الغاضب حصن الباستيل وقتل جميع حراسه وأفرج عن السجناء وداروا بالشوارع في نشوة انتصار عاطفية كبيرة وهي في الحقيقة تعبر عن كبت طويل جداً عاشه الشعب الفرنسي تحت الحكم الملكي المستبد فعمت الفوضى في كل مكان وتوقف الفلاحون عن دفع الضرائب ثم انقضوا على قصور النبلاء وقتلوا من فيها ففر النبلاء إلى خارج فرنسا هرباً بحياتهم . "

١- عرف ما تحته خط:

- حصن الباستيل :

٢- استخرج من الفقرة السابقة النتائج المترتبة على سقوط حصن الباستيل ..

- ..  
- ..  
- ..

( ب ) قارن بين كل من :

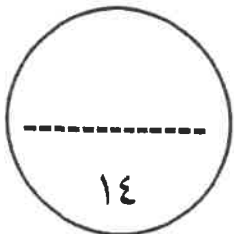
وجه المقارنة	ساراتوجا عام ١٧٧٧م	فالمي عام ١٧٩٢م
النتائج	- ..	- ..
	- ..	- ..
	- ..	- ..
	- ..	- ..

( ج ) عدد ما يلي :

- ..  
- ..  
- ..

٢- نتائج مؤتمر صلح فرساي عام ١٩١٩م.

- ..  
- ..  
- ..



( انتهت الأسئلة مع تمنياتنا لكم بالتوفيق والنجاح ) ( ٥ )



التوجيه الفني العام للإجتماعيات



وزارة التربية

التوجيه الفني العام للإجتماعيات

نموذج اجابة

العام الدراسي: ٢٠٢٠ / ٢٠٢١ م

امتحان نهاية الفترة الدراسية الثانية

الزمن: ساعتان وربع

مقرر / تاريخ العالم الحديث والمعاصر

عدد الصفحات: ( ٥ )

للسف الثاني عشر / القسم الأدبي

اجب على جميع الاسئلة

السؤال الأول : موضوعي يتكون من ( أ - ب ) : ( لكل سؤال درجة = ١٤ درجة )

( أ ) ظلل الخيار الصحيح من بين الخيارات التي تلي كل عبارة :

١- أول مستعمرة انجليزية في أمريكا الشمالية تأسست عام ١٦٠٧م : ص ٧٦

فيلادلفيا	جيمس تون	بوسطن	كونكوردي
-----------	----------	-------	----------

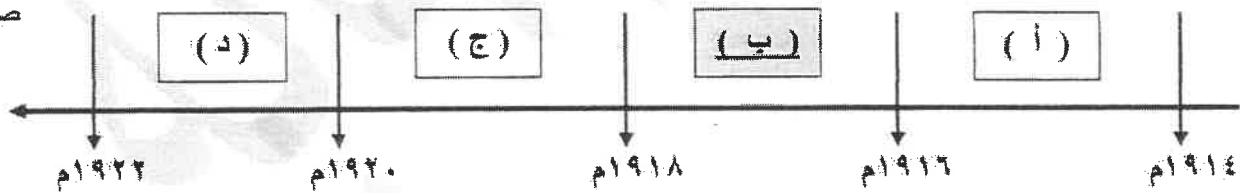
٢- صاحب مقولة "إننا هنا بإرادة الشعب ولن نبرح أماكننا إلا على أسنة الرماح" : ص ٨٧

لموريه	دانتون	جيدج	ميرابو
--------	--------	------	--------

--	--	--	--

٤- الفترة الزمنية التي دخلت بها الولايات المتحدة الأمريكية الحرب العالمية الأولى يمثلها على المخطط الزمني الحرف :

ص ١٠٢



٥- الحركة التي قادها صاحب الصورة المقابلة : ص ١٠٧



الفاشية	النازية
الشيوعية	الراسمالية

تابع السؤال الأول :

٦- المدينة التي اغتيل فيها ولي عهد النمسا الأرشيدوق "فريديناند" وزوجته : ص ١٠٠

جنيف	لندن	روما	سراييفو
------	------	------	---------




( ب ) صوب ما تحته خط في العبارات التالية :

م	العبرة	التصويب
١	تركزت الحياة النيابية "الإنجليزية" في مجلسين هما اللوردات و طبقات الأمة.	العموم ص ٧٥
٢	معاهدة أبرمت عام ١٧٨٣م اعترفت فيها بريطانيا باستقلال الولايات المتحدة الأمريكية تسمى صلح فرساي.	صلح باريس ص ٨٢
٣	الملك الفرنسي الذي نفذ فيه حكم الإعدام بتاريخ ٢١ يناير ١٧٩٣م اسمه لويس الرابع عشر.	لويس السادس عشر ص ٩١
٤	نهر في فرنسا كان مسرحاً لمعركتين حاسمتين في الحرب العالمية الأولى اسمه الراين.	المارن ص ١٠١
٥	الأزمة الاقتصادية العالمية حدثت عام ١٩١٩م .	١٩٢٩م ص ١٠٥
٦	أحدى ملامح عالمنا المعاصر بروز "الولايات المتحدة" كزعيمة للكافة الغربية الشيوعية.	الراسمالية ص ١١٥
٧	كتاب ألفه المفكر منتيسكيو (العقد الاجتماعي).	روح القوانين ص ٨٥



وزارة التربية

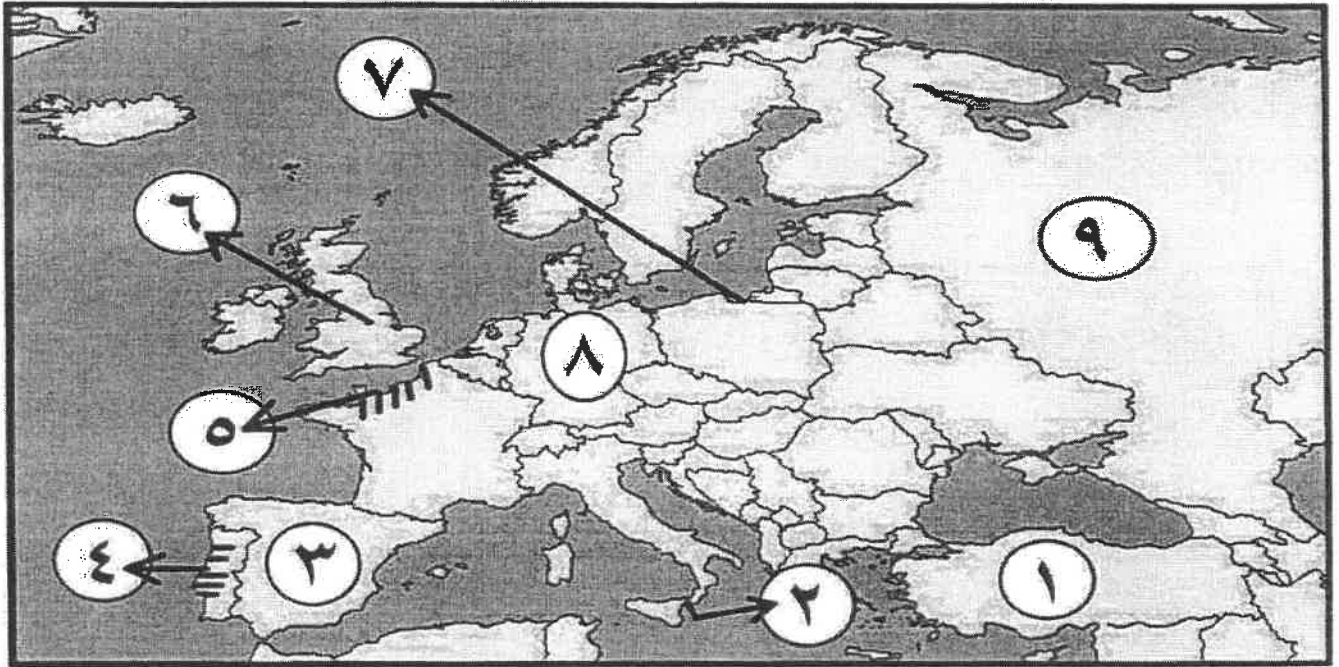
التوجيه الفني العام للإجتماعيات

السؤال الثاني : موضوعي يتكون من ( أ - ب ) :- ( لكل سؤال درجة = ١٤ درجة )

( أ ) اكمل العبارات التالية بما يناسبها فيما درست :

- ١- وزير الخزانة الفرنسي الذي دعا إلى انعقاد مجلس طبقات الأمة لبحث الأزمة المالية اسمه نيكر ص ٨٧
- ٢- زوجة الملك لويس السادس عشر ساهمت بإضعاف شخصيته اسمها ماري أنطوانيت ص ٨٤
- ٣- الرئيس الأمريكي الذي طالب بإنشاء منظمة عصبة الأمم عام ١٩١٩م اسمه ويلسن ص ١٠٤
- ٤- دولة أقيمت عليها قنبلتين ذريتين عام ١٩٤٥م في الحرب العالمية الثانية اسمها اليابان ص ١١٣
- ٥- المعاهدة التي حققت للفرنسيين مكاسب كبيرة بعد هزيمة الجيش النمساوي في إيطاليا عام ١٧٩٧م اسمها كامبو فروميوس ص ٩٢
- ٦- قانون أثار الأمريكيين لغرضه رسوم مالية جديدة على المستندات التجارية وعقود البيع والرهن اسمه التمتع ص ٧٨
- ٧- المدينة التي وقعت على أرضها معركة العلمين عام ١٩٤٢م اسمها الإسكندرية ص ١١١

( ب ) أمامك خريطة أوروبا الصماء - اكتب الرقم الدال على العبارات التي تليها :



- دولة ظهر فيها حزب السوفيت بقيادة لينين عام ١٩١٧م يمثلها على الخريطة الرقم ( ٩ ) ص ١٠٦
- ساحل النورماندي الذي نزلت فيه الحلفاء قواتهم لتحرير فرنسا يمثلها على الخريطة الرقم ( ٥ ) ص ١١٢
- دولة تزعمها الديكتاتور " فرانكو" يمثلها على الخريطة الرقم ( ٣ ) ص ١٠٨
- ممر دانريغ الذي كان السبب المباشر لقيام الحرب العالمية الثانية يمثلها على الخريطة الرقم ( ٧ ) ص ١١٠
- الدولة العثمانية يمثلها على الخريطة الرقم ( ١ ) ص ١٠١
- ألمانيا يمثلها على الخريطة الرقم ( ٨ ) ص ٨٣



**السؤال الثالث (مقالى) يتكون من ( أ - ب - ج ) :**  
**( أ ) علل لما يلي : ( خمس درجات لكل نقطة درجة واحدة ) .**

١- كانت القارة الأوروبية محور العلاقات الدولية في بداية القرن العشرين . ص ٩٧ ( يكتفى بنقطتين )  
 - مركز الثورة الصناعية . / - وفرة الموارد والإمكانات الاقتصادية .  
 - النفوذ الاستعماري في جميع القارات . / - نشوء الإمبراطوريات الكبرى .

٢- قيام الثورة الشيوعية في روسيا . ص ١٠٦ ( يكتفى بثلاث نقاط )

- فساد الحكم القيصري في روسيا واستبداده . / - الهزائم الكبرى التي حلت بالجيش الروسي منذ ١٩٠٥ م على يد اليابان ثم الحرب العالمية الأولى وسقوط ملايين من الجرحى والقتلى . / - سوء الحالة الاقتصادية التي تأثر بها العمال والفلاحون وانتشار البطالة والمجاعة والأمراض . / - شخصية لينين وقدرته على اقناع الجماهير من خلال رفع شعاره المشهور ( السلام للجيش - الأرض للفلاحين - الغذاء للجميع - الحكم للسوفييت ) وتنظيم الحزب الشيوعي .

**( ب ) فرق بين كل من : ( أربع درجات لكل نقطة درجة واحدة ) .**

الإصلاح الإداري ص ٩٣	إصلاح التعليم ص ٩٣
اهتم نابليون بالإدارة وأصدر قانوناً سنة ١٨٠٠م الذي تنبى التقسيم الإداري القديم الذي أصدرته الجمعية الوطنية إلا أنه جعل الحكام يعينون من قبل القنصل الأول " نابليون " .	وضع نابليون مشروعاً لتنظيم التعليم في كل أنحاء فرنسا والعمل على مجانية التعليم للفقراء وخاصة التعليم الثانوي وبذلك أتاح للطبقات الفقيرة إمكانية التعليم .
سبب انشاء الحلف الثلاثي ص ٩٨	سبب انشاء حلف الوفاق الودي ص ٩٨
تجديد التحالف بين ألمانيا والنمسا للوقوف ضد روسيا وقد انضمت إليهما إيطاليا رداً على احتلال فرنسا لتونس .	سعى فرنسا للتقرب بين بريطانيا وروسيا لتسوية مناطق النفوذ في آسيا ( إيران ، أفغانستان ، التبت ) .

**( ج ) أكتب فيما يلي : ( خمس درجات لكل نقطة درجة واحدة ) .**

١- قرارات مؤتمر فيلادلفيا سنة ١٧٧٤م ( الكونجرس الأول ) . ص ٨٠ ( يكتفى بنقطتين )  
 - عدم الرضوخ للقوانين الجائرة التي أصدرتها إنجلترا ضد ميناء بوسطن . / - وجوب طلبا من الشعب الأمريكي للملك الإنجليزي بإلغاء تلك القوانين الجائرة . / - إعادة سلاح المقاطعة التجارية للبضائع الإنجليزية وتشكيل لجان في كل المدن لتنظيم عملية المقاطعة والإشراف عليها .

٢- النتائج السياسية للحرب العالمية الثانية . ص ١١٤ ( يكتفى بثلاث نقاط )

- تغيرت خريطة أوروبا السياسية وجرى تعديل على كثير من الحدود . / - تراجعت مكانة دول أوروبا (بريطانيا وفرنسا) إلى الدرجة الثانية وتقليص نفوذها الاستعماري . / - انتهت الدكتاتوريات في إيطاليا وألمانيا واليابان . / - قامت أنظمة شيوعية في دول أوروبا الشرقية وظلت قائمة بمساعدة الاتحاد السوفيتي وسقطت مع سقوطه . / - انقسام ألمانيا بعد احتلالها إلى قسمين غربي يتبع النظام الرأسمالي وشرقي يتبع النظام الشيوعي وقسمت برلين إلى قسمين يفصلهما جدار عازل . / - لم تصب إيطاليا بخسائر مباشرة في أراضيها وإنما فقدت كل مستعمراتها . / - فقدت اليابان كل ممتلكاتها التي حصلت عليها منذ نهاية القرن التاسع ودمرت أراضيها . / - برز قطبان جديان في العالم هي الولايات المتحدة والاتحاد السوفيتي (السابق) باعتبارهما أقوى دولتين في العالم.



وزارة التربية

**السؤال الرابع (مقالى) يتكون من ( أ - ب - ج ) :**

**( أ ) اقرأ الفقرة التالية ثم أجب عما يليها من أسئلة : ( أربع درجات لكل نقطة درجة واحدة ) .**

" في ١٤ يوليو سنة ١٧٨٩م هاجم الجمهور الغاضب حصن الباستيل وقتل جميع حراسه وأفرج عن السجناء وداروا بالشوارع في نشوة انتصار عاطفية كبيرة وهي في الحقيقة تعبر عن كبت طويل جداً عاشه الشعب الفرنسي تحت الحكم الملكي المستبد فعمت الفوضى في كل مكان وتوقف الفلاحون عن دفع الضرائب ثم انقضوا على قصور النبلاء وقتلوا من فيها ففر النبلاء إلى خارج فرنسا هرباً بحياتهم ."

١- عرف ما تحته خط : - حصن الباستيل : من الحصون الإقطاعية القديمة وتحول إلى سجن للدولة، وكان هذا الحصن قد أحيط بهالة من الأساطير المرعبة وأصبح رمزاً من رموز الظلم والطغيان والاستبداد . ص ٨٨

٢- استخرج من الفقرة السابقة النتائج المترتبة على سقوط حصن الباستيل . ( يكتفى بثلاث نقاط )

- قتل جميع حراس حصن الباستيل . - وأفرج عن السجناء . - عمّت الفوضى في كل مكان . - وتوقف الفلاحون عن دفع الضرائب . - انقض الفلاحون على قصور النبلاء وقتلوا من فيها . - ففر النبلاء إلى خارج فرنسا هرباً بحياتهم .

**( ب ) قارن بين كل من : ( أربع درجات لكل نقطة درجة )**

وجه المقارنة	ساراتوجا عام ١٧٧٧م ص ٨٢	قالمي عام ١٧٩٢م ص ٩٠
النتائج	- خسر الإنجليز جيشاً كاملاً من ستة آلاف جندي واستسلم . - سيطر الأمريكيين على حوض هندسون . - اعتراف فرنسا باستقلال الثوار الأمريكيين ودخولها الحرب إلى جانبهم . - زاد تعاطف الشعوب الأوروبية مع الثورة الأمريكية . <u>( يكتفى بنقطتين )</u>	- انتصار الجيش الفرنسي . - انقذت أفكار الثورة الفرنسية من الضياع . - حالت دون وقوع باريس . - رفعت الروح المعنوية للفرنسيين . - تحول جيش الثورة بعدها من الدفاع إلى الهجوم . - أصبح جيش الثورة الفرنسية مصدر رعب للدول الأوروبية فيما بعد . <u>( يكتفى بنقطتين )</u>

**( ج ) عدد ما يلي : ( ستة درجات لكل نقطة درجة واحدة )**

( يكتفى بثلاث نقاط )

٢- نتائج مؤتمر صلح فرساي عام ١٩١٩م . ص ١٠٣ ( يكتفى بثلاث نقاط )

- تفكك امبراطوريات عريقة مثل ( الألمانية / النمسا / الروسية / الدولة العثمانية ) وظهرت دول قومية جديدة في أوروبا مثل ( بولندا / تشيكوسلوفاكيا / يوغسلافيا / المجر ) . / - أن تتحمل ألمانيا مسؤولية الحرب حيث فرض عليها دفع تعويضات مالية كبيرة للحلفاء . / - تخفيض عدد الجيش الألماني و منع ألمانيا من تصنيع أو اقتناء الأسلحة العسكرية . / - اقتطاع أجزاء من ألمانيا وضمها لدول أخرى - وضع إقليم (الساار) تحت الإدارة الدولية .





وزارة التربية

التوجيه الفني العام للاجتماعيات

امتحان نهاية الفترة الدراسية الثانية

لمقرر تاريخ العالم الحديث والمعاصر

للصف الثاني عشر - القسم الأدبي

العام الدراسي : ٢٠١٨ - ٢٠١٩ م

الزمن : ساعتان وربع

عدد الأوراق : ٦

أجب عن ( أربعة ) أسئلة فقط على أن يكون السؤال الأول منها ( إجبارياً ) :

السؤال الأول : ( إجباري ) يتكون من ( أ ، ب ، ج ، د ) :

أ) ضع خطأ تحت الخيار الصحيح من بين الخيارات التي تلي كل عبارة :

- ١- الملك الفرنسي الذي عُرف بضعف شخصيته :  
أ- لويس الثالث عشر      ب- لويس الرابع عشر      ج- لويس الخامس عشر      د- لويس السادس عشر
- ٢- العام الذي سقط فيه حصن الباستيل بيد الثوار الفرنسيين :  
أ- ١٧٦٩ م      ب- ١٧٧٩ م      ج- ١٧٨٩ م      د- ١٧٩٩ م
- ٣- المؤتمر الذي عُقد في الاتحاد السوفيتي عام ١٩٤٥م للدول المحبة للسلام :  
أ- بالطا      ب- فرساي      ج- ميونخ      د- ستالينجراد
- ٤- المعركة التي وقعت في غرب مدينة الإسكندرية عام ١٩٤٢م :  
أ- التورماندي      ب- العلمين      ج- ريفولي      د- كونكورد
- ٥- الاتفاق الذي عُقد عام ١٨٨٢م بين كل من ألمانيا والنمسا وإيطاليا :  
أ- الحلف الثلاثي      ب- الوفاق الودي      ج- معاهدة باريس      د- الاتفاق الودي

ب) أكمل العبارات التالية بما يناسبها فيما درست :

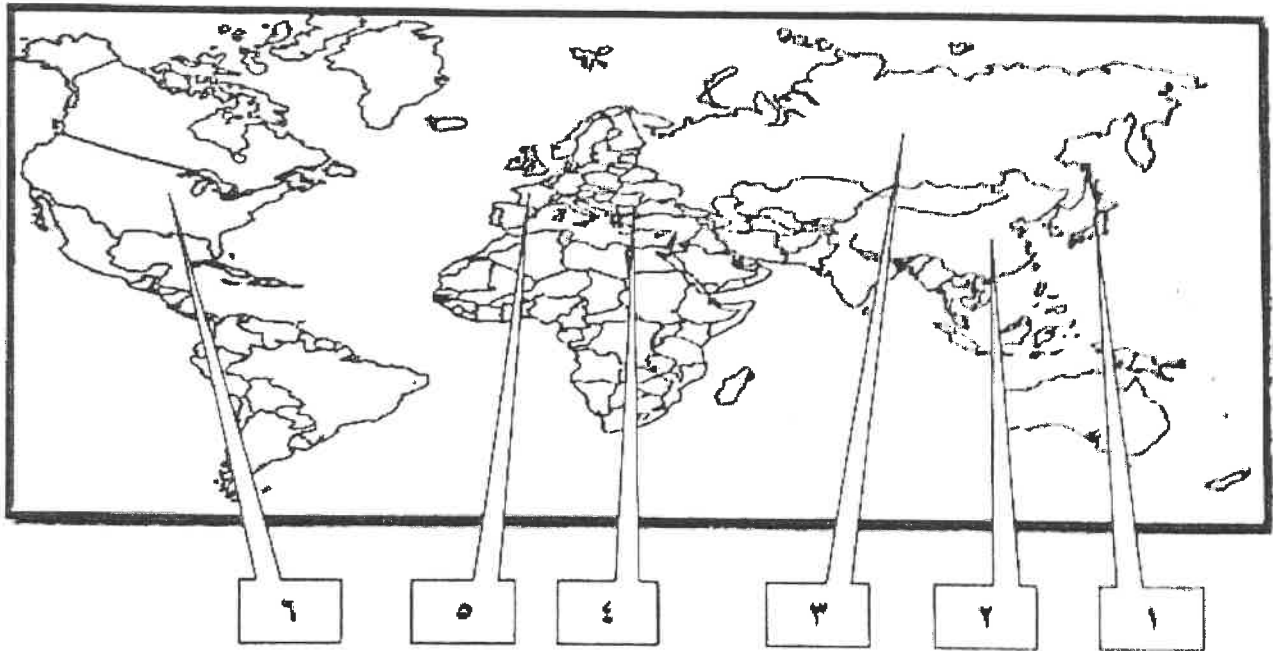
- ١- الدولة التي كان يحكمها "وليم أورنج" قبل تتويجه ملكا على إنجلترا اسمها .....
- ٢- العمر المماني الذي كان السبب المباشر في قيام الحرب العالمية الثانية اسمه .....
- ٣- الرئيس الأمريكي صاحب فكرة إنشاء عصبة الأمم اسمه .....
- ٤- القائد الذي أعاد لفرنسا أمجادها ولُقّب بـ "رجل فرنسا الأول" اسمه .....

تابع السؤال الأول ( إجباري ) :

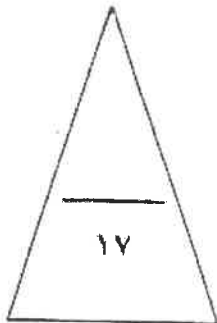
ج) صوب ما تحته خط في العبارات التالية :

التصويب	العبارة	م
	عدد الدول المشاركة في الحرب العالمية الأولى بلغ ٢٢ دولة .	١
	اصطلاح سياسي يطلق على مجموعة دول أوروبا الشرقية الاتحاد الأوروبي .	٢
	فانل مفولة ( إننا هنا بإرادة الشعب ولن نبرح ماكننا إلا على أسنة الرماح ) اسمه لاطابيت .	٣
	العام الذي انتهت فيه الحرب العالمية الأولى ١٩١٤ م .	٤

د) أمامك خريطة العالم الصماء - اكتب الرقم الدال على العبارات التالية :



- الدولة التي وقعت على أراضيها معركة لكنجستون يمثلها على الخريطة الرقم ( ) .
- الدولة التي ظهر فيها النظام الديكتاتوري بقيادة "النين" يمثلها على الخريطة الرقم ( ) .
- الدولة التي استسلمت بعد قصفها بقنبلتين ذريتين بالحرب العالمية الثانية يمثلها على الخريطة الرقم ( ) .
- الدولة التي يمر فيها نهر المارن يمثلها على الخريطة الرقم ( ) .



السؤال الثاني ( اختياري ) ويتكون من ( أ ، ب ، ج ) :

أ ) دلي على صحة العبارات التالية :

١- كان رد فعل البرلمان الإنجليزي قاسياً اتجاه ميناه بوسطن عام ١٧٧٣ م .

.....  
.....

٢- مساهمة المفكرين بدور كبير في قيام الثورة الفرنسية .

.....  
.....

٣- لم تقتصر إصلاحات الجمعية الوطنية على إصدار وثيقة الحقوق الفرنسية ودستور ١٧٩١م فقط .

.....  
.....

ب ) عرف المفاهيم أو المصطلحات التالية :

١- حزب اليقافة : .....

٢- القوانين سينة السمعة : .....

٣- الاتفاقات الدولية : .....

٤- السوفيت : .....

ج ) اقرأ الفقرة التالية ثم أجب عما يليها من أسئلة :

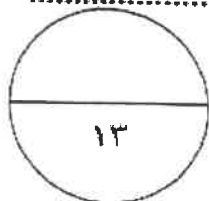
" انقسم العالم سياسياً في أواخر القرن التاسع عشر وبداية القرن العشرين الميلادي بسبب عدة عوامل أهمها بروز النزعة القومية وتصادم الأيديولوجيات وتضارب المصالح الاقتصادية وسياسة التوسع للسيطرة على مناطق مختلفة من العالم وما صاحبه من السباق إلى التسلح "

١- عرف ما تحته خط .

.....  
.....

٢- اكتب العوامل التي أدت إلى انقسام العالم سياسياً في أواخر القرن التاسع عشر وبداية القرن العشرين .

.....  
.....



السؤال الثالث ( اختياري ) ويتكون من ( أ ، ب ، ج ) :

أ) علل لما يلي :

١- تعتبر العوامل السياسية من أهم عوامل قيام الثورة الفرنسية .

..... -

..... -

٢- قيام الثورة الشيوعية في روسيا .

..... -

..... -

٣- انعقاد مجلس طبقات الأمة في الخامس من مايو عام ١٧٨٩م في فرنسا .

..... -

٤- تأخر دخول الولايات المتحدة الأمريكية الحرب العالمية الأولى حتى عام ١٩١٧م .

..... -

ب) قارن بين كل من :

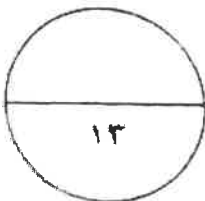
الطبقة العامة ( في المجتمع الفرنسي قبيل الثورة )	الطبقة الممتازة ( في المجتمع الفرنسي قبيل الثورة )	أوجه المقارنة
..... - ..... -	..... - ..... -	الفئات
..... - ..... -	..... - ..... -	المزايا

ج) اكتب الوكالات الخاصة ذات الصلة بالأمم المتحدة ( مع الشرح ) :

..... -

..... -

..... -



السؤال الرابع ( اختياري ) ويتكون من ( ا ، ب ، ج ) :

ا) فند العبارات التالية :

١- ساعد سقوط حصن الباستيل على استقرار الأوضاع العامة في فرنسا .

.....  
.....

٢- اقتصر الحرب العالمية الثانية على المواجهة العسكرية فقط .

.....  
.....

ب) نفذ المطلوب منك ما بين القوسين :

١- النظام النازي . ( المبادئ )

.....  
.....

٢- انهيار سوق الأوراق المالية " وول ستريت " عام ١٩٢٩ م . ( النتائج )

.....  
.....

٣- تعد معركة " فالمي " من أهم معارك التاريخ الفرنسي . ( النتائج )

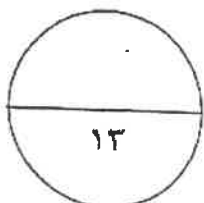
.....  
.....

ج) من خلال دراستك لموضوع ( بداية تكوين المستعمرات الإنجليزية ) كون فقرة مناسبة باستخدام

الكلمات التالية :

( حركة الكشوف الجغرافية - أمريكا الشمالية - جيمس تون )

.....  
.....  
.....



السؤال الخامس ( اختياري ) ويتكون من ( أ - ب - ج ) :  
( أ ) فسر كل مما يلي :

١- إصدار إعلان بلنتر عام ١٧٩١ م .

.....

٢- احتفال الفرنسيين بيوم ١٤ يوليو من كل عام .

.....

٣- تحالف الإتحاد الألماني مع النمسا وروسيا فيما يعرف بعصبة الأباطرة .

.....

٤- تسمية عام ١٩٤٢ م بالسنة الانتقالية .

.....

ب ) فرق بين كل مما يلي :

مهام الحاكم في المستعمرات الإنجليزية	مهام المجلس النيابي في المستعمرات الإنجليزية
.....	.....
.....	.....
مجلس الوصايا في الأمم المتحدة	محكمة العدل الدولية
.....	.....
.....	.....

ج ) اكتب النتائج المترتبة على الأحداث التالية :

١- الثورة الإنجليزية عام ١٦٨٩ م .

.....

.....

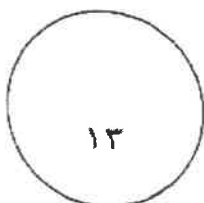
٢- الحرب العالمية الثانية ( سياسياً ) .

.....

.....

.....

( انتهت الأسئلة )





وزارة التربية  
التوجيه الفني العام للاجتماعيات

امتحان نهاية الفترة الدراسية الثانية  
لمقرر تاريخ العالم الحديث والمعاصر  
للفص الثاني عشر - القسم الأدبي

العام الدراسي : ٢٠١٨ - ٢٠١٩ م  
الزمن : ساعتان وربع  
عدد الأوراق : ١٠

أجب عن ( أربعة ) أسئلة فقط على أن يكون السؤال الأول منها ( إجبارياً ) :  
السؤال الأول : ( إجباري ) يتكون من ( أ ، ب ، ج ، د ) :

( أ ) ضع خطأ تحت الخيار الصحيح من بين الخيارات التي تلي كل عبارة : ( ٥ درجات كل نقطة درجة )

١- الملك الفرنسي الذي عُرف بضعف شخصيته : ص ٨٤

أ- لويس الثالث عشر      ب- لويس الرابع عشر      ج- لويس الخامس عشر      د- لويس السادس عشر

٢- العام الذي سقط فيه حصن الباستيل بيد الثوار الفرنسيين : ص ٨٨

أ- ١٧٦٩ م      ب- ١٧٧٩ م      ج- ١٧٨٩ م      د- ١٧٩٩ م

٣- المؤتمر الذي عُقد في الاتحاد التسوفيتي عام ١٩٤٥م للدول المحبة للسلام : ص ١١٦

أ- يالطا      ب- فرساي      ج- ميونخ      د- ستالينجراد

٤- المعركة التي وقعت في غرب مدينة الإسكندرية عام ١٩٤٢م : ص ١١١

أ- النورماندي      ب- العلمين      ج- ريفولي      د- كونكورد

٥- الاتفاق الذي عُقد عام ١٨٨٢م بين كل من ألمانيا والنمسا وإيطاليا : ص ٩٨

أ- الحلف الثلاثي      ب- الوفاق الودي      ج- معاهدة باريس      د- الاتفاق الودي

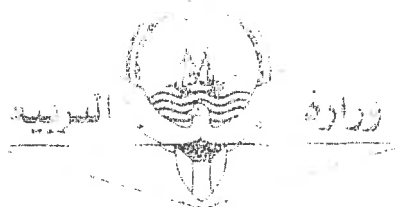
( ب ) أكمل العبارات التالية بما يناسبها فيما درست : ( ٤ درجات كل نقطة درجة )

١- الدولة التي كان يحكمها "وليم أورانج" قبل تتويجه ملكا على إنجلترا اسمها هولندا . ص ٧٤


٢- الممر المائي الذي كان السبب المباشر في قيام الحرب العالمية الثانية اسمه دانزيغ أو دانتزج . ص ١١٠

٣- الرئيس الأمريكي صاحب فكرة إنشاء عصبة الأمم اسمه وليسن . ص ١٠٤

٤- القائد الذي أعاد لفرنسا أمجادها ولقب بـ "رجل فرنسا الأول" اسمه نابليون بونابرت . ص ٩٣



التربية  
وزارة  
التوجيه الفني العام للاجتماعيات



تابع السؤال الأول ( إجباري ) :

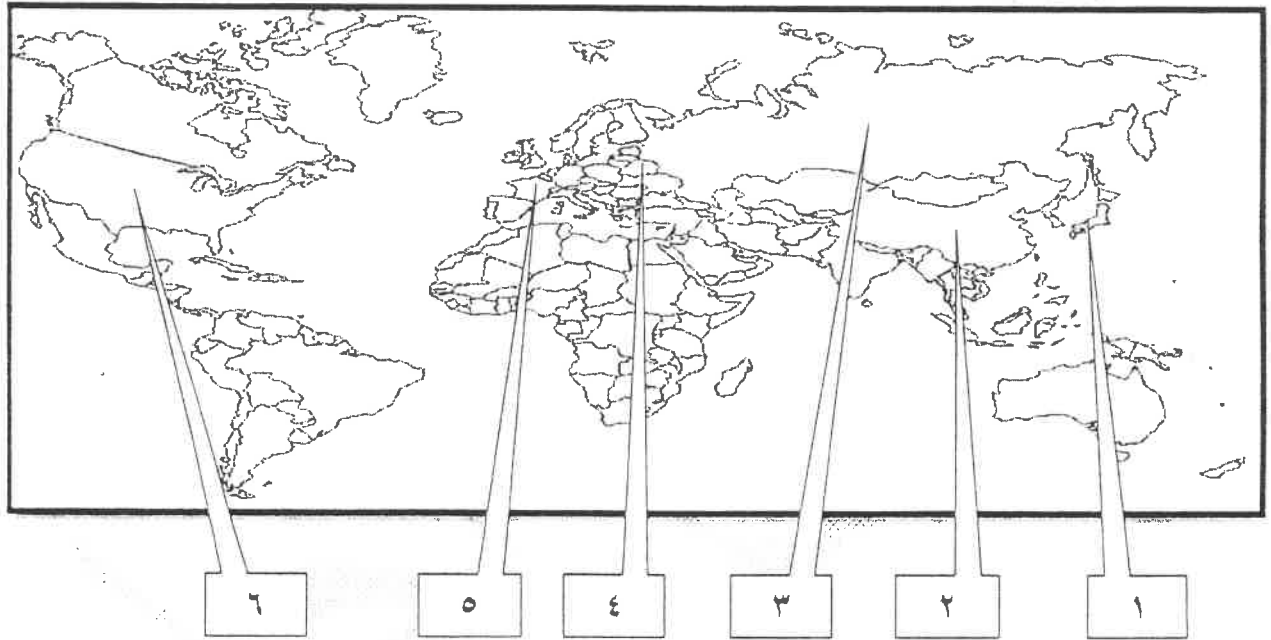
( ٤ درجات كل نقطة درجة )

ج ) صوب ما تحته خط في العبارات التالية :

م	العبارة	التصويب
١	عدد الدول المشاركة في الحرب العالمية الأولى بلغ ٢٢ دولة . ص ١٠٠	٣٣ دولة
٢	اصطلاح سياسي يطلق على مجموعة دول أوروبا الشرقية الاتحاد الأوروبي . ص ١٠٠	البلقان
٣	قائل مقولة ( إننا هنا بإرادة الشعب ولن نبرح أماكننا إلا على أسنة الرماح ) اسمه <u>لافاييت</u> . ص ٨٧	ميرابو
٤	العام الذي انتهت فيه الحرب العالمية الأولى ١٩١٤ م . ص ٩٧	١٩١٨ م

( ٤ درجات كل نقطة درجة )

د ) أمامك خريطة العالم الصماء - اكتب الرقم الدال على العبارات التالية :




- الدولة التي وقعت على أراضيها معركة لكنجستون يمثلها على الخريطة الرقم ( ٦ ) . ص ٨٠

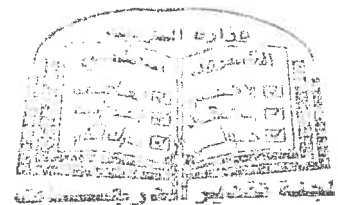
- الدولة التي ظهر فيها النظام الديكتاتوري بقيادة "النين" يمثلها على الخريطة الرقم ( ٣ ) . ص ١٠٦ - ص ١٠٣

- الدولة التي استسلمت بعد قصفها بقنبلتين ذريتين بالحرب العالمية الثانية يمثلها على الخريطة الرقم ( ١ ) . ص ١١٢ - ص ١١١

- الدولة التي يمر فيها نهر المارن يمثلها على الخريطة الرقم ( ٥ ) . ص ١٠١



تموجياه الفضي العام للاجتماعيات



السؤال الثاني ( اختياري ) ويتكون من ( أ ، ب ، ج ) :

( أ ) دلل على صحة العبارات التالية :

( ٦ درجات كل نقطة درجة )

١- كان رد فعل البرلمان الإنجليزي قاسياً اتجاه ميناء بوسطن عام ١٧٧٣ م . ص ٧٩ ( يكتفى بنقطتين )

- إغلاق ميناء بوسطن حتى يتم دفع ثمن الشاي . - تعيين الجنرال جيدج حاكماً عسكرياً على بوسطن .

- منع الاجتماعات إلا بإذن من السلطات العسكرية الإنجليزية . ( القوانين الجائرة )

٢- مساهمة المفكرين بدور كبير في قيام الثورة الفرنسية . ص ٨٥ ( يكتفى بنقطتين )

- فولتير ( ١٦٩٤م / ١٧٧٨م ) : كاتب ساخر عرف عنه نقده اللاذع وسخريته الشديدة من الأوضاع البالية في فرنسا لا يخشى السجن أو النفي وأهم مؤلفاته ( عهد لويس الرابع عشر ) دعا فيه إلى المساواة وتناول كل طغاة فرنسا بنقده اللاذع للحكم المطلق المستبد وخرافات رجال الدين وانتقد بشدة القوانين الفرنسية الجائرة ونظام الضرائب والامتيازات ولعل مؤلفاته كانت أكثر انتشاراً بين طبقات الشعب الفرنسي بسبب موهبته الفذة في توجيه النقد اللاذع .

- منتيسكيو ( ١٦٨٩م / ١٧٧٥م ) : صاحب كتاب ( روح القوانين ) الصادر في ١٧٤٨م وكان معجباً بالنظام الإنجليزي المقيد لسلطات الملك وكان يعتقد أن النظام الملكي البرلماني الإنجليزي هو النظام الملائم لفرنسا حيث يقوم على أساس الدستور وعلى أساس البرلمان المنتخب والملك المقيد السلطات .

- روسو ( ١٧١٢م / ١٧٧٨م ) : أهم مؤلفاته ( العقد الاجتماعي ) الذي طالب أن يكون الحكم للشعب واتفق في كثير من الأحيان مع مبادئ المفكر الإنجليزي ( جون لوك ) من حيث إن الشعب هو الذي يفوض السلطة للحاكم بشروط معينة وأن الشعب له الحق في سحب ذلك التفويض إذا ما أخل الملك بوظائفه أو بالشروط المتعاقد عليها بين الشعب والحاكم وأنكر روسو أن يكون هناك حاكم يستمد سلطته من مصدر غير الأمة ويرى أن كل حاكم لا يستند إلى الشعب في حكمه يعتبر حاكماً غير شرعي وأكد على المساواة المطلقة بين أفراد الشعب ولعل قيمة روسو العليا أنه رفع من شأن الفرد وجعل المساواة أساس المجتمع .

٣- لم تقتصر إصلاحات الجمعية الوطنية على إصدار وثيقة الحقوق الفرنسية ودستور ١٧٩١م فقط . ص ٨٩ ( يكتفى بنقطتين )

- كان لها دور كبير في إصلاح النظام الإداري حيث قسمت فرنسا إلى محافظات جغرافية وليس على أساس طبقي .

- ألغت النظام القضائي القديم وأصبح منصب القاضي انتخابياً .

- قامت الجمعية بإصلاح النظام الضريبي والمالي حيث وزعت الضرائب على أساس التساوي بين جميع الأفراد وطبقاً لدخل كل فرد .

- وجهت إصلاحاتها نحو الكنيسة الفرنسية وصدر قرار بمصادرة أملاكها رغبة في الاستحواذ على ممتلكاتها الواسعة وللمساهمة في حل الأزمة المالية .

( ب ) عرف المفاهيم أو المصطلحات التالية :

( ٤ درجات كل نقطة درجة )


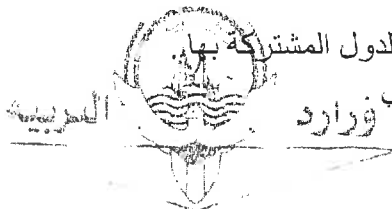
١- حزب اليعاقبة : ( ص ٩١ ) حزب من المتطرفين المعروفين بعدانهم الشديد للملكية وهم يمتازون بأنهم أقلية شديدة

التنظيم ذات اتصال قوي بالشعب وبجمهور باريس الذي كانت له اليد الطولى في إثارة الشارع في فرنسا .

٢- القوانين سينة السمعة : ( ص ٧٨ ) هي ضرائب باهظة جديدة فرضت على المستعمرات والتي كانت إنجلترا تبررها بالمصروفات اللازمة للجيش البريطاني لحماية المستعمرات ولعلها كانت بمثابة الشرارة التي انطلقت منها الثورة الأمريكية .

٣- الاتفاقات الدولية : ( ص ٩٧ ) تشريعات يتفق عليها دولياً وهي ( مقننة ) تلتزم الدول المشتركة بها .

٤- السوفيت : ( ص ١٠٩ ) المجالس الشيوعية المحلية التي أسسها الحزب الشيوعي .



( ٣ درجات كل نقطة درجة )

ج) اقرأ الفقرة التالية ثم أجب عما يليها من أسئلة : ص ٩٧

" انقسم العالم سياسياً في أواخر القرن التاسع عشر وبداية القرن العشرين الميلادي بسبب عدة عوامل أهمها بروز النزعة القومية وتصادم الأيديولوجيات وتضارب المصالح الاقتصادية وسياسة التوسع للسيطرة على مناطق مختلفة من العالم وما صاحبه من السباق إلى التسلح "

١- عرف ما تحته خط .

- نسق من الآراء والأفكار السياسية والقانونية والدينية والفلسفية .


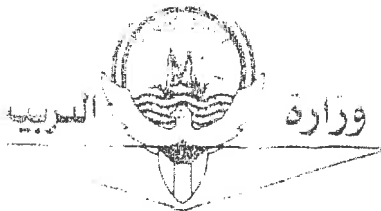
٢- اكتب العوامل التي أدت إلى انقسام العالم سياسياً في أواخر القرن التاسع عشر وبداية القرن العشرين . (يكتفى بنقطتين)

- بروز النزعة القومية وتصادم الأيديولوجيات .

- السباق إلى التسلح .

- تضارب المصالح الاقتصادية .

- سياسة التوسع للسيطرة على مناطق مختلفة من العالم .



**السؤال الثالث ( اختياري ) ويتكون من ( أ ، ب ، ج ) :**

**أ ) علل لما يلي :**

**( ٦ درجات كل نقطة درجة )**

**( يكتفى بنقطتين )**

- ١- تعتبر العوامل السياسية من أهم عوامل قيام الثورة الفرنسية . ص ٨٤
  - كان ملوك فرنسا يحكمون وفق نظرية الحق الإلهي المقدس فكان الملك الفرنسي هو الذي يصدر القوانين ويعلم الحرب ويفرض الضرائب وسلطته أكبر من القضاء حيث كان يعتبر قاضي المملكة الأكبر يستطيع أن يعفو عن مجرم عاقبته المحكمة بالسجن أو يلقي بمن يشاء في السجن المتواصل دون محاكمة ويعين الوزراء ويعزلهم دون مساءلة .
  - لم تعرف فرنسا أي نوع من أنواع المشاركة الشعبية في الحكم ولكن كان هناك مؤسسات برلمانية صورية هشة لم تستطع أن تحد من سلطات الملك أو تراقب أعماله فقد كانت مشاركة الشعب ممثلة في ( محكمة باريس ) و ( مجلس طبقات الأمة ) فقط وكانت قراراتها غير ملزمة للملك .
  - توالى الهزائم العسكرية على الجيش الفرنسي منذ أواخر عهد لويس الرابع عشر وحرب السنوات السبع ( ١٧٥٦م / ١٧٦٣م ) الأمر الذي أدى إلى تطلع الشعب الفرنسي إلى ملك قوي يعيد مكانة فرنسا بين ملكيات أوروبا ويعيد كذلك هيبتها بين أفراد الشعب ولم يكن لويس السادس عشر يتمتع بهذه القدرات
  - هناك شبه إجماع بين المؤرخين على ضعف شخصية لويس السادس عشر ( ١٧٧٣م / ١٧٩١م ) ولعبت زوجته ( ماري أنطوانيت ) دورا كبيرا في إضعاف مكانته الشعبية وتوجيه سياسة البلاد من خلال اشتراكها في المؤامرات التي تعين وتعزل الوزراء كذلك عدم إحساسها بما يعانيه الشعب الفرنسي من آثار المجاعة الأمر الذي خلق شعورا عاما بالاستياء لدى الشعب ويرى في ( ماري أنطوانيت ) عدوة الشعب الفرنسي لمجرد أنها نمساوية الأصل ولقد كانت الكراهية الشعبية للنمسا شديدة على اعتبار أنها المسؤولة عن معظم الكوارث العسكرية التي حلت بفرنسا خلال القرن الثامن عشر .

**( يكتفى بنقطتين )**

**٢- قيام الثورة الشيوعية في روسيا . ص ١٠٦**

- فساد الحكم القيصري في روسيا واستبداده .
- الهزائم الكبرى التي حلت بالجيش الروسي منذ عام ١٩٠٥م على يد اليابان ثم الحرب العالمية الأولى وسقوط ملايين من الجرحى والقتلى .
- سوء الحالة الاقتصادية التي تأثر بها العمال والفلاحون وانتشار البطالة والمجاعات والأمراض .
- شخصية لينين وقدرته على إقناع الجماهير من خلال رفع شعاره المشهور ( السلام للجيش - الأرض للفلاحين - الغذاء للجميع - الحكم للسوفيت ) وتنظيم الحزب الشيوعي .
- ٣- انعقاد مجلس طبقات الأمة في الخامس من مايو عام ١٧٨٩م في فرنسا . ص ٨٧
  - لبحث الخروج من الأزمة المالية الكبيرة التي كانت تمر بها البلاد عن طريق فرض ضرائب جديدة لتغطية نفقات الدولة
- ٤- تأخر دخول الولايات المتحدة الأمريكية الحرب العالمية الأولى حتى عام ١٩١٧م . ص ١٠٠
  - بسبب مهاجمة الغواصات الألمانية السفن التجارية الأمريكية .

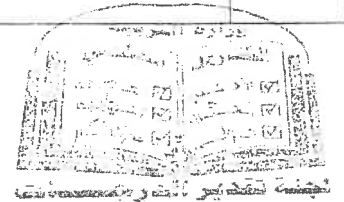
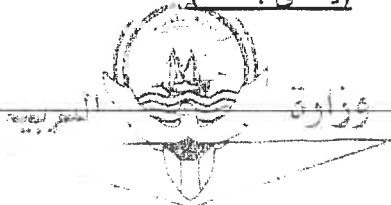
**ب ) قارن بين كل من : ص ٨٥**

**( ٤ درجات كل نقطة درجة )**

أوجه المقارنة	الطبقة الممتازة ( في المجتمع الفرنسي قبيل الثورة )	الطبقة العامة ( في المجتمع الفرنسي قبيل الثورة )
الفئات	الأرستقراطية الغنية - رجال الدين	عامة الشعب من الزراعة والصناع وأصحاب الحرف وصغار التجار
المزايا	- تمتعوا بجميع المزايا الاجتماعية في المجتمع وتولي المناصب العليا في الدولة والجيش - ليس عليهم أي حقوق تجاه الدولة . - التصاقها بالملك . - تمثل أقلية لا تزيد عن ١% من مجموع الشعب الفرنسي .	- عانت من صنوف الظلم والاستبعاد - فرضت عليهم جميع أنواع الضرائب - استبعدت من جميع الوظائف العليا في الدولة - تمثل نحو ٩٩% من الشعب الفرنسي .

**( يكتفى بنقطة )**

**( يكتفى بنقطة )**



**ج) اذكر الوكالات الخاصة ذات الصلة بالأمم المتحدة ( مع الشرح ) : ص ١١٨ ( ٣ درجات كل نقطة درجة )**

- الوكالات الخاصة ذات الصلة بالأمم المتحدة .

- البنك الدولي للتنمية والتعمير ( IBRD ) : يعرف رسميا بالبنك الدولي للإنشاء والتعمير ويمنح قروضه لمساعدة مختلف الأقطار في تنفيذ مشاريعها كالسدود ومحطات الطاقة الكهربائية والسكك الحديدية .
- منظمة التربية والعلوم والثقافة اليونسكو ( UNESCO ) : هي ( منظمة الأمم المتحدة للتربية والعلوم والثقافة ) ، تقوم بتعزيز التعاون الدولي في مجالات التربية والعلوم والثقافة لتطويرها وتحقيق قدر أكبر من التفاهم بين الأمم .
- منظمة الصحة الدولية ( WHO ) : هي الوكالة الرئيسية في العالم لمواجهة المشاكل الصحية .
- منظمة التغذية والزراعة الفاو ( FAO ) منظمة الأمم المتحدة للأغذية والزراعة تساعد على تحسين إنتاج المزارع والغابات ومناطق صيد الأسماك .
- منظمة العمل الدولية ( ILO ) : منظمة العمل الدولية تساعد في تحسين ظروف العمل والمعيشة في أنحاء العالم .

( يكتفى بثلاث نقاط فقط )



السؤال الرابع ( اختياري ) ويتكون من ( أ ، ب ، ج ) :

أ) فند العبارات التالية :

( ٤ درجات كل نقطة درجة )

( يكتفى بنقطتين )

١- ساعد سقوط حصن الباستيل على استقرار الأوضاع العامة في فرنسا . ص ٨٨

- هجرة النبلاء إلي خارج فرنسا هربا بحياتهم وسرعان ما أصبح هؤلاء المهاجرون أكبر خطر على الثورة الفرنسية .
- توقف الفلاحون عن دفع الضرائب .
- عمت الفوضى في كل مكان .

- انقض الفلاحون على قصور النبلاء وأحرقوها وقتلوا من فيها واحرقوا الوثائق التي تعطيهم حقوقا إقطاعية .

( يكتفى بنقطتين )

٢- اقتصر الحرب العالمية الثانية على المواجهة العسكرية فقط . ص ١١٣

- حرب عالمية شاملة : شملت معظم دول العالم بالاشتراك المباشر أو بالتحالف مع الدول .
- تسخير الطاقات البشرية : حيث سخرت دول المحور أسرى الحروب للعمل المصانع والحقول ودفع الحلفاء بالإناث للعمل في هذا المجال بدل الرجال وفتحت الولايات المتحدة باب الهجرة للعمل .
- مواجهة بين أيديولوجيات وصراع بين نظريات دكتاتورية عنصرية تبنتها دول المحور بينما تبني الحلفاء الديمقراطية التي تنادي بالمساواة وحقوق الإنسان .
- تنافس صناعي : سخرت جميع الدول المشتركة في الحرب مقدراتها ومقدرات الشعوب التي احتلتها بهدف تطوير الإنتاج الصناعي الحربي وتطوير الاقتصاد .
- سباق تسليح تكنولوجي : تطور أساليب القتال والأسلحة فاستخدمت التكنولوجيا في الأرض والجو والبحر فكان الدمار أكبر وشمل جميع المجالات .

( ٦ درجات كل نقطة درجة )

( يكتفى بنقطتين )

( المبادئ )

١- النظام النازي . ص ١٠٧

- تفوق العنصر البشري الجرمانى ( الألمانى ) على جميع العناصر البشرية .
- قيام ألمانيا الكبرى التي تضم كل الألمان .
- امتلاك الدولة للشركات الاحتكارية .
- إلغاء معاهدة فرساي .
- استعادة المستعمرات الألمانية .


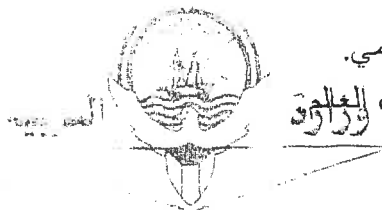
( يكتفى بنقطتين )

( النتائج )

٢- انهيار سوق الأوراق المالية " وول ستريت " عام ١٩٢٩ م . ص ١٠٥

- إفلاس كثير من البنوك والمؤسسات .
- انخفاض الأسعار في الولايات المتحدة .
- مطالبة البنوك والمؤسسات بديونها من أوروبا .
- توقف التطور الاقتصادي الأوروبي الذي اعتمد على الاستقرار المالي للولايات المتحدة .
- أغلقت المصانع .
- انتشرت البطالة .
- تراجع التجارة الخارجية والإنتاج العالمي .

- انتشرت آثار هذه الأزمة في كافة أنحاء العالم .



٣- تعد معركة " فالمي " من أهم معارك التاريخ الفرنسي . ص ٩٠ ( النتائج ) ( يكتفى بنقطتين )

- أنقذت أفكار الثورة الفرنسية من الضياع .

- حالت دون وقوع باريس .

- رفعت الروح المعنوية للفرنسيين .

- تحول جيش الثورة بعدها من الدفاع إلى الهجوم .

- أصبح مصدر رعب للدول الأوروبية فيما بعد .

ج) من خلال دراستك لموضوع ( بداية تكوين المستعمرات الإنجليزية ) كون فقرة مناسبة باستخدام الكلمات



( ٣ درجات )

التالية : ص ٧٦

( حركة الكشوف الجغرافية - أمريكا الشمالية - جيمس تون )

عقب قيام حركة الكشوف الجغرافية وقيام الحركة الاستعمارية أسس الأوروبيون من الإنجليز والأسبان والفرنسيين والهولنديين مستعمرات أوروبية في أمريكا الشمالية إلا أن أكبرها وأقواها على الإطلاق كان المستعمرات الإنجليزية وقد امتدت هذه الولايات في الجزء الشمالي الشرقي إلى الجنوب الشرقي بمحاذاة المحيط الأطلسي في نحو ثلاث عشر ولاية أولها مستعمرة جيمس تون .

( ما يراه المصحح مناسباً )



السؤال الخامس ( اختياري ) ويتكون من ( أ - ب - ج ) :

( أ ) فسر كل مما يلي :

( ٤ درجات كل نقطة درجة )

١- إصدار إعلان بلنترز عام ١٧٩١م . ص ٩٠

- قدم الإمبراطور النمساوي "ليوبولد" مقترحات إلى البلاطات الملكية الأوروبية تحت على القيام بعمل مشترك إزاء الموقف الداخلي في فرنسا وايدته الإمبراطور " فريديريك وليم الرابع " ملك بروسيا الأمر الذي أدى في النهاية إلى إصدار الإعلان .

( يكتفى بنقطة )

٢- احتفال الفرنسيين بيوم ١٤ يوليو من كل عام . ص ٨٨

- ذكرى سقوط حصن الياستين .

- حيث هاجم الجمهور الغاضب الحصن وقتل جميع الحراس وأفرج عن السجناء وأخذهم الجمهور الغاضب ودار بهم الشوارع في نشوة انتصار عاطفية كبيرة وهي في الحقيقة تعبر عن كبت طويل جدا عاشه الشعب الفرنسي تحت الحكم الملكي المطلق المستبد .

٣- تحالف الإتحاد الألماني مع النمسا وروسيا فيما يعرف بعصبة الأباطرة . ص ٩٧

- عمد بسمارك إلى عزل فرنسا .

٤- تسمية عام ١٩٤٢م بالسنة الانقلابية . ص ١١١

- نمو قوة الحلفاء وضمود القوات الروسية ( الجيش الأحمر ) التي ألحقت هزيمة بالقوات الألمانية في ( ستالينجراد ) في

هجوم مفاجئ عام ١٩٤٢م .

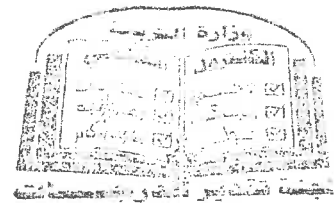
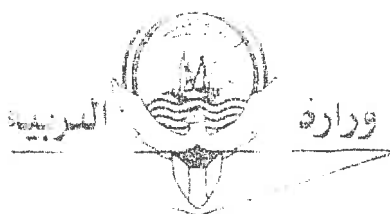
- تمكن البريطانيون من إلحاق هزيمة بالقوات الألمانية - الإيطالية بقيادة "رومل" في معركة العلمين غرب مدينة الإسكندرية

عام ١٩٤٢م . ( يكتفى بنقطة )

( ٤ درجات كل نقطة درجة )

( ب ) فرق بين كل مما يلي :

مهام الحاكم في المستعمرات الإنجليزية ص ٧٧	مهام المجلس النيابي في المستعمرات الإنجليزية ص ٧٧
- هو المسؤول الأول عن رعاية شؤون الولاية	- يقوم بسن القوانين والضرائب
- المحافظة على الأمن .	- مراقبة الموظفين في الولاية .
<u>( يكتفى بنقطة )</u>	<u>( يكتفى بنقطة )</u>
مجلس الوصايا في الأمم المتحدة ص ١١٧	محكمة العدل الدولية ص ١١٧
- يتألف من أعضاء الدول الخمس الكبرى ودول أخرى	- مركزها لاهاي ( هولندا ) ومهمتها حل النزاعات على
منتخبة كلف بإدارة الأراضي التي وضعتها عصبة الأمم	الحدود بين الدول الأعضاء والنزاعات الناجمة عن مخالفة
تحت الانتداب ريثما تتأهل الدول القائمة عليها	القوانين الدولية .
للاستقلال .	



( ٥ درجات كل نقطة درجة )


ج ( اكتب النتائج المترتبة على الأحداث التالية :

- ١- الثورة الإنجليزية عام ١٦٨٩م . ص ٧٥ + ٧٦
- ( يكتفى بنقطتين )
- انتشرت فكرة المجالس النيابية لإصدار القوانين وفرض الضرائب وتقرير سياسة الدولة بعد ما كان ذلك من حق الملك فقط في ظل الحق الإلهي المقدس الذي كان يمنح للملوك .
  - تم الأخذ بمبدأ تركيز الحياة النيابية في مجلسين ( مجلس اللوردات ) ويمثل الأرستقراطية الإنجليزية و ( مجلس العموم ) الذي يمثل الديمقراطية في أجل صورها ومن ثم أخذت عنها الشعوب الأخرى لذلك نجد نظام المجلسين قد طبق في أغلب دول العالم حتى الآن .
  - أخذت معظم دول العالم عن إنجلترا نظامها الانتخابي حيث التمثيل النيابي على حساب الدوائر الانتخابية وليس على أساس طبقي حيث أصبح عضو البرلمان يمثل دائرة انتخابية على حسب التقسيم الجغرافي الذي تراه الدولة فالعضو لا يمثل طبقة اجتماعية أو اقتصادية ولكنه يمثل جميع سكان دائرته .
  - كان للثورة الإنجليزية أثر بالغ في إدراك الفرد حقوقه السياسية .
  - كان للثورة الإنجليزية الفضل الأكبر في تطور النظريات السياسية ولعل أشهرها نظرية جون لوك المعروفة ب ( السيادة الشعبية ) .

( يكتفى بثلاث نقاط )

٢- الحرب العالمية الثانية سياسياً ص ١١٤

- تغيرت خريطة أوروبا السياسية وجرى تعديل على الكثير من الحدود .
- تراجعت مكانة دول أوروبا ( بريطانيا وفرنسا ) إلى الدرجة الثانية وتقلص نفوذها الاستعماري .
- انتهت الديكتاتوريات في إيطاليا وألمانيا واليابان .
- قامت أنظمة شيوعية في دول أوروبا الشرقية وظلت قائمة بمساندة الاتحاد السوفيتي وسقطت مع سقوطه .
- انقسام ألمانيا بعد احتلالها إلى قسمين غربي يتبع النظام الرأسمالي وشرقي يتبع النظام الشيوعي وقسمت برلين إلى قسمين يفصلهما جدار عازل .
- لم تصب إيطاليا بخسائر مباشرة في أراضيها وإنما فقدت كل مستعمراتها .
- فقدت اليابان كل ممتلكاتها التي حصلت عليها منذ نهاية القرن التاسع ودمرت أراضيها .
- برز قطبان جديان في العالم هي الولايات المتحدة الأمريكية والاتحاد السوفيتي ( السابق ) باعتبارهما أقوى دولتين في العالم .



للتوجيه الفني العام للاقتصاد





أجب عن ( أربعة ) أسئلة فقط على أن يكون السؤال الأول منها ( إجبارياً ):

السؤال الأول : ( إجباري ) ويتكون من ( أ ، ب ، ج ، د ) :

( أ ) ضع خطأ تحت الخيار الصحيح من بين الخيارات التي تلي كل عبارة :

- ١- قائل هذه العبارة " إننا هنا بإرادة الشعب ولن نبرح أماكننا إلا على أسنة الرماح " :  
أ- نيكر      ب- لافاييت      ج- نابليون      د- ميرابو
- ٢- المستعمرة الإنجليزية التي تأسست عام ١٦٠٧ م في أمريكا الشمالية :  
أ- بوسطن      ب- جيمس تون      ج- واشنطن      د- نيويورك
- ٣- الدولة التي وقعت على أراضيها معركة "كنجستون" :  
أ- إنجلترا      ب- الاتحاد السوفيتي      ج- الولايات المتحدة الأمريكية      د- النمسا
- ٤- الملك الذي لجأ إلى فرنسا عام ١٦٨٩ م هرباً من رجال البرلمان الإنجليزي :  
أ- جيمس الأول      ب- جيمس الثاني      ج- جيمس الثالث      د- جيمس الرابع
- ٥- العام الذي عقد فيه صلح باريس وبموجبه اعترفت بريطانيا باستقلال الولايات المتحدة الأمريكية :  
أ- ١٧٨٣ م      ب- ١٧٨٤ م      ج- ١٧٨٥ م      د- ١٧٨٦ م

( ب ) أكمل العبارات التالية بما يناسبها فيما درست :

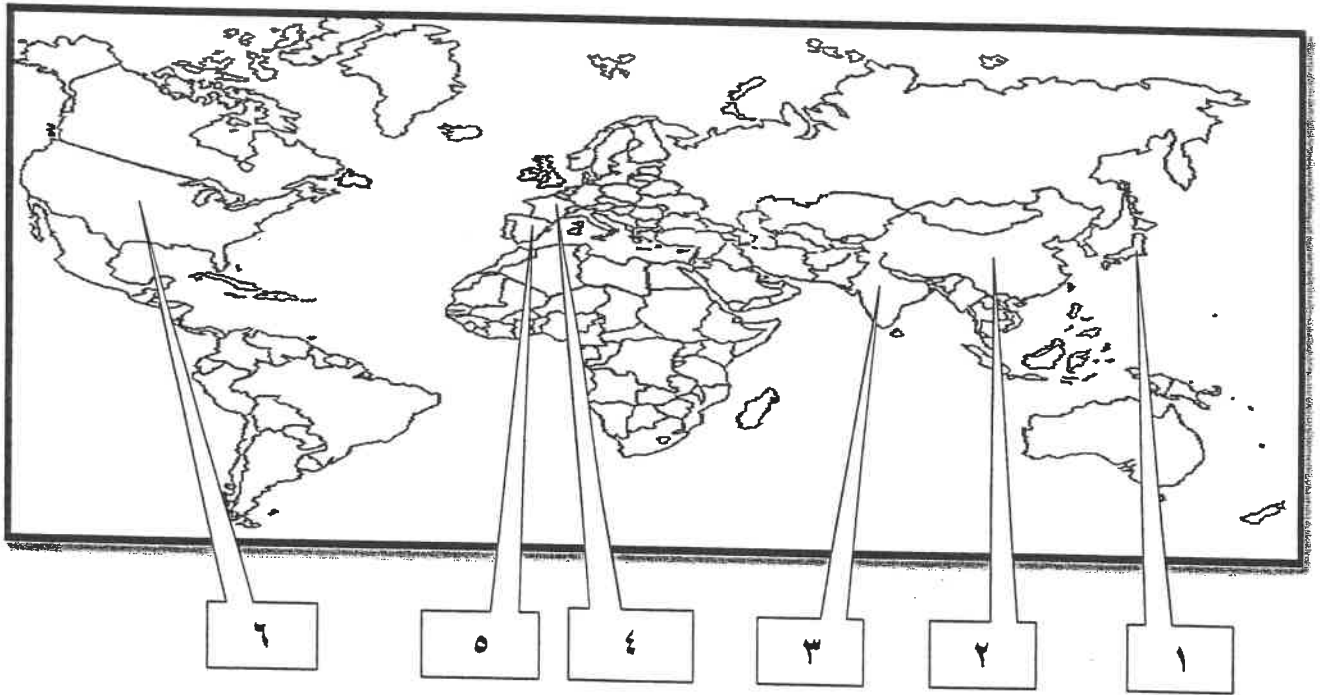
- ١- الإمبراطورية الإسلامية التي تفككت بعد الحرب العالمية الأولى اسمها .....
- ٢- المدينة التي يوجد بها مقر محكمة العدل الدولية اسمها .....
- ٣- المدينة التي أعتقل فيها الملك " لويس السادس عشر " بعد محاولة هروبه الفاشلة اسمها .....
- ٤- الدولة التي هاجمت السفن التجارية الأمريكية وكانت السبب في دخول الولايات المتحدة الحرب العالمية الأولى اسمها .....

تابع السؤال الأول ( إجباري ) :

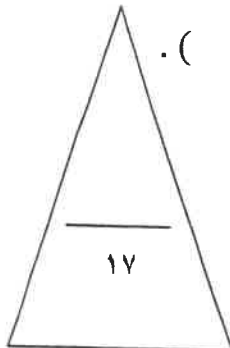
( ج ) اختر للمجموعة ( أ ) ما يرتبط بها من المجموعة ( ب ) بوضع الرقم المناسب :

م	المجموعة ( أ )	الرقم المناسب	المجموعة ( ب )
١	العام الذي اجتاح فيه هتلر بولندا .		١٩١٦ م
٢	العام الذي حدثت فيه معركة فردان .		١٩١٩ م
٣	العام الذي أصدر فيه إعلان استقلال المستعمرات في أمريكا عن إنجلترا .		١٩٣٩ م
٤	العام الذي أنشأت فيه عصبة الأمم .		١٧٧٦ م
			١٧٧٧ م

( د ) أمامك خريطة العالم الصماء - اكتب الرقم الدال على العبارات التالية :



- الدولة التي يقع فيها المقر الرسمي للأمم المتحدة يمثلها على الخريطة الرقم ( ) .
- الدولة الآسيوية التي تعد أحد الأعضاء الدائمين في مجلس الأمن يمثلها على الخريطة الرقم ( ) .
- الدولة التي يجري على أرضها نهر " المارن " الشهير يمثلها على الخريطة الرقم ( ) .
- الدولة التي ظهر فيها نظام ديكتاتوري بقيادة " فرانكو " يمثلها على الخريطة الرقم ( ) .



السؤال الثاني ( اختياري ) يتكون من ( أ ، ب ، ج ) :

أ) اكتب النتائج المترتبة على الأحداث التالية :

١- الثورة الأمريكية .

.....  
.....

٢- سقوط حصن الباستيل .

.....  
.....

٣- الحرب العالمية الثانية من الناحية الاقتصادية .

.....  
.....

ب) عرف المفاهيم أو المصطلحات التالية :

١- العلاقات الدولية :

.....

٢- البلقان :

.....

٣- النازية :

.....

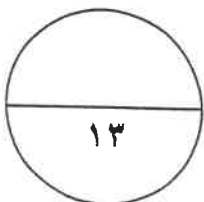
٤- فترة عصر الإرهاب :

.....

ج) من خلال دراستك لموضوع ( هيئة الأمم المتحدة ) كون فقرة مناسبة باستخدام الكلمات التالية :

( السلام العالمي - مؤتمر يالطا - الأمم المتحدة )

.....  
.....  
.....  
.....



السؤال الثالث ( اختياري ) يتكون من ( أ ، ب ، ج ) :

أ ) قارن بين كل من :

أوجه المقارنة	معركة ساراتوجا	معركة فالمي
الموقع	- .....	- .....
النتائج	- ..... - .....	- ..... - .....

ب ) ءلل على صحة العبارات التالية :

١- مهد التوتر الءولي بعد الحرب العالمية الأولى لقيام الحرب العالمية الثانية.

- .....  
- .....

٢- اختلفت الحرب العالمية الثانية عن جميع الحروب التي سبقتها .

- .....  
- .....  
- .....

ج ) اءرأ الفقرة التالية ثم أءب عما يليها من أسئلة :

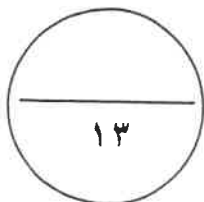
" هناك شبه إءماع بين المؤرخين على ضعف شخصية ملك فرنسا "لويس السادس عشر" (١٧٧٣/١٧٩١م) والءي لعبت زوجته "ماري أنطوانيت" دوراً كبيراً في إضعاف مكانته الشعبية وتوجيه سياسة البلاد على عكس "نابليون بونابرت" الءي أصبح رجل فرنسا الأول وأعطاهها مجءاً بشكل لم تكن تتوقعه ووضع مشروعاً لتنظيم التعليم في كل أنحاء فرنسا والعمل على مجانية التعليم للفقراء خاصة التعليم الثانوي " .

١- ما الءور الءي لعبته "ماري أنطوانيت" في إضعاف مكانة "لويس السادس عشر" الشعبية ؟

- .....  
- .....

٢- استءرج من الفقرة السابقة الإصلاحات التي قام بها "نابليون" في مجال التعليم .

- .....  
- .....



السؤال الرابع ( اختياري ) يتكون من ( أ ، ب ، ج ) :

أ) اكتب الدور الذي لعبته الشخصيات التالية :

١- "روزفلت" في إصلاح الاقتصاد الأمريكي بين الحربين العالميتين .

.....  
.....

٢- الجنرال الروسي " زوكوف " في الحرب العالمية الثانية.

.....

٣- " موسوليني " في إيطاليا.

.....  
.....

ب) فرق بين كل مما يلي :

حزب اليعاقبة	حزب الجيرونديين
.....	.....

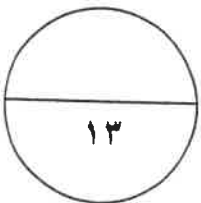
ج) عدد كل مما يلي :

١- أهم ملامح عالمن المعاصر .

.....  
.....  
.....


٢- النتائج السياسية للحرب العالمية الثانية .

.....  
.....  
.....



السؤال الخامس ( اختياري ) يتكون من ( أ - ب - ج ) :

أ) لاحظ الصورة التي أمامك ثم أجب عن الأسئلة التالية :



١- اكتب الحدث التاريخي الذي تدل عليه الصورة المقابلة ؟

..... -

٢- في أي عام وقع هذا الحدث ؟

..... -

٣- عدد النتائج التي ترتبت على هذا الحدث.

..... -

..... -

ب) ما أوجه الاختلاف بين كل من :

مجلس اللوردات	مجلس العموم
.....-	.....-
.....-	.....-

ج) علل لما يلي :

١- قيام الثورة الشيوعية في روسيا عام ١٩١٧ م .

..... -

..... -

٢- وقفت عصبة الأمم عاجزة أمام القضايا المهمة .

..... -

..... -

٣- كانت القارة الأوروبية محور العلاقات الدولية في بداية القرن العشرين .

..... -

..... -

..... -



وزارة التربية

التوجيه الفني العام للاجتماعيات

امتحان نهاية الفترة الدراسية الثانية

لمقرر تاريخ العالم الحديث والمعاصر

للسف الثاني عشر - القسم الأدبي

العام الدراسي : ٢٠١٨ - ٢٠١٩ م

الزمن : ساعتان وربع

عدد الأوراق : ٧

أجب عن ( أربعة ) أسئلة فقط على أن يكون السؤال الأول منها ( إجبارياً ) :

السؤال الأول : ( إجباري ) ويتكون من ( أ ، ب ، ج ، د ) :

( أ ) ضع خطأ تحت الخيار الصحيح من بين الخيارات التي تلي كل عبارة : ( ٥ درجات كل نقطة درجة )

١- قائل هذه العبارة " إننا هنا بارادة الشعب ولن نبرح أماكننا إلا على أسنة الرماح " : ص ٨٧

أ- نيكر      ب- لافاييت      ج- نابليون      د- ميرابو

٢- المستعمرة الإنجليزية التي تأسست عام ١٦٠٧م في أمريكا الشمالية : ص ٧٦

أ- بوسطن      ب- جيمس تون      ج- واشنطن      د- نيويورك

٣- الدولة التي وقعت على أراضيها معركة "لكنجستون" : ص ٨٠

أ- إنجلترا      ب- الاتحاد السوفيتي      ج- الولايات المتحدة الأمريكية      د- النمسا

٤- الملك الذي لجأ إلى فرنسا عام ١٦٨٩م هرباً من رجال البرلمان الإنجليزي : ص ٧٤

أ- جيمس الأول      ب- جيمس الثاني      ج- جيمس الثالث      د- جيمس الرابع

٥- العام الذي عُقد فيه صلح باريس وبموجبه اعتزقت بريطانيا باستقلال الولايات المتحدة الأمريكية : ص ٨٢

أ- ١٧٨٣م      ب- ١٧٨٤م      ج- ١٧٨٥م      د- ١٧٨٦م

( ب ) أكمل العبارات التالية بما يناسبها فيما درست : ( ٤ درجات كل نقطة درجة )



١- الإمبراطورية الإسلامية التي تفككت بعد الحرب العالمية الأولى اسمها الدولة العثمانية . ص ١٠٣

٢- المدينة التي يوجد بها مقر محكمة العدل الدولية اسمها لاهاي . ص ١١٧

٣- المدينة التي أعتقل فيها الملك " لويس السادس عشر " بعد محاولة هروبه الفاشلة اسمها فاران . ص ٨٩

٤- الدولة التي هاجمت السفن التجارية الأمريكية وكانت السبب في دخول الولايات المتحدة الحرب العالمية الأولى اسمها ألمانيا .

ص ١٠٠



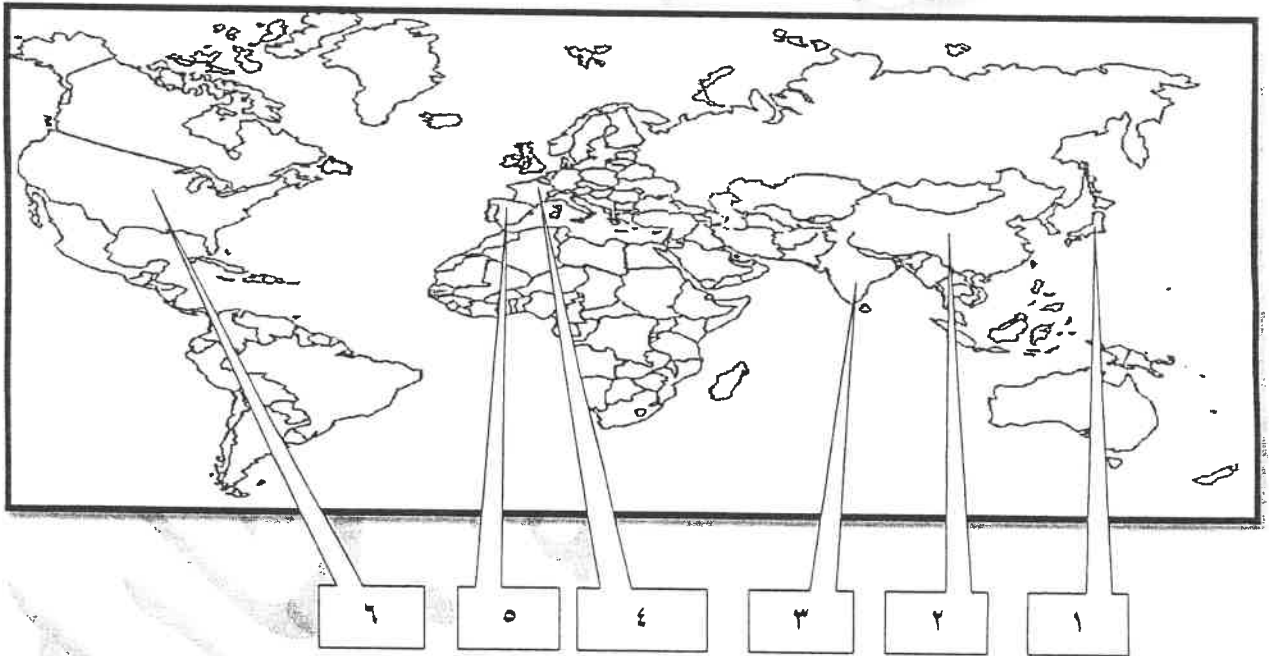
وزارة التربية  
التوجيه الفني العام للاجتماعيات

تابع السؤال الأول ( إجبارى ) :


ج) اختر للمجموعة ( أ ) ما يرتبط بها من المجموعة ( ب ) بوضع الرقم المناسب :- ( ٤ درجات كل نقطة درجة )

م	المجموعة ( أ )	الرقم المناسب	المجموعة ( ب )
١	العام الذي اجتاح فيه هتلر بولندا . ص ١١٣	٢	١٩١٦ م
٢	العام الذي حدثت فيه معركة فردان . ص ١٠١	٤	١٩١٩ م
٣	العام الذي أصدر فيه إعلان استقلال المستعمرات في أمريكا عن إنجلترا . ص ٨١	١	١٩٣٩ م
٤	العام الذي أنشأت فيه عصبة الأمم . ص ١٠٤	٣	١٧٧٦ م
		-	١٧٧٧ م

د) أمامك خريطة العالم الصماء - اكتب الرقم الدال على العبارات التالية : ( ٤ درجات كل نقطة درجة )



- الدولة التي يقع فيها المقر الرسمي للأمم المتحدة يمثلها على الخريطة الرقم ( ٦ ) . ص ١١٦
- الدولة الآسيوية التي تعد أحد الأعضاء الدائمين في مجلس الأمن يمثلها على الخريطة الرقم ( ٢ ) . ص ١١١
- الدولة التي يجري على أرضها نهر " المارن " الشهير يمثلها على الخريطة الرقم ( ٤ ) . ص ١٠١
- الدولة التي ظهر فيها نظام ديكتاتوري بقيادة " فرانكو " يمثلها على الخريطة الرقم ( ٥ ) . ص ١٠١ - ١٠٨



السؤال الثاني ( اختياري ) يتكون من ( أ ، ب ، ج ) :

أ ) اكتب النتائج المترتبة على الأحداث التالية :

( ٦ درجات )

( يكتفى بنقطتين )

- ١- الثورة الأمريكية . ص ٨٣  
- انتشرت عدواها إلى سكان أمريكا الجنوبية ( اللاتينية ) .  
- تشجيع سكان المستعمرات البريطانية في آسيا وأفريقيا على القيام بثورات ضدها ليتخلصوا من استعمارها .  
- أصبحت الولايات المتحدة ملاذاً لدعاة الفكر من الأوروبيين ورمزاً للحرية والتجديد .  
- السبب المباشر في قيام الثورة الفرنسية .  
- كانت سبباً في حدوث الأزمة المالية في عهد الملك الفرنسي "لويس السادس عشر" .

( يكتفى بنقطتين )

- ٢- سقوط حصن الباستيل . ص ٨٨  
- عمت الفوضى في كل فرنسا .  
- توقف الفلاحون عن دفع الضرائب .  
- هاجم الفلاحون قصور النبلاء وأحرقوها وقتلوا من فيها وأحرقوا الوثائق التي تعطيهم حقوقاً إقطاعية .  
- هجرة النبلاء إلى خارج فرنسا هرباً بحياتهم .  
- أصبح المهاجرون أكبر خطر على الثورة الفرنسية .

( يكتفى بنقطتين )

- ٣- الحرب العالمية الثانية من الناحية الاقتصادية . ص ١١٤  
- كانت نفقات الحرب يهاضه أدت إلى تحمل كثير من الدول ديوناً كبيرة .  
- الدمار الذي حل بالمساكن والمصانع والطرق والمؤسسات .  
- تحولت دول أوروبا إلى دول مستوردة بعد أن كانت دولاً مصدرة .

( ٤ درجات كل نقطة درجة )

ب ) عرف المفاهيم أو المصطلحات التالية :

- ١- العلاقات الدولية : الاتصالات بين الدول وبين المنظمات الدولية في جميع المجالات . ص ٩٧
- ٢- البلقان : اصطلاح سياسي يطلق على مجموعة دول أوروبا الشرقية ( يوغسلافيا السابقة - اليونان - بلغاريا - ألبانيا ) . ص ١٠٠
- ٣- النازية : كلمة ألمانية مختصرة لعبارة الاشتراكية الوطنية وهي التسمية التي أطلقها أدولف هتلر على الحزب النازي . ص ١٠٧
- ٤- فترة عصر الإرهاب : الفترة الزمنية التي قتل فيها الكثير من الفرنسيين دون محاكمة عادلة وكانت تأخذ الناس بالشبهات ووجهت لهم تهمة الخيانة العظمى واستمرت حتى مارس ١٧٩٤م . ص ٩١

ج ) من خلال دراستك لموضوع ( هيئة الأمم المتحدة ) كون فقرة مناسبة باستخدام الكلمات التالية :

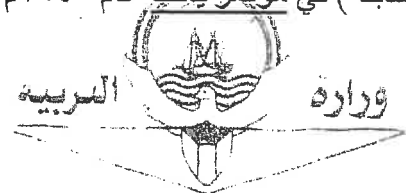
( السلام العالمي - مؤتمر يالطا - الأمم المتحدة ) ( ٣ درجات )

دعا الحلفاء في نهاية الحرب العالمية الثانية إلى وقف الحروب ، واقترح الرئيس الأمريكي روزفلت

إنشاء منظمة عالمية لتحقيق السلام العالمي ، فاجتمع زعماء دول الحلفاء ( الولايات المتحدة - بريطانيا - الاتحاد السوفيتي سابقا ) في مؤتمر يالطا عام ١٩٤٥م الدول المحبة للسلام لحضور مؤتمر سان فرانسيسكو لإبرام ميثاق الأمم المتحدة



( وما يراه المصحح مناسباً )



السؤال الثالث ( اختياري ) يتكون من ( أ ، ب ، ج ) :

( ٤ درجات كل نقطة درجة )

( أ ) قارن بين كل من :

وجه المقارنة	معركة ساراتوجا ص ٨٢	معركة فالمي ص ٩٠
الموقع	أمريكا	فرنسا
النتائج	- خسر الإنجليز جيشا كاملا من ٦ آلاف جندي واستسلم . - سيطر الأمريكيون على حوض هدسون . - اعتراف فرنسا باستقلال الثوار الأمريكيين ودخول الحرب إلى جانبهم. - زاد تعاطف الشعوب الأوروبية مع الثورة الأمريكية . ( يكتفى بنقطة )	- أنقذت أفكار الثورة الفرنسية من الضياع . - حالت دون سقوط باريس . - رفعت الروح المعنوية للفرنسيين . - تحول جيش الثورة بعدها من الدفاع إلى الهجوم وأصبح مصدر رعب للدول الأوروبية . ( يكتفى بنقطة )

( ٥ درجات كل نقطة درجة )

( ب ) دلل على صحة العبارات التالية :

١- مهد التوتر الدولي بعد الحرب العالمية الأولى لقيام الحرب العالمية الثانية . ص ١٠٩ + ١٠٤  
تمكن كل من النظام الفاشي في إيطاليا والنازي في ألمانيا من بناء جيوش قوية واستغل ضعف الأنظمة الديمقراطية لتحقيق أهدافه التوسعية ومنها:

- احتلال موسوليني أثيوبيا عام ١٩٣٦ م.

- احتلال هتلر منطقة الراين ١٩٣٦ م.

- مساندة هتلر وموسوليني نظام فرانكو في أسبانيا ١٩٣٨/١٩٣٩ م.

- ضمت ألمانيا إليها كل من النمسا وطالبت بضم منطقة السوديت في تشيكوسلوفاكيا.

- اعترضت بريطانيا وفرنسا على هذه الخطوة وعقد مؤتمر ميونخ ١٩٣٨ م.

( يكتفى بنقطتين )

- هاجمت اليابان منشوريا في الصين.

( يكتفى بثلاث نقاط )

٢- اختلفت الحرب العالمية الثانية عن جميع الحروب التي سبقتها . ص ١١٣ + ص ١١٤

- حرب عالمية شاملة شملت معظم دول العالم بالاشتراك المباشر أو بالتحالف مع الدول .

- تسخير الطاقات البشرية حيث سخرت دول المحور أسرى الحروب للعمل في المصانع والحقول ودفع الحلفاء

بالإناءات للعمل في هذا المجال بدل الرجال وفتحت الولايات المتحدة باب الهجرة للعمل .

- مواجهة بين أيديولوجيات وصراع بين نظريات دكتاتورية عنصرية تبنتها دول المحور بينما تبني الحلفاء


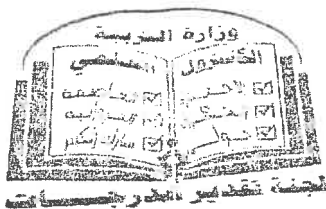
الديمقراطية التي تنادي بالمساواة وحقوق الإنسان .

- تنافس صناعي سخرت جميع الدول المشتركة في الحرب مقدراتها ومقدرات الشعوب التي احتلتها بهدف تطوير

الإنتاج الصناعي الحربي وتطوير الاقتصاد .

- سباق تسلح تكنولوجي لتطوير أساليب القتال والأسلحة فاستخدمت التكنولوجيا في الأرض والجو والبحر فكان

الدمار أكبر وشمل جميع المجالات .




لتوجيه الصبي العام للأجماحيار

( ٤ درجات كل نقطة درجة )

ج) اقرأ الفقرة التالية ثم أجب عما يليها من أسئلة :

" هناك شبه إجماع بين المؤرخين على ضعف شخصية ملك فرنسا "لويس السادس عشر" (١٧٧٣/١٧٩١م) والذي لعبت زوجته "ماري أنطوانيت" دوراً كبيراً في إضعاف مكانته الشعبية وتوجيه سياسة البلاد على عكس "نابليون بونابرت" الذي أصبح رجل فرنسا الأول وأعطاهها مجداً بشكل لم تكن تتوقعه ووضع مشروعاً لتنظيم التعليم في كل أنحاء فرنسا والعمل على مجانية التعليم للفقراء خاصة التعليم الثانوي "

- ١- ما الدور الذي لعبته "ماري أنطوانيت" في إضعاف مكانة "لويس السادس عشر" الشعبية ؟ ص ٨٤ (يكتفى بنقطتين)
  - اشتراكها في المؤامرات التي تعين وتعزل الوزراء .
  - عدم إحساسها بما يعانيه الشعب الفرنسي من آثار المجاعة مما خلق شعوراً عاماً بالاستياء لدى الشعب .
  - يرى الشعب الفرنسي فيها عدوة لأنها نمساوية الأصل .
- ٢- استخرج من الفقرة السابقة الإصلاحات التي قام بها "نابليون" في مجال التعليم . ص ٩٣
  - وضع مشروعاً لتنظيم التعليم في كل أنحاء فرنسا .
  - العمل على مجانية التعليم للفقراء خاصة التعليم الثانوي .



مؤرخية الفني العام للأجتماعيات

**السؤال الرابع ( اختياري ) يتكون من ( أ ، ب ، ج ) :**

( ٥ درجات كل نقطة درجة )

**أ ) اكتب الدور الذي لعبته الشخصيات التالية :**

( يكتفى بنقطتين )

١- " روزفلت " في إصلاح الاقتصاد الأمريكي بين الحربين العالميتين . ص ١٠٥

- تبنى سياسة اقتصادية جديدة فوضع خططا عرفت بالنظام الجديد . تقوم على الدخول في مشاريع كبرى بهدف تشغيل أكبر عدد ممكن من العمال لحل مشكلة البطالة .

- التوسع في المشاريع الإنمائية وبهذا خرج على السياسة الاقتصادية التي كانت تسير عليها بلاده من ( الاقتصاد الرأسمالي الحر ) إلى ( اقتصاد رأسمالي موجه ) .

- أعاد الثقة في قطاع البنوك والمؤسسات الكبرى حتى أخذت العجلة الاقتصادية في العمل من جديد ولكن الكساد الاقتصادي استمر حتى قيام الحرب العالمية الثانية .

٢- الجنرال الروسي ( زوكوف ) في الحرب العالمية الثانية. ص ١١٢

- تقدم بالقوات الروسية بعد معركة ستالينجراد حتى احتل برلين .

٣- " موسوليني " في إيطاليا. ص ١٠٨ ( يكتفى بنقطتين )

- وصل إلى الحكم عام ١٩٢٢م . - الزحف إلى روما واستولى على السلطة .



( درجتان كل نقطة درجة )

**ب ) فرق بين كل مما يلي :**

حزب اليقافية ص ٩١	حزب الجيزوند ص ٩١
<p>- حزب من المتطرفين المعروفين بعدانهم الشديد للملكية ، ويمتازون بأنهم أقلية شديدة التنظيم ذات اتصال قوي بالشعب وبجمهور باريس الذي كانت له اليد الطولى لإثارة الشارع في فرنسا .</p>	<p>- حزب من المعتدلين في فرنسا .</p>

( 6 درجات كل نقطة درجة )

**ج ) عدد كل مما يلي الموضوعية الصني العام للأجتماعيات**

( يكتفى بثلاث نقاط )

١- أهم ملامح عالما المعاصر . ص ١١٥

- مخاوف من حرب نووية واتفاقيات "سالت" لوقف التسليح واستخدام الأسلحة الفتاكة .

- هيئة الأمم المتحدة لحفظ السلام والأمن والتعاون بين دول العالم .

- ظهور الولايات المتحدة زعيمة الكتلة الغربية الرأسمالية ثم القوة الأعظم بعد تفكك الاتحاد السوفيتي .

- تقدم أوروبا في كافة المجالات وتفعيل مشروع مارشال ثم المجموعة الأوروبية ثم الاتحاد الأوروبي .

- تقدم علمي وانفجار معرفي .

- ظهور دول نامية ومتخلفة اقتصادياً واجتماعياً - زيادة سكانية هائلة .

( يكتفى بثلاث نقاط )

٢- النتائج السياسية للحرب العالمية الثانية . ص ١١٤

- تغيرت خريطة أوروبا السياسية وجرى تعديل على كثير من الحدود .

- تراجعت مكانة دول أوروبا ( بريطانيا وفرنسا ) إلى الدرجة الثانية وتقلص نفوذها الاستعماري .

- انتهت الديكتاتوريات في إيطاليا وألمانيا واليابان .

- قامت أنظمة شيوعية في دول أوروبا الشرقية وظلت قائمة بمساندة الاتحاد السوفيتي وسقطت مع سقوطه .

- انقسام ألمانيا بعد احتلالها إلى قسمين غربي يتبع النظام الرأسمالي وشرقي يتبع النظام الشيوعي ، وقسمت برلين إلى قسمين يفصلهما جدار عازل .


- لم تصب إيطاليا بخسائر مباشرة في أراضيها وإنما فقدت كل مستعمراتها .

- فقدت اليابان كل ممتلكاتها التي حصلت عليها منذ القرن التاسع ودمرت أراضيها .

- برز قطبان جديدان في العالم هما الولايات المتحدة والاتحاد السوفيتي ( سابقاً ) باعتبارهما أقوى دولتين في العالم .

السؤال الخامس ( اختياري ) يتكون من ( أ - ب - ج ) :  
 ( أ ) لاحظ الصورة التي أمامك ثم أجب عن الأسئلة التالية :

( ٤ درجات كل نقطة درجة )



- ١- اكتب الحدث التاريخي الذي تدل عليه الصورة المقابلة ؟  
ص ٧٩  
- حفلة شاي بوسطن .
- ٢- في أي عام وقع هذا الحدث ؟ ص ٧٩  
- ١٧٧٣ م .
- ٣- عدد النتائج التي ترتبت على هذا الحدث . ص ٧٩  
- اغلاق ميناء بوسطن حتى يتم دفع ثمن الشاي .  
- تعيين الجنرال جيديج حاكما عسكريا على بوسطن .  
- منع الاجتماعات الإباذن من السلطات العسكرية الإنجليزية .  
وقد عرفت تلك القوانين باسم القوانين الجائرة . ( يكتفى بنقطتين )

( درجتين كل نقطة درجة )

( ب ) ما أوجه الاختلاف بين كل من : ص ٧٥

مجلس العموم	مجلس اللوردات
- يضم نواب الطبقتين الوسطى الزراعية والوسطى في المدن البرجوازية . - ينتخبهم الشعب . - يمثل الديمقراطية في أجل صورها . ( يكتفى بنقطة )	- يضم نواب الطبقتين الأرستقراطية الإقطاعية ورجال الدين . - يعينهم الملك الإنجليزي . - يمثل الارستقراطية الإنجليزية . ( يكتفى بنقطة )

( ٧ درجات كل نقطة درجة )

( يكتفى بنقطتين )



( ج ) علل لما يلي :

- ١- قيام الثورة الشيوعية في روسيا عام ١٩١٧ م . ص ١٠٦  
- فساد الحكم القيصري في روسيا واستبداده .  
- شخصية " لينين " وقدرته على إقناع الجماهير من خلال بعض شعاراته ( السلام للجيش - الأرض للفلاحين - الغذاء للجميع - الحكم للسوفيت ) وتنظيم الحزب الشيوعي .  
- الهزائم الكبرى التي حلت بالجيش الروسي منذ عام ١٩٠٥ م على يد اليابان ثم الحرب العالمية الأولى وسقوط ملايين من الجرحى والقتلى .  
- سوء الحالة الاقتصادية التي تأثر بها العمال والفلاحون وانتشار البطالة والمجاعات والأمراض .
- ٢- وقفت عصبة الأمم عاجزة أمام القضايا المهمة . ص ١٠٤  
- عدم التزام الدول الكبرى بميثاق عصبة الأمم .  
- لم يكن لها قوة عسكرية قادرة على تنفيذ قراراتها .  
- أصبحت أداة لمصلحة الدول الكبرى في ذلك الوقت فانهارت هذه المنظمة نتيجة لسياسة الدول المنتصرة في الحرب .  
- لم تشارك الولايات المتحدة في عضويتها على الرغم من أنها صاحبة الفكرة .



وزارة

٣- كانت القارة الأوروبية محور العلاقات الدولية في بداية القرن العشرين . ص ٩٧

- مركز الثورة الصناعية .
- نشوء الإمبراطوريات الكبرى .
- وفرة الموارد والإمكانات الاقتصادية .
- النفوذ الاستعماري في جميع القارات .

لتوجيه الصبي العام للأجتماعات



وزارة التربية

التوجيه الفني العام للاجتماعيات

امتحان نهاية الفترة الدراسية الثانية  
لمادة تاريخ العالم الحديث والمعاصر  
للمصف الثاني عشر الأدبي

العام الدراسي: ٢٠١٧-٢٠١٨ م  
الزمن : ساعتان وربع  
عدد الأوراق: (٦) أوراق

أجب عن أربعة أسئلة مما يلي على أن يكون السؤال الأول من بينهما إجبارياً :-

السؤال الأول : ( إجباري ) يتكون من ( أ ، ب ، ج ، د ) :-

( أ ) ضع خطأ تحت الخيار الصحيح من بين الخيارات التي تلي كل عبارة :-

١- زعيم أمريكي قدم اقتراح يدعو فيه المستعمرات لإعلان الاستقلال عن إنجلترا :

أ- جيمس ب- لي ج- فرانك د- وليم

٢- معركة انتصر فيها الجيش الفرنسي على القوات المشتركة عام ١٧٩٢ م :

أ- فالمي ب- السنين السبع ج- فردان د- المارن

٣- زعيم للنظام العالمي الاشتراكي الذي نجح في تحقيق النهضة الشاملة :

أ- أتاتورك ب- ستالين ج- فرانكو د- هتلر

٤- العام الذي احتل فيه الحلفاء إيطاليا :

أ- ١٩٤٢ م ب- ١٩٤٣ م ج- ١٩٤٤ م د- ١٩٤٥ م

٥- نظام أقامه موسوليني في إيطاليا بعد وصوله للحكم عام ١٩٢٢ م :

أ- النازي ب- الشيوعي ج- الرأسمالي د- الفاشي

(ب) أكمل العبارات التالية بما يناسبها فيما درست :-

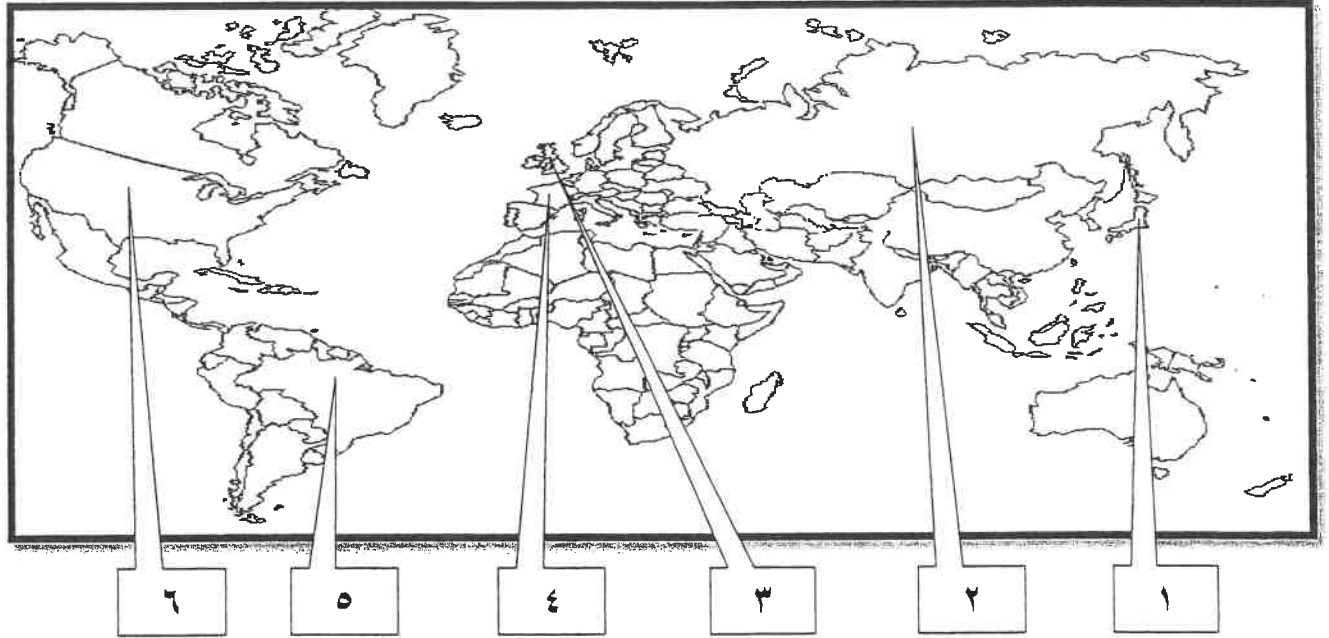
- ١- نظرية جون لوك المعروفة التي أثرت في تطور النظريات السياسية تسمى.....
- ٢- الكتاب الذي ألفه روسو وطالب فيه أن يكون الحكم للشعب يسمى.....
- ٣- صاحب شعار ( السلام للجيش - الأرض للفلاحين - الغذاء للجميع ) اسمه.....
- ٤- حلف وقعه هتلر مع موسوليني في أغسطس عام ١٩٣٩ م يسمى.....
- ٥- العام الذي افتتحت فيه هيئة الأمم المتحدة رسمياً..... م .

تابع السؤال الأول ( إجباري ) :-

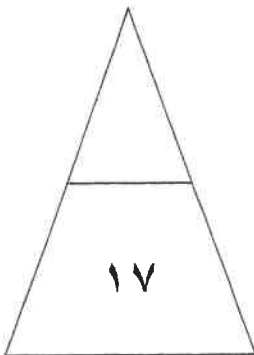
(ج) اختر للمجموعة ( أ ) ما يرتبط بها من المجموعة ( ب ) بوضع الرقم المناسب :-

م	المجموعة ( أ )	الرقم المناسب	المجموعة ( ب )
١	تنازل فرنسا لإنجلترا عن جميع مستعمراتها .		معاهدة كامبو فروميو
٢	اعتراف بريطانيا باستقلال الولايات المتحدة الأمريكية .		السنة الانقلابية
٣	انتصارات نابليون على الجيش النمساوي في إيطاليا .		حرب السنين السبع
٤	التقارب البريطاني الفرنسي لشعورهم بخطر تقدم ألمانيا صناعيا .		اجتياح بولندا
٥	رفض إعادة ممر دانزيغ .		صلح باريس ١٧٨٣ م
			الاتفاق الودي

(د) أمامك خريطة العالم الصماء - اكتب الرقم الدال على العبارات التي تليها :-



- الدولة التي قامت فيها الثورة المجيدة يمثلها على الخريطة الرقم ( ) .
- يقع حصن الباستيل في دولة يمثلها على الخريطة الرقم ( ) .
- دولة هاجمت ميناء بيرل هاربر ودمرت الأسطول الأمريكي يمثلها على الخريطة الرقم ( ) .
- الدولة التي يقع فيها المقر الرسمي للأمم المتحدة يمثلها على الخريطة الرقم ( ) .



السؤال الثاني ( اختياري ) ويتكون من ( أ ، ب ، ج ) :-

( أ ) علل لما يلي :-

١- ظهور الخلافات بين الملك جيمس الثاني والبرلمان الإنجليزي .

..... \*

..... \*

..... \*

٢- دخول الولايات المتحدة الحرب عام ١٩١٧م ضد ألمانيا .

..... \*

٣- تقارب فرنسا وبريطانيا في الاتفاق الودي عام ١٩٠٤م .

..... \*

(ب) قارن بين كل من حسب الجدول التالي :-

أوجه المقارنة	الحاكم في المستعمرات الانجليزية	المجلس النيابي في المستعمرات الانجليزية
المهام	..... *	..... *
أوجه المقارنة	الشيوعية	النازية
المبادئ	..... *	..... *

(ج) عرف المفاهيم التالية :-

١- حزب اليعاقبة :

.....

٢- الاتفاقات الدولية :

.....

السؤال الثالث ( اختياري ) ويتكون من ( أ ، ب ، ج ) :-

أ) اقرأ الفقرة التالية ثم أجب عما يليها من أسئلة :-

" ارتفعت الصيحات من جميع أنحاء البلاد ضد القوانين الجديدة بقيادة الزعيم الأمريكي ( صاموئيل أدامز ) وتركزت صيحات الغضب في مدينة بوسطن ، فلجأ الأمريكيون لسلاح المقاطع التجارية مما كبد إنجلترا خسائر فادحة فأصدرت الحكومة الإنجليزية قراراً بإلغاء جميع الضرائب الجديدة ( سيئة السمعة ) ما عدا ضريبة الشاي "

١- استخرج من الفقرة النتيجة المترتبة على مقاطعة الأمريكيان البضائع الإنجليزية .

\*

٢- استنتج سبب إلغاء الحكومة الإنجليزية للقوانين سيئة السمعة ما عدا ضريبة الشاي .

\*

٣- عدد القرارات التي اتخذها البرلمان الإنجليزي لمعاقبة ميناء بوسطن .

\*

\*

ب) عدد كل مما يلي :-

١- أجهزة الأمم المتحدة.

\*

\*

٢- بنود مؤتمر صلح فرساي عام ١٩١٩ م.

\*

\*

ج) فند كل مما يلي :-

١- لم تلعب الجمعية الوطنية دوراً في الإصلاحات الفرنسية .

\*

\*

\*

٢- لم يؤثر انهيار سوق الأوراق المالية عام ١٩٢٩ م على التجارة الخارجية والإنتاج العالمي .

\*

\*

السؤال الرابع ( اختياري ) يتكون من ( أ ، ب ، ج ) :-

أ) فسر ما يلي :-

١- لقبث الثورة الفرنسية بالنموذج الشامل للثورة .

..... \*

..... \*

٢- عجز عصبة الأمم من حل بعض المشكلات المهمة .

..... \*

٣- انسحاب روسيا من الحرب العالمية الأولى عام ١٩١٧ م .

..... \*

ب) فرق بين كل مما يلي :-

الفاو	اليونسكو
..... *	..... *
..... *	..... *
النتائج العلمية للحرب العالمية الثانية	النتائج البشرية للحرب العالمية الثانية
..... *	..... *
..... *	..... *

ج) أذكر لكل من :-

١- قرارات اجتماع الكونجرس الأول سنة ١٧٧٤ م .

..... \*

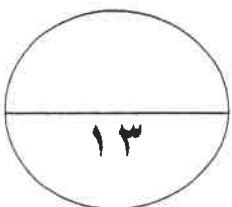
..... \*

..... \*

٢- أوجه الشبه بين معركتي ستالينجراد والعلمين .

..... \*

..... \*



السؤال الخامس ( اختياري ) يتكون من ( أ ، ب ، ج ) :-

أ) دال على صحة العبارات التالية :-

١- يعتبر العامل الاقتصادي أحد عوامل قيام الثورة الفرنسية .

.....\*

.....\*

٢- اختلفت الحرب العالمية الثانية عن غيرها من الحروب .

.....\*

.....\*

.....\*

ب) نفذ المطلوب منك بين القوسين :-

١- نابليون بونابرت . ( إصلاح التعليم )

.....\*

.....\*

٢- ملامح عالمنا المعاصر . ( أذكرها )

.....\*

.....\*

ج) عدد النتائج المترتبة على الأحداث التالية :-

١- الحرب العالمية الأولى .

.....\*

.....\*

٢- معركة فالمي .

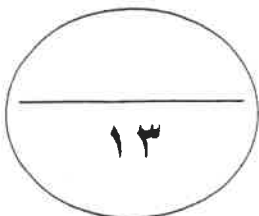
.....\*

.....\*

انتهت الأسئلة مع تمنياتنا

لكم بالتوفيق "

( ٦ )





العام الدراسي: ٢٠١٧-٢٠١٨ م  
الزمن : ساعتان وربع  
عدد الأوراق: (٦) أوراق

امتحان نهاية الفترة الدراسية الثانية  
لمادة تاريخ العالم الحديث والمعاصر  
للصف الثاني عشر الأدبي

وزارة التربية  
التوجيه الفني العام للاجتماعيات

أجب عن أربعة أسئلة مما يلي على أن يكون السؤال الأول من بينهما إجبارياً :

السؤال الأول: ( إجباري ) يتكون من ( أ ، ب ، ج ، د ) :-

( أ ) ضع خطأ تحت الخيار الصحيح من بين الخيارات التي تلي كل عبارة :- (٥ درجات كل نقطة درجة)

١- زعيم أمريكي قدم اقتراح يدعو فيه المستعمرات لإعلان الاستقلال عن إنجلترا : ص ٨١

أ- جيمس ب- لي ج- فرانك د- وليم

٢- معركة انتصر فيها الجيش الفرنسي على القوات المسلحة عام ١٧٩٢م : ص ٩٠

أ- فالمي ب- السيلون ج- فردان د- المارن

٣- زعيم للنظام العالمي الاشتراكي الذي حقق انتصاره في نهاية المطاف : ص ١٠٦

أ- أتاتورك ب- ستالين ج- فرانكو د- هتلر

٤- العام الذي احتل فيه الحلفاء إيطاليا : ص ١١٢

أ- ١٩٤٢م ب- ١٩٤٣م ج- ١٩٤٤م د- ١٩٤٥م

٥- نظام إقامة موسوليني في إيطاليا بعد وصوله للحكم عام ١٩٢٢م : ص ١٠٨

أ- النازي ب- الشيوعي ج- الرأسمالي د- الفاشي

( ب ) أكمل العبارات التالية بما يناسبها فيما درست :- (٥ درجات كل نقطة درجة)

١- نظرية جون لوك المعروفة التي أثرت في تطور النظريات السياسية تسمى السيادة الشعبية : ص ٧٦

٢- الكتاب الذي ألفه روسو وطالب فيه أن يكون الحكم للشعب يسمى العقد الاجتماعي . ص ٨٥

٣- صاحب شعار ( السلام للجيش - الأرض للفلاحين - الغذاء للجميع ) اسمه لينين . ص ١٠٦

٤- حلف وقعه هتلر مع موسوليني في أغسطس عام ١٩٣٩م يسمى الحلف الفولاذي . ص ١٠٩

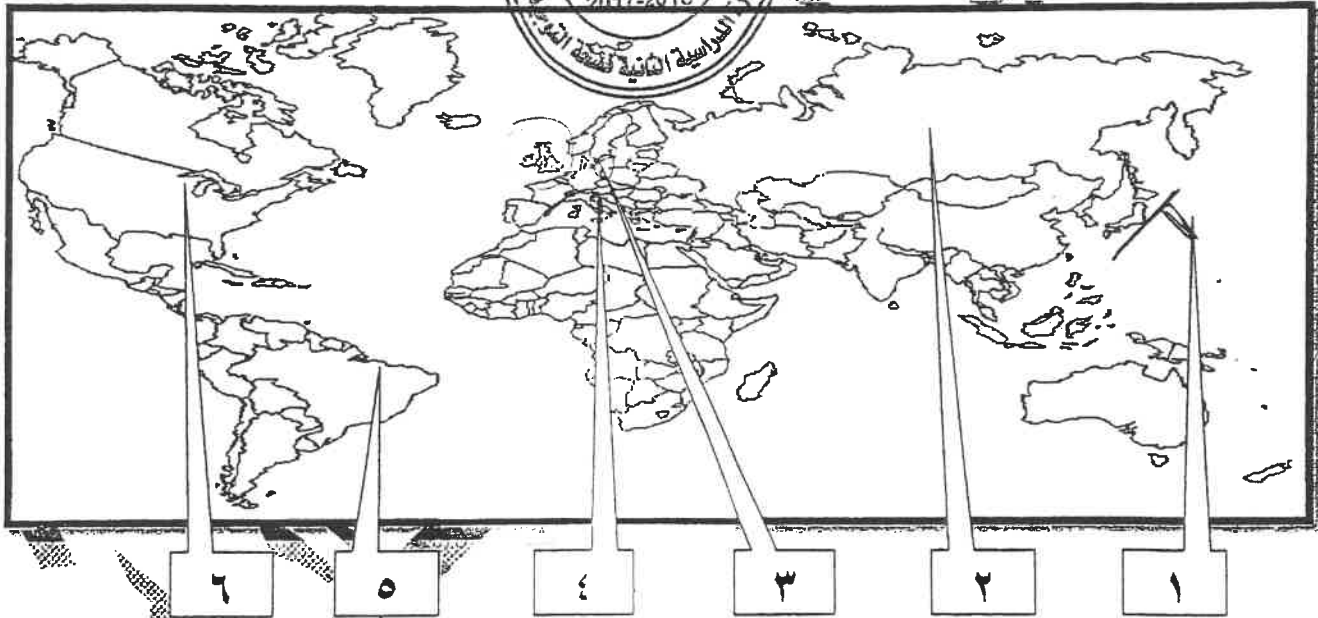
٥- العام الذي افتتحت فيه هيئة الأمم المتحدة رسمياً ١٩٤٥م . ص ١١٦

تابع السؤال الأول ( إجباري ) :-

(ج) اختر للمجموعة ( أ ) ما يرتبط بها من المجموعة ( ب ) بوضع الرقم المناسب :- ( ٥ درجات كل نقطة درجة

م	المجموعة ( أ )	الرقم المناسب	المجموعة ( ب )
١	تنازل فرنسا لإنجلترا عن جميع مستعمراتها . ص ٧٧	٣	معاهدة كامبو فروميو
٢	اعتراف بريطانيا باستقلال الولايات المتحدة الأمريكية . ص ٨٢	-	السنة الانقلابية
٣	انتصارات نابليون على الجيش النمساوي في إيطاليا . ص ٩٢	١	حرب السنين السبع
٤	التقارب البريطاني الفرنسي لشعورهم بخطر تقدم ألمانيا صناعيا . ص ٩٨	٥	اجتياح بولندا
٥	رفض إعادة ممر دانزيغ . ص ١١٠	٢	صلح باريس ١٧٨٣ م
		٤	الاتفاق الودي

(د) أمامك خريطة العالم الضميمة اكتب الرقم الذي يليها :- درجتان (كل نقطة نصف درجة)



- ١- الدولة التي قامت فيها الثورة المجيدة يمثلها على الخريطة رقم ( ٣ )
- ٢- يقع حصن الباستيل في دولة يمثلها على الخريطة رقم ( ٤ )
- ٣- دولة هاجمت ميناء بيرل هاربر ودمرت الأسطول الأمريكي يمثلها على الخريطة رقم ( ١ )
- ٤- الدولة التي يقع فيها المقر الرسمي للأمم المتحدة يمثلها على الخريطة رقم ( ٦ )

السؤال الثاني (اختباري) ويتكون من ( أ ، ب ، ج ) :-

(أ) علل لما يلي:-

١- ظهور الخلافات بين الملك جيمس الثاني والبرلمان الإنجليزي. صفحة ٧٣ ثلاثة درجات

\* الكاثوليكية

\* الحكم المطلق.

\* التعاون مع لويس الرابع عشر ملك فرنسا.

٢- دخول الولايات المتحدة الحرب عام ١٩١٧م ضد ألمانيا. ص ١٠٠ (يكتفى بواحدة)

\* بسبب مهاجمة الغواصات الألمانية السفن التجارية الأمريكية .

٣- تقارب فرنسا وبريطانيا في الاتفاق الودي عام ١٩٠٤م. ص ٩٧ (يكتفى بواحدة)

\* لتخفيفها بالخطر من ألمانيا الصاعدة اقتصاديا واقتصاديا ونمو قوتها البحرية مما يهدد سيادتها .



(ب) قارن بين كل من :-

المجلس النيابي في المستعمرات الإنجليزية ص ٧٧	الحاكم في المستعمرات الإنجليزية ص ٧٧	أوجه المقارنة
* يقوم بسن القوانين والضرائب ومراقبة الموظفين في الولاية . (درجة)	* المشغول الأول عن رعاية شؤون الولاية والمحافظة على الأمن ويعين ويعزل عن خلال الملك الإنجليزي فقط . (درجة)	المهام
النازية ص ١٠٧	الشيوعية ص ١٠٦	أوجه المقارنة
* تفوق العنصر البشري الجرماني (الألماني) على جميع العناصر البشرية . * قيام النظام الكادري التي تضم كل الألمان . * امتلاك الدولة للشركات الاحتكارية . * إلغاء طبقة فرسان . * استعادة المستعمرات الألمانية . (يكتفى بنقطتين)	* سيطرة الدولة على جميع مصادر الثروة ووسائل الإنتاج . * إلغاء الملكية الخاصة وإشراف الدولة على التخطيط الاقتصادي . * تحقيق العدالة الاجتماعية بين أفراد الشعب . * محو الفوارق بين القوميات في روسيا . (يكتفى بنقطتين)	المبادئ

(ج) عرف المفاهيم التالية :- (درجتان كل نقطة درجة)

١- حزب اليعاقبة : ص ٩١ (درجة)

\* حزب من المتطرفين المعروفين بعدائهم الشديد للملكية في فرنسا.

٢- الاتفاقات الدولية : ٩٧ (درجة)

\* تشريعات يتفق عليها دوليا وهي مقننة تلتزم الدول المشتركة بها .

**السؤال الثالث ( اختياري ) يتكون من ( أ ، ب ، ج ) :-**

( أ ) **اقرأ الفقرة التالية ثم أجب عما يليها من أسئلة :-** ص ٧٩ (٤ درجات كل نقطة درجة)

" ارتفعت الصيحات من جميع أنحاء البلاد ضد القوانين الجديدة بقيادة الزعيم الأمريكي (صاموئيل أدامز) وتركزت تصيحات الغضب في مدينة بوسطن ، فلجأ الأمريكيون لسلاح المقاطع التجارية مما كبد إنجلترا خسائر فادحة فأصدرت الحكومة الإنجليزية قراراً بإلغاء جميع الضرائب الجديدة (سيئة السمعة) ما عدا ضريبة الشاي "

- (درجة)
- ١- استخرج من الفقرة النتيجة المترتبة على مقاطعة الأمريكيان البضائع الإنجليزية.  
\* أصاب إنجلترا خسائر اقتصادية فادحة حيث تراجعت صادرات إنجلترا للمستعمرات إلى النصف وتراجع البرلمان الإنجليزي عن تلك الضرائب التي أثارت الشعب الأمريكي .
  - ٢- استنتج سبب إلغاء الحكومة الإنجليزية للقوانين سيئة السمعة ما عدا ضريبة الشاي . (درجة)  
\* ليبقى حق البرلمان الإنجليزي في فرض الضرائب على المستعمرات قائماً .
  - ٣- عدل القرارات التي اتخذها البرلمان الإنجليزي لمعاقة ميناء بوسطن . (يكتفى بنقطتين)  
\* إغلاق ميناء بوسطن حتى يتم دفع ثمن الشاي . \* تعيين الجنرال جيدج حاكماً عسكرياً على بوسطن .  
\* منع الاجتماعات إلا بإذن من السلطات العسكرية الإنجليزية .

(ب) **عدد كل مما يلي :-** (٤ درجات كل نقطة درجة)

- ١- أجهزة الأمم المتحدة .  
\* الجمعية العامة (العمومية)  
\* محكمة العدل الدولية.  
\* الأمانة العامة.  
٢- بنود مؤتمر صلح فرساي عام ١٩١٩ (يكتفى بنقطتين) ص ١٠٣

\* تفكك إمبراطوريات عريقة مثل ( الألمانية / النمسا / الروسية / الدولة العثمانية ) وظهور دول قومية جديدة في أوروبا مثل ( بولندا / تشيكوسلوفاكيا / يوغسلافيا / المجر ) . \* أن تتحمل ألمانيا مسؤولية الحرب حيث فرضت عليها دفع تعويضات مالية كبيرة للحلفاء . \* تخفيض عدد الجيش الألماني ومنع ألمانيا من تصنيع أو اقتناء الأسلحة العسكرية .

\* اقتطاع أجزاء من ألمانيا وضمها لدول أخرى . \* وضع إقليم الساي تحت الإدارة الدولية .

(ج) **فند كل مما يلي :-** (٥ درجات كل نقطة درجة)

١- لم تلعب الجمعية الوطنية دوراً في الإصلاحات الفرنسية . ص ١١٨ (يكتفى بنقطة)

- \* إصدار وثيقة الحقوق الفرنسية ودستور ١٧٩١ م .  
\* قسمت فرنسا إلى محافظات جغرافية وليس على أساس طبقي .  
\* ألغت النظام القضائي القديم وأصبح منصب القاضي انتخابياً .  
\* وزعت الضرائب على أساس التساوي بين جميع الأفراد طبقاً لدخل الفرد .  
\* صدور قرار بمصادرة أملاك الكنيسة .

٢- لم يؤثر انهيار سوق الأوراق المالية عام ١٩٢٩ م على التجارة الخارجية والإنتاج العالمي . ص ١٠٥

\* أغلقت المصانع . \* وانتشرت البطالة . \* وانهارت البنوك والمؤسسات . (يكتفى بنقطتين)

السؤال الرابع ( اختياري ) يتكون من ( أ ، ب ، ج ) :-

- ( أ ) فسر كلاً مما يلي : (٤ درجات كل نقطة درجة) اصننه
- ١- لقبث الثورة الفرنسية بالنموذج الشمائلثورة (٨٣ يكتفى بنقطتين) \* أعطت مفاهيم جديدة للعالم .  
غيرت الثورة و شملت التمييز جميع مناحي الحياة  
\* وضعت في حيز التنفيذ مبادئ عامة كانت قبلها مجرد نظريات / الفرنسية لم يكن التمييز  
٢- عجز عصبة الأمم من حل بعض المشكلات المهمة . ص ١٠٤ (درجة) قاصراً على فرنسا وأوروبا  
\* بسبب عدم التزام الدول الكبرى بميثاق العصبة  
\* لم يكن للعصبة قوة عسكرية قادرة على تنفيذ قراراتها  
٣- انسحاب روسيا من الحرب العالمية الأولى عام ١٩١٧ م . ص ١٠١ (درجة)  
\* بسبب قيام الثورة الشيوعية .



(ب) فرق بين كل مما يلي : (٤ درجات كل نقطة درجة)

الفاو ص ١١٨	اليونسكو ص ١٨
* هي منظمة الأمم المتحدة للتربية والعلوم والثقافة تقوم بتعزيز التعاون الدولي في مجالات التربية والثقافة والعلوم والثقافة لتطويرها وتحقيق قدر أكبر من التفاهم بين الأمم . (درجة)	* هي منظمة الأمم المتحدة للتربية والعلوم والثقافة تقوم بتعزيز التعاون الدولي في مجالات التربية والثقافة والعلوم والثقافة لتطويرها وتحقيق قدر أكبر من التفاهم بين الأمم . (درجة)
النتائج العلمية للحرب العالمية الثانية ص ١١٤	النتائج البشرية للحرب العالمية الثانية ص ٤٤
* كانت احتياجات الحرب دافعا للتطور العلمي التقني في مجال الأسلحة والمواصلات بأنواعها والطب والطباعة ووسائل الاتصالات . (درجة)	* سقوط ٥٠ مليون قتيل وشرذ الملايين في أوروبا واليابان وعم الخراب والدمار معظم أنحاء العالم وبرزت مشكلة المشوهين والمعاقين وانتشار ممارسة العنف . (درجة) ليكتفى بنقطتين

(ج) أذكر لكل من : (٤ درجات كل نقطة درجة)

- ١- قرارات اجتماع الكونجرس الأول سنة ١٧٧٤ م . ص ٨٠ (يكتفى بثلاث نقاط)  
\* عدم الرضوخ للقوانين الجائرة التي أصدرتها إنجلترا ضد ميناء بوسطن  
\* وجهوا طلبا من الشعب الأمريكي للملك الإنجليزي بإلغاء تلك القوانين الجائرة .  
\* إعادة سلاح المقاطعة التجارية للبضائع الإنجليزية وتشكيل لجان في كل المدن لتنظيم عملية المقاطعة والإشراف عليها .
- ٢- أوجه الشبه بين معركتي ستالينجراد والعلمين . ص ١١١ (يكتفى بنقطتين)  
\* هزيمة ألمانيا في كلا المعركتين .  
\* وقعت المعركتين في عام ١٩٤٢ م . \* كلاهما في الحرب العالمية الثانية .

السؤال الخامس ( اختياري ) يتكون من ( أ ، ب ، ج ) :-

( أ ) دلل على صحة العبارات التالية :- ( ٥ درجات كل نقطة بدرجة )

١- يعتبر العامل الاقتصادي أحد عوامل قيام الثورة الفرنسية . ص ٨٦ ( يكتفى بنقطتين )

\* الخسائر الكبيرة التي ترتبت على الحروب الخاسرة التي خاضتها فرنسا خلال القرن الثامن عشر أدت إلى استنزاف كثير من أموال الخزانة الفرنسية ، وفقد الفرنسيون الكثير من المستعمرات التي كانت تدر دخلا كبيرا لاسيما تلك المستعمرات الفرنسية في أمريكا الشمالية والهند . \* اشتراك فرنسي في حرب الاستقلال الأمريكية نتجه عنه تحمل الخزانة الفرنسية أموال طائلة أجهزت على خزينة الدولة وأصبحت فرنسا على شفا الإفلاس .

\* سياسة الامتيازات والإعفاءات الضريبية حيث كانت الطبقة الممتازة التي تملك الثروة معفاة من جميع أنواع الضرائب وكذلك الكنيسة مما حررها من مصدر كبير من المال . \* حياة الترف والبذخ التي كان يعيشها البلاط الفرنسي في الوقت نفسه كان الشعب يئن تحت وطأة المجاعة والفقر والحرمان وارتفاع الأسعار والبطالة .

٢- اختلقت الحرب العالمية الثانية عن غيرها من الحروب . ص ١١٣+١١٤ ( يكتفى بثلاث نقاط )

\* حرب عالمية شاملة : شملت معظم دول العالم بالاشتراك أو بالتحالف مع الدول . \* تسخير الطاقات البشرية : حيث سخرت دول المحور أسرى الحروب للعمل في المصانع والحقول ودفع الحلفاء بالإناث للعمل في هذا المجال بدل الرجال وفتحت الولايات المتحدة باب الهجرة للمليان عام ١٩٤٥ . \* مواجهة بين أيديولوجيات وصراع بين نظريات دكتاتورية عنصرية تبنتها دول المحور بينما تبني الحلفاء التي تنادي بالمساواة وحقوق الإنسان . \* تنافس صناعي : سخرت جميع الدول المشتركة في الحرب مواردها لمقتدرات الحروب . \* تنافس صناعي : سخرت جميع الدول المشتركة في الحرب مواردها لمقتدرات الحروب . \* تنافس صناعي : سخرت جميع الدول المشتركة في الحرب مواردها لمقتدرات الحروب .

\* سباق تسلح تكنولوجي: تطور أساليب القتال باستخدام التكنولوجيا في الأرض والجو والبحر فكان الدمار أكبر وشمل جميع المجالات .

( ب ) نفذ المطلوب منك بين القوسين :- ( ٤ درجات كل نقطة بدرجة )

١- نابليون بونابرت . ( إصلاح التعليم ) ص ٩٣ ( يكتفى بنقطتين )

\* العمل على مجانية التعليم للفقراء وإخص التعليم الثانوي .

\* وضع مشروع لتنظيم التعليم . \* أتاح للطبقات الفقيرة إمكانية التعليم

٢- ملامح عالمنا المعاصر . ( أذكرها ) ص ١١٥ ( يكتفى بنقطتين )

\* اليابان قوة اقتصادية عظمى . \* الصين دولة كبرى مستقلة عن الكتلتين . \* ماونسي تونج دولة نامية ومتخلفة اقتصاديا واجتماعيا . \* زيادة سكانية هائلة . \* تقدم علمي وإفجار سكاني . \* فجوة علمية اقتصادية بين الدول المتقدمة والنامية . \* تقدم أوروبا في كافة المجالات . \* الولايات المتحدة زعيمة الكتلة الغربية للأسماوية ثم القوة العظمى . \* هيئة الأمم المتحدة لحفظ السلام والأمن والتعاون بين دول العالم .

( ج ) ما النتائج المترتبة على الأحداث التالية :- ( ٤ درجات كل نقطة بدرجة )

١- الحرب العالمية الأولى . ص ١٠٢ الاكتفاء بنقطتين

\* تركت الحرب دماراً هائلاً . \* تسببت في خسائر مادية وبشرية .

\* سقط ملايين الجرحى والقتلى . \* الركود الاقتصادي . \* تغيرت خريطة أوروبا السياسية .

٢- معركة فالمي . ص ٨٢ ( يكتفى بنقطتين ) ص ٩٠

\* أنقذت أفكار الثورة الفرنسية من الضياع . \* حالت دون وقوع باريس . \* أصبح مصدر رعب للدول الأوروبية .

\* رفعت الروح المعنوية للفرنسيين . \* تحول جيش الثورة بعدها من الدفاع إلى الهجوم .

\* أصبح مصدر رعب للدول الأوروبية .



وزارة التربية  
التوجيه الفني العام للاجتماعيات  
امتحان الدور الثاني ( الفترة الدراسية الثانية ) العام الدراسي: ٢٠١٧ - ٢٠١٨ م  
لمادة تاريخ العالم الحديث والمعاصر  
للصف الثاني عشر الأدبي  
الزمن : ساعتان وربع  
عدد الأوراق : (٦) أوراق

أجب عن أربعة أسئلة مما يأتي على أن يكون السؤال الاول من بينهما إجبارياً :

السؤال الاول ( إجباري ) يتكون من ( أ - ب - ج - د ) :

( أ ) - ضع خطا تحت الخيار الصحيح من بين الخيارات التي تلي كل عبارة :-

١- صاحب نظرية السيادة الشعبية:

أ- جون لوك                      ب- فولتير                      ج- روسو                      د- منتيسكيو

٢- زعيم النظام الفاشي في إيطاليا :

أ- هتلر                      ب- موسوليني                      ج- فرانكو                      د- ستالين

٣- تأسست المستعمرة الإنجليزية جيمس تون عام :

أ- ١٦٠٧ م                      ب- ١٦٠٨ م                      ج- ١٦٠٩ م                      د- ١٦١٠ م

٤- دولة انتهكت حياد البلجيك فأعلنت بريطانيا الحرب عليها :

أ- إيطاليا                      ب- ألمانيا                      ج- الدولة العثمانية                      د- النمسا

٥- عدد الدول التي تتمتع بحق الفيتو في مجلس الأمن :-

أ- ٥ دول                      ب- ١٠ دول                      ج- ١٥ دولة                      د- ٢٠ دولة

(ب)- أكمل العبارات التالية بما يناسبها فيما درست :-

١- المدينة التي بدأ فيها الصدام المسلح بين السكان الأمريكيون والقوات الانجليزية عام ١٧٧٥ م  
اسمها .....

٢- العام الذي انتصر فيه الفرنسيون في معركة فالمي .....

٣- فترة الانتقال من عهد الاضطرابات والثورات إلى عهد الحكم الديكتاتوري في فرنسا  
اسمها.....

٤- عرفت المرحلة الثانية من الحرب العالمية الأولى باسم .....

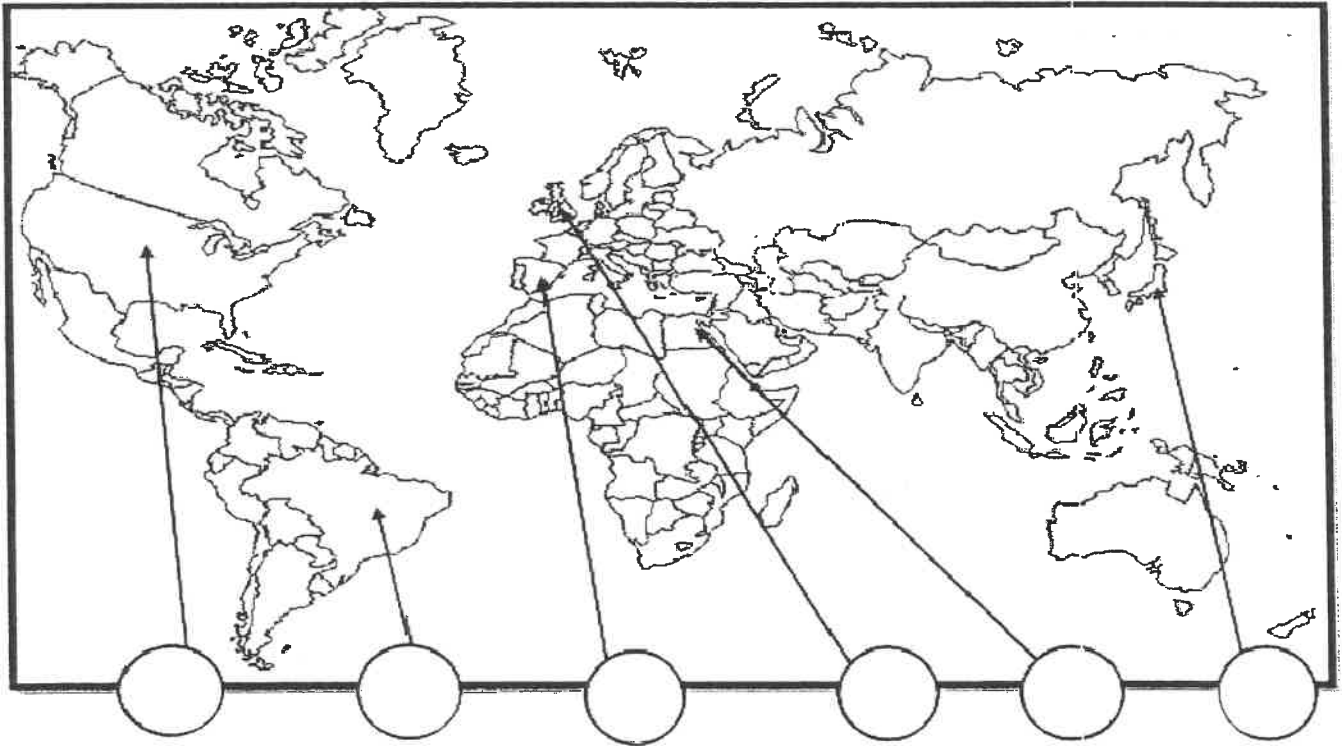
٥- زعيم النظام الديكتاتوري في تركيا اسمه .....

تابع السؤال الأول ( إجباريا ) :

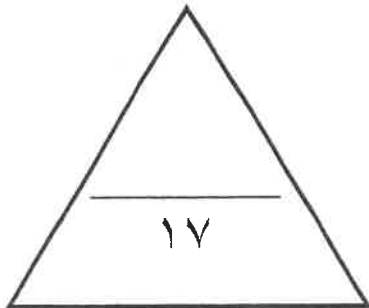
(ج)- اكتب المفاهيم أو المصطلحات الدالة على العبارات التالية:-

- ١- ( ..... ) كنيسة تعتنق المذهب البروتستانتي المعادي للمذهب الكاثوليكي.
- ٢- ( ..... ) قانون انجليزي فرض على المستندات التجارية وعقود البيع الأمريكية.
- ٣- ( ..... ) اتفاق تم بين كل من فرنسا وبريطانيا عام ١٩٠٤ م .
- ٤- ( ..... ) تشريعات يتفق عليها دوليا وهي مقننة تلتزم الدول المشتركة بها .
- ٥- ( ..... ) مجلس يضم نواب الطبقتين الوسطي الزراعية والوسطي في المدن البرجوازية وينتخبهم الشعب .

(د)- أمامك خريطة العالم اكتب الرقم الدال على العبارات التالية في الدائرة المناسبة لها :



- ١- دولة ظهر منها صاحب نظرية السيادة الشعبية .
- ٢- ثورة انتشرت أفكارها بين سكان أمريكا الجنوبية .
- ٣- معركة العلمين .
- ٤- النظام الديكتاتوري بزعامة فرانكو .



السؤال الثاني :- ( اختياري ) ويتكون من ( أ - ب - ج )

( أ ) - علل لكل مما يلي :-

١- لم تدم عصبة الأباطرة طويلاً .

.....

٢- تعتبر العوامل الاقتصادية من أسباب قيام الثورة الفرنسية .

.....

.....

(ب) - كون فقرة باستخدام الكلمات التالية :-

( قصر التويلري - فرنسا - مدينة فاران - هروب لويس السادس عشر )

.....

.....

.....

(ج) - اكتب مما درست فيما يلي :-

١- قرارات الكونجرس الأول ١٧٧٤م .

.....

.....

٢ - المرحلة الثالثة في الحرب العالمية الأولى .

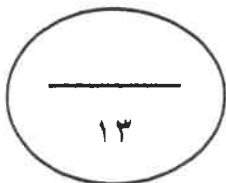
.....

.....

٣- أهداف هيئة الأمم المتحدة .

.....

.....



السؤال الثالث : ( اختياري ) ويتكون من ( أ - ب - ج ) :-

(أ) - عرف ما يلي :-

- ١- علاقات دولية : .....
- ٢- إعلان بلننتز: .....

(ب) - قارن بين كل مما يلي حسب الجدول التالي :-

موقعة ريفولي	موقعة ساراتوجا	أوجه المقارنة
م.....	م.....	العام
..... =	..... =	النتائج
..... =	..... =	

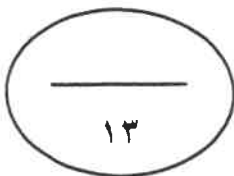
(ج) - فند العبارات التالية :

١- شهد العالم وحدة سياسية وعسكرية بعد اجتياح هتلر لبولندا ١٩٣٩ م .

- ..... -
- ..... -

٢- لم يترتب علي الحرب العالمية الثانية نتائج بشرية .

- ..... -
- ..... -
- ..... -



السؤال الرابع :- ( اختياري ) ويتكون من ( أ- ب - ج ) :-

( أ ) - فسر لكل مما يلي :-

١- قيام الثورة الأمريكية .

..... -  
..... -

٢- فشل عصبة الأمم كمنظمة دولية .

..... -  
..... -

٣- انقسام العالم سياسيا في أواخر القرن ١٩ .

..... -  
..... -  
..... -

( ب ) - فرق بين كل مما يلي حسب الجدول التالي :

المارن الأولى	المارن الثانية
.....-	.....-
.....-	.....-

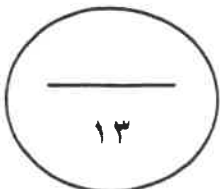
(ج) - ماذا يحدث لو لم :-

١- تعقد محكمة الثورة في فرنسا ١٧٩٣ م .

.....-

٢- ينجح هتلر في الوصول للحكم ١٩٣٤ م .

.....-



السؤال الخامس : ( اختياري ) ويتكون من ( أ - ب - ج ) :-

( أ ) - عدد لكل مما يلي :-

١- لائحة الحقوق الإنجليزية .

.....-

.....-

٢- ملامح عالمنا المعاصر.

..... -

..... -

..... -

(ب)- اكتب النتائج المترتبة على ما يلي:

١- حرب السنين السبع علي سكان المستعمرات .

.....-

.....-

٢- سقوط حصن الباستيل عام ١٧٨٩ م .

..... -

..... -

(ج)- نفذ المطلوب منك بين الأقواس :

١- القارة الأوربية محور العلاقات الدولية . ( الأسباب )

..... -

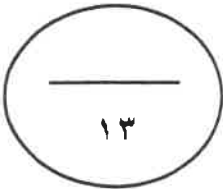
..... -

٢- الشيوعية في روسيا . ( المبادئ )

..... -

..... -

انتهت الأسئلة مع تمنياتنا لكم بالتوفيق





وزارة التربية والتعليم  
التوجيه العام للاجتماعيات

نموذج إجابة

امتحان الدور الثاني ( الفترة الدراسية الثانية ) العام الدراسي: ٢٠١٧-٢٠١٨ م  
لمادة تاريخ العالم الحديث والمعاصر  
للفص الثاني عشر الأدبي  
عدد الأوراق: (٦) أوراق  
الزمن : ساعتان وربع

أجب عن أربعة أسئلة مما يأتي على أن يكون السؤال الاول من بينهما إجبارياً :-

السؤال الاول ( إجباري ) يتكون من ( أ - ب - ج - د )

(أ) ضع خطا تحت الخيار الصحيح من بين الخيارات التي تلي كل عبارة :- (درجة لكل نقطة) ٥ درجات

١- صاحب نظرية السيادة الشعبية :ص ٧٦

أ- جون لوك ب- فولتير ج- روسو د- منتيسكيو

٢- زعيم النظام الفاشي في إيطاليا : ص ١٠٨

أ- هتلر ب- موسوليني ج- فرانكو د- ستالين

٣- تأسست المستعمرة الإنجليزية جيمس تومسون في أستراليا عام ١٦٠٧ م ب- ١٦٠٨ م د- ١٦١٠ م

٤- دولة انتهكت حياد البلجيك فأعلنت بريطانيا الحرب عليها :ص ١٠٠

أ- إيطاليا ب- ألمانيا ج- الدولة العثمانية د- النمسا

٥- عدد الدول التي تتمتع بحق الفيتو في مجلس الأمن :- ص ١١٧

أ- ٥ دول ب- ١٠ دول ج- ١٥ دولة د- ٢٠ دولة

(ب) أكمل العبارات التالية بما يناسبها فيما درست :- (درجة لكل نقطة) ٥ درجات

١- المدينة التي بدأ فيها الصدام المسلح بين سكان الأمريكيين والقوات الانجليزية عام ١٧٧٥ م اسمها لكنجستون ص ٨٠

٢- العام الذي انتصر فيه الفرنسيون في معركة فالمي ١٧٩٢ م ص ٩٠

٣- فترة الانتقال من عهد الاضطرابات والثورات إلى عهد الحكم الديكتاتوري في فرنسا اسمها حكومة الإدارة ص ٩٢ .

٤- عرفت المرحلة الثانية من الحرب العالمية الأولى باسم حرب الخنادق ص ١٠١

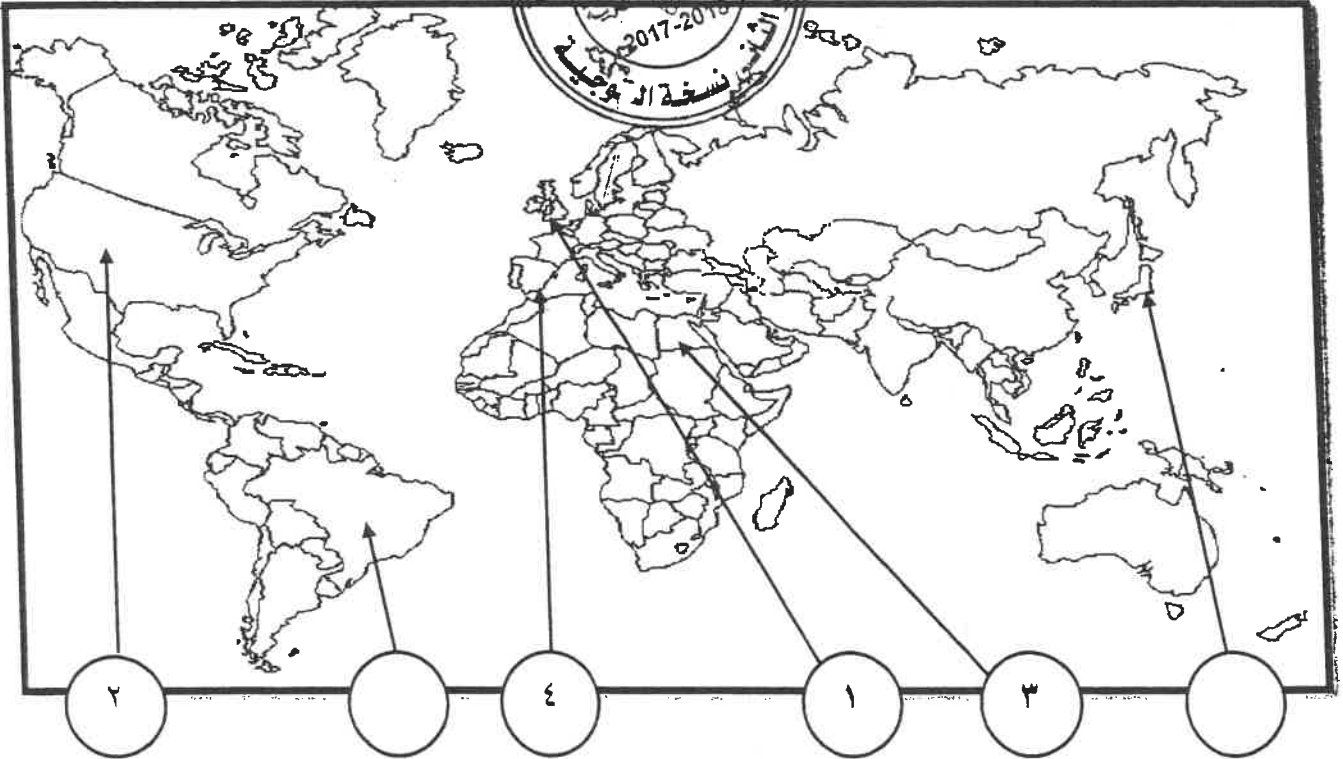
٥- زعيم النظام الديكتاتوري في تركيا اسمه كمال أتاتورك ص ١٠٨

تابع السؤال الأول ( إجباريا ) :

( ج ) اكتب المفاهيم أو المصطلحات الدالة على العبارات التالية :- ( درجة لكل نقطة ) ( ٥٠ ) ( جابت )

- ١- ( الكنيسة الأنجليكانية ) كنيسة تعتنق المذهب البروتستانتي المعادي للمذهب الكاثوليكي. ص ٧٣
- ٢- ( قانون التمغة ) قانون انجليزي فرض على المستندات التجارية وعقود البيع الأمريكية. ص ٧٨
- ٣- ( الاتفاق الودي ) اتفاق تم بين كل من فرنسا وبريطانيا عام ١٩٠٤ م . ص ٩٨
- ٤- ( الاتفاقات الدولية ) تشريعات يتفق عليها دوليا وهي مقننة تلتزم الدول المشتركة بها. ص ٩٧
- ٥- ( مجلس العموم ) مجلس يضم نواب الطبقتين الوسطى والزراعية والوسطى في المدن البرجوازية وينتخبهم الشعب. ص ٧٥

( د ) - أمامك خريطة العالم اكتب الرقم الدال على المكان المناسب في الدائرة المناسبة لها : ( درجتان لكل نقطة ) ( ١٠ ) ( جابت )



١- دولة ظهر منها صاحب نظرية السيادة الشعبية . ص ٧٦

٢- ثورة انتشرت أفكارها بين سكان أمريكا الجنوبية . ص ٨٣

٣- معركة العلمين . ص ١١١

٤- النظام الديكتاتوري بزعامة فرانكو . ص ١٠٨

السؤال الثاني :- ( اختياري ) ويتكون من ( أ - ب - ج )

( أ ) علل لكل مما يلي :- ( ٤ درجات لكل نقطة درجة )

(١) لم تدم عصبة الأباطرة طويلا . ص ٩٧  
- خروج روسيا لخلافها مع النمسا عام ١٨٧٨ م

(٢) تعتبر العوامل الاقتصادية من أسباب قيام الثورة الفرنسية . ص ٨٦ ( يكتفى بثلاث نقاط )  
- الخسائر الكبيرة التي ترتبت علي الحروب الخاسرة التي خاضتها فرنسا أدت إلي استنزاف كثير من أموالها، وفقد الفرنسيون الكثير من المستعمرات التي كانت تدر دخلا كبير - اشتراك فرنسا في حرب الاستقلال الأمريكية - سياسة الامتيازات والإعفاءات الضريبية التي كانت فرنسا تطبقها - حياة الترف والبدخ التي كان يعيشها البلاط الفرنسي في الوقت الذي عاش الشعب الفرنسي الفقر الحرمان والمجاعة.

(ب) كون فقرة باستخدام الكلمات التالية :- ( ٣ درجات ) ص ٨٩ ( أو أي فقرة مناسبة تحتوي الكلمات )

( قصر التويلري - مدينة فاران - فرنسا - هروب لويس السادس عشر )

دبر الملك لويس السادس عشر خطة للفرار من فرنسا مع زوجته ونجح في البداية ووصل إلي مدينة فاران حيث اكتشفت شخصيته فاعتقل هناك وأعيد إلي باريس فأصبح الملك سجين قصر التويلري .

(ج) اكتب مما درست فيما يلي : ( ٦ درجات لكل نقطة درجة ) لكل

١- قرارات الكونجرس الأول ١٧٧٤ م ص ٨٠  
- عدم الرضوخ للقوانين الجائرة التي أصدرتها إنجلترا -  
الإنجليزي بإلغاء القوانين الجائرة - إعادة سلاح المقاطعة من الشعب الأمريكي للبضائع الإنجليزية

٢ - المرحلة الثالثة في الحرب العالمية الأولى ص ١٠١  
- انسحاب روسيا من الحرب ١٩١٧ . - دخول الولايات المتحدة الحرب إلي جانب الحلفاء

هزيمة ألمانيا في معركة المارن الثانية ١٩١٨ م - انتهاء الحرب.

٣- أهداف هيئة الأمم المتحدة ص ١١٦

- المحافظة علي السلام والأمن الدوليين وحل النزاعات بالطرق السلمية

- تنمية العلاقات الودية بين الدول علي المساواة واحترام حقوق الإنسان

- تحقيق التعاون الدولي في جميع المجالات - تكون الأمم المتحدة أداة للتنسيق بين أعمال الدول

والمنظمات.

السؤال الثالث : ( اختياري ) ويتكون من ( أ - ب - ج ) :-

( أ ) عرف ما يلي :- ( ٢ درجة لكل نقطة درجة )

- ١- العلاقات الدولية :الاتصالات بين الدول وبين المنظمات الدولية في جميع المجالات ص ٩٧
- ٢- إعلان بلننتز:إعلان تم بين إمبراطوريتي النمسا وبروسيا عام ١٧٩١م لإنقاذ الملكية الفرنسية. ص ٩٠

( ب ) قارن بين كل مما يلي حسب الجدول التالي :- ( ٦ درجات لكل نقطة درجة )

أوجه المقارنة	معركة ساراتوجا ص ٨٢	معركة ريفولي ص ٩٢
العام	١٧٧٧م	١٧٩٧م
النتائج	- خسر الانجليز جيشا كاملا - سيطر الأمريكيون علي حوض هيدسون - اعتراف فرنسا باستقلال الثوار الأمريكيون ودخولها الحرب إلي جانبهم - زاد تعاطف الشعوب الأوربية مع الثورة الأمريكية	- أجبرت النمسا علي توقيع معاهدة كامبو فروميو - أعطت فرنسا مكاسب كبيرة وحققت للفرنسيين الفخر والعزة .



( ج ) فند العبارات التالية : ( ٥ درجات لكل نقطة درجة )

- ١- شهد العالم وحدة سياسية وعسكرية بعد اجتياح هتلر لبولندا ١٩٣٩م .
- انقسام العالم لمحورين الحلفاء و المحور . - بداية الحرب العالمية الثانية.
- ٢- لم يترتب علي الحرب العالمية الثانية نتائج بشرية . ص ١١٤ ( يكتفي بثلاث درجات )
- سقط حوالي ٥٠ مليون قتيل - شرد الملايين في أوروبا واليابان
- عم الخراب والدمار معظم أنحاء العالم - برزت مشكلة المشوهين والمعاقين
- انتشار ممارسة العنف .

السؤال الرابع :- ( اختياري ) ويتكون من ( أ - ب - ج ) :-

( أ ) : فسر لكل مما يلي :- [ ٧ ] درجات لكل نقطة درجة ( يكتفى بنقطتين )

١ - قيام الثورة الأمريكية . ص ٧٨

- تطبيق قوانين الاحتكار التجاري وقوانين الملاحة ١٦٥١-١٦٧٣م والتسلط علي المستعمرات بقوة و حزم .

- فرض ضرائب باهضة جديدة علي المستعمرات (قوانين سيئة السمعة )

٢ - فشل عصبة الأمم كمنظمة دولية . ص ١٠٤ ( يكتفى بنقطتين )

- عدم التزام الدول الكبرى بميثاق العصبة عاجزة أمام القضايا الكبرى .



٣ - انقسام العالم سياسيا في أواخر القرن ١٩ ص ٩٧ ( يكتفى بثلاث درجات )

- بروز النزعة القومية - تصادم الأيديولوجيات - تضارب المصالح الاقتصادية

- سياسية التوسع للسيطرة علي مناطق مختلفة - سباق التسلح

- ( ب ) - فرق بين كل مما يلي حسب الجدول التالي : (٤ درجات) ص ١٠١

المارن الأولى	المارن الثانية
- أوقف الحلفاء زحف الألمان على باريس عام ١٩١٤م.	- شن الحلفاء هجوماً معاكساً أدى إلى إنزال الهزيمة بالألمان عام ١٩١٨م .

( ج ) ماذا يحدث لو لم :- [ درجتان ] ( ما يراه المصحح )

١ - تعقد محكمة الثورة في فرنسا ١٧٩٣م .

- لما قتل الكثير من المواطنين دون محاكمة عادلة . - لما تم توجيه تهمة الخيانة العظمى للمواطنين .

٢ - ينجح هتلر في الوصول للحكم ١٩٣٤م . ص ٩١

- لما قامت الحرب العالمية الثانية . - لما تشكل الحزب النازي . - لما ظهرت الدكتاتوريات .

الخامس : ( اختياري ) ويتكون من ( أ - ب - ج ) :-

( أ ) عدد لكل مما يلي : ٥ درجات

١- لائحة الحقوق الإنجليزية . ص ٧٤ يكتفى بنقطتين

- لايجوز للملك ابطال أو تعديل قانون صادر من البرلمان - لا يحق للملك فرض ضرائب جديدة وتشكيل جيش أو إعلان الحرب دون موافقة البرلمان - للبرلمان الحق الكامل في التعبير عن آرائهم بحرية تامة - إعطاء البرلمان المواطنين حصانة حيث لا يمكن اعتقال مواطن دون محاكمة .

٢- ملامح عالما المعاصر . ص ١١٥ يكتفى بثلاث

- اليابان قوة اقتصادية عظمي - الصين دولة مستقلة عن الكتلتين - تقدم علمي وانجار معرفي  
- زيادة سكانية هائلة - فجوة علمية اقتصادية بين الدول النامية والمتقدمة - مخاوف من حرب نووية واتفاقيات سالت لوقف التسلح - أوروبا تقدم في كافة المجالات تفعيل مشروع مارشال  
- الولايات المتحدة زعيمة الكتلة الغربية الرأسمالية ثم القوة الأعظم بعد تفكك الاتحاد السوفيتي  
- هيئة الأمم المتحدة لحفظ السلام والأمن والتعاون بين دول العالم



(ب) اكتب النتائج المترتبة على ما يلي : ٤ درجات يكتفى بنقطتين

١- حرب السنين السبع علي سكان المستعمرات . ص ٧٨  
شعورهم بقوتهم الحقيقة - بروز كثير من أبنائهم أمثال جورج واشنطن  
- أزال التهديد الخارجي من الفرنسيين نحو المستعمرات - التوسع نحو الغرب دون حدود أو قيود  
٢- سقوط سجن الباستيل عام ١٧٨٩م . ص ٨٨  
- عمت الفوضى في كل مكان - توقف الفلاحون عن دفع الضرائب - انقض الفلاحون علي قصور النبلاء وأحرقوها وقتلوا منفيها وأحرقوا الوثائق - هجرة النبلاء إلي خارج فرنسا

(ج) نفذ المطلوب منك بين الاقواس : ( أربع درجات لكل نقطة درجة ) يكتفى بنقطتين

١- القارة الأوروبية محور العلاقات الدولية . ص ٩٧ ( الأسباب )  
- مركز الثورة الصناعية - وفرة الموارد والإمكانات الاقتصادية  
- النفوذ الاستعماري في جميع القارات - نشوء الإمبراطوريات  
٢- الشيوعية في روسيا . ص ١٠٦ ( المبادئ )  
- سيطرة الدولة على جميع مصادر الثروة ووسائل الانتاج .  
- إلغاء الملكية الخاصة وإشراف الدولة على التخطيط الاقتصادي . - تحقيق العدالة الاجتماعية بين أفراد الشعب .  
- محو الفوارق بين القوميات في روسيا .



وزارة التربية

امتحان نهاية الفترة الدراسية الثانية العام الدراسي : ٢٠١٦ / ٢٠١٧ م

الزمن : ساعتان

للفص الثاني عشر الأدبي

التوجيه الفني العام للاجتماعيات

عدد الأوراق : ٧ ورقات

لمادة تاريخ العالم الحديث والمعاصر

أجب عن أربعة أسئلة مما يلي على أن يكون السؤال الأول من بينها إجبارياً:-

السؤال الأول: ( إجباري ) يتكون من ( أ - ب - ج - د ):-

( أ ) أكمل العبارات التالية بما يناسبها فيما درست :-

- ١- الكنيسة الإنجليزية التي تعتق المذهب البروتستانتي تسمى .....
- ٢- العام الذي انتصر فيه سكان المستعمرات في معركة ساراتوجا .....
- ٣- كاتب ساخر عرف بنقده اللاذع وسخريته الشديدة للأوضاع البالية في فرنسا يسمى .....
- ٤- جماعة سيطرت على قرارات المؤتمر الوطني ١٧٩٢ م وأشتهرت بعدائها الشديد للملكية تسمى .....
- ٥- المعركة التي هُزم فيها الألمان على يد الجيش الأحمر عام ١٩٤٢ م تسمى .....

(ب) أكتب المفاهيم أو المصطلحات الدالة عليها العبارات التالية :-

- ١- (.....) مؤتمر عقد عام ١٩٣٨ م تم بموجبه ضم هتلر لتشيكوسلوفاكيا .
- ٢- (.....) تشريعات يتفق عليها دوليا وهي مقننة تلتزم الدول المشتركة بها .
- ٣- (.....) المجالس المحلية التي أسسها الحزب الشيوعي .
- ٤- (.....) حزمة من الضرائب التي كانت بمثابة الشرارة التي انطلقت منها الثورة الأمريكية .
- ٥- (.....) إعلان تم بين إمبراطوريتي النمسا وبروسيا عام ١٧٩١ م لإنقاذ الملكية الفرنسية .

تابع / امتحان تاريخ العالم الحديث والمعاصر - الصف الثاني عشر الأدبي - نهاية الفترة الدراسية الثانية - العام الدراسي ٢٠١٦/٢٠١٧م

تابع / السؤال الأول ( إجباري ) :-

ج) ضع خطأ تحت الخيار الصحيح من بين الخيارات التي تلي كل عبارة :-

١- عدد النواب الذين اجتمعوا عام ١٧٨٧م لوضع دستور يجمع الولايات المتحدة الأمريكية :

( ٥٢ نائباً - ٥٣ نائباً - ٥٤ نائباً - ٥٥ نائباً )

٢- المفكر الفرنسي الذي ألف كتاب روح القوانين :

( مونتسكيو - فولتير - جون لوك - روسو )

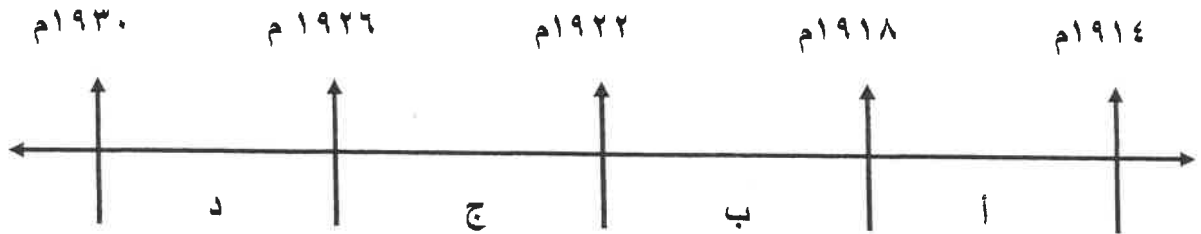
٣- احتل هتلر الراين في عام :

( ١٩٣٣م - ١٩٣٤م - ١٩٣٥م - ١٩٣٦م )

٤- المعاهدة التي أعطت لفرنسا العديد من المكاسب عام ١٧٩٧م :

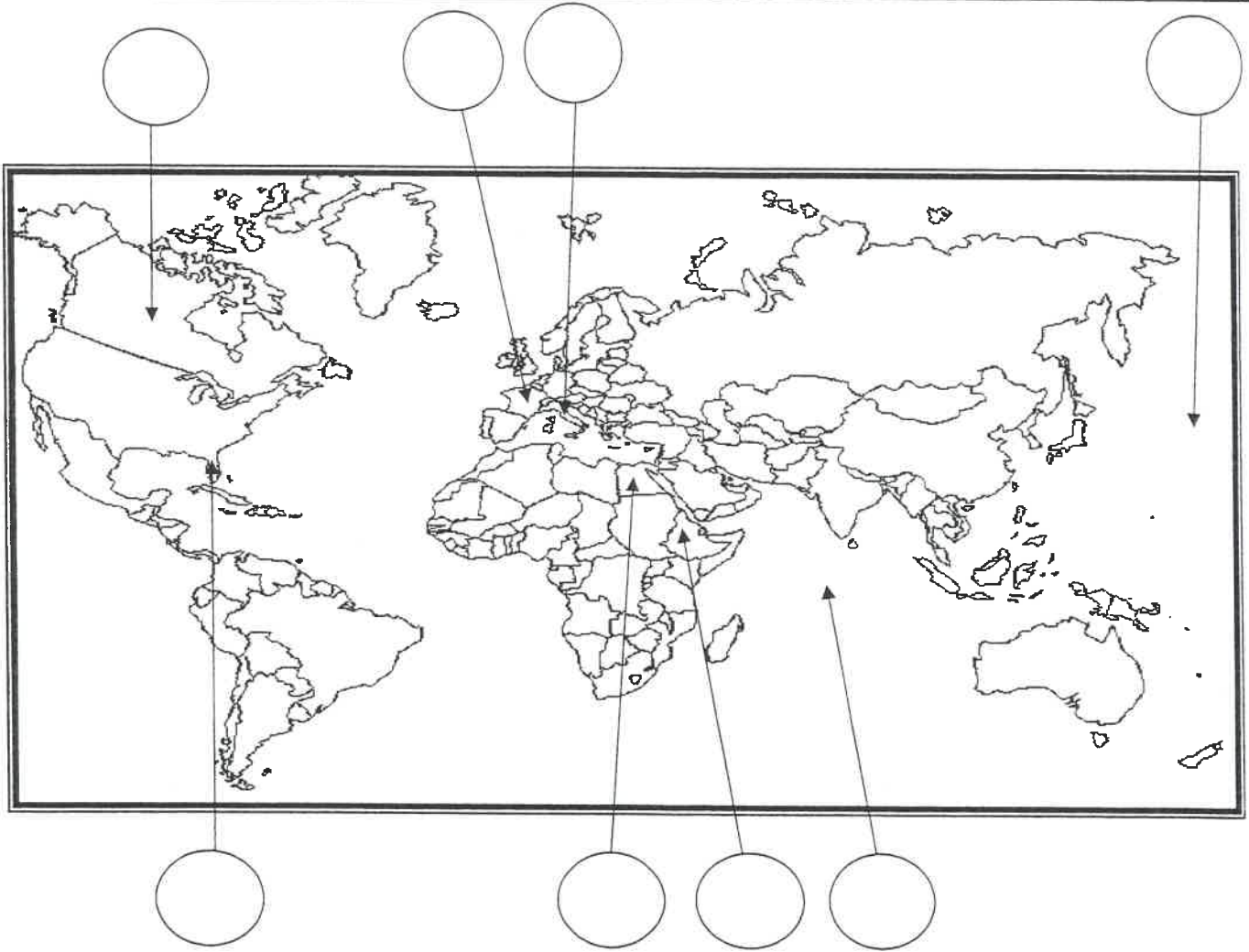
( لوزان - كامبو فروميو - باريس - لندن )

٥- الفترة الزمنية التي تمثل الحرب العالمية الأولى يمثلها على المخطط الزمني الحرف :



تابع / السؤال الأول ( إجباري ) :-

(د) أمامك خريطة العالم - أكتب الرقم الدال على العبارات التالية في الدائرة المناسبة لها :-

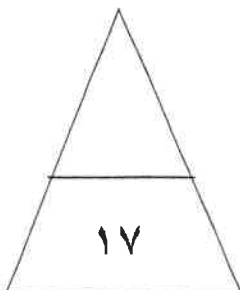


١- دولة شهدت أحداث معركة ريفولي الشهيرة في ١٤ يناير سنة ١٧٩٧م .

٢- مسطح مائي شهد النزاع بين اليابان والولايات المتحدة الأمريكية خلال الحرب العالمية الثانية.

٣- دولة وقعت تحت الإحتلال الإيطالي عام ١٩٣٦م .

٤- المستعمرة الأسبانية في أمريكا الشمالية .



السؤال الثاني : ( إختياري ) يتكون من ( أ ، ب ، ج ) :-

أ - علل لما يلي :-

١- تعتبر معركة فالمي من المعارك الفاصلة في التاريخ على الرغم من صغر حجمها .

٢- إصرار البرلمان الإنجليزي على بقاء ضريبة الشاي بالرغم من إلغاء بقية الضرائب .

ب - عرف المفاهيم والمصطلحات التالية :-

١- النظام الجديد :

٢- أيديولوجيه :

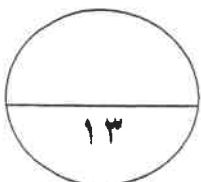
٣- المارن :

ج- أذكر النتائج المترتبة على الأحداث التالية :-

١- الثورة الأمريكية .

٢- سقوط حصن الباستيل في فرنسا.

٣- مؤتمرات الصلح التي عقدتها الدول المنتصرة بعد الحرب العالمية الأولى .



السؤال الثالث : ( إختياري ) يتكون من ( أ ، ب ، ج ) :-

أ- فند العبارات التالية :-

١- تمتعت الطبقة العامة في فرنسا بالكثير من الإمتيازات قبيل الثورة الفرنسية .

..... -

..... -

٢- أعطت وثيقة الحقوق الإنجليزية العديد من الصلاحيات للملك الإنجليزي .

..... -

..... -

..... -

ب- قارن بين كل من :-

أوجه المقارنة	مؤتمر فيلادلفيا الأول	مؤتمر فيلادلفيا الثاني
السنة	.....	.....
القرارات	..... -	..... -
	..... -	..... -

ج- ماذا يحدث لو لم :-

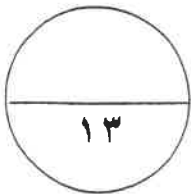
١ - يسقط سوق الأوراق المالية في مدينة نيويورك عام ١٩٢٩ م .

..... -

..... -

٢- تهاجم اليابان ميناء بيرل هاربر الأمريكي .

..... -



السؤال الرابع : ( إختياري ) يتكون من ( أ ، ب ، ج ) :-

أ- إقرأ الفقرة التالية ثم اجب عما يليها من أسئلة :-

(اجتمع زعماء الدول الكبرى الثلاث (روزفلت - تشرشل - ستالين) في مؤتمر يالطا في الإتحاد السوفيتي عام ١٩٤٥ م ودعوا الدول المحبة للسلام لحضور مؤتمر سان فرانسيسكو لإبرام ميثاق الأمم المتحدة ، فقامت ( ٥٠ ) دولة بالتوقيع على الميثاق ثم افتتحت هيئة الأمم المتحدة رسمياً في ٢٤ أكتوبر ١٩٤٥ م ، وقد نادت بالمحافظة على السلام والأمن الدوليين ، وتحقيق التعاون الدولي في جميع المجالات )

١- عرف ماتحته خط .

هيئة الأمم المتحدة : .....

٢- أستخرج من الفقرة السابقة هدفين من أهداف الأمم المتحدة .

.....  
.....

ب فسر كلاً مما يلي :-

١- استحالة التوافق بين الحاكم والمجلس التشريعي في المستعمرات الإنجليزية في أمريكا الشمالية .

.....  
.....

2- فشل عصبة الأمم في تحقيق الغايات التي أنشئت من أجلها.

.....  
.....

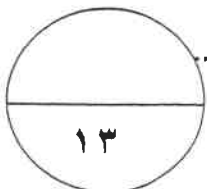
ج - عدد كلاً مما يلي :-

١- ملامح عالما المعاصر .

.....  
.....

٢- العوامل الإقتصادية للثورة الفرنسية .

.....  
.....



السؤال الخامس : ( إختياري ) يتكون من ( أ ، ب ، ج ) :-

أ- فرق بين كل مما يلي :-

السبب المباشر للحرب العالمية الثانية	السبب المباشر للحرب العالمية الأولى
.....	.....
.....	.....

ب- نفذ المطلوب منك بين الأقواس :-

( أوضاع الكنيسة )

١- إصلاحات نابليون الداخلية .

..... -  
..... -

( مبادئها )

٢ - النازية .

..... -  
..... -  
..... -

( النتائج البشرية )

٣ - الحرب العالمية الثانية

..... -  
..... -

ج - أكتب فقرة مترابطة مستعيناً بالكلمات التالية:-

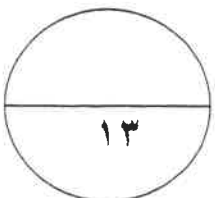
( المجالس النيابية - الحق الإلهي المقدس - مجلس اللوردات - مجلس العموم )

.....  
.....  
.....

انتهت الأسئلة

مع تمنياتنا لكم بالتوفيق

( ٧ )





امتحان نهاية الفترة الدراسية الثانية العام الدراسي : ٢٠١٦ / ٢٠١٧ م

الزمن ( ساعتان )

عدد الأوراق : ٨ ورقات

للفص الثاني عشر الأدبي

لمادة تاريخ العالم الحديث والمعاصر

وزارة التربية

التوجيه الفني العام للاجتماعيات

أجب عن أربعة أسئلة مما يلي على أن يكون السؤال الأول من بينها إجبارياً :-

لكل نقطة درجة

السؤال الأول: ( إجباري ) يتكون من ( أ - ب - ج - د ) :-

( أ ) أكمل العبارات التالية بما يناسبها فيما درست :-

ص ٧٣

ص ٨٢

ص ٨٥

ص ٩١

ص ١١١



١- الكنيسة الإنجليزية التي تعتنق المذهب البروتستانتي تسمى الانجليكانية.

٢- العام الذي انتصر فيه سكان المستعمرات في معركة ساراتوجا ١٧٧٧ م

٣- كاتب ساخر عرف بنقده اللاذع وسخريته الشديدة للأوضاع البالية في فرنسا يسمى فولتير.

٤- جماعة سيطرت على قرارات المؤتمر الوطني ١٧٩٢ م واشتهرت بعدائها الشديد للملكية تسمى اليعاقبة ص ٩١

٥- المعركة التي هُزم فيها الألمان على يد الجيش الأحمر عام ١٩٤٢ م تسمى ستالينجراد ص ١١١

( ب ) أكتب المفاهيم أو المصطلحات الدالة عليها العبارات التالية :- لكل نقطة درجة

ص ١٠٩

ص ٩٧

ص ١٠٦

ص ٧٨

ص ٩٠

١- ( مؤتمر ميونخ ) مؤتمر عقد عام ١٩٣٨ م تم بموجبه ضم هتلر لتشيكوسلوفاكيا.

٢- ( الاتفاقيات الدولية ) تشريعات يتفق عليها دوليا وهي مقننة تلتزم الدول المشتركة بها .

٣- ( السوفييت ) المجالس المحلية التي أسسها الحزب الشيوعي .

٤- ( القوانين سينة السمعة ) حزمة من الضرائب التي كانت بمثابة الشرارة التي انطلقت منها الثورة الأمريكية . ص ٧٨

٥- ( إعلان بلننز ) إعلان تم بين أميراطوريتي النمسا وبروسيا عام ١٧٩١ م لإنقاذ الملكية الفرنسية . ص ٩٠

تابع / امتحان تاريخ العالم الحديث والمعاصر - الصف الثاني عشر الأدبي - نهاية الفترة الدراسية الثانية - العام الدراسي ٢٠١٦/٢٠١٧ م

تابع السؤال الأول ( إجباري ) :-

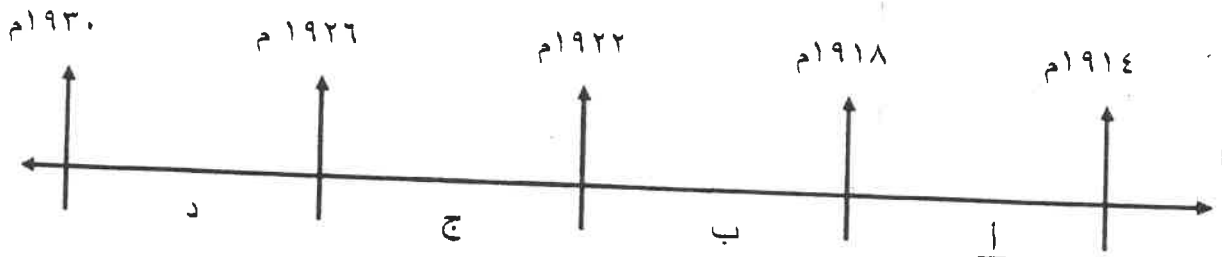
( ج ) ضع خطأ تحت الخيار الصحيح من بين الخيارات التي تلي كل عبارة :- لكل نقطة درجة

- ١- عدد النواب الذين اجتمعوا عام ١٧٨٧م لوضع دستور يجمع الولايات المتحدة الأمريكية :  
( ٥٢ نائباً - ٥٣ نائباً - ٥٤ نائباً - ٥٥ نائباً ) ص ٨٢
- ٢- المفكر الفرنسي الذي ألف كتاب روح القوانين :  
( مونتسكيو - فولتير - جون لوك - روسو ) ص ٨٥
- ٣- احتل هتلر الراين في عام :  
( ١٩٣٣ م - ١٩٣٤ م - ١٩٣٥ م - ١٩٣٦ م ) ص ١٠٩
- ٤- المعاهدة التي أعطت لفرنسا العديد من المكاسب عام ١٧٩٧م :



- ( كاميو فروميو - باريس - لندن ) ص ٩٢

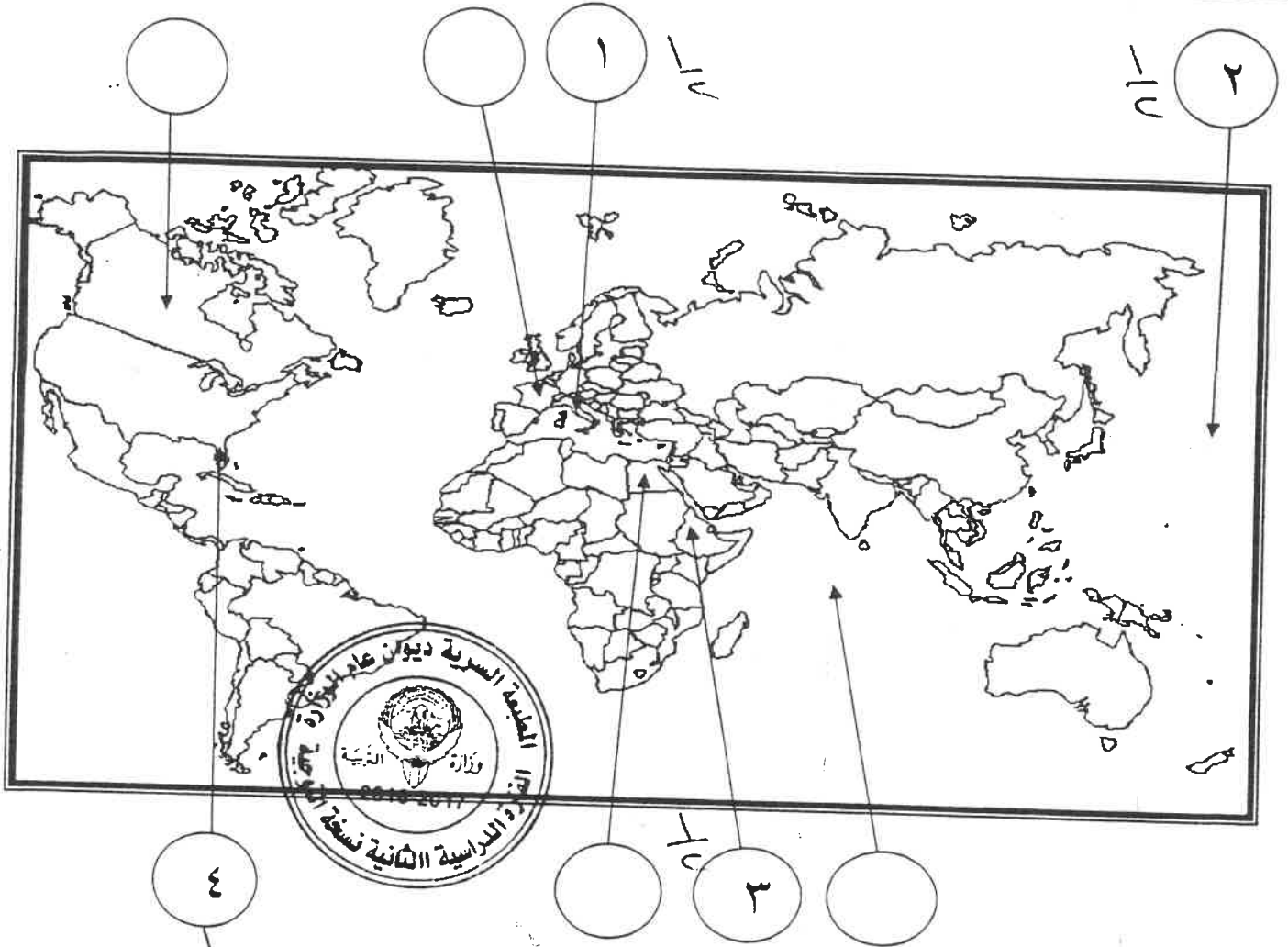
٥- الفترة الزمنية التي تمثل الحرب العالمية الأولى يمثلها على المخطط الزمني الحرف :



نصف درجة لكل نقطة

تابع السؤال الأول (إجباري) :-

د- أمامك خريطة العالم - أكتب الرقم الدال على العبارات التالية في الدائرة المناسبة لها :-



ص ٩٢

١- دولة شهدت أحداث معركة ريفولي الشهيرة في ١٤ يناير سنة ١٧٩٧م .

ص ١١١

٢- مسطح مائي شهد النزاع بين اليابان والولايات المتحدة الأمريكية خلال الحرب العالمية الثانية.

ص ١٠٩

٣- دولة وقعت تحت الإحتلال الإيطالي عام ١٩٣٦م .

ص ٧٧

٤- المستعمرة الأسبانية في أمريكا الشمالية .

السؤال الثاني: ( إختياري ) يتكون من ( أ ، ب ، ج )

أ - علل لما يلي :-

- ١- تعتبر معركة فالمي من المعارك الفاصلة في التاريخ على الرغم من صغر حجمها . يكتفي ب ٣ نقطه ص ٩٠
- أنقذت افكار الثورة الفرنسية من الضياع
  - حالت دون وقوع باريس - رفعت الروح المعنوية للفرنسيين
  - تحول جيش الثورة بعدها من الدفاع إلي الهجوم وأصبح مصدر رعب للدول الأوروبية .

- ٢- إصرار البرلمان الإنجليزي على بقاء ضريبة الشاي بالرغم من إلغاء بقية الضرائب . (درجة) ص ٧٩
- يكتفي بنقطة
- ليبقي حق فرض الضرائب قائما على المستعمرات

ب - عرف المفاهيم والمصطلحات التالية :-

- ١- النظام الجديد : مشروع اقتصادي ينسب للرئيس الأمريكي شاريع كبري تهدف لتشغيل أكبر عدد من العمال لحل مشكلة البطالة والتوسع في المشاريع الإنمائية وبهذا خرج على سياسة الإقتصادية التي تسير عليها بلادة من الإقتصاد الرأسمالي ص ١٠٥
- ٢ - أيديولوجيه : نسق من الآراء والأفكار السياسية والقانونية المنهجية الفلسفية ص ٩٧
- ٣- المارن : نهر في فرنسا كان مسرحاً لمعركتين حاسمتين الحرب العالمية الأولى ص ١٠١

( ٣ درجات لكل نقطة درجة )

ج- أذكر النتائج المترتبة على الأحداث التالية :-

- ١- الثورة الأمريكية . (درجة ٢) ص ٨٣
- يكتفي بنقطتين
- انتشرت عدواها إلي سكان أمريكا الجنوبية ( اللاتينية )
  - تشجيع سكان المستعمرات البريطانية في آسيا وأفريقيا على القيام بثورات ضدها كي يتخلصوا من استعمارها .
  - صارت الولايات المتحدة ملاذاً لدعاة الفكر من الاوربيين ورمزاً للحرية والتجديد .
  - السبب المباشر في قيام الثورة الفرنسية نتيجة للأموال الطائلة التي أنفقتها في الحروب ضد بريطانيا في العالم الجديد .
- ٢- سقوط حصن الباستيل في فرنسا . (درجة ٢) ص ٨٨
- يكتفي بنقطتين

- عمت الفوضى في كل مكان . - توقف الفلاحون عن دفع الضرائب .
  - انقض الفلاحون على قصور النبلاء واحرقوا الوثائق التي تعطيهم حقوقا إقطاعية .
  - هجرة النبلاء إلي خارج فرنسا وسرعان ما أصبح هؤلاء المهاجرون أكبر خطر على الثورة الفرنسية .
- ٣- مؤتمرات الصلح التي عقدتها الدول المنتصرة في الحرب العالمية الأولى . ص ١٠٣
- يكتفي بنقطة

- تفكك إمبراطوريات عريقة مثل ( الألمانية / النمسا / الروسية / الدولة العثمانية ) وظهور دول قومية جديدة في أوربا مثل ( بولندا / تشيكوسلوفاكيا / يوغسلافيا / المجر )
- أن تتحمل المانيا مسؤولية الحرب حيث فرضت عليها دفع تعويضات مالية كبيرة للحلفاء .
- تخفيض عدد الجيش الألماني ومنع ألمانيا من تصنيع أو اقتناء الأسلحة العسكرية .
- اقتطاع اجزاء من ألمانيا وضمها لدول أخرى .
- وضع إقليم السار تحت الإدارة الدولي .

ملاحظتان

السؤال الثالث : ( اختياري ) يتكون من ( أ ، ب ، ج ) :-

( لكل نقطة درجة )

أ- فند العبارات التالية :-

١- تمتعت الطبقة العامة في فرنسا بالكثير من الإمتيازات قبيل الثورة الفرنسية (درجتان) يكتفي بنقطتين ص ٨٥  
بالعكس من ذلك بل :

- عانت هذه الطبقة من صنوف الظلم والاستعباد .
- استبعدت من جميع الوظائف العليا في الدولة .
- فرضت عليهم جميع أنواع الضرائب .
- عاشت هذه الطبقة في بؤس وشقاء .

٢- أعطت وثيقة الحقوق الإنجليزية العديد من الصلاحيات للملك الإنجليزي. يكتفي بثلاث نقاط ص ٧٤


ثلاث درجات

بالعكس من ذلك بل :

انتزعت من الملك الإنجليزي معظم صلاحياته وفقاً لوثيقة الحقوق الإنجليزية حيث جاء فيها :

- لا يجوز للملك إبطال أو تعديل قانون صادر عن البرلمان .
- لا يجوز للملك فرض ضرائب أو تشكيل جيش أو إعلان حرب دون موافقة البرلمان .
- للبرلمان الحق الكامل في التعبير عن آرائهم في حرية تامة .
- اعطي البرلمان حصانة للمواطنين حيث لا يمكن اعتقال مواطن دون محاكمة تجري وفق القوانين .

ب ( قارن بين كل من :- ) درجات لكل نقطة درجة ص ٨٠

مؤتمر فيلادلفيا الأول	مؤتمر فيلادلفيا الثاني	أوجه المقارنة
١٧٧٤م $\frac{1}{6}$	١٧٧٥م $\frac{1}{6}$	السنة
القرارات		
- عدم الرضوخ للقوانين الجائرة التي أصدرتها إنجلترا ضد ميناء بوسطن - وجهوا طلباً من الشعب الأمريكي للملك الإنجليزي بإلغاء تلك القوانين الجائرة - إعادة سلاح المقاطعة التجارية للبضائع الإنجليزية . - تشكيل لجان في كل المدن لتنظيم عملية المقاطعة والإشراف عليها . ( يكتفي بنقطتين )	- اعتبار جيش بوسطن جيشاً أمريكياً يخص كل المستعمرات . - تعيين جورج واشنطن قائداً عاماً للقوات ، وبذلك تكون الجيش الوطني الأمريكي الذي سيخوض حرب الاستقلال الأمريكية . ( يكتفي بنقطتين )	

درجتان

( ٥ ) درجات

ابع السؤال الثالث (اختياري) :-

درهما زم

ج- ماذا يحدث لو لم :-

ص ١٠٥

يكتفى بنقطتين

١- يسقط سوق الأوراق المالية في مدينة نيويورك عام ١٩٢٩م.

- لما أفلست كثير من البنوك والمؤسسات .
  - لما طالبت البنوك والمؤسسات بديونها من أوروبا .
  - لما أغلقت المصانع وانتشرت البطالة .
  - لما إنتشرت اثارها في انحاء العالم .
  - لما إنخفضت الاسعار في الولايات المتحدة .
  - لما توقفت التطور الاقتصادي الاوروبي .
  - لما إنهار البنوك والمؤسسات الاوروبية .
  - لم تتراجع التجارة الخارجية والإنتاج العالمي .
- ( أي إجابة يراها المصحح مناسبة )

ص ١١١

يكتفى بنقطة

(درجة)

٢- تهاجم اليابان ميناء بيرل هاربر الأمريكي .

- لما دخلت الولايات المتحدة الأمريكية الحرب العالمية الثانية
  - لما القت الولايات المتحدة الأمريكية قنبلتين ذريتين على هيروشيما و نجازاكي .
- ( أي إجابة يراها المصحح مناسبة )



السؤال الرابع : ( اختياري ) يتكون من ( أ ، ب ، ج ) :-

ص ١١٦

أ- اقرأ الفقرة التالية ثم نفذ المطلوب منك :-

(اجتمع زعماء الدول الكبرى الثلاث (روزفلت - تشرشل - ستالين) في مؤتمر يالطا في الإتحاد السوفيتي عام ١٩٤٥م ودعوا الدول المحبة للسلام لحضور مؤتمر سان فرانسيسكو لإبرام ميثاق الأمم المتحدة ، فقامت ( ٥٠ ) دولة بالتوقيع على الميثاق ثم افتتحت هيئة الأمم المتحدة رسمياً في ٢٤ أكتوبر ١٩٤٥م ، وقد نادت بالمحافظة على السلام والأمن الدوليين ، وتحقيق التعاون الدولي في جميع المجالات .)

- ١- عرف ما تحته خط . ( هيئة الأمم المتحدة ) منظمة عالمية تحتوي على ٥٧ دولة تضم جميع دول العالم المستقلة تأسست عام ١٩٤٥ م ، مقرها الولايات المتحدة الأمريكية .
- ٢- أستخرج من الفقرة السابقة هدفين من أهداف الأمم المتحدة .  
- المحافظة على السلام والأمن الدوليين .  
- تحقيق التعاون الدولي في جميع المجالات .

يكتفي بنقطتين (درجتان)

ب فسر كلاً مما يلي :-

( درجة لكل نقطة )

١- استحالة التوافق بين الحاكم والمجلس التشريعي في المستعمرات الإنجليزية في أمريكا الشمالية .

يكتفي بنقطتين ص ٧٧

- إن الحاكم يهمة بالدرجة الأولى مصالح الملك الذي يمثله بينما المجلس المنتخب (النيابي) يهمة مصالح الشعب الأمريكي في المقام الأول ويدافع عنها بإستقامته .

كانت إنجلترا تنظر للمواطن الأمريكي على أنه مواطن من الدرجة الثانية بينما المجلس (النيابي) لا يرى أن هناك فارق بين المواطن الأمريكي والمواطن الإنجليزي .

يكتفي بنقطتين ص ١٠٤

٢- فشل عصبة الأمم في تحقيق الغايات التي أنشئت من أجلها .  
- عدم التزام الدول الكبرى بميثاق العصبة - لم يكن للعصبة قوة عسكرية قادرة على تنفيذ قراراتها فأصبحت أداة لمصلحة الدول الكبرى .  
- سياسة الدول المنتصرة في الحرب . - لم تشارك الولايات المتحدة في عضويتها .

( درجة لكل نقطة )

ج - عدد كلاً مما يلي :-

١- ملامح عالمنا المعاصر .

- اليابان قوة اقتصادية عظمي .

- ظهور دول نامية ومتخلفة اقتصاديا واجتماعيا .

- فجوة علمية اقتصادية بين الدول المتقدمة والنامية . - أوروبا تقدم في جميع المجالات .

- مخاوف من حرب نووية واتفاقيات (سالت) لوقف التسليح واستخدام الأسلحة الفتاكة .

- تفعيل مشروع مارشال ثم المجموعة الأوروبية ثم الإتحاد الأوروبي .

- الولايات المتحدة زعيمة الكتلة الغربية الرأسمالية ثم القوة الأعظم بعد تفكك الإتحاد السوفيتي .

- هيئة الأمم المتحدة لحفظ السلام والأمن والتعاون بين دول العالم .

٢- العوامل الاقتصادية للثورة الفرنسية .

- الخسائر الكبيرة التي ترتبت على الحروب الخاسرة التي خاضتها فرنسا خلال القرن الثامن عشر مما أدى الى استنزاف كثير من أموال الخزانة الفرنسية وفقدت فرنسا الكثير من المستعمرات .

- اشتراك فرنسا في حرب الاستقلال الأمريكية ونتيجة لذلك حملت الخزانة أموال الاطائلة أجهزت على خزانة الدولة .

- سياسة الامتيازات والاعفاءات الضريبية التي كانت فرنسا تطالب بها كانت الطبقة الممتازة والكنيسة معفاة من جميع الضرائب .

- حياة الترف والبلذخ التي كان يعيشها البلاط الفرنسي .

يكتفي ب ٣ نقاط ص ٨٦

٣- الخسائر الكبيرة التي ترتبت على الحروب الخاسرة التي خاضتها فرنسا خلال القرن الثامن عشر مما أدى الى استنزاف كثير من أموال الخزانة الفرنسية وفقدت فرنسا الكثير من المستعمرات .

- اشتراك فرنسا في حرب الاستقلال الأمريكية ونتيجة لذلك حملت الخزانة أموال الاطائلة أجهزت على خزانة الدولة .

- سياسة الامتيازات والاعفاءات الضريبية التي كانت فرنسا تطالب بها كانت الطبقة الممتازة والكنيسة معفاة من جميع الضرائب .

- حياة الترف والبلذخ التي كان يعيشها البلاط الفرنسي .



السؤال الخامس: ( إختياري ) يتكون من ( أ ، ب ، ج ) :-

أ- فرق بين كل مما يلي :-

السبب المباشر للحرب العالمية الثانية ص ١١٠	السبب المباشر للحرب العالمية الأولى ص ١٠٠
مفاجئة هتلر للعالم أول سبتمبر ١٩٣٩ باجتياح بولندا ورفضه إنذار بريطانيا وفرنسا فأنقسم العالم إلي معسكرين الحلفاء والمحور وكانت هذه بداية الحرب العالمية الثانية .	قيام طالب صربي باغتيال ولي عهد النمسا فرديناند وزوجته في مدينة سراييفو عاصمة البوسنة في ٢٨ يونيو عام ١٩١٤م وكان هذا الحادث البداية التي أدت إلي قيام الحرب .
درجة ولصنف	درجة ولصنف

ب- نفذ المطلوب منك بين الأقواس :-

١- إصلاحات نابليون الداخلية.

- إصلاح أوضاع الكنيسة : في ١٦ يوليو ١٨٠١م وقع نابليون مع البابا ( بيوس السابع ) اتفاقاً نهائياً اعترفت فرنسا فيها بالكنيسة الكاثولوكية وسيادتها الروحية وفي المقابل اعترفت البابوية بقوانين مصادرة أملاك الكنيسة التي أصدرتها الثورة .

- يتم تعيين رجال الكنيسة بالتعاون بين البابوية والدولة الفرنسية .

٢- النازية .

- تفوق العنصر البشري الجرمانى ( الألماني ) على جميع العناصر البشرية .

- قيام ألمانيا الكبرى التي تضم كل الألمان .

- امتلاك الدولة للشركات الاحتكارية - إلغاء معاهدة فرساي . - استعادة المستعمرات الألمانية .

٣- الحرب العالمية الثانية .

- سقط في هذه الحرب حوالي ٥٠ مليون قتيل .

- عم الخراب والدمار معظم أنحاء العالم وبرزت مشكلة المشوهين والمعاقمين .

ج- أكتب فقرة مترابطة مستعيناً بالكلمات التالية :-

( المجالس النيابية - الحق الإلهي المقدس - مجلس اللوردات - مجلس العموم )

قضت المجالس النيابية بعد الثورة الإنجليزية على الحق الإلهي المقدس الذي كان يمنح للملوك حيث تم الأخذ بمبدأ تركيز السلطة التنفيذية في مجلسي مجلس اللوردات الذي يمثل الارستقراطية الإنجليزية و مجلس العموم الذي يمثل الديمقراطية .

( ما يراه المصحح مناسباً )



اجب عن أربعة أسئلة مما يلي على أن يكون السؤال الأول من بينها إجبارياً:-

السؤال الأول (إجباري) ويتكون من ( أ - ب - ج - د ):-



أ) أكمل العبارات التالية بما يناسبها فيما درست:-

- ١- الكتاب الشهير الذي ألفه المفكر الفرنسي "روسو" يسمى.....
- ٢- المنظمة العالمية المسؤولة عن مواجهة المشاكل الصحية في العالم تسمى.....
- ٣- القانون الإنجليزي الذي فرض رسوما على المستندات التجارية وعقود البيع والرهن الأمريكية يسمى.....
- ٤- الحق الذي يتمتع به الأعضاء الدائمون في مجلس الأمن يسمى.....
- ٥- النهر الفرنسي الذي كان مسرحاً لمعركتين حاسمتين في الحرب العالمية الأولى يسمى.....

ب) أعد ترتيب الأحداث التاريخية التالية تصاعدياً من الأحدث إلى الأقدم:-

( سقوط موسوليني - هتلر يكتسح بولندا - استسلام فرنسا للألمان - إنزال الحلفاء في النورماندي - انتحار هتلر )

--	--	--	--	--

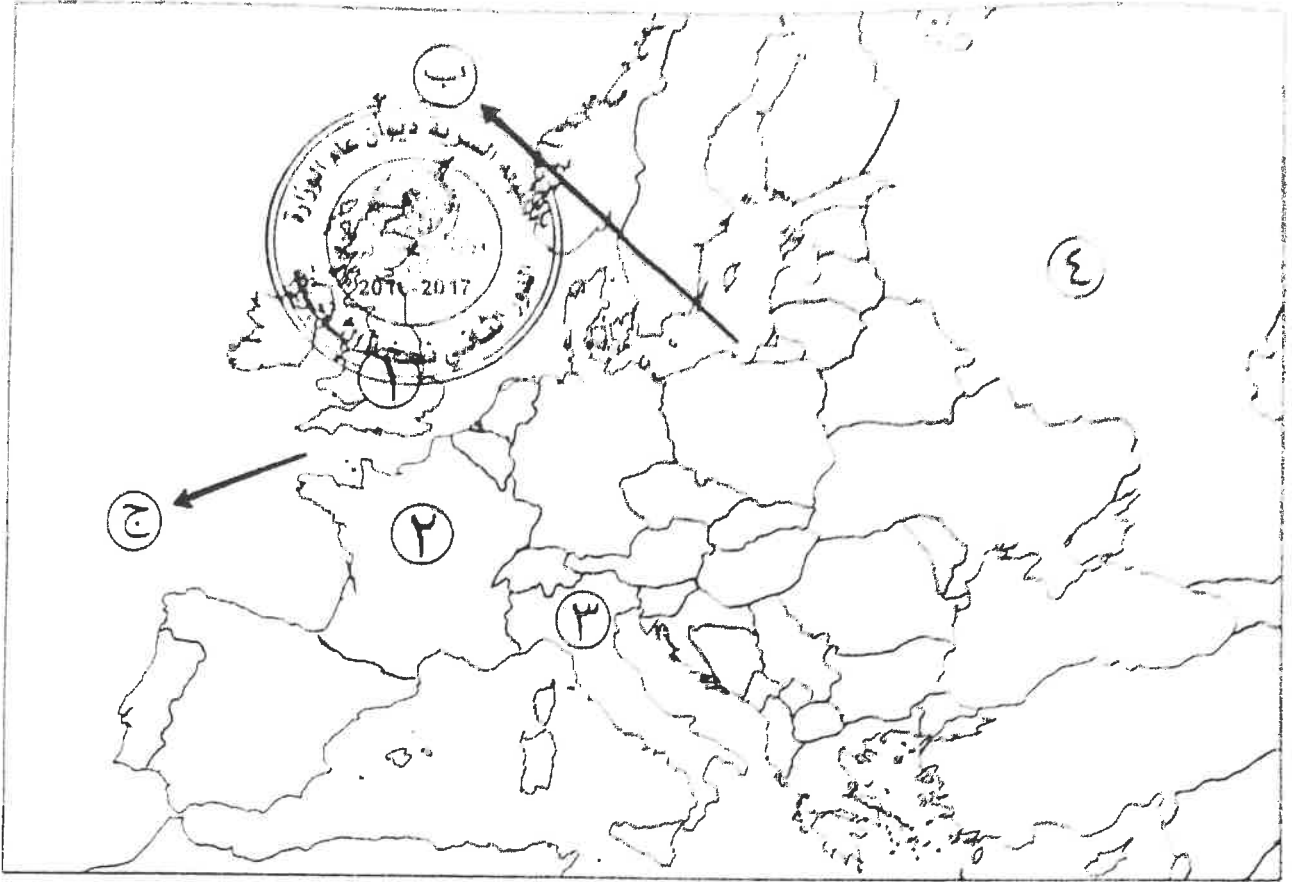
ج) ضع أسماء المجالس التالية في مكانها الصحيح حسب الجدول التالي:-

( طبقات الأمة - الكونجرس - اللوردات - العموم - الخمسمائة )

مجالس إنجليزية	مجالس فرنسية	مجالس أمريكية
.....	.....	.....
.....	.....	.....

سؤال نموذجي الأول (أخباري) :-

أ) اكتب خريطة أوروبا - اكتب الرقم أو الحرف الدال على العبارات التي تليها :-

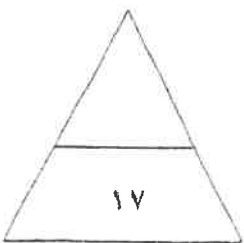


- الدولة التي حكمها النظام الفاشي يمثلها على الخريطة الرقم .....

- العاصمة التي تم فيها توقيع معاهدة استقلال الولايات المتحدة الأمريكية يمثلها على الخريطة الرقم .....

- الدولة التي قامت فيها الثورة المجيدة عام ١٦٨٩م يمثلها على الخريطة الرقم .....

- الممر المائي الذي كان الصراع عليه سببا مباشرا لقيام الحرب العالمية الثانية يمثله على الخريطة الحرف .....



مجموع درجات السؤال الأول .....

السؤال الثاني ( اختياري ) ويتكون من ( أ - ب - ج ) :-

(أ) فند العبارات التالية :-

١- لا يجوز وصف ما حدث لبورصة نيويورك (وول ستريت) عام ١٩٢٩م بازمة.

٢- لعبت ملاري أنطوانيت زوجة الملك الفرنسي لويس السادس عشر دورا كبيرا في تعزيز مكانته الشعبية.



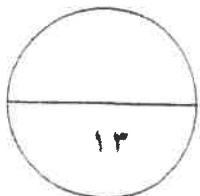
(ب) قارن بين كل من :-

أوجه المقارنة	حاكم المستعمرة الإنجليزية	المجلس النيابي في المستعمرة الإنجليزية
طريقة التعيين	.....	.....
المهام	.....	.....

(ج) علل لما يلي :-

١- ظهور الحركة النازية في ألمانيا.

٢- توقيع بريطانيا وفرنسا الاتفاق الودي عام ١٩٠٤م.



مجموع درجات السؤال الثاني .....

السؤال الثالث ( اختياري ) ويتكون من ( أ - ب - ج - د ) :-

أ) علل لما يلي :-

١- انقسام العالم سياسيا في أواخر القرن التاسع عشر وبداية القرن العشرين.



ب) دلل على صحة العبارة التالية :-

١- قامت الجمعية الوطنية الفرنسية بإصلاحات إدارية وأصبحت تدير شؤونها بشفافية وديمقراطية ودستور عام ١٧٩١م.

ج) اكتب النتائج المترتبة على الأحداث التالية :-

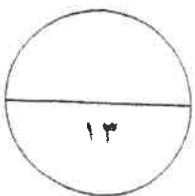
١- الثورة الأمريكية.

٢- الحرب العالمية الأولى.

د) عرف ما يلي :-

١- الكنيسة الإنجليكانية:

٢- البلقان:



مجموع درجات السؤال الثالث .....

السؤال الرابع ( اختياري ) ويتكون من ( أ - ب - ج ) :-

(أ) ماذا يحدث لو لم :-

١- تنتهك ألمانيا حياد البلجيك عام ١٩١٤م.

٢- تهاجم اليابان ميناء بيرل هاربر عام ١٩٤١م.



٣- تخسر فرنسا الحروب التي خاضتها في القرن الثامن عشر

(ب) فرق بين كل مما يلي :-

دول المحور في الحرب العالمية الثانية	دول الحلفاء في الحرب العالمية الثانية
.....	.....
.....	.....
العلاقات الدولية	الاتفاقيات الدولية
.....	.....
.....	.....

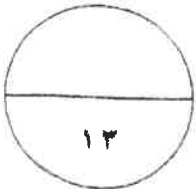
(ج) نفذ المطلوب منك ما بين الأقواس :-

(النتائج)

١- سقوط حصن الباستيل عام ١٧٨٩م.

(البنود)

٢- لائحة الحقوق الإنجليزية.



مجموع درجات السؤال الرابع .....

السؤال الخامس ( اختياري ) ويتكون من ( ا - ب - ج ) :-

( ا ) اقرأ الفقرة التالية ثم نفذ المطلوب :-

"في مساء ١٦ سبتمبر سنة ١٧٧٣م تسلل عدد من الأمريكيين إلى ميناء بوسطن ليلا والقوا بجمولة ثلاث سفن إنجليزية من الشاي في البحر، وقد أثار هذا العمل غضب البرلمان الإنجليزي الذي أصدر عدة قرارات لمعاينة ميناء بوسطن كان من أبرزها إغلاق ميناء بوسطن حتى يتم دفع ثمن الشاي وتعيين الجنرال جيدج حاكما عسكريا على بوسطن".



١- ضع عنوانا للفقرة السابقة.

٢- استخرج من الفقرة السابقة القرارات التي اتخذها البرلمان الإنجليزي لمعاينة ميناء بوسطن.

( ب ) قارن بين كل من :-

أوجه المقارنة	معركة ساراتوجا	معركة فالمي
العام	م .....	م .....
النتائج	- .....	- .....

( ج ) عدد لكل من الأسئلة التالية :-

١- العوامل التي ساعدت على نجاح الثورة الشيوعية في روسيا عام ١٩١٧م.

٢- أهداف منظمة الأمم المتحدة.

( انتهت الاسئلة )

مع تمنياتنا بالنجاح والتوفيق

أجب عن أربعة أسئلة مما يلي على أن يكون السؤال الأول من بينها إجباريا:-



السؤال الأول (إجباري) ويتكون من ( أ - ب - ج - د ):-

- (أ) أكمل العبارات التالية بما يناسبها فيما درست:- ( ٥ درجات )
- ١- الكتاب الشهير الذي ألفه المفكر الفرنسي "روسو" يسمى العقد الاجتماعي.
  - ٢- المنظمة المسؤولة عن مواجهة المشاكل الصحية تسمى منظمة الصحة العالمية (WHO) (ص ١١٨)
  - ٣- القانون الإنجليزي الذي فرض رسوما على المستندات التجارية وعقود البيع والرهن الأمريكية يسمى .. التمغة (ص ٧٨)
  - ٤- الحق الذي يتمتع به الأعضاء الدائمون في مجلس الأمن يسمى النقض (الفييتو) (ص ١١٧)
  - ٥- النهر الفرنسي الذي كان مسرحا لمعركتين حاسمتين في الحرب العالمية الأولى يسمى المارن (ص ١٠١)
- (ب) أعد ترتيب الأحداث التاريخية التالية تصاعديا من الأحدث إلى الأقدم:- ( ٥ درجات ) (ص ١١٣)
- ( سقوط موسوليني - هتلر يكتسح بولندا - استسلام فرنسا للألمان - إنزال الحلفاء في النورماندي - انتحار هتلر )

انتحار هتلر	إنزال الحلفاء في النورماندي	سقوط موسوليني	استسلام فرنسا للألمان	هتلر يكتسح بولندا
-------------	-----------------------------	---------------	-----------------------	-------------------

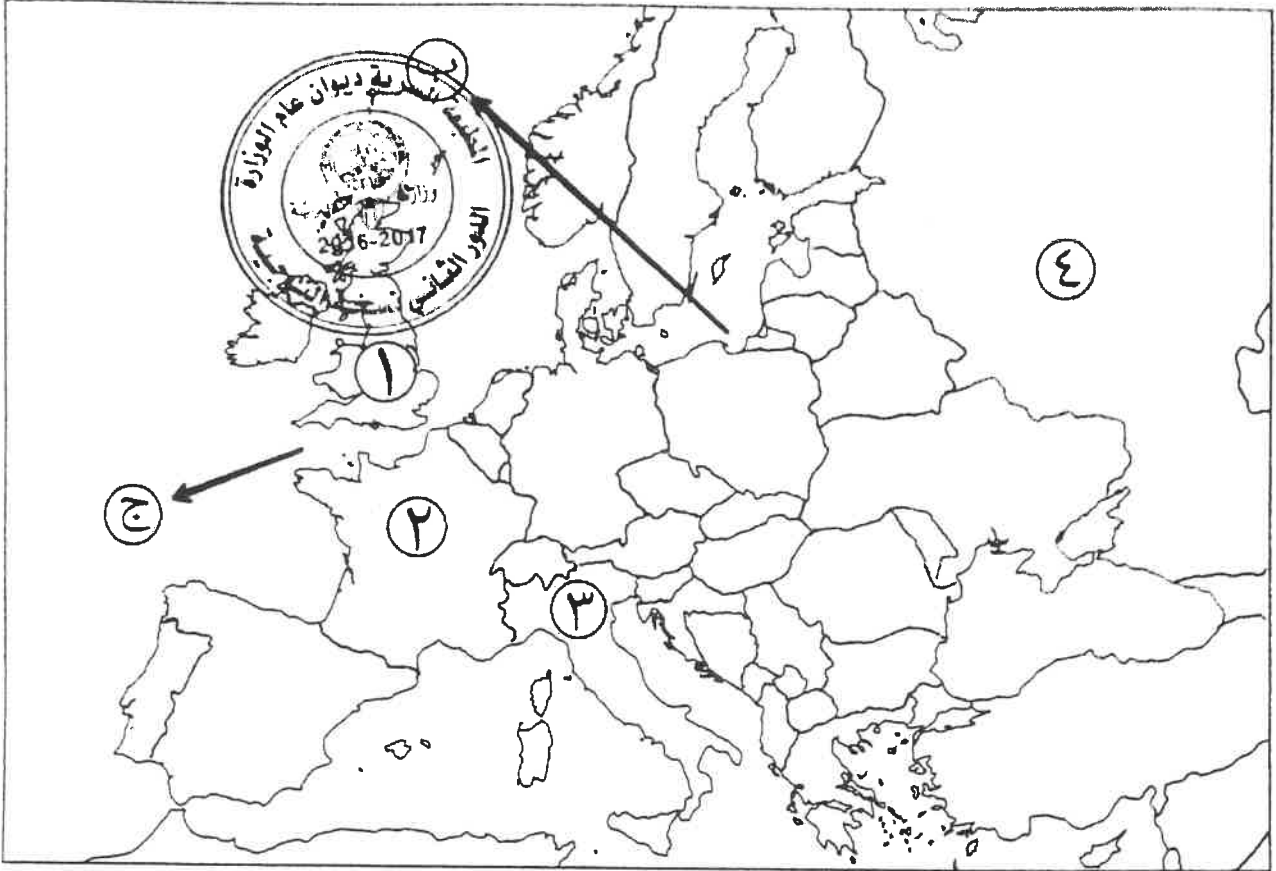
(ج) ضع أسماء المجالس التالية في مكانها الصحيح حسب الجدول التالي:- ( ٥ درجات )

( طبقات الأمة - الكونجرس - اللوردات - العموم - الخمسمائة )

مجالس إنجليزية	مجالس فرنسية	مجالس أمريكية
اللوردات (ص ٧٥) العموم (ص ٧٥)	طبقات الأمة (ص ٨٧) الخمسمائة (ص ٩٢)	الكونجرس (ص ٨١)

تابع السؤال الاول ( الإجابى ) :-

د) امامك خريطة أوروبا - اكتب الرقم أو الحرف الدال على العبارات التي تليها :-  
( لكل نقطة نصف درجة )



- الدولة التي حكمها النظام الفاشي يمثلها على الخريطة الرقم ٣.. (ص ١٠٨)
- العاصمة التي تم فيها توقيع معاهدة استقلال الولايات المتحدة الأمريكية يمثلها على الخريطة الرقم ٢.. (ص ٨٢)
- الدولة التي قامت فيها الثورة المجيدة عام ١٦٨٩م يمثلها على الخريطة الرقم ١.. (ص ٧٣)
- الممر الماني الذي كان الصراع عليه سببا مباشرا لقيام الحرب العالمية الثانية يمثلها على الخريطة الحرف ج.. (ص ١١٠)

السؤال الثانى ( اختياري ) ويتكون من ( ا - ب - ج ) :-

( ا ) فند العبارات التالية :-

- ١- لا يجوز وصف ما حدث لبورصة نيويورك (وول ستريت) عام ١٩٢٩م بأزمة. (٣ درجات) (ص ١٠٥)  
بل بالعكس حيث:  
- أفلست العديد من البنوك والمؤسسات وانخفضت الأسعار في الولايات المتحدة فقامت هذه البنوك والمؤسسات بالمطالبة بديونها من أوروبا.  
- توقف التطور الاقتصادي الأوروبي الذي اعتمد على الاستقرار المالي للولايات المتحدة فأغلقت المصانع وانهارت البنوك والمؤسسات الأوروبية.  
- شهدت الفترة ما بين ١٩٢٩/١٩٣٩م تراجعاً في التجارة الخارجية والإنتاج العالمي.
- ٢- لعبت ماري أنطوانيت زوجة الملك الفرنسي لويس السادس عشر دوراً كبيراً في تعزيز مكانته الشعبية.  
(درجتان) (ص ٨٤)  
بل على العكس حيث:  
- اشتركت في المؤامرات التي تعين وتعزل الملك.  
- عدم إحساسها بما يعانيه الشعب الفرنسي من آثار المجاعة الأمر الذي خلق شعوراً بالاستياء لدى الشعب.
- (ب) قارن بين كل من :- (٤ درجات) (ص ٧٧)



أوجه المقارنة	حاكم المستعمرة الإنجليزية	المجلس النيابي في المستعمرة الإنجليزية
طريقة التعيين	يعزل ويعين من الملك الإنجليزي	يتم انتخابه من شعب الولاية
المهام	- وهو يمثل الملك الإنجليزي في المستعمرة، والمسؤول الأول عن رعاية شؤون الولاية والمحافظة على الأمن.	- يقوم بسن القوانين والضرائب . - مراقبة الموظفين في الولاية. ( يكتفى بمهمة واحدة )

(ج) علل لما يلي :-

- ١- ظهور الحركة النازية في ألمانيا.  
- بسبب سخط الشعب الألماني على حكومته لموافقتها على شروط معاهدة فرساي المذلة له.  
- بالإضافة إلى آثار الأزمة الاقتصادية التي قاست منها ألمانيا أكثر من غيرها.  
- وبسبب انتشار الأفكار الشيوعية ومحاولة العمال الاستيلاء على السلطة.
- ٢- توقيع بريطانيا وفرنسا الاتفاق الودي عام ١٩٠٤م.  
- لشعورها بالخطر من تقدم ألمانيا الصناعي والاقتصادي.  
- ونمو قوتها البحرية مما يهدد سيادتها.

السؤال الثالث ( اختياري ) ويتكون من ( أ - ب - ج - د ) :-

أ) علل لما يلي :-

- ١- انقسام العالم سياسيا في أواخر القرن التاسع عشر وبداية القرن العشرين. (٣ درجات) (ص ٩٧) (يكتفى بثلاث)
  - بروز النزعة القومية.
  - تصادم الأيدولوجيات.
  - تضارب المصالح الاقتصادية.
  - سياسة التوسع للسيطرة على مناطق مختلفة من العالم وما صاحبه من السباق إلى التسلح.

ب) دلل على صحة العبارة التالية:

- ١- قامت الجمعية الوطنية الفرنسية بإصلاحات إدارية (٣ درجات) (ص ٨٩) (يكتفى بثلاث)
  - قسمت فرنسا إلى محافظات جغرافية وليس على أساس طبقي.
  - ألغت النظام القضائي القديم وأصبح منصب القاضي الانتخابيا.
  - إصلاح النظام الضريبي والمالي حيث وزعت الضرائب على أساس التوزيع السكاني بين جميع الأفراد وطبقا لدخل كل فرد.
  - وجهت إصلاحاتها نحو الكنيسة الفرنسية فصدر قرار بمصادرة أملاكها.

ج) اكتب النتائج المترتبة على الأحداث التالية:

- ١- الثورة الأمريكية. (٣ درجات) (ص ٨٣) (يكتفى بثلاث)
  - انتشرت عدواها إلى سكان أمريكا الجنوبية (اللاتينية).
  - تشجيع سكان المستعمرات البريطانية في آسيا وأفريقيا على القيام بثورات ضدها كي يتخلصوا من استعمارها.
  - صارت الولايات المتحدة ملاذا لدعاة الفكر من الأوروبيين ورمزا للحرية والتجديد.
  - كانت سببا مباشرا في قيام الثورة الفرنسية لأن فرنسا أنفقت أموالا طائلة في حربها ضد بريطانيا في العالم الجديد، وهي تساند الثوار وتساعدهم وتحارب إلى جانبهم مما أرهاق ميزانية الدولة الفرنسية وحملها الكثير من الديون فكانت سببا في حدوث الأزمة المالية في عهد الملك الفرنسي لويس السادس عشر سنة ١٧٨٩م.

٢- الحرب العالمية الأولى. (درجتان) (ص ١٠٢) (يكتفى بنتيجتين)

- تركت الحرب دمارا هائلا.
- خسائر مادية وبشرية فسقط ملايين القتلى والجرحى بالإضافة إلى الركود الاقتصادي في العالم.
- حدوث تغيير جذري في خريطة أوروبا السياسية.

د) عرف ما يلي :-

- ١- الكنيسة الإنجليكانية: (درجة) (ص ٧٣)
  - هي الكنيسة الإنجليزية التي تعتنق المذهب البروتستانتي المعادي بشدة للمذهب الكاثوليكي.
- ٢- البلقان: (درجة) (ص ١٠٠)
  - اصطلاح سياسي يطلق على مجموعة دول أوروبا الشرقية (يوغسلافيا السابقة - اليونان - بلغاريا - ألبانيا)

السؤال الرابع ( اختياري ) ويتكون من ( أ - ب - ج ) :-

( أ ) ماذا يحدث لو لم :-

- ١- تنتهك ألمانيا حياد البلجيك عام ١٩١٤م. (درجة) (ص ١٠٠)  
لما أعلنت بريطانيا الحرب على ألمانيا. (ما يراه المصحح مناسباً)
- ٢- تهاجم اليابان ميناء بيرل هاربر عام ١٩٤١م. (درجة) (ص ١١١)  
لما دخلت الولايات الأمريكية المتحدة الحرب العالمية الثانية إلى جانب الحلفاء. (ما يراه المصحح مناسباً)
- ٣- تخسر فرنسا الحروب التي خاضتها في القرن الثامن عشر. (درجة) (ص ٨٦)  
لما استنزفت كثير من أموال الخزانة الفرنسية.  
لما فقد الفرنسيون الكثير من المستعمرات التي كانت تدعى باسمها.  
لما قامت الثورة الفرنسية. (ما يراه المصحح مناسباً)



( ب ) فرق بين كل مما يلي :- (٤ درجات)

دول المحور في الحرب العالمية الثانية (ص ١١٠)	دول المحور في الحرب العالمية الثانية (ص ١١٠)
حلف تكون من بريطانيا وفرنسا والاتحاد السوفيتي والولايات المتحدة ودول أخرى ومستعمرات	حلف تكون من ألمانيا وإيطاليا واليابان مع بعض الدول الصغيرة.
الاتفاقيات الدولية (ص ٩٧)	العلاقات الدولية (ص ٩٧)
تشريعات يتفق عليها دولياً وهي مقننة تلتزم الدول المشتركة بها.	الاتصالات بين الدول وبين المنظمات الدولية في جميع المجالات.

( ج ) نفذ المطلوب منك ما بين الأقواس :-

- ١- سقوط حصن الباستيل عام ١٧٨٩م. (٣ درجات) (ص ٨٨) (يكتفى بثلاث) (النتائج)  
- عمت الفوضى في كل مكان.  
- وتوقف الفلاحون عن دفع الضرائب.  
- وانقض الفلاحون على قصور النبلاء وأحرقوا الوثائق التي تعطيهم حقوقاً إقطاعية.  
- هجرة العديد من النبلاء إلى خارج فرنسا.
- ٢- لاتحة الحقوق الإنجليزية. (٣ درجات) (ص ٧٤) (يكتفى بثلاث) (البنود)  
- لا يجوز للملك إبطال أو تعديل قانون صادر من البرلمان.  
- لا يحق للملك فرض ضرائب جديدة أو تشكيل جيش أو إعلان حرب دون موافقة البرلمان.  
- للبرلمان الحق الكامل في التعبير عن آرائهم بحرية تامة.  
- أعطى البرلمان حصانة للمواطنين بحيث لا يمكن اعتقال مواطن دون محاكمة تجرى وفق القوانين السائدة.

السؤال الخامس ( اختياري ) ويتكون من ( أ - ب - ج ) :-

(أ) اقرأ الفقرة التالية ثم نفذ المطلوب :- (3 درجات) (ص ٧٩)  
 "في مساء ١٦ سبتمبر سنة ١٧٧٣م تسلل عدد من الأمريكيين إلى ميناء بوسطن ليلا وألقوا بحمولة ثلاث سفن إنجليزية من الشاي في البحر، وقد أثار هذا العمل غضب البرلمان الإنجليزي الذي أصدر عدة قرارات لمعاقبة ميناء بوسطن كان من أبرزها إغلاق ميناء بوسطن حتى يتم دفع ثمن الشاي وتعيين الجنرال جيدج حاكما عسكريا على بوسطن".

١- ضع عنوانا للفقرة السابقة.  
 حفلة شاي بوسطن ١٧٧٣م. (أو ما يراه المصحح مناسباً)

٢- استخرج من الفقرة السابقة القرارات التي اتخذها البرلمان الإنجليزي لمعاقبة ميناء بوسطن.  
 - إغلاق ميناء بوسطن حتى يتم دفع الشاي.  
 - تعيين الجنرال جيدج حاكما عسكريا على بوسطن.



(ب) قارن بين كل من: (٤ درجات)

المعيار	معركة ساراتوجا (ص ٨٢)	معركة فالمي
العام	١٧٧٧ م	١٧٩٢ م
النتائج	- خسر الإنجليز جيشا كاملا من ٦ آلاف جندي واستسلم. - سيطر الأمريكيون على حوض هدسون. - إقرار فرنسا باستقلال الثوار الأمريكيين ودخولها الحرب إلى جانبهم. - زاد تعاطف الشعوب الأوروبية مع الثورة الأمريكية. (يكتفى بنتيجة واحدة)	- أنقذت أفكار الثورة الفرنسية من الضياع. - حالت دون وقوع باريس. - رفعت الروح المعنوية للفرنسيين. - تحول جيش الثورة من الفاع للهجوم وأصبح مصدر رعب للدول الأوروبية فيما بعد. (يكتفى بنتيجة واحدة)

(ج) عدد لكل من الأسئلة التالية :-

١- العوامل التي ساعدت على نجاح الثورة الشيوعية في روسيا عام ١٩١٧م. (٣ درجات) (ص ١٠٦)  
 - فساد الحكم القيصري في روسيا واستبداده.  
 - الهزائم الكبرى التي حلت بالجيش الروسي منذ عام ١٩٠٥م على يد اليابان ثم الحرب العالمية الأولى وسقوط ملايين القتلى والجرحى.  
 - سوء الحالة الاقتصادية التي تأثر بها العمال والفلاحون وانتشار البطالة والمجاعات والأمراض.  
 - شخصية لينين وقدرته على إقناع الجماهير من خلال رفعه شعاره المشهور (السلام للجيش/الغذاء للجميع/الغذاء للجميع/الحكم للسوفيت) وتنظيم الحزب الشيوعي. (يكتفى بثلاث)

٢- أهداف منظمة الأمم المتحدة. (٣ درجات) (ص ١١٦) (يكتفى بثلاث)  
 - المحافظة على الأمن والسلام الدوليين وحل النزاعات بالطرق السلمية.  
 - تنمية العلاقات الدولية بين الدول على المساواة واحترام حقوق الإنسان.  
 - تحقيق التعاون الدولي في جميع المجالات.  
 - تكون الأمم المتحدة أداة للتنسيق بين أعمال الدول والمنظمات الأخرى.