

تم تحميل هذا الملف من موقع المناهج الكويتية



مذكرات النجاح

الملف مذكرة النجاح الإثرائية

[موقع المناهج](#) ← [المناهج الكويتية](#) ← [الصف السادس](#) ← [اجتماعيات](#) ← [الفصل الثاني](#)

روابط مواقع التواصل الاجتماعي بحسب الصف السادس



روابط مواد الصف السادس على تلغرام

[الرياضيات](#)


[اللغة الانجليزية](#)

[اللغة العربية](#)

[التربية الاسلامية](#)

المزيد من الملفات بحسب الصف السادس والمادة اجتماعيات في الفصل الثاني

<a href="#">مراجعة</a>	1
<a href="#">مراجعة</a>	2
<a href="#">مراجعة</a>	3
<a href="#">مذكرة في مادة الاجتماعيات</a>	4
<a href="#">مراجعة محلولة ومفيدة في مادة الاجتماعيات</a>	5



# اجتماعيات

## الفصل الثاني

6

الصف السادس



2025-2024



مذكرات  
النجاح  
طريقك  
للنجاح



66279318



# لماذا؟

## مذكرات النجاح

### اختبارات الكترونية لكل درس

الاسئلة الأكثر تكراراً  
في الاختبارات السابقة



- 1 شاملة ومختصرة
- 2 ملونة ومرتبطة
- 3 اختبارات قصيرة
- 4 اختبارات نهائية
- 5 مرتبة حسب الدروس
- 6 محلولة

## فهرس المذكرة / بلادي الكويت

٣. الموارا الاقآصاءية لءول الخليآ	
٦	١-٣ الثروة النفطية
٩	٢-٣ الموارا الزراعية
١٢	٣-٣ الموارا الصناعية
١٥	٤-٣ الموارا التجارية
٤. ءول الخليآ العربية آنمو سكانيا وتآشابه ثقافيا	
١٧	١-٤ السكان في المنطقة العربية
٢٣	٢-٤ التآشابه الثقافي بين سكان ءول الخليآ العربية
٥. الكويت وءول الخليآ العربية في مواآهة الآآياآ	
٢٦	١-٥ آعاون ءولة الكويت مع ءول الخليآ العربية
٣١	٢-٥ المشكلاآ البيئية التي آواجه ءول الخليآ العربية
٣٨	٣-٥ المشكلاآ الاجآماعية التي آواجه ءول الخليآ العربية
٤٤	٤-٥ آرائط ءول الخليآ
٤٧	٥-٥ نماآآ آآباراآ قصىرة + الآ
٥٤	نماآآ آآباراآ نهائية + الآ

# الموارد الاقتصادية لدول الخليج



اختبار  
الالكتروني  
تدرب  
و تعلم

## ١-٣ الثروة النفطية

عرف المفاهيم التالية:

١

- ١ احتياطي النفط: كميات النفط المخزونة في باطن الأرض
- ٢ إنتاج النفط: كميات النفط التي يتم استخراجها للاستفادة منها

أكمل العبارات التالية بما يناسبها:

٢

- ١ تم تصدير أول شحنة من النفط في عام ١٩٤٦م في عهد الشيخ أحمد الجابر.
- ٢ أهم الدول المستوردة للنفط هي الولايات المتحدة الأمريكية وهولندا واليابان
- ٣ الدولة الخليجية التي تحتل المركز الأول في إنتاج النفط تسمى السعودية.
- ٤ تحتل دولة الكويت في إنتاج النفط المركز الثاني وتشاركها في هذا المركز دولة تسمى الإمارات.
- ٥ تم اكتشاف كميات ضخمة من النفط في حقل يسمى برقان.
- ٦ يقع حقل بحرة النفط في جهة الشمال.
- ٧ كميات النفط المخزونة في باطن الأرض تعرف باسم احتياطي النفط.
- ٨ كميات النفط التي يتم استخراجها للاستفادة منها تعرف باسم إنتاج النفط.
- ٩ الدولة الخليجية التي يوجد بها حقل عوالي النفطي تسمى البحرين.
- ١٠ الدولة الخليجية التي يوجد بها حقل الفهود النفطي تسمى عمان.
- ١١ العام الذي بدأ فيه التنقيب عن النفط في دولة الكويت ١٩٣٤م.
- ١٢ أول حقل نفطي اكتشف في دولة الكويت عام ١٩٣٤ اسمه بحر..
- ١٣ حاكم دولة الكويت الموضح بالصورة اسمه الشيخ أحمد الجابر رحمه الله



١ عدم تصدير جميع الإنتاج النفطي.

◀ حتى يتم الاحتفاظ بجزء احتياطي للأجيال القادمة

٢

ظهرت الحاجة لإقامة العديد من الموانئ النفطية في دول الخليج العربية.

◀ تزايد الإنتاج النفطي لدول مجلس التعاون من الحقول البرية والبحرية.

◀ تزايد الطلب العالمي كمصدر أساسي للطاقة.

٤

فرق بين كلاً من:

إنتاج النفط	احتياطي النفط
كميات النفط التي يتم استخراجها للاستفادة منها.	كميات النفط المخزونة في باطن الأرض.

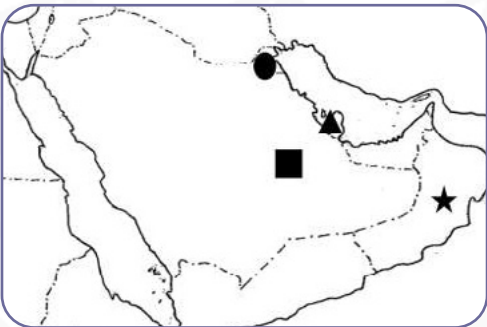
أكمل الجدول التالي:

٥

الدولة	حقل النفط	ميناء التصدير
الإمارات	مريان	جبل الظنة
البحرين	عوالي	سترة
السعودية	الغوار	رأس تنورة
عمان	ناطح	الفحل
قطر	دخان	امسيعيد
الكويت	برقان	الأحمدي

لاحظ خريطة دول الخليج العربية ثم اكتب مدلول الرموز التالية:

٦



١ ★ حقل الفهود

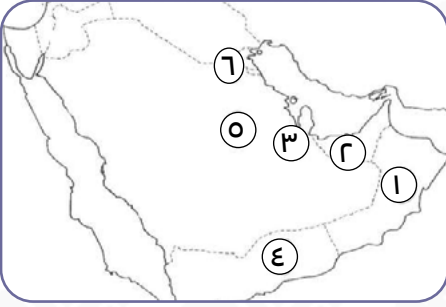
٢ ● ميناء الأحمدى

٣ ■ حقل غوار

٤ ▲ حقل دخان

لاحظ خريطة دول الخليج العربية ثم استعن بالأرقام التي عليها لإكمال العبارات التالية: (١)

٧



- ١ الدولة التي يوجد بها حقل الغوار يمثلها على الخريطة رقم (٥)
- ٢ الدولة التي يوجد بها حقل دخان يمثلها على الخريطة رقم (٣)
- ٣ الدولة التي يوجد بها سهل الباطنة يمثلها على الخريطة رقم (١)
- ٤ الدولة التي يوجد بها حقل بركان يمثلها على الخريطة رقم (٦)



اختبار  
الالكتروني  
تدرب  
و تعلم

## ٢-٣ الموارد الزراعية

١ عرف المفاهيم التالية:

١ الزراعة بدون تربة : هي الزراعة التي تتم في بيئة مائية، أو رملية، أو حصى، أو نشارة خشب تضاف إليها المحاليل الغذائية.

٢ بيوت بلاستيكية : يزرع فيها الخضراوات في غير مواسمها وتقوم بحماية المحاصيل من تقلبات الطقس.

٢ صحح ماتحته خط بكتابة الإجابة الصحيحة بين الأقواس

١ الزراعة التي تتم في بيئة مائية، أو رملية، أو حصى، أو نشارة خشب البيوت بلاستيكية (الزراعة بدون تربة)

٢ يوجد سهل الباطنة في دولة عربية خليجية تسمى الكويت (عمان)

٣ علل لما يلي :

١ استخدام البيوت البلاستيكية في الزراعة بمنطقة الخليج العربي

◀ لزراعة الخضراوات في غير مواسم أوقاتها  
◀ تقوم بحماية المحاصيل من تقلبات الطقس

٤ أكمل العبارات التالية بما يناسبها:

١ نجحت المملكة العربية السعودية في زراعة وإنتاج محصول زراعي يسمى القمح.

٥ اختر البديل الصحيح من بين البدائل التي تلي كل عبارة مما يلي وضع خطا تحته:

١ الدولة التي تقع فيها منطقة الإحساء

د السعودية

ج الإمارات

ب قطر

أ الكويت



اقرأ الفقرة التالية ثم أجب عن ما يليها من أسئلة:

٦

تبذل الحكومات الخليجية أفضل الجهود للتغلب على الصعوبات التي تواجه الأراضي الزراعية ومنها توفير الأراضي الصالحة للزراعة، تقديم البذور الجيدة، توفير المياه، وللمملكة السعودية العربية تجربة رائدة في إنتاج محصول القمح.

١ اذكر المحصول التي نجحت في إنتاجه المملكة السعودية العربية

القمح

٢ استخراج من القطعة جهود الحكومات الخليجية في تطوير الزراعة

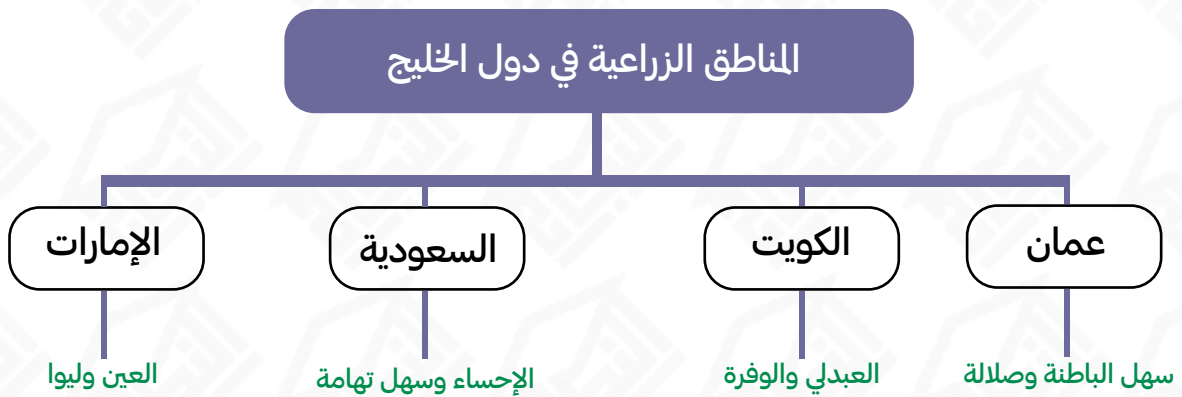
توفير الأراضي الصالحة للزراعة

تقديم البذور الجيدة

توفير المياه

أكمل المخطط السهمي التالي:

٧



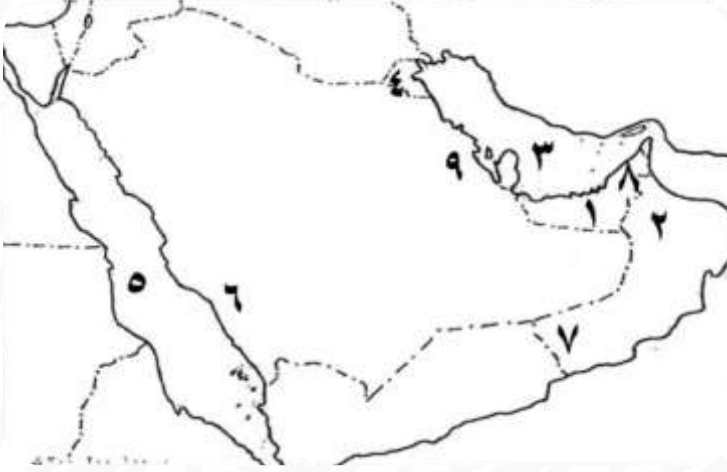
بيوت بلاستيكية

يزرع فيها الخضراوات في غير مواسمها وتقوم بحماية المحاصيل من تقلبات الطقس.

الزراعة بدون تربة

هي الزراعة التي تتم في بيئة مائية، أو رملية، أو حصى، أو نشارة خشب تضاف إليها المحاليل الغذائية.

لاحظ خريطة دول الخليج العربية ثم اكتب مدلول الأرقام التالية:



١ الخليج العربي يمثل الرقم ٣

٢ سهل تهامة يمثل الرقم ٦

٣ سهل الباطنة يمثل الرقم ٢

٤ البحر الأحمر يمثل الرقم ٥

٥ صلالة يمثلها الرقم ٧

٦ الاحساء يمثلها الرقم ٩

ضع عنواناً مناسباً للصور والأشكال التالية:



الزراعة بدون تربة



الزراعة في بيوت بلاستيكية



اختبار  
الالكتروني  
تدرب  
و تعلم

## ٣-٣ الموارد الصناعية

١ عرف المفاهيم التالية:



١ الدخل القومي: هو مجموع الدخول التي تحصل عليها الدولة خلال عام.

٢ الصناعة: تحويل المواد الخام إلى مواد يمكن الاستفادة منها.

٢ اختر الإجابة **غير** الصحيحة لكل من العبارات بوضع علامة  في المربع المقابل لها:



١ أهم الصناعات في منطقة الشعبية بالكويت :

أ المنسوجات  ب البترو كيمياويات  ج تكرير النفط



٢ أهم المناطق الصناعية بالمملكة العربية السعودية :

أ الجبيل  ب صحار  ج ينبع



٣ توجد منطقة صحار الصناعية في دولة :

أ السعودية  ب عمان  ج قطر

٣ أكمل العبارات التالية بما يناسبها:

١ أنواع الصناعات القائمة على النفط بدول مجلس التعاون الخليجي البتروكيمياويات، الغاز



تكرير النفط.



٢ تشتهر دولة عمان بصناعة تسمى النحاس.

علل لما يلي :

٤

١ ازدهار الصناعة في دول الخليج العربي.

◀ بسبب اكتشاف النفط وتصديره.

◀ لزيادة الكميات المصدرة وبالتالي زيادة الدخل.

٢

اهتمام دول الخليج العربية بالتوسع في صناعة تكرير النفط.

◀ لزيادة الكميات المصدرة وبالتالي زيادة الدخل القومي

أكمل الجدول التالي:

٥

الدولة	المناطق الصناعية	تكرير النفط والغاز بتروكيماويات
الكويت	الشعبية	تكرير النفط - الغاز - بتروكيماويات
السعودية	الجبيل	تكرير النفط - بتروكيماويات
	الرياض	تكرير النفط
	ينبع	تكرير النفط - الغاز - بتروكيماويات
البحرين	شمال سترة	تكرير النفط - الغاز - بتروكيماويات
قطر	امسيعيد	تكرير النفط - الغاز - بتروكيماويات
الإمارات	الرويس	تكرير النفط - الغاز - بتروكيماويات
	جبل علي	تكرير النفط - الغاز - بتروكيماويات
عمان	الفحل	تكرير النفط - بتروكيماويات
	صحار	النحاس

٦

صنف أسماء المناطق الخليجية التالية حسب مكانها الصحيح في الجدول أدناه :

( امسيعيد - العبادلي - شمال سترة - اهفوف - جبل علي - سهل الباطنة )

مناطق زراعية	مناطق صناعية
العبادلي- اهفوف- سهل الباطنة	امسيعيد- شمال سترة - جبل علي



أنواع الصناعات القائمة على النفط في دول الخليج العربي

تكرير النفط

الغاز

البتروكيماويات



اختبار  
الالكتروني  
تدرب  
و تعلم

### ٣. الموارد التجارية

١ عرف المفاهيم التالية:



١ الصادرات: السلع والمنتجات التي تبيعها دولنا في الخارج.



٢ الواردات: البضائع والسلع التي تشتريها دولنا من الخارج.

٣ الترانزيت: إعادة تصدير البضائع المستوردة.

٢ علل ما يلي:

١ انتعاش الموانئ التجارية في دول الخليج العربية.

٢ < حيث ترتبط دول مجلس التعاون بعلاقات تجارية مع دول العالم وفيما بينها أيضًا متمثلة بالصادرات والواردات حيث كان لها دورًا بارزًا في تجارة الترانزيت.

٣ ما النتائج المترتبة على:

١ ارتباط دول مجلس التعاون بعلاقات تجارية مع دول العالم وفيما بينها

٢ < انتعاش الموانئ التجارية في دول الخليج العربية

٣ < ارتفاع الدخل القومي للدول

٤ فرق بين كلاً من :

الصادرات	الواردات	الترانزيت
السلع والمنتجات التي تبيعها دولنا في الخارج.	البضائع والسلع التي تشتريها دولنا من الخارج.	إعادة تصدير البضائع المستوردة.

٥ أكتب أسفل كل صورة (صادرات - واردات):



صادرات



صادرات



واردات



# لطلب المذكرة الكاملة



**66279318**