

4



# التناظر

أحدث وأقوى سلسلة كتب تعليمية للمرحلتين الابتدائية والإعدادية

## الدراسات الاجتماعية نماذج اختبارات نهائية

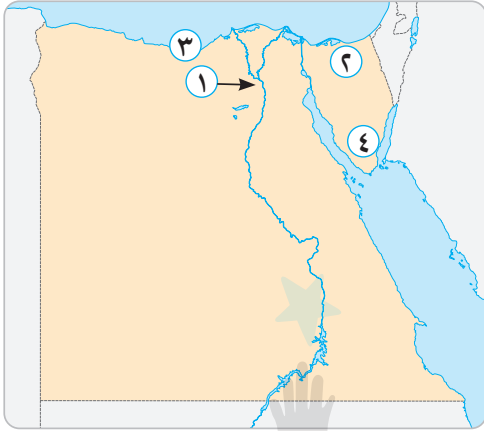
الصف الرابع الابتدائي  
الفصل الدراسي الثاني



## النموذج الأول



**السؤال الأول: ( أ )** أمامك خريطة صماء لمصر ، وضح مدلول الأرقام التي عليها :



١ يشير رقم (١) إلى محافظة يوجد بها تمثال

أبو الهول .....

٢ يشير رقم (٢) إلى محافظة تشتهر

بسباق الهجن .....

٣ يشير رقم (٣) إلى محافظة بها سياحة

ترفيهية .....

٤ يشير رقم (٤) إلى محافظة يقل بها

السكان .....

( ب ) بم تفسر ؟

١ ارتفاع عدد سكان محافظة القاهرة .

٢ أهمية التراث المصري .

٣ انخفاض نسبة الأمية بين سكان الحضر .

**السؤال الثاني: ( أ )** اختر الإجابة الصحيحة من بين الإجابات الآتية :

١ أدت الهجرة من الريف إلى المدن إلى :

أ ظهور المتنزهات

ب ظهور العشوائيات

ج زيادة أفراد الأسرة

د التخطيط العمراني

٢ اعتبرت منظمة اليونسكو يوم ٨ سبتمبر من كل عام يومًا دوليًا لـ :

أ المرأة

ب الطفولة

ج محو الأمية

د العمل الخيري

٣ إذا أردت التمتع بالمناظر الخلابة والشعاب المرجانية، فعليك زيارة مدينة :

أ مرسى مطروح

ب شرم الشيخ

ج العلمين

د الإسكندرية

( ب ) قارن بين : ( يكتفى باثنتين )

- مهام رئيس الجمهورية - مهام المحافظ



**السؤال الثالث : ( أ )** تخير الإجابة الصحيحة من بنك الكلمات الآتية :

( فينيقيا - التحطيب - المتوسط - الأحمر - اللوتس - الضوئية )

- ١ يقع ميناء دمياط على البحر .....
- ٢ تم تصميم برج القاهرة على شكل زهرة .....
- ٣ أرسل الملك سنفرو رحلات تجارية إلى بلاد .....
- ٤ الدائرة الصفراء في إشارة المرور من علامات المرور .....
- ٥ فن مصري أدرجته منظمة اليونسكو على قائمة التراث العالمي .....

( ب ) اكتب دليلاً واحدًا على صحة كل مما يلي :

- ١ لعبت اليونسكو دورًا مهمًا في إنقاذ آثار النوبة .
- ٢ أثرت وسائل النقل في حياة الشعوب عبر العصور .

**السؤال الرابع : ( أ )** اكتب كلمة ( صح ) أمام العبارة الصحيحة وكلمة ( خطأ ) أمام العبارة الخاطئة :

- ١ يقع مطار برج العرب في محافظة أسوان . ( )
- ٢ تقوم الحكومة بإعداد الموازنة العامة للدولة . ( )
- ٣ أمر الملك خضوع بنحت تمثال أبو الهول بمحافظة الجيزة . ( )
- ٤ الخلود عند المصريين القدماء هو العودة إلى الحياة بعد الموت . ( )
- ٥ علامات المرور الإرشادية هي علامات توضح معالم الطريق للسائق . ( )
- ٦ الجهاز المركزي للمحاسبات هو المسئول عن إجراء التعداد السكاني في مصر . ( )

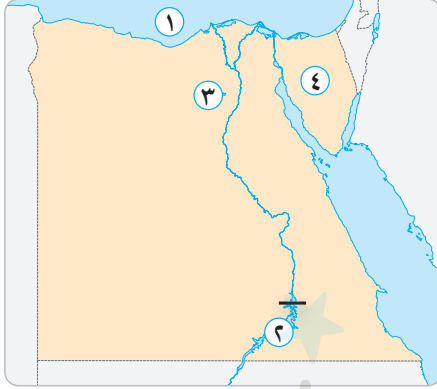
( ب ) اكتب نتيجة واحدة ترتبت على كل مما يلي :

- ١ هجرة سكان الريف إلى المدن .
- ٢ إهدار الكثير من الوقت على شبكات التواصل الاجتماعي .

## النموذج الثاني



السؤال الأول: ( أ ) أمامك خريطة صماء لمصر ، وضح مدلول الأرقام التي عليها :



١ البحر .....

٢ السد .....

٣ تقع منطقة وادي الحيتان في محافظة .....

٤ شبه .....

( ب ) اكتب المصطلح الذي تشير إليه العبارة الآتية :

■ جهاز مسئول عن إجراء التعداد السكاني . (.....)

( ج ) اكتب دليلاً واحداً على :

■ اهتمام الدولة بوسائل النقل .

السؤال الثاني: ( أ ) قارن بين : ( يكتفى بنقطتين )

مهام رئيس الجمهورية - مهام المحافظ .

( ب ) تخير الإجابة الصحيحة من بنك الكلمات الآتية :

( الإسكندرية - الجوي - القاهرة - البري - الجيزة )

١ مدينة تاريخية وتعد من أكبر المدن التراثية في العالم .....

٢ توجد الأهرامات الثلاثة في محافظة .....

٣ تم مد أول خط سكة حديد في مصر بين القاهرة و .....

٤ وسيلة نقل تعد من أسرع وسائل النقل هو النقل .....

السؤال الثالث: ( أ ) اكتب كلمة ( صح ) أمام العبارة الصحيحة وكلمة ( خطأ ) أمام العبارة الخاطئة :

١ الأمية المعلوماتية تعني عدم قدرة الفرد على القراءة والكتابة . ( )

٢ زيارة مدن البحر الأحمر للتمتع بالمناظر الخلابة تعد سياحة ثقافية . ( )



• اختبارات الفصل الدراسي الثاني

- ١ أصدرت الدولة قوانين تجرم الاتجار بالآثار والاعتداء عليها . ( )
- ٢ تم وضع علامات ضوئية على شكل إنسان لتنظيم عبور المشاة . ( )
- ٣ تواصل الإنسان في العصور التاريخية عبر الأصوات العالية . ( )
- ( ب ) اكتب سببًا واحدًا لأهمية منطقة مصر القديمة سياحيًا .
- ( ج ) اكتب نتيجة واحدة ترتبت على استخدام وسائل النقل المستدام .

السؤال الرابع : ( أ ) اختر الإجابة الصحيحة من بين الإجابات الآتية :

- ٤ إذا أردت تصدير مصادر الطاقة عبر موانئ البحر المتوسط، فعليك بالتوجه إلى ميناء :
- أ سفاجا      ب دمياط      ج السويس      د الغردقة
- ٥ وسيلة نقل دخلت إلى مصر في عهد الخديوي توفيق وكانت تعمل بالبخار هي :
- أ البواخر      ب الطائرات      ج القوارب      د السيارات
- ٦ إذا قمت بتخطيط لرحلة سياحية لمناطق السياحة العلاجية في مصر، فإنك تختار :
- أ مكتبة الإسكندرية      ب واحة سيوة      ج المتحف المصري      د خان الخليلي
- ٧ ينفرد أهل النوبة بالتحدث باللغة :
- أ الهيروغليفية      ب الأمازيغية      ج اليونانية      د النوبية
- ٨ عند زيارتك للأهرامات الثلاثة، فإنك تشاهد آثارًا ترجع للحضارة :
- أ المصرية القديمة      ب اليونانية      ج الرومانية      د القبطية
- ٩ توضح الصورة المقابلة أحد الفنون التراثية المنتشرة في محافظة :
- أ جنوب سيناء      ب الأقصر      ج القاهرة      د الإسكندرية

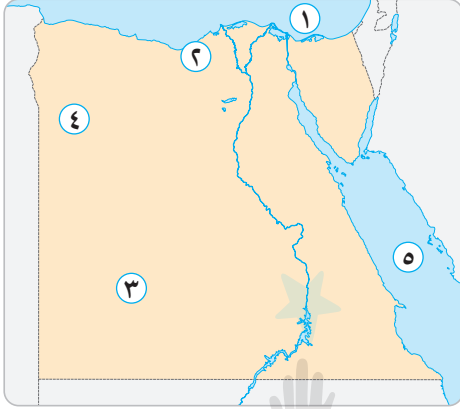


( ب ) ما العلاقة بين السد العالي وآثار النوبة ؟

## النموذج الثالث



السؤال الأول: ( أ ) أمامك خريطة صماء لمصر ، وضح مدلول الأرقام التي عليها :



- ١ يشير الرقم (١) إلى البحر .....
- ٢ يشير الرقم (٢) إلى منطقة (أبو مينا) التراثية وتقع في محافظة .....
- ٣ يشير الرقم (٣) إلى محافظة تنخفض بها نسبة الأمية، وهي محافظة .....
- ٤ يشير الرقم (٤) إلى واحة تشتهر بالعيون الكبرى، وهي واحة .....
- ٥ يشير الرقم (٥) إلى البحر .....
- ( ب ) ما النتائج المترتبة على .

- ١ اعتقاد المصريين القدماء في البعث والخلود .
- ٢ صعوبة مظاهر السطح وندرة المياه في محافظة جنوب سيناء .

السؤال الثاني: ( أ ) اختر الإجابة الصحيحة من بين الإجابات الآتية :

- ١ تقع منطقة وادي الحيتان في محافظة :  
 أ الإسكندرية ب الفيوم ج المنيا د السويس
- ٢ إحدى مناطق التراث الثقافي في مصر :  
 أ محمية رأس محمد ب محمية وادي الحيتان ج معبد الكرنك د جبل موسى
- ٣ تم مد أول خط سكة حديد بين القاهرة و :  
 أ السويس ب الجيزة ج المنيا د الإسكندرية
- ٤ زيارة خان الخليلي في القاهرة تعد سياحة :  
 أ مؤتمرات ب علاجية ج ثقافية د ترفيهية
- ٥ تم إنشاء متحف السيرة الهلالية في محافظة :  
 أ قنا ب شمال سيناء ج مطروح د الوادي الجديد
- ٦ استخدم الإنسان للتواصل في عصور ما قبل التاريخ :  
 أ التليفون ب الحمام الزاجل ج الطبول د البريد



( ب ) اكتب تفسيراً واحداً لكل مما يلي :

- ١ أهمية التراث الثقافي المصري .
- ٢ اهتمام مصر بالتوسع في استخدام وسائل النقل المستدام .

( ج ) تخير الإجابة الصحيحة من بنك الكلمات الآتية :

( الهكسوس - البردي - الوجه القبلي )

- ١ كتب المصري القديم الرسائل على ورق .....
- ٢ عرف المصريون القدماء العربات الحربية بعد تعرض مصر لغزو .....
- ٣ فن التحطيب من الفنون التراثية في محافظات .....

**السؤال الثالث : ( أ ) صوب ما تحته خط :**

- ١ الشرقية إحدى المحافظات الحضرية في مصر .
- ٢ بدأت العصور التاريخية بمعرفة الإنسان للزراعة .
- ٣ يتولى رئيس الجمهورية منصبه عن طريق التوريث .
- ٤ أرسلت الملكة حتشبسوت بعثة تجارية إلى بلاد الصين .

( ب ) أجب عن الأسئلة الآتية :

- ١ فسر: أهمية السياحة للاقتصاد الوطني .
- ٢ اكتب حالة واحدة يفضل فيها استخدام النقل الجوي .
- ٣ اكتب أحد أدوارك كمواطن للحفاظ على وسائل النقل الجماعي .

**السؤال الرابع : ( أ ) اكتب كلمة ( صح ) أمام العبارة الصحيحة وكلمة ( خطأ ) أمام العبارة الخاطئة :**

- ١ يتوزع السكان في كل محافظات مصر بالتساوي . ( )
- ٢ تعتبر جامعة أون أول جامعة في التاريخ . ( )
- ٣ ازدهرت السياحة العلاجية في مصر لوجود العيون الكبرى والرمال الساخنة . ( )
- ٤ مصر أولى دول إفريقيا والشرق الأوسط في استخدام القطارات . ( )
- ٥ تم توصيل أول خط هاتفي في مصر عام ١٨٨١ م بين القاهرة والسويس . ( )

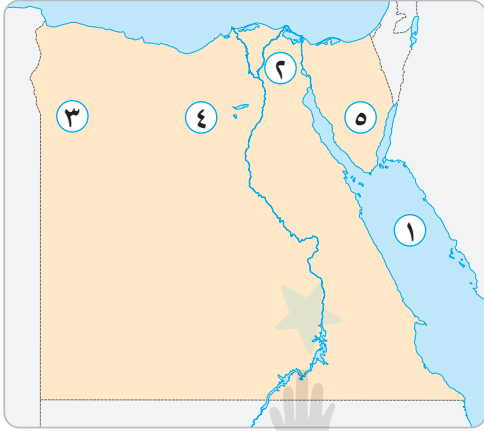
( ب ) اذكر اثنتين من مميزات الإنترنت .

( ج ) ما العلاقة بين استخدام السيارات والبيئة ؟

## النموذج الرابع



السؤال الأول: ( أ ) أمامك خريطة صماء لمصر ، وضح مدلول الأرقام التي عليها :



- ١ البحر .....
- ٢ محافظة مرتفعة الكثافة السكانية .....
- ٣ واحة تشتهر بإنتاج التمور .....
- ٤ محمية طبيعية .....
- ٥ محافظة بها دير سانت كاترين .....

( ب ) اذكر سببًا واحدًا ل :

- يزداد متوسط حجم الأسرة في الريف عن الحضر .

السؤال الثاني: ( أ ) اكتب كلمة ( صح ) أمام العبارة الصحيحة وكلمة ( خطأ ) أمام العبارة الخاطئة :

- ١ يقيم معظم السكان الذين يعملون بالزراعة في المدن . ( )
- ٢ كلما زادت نسبة الأمية، زادت معها فرصة الحصول على عمل . ( )
- ٣ تساعد الحكومة رئيس الجمهورية في إدارة شؤون البلاد . ( )
- ٤ زيارة السائحين لمعبد الأقصر تعد زيارة لمنطقة تراث طبيعي . ( )
- ٥ ساهمت منظمة اليونسكو في إنقاذ معبد إيزيس بجزيرة فيلة . ( )
- ٦ تعد مصر أولى الدول عربيًا وإفريقيًا في إنشاء مترو الأنفاق . ( )

( ب ) ما النتائج المترتبة على ؟

اعتقاد المصريين القدماء في البعث والخلود .

السؤال الثالث: ( أ ) اختر الإجابة الصحيحة من بين الإجابات الآتية :

- ١ تنتشر رقصة البمبوتية بين سكان محافظة :  
 أ الإسكندرية      ب قنا      ج القاهرة      د السويس
- ٢ وسيلة نقل دخلت إلى مصر في عهد الخديوي توفيق :  
 أ البواخر      ب الطائرات      ج القوارب      د السيارات
- ٣ يرجع حصن بابلون إلى عصر الحكم :  
 أ الروماني      ب البطلمي      ج القبطي      د الإسلامي



• اختبارات الفصل الدراسي الثاني

٤ يجب عليك عند عبور الطريق الالتزام بقواعد عبور المشاة مثل :

- أ استخدام كباري العبور  
ب ترك المقاعد لكبار السن  
ج السير وسط الطريق  
د استخدام آلة التنبيه

٥ استخدم الإنسان قديمًا في إرسال الرسائل :

- أ النار  
ب الهاتف  
ج البريد  
د الحمام الزاجل

٦ أرسلت الملكة حتشبسوت رحلاتها التجارية إلى بلاد بونت باستخدام :

- أ السيارات  
ب السفن  
ج الطائرات  
د القطارات

( ب ) ما العلاقة بين تمثال أبو الهول والملك خفرع ؟

السؤال الرابع : ( أ ) صوب ما تحته خط :

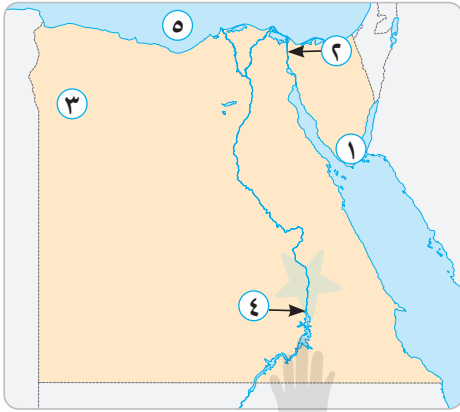
- ١ تقع بحيرة ناصر شمال مصر .  
٢ تقع منطقة أبو مينا في محافظة القاهرة .  
٣ استخدم المصريون القدماء ورقًا مصنوعًا من زهرة اللوتس للكتابة عليه .  
٤ تعد أول جامعة في التاريخ جامعة الإسكندرية .  
٥ يقع دير سانت كاترين في محافظة شمال سيناء .  
٦ يعد النقل الجوي أرخص وسائل النقل .

( ب ) ما رأيك في الموقف التالي : شخص يتحدث في الهاتف أثناء قيادة السيارة ؟

## النموذج الخامس



**السؤال الأول: ( أ )** أمامك خريطة صماء لمصر ، وضح مدلول الأرقام التي عليها :



١ مدينة اختارتها منظمة اليونسكو كأفضل مدينة سلام في العالم

٢ قناة .....

٣ واحة .....

٤ محافظة يوجد بها معبد فيلة .....

٥ البحر .....

( ب ) بم تفسر ؟ انخفاض نسبة الأمية بين سكان الحضر .

**السؤال الثاني: ( أ )** اكتب كلمة ( صح ) أمام العبارة الصحيحة وكلمة ( خطأ ) أمام العبارة الخاطئة :

١ يقيم معظم السكان الذين يعملون بالزراعة في الحضر . ( )

٢ فن التحطيب من وسائل الترفيه في الصعيد . ( )

٣ زيارة أهرامات الجيزة والمتاحف تعد سياحة ثقافية . ( )

٤ زيارة العيون الكبرى والرمال الساخنة تعد سياحة علاجية . ( )

٥ النقل البري يُعد أرخص وسائل النقل . ( )

٦ الأطفال يرسمون على مقاعد المترو يعد ذلك سلوكاً مقبولاً . ( )

٧ يُعد دير سانت كاترين من أقدم الأديرة الدينية في مصر . ( )

( ب ) ما نتيجة تمتع مصر بجو معتدل ؟

**السؤال الثالث: ( أ )** اختر الإجابة الصحيحة من بين الإجابات الآتية :

١ يشتهر سكان واحة سيوة بالاحتفال بعيد ..... وهو عيد حصاد التمور والزيتون .

أ الفراعنة ب السياحة ج الميلاد د شم النسيم

٢ أول جامعة بالتاريخ بمصر القديمة :

أ طيبة ب بوتو ج نخب د أون



• اختبارات الفصل الدراسي الثاني

٣ منطقة تراثية مصرية مهددة بخطر تآكل التربة :

أ أبو مينا      ب الأهرامات      ج كاترين      د النوبة

٤ من آداب وسائل النقل إفساح الطريق لسيارة :

أ النقل      ب الأجرة      ج الملاكي      د الإسعاف

٥ دخلت العربية الحربية مع غزو ..... لمصر .

أ الهكسوس      ب الفرس      ج الرومان      د البطالمة

٦ يمارس سكان الريف حرفة :

أ الرعي      ب السياحة      ج الزراعة      د الصناعة

( ب ) ما العلاقة بين السياحة والبطالة ؟

**السؤال الرابع : ( أ ) أكمل الجمل الآتية بما يناسبها :**

١ أعلى محافظات مصر من حيث الأمية محافظة .....

٢ تقع منطقة وادي الحيطان في محافظة .....

٣ منظمة أسست عام ١٩٤٥ م تتمثل رسالتها في إرساء السلام ونبذ العنف من خلال التعاون الدولي في العلوم

الثقافية هي .....

٤ اعتمد الإنسان على الحمام الزاجل في إرسال الرسائل خلال العصور .....

( ب ) من هو ؟

١ تم في عهده بناء جامع عمرو بن العاص .

٢ أرسل رحلات تجارية إلى بلاد فينيقيا .



## الإجابات

## النموذج الثاني

## السؤال الأول :

- (أ) ١ المتوسط ٢ العالي  
٣ الفيوم ٤ جزيرة سيناء  
(ب) الجهاز المركزي للتعبئة العامة والإحصاء .  
(ج) السعي لإنهاء مشروع القطار الكهربائي السريع .

## السؤال الثاني :

- (أ) أجب بنفسك .  
(ب) ١ القاهرة ٢ الجيزة  
٣ الإسكندرية ٤ الجوي

## السؤال الثالث :

- (أ) ١ خطأ ٢ خطأ  
٣ صح ٤ صح  
٥ صح

- (ب) لوجود منطقة مجمع الأديان بها  
(ج) الحفاظ على البيئة من التلوث

## السؤال الرابع :

- (أ) ١ دمياط ٢ السيارات  
٣ واحة سيوة ٤ النوبية  
٥ المصرية القديمة ٦ الأقصر  
(ب) بعد بناء السد العالي تم نقل آثار النوبة خوفاً عليها من الغرق .

## النموذج الثالث

## السؤال الأول :

- (أ) ١ المتوسط ٢ الإسكندرية  
٣ الوادي الجديد ٤ سيوة  
٥ الأحمر  
(ب) ١ بناء الأهرامات  
٢ أصبحت أقل محافظات مصر سكاناً

## النموذج الأول

## السؤال الأول :

- (أ) ١ الجيزة ٢ شمال سيناء  
٣ الإسكندرية ٤ جنوب سيناء  
(ب) ١ لأنها عاصمة مصر  
٢ يساهم في تنشيط السياحة وتوفير فرص عمل للشباب .  
٣ بسبب انتشار المؤسسات التعليمية وارتفاع مستوى المعيشة .

## السؤال الثاني :

- (أ) ١ ظهور العشوائيات ٢ محو الأمية  
٣ شرم الشيخ  
(ب)

مهام رئيس الجمهورية	مهام المحافظ
- مسؤول عن أمن الوطن - رعاية مصالح الشعب	- حفظ الأمن والنظام بالمحافظة - توفير فرص عمل لأبناء المحافظة

## السؤال الثالث :

- (أ) ١ المتوسط ٢ اللوتس  
٣ فينيقيا ٤ الضوئية  
٥ فن التحطيب  
(ب) ١ حيث ساهمت في نقل معبدي أبو سمبل ومعبد إيزيس بعد بناء السد العالي خوفاً عليهم من الغرق  
٢ حيث وفرت الوقت والجهد لانتقال الأفراد والسلع من مكان إلى آخر

## السؤال الرابع :

- (أ) ١ خطأ ٢ صح ٣ صح  
٤ خطأ ٥ صح ٦ صح  
(ب) ١ ازدحام المدن  
٢ التأثير بالسلب على دراستك



• اختبارات الفصل الدراسي الثاني

### السؤال الثالث :

- (أ) ١ السويس ٢ السيارات  
٣ الروماني ٤ استخدام كباري العبور  
٥ الحمام الزاجل ٦ السفن  
(ب) أمر الملك خضوع بنحت تمثال أبو الهول

### السؤال الرابع :

- (أ) ١ جنوب ٢ محافظة الإسكندرية  
٣ نبات البردي ٤ أون  
٥ جنوب سيناء ٦ المائي  
(ب) أجب بنفسك .

### النموذج الخامس

### السؤال الأول :

- (أ) ١ مدينة شرم الشيخ ٢ السويس  
٣ واحة سيوة ٤ محافظة أسوان  
٥ المتوسط  
(ب) بسبب انتشار المؤسسات التعليمية وارتفاع مستوى المعيشة

### السؤال الثاني :

- (أ) ١ خطأ ٢ صح ٣ صح  
٤ صح ٥ خطأ ٦ خطأ  
٧ صح  
(ب) كثرة الجذب السياحي لمصر .

### السؤال الثالث :

- (أ) ١ السياحة ٢ أون  
٣ أبو مينا ٤ الإسعاف  
٥ الهكسوس ٦ الزراعة  
(ب) توفر السياحة فرص العمل مما يقلل من البطالة

### السؤال الرابع :

- (أ) ١ المنيا ٢ الفيوم  
٣ منظمة اليونسكو ٤ القديمة  
(ب) ١ الخليفة عمر بن الخطاب  
٢ الملك سنفرو

### السؤال الثاني :

- (أ) ١ الفيوم ٢ معبد الكرنك  
٣ الإسكندرية ٤ ثقافية  
٥ قنا ٦ الطبول  
(ب) ١ تشييط السياحة ٢ للحفاظ على البيئة  
(ج) ١ البردي ٢ الهكسوس  
٣ الصعيد

### السؤال الثالث :

- (أ) ١ القاهرة ٢ الكتابة  
٣ الانتخابات العامة ٤ بونت  
(ب) أجب بنفسك

### السؤال الرابع :

- (أ) ١ خطأ ٢ صح  
٣ صح ٤ صح  
٥ خطأ  
(ب) - أصبح التواصل أسرع وأسهل  
- سرعة الحصول على المعلومات  
(ج) يؤدي كثرة استخدام السيارات للوقود وخروج عوادم منها إلى تلوث البيئة .

### النموذج الرابع

### السؤال الأول :

- (أ) ١ الأحمر ٢ القاهرة  
٣ واحة سيوة ٤ محمية وادي الحيتان  
٥ محافظة جنوب سيناء  
(ب) بسبب الزواج المبكر وكثرة الإنجاب

### السؤال الثاني :

- (أ) ١ خطأ ٢ خطأ  
٣ صح ٤ خطأ  
٥ صح ٦ صح  
(ب) قيام المصريين القدماء ببناء الأهرامات

