

تم تحميل هذا الملف من موقع المناهج الكويتية



الملف مذكرة اختبارات محلولة 2025

[موقع المناهج](#) ← [المناهج الكويتية](#) ← [الصف السابع](#) ← [اجتماعيات](#) ← [الفصل الثاني](#)

روابط مواقع التواصل الاجتماعي بحسب الصف السابع



روابط مواد الصف السابع على تلغرام

[الرياضيات](#)

[اللغة الانجليزية](#)

[اللغة العربية](#)

[التربية الاسلامية](#)

المزيد من الملفات بحسب الصف السابع والمادة اجتماعيات في الفصل الثاني

مذكرة موضوعية محلولة	1
حل الكتاب	2
حل الوحدة الرابعة في مادة الاجتماعيات	3
بنك اسئلة التربة سابع	4
مراجعات الصف السابع	5

مذكرة اختبارات مادة الاجتماعيات

الصف السابع المتوسط

الفصل الثاني ٢٠٢٥

اختبارات
محلولة



تجميع وإعداد أ- محمد علي
مدرس التاريخ والجغرافيا والاجتماعيات
ت / ٥٠٢٤٨٤٨١



أجب عن جميع الأسئلة

السؤال الأول موضوعي يتكون من (أ - ب - ج):

(أ) اختر البديل الصحيح من بين البدائل التي تلي كل عبارة مما يلي وضع خطاً تحته (=1×5)

1- مساحة الوطن العربي حوالي تبلغ: ص 99

د- 14,5 مليون كم

ج- 13,5 مليون كم

ب- 12,5 مليون كم

أ- 11,5 مليون كم

2- الدولة العربية الأولى في إنتاج التمور: ص 114

د- اليمن

ج- مصر

ب- السعودية

أ- الكويت

3- الأسواق التي تحتل المكانة الأولى بالنسبة لتجاره الصادرات العربية: ص 151

د- الأوروبية

ج- العربية

ب- اليابان

أ- الأمريكية

4- الغاز الناتج عن عوادم السيارات: ص 168

د- الهليوم

ج- أكسيد الكربون

ب- الهيدروجين

أ- الأكسجين

5- الدائرة البيانية التي تمثل نسبة إنتاج النفط الخام في الوطن العربي بالنسبة للعالم: ص 127



(ب) أكمل العبارات التالية بما يناسبها: (=1×5 درجات)

1- القطاع الذي يحتل المرتبة الأولى ويشكل 50% من الاقتصاد العربي يسمى الزراعي ص 110

2- الدولة العربية الأولى في إنتاج الإبل تسمى الصومال ص 118

3- العام الذي تم فيه انشاء الصندوق الكويتي للتنمية الاقتصادية العربية 1961 م ص 179

4- صاحب المبادرة لعقد القمة العربية الاقتصادية والتنمية والاجتماعية عام 2009 م اسمه الشيخ صباح الأحمد الجابر الصباح ص 186

5- الدولة العربية التي استضافت المؤتمر الدولي لمانحي سوريا اسمها الكويت ص 188

(ج) أكمل المخططات السهمية التالية: (=1×5 درجات)

1- تقسم مناطق الوطن العربي من حيث الكثافة

ص 103

مناطق شبيه خاليه من السكان

مناطق منخفضة الكثافة

مناطق متوسطة الكثافة

مناطق مرتفعة الكثافة

2- أنواع التلوث ص 167

المياه

الهواء

التربة

السؤال الثاني موضوعي ويتكون من (أ - ب - ج):

(أ) اختر من المجموعة (أ) ما يناسبها للمجموعة (ب) بوضع الرقم الصحيح في المكان المناسب:
(5=1×5 درجات)

م	المجموعة (أ)	الرقم الصحيح	المجموعة (ب)
-1	الثروة الرعوية ص 119	3	
-2	الصناعة الاستخراجية ص 141	1	
-3	الصناعة التجميعية ص 143	4	
-4	الصناعة الحرفية ص 144	5	
-5	الصناعة البتروكيمياوية ص 145	2	

(ب) اكتب المفاهيم أو المصطلحات الدالة على كل من العبارات التالية: (5=1×5 درجات)

الرقم	المفهوم/مصطلح	العبرة
-1	زيادة طبيعية	-الفرق بين معدل المواليد ومعدل الوفيات ص 106
-2	الموارد الطبيعية	-الثروات التي منحها الله لإقليم من دون أن يكون للإنسان أي دور في وجودها. ص 109
-3	التجارة البينية	-التبادل التجاري بين الدول العربية. ص 152
-4	التنمية	-التطور والتطوير وهي عملية تتطلب التخطيط والمشاركة من الجميع. ص 172
-5	التضامن العربي	-العمل على توثيق الصلات بين الدول والشعوب العربية وحماية مصالحها السياسية والاقتصادية والثقافية. ص 177

(ج) صنف مقومات الصناعة في الوطن العربي حسب موقعها في الجدول: (5=1×5 درجات)

(رؤوس الأموال - البترول - الأيدي العاملة - الغابات - السوق)

مقومات بشرية ص 139	مقومات طبيعية ص 139
رؤوس الأموال الأيدي العاملة السوق	البترول الغابات

(أ) قارن بين كل من حسب المطلوب منك فى الجدول التالى: (6=1×6 درجات)

أوجه المقارنة	منظمة الأوبك ص134	منظمة الأوبك ص135
سنة التأسيس	1960م	1968م
أجهزه المنظمة	المؤتمر -مجلس المحافظين - الأمانة العامة (يكتفى بنقطتين)	المجلس الوزاري - المكتب التنفيذي - الأمانة العامة (يكتفى بنقطتين)

(ب) علل لما يلى : (5=1×5 درجات)

1- اختلاف المنتوجات الزراعية من دولة عربية الى اخرى. ص 110 (يكتفى بنقطتين)

- اختلاف المناخ
- اختلاف التربة
- مدى توافر المياه في هذه الدول.

2- تحتل الأغنام العربية مكانا مهما ضمن الثروة الرعوية. ص 118 (يكتفى بثلاث نقاط)

- الأكثر انتشارا في المراعي العربية.
- أكثر الحيوانات المستأنسة والملائمة لمراعي الوطن العربي وذلك لتحملها الجفاف والانتقال.
- لأهميته منتجاتها بالنسبة للسكان.
- لأنها مصدر أساسي من مصادر الثروة القومية.

(ج) عدد اثنين لكل مما يلى : (4=1×4 درجات)

1- مصادر الطاقة البديلة المتجددة. ص 171

- الشمس
- المياه
- الرياح

2- محاور التنمية فى الوطن العربي. ص 173

- التنمية الاقتصادية
- التنمية المستدامة
- التنمية البشرية



السؤال الرابع (مقالى) يتكون من (أ - ب - ج):

أ) لاحظ الجدول الاحصائى الذى أمامك ثم أجب عما يليه من الأسئلة:

النسبة	الاحتياطي	إنتاج الغاز الطبيعي	الجناح
82%	احتياطي الغاز الطبيعي	66.5%	الأسويى
18%		33.5%	الأفريقي

1- استخرج حقيقة من الجدول. (درجه واحده) ص 128

-ان الجناح الأسويى يتفوق على الجناح الأفريقي في إنتاج

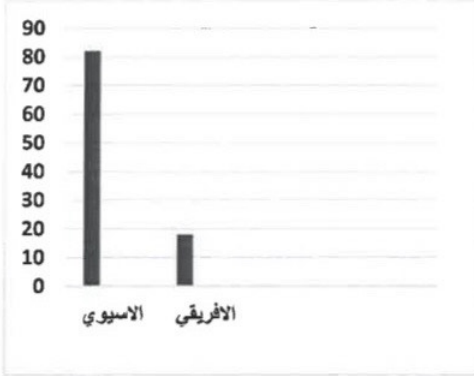
واحتياطي الغاز الطبيعي. (وما يراه المصحح مناسب)

2- كم تبلغ نسبة إنتاج الغاز الطبيعي فى الجناح الأسويى؟ 66.5% (درجه واحده) ص 128

3- حول نسبة احتياطي الغاز الطبيعي فى الجناح الأسويى والأفريقي

إلى أعمدة بيانية. (ثلاث درجات)

(لكل عمود بياني درجه - ودرجه للبيانات على الرسم البياني) ص 128



ب) فرق بين كل مما يلي من حيث التعريف (4=1×4)

الهجرة الخارجية ص 106	الهجرة الداخلية ص 106
الهجرة من دولة إلى دولة أخرى.	الهجرة من القرى إلى المدن.
الغاز الطبيعي ص 125	النفط ص 125
غاز مصاحب للنفط الخام أو يوجد منفردا تتم إسالته لاستخدامات عديدة.	بقايا عضوية على هيئة نباتات وحيوانات دقيقة ترسبت في عصور قديمة وانظمرت تحت رواسب سميكة وتحولت بالضغط والحرارة الى صورتها الحالية.

ج) اكتب فيما يلي: (6=1×6 لكل نقطه درجه)

1- **العقبات التى تواجه الإنتاج الزراعى فى الوطن العربى.** (يكتفى بنقطتين) ص 161

عدم استغلال الأراضي القابلة للزراعة لندرة مياه الري أو تذبذب الامطار أو قلة الايدي العاملة \ اتباع طرق الزراعة التقليدية في معظم أجزاء الوطن العربي \ زحف الرمال التصحر وانجراف التربة \ تلوث التربة نتيجة للإسراف في استخدام المبيدات الحشرية وارتفاع نسبة الملوحة بالتربة \ الرعي الجائر.

3- **أسباب تدنى وفره المياه فى الوطن العربى.** (يكتفى بنقطتين) ص 164

النمو السريع للسكان الذي يشكل ضغطا متزايدا على المياه لمتوفرة لكل فرد \ 50% من الموارد المائية في العالم العربي تأتي من خارج حدوده وتتحكم فيها دول المنبع في غياب تشريعات دولية تضمن حقوقنا \ الطرق التقليدية المستخدمة في استغلال المياه في معظم مناطق العالم العربي مسؤولة عن تدنى نسبة المياه (استخدام الري بالغمر والاستهلاك غير المسؤول في مجالات المياه) \ الشبكات المؤهلة لنقل المياه شبكات قديمة \ افتقار الدول العربية الى برامج لإدارة المياه كما أنها لا تستخدم الأدوات الاقتصادية اللازمة لترشيد الاستخدام المتزايد من المياه.

3- **أهداف التنمية البشرية.** (يكتفى بنقطتين) ص 174

1- الاهتمام بالطفل العربي ورعايته في مرحلة الطفولة المبكرة (قبل المدرسة) 2- توفير فرص العمل والرعاية الصحية والقضاء على الفقر 3- رفع كفاءة الثروة البشرية علميا وفكريا وروحيا 4- تعميق المشاركة في الراي والحوار في ظل الديمقراطية.



وزارة التربية
الإدارة العامة لمنطقة الجاهراء التعليمية
التوجيه الفني للاجتماعيات

امتحان الفترة الدراسية الثانية
لمقرر الكويت والوطن العربي
للمستوى السابع المتوسط
نموذج الإجابة

العام الدراسي: ٢٠٢٣م / ٢٠٢٤م
الزمن: ساعة وخمسة وأربعون
عدد الأوراق: ٦



أجب عن جميع الأسئلة

- السؤال الأول (موضوعي) يتكون من (أ - ب - ج - د - هـ - و):

(أ) - ضع خطأً تحت الخيار الصحيح من بين الخيارات التي تلي كل عبارة : ٥ درجات

- ١- أكثر الدول العربية سكاناً حسب إحصائية عام ٢٠١٤ م: ص ١٠٠
الجزائر - مصر - العراق - موريتانيا
- ٢- العام الذي تأسس فيه الصندوق الكويتي للتنمية الاقتصادية العربية : ص ١٧٩
١٩٦١م - ١٩٦٢م - ١٩٦٣م - ١٩٦٤م
- ٣- تحتل الصومال المرتبة الأولى عربياً في إنتاج: ص ١١٨
الأبقار - الإبل - الماعز - الأغنام
- ٤- نسبة المساحة المزروعة في الوطن العربي من المساحة القابلة للزراعة تبلغ حوالي: ص ١١٦
٥٣% - ٥٤% - ٥٥% - ٥٦%
- ٥- الغاز الناتج عن عوادم السيارات ويؤدي إلى ارتفاع متزايد في درجة حرارة الأرض : ص ١٦٩
الأوكسجين - الهيدروجين - أكسيد الكربون - النيتروجين

(ب) - صوب ما تحته خط في العبارات التالية بكتابة الإجابة الصحيحة: ٥ درجات (درجة لكل نقطة)

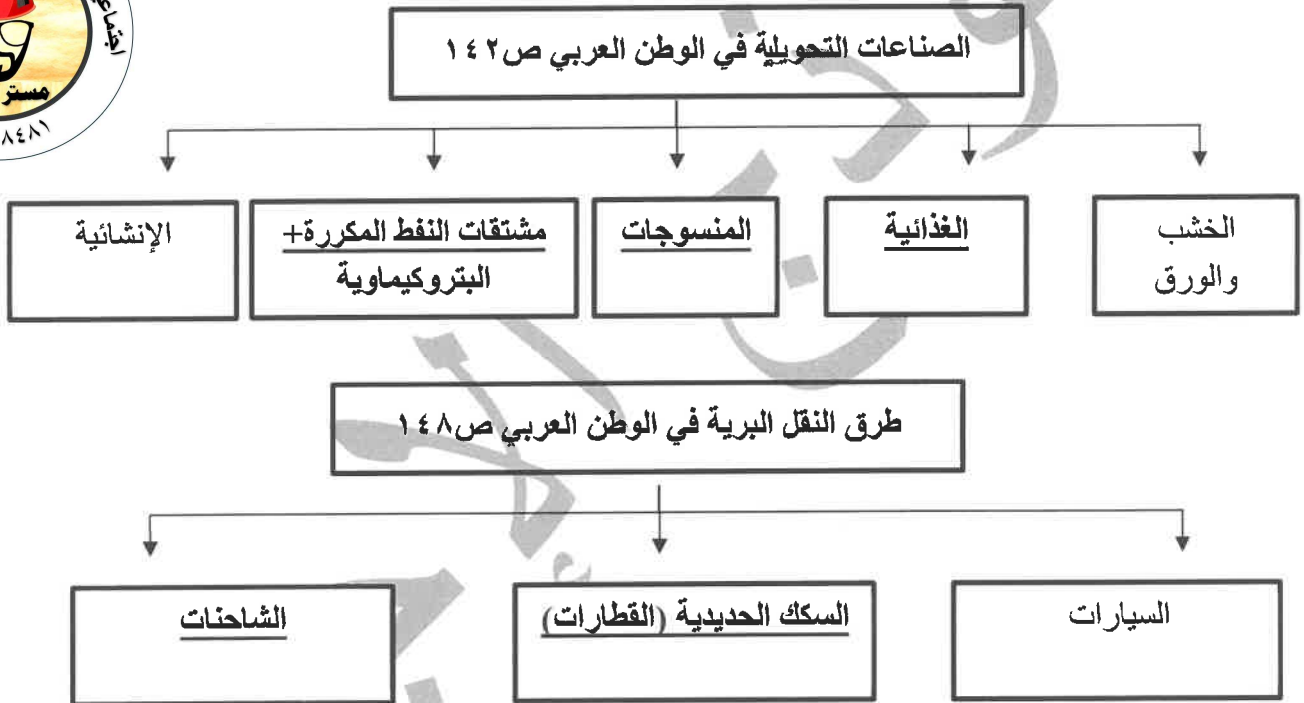
م	العبارة	التصويب
١	عقد مؤتمر قمة الأرض في مدينة ريودي جانيرو عام <u>١٩٩٥م</u> . ص ١٦٧	١٩٩٢م
٢	الدولة العربية الوحيدة في إنتاج البن <u>العراق</u> . ص ١١٤	اليمن
٣	يبلغ عدد الدول في الوطن العربي حوالي <u>٢٤ دولة</u> . ص ٩٩	٢٢ دولة
٤	الدولة العربية الأولى في إنتاج الغاز الطبيعي حسب إحصاء ٢٠١٤م <u>البحرين</u> . ص ١٢٩	قطر
٥	الطبقة التي تحمي الأرض من الإشعاعات فوق البنفسجية الضارة تسمى <u>التروبوسفير</u> . ص ١٦٨	الأوزون

تابع / السؤال الأول موضوعي :

(ج) - **أكمل العبارات التالية بما يناسبها:** ٥ درجات (درجة لكل نقطة)

- ١- الحاكم العربي صاحب مبادرة عقد المؤتمر الأول لمانحي سورية أسمه الشيخ صباح الأحمد الصباح . ص ١٨٨
- ٢- القارة التي يتوزع بها ٧٠٪ من نسبة سكان الوطن العربي تسمى أفريقيا . ص ٩٩
- ٣- الدولة العربية الأولى في إنتاج التمور تسمى السعودية . ص ١١٤
- ٤- نسبة عدد السكان الكلي في دولة ما أو منطقة ما إلى المساحة الكلية لهذه الدولة أو المنطقة تسمى الكثافة السكانية ص ١٠٢
- ٥- برامج تحسين نوعية الحياة، ولا تتحقق إلا بمشاركة جميع المواطنين تسمى التنمية المستدامة ص ١٧٥

(د) - **أكمل المخططات السهمية التالية:** ٥ درجات (درجة لكل نقطة)



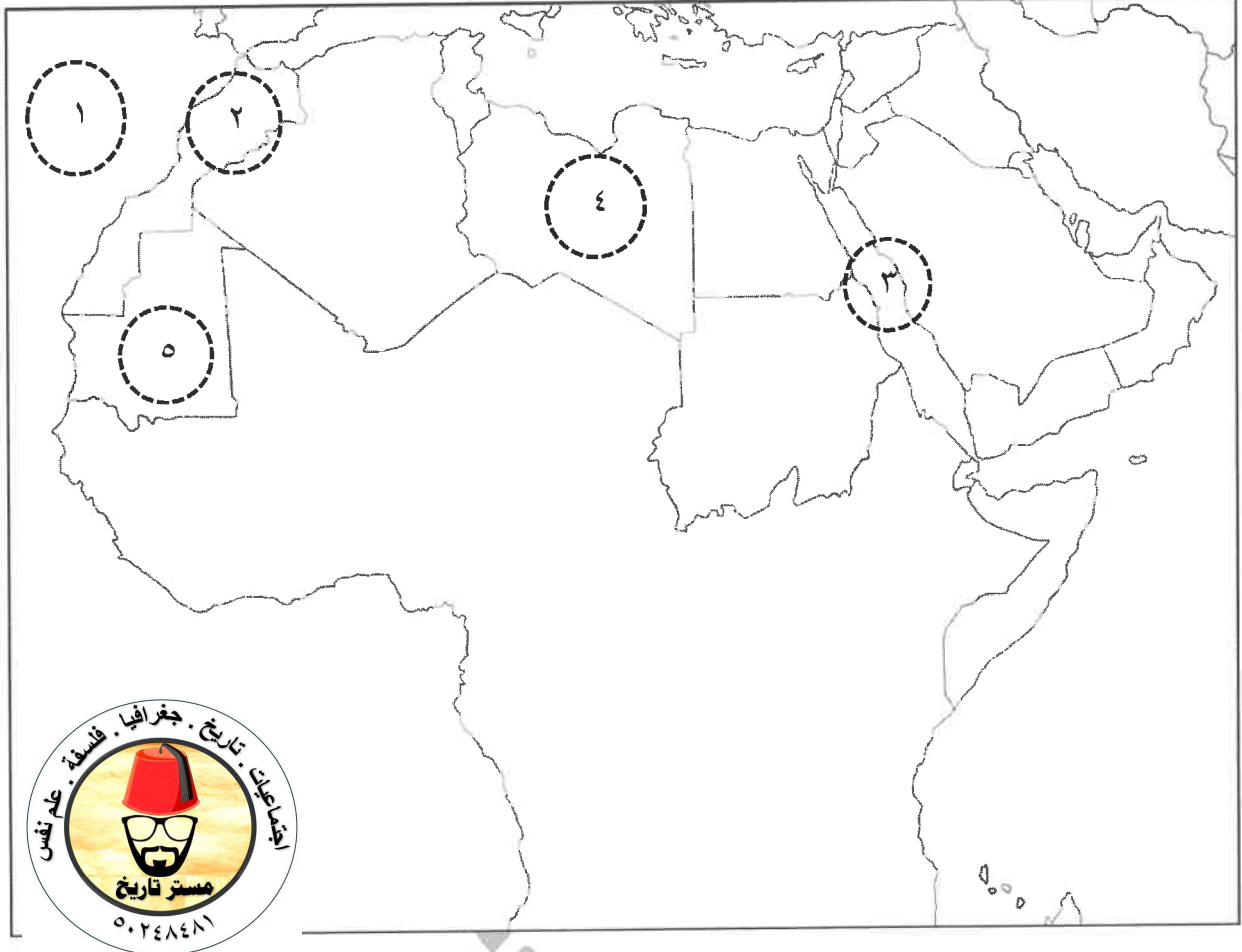
(هـ) - **صنف مقومات الصناعة الطبيعية في مكانها المناسب في الجدول الذي يليها:** ٦ درجات (درجة لكل نقطة)

(معدنية - البترول - غاز طبيعي - نباتية - حيوانية - كهرومائية) ص ١٣٩

المواد الخام	الطاقة
- معدنية	- البترول
- نباتية	- غاز طبيعي
- حيوانية	- كهرومائية

تابع / السؤال الأول موضوعي:

(و) - لاحظ خريطة الوطن العربي ثم اكتب مدلولات الأرقام على العبارات التالية: ٤ درجات (درجة لكل نقطة)



- الدولة العربية الأولى في إنتاج الفوسفات يمثلها على الخريطة الرقم (٢) ص ١٣٢

- الدولة العربية الأولى في إنتاج الحديد يمثلها على الخريطة الرقم (٥) ص ١٣٢

- البحر الأحمر يمثل على الخريطة الرقم (٣) ص ١٣٣

- المحيط الأطلسي يمثل على الخريطة الرقم (١) ص ١٣٣

السؤال الثاني (مقالى) يتكون من (أ - ب - ج)

(أ) - اقرأ الفقرة التالية ثم أجب عما يليها من أسئلة: ص ١٦٢-١٦٣ ٤ درجات

موقع الوطن العربي في المناطق الجافة وشبه الجافة أدى إلى ظهور مشكلة التصحّر، التي كان لها الأثر السلبي على الغطاء النباتي في معظم الدول العربية، مما جعل الدول العربية تسعى لعلاج هذه المشكلة بسياسة تنموية، من خلال اعتماد خطأ إستراتيجية تهدف إلى تكثيف العمل الزراعي وتطويره واعتماد التكنولوجيا الحديثة، وتأسيس البذور واستعمال الأسمدة المناسبة.

١- ضع عنواناً للفقرة. (درجة فقط) ص ١٦٢

مشكلة التصحر في الوطن العربي (أو ما يراه المصحح مناسباً)

٢- عرف ما تحته خط. (درجة فقط) ص ١٦٢

- التصحر: زحف رمال الصحراء على المناطق الجافة وشبه الجافة.

٣- استخرج من الفقرة الدور الذي قامت به الدول العربية في معالجة مشكلة التصحر. (يكتفى بنقطتين)

ص ١٦٣

- اعتماد خطأ إستراتيجية تهدف إلى تكثيف العمل الزراعي وتطويره.

- اعتماد التكنولوجيا الحديثة

- تأسيس البذور

- استعمال الأسمدة المناسبة

(ب) - قارن بين كل مما يلي: ٤ درجات

وجه المقارنة	منظمة أوبك ص ١٣٤	منظمة أوبك ص ١٣٥
سنة التأسيس	١٩٦٠ م. (درجة فقط)	١٩٦٨ م. (درجة فقط)
الأجهزة التي تعمل من خلالها	- المؤتمر - مجلس المحافظين - الأمانة العامة	- المجلس الوزاري - المكتب التنفيذي - الأمانة العامة
	(درجة فقط/ يكتفى بنقطة واحدة)	(درجة فقط/ يكتفى بنقطة واحدة)

(ج) - عرف المفاهيم أو المصطلحات التالية: درجتان (درجة لكل نقطة)

١ - الغلات النقدية: الغلات التي تدخل في الصناعة وتزرع بغرض التجارة والحصول على نقد. ص ١١٣

٢ - التجارة البنينية: التبادل التجاري بين الدول العربية. ص ١٥٢

السؤال الثالث (مقالى) يتكون من (أ - ب - ج)

(أ) - علل لما يلي: ٤ درجات

- ١- تختلف أنواع المنتوجات الزراعية من دولة عربية إلى أخرى. ص ١١٠ (درجتين ويكتفى بنقطتين)
 - اختلاف المناخ
 - اختلاف التربة
 - مدى توفر المياه في هذه الدول.
- ٢- تحتل الأغنام مكاناً مهماً ضمن الثروة الرعوية في الوطن العربي. ص ١١٨ (درجتين ويكتفى بنقطتين)
 - الأكثر انتشاراً في المراعي العربية.
 - لأهمية منتجاتها بالنسبة للسكان.
 - أكثر الحيوانات المستأنسة والملائمة لمراعي الوطن العربي، وذلك لتحملها الجفاف والانتقال.
 - لأنها مصدر أساسي من مصادر الثروة القومية.

(ب) - فرق بين كل مما يلي: ٤ درجات

الغاز الطبيعي ص ١٢٥	النفط ص ١٢٥
غاز مصاحب للنفط الخام أو يوجد منفرداً، تتم إسالته لاستخدامات عديدة. (درجة فقط)	بقايا عضوية على هيئة نباتات وحيوانات دقيقة ترسبت في عصور قديمة وانطمرت تحت رواسب سميكة وتحولت بالضغط والحرارة إلى صورتها الحالية. (درجة فقط)

(ج) - عدد لكل مما يلي: ٤ درجات

- ١- المحاور الرئيسية التي ارتكزت عليها عملية التنمية في الوطن العربي. ص ١٧٣ (درجتين ويكتفى بنقطتين)
 - التنمية الاقتصادية
 - التنمية المستدامة
 - التنمية البشرية
- ٢- أهداف جامعة الدول العربية. ص ١٧٧ (درجتين ويكتفى بنقطتين)
 - توثيق العلاقات بين الدول الأعضاء.
 - تنسيق التعاون فيما بين الدول الأعضاء للحفاظ على استقلالها وسيادتها.
 - النظر بصفة عامة في شئون ومصالح الدول العربية.
 - تحقيق التعاون والتكامل الاقتصادي بين الدول العربية.

السؤال الرابع (مقالى) يتكون من (أ - ب - ج)

(أ) - أذكر نقطتين لكل مايلي: ٤ درجات

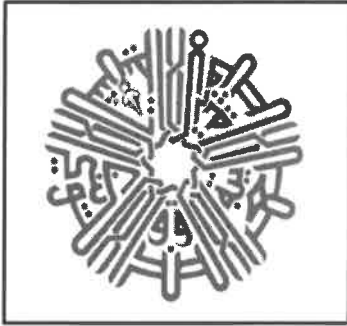
١- أهداف الصناعات البتروكيميائية. ص ١٤٥ (درجتين ويكتفى بنقطتين)
- تنوع مصادر الدخل للدولة المنتجة.

- توفير المواد الأولية للصناعات التحويلية لتأمين حاجات القطاعات الاستهلاكية (خاصة مجال البناء).
- تطوير الصناعات البتروكيميائية إلى تقنيات متخصصة وعالية.

٢- أسباب تدني وفرة المياه في الوطن العربي. ص ١٦٤ (درجتين ويكتفى بنقطتين)

- النمو السريع للسكان والضغط على المياه المتوفرة لكل فرد.
- الطرق التقليدية المستخدمة في استغلال المياه في معظم مناطق الوطن العربي مسؤولة عن تدني نسبة المياه.
- ٥٠٪ من الموارد المائية في الوطن العربي تأتي من خارج حدوده وتتحكم فيها دول المنبع في غياب التشريعات الدولية.
- الشبكات المؤهلة لنقل المياه شبكات قديمة.
- افتقار الدول العربية إلى برامج لإدارة المياه كما أنها لا تستخدم الأدوات الاقتصادية اللازمة لترشيد الاستخدام المتزايد.

(ب) - لاحظ الشكل التالي ثم أجب عن الأسئلة التالية: ٣ درجات



١- ما اسم المؤسسة التي يدل عليها هذا الشعار؟ ص ١٨٤

- الصندوق الكويتي للتنمية الاقتصادية العربية.

٢- ما أهم المساهمات التي تقوم بها هذه المؤسسة؟ ص ١٨٤ (درجتين ويكتفى بنقطتين)

- مشاريع التنمية الضرورية الخاصة بالمجالات الصحية والاجتماعية.

- تقديم المساعدات اللازمة في حالات الكوارث والنكبات.

- دعم قضايا الأمة العربية الإسلامية.

(ج) - دل على صحة العبارة التالية: ٣ درجات

ص ١٧٥ (يكتفى بثلاث نقاط)

*- تواجه التنمية البشرية في الوطن العربي عدة مشكلات.

- ضعف الاستفادة من القدرات البشرية في المنطقة العربية.

- مشكلة الأمية

- نقص ومحدودية مشاركة المرأة في المنظمات السياسية.

- الاختلاف الكبير في مستويات المعيشة بين دولة وأخرى، وفي داخل الدولة الواحدة.

انتهت الإجابة ،،،



وزارة التربية

الإدارة العامة لمنطقة العاصمة التعليمية
التوجيه الفني العام للاجتماعيات

امتحان نهاية الفترة الدراسية الثانية

العام الدراسي ٢٠٢٣ / ٢٠٢٤ م
الزمن : ساعة وخمس وأربعون دقيقة
عدد الصفحات : ٦ صفحة

لمقرر الكويت والوطن العربي

للفص السابع المتوسط

اجب عن جميع الاسئلة التالية


السؤال الأول (موضوعي) ويتكون من (أ - ب) (كل إجابة درجة = ١٠ درجات)

(أ) أكمل العبارات التالية بما يناسبها :

- ١- الغلات التي تدخل في الصناعة وتزرع بغرض التجارة والحصول على نقد تسمى النقدية / الصناعية والتجارية.
ص ١١٣
- ٢- القارة التي يتركز فيها ٧٠٪ من سكان الوطن العربي اسمها أفريقيا. ص ٩٩
- ٣- الضرر الذي يلحق بالتربة والهواء والماء ويصيب عناصر البيئة من عدة مصادر للملوثات يعرف باسم التلوث.
ص ١٦٦
- ٤- الدولة التي عقد فيه أكبر مؤتمر للأمم المتحدة عام ١٩٩٢م وعرف باسم قمة الأرض اسمها البرازيل. ص ١٦٧
- ٥- عدد دول الوطن العربي يبلغ ٢٢ دولة. ص ٩٩

(ب) أكمل المخططات السهمية بما يناسبها :

١- أقسام مناطق الوطن العربي من حيث الكثافة السكانية . ص ١٠٣



٢- المقومات البشرية للصناعة . ص ١٣٩



تابع : نموذج إجابة / امتحان نهاية الفترة الدراسية الثانية - لمقرر الكويت والوطن العربي - للصف السابع المتوسط - العام الدراسي ٢٠٢٣/٢٠٢٤ م

السؤال الثاني (موضوعي) ويتكون من (أ ، ب) (كل سؤال درجة = ١٠ درجات)

(أ) اختر البديل الصحيح من بين البدائل التي تلي كل عبارة مما يلي وضع خطأ تحتها :

١- صاحب المبادرة لعقد المؤتمر الدولي الأول لمانحي سوريا عام ٢٠١٣م اسمه الشيخ : ص ١٨٨

عبدالله السالم	جابر الأحمد	<u>صباح الأحمد</u>	صباح السالم
----------------	-------------	--------------------	-------------

٢- نسبة المساحة المزروعة في الوطن العربي من المساحة القابلة للزراعة حوالي : ص ١١٦

٢٦%	٣٦%	٤٦%	<u>٥٦%</u>
-----	-----	-----	------------

٣- التنمية التي تطلق على برامج تحسين نوعية الحياة ولا تتحقق إلا بمشاركة جميع المواطنين : ص ١٧٥

الاقتصادية	<u>المستدامة</u>	البشرية	التعليمية
------------	------------------	---------	-----------

٤- الدولة العربية التي تمتلك ٦,٦% من ثروة الوطن العربي من الإبل : ص ١١٩

<u>الصومال</u>	السودان	جيبوتي	موريتانيا
----------------	---------	--------	-----------

٥- العام الذي أنشأ فيه الصندوق الكويتي للتنمية الاقتصادية العربية : ص ١٧٩

١٩٥١م	<u>١٩٦١م</u>	١٩٧١م	١٩٨١م
-------	--------------	-------	-------

(ب) اكتب المفاهيم أو المصطلحات الدالة على العبارات التالية :

المفهوم / المصطلح	العبارات
التضامن العربي	العمل على توثيق الصلات بين الدول والشعوب العربية وحماية مصالحها السياسية والاقتصادية والثقافية . ص ١٧٧
الكثافة السكانية	نسبة عدد السكان الكلي في دولة ما أو منطقة ما إلى المساحة الكلية لهذه الدولة أو المنطقة . ص ١٠٢
التبادل التجاري	عمليات التصدير والاستيراد بين الدول . ص ١٥١
الموارد الطبيعية	الثروات التي منحها الله لإقليم من دون أن يكون للإنسان أي دور في وجودها . ص ١٠٩
الزيادة الطبيعية للسكان	الفرق بين معدل المواليد ومعدل الوفيات . ص ١٠٦

تابع : نموذج إجابة / امتحان نهاية الفترة الدراسية الثانية - لمقرر الكويت والوطن العربي - للصف السابع المتوسط - العام الدراسي ٢٠٢٣/٢٠٢٤ م

السؤال الثالث (موضوعي) ويتكون من (أ - ب) (كل سؤال درجة = ١٠ درجات)

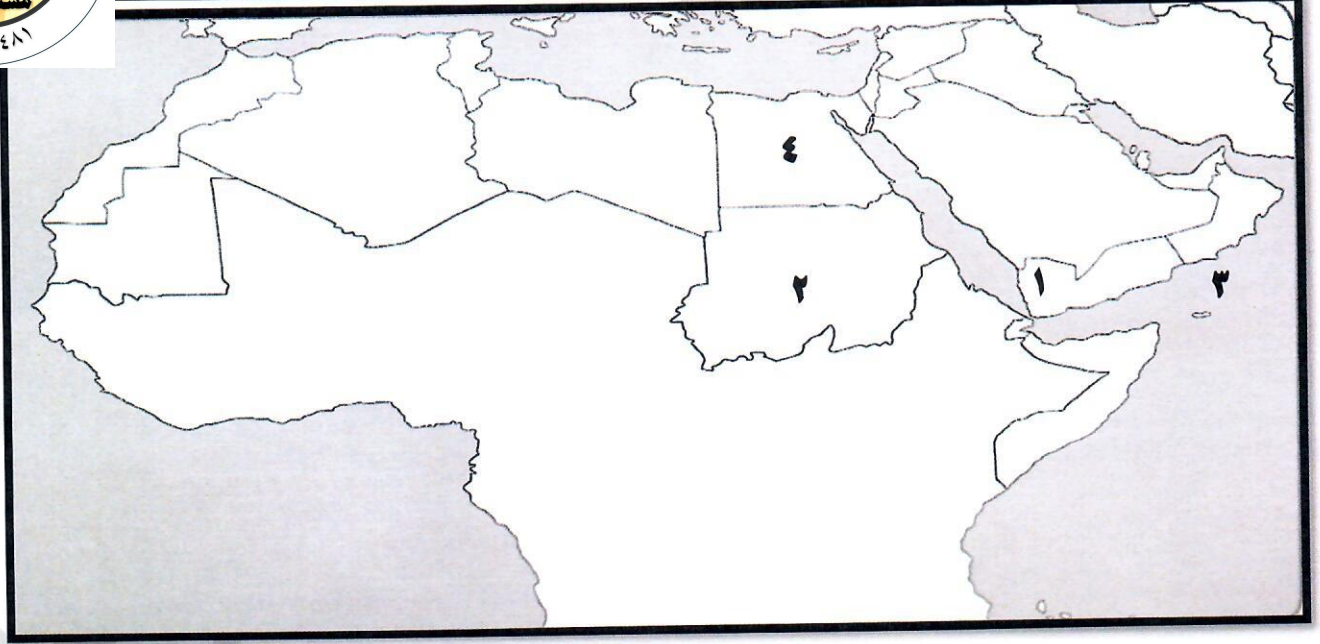
(أ) صنف أنواع الصناعات التالية حسب مكانها الصحيح في الجدول أدناه:

(المنسوجات - الغاز - الخشب - النفط - الإنشائية - الفحم - الغذائية)

الصناعات التحويلية ص ١٤٢	الصناعات الاستخراجية ص ١٤١
الصناعات الإنشائية / الخشب / المنسوجات / الغذائية	النفط / الفحم / الغاز



(ب) لاحظ خريطة دول الوطن العربي ثم استعن بالأرقام التي عليها لإكمال العبارات التالية



- المسطح المائي الذي يحمل على الخريطة الرقم (٣) اسمه بحر العرب . ص ١٣٣
- الدولة العربية الأولى في إنتاج البن يمثلها على الخريطة الرقم ١ ص ١١٤
- الدولة العربية التي تحتل المركز الأول في إنتاج القمح يمثلها على الخريطة الرقم ٤ ص ١١٤

السؤال الرابع: (مقالي) ويتكون من (أ - ب - ج) :

(أ) علل ما يلي (انكر السبب) : (كل إجابة درجة / ٤ درجات - يكتفى بنقطتين)

- ١- تحتل الأغنام مكاناً مهماً ضمن الثروة الرعوية في الوطن العربي . ص ١١٨
 - الأكثر انتشاراً في المراعي العربية
 - أكثر الحيوانات المستأنسة والملائمة لمراعي الوطن العربي لتحملها الجفاف
 - لأهمية منتجاتها بالنسبة للسكان
 - لأنها مصدر أساسي من مصادر الثروة القومية
- ٢- تدني وفرة المياه في الوطن العربي . ص ١٦٤
 - النمو السريع للسكان الذي يشكل ضغطاً متزايداً على المياه المتوفرة لكل فرد .
 - الشبكات المؤهلة لنقل المياه شبكات قديمة .
 - ٥٠٪ من الموارد المائية في العالم العربي تأتي من خارج حدوده وتتحكم فيها دول المنبع في غياب تشريعات دولية تضمن حقوقنا .
 - افتقار الدول العربية لإدارة المياه كما أنها لا تستخدم الأدوات الاقتصادية اللازمة لترشيد الاستخدام المتزايد من المياه.
 - الطرق التقليدية في استغلال المياه في معظم مناطق العالم العربي مسؤولة عن تدني نسبة المياه (استخدام الري بالغمر والاستهلاك غير المسؤول في مجالات المياه) .

(ب) عدد (اثنين) لما يلي : (كل إجابة درجة / ٤ درجات - يكتفى بنقطتين فقط)

- ١- طرق النقل في الوطن العربي . ص ١٤٧-١٤٩
 - الجوية - البرية .
 - المائية (النقل النهري - البحري) .
- ٢- أسماء المعادن المهمة التي يمتلكها الوطن العربي . ١٣٢
 - الرصاص - النحاس - الحديد
 - الفوسفات - المنجنيز

(ج) لاحظ الصورة المقابلة ثم أجب عن الأسئلة التالية : (كل إجابة درجة / درجتان) ص ١٧٨



- ١- ما اسم المنظمة التي يمثلها الشعار المقابل؟ درجة
 - جامعة الدول العربية
- ٢- ما اسم الدولة العربية التي انضمت إلى المنظمة في ٥ مايو ١٩٤٥ م؟ درجة
 - اليمن

السؤال الخامس: (مقالي) ويتكون من (أ - ب - ج) :

(أ) لاحظ الجدول الإحصائي المقابل ثم أجب عن الأسئلة التالية : كل إجابة درجة / درجتان ص ١٢٨

جدول نسب إنتاج واحتياطي النفط

في الجناح الآسيوي والجناح الأفريقي في الوطن العربي

الجناح	إنتاج النفط	احتياطي النفط
الآسيوي	%٨٨	%٩٠
الأفريقي	%١٢	؟

١- كم تبلغ نسبة احتياطي النفط الخام في الجناح الأفريقي ؟

- ١٠٪

٢- ظلل الجزء الصحيح في الدائرة البيانية التالية الذي يمثل :

نسبة إنتاج النفط الخام في الجناح الآسيوي.



(ب) فرق بين كل مما يلي من حيث (التعريف) : كل إجابة درجة / ٤ درجات

الغاز الطبيعي ص ١٢٥	النفط ص ١٢٥
غاز مصاحب للنفط الخام أو يوجد منفردا تتم إيسالته لاستخدامات عديدة .	بقايا عضوية على هيئة نباتات وحيوانات دقيقة ترسبت في عصور قديمة وانطمرت تحت رواسب سميكة وتحولت بالضغط والحرارة إلى صورتها الحالية .
الهجرة الخارجية ص ١٠٦	الهجرة الداخلية ص ١٠٦
هجرة من دولة إلى دولة أخرى .	هجرة من القرى إلى المدن .

(ج) اكتب اثنين عما يلي : كل إجابة درجة / ٤ درجات - يكتفى بنقطتين

١- مراحل عملية التصنيع (الصناعة) . ص ١٣٧

- مواد أولية - تحويل وتصنيع .

- توزيع .

٢- العقبات التي تواجه الإنتاج الزراعي في الوطن العربي . ص ١٦١

- عدم استغلال الأراضي القابلة للزراعة لندرة مياه الري أو تذبذب الأمطار أو قلة الأيدي العاملة .

- إتباع طرق الزراعة التقليدية في معظم أجزاء الوطن العربي / زحف الرمال (التصحر) وانجراف التربة / الرعي الجائر .

- تلوث التربة نتيجة للإسراف في استخدام المبيدات الحشرية وارتفاع نسبة الملوحة بالتربة .

السؤال السادس: (مقالي) ويتكون من (أ - ب - ج):

(أ) اقرأ الفقرة التالية ثم أجب عما يليها من أسئلة : كل إجابة درجة / ٣ درجات ص ١٦٢

" موقع الوطن العربي في المناطق الجافة وشبه الجافة يعرضه بشكل أساسي لمشكلة التصحّر ، فأكثر الدول العربية تهديداً بالتصحّر هي السودان والصومال وموريتانيا . "

١- عرف ما تحته خط .

- التصحر: زحف رمال الصحراء علي المناطق الجافة وشبه الجافة.

٢- استخلص من الفقرة السابقة :

أسماء (اثنين) من الدول العربية الأكثر تهديداً بالتصحّر .

- السودان .

- الصومال / موريتانيا.

(ب) قارن بين كل مما يلي حسب المطلوب في الجدول ادناه : كل إجابة درجة / ٤ درجات

أوجه المقارنة	منظمة الدول المصدرة للنفط / أوبك	منظمة الأقطار العربية المصدرة للنفط / أوابك
سنة التأسيس	ص ١٣٤	ص ١٣٥
المقر الحالي (المدينة)	١٩٦٠م	١٩٦٨م
	فيينا	الكويت

(ج) عرف ما يلي : (كل إجابة درجة / ٣ درجات) :

١- التجارة البينية : التبادل التجاري بين الدول العربية . ص ١٥٢

٢- الطاقة : قوى محركة للألات وعنصر مهم للتقدم والتطور الاقتصادي في جميع المجالات . ص ١٢٥

٣- مقومات الصناعة : العوامل التي تساعد على تحويل المادة الخام إلى سلع استهلاكية . ص ١٣٩

انتهت الأسئلة ،،،



نموذج الإجابة

السؤال الأول (الموضوعي) ويتكون من (أ - ب - ج - د - هـ - و) : (لكل إجابة درجة)

(أ) اختر الخيار الصحيح من بين الخيارات التي تلي كل عبارة بوضع خط تحتها:

ص ١٠٠

١- الدولة العربية الأكثر سكاناً في الوطن العربي :

أ - سوريا ب - ليبيا ج - الجزائر د - مصر

٢- تبلغ نسبة المساحة المزروعة في الوطن العربي من المساحة القابلة للزراعة حوالي :

أ - ٣٦% ب - ٤٦% ج - ٥٦% د - ٦٦%

ص ١٣٢

٣- الدولة التي تحتل المرتبة الأولى عربياً في إنتاج معدن الفوسفات :

أ - الكويت ب - المغرب ج - قطر د - الصومال

ص ١٤٣

٤- الصناعات التي تعد الأولى في العالم في استخدام مواد أولية وتعتمد على المجهود البشري :

أ - الحرفية ب - التحويلية ج - التعدين د- التجميعية

ص ١٧٩

٥- العام الذي تأسس فيه الصندوق الكويتي للتنمية الاقتصادية العربية :

أ - ١٩٤١م ب - ١٩٥١م ج - ١٩٦١م د - ١٩٧١م

(ب) صنف الكلمات مابين القوسين حسب موقعها في الجدول التالي :

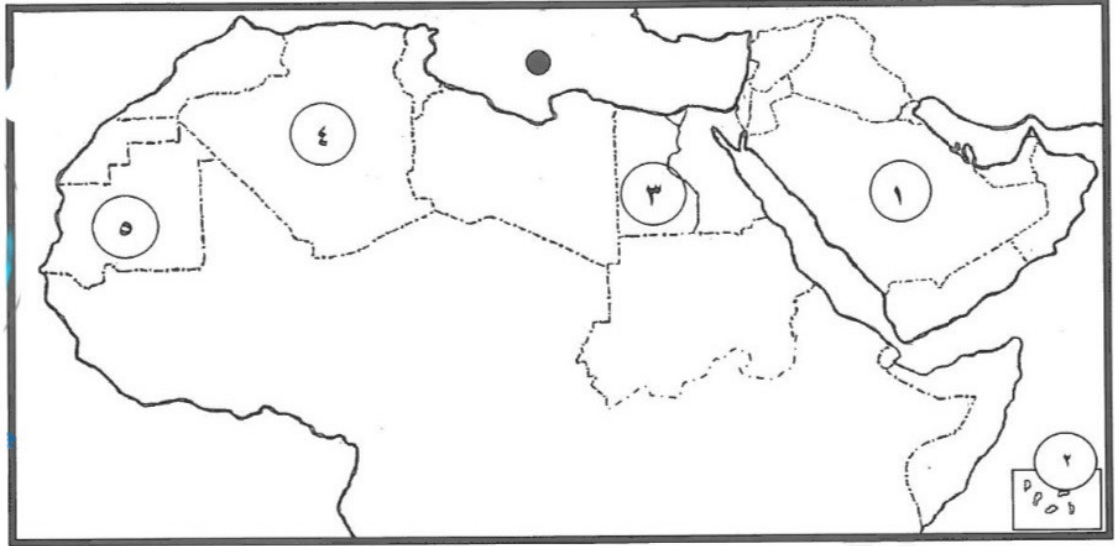
ص ١١٤

(العنب - البن - الموز - الشعير - التمر)

الدولة الأولى في الإنتاج	الصومال	السعودية	سوريا	اليمن	المغرب
الغلة الزراعية	الموز	التمر	العنب	البن	الشعير



ج) لاحظ خريطة الوطن العربي ثم أجب عن الأسئلة التي تليها :

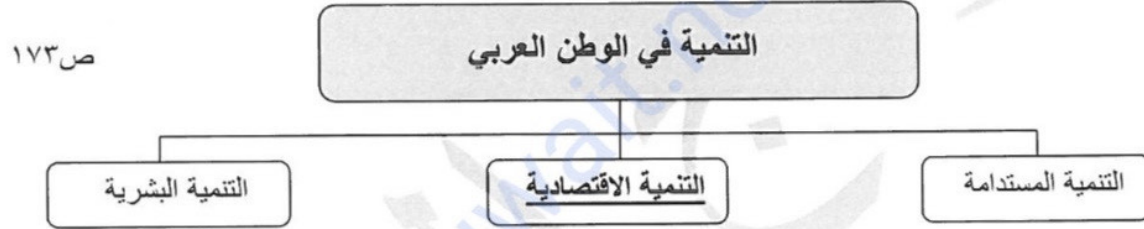
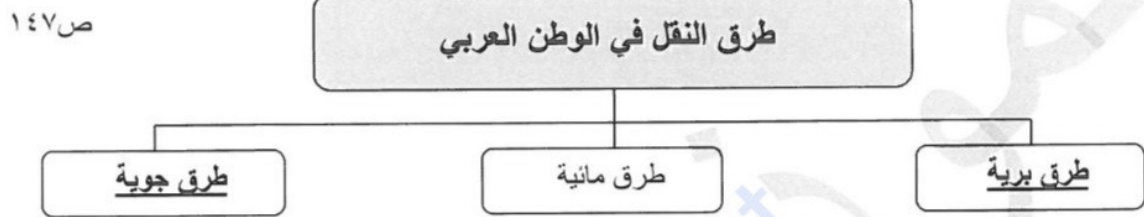
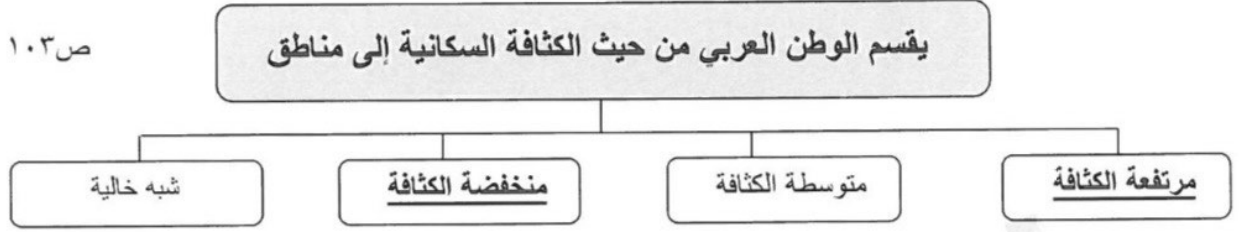


- ١٠٠ ص - أقل الدول العربية سكاناً يمثلها الرقم (٢..)
- ١٠٠ ص - أكبر الدول العربية مساحة في الجناح الآسيوي يمثلها الرقم .. (١) ...
- ١١٤ ص - الدولة العربية الأولى في إنتاج القطن يمثلها الرقم .. (٣) ..
- ١٣٢ ص - الدولة العربية الأولى في إنتاج معدن الحديد يمثلها الرقم ... (٥) ...
- ١٣٣ ص - الشكل (●) على الخريطة يرمز إلى بحر يسمى (البحر المتوسط)

د) أكتب المفهوم أو المصطلح الدال على العبارات التالية :-

- ٩٩ ص ١- (الإحصاء الحيوي) تسجيل المواليد والوفيات وحالات الزواج والطلاق .
- ١٥١ ص ٢- (التبادل التجاري) عمليتا التصدير والاستيراد بين الدول .
- ١١٣ ص ٣- (الغلات النقدية) الغلات التي تزرع بغرض التجارة والحصول على نقد.
أو (غلات صناعية / غلات تجارية)
- ١٧٢ ص ٤- (التنمية) التطور والتطوير وهي عملية تتطلب التخطيط والمشاركة من الجميع.
- ١٧٧ ص ٥- (التضامن العربي) العمل على توثيق الصلات بين الدول والشعوب العربية وحماية مصالحها.

هـ) أكمل المخططات السهمية التالية :



و) أكمل العبارات التالية بما يناسبها مما درست :

- ١- يبلغ عدد دول الوطن العربي ٢٢ دولة
- ٢- الهجرة التي تكون من دولة إلى دولة أخرى تسمى بالهجرة ... الخارجية ...
- ٣- الغاز الناتج عن عوادم السيارات ويؤدي إلى ارتفاع متزايد في حرارة الأرض اسمه. ثاني أكسيد الكربون .
- ٤- الصناعة التي تقتصر على استخراج مصادر الطاقة كالنفط والغاز والفحم والمعادن تسمى... الاستخراجية.
- ٥- صاحب مبادرة عقد القمة العربية الاقتصادية والتنمية والاجتماعية عام ٢٠٠٩ م اسمه. الشيخ صباح الأحمد

السؤال الثاني : يتكون من : [أ ، ب]

(أ) فرّق بين كل من : (٤ درجات / لكل تعريف درجة)

الزيادة الطبيعية ص ١٠٦	الزيادة الطبيعية ص ١٠٦
- الزيادة الناتجة عن طريق الهجرة . (درجة)	- الفرق بين معدل المواليد ومعدل الوفيات. (درجة)
الموارد البشرية ص ١٠٩	الموارد الطبيعية ص ١٠٩
- ترتبط بالسكان من حيث أعدادهم وتوزيعهم ومناسبة أعدادهم لمساحة الأرض التي يستغلونها. (درجة)	- الثروات التي منحها الله لإقليم من دون أن يكون للإنسان أي دور في وجودها. (درجة)

(ب) أجب عما يلي: - (٦ درجات)

- ١- علّل - تحنل الأغنام العربية مكاناً مهماً ضمن الثروة الرعوية . (درجتين ويكتفى بنقطتين) ص ١١٨
- الأكثر انتشاراً في المراعي العربية .
 - أكثر الحيوانات المستأنسة والملائمة لمراعي الوطن العربي.
 - تحملها الجفاف والانتقال
 - لأهمية منتجاتها بالنسبة للسكان.
 - لأنها مصدر أساسي من مصادر الثروة القومية.

- ٢- عدّد - أهداف جامعة الدول العربية . (درجتين ويكتفى بنقطتين) ص ١٧٧

- توثيق العلاقات بين الدول الأعضاء.
- تنسيق التعاون في ما بينها للحفاظ على استقلالها وسيادتها.
- النظر بصفة عامة في شؤون ومصالح الدول العربية .

- ٣- اكتب - أمثلة عن أنواع الصناعات التحويلية في الوطن العربي . (درجتين ويكتفى بنقطتين) ص ١٤٢

- الصناعة الغذائية - صناعة المنسوجات - صناعة الخشب والورق - صناعة مشتقات النفط المكررة
- الصناعات البتروكيمياوية - الصناعات الإنشائية .


السؤال الثالث ويتكون من (أ - ب) :



(أ) لاحظ الصورتان أمامك ثم أجب عن الأسئلة التي تليها : ص ١٦٢



(٢)



(١)

١- اكتب - أسباب التصحر لكل من :
- الصورة رقم (١) : بشرية / الرعي الجائر
- الصورة رقم (٢) : طبيعية (درجتين)

٢- اقترح - حلاً لمشكلة التصحر في الصورة رقم (٢) . ص ١٦٢ (درجتين ويكتفى بنقطتين)
- اعتمدت خطط استراتيجية / تكثيف العمل الزراعي وتطويره / اعتماد التكنولوجيا الحديثة / تأصيل البذور / استعمال الأسمدة المناسبة . / زيادة الإنتاج عن طريق الأساليب العلمية . / زيادة المساحات المزروعة . / إقامة مشروعات الري . (حسب ما يراه المصحح)

(ب) قارن بين كل من :

أوجه المقارنة	منظمة الدول المصدرة للنفط (أوبك) ١٣٤	منظمة الأقطار العربية المصدرة للنفط (أوابك) ص ١٣٥
سنة الانشاء	عام ١٩٦٠م (درجة)	عام ١٩٦٨م (درجة)
مقرها	فيينا (درجة)	الكويت (درجة)
أجهزتها	المؤتمر - مجلس المحافظين - الأمانة العامة (درجة ويكتفى بنقطة فقط)	المجلس الوزاري - المكتب التنفيذي - الأمانة العامة (درجة ويكتفى بنقطة فقط)

السؤال الرابع : ويتكون من (أ - ب)

(أ) إقر الفقرة التالية ثم أجب عما يليها من أسئلة : (ص ١٦٦)

يصيب **التلوث** عناصر البيئة من عدة مصادر للملوثات : صناعية ، زراعية ، منزلية ، ومن أكثر هذه الملوثات الغازات السامة الصادرة من محطات التحلية ودخان المصانع وعوادم السيارات ، وكذلك الملوثات الصادرة عن البقايا الصلبة وتراكم النفايات والمواد البلاستيكية .

١- عرف ما تحته خط في الفقرة السابقة .
(التلوث) : الضرر الذي يلحق بالتربة والهواء والماء . (درجتين)

٢- استخراج من الفقرة أسباب التلوث : -
- البقايا الصلبة - تراكم النفايات والمواد البلاستيكية
- الغازات السامة - دخان المصانع - عوادم السيارات (درجتين)

(ب) عدد لكل من : ٦ درجات (يكتفى بنقطتين)

١- المقومات البشرية للصناعة في الوطن العربي . (درجتين ويكتفى بنقطتين) ص ١٣٩
- رؤوس الأموال .
- الأيدي العاملة .
- المهارة والخبرة
- السوق .
- وسائل النقل .

٢- أهداف القمة الاقتصادية التنموية العربية عام ٢٠٠٩ م . (درجتين ويكتفى بنقطتين) ص ١٨٦
- إنشاء بنك إسلامي عربي لتمويل المشاريع التنموية لتقليل من معدلات الفقر
- القضاء على البطالة والفقر بتوفير فرص العمل .
- الاستثمار الاقتصادي بين الدول وتقوية التبادل التجاري .
- الاعتناء بالعنصر البشري والتنمية المستدامة .

٣- أسباب تدني وفرة المياه في الوطن العربي . (درجتين ويكتفى بنقطتين) ص ١٦٤
- النمو السريع للسكان .
- ٥٠٪ من الموارد المائية في العالم العربي تأتي من خارج حدوده .
- استخدام الطرق التقليدية في استغلال المياه (مثل الري بالغمر) .
- الشبكات المؤهلة لنقل المياه شبكات قديمة .
- افتقار الدول العربية إلى برامج لإدارة المياه ولا تستخدم الأدوات الاقتصادية لترشيد استهلاك المياه .



السؤال الأول موضوعي ويتكون من (أ - ب - ج - د - هـ - و) : (٣٠ درجة لكل سؤال درجة)

(أ) ظل الخيار الصحيح من بين الخيارات التي تلي كل عبارة : (خمس درجات)

١- تبلغ نسبة احتياطي النفط الخام في دول الجناح الآسيوي : (ص ١٢٨)

٩٠%	٨٠%	٧٠%	٦٠%
-----	-----	-----	-----

٢- الشيخ الذي تأسس في عهده الصندوق الكويتي للتنمية الاقتصادية العربية : (ص ١٨٤)

عبدالله السالم الصباح	جابر الأحمد الصباح	صباح الأحمد الصباح	نواف الأحمد الصباح
-----------------------	--------------------	--------------------	--------------------

٣- تسجيل المواليد والوفيات وحالات الزواج والطلاق ونحصل على بياناتها من واقع السجلات الرسمية للدولة : (ص ٩٩)

الكثافة السكانية	الإحصاء الحيوي	التعداد السكاني	النمو السكاني
------------------	----------------	-----------------	---------------

٤- المورد الطبيعي الذي يطلق عليه اسم الطاقة النظيفة : (ص ١٣١)

الفحم	النفط	الغاز الطبيعي	المعادن
-------	-------	---------------	---------

٥- أكثر الدول العربية سكاناً في الجناح الأفريقي : (ص ١٠٠)

مصر	الجزائر	تونس	المغرب
-----	---------	------	--------

(ب) أكمل العبارات التالية بما يناسبها فيما درست : (أربعة درجات)

١- قوى محركه للآلات وعنصر مهم للتقدم والتطور الاقتصادي في جميع المجالات تسمى الطاقة. (ص ٢٥)

٢- صناعات تستخدم مواد أولية محلية وتعتمد على المجهود البشري و يتوارث منها الأبناء الخبرة من آبائهم تسمى الصناعات الحرفية. (ص ١٤٣)

٣- تحتل اليمن المركز الأول في إنتاج محصول يسمى البن. (ص ١١٤)

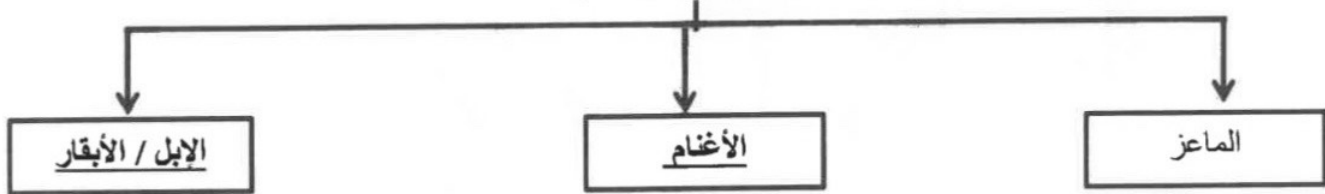
٤- الغاز الناتج عن عوادم السيارات ويؤدي إلى ارتفاع متزايد في حرارة الأرض يسمى أكسيد الكربون. ص ١٦٨

(ج) ظلل الحرف (أ) إذا كانت العبارة صحيحة أو الحرف (ب) إذا كانت العبارة خاطئة: (خمس درجات)

م	العبارة	(أ)	(ب)
١	عُقد "مؤتمر قمة الأرض" بمدينة ريو دي جانيرو في البرازيل عام ١٩٩٢ م .	(ص١٦٧)	
٢	ترتفع الكثافة السكانية في المناطق الجبلية والصحراوية الجافة .	(ص١٠٥)	
٣	ساهم موقع دول الوطن العربي البحري في تنوع الثروة المائية .	(ص١٢٢)	
٤	التبادل التجاري هو عمليتا التصدير والاستيراد بين الدول .	(ص١٥١)	
٥	تتركز الحقول النفطية في الوطن العربي في مصر والسودان .	(ص١٢٦)	

(د) أكمل المخططات السهمية التالية بما يناسبها فيما درست : (ستة درجات)

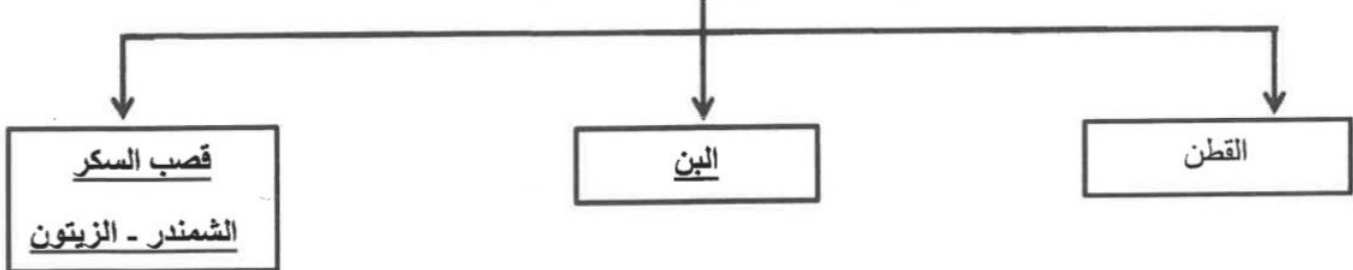
١- أنواع الثروة الرعوية في الوطن العربي (ص١١٨)



٢- الأجهزة التابعة لمنظمة الدول المصدرة للنفط (أوبك) (ص١٣٤)



٣- الغلات الصناعية في الوطن العربي (ص١١٣-١١٤)

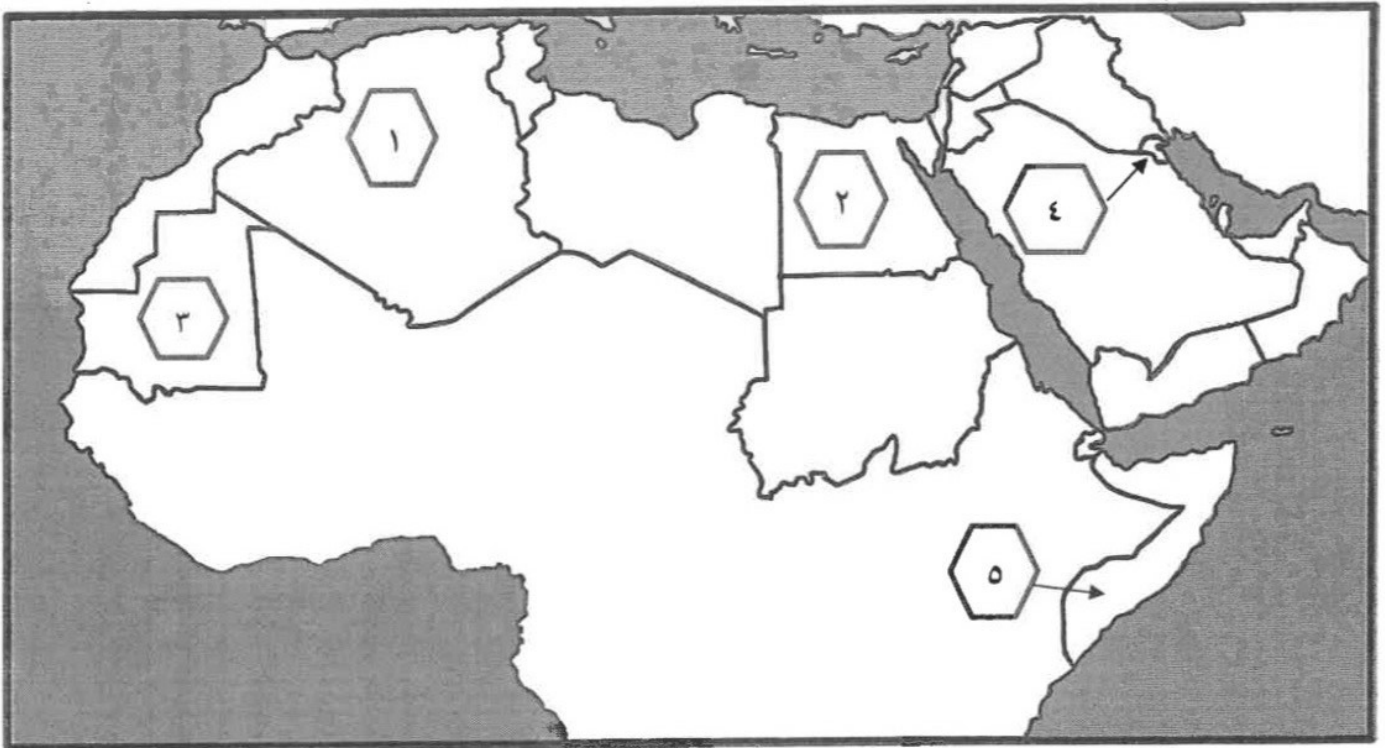


(هـ) صنف الصناعات التالية حسب ما هو مطلوب منك في الجدول (ستة درجات)

(النفط - الصناعات الغذائية - الخشب والورق - الفحم - الغاز - المنسوجات) (ص ١٤١-١٤٢)

الصناعات التحويلية	الصناعات الاستخراجية
الصناعات الغذائية	النفط
الخشب والورق	الفحم
المنسوجات	الغاز

(و) أمامك خريطة الوطن العربي - أكتب مدلولات الأرقام التي عليها في العبارات التي تليها: (اربعة درجات)



- ١- الدولة التي تحتل المرتبة الأولى في الإنتاج السمكي يمثلها على الخريطة الرقم (٢) (ص ١٢٣)
- ٢- الدولة التي تحتل المرتبة الأولى في إنتاج معدن الحديد يمثلها على الخريطة الرقم (٣) (ص ١٣٢)
- ٣- الدولة التي يقع فيها مقر منظمة (أوبك) يمثلها على الخريطة الرقم (٤) (ص ١٣٥)
- ٤- الدولة الأولى في إنتاج الموز يمثلها على الخريطة الرقم (٥) (ص ١١٤)

السؤال الثاني مقالي ويتكون من (أ - ب - ج) :

(أ) فرق بين كل من : (أربع درجات لكل نقطة درجة)

الموارد الطبيعية (ص ١٠٩)	الموارد البشرية (ص ١٠٩)
الثروات التي منحها الله لإقليم من دون أن يكون للإنسان أي دور في وجودها(مثل الثروات المعدنية والغابات والمراعي والموارد المائية وموقع الإقليم)	هي التي ترتبط بالسكان من حيث أعدادهم وتوزيعهم ومناسبة أعدادهم لمساحة الأرض التي يستغلونها
النفط (ص ١٢٥)	الغاز الطبيعي(ص ١٢٥)
بقايا عضوية على هيئة نباتات وحيوانات دقيقة ترسبت في عصور قديمة وانظمت تحت رواسب سميكة وتحولت بالضغط والحرارة إلى صورتها الحالية .	غاز مصاحب للنفط الخام أو يوجد منفرداً، تتم إسالته لاستخدامات عديدة .

(ب) أذكر نقطتين حول كل مما يلي : (ست درجات لكل نقطة درجة)

١ - طرق المحافظة على الثروة المائية . (ص ١٦٥)

- ترشيد استخدام المياه والحد من التبذير في المنازل / الحد من هدر المياه في عمليات الري باستخدام الوسائل الحديثة كالرش بالتنقيط والمحوري / تنظيم عملية الاستفادة من المياه الجوفية ومنع تسرب الأملاح الملوثة إليها واستثمارها على الوجه الأمثل / تطوير استعمال مياه الصرف الصحي المعالجة في الزراعة والتنظيف / إقامة البحيرات والسدود لتجميع مياه الأمطار والسيول والاستفادة منها في فصل الجفاف / توقيع اتفاقيات مع الدول المشاركة ودول المنبع لتحقيق مصالح الدول العربية المعنية .

٢ - العقبات والمشكلات التي تواجه الإنتاج الزراعي في الوطن العربي.(ص ١٦١)

- عدم استغلال الأراضي القابلة للزراعة لندرة مياه الري أو تذبذب الأمطار أو قلة الأيدي العاملة / اتباع طرق الزراعة التقليدية في معظم أجزاء الوطن العربي / زحف الرمال (التصحّر) وانجراف التربة / تلوث التربة نتيجة الإسراف في استخدام المبيدات الحشرية وارتفاع نسبة الملوحة بالتربة / الرعي الجائر

٣ - تقسيم مناطق الوطن العربي من حيث الكثافة السكانية.(ص ١٠٣)

- مناطق مرتفعة الكثافة / مناطق متوسطة الكثافة / مناطق منخفضة الكثافة / مناطق شبه خالية من السكان

(ج) أجب عن الأسئلة التالية: (خمس درجات لكل نقطة درجة)

١ - عدد مقومات الصناعة في الوطن العربي . (ص ١٣٩)

- طبيعية
- بشرية

٢ - عرف - التنمية المستدامة . (ص ١٧٥)

- برامج تحسين نوعية الحياة ، ولا تتحقق إلا بمشاركة جميع المواطنين .

٣ - عدد طرق النقل في الوطن العربي . (يكفي بنقطتين) (ص ١٤٨-١٤٩ - ١٥٠)

- البرية
- المائية
- الجوي .

السؤال الثالث مقالي ويتكون من (أ - ب - ج) :

(أ) اقرأ الفقرة التالية ثم أجب عما يليها من أسئلة: (ص ١١٠-١١١-١١٣) (خمس درجات)

يحتل القطاع الزراعي في الوطن العربي المرتبة الأولى خاصة في الأقطار غير المنتجة للنفط حيث تتوفر فيها مقومات الإنتاج الزراعي (بشرية / طبيعية) ، كما تختلف أنواع هذه المنتجات والمحاصيل من دولة لأخرى ، حيث تنقسم هذه المحاصيل إلى الحبوب الغذائية والغللات الصناعية والتجارية (النقدية) وكذلك الفواكه والثمار .

١- استخراج من الفقرة السابقة :

- المحاصيل الزراعية التي تزرع في الوطن العربي. (يكتفى بذكر نوعين) (درجتين)
- الحبوب الغذائية / الغلات النقدية (الغللات الصناعية والتجارية) / الفواكه والثمار.
- مقومات الإنتاج الزراعي. (ص ١١١) (درجتين)
- مقومات طبيعية / مقومات بشرية
- ٢- عرف ما تحته خط : (درجة)
- الغلات النقدية هي الغلات التي تدخل في الصناعة وتزرع بغرض التجارة والحصول على نقد .

(ب) قارن بين كل من : (أربعة درجات لكل نقطة درجة)

وجه المقارنة	التصحّر (ص ١٦٢)	التلوث البيئي (ص ١٦٦)
التعريف	زحف رمال الصحراء على المناطق الجافة وشبه الجافة	الضرر الذي يلحق بالتربة والهواء والماء ويصيب التلوث عناصر البيئة من عدة مصادر.
الأسباب	بشرية / طبيعية	مصادر صناعية/ زراعية / منزلية / الغازات السامة الصادرة من محطات التحلية / دخان المصانع / عوادم السيارات / الملوثات الصادرة عن البقايا الصلبة وتراكم النفايات والمواد البلاستيكية

(ج) علل لما يلي : (ستة درجات لكل سؤال درجتين)

- ١- تحتل الأغنام مكاناً مهماً ضمن الثروة الرعوية بالوطن العربي. (ص ١١٨)
 - الأكثر إنتشاراً في المراعي العربية
 - لأهمية منتجاتها بالنسبة للسكان
 - لأنها مصدر من مصادر الثروة القومية.
- ٢- ارتفاع النمو السكاني في الوطن العربي. (ص ١٠٦)
 - الزيادة الطبيعية - الهجرة
- ٣- اختلاف المنتوجات الزراعية في الوطن العربي من دولة إلى أخرى. (ص ١١٠)
 - بسبب اختلاف المناخ / نوع التربة / مدى توفر المياه في هذه الدول .



وزارة التربية

إدارة العامة لمنطقة مبارك الكبير التعليمية
التوجيه الفني للاجتماعيات

امتحان نهاية الفترة الدراسية الثانية
مقرر/ الكويت و الوطن العربي
للسف السابع المتوسط

العام الدراسي: ٢٠٢٣ / ٢٠٢٤ م
الزمن : ساعة ٤٥ دقيقة
عدد الاوراق : ٦

السؤال الأول (موضوعي) : يتكون من (أ - ب - ج - د - هـ - و) : (لكل نقطة درجة)

(أ) ضع خطأ تحت الخيار الصحيح من بين الخيارات التي تلي كل عبارة مما يأتي :

١- النسبة التي يمثلها القطاع الزراعي من الاقتصاد العربي : ص ١١٠

٣٠٪ - ٤٠٪ - ٥٠٪ - ٦٠٪

٢- عدد الدول الذي يتألف منه الوطن العربي : ص ٩٩

٢٠ - ٢١ - ٢٢ - ٢٣

٣- من مقومات الصناعة البشرية في الوطن العربي : ص ١٣٩

- المواد الخام - الطاقة - الأيدي العاملة - البترول

٤- عدد دول مجلس التعاون الخليجي : ص ١٨١

٦ - ٧ - ٨ - ٩

٥- الأمير الذي استضافت الكويت في عهده القمة العربية الاقتصادية والتنمية والاجتماعية : ص ١٨٦

- الشيخ صباح السالم - الشيخ جابر الأحمد - الشيخ سعد العبدالله - الشيخ صباح الأحمد

(ب) أكمل العبارات التالية بما يناسبها :

١- الدولة التي استضافت المؤتمر الدولي الأول لمانحي سوريا في عام ٢٠١٣ اسمها الكويت . ص ١٨٨

٢- أهم المزروعات في الوطن العربي تسمى الحبوب الغذائية . ص ١١٣

٣- العام الذي عُقد به مؤتمر (قمة الأرض) لمواجهة التلوث في البرازيل ١٩٩٢ م . ص ١٦٧

٤- المنظمة العربية التي تضم جميع الدول العربية تسمى جامعة الدول العربية . ص ١٧٨

٥- العام الذي تم به إنشاء الصندوق الكويتي للتنمية الاقتصادية العربية ١٩٦١ م . ص ١٨٤



(ج) صنف الصناعات التالية حسب الجدول التالي :

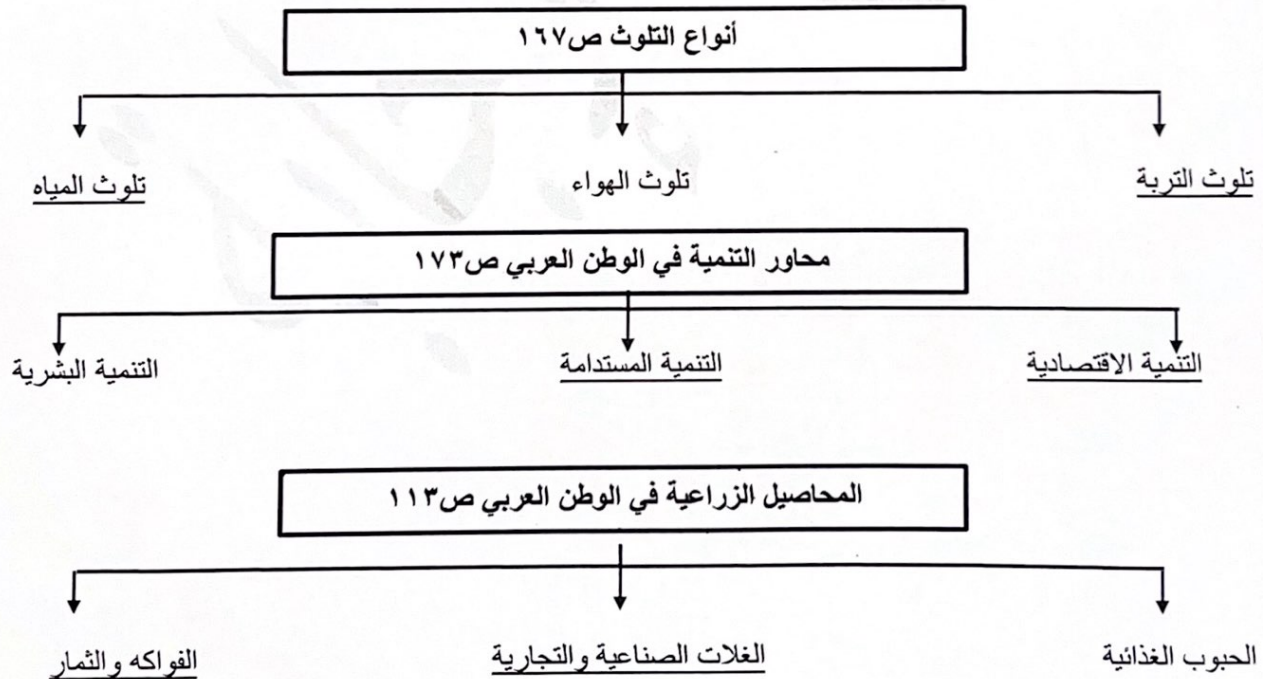
(الفحم - صناعة المنسوجات - الصناعات الغذائية - النفط)

الصناعات التحويلية	الصناعات الاستخراجية
صناعة المنسوجات ص ١٤٢	النفط ص ١٤١
الصناعة الغذائية ص ١٤٢	الفحم ص ١٤١

(د) صحح ما تحته خط في العبارات التالية وذلك بكتابة التصويب في المكان المناسب :

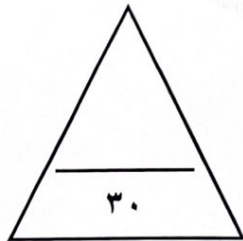
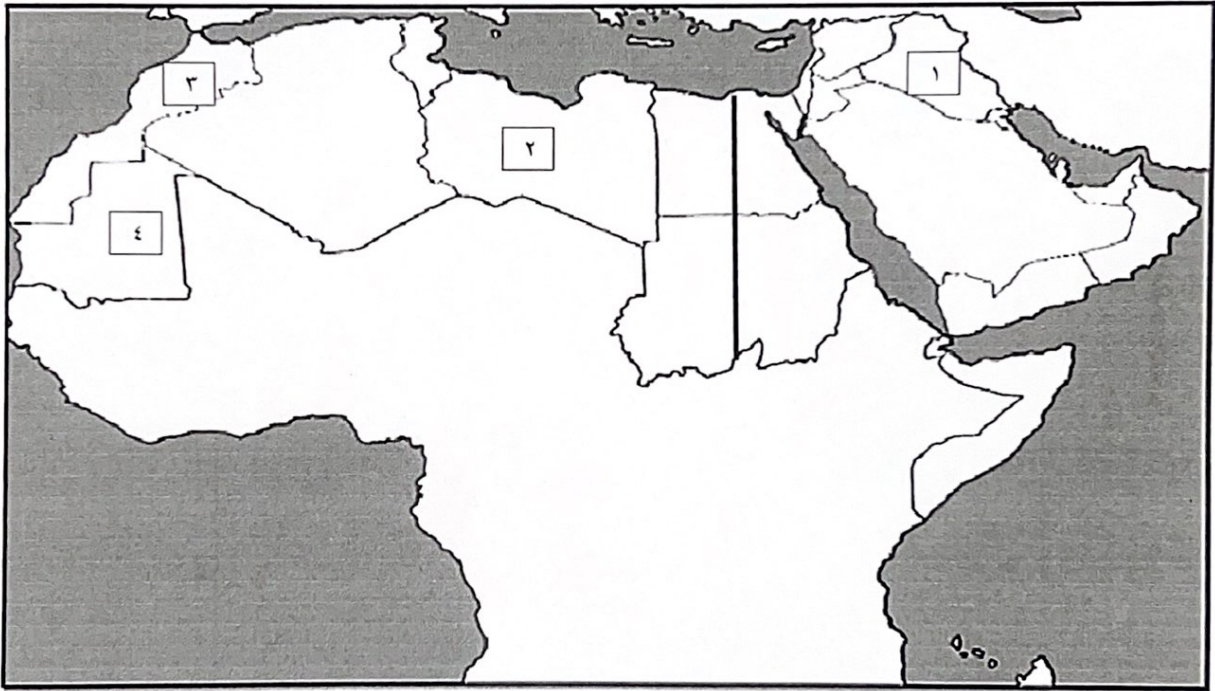
التصويب	العبرة
١٠٠ ص مصر	أكثر دولة عربية من حيث عدد السكان اسمها تونس
١٢٨ ص ٨٨٪	ينتج الجناح الآسيوي في الوطن العربي من النفط نسبة ١٢٪
١٦٢ ص التصحر	يطلق على زحف رمال الصحراء على المناطق الجافة وشبه الجافة التلوث
١٧٥ ص التنمية المستدامة	يطلق على برامج تحسين نوعية الحياة ولا تتحقق إلا بمشاركة جميع المواطنين التنمية البشرية
١٨٤ ص عبدالله السالم	تأسس الصندوق الكويتي للتنمية الاقتصادية العربية في عهد الشيخ جابر الأحمد
١٨٦ ص غزة	كانت أولوية القمة الاقتصادية العربية بعد الغزو الإسرائيلي العاشم لإعادة تعمير قطاع الضفة الغربية

(هـ) أكمل المخططات السهمية التالية:



(و) لاحظ خريطة الوطن العربي الصماء من ثم نفذ ما هو مطلوب منك :

- الدولة التي تحتل المرتبة الأولى عربياً في إنتاج معدن الحديد يمثلها على الخريطة رقم ٤ ص ١٣٢
- الدولة التي يقع فيها نهري دجلة والفرات يمثلها على الخريطة رقم ١ ص ١٤٩
- الدولة التي تصدر الدول العربية في إنتاج معادن (الفوسفات-النحاس-الرصاص-المنجنيز) يمثلها على الخريطة رقم ٣ ص ١٣٢
- أرسم نهر النيل على الخريطة باستخدام الشكل ص ١٤٩



السؤال الثاني (المقالى) يتكون من (أ - ب - ج) :

(أ) علل لما يأتي :



- ١- تحتل الأغنام العربية مكاناً مهماً ضمن الثروة الرعوية . (درجتين ويكتفي بنقطتين) ص ١١٨
 - الأكثر انتشاراً في المراعي العربية
 - أكثر الحيوانات المستأنسة والملائمة لمراعي الوطن العربي وذلك لتحملها الجفاف والانتقال
 - لأهمية منتجاتها بالنسبة للسكان
 - لأنها مصدر أساسي من مصادر الثروة القومية
- ٢- تدني وفرة المياه في الوطن العربي . (درجتين ويكتفي بنقطتين) ص ١٦٤
 - النمو السريع للسكان الذي يشكل ضغطاً متزايداً على المياه المتوفرة لكل فرد
 - ٥٠٪ من الموارد المائية في العالم العربي تأتي من خارج حدوده ، و تتحكم فيها دول المنبع في غياب تشريعات دولية تضمن حقوقنا .
 - الطرق التقليدية المستخدمة في استغلال المياه في معظم مناطق العالم العربي مسؤولة عن تدني نسبة المياه (استخدام الري بالغمر و الاستهلاك غير المسؤول في مجالات المياه) .
 - الشبكات المؤهلة لنقل المياه شبكات قديمة
 - افتقار الدول العربية إلى برامج لإدارة المياه كما أنها لا تستخدم الأدوات الاقتصادية اللازمة لترشيد الاستخدام المتزايد من المياه

(ب) فرق بين كل مما يلي من حيث التعريف :

الموارد البشرية ص ١٠٩ (درجة)	الموارد الطبيعية ص ١٠٩ (درجة)
الموارد البشرية هي التي ترتبط بالسكان من حيث أعدادهم وتوزيعهم ومناسبة أعدادهم لمساحة الأرض التي يستغلونها.	الثروات التي منحها الله لإقليم من دون أن يكون للإنسان أي دور في وجودها .
الطاقة ص ١٢٥ (درجة)	النفط ص ١٢٥ (درجة)
قوى محركة للألات ، وعنصر مهم للتقدم والتطور الاقتصادي في جميع المجالات.	بقايا عضوية على هيئة نباتات وحيوانات دقيقة ترسبت في عصور قديمة وانطمرت تحت رواسب سميكة وتحولت بالضغط والحرارة إلى صورتها الحالية.

(ج) اذكر اثنين فيما يلي:

- ❖ العقبات التي تواجه الإنتاج الزراعي في الوطن العربي . ص ١٦١ (درجتين)
- عدم استغلال الأراضي القابلة للزراعة لندرة مياح الري أو تذبذب الأمطار أو قلة الأيدي العاملة.
- اتباع طرق الزراعة التقليدية في معظم أجزاء الوطن العربي .
- زحف الرمال (التصحّر) وانجراف التربة.
- تلوث التربة نتيجة للإسراف في استخدام المبيدات الحشرية وارتفاع نسبة الملوحة بالتربة.
- الرعي الجائر.


السؤال الثالث (المقالى) يتكون من (أ - ب - ج) :

(أ) عرف المفاهيم أو المصطلحات التالية:

- ١- التجارة البينية: التبادل التجاري بين الدول العربية . (درجة) ص ١٥٢
- ٢- التنمية: تعني التطور والتطوير وهي عملية تتطلب التخطيط والمشاركة من الجميع . (درجة) ص ١٧٢
- ٣- التضامن العربي: هو العمل على توثيق الصلات بين الدول والشعوب العربية وحماية مصالحها السياسية والاقتصادية والثقافية. (درجة) ص ١٧٧


(ب) قارن بين كل مما يلي حسب المطلوب منك في الجدول التالي: (أربعة درجات لكل نقطة درجة)

أوجه المقارنة	أوبك ص ١٣٤	أوبك ص ١٣٥
سنة التأسيس	١٩٦٠م	١٩٦٨م
المقر الحالي	فيينا	الكويت

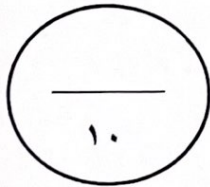


(ج) لاحظ الصور التي أمامك ثم أجب عما يلي :

- ١- أذكر مصدر الطاقة التي تمثله الصور . (درجة) ص ١٧١
مصادر الطاقة المتجددة الشمس والرياح.



- ٢- عدد طرق توليد الطاقة النظيفة. (درجتين) ص ١٧١
-إعادة تجديد محطات الطاقة القديمة.
-الاعتماد على مصادر الطاقة البديلة كالشمس والرياح والمياه للتخفيف من تلوث البيئة.



السؤال الرابع (المقالى) يتكون من (أ - ب - ج) :

(أ) اقرأ الفقرة التالية ثم أجب عما يليها من أسئلة :

(يصيب التلوث عناصر البيئة من عدة مصادر للملوثات صناعية ، زراعية، منزلية ، ومن أكثر هذه الملوثات انتشاراً التلوث الكيميائي مثل الغازات السامة ، وكذلك الملوثات الصادرة عن البقايا الصلبة وتراكم النفايات والمواد البلاستيكية) .

١- عرف ما تحته خط . ص ١٦٦ (درجة)

- هو الضرر الذي يلحق بالتربة والهواء والماء ، ويصيب التلوث عناصر البيئة من عدة مصادر للملوثات .

٢- استخرج من الفقرة - أكثر الملوثات انتشاراً . ص ١٦٦ (درجة)

- التلوث الكيميائي .



(ب) اذكر لكل مما يلي :

١- أهداف الصناعات البتروكيميائية . ص ١٤٥ (درجتين ويكتفي بنقطتين)

- تنوع مصادر الدخل للدول المنتجة.

- توفير المواد الأولية للصناعات التحويلية لتأمين حاجات القطاعات الاستهلاكية(خاصة مجال البناء).

- تطوير الصناعات البتروكيميائية إلى تقنيات متخصصة وعالية.

٢- جوهر التنمية المستدامة . ص ١٧٦ (ثلاث درجات و يكتفي بثلاث نقاط)

- الحرية - المعرفة - العمل الجماعي - الإبداع - الكفاءة لا المحسوبية - حقوق المرأة - حقوق الطفل .

(ج) لاحظ الجدول المقابل ثم أجب عن الأسئلة التالية :

١- أستخرج من الجدول أعلى دولة عربية من حيث الإنتاج السمكي . (درجة)


- مصر ص ١٢٣

٢- حول جدول الإنتاج السمكي إلى رسم أعمده بيانية . (درجتان) ص ١٢٣

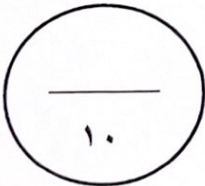
الإنتاج (ألف طن)	الدولة
٧٣	الامارات
١٢٤٦	المغرب
١٣٧٤	مصر
٦٤٤	موريتانيا

الإنتاج السمكي في بعض دول الوطن العربي

الإنتاج السمكي



انتهت الأسئلة مع تمنياتنا لكم بالتوفيق



إجابة امتحان نهاية الفترة الدراسية الثانية مقرر الكويت والوطن العربي للفص السابع	وزارة التربية الإدارة العامة لمنطقة العاصمة التعليمية التوجيه الفني للاجتماعيات
العام الدراسي : ٢٠١٨ / ٢٠١٩ م الزمن : ساعة و ٤٥ دقيقة عدد الأوراق (٦)	

السؤال الأول ويتكون من: (أ - ب - ج - د - هـ) : (٣٠ درجة - درجة لكل إجابة)

(أ) أكمل العبارات التالية بما يناسبها فيما درست :

- ١- أكبر الدول العربية من حيث المساحة في الجناح الأفريقي تسمى... الجزائر.....ص ١٠٠
- ٢- تبلغ نسبة احتياط النفط الخام في الوطن العربي حوالي ٥٥% ص ١٢٧
- ٣- الطبقة الجوية التي تحمي الأرض من الإشعاعات فوق البنفسجية الضارة تسمى...الأوزون... ص ١٦٩
- ٤- الدولة العربية التي تحتل المركز الأول في إنتاج الإبل تسمى الصومال..... ص ١١٨
- ٥- المؤتمر الذي عقد في البرازيل عام ١٩٩٢م لمناقشة مشكلة التلوث البيئي عرف باسم ... قمة الأرض.... ص ١٦٧
- ٦- الثروات التي منحها الله لإقليم دون أن يكون للإنسان دور في وجودها تسمى....الموارد الطبيعية..... ص ١٠٩

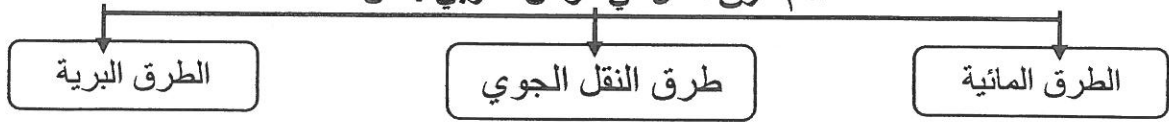
(ب) ظلل (أ) إذا كانت العبارة صحيحة و ظلل (ب) إذا كانت العبارة خاطئة :

م	العبارة	صحيحة	خاطئة
١	عمليات التصدير والاستيراد بين الدول تسمى الصناعة .	أ	ب
٢	الضرر الذي يلحق بالتربة والهواء والماء يعرف بالوعي البيئي .	أ	ب
٣	أكبر تجمع للسكان يكون حول الأنهار والبحار ومصادر المياه.	أ	ب
٤	تعتبر الرياح من مصادر الطاقة المتجددة . ص ١٧١	أ	ب
٥	تتصدر دولة البحرين المرتبة الأولى في إنتاج أربع معادن هي (الفوسفات - النحاس - الرصاص - المنجنيز) . ص ١٣٢	أ	ب
٦	يتألف الوطن العربي من ٢٢ دولة . ص ٩٩	أ	ب
٧	يعد الصندوق الكويتي للتنمية الاقتصادية العربية أول مؤسسة للتنمية في الوطن العربي. ص ١٨٤	أ	ب

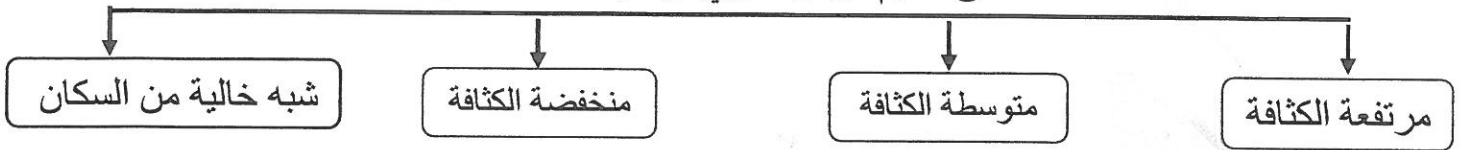


(ج) أملأ الفراغات في المخططات السهمية التالية :

١- أهم طرق النقل في الوطن العربي : ص ١٤٧



٢- مناطق تقسيم الوطن العربي من حيث الكثافة : ص ١٠٣



٣- أسباب التصحر في الوطن العربي : ص ١٦٢




(د) صنف المحاصيل الزراعية التالية حسب موقعها في الجدول التالي :

(شعير - زيتون - شمندر - تمور - أرز - موز) ص ١١٣

الفواكه والثمار	الغلات الصناعية والتجارية	الحبوب الغذائية
- موز - تمور	- شمندر - زيتون	- شعير - أرز

(ه) لاحظ الصور والرسومات التالية ثم أجب عن ما يليها من عبارات :




٢- عملية تركيب وجمع المواد المصنعة على اختلاف مصادرها كي نحصل على سلع متنوعة تسمى: ص ١٤٣

(.صناعات تجميعية. أو. تجميع السيارات..)



١- الشيخ الذي عقد في عهده أكبر وأهم مؤتمر قمة عربية منذ نشأة جامعة الدول العربية اسمه :

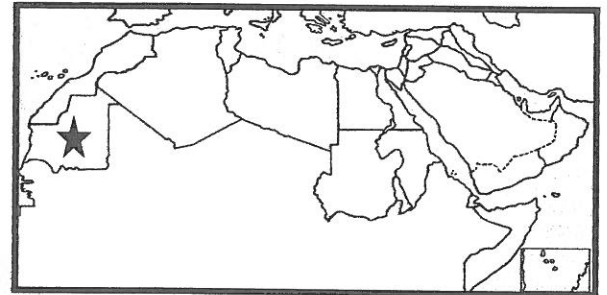
(الشيخ صباح الأحمد الصباح) ص ١٨٦



٤- شعار أحد المنظمات العربية تسمى :


(المنظمة العربية للتنمية الزراعية)

ص ١٨٢



٣- الدولة التي تحمل الشكل ★ تحتل المرتبة الأولى عربياً في إنتاج معدن الحديد تسمى :

(..... موريتانيا) ص ١٣٢



٦- الثروة الأكثر انتشاراً في المراعي العربية تسمى:

(.....الأغنام) ص ١١٨

عدد السكان الكلي
المساحة الكلية

٥- القانون الذي أمامك يمثل مفهوم يسمى :

(...الكثافة السكانية العامة ..) ص ١٠٢

السؤال الثاني يتكون من (أ - ب - ج) :-

(أ) علل لما يلي : (٢×١ = درجتان)

١- اختلاف المنتوجات الزراعية من دولة عربية لأخرى . ص ١١٠ (يكتفي بنقطة واحدة)

بسبب اختلاف *المناخ *التربة *مدى توافر المياه في هذه الدول .

٢- تنوع الثروة المائية في الوطن العربي . ص ١٢٢

* لأنها دول بحرية لها سواحل ومسطحات مائية واسعة منها المالحة ومنها العذبة .

(ب) اكتب فيما يلي مما درست : (٢×٢ = ٤ درجات) (يكتفي بنقطتين لكل إجابة)

١- المناطق الرئيسية التي تتركز فيها معظم حقول النفط في الوطن العربي . ص ١٢٦

* دول الخليج وسهول دجلة والفرات . * منطقة خليج السويس . * منطقة الصحراء الكبرى .

٢- المقومات البشرية للصناعة في الوطن العربي . ص ١٣٩

*رؤوس الأموال *المهارة والخبرة *السوق *وسائل النقل *الأيدي العاملة

(ج) فرق بين كل من : (٤×١ = ٤ درجات)

الزيادة الطبيعية للسكان	الزيادة الطبيعية للسكان ص ١٠٦
الزيادة الناتجة عن الهجرة	الفرق بين معدل المواليد ومعدل الوفيات
الغاز الطبيعي	الطاقة ص ١٢٥
غاز مصاحب للنفط الخام أو يوجد منفرداً تتم إيسالته لاستخدامات عديدة	قوى محركة للألات وعنصر مهم للتقدم والتطور الاقتصادي في جميع المجالات .

السؤال الثالث : ويتكون من (أ - ب - ج) :-

(أ) عرف المفاهيم التالية : (٢×١ = درجتان)

- ١- التجارة البينية : التبادل التجاري بين الدول العربية . ص ١٥٢
- ٢- التضامن العربي : العمل على توثيق الصلات بين الدول والشعوب العربية وحماية مصالحها السياسية والاقتصادية والثقافية . ص ١٧٧

(ب) عدد أهداف ما يلي : (٢×٢ = ٤ درجات) (يكفي بنقطتين لكل إجابة)

- ١- أهداف الصناعات البتروكيميائية . ص ١٤٥
 - * تنوع مصادر الدخل للدولة المنتجة .
 - * توفير المواد الأولية للصناعات التحويلية لتأمين حاجات القطاعات الاستهلاكية (خاصة مجال البناء)
 - * تطوير الصناعات البتروكيميائية إلى تقنيات متخصصة وعالية .
- ٢- أهداف القمة الاقتصادية التنموية العربية . ص ١٨٦
 - * إنشاء بنك عربي لتمويل شتى المشاريع التنموية لتقليل من معدلات الفقر .
 - * القضاء على البطالة والفقر بتوفير فرص العمل .
 - * الاستثمار الاقتصادي بين الدول العربية وتقوية التبادل التجاري .
 - * الاعتناء بالعنصر البشري والتنمية المستدامة .

(ج) قارن بين المنظمات التالية حسب ما هو مطلوب في الجدول التالي : (٤×١ = ٤ درجات) ص ١٣٤

أوجه المقارنة	منظمة الأوبك	منظمة الأوابك
سنة التأسيس	١٩٦٠م	١٩٦٨م
المقر	فيينا	الكويت



وزارة التربية

العام الدراسي : ٢٠١٨/٢٠١٩م

امتحان نهاية الفترة الدراسية الثانية

الإدارة العامة لمنطقة مبارك الكبير التعليمية

مقرر / الدراسات الاجتماعية الكويت والوطن العربي

الزمن : ساعة و ٤٥ دقيقة

التوجيه الفني للاجتماعيات

للفص السابع المتوسط

عدد الأوراق : (٦)

السؤال الأول (موضوعي) : يتكون من (أ - ب - ج - د - هـ - و) : (لكل إجابة درجة $36 \times 1 = 36$ درجة)

(أ) ضع خطأ تحت الخيار الصحيح من بين الخيارات التي تلي كل عبارة مما يأتي :

١- نسبة القطاع الزراعي بالنسبة للاقتصاد العربي يمثلها الدائرة البيانية التي تحمل الحرف : ص ١١٠



د



ج



ب



أ

٢- عملية تركيب وجمع المواد المصنعة على اختلاف مصادرها كي نحصل على سلع متنوعة : ص ١٤٣

أ - الصناعات اليدوية ب- الصناعات النفطية ج- الصناعات الحديدية د- الصناعات التجميعية



٣- الصورة التي أمامك تمثل : ص ١٧٨

أ - جامعة الدول العربية

ب - مجلس الأمن

د - مجلس التعاون الخليجي

ج - الأمم المتحدة

٤- العام الذي عقد فيه مؤتمر قمة الأرض : ص ١٦٧

د - ١٩٩٤م

ج - ١٩٩٣

ب- ١٩٩٢م

أ - ١٩٩١م

٥- صاحب مبادرة عقد القمة العربية الاقتصادية والتنمية الاجتماعية عام ٢٠٠٩م : ص ١٨٦

د - الشيخ صباح السالم

ج - الشيخ صباح الأحمد

ب - الشيخ سعد العبدالله

أ - الشيخ جابر الأحمد

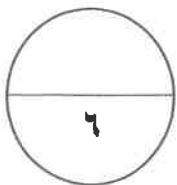
٦- الرياح والشمس من مصادر الطاقة : ص ١٧١

د - المحدودة

ج - الناضبة

ب - المتجددة

أ - الغير متجددة



تابع / السؤال الأول :

(ب) أكمل العبارات الآتية بما يناسبها :

١- أكبر دول الوطن العربي مساحة تسمى : الجزائر . ص ١٠٠

٢- تبلغ المساحة المزروعة في الوطن العربي من المساحة القابلة للزراعة حوالي : ٥٦% . ص ١١٦

٣- استخدام المواد الكلورية الموجودة في وسائل التبريد أدت الى ثقب في طبقة من طبقات الغلاف الجوي تسمى : الأوزون ص ١١٩

٤- أكثر الدول العربية سكانا حسب احصائية عام ٢٠١٤ م دولة تسمى : مصر . ص ١٠٠

٥- العام الذي تم إنشاء فيه صندوق أبوظبي للتنمية ١٩٧١ م . ص ١٧٩

٦- الدولة العربية التي تحتل المركز الأول في إنتاج البن تسمى : اليمن . ص ١١٤

(ج) صنف الكلمات الآتية حسب الجدول التالي :

(الشعير - العنب - التمور - القمح - الحمضيات - الأرز)

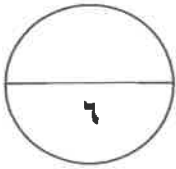
فواكه وثمار ص ١١٣	حبوب غذائية ص ١١٣
العنب - التمور - الحمضيات	الشعير - القمح - الأرز



تابع / السؤال الأول :

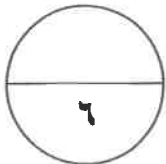
(د) صحح ما تحته خط في العبارات التالية وذلك بكتابة التصويب في المكان المناسب :

م	العبرة	التصويب	ص
١	أكبر دول الوطن العربي مساحة في الجناح الآسيوي دولة <u>قطر</u> .	السعودية	١٠٠
٢	بقاء عناصر الطبيعة في حالة من التوازن لتؤدي وظائفها على أكمل وجه تعرف <u>التكامل</u> .	التوازن البيئي	١٧٠
٣	الدولة التي تحتل المركز الأول في إنتاج القطن دولة <u>العراق</u> .	مصر	١١٤
٤	الطاقة النظيفة تطلق على مصدر للطاقة <u>الفحم</u> .	الغاز الطبيعي	١٣١
٥	الدولة التي استضافت المؤتمر الدولي الأول لمانحي سورية في نهاية يناير ٢٠١٣م دولة <u>البحرين</u> .	الكويت	١٨٨
٦	نسبة عدد السكان الكلي في دولة ما الى المساحة الكلية لهذه الدولة تسمى <u>الهجرة</u> .	الكثافة السكانية العامة	١٠٢



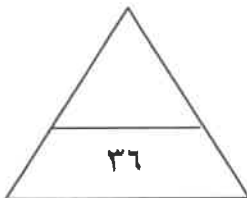
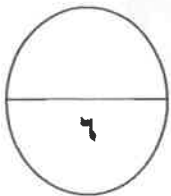
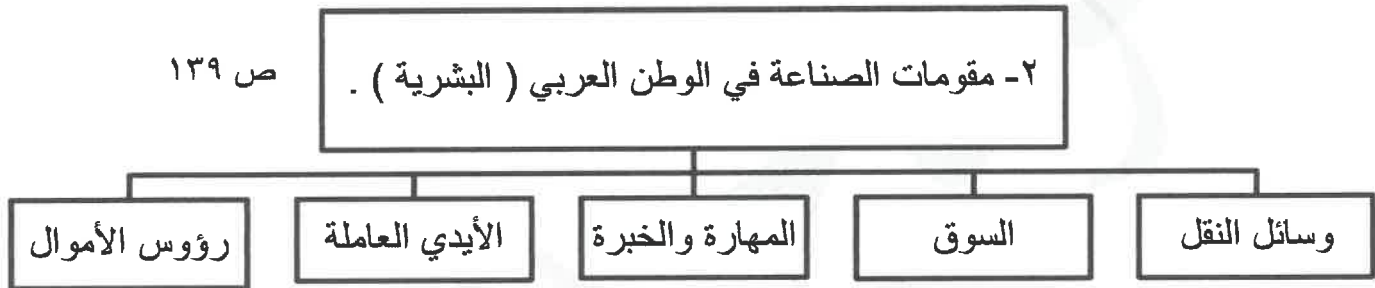
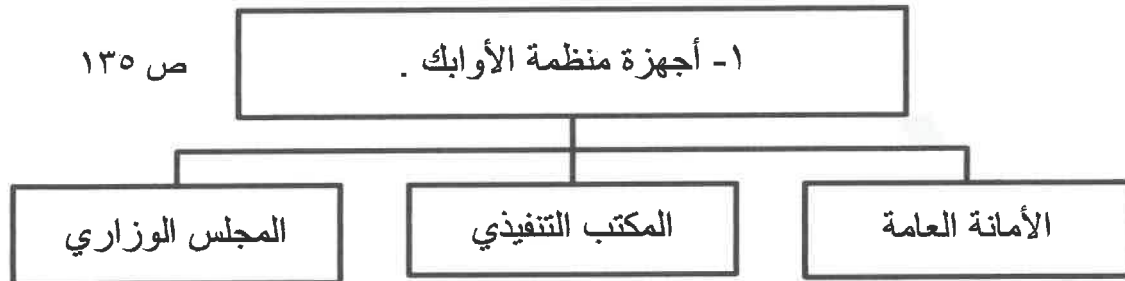
(هـ) أكتب المفاهيم أو المصطلحات الدالة على العبارات التالية :

م	المفهوم أو المصطلح	العبرة
١	النمو السكاني ص ١٠٦	- تزايد عدد السكان من عام لآخر نتيجة للزيادة الطبيعية للسكان والهجرة .
٢	الطاقة ص ١٢٥	- قوى محركه للآلات وعنصر مهم للتقدم والتطور الاقتصادي في جميع المجالات .
٣	صناعات تحويلية ص ١٤٢	- تحويل المواد الأولية من معدنية نباتية وحيوانية الى سلع استهلاكية صالحة للاستعمال
٤	التلوث ص ١٦٦	- الضرر الذي يلحق بالتربة والهواء والماء .
٥	التضامن العربي ص ١٧٧	- العمل على توثيق الصلات بين الدول والشعوب العربية وحماية مصالحها السياسية والاقتصادية والثقافية .
٦	التجارة البينية ص ١٥٢	- التبادل التجاري بين الدول العربية .

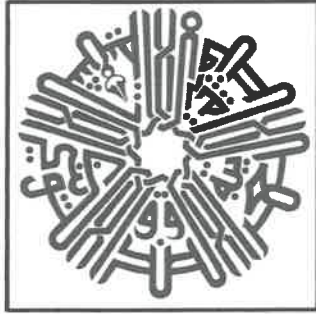


تابع / السؤال الأول :

(و) أكمل المخططات السهمية التالية :



الدرجة بالحروف :



السؤال الثاني (المقالى) يتكون من (أ - ب - ج) :

(أ) لاحظ الشعار الذي أمامك ثم أجب عما يلي :

١- أكتب اسم هذه المؤسسة . (درجة واحدة) ص ١٨٤

* الصندوق الكويتي للتنمية الاقتصادية العربية .

٢- تأسست هذه المؤسسة في عهد الشيخ . عبدالله السالم الصباح . (درجة)

٣- عدد - مساهمات هذه المؤسسة .

* تحقيق مشاريع التنمية الضرورية الخاصة بالمجالات الصحية والاجتماعية .

* تقديم المساعدات اللازمة في حالات الكوارث والنكبات .

* دعم قضايا الأمة العربية الإسلامية . (درجتان - يكتفى بإجابتين)

(ب) قارن بين كل مما يلي :

أوجه المقارنة	منظمة الأوبك ص ١٣٤	منظمة الأوابك ص ١٣٥
التعريف	منظمة عالمية تعتمد على صادراتها النفطية اعتمادا كبيرا لتحقيق مدخولها . (درجة)	منظمة الدول العربية المصدرة للنفط . (درجة)
سنة الإنشاء	١٩٦٠م (درجة)	١٩٦٨م (درجة)

(ج) علل لما يأتي :

١- تحتل الأغنام مكانا مهما ضمن الثروة الرعوية في الوطن العربي . (درجتان - يكتفى بإجابتين) ص ١١٨
* الأكثر انتشارا في المراعي العربية . * أكثر الحيوانات المستأنسة والملائمة لمراعي الوطن العربي ، وذلك لتحملها الجفاف والانتقال . * لأهمية منتجاتها بالنسبة للسكان . * مصدر أساسي من مصادر الثروة القومية .

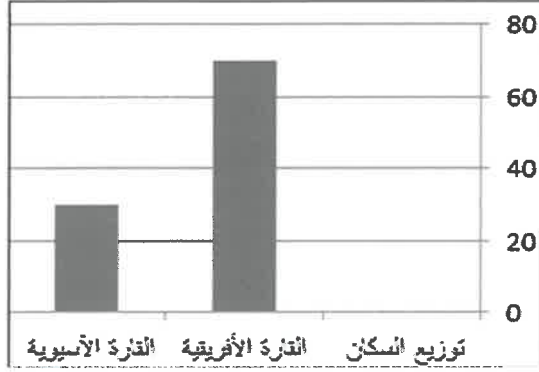
٢- تدهني وفرة المياه في الوطن العربي . (درجتان - يكتفى بإجابتين) ص ١٦٤
* النمو السريع للسكان الذي يشكل ضغطا متزايدا على المياه المتوفرة لكل فرد . * ٥٠% من الموارد المائية في العالم العربي تأتي من خارج حدوده ، وتتحكم فيها دول المنبع في غياب تشريعات دولية تضمن حقوقنا .
* الطرق التقليدية المستخدمة في استغلال المياه في معظم مناطق العالم العربي مسؤولة عن تدهني نسبة المياه (استخدام الري بالغمر والاستهلاك غير المسؤول في مجالات المياه) . * الشبكات المؤهلة لنقل المياه شبكات قديمة .
* افتقار الدول العربية إلى برامج لإدارة المياه ، كما أنها لا تستخدم الأدوات الاقتصادية اللازمة لترشيد الاستخدام المتزايد من المياه .



السؤال الثالث (المقالى) يتكون من (أ - ب - ج) :

(أ) اقرأ الفقرة الآتية ثم أجب عن الأسئلة التي تليها :

" الوطن العربي يغطي مساحة كبيرة من الأرض تبلغ ١٣،٥ مليون كم^٢ تقريبا ، ويتألف من ٢٢ دولة تضم حوالي ٣٨٢،٠٠٩ مليون نسمة تقريبا ، يتوزعون بنسبة ٧٠% في القارة الأفريقية و ٣٠% في القارة الآسيوية وتعتمد دراسة السكان بصورة عامة على الإحصاءات السكانية منها التعداد السكاني ."



١- حول - نسبة توزيع السكان في القارة الأفريقية والقارة الآسيوية إلى أعمدة بيانية :

(درجتان - لكل عمود نصف درجة وللمحورين درجة)

٢- عدد - الإحصاءات التي تعتمد عليها دراسة السكان في الوطن العربي .

* التعداد السكاني . * الإحصاء الحيوي . (درجتان) ص ٩٩

(ب) فرّق بين كل مما يلي :

الزيادة الطبيعية ص ١٠٦	الزيادة الطبيعية ص ١٠٦
الزيادة الناتجة عن الهجرة . (درجة)	الفرق بين معدل المواليد ومعدل الوفيات . (درجة)
التممية المستدامة ص ١٧٥	التممية ص ١٧٢
برامج تحسين نوعية الحياة ولا تتحقق إلا بمشاركة جميع المواطنين . (درجة)	التطور والتطوير ، وهي عملية تتطلب التخطيط والمشاركة من الجميع . (درجة)

(ج) دّل على صحة العبارات التالية :

- ١- يواجه الإنتاج الزراعي في الوطن العربي العديد من العقبات . (درجتان - يكتفى بإجابتين) ص ١٦١
* عدم استغلال الأراضي القابلة للزراعة لندرة مياه الري أو تذبذب الأمطار أو قلة الأيدي العاملة . * اتباع طرق الزراعة التقليدية في معظم أجزاء الوطن العربي . * زحف الرمال (التصحر) وانجراف التربة . * تلوث التربة نتيجة للإسراف في استخدام المبيدات الحشرية وارتفاع نسبة الملوحة بالتربة . * الرعي الجائر .
- ٢- استطاع السكان العيش في بعض مناطق أنواع التضاريس .
* بفضل التطور العلمي . * حول الجبال إلى مدرجات وزرعها . * شق العديد من الطرقات . * استطاع أن يواجه ظروف العيش في الصحراء ويستغل ثرواتها الطبيعية . (درجتان - يكتفى بإجابتين) ص ١٠٥



وزارة التربية

الإدارة العامة لمنطقة الجهاد التعليمية

التوجيه الفني للاجتماعيات

امتحان نهاية الفترة الدراسية الثانية

للفيف السابع

الكويت والوطن العربي

العام الدراسي: ٢٠١٨/٢٠١٩

الزمن: ساعة ونصف

عدد الأوراق: (٦)

أجب عن جميع الأسئلة التالية :-

السؤال الأول: (موضوعي) يتكون من (أ - ب - ج - د - هـ - و) :- (لكل سؤال درجة)

أ) ضع خطأ تحت الخيار الصحيح من بين الخيارات التي تلي كل عبارة :-

١ - من الغلات الصناعية التجارية: ص ١١٣

(البين) - العنب - التمور - الشعير (-)

٢ - أولى الدول العربية في إنتاج الموز: ص ١١٤

(مصر) - الصومال - السودان - المغرب (-)

٣ - أكثر أنواع الثروة الحيوانية انتشاراً في منطقة الوطن العربي: ص ١١٨

(الأبقار) - الماعز - الأغنام - الإبل (-)

٤ - من المقومات البشرية للصناعة: ص ١٣٩

(البتروال) - الغاز الطبيعي - رؤوس الأموال - المحاصيل الزراعية (-)

٥ - تبلغ نسبة احتياطي النفط الخام في دول الوطن العربي: ص ١٢٧

(١٦.٥% - ٢٧.٥% - ٣٠% - ٥٥%)

ب) أكتب المفاهيم أو المصطلحات الدالة على العبارات التالية :-

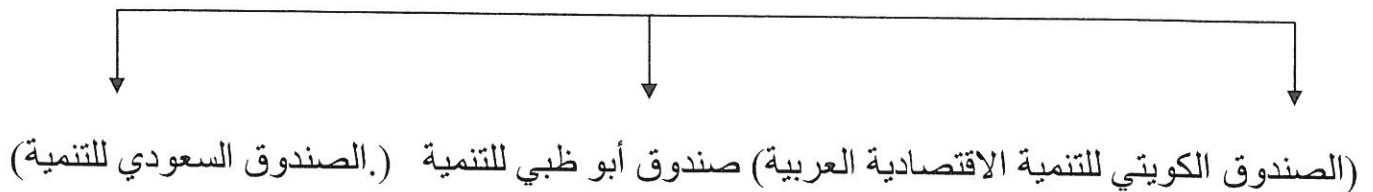
م	المفهوم	العبرة
١	إحصاء الحيوي	تسجيل المواليد والوفيات وحالات الزواج والطلاق ونحصل على بياناتها من واقع السجلات الرسمية للدولة . ص ٩٩
٢	طاقة	قوى محركة للآلات وعنصر مهم للتقدم والتطور الاقتصادي في جميع المجالات . ص ١٢٥
٣	تبادل التجاري	عمليات التصدير والاستيراد بين الدول . ص ١٥١
٤	تصحّر	زحف رمال الصحراء على المناطق الجافة وشبه الجافة . ص ١٦٢
٥	تنمية المستدامة	برامج تحسين نوعية الحياة ولا تتحقق إلا بمشاركة جميع المواطنين . ص ١٧٥

ج) أكمل العبارات التالية بما يناسبها فيما درست :-

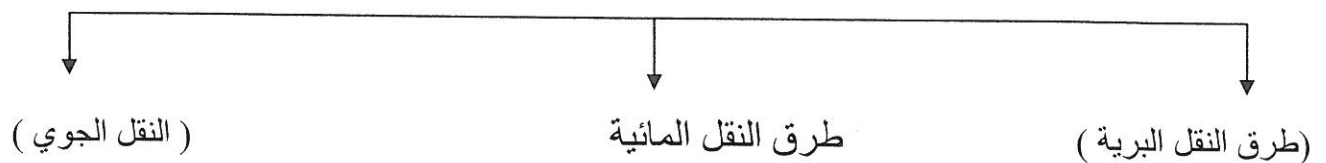
- ١ - الدولة العربية الأكثر سكانا حسب إحصائية عام ٢٠١٤ م تسمىمصر.....ص ١٠٠
- ٢ - تبلغ نسبة المساحة المزروعة في الوطن العربي٥٦..... % ص ١١٦
- ٣ - الدولة العربية الأولى في إنتاج الإبل تسمىالصومال..... ص ١١٨
- ٤ - تبلغ نسبة إنتاج الغاز الطبيعي في دول الوطن العربي١٦.٥.....% ص ١٢٧
- ٥ - الدولة العربية التي عقد فيها أكبر وأهم مؤتمر للقمة العربية عام ٢٠٠٩ م تسمى ...الكويت... ص ١٨٦

د) أكمل المخطط السهمي التالي :-

- ١ - أهم الصناديق الوطنية (على مستوى الدول العربية) ص ١٧٩



- ٢ - أنواع طرق النقل ص ١٤٨ - ١٥٠



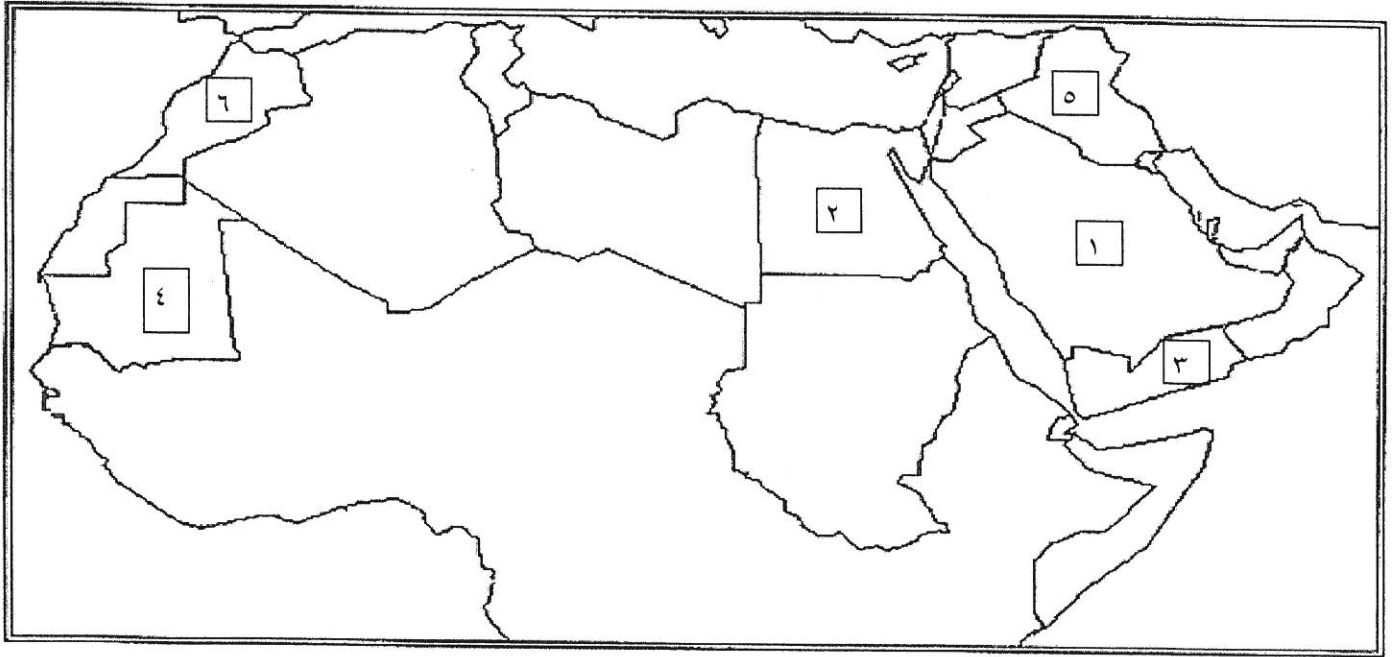
- ٣ - أسباب التصحر



هـ) صوب ما تحته خط في العبارات التالية :-

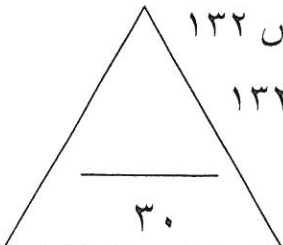
التصويب	العبرة
الحبوب الغذائية	١ - يعتبر القمح والأرز والذرة من <u>الغلات الصناعية التجارية</u> . ص ١١٣
السودان	٢ - أولى الدول العربية في نسبة إنتاج الأبقار <u>مصر</u> . ص ١١٨
متجددة	٣ - تعد الرياح والشمس من مصادر الطاقة <u>الغير المتجددة</u> . ص ١٧١
١٩٨١م	٤ - أعلن قيام مجلس التعاون الخليجي في ٢٥ مايو عام <u>١٩٨٨</u> م . ص ١٨١
الكويت	٥ - عقد المؤتمر الدولي للمحتاجين لدعم الوضع الإنساني في سوريا في <u>سلطنة عمان</u> . ص ١٨٨

و) أمامك خريطة صماء للوطن العربي نفذ المطلوب عليها :-



حدد على خريطة الوطن العربي الصماء ما يلي :-

- الدولة العربية الأولى في إنتاج البن يمثلها على الخريطة الرقم٣..... ص ١١٤
- الدولة العربية الأولى في إنتاج التمور يمثلها على الخريطة الرقم١..... ص ١١٤
- الدولة العربية الأولى في إنتاج الأسماك يمثلها على الخريطة الرقم.....٢..... ص ١٢٣
- الدولة العربية الأولى في إنتاج معدن الحديد يمثلها على الخريطة الرقم.....٤..... ص ١٣٢
- الدولة العربية الأولى في إنتاج معدن الفوسفات يمثلها على الخريطة الرقم.....٦..... ص ١٣٢



السؤال الثاني: (مقال) يتكون من (أ - ب - ج) :-

أ) اقرأ الفقرة التالية ثم أجب عن الأسئلة التي تليها: - (لكل سؤال درجة) ص ١٦٦ / ص ١٦٧

" التلوث البيئي من أهم وأخطر المشاكل التي تواجه شعوب العالم اليوم ، حيث عقد أكبر مؤتمر للأمم المتحدة في مدينة ريو دي جانيرو بالبرازيل عام ١٩٩٢ م ، ويصيب التلوث عناصر البيئة من عدة مصادر للملوثات منها صناعية وزراعية ومنزلية "

١ - عرف ما تحته خط . ص ١٦٦

التلوث : هو الضرر الذي يلحق بالتربة والهواء والماء ويصيب التلوث عناصر البيئة من عدة مصادر للملوثات .

٢ - استخرج من القطعة ما يلي :-

أ - المدينة التي عقد فيها أكبر مؤتمر للأمم المتحدة لمواجهة مشكلة التلوث . ص ١٦٧
ريودي جانيرو

ب - مصادر الملوثات . (يكتفى بعاملين) ص ١٦٦

- صناعية .
- زراعية .
- منزلية .
وكذلك الملوثات الصادرة عن البقايا الصلبة وتراكم النفايات والمواد البلاستيكية .

ب) عدد أهداف كل من :- (درجتين لكل سؤال)

١ - الصناعات البتروكيميائية . (يكتفى بنقطتين) ص ١٤٥

- تنويع مصادر الدخل للدولة المنتجة .
- توفير المواد الأولية للصناعات التحويلية لتأمين حاجات القطاعات الاستهلاكية (خاصة مجال البناء) .
- تطوير الصناعات البتروكيميائية إلي تقنيات متخصصة وعالية .

٢ - التنمية الاقتصادية . ص ١٧٤

- استخدام العلم في زيادة الإنتاج .
- تحقيق التكامل بين الدول العربية في الإمكانيات والحاجات .

ج) عرف المفاهيم التالية :- (درجة لكل سؤال)

١ - تنمية . ص ١٧٢

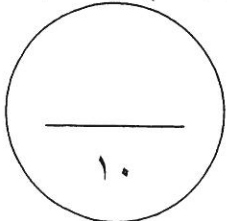
التطور والتطوير وهي عملية تتطلب التخطيط والمشاركة من الجميع .

٢ - صناعات تجميعية . ص ١٤٣

عملية تركيب وجمع المواد المصنعة على اختلاف مصادرها كي نحصل على سلع متنوعة .

٣ - نمو سكاني . ص ١٠٦

تزايد عدد السكان من عام لآخر نتيجة للزيادة الطبيعية للسكان (معدل المواليد - معدل الوفيات) والهجرة .



السؤال الثالث (مقال) يتكون من (أ - ب - ج) :-

أ) فرق بين كل من :-

موارد بشرية (درجة) ص ١٠٩	موارد طبيعية (درجة) ص ١٠٩
هي التي ترتبط بالسكان من حيث أعدادهم وتوزيعهم ومناسبة أعدادهم لمساحة الأرض التي يستغلونها .	الثروات التي منحها الله لإقليم من دون أن يكون للإنسان أي دور في وجودها . مثل : الثروات المعدنية والغابات والمراعي والموارد المائية وموقع الإقليم .
غاز طبيعي (درجة) ص ١٢٥	نفط (درجة) ص ١٢٥
غاز مصاحب للنفط الخام أو يوجد منفردا تتم إيسالته لاستخدامات عديدة .	بقايا عضوية على هيئة نباتات وحيوانات دقيقة ترسبت في عصور قيمة وانطمرت وتحولت بالضغط والحرارة إلى صورتها الحالية .

ب) عدد المشكلات التي تواجه كل من :- (لكل سؤال درجتين)

١ - التنمية البشرية . (يكتفى بنقطتين) ص ١٧٥

- ضعف الاستفادة من القدرات البشرية في المنطقة العربية .
- مشكلة الأمية .
- نقص ومحدودية مشاركة المرأة في المنظمات السياسية .
- الاختلاف الكبير في مستويات المعيشة بين دولة وأخرى وفي داخل الدولة الواحدة .

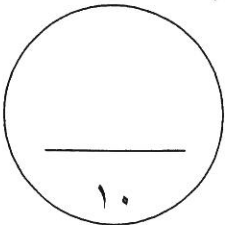
٢ - الزراعة . (يكتفى بنقطتين) ص ١٦١

- عدم استغلال الأراضي القابلة للزراعة لندرة مياه الري أو تذبذب الأمطار أو قلة الأيدي العاملة .
- اتباع طرق الزراعة التقليدية في معظم أجزاء الوطن العربي .
- زحف الرمال (التصحر) وانجراف التربة .
- تلوث التربة نتيجة للإسراف في استخدام المبيدات الحشرية وارتفاع نسبة الملوحة بالتربة .
- الرعي الجائر .

ج) علل لما يلي :- (درجة لكل سؤال)

- ١ - تختلف أنواع منتجات الإنتاج الزراعي من دولة عربية لأخرى . ص ١١٠
- بسبب اختلاف المناخ والتربة ومدى توفر المياه في هذه الدول .

- ٢ - يتمتع النفط بمكانة مهمة على المستوى العالمي . ص ١٣١
- نظرا لأهميته للدول الصناعية المتقدمة في أوربا واليابان والولايات المتحدة الأمريكية .



السؤال الرابع (مقال) يتكون من (أ - ب - ج) :-
(أ) قارن بين كل من :- (٣ درجات) ص ١٣٤ / ١٣٥

أوجه المقارنة	أوبك	أوابك
التعريف	منظمة الدول المصدرة للنفط	منظمة الأقطار العربية المصدرة للنفط
سنة التأسيس	١٩٦٠ م	١٩٦٨ م
المقر	فيينا	الكويت

ب (أذكر ما يلي :-

- ١ - أسباب تدني وفرة المياه في الوطن العربي . (يكتفى بنقطتين) ص ١٦٤ (درجتين)
- النمو السريع للسكان الذي يشكل ضغطا متزايدا على المياه المتوفرة لكل فرد .
- ٥٠% من الموارد المائية في العالم العربي تأتي من خارج حدوده وتتحكم فيها دول المنبع في غياب التشريعات دولية تضمن حقوقنا .
- الطرق التقليدية المستخدمة في استغلال المياه في معظم مناطق العالم مسؤولة عن تدني نسبة المياه (استخدام الري بالغمر والاستهلاك غير المسؤول في مجالات المياه)
- الشبكات المؤهلة لنقل المياه شبكات قديمة .
- افتقار الدول العربية إلي برامج لإدارة المياه كما أنها لا تستخدم الأدوات الاقتصادية اللازمة لترشيد الاستخدام المتزايد من المياه .

٢ - أهداف القمة الاقتصادية للتنمية العربية . (يكتفى بنقطتين) ص ١٨٦ (درجتين)

- إنشاء بنك عربي لتمويل شتى المشاريع التنموية للتقليل من معدلات الفقر .
- القضاء على البطالة والفقر بتوفير فرص العمل .
- الاستثمار الاقتصادي بين الدول العربية وتقوية التبادل التجاري .
- الاعتناء بالعنصر البشري والتنمية المستدامة .

٣ - المناطق الرئيسية التي يتركز فيها معظم الحقول النفطية في الوطن العربي . (يكتفى بنقطتين)
ص ١٢٦ (درجة)

- منطقة دول الخليج وسهول دجلة والفرات ويوازي إنتاجها ٨٠% .
- منطقة الصحراء البرى ويوازي إنتاجها ١٨% .
- منطقة خليج السويس ويوازي إنتاجها ٤,٧% .

ج (نفذ ما بين القوسين :- (لكل سؤال درجة)

١ - الزيادة السكانية . (انواعها) . ص ١٠٦

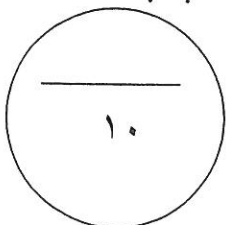
- زيادة طبيعية .
- زيادة غير طبيعية .

٢ - تنوع الثروة المائية في الوطن العربي . (علل) . ص ١٢٢

دول الوطن العربي دول بحرية لها سواحل ومسطحات مائية واسعة منها المالحة ومنها العذبة .

تم التحميل من:

" انتهت الإجابة "





وزارة التربية
الإدارة العامة لمنطقة حولي التعليمية
التوجيه الفني للاجتماعيات

امتحان الفترة الدراسية الثانية
لمقرر الكويت والوطن العربي
الصف السابع (نموذج الاجابة)

العام الدراسي : ٢٠١٨ / ٢٠١٩ م
الزمن : ساعة وخمس وأربعون دقيقة
عدد الأوراق : ٥

السؤال الأول موضوعي ويتكون من (أ - ب - ج - د - هـ - و) :

أ - أكمل العبارات التالية بما يناسبها مما درست : (٦ درجات)

- ١- تقع المنظمة العربية للتنمية الزراعية في دولة اسمها الكويت ص ١٨٢
 - ٢- تأسس الصندوق الكويتي للتنمية الاقتصادية العربية في عهد شيخ أسمه عبد الله السالم الصباح ص ١٨٤
 - ٣- الدولة العربية الأولى في إنتاج التمور اسمها السعودية ص ١١٤
 - ٤- عملية التطور والتطوير وتتطلب التخطيط والمشاركة من الجميع تسمى التنمية ص ١٧٢
 - ٥- الفرق بين معدل المواليد ومعدل الوفيات يسمى الزيادة الطبيعية ص ١٠٦
 - ٦- تحتل موريتانيا المرتبة الأولى عربياً في إنتاج معدن يسمى الحديد ص ١٣٢
- ب- اختر الإجابة الصحيحة من بين البدائل التي تلي كل عبارة مما يلي وضع تحتها خط : (٦ درجات)
- ١- الدولة التي تحتل المركز الأول في إنتاج القمح (السعودية - سوريا - مصر - المغرب) ص ١١٤
 - ٢- يبلغ عدد الدول الأعضاء المؤسسين لمنظمة جامعة الدول العربية (٦ - ٧ - ٨ - ٩) ص ١٧٨
 - ٣- ترتيب دولة الكويت بين الدول العربية في إنتاج النفط لعام ٢٠١٤ م (الأول - الثاني - الثالث - الرابع) ص ١٢٩
 - ٤ - أكثر دول الوطن العربي سكاناً (الجزائر - مصر - السودان - السعودية) ص ١٠٠
 - ٥ - عقد مؤتمر قمة الأرض لمواجهة مشكلة التلوث البيئي في (اسبانيا - ألمانيا - البرازيل - فرنسا) ص ١٦٧
 - ٦- الدولة العربية الأولى في إنتاج الغاز الطبيعي لعام ٢٠١٤ م (مصر - العراق - السعودية - قطر) ص ١٢٩

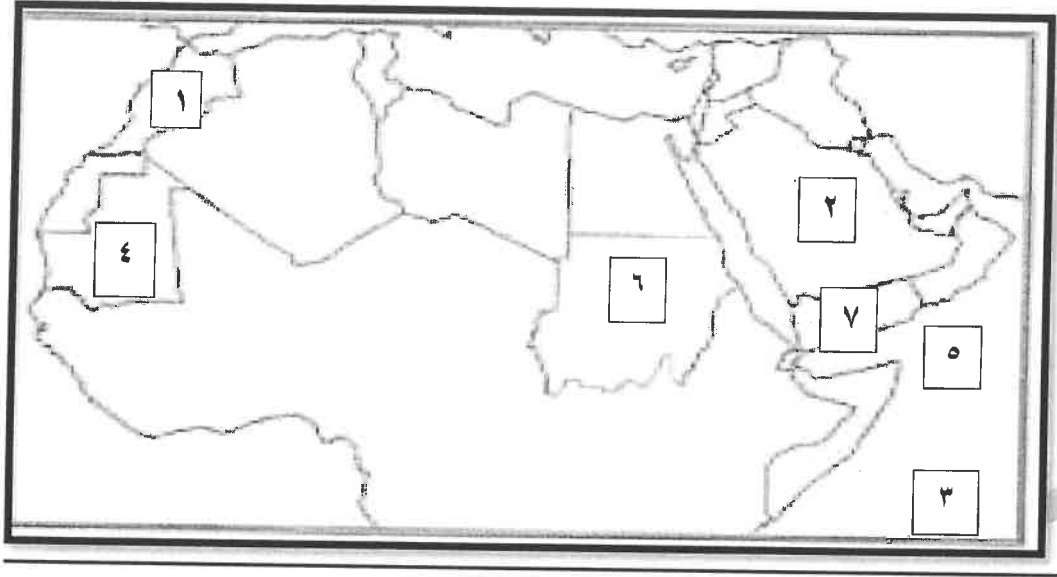




د- اختر للقائمة (أ) ما يناسبها من القائمة (ب) بوضع الرقم المناسب: (٥ درجات)

الرقم	القائمة (أ)	الرقم المناسب	القائمة (ب)
١	النفط والغاز والفحم	٣	صناعات حرفية (١٤٣)
٢	الصناعات الغذائية	٥	صناعات تعدينية (١٤١)
٣	صناعة السجاد	٤	صناعات تجميعية (١٤٣)
٤	تجميع قطع السيارات	١	صناعات استخراجية (١٤١)
٥	تنقية الخامات المعدنية وتحويلها الى صفائح صالحة للصناعة	٢	صناعات تحويلية (١٤٢)

تابع/نموذج اجابة امتحان مقرر الكويت والوطن العربي للصف السابع / الفترة الدراسية الثانية / العام الدراسي ٢٠١٨ - ٢٠١٩ م
هـ- لاحظ خريطة الوطن العربي الصماء التي أمامك ثم نفذ المطلوب منك في ما يلي : (٦ درجات)



- المحيط الهندي يشير إليه الرقم (٣) ص ١٣٣

- الدولة العربية الأولى في إنتاج معدن النحاس يشير إليها الرقم (١) ص ١٣٣

- الدولة العربية الأولى في إنتاج معدن الحديد يشير إليها الرقم (٤) ص ١٣٣

- بحر العرب يشير إليه الرقم (٥) ص ١٣٣

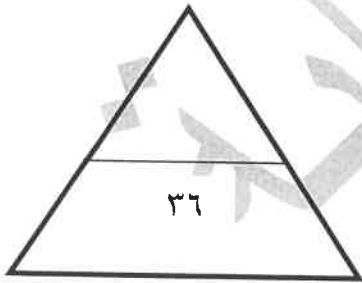
- الدولة العربية الأولى في إنتاج النفط يشير إليها الرقم (٢) ص ١٢٩

- الدولة العربية الأولى في إنتاج البن يشير إليها الرقم (٧) ص ١١٤

(و) صنف الغلات التالية حسب الجدول : (٧ درجات) ص ١١٤

(العنب - التمر - قصب السكر - الموالح - البن - الموز - القطن)

الفواكه والأشجار	الغلات الصناعية
العنب	قصب السكر
التمر	البن
الموالح	القطن
الموز	



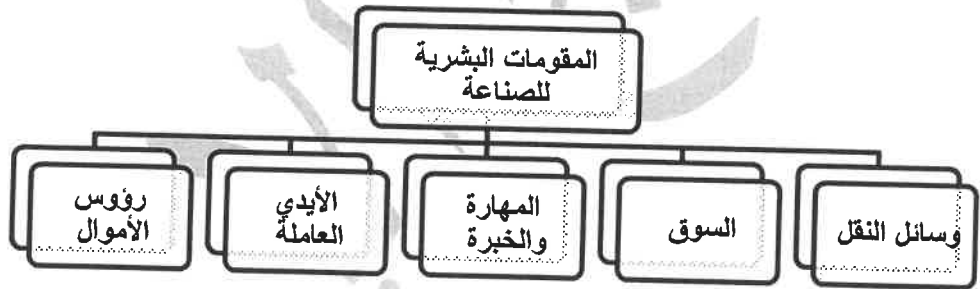
أ- فرق بين كل مما يلي في الجدول التالي : (٤ درجات)

التجارة البينية ص ١٥٢	التبادل التجاري ص ١٥١
التبادل التجاري بين الدول العربية	عمليات التصدير والاستيراد بين الدول
الهجرة الداخلية ص ١٠٦	الهجرة الخارجية ص ١٠٦
من القرى إلي المدن	من دولة إلي دولة أخرى

ب- علل لما يلي (اذكر السبب) : (٤ درجات)

- ١- تدني وفرة المياه في الوطن العربي. ص ١٦٤
 - النمو السريع للسكان الذي يشكل ضغطا متزايدا على المياه المتوفرة لكل فرد.
 - ٥٠% من الموارد في العالم العربي تأتي من خارج حدوده .
 - الطرق التقليدية المستخدمة في استغلال المياه في معظم مناطق العالم العربي مسؤولة عن تدني نسبة المياه .
 - الشبكات المؤهلة لنقل المياه شبكات قديمة.
 - افتقار الدول العربية الى برامج لإدارة المياه .
- ٢- التصحر في الوطن العربي . ص ١٦٢
 - أسباب طبيعية
 - أسباب بشرية

ج- صمم مخطط سهمي للمقومات البشرية للصناعة : (٤ درجات) (درجة للتصميم وثلاث درجات لثلاث مقومات)
ص ١٣٩



أ - أكتب فيما يلي : (٤ درجات)

- ١- المشكلات التي تواجه التنمية البشرية .ص ١٧٥
- ضعف الاستفادة من القدرات البشرية - مشكلة الأمية
- نقص ومحدودية مشاركة المرأة في المنظمات السياسية
- الاختلاف الكبير في مستويات المعيشة .
٢- أهداف الصناعات البتروكيميائية . ص ١٤٥
- تنوع مصادر الدخل للدولة المنتجة - توفير المواد الأولية للصناعات التحويلية
- تطوير الصناعات البتروكيميائية الى تقنيات متخصصة وعالية .
- ب - فرق بين كل مما يلي : (٤ درجات)

الموارد البشرية ص ١٠٩	الموارد الطبيعية ص ١٠٩
التي ترتبط بالسكان من حيث أعدادهم وتوزيعهم ومناسبة أعدادهم لمساحة الأرض التي يستغلونها	الثروات التي منحها الله لإقليم دون أن يكون للإنسان أي دور في وجودها
الغلات الصناعية والتجارية ص ١١٣	الحبوب الغذائية ص ١١٣
وتشمل الغلات التي تدخل في الصناعة وتزرع بغرض التجارة والحصول على النقد ولذلك تسمى (الغلات النقدية)	تعد من أهم المزروعات في الوطن العربي حيث تشغل مساحة كبيرة من الأراضي الزراعية

ج - اقرأ الفقرة التالية ثم أجب عما يليها من أسئلة : (٤ درجات)

- ((يمتلك الوطن العربي أعدادا متنوعة من الثروة الحيوانية التي تساهم في موارد الدخل لكثير من الدول العربية ، ومن الأمثلة عليها الثروة الرعوية وتربية الدواجن والطيور ، والثروة المائية))
- ١- ضع عوانا مناسباً للفقرة ؟ الثروة الحيوانية في الوطن العربي ، أو ما يراه المصحح . (درجة واحدة) ص ١١٧
 - ٢- استخراج من الفقرة نوعان من أنواع الثروة الحيوانية في الوطن العربي ؟ (درجتان) ص ١١٧
الثروة الرعوية - تربية الدواجن والطيور - الثروة المائية
 - ٣- علل ... تحتل الأغنام العربية مكانا مهما ضمن الثروة الرعوية . (درجة واحدة) (يكتفى بنقطة واحدة) ص ١١٨
- الأكثر انتشارا في المراعي العربية - أكثر الحيوانات المستأنسة والملائمة لمراعي الوطن العربي وذلك لتحملها للجفاف
- لأهمية منتجاتها بالنسبة للسكان - لأنها مصدر أساسي من مصادر الثروة القومية .
- انتهت الأسئلة مع تمنياتنا لكم بالتوفيق والنجاح



وزارة التربية

الإدارة العامة لمنطقة الجهراء التعليمية
التوجيه الفني للاجتماعيات

امتحان نهاية الفترة الدراسية الثانية
لمقرر الكويت والوطن العربي
للمصف السابع المتوسط
نموذج الإجابة

العام الدراسي ٢٠٢١ / ٢٠٢٢ م
الزمن: ساعة وخمس وأربعون دقيقة
عدد الأوراق: ٥

أولاً الاسئلة الموضوعية :

السؤال الأول: يتكون من (أ - ب - ج - د - هـ) :-

(أ) أكمل العبارات التالية بما يناسبها فيما درست :- (٦×١) = ٦

- ١ - العام الذي حرقت فيه آبار النفط الكويتية على يد النظام العراقي البائد ١٩٩١م ص ١٦٨
- ٢ - الدولة التي عقد بها المؤتمر الدولي الأول لمانحي سورية تسمى الكويت ص ١٨٨
- ٣ - القطاع الذي يحتل المرتبة الأولى في الاقتصاد العربي يسمى القطاع الزراعي ص ١١٠
- ٤ - الدولة العربية الأولى في إنتاج الغاز الطبيعي تسمى قطر ص ١٢٩
- ٥ - الغاز الناتج بصورة خاصة عن عوادم السيارات يسمى أول أكسيد الكربون ص ١٦٩
- ٦ - الطبقة التي تحمي الأرض من الأشعة فوق البنفسجية الضارة تسمى طبقة الأوزون ص ١٦٩

(ب) - ضع خطأ تحت الخيار الصحيح من بين الخيارات التي تلي كل عبارة : (٦×١) = ٦

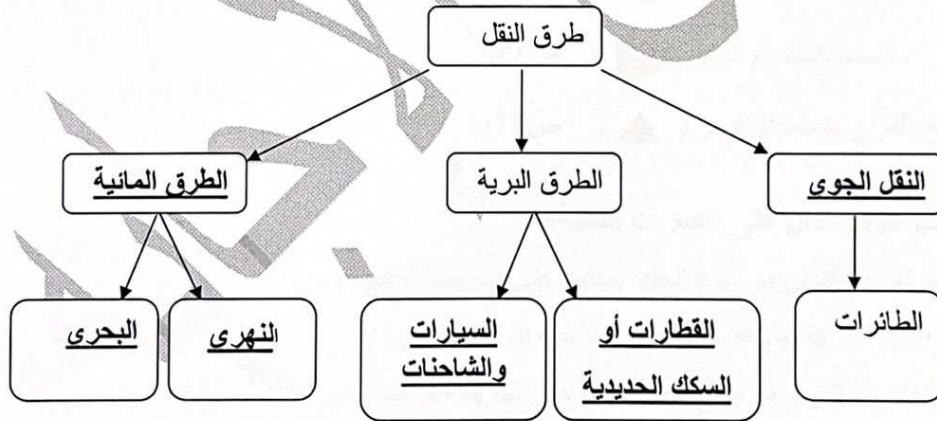
- ١- أكبر الدول العربية من حيث عدد السكان : ص ١٠٠
(مصر - السعودية - الجزائر - المغرب)
- ٢- العام الذي تم فيه إنشاء الصندوق الكويتي للتنمية الاقتصادية العربية: ص ١٧٩
(١٩٦١م - ١٩٦٢م - ١٩٦٣م - ١٩٦٤م)
- ٣- صناعة الخشب والورق من الصناعات: ص ١٤٢
(التجميعية - التحويلية - الاستخراجية - التجميعية)
- ٤- الدولة التي عقد فيها مؤتمر قمة الأرض عام ١٩٩٢م : ص ١٦٧
(فرنسا - ألمانيا - البرازيل - الإمارات)
- ٥- اليمن الدولة العربية الأولى في إنتاج محصول: ص ١١٤
(العنب - البرتقال - البن - التمر)
- ٦ - يبلغ عدد دول الوطن العربي : ص ٩٩
(٢٠ دولة - ٢١ دولة - ٢٢ دولة - ٢٣ دولة)

تابع إجابة امتحان مقرر الكويت والوطن العربي- الصف السابع- الفترة الدراسية الثانية- العام الدراسي ٢٠٢١/٢٠٢٢م

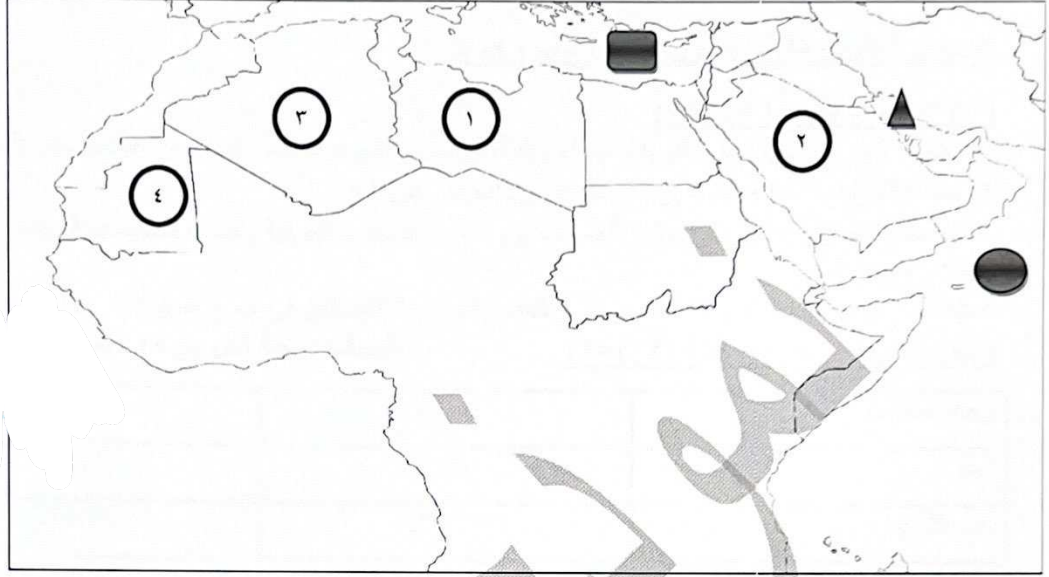
(ج) صوب ما تحته خط في العبارات التالية: (٦×١)=٦

١- يعد رأس المال والأسواق من مقومات الصناعة الطبيعية	(البشرية) ص ١٣٩
٢- الصناعات الأولى في العالم هي الصناعات البتر وكيميائية	(الحرفية) ص ١٤٣
٣- القمح والأرز والشعير يعتبر نوع من أنواع الفواكه	(الحبوب الغذائية) ص ١١٣
٤- بقاء العناصر الطبيعية في حالة التوازن تسمى التوازن الطبيعي	(التوازن البيئي) ص ١٧٠
٥- يفضل السكان العيش في المناطق الجبلية	(السهلية)
٦- أكثر الدول العربية إنتاجاً للابل السعودية	(الصومال) ص ١١٨

(د) أملأ الفراغ في المخطط السهمي التالي: (٦×١)=٦ : ص ١٤٧-١٥٠



(هـ) لاحظ خريطة الوطن العربي الصماء ثم نفذ المطلوب منك (٦×١) = ٦ :-



أولاً: عين على الخريطة باستخدام الرموز التالية :

١- المحيط الهندي باستخدام الرمز (●) ص ١٣٣

٢- البحر المتوسط باستخدام الرمز (■) ص ١٣٣

٣- الخليج العربي باستخدام الرمز (▲) ص ١٣٣

ثانياً: اكتب الرقم الدال على العبارات التالية:

١- الدولة العربية الأولى في إنتاج الحديد يمثلها على الخريطة الرقم (٤) ص ١٣٢

٢- أكبر الدول العربية مساحة يمثلها على الخريطة الرقم (٣) ص ١٠٠

٣- الدولة العربية الأولى في إنتاج النفط يمثلها على الخريطة الرقم (٢) ص ١٢٩

تابع إجابة امتحان مقرر الكويت والوطن العربي- الصف السابع- الفترة الدراسية الثانية- العام الدراسي ٢٠٢٢/٢٠٢١ م

ثانياً الأسئلة المقالية :

السؤال الثاني : مقالتي يتكون من (أ ، ب ، ج) :

(أ) عرف ما يلي (٤×١) = ٤ :

- ١- التلوث: الضرر الذي يلحق بالتربة والهواء والماء، ويصيب التلوث عناصر البيئة من عدة مصادر للتلوث ص ١٦٦
 - ٢- التبادل التجاري: عملية التصدير والاستيراد بين الدول ص ١٥١
 - ٣- التضامن العربي: العمل على توثيق الصلات بين الدول والشعوب العربية وحماية مصالحها السياسية والاقتصادية والثقافية ص ١٧٧
 - ٤- الطاقة: قوى محركة للألات وعنصر مهم للتقدم والتطور الاقتصادي في جميع المجالات ص ١٢٥
- (ب) قارن بين كل من (١/٢×٤) = ٢ : (نصف درجة لكل جزء) ص ١٣٤-١٣٦

وجه المقارنة	الأوبك	الأواك
المقر	فيينا	الكويت
عام التأسيس	١٩٦٠ م	١٩٦٨ م

(ج) علل لما يلي (الذكر السبب) (٨×١) = ٨ :

- ١- تحتل الأغنام العربية مكاناً مهماً ضمن الثروة الرعوية ص ١١٨ ثلاث درجات يكتفى بثلاث نقاط
 - أ- الأكثر انتشاراً في المراعي العربية ب- أكثر الحيوانات المستأنسة والملائمة لمراعي الوطن العربي وذلك لتحملها الجفاف ج- أهمية منتجاتها بالنسبة للسكان د- مصدر أساسي من مصادر الثروة القومية
- ٢- اختلاف أنواع المنتجات الزراعية من دولة عربية إلى أخرى . ص ١١٠ ثلاث درجات
 - أ- لاختلاف المناخ . ب- لاختلاف التربة ج- ومدى توافر المياه .
- ٣- تدني وفرة المياه في الوطن العربي . ص ١٦٤ درجتان يكتفى بنقطتين
 - أ- النمو السريع للسكان ب- ٥٠% من موارده المائية تأتي من خارج حدوده تتحكم فيه دول المنبع في ظل غياب تشريعات دولية تضمن ذلك ج- الطرق التقليدية المستخدمة في استغلال المياه مثل الري بالغمر والاستهلاك الغير مسؤول في مجالات المياه د- الشبكات الغير مؤهلة لنقل المياه شبكات قديمة هـ -افتقار الدول العربية إلي برامج لإدارة المياه ، كما أنها لا تستخدم الأدوات الاقتصادية اللازمة لترشيد الاستخدام المتزايد للمياه .
- ٤- يتمتع النفط العربي بمكانة مهمة على المستوى العالمي . ص ١٣١ درجة يكتفى بنقطة
 - نظراً لأهميته للدول الصناعية المتقدمة في أوروبا واليابان والولايات المتحدة الأمريكية .

تابع إجابة امتحان مقرر الكويت والوطن العربي- الصف السابع- الفترة الدراسية الثانية- العام الدراسي ٢٠٢١/٢٠٢٢م

السؤال الثالث :- مقالي يتكون من (أ ، ب ، ج):

(أ) :- أقرأ الفقرة التالية ثم أجب عما يليها من أسئلة: (٥×١)=٥ ص ١٦٢-١٦٣

" تواجه دول الوطن العربي مشكلات وتحديات كثيرة من ضمن هذه التحديات التصحر كونه يقع في المناطق الجافة وشبه الجافة والتي تكونت بسبب عوامل بشرية وطبيعية، لكن الدول العربية تعمل على علاج تلك المشكلة بسياسة تنموية وخططاً إستراتيجية "

١- ضع عنواناً للفقرة السابقة. (درجة)

- (ما يراه المصحح مناسباً)

٢ - عرف ما تحته خط . (درجة)

التصحّر: زحف رمال الصحراء على المناطق الجافة وشبه الجافة ص ١٦٢.

٣- استخلص من الفقرة أسباب التصحر . ص ١٦٢ (درجتان)

أ- بشرية ب- طبيعية

٤- اذكر اسماء دولتان عربيتان تعتبران من أكثر الدول العربية تهديداً بالتصحّر. ص ١٦٢

أ- السودان ب- الصومال ج- موريتانيا (نصف درجة لكل نقطة)

(ب) عدد مايلي: (٨×١)=٨ يكتفى بنقطتين

١- وسائل الري الحديثة. ص ١٦٥

أ- الري (الرش) بالتنقيط . ب- الري (الرش) المحوري.

٢- أنواع التنمية في الوطن العربي. ص ١٧٣

أ- تنمية مستدامة ب- تنمية اقتصادية ج- تنمية بشرية

٣- الإحصاءات السكانية في الوطن العربي. ص ٩٩

أ- التعداد السكاني ب- الإحصاء الحيوي

٤- مصادر الطاقة البديلة (المتجددة) ص ١٧١

أ- الشمس ب- المياه ج- الرياح

(ج) فرق من حيث التعريف بين كل من: (٢×١)=٢

الموارد البشرية ص ١٠٩	الموارد الطبيعية ص ١٠٩
هي التي ترتبط بالسكان من حيث أعدادهم وتوزيعهم ومناسبة أعدادهم لمساحة الأرض التي يستغلونها .	ثروات منحها الله تعالى للإقليم من دون أن يكون للإنسان أي دور في وجودها مثل الثروات المعدنية والغابات والمراعي والموارد المائية وموقع الإقليم.



وزارة التربية إجابة امتحان نهاية الفترة الدراسية الثانية العام الدراسي
الإدارة العامة لمنطقة العاصمة التعليمية للصف السابع الزمن: ساء
التوجيه الفني للاجتماعيات مقرر (الكويت والوطن العربي) عدد

السؤال الأول (موضوعي): يتكون من (أ - ب):

(أ) أكمل العبارات التالية بما يناسبها فيما درست: (٥ درجات - لكل نقطة درجة)

- ١- يطلق على زحف رمال الصحراء على المناطق الجافة وشبه الجافة اسم التصحّر ص ١٦٢
- ٢- الطبقة التي تحمي الأرض من الأشعاعات فوق البنفسجية الضارة تسمى الأوزون ص ١٦٩
- ٣- الدولة العربية التي تحتل المركز الأول في إنتاج القمح تسمى مصر ص ١١٤
- ٤- يطلق على بقاء العناصر الطبيعية والتي تكون في حالة من التوازن لتؤدي وظائفها اسم التوازن البيئي .. ص ١٧٠
- ٥- الدولة العربية التي تم اختيارها مقراً لمنظمة الأقطار العربية المصدرة للنفط (أوبك) تسمى .. الكويت .. ص ١٣٥

(ب) اختر الإجابة الصحيحة من بين البدائل التالية بوضع خط تحتها: (٥ درجات - لكل نقطة درجة)

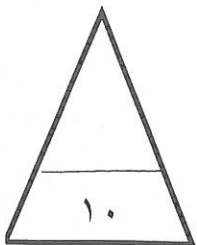
- ١- تأسس صندوق أبو ظبي للتنمية في عام: ١٧٩ ص
(١٩٧٠ - ١٩٧١ - ١٩٧٢ - ١٩٧٣ م)
- ٢- أكثر دول الوطن العربي سكاناً تسمى: ص ١٠٠
(السعودية - السودان - مصر - الجزائر)
- ٣- يبلغ عدد الدول الأعضاء المؤسسين لمنظمة جامعة الدول العربية: ص ١٧٨
(ستة - سبعة - ثمانية - تسعة)
- ٤- تتركز حقول النفط بنسبة ٨٠٪ بالنسبة للوطن العربي في منطقة: ص ١٢٦
(خليج السويس - الصحراء الكبرى - هضبة نجد - الخليج العربي وسهول دجلة والفرات)
- ٥- عُقدت قمة الأرض بالبرازيل عن مشكلة التلوث البيئي عام: ص ١٦٧
(١٩٩١ - ١٩٩٢ - ١٩٩٣ - ١٩٩٤ م)

١٠

١

١٩٩٢ -

١٩٩١



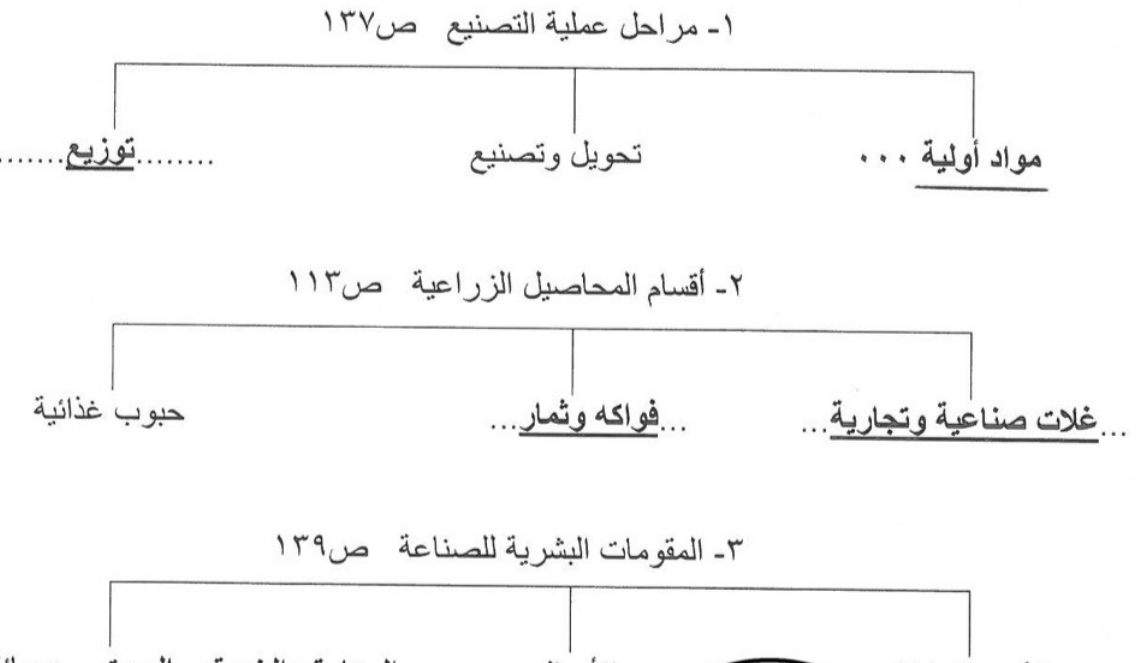
السؤال الثاني (موضوعي): يتكون من (أ - ب): ص ١١٤

(أ) اختر لعبارات المجموعة (ب) ما يناسبها من المجموعة (أ) بوضع الرقم في مكانه الصحيح:

(٥ درجات - لكل نقطة درجة)

الرقم	المجموعة (أ) الغلة الزراعية	الرقم المناسب	المجموعة (ب) الدولة الأولى في الانتاج
١	العنب	(٢)	مصر
٢	القطن	(٤)	الصومال
٣	التمور	(٥)	اليمن
٤	الموز	(٣)	السعودية
٥	البن	(١)	سوريا
		-	المغرب

(ب) أكمل المخططات السهمية التالية:



السؤال الثالث (موضوعي): يتكون من (أ - ب):

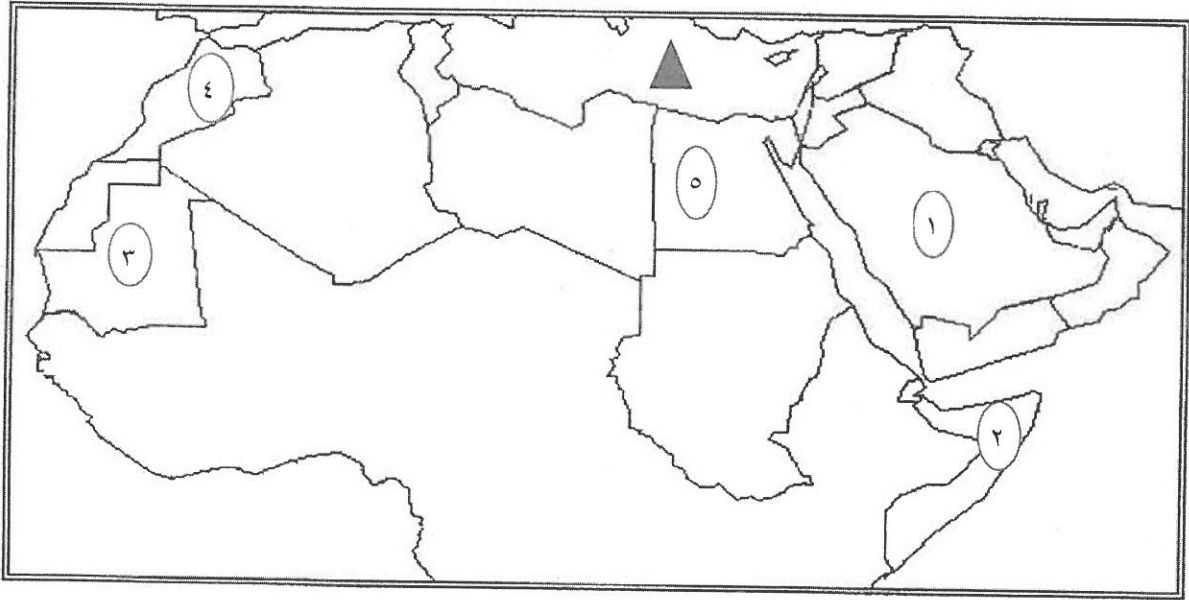
(أ) اكتب المفهوم أو المصطلح الدال على كل من العبارات التالية: (٥ درجات - لكل نقطة درجة)

- ١- (التضامن العربي) توثيق الصلات بين الدول والشعوب العربية وحماية مصالحها السياسية والاقتصادية والثقافية. ص ١٧٧
- ٢- (الإحصاء الحيوي) تسجيل المواليد والوفيات وحالات الزواج والطلاق. ص ٩٩
- ٣- (الغلات النقدية) الغلات التي تزرع بغرض التجارة والحصول على النقد. ص ١١٣
- ٤- (الكثافة السكانية) نسبة عدد السكان الكلي في دولة ما أو منطقة ما إلى المساحة الكلية لهذه الدولة أو المنطقة. ص ١٠٢
- ٥- (الصناعات التجميعية) عملية تركيب وجمع المواد المصنعة على اختلاف مصادرها لنحصل على سلع

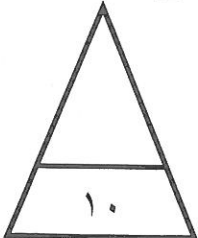
متنوعة. ص ١٤٣

(ب) لاحظ خريطة الوطن العربي ثم استعن بالمدلولات التي عليها لإكمال العبارات التالية:

(٥ درجات - لكل نقطة درجة)



- ١- الدولة العربية الأولى في إنتاج الأبل يمثلها على الخريطة الرقم٢..... ص ١١٨
- ٢- الدولة العربية الأولى في إنتاج الأرز يمثلها على الخريطة الرقم٥..... ص ١١٤
- ٣- الدولة العربية الأولى في إنتاج معدن الفوسفات يمثلها على الخريطة الرقم٤..... ص ١٣٢
- ٤- الدولة العربية التي تحتل المركز الأول في احتياطي النفط الخام يمثلها على الخريطة الرقم١..... ص ١٢٩
- ٥- الشكل ▲ يمثل مسطح مائي يسمىالبحر المتوسط..... ص ١٣٣



السؤال الرابع (مقالى): يتكون من (أ - ب):

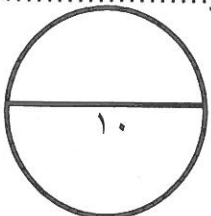
(أ) اقرأ الفقرة التالية ثم أجب عما يليها من أسئلة: ص١٦٦ ص ١٦٧ (٥ درجات)

التلوث البيئي من أهم وأخطر المشاكل التي تواجه شعوب العالم اليوم، حيث عقد أكبر مؤتمر للأمم المتحدة في مدينة ريو دي جانيرو بالبرازيل، ويصيب التلوث عناصر البيئة من عدة مصادر للملوثات منها صناعية وزراعية ومنزلية.

- ١- عرف ما تحته خط. ص١٦٦ (درجة)
-الضرر الذي يلحق بالتربة والماء والهواء ويصيب التلوث عناصر البيئة من عدة مصادر للملوثات.....
- ٢- استخرج من القطعة ما يلي:
 - أ- المدينة التي عقد فيها أكبر مؤتمر للأمم المتحدة لمواجهة مشكلة التلوث. ص١٦٧ (درجة)
 -ريودي جانيرو.....
 - ب- مصادر الملوثات. ص١٦٦ (درجة)
 -صناعية وزراعية ومنزلية.....
- ٣- عدد النتائج السلبية للتلوث بأوكسيد الكربون الناتج من عوادم السيارات. (يكتفى بنقطتين - لكل نقطة درجة) ص١٦٩
-يؤدي إلى ارتفاع متزايد في حرارة الأرض.....
-تغيير مناخي يهدد بإغراق المدن.....

(ب) اكتب فيما يلي مما درست: (٥ درجات)

- ١- أسباب تدني وفرة المياه في الوطن العربي. ص١٦٤ (يكتفى بنقطتين - لكل نقطة درجة)
- النمو السريع للسكان الذي يشكل ضغطاً متزايداً على المياه المتوفرة لكل فرد - الطرق التقليدية المستخدمة في استهلاك المياه مسنولة عن تدني نسبة المياه - ٥٠٪ من الموارد المائية في العالم العربي تأتي من خارج حدوده - الشبكات المؤهلة لنقل المياه شبكات قديمة - افتقار الدول العربية إلى برامج لإدارة المياه
- ٢- العقبات التي تواجه الانتاج الزراعي في الوطن العربي. ص١٦١ (يكتفى بنقطتين - لكل نقطة درجة)
-زحف الرمال (التصحّر) وانجراف التربة - الرعي الجائر - تلوث التربة - اتباع طرق زراعية تقليدية في معظم أجزاء الوطن العربي - عدم استغلال الأراضي القابلة للزراعة.....
- ٣- أهمية النفط العربي على المستوى العالمي. ص١٣١ (درجة)
-لأهميته للدول الصناعية المتقدمة في أوروبا واليابان والولايات المتحدة الأمريكية.....



السؤال الخامس (مقالى): يتكون من (أ - ب):

(أ) فرق بين كل مما يلي من حيث التعريف: (٦ درجات - لكل مفهوم درجة)

الواردات ص ١٥٢	الصادرات ص ١٥٢
السلع التي تشتريها الدولة من الخارج لسد احتياجاتها.	السلع والمنتجات التي تبيعها الدولة في الخارج .
الصناعات التعدينية ص ١٤١	الصناعات التحويلية ص ١٤٢
<u>تنقية الخامات المعدنية وتحويلها إلى صفائح أو سبائك صالحة لتنفيذ صناعات معدنية مختلفة.</u>	<u>تحويل المواد الأولية من معدنية نباتية وحيوانية إلى سلع استهلاكية صالحة للاستعمال.</u>
الغاز الطبيعي ص ١٢٥	النفط ص ١٢٥
<u>غاز مصاحب للنفط الخام أو يوجد منفرداً تتم إسالته لاستخدامات عديدة.</u>	<u>بقايا عضوية على هيئة نباتات وحيوانات دقيقة ترسبت في عصور قديمة وانظمرت تحت رواسب سميكة وتحولت بالضغط والحرارة إلى صورتها الحالية.</u>

(ب) علل لما يلي: (٤ درجات)

- ١- أهمية الغاز الطبيعي. ص ١٣١ (درجة)
لأنه يستخدم في الوقود - يستخدم في التدفئة - يعتبر مصدر مهم من مصادر الطاقة البديلة أماناً .
- ٢- انشاء منظمة الأقطار العربية المصدرة للنفط (أوبك). ص ١٣٥ (يكتفى بنقطتين - لكل نقطة درجة)
توثيق التعاون بين الدول العربية في النشاط الاقتصادي في صناعة النفط - تأمين وصول النفط إلى الأسواق بشروط وأسعار عادلة - تطوير الصناعات البترولية - تبادل الخبرات - التعاون مع منظمة أوبك.....
- ٣- تتركز زراعة الفواكه والثمار في حوض البحر المتوسط. ص ١١٣ (درجة)
.....لأنها تتطلب ظروف مناخية خاصة

السؤال السادس (مقالى): يتكون من (أ - ب):

- (أ) عدد اثنين لكل مما يلي:
- ١- أهداف جامعة الدول العربية. ص ١٧٧ (نقطتين - لكل نقطة درجة)
-توثيق العلاقات بين الدول الأعضاء - تنسيق التعاون بينها - الحفاظ على استقلالها وسيادتها
- النظر فى شئون ومصالح الدول العربية.....
- ٢- المشكلات التي تواجه التنمية البشرية. ص ١٧٥ (نقطتين - لكل نقطة درجة)
-ضعف الاستفادة من القدرات البشرية فى المنظمة العربية - مشكلة الأمية - نقص ومحدودية مشاركة المرأة فى المنظمات السياسية - الاختلاف الكبير فى مستويات المعيشة بين دولة وأخرى.....
- ٣- أهداف الصناعات البتروكيميائية. ص ١٤٥ (نقطتين - لكل نقطة درجة)
-تنوع مصادر الدخل للدولة المنتجة - توفير المواد الأولية للصناعات التحويلية لتأمين حاجات القطاعات الاستهلاكية - تطوير الصناعات البتروكيميائية إلى تقنيات متخصصة وعالية.....

(ب) لاحظ الجدول التالى ثم أجب عن الأسئلة التى تليه:

الرقم	اسم الدولة العربية	المساحة كم ^٢	تقديرات عدد السكان (ألف نسمة)
١	المغرب	٧١٠,٨٥٠	٣٣,٣٠٤
٢	جيبوتي	٢٣,٢٠٠	٩٣٩
٣	السودان	١,٨٨٢,٠٠٠	٣٧,٤٠٢
٤	البحرين	٧١٢	١,٣٩٩
٥	الجزائر	٢,٣٨١,٧٤١	٣٩,٤٠٢
٦	جزر القمر	٢,٢٣٦	٧٦٥

١- استخلص من الجدول ما يلي:

أ- أصغر الدول العربية مساحة. ص ١٠٠ (درجتين - لكل نقطة درجة)

.....البحرين.....

ب- أقل الدول العربية سكانا. ص ١٠٠

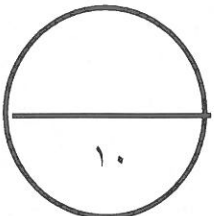
.....جزر القمر.....

٢- عدد العوامل المؤثرة في توزيع السكان. ص ١٠٤ (درجة - يكتفى بنقطة واحدة)

.....عوامل طبيعية - عوامل بشرية.....

٣- علل/ أهمية التعداد السكاني. ص ٩٩ (درجة)

لأن الدولة تحصل من خلاله على معلومات وافية عن أوضاع سكانها (عددهم الإجمالي - عدد كل جنس (ذكور , إناث) أعمارهم وغير ذلك من المعلومات .





وزارة التربية
دارة العامة لمنطقة مبارك الكبير التعليمية مقرر/ الدراسات الاجتماعية الكويت والوطن العربي الزمن : ساعة ٤٥ دقيقة
التوجيه الفني للاجتماعيات
نموذج إجابة امتحان نهاية الفترة الدراسية الثانية العام الدراسي: ٢٠٢١/ ٢٠٢٢م
للصف السابع المتوسط
عدد الاوراق : ٦

السؤال الأول (الموضوعي) : يتكون من (أ - ب - ج - د - هـ - و) : (لكل جزئية درجة)

(أ) ضع خطأ تحت الخيار الصحيح من بين الخيارات التي تلي كل عبارة مما يأتي :

١- أنشأ صندوق أبو ظبي للتنمية عام : ص ١٧٩

١٩٧١م - ١٩٧٢م - ١٩٧٣م - ١٩٧٤م

٢- تنفرد الصومال بين الدول العربية بزراعة محصول : ص ١١٤

البن - قصب السكر - القطن - الموز

٣- يبلغ عدد دول مجلس التعاون الخليجي : ص ١٨١

٥ دول - ٦ دول - ٧ دول - ٨ دول

٤- تبلغ مساحة الوطن العربي : ص ٩٩

١٣,٥ مليون كم^٢ - ١٤,٥ مليون كم^٢ - ١٥,٥ مليون كم^٢ - ١٦,٥ مليون كم^٢

٥- تبلغ نسبة إنتاج النفط الخام لدول الوطن العربي بالنسبة للعالم : ص ١٢٧

١٠٪ - ٢٠٪ - ٣٠٪ - ٤٠٪



(ب) اكمل العبارات التالية بما يناسبها :

١- يطلق على التبادل التجاري بين الدول العربية اسم التجارة البينية . ص ١٥٢

٢- التطور و التطوير و هي عملية تتطلب التخطيط و المشاركة من الجميع تسمى التنمية . ص ١٧٢

٣- تأسس الصندوق الكويتي للتنمية الاقتصادية العربية في عهد الشيخ عبد الله السالم الصباح . ص ١٨٤

٤- تؤدي بعض المواد الغازية لا سيما الكلور الموجودة في وسائل التبريد إلى ثقب في طبقة تسمى الاوزون . ص ١٦٩

٥- عقد أكبر مؤتمر للأمم المتحدة في البرازيل عام ١٩٩٢م و عرف باسم قمة الارض . ص ١٦٧

٦- أهم مصادر الطاقة المتجددة المياه و الرياح و الشمس . ص ١٧١



تابع / السؤال الأول :

(ج) صنف الصناعات حسب أنواعها في الجدول التالي : ص ١٤١+١٤٢

استخراج المعادن - صناعة المنسوجات - صهر الحديد - الصناعة الغذائية

صناعات تحويلية	صناعات استخراجية
صناعة المنسوجات	استخراج المعادن
الصناعة الغذائية	صهر الحديد

(د) صحح ما تحته خط في العبارات التالية وذلك بكتابة التصويب في المكان المناسب :

م	العبارة	التصويب
١	يقتصر النقل النهري في الوطن العربي على نهري دجلة و الفرات و نهر <u>المجرده</u> ص ١٤٩	النيل
٢	يتبع الصندوق الكويتي للتنمية الاقتصادية العربية حاليا وزارة <u>الداخلية</u> ص ١٨٤	الخارجية
٣	عدد السكان الكلي على المساحة الكلية تسمى <u>التعداد السكاني</u> ص ١٠٢	الكثافة السكانية
٤	عملية تركيب و جمع المواد المصنعة كي نحصل على سلع متنوعة تسمى <u>الصناعات التعدينية</u> ص ١٤٣	التجميعية
٥	تتألف دول الوطن العربي من <u>٢٦ دولة</u> ص ٩٩	٢٢ دولة
٦	الضرر الذي يلحق بالتربة و الهواء و الماء يسمى <u>التوازن البيئي</u> ص ١٦٦	التلوث

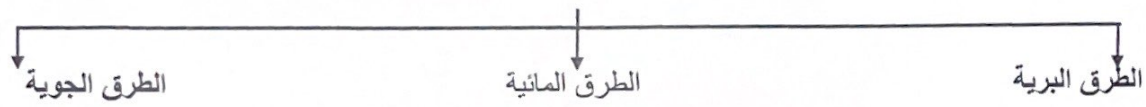


هـ) أكمل المخططات السهمية التالية:

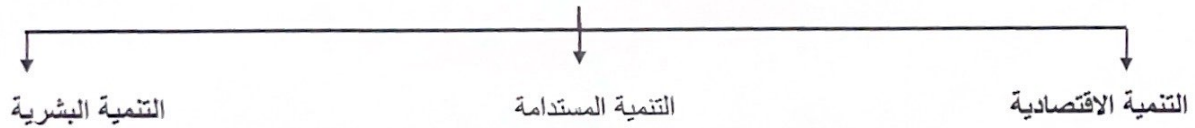
١- المحاصيل الزراعية في الوطن العربي ص ١١٣



٢- أنواع طرق النقل ص ١٤٧



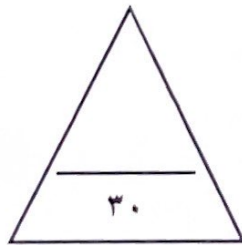
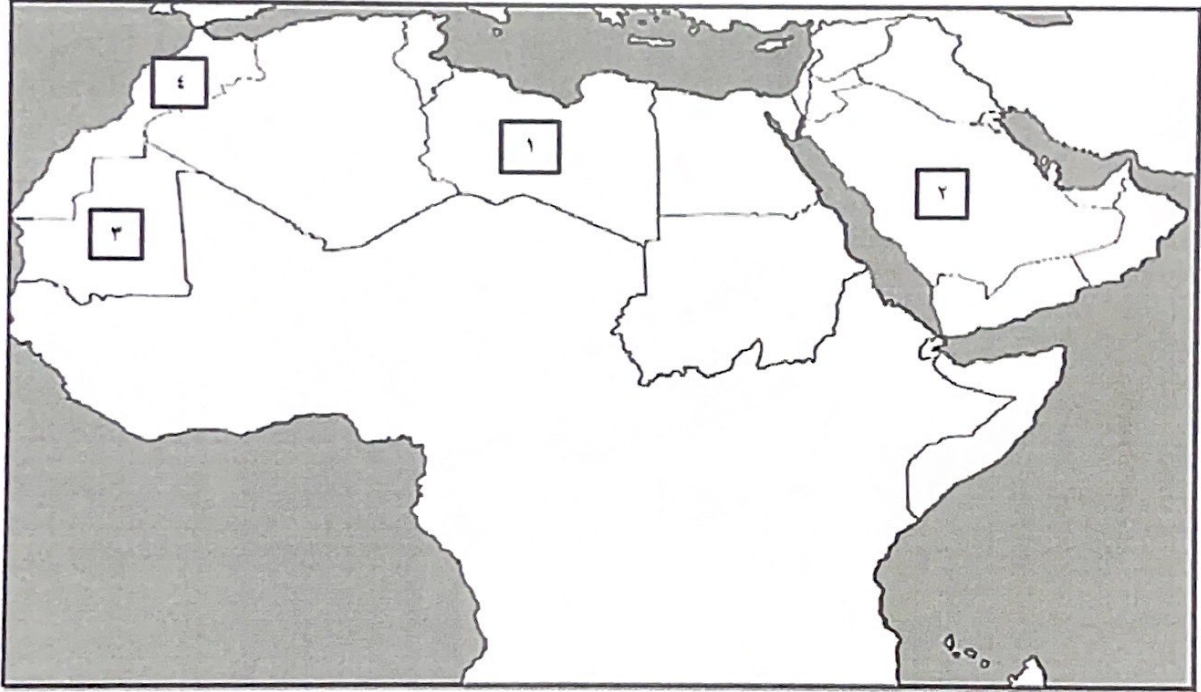
٣- وسائل و أساليب التنمية في الوطن العربي ص ١٧٣



تابع / السؤال الأول :

(و) لاحظ خريطة الوطن العربي الصماء من ثم نفذ ما هو مطلوب منك :

- تحتل موريتانيا المرتبة الأولى عربيا في إنتاج الحديد و يمثلها على الخريطة الرقم (٣) ص ١٣٣
- تتصدر المغرب المرتبة الأولى عربيا في إنتاج الفوسفات و يمثلها على الخريطة الرقم (٤) ص ١٣٣
- المملكة العربية السعودية أحد أعضاء منظمة أوبك و يمثلها على الخريطة الرقم (٢) ص ١٣٦



السؤال الثاني (المقالي) يتكون من (أ - ب - ج) :

(أ) علل لما يأتي :

- ١- تحتل الأغنام العربية مكانا مهما ضمن الثروة الرعوية . (درجتان يكتفى بإجابتيين) ص ١١٨
• الأكثر انتشارا في المراعي العربية / لأنها مصدر أساسي من مصادر الثروة القومية / الأهمية منتجاتها بالنسبة للسكان / أكثر الحيوانات المستأنسة و الملائمة لمراعي الوطن العربي و ذلك لتحملها الجفاف و الانتقال
- ٢- تدني وفرة المياه في الوطن العربي . (درجتان يكتفى بإجابتيين) ص ١٦٤
النمو السريع للسكان الذي يشكل ضغطا متزايدا على المياه المتوفرة لكل فرد / ٥٠٪ من الموارد في العالم في الوطن العربي تأتي من خارج حدوده و تتحكم فيها دول المنبع في غياب تشريعات دولية تضمن حقوقنا / الطرق التقليدية المستخدمة في استغلال المياه في معظم مناطق العالم العربي مسنولة عن تدني نسبة المياه (استخدام الري بالغمر و الاستهلاك غير المسنول في مجالات المياه / الشبكات المؤهلة لنقل المياه شبكات قديمة / افتقار الدول العربية الى برامج لإدارة المياه كما انها لا تستخدم الأدوات الاقتصادية اللازمة لترشيد الاستخدام المتزايد من المياه.

(ب) فرق بين كل مما يلي من حيث التعريف : (٤ درجات لكل جزئية درجة)

الموارد البشرية ص ١٠٩	الموارد الطبيعية ص ١٠٩
هي التي ترتبط بالسكان من حيث اعدادهم و توزيعهم و مناسبة اعدادهم لمساحة الأرض التي يستغلونها.	الثروات التي منحها الله لإقليم من دون ان يكون للإنسان أي دور في وجودها.
الغاز الطبيعي ص ١٢٥	النفط ص ١٢٥
غاز مصاحب للنفط الخام او يوجد منفردا تتم اسالته لاستخدامات عديدة.	بقايا عضوية على هيئة نباتات و حيوانات دقيقة ترسبت في عصور قديمة و انطمرت تحت رواسب سميكة و تحولت بالضغط و الحرارة الى صورتها الحالية.

(ج) عرف المفاهيم التالية : (٤ درجات لكل جزئية درجة)

- ١- الإحصاء الحيوي: ص ٩٩ تسجيل المواليذ و الوفيات و حالات الزواج و الطلاق و نحصل على بياناتها من واقع السجلات الرسمية للدولة.
- ٢- الطاقة: ص ١٢٥ قوى محركة للآلات و عنصر مهم للتقدم و التطور الاقتصادي في جميع المجالات .
- ٣- التبادل التجاري: ص ١٥١ عمليتا التصدير و الاستيراد بين الدول .
- ٤- التضامن العربي: ص ١٧٧ هو العمل على توثيق الصلات بين الدول و الشعوب العربية و حماية مصالحها السياسية و الاقتصادية و الثقافية .





تابع نموذج إجابة امتحان نهاية الفترة الدراسية الثانية - الدراسات الاجتماعية الكويت والوطن العربي - للصف السابع - ل

السؤال الثالث (المقالى) يتكون من (أ - ب - ج) :

(أ) اذكر نقطتين فيما يلي:

- ١- أهداف التنمية الاقتصادية . (درجتان) ص ١٧٤
استخدام العلم في زيادة الإنتاج / تحقيق التكامل بين الدول العربية في الإمكانيات و الحاجات
- ٢- أهداف جامعة الدول العربية. (درجتان) ص ١٧٧
توثيق العلاقات بين الدول الأعضاء /تسيق التعاون فيما بينها للحفاظ على استقلالها و سيادتها /النظر في شئون و مصالح الدول العربية /تحقيق التعاون العربي و التكامل الاقتصادي بين الدول العربية.
- ٣- مقومات الصناعة (البشرية) في الوطن العربي . (درجتان) ص ١٣٩
رؤوس الأموال / الايدي العاملة / المهارة و الخبرة / السوق / وسائل النقل
- ٤- العقبات التي تواجه الإنتاج الزراعي في الوطن العربي. (درجتان) ص ١٦١
عدم استغلال الأراضي القابلة للزراعة لندرة مياه الري او تذبذب الامطار او قلة الايدي العاملة / اتباع طرق الزراعة التقليدية في معظم أجزاء الوطن العربي / زحف الرمال (التصحّر) و انجراف التربة /تلوث التربة نتيجة للإسراف في استخدام المبيدات الحشرية و ارتفاع نسبة الملوحة بالتربة / الرعي الجائر

(ب) قارن بين كل مما يلي : (٦ درجات لكل جزئية درجة)

أوجه المقارنة	منظمة الدول المصدرة للنفط (أوبك)	منظمة الأقطار العربية المصدرة للنفط (أوبك)
سنة التأسيس	ص ١٣٤ ١٩٦٠م	ص ١٣٥ ١٩٦٨م
المقر	فيينا	الكويت
الأهداف	الحرص على استقرار أسعار النفط في الأسواق العالمية	حاجة الدول العربية المنتجة للنفط إلى تعميق التعاون فيما بينها في مختلف أوجه النشاط الاقتصادي في صناعة النفط/ تأمين وصول النفط إلى الأسواق الاستهلاكية بشروط و أسعار عادلة /تطوير الصناعات البترولية في جميع المجالات / تبادل الخبرات

(ج) لاحظ الصورة التي أمامك ثم أجب عما يلي : (٤ درجات لكل جزئية درجة) ص ١٨٦



- ١- اذكر اسم القمة .
- القمة العربية الاقتصادية والتنمية والاجتماعية
- ٢- من هو صاحب المبادرة لعقد القمة ؟
الشيخ صباح الأحمد الجابر الصباح
- ٣- في أي دولة عربية عقدت القمة ؟ دولة الكويت
- ٤- اذكر واحدة من أهداف هذه القمة .
انشاء بنك عربي لتمويل شتى المشاريع التنموية للتقليل من معدلات الفقر/ القضاء على البطالة و الفقر بتوفير فرص العمل / الاستثمار الاقتصادي بين الدول العربية و تقوية التبادل التجاري / الاعتناء بالعنصر البشري و التنمية المستدامة.

