

تم التحميل بواسطة مكتبة سوريا التعليمية

مناقشة سوريا التعليمية

<https://t.me/+Sb-B1aBL4eozZThk>

قناة سوريا التعليمية

<https://t.me/syriaST>

رابط بوت مكتبة سوريا التعليمية

[https://t.me/SyriaST\\_BOT](https://t.me/SyriaST_BOT)



مكتبة سوريا التعليمية



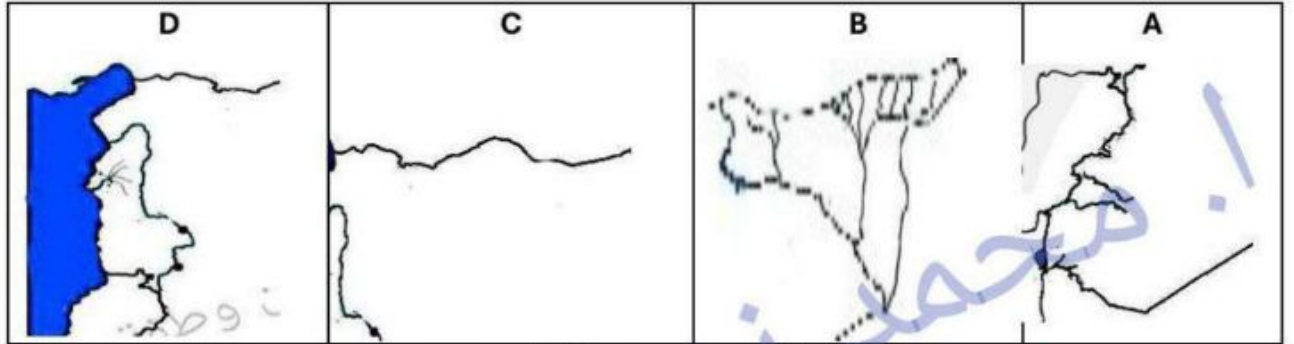
SyriaST\_BOT

نموذج امتحاني مؤتمت شامل لخريطة الجمهورية العربية السورية

أولاً: اجب عن سؤال ١.٢.٣ بالاعتماد على أجزاء من خريطة

الجمهورية العربية السورية في الخيارات الآتية :

1. أي من الأجزاء الدال على الحدود الطبيعية بين سوريا ولبنان
2. أي من الأجزاء يشكل نهر الفرات الحدود الطبيعية مع العراق
3. أي من الأجزاء هو الذي يصب به نهر العاصي .



4. يدل هذا الجزء من سورية على حدود :

D. الجنوبية	C. الشمالية	B. الشمالية الشرقية	A. الشمالية الغربية
-------------	-------------	---------------------	---------------------



5. يدل هذا الجزء من سورية الذي يصب به نهر العاصي :

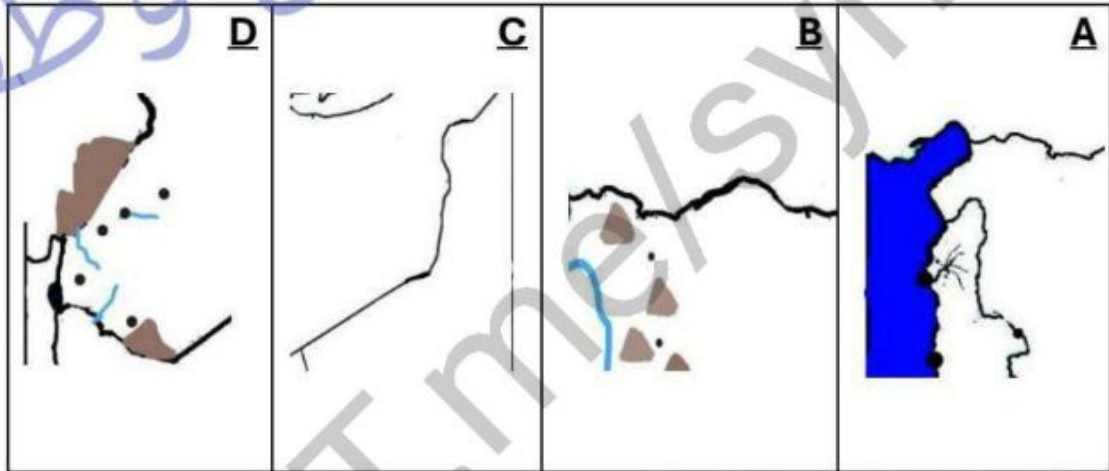
A الشمالي الغربي	B. الشمالي الشرقي	C الجنوبي الغربي	D الجنوبي الشرقي
------------------	-------------------	------------------	------------------

6. يدل هذا الجزء من سورية على حدود :



A. الشمالية الغربية	B. الشمالية الشرقية	C. الجنوبي الغربي	D. الجنوبي الشرقية
---------------------	---------------------	-------------------	--------------------

7. يتضمن الشكل المجاور الجزء الشمالي الشرقي من خريطة الجمهورية العربية السورية ظل الحرف الدال على الجزء الذي يكمل رسم الحدود باتجاه الجنوب :



8. من الحدود الجنوبية الغربية لسورية :

A. الاردن	B. فلسطين	C. الاردن وفلسطين	D. الاردن ولبنان
-----------	-----------	-------------------	------------------

9. من التضاريس التي تشكل حدوداً طبيعية مع سورية ولبنان :

A . جبال التدمرية الجنوبية	B. جبال التدمرية الشرقية	C. جبال القلمون وجبل الشيخ	D. جبال القلمون وجبل البشري
----------------------------	--------------------------	----------------------------	-----------------------------

10 . النهر الذي يشكل حد طبيعي مع لبنان والأردن:

A. العاصي	B. السن	C. الفرات	D. اليرموك
-----------	---------	-----------	------------

11 . النهر الذي يشكل حدوداً طبيعية مع تركيا والعراق :

A. الفرات	B. العاصي	C. السن	الكبير الشمالي
-----------	-----------	---------	----------------

12 . من الأنهار التي تصب في البحر المتوسط :

A . العاصي والسن	B. العاصي والكبير الشمالي	C. السن والكبير الجنوبي	D. الكبير الشمالي والسن العاصي
------------------	---------------------------	-------------------------	--------------------------------

13 . النهر الذي ينبع من جبل الشيخ يسمى :

A . بردى	B. البلخ	C. الاعوج	D. اليرموك
----------	----------	-----------	------------

14 . من المحافظات التي تقع على نهر بردى :

A. دمشق	B. ريف دمشق	A+B.C	D. درعا
---------	-------------	-------	---------

15 . النهر الذي ينبع سفوح جبال اللاذقية يعتمد عليه السكان في النشاط الزراعي التي تتصف بجودة نوع التربة في سورية :

A . السن	B. بردى	C. الكبير الشمالي	D. الكبير الجنوبي
----------	---------	-------------------	-------------------

16 . من المحافظات التي تقع على مجرى نهر العاصي:

A . حمص . حماه	B. حماه. ادلب	C. حماه . اللاذقية	D. حمص . ادلب
----------------	---------------	--------------------	---------------

17 . من المحافظات التي تقع على مجرى نهر الفرات :

A . الرقة . الحسكة	B. الحسكة. الرقة	C. الرقة. دير الزور. الحسكة	D. دير الزور. الحسكة
--------------------	------------------	-----------------------------	----------------------

18 . يصب نهر العاصي في :

A . خليج السويدية	B. خليج اسكندرونة	C. البحر المتوسط	D. A+C
-------------------	-------------------	------------------	--------

19 . ينبع نهر الكبير الشمالي من :

A . جبل الشيخ	B. جبل الزاوية	C. جبل العرب	D. سفوح جبال اللاذقية
---------------	----------------	--------------	-----------------------

20 . يصب نهر الكبير الشمالي في :

A. خليج السويدية	B. رأس البسيط	C. البحر المتوسط	D. محافظة اللاذقية
------------------	---------------	------------------	--------------------

21 . النهر الذي ينبع من صخور منفذة للمياه:

A . العاصي	B. السن	C. الكبير الشمالي	D. الكبير الجنوبي
------------	---------	-------------------	-------------------

22 . يعتمد نهر الاعوج تغذيته من :

A . ذوبان ثلوج جبل الشيخ	B. ذوبان ثلوج جبال القلمون	C. هطول الأمطار الصفية الغزيرة	D. الينابيع الغزيرة
--------------------------	----------------------------	--------------------------------	---------------------

23 . تشكل سلسلة جبال القلمون حدوداً طبيعية مع :

A . لبنان والأردن جنوباً	B. لبنان وفلسطين غرباً	C. لبنان غرباً	D. الاردن جنوباً
--------------------------	------------------------	----------------	------------------

24 . تصنف سورية تحت خط فقر الامن الماني بسبب :

A. عوامل المناخ والجفاف	B. عوامل المناخ وقلة هطول الأمطار	C. عوامل بشرية وسوء التخطيط	D. عوامل بشرية وسوء التوزيع العادل
-------------------------	-----------------------------------	-----------------------------	------------------------------------

25. يقع جبل العرب في محافظة :

A. درعا	B. القنيطرة	C. السويداء	D. الرقة
---------	-------------	-------------	----------

26. من المحافظات الشمالية لسورية :

A. حماه . ادلب . حلب	B. حماه حلب . الرقة	C. ادلب . حلب	D. ادلب . اللاذقية
----------------------	---------------------	---------------	--------------------

27. من المحافظات الوسطى لسورية :

A. حماه . ادلب	B. حماه . حلب	C. حمص . حماه	D. حمص . ادلب
----------------	---------------	---------------	---------------

28. المحافظة التي يمر بها نهر العاصي:

A. حمص . حماه . ادلب	B. حمص . ادلب . حلب	C. حمص . حماه	D. حمص . ادلب
----------------------	---------------------	---------------	---------------

29. من المحافظات التي تقع على روافد نهر الفرات :

A. الرقة . دير الزور	B. الرقة . حلب	C. الرقة . الحسكة	D. دير الزور . الحسكة
----------------------	----------------	-------------------	-----------------------

30. المحافظة التي تقع أقصى شمال شرق سورية :

A. دير الزور	B. الرقة	C. الحسكة	D. ادلب
--------------	----------	-----------	---------

31. المحافظة التي يصب بها نهر الكبير الشمالي :

A. حماه	B. حمص	C. طرطوس	D. اللاذقية
---------	--------	----------	-------------

32. من المحافظات التي تقع جنوب نهر العاصي :

A. ادلب	B. حماه	C. حمص	D. اللاذقية
---------	---------	--------	-------------

33. من المحافظات التي تقع شرق نهر العاصي :

A. حماه	B. حمص	C. ادلب	D. حلب
---------	--------	---------	--------

34. تقع محافظة ادلب بين :

A. جبل الزاوية وجبل سمعان	B. جبل الزاوية وجبل العرب	C. جبل حارم وجبل الزاوية	D. جبل حارم وجبل عبد العزيز
---------------------------	---------------------------	--------------------------	-----------------------------

35. تقع محافظة اللاذقية بين :

A. رأس البسيط ورأس ابن الهاني	B. رأس ابن الهاني ومصب نهر الكبير الشمالي	C. خليج السويدية ومصب نهر العاصي	D. جبال اللاذقية ومجرى نهر السن
-------------------------------	---	----------------------------------	---------------------------------

36. يقع خليج السويدية بين :

A. رأس الخنزير ورأس ابن الهاني	B. خليج اسكندرونة ورأس البسيط	C. جبال اللاذقية ورأس ابن الهاني	D. رأس الخنزير ورأس البسيط
--------------------------------	-------------------------------	----------------------------------	----------------------------

37. يقع خليج اسكندرونة بين :

A. امتداد جبال الامانوس ورأس الخنزير	B. رأس الخنزير وخليج السويدية	C. رأس ابن الهاني ومحافظة اللاذقية	D. مصب نهر العاصي وخليج السويدية
--------------------------------------	-------------------------------	------------------------------------	----------------------------------

38. تقع مدينة دمشق بين :

A. امتداد جبال القلمون	B. سلسلة جبال التدمرية	C. مجرى نهر بردى	D. A+C
------------------------	------------------------	------------------	--------

39. يصب نهر الكبير الجنوبي في محافظة :

A. اللاذقية	B. طرطوس	C ادلب	D حماه
-------------	----------	--------	--------

40. تساير امتداد جبال الامانوس الحدود السورية التركية من الجهة :

A الشمالية	B الجنوبية	C الشمالية الغربية	D الجنوبية الغربية
------------	------------	--------------------	--------------------

41. ينبع نهر السن من :

A جبال اللاذقية	B جبل حارم	C جبل الزاوية	D جبل سمعان
-----------------	------------	---------------	-------------

42. من الجبال الذي تقع بجوار نهر العاصي من الجهة الجنوبية :

A جبل الزاوية	B جبل العرب	C جبل البشري	D. جبل العرب
---------------	-------------	--------------	--------------

43. من الجبال التي تقع بجوار نهر العاصي من الجهة الشمالية :

A جبل حارم	B جبل حلب	C جبل الزاوية	D جبل العرب
------------	-----------	---------------	-------------

44. من التضاريس التي تقع بجوار نهر الفرات من الجهة الشمالية الشرقية:

A جبل العرب	B جبل الشيخ	C جبل البشري وجبل عبد العزيز	D. جبال التدمرية الجنوبية والشرقية
-------------	-------------	------------------------------	------------------------------------

45. يقع جبل بشري قرب محافظة :

A درعا	B السويداء	C الرقة	D دير الزور
--------	------------	---------	-------------

46. يقع رأس البسيط بين :

A خليج السويدية ومصب نهر العاصي	B خليج اسكندرونة ورأس الخنزير	C رأس ابن الهاني ومحافظة اللاذقية	D خليج السويدية ورأس ابن الهاني
---------------------------------	-------------------------------	-----------------------------------	---------------------------------

47. الحدود السورية مع العراق والاردن هي حدود :

A شمالية	B جنوبية	C جنوبية غربية	D شرقية جنوبية
----------	----------	----------------	----------------

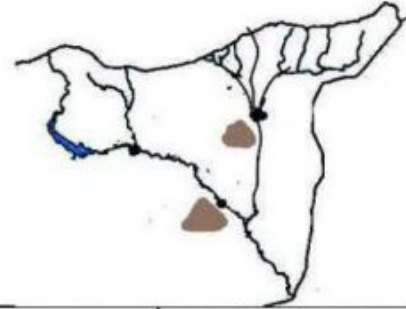
48. جزء من خريطة الجمهورية العربية السورية يحدوها البرية والبحرية ومراكز محافظات

وانهار وحدود منها :



A . للبحر المتوسط. لبنان . نهر العاصي . حمص . حماه . نهر السن	B. البحر المتوسط. لبنان . نهر الكبير الشمالي . اللاذقية	C. لبنان. نهر العاصي. حمص . حماه . البحر المتوسط. للاذقية	D. لبنان. نهر العاصي . حمص . حماه . خليج السويدية. البحر المتوسط
---	---	---	--

49. جزء من خريطة الجمهورية العربية السورية بحدودها ومراكز محافظات وانهار وحدودها منها :



A. تركيا. نهر الفرات. الرقّة . الحسكة. دير الزور. العراق	B. تركيا . نهر البليخ . الرقّة . الحسكة . جبل البشري. العراق	C. تركيا. العراق . نهر الفرات . الرقّة . دير الزور. جبل عبد العزيز	D. تركيا. نهر الفرات. الرقّة . دير الزور. جبل البشري. العراق
--	--	--	--

50. جزء من خريطة الجمهورية العربية السورية بحدودها وانهارها ومراكز محافظات وحدود منها:



A لبنان نهر بردى فلسطين دمشق جبل الشيخ	B لبنان نهر العاصي جبال القلمون السويداء نهر الاعوج	C لبنان جبل الشيخ نهر الاعوج دمشق نهر بردى جبل العرب	D لبنان جبال القلمون نهر بردى دمشق نهر اليرموك الاردن
--	---	--	---

ملاحظة: تقع محافظة حلب في الجزء الشمالي بين جبل حلب وجبل سمعان.

انتهت الاسئلة

وطفة

T.me/syria

A	.1
B	.2
D	.3
C	.4
A	.5
C	.6
C	.7
D	.8
C	.9
D	.10
A	.11
D	.12
C	.13
A	.14
C	.15
A	.16
C	.17
C	.18
D	.19
D	.20
B	.21
A	.22
C	.23
D	.24
C	.25

C	.2 6
C	.2 7
C	.2 8
C	.2 9
C	.3 0
D	.3 1
C	.3 2
C	.3 3
C	.3 4
B	.3 5
D	.3 6
A	.3 7
D	.3 8
B	.3 9
C	.4 0
A	.4 1
A	.4 2
A	.4 3
C	.4 4
D	.4 5
D	.4 6
D	.4 7
D	.4 8
D	.4 9
D	.5 0