



وزارة التربية - التوجيه الفني العام للعلوم - اللجنة الفنية المشتركة لعلوم المرحلة الابتدائية - بنك أسئلة العلوم الصف الأول  
للفترة الدراسية الأولى للعام الدراسي (2025-2026) م



وزارة التربية

# العلوم

الصف الأول

الفصل الدراسي الأول



بنك أسئلة الصف الأول  
الفترة الدراسية الأولى

2026-2025م

المرحلة الابتدائية



وزارة التربية - التوجيه الفني العام للعلوم - اللجنة الفنية المشتركة لعلوم المرحلة الابتدائية - بنك أسئلة العلوم الصف الأول  
للفترة الدراسية الأولى للعام الدراسي (2025-2026) م



وزارة التربية

# الوحدة التعليمية الأولى

# علوم الحياة



# الفصل الأول النباتات

قال تعالى ﴿ وَهُوَ الَّذِي أَنْزَلَ مِنَ السَّمَاءِ مَاءً فَأَخْرَجْنَا بِهِ نَبَاتَ كُلِّ شَيْءٍ فَأَخْرَجْنَا مِنْهُ خَضِرًا نُخْرِجُ مِنْهُ حَبًا مُتَرَاكِبًا وَمِنَ النَّخْلِ مِنْ طَلْعِهَا قِنْوَانٌ دَانِيَةٌ وَجَنَّاتٍ مِنْ أَمْثَلٍ وَالزَّيْتُونَ وَالرُّمَّانَ مُشَبَّهًا وَغَيْرَ مُتَشَبِّهٍ انظُرُوا إِلَى ثَمَرِهِ إِذَا أَثْمَرَ وَيَعْلَمُونَهُ إِنَّ فِي ذَلِكَ لَآيَاتٍ لِقَوْمٍ يُؤْمِنُونَ ﴿٢١﴾ (سورة الأنعام)



- الدرس الأول : ما الكائنات الحية والأشياء غير الحية؟
- الدرس الثاني: ما أجزاء النبات ووظيفتها؟
- الدرس الثالث: ما أهمية الزهرة؟
- الدرس الرابع: بذور النباتات مختلفة.
- الدرس الخامس: ما مراحل نمو النبات؟

السؤال الأول: اختر الإجابة الصحيحة علمياً لكل من العبارات التالية وضع علامة (✓) في المربع المقابل لها:

١- تأمل أحمد حديقة المنزل ، و شاهد النباتات فيها و قال " هذا الجزء الملون الذي تقف عليه النحلة ينتج لبذور

" أي جزء من أجزاء النبات يقصده أحمد ؟

الجذر

الزهرة


الأوراق

الساق


٢- أي من هذه الأطعمة تحولت من الزهرة ؟



٣- أحد الثمار التالية لها بذرة واحدة فقط:



٤- الثمرة التي تحوي أكبر عدد من البذور :



٥- فاطمة نظرت إلى أربع بذور مختلفة . أي من هذه البذور لا يمكن تناولها ؟

بذرة البرتقال

بذرة الذرة

بذرة الفاصوليا

بذرة العدس

٦- حوط الذي لا ينتمي للمجموعة التالية و اذكر السبب



٧- أحد العناصر التالية لا يحتاجها النبات لنموه :



٨ - المرحلة الثانية من مراحل نمو البذرة تمثلها الصورة :



٩- أحد الكائنات الحية التالية يصنع غذاءه بنفسه



١٠- أحد الأشياء التالية يحتاجه النبات مع الماء والهواء ليصنع غذاءه :











١١- جزء من أجزاء النبات يمتص الماء من التربة :



١٢ - مرحلة البادرة في مراحل نمو النبات تمثلها الصورة :



### ١٣- المجموعة التي تمثل أشياء غير حية :

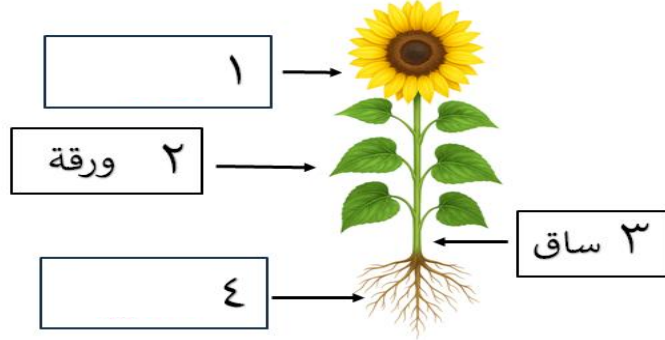
		النار والشجرة	<input type="radio"/>
		الشجرة والبذور	<input type="radio"/>
		النار والبذور	<input type="radio"/>
		الشجرة والماء	<input type="radio"/>

**السؤال الثاني:** ضع علامة ( ✓ ) للعبارة الصحيحة ، وعلامة ( ✗ ) للعبارة غير الصحيحة فيما يلي :

- ١- النباتات كائنات حية تنمو و تتنفس . ( )
- ٢- الجذور تصنع الغذاء للنبات . ( )
- ٣- الزهرة جزء من أجزاء النبات يكون البذور . ( )
- ٤- النبات يحتاج إلى ضوء الشمس فقط لكل يعيش . ( )

## السؤال الثالث :

أكمل أجزاء النبات الناقصة على الرسم ثم أجب عما يلي :



- الجزء الذي يحمل البذور هو الجزء رقم ( ) .

## السؤال الرابع :

صل بين جزء النبات و الصورة التي تتشابه مع وظيفته :



## السؤال الخامس :

ذهب علي إلى السوق لشراء أشياء يحتاجها لزراعة نبات ، ساعده في اختيار هذه الأشياء و  
ضع حولها علامة دائرة :



## السؤال السادس:

من خلال الصورة التالية ، عدد الكائنات الحية والأشياء غير الحية واكتبها في الجدول التالي:




كائنات حية	أشياء غير حية

## السؤال السابع:

١- أدرس الشكل التالي ثم أجب عما

١- الرقم الذي يمثل مجموعة الكائنات الحية ( ) .

٢- الرقم الذي يمثل الأشياء غير الحية ( )



# الفصل الثاني

## الحيوانات

قال تعالى ﴿ وَمِنْ دَابَّتْ فِي الْأَرْضِ وَلَا مَلْبِطٍ يُطِيرُ بِجَنَاحَيْهِ  
إِلَّا أُمَّهُ أَمَّا لَكُمْ مَا فَرَطْنَا فِي الْكِتَابِ مِنْ شَيْءٍ نُعَدُّ إِلَى رَبِّهِمْ  
يُحْشَرُونَ ﴾ (سورة الأنعام)



الدرس الأول : ماذا تحتاج الحيوانات لتعيش؟

الدرس الثاني : كيف تنفس الحيوانات؟

الدرس الثالث : ماذا تأكل الحيوانات؟

الدرس الرابع : كيف تحصل الحيوانات على غذائها؟

الدرس الخامس : ما أنواع الحيوانات؟

**السؤال الأول : اختر الإجابة الصحيحة بوضع علامة ( ✓ ) في المربع المناسب لها فيما يلي :**

١- أحد الحيوانات التالية تتنفس الهواء في الماء :





٢- أحد الحيوانات التالية لها رتتان :



٣- تبين الصور التالية أربعة حيوانات مختلفة :

أي من هذه الحيوانات تأكل اللحوم ؟



٤- ماذا تطعم اللبوة صغارها ؟



نباتات و لحوم

نباتات فقط

أعشاب فقط

لحوم فقط

٥- أحد الحيوانات التالية له أنياب حادة و مخالب قوية :



٦- أحد الحيوانات التالية أسنانها مسطحة :



٧- أجزاء الجسم التي تساعد هذا الحيوان في الحصول على غذاءه :

مخالب حادة

أنياب حادة




منقار معقوف

منقار مدبب

٨- أحد الطيور التالية لا تستطيع الطيران :



٩- أحد الحيوانات التالية لديه أرجل و لكنه يزحف :



١٠- أحد الحيوانات التالية يغطي جسمه شعر :



١١- حيوان برمائي يغطي جسمه جلد ناعم رطب :




١٢ - أحد الحيوانات التالية من الثدييات لكنه يطير :




١٣- أحد الحيوانات التالية يعيش في الماء لكنه يتنفس الهواء الجوي :




١٤- أحد الحيوانات التالية تتكاثر بالبيض و ترقد على بيضها :



١٥- أحد الحيوانات التالية حيوان برمائي :



١٦- تستطيع البطة الحركة بالطرق التالية :



تسبح - تمشي - تطير

تسبح - تمشي - تزحف

تطير - تمشي - تزحف

تزحف - تمشي - تقفز

١٧- أي العبارات التالية صحيحة :



تضع بيض - لها ريش - لا تطير

لها ريش - تطير - تضع بيض



تضع بيض - لها ريش - تأكل لحوم

لها ريش - تضع بيض - حجم صغير

**السؤال الثاني : ضع علامة ( ✓ ) للعبارة الصحيحة ، و علامة ( ✗ ) للعبارة غير الصحيحة فيما يلي :**

- ١- التمساح من الحيوانات البرمائية . ( )
- ٢- الزرافة من الحيوانات التي تأكل النباتات و تتكاثر بالولادة . ( )
- ٣- تتنفس الأسماك الهواء الجوي عن طريق الخياشيم . ( )
- ٤- للفقور مخالب قوية و منقار معقوف يساعده على اصطياد فريسته . ( )

### السؤال الثالث:

من خلال الصورة التالية ، عدد أسماء حيوانات تتشابه في نوع الغذاء و أسماء حيوانات تتشابه في غطاء الجسم و اكتبها في الجدول التالي:



نسر - نمر - دب - زرافة - فيل - فهد -  
حمار وحشي - ذئب - تمساح - غزال

نوع الغذاء	غطاء الجسم

### السؤال الرابع :

ضع علامة (○) حول الحيوان الذي لا ينتمي إلى المجموعة ، ثم اذكر السبب :



السبب :

.....

### السؤال الخامس :



انظر إلى الصورة التي أمامك ثم أجب عما يلي :

- اسم الحيوان ( ) .
- يغطي جسمه ( ) .
- يأكل ( ) .

- حوط سبب اختيارك لنوع الغذاء الذي يأكله :

( مخالب - ريش - جناحان - منقار معقوف - قدمان )

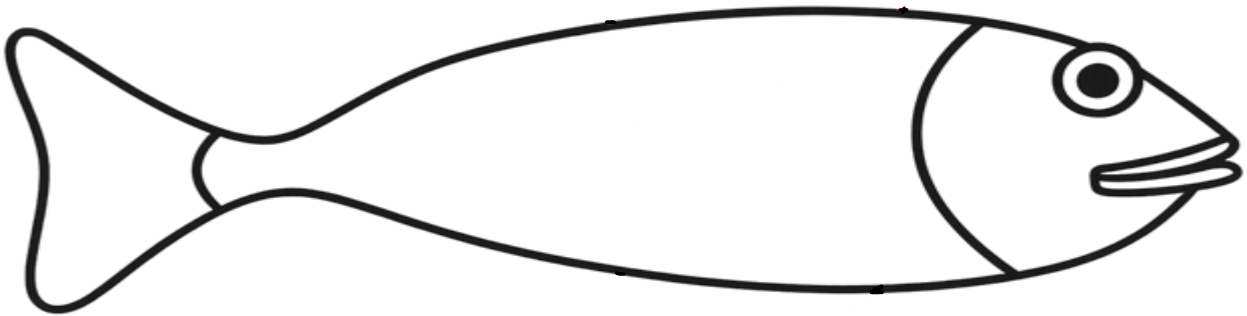
### السؤال السادس

ادرس الصورة التالية ثم أكمل الجدول التالي باختيار الإجابة الصحيحة :

الحيوان	
	
( الحركة - غطاء الجسم )	( الحركة - غطاء الجسم )
( اسم المجموعة - الحركة )	( اسم المجموعة - الحركة )

### السؤال السابع

أرسم الأجزاء الناقصة من السمكة التي تساعد على السباحة



السؤال الثامن : أكمل المخطط التالي بما يناسبه من كلمات

