

الدراسات الاجتماعية

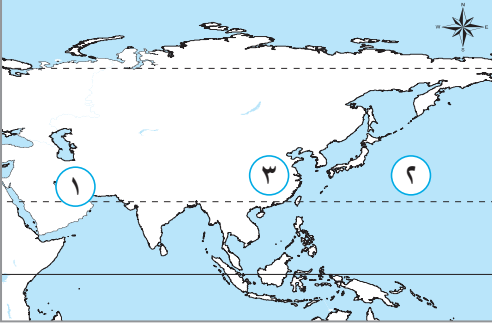
نماذج اختبارات الأضواء

لشهر أكتوبر

الصف
2
الإعدادي
الفصل الدراسي الأول



السؤال الأول: (١) أمامك خريطة صماء لقارة آسيا، اكتب مدلول الأرقام الموقعة عليها:



- ١ مضيق
- ٢ المحيط
- ٣ أولى دول آسيا إنتاجاً للحديد

(ب) ما النتائج المترتبة على...؟

- ١ الارتفاع الكبير لهضبة التبت
- ٢ استهلاك الصين الكبير للحديد

السؤال الثاني: (١) اختر الإجابة الصحيحة مما بين الأقواس:

- ١ يعد الملك «أورنمو» من أشهر ملوك الدولة
- ٢ كانت مدينة ريدان عاصمة مملكة في بلاد اليمن القديم .

(البابلية - السومرية - الأكادية - الآشورية)

(معين - حمير - سبأ - بابل)

(ب) بم تفسر...؟

- ١ تأتي قارة آسيا في المرتبة الأولى بين قارات العالم من حيث طول سواحلها.

- ٢ قلة إنتاج أوروبا من البوكسيت.

- ٣ أهمية اختراع الكتابة المسمارية.

السؤال الثالث: (١) اكتب كلمة (صواب) أمام العبارة الصحيحة، وكلمة (خطأ) أمام العبارة غير الصحيحة، مع تصويب الخطأ:

- ١ أولى دول قارة آسيا إنتاجاً للنikkel هي دولة الصين. ()
- ٢ حظيت المرأة بمكانة مرموقة في حضارات بلاد اليمن. ()

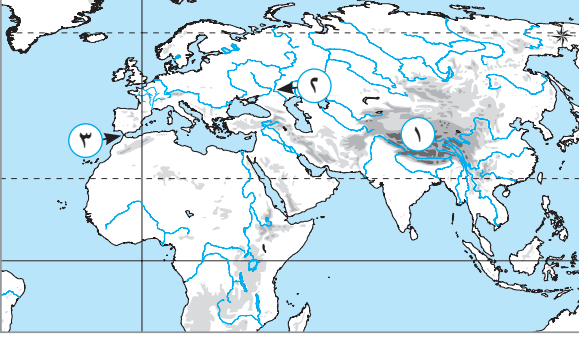
(ب) دلل على صحة العبارات الآتية:

- ٣ تمتلك قارة آسيا أعلى الجبال وأعلى الهضاب في العالم.

- ٤ تعد الأبجدية الفينيقية أساس الأبجدية الحديثة.

- ٥ تعددت المعبودات عند اليمنيين في بلاد اليمن القديم.

السؤال الأول: (١) أمامك خريطة صماء لأوراسيا، اكتب مدلول الأرقام الموقعة عليها:



- ١ جبال
- ٢ نهر
- ٣ مضيق

(ب) دال على صحة العبارتين الآتيتين:

- ١ عرف نظام دولة المدينة في حضارات بلاد العراق القديم.
- ٢ برع اليمنيون قديماً في علم الفلك.

السؤال الثاني: (١) أكمل العبارتين الآتيتين بما يناسبهما من كلمات:

- ١ أشهر المعبودات في الحضارة الفينيقية هو المعبود
- ٢ نقلت الحضارة الحميرية العاصمة من سبأ إلى

(ب) بم تفسر...؟

- ١ الأهمية الاستراتيجية لموقع قارة آسيا.

- ٢ استخدام التيتانيوم في صناعة هياكل الطائرات والصواريخ.

- ٣ استورد المصريون القدماء من فينيقيا أخشاب الأرز.

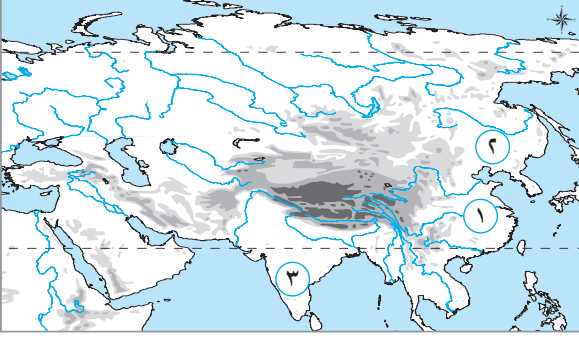
السؤال الثالث: (١) اكتب ما تشير إليه العبارتين الآتيتين:

- ١ قارة قامت بها الحضارة الغربية الحديثة التي شهدت الثورة العلمية والصناعية. (.....)
- ٢ أول من استقر على الشريط الساحلي شرق البحر المتوسط. (.....)

(ب) ما العلاقة بين...؟

- ١ سواحل قارة أوروبا ونشأة الموانئ الطبيعية.
- ٢ النشاط التعديني والتغيرات المناخية.
- ٣ التحنيط في مصر القديمة وبلاد اليمن القديم.

السؤال الأول: (١) أمامك خريطة صماء لقارة آسيا، اكتب مدلول الأرقام الموقعة عليها:



- ١ نهر.....
- ٢ سهل.....
- ٣ هضبة.....

(ب) ما المقصود ب...؟

- ١ المواد الخام الحرجة.....
- ٢ الزقورة.....

السؤال الثاني: (١) اختر الإجابة الصحيحة مما بين الأقواس:

- ١ اتخذ الأكاديون في بلاد العراق القديم من مدينة عاصمة لهم. (أكاد - أور - بغداد - بابل)
- ٢ طلب أهل بلاد اليمن القديم بقيادة الأمير..... المساعدة من الفرس. (سيف بن ذي يزن - ذونواس - سرجون الأول - أورنمو)

(ب) ما النتائج المترتبة على...؟

- ١ امتداد قارة أوروبا بين دائرتي عرض ٣٦° و ٧١° شمالاً.....
- ٢ طول فترة استخراج المعادن في أوروبا، والتي بدأت مع الثورة الصناعية.....
- ٣ وفاة الإسكندر الأكبر عام ٣٢٣ ق.م.....

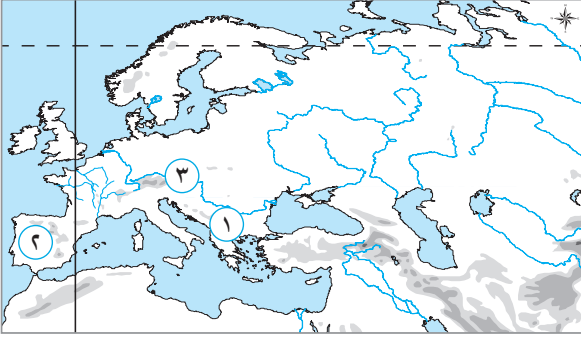
السؤال الثالث: (١) اكتب كلمة (صواب) أمام العبارة الصحيحة، وكلمة (خطأ) أمام العبارة غير الصحيحة، مع تصويب الخطأ:

- ١ يجري نهر أمور في سهل الصين. ()
- ٢ فنلندا أولى دول قارة أوروبا إنتاجاً للكروم. ()

(ب) بم تفسر...؟

- ١ الأهمية الاستراتيجية لموقع قارة أوروبا.....
- ٢ بنى الفينيقيون الأسوار حول المدن.....
- ٣ ضعفت مملكة سبأ.....

السؤال الأول: (١) أمامك خريطة صماء لقارة أوروبا ، اكتب مدلول الأرقام الموقعة عليها:



- ١ جبال
- ٢ هضبة
- ٣ نهر

(ب) دلل على صحة العبارتين الآتيتين:

١ يوجد على سواحل قارة آسيا العديد من الأرخبيالات.

٢ تأثرت الحضارة الحميرية بالديانات السماوية في بلاد اليمن القديم.

السؤال الثاني: (١) اكتب كلمة (صواب) أمام العبارة الصحيحة، وكلمة (خطأ) أمام العبارة غير الصحيحة، مع تصويب الخطأ:

١ اتبع ملوك الأشوريين سياسة العنف ضد الشعوب التي احتلوها. ()

٢ من أشهر المعابد لحضارة بلاد العراق معبد بران. ()

(ب) بم تفسر...؟

١ الأهمية الاقتصادية لموقع قارة آسيا.

٢ للبترول أهمية اقتصادية.

٣ سقوط مملكة حمير.

السؤال الثالث: (١) أكمل العبارات الآتية بما يناسبها من كلمات:

١ أعلى قمة في سلسلة جبال الألب

٢ عاصمة حضارة معين مدينة

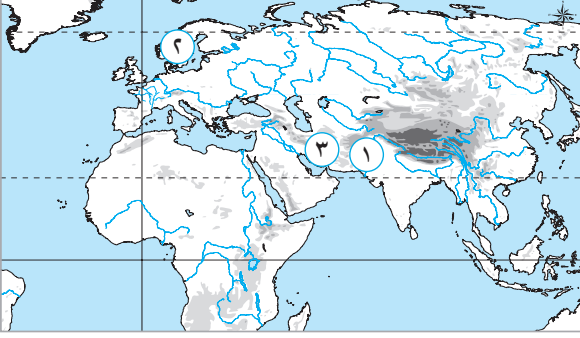
(ب) ما النتائج المترتبة على...؟

١ انبعاثات غاز ثاني أكسيد الكربون أثناء النشاط التعديني

٢ صدور أول قانون مدوّن في العصر السومري

٣ تحول طرق التجارة من البر إلى البحر في بلاد اليمن القديم

السؤال الأول: (١) أمامك خريطة صماء لأوراسيا، اكتب مدلول الأرقام الموقعة عليها:



- ١ نهر.....
- ٢ أولى دول قارة أوروبا إنتاجًا للتيتانيوم.....
- ٣ أولى دول آسيا إنتاجًا للغاز الطبيعي.....

(ب) بم تفسر...؟

- ١ سميت حضارة بلاد العراق القديم بحضارات بلاد الرافدين.

- ٢ وضع اليمينيين التقويم السبئي.

السؤال الثاني: (١) اختر الإجابة الصحيحة مما بين الأقواس:

- ١ حضارة استقرت في شمال بلاد العراق القديم هي الحضارة..... (السومرية - الآشورية - البابلية - الأكادية)
- ٢ نشأت في منطقة الجوف في بلاد اليمن القديم حضارة..... (معين - حمير - سبأ - بابل)

(ب) ماذا يحدث إذا...؟

- ١ انتمت الجزر الإندونيسية لقارة أستراليا.....
- ٢ لم تقم آسيا وأوروبا بإعادة تدوير المعادن.....
- ٣ لم يطلب الأمير (سيف بن ذي يزن) المساعدة من الفرس.....

السؤال الثالث: (١) اكتب كلمة (صواب) أمام العبارة الصحيحة، وكلمة (خطأ) أمام العبارة غير الصحيحة، مع تصويب الخطأ:

- ١ من أشهر المعابدات في حضارات بلاد العراق القديم المعبودة عشتار. ()
- ٢ أشهر المنتجات التي صدرتها حضارات بلاد فينيقيا البخور واللبان والعطور. ()

(ب) قارن بين...؟

– معدني البوكسيت والتيتانيوم من حيث (الاستخدام - أولى الدول الآسيوية إنتاجًا لكل منهما)

| وجه المقارنة | البوكسيت | التيتانيوم |
|-----------------------------|----------|------------|
| الاستخدام | | |
| أولى الدول الآسيوية إنتاجًا | | |