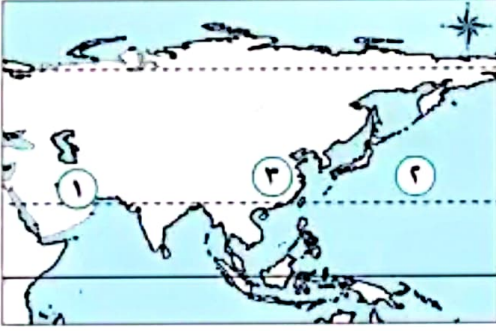


السؤال الأول: (١) أمامك خريطة صماء لقارة آسيا، اكتب مدلول الأرقام الموقعة عليها:



- ١ مضيق
- ٢ المحيط
- ٣ أولى دول آسيا إنتاجاً للحديد

(ب) ما النتائج المترتبة على...؟

- ١ الارتفاع الكبير لهضبة التبت
- ٢ استهلاك الصين الكبير للحديد

السؤال الثاني: (١) اختر الإجابة الصحيحة مما بين الأقواس:

- ١ يعد الملك «أورنمو» من أشهر ملوك الدولة
- ٢ كانت مدينة ريدان عاصمة مملكة في بلاد اليمن القديم .

(البابلية - السومرية - الأكادية - الآشورية)

(معين - جَمَيْر - سَبَأ - بابل)

(ب) بم تفسر...؟

- ١ تأتي قارة آسيا في المرتبة الأولى بين قارات العالم من حيث طول سواحلها.

- ٢ قلة إنتاج أوروبا من البوكسيت.

- ٣ أهمية اختراع الكتابة المسمارية.

السؤال الثالث: (١) اكتب كلمة (صواب) أمام العبارة الصحيحة، وكلمة (خطأ) أمام العبارة غير الصحيحة، مع تصويب الخطأ:

- ١ أولى دول قارة آسيا إنتاجاً للنikkel هي دولة الصين. ()
- ٢ حظيت المرأة بمكانة مرموقة في حضارات بلاد اليمن. ()

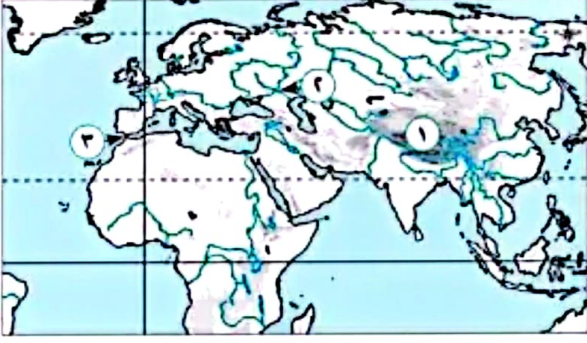
(ب) دلل على صحة العبارات الآتية:

- ٣ تمتلك قارة آسيا أعلى الجبال وأعلى الهضاب في العالم.

- ٤ تعد الأبجدية الفينيقية أساس الأبجدية الحديثة.

- ٥ تعددت المعبودات عند اليمنيين في بلاد اليمن القديم.

السؤال الأول: (1) أمامك خريطة صماء لأوراسيا، اكتب مدلول الأرقام الموقعة عليها:



- 1 جبال
- 2 نهر
- 3 مضيق

(ب) دلل على صحة العبارتين الآتيتين:

1 عرف نظام دولة المدينة في حضارات بلاد العراق القديم.

.....

2 برع اليمينيون قديماً في علم الفلك.

.....

السؤال الثاني: (1) أكمل العبارتين الآتيتين بما يناسبهما من كلمات:

1 أشهر المعبودات في الحضارة الفينيقية هو المعبود

2 نقلت الحضارة الحميرية العاصمة من سبأ الى

(ب) بم تفسر...؟

1 الأهمية الاستراتيجية لموقع قارة آسيا.

.....

2 استخدام التيتانيوم في صناعة هياكل الطائرات والصواريخ.

.....

3 استورد المصريون القدماء من فينيقيا أخشاب الأرز.

.....

السؤال الثالث: (1) اكتب ما تشير إليه العبارتين الآتيتين:

1 قارة قامت بها الحضارة الغربية الحديثة التي شهدت الثورة العلمية والصناعية. (.....)

2 أول من استقر على الشريط الساحلي شرق البحر المتوسط. (.....)

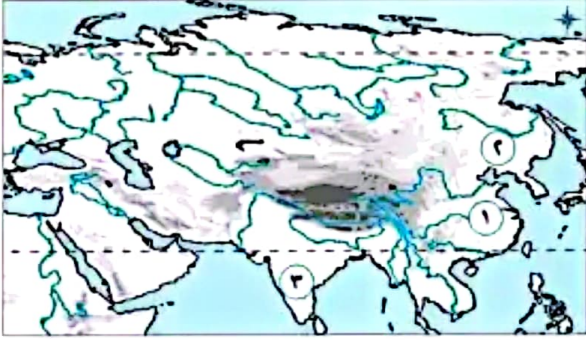
(ب) ما العلاقة بين ...؟

1 سواحل قارة أوروبا ونشأة الموانئ الطبيعية.

2 النشاط التعديني والتغيرات المناخية.

3 التحنيط في مصر القديمة وبلاد اليمن القديم.

السؤال الأول: (١) أمامك خريطة صماء لقارة آسيا، اكتب مدلول الأرقام الموقعة عليها:



- ١ نهر.....
- ٢ سهل.....
- ٣ هضبة.....

(ب) ما المقصود ب...؟

- ١ المواد الخام المحرقة.
- ٢ الزقورة.

السؤال الثاني: (١) اختر الإجابة الصحيحة مما بين الأقواس:

- ١ اتخذ الأكاديون في بلاد العراق القديم من مدينة عاصمة لهم. (أكاد - أور - بغداد - بابل)
- ٢ طلب أهل بلاد اليمن القديم بقيادة الأمير..... المساعدة من الفرس. (سيف بن ذي يزن - ذونواس - سرجون الأول - أورنمو)

(ب) ما النتائج المترتبة على...؟

- ١ امتداد قارة أوروبا بين دائرتي عرض ٣٦° و ٧١° شمالاً.
- ٢ طول فترة استخراج المعادن في أوروبا، والتي بدأت مع الثورة الصناعية.
- ٣ وفاة الإسكندر الأكبر عام ٣٢٣ ق.م.

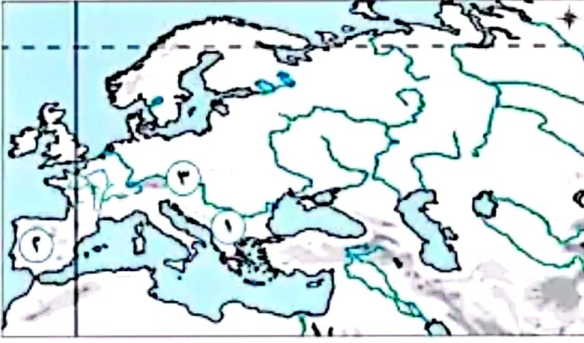
السؤال الثالث: (١) اكتب كلمة (صواب) أمام العبارة الصحيحة، وكلمة (خطأ) أمام العبارة غير الصحيحة، مع تصويب الخطأ:

- ١ يجري نهر أمور في سهل الصين. ()
- ٢ فنلندا أولى دول قارة أوروبا إنتاجاً للكروم. ()

(ب) بم تفسر...؟

- ١ الأهمية الاستراتيجية لموقع قارة أوروبا.
- ٢ بنى الفينيقيون الأسوار حول المدن.
- ٣ ضعف مملكة سبأ.

السؤال الأول: (1) أمامك خريطة صماء لقارة أوروبا ، اكتب مدلول الأرقام الموقعة عليها:



1) جبال

2) هضبة

3) نهر

(ب) دلل على صحة العبارتين الآتيتين:

1) يوجد على سواحل قارة آسيا العديد من الأرخبيلات.

.....

2) تأثرت الحضارة الجُميرية بالديانات السماوية في بلاد اليمن القديم.

.....

السؤال الثاني: (1) اكتب كلمة (صواب) أمام العبارة الصحيحة، وكلمة (خطأ) أمام العبارة غير الصحيحة، مع تصويب الخطأ:

1) اتبع ملوك الأشوريين سياسة العنف ضد الشعوب التي احتلوها. ()

2) من أشهر المعابد لحضارة بلاد العراق معبد بران. ()

(ب) بم تفسر...؟

1) الأهمية الاقتصادية لموقع قارة آسيا.

.....

2) للبترول أهمية اقتصادية.

.....

3) سقوط مملكة جُمير.

.....

السؤال الثالث: (1) أكمل العبارات الآتية بما يناسبها من كلمات:

1) أعلى قمة في سلسلة جبال الألب

2) عاصمة حضارة معين مدينة

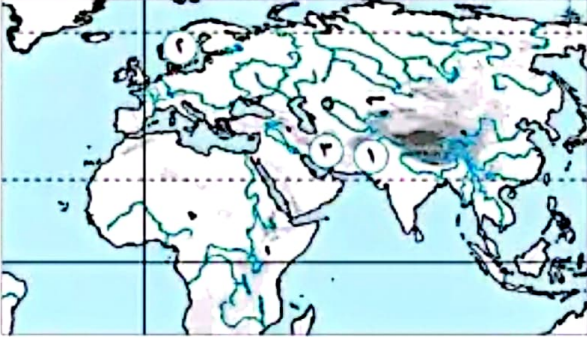
(ب) ما النتائج المترتبة على...؟

1) انبعاثات غاز ثاني أكسيد الكربون أثناء النشاط التعديني.

2) صدور أول قانون مدوّن في العصر السومري.

3) تحول طرق التجارة من البرالي البحري في بلاد اليمن القديم.

السؤال الأول: (١) أمامك خريطة صماء لأوراسيا، اكتب مدلول الأرقام الموقعة عليها:



- ١ نهر.....
- ٢ أولى دول قارة أوروبا إنتاجاً للتيتانيوم.....
- ٣ أولى دول آسيا إنتاجاً للغاز الطبيعي.....

(ب) بم تفسر...؟

- ١ سميت حضارة بلاد العراق القديم بحضارات بلاد الرافدين.

- ٢ وضع اليمينين التقويم السبئي.

السؤال الثاني: (١) اختر الإجابة الصحيحة مما بين الأقواس:

- ١ حضارة استقرت في شمال بلاد العراق القديم هي الحضارة..... (السومرية - الآشورية - البابلية - الأكادية)
- ٢ نشأت في منطقة الجوف في بلاد اليمن القديم حضارة..... (معين - جَمَيْر - سَبَأ - بابل)

(ب) ماذا يحدث إذا...؟

- ١ انتمت الجزر الإندونيسية لقارة أستراليا.
- ٢ لم تقم آسيا وأوروبا بإعادة تدوير المعادن.
- ٣ لم يطلب الأمير (سيف بن ذى يزن) المساعدة من الفرس.

السؤال الثالث: (١) اكتب كلمة (صواب) أمام العبارة الصحيحة، وكلمة (خطأ) أمام العبارة غير الصحيحة، مع تصويب الخطأ:

- ١ من أشهر المعبودات في حضارات بلاد العراق القديم المعبودة عشتار. ()
- ٢ أشهر المنتجات التي صدرتها حضارات بلاد فينيقيا البخور واللبان والعطور. ()

(ب) قارن بين...؟

– معدني البوكسيت والتيتانيوم من حيث (الاستخدام - أولى الدول الآسيوية إنتاجاً لكل منهما)

وجه المقارنة	البوكسيت	التيتانيوم
الاستخدام
أولى الدول الآسيوية إنتاجاً

السؤال الأول:

(١)

١ هرمز.

٢ الصين.

(ب)

١ أدى إلى تسميتها بسقف العالم.

٢ أدى إلى استيرادها كميات ضخمة من الحديد لتغطية استهلاكها محلياً بالرغم من كثرة إنتاجها منه.

٢ الهادى.

السؤال الثاني:

(١)

١ السومرية.

(ب)

١ بسبب اتساع مساحتها وكثرة الخلجان والأذرع المائية بها.

٢ بسبب عدم توافر ظروف إنتاجه في قارة أوروبا، مثل: المناخ المدارى الذي يتميز بارتفاع الحرارة، والمطر الغزير، بينما

معظم قارة أوروبا يقع في المنطقة المناخية المعتدلة الشمالية.

٣ لأنها ساعدت على تدوين الأحداث ونقلها عبر الأجيال.

٢ جفیر.

السؤال الثالث:

(١)

١ (خطأ) إندونيسيا.

٢ (صواب).

(ب)

١ حيث يوجد بها جبال الهيمالايا التي تُعد أعلى قمة جبلية في العالم، ويوجد بها هضبة التبت والتي تُعد أعلى هضبة في العالم.

٢ حيث ابتكر الفينيقيون حروفاً أبجدية تتكون من ٢٢ حرفاً، وتعد من أقدم الأبجديات في التاريخ، وانتقلت إلى الإغريق،

ثم انتشرت في أوروبا.

٣ حيث عبدوا النجوم والكواكب واعتقدوا في الحياة بعد الموت، كما تأثروا بالديانات السماوية، فاعتنق الحميريون

اليهودية والمسيحية ثم دخلوا في الإسلام.

السؤال الأول:

(١)

١ الهيمالايا.

٢ جبل طارق.

(ب)

٢ الفولجا.

١ حيث كانت كل مدينة مستقلة ولها حاكم يجمع بين السلطتين السياسية والدينية.

٢ حيث وضعوا التقويم السبئي الذي اعتمدوا عليه في تحديد الفصول الزراعية، كما استخدموا حركة النجوم في تحديد الاتجاهات وتوجيه تجارتهم البرية والبحرية.

السؤال الثاني:

(١)

١ بعل.

(ب)

٢ ريدان.

١ لأن قارة آسيا تطل على مسطحات مائية مهمة، بالإضافة لإشرافها على ممرات ملاحية ذات أهمية استراتيجية كبيرة مثل مضيق باب المندب ومضيق هرمز.

٢ لأنه يتميز بخفة وزنه وصلابته العالية ومقاومته الكبيرة للتآكل.

٣ لاستخدامها في صناعة السفن وتوابيت الملوك.

السؤال الثالث:

(١)

١ أوروبا.

(ب)

٢ الفينيقيين.

١ تعرج سواحل قارة أوروبا ساعدها على نشأة الموانئ الطبيعية بها.

٢ حيث يؤدي النشاط التعديني إلى انبعاث كميات كبيرة من غاز ثاني أكسيد الكربون مما يتسبب في التغيرات المناخية.

٣ كانت بلاد اليمن القديم تُصدر لمصر البخور والمر الذي كان يستخدم في الطقوس الدينية والتحنيط.

السؤال الأول:

(١)

١ اليانجتسى.

٢ الدكن.

(ب)

١ هى مواد خام محدودة الوجود ذات أهمية اقتصادية كبيرة، حيث تدخل فى إنتاج الطاقة النظيفة.

٢ هرم مدرج يُبنى عليه معبد من الطوب الطينى.

٢ منشوريا.

السؤال الثانى:

(١)

١ أكاد.

(ب)

٢ سيف بن ذى يزن.

١ أدى إلى وقوع معظم القارة فى المنطقة المناخية المعتدلة الشمالية من الكرة الأرضية.

٢ أدى إلى نفاذ كميات كبيرة من الخامات المعدنية الأوروبية.

٣ أدى ذلك إلى انقسام إمبراطورتيه بين قواده، وكانت بلاد العراق والشام من نصيب قائده سلوقس.

السؤال الثالث:

(١)

١ (خطأ) سهل منشوريا.

(ب)

٢ (صواب).

١ لأن قارة أوروبا تطل على مسطحات مائية مهمة، بالإضافة لإشرافها على ممرات ملاحية ذات أهمية استراتيجية كبيرة مثل مضيق جبل طارق ومضيق البسفور ومضيق الدردنيل.

٢ لحمايتها من الأعداء.

٣ بسبب انهيار سد مأرب وتحول طرق التجارة من البرالى البحر.

السؤال الأول:

(١)

١ الالب الدينارية.

٢ الميزيتا.

٣ الدانوب.

(ب)

١ حيث يوجد في قارة آسيا العديد من الجزر المتجاورة والتي تسمى بالأرخبيل مثل أرخبيل اليابان وأرخبيل إندونيسيا.

٢ حيث إنهم اعتنقوا اليهودية والمسيحية، ثم دخلوا في الإسلام.

السؤال الثاني:

(١)

١ (صواب).

٢ (خطأ) بلاد اليمن.

(ب)

١ لأن قارة آسيا تعد معبراً رئيسياً لطرق التجارة البرية والبحرية منذ العصور القديمة، مثل طريق الحرير وطريق التوابل، كما أدى موقعها الفلكي إلى تنوع كبير في مناخها، وبالتالي تنوع النباتات الطبيعية والحيوانات والمحاصيل الزراعية.

٢ لأنه يعد مادة خاماً للصناعات البتروكيمياوية الحديثة والصناعات المعدنية ويستخدم بصورة أساسية في توليد الكهرباء وفي وسائل النقل ويؤثر بشكل كبير في الاقتصاد العالمي والعلاقات الدولية.

٣ بسبب دخول الجفيريون في صراعات مع الأحباش والفرس.

السؤال الثالث:

(١)

١ مون بلان.

٢ قرناو.

(ب)

١ أدى ذلك إلى التسبب في التغيرات المناخية.

٢ أدى ذلك إلى المساهمة في تحقيق العدالة الاجتماعية وحماية الضعفاء وتنظيم المعاملات التجارية.

٣ أدى ذلك إلى ضعف مملكة سبأ، وهوما مهد الطريق أمام مملكة حمير للسيطرة على جميع المناطق التابعة لسبأ.

السؤال الأول:

(١)

١ السند.

٢ إيران.

(ب)

١ لأنها نشأت في السهول الفيضية الواقعة بين نهري دجلة والفرات.

٢ لتحديد الفصول الزراعية.

٢ النرويج.

السؤال الثاني:

(١)

١ الأشورية.

(ب)

٢ معين.

١ لأصبحت قارة آسيا تقع بأكملها في النصف الشمالي للكرة الأرضية.

٢ ستستمر عملية استنزاف الموارد المعدنية وستواجه القارتان خطر نفاد الخامات المعدنية.

٣ لم تتخلص بلاد اليمن من حكم الأحباش وبالتالي لم يقم الفرس بغزو اليمن.

السؤال الثالث:

(١)

١ (صواب)

٢ (خطأ) بلاد اليمن

(ب)

وجه المقارنة	البوكسيت	التيتانيوم
الاستخدام	يعتبر الخام الأساسي لإنتاج وصناعة الألومنيوم الذي يدخل في العديد من الصناعات.	يستخدم في صنع هياكل الطائرات والصواريخ والأجهزة الطبية.
أولى الدول الآسيوية إنتاجاً	الصين	الصين