

سلاح التلميز

منذ عام ١٩٦٠

2025 - 2026



الدراسات
الاجتماعية

نماذج اختبارات

شهر أكتوبر

طبقاً لآخر مواصفة للورقة الامتحانية

4

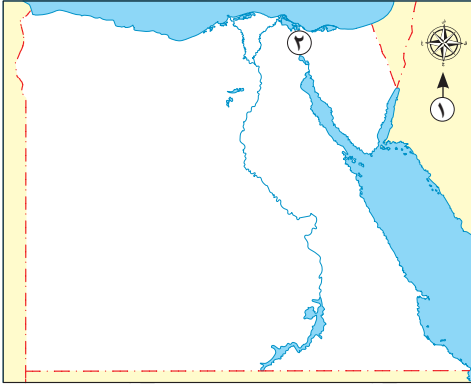
الفصل الدراسي الأول



الاختبار الأول



١ أ أمامك خريطة لمصر، لاحظها ثم وضع مدلول الأرقام الموقعة عليها:



١ أحد عناصر الخريطة

٢ قناة

ب بم تفسر:

- أهمية نبات البردي عند المصريين القدماء؟

٢ أ اكتب كلمة (صواب) أمام العبارة الصحيحة، وكلمة (خطأ) أمام العبارة غير الصحيحة:

١ يمثل الشمال الغربي أحد الاتجاهات الأصلية. ()

٢ تلون السهول باللون الأخضر على الخريطة. ()

ب ما العلاقة بين:

- القرية والمدينة؟

٣ أ اختر الإجابة الصحيحة مما بين القوسين:

١ أي مما يلي يُعد مصدرًا أوليًا؟

(مقالات صحفية - نقوش معبد - أفلام تاريخية - موسوعة تاريخية)

٢ أي من التالي يُعد مدينة صحراوية؟

(القاهرة - الإسكندرية - دمياط - الخارجة)

ب أجب عما يلي:

١ قارن بين: البوصلة والأسطرلاب (من حيث التعريف).

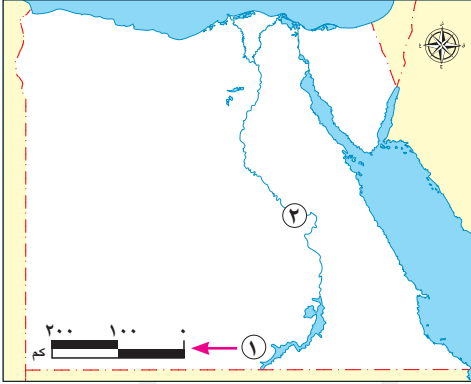
الأسطرلاب	البوصلة
.....

٢ دلل على صحة العبارة: ساهمت التكنولوجيا الحديثة في تطور رسم الخرائط.



١٠

١ أ أمامك خريطة لمصر، لاحظها ثم وضع مدلول الأرقام الموقعة عليها:



١ أحد عناصر الخريطة

٢ نهر

ب بم تفسر:

- يفضل استخدام المخططات لوصف مكان ما؟

٢ أ اكتب كلمة (صواب) أمام العبارة الصحيحة، وكلمة (خطأ) أمام العبارة غير الصحيحة:

١ يوجد اتجاه فرعي بين كل اتجاهين أصليين. ()

٢ تُعبّر الحقائق عن وجهات نظر شخصية. ()

ب قارن بين:

- المصادر الأولية والمصادر الثانوية لجمع المعلومات (من حيث زمن تسجيل الحدث).

المصادر الثانوية	المصادر الأولية	وجه المقارنة
		زمن تسجيل الحدث

٣ أ اختر الإجابة الصحيحة مما بين القوسين:

١ يتم التقاط الصور الفضائية باستخدام

(الكاميرا الشخصية - الأقمار الصناعية - الطائرات الحربية - الهواتف المحمولة)

٢ توجد الكنيسة المُعلّقة في مدينة

(القاهرة - الإسكندرية - دمياط - السويس)

ب أجب عما يلي:

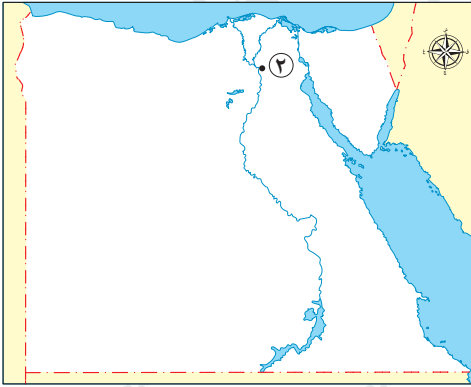
١ ما المقصود بـ: القرية؟

٢ ما العلاقة بين: قائد الطائرة والخريطة؟



١٠

١ أ أمامك خريطة لمصر، لاحظها ثم وضح مدلول الأرقام الموقعة عليها:



① خريطة جمهورية مصر العربية

١ أحد عناصر الخريطة

٢ مدينة

ب ما النتائج المترتبة على:

– جمع المعلومات من مصادر متعددة وموثوقة؟

٢ أ اكتب كلمة (صواب) أمام العبارة الصحيحة، وكلمة (خطأ) أمام العبارة غير الصحيحة:

١ تأثرت مريم الأسطرلابي بوالدها عالم الكيمياء. ()

٢ تنتشر الخرائط في محطات مترو الأنفاق. ()

ب ما المقصود بـ:

– المدينة؟

٣ أ اختر الإجابة الصحيحة مما بين القوسين:

١ تُعد المعلومات غير الصحيحة المتداولة بين الناس.....

(آراء – حقائق – انطباعات – شائعات)

٢ تنقسم الخرائط في عصرنا الحالي إلى خرائط.....

(فضائية وخيالية – يدوية ورقمية – فضائية وجوية – جوية ورقمية)

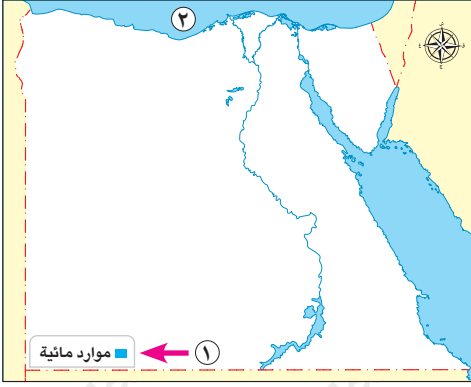
ب أجب عما يلي:

١ بم تفسر: أهمية رسم النوافذ والأبواب في المخططات؟

٢ دال على صحة العبارة: برع العلماء العرب في رسم الخرائط.



١ أ أمامك خريطة لمصر، لاحظها ثم وضع مدلول الأرقام الموقعة عليها:



١ أحد عناصر الخريطة

٢ البحر

ب ما النتائج المترتبة على:

- وجود الحدائق العامة الكبرى في المدن؟

٢ أ اكتب كلمة (صواب) أمام العبارة الصحيحة، وكلمة (خطأ) أمام العبارة غير الصحيحة:

١ يساعد المخطط في معرفة تفاصيل المكان. ()

٢ تطلب تطوير الأسطرلاب إجراء حسابات رياضية بسيطة. ()

ب وضع:

- دور الدولة في مواجهة الشائعات.

٣ أ اختر الإجابة الصحيحة مما بين القوسين:

١ أحد المصادر الأولية التي يمكن استخدامها عند كتابة بحث عن تاريخ مصر هو

(النقوش الأثرية - الإنترنت - المقالات الصحفية - الأبحاث)

٢ يُعد جامع عمرو بن العاص أول جامع أقيم في قارة

(إفريقيا - آسيا - أوروبا - أستراليا)

ب أجب عما يلي:

١ ما المقصود بـ: الاتجاهات الأصلية؟

٢ بم تفسر: تلوّن هضبة التيه على الخريطة باللون البنّي؟



الاختبار الخامس



١٠

١ اكتب كلمة (صواب) أمام العبارة الصحيحة، وكلمة (خطأ) أمام العبارة غير الصحيحة:

- ١) يستخدم الجندي الخرائط لتحديد المواقع العسكرية. ()
- ٢) يمكن لأي شخص تصميم وبناء المنازل. ()
- ٣) تتكون المدينة من حي واحد له طابع خاص. ()
- ٤) يُعد اتجاه الغرب أحد الاتجاهات الأصلية. ()

٢ ما المقصود بـ:

- المصادر الأولية؟

٣ بم تفسر:

- أهمية الأسطرلاب قديماً؟

٤ دلل على صحة العبارة التالية:

- تميز المصريون القدماء في علم الفلك.

٥ ما العلاقة بين:

- المصريين القدماء والخرائط؟

سلاح التلميز

منذ عام ١٩٦٠

2025 - 2026



الدراسات
الاجتماعية

إجابات نماذج
اختبارات شهر أكتوبر

4

الفصل الدراسي الأول

إجابة الاختبار الأول

١ أ ١ وردة البوصلة. ٢ أ ٢ السويس.

ب استخدمه المصريون القدماء في صناعة ورق البردي لتسجيل أخبارهم وأحداث حياتهم.

٢ أ ١ خطأ. ٢ أ ٢ صواب.

ب تتبادل القرية والمدينة المنافع حيث توفر المدينة الخدمات والمنتجات الصناعية، وتستفيد منها القرية، بينما توفر

القرية المنتجات الزراعية وتستفيد منها المدينة.

٣ أ ١ نقوش معبد. ٢ أ ٢ الخارجة.

ب ١

الأسطرلاب	البوصلة
- أداة فلكية قديمة استُخدمت لتحديد الاتجاهات والمواقع من خلال النجوم.	- أداة تحتوي على إبرة مغناطيسية تشير دائماً لاتجاه الشمال المغناطيسي.

٢ ساهمت التكنولوجيا الحديثة في رسم الخرائط الرقمية الدقيقة مثل تلك التي يعرضها تطبيق (GPS).

إجابة الاختبار الثاني

١ أ ١ مقياس الرسم. ٢ أ ٢ النيل.

ب لأن المخطط يساعد على معرفة تفاصيل المكان بطريقة أوضح من الوصف بالكلمات.

٢ أ ١ صواب. ٢ أ ٢ خطأ.

ب

المصادر الثانوية	المصادر الأولية	وجه المقارنة
- تم تسجيلها بعد وقوع الحدث بفترة زمنية طويلة.	- تم تسجيلها زمن وقوع الحدث.	زمن تسجيل الحدث

٣ أ ١ الأقمار الصناعية. ٢ أ ٢ القاهرة.

ب ١ تجمع سكني تتركز فيه أنشطة الزراعة وتربية الحيوانات.

٢ يستخدم قائد الطائرة الخريطة في تحديد مسار الرحلات.

إجابة الاختبار الثالث

- ١ أ ١ عنوان الخريطة. ٢ القاهرة.
- ب الحصول على معلومات شاملة ودقيقة عن الأحداث والأماكن - مقارنة المعلومات والتأكد من صحتها - تجنب التحيز لمصدر واحد.
- ٢ أ ١ خطأ. ٢ صواب.
- ب تجمع سكني تتركز فيه الخدمات والأنشطة مثل الصناعة والتجارة، وتتكون من عدة أحياء.
- ٣ أ ١ شائعات. ٢ يدوية ورقمية.
- ب ١ لتسمح بدخول الهواء وضوء الشمس. ٢ حيث رسم الإدريسي خريطة للعالم.

إجابة الاختبار الرابع

- ١ أ ١ مفتاح الخريطة. ٢ المتوسط.
- ب تنقية الهواء داخل المدن.
- ٢ أ ١ صواب. ٢ خطأ.
- ب تحرص الدولة على تقديم المعلومات الصحيحة للمواطنين؛ لمساعدتهم في التمييز بين الحقائق والشائعات، مما يساهم في مواجهة الأخبار الزائفة التي قد تسبب الفوضى أو الخوف.
- ٣ أ ١ النقوش الأثرية. ٢ إفريقيا.
- ب ١ هي الاتجاهات الأربعة الأساسية: الشمال، الجنوب، الشرق، الغرب. ٢ لأنها من الأراضي المرتفعة.

إجابة الاختبار الخامس

- ١ أ ١ صواب. ٢ خطأ. ٣ خطأ. ٤ صواب.
- ٢ مصادر سجلت في زمن وقوع الحدث.
- ٣ استُخدم في تحديد اتجاه القبلة وأوقات الصلاة وبداية الشهور القمرية.
- ٤ حيث استعانوا بالنجم القطبي الشمالي لتحديد الاتجاهات ليلاً.
- ٥ استخدم المصريون القدماء المخططات والخرائط لوصف مسار نهر النيل ومواقع المناجم، ورسوموا هذه الخرائط على ورق البردي وجدران المعابد.