




حقيقية تفصيل حصص




الانتظار

الابتدائية الخامسة بالحوية



الهدف من السجل




استغلال حصص الانتظار بما يعود
بالنفع على الطالبات



تعزير مهارات التفكير


لعبة المتاهة:

وهي لعبة تدرب الطفل على الدقة والتركيز وعدم اليأس؛
لأنه يظل يحاول عدة مرات ليصل إلى الطريق المفتوح ثم
يجده مسدوداً، فيحاول من طريق آخر وهكذا ..







ساعد عمار وليلى
للوصول الى الجزيرة



أي سمكة تسلك الطريق الصحيح؟






ساعد العصفور ليصل الى
منزله



المتاهة




□ القطة لولو تطلب المساعدة











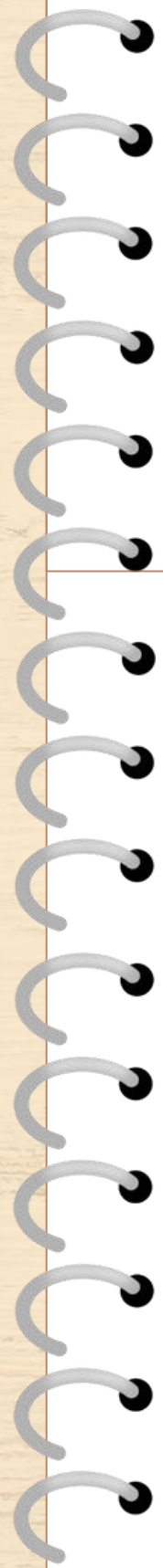
أي السيارة ستصل لمحطة
الوقود؟؟؟



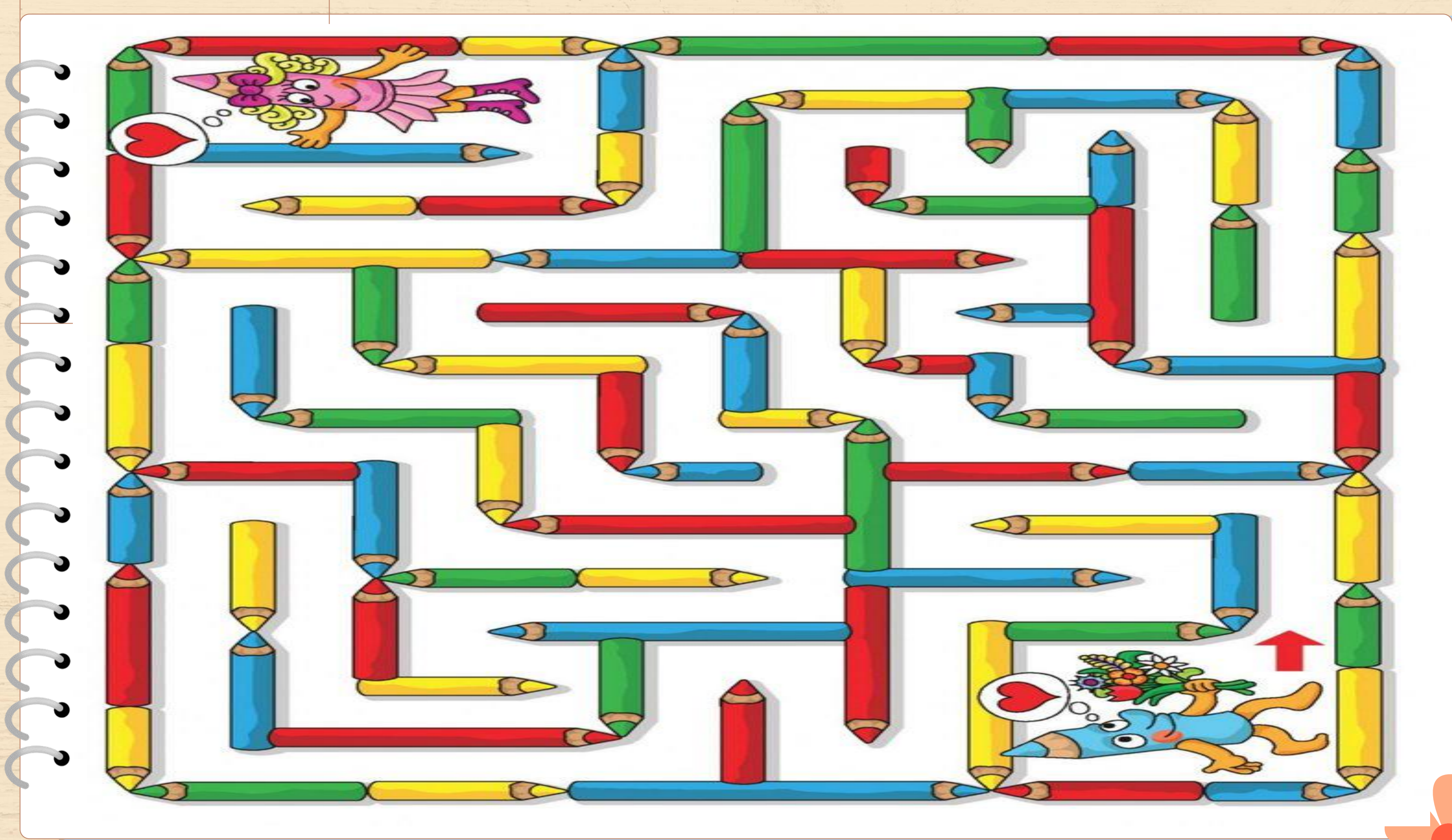




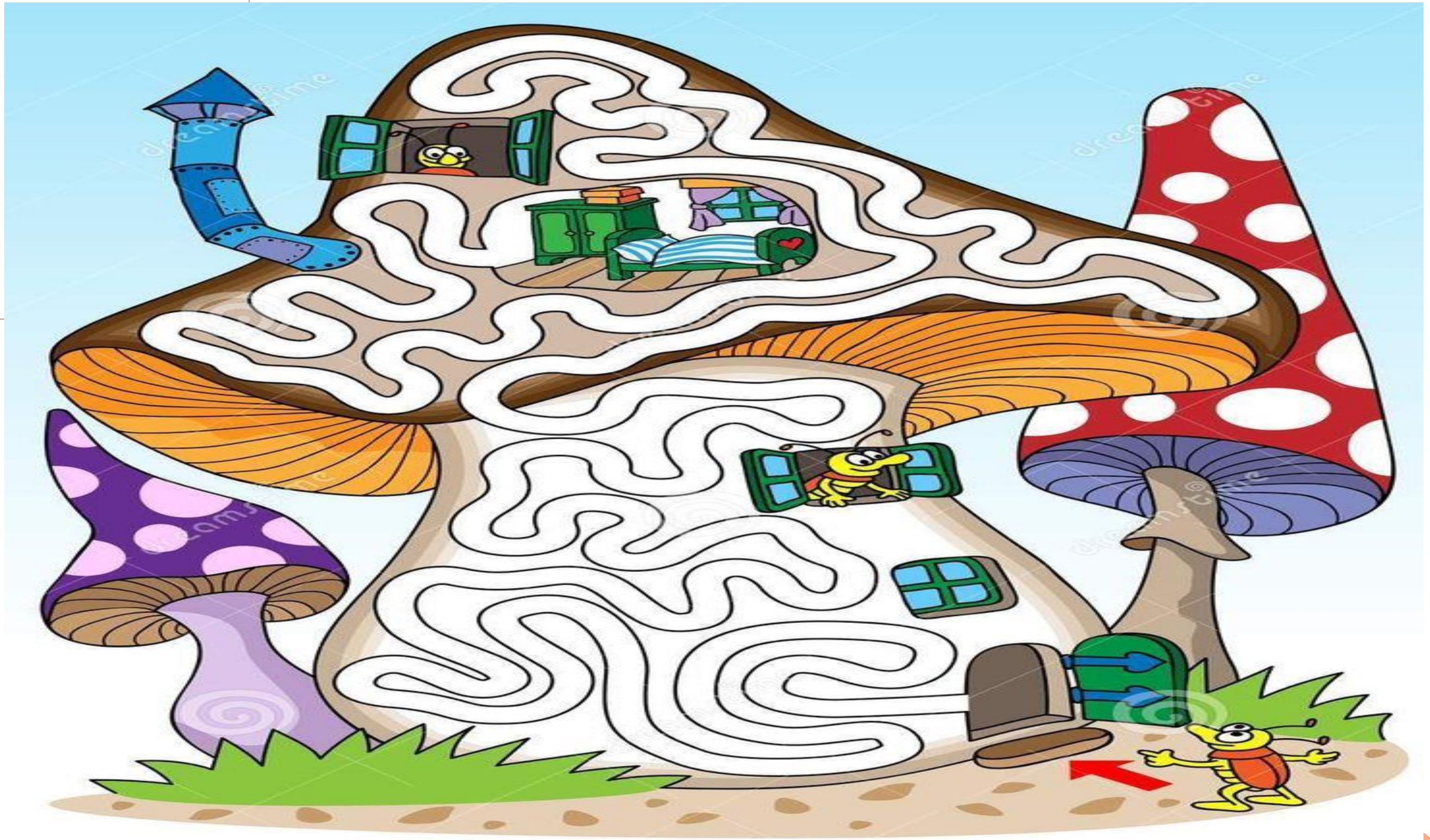
□ ساعد الفأر ليصل الى طعامه












□ لعبة الفرق بين الصورتين:




وهي لعبة تدرب الطفل على الدقة والتركيز في محاولة
□ إيجاد الفروق بين صورتين ..

□ لعبة الفرق بين الصورتين






استخرج ثمان فروقات بين الصورتين






استخرج ست فروقات بين الصورتين






لاستخرج ست فروقات بين الصورتين






استخرج ست فروقات بين الصورتين



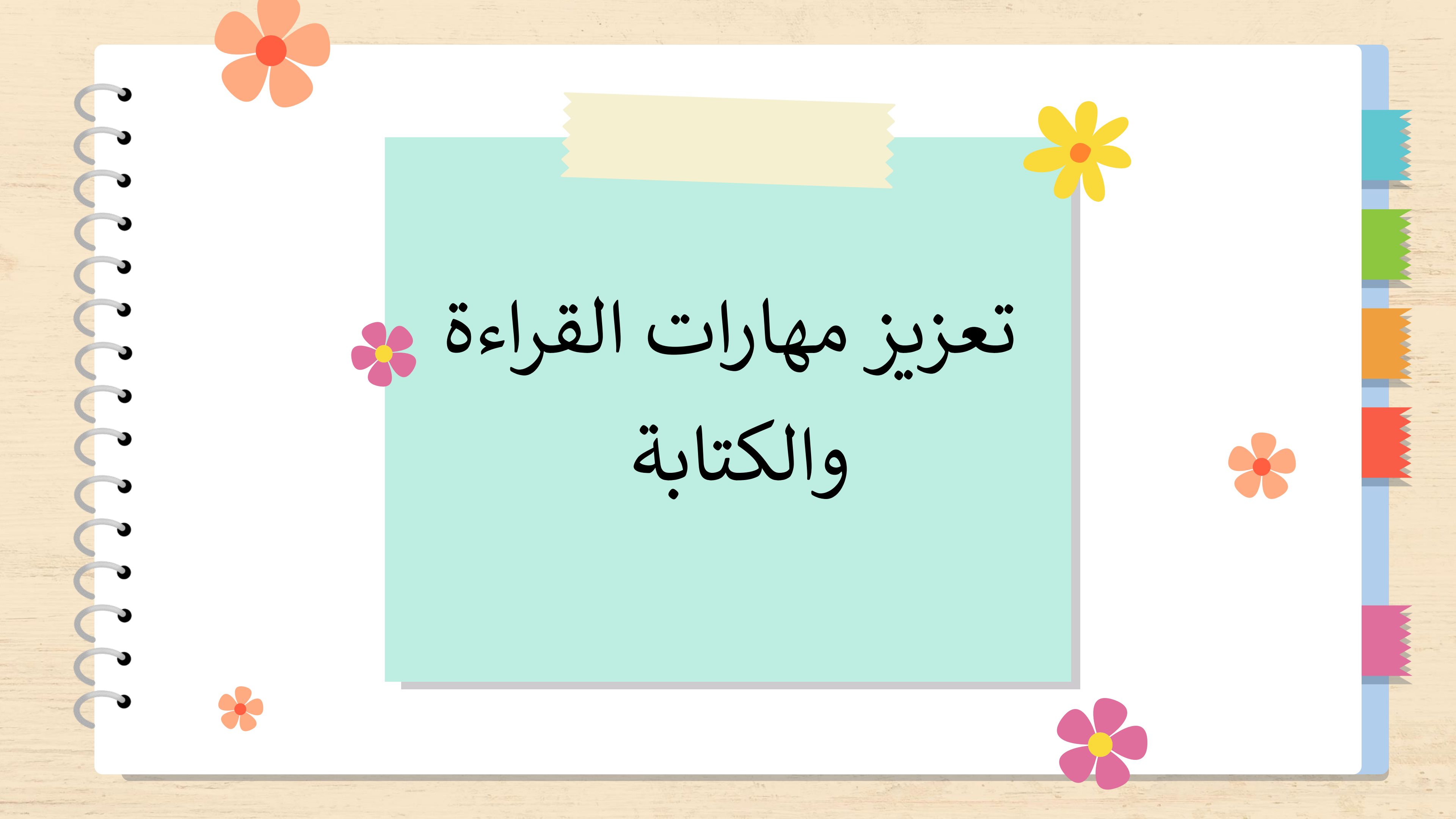


استخرج ست فروقات بين الصورتين





استخرج ست فروقات بين الصورتين




تعزير مهارات القراءة
والكتابة



لعبة ابحث عن الكلمة:

وهي لعبة تدرب الطفل على الدقة والتركيز في محاولة
شطب الكلمات والحصول على الكلمة المفقودة

لعبة ابحث عن الكلمة



WORD SEARCH

البحث عن الكلمات

الاسم: _____ السنة: _____ هـ



Wudu'




وضوء



ف	ا	ث	ن	ن	ت	س	ا	ن
ه	ن	ث	ن	ن	ي	ث	س	ك
ي	ف	ه	ر	ر	س	و	ن	ه
ه	ن	ف	ن	ن	ا	ن	ن	ن
ي	ف	ل	ر	ر	ر	ل	ن	ه
ن	ن	ه	س	س	ن	ه	ا	ن
ه	ب	س	ه	ه	ن	ه	ر	ه

بسملة	تثليث	مضمضة	استنشاق	استنثار
غسل	مسح	يمين	يسار	منقضات



الاسم




امرح مع الربيع



ل	ف	و	ن	هـ	ز
ب	ر	ب	ي	هـ	ل
ر	ب	ر	هـ	هـ	هـ
هـ	هـ	هـ	هـ	هـ	هـ
هـ	هـ	هـ	هـ	هـ	هـ
هـ	هـ	هـ	هـ	هـ	هـ

ضع دائرة حول الكلمات الآتية

فراشة
ابريل
زهور
براعم
مطر
ملرس
مايو
نحلة
طيور




الكلمة المفقودة

ابحث عن الكلمات في المتاهة.
عندما تجدها كلها ستظهر الكلمة المفقودة!

اكتبها هنا _____

ن	ن	ن	ن	ن	ن	ن
ن	ن	ن	ن	ن	ن	ن
ن	ن	ن	ن	ن	ن	ن
ن	ن	ن	ن	ن	ن	ن
ن	ن	ن	ن	ن	ن	ن
ن	ن	ن	ن	ن	ن	ن
ن	ن	ن	ن	ن	ن	ن



غضبان



نعسان




فرحان



زعلان



عطشان



أصوات الطيور

اقرأ أسماء أصوات الطيور في الجدول. اكتب اسم كل صوت في المكان المناسب، ثم ابحث عنه في المتاهة كما في المثال.

بَطْبِطَة

صِيَّاح

نَعِيْق

هَدِيْل

نَقْنَقَة






ب	س	ي	ف	ن	ل	ـ
ط	و	ة	ق	م	ي	ب
ب	ـ	ن	ل	ي	ـ	ط
ط	ق	ر	ن	ق	ب	ن
ة	ط	م	ن	ـ	ي	ب











خضروات: كلمات متقاطعة

ا	ب	ص	ل	ت	ش	م
ث	ا	ل	ث	ف	ط	ر
و	ذ	ر	ة	ل	ث	و
م	ن	ج	ح	ف	ج	ل
خ	ج	ز	ر	ل	ض	ي
ب	ا	ز	ل	ا	ء	ع
س	ن	د	ة	ق	ص	ذ



بصل



فطر



جزر



باذنجان



ذرة



ثوم




فلفل



بازلاء



فجل




لعبة ابحث عن الكلمة:

وهي لعبة تدرب الطفل على الدقة والتركيز في محاولة
شطب الكلمات والحصول على الكلمة المفقودة




لعبة ابحث عن الكلمة



نظافة الأسنان

اشتريتُ فُرْشَاءَ صَغِيرَةً ، وَأَنْبُوبَةً
بِهَا مَعْجُونٌ لِتَنْظِيفِ الْأَسْنَانِ .
أَنْظَفُ أَسْنَانِي مَرَّتَيْنِ كُلَّ يَوْمٍ عَلَى
الْأَقْل ، مَرَّةً فِي الصَّبَاحِ ، وَمَرَّةً فِي
الْمَسَاءِ . إِذَا لَمْ نُنْظَفِ أَسْنَانَنَا ، تَبْقَى
الْأَوْسَاحُ عَلَيْهَا ، وَتَكُونُ رَائِحَةُ
أَفْوَاهِنَا كَرِيحِهِ .



قراءة كلمات

التنوين



تَمْرًا

تَيْبًا

دَرْسًا

قَدَمًا

وَقْتًا

فَرَحًا

زَهْرَةً



تَمْرٍ

تَيْبٍ

دَرْسٍ

قَدَمٍ

وَقْتٍ

فَرَحٍ

زَهْرَةٍ



تَمْرًا

تَيْبًا


دَرْسًا

قَدَمًا

وَقْتًا

فَرَحًا

زَهْرَةً



التَّنْوِين

أصنّف الكلمات حسب نوع التنوين فيها :

مَحْبُوبٍ

فَسِيلَةٌ


خَشَبٌ

مَسْرُورًا

بَيْتٍ

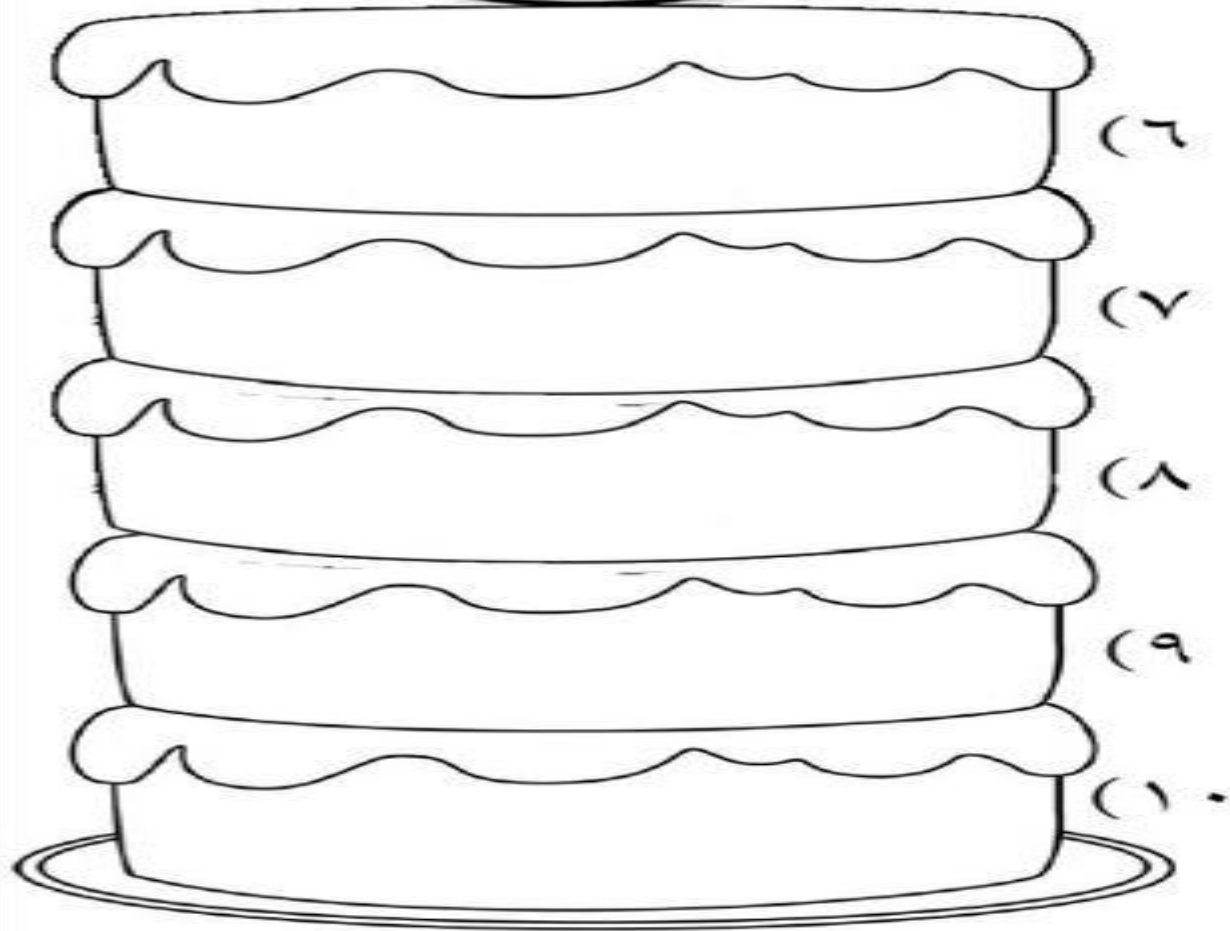
مُعَلِّمٌ

تنوين الكسر	تنوين الضم	تنوين الفتح

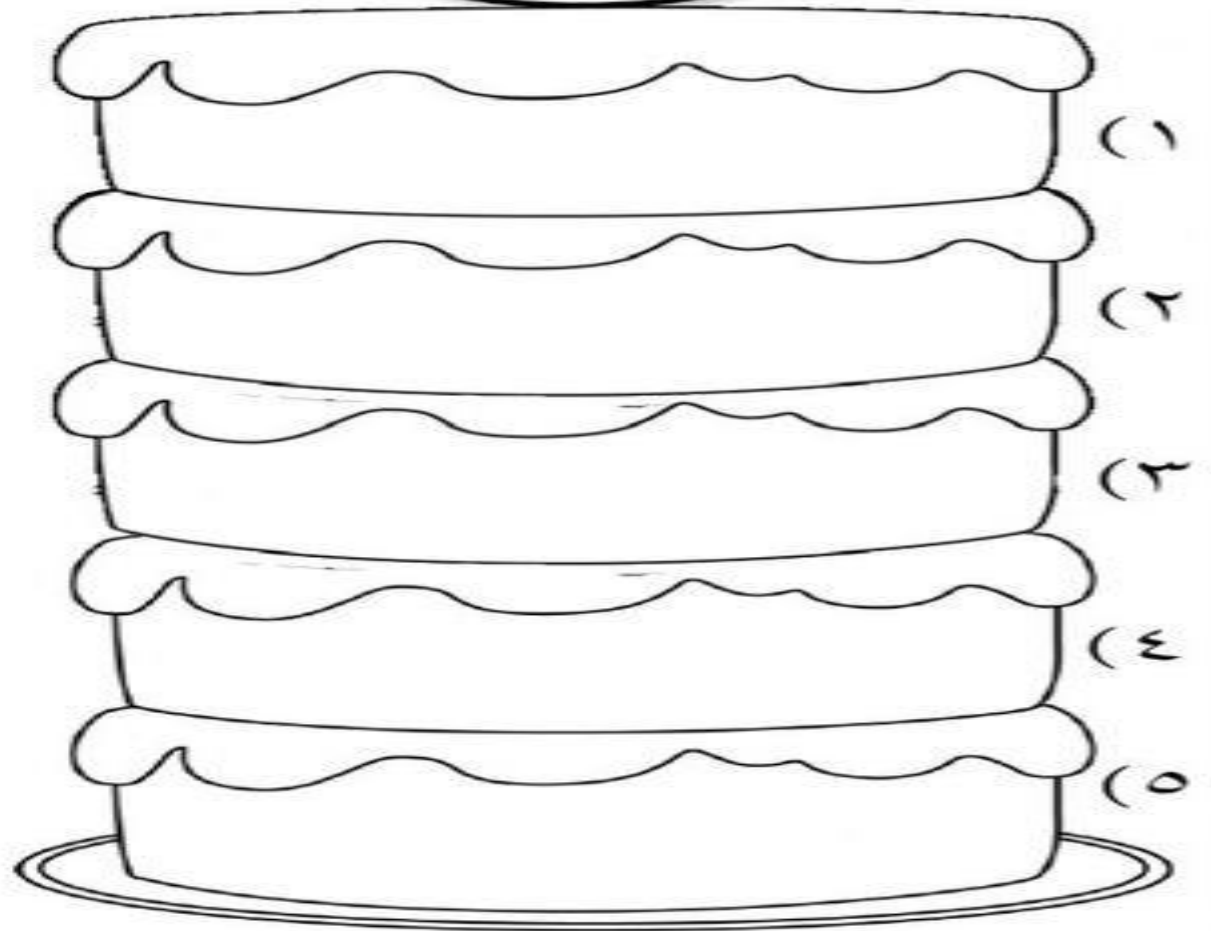


حَدِّدْ


ال شَمْسِيَّةٌ



ال قَمَرِيَّةٌ



الْوَرَاءُ	الظُّهْرُ	الزِّيَارَةُ	التَّقْوِيمُ	العَيْنُ
الدُّكَّانُ	الْقَضْلُ	الكَاتِبُ	الْحَارِسُ	الرَّجْلُ



حروف الجر



السؤال الأول : هيا نختار حرف الجر المناسب وتضعه في الفراغ

وقف العصفور _____ الشجرة
يقع الحرم الإبراهيمي _____ مدينة الخليل
قفز الغزال _____ الصخرة
سافرت _____ مدينة القدس صباحا
تقرأ الطالبة الدرس _____ الكتاب


السؤال الثاني : هيا نكتب حرف الجر المناسب في الفراغ

يشم الإنسان _____ طريق الأنف	يدافع الجندي _____ وطنه
قدم علي _____ صاحبه هدية	يعيش النمر _____ الغابة
تُحفظ الأطعمة _____ الثلاجة	أذهب _____ مدرستي كل صباح
يُصنع الجبن _____ الحليب	وضع الطالب القلم _____ الطاولة
عاد العصفور _____ عشه عند المساء	نزل المطر _____ السماء

السؤال الثالث : هيا نوظف حروف الجر في جمل مفيدة



من _____
إلى _____
عن _____
على _____
في _____



يَدْرُ يَرْسُمُ

رَسَمَ يَدْرُ ذِيًا وَفَجَاجَةً وَبَيْتًا .
رَسَمَ سَعِيدٌ وَرَدَّةً حَمْرَاءَ .
فَازَ يَدْرُ بِأَجْمَلِ رَسْمَةٍ فِي
الْمَدْرَسَةِ .



الأسئلة:-

١- استخرج من النص كلمات تحتوي على حرف

د	ذ
_____	_____
_____	_____

٢- مَنْ الَّذِي فَازَ بِأَجْمَلِ رَسْمَةٍ فِي الْمَدْرَسَةِ؟

٣- مَا لَوْنُ الْوَرْدَةِ الَّتِي رَسَمَهَا سَعِيدٌ ؟

حُرُوفِ الْجَبْرِ

املأ الفراغ بحرفِ الجَرِّ المُناسِبِ :

فِي

عَلَى

عَنْ

إِلَى

مِنْ

ذَهَبَ رَاشِدٌ الْمَسْجِدِ لِلصَّلَاةِ .


وَضَعَ الْمُعَلِّمُ الْقَلَمَ الطَّائِلَةِ .

نَزَلَ الْأَبُ السَّيَّارَةِ .

يَعِيشُ الْأَسَدُ الْغَابَةِ .

قَرَأَ مَاجِدٌ الْأَحْوَتِ .

الْمَكْتَبَةُ



- تَخَلَّ كَرِيمٌ وَكَوْثَرٌ إِلَى الْمَكْتَبَةِ .
قَرَأَ كَرِيمٌ كِتَابًا عَنِ الْكَوَاكِبِ .
وَ قَرَأَتْ كَوْثَرٌ كِتَابًا عَنِ
الْحَيَوَاتِ .
قِرَاءَةُ الْكُتُبِ مُفِيدَةٌ .

الأسئلة :-

- ١- مَا عُنْوَانُ النَّصِّ ؟


- ٢- مَاذَا قَرَأَ كَرِيمٌ ؟

- ٣- مَاذَا قَرَأَتْ كَوْثَرٌ ؟

- ٤- هَلْ قِرَاءَةُ الْكُتُبِ مُفِيدَةٌ ؟ _____ وَ لِمَذَا ؟

- ٥- مَاذَا تُحِبُّ أَنْتِ أَنْ تَقْرَأِي ؟

- ٦- رَتَّبِي الْجُمْلَةَ الْمُبْتَدَأَةَ :-
كِتَابًا - قَرَأَ - عَنِ - كَرِيمٍ - الْكَوَاكِبِ



اسمى :

صفى :

اقرأ ثم اجيب على الأسئلة :

الأرنب



بويو أرنب يحب القفز .

إنه يمشي بين الأزهار .

إنه يقفز بين أشجار الحديقة .

استمتع بويو بأكل الجزر .

همزة وصل	همزة قطع	همزة وصل	همزة قطع

اكتب أشكال همزة القطع :




.....

.....

.....

اكتب شكل همزة الوصل :

.....



فَهْمُ الْمَقْرُوءِ (فِي الْحَقْلِ)

أَقْرَأِ الْفِقْرَةَ ثُمَّ اسْتَخْرِجِ الْمَطْلُوبَ فِي الْجَدْوَلِ:

قَالَ مَاجِدٌ: نَهَضَ أَبِي وَأُمِّي بَاكِرًا، وَ ذَهَبَا إِلَى الْحَقْلِ، فِي الْحَقْلِ جَزْرًا، وَتَوَتَّ. أُمِّي سَاعَدَتِ أَبِي فِي أَعْمَالِ الْحَقْلِ، قَرَأَتْ عَقْرَبًا قَصَاحَتِ: (عَقْرَبًا عَقْرَبًا).
أَسْرَعَ أَبِي وَأَبْعَدَ الْعَقْرَبِ.



كَلِمَةٌ فِيهَا مَقْطَعٌ سَاكِنٌ	كَلِمَةٌ فِيهَا مَدٌ بِالْوَاوِ	كَلِمَةٌ فِيهَا مَدٌ بِالْيَاءِ	كَلِمَةٌ فِيهَا مَدٌ بِالْأَلِفِ
.....
مَعْنَى (صَرَخَتْ)	مَعْنَى (شَاهَدَتْ)	ضَدُّ (مُتَأَخِّرًا)	ضَدُّ (أَيْطَأً)
.....



اقرأ الفقرة التالية ثم استخراجي:



الجراد

الْجَرَادَةُ حَشْرَةٌ ضَارَّةٌ ، تَأْكُلُ الْمَزْرُوعَاتِ وَ تُثَلِّفُهَا . وَلِلْجَرَادَةِ سِتُّ
أَرْجُلٍ وَأَرْبَعَةُ أَجْنِحَةٍ . وَفِي رَأْسِهَا قَرْنَانِ . وَرِجْلَاهَا الْخَلْفِيَّتَانِ كَبِيرَتَانِ
 . وَلَهَا أَسْنَانٌ كَالْمِنْشَارِ . وَأَحْيَانًا يَكْثُرُ الْجَرَادُ ، وَ يَهْجُمُ عَلَى بِلَادِنَا
 كَالجُّيُوشِ ، فَتَقُومُ الْحُكُومَةُ بِمُطَارَدَتِهِ .




كلمات بها تنوين الضم



كلمات بها تنوين الكسر



كلمات بها تنوين الفتح



حَدِيقَةُ الْحَيَوَانَاتِ ^{الاسم}




- ذَهَبْنَا فِي رِحْلَةٍ مَدْرَسِيَّةٍ إِلَى حَدِيقَةِ الْحَيَوَانَاتِ .
- هُنَاكَ شَاهَدْنَا الْفِيلَ الْمُخَطَّطَ وَخِرْطُومَهُ الصَّغِيرَ .
- وَرَأَيْنَا الضَّفَدَعَ يَصْطَادُ الْمَوْزَ بِلِسَانِهِ الطَّوِيلِ .
- وَتَصَوَّرْنَا مَعَ الطَّاوُوسِ الْقَبِيحِ وَرَيْشِهِ الْأَسْوَدِ .
- وَسَمِعْنَا صَوْتَ زَيْتِرِ الْأَسَدِ الضَّعِيفِ !



هُنَاكَ سِتُّ كَلِمَاتٍ تَجْعَلُ الْقِصَّةَ غَيْرَ مُمَكِّنَةٍ. هَلْ تَسْتَطِيعُ أَنْ تَضَعَ دَائِرَةً عَلَيْهَا؟
ثُمَّ، هَلْ تَسْتَطِيعُ إِعَادَةَ كِتَابَةِ النَّصِّ بِالْكَلِمَاتِ التَّالِيَةِ لِیُصْبِحَ صَحِيحًا؟
الذَّبَابَ - المَلَوْنَ - القَوِيَّ - الجَمِيلَ - الرَّمَادِيَّ - الطَّوِيلَ

Handwriting practice lines consisting of a solid top line, a dashed middle line, and a solid bottom line.



اقرني الفقرة التالية ثم استخرجي:

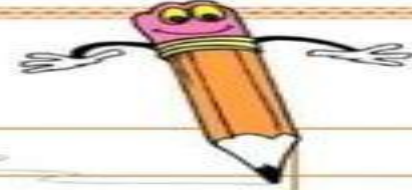


العطلة الصيفية


قَضَيْتُ عَطْلَةَ الصَّيْفِ الْمَاضِي ، فِي قَرْيَةٍ صَغِيرَةٍ ، تَوَافَرَتْ فِيهَا كُلُّ
أَسْبَابِ التَّسْلِيَةِ وَالسُّرُورِ ، فَتَمَتَّعْتُ بِإِقَامَتِي فِيهَا . وَكَثِيراً مَا خَرَجْتُ
وَقُتُّ الْأَصِيلِ ، لِأَتَمَشِّي فِي الطَّرِيقِ الزَّرَاعِيِّ ، تَحْتَ الْأَشْجَارِ
الْبَاسِقَةِ، وَبَيْنَ الْحُقُولِ النَّاضِرَةِ .







كلمات بها اللام القمرية



كلمات بها اللام الشمسية



تعزير مهارات الرياضيات



الاسم:

اكتب العدد



عدد رقم آحاده ٢ ورقم عشراته ٣



عدد رقم آحاده ٧ ورقم عشراته ٩




عدد رقم العشرات أكبر من رقم الآحاد



عدد رقم الآحاد أكبر من رقم العشرات









عدد رقم الآحاد ورقم العشرات متساويين



الأحاد والعشرات

الاسم:

ما هي قيمة العدد الذي تحته خط؟





:



:



:



:




:



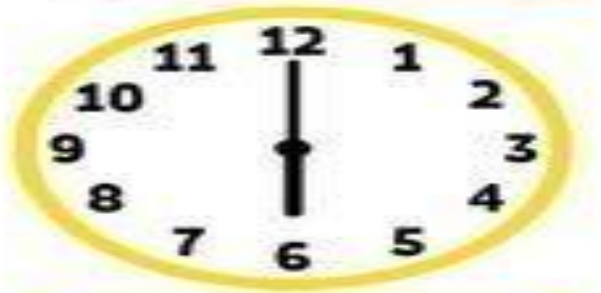
:



:



:



:




:



:



:



الاسم:



تمارين الأعداد والعشرات



٤ آحاد + ٣ عشرات

$$\begin{array}{c} \square + \square \\ \diagdown \quad \diagup \\ \square \end{array}$$

٦ آحاد + ٢ عشرات

$$\begin{array}{c} \square + \square \\ \diagdown \quad \diagup \\ \square \end{array}$$

٣ آحاد + ٥ عشرات

$$\begin{array}{c} \square + \square \\ \diagdown \quad \diagup \\ \square \end{array}$$

٩ آحاد + ٤ عشرات

$$\begin{array}{c} \square + \square \\ \diagdown \quad \diagup \\ \square \end{array}$$

٥ آحاد + ٧ عشرات

$$\begin{array}{c} \square + \square \\ \diagdown \quad \diagup \\ \square \end{array}$$

٨ آحاد + ٨ عشرات

$$\begin{array}{c} \square + \square \\ \diagdown \quad \diagup \\ \square \end{array}$$

٧٨

$$\begin{array}{c} \square + \square \\ \text{عشرات} \quad \text{آحاد} \end{array}$$

٩٦

$$\begin{array}{c} \square + \square \\ \text{آحاد} \quad \text{عشرات} \end{array}$$

٤٨

$$\begin{array}{c} \square + \square \\ \text{عشرات} \quad \text{آحاد} \end{array}$$

٦٥

$$\begin{array}{c} \square + \square \\ \text{آحاد} \quad \text{عشرات} \end{array}$$

٤٤

$$\begin{array}{c} \square + \square \\ \text{عشرات} \quad \text{آحاد} \end{array}$$

٥٣

$$\begin{array}{c} \square + \square \\ \text{آحاد} \quad \text{عشرات} \end{array}$$

الاسم:

تمارين الأعداد والعشرات

كم يساوي؟



= ٩ عشرات

= ٣٠ أعداد

= ٤ عشرات

= ٧ عشرات

= ٦ أعداد

= ٨ عشرات

= ٩ أعداد

= ٥ أعداد + ٧٠

= ٣٠ أعداد + ٣٠

= ٤ أعداد + ٨٠



= ٥ عشرات و ٢ أعداد

= ٤ عشرات و ٨ أعداد

= ٦ عشرات و ٤ أعداد

= ٣ عشرات و ٧ أعداد

= ٨ عشرات و ٥ أعداد


= ٢ عشرات و ٩ أعداد

= ٧ عشرات و ١ أعداد

= ٢ أعداد + ٤٠

= ٨ أعداد + ٥٠

= ٦ أعداد + ٢٠



اكتب رمز العدد من النموذج :

	=	<input type="text"/>		=	<input type="text"/>
	=	<input type="text"/>		=	<input type="text"/>
	=	<input type="text"/>		=	<input type="text"/>
	=	<input type="text"/>		=	<input type="text"/>

حوظ رمز العدد من النموذج :

	Les nombres de 0 à 100		
23		32	30
	Les nombres de 0 à 100		
45		55	65
	Les nombres de 0 à 100		
32		36	33
	Les nombres de 0 à 100		
60		50	5

جداول ضرب الأعداد (٢-٣-٤-٥)

$$\square = 10 \times 2$$

$$\square = 6 \times 2$$

$$\square = 11 \times 4$$

$$\square = 11 \times 2$$

$$\square = 12 \times 4$$

$$\square = 1 \times 2$$

$$\square = 8 \times 2$$

$$\square = 10 \times 4$$

$$\square = 8 \times 0$$

$$\square = 11 \times 0$$

$$\square = 0 \times 2$$

$$\square = 8 \times 4$$

$$\square = 6 \times 0$$

$$\square = 7 \times 2$$

$$\square = 9 \times 2$$

$$\square = 10 \times 0$$

$$\square = 6 \times 2$$

$$\square = 10 \times 2$$

$$\square = 11 \times 2$$

$$\square = 1 \times 4$$

$$\square = 9 \times 4$$

$$\square = 9 \times 0$$

$$\square = 1 \times 2$$

$$\square = 2 \times 4$$

$$\square = 7 \times 4$$

$$\square = 1 \times 0$$

$$\square = 4 \times 0$$

$$\square = 7 \times 2$$

$$\square = 7 \times 0$$

$$\square = 2 \times 2$$

$$\square = 2 \times 2$$

$$\square = 4 \times 2$$

$$\square = 6 \times 4$$

$$\square = 0 \times 2$$

$$\square = 12 \times 2$$

$$\square = 2 \times 2$$

$$\square = 4 \times 2$$

$$\square = 12 \times 2$$

$$\square = 8 \times 2$$

$$\square = 12 \times 0$$





اوجد ناتج جمع

$$\begin{array}{r} 26 \\ + 52 \\ \hline \end{array}$$

$$\begin{array}{r} 28 \\ + 50 \\ \hline \end{array}$$

$$\begin{array}{r} 27 \\ + 30 \\ \hline \end{array}$$

$$\begin{array}{r} 16 \\ + 50 \\ \hline \end{array}$$

$$\begin{array}{r} 30 \\ + 42 \\ \hline \end{array}$$

$$\begin{array}{r} 27 \\ + 41 \\ \hline \end{array}$$

$$\begin{array}{r} 38 \\ + 50 \\ \hline \end{array}$$

$$\begin{array}{r} 53 \\ + 22 \\ \hline \end{array}$$

$$\begin{array}{r} 83 \\ + 10 \\ \hline \end{array}$$

$$\begin{array}{r} 58 \\ + 41 \\ \hline \end{array}$$

$$\begin{array}{r} 37 \\ + 40 \\ \hline \end{array}$$


$$\begin{array}{r} 53 \\ + 42 \\ \hline \end{array}$$

$$\begin{array}{r} 53 \\ + 11 \\ \hline \end{array}$$

$$\begin{array}{r} 40 \\ + 32 \\ \hline \end{array}$$

$$\begin{array}{r} 23 \\ + 35 \\ \hline \end{array}$$

$$\begin{array}{r} 25 \\ + 52 \\ \hline \end{array}$$



الاسم:



أجب على عمليات الجمع والطرح الآتية



$$= ١٣ + ٤٦$$

$$= ٥٣ - ٨٦$$

$$= ٥٠ + ٥٠$$

$$= ١١ - ٢٥$$

$$= ٣٣ + ٦١$$

$$= ٢٤ - ٤٥$$

$$= ٣٧ + ٣٨$$

$$= ٥٤ - ٨٧$$

$$= ٦٠ + ٢١$$

$$= ٥٤ - ٦٦$$

$$= ٤٦ + ٥٠$$

$$= ٤٣ - ٤٥$$

$$= ٤٣ + ٢٠$$

$$= ٤٠ - ٧٠$$

$$= ١٧ + ٥٦$$

$$= ٦٢ - ٧٥$$

$$= ٣٢ + ٣١$$

$$= ٢٣ - ٤٥$$

$$= ١٢ + ٣٥$$

$$= ٣٤ - ٧٦$$

$$= ٤٣ + ٢٦$$

$$= ٤٥ - ٦٥$$

$$= ٣٣ + ٥٧$$

$$= ٨٥ - ٩٨$$

$$\begin{array}{r} ٦٦ \\ + ١٣ \\ \hline \end{array}$$

$$\begin{array}{r} ٦٩ \\ - ١١ \\ \hline \end{array}$$

$$\begin{array}{r} ٤٣ \\ + ٦١ \\ \hline \end{array}$$

$$\begin{array}{r} ٤٧ \\ - ٣٣ \\ \hline \end{array}$$

$$\begin{array}{r} ٥٤ \\ + ٥٠ \\ \hline \end{array}$$

$$\begin{array}{r} ٥٤ \\ - ٨٦ \\ \hline \end{array}$$

$$\begin{array}{r} ٤٦ \\ + ٥٠ \\ \hline \end{array}$$


$$\begin{array}{r} ٤٧ \\ - ٢٦ \\ \hline \end{array}$$

$$\begin{array}{r} ١٢ \\ + ٣٥ \\ \hline \end{array}$$

$$\begin{array}{r} ١٧ \\ - ١٢ \\ \hline \end{array}$$

$$\begin{array}{r} ٤٥ \\ + ٢٦ \\ \hline \end{array}$$

$$\begin{array}{r} ٤٥ \\ - ٦٥ \\ \hline \end{array}$$



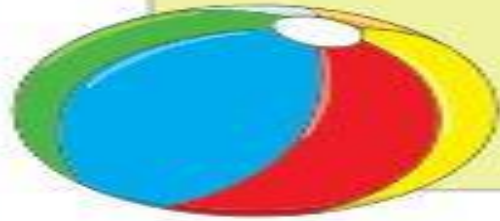
أكمل لوحة المائة

١٠		٨		٦		٤	٣	٢	١
			١٧	١٦		١٤			
٣٠					٢٥			٢٢	٢١
	٣٩		٣٧					٣٢	
		٤٨			٤٥	٤٤	٤٣		٤١
	٥٩		٥٧			٥٤		٥٢	٥١
	٦٩	٦٨	٦٧		٦٥		٦٢	٦٢	
٨٠					٧٥			٧٢	٧١
		٨٨		٨٦		٨٤		٨٢	
١٠٠			٩٧			٩٤			٩١

تعزير مهارااا
القرن ٢١

حل المشكلة

ماركو اشترى كرة بـ ٣ جنيهاً ولعبة بـ ٥ جنيهاً
كم دفع ماركو ؟



دفع ماركو + = جنيهاً

مريم اصطادت ٧ سمكات ومينا اصطادت ٣ سمكات
كم سمكة اصطادوها ؟


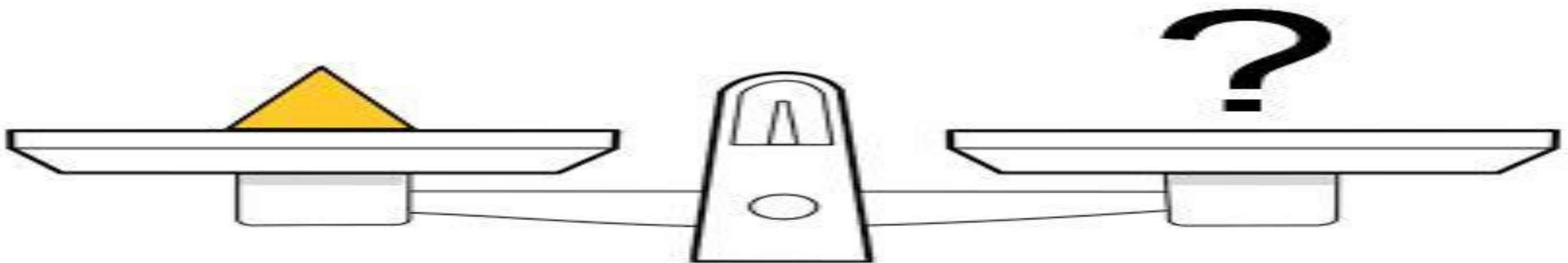
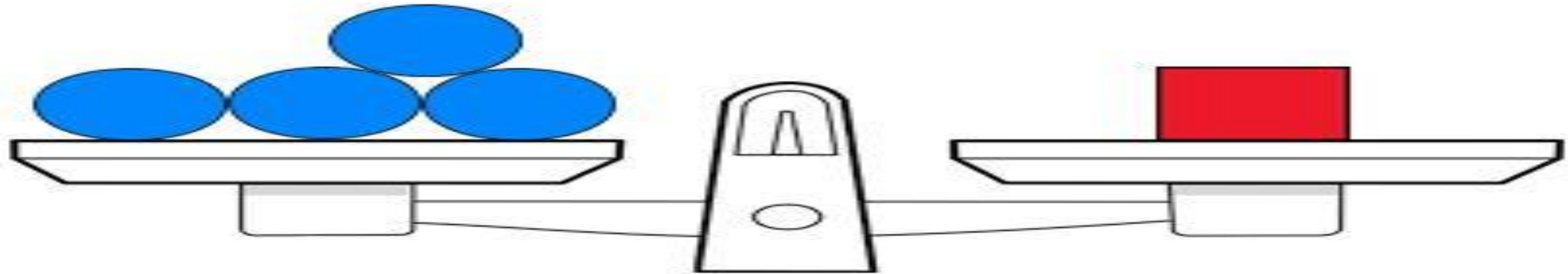
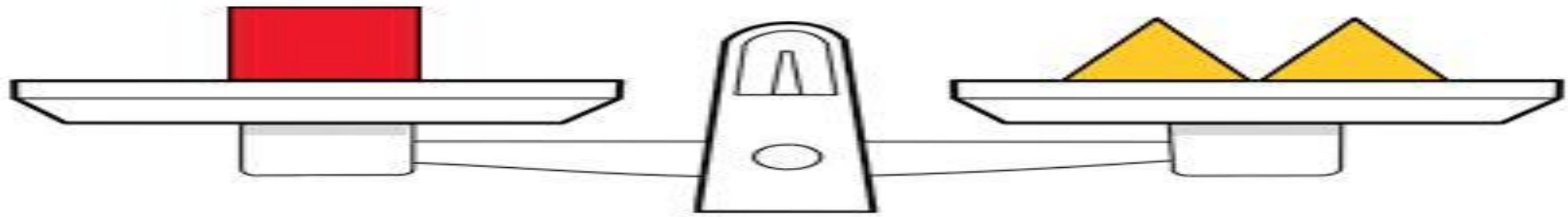


عدد السمك + = سمكات

باسم معاه ٣ كور وجيسيكا ٣ كور
كام كرة معاهم ؟



عدد الكور + = كور





+



=

6



+



=

9



+



=

7





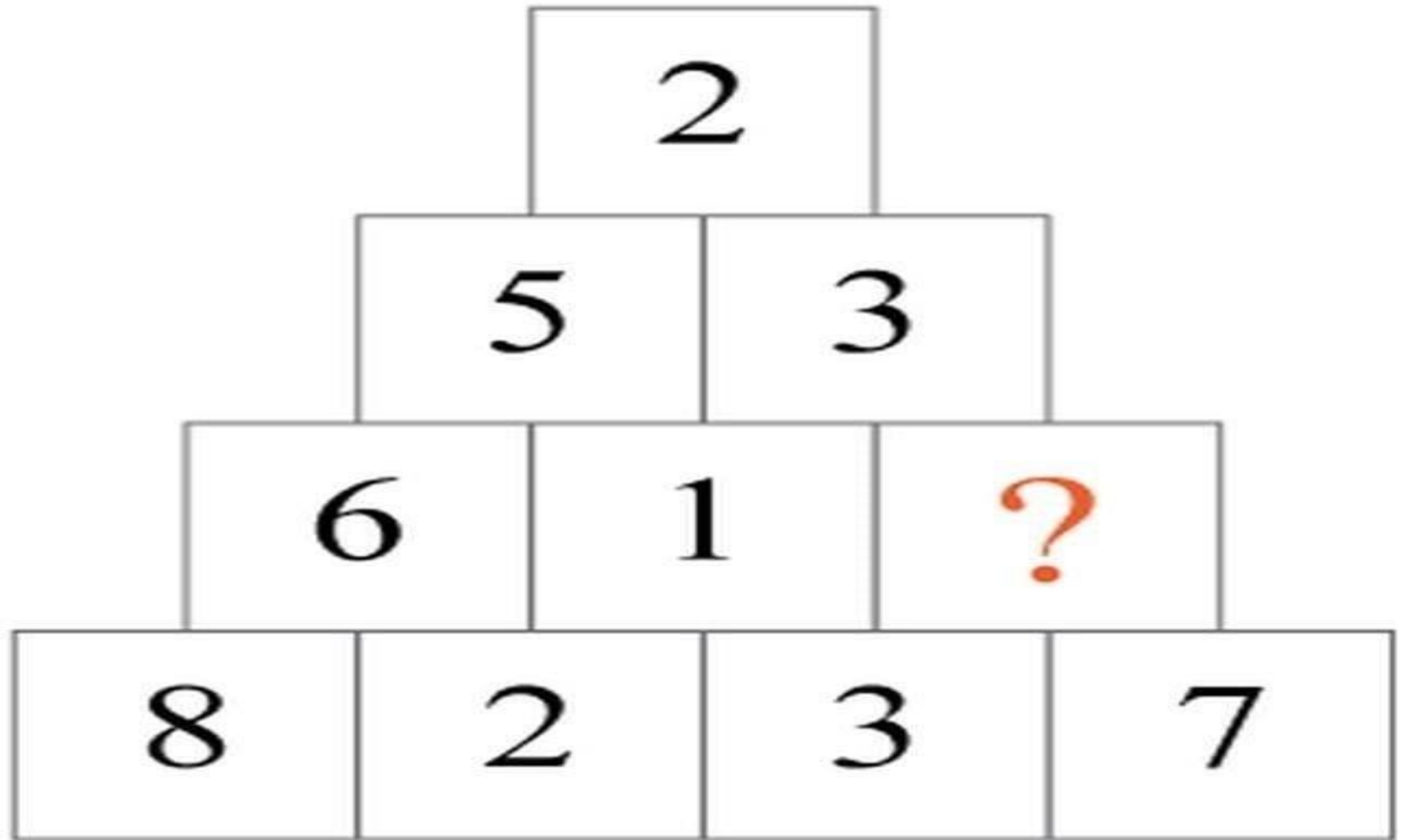
+







=



?










 +  = 12

 +  = 17

 +  = 13

 +  +  = ?





$$+ + + = 60$$


$$+ + = 30$$


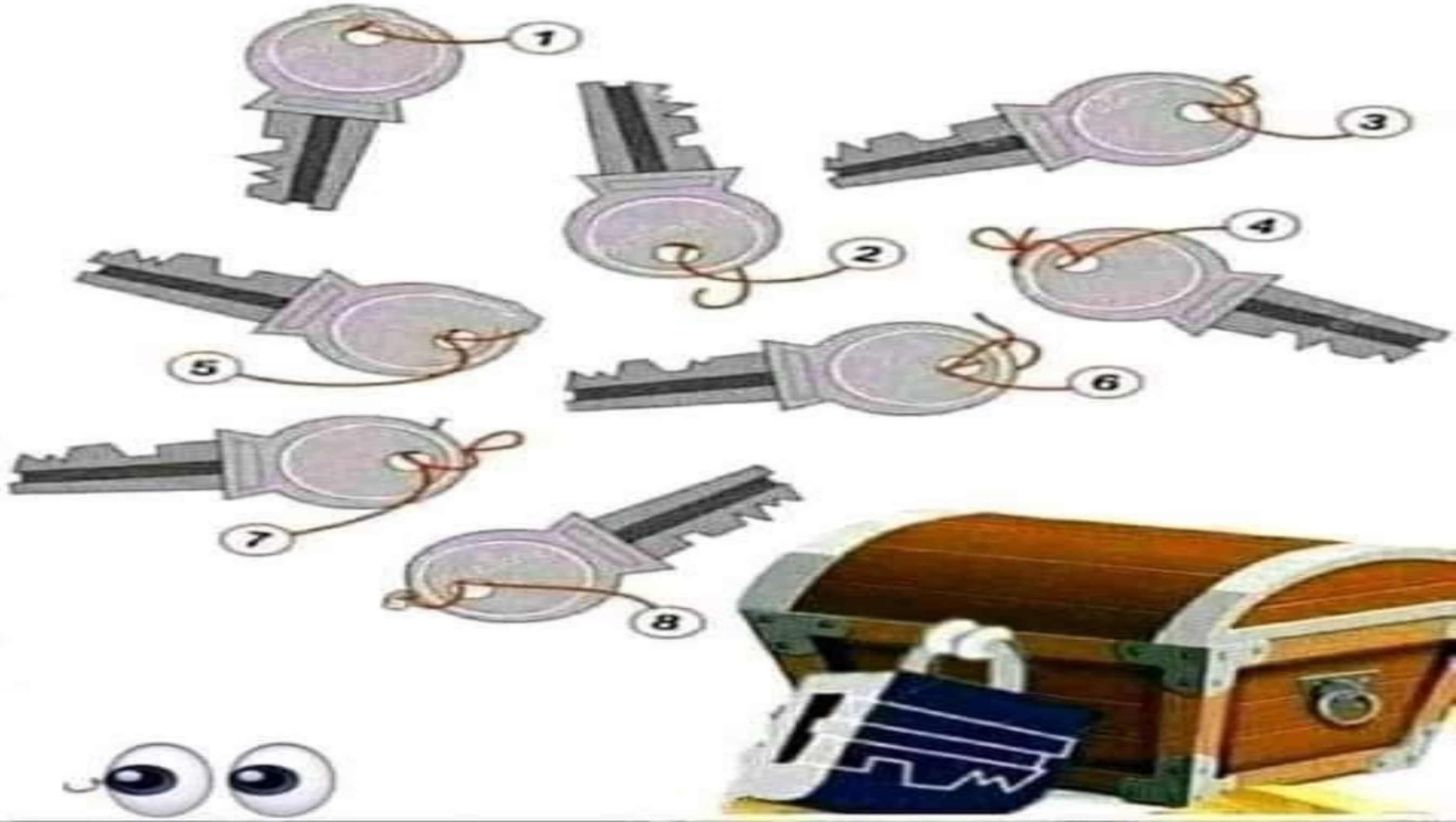

$$+ = 9$$


$$+ + = 42$$




$$+ \times = ?$$



ركز جيداً .. أي مفتاح يفتح الصندوق ، 😞❖



يوجد في هذا الحقل سبع خراف
المطلوب: عزل كل خروف لوحده
برسم ثلاثة خطوط مستقيمة!



ابحث مع الشرطة !!



ابحث مع الشرطة عن اللص إذا علمت أن له :

١ - وجهها مريغاً .


٢ - شعرا أسودنا عفا .


٣ - أذنين كبيرتين .

٤ - حاجبين على خط مستقيم .

٥ - عينين واسعتين .

الدرجة ٦ الوقت دقيقة واحدة





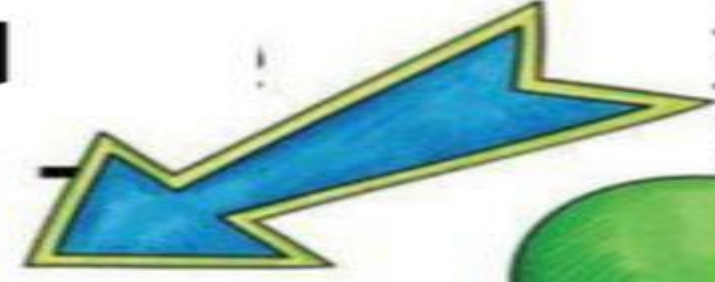
تعزير القيم
والسلوك الايجابي

اسمي الكامل:



عدد افراد
عائلي:

صورة لي



تاريخ ميلادي:




انا أفضل:

اللون:




طعامي
المفضل:



كتابي المفضل:



حيوان:



التاريخ

1	2	3
4	5	6
7	8	9
0	1	2

الفصول



الخريف
الصيف
الربيع
الشتاء

الطقس



تلع
رعد
رياح
ممطر
غائم
مشمس

السنة

1442
1443
1444

الأشهر

شوال	رجب	ربيع الثاني	محرم
ذي الحجة	شعبان	جمادى الأولى	صفر
ذي القعدة	رمضان	جمادى الثانية	ربيع الأول

التقويم الهجري الأول لـ :

التاريخ

اليوم

السنة

الشهر

الفصل

الطقس

شعوري اليوم :


الطقس

أيام الأسبوع


الإثنين
الثلاثاء
الأربعاء
الخميس
الجمعة
السبت
الأحد

شعوري


متعبة
متحمسة
سعيدة
خائفة
غاضبة
حزينة



قصص
مصورة





قصص
مصورة





قصص
مصورة

الهدايا



قصة
مصورة





قصص
مصورة

أدم عليه السلام



قصة
لطفك





قصص
مصورة

عيسى عليه السلام



قصة
لطفلك




قصص
مصورة


إسماعيل عليه السلام




قصة
لطفلك



قصص
مصورة





قناة عين التعليمية

(مسلسل فواز ونورة)

