

الأستاذ

محمد عبد الصبور

# الدراسات الاجتماعية

2026

## المراجعة النهائية

الصف السادس الابتدائي

الفصل الدراسي الأول

إعداد/ محمد عبد الصبور

6

# المراجعة النهائية

## مراجعة الوحدة الأولى

س ١ أكمل ما يلي:

- ١ يحد الوطن العربي من الغرب .....
- ٢ تعد دولة سوريا من دول الجناح .....
- ٣ الدولة العربية التي يمر بها خط جرينتش هي دولة .....
- ٤ يحد الوطن العربي من ناحية الشمال البحر .....
- ٥ أصغر دول الوطن العربي من حيث المساحة هي .....
- ٦ يربط مضيق هرمز بين ..... و .....
- ٧ توجد النسبة الأكبر من مساحة الوطن العربي في الجناح .....
- ٨ يحد الوطن العربي من الشرق جبال كردستان وجبال .....
- ٩ يمر خط الاستواء في الوطن العربي عبر دولة .....
- ١٠ ممر مائي يربط بين البحر الأحمر والبحر المتوسط هو .....
- ١١ تمتد جبال أطلس في دولة .....
- ١٢ أكبر هضاب الوطن العربي من حيث المساحة هضبة .....
- ١٣ ساعد تنوع مظاهر السطح في الوطن العربي على تنوع .....
- ١٤ تتميز السهول الساحلية للبحر الأحمر والخليج العربي بـ .....
- ١٥ العوامل الداخلية لتشكيل سطح الأرض .....
- ١٦ تمتد سلاسل جبال الحجاز في الجناح .....
- ١٧ نشأت جبال أطلس في الوطن العربي نتيجة الحركات ..... التي تعرضت لها الأرض.
- ١٨ من الجبال الانكسارية في الوطن العربي .....
- ١٩ توجد واحة عين صالح في دولة .....
- ٢٠ تكونت الكثبان الرملية في الوطن العربي نتيجة التعرية .....
- ٢١ تعد سهول دجلة والفرات من السهول .....
- ٢٢ ساعد نهر ..... على قيام الزراعة في مصر والسودان.
- ٢٣ العوامل المؤثرة في مناخ الوطن العربي .....

- ٢٤ تسود الأعشاب في الوطن العربي بالإقليم .....
- ٢٥ تنمو بالإقليم المداري في الوطن العربي حشائش .....
- ٢٦ تنمو الغابات المعتدلة بإقليم البحر المتوسط فوق .....
- ٢٧ يحدث تلوث الهواء بالوطن العربي بسبب حرق .....
- ٢٨ تسقط الأمطار في إقليم البحر المتوسط خلال فصل .....
- ٢٩ إحدى طرق مواجهة تلوث الهواء الاعتماد على الطاقة .....
- ٣٠ قام المصريون القدماء بإنشاء مخزات للسيول لحماية المعابد و .....

س ٢ ضع علامة (✓) أمام العبارة الصحيحة، وعلامة (X) أمام العبارة غير الصحيحة:

- ١ يمتد الوطن العربي بين قارتي آسيا وأوروبا. ( )
- ٢ يفصل البحر الأحمر بين جناحي وطننا العربي. ( )
- ٣ يقع الوطن العربي وسط قارات العالم القديم. ( )
- ٤ العراق من دول الجناح العربي الإفريقي. ( )
- ٥ يفصل بين جناحي الوطن العربي البحر الأحمر. ( )
- ٦ تعد كل من فلسطين والأردن من دول الجناح العربي الإفريقي. ( )
- ٧ تعد الجزائر الدولة العربية الوحيدة التي يقطعها خط جرينتش. ( )
- ٨ تقع دولة جزر القمر في المحيط الهندي. ( )
- ٩ من الأماكن الدينية المقدسة بالسعودية المسجد الأقصى. ( )
- ١٠ ترجع الأهمية الحضارية للوطن العربي إلى موقعه الإستراتيجي. ( )
- ١١ يربط مضيق جبل طارق بين المحيط الأطلنطي والبحر المتوسط. ( )
- ١٢ الموقع الجغرافي المميز للوطن العربي جعله مطمعاً للمحتلين عبر العصور. ( )
- ١٣ توجد سهول فيضية في العراق ومصر. ( )
- ١٤ تقع جبال أطلس في شبه الجزيرة العربية. ( )
- ١٥ نهر النيل من السهول الخصبة في الوطن العربي. ( )
- ١٦ جبال البحر الأحمر من الجبال الالتوائية في وطننا العربي. ( )
- ١٧ تشكلت مظاهر السطح في الوطن العربي بفعل عوامل باطنية وأخرى سطحية. ( )
- ١٨ أكبر هضاب الوطن العربي تقع في الجناح الإفريقي. ( )
- ١٩ يسود المناخ المداري معظم أراضي الوطن العربي. ( )

- ( ) ٢٠ أحد العوامل المؤثرة في المناخ الموقع الفلكي.
- ( ) ٢١ يؤدي التنوع المناخي إلى تنوع النبات الطبيعي.
- ( ) ٢٢ تمتد جبال البحر الأحمر في كل من مصر والسودان.
- ( ) ٢٣ تقع هضبة نجد في جنوب شبه الجزيرة العربية.
- ( ) ٢٤ من أمثلة الكثبان الرملية بحر الرمال العظيم بين مصر والجزائر.
- ( ) ٢٥ تتكون جبال أطلس من عدة سلاسل جبلية تمتد في ثلاث دول عربية.
- ( ) ٢٦ جبال زاجروس وعمان من الجبال الالتوائية في الوطن العربي.
- ( ) ٢٧ تمتد هضبة إفريقيا الشمالية من البحر الأحمر إلى المحيط الأطلسي.
- ( ) ٢٨ تنتشر الواحات في المناطق الساحلية في الوطن العربي.
- ( ) ٢٩ سهول البحر المتوسط صالحة للزراعة وتتميز بتربة خصبة.
- ( ) ٣٠ تنوع مظاهر السطح في الوطن العربي ساعد على تنوع الأنشطة الاقتصادية.
- ( ) ٣١ من أهم أشجار الغابات المعتدلة الزيتون والأرز. الأستاذ
- ( ) ٣٢ تتأثر كمية المطر باتجاه الكتل الجبلية.
- ( ) ٣٣ تنمو النباتات الشوكية في المناطق نادرة المطر.
- ( ) ٣٤ تنمو أشجار السنط بالوطن العربي في الغابات المدارية.
- ( ) ٣٥ تسقط الأمطار صيفاً على الأطراف الشمالية للوطن العربي.
- ( ) ٣٦ تؤدي السيول إلى إتلاف المحاصيل الزراعية.
- ( ) ٣٧ من أسباب التصحر في الوطن العربي الرعي الجائر للحيوانات.
- ( ) ٣٨ تتميز المناطق البعيدة عن المسطحات المائية باعتدال المناخ طوال العام.
- ( ) ٣٩ تغطي الثلوج بعض قمم الجبال المرتفعة في الوطن العربي.
- ( ) ٤٠ يتميز إقليم البحر المتوسط باعتدال الحرارة صيفاً وغازرة الأمطار شتاءً.
- ( ) ٤١ تنمو أشجار الزيتون والأرز في إقليم البحر المتوسط؛ بسبب وفرة الأمطار.
- ( ) ٤٢ تختلف أنواع النباتات في الإقليم الصحراوي حسب كمية المطر.
- ( ) ٤٣ تنوع مناخ الوطن العربي أدى إلى تشابه المحاصيل الزراعية.
- ( ) ٤٤ التوسع العمراني ساعد على حدوث مشكلة التصحر بالوطن العربي.
- ( ) ٤٥ ترشيد استهلاك المياه وإعادة تدويرها من أهم طرق مواجهة مشكلة الجفاف.

- ١ تقع دولة جزر القمر في المحيط .....  
(الهادي - القطبي الشمالي - الهندي - الأطلنطي)
- ٢ أكبر الدول العربية من حيث المساحة ..... (البحرين - السعودية - السودان - الجزائر)
- ٣ يحد الوطن العربي من ناحية الغرب المحيط .....  
(الأطلنطي - الهادي - الهندي - القطبي الجنوبي)
- ٤ يصل مضيق باب المنذب بين البحر الأحمر وخليج ..... (عمان - عدن - العقبة - السويس)
- ٥ تشرف دولة عُمان على مضيق ..... (هرمز - باب المنذب - جبل طارق - البسفور)
- ٦ تطل دولة المغرب على مضيق ..... (جبل طارق - هرمز - باب المنذب - البسفور)
- ٧ الدولة العربية الوحيدة التي تقع خارج النطاق الفلكي للوطن العربي هي .....  
(جزر القمر - جيبوتي - لبنان - موريتانيا)
- ٨ مسطح مائي يفصل بين جناحي الوطن العربي هو .....  
(بحر العرب - الخليج العربي - البحر الأحمر - البحر المتوسط)
- ٩ يساعد تنوع الموارد الطبيعية في الوطن العربي على .....  
(تقلص المساحة - تنوع الإنتاج - قلة السكان - نقص التجارة)
- ١٠ إحدى الحضارات التي نشأت على أراضي الوطن العربي هي الحضارة .....  
(الرومانية - اليونانية - العراقية - الهندية)
- ١١ أعلى قمة في جبال أطلس جبل ..... (توبقال - سانت كاترين - علبة - شايب البنات)
- ١٢ تمتد هضبة إفريقيا الشمالية من البحر المتوسط شمالاً إلى ..... جنوباً.  
(وسط إفريقيا - شرق إفريقيا - جنوب إفريقيا - غرب إفريقيا)
- ١٣ يوجد بحر الرمال العظيم بين دولتي .....  
(سوريا ولبنان - العراق والأردن - مصر وليبيا - المغرب والجزائر)
- ١٤ تقع واحة عين صالح في دولة ..... (مصر - ليبيا - المغرب - الجزائر)
- ١٥ أحد الجبال الانكسارية في الوطن العربي جبال .....  
(الحجاز - عمان - زاجروس - أطلس)
- ١٦ تمتد جبال أطلس في دول تونس والجزائر و ..... (مصر - السودان - ليبيا - المغرب)

- ١٧ تتعدد الهضاب التي تقع في الجناح العربي الآسيوي ومنها .....
- (بادية الشام - إفريقيا الشمالية - هضبة الشطوط - الجلف الكبير)
- ١٨ تتميز السهول الساحلية على البحر الأحمر بوجود .....
- (التربة الطينية - الأنهار العذبة - الغابات المطيرة - الثروات المعدنية)
- ١٩ تقع هضبة نجد في .....
- (وسط شبه الجزيرة العربية - وسط هضبة إفريقيا الشمالية - غرب العراق - شرق ليبيا)
- ٢٠ من أشجار الغابات المدارية .....
- (الزيتون - الأرز - البلوط - السنط)
- ٢١ أي مما يلي يعد من العوامل المؤثرة في مناخ الوطن العربي؟ .....
- (عدد السكان - الموقع الفلكي - نوع التربة - خطوط الطول)
- ٢٢ يمتد إقليم البحر المتوسط في .....
- (شمال الوطن العربي - وسط إفريقيا - جنوب الوطن العربي - منطقة الخليج)
- ٢٣ تعيش الزراف والنمور في مناطق .....
- (الصحاري - الإستبس - السافانا - الواحات)
- ٢٤ إحدى المشكلات البيئية التي يواجهها الوطن العربي .....
- (الأمية - الجفاف - كثافة الغابات - كثرة الثلوج)
- ٢٥ أي مما يلي يُعد سبباً لحدوث التصحر في الوطن العربي؟ .....
- (زراعة الأشجار - حفر الآبار - غزارة الأمطار - الرعي الجائر)
- ٢٦ يمكن مواجهة تلوث الهواء من خلال الاعتماد على .....
- (الأسمدة الكيميائية - الطاقة المتجددة - الوقود الأحفوري - الري بالرش)
- ٢٧ أي من التالي يعد من أسباب حدوث تلوث الهواء؟ .....
- (تناقص الأمطار - قطع الأشجار - التوسع العمراني - حرق النفايات)
- ٢٨ زحف الرمال من أسباب حدوث مشكلة .....
- (التصحر - خصوبة التربة - الجفاف - نقص المياه)

#### س ٤ اكتب ما تشير إليه كل عبارة من العبارات الآتية:

- ١ الدولة العربية الوحيدة التي تقع خارج النطاق الفلكي للوطن العربي. (.....)
- ٢ أكبر هضاب الوطن العربي من حيث المساحة. (.....)
- ٣ جبال نشأت نتيجة الحركات الالتوائية التي تعرضت لها. (.....)

- ٤ جبال نشأت نتيجة الحركات الانكسارية في القشرة الأرضية. (.....)
- ٥ نحت الصخور ونقلها وترسيبها بواسطة المياه. (.....)
- ٦ نحت الصخور ونقلها وترسيبها بواسطة الرياح. (.....)
- ٧ تجمعات من الرمال الخفيفة تكونت بفعل التعرية الهوائية. (.....)
- ٨ أرض منخفضة تقع وسط الصحراء، تتم زراعتها باستخدام المياه الجوفية. (.....)
- ٩ أودية تكونت بفعل التعرية المائية وتستخدم كطرق للمواصلات. (.....)
- ١٠ مساحة من الأرض لها نفس الخصائص المناخية من حيث الحرارة والمطر. (.....)
- ١١ غابات تنمو في الأجزاء الشمالية من الوطن العربي. (.....)
- ١٢ نقص كمية الأمطار خلال فترة زمنية محددة. (.....)
- ١٣ تناقص قدرة الأراضي الزراعية على الإنتاج. (.....)
- ١٤ الدولة التي أطلقت مبادرة زراعة ٤٥٠ مليون شجرة. (.....)
- ١٥ الدولة التي أطلقت مبادرة زراعة ١٠٠ مليون شجرة مثمرة. (.....)

س ٥ صوّب ما تحته خط فيما يلي:

- ١ يحد الوطن العربي من جهة الشمال البحر المتوسط وجبال زاجروس. (.....)
- ٢ يحد الوطن العربي غرباً المحيط الهندي. (.....)
- ٣ تمتلك دولة السودان سواحل مطلة على البحر المتوسط. (.....)
- ٤ يستخرج الصمغ العربي من أشجار الزيتون. (.....)
- ٥ تزدهر حشائش الإستبس في إقليم البحر المتوسط خلال فصل الربيع. (.....)
- ٦ تربي الأغنام والماعز على حشائش السافانا. (.....)
- ٧ يقع الإقليم الصحراوي بين إقليم البحر المتوسط والإقليم الاستوائي. (.....)
- ٨ إنشاء مدينة نيوم الخضراء هو أحد الجهود للحفاظ على البيئة في دولة البحرين. (.....)

١ الأهمية الإستراتيجية لموقع الوطن العربي.

٢ الأهمية الحضارية للوطن العربي.

٣ الأهمية الدينية للوطن العربي.

٤ تحكم الوطن العربي في طرق التجارة العالمية.

٥ تنوع الإنتاج وزيادة النشاط الاقتصادي للوطن العربي.

٦ أهمية الوطن العربي الاقتصادية. سلسلة كتب الأستاذ

٧ تنوع مظاهر السطح في الوطن العربي.

٨ تغطي الثلوج بعض القمم العالية مثل جبال لبنان.

٩ تكون جبال البحر الأحمر بالوطن العربي.

١٠ أهمية الأودية الجافة في الوطن العربي.

١١ قيام الزراعة في الواحات بالوطن العربي.

١٢ تركز سكان الوطن العربي في مناطق السهول الفيضية.

١٣ تتدرج حشائش السافانا في الطول.

١٤ تنمو الغابات المعتدلة فوق المنحدرات الجبلية.

١٥ تعتبر حشائش السافانا حديقة حيوان طبيعية.

١٦ أهمية حشائش الإستبس في الوطن العربي.

١٧ تعاني معظم الدول العربية من ندرة المياه العذبة.

١٨ حدوث ظاهرة التصحر في الوطن العربي.

١٩ يواجه الوطن العربي العديد من المشكلات البيئية.

٢٠ تلوث الهواء في الوطن العربي.

٢١ إطلاق مصر مبادرة زراعة ١٠٠ مليون شجرة مثمرة.

٢٢ إطلاق السعودية مبادرة ٤٥٠ مليون شجرة في الدول العربية.

٢٣ قيام المصريين القدماء بإنشاء مخزات للسيول.

س ٧ ما النتائج المترتبة على...؟

١ الموقع الجغرافي المتميز للوطن العربي.

٢ تحكم الوطن العربي في ممرات مائية مهمة.

٣ اتساع مساحة الوطن العربي وتنوع موارده الطبيعية.

٤ الموقع الفلكي للوطن العربي.

٥ تنوع التضاريس في الوطن العربي.

٦ وجود السهول الساحلية في الوطن العربي.

٧ حدوث الحركات الانكسارية بالوطن العربي.

٨ حدوث الحركات الالتوائية بالوطن العربي.

٩ وجود مياه جوفية في واحات الوطن العربي.

١٠ تنوع المناخ في الوطن العربي.

١١ غزارة الأمطار فوق المنحدرات الجبلية بإقليم البحر المتوسط.

١٢ اختلاف كمية المطر في الإقليم الصحراوي.

١٣ استخدام طرق الري التقليدية في الزراعة. اسلة كتب الأستاذ

١٤ حدوث التغيرات المناخية بالوطن العربي.

١٥ تعرض كثير من الدول العربية لخطر الجفاف.

١٦ حدوث السيول في المناطق الزراعية.

س ٨ دَلِّ على صحة كل عبارة من العبارات الآتية:

١ تتميز شبه الجزيرة العربية بتعدد الهضاب بها.

٢ تتميز السهول الساحلية في الوطن العربي بتنوع الموارد والاستخدامات.

٣ تؤثر التعرية الهوائية على سطح الوطن العربي.

٤ لأشجار الغابات المدارية بالوطن العربي أهمية اقتصادية كبرى.

٥ اختلاف النبات الطبيعي في الإقليم الصحراوي بالوطن العربي.

٦ تعد حشائش السافانا بالوطن العربي حديقة حيوان طبيعية.

٧ جهود بعض الدول العربية لزيادة المساحات الخضراء.

٨ أثرت الحركات الانكسارية على مظاهر سطح الوطن العربي.

٩ تحدث المشكلات البيئية لأسباب طبيعية وأخرى بشرية.

١٠ يمكن استخدام التكنولوجيا الحديثة في مواجهة السيول.

س ٩ ماذا يحدث إذا...؟

١ لم يكن للوطن العربي موقع جغرافي متميز.

٢ لم تنتوع مظاهر السطح في الوطن العربي.

٣ لم يؤثر المناخ على نوعية النباتات.

٤ لم توجد سهول فيضية في الوطن العربي.

٥ لم يتعرض الوطن العربي لحركات التوائية.

٦ سقطت أمطار قليلة على منحدرات جبال أطلس.

٧ اختفت الأنهار من الوطن العربي.

### س ١٠ ما العلاقة بين...؟

١ الموقع الفلكي والمناخ في الوطن العربي.

٢ المناخ والنبات الطبيعي.

٣ الهضاب والجبال في تشكيل سطح الوطن العربي.

٤ الكتل الجبلية والمطر.

٥ المياه الجوفية والواحات.

٦ المسطحات المائية ومناخ الوطن العربي.

٧ المطر والنبات الصحراوي.

٨ الأنهار والسهول الفيضية.

٩ التضاريس والأنشطة الاقتصادية في الوطن العربي.

١٠ نهر النيل والسهول الفيضية.

١١ مبادرات زراعة الأشجار ومواجهة التغير المناخي.

س ١١ ما المقصود بكل من...؟

١ التعرية المائية

٢ الإقليم المناخي

٣ التصحر

٤ السيول

٥ الوطن العربي

٦ التعرية الهوائية

٧ الأودية الجافة

٨ الجفاف

س ١٢ إلى أي الأقاليم المناخية تنتمي النباتات الطبيعية والحيوانات الآتية؟

٢ الزيتون

٤ الإبل

٦ السافانا

٨ الغزلان

١ الأفيال

٣ السنط

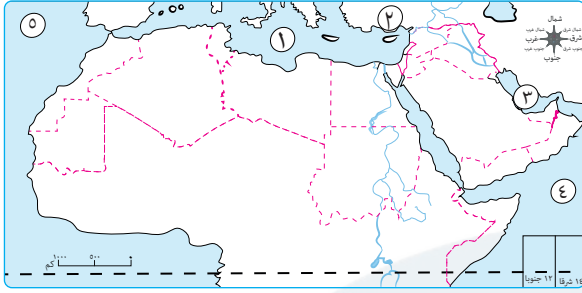
٥ الزراف

٧ الأغنام

٩ الإستبس

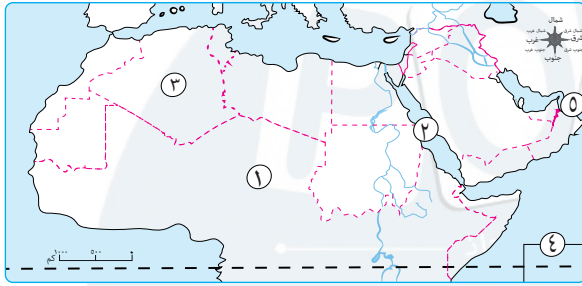
س ١٣ أمامك خريطة صماء للوطن العربي، اكتب مدلول الأرقام عليها:

● (خريطة رقم ١)



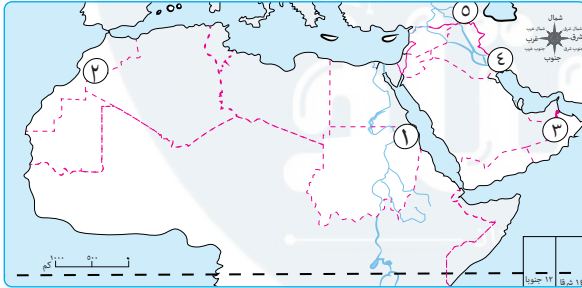
- ١ البحر .....
- ٢ جبال .....
- ٣ الخليج .....
- ٤ المحيط .....
- ٥ المحيط .....

● (خريطة رقم ٢)



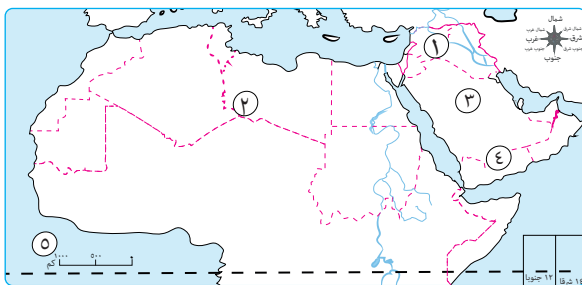
- ١ الصحراء .....
- ٢ البحر .....
- ٣ أكبر دول الوطن العربي .....
- ٤ أصغر دول الوطن العربي .....
- ٥ خليج .....

● (خريطة رقم ٣)



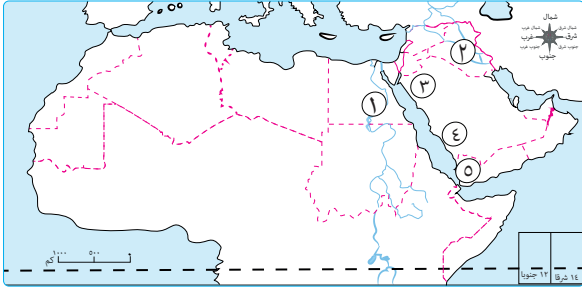
- ١ جبال .....
- ٢ جبال .....
- ٣ جبال .....
- ٤ جبال .....
- ٥ جبال .....

● (خريطة رقم ٤)



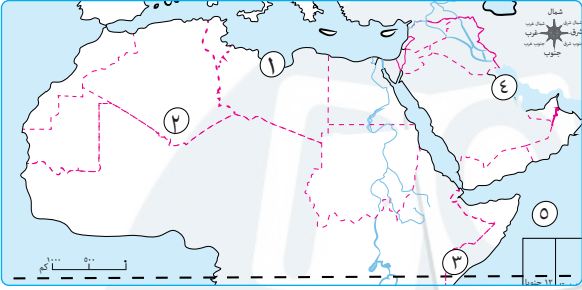
- ١ هضبة .....
- ٢ هضبة .....
- ٣ هضبة .....
- ٤ هضبة .....
- ٥ المحيط .....

● (خريطة رقم ٥)



- ١ نهر .....
- ٢ نهرا .....
- ٣ جبال .....
- ٤ جبال .....
- ٥ جبال .....

● (خريطة رقم ٦)



- ١ إقليم مناخي .....
- ٢ إقليم مناخي .....
- ٣ إقليم مناخي .....
- ٤ الخليج .....
- ٥ المحيط .....

مراجعة الوحدة الثانية

س ١ أكمل ما يلي:

- ١ عمل الرسول (ﷺ) وهو في بيت عمه بحرفة .....
- ٢ كانت من أشهر القبائل قبل الإسلام وقامت برفض الدعوة الإسلامية قبيلة .....
- ٣ كانت الأسواق مكاناً لتنافس الشعراء والخطباء مثل سوق ..... و .....
- ٤ من العادات الحسنة في شبه الجزيرة العربية قبل الإسلام .....
- ٥ أكثر الحرف انتشاراً عند العرب قبل الإسلام هي .....
- ٦ كانت سوق عُكاظ قبل الإسلام مركزاً لتنافس الشعراء و .....
- ٧ انتقل النبي (ﷺ) بعد وفاة والديه ليعيش في رعاية .....
- ٨ لقب النبي محمد (ﷺ) قبل البعثة في قومه بـ .....
- ٩ أول من آمن من النساء بدعوة النبي محمد (ﷺ) هي السيدة .....
- ١٠ تلقى المسلمون الأوائل تعاليم الإسلام سرّاً في دار .....
- ١١ هاجر المسلمون لأول مرة بأمر الرسول (ﷺ) إلى .....
- ١٢ احتفى النبي (ﷺ) أثناء الهجرة في غار .....

- ١٣ نزل سيدنا جبريل (عليه السلام) على النبي (ﷺ) في إحدى ليالي شهر .....
- ١٤ عرف العام الذي ولد فيه النبي (ﷺ) باسم عام .....
- ١٥ أشهر المدن التجارية بشبه الجزيرة العربية .....
- ١٦ ثاني الغزوات التي خاضها المسلمون ضد قريش هي غزوة .....
- ١٧ هاجر الرسول (ﷺ) إلى يثرب وأخى بين ..... و .....
- ١٨ بدأت مرحلة عالمية الدعوة بعد .....
- ١٩ أول أسس بناء الدولة الإسلامية في يثرب .....
- ٢٠ انتظمت العلاقات بين المسلمين وغيرهم في المدينة بعد وضع .....
- ٢١ أخذ النبي (ﷺ) بمشورة الحباب بن المنذر في غزوة .....
- ٢٢ تحول نصر المسلمين إلى هزيمة في غزوة .....
- ٢٣ اتفق المسلمون وقريش على هدنة مؤقتة في صلح .....
- ٢٤ اجتمع زعماء قريش ليتآمروا على قتل النبي (ﷺ) في دار .....
- ٢٥ نقضت قريش صلح الحديبية باعتدائها على قبيلة .....
- ٢٦ أول خليفة للمسلمين بعد وفاة النبي (ﷺ) هو .....
- ٢٧ أرسل جيش أسامة بن زيد إلى بلاد الشام لتأمين حدود الدولة الإسلامية مع .....
- ٢٨ أنشأ الخليفة عمر بن الخطاب له الدواوين مثل ديوان ..... وديوان .....
- ٢٩ شارك عثمان بن عفان مع النبي (ﷺ) في جميع الغزوات ما عدا غزوة .....
- ٣٠ من أعمال الخليفة عمر بن الخطاب إنشاء التقويم .....
- ٣١ أسس عثمان بن عفان أول أسطول بحري إسلامي لحماية السواحل من خطر .....
- ٣٢ بعد وفاة النبي (ﷺ) اجتمع الصحابة في .....
- ٣٣ عاصمة الدولة الإسلامية هي ..... في خلافة علي بن أبي طالب.
- ٣٤ الخليفة الذي أمر بنسخ القرآن الكريم في مصحف واحد هو .....
- ٣٥ أنشأ الخليفة عمر بن الخطاب في العراق مدينة .....
- ٣٦ أنشأ معاوية بن أبي سفيان لنشر الإسلام في شمال إفريقيا مدينة .....
- ٣٧ تميز العصر الأول للدولة العباسية بقوة الخلفاء وازدهار العلوم والثقافة لذلك عرف بـ .....
- ٣٨ أنشأ هارون الرشيد لنسخ الكتب وبيعها سوق .....
- ٣٩ نقل أبو العباس عبد الله العاصم إلى مدينة .....

- ٤٠ مكتبة بيت الحكمة وسوق الوراقين في بغداد أسسها الخليفة .....
- ٤١ أسس أبو جعفر المنصور في العراق مدينة .....
- ٤٢ قام الوليد بن عبد الملك بتوسيع .....
- ٤٣ بدأ اتخاذ الكوفة مقرًا للخلافة الإسلامية في عهد الخليفة .....
- ٤٤ قام الخليفة ..... بإنشاء أول مرصد فلكي في بغداد.
- ٤٥ تم تشييد المسجد الأموي بدمشق في عهد الخليفة .....

س ٢ ضع علامة (✓) أمام العبارة الصحيحة، وعلامة (X) أمام العبارة غير الصحيحة:

- ١ ساد النظام الملكي في شبه الجزيرة العربية قبل الإسلام. ( )
- ٢ تزوج الرسول (ﷺ) من السيدة خديجة وأنجب منها ستة من الأبناء. ( )
- ٣ اجتمع زعماء قريش في دار الحكمة لمنع النبي (ﷺ) من الهجرة. ( )
- ٤ عاش النبي مع أمه آمنة بنت وهب حتى بلغ الثامنة من عمره. ( )
- ٥ عمل النبي (ﷺ) راعياً للأغنام وهو في بيت عمه. ( )
- ٦ هجرة المسلمين الأولى كانت إلى الحبشة. ( )
- ٧ من الأسواق في شبه الجزيرة العربية قبل الإسلام سوق عكاظ. ( )
- ٨ تميز العرب بصناعة السيوف والرماح والأواني الفخارية. ( )
- ٩ جمعت الأسواق العربية القديمة بين النشاط الصناعي والثقافي. ( )
- ١٠ عرف العرب قبل ظهور الإسلام بالعديد من الصفات السيئة منها الكرم والشجاعة. ( )
- ١١ بدأ النبي (ﷺ) بدعوة أهل بيته وأصحابه المقربين إلى الإسلام سرًا. ( )
- ١٢ تضاعف أذى قريش للنبي (ﷺ) وأصحابه بعد إعلان الدعوة الإسلامية. ( )
- ١٣ دخلت السيدة خديجة وأبو بكر الصديق في الإسلام في مراحلهم الأولى. ( )
- ١٤ خروج الجيش للقتال بقيادة النبي (ﷺ) يعرف بالسرية. ( )
- ١٥ هزم المسلمون في غزوة بدر بسبب قلة عددهم. ( )
- ١٦ الدولة الإسلامية بدأت بعد وفاة النبي (ﷺ). ( )
- ١٧ اقتصر دور المسجد في عهد الرسول (ﷺ) على العبادة. ( )
- ١٨ خطط النبي (ﷺ) بدقة لهجرته من مكة إلى يثرب. ( )
- ١٩ كانت هجرة المسلمين الأولى إلى يثرب. ( )

- ٢٠ يُعد المسجد أول مؤسسة أقامها النبي محمد (ﷺ) في يثرب. ( )
- ٢١ نظمت صحيفة المدينة العلاقات بين المسلمين وغير المسلمين. ( )
- ٢٢ تأسس الجيش الإسلامي لحماية الدولة وتأمين حدودها. ( )
- ٢٣ تحقق نصر المسلمين في غزوة بدر رغم تفوق جيش قريش في العدد. ( )
- ٢٤ أدت مخالفة أمر النبي (ﷺ) في غزوة أحد إلى تحول النصر إلى هزيمة. ( )
- ٢٥ قام عثمان بن عفان بإرسال جيش أسامة بن زيد إلى بلاد الشام. ( )
- ٢٦ أسلم الخليفة عثمان بن عفان على يد عمر بن الخطاب. ( )
- ٢٧ شارك علي بن أبي طالب مع النبي (ﷺ) جميع الغزوات عدا غزوة تبوك. ( )
- ٢٨ أبو بكر الصديق هو أول من جمع القرآن الكريم. ( )
- ٢٩ الخلفاء الراشدون عددهم أربعة. ( )
- ٣٠ فتحت الشام على يد سعد بن أبي وقاص في خلافة عمر بن الخطاب. ( )
- ٣١ عمر بن الخطاب كان أول من أدخل الدواوين إلى الدولة الإسلامية. ( )
- ٣٢ تم اختيار أبي بكر الصديق للخلافة بعد تشاور الصحابة في سقيفة بني ساعدة. ( )
- ٣٣ انطلق جيش أسامة بن زيد بأمر من الخليفة أبي بكر لقتال الفرس. ( )
- ٣٤ أدت الفتنة التي أثارها عبد الله بن سبأ إلى استشهاد الخليفة عثمان بن عفان. ( )
- ٣٥ أصبحت الكوفة مقرًا للخلافة في عهد الخليفة علي بن أبي طالب. ( )
- ٣٦ تم إنشاء أول أسطول بحري إسلامي في عهد علي بن أبي طالب. ( )
- ٣٧ اتخذ معاوية بن أبي سفيان مدينة دمشق عاصمة للدولة الأموية. ( )
- ٣٨ شيد الوليد بن عبد الملك المسجد الأموي في دمشق. ( )
- ٣٩ قام معاوية بن أبي سفيان بتعريب الدواوين. ( )
- ٤٠ أقام هارون الرشيد علاقات قوية مع ملوك آسيا. ( )
- ٤١ نجح المعتصم بالله في فتح مدينة عمورية. ( )
- ٤٢ نشأت الدولة الأموية في المدينة. ( )
- ٤٣ العباسيون اهتموا بالفتوحات العسكرية فقط. ( )
- ٤٤ كانت بغداد هي عاصمة الدولة العباسية بداية من عصر أبي جعفر المنصور. ( )
- ٤٥ ظهر سك العملة الإسلامية لأول مرة في عهد عبد الملك بن مروان. ( )
- ٤٦ لقب عمر بن عبد العزيز بخامس الخلفاء الراشدين. ( )

- ٤٧ أنشئ سوق الوراقين في بغداد في عهد الخليفة المعتصم بالله. ( )
- ٤٨ اشتهر المأمون بن هارون بدعمه للعلماء. ( )
- ٤٩ سقطت الدولة العباسية عام ٦٥٦ هـ على يد المغول. ( )
- ٥٠ اهتم المعتصم بالله بالجيش واستعان بالجنود الأتراك. ( )

### س ٣ اختر الإجابة الصحيحة مما بين القوسين:

- ١ ولد الرسول (ﷺ) في ..... (يثرب - تبوك - مكة - الطائف)
- ٢ الغار الذي كان النبي (ﷺ) يتعبد فيه هو غار ..... (حراء - ثور - الكهف - الصفا)
- ٣ إحدى العادات الحسنة عند العرب قبل الإسلام ..... (وأد البنات - إكرام الضيف - الأخذ بالثأر - شرب الخمر)
- ٤ أشهر قبائل شبه الجزيرة العربية قبل الإسلام قبيلة ..... (خزاعة - بكر - قريش - تغلب)
- ٥ إحدى مراحل الدعوة واستمرت ثلاث سنوات هي الدعوة ..... (السرية - الجهرية - البناء - الفتح)
- ٦ من الصناعات التي اهتم بها العرب ..... (السيارات - السيوف - الدبابات - الطائرات)
- ٧ أكثر الحرف انتشارًا بين العرب قبل الإسلام حرفة ..... (الرعي - التجارة - الصناعة - الزراعة)
- ٨ اتجهت قبيلة قريش في رحلة الصيف إلى ..... (الشام - اليمن - المدينة - الحجاز)
- ٩ انتشرت بعض العادات السيئة عند العرب قبل الإسلام منها ..... (وأد البنات - شرب الخمر - لعب الميسر - جميع ما سبق)
- ١٠ اشتهرت بعض أسواق العرب القديمة بوجود الشعراء ومنها سوق ..... (عكاظ - المدينة - قريش - يثرب)
- ١١ أي من النساء التالية أسماؤها مكث النبي (ﷺ) في ديارها واكتسب منها فصاحة اللسان؟ ..... (آمنة بنت وهب - حليمة السعدية - خديجة بنت خويلد - أم سلمة)
- ١٢ أول من آمن بالنبي محمد (ﷺ) من الرجال ..... (عمر بن الخطاب - أبو بكر الصديق - سعد بن أبي وقاص - الزبير بن العوام)
- ١٣ أمر النبي (ﷺ) المسلمين بالهجرة إلى ..... لأن ملكها كان عادلاً. (يثرب - الحبشة - تبوك - الطائف)

- ١٤ هاجر النبي (ﷺ) إلى يثرب بصحبة .....
- (عمر بن الخطاب - زيد بن ثابت - أبي بكر الصديق - عبد الله بن مسعود)
- ١٥ منعت قريش الرسول وأصحابه في العام السادس الهجري من دخول .....
- (يثرب - الطائف - مكة - حنين)
- ١٦ الغزوة التي تحول فيها نصر المسلمين إلى هزيمة هي .....
- (بدر - الخندق - أحد - تبوك)
- ١٧ تمكن النبي (ﷺ) عام ٨ هـ من فتح .....
- (المدينة - مكة - الحديبية - الطائف)
- ١٨ تختلف السرايا عن الغزوات في .....
- (مدة القتال - نوع الأسلحة - مكان المعركة - قائد الجيش)
- ١٩ أحد أسس قيام الدولة الإسلامية في المدينة .....
- (فتح مكة - حفر الخندق - بناء المسجد - إنشاء قلعة)
- ٢٠ أول عمل قام به النبي (ﷺ) عند وصوله المدينة .....
- (إنشاء السوق - بناء المسجد - تجهيز الجيش - وضع الصحيفة)
- ٢١ وضع الرسول (ﷺ) صحيفة المدينة للمسلمين وغيرهم من أجل .....
- (تنظيم التجارة - حفظ الأمن - تنظيم العلاقات - تحديد الضرائب)
- ٢٢ أشار على النبي (ﷺ) بحفر الخندق الصحابي .....
- (الحابب بن المنذر - سلمان الفارسي - زيد بن ثابت - أسامة بن زيد)
- ٢٣ إحدى نتائج صلح الحديبية بين المسلمين وقريش .....
- (هزيمة المسلمين - بداية عالمية الدعوة - فتح المدينة - هزيمة قبيلة قريش)
- ٢٤ تم القضاء على حركة الردة في عهد الخليفة .....
- (أبي بكر الصديق - عمر بن الخطاب - عثمان بن عفان - علي بن أبي طالب)
- ٢٥ آخر الخلفاء الراشدين هو الخليفة .....
- (أبو بكر الصديق - عمر بن الخطاب - عثمان بن عفان - علي بن أبي طالب)
- ٢٦ جمع أبو بكر الصديق القرآن الكريم بعد استشهاد عدد كبير من حفظة القرآن في .....
- (غزوة حنين - فتح مكة - غزوة الخندق - حروب الردة)
- ٢٧ تم فتح مصر في عهد الخليفة .....
- (أبي بكر الصديق - عمر بن الخطاب - عثمان بن عفان - علي بن أبي طالب)

- ٢٨ أحد أهم أعمال الخليفة عثمان بن عفان.....
- (إنشاء الأسطول الإسلامي - نقل عاصمة الخلافة - التقويم الهجري - تنظيم الشرطة)
- ٢٩ غاب علي بن أبي طالب عن المشاركة مع النبي (ﷺ) في غزوة.....
- (بدر - أحد - الخندق - تبوك)
- ٣٠ كانت عاصمة الدولة الأموية مدينة.....
- (الأنبار - الكوفة - دمشق - بغداد)
- ٣١ ظهرت الدعوة العباسية على يد.....
- (أبي العباس عبد الله - أبي مسلم الخراساني - أبي جعفر المنصور - المعتصم بالله)
- ٣٢ أنشأ المأمون بن هارون أول مرصد فلكي في مدينة.....
- (بغداد - دمشق - القيروان - الأنبار)
- ٣٣ أحد أهم أعمال الخليفة عبد الملك بن مروان.....
- (بناء مدينة سامراء - بناء المسجد الأموي - نقط المصحف - نسخ الكتب)
- ٣٤ بنيت مدينة القيروان بشمال إفريقيا في عهد.....
- (معاوية بن أبي سفيان - الوليد بن عبد الملك - عمر بن عبد العزيز - عبد الملك بن مروان)
- ٣٥ أصبحت مدينة بغداد عاصمة الخلافة العباسية منذ عهد الخليفة.....
- (المأمون بن هارون - هارون الرشيد - أبي العباس - أبي جعفر المنصور)
- ٣٦ أسس هارون الرشيد في بغداد.....
- (بيت الحكمة - دارًا لسك العملة - مئذنة ملوية - مسجد قبة الصخرة)

#### س ٤ اكتب ما تشير إليه كل عبارة من العبارات الآتية:

- ١ جماعة من الناس ينتمون إلى أصل ونسب واحد ولهم عادات وتقاليد. (.....)
- ٢ نظام يتكون من قبائل متفرقة، ولكل قبيلة شيخ يحكمها. (.....)
- ٣ تعاليم صادرة من الله (ﷻ) إلى الأنبياء بواسطة جبريل (ﷺ). (.....)
- ٤ المسلمون الذين تركوا ديارهم وأموالهم في مكة وهاجروا إلى المدينة. (.....)
- ٥ خروج الجيش للقتال بقيادة النبي (ﷺ). (.....)
- ٦ هم الذين خلفوا الرسول (ﷺ) وساروا على نهجه. (.....)
- ٧ جماعة من الناس خرجوا عن الإسلام وادعى بعضهم النبوة. (.....)

## س ٥ صوّب ما تحته خط فيما يلي:

- ١ كان النظام **الجمهوري** هو السائد في شبه الجزيرة العربية قبل الإسلام. (.....)
- ٢ تعد حرفة **الصناعة** هي الأكثر انتشارًا في شبه الجزيرة العربية قبل الإسلام. (.....)
- ٣ نظم العرب رحلة الشتاء إلى بلاد **الشام**. (.....)
- ٤ من العادات **الحسنة** عند العرب قبل الإسلام هي وأد البنات والأخذ بالثأر. (.....)
- ٥ سمي العام الذي ولد فيه النبي (ﷺ) بعام **الجمل**. (.....)
- ٦ كانت مرحلة الدعوة **الجهرية** هي أولى مراحل الدعوة الإسلامية. (.....)
- ٧ أمر النبي (ﷺ) أصحابه بالهجرة الأولى إلى **يثرب** لأن بها ملكًا عادلًا. (.....)
- ٨ يعد **عمر بن الخطاب** هو صاحب النبي (ﷺ) في الهجرة. (.....)
- ٩ أول عمل قام به النبي (ﷺ) في المدينة هو **صحيفة المدينة**. (.....)
- ١٠ خروج الجيش للقتال بدون النبي (ﷺ) يسمى ذلك **غزوة**. (.....)
- ١١ انتصر المسلمون في **غزوة أحد** رغم قلة عددهم. (.....)
- ١٢ أشار **الحباب بن المنذر** بحفر خندق حول المدينة في غزوة الخندق. (.....)
- ١٣ كان من شروط صلح الحديبية وقف الحرب لمدة **خمس** سنوات. (.....)
- ١٤ أول الخلفاء الراشدين بعد النبي (ﷺ) هو **علي بن أبي طالب**. (.....)
- ١٥ أرسل أبو بكر الصديق الجيوش لقتال الفرس و**الهكسوس**. (.....)
- ١٦ أنشأ عمر بن الخطاب المدن الجديدة مثل **الكوفة** في مصر. (.....)
- ١٧ قام النعمان بن مقرن بفتح **العراق** في معركة فتح الفتوح. (.....)
- ١٨ أنشأ عثمان بن عفان أول أسطول بحري لحماية السواحل من **الفرس**. (.....)
- ١٩ استشهد علي بن أبي طالب على يد **أبي لؤلؤة المجوسي**. (.....)
- ٢٠ نقل علي بن أبي طالب الخلافة من المدينة إلى **دمشق**. (.....)
- ٢١ أنشأ معاوية بن أبي سفيان ديوان **الجند** لحماية الرسائل من التزوير. (.....)
- ٢٢ قام **الوليد بن عبد الملك** بسك أول عملة إسلامية. (.....)
- ٢٣ شيد الوليد بن عبد الملك المسجد الأموي في **بغداد**. (.....)
- ٢٤ يعد العصر العباسي **الأول** هو عصر الضعف والانقسام. (.....)
- ٢٥ قام المعتصم بن هارون بإنشاء مدينة **عمورية**. (.....)

س ٦ اكتب اسم الشخصية التاريخية التي تدل عليها كل عبارة:

- ١ والدة الرسول (ﷺ) عاش معها حتى سن السادسة. (.....)
- ٢ حاول هدم الكعبة بجيش من الفيلة. (.....)
- ٣ عم الرسول (ﷺ) الذي عاش في بيته وهو صغير. (.....)
- ٤ أخبر النبي (ﷺ) بأنه نبي هذه الأمة. (.....)
- ٥ جد الرسول (ﷺ) عاش معه حتى الثامنة من عمره. (.....)
- ٦ ملك الحبشة الذي هاجر إليها المسلمون لأول مرة. (.....)
- ٧ زوجة النبي (ﷺ) وأول من آمنت من النساء. (.....)
- ٨ مرضعة النبي (ﷺ) التي اكتسب من ديارها فصاحة اللسان. (.....)
- ٩ نزل على النبي (ﷺ) بالوحي في غار حراء في ليالي شهر رمضان. (.....)
- ١٠ ابن عم السيدة خديجة وأخبر محمدًا (ﷺ) أنه نبي هذه الأمة. (.....)
- ١١ صاحب النبي (ﷺ) في غار ثور ثلاثة أيام أثناء الهجرة. (.....)
- ١٢ أذن لأصحابه بالهجرة إلى يثرب عندما اشتد أذى قريش للمسلمين. (.....)
- ١٣ أشار على النبي (ﷺ) أن يعسكر عند أقرب بئر لبدر لمنع الماء عن المشركين. (.....)
- ١٤ نقضوا صلح الحديبية باعتدائهم على قبيلة خزاعة. (.....)
- ١٥ تآمروا على قتل النبي (ﷺ) ومنعه من الهجرة. (.....)
- ١٦ اقترح على النبي (ﷺ) بحفر خندق حول المدينة. (.....)
- ١٧ نام في فراش النبي (ﷺ) يوم الهجرة إلى المدينة. (.....)
- ١٨ الخليفة الذي قضى على حركات الردة. (.....)
- ١٩ القائد الذي قام بفتح الشام في معركة اليرموك. (.....)
- ٢٠ قام بفتح فارس في معركة فتح الفتوح. (.....)
- ٢١ جمع القرآن الكريم بأمر من الخليفة أبي بكر الصديق. (.....)
- ٢٢ ادعى النبوة بعد وفاة الرسول (ﷺ). (.....)
- ٢٣ لقب بالفاروق لأنه فرَّق بين الحق والباطل. (.....)
- ٢٤ قاد جيوش المسلمين لفتح بلاد العراق في معركة القادسية. (.....)
- ٢٥ أثار الفتنة التي كانت سببًا في استشهاد الخليفة عثمان بن عفان. (.....)
- ٢٦ قام بسك أول عملة إسلامية. (.....)

- ٢٧ شيد مسجد قبة الصخرة بفلسطين. (.....)
- ٢٨ أسس ديوان الخاتم لحماية رسائل الدولة من التزوير. (.....)
- ٢٩ عرب الدواوين وأمر بنقط المصحف. (.....)
- ٣٠ وصلت الفتوحات الإسلامية في عهده إلى بلاد الأندلس. (.....)
- ٣١ أطلق عليه خامس الخلفاء الراشدين نظرًا لعدله وحرصه على مصلحة الأمة. (.....)
- ٣٢ أول من قاد الدعوة العباسية ضد الدولة الأموية في خراسان. (.....)
- ٣٣ أنشأ أول مرصد فلكي في بغداد. (.....)
- ٣٤ المؤسس الحقيقي للدولة العباسية وشيد مدينة بغداد. (.....)
- ٣٥ أسس مكتبة بيت الحكمة في بغداد. (.....)

س ٧ بم تفسر ... ؟

١ حاجة العالم إلى مجيء النبي (ﷺ).

سلسلة كتب الأستاذ

٢ التقاء النبي (ﷺ) مع المسلمين في دار الأرقم.

٣ زهاب النبي (ﷺ) إلى غار حراء.

٤ رفض قريش للدعوة الإسلامية.

٥ ساد نظام الحكم القبلي في شبه الجزيرة العربية.

٦ عمل النبي (ﷺ) في بيت عمه بالرعي.

٧ شهرة سوق ذي المجاز بين العرب قبل الإسلام.

٨ بدأ النبي (ﷺ) الدعوة في بداية الإسلام سرًا.

٩ هجرة المسلمين الأوائل إلى الحبشة.

١٠ رفض قريش لدعوة النبي محمد (ﷺ).

١١ نجاح خطة النبي (ﷺ) في الهجرة إلى يثرب.

١٢ اجتماع زعماء قريش في دار الندوة.

١٣ وضع النبي (ﷺ) صحيفة المدينة.

١٤ هزيمة المسلمين في غزوة أحد.

١٥ تسمية غزوة الخندق بهذا الاسم.

١٦ اهتم النبي (ﷺ) بتكوين جيش قوي.

١٧ أهمية بناء المسجد في الدولة الإسلامية.

١٨ خاض النبي (ﷺ) العديد من الغزوات وأرسل السرايا.

١٩ أمر النبي (ﷺ) أصحابه بالهجرة إلى يثرب.

٢٠ توجه النبي (ﷺ) بجيش كبير لفتح مكة.

٢١ إرسال أبي بكر الصديق جيش أسامة بن زيد إلى بلاد الشام.

٢٢ نقل علي بن أبي طالب مقر الخلافة إلى الكوفة.

٢٣ اختيار أبي بكر الصديق خليفة للمسلمين.

٢٤ نسخ القرآن الكريم في مصحف واحد في عهد عثمان بن عفان.

٢٥ أمر أبو بكر الصديق بجمع القرآن الكريم.

٢٦ إنشاء عثمان بن عفان الأسطول الإسلامي.

٢٧ أنشأ معاوية بن أبي سفيان مدينة القيروان.

٢٨ ضعف وسقوط الدولة الأموية.

٢٩ أطلق على عمر بن عبد العزيز خامس الخلفاء الراشدين.

٣٠ أنشأ هارون الرشيد سوق الوراقين في بغداد.

٣١ بناء مدينة سامراء في عهد المعتصم بالله.

٣٢ سقوط الدولة العباسية.

س ٨ ما النتائج المترتبة على ... ؟

١ عمل النبي (ﷺ) في رعي الأغنام.

٢ رفض قريش للدعوة الإسلامية.

٣ دعوة النبي (ﷺ) وفود القبائل إلى الإسلام في موسم الحج.

٤ جهر النبي محمد (ﷺ) بالدعوة.

٥ إيذاء قريش للمسلمين الأوائل.

٦ تنظيم قريش لرحلتي الشتاء والصيف.

٧ حياة النبي (ﷺ) في ديار بني سعد في طفولته.

٨ دعوة النبي محمد (ﷺ) للإسلام سرًا في مكة.

٩ غزوة بدر ٢ هـ.

١٠ مخالفة الرماة أوامر النبي (ﷺ) في غزوة أحد ٣ هـ.

١١ غزوة الخندق ٥ هـ.

١٢ نقض قريش صلح الحديبية.

١٣ عقد صلح الحديبية بين المسلمين وقريش.

١٤ المؤاخاة بين المهاجرين والأنصار.

١٥ فتح مكة عام ٨ هـ.

١٦ اجتماع الصحابة في سقيفة بني ساعدة.

١٧ استشهاد عدد كبير من حفظة القرآن الكريم في حروب الردة.

١٨ الفتن في أواخر عهد عثمان بن عفان.

١٩ رغبة عمر بن الخطاب في تنظيم أمور الدولة الإسلامية.

٢٠ معركة الزاب الكبرى عام ٢٣١هـ.

٢١ ضعف الخلفاء العباسيين في العصر العباسي الثاني.

٢٢ الفتوحات الإسلامية في عهد الوليد بن عبد الملك.

### س ٩ دلل على صحة كل عبارة من العبارات الآتية:

١ أثرت ديار بني سعد في حياة النبي (ﷺ).

٢ شهرة العرب بالشعر والخطابة.

٣ اتصف العرب قبل الإسلام بعدة عادات حسنة.

٤ ممارسة سكان شبه الجزيرة العربية العديد من الحرف.

٥ كانت شبه الجزيرة العربية مهدًا لكثير من الأنبياء.

٦ ارتفعت المكانة التجارية لأهل مكة.

- ٧ حرص النبي (ﷺ) على عدم تعرض أصحابه للأذى منذ بداية الدعوة.
- ٨ استفادت قريش من أخطاء المسلمين في غزوة أحد.
- ٩ تعددت أساليب قريش في مواجهة الدعوة الإسلامية.
- ١٠ حرص النبي (ﷺ) على تأمين الدولة الإسلامية وحمايتها منذ بدايتها.
- ١١ كانت فكرة سلمان الفارسي في غزوة الخندق ذات أهمية.
- ١٢ كان النبي (ﷺ) يستشير الصحابة في الغزوات.
- ١٣ كان الرسول (ﷺ) مثلاً للتسامح في فتح مكة.
- ١٤ اهتم عمر بن الخطاب بإنشاء المدن.
- ١٥ خطورة الفتنة التي أثارها عبد الله بن سبأ.
- ١٦ اتسعت رقعة الدولة الإسلامية في عهد علي بن أبي طالب.
- ١٧ اهتم الوليد بن عبد الملك بالعمران.
- ١٨ شجع المأمون بن هارون الحركة العلمية.
- ١٩ اهتم أبو العباس براحة الحجاج والمسافرين.
- ٢٠ يعد أبو جعفر المنصور المؤسس الحقيقي للدولة العباسية.

س ١٠ ما العلاقة بين ... ؟

١ الأسواق والشعر عند العرب.

٢ الدعوة السرية ودار الأرقم بن أبي الأرقم.

٣ الهجرة إلى يثرب وبناء الدولة الإسلامية.

٤ صلح الحديبية وفتح مكة.

٥ الغنائم وغزوة أحد.

٦ أبي بكر الصديق وحروب الردة.

٧ عمر بن الخطاب والدواوين.

٨ الدولة العباسية والحياة العلمية.

س ١١ ما المقصود ب ... ؟

١ القبيلة

٢ النظام القبلي

٣ الوحي

٤ المهاجرين

٥ الأنصار

٦ الغزوة

٧ السرية

٨ المرتدين

## مراجعة الوحدة الثالثة

س ١ أكمل ما يلي:

- ١ مياه نهري دجلة والفرات المصدر الأساسي للزراعة في دولة .....
- ٢ يعتمد مشروع توشكى على مياه نهر .....
- ٣ موارد المياه العذبة بالوطن العربي من المقومات ..... للزراعة.
- ٤ تقوم الزراعة في واحات الوطن العربي على المياه .....
- ٥ يُستخدم قصب السكر بشكل رئيسي في صناعة .....
- ٦ أكثر دول الوطن العربي امتلاكاً لرأس المال هي دولة .....
- ٧ تعتمد مصر والسودان في الزراعة على مياه نهر .....
- ٨ تسعى الدول العربية لاستخدام طرق ري حديثة منها الري بالرش و .....
- ٩ يُعد مشروع مستقبل مصر للزراعة المستدامة جزءاً من مشروع .....
- ١٠ من مشكلات الثروة الحيوانية في الوطن العربي قلة .....
- ١١ تربي العديد من الحيوانات مثل ..... و ..... في المراعي المعتدلة.
- ١٢ تعد السودان من أكثر الدول العربية في تربية الأبقار لوفرة .....
- ١٣ أولى الدول العربية في تربية الجاموس دولة .....
- ١٤ تساهم الدواجن في تقليل اعتماد الوطن العربي على اللحوم .....
- ١٥ أكثر دول الوطن العربي امتلاكاً للثروة الحيوانية .....
- ١٦ تنقسم المصايد السمكية في وطننا العربي إلى المحيطات والبحار والأنهار و .....
- ١٧ تأتي المغرب في المرتبة الأولى عربياً في إنتاج الأسماك من .....
- ١٨ معدن يدخل في صناعة الآلات .....
- ١٩ أولى الدول العربية إنتاجاً للذهب دولة ..... ودولة .....
- ٢٠ معدن يُستخدم في صناعة الطوب الحراري هو .....
- ٢١ يستخدم معدن النحاس في صناعة ..... و .....
- ٢٢ أقل مصادر الطاقة غير المتجددة تلويثاً للبيئة هو .....
- ٢٣ استخراج المصريون القدماء الذهب من الصحراء .....

- ٢٤ أولى دول الوطن العربي في توليد الكهرباء من الرياح.....
- ٢٥ زيارة المتاحف والآثار في الوطن العربي تعد من السياحة.....
- ٢٦ من الأماكن المقدسة في الوطن العربي..... في السعودية.
- ٢٧ من المحميات الطبيعية في الوطن العربي محمية أرز الشوف في.....
- ٢٨ تعتمد السياحة على عدة مقومات..... و.....
- ٢٩ زيارة الأماكن الأثرية مثل الأهرامات سياحة.....
- ٣٠ من الأماكن الترفيهية في الوطن العربي شواطئ..... في مصر.
- ٣١ يعد حضور كأس العالم في قطر ٢٠٢٢ سياحة.....
- ٣٢ من الدول التي توجد فيها أماكن للتسوق دولة..... و.....

س ٢ ضع علامة (✓) أمام العبارة الصحيحة، وعلامة (X) أمام العبارة غير الصحيحة:

- ١ تتصدر مصر إنتاج القطن طويل التيلة في الوطن العربي. ( )
- ٢ يعتمد النشاط الزراعي على نوع التربة والمناخ. ( )
- ٣ يمتلك الوطن العربي ثروة بشرية مدربة على الزراعة. ( )
- ٤ تمتلك دول الخليج رأس المال اللازم للزراعة. ( )
- ٥ يهدف مشروع توشكى إلى استصلاح آلاف الأقدنة بالصحراء الشرقية. ( )
- ٦ تعد الأيدي العاملة من المقومات الطبيعية لقيام الزراعة في وطننا العربي. ( )
- ٧ تعد المياه العذبة من المقومات الطبيعية للزراعة في الوطن العربي. ( )
- ٨ سجل المصريون القدماء أنشطتهم الزراعية على جدران المعابد والمقابر. ( )
- ٩ تُعد قلة الأمطار من مشكلات الزراعة في الوطن العربي. ( )
- ١٠ ينتج الوطن العربي محاصيل متعددة تُستخدم في الغذاء والصناعة والتجارة. ( )
- ١١ من مشكلات الثروة الحيوانية في الوطن العربي توافر الأعلاف بأسعار مناسبة. ( )
- ١٢ يعتمد الوطن العربي على المراعي الطبيعية فقط. ( )
- ١٣ تسهم الثروة السمكية في الوطن العربي في توفير فرص عمل للشباب. ( )
- ١٤ تساهم الدواجن في تقليل الاعتماد على اللحوم الحمراء. ( )
- ١٥ استخدام وسائل صيد حديثة من مشكلات الثروة الحيوانية في الوطن العربي. ( )

- ١٦ توفر الثروة الحيوانية العديد من المواد الخام اللازمة للصناعات. ( )
- ١٧ تتنوع مصادر الثروة السمكية في الوطن العربي بين المصايد السمكية والمزارع السمكية. ( )
- ١٨ تعد مصر أكبر دول الوطن العربي في إنتاج الأسماك من المزارع السمكية. ( )
- ١٩ تربي الأبقار في مناطق حشائش الإستبس. ( )
- ٢٠ قلة الرعاية البيطرية من مشكلات الثروة السمكية في الوطن العربي. ( )
- ٢١ أولى الدول العربية إنتاجاً للحديد في الوطن العربي موريتانيا والجزائر ومصر. ( )
- ٢٢ يمتلك الوطن العربي ثروات معدنية هائلة ومصادر طاقة محدودة. ( )
- ٢٣ يعد البترول من مصادر الطاقة غير المتجددة. ( )
- ٢٤ استخرج المصريون القدماء الذهب واستخدموه في أدوات الزينة. ( )
- ٢٥ يُستخدم الكبريت في صناعة الأدوية والطوب الحراري. ( )
- ٢٦ الرياح من مصادر الطاقة المتجددة. ( )
- ٢٧ يدخل الفوسفات في صناعة الأسمدة الزراعية. ( )
- ٢٨ الفحم أكثر مصادر الطاقة غير المتجددة تلويثاً للبيئة. ( )
- ٢٩ يستخدم الذهب في صناعة الأسلاك الكهربائية. ( )
- ٣٠ تنتج السعودية كميات كبيرة من البترول. ( )
- ٣١ تنتشر سياحة التسوق في الوطن العربي في دولة الإمارات. ( )
- ٣٢ يُعد نشاط السياحة مصدرًا مهمًا للدخل القومي وفرص العمل في الدول العربية. ( )
- ٣٣ حضور البطولات والمباريات مثل كأس العالم في قطر من سياحة التسوق. ( )
- ٣٤ إنشاء المطارات والفنادق الحديثة ضرورة لتنمية نشاط السياحة. ( )
- ٣٥ من المقومات الطبيعية للسياحة توافر الأمن والأمان وحسن الضيافة. ( )
- ٣٦ يساهم النشاط السياحي في تبادل الثقافات. ( )
- ٣٧ الموقع المتميز من المقومات البشرية للسياحة في الوطن العربي. ( )
- ٣٨ تبذل مصر جهودًا كبيرة لتنشيط السياحة منها إنشاء المتحف المصري الكبير. ( )
- ٣٩ يمكنك حضور المؤتمرات العلمية والثقافية في مصر والسعودية والإمارات. ( )
- ٤٠ حماية الآثار والحفاظ على الأماكن السياحية واجب علينا جميعًا. ( )

## س ٣ اختر الإجابة الصحيحة مما بين القوسين:

- ١ تعد ..... من المشكلات الطبيعية التي تواجه الزراعة في الوطن العربي.  
(قلة الأمطار - نقص العمالة المدربة - التلوث والزحف العمراني - ضعف الاستثمار الزراعي)
- ٢ أي مما يلي يُعد من المقومات البشرية للزراعة في وطننا العربي؟ .....  
(التربة الخصبة - المياه العذبة - الأيدي العاملة - تنوع المناخ)
- ٣ من أهم الدول في الوطن العربي في زراعة محاصيل الألياف .....  
(السعودية - مصر - الإمارات - اليمن)
- ٤ إحدى المشكلات التي تواجه نشاط الزراعة في الوطن العربي .....  
(توافر الأيدي العاملة - التغيرات المناخية - وجود رأس المال - تعدد مصادر المياه)
- ٥ أحد أنواع الحبوب الغذائية ويستخدم في صناعة الخبز .....  
(القطن - القمح - الفول - الأرز)
- ٦ أكثر الدول العربية إنتاجًا للقمح دولة .....  
(العراق - اليمن - الإمارات - مصر)
- ٧ تعد دولة ..... من أكثر الدول العربية تربية للأبقار والأغنام والماعز والخيول.  
(السودان - مصر - اليمن - قطر)
- ٨ أكبر دول الوطن العربي في إنتاج الأسماك من المزارع السمكية .....  
(مصر - العراق - المغرب - تونس)
- ٩ تعد دولة ..... أولى الدول العربية في تربية الإبل.  
(مصر - اليمن - السودان - الصومال)
- ١٠ أكبر دول الوطن العربي في إنتاج الأسماك من المصايد البحرية .....  
(مصر - اليمن - السودان - المغرب)
- ١١ أكثر دول الوطن العربي إنتاجًا للفحم .....  
(تونس - ليبيا - السعودية - المغرب)
- ١٢ يستخدم خام ..... في بناء الكباري وصناعة القطارات والسيارات.  
(الحديد - الفوسفات - اليورانيوم - الذهب)
- ١٣ (معدن يستخدم في صناعة الطلاء) تشير العبارة إلى .....  
(الحديد - الذهب - الفضة - المنجنيز)
- ١٤ (معدن يدخل في صناعة الأسلاك الكهربائية) تشير العبارة إلى .....  
(الفوسفات - الذهب - الحديد - النحاس)

- ١٥ يُستخدم الفوسفات في صناعة.....
- (العطور - العملات المعدنية - الأسلاك الكهربائية - الأسمدة)
- ١٦ إحدى أكثر دول الوطن العربي إنتاجًا للغاز الطبيعي.....
- (قطر - سوريا - اليمن - جيبوتي)
- ١٧ تعد..... من أماكن السياحة العلاجية في الوطن العربي.
- (عيون موسى - محمية علبه - محمية ضانا - أرز الشوف)
- ١٨ أحد المقومات البشرية للسياحة العربية.....
- (المناخ المتنوع - حسن الضيافة - الموقع المتميز - التنوع الطبيعي)
- ١٩ بركة غليون من أشهر المزارع السمكية في.....
- (المغرب - مصر - السعودية - لبنان)
- ٢٠ أحد المقومات الطبيعية للسياحة العربية.....
- (حسن الضيافة - الفنادق والقرى السياحية - المناخ المعتدل - توافر الأمن والأمان)
- ٢١ أحد أماكن السياحة الدينية في الوطن العربي.....
- (المسجد الأقصى - أهرامات الجيزة - العيون الكبرى - الأسواق الشعبية)
- ٢٢ توجد السياحة العلاجية في عديد من مناطق الوطن العربي، منها عين ماعين في.....
- (مصر - السعودية - الأردن - فلسطين)
- ٢٣ إحدى مناطق السياحة البيئية في وطننا العربي.....
- (مدينة القيروان - برج خليفة - محمية ضانا - بيت الله الحرام)
- ٢٤ تُعد زيارة الأسواق الشعبية سياحة.....
- (ترفيهية - علاجية - رياضية - تسوق)

#### س ٤ اكتب ما تشير إليه كل عبارة من العبارات التالية:

- ١ أحد المقومات البشرية للزراعة وضروري لشراء البذور والأسمدة والآلات. (.....)
- ٢ الحشائش الطويلة، وتُربى عليها الأبقار والأغنام في وطننا العربي. (.....)
- ٣ مصادر طبيعية يتم الصيد منها مباشرة. (.....)
- ٤ الأعشاب القصيرة، وتُربى عليها الأغنام والماعز في وطننا العربي. (.....)
- ٥ أكبر دول الوطن العربي في إنتاج الأسماك من المزارع السمكية. (.....)
- ٦ معدن يستخدم في صناعة الأسلاك الكهربائية والأجهزة الإلكترونية. (.....)
- ٧ صخور تستخدم في الصناعات الكيميائية. (.....)
- ٨ طاقة تساعد في توليد الكهرباء من خلال التوربينات. (.....)

- ٩ يُستخدم لصهر الحديد وهو أكثر مصادر الطاقة غير المتجددة تلويثاً للبيئة. (.....)
- ١٠ نوع من أنواع السياحة تتمثل في حضور المؤتمرات والمعارض الدولية. (.....)
- ١١ معدن تصنع منه بعض العملات المعدنية. (.....)
- ١٢ أحد أنواع السياحة يعتمد على الاستمتاع بالشواطئ الطبيعية. (.....)
- ١٣ أحد أنواع السياحة يعتمد على زيارة المحميات الطبيعية. (.....)
- ١٤ سياحة تعتمد على حضور البطولات والمباريات. (.....)

س ٥ صوب ما تحته خط فيما يلي:

- ١ يعد **القمح** من المحاصيل السكرية. (.....)
- ٢ قصب السكر من المحاصيل السكرية التي تُزرع في **دلتا النيل**. (.....)
- ٣ يتمتع الوطن العربي بمناخ معتدل ومطير في **الغرب**. (.....)
- ٤ **المراعي الحارة** هي أعشاب قصيرة تربي عليها الأغنام. (.....)
- ٥ توفر الثروة **السمكية** المواد الخام للصناعات مثل الجلود والألبان واللحوم. (.....)
- ٦ **الغاز الطبيعي** أكثر مصادر الطاقة غير المتجددة تلويثاً للبيئة. (.....)
- ٧ معدن **الحديد** يستخدم في صناعة الصلب ومواد الطلاء. (.....)
- ٨ يُستخدم في صناعة الأسلاك الكهربائية والأجهزة الإلكترونية معدن **المنجنيز**. (.....)
- ٩ الطاقة التي تنتج من المياه تسمى الطاقة **النووية**. (.....)
- ١٠ حضور المباريات في كأس العالم تعد من أنواع السياحة **الدينية**. (.....)

س ٦ بم تفسر ... ؟

سلسلة كتب الأستاذ

- ١ أهمية مشروع مستقبل مصر للزراعة المستدامة.  
.....
- ٢ أهمية وسائل النقل والمواصلات للزراعة في الوطن العربي.  
.....
- ٣ أهمية الأسواق بالنسبة للزراعة.  
.....
- ٤ استحداث بذور مقاومة للتغيرات المناخية.  
.....

٥ أهمية التربة الخصبة بالوطن العربي.

٦ أهمية الزراعة في الوطن العربي.

٧ أهمية رأس المال للزراعة في وطننا العربي.

٨ تعد مصر والسعودية من أكثر الدول العربية إنتاجًا للدواجن.

٩ تحتل مصر المركز الأول عربيًا في تربية الجاموس.

١٠ أهمية الثروة الحيوانية في الوطن العربي.

١١ أهمية الثروة السمكية في الوطن العربي.

١٢ أهمية معدن الكبريت.

١٣ أهمية معدن المنجنيز.

١٤ أهمية الطاقة الشمسية.

١٥ يُمثل البترول أهمية كبيرة في الوطن العربي.

١٦ الأهمية الاقتصادية للسياحة في الوطن العربي.

١٧ يُعد الوطن العربي أحد أهم مناطق الجذب السياحي في العالم.

١٨ اهتمام المغرب وتونس بالمدن القديمة والمواقع التراثية.

١٩ أهمية عين موسى في مصر.

٢٠ اهتمام الدول العربية بإنشاء المطارات والفنادق الحديثة.

٢١ اهتمام مصر بتنشيط السياحة.

### س ٧ ما النتائج المترتبة على ... ؟

١ تنوع المناخ في الوطن العربي.

٢ امتلاك الوطن العربي - منذ القَدَم - مقومات الزراعة .

٣ وفرة البيئة الزراعية الخصبة في مصر بالنسبة للثروة الحيوانية.

٤ مشروع توشكى بجنوب مصر.

٥ وجود وسائل النقل والمواصلات كأحد المقومات البشرية للزراعة.

٦ التوسع في مشروعات الاستزراع السمكي.

٧ الصيد الجائر بالنسبة للثروة السمكية.

٨ وفرة حشائش السافانا بالسودان.

٩ طول سواحل المغرب على المحيط الأطلنطي والبحر المتوسط.

١٠ استخدام الطاقة الشمسية.

١١ الاعتماد على مصادر الطاقة غير المتجددة.

١٢ تعدد أنواع السياحة بالوطن العربي.

١٣ تنمية السياحة في الوطن العربي.

س ٨ دلل على صحة كل عبارة من العبارات الآتية:

١ تتعدد مصادر المياه العذبة في الوطن العربي.

٢ تبذل بعض الدول العربية جهودًا لحل مشكلات الزراعة.

٣ تواجه الزراعة في الوطن العربي عدة مشكلات تعوق تطورها.

٤ تسجيل المصريين القدماء أنشطتهم الزراعية.

٥ تسعى مصر لتحقيق الأمن الغذائي.

٦ تبذل الدول العربية جهودًا للحد من تأثير التغير المناخي على الزراعة.

٧ تواجه الثروة السمكية في الوطن العربي العديد من المشكلات.

٨ تعد مصر أكثر الدول العربية ملاءمة لتربية الجاموس.

٩ تبذل الدول العربية جهودًا لتنمية الثروة السمكية.

١٠ تبذل الدول العربية جهودًا لتنمية الثروة الحيوانية.

١١ تكثر استخدامات الغاز الطبيعي في الوطن العربي.

١٢ يُعد البترول من مصادر الطاقة المهمة.

١٣ تعدد أنواع السياحة العربية في الوطن العربي.

١٤ قامت الحكومات العربية بالعديد من الخطوات لتنمية السياحة.

١٥ تبذل مصر جهودًا كبيرة لتنشيط السياحة.

س ٩ ما المقصود بـ ... ؟

١ المراعي الطبيعية.

٢ المصايد الطبيعية.

٣ المزارع السمكية.

٤ السياحة.

٥ السياحة العلاجية.

٦ السياحة الدينية.

س ١٠ ما العلاقة بين ... ؟

١ النشاط الزراعي والمناخ.

٢ التغيرات المناخية والزراعة في الوطن العربي.

٣ الثروة الحيوانية والمراعي.

٤ الثروة الحيوانية والصناعة.

٥ المعادن والنشاط الاقتصادي.

٦ البترول والاقتصاد.

٧ مصادر الطاقة المتجددة والبيئة.

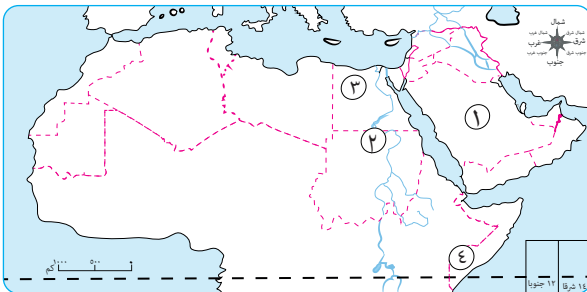
٨ السياحة والدخل القومي.

٩ المناخ والسياحة.

١٠ السياحة ودولة الإمارات.

س ١١ أمامك خريطة صماء للوطن العربي اكتب مدلول الأرقام عليها:

• (خريطة رقم ١)



١ دولة عربية تشتهر بتربية الدواجن

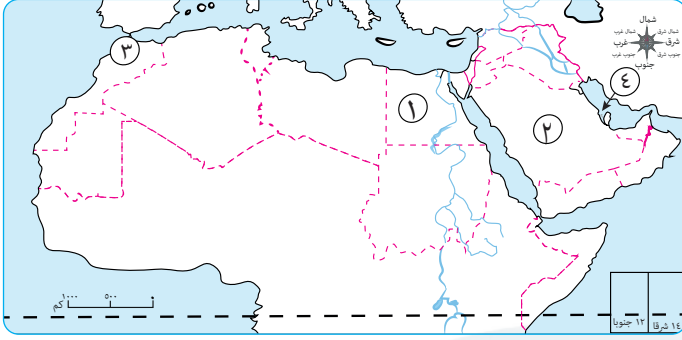
٢ دولة تشتهر فيها تربية الماعز

٣ دولة رائدة في مجال

الاستزراع السمكي

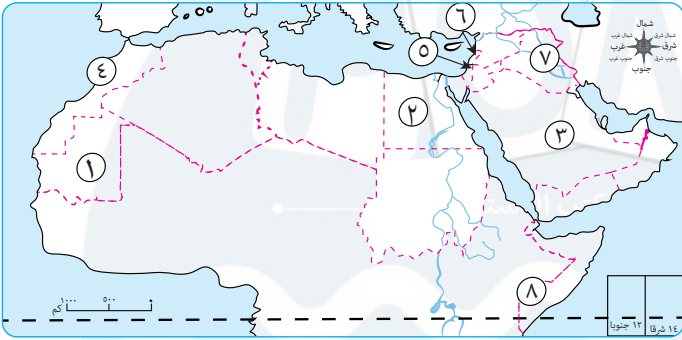
٤ أولى الدول العربية في تربية الإبل

● (خريطة رقم ٢)



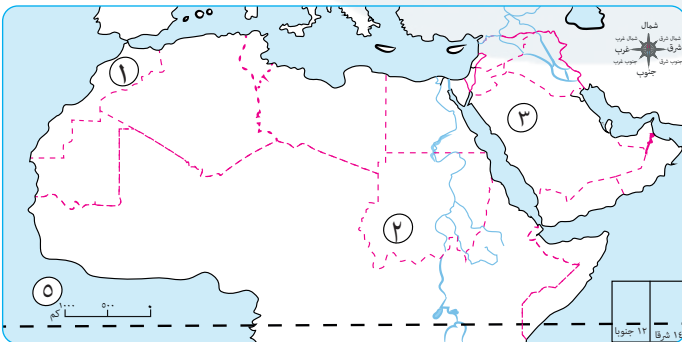
- ١ دولة منتجة للحديد .....
- ٢ دولة منتجة للبتروول .....
- ٣ أولى الدول العربية المنتجة  
للفوسفات .....
- ٤ أولى الدول العربية للغاز  
الطبيعي .....

● (خريطة رقم ٣)



- ١ أولى دول الوطن العربي  
في إنتاج الحديد .....
- ٢ أولى دول الوطن العربي  
إنتاجًا للقمح .....
- ٣ أولى دول الوطن العربي  
في إنتاج البتروول .....
- ٤ أولى دول الوطن العربي  
في المصايد البحرية .....
- ٥ دولة يوجد بها المسجد الأقصى .....
- ٦ دولة بها محمية أرز الشوف .....
- ٧ يتركز إنتاج الكبريت بدولة .....
- ٨ دولة تشتهر بتربية الإبل .....

● (خريطة رقم ٤)



- ١ أكبر الدول العربية إنتاجًا للأسمك من  
المصايد البحرية .....
- ٢ أولى الدول العربية إنتاجًا  
للذهب .....
- ٣ دولة عربية تشتهر بتربية  
الدواجن .....

## الإجابات الاسترشادية

### مراجعة الوحدة الأولى

#### السؤال الأول:

- |                                |                            |
|--------------------------------|----------------------------|
| ١ المحيط الأطلنطي              | ٢ الآسيوي                  |
| ٣ الجزائر                      | ٤ المتوسط                  |
| ٥ البحرين                      | ٦ خليج عمان والخليج العربي |
| ٧ الإفريقي                     | ٨ زاجروس                   |
| ٩ الصومال                      | ١٠ قناة السويس             |
| ١١ المغرب وتونس والجزائر       | ١٢ إفريقيا الشمالية        |
| ١٣ الموارد والأنشطة الاقتصادية | ١٤ غنية بالثروات المعدنية  |
| ١٥ الالتواءات والانكسارات      | ١٦ الآسيوي                 |
| ١٧ الالتوائية                  | ١٨ جبال البحر الأحمر       |
| ١٩ الجزائر                     | ٢٠ الهوائية                |
| ٢١ الفيضية                     | ٢٢ النيل                   |
| ٢٣ الموقع الفلكي               | ٢٤ الصحراوي الحار          |
| ٢٥ السافانا                    | ٢٦ المنحدرات الجبلية       |
| ٢٧ النفايات                    | ٢٨ الشتاء                  |
| ٢٩ المتجددة                    | ٣٠ المقابر                 |

#### السؤال الثاني:

- |      |      |      |
|------|------|------|
| ✓ ٢  | ✓ ٣  | X ١  |
| ✓ ٥  | X ٦  | X ٤  |
| ✓ ٨  | X ٩  | ✓ ٧  |
| ✓ ١١ | ✓ ١٢ | ✓ ١٠ |
| X ١٤ | ✓ ١٥ | ✓ ١٣ |
| ✓ ١٧ | ✓ ١٨ | X ١٦ |
| ✓ ٢٠ | ✓ ٢١ | X ١٩ |
| X ٢٣ | X ٢٤ | ✓ ٢٢ |
| ✓ ٢٦ | ✓ ٢٧ | ✓ ٢٥ |
| ✓ ٢٩ | ✓ ٣٠ | X ٢٨ |
| ✓ ٣٢ | ✓ ٣٣ | ✓ ٣١ |
| X ٣٥ | ✓ ٣٦ | ✓ ٣٤ |
| X ٣٨ | ✓ ٣٩ | ✓ ٣٧ |
| ✓ ٤١ | ✓ ٤٢ | X ٤٠ |
| ✓ ٤٤ | ✓ ٤٥ | X ٤٣ |

#### السؤال الثالث:

- |                            |                    |                     |
|----------------------------|--------------------|---------------------|
| ١ الهندي                   | ٢ الجزائر          | ٣ الأطلنطي          |
| ٤ عدن                      | ٥ هرمز             | ٦ جبل طارق          |
| ٧ جزر القمر                | ٨ البحر الأحمر     | ٩ تنوع الإنتاج      |
| ١٠ العراقية                | ١١ توبقال          | ١٢ وسط إفريقيا      |
| ١٣ مصر وليبيا              | ١٤ الجزائر         | ١٥ الحجاز           |
| ١٦ المغرب                  | ١٧ بادية الشام     | ١٨ الثروات المعدنية |
| ١٩ وسط شبه الجزيرة العربية | ٢٠ السنط           | ٢١ الموقع الفلكي    |
| ٢٢ شمال الوطن العربي       | ٢٣ السافانا        | ٢٤ الجفاف           |
| ٢٥ الرعي الجائر            | ٢٦ الطاقة المتجددة | ٢٧ حرق النفايات     |
| ٢٨ التصحر                  |                    |                     |

#### السؤال الرابع:

- |                   |                    |
|-------------------|--------------------|
| ١ جزر القمر       | ٢ إفريقيا الشمالية |
| ٣ جبال التوائية   | ٤ جبال انكسارية    |
| ٥ التعرية المائية | ٦ التعرية الهوائية |
| ٧ كتبان رملية     | ٨ الواحات          |
| ٩ أودية جافة      | ١٠ إقليم مناخي     |
| ١١ غابات معتدلة   | ١٢ الجفاف          |
| ١٣ التصحر         | ١٤ السعودية        |
| ١٥ مصر            |                    |

#### السؤال الخامس:

- |           |            |
|-----------|------------|
| ١ طوروس   | ٢ الأطلنطي |
| ٣ الأحمر  | ٤ السنط    |
| ٥ الشتاء  | ٦ الإستبس  |
| ٧ المداري | ٨ السعودية |

#### السؤال السادس:

- ١ بسبب تحكمه في ممرات مائية هامة مثل: قناة السويس - مضيق هرمز - مضيق باب المندب - مضيق جبل طارق؛ وهذا ما جعله ذا أهمية كبيرة وقت الحروب والصراعات الدولية.

- السؤال السابع:**
- ١ مما جعله يحتل مكانة مهمة بين دول العالم - جعله مطمئناً لكثير من المحتلين عبر العصور.
  - ٢ هذا جعله ذا أهمية كبيرة وقت الحروب والصراعات الدولية.
  - ٣ مما ساعد على تنوع الإنتاج وزيادة النشاط الاقتصادي في الوطن العربي.
  - ٤ هذا الامتداد جعل معظمه يقع في نصف الكرة الشمالي، وأثر ذلك على مناخه ونباتاته الطبيعية.
  - ٥ تنوع الموارد وبالتالي تنوع الأنشطة الاقتصادية مثل: الزراعة والصيد والتعدين والسياحة والصناعة.
  - ٦ أدى إلى تنوع الموارد والاستخدامات؛ فسهول البحر المتوسط تتميز بالتربة الخصبة الصالحة للزراعة، وسهول البحر الأحمر والخليج العربي تتميز بأنها غنية بالثروات المعدنية ومصادر الطاقة.
  - ٧ نتج عنها تكون جبال انكسارية مثل جبال البحر الأحمر في مصر والسودان.
  - ٨ نتج عنها تكون جبال التوائية مثل جبال أطلس وزاجروس وعمان.
  - ٩ لذلك يعيش فيها السكان ويمارسون الزراعة مثل: واحة سيوة في مصر وواحة عين صالح في الجزائر.
  - ١٠ أدى إلى تنوع النباتات الطبيعية والحيوانات البرية والأنشطة الاقتصادية المختلفة؛ مما يعزز تحقيق التكامل بين دول الوطن العربي.
  - ١١ أدى إلى نمو الغابات المعتدلة ومن أشجارها الزيتون والأرز.
  - ١٢ أدى إلى نمو الأعشاب القصيرة في المناطق قليلة المطر - نمو النباتات الشوكية في المناطق نادرة المطر.
  - ١٣ أدى إلى حدوث مشكلة ندرة المياه العذبة.
  - ١٤ -١ يؤثر على مستقبل التنمية والاستقرار في المنطقة.
  - ٢- يواجه العديد من المشكلات مثل: ندرة المياه العذبة - الجفاف - التصحر - تلوث الهواء - السيول.
  - ١٥ أدى إلى نقص الغذاء - تأثير سلبي على النشاط الزراعي والرعي - انتشار الأمراض وسوء التغذية.
  - ١٦ أدى إلى الخسائر الفادحة في الأرواح والممتلكات - إتلاف المحاصيل الزراعية - انتشار الأمراض والأوبئة - الأضرار التي تلحقها بالبنية التحتية.

- ٢ لأنه نشأت على أرضه العديد من الحضارات القديمة منها: الحضارة المصرية والعراق واليمن.
- ٣ لأنه مهد الديانات السماوية الثلاث (اليهودية - المسيحية - الإسلام)، تمثل تلك الديانات أماكن مقدسة يقصدها الزائرون من جميع أنحاء العالم مثل: الكعبة المشرفة - المسجد الأقصى - كنيسة المهد.
- ٤ لأنه يطل على مسطحات مائية هامة منها: البحر المتوسط والأحمر والخليج العربي.
- ٥ بسبب اتساع مساحته وتنوع موارده الطبيعية مثل: المعادن والبترو، وتنوع الأقاليم المناخية والنباتية.
- ٦ لأنه يطل على مسطحات مائية هامة منها: البحر المتوسط والأحمر والخليج العربي؛ مما جعله يتحكم في طرق التجارة، ولاتساع مساحته وتنوع موارده الطبيعية مثل: المعادن والبترو.
- ٧ بسبب تنوع الموارد والأنشطة الاقتصادية مثل: الزراعة والصيد والتعدين والسياحة والصناعة.
- ٨ لأنه كلما ارتفعنا ١٥٠ مترًا عن مستوى سطح البحر تنخفض الحرارة درجة مئوية واحدة.
- ٩ بسبب الحركات الانكسارية.
- ١٠ تستخدم كطريق للنقل والمواصلات واستخراج المياه الجوفية.
- ١١ بسبب وجود المياه الجوفية.
- ١٢ بسبب خصوبة التربة وقيام الزراعة بها.
- ١٣ حسب كمية المطر.
- ١٤ لغزارة الأمطار.
- ١٥ لأنه يعيش في مناطق السافانا حيوانات مثل: الزراف والأسود والتمور والأفيال.
- ١٦ لأنها تربي عليها الأغنام والماعز.
- ١٧ بسبب قلة سقوط الأمطار - سوء إدارة الموارد المائية - زيادة عدد السكان في بعض الدول العربية.
- ١٨ بسبب زحف الكثبان الرملية - تناقص الأمطار - قطع الأشجار - الرعي الجائر - التوسع العمراني.
- ١٩ بسبب التغيرات المناخية.
- ٢٠ بسبب حرق النفايات - العواصف الرملية - زيادة النشاط الصناعي - الاعتماد على الطاقة غير المتجددة.
- ٢١ لتحسين الهواء - تقليل التلوث - تجميل البيئة - مواجهة التغير المناخي.
- ٢٢ للحد من التلوث ومواجهة التغير المناخي.
- ٢٣ لتصريف مياه الأمطار لحماية المعابد والمقابر.

السؤال الثامن:

- ١ اختفت الزراعة في الوطن العربي - عدم تركيز السكان في المناطق الزراعية.
  - ٢ أثر الموقع الفلكي على هذا الامتداد جعل معظمه يقع في نصف الكرة الشمالي، وأثر ذلك على مناخه ونباتاته الطبيعية.
  - ٣ تنوع المناخ يؤدي إلى تنوع النبات الطبيعي في الوطن العربي.
  - ٤ أدت العوامل الباطنية مثل الالتواءات والانكسارات إلى تكوين سطح الوطن العربي.
  - ٥ يؤثر اتجاه الكتل الجبلية في توزيع كمية المطر؛ لذلك نجد سفوح الجبال المواجهة للرياح المحملة ببخار الماء تكون أغزر مطرًا من السفوح الداخلية.
  - ٦ تقوم الزراعة في الواحات اعتمادًا على المياه الجوفية مثل: واحة سيوة وواحة عين صالح.
  - ٧ من العوامل المؤثرة في مناخ الوطن العربي الموقع بالنسبة للمساحات المائية.
  - ٨ يختلف النبات الصحراوي حسب كمية المطر.
  - ٩ تكونت السهول الفيضية بفعل إرساب الأنهار للمواد العالقة.
  - ١٠ تنوع التضاريس يؤدي إلى تنوع الموارد؛ وبالتالي تنوع الأنشطة الاقتصادية مثل الزراعة والصيد.
  - ١١ يعد نهر النيل من السهول الفيضية التي توجد بالجناح الإفريقي بالوطن العربي.
  - ١٢ من جهود بعض الدول العربية لزيادة المساحات الخضراء ومواجهة التغير المناخي: قيام مصر بمبادرة زراعة ١٠٠ مليون شجرة مثمرة، وقيام السعودية بمبادرة زراعة ٤٥٠ مليون شجرة.
- السؤال الحادي عشر:
- ١ نحت الصخور ونقلها وترسيبها بواسطة المياه.
  - ٢ هو مساحة من الأرض لها نفس الخصائص المناخية من حيث الحرارة والمطر.
  - ٣ تناقص قدرة الأراضي الزراعية على الإنتاج.
  - ٤ أمطار غزيرة وفجائية تتجمع وتتدفق بسرعة في الأودية.
  - ٥ مجموعة من الدول العربية التي تشترك في مجموعة من الخصائص.

- ١ حيث توجد بها: هضبة بادية الشام في الشمال - وهضبة نجد في الوسط - وهضبة حضرموت في الجنوب.
  - ٢ حيث إن سهول البحر المتوسط تتميز بالتربة الخصبة الصالحة للزراعة، وسهول البحر الأحمر والخليج العربي تتميز بأنها غنية بالثروات المعدنية ومصادر الطاقة.
  - ٣ أدى إلى انتشار الكثبان الرملية في المناطق الصحراوية مثل بحر الرمال العظيم بين مصر وليبيا.
  - ٤ حيث تنمو بها أشجار السنط التي يستخرج منها الصمغ العربي.
  - ٥ حيث تنمو الأعشاب القصيرة في المناطق قليلة المطر - نمو النباتات الشوكية في المناطق نادرة المطر.
  - ٦ حيث يوجد بها العديد من الحيوانات منها: الزراف والأفيال والأسود والنمور.
  - ٧ حيث أطلقت مصر مبادرة ١٠٠ مليون شجرة مثمرة في كل أنحاء مصر - وأطلقت السعودية مبادرة زراعة ٤٥٠ مليون شجرة في الدول العربية، بالإضافة إلى إنشاء مدينة نيوم الخضراء.
  - ٨ حيث نشأت عنها الجبال الانكسارية مثل جبال البحر الأحمر في مصر والسودان.
  - ٩ حيث يحدث التصحر لأسباب طبيعية مثل: زحف الرمال وتناقص الأمطار، وأسباب بشرية مثل: قطع الأشجار والرعي الجائر للحيوانات والتوسع العمراني.
  - ١٠ من خلال التنبؤ بالأخطار الطبيعية مثل السيول.
- السؤال التاسع:
- ١ لم يجعله يحتل مكانة مهمة بين دول العالم - لم يجعله مطمئنًا لكثير من المحتلين عبر العصور.
  - ٢ لم تتنوع الموارد وبالتالي لم تتنوع الأنشطة الاقتصادية مثل: الزراعة والصيد والتعدين والسياحة والصناعة.
  - ٣ لم تتنوع النباتات الطبيعية والحيوانات البرية والأنشطة الاقتصادية.
  - ٤ لم توجد تربة خصبة صالحة للزراعة، ولم يتركز السكان فيها.
  - ٥ لم تتكون جبال التوائية في الوطن العربي.
  - ٦ نجد السفوح المواجهة للرياح المحملة ببخار الماء أقل مطرًا.

مراجعة الوحدة الثانية

السؤال الأول:

- ١ الرعي. ٢ قريش.
- ٣ عكاظ، ذي المجاز. ٤ الوفاء بالعهد.
- ٥ رعي الأغنام. ٦ الخطباء.
- ٧ جده عبد المطلب. ٨ الصادق الأمين.
- ٩ خديجة بنت خويلد.
- ١٠ الأرقم بن أبي الأرقم. ١١ الحبشة.
- ١٢ ثور. ١٣ رمضان. ١٤ الفيل.
- ١٥ مكة. ١٦ أحد.
- ١٧ المهاجرين والأنصار. ١٨ صلح الحديبية.
- ١٩ بناء المسجد. ٢٠ صحيفة المدينة.
- ٢١ بدر ٢هـ. ٢٢ أحد ٣هـ.
- ٢٣ الحديبية. ٢٤ الندوة. ٢٥ خزاعة.
- ٢٦ أبو بكر الصديق. ٢٧ الروم. ٢٨ الجند، بيت المال.
- ٢٩ بدر. ٣٠ الهجري. ٣١ الروم.
- ٣٢ سقيفة بني ساعدة. ٣٣ الكوفة.
- ٣٤ عثمان بن عفان. ٣٥ الكوفة.
- ٣٦ القيروان. ٣٧ العصر الذهبي.
- ٣٨ الوراقين. ٣٩ الأنبار. ٤٠ هارون الرشيد.
- ٤١ بغداد. ٤٢ الحرم المكي.
- ٤٣ علي بن أبي طالب. ٤٤ المأمون بن هارون.
- ٤٥ الوليد بن عبد الملك.

السؤال الثاني:

- |      |      |      |      |      |
|------|------|------|------|------|
| ✓ ٥  | X ٤  | X ٣  | ✓ ٢  | X ١  |
| X ١٠ | X ٩  | ✓ ٨  | ✓ ٧  | ✓ ٦  |
| X ١٥ | X ١٤ | ✓ ١٣ | ✓ ١٢ | ✓ ١١ |
| ✓ ٢٠ | X ١٩ | ✓ ١٨ | X ١٧ | X ١٦ |
| X ٢٥ | ✓ ٢٤ | ✓ ٢٣ | ✓ ٢٢ | ✓ ٢١ |
| X ٣٠ | ✓ ٢٩ | ✓ ٢٨ | ✓ ٢٧ | X ٢٦ |
| ✓ ٣٥ | ✓ ٣٤ | X ٣٣ | ✓ ٣٢ | ✓ ٣١ |
| X ٤٠ | X ٣٩ | ✓ ٣٨ | ✓ ٣٧ | X ٣٦ |
| ✓ ٤٥ | ✓ ٤٤ | X ٤٣ | X ٤٢ | ✓ ٤١ |
| ✓ ٥٠ | ✓ ٤٩ | ✓ ٤٨ | X ٤٧ | ✓ ٤٦ |

- ٦ نحت الصخور ونقلها وترسيبها بواسطة الرياح.
- ٧ مجارٍ كانت تملؤها المياه قديمًا ثم جفت.
- ٨ نقص كمية الأمطار خلال فترة زمنية محددة.

السؤال الثاني عشر:

- ١ المداري ٢ البحر المتوسط
- ٣ المداري ٤ الصحراوي الحار
- ٥ المداري ٦ المداري
- ٧ البحر المتوسط ٨ الصحراوي الحار
- ٩ البحر المتوسط

السؤال الثالث عشر:

● (خريطة رقم ١)

- ١ المتوسط ٢ طوروس
- ٤ الهندي ٥ الأطلنطي
- ٣ العربي

● (خريطة رقم ٢)

- ١ الكبرى ٢ الأحمر
- ٤ جزر القمر ٥ عمان
- ٣ الجزائر

● (خريطة رقم ٣)

- ١ البحر الأحمر ٢ أطلس
- ٤ زاجروس ٥ كردستان
- ٣ عمان

● (خريطة رقم ٤)

- ١ بادية الشام ٢ إفريقيا الشمالية
- ٣ نجد ٤ حضرموت
- ٥ الأطلنطي

● (خريطة رقم ٥)

- ١ النيل ٢ دجلة والفرات
- ٣ الحجاز ٤ عسير
- ٥ اليمن

● (خريطة رقم ٦)

- ١ البحر المتوسط ٢ الصحراوي
- ٤ العربي ٥ الهندي
- ٣ المداري

- ٧ خديجة بنت خويلد. ٨ حليلة السعدية.  
 ٩ جبريل (عليه السلام). ١٠ ورقة بن نوفل.  
 ١١ أبو بكر الصديق. ١٢ الرسول (ﷺ).  
 ١٣ الحباب بن المنذر. ١٤ قريش.  
 ١٥ قريش. ١٦ سلمان الفارسي.  
 ١٧ علي بن أبي طالب. ١٨ أبو بكر الصديق.  
 ١٩ خالد بن الوليد. ٢٠ النعمان بن مقرن.  
 ٢١ زيد بن ثابت. ٢٢ مسلمة الكذاب.  
 ٢٣ عمر بن الخطاب. ٢٤ سعد بن أبي وقاص.  
 ٢٥ عبد الله بن سبأ. ٢٦ عبد الملك بن مروان  
 ٢٧ عبد الملك بن مروان ٢٨ معاوية بن أبي سفيان  
 ٢٩ عبد الملك بن مروان ٣٠ الوليد بن عبد الملك  
 ٣١ عمر بن عبد العزيز ٣٢ أبو مسلم الخراساني  
 ٣٣ المأمون بن هارون ٣٤ أبو جعفر المنصور  
 ٣٥ هارون الرشيد

#### السؤال السابع:

- ١ ليرشد الناس إلى عبادة الله الواحد الأحد - ينشر العدل  
 والمساواة.  
 ٢ ليعلم فيها المسلمين مبادئ الدين الإسلامي.  
 ٣ للتعبد والتأمل في قدرة الله تعالى.  
 ٤ لأنها خافت على مكانتها ونفوذها بين القبائل.  
 ٥ بسبب الحروب والخلافات بين القبائل.  
 ٦ لكيلا يكون عبئاً على عمه.  
 ٧ لأنه اشتهر بالشعر والخطابة وكان لتنافس الشعراء.  
 ٨ خوفاً من أذى قريش.  
 ٩ لأن ملكها النجاشي كان عادلاً لا يُظلم عنده أحد.  
 ١٠ خافت على مكانتها ونفوذها بين القبائل.  
 ١١ بسبب التخطيط الجيد وتوفيق الله (ﷻ).  
 ١٢ ليتأمروا على قتل النبي (ﷺ) ليمنعوه من الهجرة.  
 ١٣ لتحديد حقوق المسلمين وغير المسلمين، وأكدت على  
 التعايش السلمي.  
 ١٤ بسبب مخالفة الرماة أوامر النبي (ﷺ) ونزولهم من  
 فوق الجبل لجمع الغنائم.  
 ١٥ لأن الصحابي سلمان الفارسي اقترح على النبي (ﷺ)  
 حفر خندق حول المدينة.

#### السؤال الثالث:

- ١ مكة. ٢ حراء. ٣ إكرام الضيف.  
 ٤ قريش. ٥ السرية. ٦ السيوف.  
 ٧ الرعي. ٨ الشام. ٩ جميع ما سبق.  
 ١٠ عكاظ. ١١ حليلة السعدية.  
 ١٢ أبو بكر الصديق. ١٣ الحبشة. ١٤ أبي بكر الصديق.  
 ١٥ مكة. ١٦ أحد. ١٧ مكة.  
 ١٨ قائد الجيش. ١٩ بناء المسجد.  
 ٢٠ بناء المسجد. ٢١ تنظيم العلاقات.  
 ٢٢ سلمان الفارسي. ٢٣ بداية عالمية الدعوة.  
 ٢٤ أبي بكر الصديق. ٢٥ علي بن أبي طالب.  
 ٢٦ حروب الردة. ٢٧ عمر بن الخطاب.  
 ٢٨ إنشاء الأسطول الإسلامي. ٢٩ تبوك.  
 ٣٠ دمشق. ٣١ أبو مسلم الخراساني.  
 ٣٢ بغداد. ٣٣ نطق المصحف.  
 ٣٤ معاوية بن أبي سفيان. ٣٥ أبو جعفر المنصور.  
 ٣٦ بيت الحكمة.

#### السؤال الرابع:

- ١ القبيلة. ٢ النظام القبلي.  
 ٣ الوحي. ٤ المهاجرون.  
 ٥ الغزوة. ٦ الخلفاء الراشدون.  
 ٧ المرتدون.

#### السؤال الخامس:

- ١ القبلي. ٢ الرعي.  
 ٣ اليمن. ٤ السيئة. ٥ الفيل.  
 ٦ السرية. ٧ الحبشة. ٨ أبو بكر الصديق.  
 ٩ بناء المسجد. ١٠ سرية.  
 ١١ غزوة بدر. ١٢ سلمان الفارسي.  
 ١٣ عشر. ١٤ أبو بكر الصديق. ١٥ الروم.  
 ١٦ الفسطاط. ١٧ فارس. ١٨ الروم.  
 ١٩ عبد الرحمن بن ملجم. ٢٠ الكوفة.  
 ٢١ الخاتم ٢٢ عبد الملك بن مروان.  
 ٢٣ دمشق ٢٤ الثاني. ٢٥ سامراء.

#### السؤال السادس:

- ١ أمنة بنت وهب. ٢ أبرهة الحبشي.  
 ٣ أبو طالب. ٤ ورقة بن نوفل.  
 ٥ عبد المطلب. ٦ النجاشي.

- ٣٢ بسبب الصراع بين الأمراء العباسيين على الحكم -  
ضعف الخلفاء العباسيين في نهاية العصر العباسي  
الثاني - سيطرة العناصر غير العربية على الحكم.
- السؤال الثامن:**
- ١ اكتسب النبي (ﷺ) العديد من الصفات، منها: الصبر  
والتواضع والرحمة والشجاعة.
- ٢ قامت بإيذاء النبي (ﷺ) واتهامه بالسحر والجنون -  
التفاوض معه بإغرائه بالمال والزعامة والسلطة لكنه  
رفض - تعذيب وإيذاء المسلمين - حصار المسلمين  
ومقاطعتهم.
- ٣ استجاب له وفد من أهل يثرب ودخلوا الإسلام.
- ٤ خافت قريش على مكانتها بين القبائل، فقامت بـ:  
- إيذاء النبي (ﷺ) واتهامه بالسحر والجنون.  
- التفاوض مع النبي (ﷺ) وإغرائه بالمال والسلطة.  
- تعذيب المسلمين وإيذائهم.  
- حصار المسلمين ومقاطعتهم.
- ٥ أمر الرسول (ﷺ) أصحابه بالهجرة الأولى إلى الحبشة.
- ٦ أدى إلى ارتفاع مكانة مكة التجارية بين القبائل.
- ٧ اكتسب منهم فصاحة اللسان وقوة البنيان ورجاحة  
العقل.
- ٨ آمن معه عدد قليل، منهم: أبو بكر الصديق، والسيدة  
خديجة، وعلي بن أبي طالب.
- ٩ انتصار المسلمين على قريش رغم قلة عددهم.
- ١٠ أدى إلى تحول نصر المسلمين إلى هزيمة.
- ١١ انتصار المسلمين على قريش وحلفائها بدون قتال.
- ١٢ أدى إلى قيام الرسول (ﷺ) بفتح مكة ٨ هـ.
- ١٣ بدأ النبي (ﷺ) بإرسال الرسل إلى ملوك العالم يدعوهم  
إلى الإسلام، وبدأت مرحلة عالمية الدعوة.
- ١٤ أدى إلى نشر المحبة والتعاون وبناء مجتمع متماسك  
قوي.
- ١٥ أدى إلى دخول النبي (ﷺ) مكة دون قتال وتحطيم  
الأصنام.
- ١٦ أدى إلى مبايعة أبي بكر الصديق ليصبح أول خليفة  
للمسلمين.

- ١٦ لتأسيس الدولة والدفاع عنها.
- ١٧ ليكون مركزاً للعبادة ومقرّاً للحكم.
- ١٨ لحماية الدولة.
- ١٩ هرباً من التعذيب والاضطهاد.
- ٢٠ لأن قريشاً نقضت صلح الحديبية باعتمادها على قبيلة  
خزاعة.
- ٢١ لتأمين حدود الدولة الإسلامية من جهة الروم.
- ٢٢ لتسهيل إدارة شئون الدولة بعد اتساعها.
- ٢٣ لأنه أول من آمن من الرجال - أسلم على يديه عدد  
كبير من الصحابة - أنفق معظم أمواله في سبيل الله  
- صاحب النبي (ﷺ) في الهجرة - شارك النبي (ﷺ)  
جميع غزواته - اختاره النبي (ﷺ) ليؤم المسلمين في  
الصلاة أثناء مرضه.
- ٢٤ لتوزيعه على البلاد الإسلامية لتوحيد قراءة القرآن  
الكريم.
- ٢٥ بسبب استشهاد عدد كبير من حفظة القرآن الكريم  
في حروب الردة.
- ٢٦ لحماية سواحل مصر والشام من هجمات الروم في  
عهده.
- ٢٧ لنشر الإسلام في شمال إفريقيا.
- ٢٨ بسبب تولي خلفاء ضعفاء بعد عمر بن عبد العزيز -  
كثرة الصراعات بين القبائل العربية - ظهور الدعوة  
العباسية على يد أبي مسلم الخراساني - هزيمة  
الأمويين في معركة الزاب الكبرى عام ١٣٢ هـ على يد  
الدولة العباسية.
- ٢٩ لما عرف عنه من عدل وزهد وحرص على مصلحة  
الأمة.
- ٣٠ لنسخ الكتب وبيعها.
- ٣١ لتكون مقرّاً للخلافة.

- ١٢ حيث في غزوة بدر أشار عليه الحباب بن المنذر أن يعسكر الجيش عند أقرب بئر لبدر لمنع الماء عن المشركين - وفي غزوة الخندق أشار سلمان الفارسي بحفر خندق حول المدينة لمنع وصول قريش وحلفائها إلى المسلمين.
- ١٣ حيث ضرب النبي (ﷺ) أروع الأمثلة في التسامح والعمو عن أهل مكة حين قال لهم: «اذهبوا فأنتم الطلقاء».
- ١٤ حيث قام بإنشاء الكوفة في العراق والفسطاط في مصر.
- ١٥ فقد أدت الفتنة إلى استشهاد عثمان بن عفان عام ٣٥هـ .
- ١٦ قام بنقل العاصمة من المدينة إلى الكوفة لتسهيل إدارة شؤون الدولة الإسلامية.
- ١٧ حيث قام بإعادة بناء المسجد الأموي ووسع الحرم المكي وشيد المسجد الأموي بدمشق.
- ١٨ حيث شجع على حركة الترجمة من الحضارات الأخرى ودعم العلماء والمفكرين.
- ١٩ حيث اهتم بتجديد الطريق بين مكة والكوفة وزوده بالمنارات لإرشاد المسافرين.
- ٢٠ حيث قضى على الفتن والثورات ونشر الأمن والاستقرار في أرجاء الدولة.

#### السؤال العاشر:

- ١ أصبحت الأسواق مكاناً للتنافس بين الشعراء والخطباء مثل: سوق عكاظ وذي المجاز.
- ٢ في مرحلة الدعوة السرية اتخذ النبي (ﷺ) دار الأرقم بن أبي الأرقم ليعلم فيها المسلمين مبادئ الإسلام.
- ٣ بعد هجرة النبي (ﷺ) إلى يثرب قام ببناء الدولة الإسلامية على مجموعة من الأسس، منها: بناء المسجد، والمؤاخاة بين المهاجرين والأنصار، وصحيفة المدينة.
- ٤ بسبب نقض قريش لصالح الحديبية قام النبي (ﷺ) بفتح مكة عام ٨هـ.

- ١٧ أمر أبو بكر الصديق زيد بن ثابت بجمع القرآن الكريم.
- ١٨ أدى إلى استشهاد عثمان بن عفان عام ٣٥هـ.
- ١٩ أدى إلى إنشاء الدواوين مثل: ديوان الجند وبيت المال.
- ٢٠ أدى إلى سقوط الدولة الأموية على يد الدولة العباسية.
- ٢١ أدى إلى سقوط الدولة العباسية على يد المغول سنة ٦٥٦هـ.
- ٢٢ بلغت الدولة الإسلامية أقصى اتساع لها من بلاد الهند شرقاً إلى بلاد الأندلس غرباً.

#### السؤال التاسع:

- ١ حيث اكتسب بعض الصفات، منها: فصاحة اللسان وقوة البنيان ورجاحة العقل.
- ٢ حيث أصبحت الأسواق مكاناً للتنافس بين الشعراء والخطباء مثل: سوق عكاظ وذي المجاز.
- ٣ من أهم هذه الصفات: الصبر والشجاعة والكرم والوفاء بالعهد.
- ٤ حيث مارسوا حرفة الرعي وهي أكثر الحرف انتشاراً - وتميزوا بالصناعة مثل: السيوف والرماح والأواني الفخارية - واشتهروا بالتجارة فكانوا ينظمون رحلات الصيف والشتاء.
- ٥ منهم هود وصالح وشعيب.
- ٦ حيث كانوا ينظمون رحلاتي الصيف والشتاء.
- ٧ أدى إلى بداية الدعوة سراً.
- ٨ حيث أدى نزول الرماة من فوق الجبل لجمع الغنائم إلى تحول النصر إلى هزيمة.
- ٩ حيث خافت قريش على مكانتها بين القبائل، فقامت بـ: - إيذاء النبي (ﷺ) واتهامه بالسحر والجنون. - التفاوض مع النبي (ﷺ) وإغرائه بالمال والسلطة. - تعذيب المسلمين وإيذائهم. - حصار المسلمين ومقاطعتهم.
- ١٠ من خلال تكوين جيش قوي وتدريبه وتسليحه.
- ١١ حيث فكر سلمان الفارسي في حفر خندق حول المدينة لمنع وصول قريش وحلفائها إلى المسلمين.

- ١٥ السودان. ١٦ البحيرات.  
 ١٧ المصايد السمكية. ١٨ الحديد.  
 ١٩ السودان، مصر. ٢٠ الفوسفات.  
 ٢١ الأسلاك الكهربائية و الأجهزة الإلكترونية.  
 ٢٢ الغاز الطبيعي. ٢٣ الشرقية.  
 ٢٤ مصر. ٢٥ الثقافية.  
 ٢٦ المسجد الحرام. ٢٧ لبنان.  
 ٢٨ طبيعية و بشرية. ٢٩ ثقافية.  
 ٣٠ شرم الشيخ. ٣١ رياضة.  
 ٣٢ الإمارات و الكويت.

### السؤال الثاني:

- |      |      |      |      |      |
|------|------|------|------|------|
| ✓ ١  | ✓ ٢  | ✓ ٣  | ✓ ٤  | X ٥  |
| X ٦  | ✓ ٧  | ✓ ٨  | ✓ ٩  | ✓ ١٠ |
| X ١١ | X ١٢ | ✓ ١٣ | ✓ ١٤ | X ١٥ |
| ✓ ١٦ | ✓ ١٧ | ✓ ١٨ | X ١٩ | ✓ ٢٠ |
| ✓ ٢١ | X ٢٢ | ✓ ٢٣ | ✓ ٢٤ | X ٢٥ |
| ✓ ٢٦ | ✓ ٢٧ | ✓ ٢٨ | X ٢٩ | ✓ ٣٠ |
| ✓ ٣١ | ✓ ٣٢ | X ٣٣ | ✓ ٣٤ | X ٣٥ |
| ✓ ٣٦ | X ٣٧ | ✓ ٣٨ | ✓ ٣٩ | ✓ ٤٠ |

### السؤال الثالث:

- ١ قلة الأمطار  
 ٢ الأيدي العاملة  
 ٣ مصر  
 ٤ التغيرات المناخية  
 ٥ القمح  
 ٦ مصر  
 ٧ السودان  
 ٨ مصر  
 ٩ الصومال  
 ١٠ المغرب  
 ١١ المغرب  
 ١٢ الحديد  
 ١٣ المنجنيز  
 ١٤ النحاس  
 ١٥ الأسمدة  
 ١٦ قطر  
 ١٧ عيون موسى  
 ١٨ حسن الضيافة  
 ١٩ مصر  
 ٢٠ المناخ المعتدل  
 ٢١ المسجد الأقصى  
 ٢٢ الأردن  
 ٢٣ محمية ضانا  
 ٢٤ تسوق

- ٥ تحول نصر المسلمين إلى هزيمة في غزوة أحد بسبب مخالفة الرماة أوامر الرسول (ﷺ) لنزولهم لجمع الغنائم.  
 ٦ من أعمال أبي بكر الصديق حروب الردة، ومنها القضاء على مسيلمة الكذاب الذي ادعى النبوة.  
 ٧ قام عمر بن الخطاب بإنشاء الدواوين منها: ديوان الجند وبيت المال.  
 ٨ حيث شجعت الدولة العباسية على ترجمة الكتب من الحضارات الأخرى؛ مما أدى إلى ازدهار الحياة العلمية.

### السؤال الحادي عشر:

- ١ جماعة من الناس ينتمون إلى أصل ونسب واحد ولهم عادات وتقاليد.  
 ٢ نظام يتكون من قبائل متفرقة، ولكل قبيلة شيخ يحكمها.  
 ٣ تعاليم صادرة من الله (ﷻ) إلى الأنبياء بواسطة جبريل (ﷺ).  
 ٤ المسلمون الذين تركوا ديارهم وأموالهم في مكة وهاجروا إلى المدينة.  
 ٥ هم المسلمون من أهل يثرب الذين نصرروا النبي (ﷺ) في دعوته.  
 ٦ خروج الجيش للقتال بقيادة النبي (ﷺ).  
 ٧ خروج الجيش للقتال دون النبي (ﷺ).  
 ٨ جماعة من الناس خرجوا عن الإسلام وادعى بعضهم النبوة.

### مراجعة الوحدة الثالثة

#### السؤال الأول:

- ١ العراق. ٢ النيل. ٣ الطبيعية.  
 ٤ الجوفية. ٥ السكر. ٦ الخليج العربي.  
 ٧ النيل. ٨ التنقيط.  
 ٩ الدلتا الجديدة. ١٠ الرعاية البيطرية.  
 ١١ الأغنام و الماعز. ١٢ المراعي الطبيعية.  
 ١٣ مصر. ١٤ الحمراء.

السؤال الرابع:

- ١ رأس المال
- ٢ السافانا
- ٣ المصايد السمكية
- ٤ الإستبس
- ٥ مصر
- ٦ النحاس
- ٧ الكبريت
- ٨ طاقة الرياح
- ٩ الفحم
- ١٠ المؤتمرات والمعارض
- ١١ الذهب
- ١٢ السياحة الترفيهية
- ١٣ السياحة البيئية
- ١٤ سياحة رياضية

السؤال الخامس:

- ١ قصب السكر
- ٢ صعيد مصر
- ٣ الشمال
- ٤ المعتدلة
- ٥ الحيوانية
- ٦ الفحم
- ٧ المنجنيز
- ٨ النحاس
- ٩ الكهرومائية
- ١٠ الرياضية

السؤال السادس:

- ١ يهدف لاستصلاح أكثر من مليون فدان باستخدام طرق الري الحديثة والطاقة النظيفة - يساعد في تحقيق الأمن الغذائي - توفير فرص عمل للشباب.
- ٢ تساعد على نقل المحاصيل من المزارع إلى الأسواق قبل أن تتلف.
- ٣ مهمة لبيع وتسويق المنتجات الزراعية.
- ٤ لحل مشكلات الزراعة في الوطن العربي.
- ٥ لأنها تربة غنية تساعد على نمو المحاصيل الزراعية.
- ٦ توفر الغذاء للإنسان والعلف للحيوان - توفر المواد الخام اللازمة للصناعة - توفر فرص عمل للشباب - مصدر رئيسي للدخل القومي لبعض الدول العربية.
- ٧ ضروري لإنشاء المشروعات الزراعية وشراء البذور والأسمدة والآلات.
- ٨ لوفرة الأعلاف والمزارع الحديثة بها.
- ٩ بفضل البيئة الزراعية الخصبة على ضفاف نهر النيل والتي تعد مناسبة لتربية الجاموس.
- ١٠ لأنها تعد مصدرًا غنيًا بالبروتين الحيواني - تستخدم بعض الحيوانات في الزراعة والنقل - توفر المواد الخام مثل الجلود والألبان واللحوم.

- ١١ لأنها مصدر مهم للغذاء الغني بالبروتين - تسد النقص في اللحوم الحمراء - توفر فرص عمل للشباب.

- ١٢ يستخدم في صناعة الأدوية والصناعات الكيماوية.
- ١٣ يستخدم في صناعة الصلب ومواد الطلاء.
- ١٤ تستخدم في توليد الكهرباء وتسخين المياه وتشغيل الأجهزة.
- ١٥ حيث يستخدم في تشغيل المصانع والسيارات والطائرات كما يدخل في صناعة البلاستيك.
- ١٦ يعد مصدرًا للدخل القومي ويوفر فرص عمل للشباب.
- ١٧ لأنه يتميز بطبيعة خلابة وتاريخ قديم، ويعد فرصة للتعرف على حضارات الوطن العربي.
- ١٨ لجذب السياح للتمتع بالمواقع الأثرية في مدينة القيروان بتونس والأسواق الشعبية بدولة المغرب.
- ١٩ لأنها تحتوي على عيون المياه الكبريتية والمعدنية التي تستخدم في علاج الأمراض.

- ٢٠ لاستقبال السياح الذين يفدون إلى الوطن العربي.
- ٢١ بهدف جذب السياح وتعريفهم بحضارة مصر.

السؤال السابع:

- ١ أدى إلى تنوع المحاصيل والمنتجات الزراعية.
- ٢ جعله مهبطًا للاستقرار ومهدًا لقيام الحضارات عبر العصور.
- ٣ مما جعل مصر أولى الدول في تربية الجاموس بالوطن العربي.
- ٤ زيادة الرقعة الزراعية - استصلاح آلاف الأفدنة بالصحراء الغربية - يزرع به القمح والفواكه والنخيل.
- ٥ ساعد على نقل المحاصيل من المزارع إلى الأسواق قبل أن تتلف.
- ٦ زيادة الإنتاج السمكي بالوطن العربي.
- ٧ أدى إلى قلة الأسماك في الوطن العربي.
- ٨ أدى إلى تربية الأبقار والاعنام في السودان.
- ٩ أصبحت دولة المغرب أكبر دول الوطن العربي إنتاجًا للأسماك من المصايد البحرية.
- ١٠ أدى إلى توليد الكهرباء وتسخين المياه وتشغيل الأجهزة.

٩ من خلال:

- (١) منع الصيد الجائر.
- (٢) سن القوانين للحد من التلوث.
- (٣) تحسين أحوال الصيادين.
- (٤) التوسع في مشروعات الاستزراع السمكي.
- (٥) توفير وسائل صيد حديثة وآمنة.

١٠ من خلال:

- (١) تصنيع الأعلاف بسعر مناسب.
  - (٢) تحسين الرعاية البيطرية.
  - (٣) تنظيم المراعي.
  - (٤) استخدام الأساليب العلمية في الإنتاج الحيواني.
  - (٥) تنفيذ المشروعات لمواجهة التغير المناخي.
- ١١ حيث يستخدم في الطهي وتشغيل المصانع وتوليد الكهرباء.

١٢ حيث يستخدم في تشغيل المصانع والسيارات والطائرات ويدخل في صناعة البلاستيك.

١٣ حيث توجد السياحة الدينية والسياحة الثقافية وسياحة المؤتمرات والمعارض وسياحة التسوق والسياحة البيئية والسياحة الترفيهية والسياحة العلاجية والسياحة الرياضية.

١٤ من خلال:

- (١) إنشاء مطارات وفنادق جديدة.
- (٢) تطوير الأماكن السياحية القديمة وتجديدها.
- (٣) تنظيم مهرجانات وفعاليات لجذب السياح.
- (٤) تدريب وتأهيل العاملين بالسياحة.
- (٥) توفير الأمن والأمان للسياح.

١٥ من خلال:

- (١) إنشاء المتحف المصري الكبير وتطوير منطقة الأهرامات.
- (٢) بناء المدن السياحية الجديدة مثل العلمين الجديدة.
- (٣) تنظيم مهرجانات عالمية مثل موكب المومياوات.
- (٤) توفير الأمن والأمان.

السؤال التاسع:

- ١ حشائش تنمو طبيعياً دون تدخل من الإنسان.
- ٢ مصائد طبيعية يتم الصيد منها مباشرة.

١١ أدى إلى تلوث البيئة وحدث تغيرات مناخية.

١٢ أدى إلى زيادة جذب السياح للوطن العربي وزيادة الدخل القومي.

١٣ أدى إلى جذب الكثير من السياح وتعريفهم بالحضارات التي قامت بالوطن العربي.

السؤال الثامن:

١ حيث إن هناك مياه الأنهار مثل نهر النيل في مصر والسودان ونهري دجلة والفرات في العراق، بالإضافة إلى المياه الجوفية التي توجد في الواحات مثل واحة سيوة في مصر وواحة عين صالح بالجزائر وتوجد مياه الأمطار التي تسقط على الساحل الشمالي وتعتمد عليها لبنان والمغرب.

٢ من خلال:

- (١) معالجة مياه الصرف. (٢) تحلية مياه البحر.
- (٣) استصلاح الأراضي الصحراوية.
- (٤) بناء الخزانات والسدود.
- (٥) استخدام أساليب الري الحديثة مثل الري بالرش والتنقيط.

(٦) استحداث بذور مقاومة للتغيرات المناخية.

٣ حيث توجد مشكلات طبيعية مثل : قلة الأمطار - ندرة المياه العذبة - التغيرات المناخية بالإضافة إلى المشكلات البشرية مثل : التلوث والزحف العمراني - قلة العمالة المدربة - ضعف الاستثمار الزراعي.

٤ حيث قاموا بتسجيل أنشطتهم الزراعية على جدران المعابد والمقابر مما يدل على أهمية الزراعة.

٥ قاموا بإنشاء مشروع مستقبل مصر للزراعة المستدامة ومشروع توشكى للوادي الجديد.

٦ من خلال استحداث بذور مقاومة للتغيرات المناخية.

٧ من خلال:

- (١) تلوث المياه بسبب إلقاء المخلفات.
- (٢) الصيد الجائر.
- (٣) ترك بعض الصيادين لحرفة الصيد.
- (٤) التغير المناخي وارتفاع الحرارة.
- (٥) استخدام وسائل صيد بدائية.

٨ من خلال توافر البيئة الفيضية الخصبة على ضفاف نهر النيل والتي تعد مناسبة جداً لتربية الجاموس.

- ٨ تعد السياحة مصدرًا مهمًا للدخل القومي.
- ٩ يعد المناخ المعتدل أحد المقومات الطبيعية للسياحة.
- ١٠ تهتم الإمارات بالسياحة من خلال عدة مشاريع مثل برج خليفة وجزيرة النخلة.

السؤال الحادي عشر:

● (خريطة رقم ١)

- ١ السعودية.
- ٢ السودان.
- ٣ مصر.
- ٤ الصومال.

● (خريطة رقم ٢)

- ١ مصر.
- ٢ السعودية.
- ٣ المغرب.
- ٤ قطر.

● (خريطة رقم ٣)

- ١ موريتانيا.
- ٢ مصر.
- ٣ السعودية.
- ٤ المغرب.
- ٥ فلسطين.
- ٦ لبنان.
- ٧ العراق.
- ٨ الصومال.

● (خريطة رقم ٤)

- ١ المغرب.
- ٢ السودان.
- ٣ السعودية.

٣ أماكن يتم تربية الأسماك فيها بطريقة حديثة ومنظمة.

٤ انتقال الأفراد من مكان لآخر داخل بلدهم أو خارجه.

٥ هي السياحة التي تتمثل في زيادة عيون المياه الكبريتية والمعدنية.

٦ هي السياحة التي تتمثل في زيارة الأماكن الدينية المقدسة.

السؤال العاشر:

١ أدى تنوع المناخ في الوطن العربي إلى تنوع المحاصيل والمنتجات الزراعية.

٢ تعد التغيرات المناخية من المشكلات الطبيعية التي تواجه الزراعة بالوطن العربي.

٣ من مشكلات الثروة الحيوانية الإفراط في الرعي مما يضر بالمراعي الطبيعية.

٤ توفر الثروة الحيوانية المواد الخام للصناعة مثل الجلود والألبان واللحوم.

٥ يستخدم الفحم في المصانع لصهر الحديد.

٦ يعد البترول سبباً رئيسياً في قوة الاقتصاد لبعض دول الوطن العربي.

٧ تعد مصادر الطاقة المتجددة نظيفة وصديقة البيئة.

