




مختبر اجتماعيات البيضاء

الطبعة الأولى
الأعداد الأولى
الفصل الدراسي الأول

المراجعة النهائية والامتحانات

الامتحانات النهائية



إبجان فوزي

المحتويات

- امتحانات الكتاب المدرسي (الفصل الدراسي الأول)
- امتحانات بعض الإدارات التعليمية والمدارس (الفصل الدراسي الأول ٢٠٢٥ م)

الأول

الامتحان



السؤال الأول (١) بالاستعانة بالخريطة المقابلة: اختر الإجابة

الصحيحة مما بين القوسين:

١ يتقاطع مدار السرطان مع خط الطول الرئيسي في دولة

(الجزائر - نيجيريا - تشاد - كينيا)

٢ تقترب قارة إفريقيا من قارة أوروبا عند

(مضيق موزمبيق - قناة السويس - مضيق باب المندب - مضيق جبل طارق)

٣ دولة داخلية في قارة إفريقيا عضو في تجمع الأندوجو

(أوغندا - إريتريا - تنزانيا - بوتسوانا)

٤ إحدى دول منابع النيل، ونشأت فيها حضارة إفريقية قديمة

(مصر - إثيوبيا - تونس - رواندا)

(ب) ما النتائج المترتبة على...؟

١ حالات الجفاف العديدة التي شهدتها منطقة نظام غابات البحر المتوسط بإفريقيا.

٢ تصارع الدول الاستعمارية على قارة إفريقيا.

السؤال الثاني (١) اكتب كلمة (صواب) أمام العبارة الصحيحة، وكلمة (خطأ) أمام العبارة

غير الصحيحة، مع التصويب:

١ بدأ عصر الرخاء الاقتصادي على يد أحد حكام مدينة (من - نفر). ()

٢ مثلت شبه جزيرة سيناء في عهد الدولة القديمة موردًا مهمًا للأخشاب والعاج. ()

٣ تكونت سلسلة جبال في شمال غرب إفريقيا نتيجة الحركات الالتوائية. ()

٤ تحتل إفريقيا المرتبة الثانية عالميًا من حيث مساحة نظام المانجروف. ()

٥ تقع معظم مساحة قارة إفريقيا شمال دائرة الاستواء. ()

(ب) ماذا كان يحدث إذا...؟

١ جفت المنابع الموسمية لنهر النيل.

٢ لم ينشئ الملك أمنمحات الثالث سد اللاهون.

السؤال الثالث (١) من يكون...؟

١ دعا إلى عبادة إله واحد هو الإله آتون في أحد العصور المصرية القديمة. (.....)

٢ الوزير الذى غير شكل المقابر الملكية لأول ملوك الأسرة الثالثة. (.....)

٣ أحد ملوك الدولة الحديثة، قام بعمل أول اتفاقية دفاع مشترك مسجلة فى التاريخ. (.....)

٤ الخليفة الذى تم فى عهده فتح مصر. (.....)

(ب) حذد العلاقة بين:

١ التجار المسلمين فى العصور الوسطى والمراكز الثقافية الإسلامية فى تمبكتو.

٢ عمرو بن العاص وانتشار الإسلام فى إفريقيا.

السؤال الرابع (١) رتب الأحداث التالية من القديم إلى الحديث:

() اكتشاف مقبرة الملك توت عنخ آمون.

() رحلات (حر - خوف) إلى جنوب مصر.

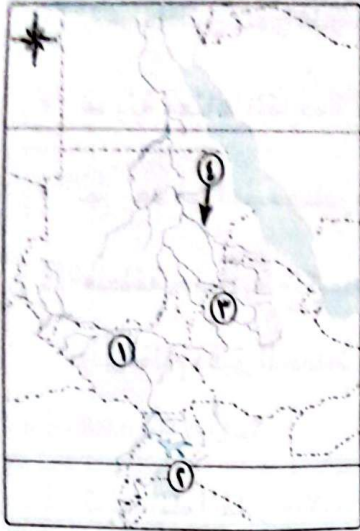
() تشييد حصن سمنا وقمنة.

() دخول الإسكندر الأكبر مصر.

(ب) بهم تفسر...؟

١ أهمية النيل الأزرق بالنسبة لمصر.

٢ يُعد الحفاظ على غابات حوض الكونغو ضرورة للتوازن البيئى.



السؤال الاول (١) أمامك خريطة لحوض النيل، اكتب مدلول

الأرقام الموقعة عليها:

- ١ دولة
- ٢ بحيرة
- ٣ هضبة
- ٤ نهر

(ب) دلل على صحة العبارتين التاليتين:

١ يواجه نظام حشائش الإسبتس العديد من الأخطار.

.....

.....

٢ كان للمرأة دور واضح في الدفاع عن مصر في عهد الأسرة الـ ١٧.

.....

.....

السؤال الثانى (١) صوب ما تحته خط:

١ ظهرت نصوص الأهرام لأول مرة في حجرة دفن الملك خوفو.

٢ إحدى أهم أشجار غابات البحر المتوسط الكاكاو.

٣ نجح القائد المسلم عمرو بن العاص في فتح مصر وسببيلة.

٤ تقترب قارة إفريقيا من قارة آسيا عند مضيق موزمبيق.

(ب) بم تفسر...؟

١ ضعف وسقوط الدولة القديمة.

.....

٢ تندر النباتات الطبيعية في نظام الصحارى الحارة.

.....

السؤال الثالث (١) اكتب ما تشير إليه العبارات التالية:

- ١ الأفراد الذين تلقوا قدرًا من العلوم الدينية التي تؤهلهم لنشر الإسلام. (.....)
- ٢ مدينة معناها القابضة على الأرضين، واتخذها الملك أمنمحات الأول عاصمة لمصر. (.....)
- ٣ نهر يُعد من أهم مصادر مياه بحيرة فيكتوريا، ويصب في غربها. (.....)
- ٤ منطقة جغرافية متكاملة تتكون من مكونات حية وغير حية تتفاعل مع بعضها وفق نظام دقيق للحفاظ على التوازن البيئي واستدامة الحياة. (.....)

(ب) ما العلاقة بين...؟

- ١ تطور بناء المقابر، والأسرة الفرعونية الرابعة.

فوزي
إيمان

- ٢ هضبة الحبشة، والزراعة في مصر.

السؤال الرابع (١) اختر الإجابة الصحيحة مما بين القوسين:

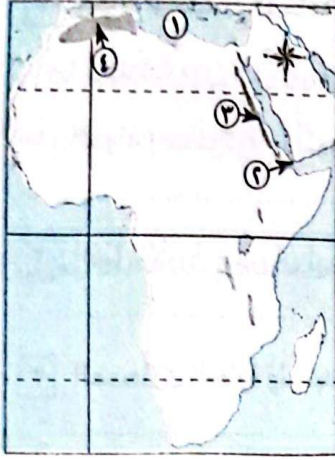
- ١ أحد ملوك مصر القديمة وأرسل بعثة للدوران حول إفريقيا
(رمسيس الثالث - نخاو الثاني - أحمس الأول - سنفرو)
- ٢ توجد جامعة سنكوري في دولة
(نيجيريا - الجزائر - إثيوبيا - مالي)
- ٣ المسطح المائي الذي يخلو من مصبات الأنهار بقارة إفريقيا
(البحر الأحمر - البحر المتوسط - المحيط الهندي - المحيط الأطلنطي)
- ٤ أكثر النظم البيئية اقترابًا من المناطق التي تسقط عليها الأمطار طوال العام
(حشائش الإستبس - السافانا المكشوفة - السافانا البستانية - الصحارى الحارة)

(ب) ماذا كان يحدث إذا لم...؟

- ١ تدخل أنواع جديدة من الأسماك إلى بحيرة فيكتوريا.

- ٢ يتكون الأخدود الإفريقي العظيم في شرق إفريقيا.

محافظة القاهرة - إدارة الوايلي التعليمية



السؤال الأول (١) أمامك خريطة صماء لقارة إفريقيا، اكتب

مدلول الأرقام الموقعة عليها:

- ١ البحر.....
 ٢ مضيق.....
 ٣ جبال.....
 ٤ غابات.....

(ب) بم تفسر...؟

١ أهمية غابات حوض الكونغو في الحفاظ على التوازن البيئي.

.....

٢ ضعف وسقوط الدولة القديمة.

.....

٣ هجرة بعض المسلمين إلى بلاد الحبشة في عهد النبي ﷺ.

.....

السؤال الثاني (١) ضع كلمة (صواب) أمام العبارة الصحيحة، وكلمة (خطأ) أمام العبارة

غير الصحيحة:

١ تحتل قارة إفريقيا المركز الثاني عالمياً من حيث مساحة المانجروف. ()

٢ يسمى عصر الدولة الوسطى بعصر المجد الحربي. ()

(ب) ما النتائج المترتبة على...؟

١ اقتراب جبال أطلس من ساحل البحر المتوسط.

.....

٢ قيام الملك سنوسرت الثالث بحفر قناة سيزوستريس.

.....

٣ اختلاف سقوط الأمطار من مكان لآخر في حشائش السافانا.

.....

السؤال الثالث (١) لمن تنسب الأعمال الآتية...؟

- ١ أحد ملوك الدولة الحديثة قام بعمل أول معاهدة سلام في التاريخ. (.....)
- ٢ القائد الذي قام بفتح مصر. (.....)
- ٣ رحالة في عصر قدماء المصريين قام بأربع رحلات نحو جنوب إفريقيا. (.....)

(ب) ما العلاقة بين كل مما يأتي...؟

١ الدولة المملوكية وتطور الخبرات الحربية لبلاد الحبشة.

٢ النيل الأزرق وجريان نهر النيل حتى المصب بالبحر المتوسط.

٣ الصحارى الحارة وتوليد الطاقة.

السؤال الرابع (١) اكتب ما تشير إليه العبارات الآتية:

- ١ مساحة من الأرض تزيد على ٥ آلاف متر مربع وتنمو بها أشجار لا تقل عن ٥ أمتار. (.....)
- ٢ مسطحات ملحية فوق تكوينات من الطين والصلصال. (.....)
- ٣ دولة كبيرة تسيطر على مناطق وشعوب مختلفة تحت قيادة قوية. (.....)

(ب) قارن بين كل مما يأتي:

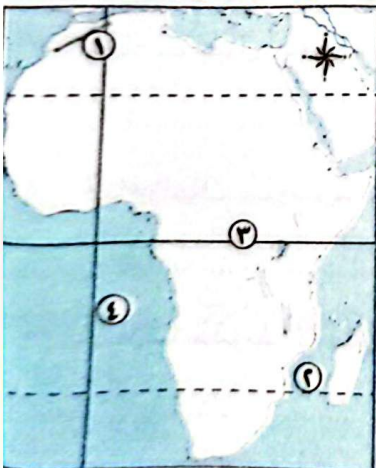
١ جبال البحر الأحمر - جبل كينيا، من حيث النشأة.

٢ السافانا - الإستبس، من حيث الأهمية.

٣ موقعة مجدو - قادش، من حيث قائد المعركة.

محافظة الجيزة - إدارة بولاق الدكرور التعليمية

السؤال الأول (١) أمامك خريطة لقارة إفريقيا، اكتب ما تدل عليه الأرقام الآتية:



- ١ جبال
- ٢ مضيق
- ٣ دائرة
- ٤ المحيط

وما المقصود بكل من...؟

٢ المدى الحرارى السنوى.

١ الاقتصاد الأخضر.

٤ الدعاة.

٢ نصوص الأهرام.

السؤال الثانى (١) اختر الإجابة الصحيحة مما بين القوسين:

١ تسقط الأمطار فى نطاق حشائش السافانا فى فصل.....

(الصيف - الشتاء - الربيع - الخريف)

٢ أولى المحطات الإفريقية التى وصل إليها الإسلام هى.....

(الجبشة - مصر - برقة - المغرب)

(ب) ضع تفسيرًا واحدًا لكل مما يأتى:

١ الأهمية الاقتصادية لجبال إفريقيا.

٢ أهمية نظام الصحارى الحارة.

٢ يتعرض نظام المانجروف للتدهور.

(ج) اذكر نتيجة واحدة لكل من:

١ كثرة أعداد الحيوانات فى حشائش الإستبس.

٢ فتح المسلمين لمدينة سببلة.

السؤال الثالث (١) اكتب كلمة (صح)، أو كلمة (خطأ) أمام العبارات الآتية:

١ تأتي معظم مياه نهر النيل من المنابع الدائمة. ()

٢ تتميز تربة الغابات المدارية باللون الأحمر. ()

(ب) اكتب دليلًا واحدًا لكل من:

١ لعب محمد على باشا دورًا فى اكتشاف منابع النيل.

٢ يُعد تحتمس الثالث أعظم ملوك مصر فى مجال الحرب.

٢ الأهمية الحضارية لقارة إفريقيا.

١ كان للتجار المسلمين دور بارز فى نشر الإسلام بإفريقيا.

(ج) لمن تنسب الأعمال الآتية...؟

١ أمر بحفر قناة سيروس تريس. (.....)

٢ ملك مصرى ترجع شهرته لاكتشاف مقبرته كاملة. (.....)

السؤال الرابع (١) اكتب ما تشير إليه العبارتان الآتيتان:

- ١ الجبال التي تكونت نتيجة الثورات البركانية. (.....)
- ٢ الفترة الزمنية التي امتدت من القرن الخامس حتى القرن الخامس عشر الميلادي. (.....)
- (ب) صف العناصر الآتية إلى النظام البيئي للمياه العذبة أو النظام البيئي للمياه المالحة.
- ١ بحيرة المنزلة ٢ مستنقعات نبات البردى. ٣ محمية نبق.
- (ج) ما العلاقة بين كل من...؟
- ١ الأمطار وتنوع السافانا.
- ٢ عمروبن العاص وانتشار الإسلام في إفريقيا.

فوزي

إيمان

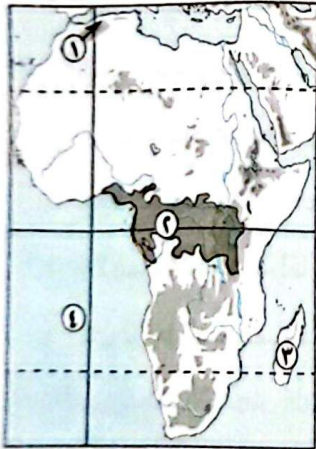
محافظة الإسكندرية - إدارة شرق التعليمية

السؤال الأول (١) اكتب ما تشير إليه العبارات الآتية:

- ١ مدينة مصرية أصبحت مقر الخلافة العباسية بعد سقوطها في بغداد. (.....)
- ٢ تعد المعبر البري الوحيد الذي يربط شبه الجزيرة العربية بإفريقيا. (.....)
- ٣ دولة قامت بإمداد الهكسوس بالمون فترة احتلالهم لمصر. (.....)
- ٤ أحد أروقة الأزهر كان يضم طلاب شمال إفريقيا. (.....)
- ٥ حضارة إفريقية أثرت في تاريخ القارة ولكنها لم ترتبط بنهر النيل. (.....)
- (ب) ما النتائج المترتبة على...؟

- ١ وجود سهول طينية في نظم الأراضي المالحة.
- ٢ ازدياد نفوذ كهنة الإله رع في نهاية الأسرة الرابعة.

السؤال الثاني (١) أمامك خريطة لقارة إفريقيا، وضح ما تشير إليه الأرقام الآتية:



- ١ جبال التوائية
- ٢ غابات
- ٣ جزيرة
- ٤ مسطح مائي

(ب) اختر الإجابة الصحيحة مما بين القوسين:

- ١ يعيش في نظام الإستبس حيوانات متنوعة، من أشهرها.....

(الذئاب - الغزلان - النمور - القروود)

٢ توجد الشعاب المرجانية فى معظم سواحل إفريقيا

(الجنوبية - الشمالية - الغربية - الشرقية)

٣ أحد المكونات الحية الدقيقة فى النظام البيئى

(الحرارة - الرطوبة - الفطريات - الأمطار)

٤ أولى الدول الإفريقية التى فتحها المسلمون

٥ يرمز اسم الإله (سُبِك) عند المصريين القدماء إلى

(ج) ما رأيك فى مدى مصداقية العبارة الآتية...؟

(قامت الملكة إياح حتب بدور مهم فى طرد الهكسوس من مصر)

السؤال الثالث (١) ضع كلمة (صح) أمام العبارة الصحيحة، وكلمة (خطأ) أمام العبارة غير الصحيحة:

١ تعتبر هضبة البحيرات الاستوائية المنبع الدائم لنهر النيل. ()

٢ نقل منتوحتب الثانى عاصمة البلاد من طيبة إلى إثيت تاوى. ()

٣ تقترب قارة إفريقيا من قارة أوربا عند مضيق باب المندب. ()

٤ تسجل قارة إفريقيا أعلى معدل خسارة فى مساحة الغابات على مستوى العالم. ()

٥ سهول البحر الأحمر الساحلية غنية بالثروات المعدنية ومصادر الطاقة. ()

(ب) دلل على صحة العبارتين الآتيتين:

١ للتجار المسلمين دور بارز فى نشر الإسلام بإفريقيا.

٢ تعمل مصر على التوسع فى إنشاء مدن صديقة للبيئة.

السؤال الرابع (١) صوب ما تحته خط:

١ التربة الحمراء تربة خصبة لارتفاع نسبة المواد العضوية المتحللة.

٢ يتميز نظام حشائش السافانا بسقوط الأمطار فى فصل الربيع.

٣ قامت مصر بحفر عشرات الآبار فى تنزانيا.

٤ بحيرة تانا شهدت أكبر انقراض جماعى للفقاريات فى العصر الحديث.

٥ وصل نفوذ تحتمس الأول فى آسيا إلى نهر السند.

(ب) اذكر المقصود بكل من:

١ التوازن البيئى.

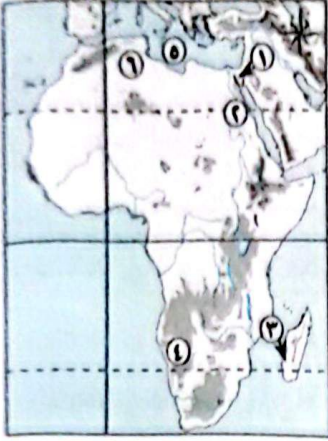
٢ نصوص الأهرام.

(ج) ماذا كان يحدث إذا...؟

- لم يتم اكتشاف مقبرة توت عنخ آمون.

محافظة القليوبية - إدارة طوخ التعليمية

(١) أمامك خريطة لقارة إفريقيا، اكتب مدلول الأرقام الآتية:



- ١ معبر للحضارة الإسلامية إلى إفريقيا.....
- ٢ نهر.....
- ٣ نظام حشائش.....
- ٤ صحراء.....
- ٥ يحد إفريقيا شمالاً.....
- ٦ دولة فتحها عبد الله بن أبي السرح.....

(ب) وضع أهمية:

- ١ هضبة الحبشة وهضبة البحيرات الاستوائية بالنسبة لنهر النيل.

- ٢ الاقتصاد الأخضر.

(ج) ما العلاقة بين...؟

- ١ الكنيسة المصرية وملك الحبشة.

- ٢ الأسود وحشائش السافانا.

(د) ما رأيك فى: اهتمام الممالك ببناء المساجد والكتاتيب والمدارس؟

(١) اختر الإجابة الصحيحة مما بين الأقواس:

- ١ اللغة العربية هى لغة رئيسية لسكان دولة..... (الصومال - مصر - مالي - الكونغو)
- ٢ تعد دولة حبيسة..... (النيجر - ليبيا - مدغشقر - كينيا)
- ٣ لُقّب بالملك المحسن المحبوب..... (الملك خوفو - الملك خفرع - الملك أوسركاف - الملك سنفرو)
- ٤ انتقلت فى عهده العاصمة إلى إثيت تاوى..... (منتوحتب الثانى - أمنمحات الأول - سفنن رع - أحمس)

(ب) قارن بين: سهول البحر الأحمر وسهول المحيط الأطلنطى.

(ج) أيد بالأدلة كلاً مما يأتى:

- ١ هناك عدد من الاتفاقيات التى تنظم الانتفاع بمياه نهر النيل.
- ٢ وصل فن النحت إلى قمته فى عهد الملك خفرع.
- ٣ كان للملك أوناس الفضل فى إمدادنا بمعلومات عن المعتقدات الدينية عن المصرى القديم.

السؤال الثالث (١) اكتب كلمة (صواب) أمام العبارة الصحيحة، وكلمة (خطأ) أمام العبارة

غير الصحيحة:

- ١ قام تحتس الثالث بالحملة السابعة عشرة على بلاد آسيا. ()
٢ بدأ البرتغاليون محاولاتهم لاكتشاف إفريقيا فى القرن الـ ١٥. ()
٣ ليس لأشجار المانجروف أهمية بيئية. ()
٤ كان لمعاملة الروم لأهل مصر وبرقة دور فى الفتح الإسلامى لهما. ()

(ب) (التكنولوجيا الحديثة سلاح ذو حدين، حيث إنها سهلت حياة الإنسان على كوكب الأرض ولكنها أدت

إلى حدوث أكبر مشكلة يعانى منها الإنسان نفسه). فى ضوء هذه العبارة أجب عن السؤالين الآتيين:

- ١ وضح جهود مصر فى الحفاظ على التنوع الحيوى فى قارة إفريقيا.

- ٢ ماذا كان يحدث إذا كان الملك بيبى الثانى قوياً؟

(ج) بم تفسر...؟

- ١ تعد الشعاب المرجانية واحدة من مناطق التنوع البيولوجى.

- ٢ الأهمية البيئية لغابات نهر الكونغو.

(د) اقترح حلاً للحفاظ على نظام الغابات المدارية.

(هـ) ما الأثر الناتج عن إنشاء سد اللاهون؟

السؤال الرابع (١) اكتب ما تشير إليه العبارات الآتية:

- ١ أشجار تنمو فى المناطق الساحلية المدارية وشبه المدارية. (.....)
٢ الفترة الزمنية التى امتدت من القرن الخامس إلى الخامس عشر الميلادى. (.....)
٣ أماكن للدراسة والإعاشة الكاملة بالمجان للطلاب الدارسين بالأزهر. (.....)
٤ منطقة تزدهر نباتاتها فى فصل الشتاء تقع فى دولة ليسوتو. (.....)

(ب) ما النتائج المترتبة على...؟

- ١ إدخال أنواع جديدة من الأسماك إلى بحيرة فيكتوريا.

- ٢ تعرض السافانا لموجات من التصحر.

(ج) ماذا كان يحدث إذا لم ينتصر رمسيس الثاني في معركة قادش؟

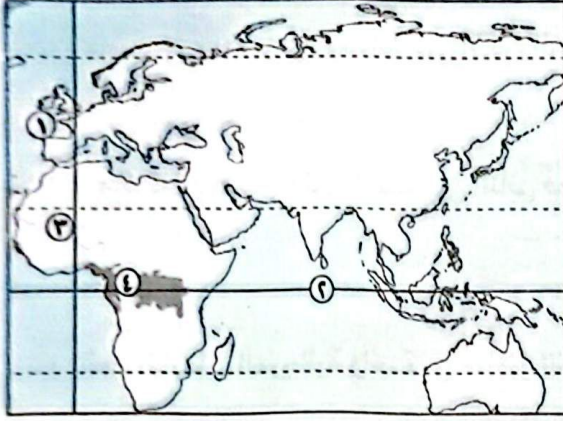
(د) رتب الأحداث الآتية تاريخياً من القديم إلى الحديث:

(دخول الإسلام مصر - بناء هرم خوفو - دخول الإسكندر مصر - إنشاء إثيث تاوي)

الترتيب هو:

محافظة المنوفية - إدارة تلا التعليمية

(١) أمامك خريطة للعالم القديم اكتب ما تدل عليه الأرقام:



السؤال الأول

- ١ مسطح مائي
- ٢ دائرة
- ٣ نهر
- ٤ الغابات

(ب) ماذا يحدث لو...؟

- ١ ابتعدت جبال أطلس عن ساحل البحر.
- ٢ لم يكن الملك سنفرو عادلاً بين رعيته.

(ج) ما مصداقية كل من هاتين العبارتين...؟

١ اعتمد عمرو بن العاص في فتح طرابلس على قوة المسلمين.

٢ يرجع الفضل إلى الإفريقيين في تأسيس مدينة قرطاج.

(د) ما المقصود بالمصطلحين الآتيين...؟

١ الدعاة:

٢ الدول غير الحبيسة:

(١) اكتب كلمة (صواب) أو كلمة (خطأ) أمام العبارات الآتية:

السؤال الثاني

- ١ أسس البرتغاليون الموانئ على طريق رأس الرجاء الصالح. ()
- ٢ من نتائج الحركات الباطنية الانكسارية تكون جبال أطلس. ()
- ٣ أحسس مؤسس عصر المجد الحربي والأسرة العشرين. ()

(ب) ما النتائج المترتبة على...؟

١ معركة قادش

٢ تميز نظم الصحارى الحارة بالمناظر الخلابة

(ج) ما العلاقة بين...؟

١ الملك زوسرو وزيره

٢ السافانا البستانية والغابات المدارية المطيرة

السؤال الثالث (١) اختر الإجابة الصحيحة مما بين القوسين:

١ كانت عاصمة البلاد فى عصر الأسرة الثانية عشرة مدينة

(من نفر - طيبة - إثيت تاوى - أواريس)

٢ كانت الإمدادات التى تصل إلى الهكسوس أثناء احتلالهم للبلاد من

(تونس - الصومال - السودان - الحبشة)

٣ يرتفع المدى الحرارى السنوى الكبير فى

(الغابات المدارية المطيرة - غابات البحر المتوسط - الصحارى الحارة - حشائش الإستبس)

٤ يحتل نهر.....المرتبة الأولى عالمياً من حيث التنوع البيولوجى.

(الكونغو - النيل - الأمازون - الزمبىزى)

(ب) بم تفسر...؟

١ أهمية إفريقيا الاستراتيجية.

.....

٢ يحافظ نهر النيل على استدامة مياهه.

.....

(ج) ما وجه التشابه بين...؟

١ سهول نهر النيل وسهول البحر المتوسط.

.....

٢ الملك سنفرو والملك خوفو.

.....

السؤال الرابع (١) اكتب ما تشير إليه العبارتان الآتيتان:

١ استثمار الموارد المائية بشكل يضمن تحقيق التنمية المستدامة. (.....)

٢ سيطر على معظم أراضى مصر وكون الأسرة الخامسة والعشرين. (.....)

(ب) المؤرخ الكيني (على مزروعى) من أشهر المؤرخين الذين قدموا إسهامات فى فهم الثقافة

الإفريقية. فى ضوء هذه العبارة وضع ما يلى:

١ ما أهم المعبودات والعادات المصرية التى انتشرت بين الشعوب الإفريقية؟

٢ هناك علاقة بين الملك رمسيس الثالث ونهاية الدولة الحديثة. (ما رأيك)؟

٣ من هو الرحالة الذى وصل إلى مالى؟

(ج) رتب الأحداث الآتية من القديم للحديث:

إنشاء منظمة الأندوجو - بناء الهرم المدرج - الوحدة الثانية على يد الملك مينا - فتح إفريقية.

محافظة الغربية - إدارة شرق طنطا التعليمية

السؤال الأول (١) اكتب كلمة (صواب) أمام العبارة الصحيحة، أو كلمة (خطأ) أمام العبارة غير الصحيحة:

١ أنشأ المسلمون بعض المراكز التجارية على طول الساحل الشرقى الإفريقى. ()

٢ يتسم نظام حشائش السافانا بانخفاض المدى الحرارى السنوى. ()

(ب) ما النتائج المترتبة على...؟

١ تصارع الدول الاستعمارية على قارة إفريقيا.

٢ دراسة طلاب من إفريقيا فى الأزهر الشريف والمدارس المصرية.

٣ اقتراب جبال أطلس من ساحل البحر المتوسط.

السؤال الثانى (١) اكتب ما يشير إليه مدلول الأرقام على الخريطة:



١ هضبة.....

٢ المحيط.....

٣ مدار.....

(ب) بم تفسر...؟

١ ضعف وسقوط الدولة القديمة .

٢ تندر النباتات الطبيعية في نظام الصحارى الحارة .

٣ يعد الحفاظ على غابات حوض الكونغو ضرورة للتوازن البيئي .

٤ يعد الملك رمسيس الثانى رجل الحرب والسلام .

السؤال الثالث (١) صل الجمل فى العمود (١) بالكلمة المناسبة من العمود (ب):

(ب)	(١)
١ ليبيا	١ أولى الدول الإفريقية التى فتحها المسلمون
٢ النمر	٢ من الحيوانات آكلة الحشائش التى تعيش فى نظام السافانا
٣ مصر	
٤ الغزلان	

(ب) استخراج الكلمة المختلفة عن المجموعة الآتية:

١ القردة - التماسيح - الماعز - النمر .

٢ الصنوبر - الأبنوس - المطاط - الكاكاو .

٣ نهر النيل - بحيرة فيكتوريا - الشعاب المرجانية - نهر الكونغو .

السؤال الرابع (١) اختر الإجابة الصحيحة مما بين القوسين:

١ من روافد نهر النيل الموسمية نهر..... (كاجيرا - لمبويو - الكونغو - النيل الأزرق)

٢ ظهرت حضارة..... فى إريتريا وإثيوبيا حالياً. (النوبة - كوش - أكسوم - قرطاج)

٣ أمر الملك رمسيس الثانى بنحت معبدى (الكرنك - أبو سمبل - فيلة - الدير البحرى)

(ب) لمن تنسب الأعمال الآتية...؟

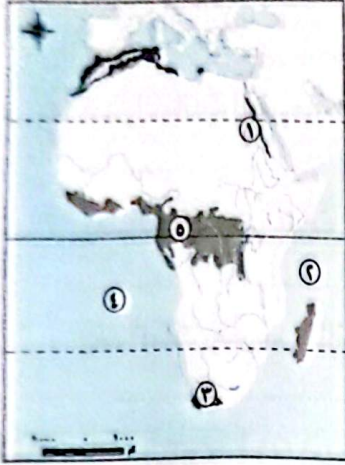
١ انتصر على الروم فى سببلة. (.....)

٢ كان من أوائل الرحالة العرب الذين زاروا إفريقيا وكتبوا عنها. (.....)

٣ مؤسس الأسرة الرابعة، ولقب بالملك المحسن المحبوب. (.....)

٤ نقل العاصمة من طيبة إلى «إثيت تاوى». (.....)

محافظة الدقهلية - إدارة غرب المنصورة التعليمية



(١) أمامك خريطة لإفريقيا، اكتب مدلول الأرقام:

السؤال الأول

١ يشير الرقم إلى نظم الغابات المدارية المطيرة.

٢ يشير الرقم إلى أحد الجبال الالتوائية.

٣ يشير الرقم إلى المحيط الهندي.

(ب) بم تفسر...؟

١ لموقع قارة إفريقيا أهمية حضارية.

٢ سمي العصر العتيق بعصر البناء والتأسيس.

٣ للغابات المدارية المطيرة أهمية بيئية.

(ج) ما المقصود بما يلي...؟

١ الغابة

٢ نصوص الأهرام

السؤال الثاني (١) استخرج الكلمة غير المناسبة.

١ الصبار - السيال - التين الشوكي - الزيتون (.....)

٢ كينيا - الكاب - كلمنجارو - دراكنزبرج (.....)

(ب) ما العلاقة بين...؟

١ حشائش السافانا وغذاء الإنسان.

٢ الملك خفرع وفن النحت.

٣ نظم الغابات المدارية والصناعة.

(ج) ما النتائج المترتبة على...؟

١ فرار بني أمية وأنصارهم إلى داخل قارة إفريقيا.

٢ زيادة البحر فوق هضبة البحيرات الاستوائية.

السؤال الثالث (١) اكتب كلمة (صواب) أو كلمة (خطأ) أمام العبارتين الآتيتين:

- ١ عادت طيبة عاصمة لمصر في عصر الملك أمنحتب الرابع. ()
- ٢ من أشهر مساجد العلم في مالى جامع سنكوري. ()

(ب) دلل على صحة العبارات الآتية:

١ ساهم التجار المسلمون في نشر الإسلام في إفريقيا.

٢ يعد الملك رمسيس الثانى بطل الحرب والسلام فى مصر الفرعونية.

٣ أظهر فتح عمرو بن العاص لطرابلس مهارته العسكرية.

(ج) اذكر سبباً واحداً لكل من:

١ لشبه جزيرة سيناء أهمية استراتيجية لمصر.

٢ خصوبة التربة فى هضبة الحبشة.

٣ نظم الغابات المدارية أكثر النظم البيئية تنوعاً.

السؤال الرابع

(١) عليك الاعتزاز بانتماذك لقارة إفريقيا). فى ضوء العبارة أجب عما يأتى:

١ ما الأثر المترتب على ارتباط الكنيسة الحبشية بالكنيسة المصرية؟

٢ وضع لماذا أقبل الأفارقة على تعلم اللغة العربية؟

(ب) ما مدى مصداقية هذه العبارات؟

١ لأشجار المانجروف أهمية.

٢ استفاد حكام الحبشة من الخبرات الحربية المصرية.

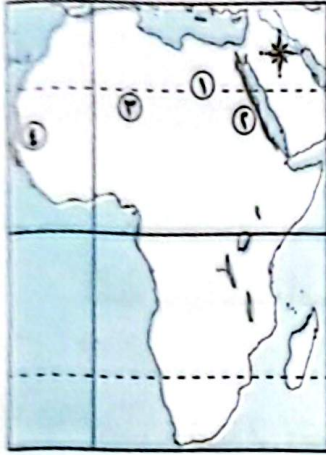
٣ ساهم الملك أمنمحات الأول والملك سنوسرت الثالث فى تأمين حدود مصر.

(ج) اختر الإجابة الصحيحة مما بين الأقواس:

- ١ اكتشف منابع النيل، ووصل حكمه إلى جنوب دائرة الاستواء.....
(ابن بطوطة - محمد على - نخاو الثاني - الخديو إسماعيل)
- ٢ من أمثلة المحميات الطبيعية في موريتانيا محمية..... (أركين - البردويل - نبق - الزرائق)

محافظة كفر الشيخ - إدارة فوه التعليمية

(١) أمامك خريطة لإفريقيا، وضع مدلول الأرقام الآتية:



- ١ دائرة عرض رئيسية.....
- ٢ تكونت الظاهرة رقم ٢ نتيجة.....
- ٣ المدى الحرارى اليومى فى المنطقة رقم ٣.....
- ٤ محمية التراث العالمى بالدولة رقم ٤ هى.....

(ب) بهم تفسر...؟

١ تساهم جبال إفريقيا فى دعم السياحة.

٢ لعب كهنة أمون بطيبة دورًا فى سقوط الدولة الحديثة.

٣ نظام الغابات المدارية المطيرة أكثر النظم البيئية تنوعًا.

(ج) ما العلاقة بين...؟

١ الفينيقيين وحضارة قرطاج.

٢ نظام الصحارى الحارة والطاقة المتجددة.

٣ آخر ملوك الأسرة الخامسة والأدب الدينى.

(١) اختر الإجابة الصحيحة مما بين القوسين:

- ١ تتميز تربة نظم الحشائش المعتدلة باللون..... (البنى - الأصفر - الأبيض - الأسود)
- ٢ تنتشر السافانا البستانية بالقرب من الغابات المدارية وتتخللها أشجار.....
(الأكاسيا - السنط - الصنوبر - الأرز)

٣ يتشابه التجار العرب مع المصريين القدماء فى الوصول برحلاتهم الاستكشافية إلى

(تنزانيا - الكونغو - السودان - جزر القمر)

٤ مجد الأسرة الحادية عشرة يتمثل فى فترة حكم

(أمنمحات الأول - أمنمحات الثالث - سنوسرت الثالث - منتوحتب الثانى)

(ب) دلل على صحة العبارات الآتية:

١ نجح الملك أمنمحات الثالث فى تحقيق الأمن الغذائى لمصر.

٢ تتعدد التهديدات التى تتعرض لها الأراضى الرطبة العذبة.

٣ لنظام غابات البحر المتوسط أثر إيجابى فى التنمية السياحية.

(ج) ما المقصود بكل من...؟

١ النهر الدولى

٢ العصور الوسطى

السؤال الثالث (١) ضع كلمة (صواب) أمام العبارة الصحيحة، وكلمة (خطأ) أمام العبارة غير الصحيحة:

١ استقر الهكسوس شرق الدلتا وحكموا الوجه القبلى والبحرى. ()

٢ تنمو الأشجار بالقرب من الأنهار فى معظم مناطق الإستبس. ()

٣ للحفاظ على الأمن القومى المصرى والإفريقى يجب الحفاظ على أمن البحر المتوسط. ()

٤ ساعدت الروافد الموسمية نهر النيل على الجريان تجاه الشرق حتى المصب. ()

(ب) ما النتائج المترتبة على...؟

١ فراربنى أمية وأنصارهم إلى داخل القارة الإفريقية.

٢ سقوط الأمطار الشتوية على السهول الساحلية للبحر المتوسط.

٣ إطلاق الأمم المتحدة مبادرة الشبكات الشمسية الصغيرة لتوليد الكهرباء فى إفريقيا.

(ج) ماذا كان يحدث إذا...؟

١ قويت السلطة المركزية فى عصر الأسرة السادسة.

٢ كانت كمية الأمطار الساقطة على نظم الحشائش الحارة ثابتة.

٣ اختفت النباتات من النظم البيئية المائية العذبة بقارة إفريقيا.

السؤال الرابع

(أ) صوب ما فوق الخط في العبارات الآتية:

- ١ بعد البحر الأحمر وخليج عدن والعقبة جزءاً من هضبة الحبشة.
 - ٢ استفاد البرتغاليون في رحلاتهم الكشفية من خبرات المصريين القدماء.
 - ٣ الحد الشمالي الشرقي للدولة المصرية في عصر الدولة الحديثة يتمثل في دولة ليبيا.
 - ٤ تربة نظم الحشائش المعتدلة خصبة صالحة لزراعة بعض المحاصيل مثل المحاصيل السكرية.
- (ب) منذ فجر التاريخ ومصر تنعم بحضارة عظيمة لها فضل كبير على الإنسانية عامة والشعوب الإفريقية خاصة بعد انتشار الإسلام في الدول الإفريقية). في ضوء دراستك العبارة السابقة وضح:

- ١ دور المعبر البري الوحيد الذي يربط شبه الجزيرة العربية بإفريقيا في نشر الإسلام.
- ٢ أهم الموانئ التي تحولت لمراكز ثقافية وعلمية لنشر الإسلام في إفريقيا.
- ٣ مدى الاستفادة التي اكتسبها حكام الدول الإفريقية من الخبرات السياسية والعسكرية لمصر.
- ٤ علاقة المسئول عن حماية الحرمين الشريفين والأماكن المقدسة في ظل حكم الخلافة العباسية بالسلطة الدينية والسياسية.
- ٥ دور الأزهر الشريف في الحفاظ على الهوية الإسلامية.

محافظة البحيرة - إدارة كوس حمادة التعليمية

السؤال الأول

(أ) أمامك خريطة صماء لقارة إفريقيا وضح ما

تدل عليه الأرقام التي عليها:



- ١ جبال.....
- ٢ دائرة عرض.....
- ٣ الغابات.....

(ب) ما المقصود بالعصور الوسطى؟

(ج) دلل على:

١ تتميز النظم البحرية العذبة في إفريقيا بالتنوع البيولوجي.

٢ اهتمام الملك أمنمحات الأول بتأمين حدود مصر الغربية.

السؤال الثاني (١) اختر الإجابة الصحيحة مما بين القوسين:

- ١ تم إنشاء سد أوين بدولة (كينيا - أوغندا - السودان - مصر)
- ٢ بدأ العصر المتأخر بعد انتهاء عصر

(الدولة الوسطى - العصر العتيق - الدولة القديمة - الدولة الحديثة)

(ب) ما العلاقة بين قارة إفريقيا وقارات العالم القديم؟

(ج) ما النتائج المترتبة على...؟

١ الطفوح البركانية في هضبة الحبشة.

٢ غنى تربة الغابات المدارية المطيرة بأكسيد الحديد.

السؤال الثالث (١) صوب ما تحته خط في كل عبارة مما يلي:

١ قامت مملكة كوش في شمال دولة تونس.

٢ أعاد الملك توت عنخ آمون عاصمة البلاد إلى منف.

(ب) قارن بين: الحشائش الحارة والحشائش المعتدلة من حيث: موسم الأمطار.

(ج) بم تفسر...؟

١ اهتمام الفنان المصرى القديم بنحت التماثيل الملكية.

٢ أهمية شبه جزيرة سيناء في نشر الإسلام في إفريقيا.

السؤال الرابع (١) اكتب كلمة (صواب) أو (خطأ) أمام ما يناسب كل عبارة مما يلي:

١ ساهم المماليك في تطوير الجوانب الإدارية في بلاد الحبشة. ()

٢ الفيلة والأسود من الحيوانات التي تعيش في الصحارى الحارة. ()

(ب) اذكر الشخصية التي قامت بكل عمل من الأعمال الآتية:

١ القائد المسلم الذى قام بفتح مصر. (.....)

٢ لعبت دورًا مهمًا في تشجيع أبنائها على طرد الهكسوس من مصر. (.....)

٣ أسس الدولة الحديثة. (.....)

(ج) ماذا يحدث إذا...؟

١ لم تختلف كمية الأمطار في نظام الحشائش الحارة.

٢ اختفت النباتات من نظم الأراضي الرطبة العذبة بقارة إفريقيا.

محافظة دمياط - توجيه الدراسات الاجتماعية

السؤال الاول

(١) اكتب ما يشير اليه مدلول الارقام

الموقعة على الخريطة:



١ المحيط

٢ هضبة

٣ نظام حشائش

(ب) اكتب كلمة (صواب) أمام العبارة الصحيحة، وكلمة (خطأ) أمام العبارة غير الصحيحة:

١) ظهرت حضارة قرطاج على الساحل الشمالي لإفريقيا.

٢) يسمى عصر الدولة القديمة بعصر المجد الحربي.

(ج) إلى أي النظم البيئية في إفريقيا تعيش الحيوانات أو الطيور الآتية؟

١ النعام

٢ السنجاب

(١) اكتب ما تشير إليه كل عبارة من العبارات التالية:

١ استثمار الموارد المائية بشكل يضمن تحقيق التنمية المستدامة. (.....)

٢ دولة كبيرة تسيطر على مناطق وشعوب مختلفة تحت قيادة مركزية قوية. (.....)

٣ حالة من الاستقرار داخل النظم البيئية عبر التفاعل بين مكوناتها دون تغيرات جذرية. (.....)

٤ هم الأفراد الذين تلقوا قدرًا من العلوم الدينية تؤهلهم لنشر الإسلام بالطرق السلمية. (.....)

(ب) أكمل الجدول الآتي بما يناسبه من المفردات الآتية: (فيكتوريا - المنزلة):

نظم بيئية مائية مالحة	نظم بيئية مائية عذبة
١	٢

(ج) بم تفسر...؟

١ وصول كميات قليلة من مياه هضبة البحيرات الاستوائية لمصر.

٢ بناء الملك أمنمحات الثالث مقياسًا للنيل.

السؤال الثالث (١) اختر الإجابة الصحيحة مما بين القوسين :

- ١ كانت الإمدادات التي تصل إلى الهكسوس من أرض كوش يتم نقلها عبر.....
(البحر الأحمر - البحر المتوسط - نهر النيل - الصحراء الشرقية)
- ٢ يخلو شمال غرب إفريقيا من أشجار.....
(المطاط - الأرز - الصنوبر - البلوط الفليني)
- ٣ المعبر البري الوحيد الذي كان يربط شبه الجزيرة العربية بإفريقيا.....
(مضيق باب المندب - مضيق جبل طارق - قناة السويس - شبه جزيرة سيناء)
- ٤ مدينة بعد سقوط بغداد اتخذها العباسيون مركزاً للخلافة:.....
(الإسكندرية - سبيلطة - القاهرة - تمبكتو)

(ب) صوب ما تحته خط فيما يلي :

- ١ أكبر الجزر الإفريقية مساحة جزر القمر.
- ٢ ظهرت نصوص الأهرام لأول مرة في حجرة دفن الملك خفرع.
- ٣ بعد فتح مصراتجه عمرو بن العاص لتأمين الفتوحات نحو الشرق.

السؤال الرابع (١) إلى من تنسب الأعمال الآتية...؟

- ١ أرسل رحلة استكشافية وانتهت برسم خريطة للنيل حتى جنوب السودان. (.....)
- ٢ نقل عاصمة عصر الدولة الوسطى من طيبة إلى إثيت تاوى. (.....)
- ٣ تم اكتشاف مقبرته كاملة ١٩٢٢م، وتدل محتوياتها على عظمة الفن المصري. (.....)
- ٤ الخليفة الأموي الذي أرسل البنائين إلى شرق إفريقيا ليساهموا في بناء المدن. (.....)

(ب) (خطر الانقراض يواجه معظم الأنظمة البيئية في إفريقيا). في ضوء العبارة ومن خلال دراستك وضح:

- ١ أحد الحيوانات أو الطيور المهددة بالانقراض في الصحارى الحارة الإفريقية.

- ٢ مثالاً واحدًا لما قامت به مصر من مشروعات لمواجهة التغيرات المناخية.

(ج) رتب الأحداث التاريخية التالية من القديم للحديث:

() تأسيس الصندوق الإفريقي للتغير المناخي.

() دخول الإسكندرا الأكبر مصر.

() إقامة ممالك إسلامية في إفريقيا.

() نحت تمثال أبو الهول.

محافظة الشرقية - إدارة غرب الزقازيق التعليمية

(١) اكتب ما يشير إليه مدلول الأرقام الموقعة على الخريطة:



السؤال الأول

١ دولة.....

٢ البحر.....

٣ مدار.....

(ب) بم تفسر...؟

١ إرسال الملك سنفرو أسطولاً بحرياً إلى فينيقيا.

٢ تسمية عصر الدولة الحديثة بعصر بناء الإمبراطورية.

(ج) ما المقصود ب...؟ النظام البيئي.

(١) اكتب كلمة (صواب) أمام العبارة الصحيحة، وكلمة (خطأ) أمام العبارة غير

السؤال الثاني

الصحيحة مع تصويب الخطأ:

١ يصنف نظام الأراضي الرطبة ضمن النظم البيئية الأرضية. ()

٢ بدأ التأثير الديني لمصر على الشعوب الإفريقية بعد انتشار الإسلام. ()

(ب) ما العلاقة بين...؟

١ الفينيقيين وحضارة قرطاج.

٢ هضبة الحبشة والتربة في مصر.

(١) اختر الإجابة الصحيحة مما بين القوسين.

السؤال الثالث

١ كان أوسركاف كبيراً لكهنة المعبود..... (آتون - آمون - أوزوريس - رع).

٢ يطلق على تجمع دول حوض النيل اسم الأندوجو ويعنى.....

(المحبة - الصدق - الإخاء - العهد).

(ب) حدد أوجه الاختلاف بين:

١ نظام حشائش السافانا - ونظام حشائش الإستبس من حيث: موسم سقوط المطر.

٢ جبال البحر الأحمر - جبال أطلس من حيث: الموقع.

ب) اربط الأحداث التاريخية التالية من القديم إلى الحديث

- ١ اكتشاف مقبرة توت عنخ أمون. ٢ كفاح كامس ضد الهكسوس.
٣ تشييد حصن سمنا وقمنا. ٤ دخول الإسكندرا الأكبر لمصر.

السؤال الرابع (١) من يكون..؟

- ١ نقل عاصمة البلاد من طيبة إلى إيثت ناوى
٢ أحد ملوك الدولة الحديثة قام بعمل أول معاهدة سلام

ب) ما النتائج المترتبة على...؟

- ١ ارتباط الدين الإسلامى باللغة العربية.

- ٢ الموقع الجغرافى لقارة إفريقيا.

ج) وضح الأهمية الاقتصادية للغابات المدارية المطيرة.

محافظة بورسعيد - مديرية التربية والتعليم

السؤال الأول (١) أمامك خريطة لقارة إفريقيا اكتب مدلول

الأرقام الموقعة عليها:



- ١ هضبة.....

- ٢ غابات.....

- ٣ حضارة.....

ب) دلل على صحة العبارات التالية:

- ١ لشبه جزيرة سيناء أهمية حضارية كبيرة لقارة إفريقيا عبر العصور.

- ٢ تطور شكل المقابر فى عصر الدولة القديمة.

- ٣ لم يكن عهد الملك أحمس الأول كفاحاً مسلحاً فقط.

- ٤ تمثل حشائش السافانا مصدراً رئيسياً لغذاء الإنسان.

(١) اختر الإجابة الصحيحة مما بين القوسين: **السؤال الثاني**

- ١ كانت أولى المحطات التي وصل إليها الإسلام خارج شبه الجزيرة العربية.
(إفريقية - الحبشة - السودان - مصر)
- ٢ شهدت بحيرة..... أكبر انقراض جماعي للفقاريات حديثاً. (ناصر - تشاد - فيكتوريا - المنزلة)
- ٣ قامت مصريان ببناء سد أوين بدولة..... (تنزانيا - غينيا - أوغندا - السودان)
- (ب) قارن بين سهول البحر المتوسط وسهول البحر الأحمر من حيث الخصائص لكل منهما.

(ج) حدد النظام البيئي الذي تنتمي إليه المناطق التالية بقارة إفريقيا:

- ١ منطقة الكاب ٢ إقليم الفلد ٣ ساحل غانا غرب القارة
- (١) اكتب كلمة (صواب) أمام العبارة الصحيحة، وكلمة (خطأ) أمام العبارة غير الصحيحة:

- ١ اهتم المصريون في عصر الدولة الوسطى بتأمين الحدود الجنوبية حتى الجندل الرابع. ()
- ٢ كان الازدهار الحضاري من سمات عصر الدولة الحديثة. ()
- ٣ يعد الزواج والمصاهرة أحد معابر انتقال الإسلام إلى إفريقيا. ()
- (ب) بم تفسر...؟

١ يُعد نهر النيل نهراً دولياً.

٢ ضعف مصر بعد انتهاء حكم الملك رمسيس الثالث.

٣ شهرة الملك توت عنخ آمون.

٤ اتجاه عمرو بن العاص لفتح برقة.

(١) ما المقصود بكل من...؟ **السؤال الرابع**

- ١ أروقة الأزهر.....
- ٢ عصر الاضمحلال.....

(ب) أجب عن الأسئلة التالية:

- ١ ما النتائج المترتبة على...؟ كثافة الأشجار وتشابكها في الغابات المدارية المطيرة بإفريقيا.
- ٢ ما العلاقة بين...؟ ملوك الحبشة والممالك من الناحية الإدارية.
- ٣ ماذا كان يحدث إذا...؟ لم يتكون الأخدود الإفريقي العظيم شرق إفريقيا.
- ٤ ما رأيك في...؟ جهود مصر في التوسع في إنتاج الطاقة النظيفة.

محافظة السويس - مديرية التربية والتعليم

(١) أمامك خريطة لقارة إفريقيا، اكتب ما تدل عليه الأرقام التالية:



١ هضبة.....

٢ مدار.....

٣ الغابات.....

٤ مضيق.....

(ب) ما الأثر الناتج عن...؟

١ إنشاء سد اللاهون في عصر أمنمحات الثالث.

٢ زواج التجار المسلمين من النساء الأفارقة.

(١) اكتب كلمة (صح) أمام العبارة الصحيحة، وكلمة (خطأ) أمام العبارة غير الصحيحة:

١ نشأ العديد من الحضارات على أراضي إفريقيا منها حضارة أكسوم. ()

٢ تعد الجزائر أكبر الدول الإفريقية من حيث المساحة. ()

٣ تنمو النباتات الشوكية وأشجار الأكاسيا في نظام الحشائش الحارة. ()

(ب) دلل على صحة العبارتين الآتيتين:

١ تعدد دور الملكة إياح حتب في مواجهة الهكسوس.

٢ اللغة العربية لها تأثير في انتشار الإسلام في إفريقيا.

(١) ما المقصود بكل من...؟

١ متون الأهرام (نصوص الأهرام).....

٢ الهكسوس.....

٣ الاضمحلال.....

(ب) بم تفسر...؟

١ تقسيم الدول الاستعمارية قارة إفريقيا إلى عدد كبير من الدول.

٢ تتميز السهول الساحلية لبلاد المغرب بالضيق.

(ج) ما العلاقة بين...؟

- نظام الغابات المدارية والنشاط الصناعي.

السؤال الرابع (١) اختر الإجابة الصحيحة مما بين القوسين:

١ من المسطحات المائية التي تحد إفريقيا من الغرب.....

(المحيط الأطلنطي - البحر الأحمر - البحر المتوسط - المحيط الهندي)

٢ في عصر محمد على تم رسم خريطة للنيل حتى جنوب.....

(الصومال - السودان - إثيوبيا - النيجر)

٣ دعا أمنتب الرابع لعبادة الإله..... (أمون - رع - أتون - حورس)

(ب) ماذا كان يحدث إذا...؟

١ لم يتم حفر قناة سيزوستريس.

٢ اقتصرت منابع نهر النيل على المنابع الدائمة.

محافظة الفيوم - مديرية التربية والتعليم



(١) أمامك خريطة لقارة إفريقيا، اكتب مدلول الأرقام

السؤال الأول

١ الصحراء.....

٢ حشائش.....

٣ نهر.....

٤ بحيرة.....

(ب) دلل:

١ وجود العديد من المحميات الطبيعية في نظام الأراضي الرطبة المالحة.

٢ لأشجار المانجروف أهمية كبيرة.

السؤال الثاني (١) من هو...؟

(.....)

١ اختار مكان دفن الملك تحتمس الأول.

(.....)

٢ الخليفة الذي تم في عهده فتح مصر.

(ب) بم تفسر...؟

١ الأهمية البيئية لغابات حوض نهر الكونغو.

٢ تعاني قارة إفريقيا من الفقر رغم امتلاكها الموارد الطبيعية.

السؤال الثالث (١) اختر الإجابة الصحيحة مما بين القوسين:

١ تقترب قارة إفريقيا من قارة أوروبا عند مضيق.....

(هرمز - موزمبيق - باب المندب - جبل طارق)

٢ قامت حضارة قرطاج على النشاط..... (الزراعي - الصناعي - التجاري - الرعوي)

(ب) أجب عما يأتي:

١ اذكر اثنين: من الأخطار التي تهدد الشعاب المرجانية.

٢ ما أوجه التشابه بين...؟ الجامع الأزهر الشريف وجامع سنكوري في تمبكتو.

٣ اكتب مقترحاً: للحفاظ على أمن شبه جزيرة سيناء.

السؤال الرابع (١) اكتب كلمة (صواب) أمام العبارة الصحيحة، وكلمة (خطأ) أمام العبارة

غير الصحيحة:

١ تتسم التربة في نظام حشائش السافانا بتعدد الألوان. ()

٢ رحب أهل برقة بالفتح الإسلامي كما رحب أهل مصر. ()

(ب) حدد:

١ موسم سقوط المطر في منطقة الكاب جنوب إفريقيا.

٢ المدن البيئية الصديقة التي قامت مصر بإنشائها.

٣ الأثر الناتج عن وجود أعلى قمة جبلية لجبل كلمنجارو.

محافظة بنى سويف - إدارة سمسطا التعليمية



السؤال الأول (١) أمامك خريطة لقارة إفريقيا، اكتب مدلول الأرقام الآتية:

- ١ مضيق
- ٢ المحيط
- ٣ جبال
- ٤ مدار

(ب) ما النتائج المترتبة على...؟

١ زواج المسلمين من الأفارقة في العصور الوسطى.

.....

٢ زيادة حدة الجفاف في نظام الصحارى الحارة في إفريقيا.

.....

٣ معركة قادش في عهد رمسيس الثانى.

.....

٤ محاولات البرتغاليين لاكتشاف قارة إفريقيا أواخر القرن الـ ١٥ الميلادى.

.....

(ج) دلل تاريخياً على صحة كل عبارة مما يلي:

١ كان لإيحاء حتب دور مهم فى تحرير البلاد من الهكسوس.

.....

٢ ارتبط اسم الملكة سبك نفرو برمز القوة.

.....

السؤال الثانى (١) ما تقييمك لمصادقية كل عبارة مما يلي:

١ كان للملك أوناس دور فى الحفاظ على التراث الدينى للمصريين القدماء.

٢ قارة إفريقيا مقسمة إلى عدة دول.

(ب) اجب عن الأسئلة الآتية:

١ ماذا كان يحدث إذا كان الملك بيبى الثانى من الأقوياء؟

٢ ما وجه التشابه بين الجامع الأزهر الشريف وجامع سنكورى فى تمبكتو؟

(ج) اختر الإجابة الصحيحة مما بين القوسين:

- يقع البحر الأحمر بالنسبة لإفريقيا فى جهة..... (الشمال - الجنوب - الشرق - الغرب)

السؤال الثالث (١) ما المقصود بكل من...؟

- ١ العصور الوسطى. (.....)
- ٢ نصوص الأهرام. (.....)

(ب) كان للمماليك دور مهم في تطوير الجانب العسكري لبلاد الحبشة. وضع.....

(ج) من هو...؟

- ١ نوع من الاقتصاد يعتمد على استثمار الموارد المائية بشكل يضمن تحقيق التنمية المستدامة. (.....)
- ٢ خليفة المسلمين الذي تم في عهده فتح مصر. (.....)
- ٣ الوزير الذي تم في عهده تغيير شكل المقابر الملكية لأول ملوك الأسرة الثالثة. (.....)
- ٤ اكتشف منابع النيل، ووصل حكمه إلى جنوب دائرة الاستواء. (.....)

السؤال الرابع (١) ضع كلمة (صواب) أمام العبارة الصحيحة، وكلمة (خطأ) أمام العبارة غير الصحيحة.

- ١ أكبر دول قارة إفريقيا من حيث المساحة هي الجزائر. ()
- ٢ تتميز الغابات المدارية المطيرة بكثرة الحيوانات. ()
- ٣ ارتبطت حضارة قرطاج ارتباطًا وثيقًا بنهر النيل. ()

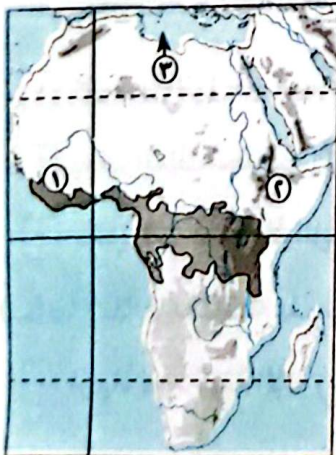
(ب) (تشكل التغيرات المناخية خطرًا كبيرًا على نظم الغابات في إفريقيا) في ضوء العبارة حدد أهم الأخطار التي تواجه نظم الغابات في قارة إفريقيا.

(ج) بم تفسر...؟

- ١ السافانا مصدر غذاء للإنسان.

- ٢ السهول الساحلية للبحر الأحمر ضيقة.

محافظة المنيا - إدارة الدعوة التعليمية



السؤال الأول (١) أمامك خريطة صماء لقارة إفريقيا، وضع

مدلول الأرقام عليها:

- ١ نظام الغابات.....
- ٢ هضبة.....
- ٣ البحر.....

(ب) بم تفسر...؟

١ حدوث اختلال في النظام البيئي.

٢ تدهور أحوال مصر في نهاية عصر الأسرة السادسة.

٣ تمييز السهول الساحلية للبحر الأحمر بالضيق في مصر والسودان.

٤ إقامة المحطات التجارية في عصر الدولة الوسطى بجانب نهر النيل.

٥ أهمية نظام الصحارى الحارة.

السؤال الثاني (١) اختر الإجابة الصحيحة مما بين القوسين:

١ أصبحت القاهرة مركزاً للسلطة السياسية والإسلامية في عهد الخلافة.....

(الأموية - العثمانية - العباسية - الراشدة)

٢ تعد الأراضى الزراعية من النظم البيئية..... (المائية - الأرضية - الطبيعية - البشرية)

(ب) ما المقصود بكل من؟

١ الرطوبة النسبية.....

٢ الإمبراطورية.....

٣ السافانا.....

٤ عصر الاضمحلال.....

٥ الحضارة.....

السؤال الثالث (١) اكتب كلمة (صواب) أمام العبارة الصحيحة، وكلمة (خطأ) أمام العبارة

غير الصحيحة:

١ كان لنهر النيل دور مهم في قيام حضارة قرطاج. ()

٢ يعتبر الملك تحتمس الأول مؤسس عصر المجد الحربى. ()

٣ دخل المسلمون الأوائل بلاد الحبشة عن طريق المحيط الهندى. ()

(ب) ما النتائج المترتبة على...؟

١ ازدياد نفوذ كهنة الإله رع في نهاية الأسرة الرابعة.

٢ فتح مدينة سببلة في شمال إفريقيا.

٣ دخول الكشوف لإفريقيا من الإنجليز والهولنديين والفرنسيين.

٤ تعرض الأراضي الرطبة العذبة للتجفيف والتوسع الزراعي.

٥ هزيمة الحثيين على يد الملك رمسيس الثاني.

السؤال الرابع (١) اختر الكلمة الصحيحة وضعها في النقاط الآتية:

(الأبنوس - جوز الهند - الصنوبر)

١ من أهم أشجار غابات البحر المتوسط

٢ تنمو أشجار في الغابات المدارية المطيرة.

(ب) **دلل على صحة العبارات الآتية:**

١ تأثر الكوشيين بمظاهر الحضارة المصرية القديمة.

٢ يعتبر معبر شبه جزيرة سيناء معبراً استراتيجياً للمسلمين.

٣ تعرض نظام الصحارى الحارة للعديد من الأخطار.

٤ كانت مصر هي الوسيط الوحيد في استيراد سلع الشرق ونقلها إلى إفريقيا في العصور الوسطى.

٥ يعتبر نظام المانجروف موطناً للعديد من الكائنات البحرية.

محافظة أسيوط - إدارة منفلوط التعليمية

السؤال الأول صوب ما تحته خط:

١ عبرت جيوش المسلمين لفتح شمال إفريقيا عن طريق المحيط الهندي.

٢ من الجبال البركانية في قارة إفريقيا جبال الكاب.

٣ قائد جيش المسلمين لفتح مصر عبدالله بن أبي السرح.

٤ يعرف عصر الدولة القديمة بعصر المجد الحربي.

٥ من المراكز الإسلامية في إفريقيا مدينة كانو في مالي.

السؤال الثاني (١) إلى من تنسب الأعمال الآتية...؟

- ١ نقل عاصمة البلاد من طيبة إلى إثيت تاوى. (.....)
- ٢ مؤسس الأسرة الثالثة وصاحب الهرم المدرج. (.....)
- ٣ عقد أول معاهدة سلام دولة مسجلة فى التاريخ. (.....)
- ٤ قام بطرد الهكسوس من مصر. (.....)
- ٥ من أوائل الرحالة العرب الذين زاروا إفريقيا وكتبوا عنها. (.....)
- ٦ خليفة المسلمين الذى تم فتح إفريقيا فى عهده. (.....)

(ب) ما النتائج المترتبة على...؟

- ١ حفر قناة سيزوستريس.
- ٢ الموقع الاستراتيجى لمدينة قرطاج فى طرق التجارة على البحر المتوسط.

السؤال الثالث ضع علامة (صح) أمام العبارة الصحيحة وعلامة (خطأ) أمام العبارة غير الصحيحة.

- ١ تتميز السهول الساحلية المطلية على المحيط الهندى بالضيق فى دولة كينيا. ()
- ٢ ساهم الممالك فى تطوير الجوانب الإدارية والعسكرية فى الحبشة. ()
- ٣ تعتبر هضبة البحيرات الاستوائية المنبع الموسمى لنهر النيل. ()
- ٤ من المكونات الحية للنظام البيئى الحيوانات. ()
- ٥ دعا الملك أمنحتب الرابع لعبادة الإله أتون. ()



السؤال الرابع (١) أمامك خريطة صماء لقارة إفريقيا، اكتب

مدلول الأرقام عليها:

- ١ مدار.....
- ٢ المحيط.....
- ٣ الصحراء.....
- ٤ البحر.....

(ب) اكتب ما تشير إليه العبارات الآتية:

- ١ أماكن للدراسة والإعاشة للطلبة الدارسين بالأزهر تكريمًا لهم وراحة. (.....)
- ٢ مجموع الإنتاج الثقافى كالعلوم والفنون والإنتاج المادى كالقلاع والقصور. (.....)
- ٣ إفرازات لكائنات بحرية دقيقة أهمها المرجان. (.....)

السؤال الخامس (١) اختر الإجابة الصحيحة مما بين الأقواس:

- ١ تولت رئاسة الاتحاد الإفريقى عام ٢٠١٩م. (كينيا - مصر - السودان)
- ٢ فى أواخر الأسرة الرابعة زاد نفوذ كهنة الإله (رع - آمون - أتون)

- ٢ انتهى العصر المتأخر بدخول (الهكسوس - الإسكندر - الكوشيين)
- ١ من الواردات المصرية من إفريقيا (العاج - الأواني النحاسية - أدوات الزينة)
- ٥ أعلى قمة جبلية في جبال البحر الأحمر (توبقال - شايب البنات - كلمنجارو)
- ٦ من الأسباب البشرية لحدوث خلل النظام البيئي (الأعاصير - الزلازل - الرعي الجائر)

(ب) بم تفسر...؟

١ اتجه جيش المسلمين لفتح طرابلس .

٢ لموقع قارة إفريقيا أهمية استراتيجية .

السؤال السادس

أكمل العبارات الآتية:

- ١ تتميز الغابات المدارية المطيرة بكثرة الحيوانات مثل
- ٢ من الجبال الالتوائية في قارة إفريقيا
- ٣ أشهر المستنقعات المكشوفة مستنقع جنوب السودان
- ٤ من الجهود المصرية لتحقيق التنمية المستدامة في إفريقيا إنشاء سد أوين في
- ٥ يأتي في المرتبة الأولى في التنوع البيولوجي في إفريقيا نهر

محافظة سوهاج - إدارة أحميم التعليمية

السؤال الأول

(١) أمامك خريطة صماء لقارة إفريقيا، اكتب مدلول الأرقام الآتية:



- ١ نظام بيئي
- ٢ مضيق
- ٣ دائرة عرض
- ٤ حشائش

(ب) بم تفسر...؟

١ تسمية الملك سنفرو بالملك المحسن المحبوب .

٢ أهمية الطحالب التي تستخرج من النظم البيئية المائية .

السؤال الثاني (١) اختر الإجابة الصحيحة مما بين القوسين:

- ١ أعلى قمة جبلية بجبال البحر الأحمر.....
(جبل توبقال - شايب البنات - جبل الكاب - جبل كلمنجارو)
- ٢ أرسل الملك أمنمحات الثالث أربعًا وعشرين بعثة لاستخراج المعادن وقطع الأحجار من.....
(شبه جزيرة سيناء - بلاد بونت - فينيقيا - الجزيرة)
- ٣ أكثر النظم البيئية الأرضية انتشارًا بقارة إفريقيا بالقرب من مضيق جبل طارق.....
(الغابات المدارية المطيرة - غابات البحر المتوسط - حشائش السافانا البستانية - حشائش السافانا الفقيرة)

(ب) ماذا كان يحدث إذا...؟

- اقتصرت منابع نهر النيل على هضبة البحيرات الاستوائية.

(ج) دلل على صحة العبارة الآتية:

- كان لذكاء القائد دور في فتح طرابلس دون صعوبة رغم قوة أسوارها وحصونها.

السؤال الثالث (١) اكتب كلمة (صواب) أمام العبارة الصحيحة، وكلمة (خطأ) أمام العبارة غير الصحيحة

- ١ انتشر الإسلام في غرب إفريقيا أولاً ثم انتقل إلى شرق إفريقيا. ()
- ٢ تسقط الأمطار طوال العام في نظام الغابات المدارية المطيرة. ()
- ٣ اقتصر اهتمام الملك أحمرس الأول على التوسعات الخارجية. ()
- ٤ يفصل المحيط الأطلنطي بين قارتي إفريقيا وآسيا. ()

(ب) ما النتائج المترتبة على...؟

١ سقوط أقطار جزيرة دائمة على هضبة البحيرات الاستوائية.

٢ ازدياد نفوذ كهنة الإله رع في نهاية الأسرة الرابعة.

السؤال الرابع (١) ما العلاقة بين كل من...؟

١ هضبة الحبشة والزراعة في مصر.

٢ أمراء طيبة والهكسوس.

(ب) ما المقصود ب...؟

١ السافانا

٢ الدعاة

ج) قارن بين: الملكة حتشبسوت والملكة سبك نفرو من حيث:

- ١ العصر الذي تنتمي إليه
- ٢ عمل لكل منهما

محافظة قنا - إدارة نجع حمادى التعليمية

السؤال الأول (١) أمامك خريطة لقارة إفريقيا، اكتب مدلول الأرقام التي عليها:



- ١ دائرة عرض رئيسية
- ٢ جبال
- ٣ الهضبة
- ٤ البحر
- ٥ جزيرة

ب) لمن تنسب الأعمال التالية...؟

- ١ أمر بحفر قناة سيزوستريس.
- ٢ قام بست عشرة حملة في آسيا لتوطيد النفوذ المصرى بها.

السؤال الثانى (١) اختر الإجابة الصحيحة من بين الأقواس:

- ١ يصب نهر كاجيرا فى بحيرة فيكتوريا من جهة..... (الشرق - الشمال - الجنوب - الغرب)
- ٢ نشأت حضارة قرطاج فى..... (السودان - تونس - مصر - إثيوبيا)
- ٣ تم فتح طرابلس على يد القائد.....
- ٤ يمثل المنبع الموسمى لنهر النيل فى هضبة

(عمرو بن العاص - عقبة بن نافع - عبد الله بن أبى السرح - موسى بن نصير)

(الحبشة - البحيرات الاستوائية - شمال إفريقيا - إفريقيا الجنوبية)

ب) بم تفسر...؟

١ الأهمية البيئية الكبيرة للغابات المدارية المطيرة.

٢ شهرة الملك توت عنخ آمون.

السؤال الثالث (١) ضع علامة (صح) أمام العبارة الصحيحة وعلامة (خطأ) أمام العبارة غير الصحيحة

١ تتميز تربة الغابات المطيرة فى معظمها باللون الأحمر. ()

٢ وصل فن النحت إلى قمته في عهد الملك زوسر. ()

٣ أعطى الإسلام المرأة حرية اختيار الزوج. ()

(ب) ما النتائج المترتبة على...؟

١ فرار بنى أمية وأنصارهم إلى داخل إفريقيا.

٢ تشجيع الملكة إياح حتب لابنها أحمس على حرب الهكسوس.

السؤال الرابع (١) صوب ما تحته خط:

١ إحدى أهم أشجار غابات البحر المتوسط أشجار الكاكو.

٢ ظهرت نصوص الأهرام لأول مرة في حجرة دفن الملك خوفو.

٣ تقترب قارة إفريقيا من قارة أوروبا عند مضيق موزمبيق.

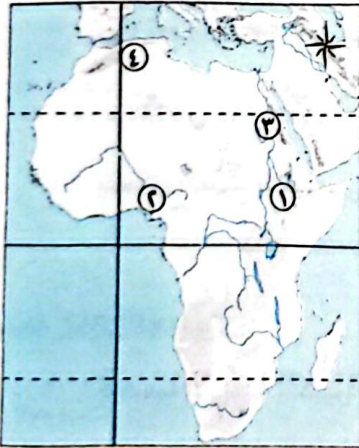
٤ أولى المحطات الإفريقية التي وصل إليها الإسلام هي برقة.

(ب) اكتب ما تشير إليه العبارتان الآتيتان:

١ نهر أنشئ عليه خزان سنار لصالح السودان. (.....)

٢ مدينة معناها القابضة على الأرضين واتخذها الملك أمنمحات الأول عاصمة لدولته. (.....)

محافظة أسوان - إدارة دراو التعليمية



السؤال الأول (١) أمامك خريطة صماء لقارة إفريقيا،

اكتب مدلول الأرقام:

١ هضبة.....

٢ نهر.....

٣ جبال.....

٤ حضارة.....

(ب) اكتب علامة (صح) أمام العبارة الصحيحة، وعلامة (خطأ) أمام العبارة غير الصحيحة:

١ تقع المنابع الدائمة لنهر النيل في هضبة الحبشة. ()

٢ يعتبر الهرم الأكبر أول بناء حجري ضخيم في التاريخ. ()

٣ تولى الملك توت عنخ آمون عرش مصر خلفاً للملك إخناتون. ()

(ج) به تفسر...؟

١ تقسيم إفريقيا لعدد كبير من الدول.

٢ خصوبة تربة هضبة الحبشة.

السؤال الثاني (١) ما العلاقة بين كل من...؟ - الغابات المدارية المطيرة والتوازن البيئي.

(ب) ما رأيك فى...؟ - دور الأزهر الشريف فى انتشار الإسلام فى إفريقيا.

(ج) ما المقصود ب...؟ - إمبراطورية.

(د) ما الأثر الناتج عن...؟

١ حفر قناة سيزوستريس.

٢ زواج التجار المسلمين من نساء الأفارقة.

السؤال الثالث (١) اختر الإجابة الصحيحة من بين الأقواس:

١ يصب نهر كاجيرا فى بحيرة فيكتوريا من جهة (الشرق - الغرب - الجنوب - الشمال)

٢ أمر الملك رمسيس الثانى بنحت معبدين فى منطقة (أبوسمبل - الأقصر - نبتة - منف)

٣ أرسل الملك أسطولاً بحرياً مكوناً من ٤٠ سفينة إلى فينيقيا. (سنفرو - خوفو - مينا - أوسركاف)

٤ اهتمم بشئون الري والزراعة وأقام مقاييس للنيل عند الجندل الثانى.

(أحمس الأول - سبك نفرو - أمنمحات الثالث - منتوحتب الثانى)

(ب) دلل على صحة كل عبارة مما يلي:

١ تعمل مصر على التوسع فى إنشاء مدن صديقة للبيئة.

٢ ساهم الخليفة عبد الملك بن مروان فى نشر مظاهر الحضارة الإسلامية فى الساحل الإفريقى.

السؤال الرابع (١) ماذا كان يحدث إذا...؟

١ لم تتعرض النظم البحرية العذبة للتدهور.

٢ لم تسقط الأمطار وتعتدل الحرارة فى فصل الشتاء فى مناطق غابات البحر المتوسط.


٣ لم ينقل أمنمحات الأول عاصمة مصر إلى إثيت تاوى.

(ب) من خلال دراستك لنظم الغابات والنظم البيئية المائية بقارة إفريقيا حدد:

١ الأهمية الاقتصادية لحشائش السافانا.

٢ العوامل البشرية التى تؤدى إلى تدهور أشجار المانجروف.

الإجابات النموذجية



- جميع الأسئلة المقالية مجاب عنها فى ملحق المراجعة والامتحانات.

- جميع إجابات الأسئلة الموضوعية والمقالية بالكتاب توجد على تطبيق الأضواء.

إجابات 100 %

يمكنك الإجابة بالرجوع إلى جزء المراجعة النهائية بملحق المراجعة والامتحانات.

إجابة امتحانات الكتاب المدرسي: الفصل الدراسي الأول



إجابة الامتحان الأول:



السؤال الأول:

- (أ) ١- الجزائر ٢- مضيق جبل طارق
٣- أوغندا ٤- إثيوبيا
- (ب) ١- أدى إلى زيادة موت الأشجار وتدهور التربة.
٢- أدى إلى تقسيم القارة لدول متعددة مختلفة في المساحة لضمان سيطرتها عليها.

السؤال الثاني:

- (أ) ١- (خطأ) طيبة ٢- (خطأ) الذهب والمعادن
٣- (صواب) ٤- (صواب) ٥- (صواب)
- (ب) ١- سيؤدي ذلك إلى انخفاض منسوب مياه النيل وقلّة حجم الطمي الخصب الذي يصل للأراضي المصرية.
٢- لم يتم تخزين مياه الفيضان وتعرضت البلاد للمجاعات.

السؤال الثالث:

- (أ) ١- أمنتب الرابع (إخنتون) ٢- إيمحتوب
٣- رمسيس الثاني ٤- عمر بن الخطاب
- (ب) ١- بفضل التجار المسلمين في نشر الإسلام في إفريقيا تحول العديد من الموانئ والمراكز التجارية إلى مراكز ثقافية وعلمية لنشر الإسلام مثل مدينة «تمبكتو» في مالي (حاليًا).

- ٢- ساهم عمرو العاص رضي الله عنه في نشر الإسلام في إفريقيا عن طريق العديد من الفتوحات مثل (فتح مصر - فتح طرابلس - فتح برقة).

السؤال الرابع

- (أ) (رحلات (حر - خوف) إلى جنوب مصر- تشييد حصن سمنا وقمنة. - دخول الإسكندرا الأكبر مصر- اكتشاف مقبرة الملك توت عنخ آمون).
- (ب) ١- لأن النيل الأزرق من المنابع الموسمية ويمد نهر النيل بالمياه ويساعده على الجريان تجاه الشمال حتى المصب (البحر المتوسط).

٢- لأن غابات حوض الكونغو تعمل على تنقية البيئة من التلوث، وتمتص انبعاثات الكربون بكمية أكبر من تلك الكمية الصادرة عن قارة إفريقيا بأكملها، كما تنتج كميات كبيرة من الأكسجين.

إجابة الامتحان الثاني:



السؤال الأول:

- (١) ١- جنوب السودان. ٢- فيكتوريا.
٣- الحبشة. ٤- عطبرة.

(ب) ١- حيث إن من هذه الأخطار:

• تركز عدد كبير من السكان في بيئة الإستبس ويعمل معظمهم في الرعى والزراعة، وقد كان لذلك تأثيرات سلبية كبيرة منها تحويل مساحات كبيرة من حشائش الإستبس إلى أراضٍ زراعية.
• تربية الماشية والأغنام بأعداد كبيرة لأغراض تجارية، وأدى ذلك إلى تغييرات في التنوع الحيوي في هذا النظام، وانقراض العديد من الحيوانات، وأيضاً تدهور التربة.
• تعرضها للحرائق في الفترات التي ترتفع فيها درجات الحرارة في فصل الصيف.

٢- ظهر هذا الدور من خلال دور الملكة إياح حنوب والدة الملك أحمس الأول، التي قامت بدور مهم في تحرير البلاد من الهكسوس، حيث شجعت ابنها كامس وأحمس على الاستمرار في الكفاح بعد مقتل أبيهما سقنن رع الثاني الذي ساندته في نضاله ضد الهكسوس، كما تولت نيابة عنهم شؤون الحكم إلى حين عودتهم منتصرين.

السؤال الثاني:

- (١) ١- أوناس ٢- الصنوبر
٣- برقة / طرابلس ٤- باب المنذب

(ب) ١- بسبب تدهور أحوال مصر الاقتصادية والاجتماعية والسياسية في نهاية عصر الأسرة السادسة وانتشار الفوضى في البلاد في أواخر عهد الملك بيبى الثاني بسبب ضعف السلطة المركزية وازدياد نفوذ حكام الأقاليم وتوقف الحكومة عن تنفيذ المشروعات الاقتصادية، وزيادة الأعباء على كاهل الفلاح المصري، مما دفع المصريين للقيام بثورة عارمة لينتهي بذلك عصر الدولة القديمة.
٢- بسبب ندرة المياه وفقرة التربة وارتفاع درجات الحرارة.

السؤال الثالث:

- (١) ١- الدعاة ٢- مدينة إثيث تاوي
٣- نهر كاجيرا ٤- النظام البيئي

(ب) ١- تتمثل العلاقة في أنه في عهد الأسرة الرابعة تم تطوير المقابر حيث تطورت المقبرة من هرم مدرج إلى هرم كامل مثل هرم الملك خوفو والملك خفرع من ملوك الأسرة الرابعة.
٢- تتمثل العلاقة في أن هضبة الحبشة أحد عوامل خصوبة التربة في مصر حيث تتميز تربة مصر بالخصوبة نتيجة الطمي المنقول إليها من هضبة الحبشة عبر مياه نهر النيل.

السؤال الرابع:

- (١) ١- نخاو الثاني ٢- مالي
٣- البحر الأحمر ٤- السافانا البستانية

(ب) ١- لم ينقرض العديد من أسماك بحيرة فيكتوريا.
٢- لم تنشأ جبال البحر الأحمر الانكسارية والتي تمتد في مصر والسودان وإريتريا على ساحل البحر الأحمر والتي تعد جزءاً من الأخدود الإفريقي.

- (ب) ١- شمال إفريقيا. ٢- الكاب. ٣- نهر النيل.
٤- البحر الأحمر. ٥- السويس. ٦- المحيط الهندي.
٧- الجدى. ٨- الحبشة.
٩- البحيرات الاستوائية. ١٠- أطلس.

(ج) ١- المدارية المطيرة. ٢- البحر المتوسط.

- ٣- البحر الأحمر. ٤- الزمبيزي. ٥- ناميبيا.
٦- غانا (مدارية مطيرة). ٧- الغابات المدارية المطيرة.
٨- النيل. ٩- البحر المتوسط.
(د) ١- الكونغو. ٢- البحر المتوسط. ٣- رأس محمد.
٤- الزمبيزي. ٥- السافانا.
٦- نظام الصحارى الحارة. ٧- مدار الجدى.
٨- النيجر. ٩- السافانا. ١٠- الفلد.

من المجموعة السابعة: الرابعة عشرة:

يمكنك الإجابة بالرجوع إلى جزء المراجعة النهائية بملحق المراجعة والامتحانات.

إجابة امتحانات الكتاب المدرسى:



الفصل الدراسي الأول

إجابة الامتحان الأول:



السؤال الأول:

- (١) ١- الجزائر ٢- مضيق جبل طارق
٣- أوغندا ٤- إثيوبيا

(ب) ١- أدى إلى زيادة موت الأشجار وتدهور التربة.

٢- أدى إلى تقسيم القارة لدول متعددة مختلفة في المساحة لضمان سيادتها عليها.

السؤال الثاني:

- (١) ١- (خطأ) طيبة ٢- (خطأ) الذهب والمعادن
٣- (صواب) ٤- (صواب) ٥- (صواب)

(ب) ١- سيؤدى ذلك إلى انخفاض منسوب مياه النيل وقلّة حجم الطمي الخصب الذى يصل للأراضي المصرية.

٢- لم يتم تخزين مياه الفيضان وتعرضت البلاد للمجاعات.

السؤال الثالث:

- (١) ١- أمنحتب الرابع (إخناتون) ٢- إيمحوتب
٣- رمسيس الثاني ٤- عمر بن الخطاب

(ب) ١- بفضل التجار المسلمين في نشر الإسلام في إفريقيا تحول العديد من الموانئ والمراكز التجارية إلى مراكز ثقافية وعلمية لنشر الإسلام مثل مدينة «تْمبكتو» في مالي (حاليًا).

٢- ساهم عمرو العاص في نشر الإسلام في إفريقيا عن طريق العديد من الفتوحات مثل (فتح مصر - فتح طرابلس - فتح برقة).

السؤال الرابع:

(١) (رحلات حر - خوف) إلى جنوب مصر - تشييد حصن سمنا وقمنا - دخول الإسكندر الأكبر مصر - اكتشاف مقبرة الملك توت عنخ آمون).

(ب) ١- لأن النيل الأزرق من المنابع الموسمية ويمد نهر النيل بالمياه ويساعده على الجريان تجاه الشمال حتى المصب (البحر المتوسط).

إجابات امتحانات بعض الإدارات التعليمية والمدارس: الفصل الدراسي الأول ٢٠٢٥ م

محافظة القاهرة - إدارة الوايلي التعليمية

السؤال الأول:

- ١) - البحر المتوسط. ٢- باب المنذب.
٣- جبال البحر الأحمر. ٤- غابات البحر المتوسط.
(ب) يمكنك الإجابة بالرجوع إلى إجابات ١٠٠٪ بتطبيق الأضواء.

السؤال الثاني:

- ١) - (صواب). ٢- (خطأ).
(ب) يمكنك الإجابة بالرجوع إلى إجابات ١٠٠٪ بتطبيق الأضواء.

السؤال الثالث:

- ١) - رمسيس الثاني. ٢- عمرو بن العاص.
٣- حرشوف.
(ب) يمكنك الإجابة بالرجوع إلى إجابات ١٠٠٪ بتطبيق الأضواء.

السؤال الرابع:

- ١) - الغابة. ٢- السبخات. ٣- الإمبراطورية.
(ب) يمكنك الإجابة بالرجوع إلى إجابات ١٠٠٪ بتطبيق الأضواء.

محافظة الجيزة - إدارة بولاق الدكرور التعليمية

السؤال الأول:

- ١) - جبال أطلس التل. ٢- مضيق موزمبيق.
٣- دائرة الاستواء. ٤- المحيط الأطلنطي.
(ب) يمكنك الإجابة بالرجوع إلى إجابات ١٠٠٪ بتطبيق الأضواء.

السؤال الثاني:

- ١) - الصيف. ٢- الحبشة.
(ب) يمكنك الإجابة بالرجوع إلى إجابات ١٠٠٪ بتطبيق الأضواء.

السؤال الثالث:

- ١) - (خطأ). ٢- (صواب).
(ب) يمكنك الإجابة بالرجوع إلى إجابات ١٠٠٪ بتطبيق الأضواء.
(ج) - الملك سنوسرت الثالث.
٢- الملك توت عنخ آمون.

السؤال الرابع:

- ١) - الجبال البركانية. ٢- العصور الوسطى.
(ب) نظم الأراضي الرطبة المالحة.
٢- نظم الأراضي الرطبة العذبة.
٣- النظم البيئية للمياه المالحة.
(ج) يمكنك الإجابة بالرجوع إلى إجابات ١٠٠٪ بتطبيق الأضواء.

محافظة الإسكندرية إدارة شرق التعليمية

السؤال الأول:

- ١) - القاهرة. ٢- شبه جزيرة سيناء.
٣- دولة كوش. ٤- رواق المغاربة. ٥- حضارة قرطاج.
(ب) يمكنك الإجابة بالرجوع إلى إجابات ١٠٠٪ بتطبيق الأضواء.

السؤال الثاني:

- ١) - أطلس. ٢- المدارية المطيرة (الاستوائية).
٣- مدغشقر. ٤- المحيط الأطلنطي.
(ب) - الفزلان. ٢- الشرقية. ٣- الفطريات.
٤- مصر. ٥- القوة.
(ج) يمكنك الإجابة بالرجوع إلى إجابات ١٠٠٪ بتطبيق الأضواء.

السؤال الثالث:

- ١) - (صواب). ٢- (خطأ). ٣- (خطأ).
٤- (صواب). ٥- (صواب).
(ب) يمكنك الإجابة بالرجوع إلى إجابات ١٠٠٪ بتطبيق الأضواء.

السؤال الرابع:

- ١) - التربة السوداء. ٢- الصيف. ٣- كينيا.
٤- فيكتوريا. ٥- الفرات.
(ب) يمكنك الإجابة بالرجوع إلى إجابات ١٠٠٪ بتطبيق الأضواء.

محافظة القليوبية - إدارة طوخ التعليمية

السؤال الأول:

- ١) - شبه جزيرة سيناء. ٢- نهر النيل. ٣- السافانا.
٤- كلهارى. ٥- البحر المتوسط.
٦- إفريقية (تونس حاليًا).
(ب) يمكنك الإجابة بالرجوع إلى إجابات ١٠٠٪ بتطبيق الأضواء.

السؤال الثاني:

- ١) - مالى. ٢- النيجر.
٣- الملك سنفرو. ٤- الملك أمنمحات الأول.
(ب) يمكنك الإجابة بالرجوع إلى إجابات ١٠٠٪ بتطبيق الأضواء.
(ج) - ١- حيث كان من الاتفاقيات التي تنظم الانتفاع بمياه النيل:

- اتفاقية ١٩٢٩ م: التي نصت على التزام دول حوض النيل بعدم القيام بأى مشروعات على نهر النيل بغير اتفاق مسبق مع مصر.
- اتفاقية ٢٠١٥ م: حيث اتفقت مصر وإثيوبيا والسودان على عدة مبادئ منها التعاون والتنمية وعدم التسبب فى ضرر والاستخدام المنصف والمناسب لمياه نهر النيل.

٢- حيث استطاع الفنان المصرى استخدام أصلب أنواع الحجرى نحت التماثيل، مثل حجر الديوريت.

٣- حيث كان الملك أوناس أول من كتب نصوص الأهرام على جدران حجرة الدفن داخل الهرم بهدف حماية الملك فى الحياة الآخرة، ثم انتشرت تلك العادة بين الملوك والملكات، وقد أمدتنا تلك النصوص بالكثير من المعلومات المهمة عن المعتقدات الدينية للمصريين القدماء.

السؤال الثالث:

- ١) - (خطأ). ٢- (صواب).
٣- (خطأ). ٤- (صواب).
(ب) يمكنك الإجابة بالرجوع إلى إجابات ١٠٠٪ بتطبيق الأضواء.

السؤال الرابع:

- ١) - المانجروف. ٢- العصور الوسطى.
٣- أروقة الأزهر الشريف.
٤- إقليم القلد.
(ب) يمكنك الإجابة بالرجوع إلى إجابات ١٠٠٪ بتطبيق الأضواء.

(د) ١- بناء هرم خفرع. ٢- إنشاء إيثيت تاوى.

٣- دخول الإسكندرمصر.

٤- دخول الإسلام مصر.

محافظة المنوفية - إدارة تلا التعليمية

السؤال الأول:

- ١) - المحيط الأطلنطي. ٢- دائرة الاستواء.
٣- نهر النيجر. ٤- القباب المدارية المطيرة «الاستوائية».
(ب) يمكنك الإجابة بالرجوع إلى إجابات ١٠٠٪ بتطبيق الأضواء.

محافظة كفر الشيخ - إدارة فوه التعليمية

السؤال الأول:

- (١) - مدار السرطان.
٢- الانكسارات الطولية التي تتجه بشكل عام من الجنوب إلى الشمال.
٣- مرتفع.
٤- المحمية الوطنية لحوض أركين.
(ب) (ج) يمكنك الإجابة بالرجوع إلى إجابات ١٠٠٪ بتطبيق الأضواء.

السؤال الثاني:

- (١) - ٢١- الأسود. ٢- السنط.
٣- السودان. ٤- متنوحثب الثاني.
(ب) (ج) يمكنك الإجابة بالرجوع إلى إجابات ١٠٠٪ بتطبيق الأضواء.

السؤال الثالث:

- (١) - ٢١- (خطأ). ٢- (صواب).
٣- (صواب). ٤- (خطأ).
(ب) (ج) يمكنك الإجابة بالرجوع إلى إجابات ١٠٠٪ بتطبيق الأضواء.

السؤال الرابع:

- (١) - ٢١- الأخدود الإفريقي. ٢- العرب. ٣- الحثيين.
٤- الحبوب الغذائية.
(ب) يمكنك الإجابة بالرجوع إلى إجابات ١٠٠٪ بتطبيق الأضواء.

محافظة البحيرة - إدارة فوم حمادة التعليمية

السؤال الأول:

- (١) - ٢١- البحر الأحمر. ٢- الاستواء. ٣- المدارية المطيرة.
(ب) (ج) يمكنك الإجابة بالرجوع إلى إجابات ١٠٠٪ بتطبيق الأضواء.

السؤال الثاني:

- (١) - ٢١- أوغندا. ٢- الدولة الحديثة.
(ب) (ج) يمكنك الإجابة بالرجوع إلى إجابات ١٠٠٪ بتطبيق الأضواء.

السؤال الثالث:

- (١) - ٢١- السودان. ٢- طيبة.
(ب) (ج) يمكنك الإجابة بالرجوع إلى إجابات ١٠٠٪ بتطبيق الأضواء.

السؤال الرابع:

- (١) - ٢١- (صواب). ٢- (خطأ).
٢- عمرو بن العاص. ٢- إياح حثب. ٣- أممس الأول.
(ب) (ج) يمكنك الإجابة بالرجوع إلى إجابات ١٠٠٪ بتطبيق الأضواء.

محافظة دمياط - توجيه الدراسات الاجتماعية

السؤال الأول:

- (١) - ٢١- الأطلسني. ٢- شمال إفريقيا. ٣- الإستبس.
(ب) - ٢١- (صواب). ٢- (خطأ).
(ج) - ١- الحشائش الحارة (السافانا).
٢- غابات البحر المتوسط.

السؤال الثاني:

- (١) - ٢١- الاقتصاد الأزرق. ٢- إمبراطورية.
٣- التوازن البيئي. ٤- الدعاة.
(ب) - ٢١- المنزل. ٢- فيكتوريا.
(ج) يمكنك الإجابة بالرجوع إلى إجابات ١٠٠٪ بتطبيق الأضواء.

السؤال الثالث:

- (١) - ٢١- نهر النيل. ٢- المطاط.
٣- شبه جزيرة سيناء. ٤- القاهرة.
(ب) - ٢١- مدغشقر. ٢- أوناس. ٣- الغرب.

السؤال الثاني:

- (١) - ١- (صواب). ٢- (خطأ). ٣- (خطأ).
(ب) (ج) يمكنك الإجابة بالرجوع إلى إجابات ١٠٠٪ بتطبيق الأضواء.

السؤال الثالث:

- (١) - ١- إثيث تاوى. ٢- السودان.
٣- الصحارى الحارة. ٤- نهر الأمازون.
(ب) (ج) يمكنك الإجابة بالرجوع إلى إجابات ١٠٠٪ بتطبيق الأضواء.

السؤال الرابع:

- (١) - ١- الاقتصاد الأزرق. ٢- الملك الكوشى.
١- رع وأمون وأوزوريس وإيزيس.

٢- أوافق على هذه العبارة حيث تتمثل العلاقة في أنه بعد انتهاء حكم رمسيس الثالث ضعفت البلاد نتيجة لضعف الملوك وتدخل كهنة آمون بطيبة في شؤون الحكم، وتعرضت البلاد خلال هذه الفترة للأطماع الخارجية التي انتهت بدخول الإسكندرا الأكبر وبدأت مرحلة جديدة من تاريخ مصر.
٣- ابن بطوطة.

(ج) ١- الوحدة الثانية على يد الملك مينا.

٢- بناء الهرم المدرج. ٣- فتح إفريقية.

٤- إنشاء منظمة الأندوجو.

محافظة الغربية - إدارة شرق طنطا التعليمية

السؤال الأول:

- (١) - ١- (صواب). ٢- (خطأ).
(ب) يمكنك الإجابة بالرجوع إلى إجابات ١٠٠٪ بتطبيق الأضواء.

السؤال الثاني:

- (١) - ١- شمال إفريقيا. ٢- الهندى. ٣- الجدى.
(ب) يمكنك الإجابة بالرجوع إلى إجابات ١٠٠٪ بتطبيق الأضواء.

السؤال الثالث:

- (١) - ١- مصر. ٢- الفرزان.
(ب) - ١- الماعز. ٢- الصنوبر. ٣- الشعاب المرجانية.

السؤال الرابع:

- (١) - ١- النيل الأزرق. ٢- أكسوم. ٣- أبو سمبل.
(ب) - ١- عبد الله بن أبى السرح. ٢- ابن بطوطة.
٣- سنفرو. ٤- أمنمحات الأول.

محافظة الدقهلية - إدارة غرب المنصورة التعليمية

السؤال الأول:

- (١) - ١- ٥. ٢- ٣. ٣- ٢.
(ب) (ج) يمكنك الإجابة بالرجوع إلى إجابات ١٠٠٪ بتطبيق الأضواء.

السؤال الثاني:

- (١) - ١- الزيتون. ٢- الكاب.
(ب) (ج) يمكنك الإجابة بالرجوع إلى إجابات ١٠٠٪ بتطبيق الأضواء.

السؤال الثالث:

- (١) - ١- (خطأ). ٢- (صواب).
(ب) (ج) يمكنك الإجابة بالرجوع إلى إجابات ١٠٠٪ بتطبيق الأضواء.

السؤال الرابع:

- (١) (ب) يمكنك الإجابة بالرجوع إلى إجابات ١٠٠٪ بتطبيق الأضواء.
(ج) - ١- الخديو إسماعيل. ٢- أركين.

السؤال الرابع:

- (أ) - محمد على باشا. ٢- أمنمحات الأول.
٣- توت عنخ آمون. ٤- عبد الملك بن مروان.
(ب) - (أ) - الحبارى - الغزال المصرى.

- ٢- إعلان عدد من المدن صديقة للبيئة مثل العلمين والجلالة
والعاصمة الإدارية.
(ج) - (أ) - تحت تمثال أبو الهول.

- ٢- دخول الإسكندر الأكبر مصر.
٣- إقامة معالكة إسلامية فى إفريقيا.
٤- تأسيس الصندوق الإفريقى للتغير المناخى.

محافظة الشرقية - إدارة غرب الزقازيق التعليمية

السؤال الأول:

- (أ) - (أ) - مصر. ٢- البحر المتوسط. ٣- الجدى.
(ب) - (ج) - يمكنك الإجابة بالرجوع إلى إجابات ١٠٠٪ بتطبيق الأضواء.

السؤال الثانى:

- (أ) - (أ) - (خطأ) (النظم البيئية المائية).
٢- (خطأ) (قبل انتشار الإسلام).
(ب) - يمكنك الإجابة بالرجوع إلى إجابات ١٠٠٪ بتطبيق الأضواء.

السؤال الثالث:

- (أ) - (أ) - رع. ٢- الإخاء.
(ب) - يمكنك الإجابة بالرجوع إلى إجابات ١٠٠٪ بتطبيق الأضواء.
(ج) - ١- تشييد حصن سمنا وقمنة.
٢- كفاح كامس ضد الهكسوس.
٣- دخول الإسكندر الأكبر مصر.
٤- اكتشاف مقبرة توت عنخ آمون.

السؤال الرابع:

- (أ) - (أ) - الملك أمنمحات الأول.
٢- الملك رمسيس الثانى.
(ب) - (ج) - يمكنك الإجابة بالرجوع إلى إجابات ١٠٠٪ بتطبيق الأضواء.

محافظة بورسعيد - مديرية التربية والتعليم

السؤال الأول:

- (أ) - (أ) - شمال إفريقيا. ٢- المدارية المطيرة. ٣- أكسوم.
(ب) - يمكنك الإجابة بالرجوع إلى إجابات ١٠٠٪ بتطبيق الأضواء.

السؤال الثانى:

- (أ) - (أ) - الحبشة. ٢- فيكتوريا. ٣- أوغندا.
(ب) - يمكنك الإجابة بالرجوع إلى إجابات ١٠٠٪ بتطبيق الأضواء.
(ج) - ١- نظام غابات البحر المتوسط.
٢- نظام حشائش الإستبس.

- ٣- نظام الغابات المدارية المطيرة.

السؤال الثالث:

- (أ) - (أ) - خطأ. ٢- (صواب). ٣- خطأ.
(ب) - يمكنك الإجابة بالرجوع إلى إجابات ١٠٠٪ بتطبيق الأضواء.

السؤال الرابع:

- (أ) - (ب) - يمكنك الإجابة بالرجوع إلى إجابات ١٠٠٪ بتطبيق الأضواء.

محافظة السويس - مديرية التربية والتعليم

السؤال الأول:

- (أ) - (أ) - هضبة الحبشة. ٢- مدار الجدى.

- ٣- الغابات المدارية المطيرة (الاستوائية).

- ٤- مضيق جبل طارق.

- (ب) - يمكنك الإجابة بالرجوع إلى إجابات ١٠٠٪ بتطبيق الأضواء.

السؤال الثانى:

- (أ) - (أ) - (صواب). ٢- (صواب). ٣- (خطأ).
(ب) - يمكنك الإجابة بالرجوع إلى إجابات ١٠٠٪ بتطبيق الأضواء.

السؤال الثالث:

- يمكنك الإجابة بالرجوع إلى إجابات ١٠٠٪ بتطبيق الأضواء.

السؤال الرابع:

- (أ) - (أ) - المحيط الأطلنطى. ٢- السودان. ٣- أتون.
(ب) - يمكنك الإجابة بالرجوع إلى إجابات ١٠٠٪ بتطبيق الأضواء.

محافظة الفيوم - مديرية التربية والتعليم

السؤال الأول:

- (أ) - (أ) - الكبرى. ٢- الإستبس. ٣- النيجر.
(ب) - يمكنك الإجابة بالرجوع إلى إجابات ١٠٠٪ بتطبيق الأضواء.

السؤال الثانى:

- (أ) - (أ) - إينى. ٢- عمر بن الخطاب (ع).
(ب) - يمكنك الإجابة بالرجوع إلى إجابات ١٠٠٪ بتطبيق الأضواء.

السؤال الثالث:

- (أ) - (أ) - جبل طارق. ٢- التجارى.
(ب) - يمكنك الإجابة بالرجوع إلى إجابات ١٠٠٪ بتطبيق الأضواء.

السؤال الرابع:

- (أ) - (أ) - (خطأ). ٢- (صواب).
(ب) - (أ) - موسم الشتاء.
٢- العلمين، الجلالة الجديدة، العاصمة الإدارية الجديدة.
٣- تكون الجليد فوق قمته.

محافظة بنى سويف - إدارة سمسطا التعليمية

السؤال الأول:

- (أ) - (أ) - جبل طارق. ٢- الهندى. ٣- أطلس.
(ب) - (ج) - يمكنك الإجابة بالرجوع إلى إجابات ١٠٠٪ بتطبيق الأضواء.

السؤال الثانى:

- (أ) - (ب) - يمكنك الإجابة بالرجوع إلى إجابات ١٠٠٪ بتطبيق الأضواء.
(ج) - الشرق.

السؤال الثالث:

- (أ) - (ب) - يمكنك الإجابة بالرجوع إلى إجابات ١٠٠٪ بتطبيق الأضواء.
(ج) - ١- الاقتصاد الأزرق. ٢- عمر بن الخطاب (ع).
٣- إيمحوتب. ٤- الخديو إسماعيل.

السؤال الرابع:

- (أ) - (أ) - (صواب). ٢- (صواب). ٣- (خطأ).
(ب) - (ج) - يمكنك الإجابة بالرجوع إلى إجابات ١٠٠٪ بتطبيق الأضواء.

محافظة المنيا - إدارة العدة التعليمية

السؤال الأول:

- (أ) - (أ) - المدارية المطيرة. ٢- الحبشة. ٣- المتوسط.
(ب) - يمكنك الإجابة بالرجوع إلى إجابات ١٠٠٪ بتطبيق الأضواء.

السؤال الثانى:

- (أ) - (أ) - العباسية. ٢- الأرضية.
(ب) - يمكنك الإجابة بالرجوع إلى إجابات ١٠٠٪ بتطبيق الأضواء.

السؤال الثالث:

- (١) ١- (خطأ). ٢- (خطأ). ٣- (صواب).
(ب) يمكنك الإجابة بالرجوع إلى إجابات ١٠٠٪ بتطبيق الأضواء.

السؤال الرابع:

- (١) ١- الصنوبر. ٢- الأبنوس.
(ب) يمكنك الإجابة بالرجوع إلى إجابات ١٠٠٪ بتطبيق الأضواء.

محافظة أسبوط - إدارة منفلوط التعليمية

السؤال الأول:

- ١- شبه جزيرة سيناء. ٢- كلمنجارو.
٣- عمرو بن العاص. ٤- بناء الأهرام. ٥- تمبكتو.

السؤال الثاني:

- (١) ١- أمنمحات الأول. ٢- زوسر. ٣- رمسيس الثاني.
٤- أمحس. ٥- ابن بطوطة. ٦- عثمان بن عفان (رضي الله عنه).
(ب) يمكنك الإجابة بالرجوع إلى إجابات ١٠٠٪ بتطبيق الأضواء.

السؤال الثالث:

- ١- (صواب). ٢- (صواب). ٣- (خطأ).
٤- (صواب). ٥- (صواب).

السؤال الرابع:

- (١) ١- الجدى. ٢- الهندي.
٣- الكبرى. ٤- المتوسط.
(ب) ١- أروقة الأزهر الشريف. ٢- الحضارة.
٣- الشعاب المرجانية.

السؤال الخامس:

- (١) ١- مصر. ٢- رع. ٣- الإسكندر.
٤- العاج. ٥- شايب البنات. ٦- الرعى الجائر.
(ب) يمكنك الإجابة بالرجوع إلى إجابات ١٠٠٪ بتطبيق الأضواء.

السؤال السادس:

- ١- القردة والتماسيح. ٢- الكاب. ٣- السد.
٤- أوغندا. ٥- الكونغو.

محافظة سوهاج - إدارة أحميم التعليمية

السؤال الأول:

- (١) ١- غابات البحر المتوسط. ٢- باب المندب.
٣- الاستواء. ٤- الإستبس.

- (ب) يمكنك الإجابة بالرجوع إلى إجابات ١٠٠٪ بتطبيق الأضواء.

السؤال الثاني:

- (١) ١- شايب البنات. ٢- شبه جزيرة سيناء.
٣- غابات البحر المتوسط.

- (ب) يمكنك الإجابة بالرجوع إلى إجابات ١٠٠٪ بتطبيق الأضواء.

السؤال الثالث:

- (١) ١- (خطأ). ٢- (خطأ). ٣- (خطأ).
٤- (خطأ).
(ب) يمكنك الإجابة بالرجوع إلى إجابات ١٠٠٪ بتطبيق الأضواء.

السؤال الرابع:

- (١) (ب) (ج) يمكنك الإجابة بالرجوع إلى إجابات ١٠٠٪ بتطبيق الأضواء.

محافظة قنا - إدارة نجع حمادى التعليمية

السؤال الأول:

- (١) ١- دائرة الاستواء. ٢- توبقال. ٣- الجنوبية.
٤- المتوسط. ٥- مدغشقر.
(ب) ١- الملك سنوسرت الثالث. ٢- تخمس الثالث.

السؤال الثاني:

- (١) ١- الغرب. ٢- تونس.
٣- عمرو بن العاص. ٤- الحبشة.
(ب) يمكنك الإجابة بالرجوع إلى إجابات ١٠٠٪ بتطبيق الأضواء.

السؤال الثالث:

- (١) ١- (صواب). ٢- (خطأ). ٣- (صواب).
(ب) يمكنك الإجابة بالرجوع إلى إجابات ١٠٠٪ بتطبيق الأضواء.

السؤال الرابع:

- (١) ١- الصنوبر. ٢- الملك أوناس.
٣- مضيق جبل طارق. ٤- الحبشة.
(ب) ١- النيل الأزرق. ٢- إثيث تاوى.

محافظة أسوان - إدارة دراوا التعليمية

السؤال الأول:

- (١) ١- الحبشة. ٢- النيجر.
٣- البحر الأحمر. ٤- قرطاج.
(ب) ١- (خطأ). ٢- (خطأ). ٣- (صواب).
(ج) يمكنك الإجابة بالرجوع إلى إجابات ١٠٠٪ بتطبيق الأضواء.

السؤال الثاني:

- (١) (ب) (ج) (د) يمكنك الإجابة بالرجوع إلى إجابات ١٠٠٪ بتطبيق الأضواء.

السؤال الثالث:

- (١) ١- الغرب. ٢- أبو سمبل.
٣- سنفرو. ٤- أمنمحات الثالث.
(ب) يمكنك الإجابة بالرجوع إلى إجابات ١٠٠٪ بتطبيق الأضواء.

السؤال الرابع:

- (١) (ب) يمكنك الإجابة بالرجوع إلى إجابات ١٠٠٪ بتطبيق الأضواء.

جميع حقوق الملكية الفكرية وحقوق المؤلف لهذا الكتاب مملوكة لدار

نهضة مصر للنشر.

يحظر طبع أو نشر أو تصوير أو تخزين

أى جزء من هذا الكتاب بأية وسيلة إلكترونية أو ميكانيكية أو بالتصوير

أو خلاف ذلك إلا بإذن كتابى صريح من الناشر.

رقم الإيداع: 2025 / 8135

خدمة العملاء: 16766



نهضة مصر
للنشر