

بوصلة التفوق
في الاجتماعيات
تاسع ٢٠٢٦

تاريخ
إعداد الأنسة فاطمة الرحل
النوطة الذهبية
جغرافية

بوصلة التفوق

الصف التاسع
٢٠٢٦

الوطن العربي موقع متميز وإمكانات كبيرة

الدرس الأول

تكلم عن الموقع الفلكي للوطن العربي

يمتد الوطن العربي بين ١٠,٣٠ درجة جنوب خط الاستواء و ٣٧,٣٠ درجة شمال خط الاستواء وبين خطي طول ٦٠ شرق غرينتش و ١٧ غرب غرينتش حيث يمتد الوطن العربي على ٧٧ خط طول ٣٩ عرض

تكلم عن الموقع الجغرافي للوطن العربي : حدود الوطن العربي

يحدّه من الشمال البحر المتوسط وجبال طوروس التي تشكل حد فاصل عن تركيا من الجنوب بحر العرب والمحيط الهندي ومرتفعات أنثوية وأوغندة والصحراء الكبرى حتى مصب نهر السنغال في المحيط الأطلسي - شرقاً تفصله جبال زاغروس والخليج العربي وخليج عمان عن إيران من الغرب على المحيط الأطلسي

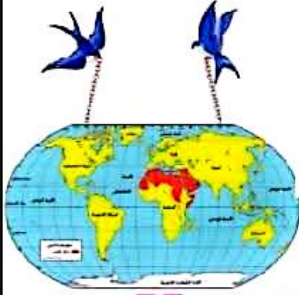
تبلغ مساحة الوطن العربي (١٤) مليون كم ٢ ١٠% من مساحة العالم

الأطماع الاستعمارية غيرت حدود الوطن العربي وجرأته

فسر غياب مطابقة الحدود الطبيعية الحدود السياسية الحالية

بسبب التجاوزات من قبل الدول المجاورة

والحدود الاصطناعية التي رسمتها الدول الاستعمارية بين أقطاره



فسر الأهمية الروحية والثقافية

للوطن العربي

- ١) ولدت ونمت في الوطن العربي حضارات كثيرة كالمصرية والسومرية والكنعانية
- ٢) والوطن العربي مهد الديانات السماوية اليهودية المسيحية الإسلامية

فسر الأهمية الاقتصادية لموقع

الوطن العربي :

- ١) تنوع الغلات الزراعية بسبب امتداده الكبير على مساحات واسعة
- ٢) وفرة المراعي
- ٣) تنوع ثرواته الباطنية
- ٤) زاد من أهميته اكتشاف النفط وتوفر رؤوس الأموال

فسر الأهمية الاستراتيجية لموقع

الوطن العربي

- ١) موقع الوطن العربي الجغرافي الاستراتيجي بين قارات العالم
- ٢) جعله طريقاً للمواصلات البرية والبحرية والجوية
- ٣) زاد من أهميته إشرافه على بحار ومحيطات مهمة وتحكمه بمضائق بحرية

أهم المضائق في الوطن العربي

مضيق باب السلام (هرمز) : يصل بين الخليج العربي وخليج عمان والمحيط الهندي

مضيق باب المندب : يصل بين البحر الأحمر وخليج عدن والمحيط الهندي

مضيق جبل طارق : يصل بين المحيط الأطلسي والبحر المتوسط

قناة السويس : تصل بين البحر المتوسط والبحر الأحمر

١) أهم ممر بحري في العالم

٢) أدت إلى اختصار طرق الملاحة العالمية

بين قارات العالم

٣) نشوء عدد من المدن الجديدة كبور سعيد والاسماعيلية

معلومة : أهم المناطق المقتصبة فلسطين



أهم المضائق في الوطن العربي

الأنشطة والتدريبات :

أولاً : اختر الإجابة الصحيحة مما يأتي :

❖ تشكل جبال طوروس حدوداً طبيعية بين الوطن العربي و :

إيران - تركيا - إفريقيا - أوروبا

❖ عمل الموقع الجغرافي على جعل الوطن العربي طريقاً :

برية - بحرية - جوية - كل ما سبق صحيح

❖ يحد الوطن العربي من جهة الغرب :

البحر المتوسط - الخليج العربي - خليج عدن - المحيط الأطلسي

❖ يمتد الوطن العربي شمال خط الاستواء حتى درجة العرض :

٤٠,٣٠ - ٣٧,٣٠ - ٣٦,٣٠ - ٣٨,٣٠ درجة

ثانياً : ضع إشارة صح أمام العبارة الصحيحة وخط خطأ فيما يأتي :

❖ عملت الدول الاستعمارية على تثبيت الحدود الطبيعية للوطن العربي (خطأ) تغيير الحدود

❖ عزز اكتشاف النفط وتوافر رؤوس الأموال الأهمية الروحية والثقافية للوطن العربي (خطأ) الاقتصادية

❖ من المضائق المهمة التي تصل بين البحر المتوسط والمحيط الأطلسي قناة السويس (خطأ) مضيق جبل طارق

رابعاً : إذا علمت أن المسافة بين كل درجة عرض وأخرى ١١١,١١١ كم فاحسب المسافة بالكم بين جنوب

الوطن العربي وشماله

١١١,١١١ المسافة درجات العرض ٣٩ نضرب الرقمين النتيجة ٣٢٩ ٤٣٣٣ كم

خامساً : ارسم خريطة الوطن العربي وحدد عليها مع التسمية :

ما يحيط به من بحار ومحيطات والمضائق والممرات التي تصل بينهما



سورية أهمية الموقع وعبقريته الإنسان

الدرس الثاني

تكلم عن الموقع الفلكي لسورية :

- تمتد بين درجتي عرض ٣٢,١٩ - ٣٧,٣٠ شمال خط الاستواء
- وبين خطي طول ٣٥,٣٧ - ٤٢,٢٣ درجة شرقي غرينتش

تكلم عن الموقع الجغرافي لسورية (الحدود)

- تشغل سورية الجزء الشمالي من بلاد الشام وتعد قمم جبال طوروس حد طبيعي شمالي لسورية الحدود الحالية التي رسمتها السياسة الاستعمارية :
- من الشمال تركيا - من الجنوب الأردن - من الغرب لبنان والبحر المتوسط - تندمج شرقاً في بادية الشام في العراق
- ❖ مساحة سورية ١٨٥١٨٢ كم^٢

عدد المناطق المقترحة من سورية

تم اقتطاع كيليكية وعينلب وديار بكر ومرعش من سورية وفق اتفاقية أنقرة ١٩٢١ ولوزان ١٩٢٣ بين فرنسا وتركيا

وضم لواء اسكندرون لتركيا ١٩٣٩ ليضيه اسمه هنأى واحتل الكيان الصهيوني الجولان السوري

علل أهمية الموقع الجغرافي لسورية (علل أضحت سوريا هدفاً للأطماع الاستعمارية)

(١) تعد طريقاً برياً يصل شبه الجزيرة العربية بأوروبا

(٢) زاد أهمية هذا الموقع بعد اكتشاف النفط حيث أصبحت سوريا ممراً لنقله عبر أراضيها وموانئها إلى أوروبا

أشهر أثر سوريا في الحضارة الإنسانية

فيها أوغاريت التي قدمت أول أبجدية في العالم
أثار تمر وحلب ودمشق وادلب شهدت معظمها نشاط تجاري كبير (علل)

- بسبب موقع سورية بين الشرق والغرب
- واعتماد معظم القوافل التجارية على واحاتها ومحطاتها كطريق الحرير

فسر الاحتلال الإسرائيلي للجولان السوري عام ١٩٦٧

- تشكل أراضي الجولان أقدام جبل الشيخ الشرقية وهي من أغنى الأراضي السورية
- لوفرة مياهها (بحيرة طبرية ومسعدة)
- وخصوبتها الزراعية

الأنشطة والتدريبات

أولاً : اختر الإجابة الصحيحة مما يأتي

- ١- تمتد سورية بين درجتي عرض :
(٣٧,٣٠ - ٣٢,١٩) - (٣٥,٣٠ - ٣٢,٤٠)
(٣٩,٨٠ - ٣٥,٣٠) - (٣٦,٧٠ - ٣٥,٣٠)
- ٢- الحدود الطبيعية الشمالية لسورية هي : الأردن - البحر المتوسط - العراق - جبال طوروس

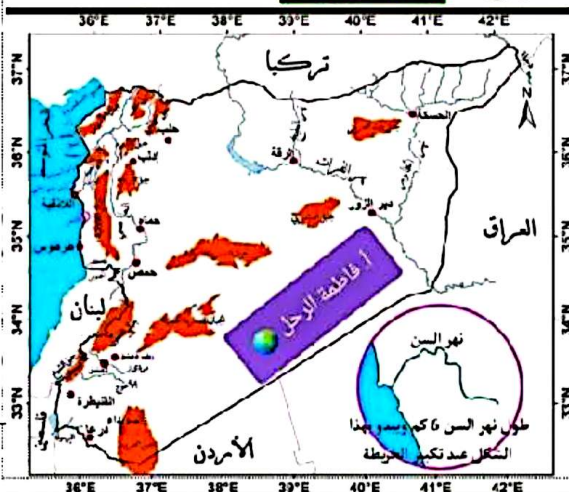
ثانياً : ضع إشارة صح أمام العبارة الصحيحة

وصحح العبارة الغلط فيما يأتي :

- ١- تشغل سورية الجزء الشمالي من بلاد الشام (صح)
- ٢- كانت القوافل التجارية تمر بسورية عبر طريق الحرير (صح)

ثالثاً : فسر كلاً مما يأتي :

- ١- أهمية الموقع الجغرافي لسورية
- ٢- الاحتلال الإسرائيلي للجولان



أسس التقسيم الإقليمي للوطن العربي

الدرس الثالث

ماذا يقصد بالتقسيم الإقليمي :

إظهار أوجه الشبه والاختلاف بين الأمكنة بناء على أسس طبيعية وبشرية

ما المقصود بمفهوم الإقليم :

مساحة من الأرض تمتلك مجموعة من الخصائص الطبيعية والبشرية التي تميزها عن الأقاليم المجاورة

على ماذا اعتمد العلماء في تقسيم الوطن العربي إلى أقاليم جغرافية

١- مظاهر طبيعية : كالتضاريس والمناخ وتوزيع البر والبحر

٢- مظاهر بشرية : كتوزيع السكان والكثافة السكانية

علل تقسيم الوطن العربي لأقاليم جغرافية

من أجل تسهيل دراسة الوطن العربي

علل لا تنطبق حدود الأقاليم الجغرافية للوطن العربي مع الحدود الحالية للبلدان العربية

بسبب التجزئة

عدد أقاليم الوطن العربي :

(بلاد الشام - العراق - شبه الجزيرة

- وادي النيل - القرن الأفريقي - ليبيا - المغرب العربي)



تكمم عن إقليم شبه الجزيرة العربية :

- يتميز بحدود طبيعية جغرافية واضحة
- فهو محاط بالماء من ثلاث جهات
- الخليج العربي من الشرق
- البحر الأحمر من الغرب - بحر العرب من الجنوب
- الجهة الشمالية يابسة تسمى بادية الشام (الحماة)

علل أهمية إقليم شبه الجزيرة العربية :

- ١) تحيط به ثلاث ممرات مائية مهمة (مضيق هرمز - باب المندب - قناة السويس)
- ٢) امتلاكه ثروة نفطية ضخمة
- ٣) توجد فيه قبلة المسلمين (الكعبة المشرفة)

تكمم عن إقليم وادي النيل :

١- كان لنهر النيل وروافده الدور المميز في رسم حدود الإقليم بشكل واضح وله أثر مهم في حياة سكانه

علل بحد وادي النيل من البقاع التي نشأت فيها أقدم الحضارات الإنسانية المستقرة

علل قيام الزراعة المزدهرة في وادي النيل

- بسبب وجود الماء
- والتربة الخصبة

أقاليم الوطن العربي السبعة لا تشكل سبباً لتجزئته (فسر ذلك)

١. لأن الصحراء الممتدة من الخليج العربي إلى المحيط الأطلسي تشكل رابطاً طبيعياً يجمع بين أقاليمه
٢. واللغة العربية والأصل الواحد والثقافة المشتركة



العاصمة	الدولة
دمشق	سوريا
بيروت	لبنان
القدس	فلسطين
عمان	الأردن
بغداد	العراق
الرياض	السعودية
الكويت	الكويت
المنامة	البحرين
الدوحة	قطر
أبو ظبي	الإمارات
مسقط	سلطنة عمان
صنعاء	اليمن
القاهرة	مصر
الخرطوم	السودان
طرابلس	ليبيا
الرباط	المملكة المغربية
تونس	تونس
الجزائر	الجزائر
نواكشوط	موريتانيا
مقدشو	الصومال
جيبوتي	جيبوتي
أسمره	أريتريا
موروني	جزر القمر

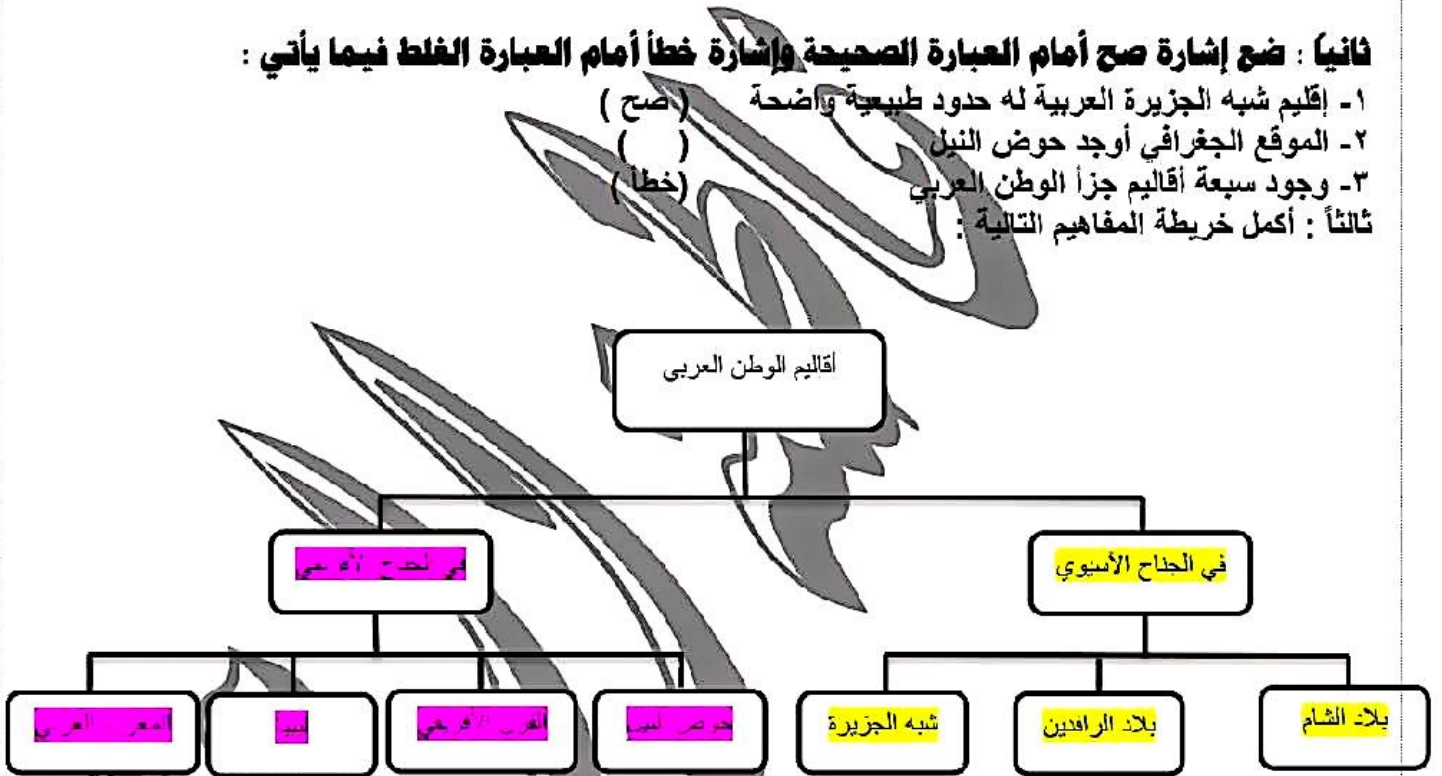
الأنشطة والتدريبات

أولاً : اختر الإجابة الصحيحة مما يأتي :

- 1- من الأسباب التي أسهمت في نشوء حضارة مستقرة في وادي النيل :
الزيادة السكانية - الإشراف على مضيق هرمز - **التربة الخصبة** - قسوة المناخ
- 2- إقليم شبه الجزيرة العربية محاط بالماء من :
ثلاث جهات - أربع جهات - جهتين - كل ماسبق صحيح

ثانياً : ضع إشارة صح أمام العبارة الصحيحة وإشارة خطأ أمام العبارة الغلط فيما يأتي :

- 1- إقليم شبه الجزيرة العربية له حدود طبيعية واضحة (صح)
- 2- الموقع الجغرافي أوجد حوض النيل (خطأ)
- 3- وجود سبعة أقاليم جزأ الوطن العربي ثالثاً : أكمل خريطة المفاهيم التالية :



رابعاً : ارسم خريطة للوطن العربي ثم حدد عليها الأقاليم الجغرافية مع التسمية



إقليم بلاد الشام بوابة آسيا العربية على أوروبا

✓ يقع إقليم بلاد الشام في الجزء الشمالي الغربي من آسيا العربية (صح - خطأ)

علل الأهمية الجغرافية لموقع بلاد الشام

- (١) منفذ لآسيا الوسطى والغربية على البحر المتوسط
- (٢) الجسر الذي يصل آسيا بأفريقيا
- (٣) تمر عبره أقصر الطرق البرية إلى أوروبا عبر الأناضول

لاحتوائه على آثار متنوعة كمدينة تدمر في سورية والبتراء في الأردن

يضم مدناً دينية مهمة مثل القدس وبيت لحم مهد السيد المسيح

بلاد الشام مهد الحضارات فسر ذلك

✦ تعد مدينة دمشق عاصمة الأمويين رابطاً لثقافات وحضارات تعاقبت على المنطقة (تبلغ مساحة بلاد الشام ٤٠٢ ألف كم^٢ منها ٩٠ ألف كم^٢ مناطق مغتصبة)

عدد أقطار بلاد الشام وعواصمهم

سورية : دمشق - لبنان : بيروت - الأردن : عمان - فلسطين : القدس

إقليم العراق (بلاد الرافدين) منبع الحضارات

تكلم عن الموقع الجغرافي لإقليم العراق

يشغل الجزء الشمالي الشرقي من الوطن العربي في آسيا العربية
تفصله جبال زاغروس عن إيران في الشرق وطوروس عن تركيا في الشمال ويندمج في بلاد الشام في الغرب
وصحراء شبه الجزيرة العربية في الجنوب ويطل على ساحل الخليج العربي بطول ٩٠٠ كم ويعد إقليم عربستان في جنوب غرب إيران امتداداً طبيعياً للعراق

علل الأهمية الزراعية لإقليم العراق

علل نشوء حضارات متعاقبة على أراضي العراق

موقع العراق ومرور نهري دجلة والفرات ساعد على توفر المياه والتربة الخصبة

كم دولة يضم إقليم بلاد الرافدين (العراق)

يضم العراق وعاصمتها بغداد والمساحة ٤٣٥ ألف كم^٢

إقليم شبه الجزيرة العربية الموطن الأصلي للعرب ومنطلق الإسلام (صح - خطأ)

تقع شبه الجزيرة في الجزء الجنوبي الشرقي من الوطن العربي في آسيا العربية (صح - خطأ)

علل الأهمية التاريخية والدينية لشبه الجزيرة العربية

- (١) انطلقت منها القبائل العربية
- (٢) انطلقت منها رسالة الإسلام
- (٣) وهي مقصد الحجاج

علل الأهمية الاستراتيجية لموقع شبه الجزيرة

- (١) لإشرافها على مضائق بحرية مهمة عالمياً كمضيق باب السلام وباب المنذب
- (٢) زاد في أهميته اكتشاف النفط والغاز

✦ تبلغ مساحة الإقليم ٣,١٧٠ مليون كم^٢ ويتألف من الدول التالية :

المملكة العربية السعودية : الرياض - الكويت : الكويت - البحرين : المنامة - قطر : الدوحة
الإمارات العربية المتحدة : أبوظبي - عمان : مسقط - الجمهورية اليمنية : صنعاء

إقليم وادي النيل :

يشغل الجزء الشمالي الشرقي من قارة أفريقيا (صح - خطا)

علل أهمية الموقع الجغرافي لإقليم وادي النيل

- ١) الجسر البري الذي يصل آسيا العربية بأفريقيا
- ٢) وأفريقيا الاستوائية بالبحر المتوسط

اذكر المقومات السياحية لوادي النيل

- ١) الحضارة المصرية القديمة
- ٢) الأهرامات
- ٣) المرجان في البحر الأحمر
- ٤) يعد سلة الغذاء العربي

علل الأهمية الاستراتيجية لموقع وادي النيل

❖ لوجود قناة السويس أهم المضائق المائية في العالم
تبلغ مساحة وادي النيل ٣,٥٠٧ مليون كم^٢ ودوله مصر : القاهرة - السودان : الخرطوم

إقليم القرن الأفريقي :

الموقع الجغرافي والعلكي لإقليم القرن الأفريقي

يقع على الساحل الشرقي لأفريقيا
يخترقه خط الاستواء من جنوبيه ومن الشرق على البحر الأحمر ومضيق باب المندب وخليج عدن والمحيط الهندي
ومن الشمال السودان ومن الغرب الحبشة وكينيا وسواجله من المصائد العربية المهمة

علل يمانى سكان القرن الأفريقي من سوء التغذية والمجاعة على الرغم من موقعه المناخي الجيد

- ١) لاستخدام الوسائل البدائية في الزراعة والصيد
 - ٢) وقلة التمويل
 - ٣) والصراعات والحروب الأهلية
- مساحة الإقليم ٧٨٣ ألف كم^٢ ودوله الصومال : مقديشو - أريتيريا : أسمرة - جيبوتي : جيبوتي - جزر القمر : موروني

إقليم ليبيا :

علل أهمية موقع ليبيا (الجغرافية)

- ١) يتوسط الساحل الشمالي لأفريقيا
- ٢) صلة وصل بين إقليم وادي النيل والمغرب العربي
- ٣) وبين دول أفريقيا الوسطى والبحر المتوسط
- ٤) يعد خليج سرت الواسع أهم مظهر جغرافي في ليبيا (صح - خطأ)

علل الأهمية الاقتصادية لموقع ليبيا

- ١) يمتلك ثروة نفطية كبيرة
- ٢) تمتاز سواحل ليبيا بقناها بالإسفنج والأسماك

علل ضعف الإنتاج الزراعي في ليبيا

علل قلة الأراضي الصالحة للزراعة في ليبيا (٥%)

❖ لاتتسع مساحة الصحراء
مساحة الإقليم ١,٧٥٩ مليون كم^٢ وتشغله دولة واحدة هي ليبيا عاصمتها مدينة طرابلس

إقليم المغرب العربي :

تكلم عن الموقع الجغرافي

- ❖ يقع في الجزء الشمالي الغربي من الوطن العربي من أفريقيا العربية
- ❖ يحده من الشمال والشرق البحر المتوسط
- ❖ ومن الغرب المحيط الأطلسي

علل الأهمية الاستراتيجية لموقع المغرب العربي

١) لتحكمه بمضيق جبل طارق

علل الأهمية الاقتصادية لموقع المغرب العربي

- ١) ويمتلك أراضي زراعية خصبة
- ٢) والمركز الأول بالوطن العربي بصيد الأسماك والإسفنج (صح - خطأ)
- ٣) ومراتب مهمة في الثروات الباطنية كالحديد والنفط والفوسفات

المساحة ٤,٢٥ مليون كم^٢ بما فيها الصحراء الغربية ودولة المملكة المغربية : الرباط - الجزائر - تونس - تونس - موريتانية : نواكشوط



الإقليم	الموقع	علل (أسباب)	الدول التي يتكون منها	مساحته
بلاد الشام	الجزء الشمالي الغربي من آسيا	<p>علل الأهمية الجغرافية لموقع بلاد الشام</p> <p>١) منفذ لآسيا الوسطى والغربية على البحر المتوسط</p> <p>٢) الجسر الذي يصل آسيا بأفريقيا</p> <p>٣) تمر عبره أقصر الطرق البرية إلى أوروبا عبر الأناضول</p> <p>علل الأهمية التاريخية لموقع بلاد الشام</p> <p>٤) لاحتوائه على آثار متنوعة كمدينة تدمر في سورية والبتراء في الأردن</p> <p>علل الأهمية الدينية لموقع بلاد الشام</p> <p>يضم مدناً دينية مهمة مثل القدس وبيت لحم مهد السيد المسيح</p>	سوريا - لبنان - فلسطين - الأردن	٤٠٢ ألف كم ^٢
العراق (بلاد الرافدين)	الجزء الشمالي الشرقي من الوطن العربي	<p>علل الأهمية الزراعية لإقليم العراق</p> <p>علل نشوء حضارات متعاقبة على أراضي العراق</p> <p>موقع العراق ومرور نهري دجلة والفرات ساعد على توفر المياه والتربة الخصبة</p>	العراق	٤٣٥ ألف كم ^٢
شبه الجزيرة العربية	الجزء الجنوبي الشرقي من الوطن العربي	<p>علل الأهمية التاريخية والدينية لشبه الجزيرة العربية</p> <p>١) انطلقت منها القبائل العربية</p> <p>٢) انطلقت منها رسالة الإسلام</p> <p>٣) وهي مقصد الحجاج</p> <p>علل الأهمية الاستراتيجية لموقع شبه الجزيرة</p> <p>١) لإشرافها على مضائق بحرية مهمة عالمياً كمضيق باب السلام وباب المنب</p> <p>٢) زاد في أهميته اكتشاف النفط والغاز</p> <p>علل أهمية الموقع الجغرافي لإقليم وادي النيل</p> <p>١) الجسر البري الذي يصل آسيا العربية بأفريقيا</p> <p>٢) وأفريقيا الاستوائية بالبحر المتوسط</p> <p>٣) اذكر المقومات السياحية لوادي النيل</p> <p>٤) الحضارة المصرية القديمة</p> <p>٥) الأهرامات</p> <p>٦) المرجان في البحر الأحمر</p> <p>٧) يعد سلة الغذاء العربي</p> <p>علل الأهمية الاستراتيجية لموقع وادي النيل</p> <p>لوجود قناة السويس أهم المضائق المائية في العالم</p>	السعودية - الكويت - البحرين - قطر - الإمارات العربية المتحدة - سلطنة عمان - اليمن	٣,١٧٠ مليون كم ^٢
وادي النيل	الجزء الشمالي الشرقي من قارة أفريقيا	<p>علل أهمية الموقع الجغرافي لإقليم وادي النيل</p> <p>١) الجسر البري الذي يصل آسيا العربية بأفريقيا</p> <p>٢) وأفريقيا الاستوائية بالبحر المتوسط</p> <p>٣) اذكر المقومات السياحية لوادي النيل</p> <p>٤) الحضارة المصرية القديمة</p> <p>٥) الأهرامات</p> <p>٦) المرجان في البحر الأحمر</p> <p>٧) يعد سلة الغذاء العربي</p> <p>علل الأهمية الاستراتيجية لموقع وادي النيل</p> <p>لوجود قناة السويس أهم المضائق المائية في العالم</p>	مصر - السودان	٣,٥٠٧ مليون كم ^٢
القرن الأفريقي	يمتد على الساحل الشرقي لقارة أفريقيا	<p>علل بعث سكان القرن الأفريقي من سوء التغذية والمجاعة على الرغم من موقعه المناخى الجيد</p> <p>١) لاستخدام الوسائل البدائية في الزراعة والصيد</p> <p>٢) وقلة التسمول</p> <p>٣) والصراعات والحروب الأهلية</p>	الصومال - جيبوتي - إثيوبيا - موريتانيا - القمر	٧,٨٣ ألف كم ^٢
ليبيا	يتوسط الساحل الشمالي لأفريقيا	<p>علل أهمية موقع ليبيا (الجغرافية)</p> <p>١) يتوسط الساحل الشمالي لأفريقيا</p> <p>٢) صلة وصل بين إقليم وادي النيل والمغرب العربي</p> <p>٣) وبين دول أفريقيا الوسطى والبحر المتوسط</p> <p>٤) يعد خليج سرت الواسع أهم مظهر جغرافي في ليبيا (صحح - خطأ)</p> <p>علل الأهمية الاقتصادية لموقع ليبيا</p> <p>١) يمتلك ثروة نفطية كبيرة</p> <p>٢) تمتاز سواحل ليبيا بغناها بالإسفنج والأسماك</p> <p>علل ضعف الإنتاج الزراعي في ليبيا بسبب اتساع الصحاري وقلة الأراضي الزراعية</p>	ليبيا	١,٧٥٩ مليون كم ^٢
المغرب العربي	الجزء الشمالي الغربي من الوطن العربي	<p>علل الأهمية الاستراتيجية لموقع المغرب العربي</p> <p>١) لتحكمه بمضيق جبل طارق</p> <p>علل الأهمية الاقتصادية لموقع المغرب العربي</p> <p>١) ويمتلك أراضي زراعية خصبة</p> <p>٢) والمركز الأول بالوطن العربي بصيد الأسماك والإسفنج (صحح - خطأ)</p> <p>٣) ومراتب مهمة في الثروات الباطنية كالحديد والنفط والفوسفات</p>	المملكة المغربية - الجزائر - تونس - موريتانيا	٤,٢٥ مليون كم ^٢ بما فيها الصحراء العربية

الأنشطة والتدريبات

أولاً : ضم إشارة صح أمام العبارة الصحيحة وإشارة خطأ أمام العبارة الغلط فيما يأتي :

- ١- انطلقت رسالة الإسلام من إقليم شبه الجزيرة العربية (صح)
 - ٢- يعد إقليم وادي النيل الجسر الذي يصل آسيا بأفريقيا (صح)
 - ٣- يقع الإقليم الليبي في شرقي الوطن العربي (خطأ)
- ثانياً : انسب المدن الآتية إلى دولها : القدس - المنامة - القاهرة - الرياض - مقديشو
فلسطين - البحرين - مصر - المغرب - الصومال

ثالثاً : أعط تفسيراً لكل مما يأتي :

- ١- أهمية إقليم بلاد الشام الدينية يضم مدناً دينية مهمة مثل القدس وبيت لحم مهد السيد المسيح إضافة إلى دمشق عاصمة الامويين
- ٢- ضعف الإنتاج الزراعي في ليبيا بسبب اتساع الصحاري وقلة الاراضي الزراعية
- ٣- الأهمية الزراعية لإقليم العراق موقع العراق ومرور نهري دجلة والفرات يساعد على توفر المياه والتربة الخصبة

رابعاً : اذكر ثلاثة مقومات سياحية في إقليم وادي النيل

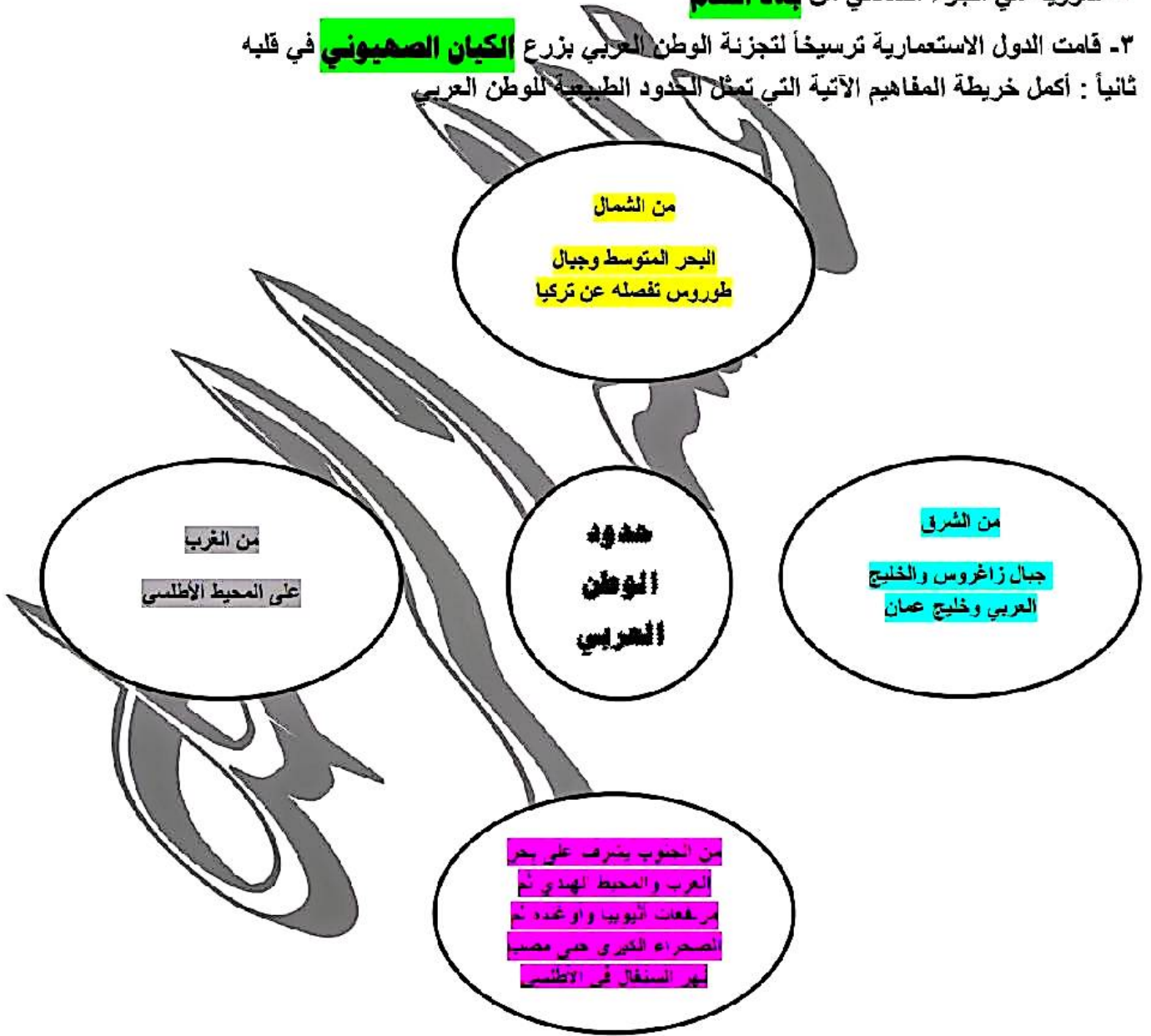
خامساً : وازن بين إقليمي شبه الجزيرة العربية وليبيا من حيث : الموقع - الأهمية الاقتصادية



أنشطة الوحدة الأولى وتدريباتها

أولاً : أكمل الفراغات الآتية بالمبارات الجغرافية المناسبة :

- 1- يتميز الوطن العربي بموقع فلكي **مميز**
 - 2- سورية هي الجزء الشمالي من **بلاد الشام**
 - 3- قامت الدول الاستعمارية ترسيخاً لتجزئة الوطن العربي بزرع **الكيان الصهيوني** في قلبه
- ثانياً : أكمل خريطة المفاهيم الآتية التي تمثل الحدود الطبيعية للوطن العربي



ثالثاً : وضح المقصود بمفهوم الإقليم

وابحاً : رتب أقاليم الوطن العربي حسب مساحة كل منهما (من الأصغر إلى الأكبر)
المساحة : بلاد الشام - بلاد الرافدين - القرن الأفريقي - ليبيا - شبه الجزيرة - حوض النيل - المغرب العربي

تكلم عن المنطقة الساحلية في الوطن العربي

١- على الرغم من طول السواحل العربية إلا أنها فقيرة بالموائل الطبيعية (صم خطأ)

٢- تقل الموانئ (الخلجان) كخليج سرت في ليبيا

٣- وتقل الجزر كجزيرة جربة أمام الساحل التونسي وجزيرة البحرين وأبو موسى في الخليج العربي
تنوع السهول بين ساحلية وفيضية :

السهول	تكلم عن السهول الساطية :	تكلم عن السهول الفيضية :
الصفات	<ul style="list-style-type: none"> تكونت بفعل الحث والترسيب الشاطئي ومن اللحقيات التي رسبتها الأنهار والسيول تظهر على شكل شريط يختلف اتساعه بحسب اقتراب الجبال والهضاب من الساحل تختلف بخصوصيتها باختلاف ظروفها المناخية التي أثرت بالاستقرار البشري 	<ul style="list-style-type: none"> تشكلت على جوانب الأنهار بسبب الترسيب النهري تمتاز بخصوصية تزييتها المتجددة
أمثلة	<ul style="list-style-type: none"> السهول الساحلي في موريتانية شبه صحراوي قليل السكان السهول الساحلية في بلاد الشام خصبة وكثيفة السكان 	<ul style="list-style-type: none"> كانت مراكز زراعية وحضارية منذ القدم كسهول دجلة والفرات والنيل

تنوع جبال الوطن العربي من حيث نشأتها لكنها تشترك في خصائص عامة تجعلها

صنف جبال الوطن العربي وفق أسباب تشكلها :

١. جبال التوائية : جبال الأطلس في المغرب العربي
٢. جبال انكسارية : المرتفعات الغربية والشرقية للبحر الأحمر
٣. جبال التوائية تعرضت للانكسارات : كسلاسل بلاد الشام

ما هي صفات الجبال في الوطن العربي

- ١- تظهر الجبال عند أطراف الوطن العربي
- ٢- تظهر على شكل سلاسل تسير سواحلها
- ٣- تتألف من سلسلتين متوازيتين ساحلية وداخلية
- ٤- تتميز السلاسل الساحلية : بانحدار لطيف نحو البحر ومناخ معتدل (وهذا ما أدى لاستقطاب السكان وأثرها في النشاط السياحي وتخصيصها ببعض الزراعات) (علل)
- ٥- تحصر كل سلسلتين هضاب أو سهولاً وأودية تجري في بعضها أنهر كنهر الأردن
- ٦- معظم صخورها كلسية
- ٨- تظهر في بعضها مظاهر بركانية مثل جبال سارة اليمن

تشكل الهضاب في الوطن العربي معظم مساحتها

تكلم عن الهضاب في الوطن العربي امتدادها أقسامها صفاتها

كان الوطن العربي هضبة واحدة تمتد من وادي الفرات في الشمال حتى بحر العرب جنوباً ومن المحيط الاطلسي غرباً حتى الخليج العربي شرقاً لكن تشكل البحر الأحمر قسمها إلى هضبتين هما : علل انقسام الهضبة العربية إلى

هضبتين

الهضبة العربية الإفريقية وهضبة شبه الجزيرة العربية المندمجة في بادية الشام وغرب العراق تأثرت الهضاب بالتعرية والحت والتغيرات المناخية فتتوعد مظاهر سطحها ومنها :

ما هي صفات الهضاب في الوطن العربي

- ١- فيها صحاري بأنواعها حجرية حصوية رملية كالصحراء الكبرى المنخفضات كالجوف
- ٢- واحات مثل واحة سيوة في مصر وواحة أوباري في ليبيا
- ٣- أودية جافة كوادي الرمة
- ٤- كتل جبلية كجبل شمر وطويق في السعودية


علل انقسام الهضبة العربية إلى هضبتين بسبب تشكل البحر الأحمر

الأنشطة والتدريبات

أولاً: ضع إشارة صح أمام العبارة الصحيحة وإشارة خطأ أمام العبارة الخاطئة

- ١- سواحل الوطن العربي غنية بالموانئ الطبيعية
- ٢- أدى تشكل البحر المتوسط إلى انقسام الوطن العربي تضاريسياً إلى هضبتين أساسيتين
- ٣- تعد المرتفعات الغربية والشرقية للبحر الأحمر جيالا التوائياً وفقاً لتشكلها
- ثانياً: سجل في دفترك ثلاثاً فكر تبين الصفات العامة للجبال في الوطن العربي
- ثالثاً: أكمل العبارات الجغرافية الآتية بالكلمات المناسبة
- ١- تمتاز السواحل العربية كما أن الجزر المقابلة لها العدد والأهمية
- ٢- تظهر الجبال في جهات عدة من الوطن العربي ولا سيما عند
- رابعاً: قارن بين السهول الساحلية والسهول الفيضية وفق العناصر الموجودة في الجدول الآتي

السهول	الموقع	آلية التشكل
السهول الساحلية	جوانب البحار	تشكلت بفعل الحث والترسيب الشاطئي
السهول الفيضية	جوانب الأنهار	تشكلت بفعل الحث والترسيب النهري



تكمم عن المنطقة الساحلية في سورية :

يشغل الساحل الجهة الغربية من سورية
يمتد من خليج اسكندرون شمالاً حتى مصب نهر الكبير الجنوبي جنوباً
يلي الساحل شريط من السهول الساحلية

في شمال اللاذقية : أدى اقتراب سلسلة الجبال الغربية من البحر إلى وجود سواحل صخرية مرتفعة كثيرة التعاريج
تكثر فيه الرؤوس والخلجان كخليج إسكندرون الذي يعد من أهم خلجانه

(علل أهمية خليج اسكندرون)

١- لاتساعه ٢- وحمليته من الرياح

وخليج السويدية بين رأس الخنزير و رأس البسيط

كما أدى اقتراب الجبال إلى ضييق السهول الساحلية كسهول اسكندرون

أما جنوب اللاذقية : فإن هذه السلسلة الجبلية تنبسط عن الساحل لتتسع السهول الساحلية كسهول جبلة
ويسود ساحل رملي قليل الارتفاع وقليل التعاريج وتظهر قبالتها جزيرة أرواد

تكمم عن المنطقة الجبلية الغربية :

عدد صفات سلسلة الجبال الساحلية الغربية وسلسلة الجبال الشرقية الداخلية

- ❖ تعرضت غربي سورية لحركات التوائية الكسارية
- ❖ أدت لتشكيل سلسلتين جبليتين متوازيتين
- ❖ صخورها كلسية
- ❖ تحصران بينهما مقعرات وحفر انهدامية
- ❖ تتجه السلسلتان من الشمال إلى الجنوب

تتألف سلسلة الجبال الساحلية الغربية من : الأمتوس وجبال الدير والبسيط والأقرع وجبال اللاذقية التي (تنتهي عند نهر الكبير الجنوبي)

وأهم جبال السلسلة الشرقية جبل حلب والزاوية وسلسلة لبنان الشرقية فيها جبل الحرمون (الشيخ) أعلى القمم في سورية ٢٨١٤م وجبال القلمون تتفرع عن سلسلة جبال لبنان الشرقية (تنتهي عند منخفض الحولة)
تتحدر سفوح السلسلتين بشدة نحو منطقة المقعرات والحفر الانهدامية الواقعة بينهما
وتضم سهول كسهل العمق في نواء اسكندرون وسهل الغاب بين جبال اللاذقية غرباً وجبل الزاوية شرقاً
كانت تغطيه المستنقعات قبل تنفيذ مشروع الغاب الذي حوله إلى أراضي زراعية
هوضة دمشق : منطقة منخفضة حولها مرتفعات

من الغرب الحرمون

ومن الشمال قاسيون والقلمون

ومن الشرق أطراف البادية

ومن الجنوب هضبة حوران البركانية

تتألف من قسمين: غربي خصب يسمى الغوطة وشرقي أقل خصوبة وارتفاع يسمى المرج

مطلة الغصاب والسهول الداخلية

هضبة حوران البركانية :

- ❖ تمتد بين حوضه دمشق والحرمون في الشمال ووادي الأردن في الغرب وتندمج بالحمام شرقاً
- ❖ يرتفع قسمها الشرقي مشكلاً جبل العرب فيه أعلى قمة تل اللجينة (قينة) البركاني
- ❖ وقسمها الاوسط سهول حوران وهو سهل متموج تغطي أجزاء منه صبات بركانية كاللجاة في الشمال
- ❖ وتنشط الزراعة في مناطق التربة البركانية الخصبة
- ❖ تحتل هضبة الجولان القسم الغربي تنتهي عند بحيرة طبرية وسهل الحولة
- ❖ تتناثر فوق هضبة الجولان المراكز البشرية

الهضبة الشمالية الغربية :

تمتد بين سلسلة الجبال الشرقية الداخلية غرباً ووادي الفرات شرقاً وأطراف السلاسل التدمرية جنوباً تشمل سهول حلب حمص التي تشتهر بزراعة القطن وقامت فيها حضارات كحضارة إبلا

سهول الجزيرة والفرات :

تمتد شمال شرق سورية بين نهري دجلة والفرات يقسمها جبل عبد العزيز وسنجان إلى قسمين : الجزيرة العليا في الشمال والجزيرة الدنيا في الجنوب (بادية الجزيرة)

البادية :

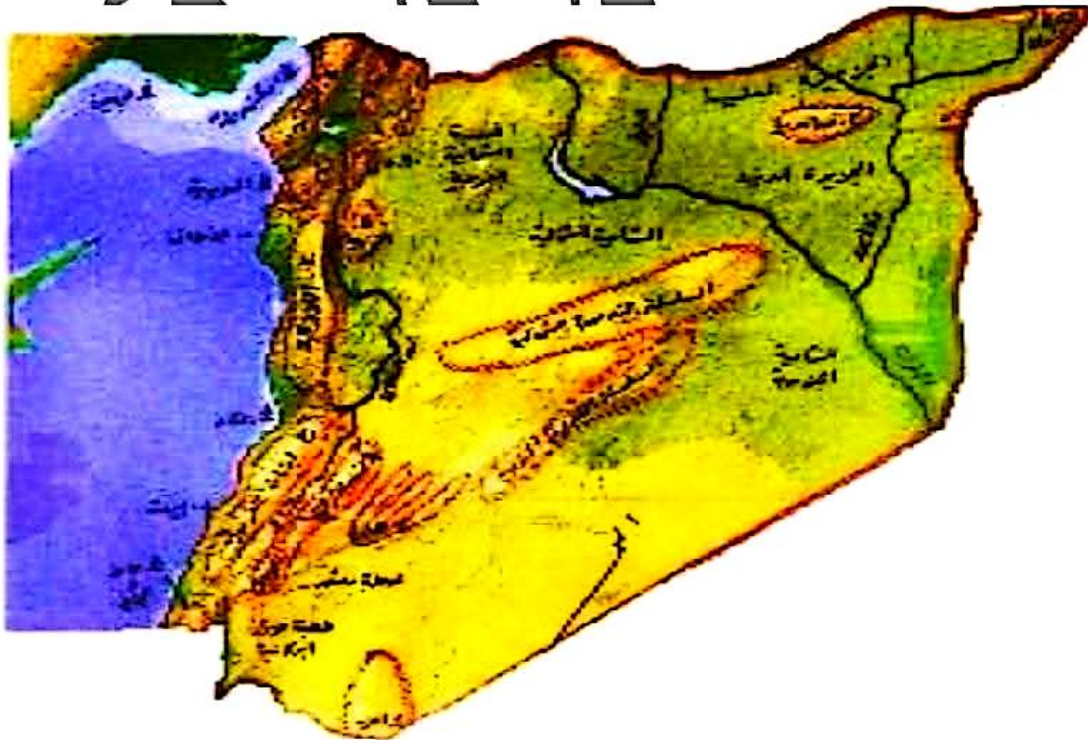
- ❖ أكثر المناطق اتساعاً
- ❖ تمتد من الجنوب الغربي نحو الشمال الشرقي
- ❖ مشكلة الحدود السورية مع الأردن والعراق
- ❖ يفصلها نهر الفرات عن الجزيرة السورية وتتداخل مع حوضه دمشق وهضبة حوران في الجنوب الغربي

تتألف من أربع أقسام :

- بادية الجزيرة شمالي نهر الفرات
- بادية الشام جنوب نهر الفرات
- الحماد في الجنوب
- الجبال التدمرية في الوسط
- تخدد سطحها الأودية التي تنتهي لنهر الفرات أو إلى أحواض مغلقة
- بعضها ذو أهمية كبيرة كحوضه تدمر:

علل أهمية حوضه تدمر

- أ. غنية بالموارد الطبيعية كالمراعي الطبيعية لرعي الماشية
- ب. والملح من سبخة الموح
- ج. والثروات الباطنية كمتاجم الفوسفات وحقول الغاز



أولاً: اختر الإجابة الصحيحة مما يأتي :

١- من أهم أقسام حوضه دمشق :

الغوطة - بادية الشام - الحماد - سهل حوران

٢- من أقسام البادية :

سهل العمق - الحماد - هضبة الجولان - الغوطة

٣- من جبال السلسلة الساحلية الغربية في سورية :

جبل الحرمون - جبل حلب - جبل الزاوية - جبال البair اليميط

٤- تقع سهول حمص وحماء في :

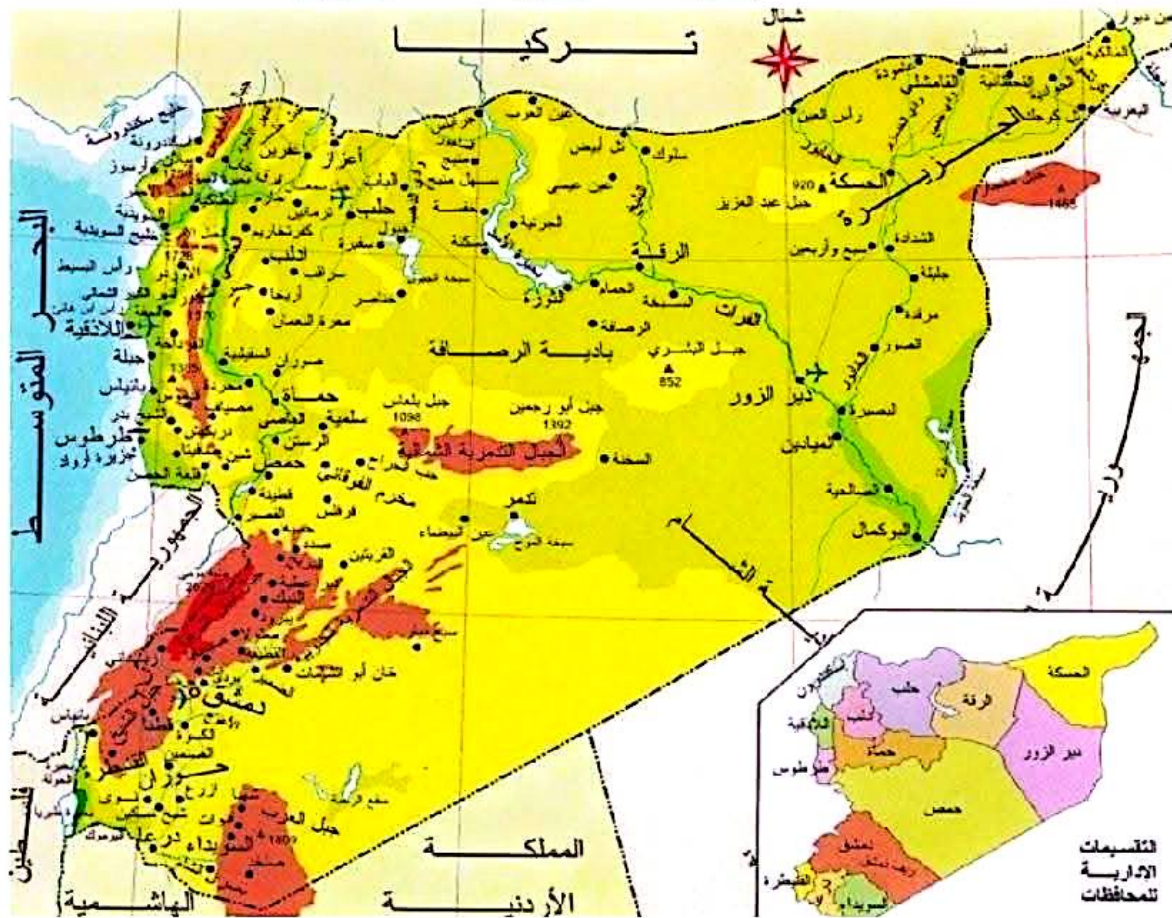
هضبة الجولان - حوضه دمشق - الهضبة الشمالية الغربية - الجزيرة العليا

ثانياً: سجل ثلاث فكر تبين صفات سلسلة الجبال الساحلية الغربية وسلسلة الجبال الشرقية الداخلية

مقارنة	المنطقة الساحلية شمال الاديقية	المنطقة الساحلية جنوب الاديقية
نوع الساحل	صخري مرتفع	رمللي - قليل الارتفاع
تعاريجه	كثير التعاريج	قليل التعاريج
اتساع السهول	ضيقة	متسعة

ثالثاً: قارن بين المنطقة الساحلية الموجودة إلى الشمال من مدينة الاديقية وتلك الموجودة جنوبها من حيث :

نوع الساحل - تعاريجه - اتساع السهول الساحلية



عدد أهم العوامل المؤثرة في مناخ الوطن العربي

- ١) الامتداد الكبير على درجات العرض
- ٢) كتلته وطبيعة مظاهر سطحه
- ٣) التضاريس من حيث ارتفاعها بزيادة الرطوبة وانخفاض درجات الحرارة

ما هي المناطق الحرارية التي يقع فيها الوطن العربي

يقع ضمن المنطقتين الحارة والمعتدلة الحارة (لذلك ارتفاع الحرارة صفة عامة)

علل بالرغم من كثرة المسطحات المائية التي يشرف عليها الوطن العربي إلا أن إسهامها في تعديل مناخه محدود نسبياً

- ١) بسبب ضيق الأشرطة المائية التي تخله
 - ٢) عدم تغلغل الرياح الممطرة نحو الداخل (علل ذلك)
 - ٣) لمساييرة بعض السواحل لهذه الرياح (كما في شمال أفريقيا)
 - ٤) أو نعامدها مع السلاسل الجبلية لتحصّر تأثيرها في السفوح المواجهة لها (كما في بلاد الشام)
- علل بعض المناطق الجبلية فيه أنشطة زراعية وسياحية (مقارنة بمحيطها الجاف الحار)
- بسبب زيادة الرطوبة وانخفاض درجات الحرارة

عدد الصفات العامة لمناخ الوطن العربي

- ١) الجفاف
- ٢) ارتفاع الحرارة
- ٣) ارتفاع المدى الحراري في معظم المناطق الداخلية
- ٤) عدم انتظام كمية الأمطار ومواعيد هطولها
- ٥) انقسام السنة إلى فصلين واضحين هما الصيف والشتاء

صيفاً:

علل ارتفاع الحرارة في معظم أرجاء الوطن العربي

صيفاً

بسبب تعامد أشعة الشمس على المناطق الواقعة بين خط الاستواء ومدار السرطان

علل تناقص درجات الحرارة باتجاه الجنوب صيفاً بدء

من مدار السرطان

بسبب الأمطار الصيفية (التي تسببها الرياح الموسمية المدارية الرطبة)

علل تناقص درجات الحرارة باتجاه الشمال صيفاً بدء

من مدار السرطان

- بسبب الابتعاد عن مدار السرطان
- وتعرض الأجزاء الشمالية لرياح غربية

شتاءً:

علل ارتفاع الحرارة على الأجزاء الجنوبية من الوطن

العربي

لتعامد أشعة الشمس على المناطق الواقعة بين خط الاستواء ومدار الجدي

تتناقص الحرارة باتجاه الشمال شتاءً

بسبب الرياح الغربية والشمالية الشرقية وخاصة المناطق الداخلية للبعد عن المؤثرات البحرية

تعتدل الحرارة في المناطق الشمالية من الوطن

العربي شتاءً

لقربها من البحر (المؤثرات البحرية)

الرياح والخريف :

عدد صفات الرياح المحلية (التي تهب في فصل الربيع والخريف)

حارة وجافة - تهب لمدة قصيرة - متقطعة - قادمة من الصحراء - محملة بالرمال

انسب الرياح المحلية في الوطن العربي إلى مناطقها

السموم (بلاد الشام) - الخماسين (مصر) - الشرقي (المغرب) - القبلي (ليبيا) - الهبوب (السودان)
يغلب على الوطن العربي الطابع الصحراوي وقلة الأمطار (صح - خطأ)

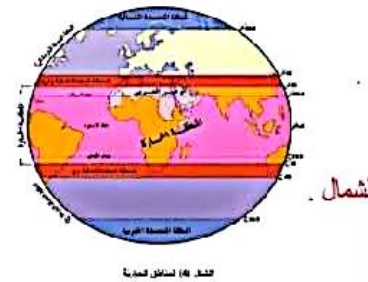
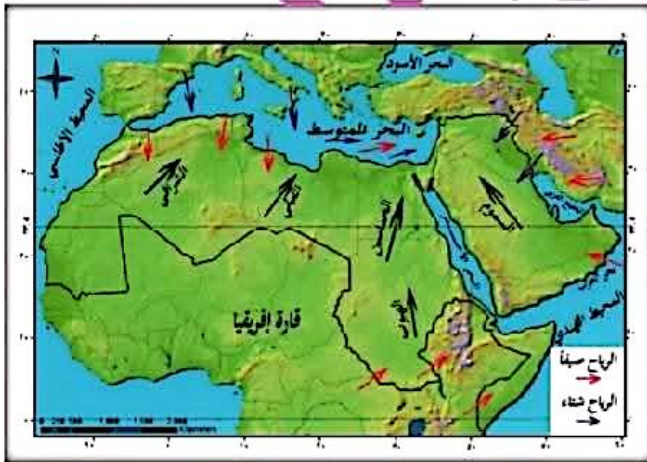
نظام الأمطار في الوطن العربي (أوقات سقوطها)

في نظام الأمطار المتوسطي تمطر الأمطار في الشتاء (فسر ذلك)

بسبب الرياح الغربية الرطبة

في نظام الأمطار المداري تمطر الأمطار في فصل الصيف (فسر ذلك)

بسبب الرياح الجنوبية الغربية (المدارية الموسمية)



الأنشطة والتدريبات

أولاً: اختر الإجابة الصحيحة مما يأتي :

١- يقيم الوطن العربي في المنطقتين الحراريين :

الحارة والمعتدلة الحارة - الحارة والمعتدلة الباردة - المعتدلة الحارة والمعتدلة الباردة - الباردة والمعتدلة المعتدلة

٢- تهب رياح السموم في الوطن العربي على :

المغرب - مصر - بلاد الشام - ليبيا

٣- تتناقص درجات الحرارة في فصل الشتاء في الوطن العربي باتجاه :

الغرب - الشمال الغربي - الجنوب الغربي - الشمال

ثانياً: أكمل خريطة المفاهيم الآتية :



ثالثاً: ما الصفات العامة لمناخ الوطن العربي

رابعاً أعط تفسيراً لكل ما يأتي

١- هطول الأمطار في فصل الصيف في الوطن العربي

٢- تناقص درجات الحرارة صيفاً في الوطن العربي بدء من مدار السرطان بالاتجاه جنوباً

الأقاليم المناخية والنباتية في الوطن العربي

الدروس الرابع

يقع الوطن العربي بين ثلاثة أقاليم مناخية ونباتية رئيسة (المتوسطي - الصحراوي - المداري)

الإقليم المتوسطي :

الامتداد :

- يمتد شمالي الوطن العربي بين درجتي عرض (٣٧,٣٠ - ٢٨ درجة) شمال خط الاستواء
- يشمل السهول الساحلية المتوسطية والأطلنطية

الحرارة :

يمتاز بصيف حار وجاف وشتاء معتدل ماطر

المطر : الأمطار شتوية تقل نحو الداخل

النبات :

يتنوع النبات لاختلاف كمية الأمطار

- ❖ الجهات المواجهة للرياح الممطرة غابة متوسطة من الصنوبر السنديان الأرز
- ❖ على السفوح الداخلية للجبال شجيرات دائمة الخضرة كالبطم
- ❖ في المناطق الداخلية أعشاب حولية كالأفاحي

الحيوانات : سنجاب أرنب غزال في جبال بلاد الشام

الإقليم الصحراوي :

الامتداد :

- ✓ منطقة انتقالية بين الإقليم المتوسطي والمداري بين درجتي عرض (٢٨ - ١٥ درجة) شمال خط الاستواء
- ✓ يشغل ٨٠% من مساحة الوطن العربي

الحرارة :

- ✓ أشد الأقاليم حرارة (لذلك يعد مصدراً للطاقة الشمسية المتجددة)
- ✓ أشد الأقاليم جفافاً
- ✓ يمتاز بارتفاع المدى الحراري (اليومي والفصلي)

المطر : الأمطار نادرة غير منظمة

النبات : الشوكيات والأعشاب الحولية وتنمو في الواحات أشجار النخيل وينشط الرعي

الإقليم المداري :

الامتداد : يقع بين درجتي عرض (١٥ - ٨) شمال خط الاستواء

الحرارة : حار دائماً

المطر : أمطار صيفية تزداد غزارة وطول نحو الجنوب (تصل لتسعة أشهر)

النبات :

- ❖ غابة مدارية كالماهورجاني (مستخدم بصناعة الأثاث) في الجنوب
- ❖ و أعشاب السافانا بالشمال تتخللها أشجار الهشاب وهو مصدر الصمغ العربي

الحيوان : أسود وفيلة و زراف

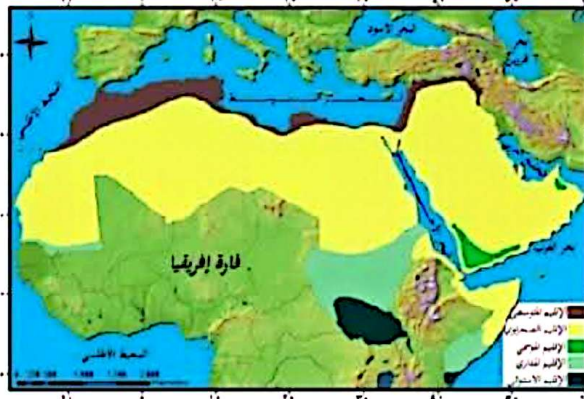
هناك أقاليم في مناطق أخرى أخرى : كالموسمي في اليمن وعمان والامتواني وشبه الامتواني جنوب السودان والصومال

الأنشطة والتدريبات

أولاً : اختر الإجابة الصحيحة مما يأتي :

- ١- تهطل الأمطار في الإقليم المداري في الوطن العربي في : فصل الصيف - الشتاء - الربيع - كل ما سبق صحيح
 - ٢- يعد الإقليم الصحراوي منطقة انتقالية بين الإقليمين : المتوسطي والاستوائي - الاستوائي والمداري - المتوسطي والمداري - المداري والصحراوي
 - ٣- يستخرج الصمغ العربي من أشجار : الهشاب - السرو - البطم - الأرز
- ثانياً : وازن بين الإقليمين المتوسطي والصحراوي وفق الجدول الآتي :

الإقليم المداري	الإقليم الصحراوي	الإقليم المتوسطي	
يقع بين درجتي عرض (٨ - ١٥) شمال خط الاستواء	منطقة انتقالية بين الإقليمين المتوسطي والمداري بين درجتي عرض (١٥ - ٢٨) شمال خط الاستواء يشغل ٨٠% من مساحة الوطن العربي	يمتد شمالي الوطن العربي بين درجتي عرض (٣٧,٣٠ - ٢٨) شمال خط الاستواء يشمل السهول الساحلية المتوسطية والأطلنطية	الصحراء
حار دائماً	- أشد الأقاليم حرارة (لذلك يعد مصدراً للطاقة الشمسية المتجددة) - أشد الأقاليم جفافاً - يمتاز بارتفاع المدى الحراري (اليومي والفضلي)	يمتاز بصيف حار وجاف وشتاء معتدل مطر	السهول
أمطار صيفية تزداد غزارة وطول نحو الجنوب (تصل لتسعة أشهر)	الأمطار نادرة غير منتظمة	الأمطار شتوية تقل نحو الداخل	السهول
غابة مدارية كالمهاوجاني (تستخدم بصناعة الأثاث) في الجنوب و أعشاب السافانا بالشمال تتخللها أشجار الهشاب وهو مصدر الصمغ العربي	الشوكيات والأعشاب الحولية وتنمو في الواحات أشجار النخيل وينشط الرعي	يتنوع النبات لاختلاف كمية الأمطار ١- الجهات المواجهة للرياح الممطرة غابة متوسطة من الصنوبر السنديان الأرز ٢- على السفوح الداخلية للجبال شجيرات دائمة الخضرة كالبطم ٣- في المناطق الداخلية أعشاب حولية كالقاضي	السهول
أسود وفيلة و زراف		سجانب أرنب غزال في جبال بلاد الشام	السهول



عدد الصفات العامة للمناخ في سورية

- ١) وجود فصلين واضحين هما صيف حار جاف وشتاء معتدل رطب
- ٢) الحرارة صيفاً تزداد من الساحل نحو الداخل ومن الشمال نحو الجنوب
- ٣) الحرارة شتاءً تنخفض من الساحل نحو الداخل ومن الجنوب إلى الشمال
- ٤) الرياح في الصيف غربية رطبة في الساحل وشرقية أحياناً في الداخل
- ٥) الرياح في الشتاء غربية تسبب هطول الأمطار
- ٦) وتهب أحياناً رياح شمالية وشمالية شرقية باردة وجافة تسبب الصقيع (علل)
- ٧) الرياح في فصلي الربيع والخريف رياح السموم المحلية وتكون حارة محملة بالأتربة والغبار وتلحق الضرر بالمزروعات
- ٨) الأمطار شتوية وفيرة (غزيرة) في الغرب والشمال وتتناقص باتجاه الشرق والجنوب (علل) (للبعد عن البحر ووجود الجبال)

اشرح العوامل المؤثرة في مناخ سورية

الموقع القلبي: موقع سورية بين درجتي عرض (٣٢،٣٠ - ٣٧،٣٠) شمالاً جعله بالمناخ المعتدل الدافئ لغربي القارات أو بالمناخ المتوسطي (علل ذلك)

الموقع الجغرافي:

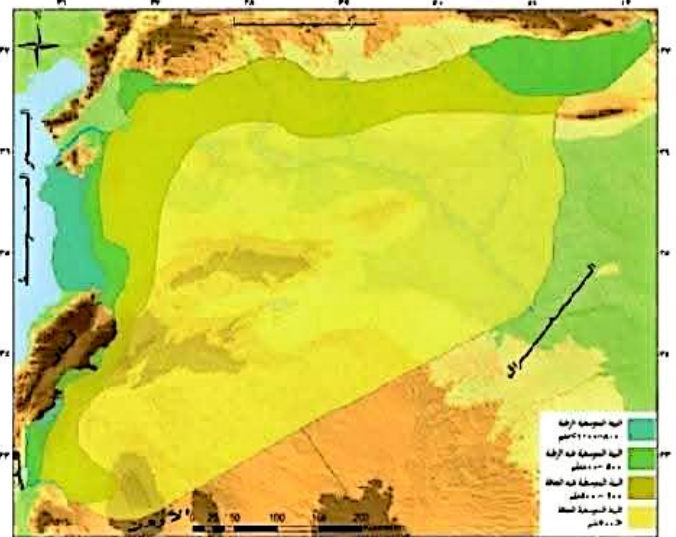
عدم وصول المؤثرات البحرية نحو الداخل (علل): بسبب اتجاذ سلسلة جبال الساحل الموازي للساحل وارتفاعها وانفتاح البادية السورية على المؤثرات القارية من جهة الشرق: أدى لتقسيم مناخ سورية إلى أربع مناخات (علل) هي:
 المناخ المتوسطي الرطب - المناخ المتوسطي شبه الرطب - المناخ المتوسطي شبه الجاف - المناخ المتوسطي الجاف
 وأدت لتقسيم سورية إلى مناطق الاستقرار الزراعي الآتية:

عدد مناطق الاستقرار الزراعي في سورية وشرحها:

المنطقة	كمية المطر	المحاصيل
منطقة الاستقرار الأولى:	منطقة معدل أمطارها أكثر من ٦٠٠ مم سنوياً وتكون الزراعات البعلية مضمونة فيها ومنطقة أمطارها بين ٣٥٠ - ٦٠٠ مم يمكن ضمان موسمين كل ثلاث سنوات	محاصيلها الرئيسية: القمح والبقوليات والمحاصيل الصيفية
منطقة الاستقرار الثانية:	أمطارها من ٢٥٠ - ٣٥٠ مم ولا يقل عن ٢٥٠ مم	يمكن ضمان موسمي شعير كل ثلاث سنوات
منطقة الاستقرار الثالثة:	أمطارها تزيد عن ٢٥٠ مم	يمكن ضمان موسم أو موسمين كل ثلاث سنوات محصولها الرئيسي الشعير وأحياناً البقوليات
منطقة الاستقرار الرابعة (الهامشية):	معدل أمطارها من ٢٠٠ - ٢٥٠ مم ولا يقل عن ٢٠٠ مم	تصلح للشعير فقط أو المراعي الدائمة
منطقة الاستقرار الخامسة (البادية):	أقل من ٢٠٠ مم	تشغل ٥٥% من أراضي سورية وهي لا تصلح للزراعة هي منطقة مراعي طبيعية

البيئات الطبيعية في سورية : تنوع حسب توزع أمطارها

البيئة الطبيعية	الامتداد	الحرارة	الأمطار	نباتات	الحيوانات
البيئة المتوسطية الرطبة :	تشمل الساحل والجبال الساحلية	- معتدلة الحرارة صيفاً	وفيرة الأمطار شتاءً (من ٨٠٠ - ١٢٠٠ مم)	تنتشر فيها الغابات أشجارها الشوح السرو الصنوبر الغار الآس	حيواناتها الضبع الذئب سنجاب أرنب طيورها الحجل الترغل اللقلق النسر السوري
البيئة المتوسطية شبه الرطبة :	تغطي الأجزاء الداخلية الغربية إلى الشرق من الجبال الساحلية وأعلى هضبة الجولان وأقصى الشمال الشرقي من سورية	صيفها حار	أمطارها من (٥٠٠ - ٨٠٠ مم)	أشجارها البلوط والسنديان والبطم والدفلة	فيها حيوانات البيئة الرطبة
البيئة المتوسطية شبه الجافة :	تشمل الأجزاء الشمالية من منطقة الجزيرة وهضبة حلب وسهول وادي العاصي وسهول حوران	والحرارة مرتفعة صيفاً منخفضة شتاءً يسود الصقيع	أمطارها من ٢٠٠ - ٥٠٠ مم	نباتاته المعمرة العدم والعصلان نباتاتها الحولية ذات الفوائد الطبية بابونج ميرمية إكليل الجبل الرعش البري	حيواناتها الثعلب وابن أوى والنمس
البيئة المتوسطية الجافة :	تشمل البادية السورية	والمدى الحراري كبير حار صيفاً بارد شتاءً	أمطارها أقل من ٢٠٠ مم أكبر البيئات جفافاً (عطل) لا يبعدها عن البحر - ووجود الحواجز الجبلية التي تعوق وصول المؤثرات البحرية إلى الداخل	نباتاتها الشبخ والشنان والرغل	حيواناتها سريعة العدو كالغزلان والأرانب والطيور كالقطا والحجل والحصاري والصفار



الخريطة (5) البيئات الطبيعية في سورية

الأنشطة والتدريبات

أولاً: اختر الإجابة الصحيحة مما يأتي :

١- تهب على سورية في فصل الشتاء رياح غربية تسبب :

الأمطار- الغبار- الصقيع - الأتربة

٢- يسود في سورية المناخ :

القاري - الاستوائي - الصحراوي - المتوسطي

ثانياً : ضم إشارة صم بجانب العبارة الصحيحة وإشارة خطأ بجانب العبارة الخاطئة فيما يأتي :

- تمتد سورية في نطاق المنطقتين الحارة والمعتدلة الباردة ()

- تتناقص الحرارة صيفاً من الساحل نحو الداخل ومن الشمال إلى الجنوب ()

ثالثاً: بم تفسر ضعف المؤثرات البحرية في المنطقة الداخلية والبادية

رابعاً: قارن بين البيئة المتوسطية الرطبة والبيئة المتوسطية الجافة وفق عناصر الجدول الآتي

البيئة الطبيعية المتوسطية الرطبة	الامتداد	كمية الأمطار	النبات الطبيعي
البيئة الطبيعية المتوسطية الجافة			

الموارد المائية في الوطن العربي

الدرس السادس

المياه أساس النشاط البشري : حيثما يتوافر الماء يتجمع السكان وتتنوع أشكال الاستثمار وتزدهر الحضارة قديماً تم ابتكار نظم القنوات والأفلاج (الفجارات) لاستثمار المياه الجوفية (صح - خطأ)

صنف المياه في الوطن العربي :

مياه جوفية أو سطحية

تكلم عن المياه الجوفية : تظهر هذه المياه إما طبيعياً أو بشرياً

طبيعياً :

والينابيع المعدنية	كالينابيع العذبة
في المناطق البركانية وهي ينابيع حارة <u>تفيد في العلاج</u> والسيحة (علل) مثل العليل في العراق وليف في تونس	في الوديان والواحات وأغزرها الينابيع الفوكلوزية في الصخور الكلسية مثل ينابيع الخابور والأردن في بلاد الشام وأم الربيع في المغرب العربي

بشرياً : عن طريق حفر الآبار أو الفجارات

عرف الفجارات : قنوات باطنية يحفرها الإنسان في المناطق السفحية ذات الصخور الكلسية لجلب المياه من مسافات بعيدة تسمى بالفجارات في سورية والأفلاج في شبه الجزيرة العربية

تكلم عن المياه السطحية : تشمل البحيران والأنهار والأودية السيلية

تكلم عن البحيرات في الوطن العربي : تصنف في مجموعتين طبيعية وبشرية

بشريات صناعية :	البحيرات الطبيعية :
شكلها الإنسان خلف السدود (كبحيرة ناصر خلف السد العالي)	تشكلت بفعل (مؤثرات باطنية كبحيرة طبرية) أو (بفعل ظاهرة الترسيب كبحيرة المنزلة في مصر)

تكلم عن الأنهار في الوطن العربي : (صنف الأنهار في الوطن العربي)

أنهار ناهية :	أنهار داخلية :	- أنهار ساحلية :	الأنهار
تبع من خارج الوطن العربي وتجري في أراضيه	تبع من المرتفعات الداخلية وتجري بين السلاسل الجبلية	تبع من الجبال الساحلية	المتبع
أكثر طولاً وغزارة من الأنهار الداخلية	وهي أكثر طولاً وغزارة من الأنهار الساحلية	تتصف أنها قصيرة شديدة الانحدار وغير منتظمة الجريان	صفات
وتصب في بحاره	وتصب في البحار والبحيرات أو في حفر مغلقة	وتصب في البحر أو المحيط	مصب
كالفرات ودجلة والنيل	كالليطاني في بلاد الشام والمجردة في المغرب العربي	كالعوجاء في بلاد الشام وأم الربيع في المغرب العربي	مثل

تلكم عن الأودية السيلية (عرف الأودية السيلية)

مجار مائية مؤقتة تجري فيها المياه في موسم الأمطار وتجف بعد توقف الهطول مثل وادي الصواب في بلاد الشام والرمة في شبه الجزيرة العربية ودرعة في المغرب العربي (هناك أشكال أخرى للمياه السطحية كالسيخات والخبرات)

الأمن المائي العربي (الواقع والتحديات)

ما أهم المشكلات التي تواجه الأمن المائي العربي

سوء ترشيد استخدام الموارد المائية المتاحة

ما هي الوسائل الكفيلة بتحقيق الأمن المائي العربي

- ١) تعزيز التعاون المائي بين الدول العربي
- ٢) إقامة المشاريع المائية المشتركة
- ٣) المحافظة على المياه وحمايتها من السلب
- ٤) التوصل لحلول مائية مع دول الجوار (مثل تركيا أنبوبية السنغال)
- ٥) إعداد الدراسات العلمية الدقيقة للوضع المائي العربي لتنمية الموارد المائية
- ٦) إعداد الدراسات الجيولوجية للأراضي العربية للكشف عن مصادر مائية جديدة
- ٧) اختيار وسائل التقنية الحديثة لترشيد استهلاك المياه
- ٨) حماية المياه من التلوث والهدر
- ٩) الوعي المائي العربي وتعميق ثقافة ترشيد المياه



الأنشطة والتدريبات

أولاً: اختر الإجابة الصحيحة مما يأتي :

- ١- تعد بحيرة طبرية من البحيرات :
الصناعية - الطبيعية - الطبيعية الصناعية - كل ما سبق صحيح
 - ٢- من مصادر المياه السطحية :
الآبار - الينابيع - الأنهار - الفجارات
 - ٣- من الوسائل الكفيلة بتحقيق الأمن المائي العربي :
التعاون العربي - الحفاظ على المياه وحمايتها - إقامة المشاريع المائية المشتركة - كل ما سبق صحيح
- ثانياً: أكمل الفراغات الآتية بالعبارات المناسبة :
- تصنف أنهار الوطن العربي إلىو.....و.....و.....
مجري مائية مؤقتة

تعد المياه أهم الموارد الطبيعية (فسر ذلك) :

لعلقتها المباشرة مع سائر الأنشطة البشرية

الأنهار دائمة الجريان شريان الحياة

عرف الأنهار دائمة الجريان : تلك التي يستمر جريان الماء فيها طوال العام

النهر	المنبع	المصب	الطول	الغزارة	الروافد	المجرى	الأهمية
الفرات :	ينبع من هضبة أرمينيا في تركيا	من منبعه حتى مصبه في شط العرب	طوله ٢٢٣٥ كم (في سورية ٦٧٥ كم)	متوسط غزارته ٨٣٥ م ^٣ في الثانية تغذيته تلجبة ومطرية	يمين : ساجور يسار : بليخ وخابور	يدخل الأراضي السورية عند جرابلس يخرج منها عند البوكمال إلى العراق	المصدر الرئيسي للمياه في سوريا أقيم عليه سد الفرات الذي يولد الطاقة الكهربائية إضافة للري
دجلة	ينبع من الأراضي التركية	شط العرب في العراق	طوله الإجمالي ١٧١٨ كم منها ٥٠ كم على الحدود السورية التركية والحدود السورية العراقية	٢١٤٠ م ^٣			
الخابور	ينبع من هضبة بعلبك في لبنان	ويصب في خليج السويدية في البحر المتوسط	طوله ٥٧١ كم (٢٢٥ كم في سورية والباقي في لبنان)	متوسط غزارته ٣١٧ م ^٣ في الثانية		يتجه نحو الشمال فيشكل بحيرة قطينة في حمص ثم يمر بالرسن	يروي سهول حمص وحماه وادلب
الن	ينبع من جبال اللاذقية	يصب في البحر المتوسط	طوله ٦ كم	غزارته ٣١٢ م ^٣ في الثانية			يروي سهل جبلة يؤمن مياه الشرب لمدينة اللاذقية
بردي	ينبع من سهل الزبداتي	ينتهي في منخفض العتيبة	طوله ٧١ كم	وسطى غزارته ٣٢٧ م ^٣ في الثانية		يتفرع إلى سبعة فروع تروي حوضه دمشق	يعاني من انخفاض غزارته مياهاه (علل) : بسبب حفر أعداد كبيرة من الآبار في حوضه والاعتماد الكبير عليه في مياه الشرب دمشق بضالة مصادر تغذيته بسبب موجات الجفاف
الأبوج	يتغذى من ينابيع جبل الشيخ	يعبر حوضه دمشق باتجاه منخفض الهججاة	طوله ٧٠ كم	متوسط غزارته ٢٠٥ م ^٣ في الثانية			لكن مياهاه لا تصل لهذا المنخفض (علل) بسبب زيادة استثمار مياه النهر في الزراعة وشق الأقبية المائية
اليرموك	يتغذى من الأودية التي تصرف مياه جبل العرب وهوران والجولان كوادي الزبيدي والذهب والرقاد	جنوب بحيرة ظهريا ٩ كم	طوله ٦٥ كم (يجري في سورية ٤٥ كم) يساير الحدود السورية الأردنية				يروي سهل حوران وقسم من سهل الأردن

الأودية السيلية معظمها في البادية السورية :

تجري المياه في أودية البادية السورية بعد هطول الأمطار وتعتاني البادية من شح الأمطار لذلك استخدم حصاد المياه عن طريق إقامة السدود والحفر التجميعية

حرف حصاد المياه :

حجز مياه الأمطار وتخزينها في أوقات سقوطها وإعادة استخدامها عند الحاجة

البحيرات في سورية : صنف البحيرات في سورية

طبيعية كبحيرة مسعدة البركانية وبحيرة قطينة

صناعية : كبحيرة الطبقة التي تقع على نهر الفرات

تتلم عن المياه الجوفية في سورية :

عرف : وهي التي تتجمع في باطن الأرض في خزانات للمياه الجوفية أو في الفراغات والشقوق بين الصخور .

تخرج هذه المياه إلى السطح إما باستثمارها بشريا بحفر الآبار العادية والارتوازية

وإما بخروجها إلى السطح طبيعيا على شكل ينابيع عادية أو معدنية وهي :

إما حارة كحمامات الشيخ عيسى في محافظة ادلب و أبو رياح في حمص

(أهميتها) تعد مزار للاستشفاء ومناطق لجذب السياح

وإما باردة تؤمن مياه الشرب كنبع عين الفيحة في ريف دمشق ونبع السن في اللاذقية

الأخطار التي تهدد الأمن المائي في سورية :

علل تزايد الأخطار التي تهدد الأمن المائي في سورية :

بسبب زيادة الطلب على الماء والمشكلات التي تحول دون الاستثمار للموارد المائية

صنف الأخطار التي تهدد الأمن المائي في سورية :

١- **محدودية الموارد المائية** : بسبب سيطرة البيئة الجافة وشبه الجافة على معظم الأراضي السورية

٢- **تزايد معدلات النمو السكاني** : أدى لزيادة الطلب على الماء والغذاء

٣- **التوزيع الجغرافي غير المتوازن ما بين مصادر المياه المتوفرة ومناطق الاستهلاك** :

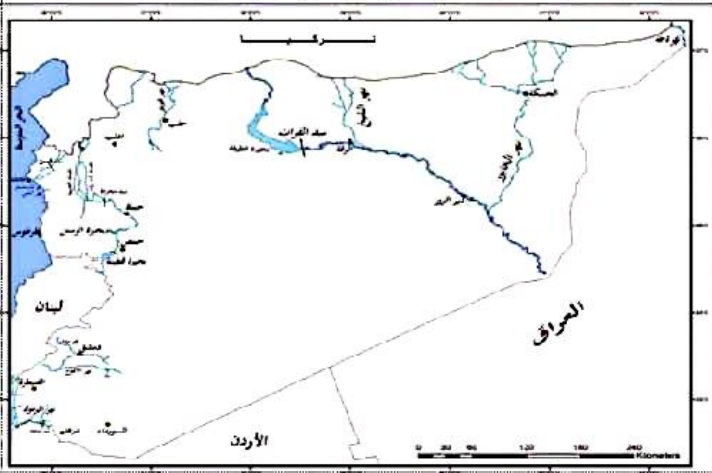
مما أدى إلى انعدام التوازن بين الكتلة البشرية والثروة المائية مما ينتج عنه استنزاف موارد المياه وتلوثها

(مثال ذلك تضاعف عدد سكان غوطة دمشق عدة مرات (ست مرات) مما أسهم في استنزاف مواردها المائية وتلوثها وزحف التصحر على الأراضي الخصبة)

٤- **عدم تطبيق تقنيات الري الحديثة** :

➤ نسبة المياه المستخدمة لأغراض زراعية تصل إلى ٨٩% من إجمالي استهلاك المياه في سورية

➤ تستخدم طرائق الري التقليدية بالغمر التي تهدر قسماً كبيراً من المياه لا يتناسب مع الإنتاج الزراعي



الأنشطة والتدريبات

أولاً: اختر الإجابة الصحيحة مما يأتي :

- ١- ينبع نهر السن من :
جبال تدمر - جبال لبنان الشرقية - جبال حلب - جبال اللاذقية
- ٢- تستخرج المياه الجوفية باستثمارها بشرياً عن طريق :
الينابيع - البحيرات - الآبار - الأنهار
- ٣- بحيرة مسعدة من البحيرات :
الاصطناعية - الطبيعية - الانهدامية - كل ما سبق صحيح

ثانياً: ما المقصود بـ :

المياه الجوفية - عملية حصاد المياه

ثالثاً: فسر كلاً مما يأتي :

- أهمية الأودية السيلية
- أهمية الينابيع المعدنية

رابعاً: وازن بين كل من نهرَي العاصي والسن من حيث: المنبع - الطول - المصب - الغزارة

خامساً: ارسم خريطة للجمهورية العربية السورية بحدودها البرية والبحرية ثم ثبث عليها مع التسمية كلاً

مما يأتي: مجرى نهرَي الفرات وبردى - موقع بحيرة الأسد

عرف التربة :

الطبقة السطحية الرقيقة من القشرة الأرضية وتتألف من فتات صخري ومواد عضوية وكميات حية وماء وهواء

حدد الأنسام الرئيسية للتربة :

١- **سطم خارجي** : تتوضع عليه أوراق النباتات وفضلات الحيوانات

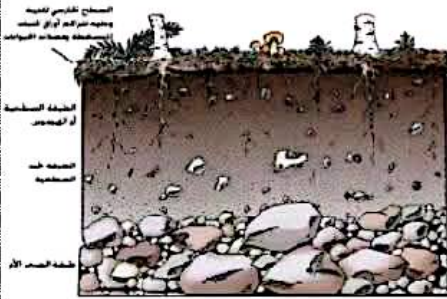
٢- **الطبقة السطحية** : تتكون من مواد عضوية ناتجة عن تحلل أوراق النبات

٣- **طبقة تحت سطحية** : يغلب على تركيبها الفتات الصخري

٤- **طبقة الصخر الأم** :

أنواع الترب وتوزعها في الوطن العربي :

يتأثر توزع الترب بامتداد الأقاليم المناخية وعمليات الحث والترسيب التي تقوم بها الأنهار



شكل (١٠) مظهر لثربة

التربة	التربة المتوسطة	التربة الصحراوية :	التربة المدارية	التربة الحقبية
الانتشار	<ul style="list-style-type: none"> تنتشر في المناطق المطلة على البحر المتوسط في السهول الساحلية المتوسطة والجبال المطلة عليها في بلاد الشام وبرقة في ليبيا والمغرب العربي 	<ul style="list-style-type: none"> تغطي ٨٥% من مساحة الوطن العربي تمتد من المحيط الأطلسي غرباً إلى الخليج العربي شرقاً يرتبط وجودها بمناخ حار جاف معظم العام 	<ul style="list-style-type: none"> تنتشر في وخط السودان وجنوبه وفي جنوب الصومال وفي اليمن وعمان وفي مناطق وجود السافانا 	<ul style="list-style-type: none"> في أرضية الأنهار والمنخفضات الداخلية والديلتات دلتا النيل في مصر دلتا شط العرب في العراق
التكوين	تعد من الترب الغنية بالمواد العضوية بسبب كثافة الغطاء النباتي	هي من أفقر الترب بالمواد العضوية (لفقرها بالغطاء النباتي)	تطورت تحت غطاء وافر من النباتات المدارية (علل) فصبوبة التربة (المدارية) مما جعلها من الترب الخصبة لغناها بالمواد العضوية	هي تربة غنية بالعناصر المعدنية وترتفع فيها نسبة الأملاح عند المصببات
الزراعة	<ul style="list-style-type: none"> تصلح لزراعة الخضار والأشجار المثمرة 	<ul style="list-style-type: none"> توجد ترب صالحة للزراعة في الواحات وعلى هوامش الصحراء تنتشر الكثبان الرملية والصحاري الحصوية والحجرية 	لا تصلح للزراعة	<ul style="list-style-type: none"> لها أهمية زراعية تصلح لكافة الزراعات بشرط ترشيد الري واستخدام الاسمدة
المشكلات والإجراءات	<ul style="list-style-type: none"> تعاني من مشكلة انجرافها في المناطق الجبلية بسبب تدهور الغطاء النباتي الغابي والأمطار القزيرة 	<ul style="list-style-type: none"> تعمل البلاد العربية على تثبيت الكثبان الرملية والحد من زحف الصحراء (ما هي طرق تثبيت الكثبان الرملية) بإسفلت بإسفلت بإسفلت 	<ul style="list-style-type: none"> وبالاتجاه جنوباً تقل الخصوبة (علل) بسبب غزارة الأمطار تتعرض التربة للصل وازالة عناصرها المغذية وتصبح أقل خصوبة 	<ul style="list-style-type: none"> ترتفع نسبة الأملاح قرب مصبات الأنهار (علل) بسبب التصريف السيئ

عرف التصحر :

تدهور الأراضي بسبب الجفاف وسوء استعمالها مما يؤدي لخروجها من دائرة الاستثمار

أسباب التصحر :

- ١) الرعي الجائر
- ٢) قطع الغابات
- ٣) التوسع العمراني
- ٤) التملح

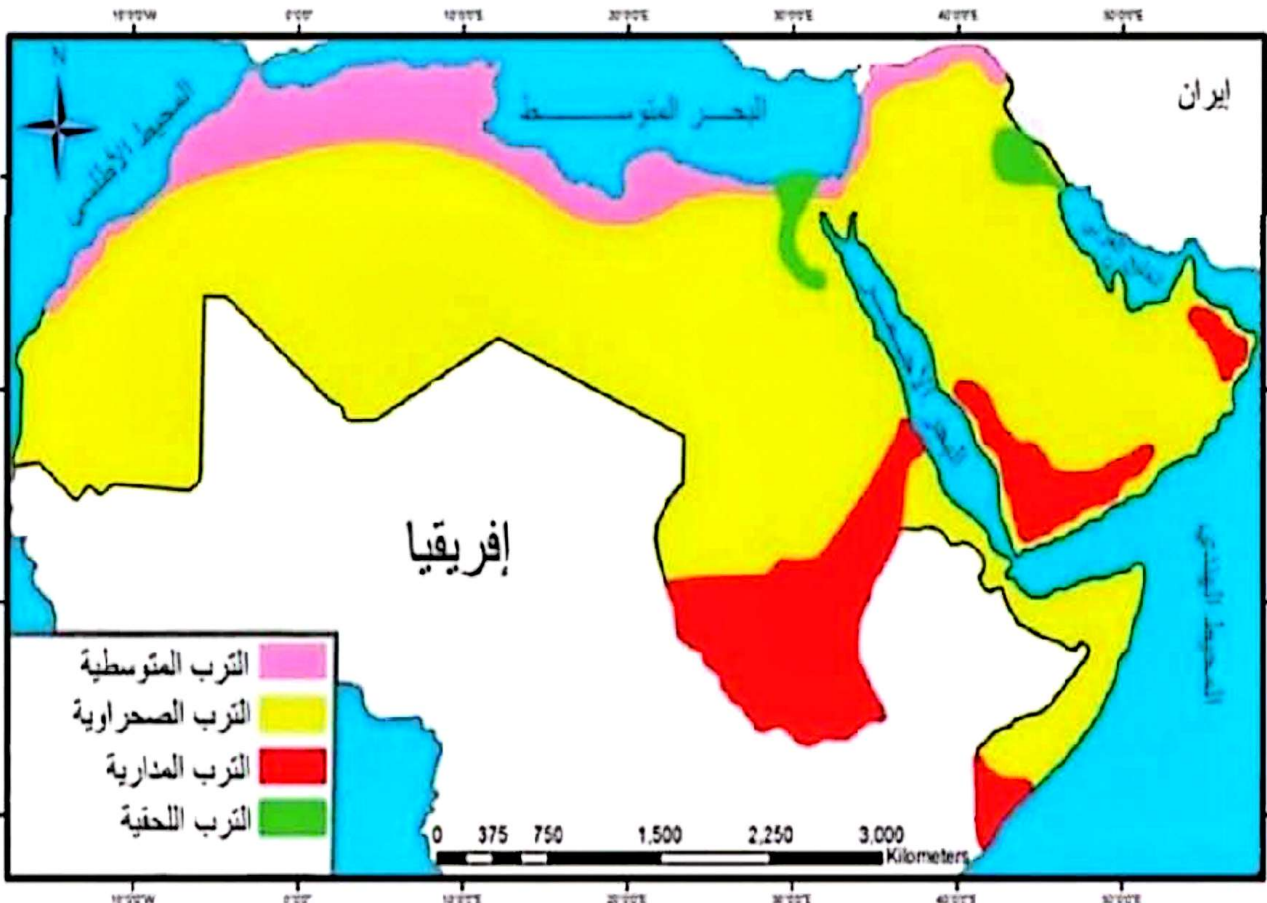
الأنشطة والتدريبات

أولاً: ما الأقسام الرئيسية للتربة

ثانياً: ما أنواع التربة في الوطن العربي

ثالثاً: عرف التصحر

رابعاً: اقرأ الشكل الآتي ثم حدد أسباب التصحر مع بيان نسبة كل منها



الدروس التاسع

الترب في سورية

التربة	الانتشار	كمية الأمطار	الزراعة	المشاكل
البحر المتوسط الحمراء	تنتشر في الشريط الساحلي والجبال الساحلية وغربي محافظة القنيطرة	تزيد الأمطار عن ٧٠٠ ملم	(١) صالحة لزراعة الأشجار المثمرة والخضار والتبغ والفح والشعير والفسق (فول سوداني)	(٢) تعاني من مشكلة الانجراف المائي على السفوح الجبلية لطقع الغابات والحرائق
البنية العمرة	تنتشر جنوب غرب سورية حيث الأراض البركاتية وفي حوض العاصي وشمال شرق سورية	الأمطار من ٧٠٠-٣٠٠ ملم	تصلح لزراعة القمح والشعير العدس والخضروات والتفاحيات في المرتفعات واللوزيات بالمناطق السهلية	مشكلاتها تشقق التربة في الجفاف
البنية المنصورة	تنتشر على شكل شريط من الجنوب إلى الشمال الشرقي محيطة بأطراف البادية	(٤) حيث الأمطار ٢٠٠-٣٠٠ ملم	(٢) صالحة للزراعة اليعلية كالشعير والخضروات إذا توفرت مياه الري واللوزيات والتين والكرمة والزيتون والفسق الحلبي	(٣) مشكلاتها الجفاف
الصحراوية الجبسية :	(١) تشكل الجزء الرئيسي من أراضي البادية السورية وفي القسط الأوسط والأدنى من أراضي الجزيرة السورية	(٢) أمطارها تقل عن ٢٠٠ ملم	(٣) تنمو النباتات الطبيعية المقاومة للجفاف	(٤) تعاني من ارتفاع نسبة الجبس (٥) أحياناً يكون (الجبس) على شكل طبقات قاسية صلبة قريبة من السطح لذا لا تصلح إلا لمراعي طبيعية
الصحراوية :	تنتشر في البادية السورية	التي يقل معدل أمطارها السنوي عن ١٥٠ ملم	وهي لا تصلح للزراعة (علل) لأنه يسودها فصل جفاف طويل جداً تنمو النباتات الشوكية وهي منطقة مراعي طبيعية	تعاني من مشكلات : تدهور غطائها النباتي الطبيعي والانجراف الريحي بسبب : (علل انجراف التربة الصحراوية) التعديبات على أراضيها بالزراعة الطبيعية غير التاجحة - الرعي الجائر - والاحتطاب الذي يؤدي للانجراف الريحي
الطينية	(١) تتشكل بفعل الترسيب النهري (٢) تنتشر في الأراضي المجاورة لنهري دجلة والفرات		(٣) تزرع بالقطن والشوندر السكري والقمح والخضروات والأشجار المثمرة	(٤) تعاني من مشكلة الملوحة بسبب: تبخر المياه وترسب الأملاح
الغدية :	<ul style="list-style-type: none"> > تتشكل في مراكز الأحواض في ظروف مائية غدفة > تنتشر في حوضه دمشق وسبخة الجبول وبالأراضي التي تتلمح بفعل الماء الأرضي الذي يرتفع إلى الأعلى بالخاصية الشعرية > فيتبخر ويرسب الأملاح بسبب سوء استعمالات الري > مثل حوض الفرات والغلب الذي خرجت منها مساحات كبيرة من الاستعمار الزراعي 		> تزرع الأراضي الخفيفة الملوحة بالنبدورة والشعير	حجج بسبب جبر الحديد وترسب الأملاح

أنشطة الوحدة الثانية وتدريباتها

أولاً : اختر الإجابة الصحيحة مما يأتي :

- ١- من أقسام حوضه دمشق :
بادية الشام - الحماة - سهل حوران - المرج
- ٢- من أقسام البادية :
سهل العمق - بادية الجزيرة - هضبة الجولان - الغوطة
- ٣- تقع جزيرة أبو موسى في :
البحر المتوسط - البحر الأحمر - المحيط الأطلسي - الخليج العربي
- ٤- تهب رياح القبلي في الوطن العربي على :
المغرب - مصر - بلاد الشام - ليبيا
- ٥- يمتد الإقليم المداري شمال خط الاستواء بين درجتى عرض :
(١٥ - ٨) - (١٢ - ٨) - (١٤ - ٥) - (٢٣ - ٨)
- ٦- من مصادر المياه السطحية :
الآبار - الينابيع - الأنهار - الأمطار
- ٧- يتألف معظم الوطن العربي من :
الجبال - الهضاب - السهول الساحلية - السهول الفيضية
- ٨- التربة التي تغطي المساحة الأكبر من الوطن العربي هي التربة :
المتوسطة - الصحراوية - المدارية - اللحية

ثانياً: ضع إشارة صح أمام العبارة الصحيحة وإشارة خطأ أمام العبارة الخاطئة فيما يأتي :

- يتصف مناخ سورية بوجود فصلين واضحين
- يقع جبل العرب في حوضه دمشق
- تغطي التربة الصحراوية نحو نصف مساحة سورية
- تغطي التربة الصحراوية ٢٠% تقريباً من مساحة الوطن العربي
- تنتشر التربة الحمراء في جنوب شرقي سورية

ثالثاً : ما المقصود بالمفاهيم الآتية :

التربة - الأودية السيلية - الأنهار العابرة - حصاد المياه - تلمح التربة

رابعاً : أعط تفسيراً علمياً لكل مما يأتي :

- ضيق السهول الساحلية شمال شرق اللاذقية
- تفاوت اتساع الشريط الساحلي في الوطن العربي
- محدودية الموارد المائية في سورية
- ضعف وصول المؤثرات البحرية نحو المنطقة الداخلية في سورية
- تمتع الوطن العربي بموارد هائلة من الطاقة الشمسية

خامساً : ما أقسام هضبة حوران البركانية

سادساً : قارن بين الأنهار الساحلية والأنهار الداخلية وفق العناصر الموجودة في الجدول الآتي :

الطول	المصب	المنبع	
		الجبال الساحلية	الأنهار الساحلية
			الأنهار الداخلية

سابعاً : ارسم خريطة للجمهورية العربية السورية ثم ثبث عليها الحدود البرية والبحرية وجبال المنطقة الجبلية الغربية

معرفة حجم السكان ومعدل نموهم أساس في عمليات التخطيط والتنمية (اشرح ذلك) :

يشكل سكان الوطن العربي ٥% من سكان العالم تضاعف عدد سكان الوطن العربي خلال الأربعين سنة الماضية مما جعله يمتلك قوة بشرية كبيرة فزيادة عدد السكان تؤدي إلى تدفق أعداد جديدة من اليد العاملة إلى سوق العمل مما يستدعي قيام المشاريع التنموية المتخصصة وهذا يؤدي إلى توسع وتطوير المرافق التعليمية والصحية والثقافية والإدارية وتوفير إمكانات لزيادة الإنتاج والخدمات وشبكة المواصلات

ينشأ عدد سكان الوطن العربي بسرعة :

علل (ما أسباب) الزيادة السكانية في الوطن العربي

الزيادة الطبيعية أي المواليد والوفيات (النمو الطبيعي)
الهجرة الوافدة (النمو غير طبيعي)

علل انخفاض معدل الوفيات : بسبب التطور الاقتصادي والثقافي والتعليمي والصحي

علل ارتفاع معدل الولادات :

بسبب حياة المجتمعات العربية وعاداتها وتقاليدها ونظمها القبلية والاجتماعية والزواج المبكر وزيادة الأولاد

المفاهيم السكانية للوطن العربي :

بالتكوين النومي	بالتكوين العمري	بالمالة التعليمية	بالتكوين الاقتصادي
أي تقسيم السكان حسب الجنس إلى ذكور وإناث ولا تختلف الدول العربية في نسب النوع باستثناء الدول النفطية التي تؤثر الهجرة الوافدة إليها في تركيبها السكاني وزيادة نسبة الذكور	تقسيم السكان بحسب الأعمار إلى فئات عمرية (الفتيان دون الـ ١٥ سنة) - (الراشدين من ١٥ - ٦٤ سنة) - (المسنين فوق ٦٥ سنة)	تقسيم السكان حسب الوضع التعليمي أي أسامي جامعي ... يعد التركيب التعليمي من المؤشرات الضرورية لقياس المستوى الاجتماعي والاقتصادي وما تقدمه الدولة لأبنائها من خدمات تعليمية وله أثر في التخطيط التعليمي ومحو الأمية	يهدف لمعرفة نسب توزع السكان على قوة العمل ويتم تصنيفهم إلى قوة عاملة الذين يعملون في الزراعة والصناعة والخدمات وقوة غير عاملة البطالة الذين لا عمل لهم ولكن يمكن أن يكونوا في حالة بحث عن العمل (البطالة الناشطة) أو يقومون بعمل موسمي (بطالة مؤقتة)

عرف معدل النمو الطبيعي : هو الفرق بين معدلي الولادات والوفيات

ما أهمية دراسة التركيب العمري :

يستخدم في تخطيط الخدمات التعليمية والاجتماعية والصحية

ما صفات التركيب العمري للوطن العربي :

يتسم بفتوة السكان لارتفاع معدل الإنجاب وانخفاض في الوفيات

تشكل نسبة (الفتيان ٤٠%) و (الراشدين ٥٤%) مما يرتب أعباء في توفير فرص عمل والتعليم والخدمات

ما المقصود بمفهوم قوة العمل : جميع السكان القادرين على العمل سواء يعملون أم لا يعملون

وأعمارهم من ١٥-٦٤

أشكال مختلفة لهجرة في الوطن العربي :

عرف الهجرة : انتقال السكان أفراد وجماعات من مكان لآخر طلباً لحياة أفضل

الهجرة الخارجية	الهجرة الداخلية
<p>: ينقسم إلى نوعين :</p> <p>أ- هجرة إلى الوطن العربي : كهجرة الآسيويون غير العرب والأوروبيون نحو البلاد العربية خاصة النفطية</p> <p>ما هي الآثار السلبية لهجرة العمالة الآسيوية إلى الدول النفطية لها أثر في النسيج الاجتماعي في الوطن العربي اختلاف العادات والتقاليد أخطر الهجرات إلى الوطن العربي هجرة اليهود الاستيطانية الاستعمارية نحو فلسطين وإقامة الكيان الصهيوني</p> <p>ب- الهجرة من الوطن العربي : هجرة العمالة العربية إلى الخارج كهجرة المغاربة إلى أوروبا أكثر الهجرات الخارجية خطورة على تطور الوطن العربي هجرة الكفاءات أو هجرة الأدمغة العربية إلى أوروبا وأمريكا لها آثار سلبية في التقدم الاقتصادي والاجتماعي على الدول العربية</p>	<p>تتم ضمن الدولة الواحدة</p> <p>أ : كالهجرة من الريف إلى المدينة علل تزايد الهجرة من الريف إلى المدينة نتيجة للتطور العمراني والاقتصادي السريع الذي حصل في المدن في شتى المجالات ولعجز الأرياف عن مواكبة نموها الطبيعي وتحسين أوضاعها</p> <p>ب- الهجرة من المدينة إلى المدينة : كالهجرة من المدن الصغرى إلى المدن الكبرى كالهجرة من المدن المصرية إلى القاهرة</p> <p>ما أسباب مشكلة تضخم المدن (العواصم) : نتيجة الهجرة إليها وعدم توافر برامج عمرانية واقتصادية كافية في أغلب العواصم</p> <p>ما نتائج مشكلة تضخم المدن : تفاقم أزمة السكن وارتفاع أثمان الأراضي والإيجارات وأزمات النقل وحوادث المرور والعجز في المرافق العامة</p> <p>ج- الهجرة بين دول الوطن العربي : كهجرة العمالة العربية من مصر سورية إلى الدول العربية النفطية</p>

تمتلك سورية طاقات بشرية كبيرة :

عرف تعداد السكان :

هو إحصاء شامل للسكان من حيث النوع والتعليم والإقامة والعمل في فترة معينة كل عشر سنوات أول إحصاء منظم في سورية عام ١٩٦٠ يهدف لمعرفة الحركة الطبيعية والاقتصادية للسكان قدر عدد سكان سورية عام ٢٠١٢ (٢٣ مليون نسمة) والنمو ٢٧ بالألف سنوياً

ما أسباب النمو السكاني : ارتفاع نسبة الولادات وتدني نسبة الوفيات

ما أسباب ارتفاع نسبة الولادات : الدين والعادات والتقاليد وانخفاض نسبة التعليم وارتفاع الخدمات الصحية

ما أسباب تدني نسبة الوفيات : تحسن المستوى المعاشي والصحي

ما نتائج ارتفاع النمو السكاني :

زيادة نسبة الأطفال والشباب وزيادة الإقبال لتوفير متطلبات الحياة للأعداد المتزايدة من السكان كالصحة والتعليم

اختلاف الظروف الطبيعية والبشرية أدى إلى اختلاف توزيع السكان بين منطقة وأخرى في

سورية

الكثافة العامة ١٢٥ نسمة / كم^٢ ويعد الماء والمطر سببين رئيسيين في توزيع السكان

علل ارتفاع الكثافة في السهول وأودية الأنهار والمنطقة الساحلية وغطوة دمشق

✦ لتركز النشاط البشري وجود التربة الخصبة والمياه الكافية

علل تنوسط الكثافة في المناطق الداخلية والشمالية الشرقية

لقلة الأمطار

علل تقل الكثافة في البادية لقسوة المناخ والجفاف

تستخدم التركيبات السكانية أساساً لتصنيف السكان بحسب خصائصهم في مجموعات رئيسية

التركيب السكاني : يقسم إلى التركيب العمري والنوعي

التركيب العمري : يقسم إلى صغار السن الأطفال والفتيان

التركيب النوعي : ذكور وإناث

ماذا يهدف دراسة التركيب العمري لسكان سورية : يهدف لمعرفة نسبة المنتجين ويقسم لثلاث فئات

فئة الأطفال والفتيان : أعمارهم دون ١٥ سنة وتبلغ نسبتهم نحو ٣٩,٥% من مجموع السكان فئة مستهلكة

فئة الشباب والناضجين : أعمارهم بين ١٥-٦٤ وتبنتهم ٥٧,٢% من مجموع السكان فئة منتجة

فئة المسنين : أعمارهم فوق ٦٥ سنة ونسبتهم ٣,٣% فئة مستهلكة

(يعبر عن توزيع الأعمار بيانياً بواسطة هرم الأعمار)

التركيب النوعي لسكان سورية : نسبة الذكور في سورية ٥١% نسبة الإناث ٤٩%

الهجرة إلى المدن تزيد لا بد أن يتوقف والأرياف تبحث عن العمل :

الهجرة نوعان : داخلية وخارجية

تكم من الهجرة الداخلية :

تتم داخل سورية وهي إما مؤقتة : تتمثل في هجرة الطلبة إلى الجامعات والهجرة الموسمية للعمل الزراعي أو هجرة دائمة : تتمثل في ترك سكان الريف قراهم والانتقال إلى المدينة للعمل وتحسين ظروف حياتهم وبقائهم فيها

ما نتائج الهجرة من الريف إلى المدن : تضخم مدن القطر وظهور السكن العشوائي

ماهي الحلول لتخفيف الهجرة من الريف إلى المدينة :

١. بناء مستشفيات عامة في القرى وتقديم الأدوية اللازمة
٢. تشجيع الزراعة وتقديم المعونات المالية وتأمين القروض للعمل الزراعي
٣. وتشجيع تربية الثروة الحيوانية وبناء المصانع والمعامل وتأمين شبكة اتصالات في الريف وتوفير الشبكة

عرف السكن العشوائي :

✓ تجمعات نشأت من دون تخطيط حول المدن الكبرى تتدنى فيه الخدمات الاجتماعية والصحية وترتفع الكثافة السكانية

ما أسباب السكن العشوائي :

✓ فقدان التوازن بين التخطيط والنمو السكاني وأسباب تقنية ناتجة عن ضعف الفاعلية بتنفيذ التخطيط العمراني

ما هي حلول ظاهرة تضخم المدن :

✓ إقامة بعض المنشآت الصناعية والحرفية وتأمين شبكة من الطرق المعبدة وتأمين الخدمات التعليمية والمدارس

ما هي حلول السكن العشوائي في سورية: بناء الأبراج وتوسيع رقعة الأراضي السكنية

الهجرة الخارجية فقدان الكفاءات لصالح بلدان أخرى :

اشرح انواع الهجرة الخارجية :

هجرة إلى خارج الوطن العربي:

آ- أبرزها الهجرة التي نتجت عن تردي الأوضاع السياسية والاقتصادية أواخر القرن التاسع عشر اتجهت للأمريكتين وأستراليا وإفريقيا

علل تضاؤل الهجرة إلى خارج الوطن العربي :

لتحسين الأوضاع الداخلية ووضع بعض بلاد المهجر القيود الشديدة على الهجرة إليها
ب- هجرة العقول : وهي هجرة أصحاب الكفاءات والمهارات الجامعية العلمية والتقنية

ما هي الآثار السلبية لهجرة أصحاب العقول : ضياع الجهود والطاقات الإنتاجية والعلمية وتبديد الموارد الإنسانية والمالية العربية وضعف الإنتاج العلمي والبحثي

هجرة إلى داخل الوطن العربي :

تتمثل بهجرة المهندسين والأطباء واساتذة الجامعات والمدرسين إلى دول الخليج لتحسين أوضاعهم المعيشية

يتركز السكان في المناطق التي تتوفر فيها الموارد الطبيعية :

مرف الكثافة السكانية : هي متوسط عدد السكان لكل كيلومتر مربع وتساوي عدد السكان على المساحة

كيف يتوزع سكان الوطن العربي :

ترتفع الكثافة السكانية حول الأودية النهرية وفي السهول الساحلية وحيث تتوفر الموارد الطبيعية كالنفط تتوسط في المرتفعات والمناطق الداخلية التي تسمح بقيام نشاط زراعي أو رعوي ويندر السكان في البيئة الصحراوية باستثناء الواحات حيث توجد المياه الجوفية

دراسة هالة : كيف يتوزع السكان في تونس :

عل ارتفاع الكثافة في السهول الساحلية التونسية الشرقية والشمالية

عل استقطاب السهول الساحلية التونسية الشرقية والشمالية أغلبية المدن والنشاطات التجارية والصناعية والسياحية

١. لأنها تمثل أفضل الأراضي الزراعية لخصوبة أراضيها وتوافر المياه فيها

٢. وتمثل الواجهة المطلية على العالم الخارجي

عل تنخفض الكثافة السكانية في تونس في المناطق الوعرة في الشمال الغربي والمناطق الأكثر جفافاً والصحراء

➢ لأنها مناطق غير جاذبة للسكان وطاردة لهم

تختلف أنماط معيشة السكان في الوطن العربي باختلاف البيئة :**صنف أنماط معيشة السكان في الوطن العربي :**

سكان البدو :	سكان الريف :	سكان المدن :
هم سكان البوادي والصحاري يتكلمون بحثاً عن الكلاً والماء ويسكنون الخيام ويعملون في الرعي وتربية الحيوان ونسبتهم ١% علل تناقص عدد البدو في الوطن العربي : ➢ لتشجيع الدول العربية لهم على الاستقرار والعمل في الزراعة إلى جنب الرعي وفي الأنشطة الاقتصادية الأخرى	هم سكان القرى والزارع ترتبط حياتهم بالزراعة وتربية الحيوان والصناعات القائمة عليهما يتكلمون ٤٥% من السكان يوتهم من الطين أو الحجر أو الإسمنت علل تناقص سكان الريف في الوطن العربي بالرغم من توفير الخدمات التعليمية والصحية ➢ بسبب الهجرة من الريف إلى المدن	يمثلون ٥٤% من سكان الوطن العربي تعتمد حياتهم على الصناعة والتجارة والخدمات

ماهي المشكلات التي تتعرض لها المدن العربية :

١- **تضخم المدن :** أي زيادة سكان الوطن العربي وترتب زيادة الطلب على الغذاء والكساء والصحة والتعليم والعمل

٢- السكن العشوائي وأحياء الصفيح وأحياء المقابر

٣- مشكلة التلوث البيئي (علل زيادة نسبة التلوث في المدن العربية)

☒ نتيجة الازدحام الشديد والاستثمار العشوائي للموارد

فترديدت نسبة الغازات والأبخرة والنفايات وتلوث الهواء والماء والغذاء فأضررت بالإنسان والحيوان والنبات

٤- مشكلة المواصلات والمرور : **ما أسباب مشكلة المواصلات والمرور**

توسع المدن وارتفاع مستوى الحياة فيها وتزايد وسائل النقل وخاصة السيارات

٥- مشكلة التلوث الضوضائي : الناتجة عن أصوات وسائل النقل

السياسات السكانية في الوطن العربي :

مرف السياسات السكانية :	ما هدف السياسة السكانية في الوطن العربي :
هي مجموعة الإجراءات التي تهدف إلى تحسين حياة الأفراد في المجتمع من جميع جوانبها في الحاضر والمستقبل	تحقيق التوازن بين حجم السكان وكثافتهم والموارد المتاحة لتوفير مستوى حياة أفضل فتم إنشاء مؤسسات تنظيم الأسرة ورعاية الأم والطفل والتهوض بالمرأة الريفية

علل اختلاف أنماط المعيشة في سورية

لتعدد المناطق التضريبية وتنوع المناخ

البدا:	الحضر:	سكان المدن:
سكان البادية وهوامش المعمورة) علل تناقص أعداد البدا في سورية (بسبب تشجيع الدولة على استقرارهم وتحولهم إلى العمل في الزراعة	ويقسمون لسكان أرياف وهم سكان القرى والمزارع ويعتمدون على الزراعة وتربية الحيوان تتناقص أعدادهم للهجرة إلى المدن يشكلون نصف سكان سورية وتطور الريف لتوفر الخدمات	يعملون في الصناعة والخدمات تشهد المدن تطور من حيث الاتساع والتنظيم والخدمات معظمها أحياء قديمة ذات شوارع ضيقة وأسواق مسقوفة وأحياء حديثة ذات شوارع عريضة وأبنية طابقية

أهم المدن السياسية والاقتصادية في سورية

دمشق: العاصمة السياسية والإدارية لسورية وأقدم عاصمة مأهولة تقع وسط الغوطة يضم قسمها القديم بقايا السور

والمسجد الأموي والقلعة والأسواق وقسمها الحديث يضم الفعاليات الثقافية والصناعية ويقام فيها سنوياً معرض
دمشق الدولي

حلب: حاضرة شمالي سورية عند ملتقى الطرق التجارية تتوسطها القلعة حيث الأحياء القديمة وتعد أكبر المراكز
الصناعية ومركزاً ثقافياً

حمص: تقع وسط القطر بين البادية والبحر المتوسط عقدة مواصلات ومركز صناعي وثقافي فيها جامع خال بن
الوليد وجامعة البعث وعدة صناعات

حماة: مدينة النواير تقع على نهر العاصي في منطقة زراعية فيها صناعة القضبان الحديدية وسوقاً بين البدا
والحضر

اللاذقية: مرفأ سورية الأول تقع شمال مصب نهر الكبير الشمالي في منطقة زراعية فيها نشاطات صناعية وتجارية
وجامعة تشرين



ما أهمية الزراعة في الوطن العربي ؟

الوطن العربي مهد الزراعة الأول ولا تزال الزراعة الحرفة الرئيسية لسكانه شهدت أودية الأنهار الكبرى النيل ودجلة والفرات المظاهر الأولى لتشوء الزراعة لا يزال اقتصاد أغلب الدول العربية يقوم على الزراعة من حيث إسهامها في الدخل الوطني وعدد العاملين فيها (تتالي اليد العاملة)

مقومات الزراعة في الوطن العربي :

مقومات طبيعية : المناخ - التربة - التضاريس

مقومات بشرية : الري - مكافحة الآفات - الأسمدة

على الرغم من قسوة المناخ الجاف في معظم أراضي الوطن العربي واقتصر المناطق الزراعية على ضفاف الأنهار عمل المزارع العربي على لتحسين ظروف زراعته فاستخدم الأسمدة ومكافح الآفات وحسن البذار ولجأ لاستجرار المياه الجوفية أو السطحية للري

مشاريع الري أساس التطوير الزراعي :

علل أهمية الري في الوطن العربي : بسبب غلبة الجفاف والحرارة وقلة الموارد المائية السطحية

تكلم عن السد العالي في مصر : أقيم على نهر النيل جنوب أسوان بحجز خلفه ١٣٠ مليار متر مكعب في بحيرة ناصر

أهدافه : عدد أهداف السد العالي

١. درء أخطار الفيضان
٢. زيادة مساحة الأرض المروية
٣. توليد طاقة كهربائية ١٠ مليار كيلو واط ساعي

سد الرمادي على نهر الفرات في العراق**سد بين الويدان على نهر أم الربيع في المغرب****عدد معوقات (مشكلات) الزراعة في الوطن العربي :**

١. نقص الماء اللازم للري بسبب تذبذب الأمطار والجفاف
٢. التصحر أي غزو الصحراء لمناطق زراعية واسعة بسبب الزحف العمراني أو تملح أجزاء منها مثل دلتا النيل
٣. تفتت ملكية الأراضي الزراعية

مرف الجفاف ومدد بعض الإجراءات للتخفيف من آثاره :

ظاهرة خطيرة قد يتحول مع تكراره لكارثة مناخية تؤثر في الإنسان ونشاطاته والبيئة المحيطة وللتخفيف من آثاره :
بناء السدود - تفعيل برامج الاستمطار - إعادة تدوير المياه - تطبيق تقنيات الري الحديث

الوطن العربي سلة غذاء متكاملة :**الحبوب :**

الغذاء الرئيس لمعظم سكان الوطن العربي كالحبوب والشعير تشغل نصف مساحة الأراضي المزروعة مصر في مقدمة الدول المنتجة (المرتبة الأولى) الإنتاج غير مستقر في البلدان التي تعتمد على الأمطار لا يكفي إنتاج الوطن العربي سكانه من الحبوب :

فسر عدم كفاية الوطن العربي سكانه من الحبوب

١. بسبب التزايد الكبير والسريع وعدد السكان
٢. تزايد هجرة السكان من الريف إلى المدينة
٣. تحول الأراضي التي تزرع بالحبوب إلى زراعة الأشجار المثمرة والخضروات



الأشجار المثمرة :

الموز :	النخيل :	الحمضيات :	الزيتون :
في الصومال و غور الأردن	في شط العرب في العراق وواحات شبه الجزيرة الهفوف في السعودية	تنتشر في السهول الساحلية المتوسطية والأطلسية و غور الأردن بسبب دفء المناخ	أهم المحاصيل الزيتية في الوطن العربية تنتشر زراعته في السهول الساحلية المتوسطية والسفوح المطلة عليها في بلاد الشام (سورية) والمغرب العربي (تونس والمغرب)

المحاصيل السكرية :	القطن :	الخضروات :
الشوندر السكري في المغرب وقصب السكر في مصر	أهم الغلات الصناعية يزرع مروجاً يصنف حسب طول أليافه ونعومتها والأجود طويل القيلة الناعم الوطن العربي المصدر الأول في العالم للأقطان طويلة القيلة	تنتشر حول المدن وفي السهول الساحلية وأودية الأنهار كثافة السكان تعتمد على الري يستفاد من الفائض في الصناعة الغذائية

الثروة الحيوانية في الوطن العربي :

تعد الثروة الحيوانية إنتاج متحدد من اللحوم والألبان تربية الحيوان في الوطن العربي لا تزال تقليدية متوارثة عدا تربية أبقار الألبان الحديثة

تعاني المراعي من التدهور بسبب : ما أسباب تدهور المراعي

الرعي الجائر - الحرائق الموسمية - القومع في الزراعة - حالات الجفاف واتساع التصحر

ما هي الجهود التي يبذلها الوطن العربي لتحديث إدارة المراعي :

- 1- زراعة بذور الأعلاف في المناطق الرعوية
- 2- سن قوانين تحرم زراعة المناطق الرعوية
- 3- التوسع في حفر الآبار وتوفير مياه الشرب بقطعان الماشية
- 4- تثبيت الكثبان الرملية
- 5- الحد من آثار حرائق الأعشاب

علل تنوع المراعي : بسبب اختلاف الظروف المناخية وتباين مواعيد وكميات سقوط الأمطار

الأغنام والماعز :	الأبقار :	الجواميس :	الإبل :
المرتبة الأولى في الوطن العربي تنتشر في بلاد المغرب والسودان والعراق وسورية لوفرة المراعي	المرتبة الثانية بعد الأغنام والماعز تتركز في القسم الأفريقي لاتساع المراعي تتركز في السودان : لسيادة حشائش السافانا وفي مصر : لزراعة اليرسيم وبلاد المغرب : لسيادة النباتات السهبية	على تتركز في مصر والعراق : في مصر والعراق تستخدم في الأعمال الزراعية	الصومال وشبه الجزيرة

الثروة البحرية :

مصائد الأسماك : على سواحل المغرب العربي وعمان واليمن	مصايد الإسفنج : على سواحل المتوسط	اللؤلؤ : على سواحل الخليج العربي
--	-----------------------------------	----------------------------------

التدريبات والأنشطة :

1. لا يزال اقتصاد أغلب الدول العربية يقوم على : الصناعة - الزراعة - السياحة - التجارة
2. أغنى الدول العربية من حيث عدد الأبقار هي : السودان - الصومال - اليمن - سورية
3. أهم الزراعات في الوطن العربي وأكثرها انتشاراً هي : الرز - التبغ - القمح - الحمضيات



الحياة الاجتماعية والاقتصادية في سورية تعتمد أولاً على الزراعة :**ما أهمية الزراعة في سورية :**

١. تسهم في تحقيق الاكتفاء الذاتي من معظم المنتجات الزراعية
٢. تحقيق الأمن الغذائي
٣. ترفد الصناعة بالمواد الخام
٤. دخول عدد من المنتجات الزراعية في قائمة الصادرات كالفنجان والقمح
٥. تنمي الأنشطة الأخرى غير الزراعية كالنقل والتسويق

ما المقصود بالاكتفاء الذاتي :

قدرة المجتمع على تحقيق الاعتماد الكامل على الموارد والإمكانات الذاتية في إنتاج كل احتياجاته الغذائية محلياً

ما المقصود بالأمن الغذائي : يعني بتوفير الغذاء بالكم والنوع والتكلفة لجميع فئات المجتمع باختلاف دخلهم

معوقات النشاط الزراعي :**عدد معوقات النشاط الزراعي وأشهرها :**

١. انخفاض نسبة العاملين في الزراعة لتوجه اليد العاملة إلى قطاع الخدمات والأنشطة الاقتصادية الأخرى
٢. محدودية الموارد المائية والزراعة السورية معظمها بعلية
٣. تملح التربة : تظهر نتيجة سوء التصريف مثل وادي الفرات وسهل الغاب
٤. تدهور التربة : لافتقارها إلى الأزوت والفوسفور وسببه التثقيب الزراعي
٥. الجفاف: يؤثر سلباً في الزراعة
٦. قصور السياسات الزراعية يؤدي لتسويق بعض المحاصيل الزراعية بأسعار لا تتناسب مع تكاليف إنتاجها

تسبب من العوامل الطبيعية والبشرية يؤثر في الزراعة السورية :**ما هي العوامل الطبيعية والبشرية التي تؤثر في الزراعة السورية :**

١. يؤثر المناخ المتوسطي بتحديد أنواع الإنتاج الزراعي
 ٢. نظام المطر السائد الشتوي ومعدله السنوي وتوزيعه الفصلي
 ٣. التضاريس وهي متنوعة في سورية من السهول الساحلية والداخلية والتي تقع على ضفاف الأنهار
 ٤. وجبال حولها إلى مدرجات كالجبال الساحلية الغربية التي تزرع بالكروم والزيتون والتفاح
- والعوامل البشرية** تتجلى بمشاريع الري كشق القنوات وحفر الآبار أو إقامة السدود

عدد المناطق الزراعية في سورية بالاستناد إلى الظروف الطبيعية :

١. حزام ساحلي على طول الساحل السوري على المتوسط
٢. منطقة جبلية محاذية له
٣. حزام واسع للزراعة البعلية يلتف حول البادية السورية

أهم مشاريع الري في سورية :

نكلم من مشروع سد الفرات : أقيم عند موقع الطبقة غربي الرقة مشكلاً خلفه بحيرة الأسد التي تخزن ٤ مليارم^٣

ما أهداف (فوائد) مشروع سد الفرات :

١. زيادة الرقعة المروية
٢. توليد الطاقة الكهربائية
٣. تنظيم جريان النهر
٤. إقامة قرى ومدن جديدة كالثورة
٥. قيام مزارع نموذجية في الأحواض المروية حوض البليخ
٦. تأمين مياه الشرب لمناطق واسعة من محافظة حلب

مشاريع نهر العاصي :

تكلم من مشاريع الغاب العشائرية :

تم تجفيف مساحات واسعة من مستنقعات الغاب واستصلاحها وتحويلها إلى أرض زراعية مروية عن طريق بناء سدود تخزينية كسد الرستن ومحددة ومشروع ري حمص وحماة بالاعتماد على مياه سد بحيرة قطينة

تكلم من مشروع السن (الأهداف) :

يقوم مع مشروع ١٦ تشرين بتأمين مياه الري والشرب لمحافظة اللاذقية السدود المقامة على روافد نهر اليرموك : تستفيد منها المنطقة الجنوبية

ما أهداف المشاريع في البادية المقامة في الأودية :

- ١- حجز مياه السيول
- ٢- والاستفادة منها في سقاية المواشي
- ٣- وتغذية المياه الجوفية

سد الوحدة : في محافظة درعا يقع على وادي اليرموك

طرق الري الحديث وسيلة للحفاظ على الأمن المائي :

قديمًا كان الري بالغمر أما حديثاً استخدام طرائق حديثة بالري

ما أهداف طرق الري الحديث كالري بالتنقيط والرش

- ١- تكفل إرواء المزروعات والحفاظ على المياه من الهدر
- ٢- وحماية التربة من التملح

الأنشطة والتدريبات :

ضع إشارة صح أمام العبارة الصحيحة وصح العبارة الخاطئة فيما يأتي :

- ١- أكبر مشاريع الري في سورية هو سد العشائرية (خطأ)
- ٢- تؤثر التربة في أنواع الإنتاج الزراعي (صح)
- ٣- يعمل نحو ٥٠% من الأيدي العاملة السورية في الزراعة (خطأ)

قارن بين السد العالي وسد الفرات

سد	العالي	الفرات
الموقع	في مصر على نهر النيل جنوب اسوان	أقيم على نهر الفرات عند موقع الطبقة غربي الرقة
التخزين	١٣٠ مليار م ^٣ في بحيرة ناصر	١٤ مليار م ^٣ في بحيرة الطبقة
الأهداف	١. درء أخطار الفيضان ٢. زيادة مساحة الأرض المروية ٣. توليد طاقة كهربائية ١٠ مليار كيلو واط ساعي	١. زيادة الرقعة المروية ٢. توليد الطاقة الكهربائية ٣. تنظيم جريان النهر ٤. إقامة قرى ومدن جديدة كالثورة ٥. قيام مزارع نموذجية في الأحواض المروية حوض البليخ
		تأمين مياه الشرب لمناطق واسعة من محافظة حلب

سورية أجمل بساتين المتوسط وأكثرها تنوع

الحاصلات الحقلية : منها الحبوب وفي مقدمتها القمح

<p>تلكم من زراعة الشعير :</p>	<p>تلكم من زراعة القمح في سورية :</p>
<p>١. يزرع في مناطق زراعة القمح الأقل مطراً وخصوية ٢. يخصص جزء من إنتاجه لتغذية المواشي ويصدر</p>	<p>١. يشغل أكبر مساحة من الأراضي الزراعية ٢. يزرع بعلاً في المناطق التي تزيد معدلات هطولها المطري على ٣٠٠ مم ٣. الإنتاج متذبذب لتأثره بكميات الأمطار الهائلة ٤. نوعه قاسي مرغوب في الأسواق العالمية يستخدم لصناعة المعجنات ٥. يأتي من الحسكة تليها حلب</p>

علل أهمية البقوليات :

☒ لها أهمية في الدورة الزراعية تسهم بخصوبة التربة تعطي الأزوت للتربة وهي غذاء للإنسان والحيوان

العدس : يشغل ٤٧% من مساحة الأراضي المزروعة بالبقوليات

الحمص : المرتبة الثانية ٣٣% من مساحة البقوليات وهو وحصول شتوي

الحاصلات الصناعية :

<p>الشوندر السكري :</p>	<p>القطن :</p>
<p>يمثل القطن في مناطق زراعته علل أهمية زراعة الشوندر السكري : ١. دوره في الأمن الغذائي ٢. الإسهام في تحقيق الاكتفاء الذاتي من مادة السكر ٣. أهمية الصناعية وبقايا العصير تستخدم علف للحيوان</p>	<p>ما أهمية زراعة القطن في سورية ١. يصنع جزء منه والباقي يصدر ٢. يسهم في رفع قيمة الصادرات ٣. يزود خزينة الدولة بالعملة الأجنبية ٤. عصب الصناعات الحديثة ٥. تصنيع الزيوت من بذوره وبعض الأعلاف محصول مروى يزرع على ضفاف الأنهار الحسكة دير الزور وحلب</p>

الخضار: محصول مروى

علل يزرع قرب المدن

١. تلبية لحاجتها الغذائية المتزايدة
 ٢. لأن معظم الخضار سريعة التلف لذا يحتاج لأسواق استهلاك مباشرة
- الفاض ينقل لمصانع الكونسروة لتعليبه
وتنتج مناطق الساحل أنواع من الخضار خارج أوقات مواسمها ضمن البيوت البلاستيكية كالخيار والبندورة

الأشجار المثمرة :

الزيتون :	التفاح :	الكرمة :	والشمش والجوز :	الحمضيات :
<p>ما أهمية زراعة الزيتون في سورية</p> <ol style="list-style-type: none"> له أهمية غذائية وصناعية وتصديرية يشغل ٦٣% من مساحة الأشجار المثمرة يعد محصول الزيتون ثالث أكبر المحاصيل بعد القطن والقمح في سورية 	<p>يزرع في السفوح الجبلية كالزبداني وجبل العرب والجبال الساحلية</p>	<p>في السفوح الأقل ارتفاع وبعض المناطق الداخلية</p>	<p>في سهل الغاب وغطوة دمشق</p>	<p>في المنطقة الساحلية ووادي اليرموك</p>

الثروة الحيوانية إنتاج وطني : الثروة الحيوانية المنتجة للحوم والحليب :

ما أهمية الأغنام والأبقار والماعز :

- تنتج الحليب واللحوم الحمراء والجلود والصوف
- وهي عامل استقرار اقتصادي واجتماعي للمجتمع الريفي

ما أنماط تربية الحيوان في سورية

- تربية الحيوانات في الريف إلى جانب الزراعة
- ينتشر نمط الرعي المتنقل في البوادي ويتأثر الإنتاج بتذبذب عدد الحيوانات بسبب موجات الجفاف
- انتشرت طرق التربية الحديثة ضمن مزارع متخصصة باستخدام تقنيات تحسين الأنواع والأعلاف وتوفير الخدمات البيطرية

الأغنام :	الماعز :	الأبقار :
<p>وهي من سلالة العواس المشهورة بلحومها وصوفها وحليبها وتتأثر قطعان الأغنام بتذبذب كميات الأمطار لآثرها بالمراعي</p>	<p>علل انخفاض أعدادها بشكل كبير</p> <p>بسبب السياسة المتبعة لحماية المناطق الجبلية الحراجية وانخفاض الطلب على لحومها</p>	<p>علل ازدياد الاهتمام بتربية الأبقار في سورية</p> <p>لأنها تشغل مصدراً كبيراً لإنتاج الحليب تم إدخال أصناف جيدة وتأمين أعلاف مركزة ساعد على سد الحاجة الاستهلاكية</p>

الثروة الحيوانية الزراعية :

تربية **الدواجن** تؤمن حاجة سورية من البيض واللحوم البيضاء ويربى بالطرق التقنية الحديثة و بطرق تقليدية بالأرياف

الاسماك: تسهم في نسبة ضئيلة من الإنتاج الحيواني حصة الفرد في سورية ١,٥ كغ سنويا مما دفع لزيادة الاهتمام بتطوير الاستزراع السمكي في السدود وإنشاء هيئة عامة للثروة السمكية في سورية مقرها اللاذقية مهمتها متابعة تطوير هذا القطاع

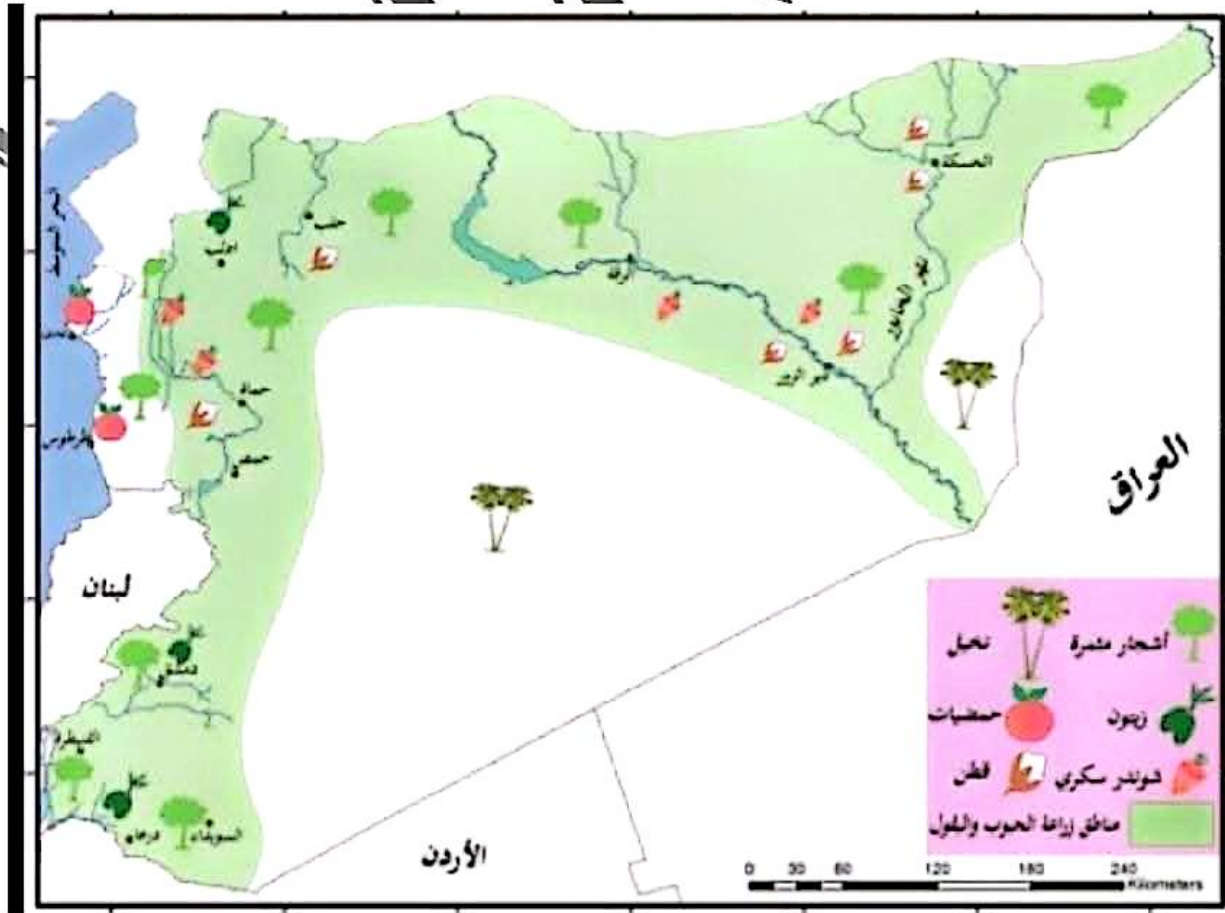
الأنشطة والتدريبات :

ضع إشارة صح أمام العبارة الصحيحة وصح العبارة الخطأ فيما يأتي :

يزرع القمح في المنطقة الساحلية فقط (خطأ)

نحصل من بذور القطن على زيوت نباتية غذائية (صح)

تجود أراضي الجزيرة السورية بزراعة القفاح (خطأ)



مصادر الطاقة مصدر قوتنا :

للثروات الباطنية أهمية استراتيجية تمس الأمن القومي والاستقلال والرفاهية احتياطي الوطن العربي نصف الاحتياطي العالمي من النفط وربعه من الغاز (اختر)

ما أهمية النفط والغاز

عادت صادرات الخامات بإيرادات كبيرة على الناتج المحلي الإجمالي فطالت فوائدها الحياة الاقتصادية والاجتماعية والسياسية وبرز أثرها في قطاع الخدمات فانعكس رفاهية واستقرار داخلي وقوة ومنعة خارجية

البتترول والغاز الطبيعي :**كيف تشكلت المصائد البترولية :**

نتيجة العلاقة بين اليابس والماء وبقايا الكائنات الحية النباتية والحيوانية وعمليات الإرساب وما نتج من ضغط وحرارة خلال الأزمنة الجيولوجية

ما المقصود بالتعدين : استخراج الثروات الباطنية من باطن الأرض

ما المقصود بالاحتياطي العالمي : هو المخزون في باطن الأرض ولم يستثمر بعد

ما المقصود بمنظمة أوبك : منظمة عالمية ترعى مصالح الدول المنتجة والمصدرة للنفط

ما المقصود بمنظمة أوابك : منظمة عربية تضم الدول العربية المنتجة للنفط

عدد حقول إنتاج النفط في الوطن العربي :

الغوار في السعودية - كركوك في العراق - العد الشرقي على الساحل الشرقي لقطر وهو حقل بحري - زلطن (ناصر) في ليبيا

السعودية تحتل المرتبة الأولى بين الدول العربية المنتجة للنفط والمرتبة الثالثة عالمياً وتسهم مع العراق والإمارات والكويت بثلاثي الإنتاج العربي (البالغ ٣٠% من الإنتاج العالمي)

ما ميزات النفط العربي :

١- يتميز بجودة أنواعه لانخفاض نسبة الكبريت فيه وتنوع مشتقاته

٢- **علل قلة تكاليف استخراج النفط في المشرق العربي**

☒ لأنه يتميز بجودته على أعماق قليلة وغزارة آباره

٣- **علل لفض المغرب العربي بالرغم من وجوده على أعماق أكبر إلا أن تكاليفه أقل**

☒ قربه من الأسواق الأوروبية والأمريكية

٤- قربه من موانئ التصدير ومصافي التكرير

٥- توفر الأيدي العاملة الرخيصة

٦- تكلفة إنتاج برميل من النفط العربي أقل عشر مرات من تكلفة إنتاج برميل واحد من النفط الأمريكي

تكلم عن الغاز الطبيعي :**عدد أنواع الغاز الطبيعي**

١- تنتشر بشكل مرافق للنفط

في الآبار نفسها يسمى الغاز الرطب

٢- أو بشكل منفرد

في حقول خاصة به يسمى الغاز الجاف

أهم حقول الغاز :

أهمها حقل حاسي الرمل في الجزائر التي تنتج مع الإمارات والسعودية ثلاث أرباع الإنتاج العربي ٥٠% من الإنتاج العالمي

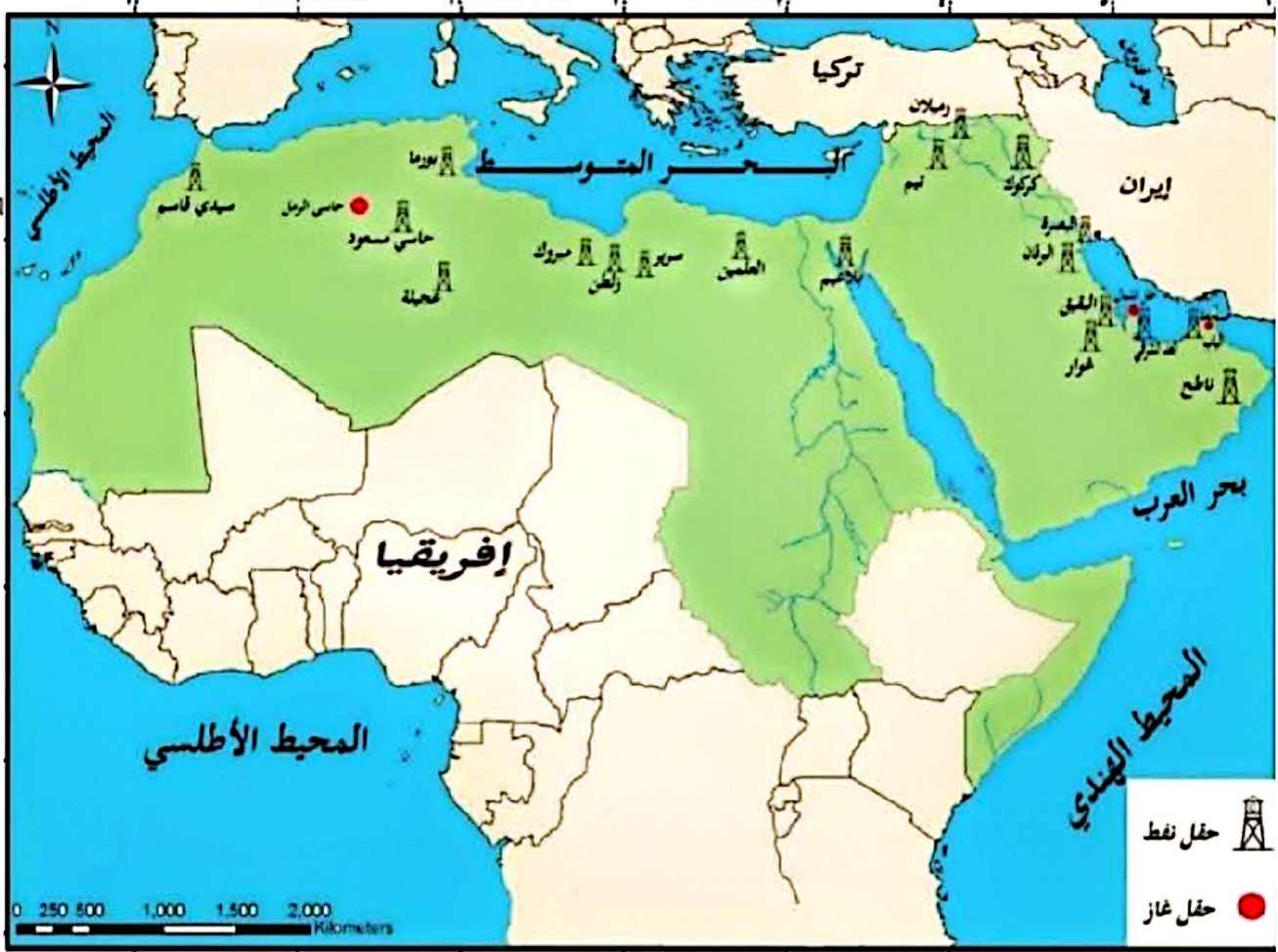
ما التغيرات التي طرأت لصالح الغاز الطبيعي : فسر تزايد أهمية الغاز بوصفه مصدراً للطاقة

التغير الأول : بروز أهمية الغاز بوصفه وقوداً أقل تلويثاً للبيئة من النفط وقيمته الحرارية العالية
التغير الثاني: أمكن استخدامه مادة خام في الصناعات البتروكيمياوية ومصدر للطاقة والوقود
التغير الثالث : نجاح نقله بعد تسييله بالناقلات المبردة لتصديره للخارج ويستخدم لتحلية مياه البحر في الخليج العربي

تكلم عن الفحم الحجري : عثر على كميات صغيرة منه وليست من الأنواع الممتازة في المغرب والجزائر ومصر

ما هي استخدامات الفحم الحجري في مصر :

تستخدمه في صناعة الحديد والصلب وصناعات البتروكيمياوية



يمتلك الوطن العربي ثروة معدنية متنوعة :

ما أهمية الثروة المعدنية في الاقتصاد العربي :

١. وجودها يسمح بقيام صناعات تعدينية
٢. تشكل أساس النهضة الاقتصادية والتنمية
٣. يسهم في الناتج المحلي لدول مثل موريتانية والمغرب
٤. تطورت صناعات تعدينية كالألومنيوم في البحرين ومصر وصناعة الإسمنت ومواد البناء

علل تطور صناعة الإسمنت والبناء في الوطن العربي :

☒ لارتباطها المباشر باحتياجات الإنشاء والتعمير في معظم الدول العربية

صنف المعادن إلى أنواعها :

<p>ب- مجموعة المعادن اللافلزية : هي المعادن التي لا تملك الصفات السابقة وتضم :</p> <ol style="list-style-type: none"> ١. معادن الأسمدة الكيماوية (الفوسفات والبوتاس والكبريت) ٢. الأملاح التبخرية (ملح الطعام) ٣. الخامات ومواد البناء (الرمل - الحجر الجيري - البازلت) 	<p>أ- مجموعة من المعادن الفلزية : هي القادرة على السحب والطرق وتوصيل الكهرباء أهم أنواعها :</p> <ol style="list-style-type: none"> ١. المعادن الحديدية (الحديد الخام والمنغيز) ٢. المعادن غير الحديدية (النحاس والرصاص) ٣. المعادن الثمينة (الذهب والفضة) ٤. المعادن النادرة (اليورانيوم)
---	--

ثروات معدنية متنوعة في كل إقليم عربي :

<p>المنغيز : علل أهمية المنغيز</p> <p>☒ يدخل في صناعة الصلب لإكسابه صلابة ومقاومة التآكل ويدخل في الصناعات الكيماوية ومواد الطلاء</p> <p>المملكة المغربية المرتبة الأولى تليها مصر ويستثمر من حقول الصحراء الشرقية وجنوب سيناء</p>	<p>خامات الحديد : علل أهمية خامات الحديد</p> <ol style="list-style-type: none"> ١- أكثر المعادن استخداماً في الصناعة ٢- أكثرها رخصاً ٣- يصنع منها الصلب الذي يشكل أساس الصناعات الثقيلة <p>يتركز ثلاثة أرباع الاحتياطي في المغرب العربي وخاصة موريتانية منجماً كدبة الجل واجوجت بقدمان ٤٠% من الإنتاج العربي لخام الحديد</p>
<p>الألمنيوم : تنتشر في السعودية وليبيا ومعظم المناطق الصحراوية</p> <p>علل قيام صناعة الألمنيوم في مصر والبحرين والسعودية :</p> <p>لأن عمليات تعديل الألمنيوم تحتاج لكميات كبيرة من الكهرباء فتركز في مصر في نجع حمادي معتمدة على كهرباء المد العالي وفي البحرين والسعودية معتمدة على الكهرباء المنتجة من الغاز الطبيعي</p>	<p>الزنك والرصاص : فسر أهمية الرصاص والزنك</p> <p>☒ الرصاص يدخل في صناعة البطاريات السائلة وأسلاك الكهرباء</p> <p>☒ الزنك يدخل في صناعة هياكل السيارات والأجهزة المنزلية والدهانات</p> <p>الدول المنتجة للرصاص والزنك المملكة المغربية وتونس</p>
<p>الفوسفات : علل يعد الفوسفات أهم الثروات الباطنية في الوطن العربي :</p> <p>☒ لأنه يشكل أكثر من ثلث الاحتياطي العالمي وربع الإنتاج العالمي</p> <p>☒ يدخل في صناعة الأسمدة وديغ الجلود والمبيدات الحشرية</p> <p>المملكة المغربية المرتبة الأولى يستخرج من حقلي خوربيقة واليوسفة تليها تونس من (قفصة) والأردن من (الحسا والقطرانة)</p> <p>فسر لا يصلح الفوسفات في صورته الطبيعية لتسميد الأرض الزراعية : لقلته ذوبانه في الماء</p>	<p>النحاس في المملكة المغربية والذهب سلطنة عمان الأولى ثم السودان ومصر والبوتاس في الأردن السادسة عالمياً</p>



ذهب أسود وأخر رمادي ينعمان مستقبلاً أبيض لبلادنا

أشرح أثر الثروات الباطنية في التطور الاقتصادي والخدمي

١. يتم تحويل القوسقات الذهب الرمادي إلى أسمدة لتحسن الأراضي الزراعية وزيادة خصوبتها
٢. واستخدام النفط الذهب الأسود لتحريك المصانع وإنارة المنشآت العمرانية و مصدر للطاقة وزيادة الدخل الوطني
٣. إضافة للثروات الأخرى كالغاز والإسفلت التي أهمت في تطوير الاقتصاد الوطني وتحسين مستوى الخدمات وخاصة التعليمية

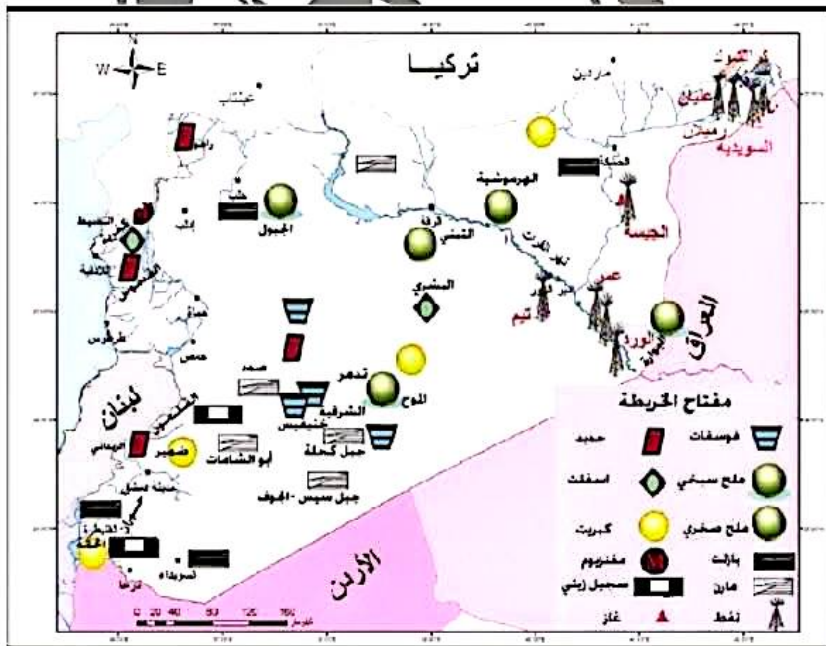
تنوع الاقتصادي للثروات الباطنية في سورية :

<p>تكلم من الغاز الطبيعي في سورية : ينتج الجاف من حقول (جيسة والتدمرية) والرطب من (السويدية) معظم الإنتاج يستهلك في الداخل</p>	<p>تكلم من النفط في سورية : تتركز في الجزيرة والفرات : أهم حقول الجزيرة (السويدية كراتشوك رميلان) أهم حقول الفرات (التييم عمر الورد العشارة) إنتاج النفط الخام ٣٩٠ ألف برميل يومياً ينقل بالنايب لمينائي طرطوس وبانياس للتصدير بعد أن يزود مصفاةي حمص وبانياس باحتياجاتهما</p>
<p>الإسفلت من جبل البشري وكفرية</p>	<p>الكبريت ينتج من (السويدية)</p>
<p>السجيل الزيتي : يستخدم في مجال الطاقة ويتكون من صخور رسوبية متشعبة بالمواد العضوية يوجد في حوران (وادي البرموك) والقلمون</p>	
<p>الفوسفات : من تدمر (خنيفس والشرقية) ينقل بسكة حديد لطرطوس للتصدير بعد أن يمر بحمص لتزويد معمل السماد بحاجته</p>	
<p>الملح : ينتج من مصدرين الملح الصخري النقي من التبي و ملح الملاحات من البوارة والجبول والجيسة</p>	
<p>خامات الحديد والكروم والمنغنيز وتوجد في مناطق من الجبال الغربية (راجو والقدموس)</p>	
<p>صخور مواد البناء : الصخور الجصية والمارتية تستخدم في صناعة الإسمنت والجبس</p>	
<p>البازلت لصناعة أحجار البناء وأحجار الزيتة وأرصعة الطرقات والإسمنت والرخام</p>	<p>الرمال الكوارتزية لصناعة الزجاج والإسمنت</p>

الأنشطة والتدريبات :

ضع إشارة مع أمام العبارة الصحيحة وصحح العبارة الخطأ فيما يأتي :

١. تستثمر الفوسفات في سورية من مناجم التبي (خطأ)
٢. تختص حقول السويدية بإنتاج الغاز الجاف (خطأ)



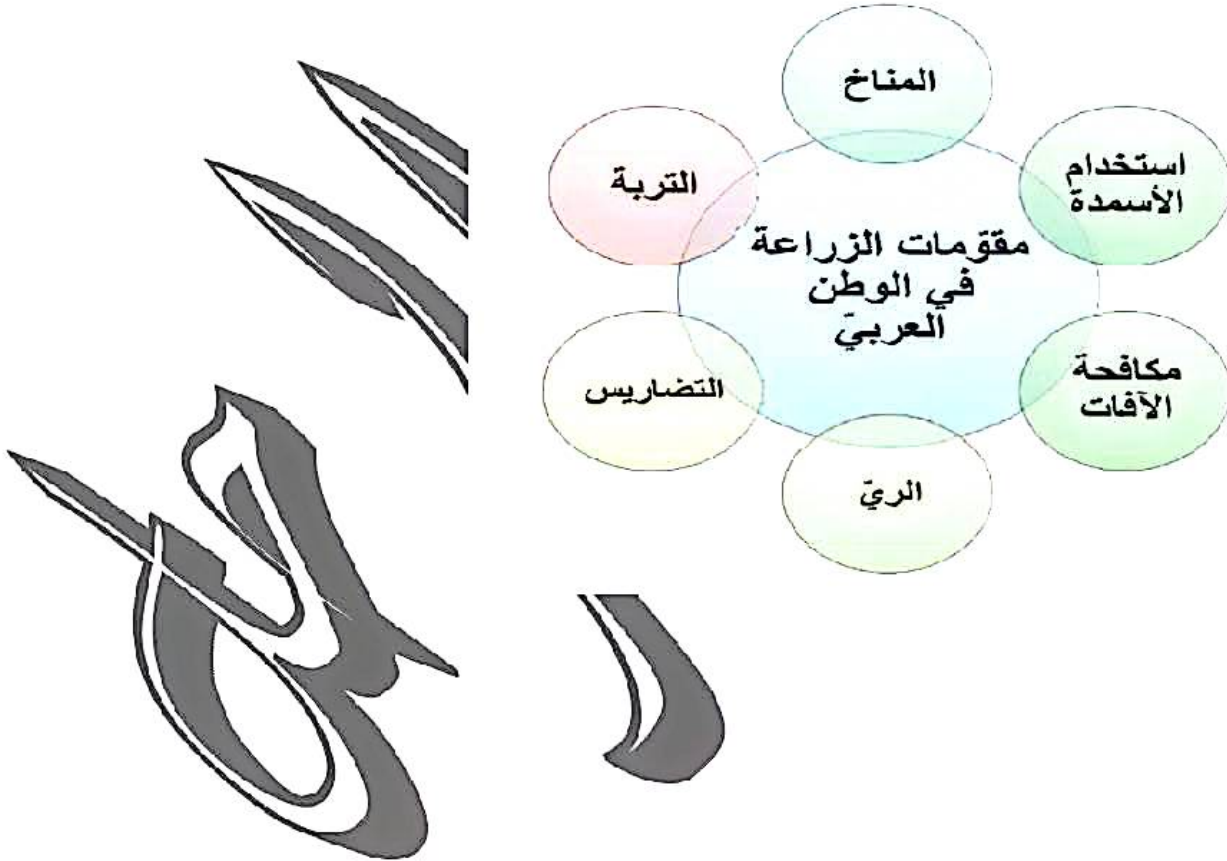
أنشطة الوحدة الرابعة وتدريباتها

أولاً: ضع إشارة صح أمام العبارة الصحيحة وصح العبارة الخاطئة فيما يأتي:

١. تحتل مصر المرتبة الأولى في الوطن العربي بإنتاج الحبوب (صح)
٢. تجود زراعة الحمضيات في سورية في سفوح المناطق الجبلية (الزبداني وجبل العرب) (صح)
٣. يعد مشروع سد الفرات من أهم المشاريع في الوطن العربي (صح)
٤. توجد خامات للحديد والكروم في سورية في منطقة تدمر (خنقيس) (خطأ)

ثانياً: أتمم الفراغات الآتية بالعبارات الجغرافية المناسبة:

١. تعاني الزراعة في الوطن العربي من نقص الماء و التصحر وتفتت الملكية الزراعية
٢. يتم إنتاج الغاز الطبيعي في سورية بشكله الجاف من جيسة والتدمرية والرطب من السويدية
٣. الألمنيوم من أكثر المعادن استخداماً وينشر في السعودية وليبيا
٤. تنتشر الإبل في كل من الصومال وشبه الجزيرة العربية



الصناعة نشاط اقتصادي مهم :

عرف الصناعة : هي العمليات التي يتم بوساطتها تحويل المادة من حالتها الأولية إلى مادة أكثر نفعاً للإنسان

علل أهمية الصناعة :

1. تحتل المرتبة الثانية في الوطن العربي بعد الزراعة
2. لها أثر في تطوير الأنشطة الاقتصادية الأخرى
3. رفع مستوى المعيشة

مدد مقومات الصناعة في الوطن العربي :

1. المواد الأولية : كالمواد الزراعية والثروات الباطنية
2. القوى المحركة : كالنفط والغاز والكهرباء والطاقة الشمسية
3. رؤوس الأموال : تأتي من العوائد النفطية
4. الأسواق : تتوافر أسواق داخلية واسعة وخارجية نشيطة
5. الأيدي العاملة : تتوافر أعداد كبيرة منها ويجري تدريبها وتأهيلها

وازن بين الصناعات التقليدية والحديثة من حيث الصفات والأنواع

الصفات	الصناعات التقليدية الحديثة	الصناعات الحديثة
الصفات	<ol style="list-style-type: none"> 1. تعتمد على الآلات البسيطة 2. والخامات المتوافرة محلياً 3. والمهارة اليدوية المكتسبة 	<ol style="list-style-type: none"> 1. تعتمد على الآلات والتقنيات الحديثة 2. تشغيل أعداد أكثر من العمال 3. تتخصص كل مجموعة بجزء من عملية التصنيع
الأنواع	<p>كصناعة السجاد في تونس والتطريز في الأردن والسفن الشراعية في الكويت</p>	<p>الصناعات الغذائية – الصناعة النسيجية الصناعات الكيماوية والبتروكيماوية – الصناعات المعدنية</p>
علل أهمية الصناعات اليدوية :	فسر اهتمام الدول العربية بالصناعات اليدوية : لها أهمية سياحية – التعريف بالتراث الحضاري	تلكم عن الصناعات الغذائية :
وهي الأكثر انتشاراً في الوطن العربي	تعتمد على الحاصلات الزراعية والرعية أهمها	تلكم عن الصناعات النسيجية :
صناعة السكر تعتمد على الشوندر السكري وقصب السكر في مصر والسودان	صناعة الزيوت النباتية من الزيتون وبذور القطن في المغرب ومصر	علل أهمية الصناعات النسيجية :
وصناعة الأغذية المحفوظة كالإليان في معظم الأقطار العربية	حفظ اللحوم والأسماك في المغرب والإمارات	من حيث عدد العاملين فيها وعدد المعامل
		و رؤوس الأموال المستثمرة
		تنتشر في معظم الأقطار العربية
		صناعة تكرير النفط :
		تأتي السعودية في المرتبة الأولى بتكرير النفط ترتبط به صناعة البلاستيك والخيوط الصناعية
		صناعة الإسمنت :
		علل تزايد أهمية صناعة الإسمنت : فسر التوسع المستمر في صناعة الإسمنت بالوطن العربي
		تطوير البناء
		تنفيذ المشاريع الكبرى
		تنتشر في معظم الدول العربية
		صناعة الأسمدة :
		علل تزايد أهمية صناعة الأسمدة : لآثرها في التنمية الزراعية
		تعتمد على الفوسفات والنفط كما في دول الخليج ومصر والمغرب

الصناعات المعدنية وأهمها :

صناعة الحديد والصلب :

علل أهمية صناعة الحديد والصلب :

1. أهم دعائم التقدم الحديث
2. تتوافر مقوماتها في مصر والسعودية والجزائر
3. تقوم عليها صناعة الآلات وقضبان السكك الحديدية والأدوات الكهربائية

صناعة الألمنيوم :

في البحرين ومصر والإمارات

الصناعات الهندسية :

تجميع السيارات في مصر والجزائر وسوريا

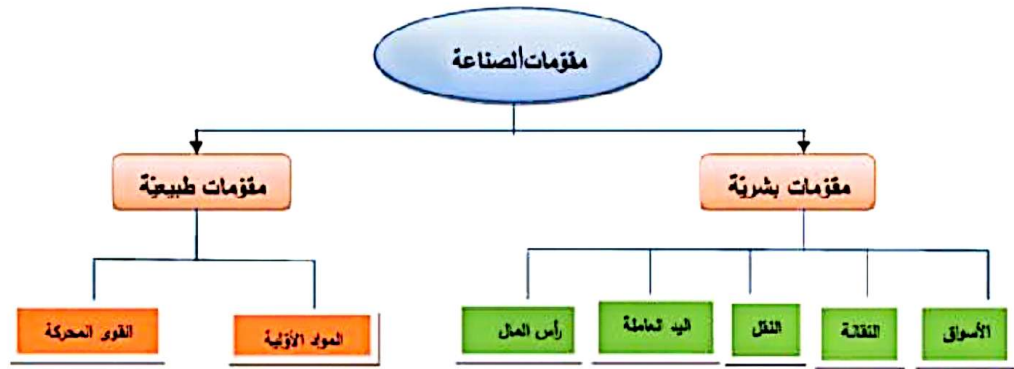
ما التحديات التي تواجه الصناعة في الوطن العربي :

1. ضعف الإثارة 2- ضعف الثقة بالمنتج الوطني على الرغم من جودته
- 3- منافسة البضائع الأجنبية (فسر ذلك)

ما هي الحلول لتطوير الصناعة العربية :

1. تشجيع المشروعات العربية المشتركة للاستفادة من تنوع الموارد المالية والتقنية والأولية
2. استثمار فوائد السوق الواسعة
3. دعم الصناعات الإلكترونية والمعادن
4. إقامة صناعة تصديرية رئيسية
5. تحفيز القطاع الخاص للمشاركة في برنامج التصنيع

أكمل خريطة المفاهيم :



للصناعة أثر رئيس في التطور الاقتصادي والاجتماعي :**فسر أهمية الصناعة في سورية :**

- ١- رافداً من ورافد الناتج الوطني السوري
- ٢- تعمل على رفع المستوى المعيشي للسكان
- ٣- توفير فرص عمل
- ٤- تطوير الأنشطة الاقتصادية الأخرى كالزراعة والتجارة والنقل

ما هي مقومات الصناعة في سورية :

- أ- **مقومات طبيعية :** تتمثل ١- بالمواد الخام وتقسّم إلى مواد خام زراعية ومعديّة
المواد الخام الزراعية : كالقطن والشوندر السكري والفاكهة والخضروات والزيوتون
المواد الخام المعديّة : كالفسفات والحديد
- ٢- مصادر الطاقة : كالنفط والغاز والكهرباء

ب- مقومات بشرية : كتوفر الأيدي العاملة ورأس المال واتساع السوق الاستهلاكية**كيف أسهمت سياسة الدولة في تشجيع الصناعة (فسر تطور الصناعة في سورية)**

- ١- اهتمت بالصناعة وأنشأت المدن الصناعية مثل عرا في ريف دمشق وحسباً في حمص والشيخ نجار في حلب
 - ٢- وتكفل حماية المنتجين والمستهلكين ٣- وتمنع الاحتكار ٤- وتطور الطاقات البشرية
- الصناعة في سورية بين الأصالة والحداثة :** اشتهرت سورية منذ القديم بالصناعات اليدوية البسيطة كصناعة الفخار والنسجية ونشأت الصناعات الحديثة بفضل الأموال الوطنية والحماية الجمركية وأهمها الاستخراجية والتحويلية
- عدد بعض الصناعات الاستخراجية :** كاستخراج النفط والغاز والفسفات والإسفلت والملح ومواد البناء

تكلم عن الصناعات التحويلية : تتميز بتنوعها وانتشارها في مختلف أنحاء سورية ومنها :**تكلم عن الصناعات الغذائية :** تعتمد على الحاصلات الزراعية والحيوانية ومنها

- صناعة السكر : تعتمد على الشوندر السكري وتكرير السكر الخام وتتركز في حمص وادلب لزراعة الشوندر السكري
الزيوت النباتية : تعتمد على صناعة زيت الزيتون وبذور القطن والسمسم وتنتشر في دمشق وحلب وحمص واللاذقية
صناعة الكونسروة : تقوم على حفظ الخضار والفواكه تنتشر في معظم المحافظات

تكلم عن الصناعات النسيجية : فسر أهميتها : من حيث عدد عمالها ومعاملها ورأس المال الموظف فيها

- تشمل نسيج القطن والصوف وتتركز في حلب ودمشق وتشتهر سورية بنسيج الحرير والخيوط الصناعية
تكلم عن مواد البناء : تعتمد على الإسمنت وتتركز في معظم المحافظات ويتزايد الطلب عليها نتيجة التطور العمراني

تكلم عن الصناعات المعدنية : تعتمد على الحديد المستورد والخردة

- تشمل صناعة القضبان الحديدية في حماة والجرارات في حلب وتجميع السيارات والأبواب الكهربائية

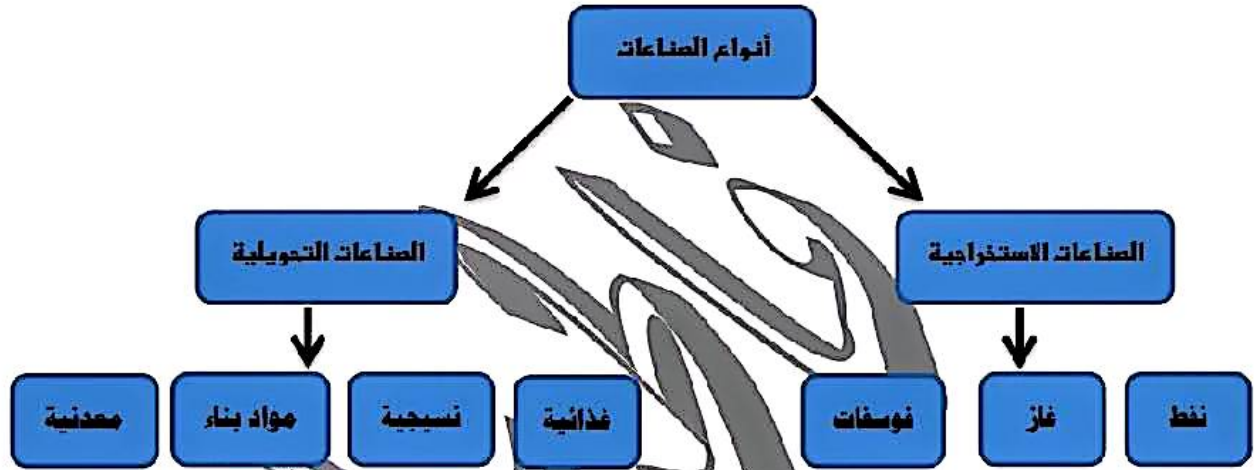
تكلم عن الصناعات البتروكيماوية والكيماوية :**تكرير النفط :** تؤمن حاجة القطر من مشتقات النفط

- تتركز في مصفاة حمص طاقتها ٥,٧ مليون طن سنوياً ومصفاة بانياس طاقتها ٦ مليون طن سنوياً
تنقل المشتقات بأنابيب إلى دمشق وحلب واللاذقية

الأسمدة : وأقيم معمل للسماد الأزوتي والفسفاتي في حمص (لوجود مصفاة حمص) و (فوسفات تدمر)**الأدوية :** تتركز في حمص وحلب ودمشق

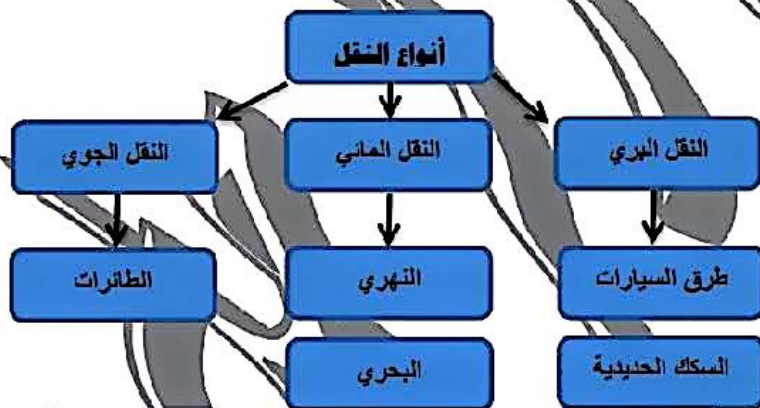
الأنشطة والتدريبات :

في رأيكما المقومات الطبيعية والبشرية التي تتطلبها صناعة السكر :
 الطبيعية : الخامات كالشوندر السكري والسكر الخام
 البشرية : الآلات والأيدي العاملة المدربة ورؤوس الأموال والأسواق
أكمل خريطة المفاهيم الآتية :



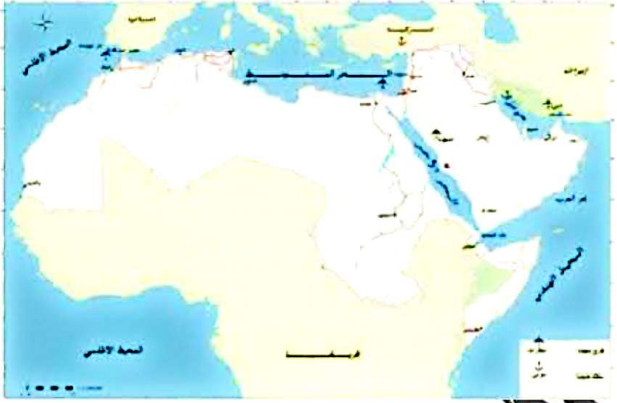
أكمل خريطة المفاهيم الآتية :

أكمل خريطة المفاهيم الآتية :



خريطة (1) الصناعة في سورية

عرف النقل: هو العملية التي تؤمن حركة الأفراد والبضائع والمعارف من مكان إلى آخر



فسر أهمية المواصلات في الوطن العربي:

تؤمن حركة الأفراد والبضائع والمعارف
أثره في التبادل الحضاري
وفي النهضة الاقتصادية والعمرائية
توحيد أجزاء الدولة الواحدة
ربط بلدان الوطن العربي ببعضها وبالعالق الخارجي
ولأهمية موقع الوطن العربي عبرته
طرق القوافل التجارية كطريق الحرير

تكلم من طرق السيارات في الوطن العربي:

أهميتها: تربط أقطار الوطن العربي من ناحية والعالق الخارجي من ناحية أخرى وأهمها:

الطريق الساحلية: المسائرة لساحل البحر المتوسط والمحيط الأطلسي وسواحل شبه الجزيرة

الطرق الداخلية: تربط بين المناطق الداخلية

تكلم عن السكك الحديدية: فسر فقر الوطن العربي بالسكك الحديدية

➤ لانتساع المساحات الصحراوية الخالية من السكان . أفضل الشبكات شبكة وادي النيل

فسر إقامة الموانئ في الوطن العربي

➤ لإشرافه على بحر ومحيطات مهمة

خصصت بعض الموانئ (لنقل البضائع كبيروت) (ولنقل النفط رأس النورة) (ولإصلاح السفن المنامة)

فسر قيام المطارات الحديثة في الوطن العربي

١- موقع الوطن العربي المتوسط ٢- وصفاء سمائه أهم المطارات القاهرة دبي جدة الدار البيضاء دمشق

التجارة نشاط اقتصادي مهم:

عرف التجارة: هي تبادل السلع والمنتجات بين المناطق المنتجة والمناطق المستهلكة

وتحتل المرتبة الثالثة بعد الزراعة والصناعة وتقسف إلى تجارة داخلية وخارجية

التجارة الداخلية: تقوم على تبادل السلع والمنتجات بين أقطار الوطن العربي

فسر ضعف التجارة الداخلية في الوطن العربي:

١- واقع التجزئة ٢- تشابه المنتجات ٣- منافسة البضائع الأجنبية

التجارة الخارجية: تقوم على تبادل السلع والمنتجات بين أقطار الوطن العربي ودول العالم وتتصف بضعفها بالمواد المصنعة

فسر اعتماد الوطن العربي على التجارة الخارجية

➤ لاعتماده على تجارة المواد الخام ولا سيما النفط

قارن بجدول بين صادرات الوطن العربي ووارداته:

الواردات

١. مواد مصنعة وأدوات كهربائية
٢. وسائل نقل وأدوية
٣. معدات طبية ومواد غذائية

الصادرات

١. المواد الخام الزراعية قطن وصمغ
٢. رعية جلود وحيوانات
٣. خامات حديد فوسفات نطف

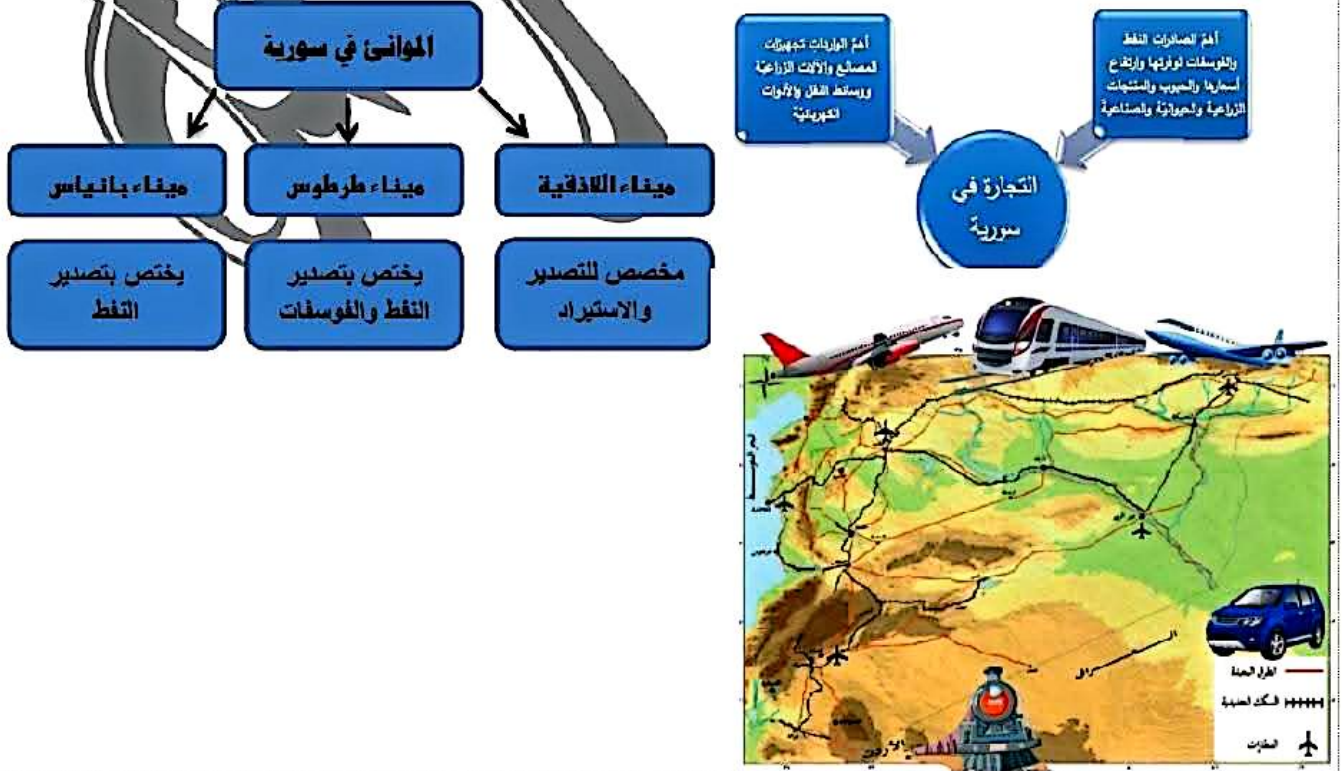
فسر خسارة الميزان التجاري في الدول العربية (عدا النفطية): بسبب تناقص قيمة الصادرات وتزايد قيمة الواردات

المواصلات شريان الحياة الاقتصادية في سورية :

<p>تكلم عن السكك الحديدية : أهمها خط حمص طرابلس - حلب الموصل محاذي الحدود التركية - خط حلب اللاذقية - خط حلب القامشلي خط مناجم الفوسفات حمص طرطوس</p> <p>فسر أهمية الخط الحديدي الحجازي : ذات أهمية من النواحي السياسية والدينية والحضارية ويبدأ من دمشق وينتهي بالمدينة المنورة</p>	<p>تكلم عن طرق السيارات : معظمها من الطرق المزدوجة وتتمحور في ثلاث طرق رئيسية : الطريق الساحلية : تمت بموازاة الساحل من خليج اسكندرون إلى الحدود اللبنانية جنوباً لها أهمية سياحية الطريق الداخلية : عقدتها حمص من حلب إلى درعا ومنها إلى الأردن الطريق الشوقية : عقدتها دير الزور إلى دمشق وحلب والقامشلي إلى العراق</p>	<p>فسر أهمية المواصلات في سورية : ١. تسهيل انتقال الأفراد وتنشيط السياحة والتنمية ٢. ربط أجزاء الدولة ببعضها بعضاً من جهة وبالوطن العربي والعالم من جهة أخرى ٣. ربط مناطق الإنتاج بمناطق الاستهلاك والتصدير</p>
<p>ما المقصود بتجارة العبور (الترانزيت) : مرور البضائع التي تصل إلى دولة ما عن طريق البر أو الجو أو البحر ليعاد شحنها إلى دولة أخرى مع خضوعها لإجراءات جمركية مختصرة</p> <p>فسر أهمية تجارة العبور (الترانزيت) : • الإيرادات التي تحققها نتيجة مرور البضائع</p>	<p>فسر أهمية التجارة في سورية : ١. إحيي الركائز الأساسية للتنمية ٢. رافداً مهماً للموازنة العامة للدولة ٣. نسبة العاملين فيها وخبرتهم</p> <p>علل تدني العجز بالميزان التجاري السوري : ١. نجاح خطط التنمية ٢. تطوير الصناعة الاستخراجية ٣. عائدات السياحة ٤. وأموال المغتربين وتجارة المرور</p>	<p>مدد أهم الموانئ السورية ووظائفها ميناء اللاذقية : مخصص للتصدير والاستيراد ميناء طرطوس : يختص بتصدير النفط والفوسفات ميناء بانجاس : يختص بتصدير النفط</p> <p>فسر أهمية مطار دمشق الدولي : ١. لموقع سورية الاستراتيجي ٢. استخدامه من معظم شركات الطيران العالمية</p>

الأنشطة والتدريبات :

- أهم محاور طرق السيارات في سورية الطريق الساحلية والداخلية والشرقية
- تتصف التجارة السورية بتزايد حركة الواردات وتناقص الصادرات وبميزان تجاري خاسر



ما مفهوم السياحة : هي انتقال مؤقت للأفراد أو الجماعات من مكان لآخر طلباً لفوائد ترفيهية أو روحية أو فكرية

عدد مقومات السياحة الطبيعية :

1. تنوع البيئات الطبيعية كالبينة المتوسطة مناخها المعتدل
2. يضم الوطن العربي أشكال التضاريس جميعها من جبال وسهول ومنخفضات كالبحر الميت أخفض بقاع العالم
3. يتميز الوطن العربي بموقع مهم مشرف على البحار والمحيطات وقريب من الكتل البشرية الأكبر في العالم

عدد المقومات البشرية للسياحة في الوطن العربي:

1. غناه بالمناطق الأثرية وما تزخر به متاحفه من أوابد وكنوز تعود لحضارات متنوعة كالبابلية والآشورية في العراق والفينيقية والرومانية في ليبيا
2. البنية الخدمية وتتمثل بشبكة النقل والمواصلات والخدمات الفندقية والمطاعم
3. عنصر الأمان وما يتمتع به الإنسان العربي من حب للأخر وكرم الضيافة

صنف السياحة في الوطن العربي:

المقومات	السياحة
وهي زيارة الأماكن المقدسة كمدينة مكة المكرمة والقدس الشريف	السياحة الدينية :
سياحة العلاج من أمراض الجسد والترويح عن النفس وتعتمد على استخدام الينابيع المعدنية والكبريتية والرمال والشمس مثل رمال البحر الميت في الأردن وحمامات السخنة في اليمن	السياحة العلاجية :
زيارة المناطق الطبيعية والبحار بغرض الاستمتاع والاصطياف والترفيه والترويح عن النفس وتستخدم هواية صيد السمك والقوس تحت الماء والتجوال في المناطق الصحراوية والجبلية وزيارة المهرجانات والفعاليات الرياضية	السياحة الترفيهية :
وتشمل دراسة لمظاهر طبيعية معينة كحركة الطيور وهجراتها وزيارة المحميات الطبيعية كمحمية الفيوم بمصر وزيارة بعض المظاهر الطبيعية كالمغائر الكارستية كمغارة جعينا في لبنان	السياحة العلمية :
كزيارة الدول التي تتمتع بمقومات تاريخية وحضارية	السياحة الثقافية :

عدد الآثار الإيجابية للسياحة في الوطن العربي :

1. تنوع مصادر الدخل الوطني
2. زيادة القطع الأجنبي
3. الاهتمام بالبيئة وحمايتها
4. الاطلاع على ثقافات الشعوب الأخرى

عدد الآثار السلبية للسياحة في الوطن العربي :

1. ارتفاع الأسعار
2. سوء استخدام الموارد الطبيعية
3. التلوث بأنواعه المختلفة

أولاً : ضع إشارة صح أمام العبارة الصحيحة وخطأ فيما يأتي :

1. المقومات الطبيعية للسياحة تتمثل في توافر البنى التحتية كالمطارات ووسائل النقل (خطأ)
2. من المناطق الطبيعية السياحية الأماكن المقدسة (خطأ)
3. من الآثار السلبية للسياحة في الوطن العربي انخفاض الأسعار (خطأ)

