

الأستاذ

محمد عبد الصبور

# الدراسات الاجتماعية

2026

## المراجعة النهائية

الصف الثالث الإعدادي  
الفصل الدراسي الأول

إعداد/ محمد عبد الصبور

3

# المراجعة النهائية

## مراجعة الوحدة الأولى

س ١ اختر الإجابة الصحيحة مما بين القوسين:

- ١ يحد قارة آسيا جنوبًا المحيط .....  
(الأطلنطي - الهادي - الهندي - القطبي الشمالي)
- ٢ أصغر محيطات العالم مساحة هو المحيط .....  
(الهندي - الهادي - القطبي الشمالي - القطبي الجنوبي)
- ٣ تقع أكبر الجزر التابعة لإفريقيا في .....  
(البحر المتوسط - البحر الأحمر - المحيط الهندي)
- ٤ القارة التي يمر من خلالها ثلاث دوائر عرض رئيسية هي قارة .....  
(أستراليا - أوروبا - أمريكا الشمالية - إفريقيا)
- ٥ أي من الظواهر التالية ينتمي لقارة أوروبا؟ جزر .....  
(القمر - البريطانية - الفلبين - إندونيسيا)
- ٦ تفصل جبال ..... قارة أوروبا عن قارة آسيا.  
(أورال - الهيمالايا - البرانس - الألب)
- ٧ يفصل قارة أستراليا عن جزر إندونيسيا بحر .....  
(تسمانيا - المرجان - آرافورا - آرال)
- ٨ قارة يحدها المحيط الأطلنطي شرقًا .....  
(أوروبا - أمريكا الشمالية - أستراليا - إفريقيا)
- ٩ أكبر البحار المغلقة في العالم البحر .....  
(الأسود - قزوين - الميت - المتوسط)
- ١٠ المضيق الذي تقترب فيه آسيا من إفريقيا .....  
(هرمز - باب المنذب - بيرنج - البسفور)
- ١١ من أمثلة الدول الجزرية .....  
(الهند - البرازيل - فرنسا - اليابان)

- ١٢ تتفق قارات آسيا وأوروبا وأمريكا الشمالية في الحد .....  
(الشمالي - الجنوبي - الشرقي)
- ١٣ القارة التي يحيط بها خمسة مضائق رئيسية هي قارة .....  
(آسيا - إفريقيا - أوروبا - أستراليا)
- ١٤ تشرف جميع قارات العالم الجديد المأهولة بالسكان على المحيط .....  
(الهندي - الهادي - القطبي الشمالي - القطبي الجنوبي)
- ١٥ القارة التي يندم اتصالها البري بأي قارة أخرى هي .....  
(أمريكا الشمالية - أمريكا الجنوبية - أوروبا - أنتاركتيكا)
- ١٦ تمر دائرة الاستواء في الطرف الجنوبي من قارة .....  
(آسيا - إفريقيا - أوروبا - أستراليا)
- ١٧ يتمثل الحد الشرقي لأستراليا والحد الغربي للأمريكتين في المحيط .....  
(الهندي - الأطلنطي - الهادي - القطبي الشمالي)
- ١٨ القارة التي تلتقي عندها جميع خطوط الطول هي .....  
(آسيا - إفريقيا - أنتاركتيكا - أمريكا الشمالية)
- ١٩ من الأنهار التي تجري في شرق آسيا .....  
(أوب - اليانجتسي - الدانوب - الفولجا)
- ٢٠ جبال تقع غرب آسيا وتمتد في العراق وإيران .....  
(الهمالايا - طوروس - زاغروس - خنجان)
- ٢١ يصب أطول أنهار أوروبا في .....  
(البحر المتوسط - بحر الشمال - بحر قزوين - البحر الميت)
- ٢٢ تمتد في وسط قارة إفريقيا .....  
(هضاب الصحراء الكبرى - هضبة الحبشة - هضبة البحيرات الاستوائية - هضبة الشطوط)
- ٢٣ تشغل هضبة الميزيتا معظم دولة .....  
(أسبانيا - فرنسا - أيسلندا - بريطانيا)
- ٢٤ تعتبر من الهضاب ذات الأهمية لمصر .....  
(الشطوط - المكسيك - الحبشة - جويانا)

- ٢٥ هضبة تقع في الشمال الشرقي لقارة أمريكا الشمالية.....
- (كلورادو - المكسيك - لبرادور - جيانا)
- ٢٦ سهول فيضية تمتد من الشمال إلى الجنوب في قارة أمريكا الجنوبية سهول نهر.....
- (الأورينكو - ساو فرانسيسكو - لابلاتا - الأمازون)
- ٢٧ يصب نهر لابلاتا في.....
- (الخليج العربي - المحيط الهندي - المحيط الأطلنطي)
- ٢٨ يعد سهل كلنشو في ليبيا ظاهرة تضاريسية تتبع السهول.....
- (الساحلية - الفيضية - الصحراوية - الجليدية)
- ٢٩ أي من الجبال الآتية يوجد شرقها العديد من الهضاب؟.....
- (الأنديز - دراكنزبرج - الحاجز الكبير - الأبلاش)
- ٣٠ تعد سهول حوض نهر الأمازون أوسع سهول نهريّة في العالم بسبب.....
- (طول النهر - شدة انحداره - تعدد روافده - انتشار الغابات)
- ٣١ يختلف المظهر الهضبي في قارة آسيا خاصة في.....
- (الوسط - الجنوب - الجنوب الغربي - الشمال الغربي)
- ٣٢ تمتد جبال..... في شبه جزيرة البلقان.
- (القوقاز - أورال - البرانس - الألب الدينازية)
- ٣٣ تضيق السهول الساحلية بأستراليا من جهة.....
- (الشمال - الجنوب - الشرق - الغرب)
- ٣٤ يظهر إقليم المناخ الاستوائي وشبه الاستوائي بالجزر الواقعة عند الأطراف الجنوبية لقارة..... (آسيا - إفريقيا - أمريكا الشمالية - أمريكا الجنوبية)
- ٣٥ يقع الإقليم اللورانسي في نفس عروض إقليم.....
- (البحر المتوسط - الصيني - التندرا - غرب أوروبا)
- ٣٦ يسود أقصى شمال أستراليا إقليم المناخ.....
- (اللورانسي - الصيني - الموسمي - الصحراوي)

- ٣٧ يسود إقليم المناخ الموسمي .....
- (جزيرة مدغشقر - ولاية كاليفورنيا - شمال سيبيريا - شرق الصين)
- ٣٨ أهم أشجار إقليم الغابات الموسمية .....
- (الزان - المطاط - جوز الهند - الصفصاف)
- ٣٩ من الأشجار التي تنفض أوراقها شتاءً لشدة البرودة .....
- (البلوط - الصفصاف - الزان - الزيتون)
- ٤٠ من أشجار الغابات المخروطية .....
- (الشربين - المطاط - جوز الهند - الزيتون)
- ٤١ يظهر في شمال دولة كندا مناخ .....
- (الإقليم الصيني - إقليم التندرا - الإقليم الموسمي - الإقليم اللورانسي)
- ٤٢ يعيش حيوان الرنة في إقليم .....
- (غرب أوروبا - البحر المتوسط - الصحراوي المعتدل - التندرا)
- ٤٣ أكبر مساحة من اليابس ينتمي للإقليم المناخي الجبلي توجد في قارة .....
- (آسيا - أستراليا - إفريقيا - أوروبا)
- ٤٤ يتميز إقليم مناخ التندرا بالبرودة الشديدة طوال العام بسبب .....
- (الموقع الجغرافي - ارتفاع السطح - الموقع الفلكي - قلة الغطاء النباتي)
- ٤٥ الامتداد الفلكي لكل من قارة إفريقيا وقارة أستراليا حرهما من نمو أشجار .....
- (المطاط - الصفصاف - الزان - جوز الهند)
- ٤٦ أقصى اتساع للإقليم المناخي المداري الحار يوجد في قارة .....
- (إفريقيا - آسيا - أمريكا الجنوبية - أستراليا)
- ٤٧ العامل الرئيسي الذي أدى إلى تعدد أنواع الأقاليم المناخية في قارة آسيا .....
- (الموقع الفلكي - تنوع التضاريس - الموقع الجغرافي - كثرة الجزر)
- ٤٨ تخلو أراضيها من وجود إقليم التندرا قارتا .....
- (إفريقيا وأوروبا - الأمريكيتين - إفريقيا وأستراليا - أوروبا وأستراليا)
- ٤٩ تنمو في شمال اليابان أشجار .....
- (الزيتون - الماهوجني - المطاط - الصنوبر)
- ٥٠ تدخل سواحل مصر الشمالية ضمن نطاق إقليم .....
- (المناخ الصيني - مناخ البحر المتوسط - المناخ المداري الحار - المناخ الموسمي)

س ٢ ضع علامة (✓) أمام العبارة الصحيحة، وعلامة (X) أمام العبارة غير الصحيحة :

- ١ يوجد بقارة آسيا أكبر بحر داخلي مغلق في العالم. ( )
- ٢ تحاط قارة آسيا بالمحيطات من ثلاث جهات عدا الجهة الشمالية. ( )
- ٣ يفصل أستراليا عن جزر إندونيسيا في الشمال بحر آرال. ( )
- ٤ تطل السواحل الغربية للمحيط الهادي على أكبر وأصغر قارات العالم مساحة. ( )
- ٥ يحيط بيباس أنتاركتيكا من جميع الجهات المحيط القطبي الشمالي. ( )
- ٦ يمر مدار الجدي بقارات أستراليا وإفريقيا وأمريكا الجنوبية. ( )
- ٧ تعد إيطاليا في مقدمة الدول التي لها مصالح في القارة القطبية الجنوبية. ( )
- ٨ تقع قارتا أمريكا الشمالية والجنوبية إلى الغرب من المحيط الهادي. ( )
- ٩ تقترب قارة إفريقيا وأوربا عند مضيق هرمز. ( )
- ١٠ يجاور قارة أمريكا الشمالية من الجنوب الشرقي البحر الكاريبي. ( )
- ١١ تجري أنهار أوب وينسي ولينا في سهول آسيا الشمالية. ( )
- ١٢ تقع هضبة جيانا في شرق قارة أمريكا الجنوبية. ( )
- ١٣ من جبال إفريقيا جبال أطلس وجبال البحر الأحمر وجبل كلمنجارو. ( )
- ١٤ تقل الأهمية الاقتصادية للسهول الفيضية في شمال أمريكا الشمالية. ( )
- ١٥ يقطع هضبة فرنسا الوسطى أنهار مهمة مثل الفولجا. ( )
- ١٦ توجد في قارة أستراليا سهول متسعة تجري بها أنهار أهمها نهر ماري ودارلنج. ( )
- ١٧ توجد سلاسل جبال روكي في شرق قارة أمريكا الشمالية. ( )
- ١٨ تتميز السهول الساحلية المطلة على المحيط الهادي بالضيق في قارات العالم الجديد. ( )
- ١٩ تتميز جزر اليابان بأنها بعيدة عن سواحل آسيا. ( )
- ٢٠ تمتد البحيرات العظمى في كل من الولايات المتحدة الأمريكية والمكسيك. ( )
- ٢١ تنمو حشائش الإستبس في الإقليم المداري الحار. ( )
- ٢٢ من العوامل المؤثرة في مناخ القارات الموقع الفلكي والتضاريس. ( )

- ٣٣ أشجار الزيتون من أشجار إقليم البحر المتوسط وهي دائمة الخضرة. ( )
- ٣٤ الجنوب الشرقي في كل قارات العالم الجديد يتشابه مناخياً ونباتياً. ( )
- ٣٥ يسود إقليم المناخ الجبلي مناخ شديد البرودة طوال العام. ( )
- ٣٦ يتشابه الإقليم الصيني وإقليم غرب أوروبا في زيادة المطر في فصل الشتاء. ( )
- ٣٧ يقع إقليم المناخ الصيني غرب القارات بين دائرتي عرض ٣٠: ٤٥ شمالاً وجنوباً. ( )
- ٣٨ تتنوع الحياة النباتية في إقليم المناخ الجبلي. ( )
- ٣٩ يختلف الإقليم المعتدل البارد شرق القارات في نصف الكرة الأرضية الشمالي. ( )
- ٣٠ يتعرض إقليم مناخ غرب أوروبا لعواصف مدارية مثل التيفون. ( )

س ٣ اكتب ما تشير إليه كل عبارة فيما يلي:

- ١ موقع المكان سواء قارة أو دولة أو غيرها بالنسبة للأماكن الأخرى. (.....)
- ٢ إحدى قارات العالم الجديد تقع إلى الجنوب من المحيط القطبي الشمالي. (.....)
- ٣ الدول التي تتكون من جزيرة أو أكثر من جزيرة أو قد تكون جزءاً من جزيرة. (.....)
- ٤ قارة تقع غرب المحيط الأطلنطي ويمر بها مدار الجدي. (.....)
- ٥ شبه جزيرة تصل بين قارة آسيا وقارة إفريقيا. (.....)
- ٦ أصغر قارات العالم مساحة وتحيط بها المياه من جميع الجهات. (.....)
- ٧ القارة التي يحيطها محيط واحد من جميع الجهات. (.....)
- ٨ الأرض التي يجري فيها النهر أو أحد روافده أو تنحدر مياهه إليه. (.....)
- ٩ إحدى قارات العالم القديم ويسودها المظهر الهضبي. (.....)
- ١٠ هضبة تشغل مساحة دولة أسبانيا في قارة أوروبا. (.....)
- ١١ منطقة محددة على سطح الأرض لها خصائص مناخية معينة. (.....)
- ١٢ إقليم مناخي تتنوع فيه الحياة النباتية طبقاً لارتفاع السطح وكمية المطر. (.....)
- ١٣ حشائش تعرف في قارة أمريكا الشمالية باسم البراري وتستغل كمراعٍ طبيعية. (.....)
- ١٤ حشائش تنمو في الإقليم المناخي الموسمي وتعتبر حديقة حيوان طبيعية. (.....)
- ١٥ إقليم مناخي يسود سواحل دول المغرب العربي. (.....)

## س ٤ صوّب ما تحته خط فيما يلي:

- ١ دولة الفلبين من الدول الجزرية في قارة إفريقيا. (.....)
- ٢ أصغر قارات العالم القديم مساحة هي قارة أستراليا. (.....)
- ٣ تتبع جزيرتا نيوزيلندا الشمالية والجنوبية قارة أوروبا. (.....)
- ٤ يقع المحيط الهندي غرب قارة أوروبا. (.....)
- ٥ تتصل قارة آسيا بقارة إفريقيا عند شبه الجزيرة العربية. (.....)
- ٦ الدائرة القطبية الجنوبية تمر بقارة أستراليا. (.....)
- ٧ تتميز سواحل قارة أوروبا بالاستقامة. (.....)
- ٨ تعرف جبال الألب شمال أسبانيا باسم الدينارية. (.....)
- ٩ تمتد جبال الحاجز الكبير على السواحل الغربية لأستراليا. (.....)
- ١٠ تقع هضبة جيانا جنوب قارة أمريكا الجنوبية وهي أصغر الهضاب مساحة. (.....)
- ١١ تمتد جبال طوروس في دولتي العراق وإيران. (.....)
- ١٢ تتشابه تضاريس قارة أستراليا مع تضاريس قارة أمريكا الجنوبية. (.....)
- ١٣ أعلى قمة جبلية في العالم تعرف باسم زاجروس. (.....)
- ١٤ تنمو أشجار الزان في الإقليم الصيني شرق القارات. (.....)
- ١٥ يظهر مناخ الإقليم الصيني في جميع القارات المأهولة بالسكان. (.....)
- ١٦ سميت الغابات المخروطية بهذا الاسم لأنها تنفض أوراقها في فصل الشتاء. (.....)
- ١٧ يعيش الدب القطبي في إقليم المناخ الجبلي. (.....)
- ١٨ تنمو أشجار الماهوجني والمطاط في الغابات النفضية. (.....)
- ١٩ يشغل إقليم المناخ اللورانسى القمم والمنحدرات العليا للمناطق الجبلية في العالم. (.....)
- ٢٠ يتميز إقليم المناخ الاستوائي بالحيوانات أكلة العشب. (.....)

## س ٥ أجب عن الأسئلة التالية:

١ ما النتائج المترتبة على: كثرة الجزر وتعايير السواحل في قارة أوروبا؟

.....

٢ دُلّل: تعد قارة آسيا شبه جزيرة كبيرة.

.....

٣ ما المقصود بـ: الدول الجزرية؟

٤ ما النتائج المترتبة على: وقوع أنتاركتيكا أقصى جنوب الكرة الأرضية؟

٥ بمّ تفسر: تعتبر قارة أستراليا جزيرة كبيرة؟

٦ ما العلاقة بين: الامتداد الجغرافي للقارة القطبية الجنوبية والسكان؟

٧ ما مدى مصداقية العبارة: يمر خط جرينتش بخمس قارات؟

٨ دّل: تشتهر قارة آسيا بكثرة الدول الجزرية بها.

٩ ما المقصود بـ: الموقع الجغرافي؟

١٠ بمّ تفسر: تعرف هضبة التبت بسقف العالم؟

١١ بمّ تفسر: تفقد سهول سيبيريا أهميتها شتاءً؟

١٢ دّل: لبعض الهضاب الإفريقية أهمية خاصة بالنسبة لمصر.

١٣ حدّد الأثر الناتج عن: اقتراب جبال الحاجز الكبير من المحيط الهادي بقارة أستراليا.

١٤ بمّ تفسر: سهولة إنشاء الموانئ بالسهول الساحلية في قارة أوروبا؟

١٥ حدّد أوجه التشابه بين: تضاريس أمريكا الشمالية وتضاريس أمريكا الجنوبية.

١٦ ما المقصود بـ: حوض النهر؟

١٧ برهن: تكثر الهضاب في شرق جبال الأنديز.

١٨ اذكر اسم المصب الذي تصب فيه الأنهار التالية:

- |                            |                             |
|----------------------------|-----------------------------|
| ..... (١) أوب وينسي ولينا  | ..... (٢) نهرا دجلة والفرات |
| ..... (٣) نهر السند        | ..... (٤) نهر النيل         |
| ..... (٥) نهر النيجر       | ..... (٦) نهر الكونغو       |
| ..... (٧) نهر الفولجا      | ..... (٨) نهر الراين        |
| ..... (٩) نهر الدانوب      | ..... (١٠) نهر نلسن         |
| ..... (١١) نهر سانت لورانس | ..... (١٢) نهر المسيسيبي    |
| ..... (١٣) نهر أورينوكو    | ..... (١٤) نهر الأمازون     |
| ..... (١٥) سهول لابلاتا    | ..... (١٦) نهرا مري ودارلنج |

١٩ بم تفسر: الأهمية الاقتصادية للسهل الأوربي العظيم؟

٢٠ صنّف الظاهرات حسب نوعها:

- |                       |                         |
|-----------------------|-------------------------|
| ..... (١) مري ودارلنج | ..... (٢) الهيمالايا    |
| ..... (٣) البرانس     | ..... (٤) لبرادور       |
| ..... (٥) أورينوكو    | ..... (٦) الحاجز الكبير |
| ..... (٧) الميزيتا    | ..... (٨) روكي          |
| ..... (٩) طوروس       | ..... (١٠) النيل        |

٢١ ماذا يحدث إذا: لم يكن هناك امتداد لهضبة الحبشة والبحيرات الاستوائية في وسط وشرق إفريقيا؟

٢٢ دُلّل: تتعدد مسميات جبال الألب بقارة أوروبا.

٣٣ ما نتائج: اقتراب حافات الجبال والهضاب من سواحل قارة إفريقيا؟

٣٤ ما العلاقة بين: سهول المسيسيبي والأراضي الزراعية؟

٣٥ بم تفسر: يختلف المناخ داخل القارة الواحدة من منطقة لأخرى؟

٣٦ دَلِّ: تعتبر السافانا حديقة حيوان طبيعية.

٣٧ وضح أوجه التشابه بين: الإقليم المداري والإقليم الموسمي.

٣٨ ما المقصود بـ: الإقليم المناخي؟

٣٩ بم تفسر: تمتاز ولاية كاليفورنيا بمطر شتوي؟

٣٠ صنّف إلى أي الغابات ينتمي كل من:

(١) أشجار جوز الهند ..... (٢) حشائش البراري

(٣) الصنوبر والشربين ..... (٤) حيوان الرنة

(٥) أشجار الزان ..... (٦) الدب القطبي

(٧) أشجار المطاط والماهوجني ..... (٨) الصفصاف والبلوط

٣١ بم تفسر: أهمية حشائش الإستبس اقتصادياً؟

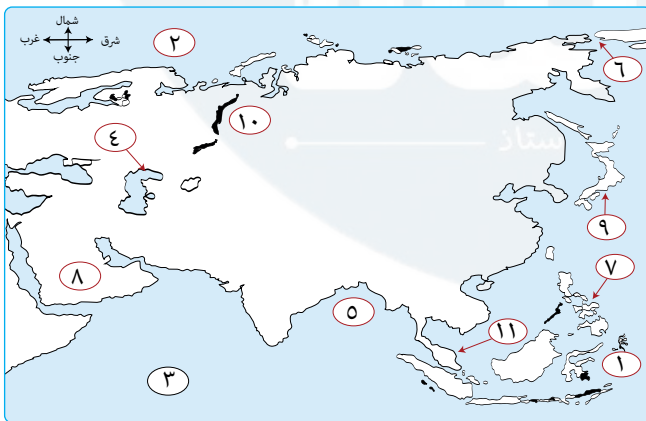
٣٣ وضح أوجه التشابه والاختلاف بين: إقليم البحر المتوسط والإقليم الصيني.

المقارنة	إقليم البحر المتوسط	الإقليم الصيني
التشابه	.....	.....
الاختلاف	.....	.....

٣٣ قارن بين: إقليم مناخ غرب أوروبا وإقليم البحر المتوسط، من حيث: الخصائص المناخية، والخصائص النباتية.

المقارنة	إقليم غرب أوروبا	إقليم البحر المتوسط
الخصائص المناخية	.....	.....
الخصائص النباتية	.....	.....

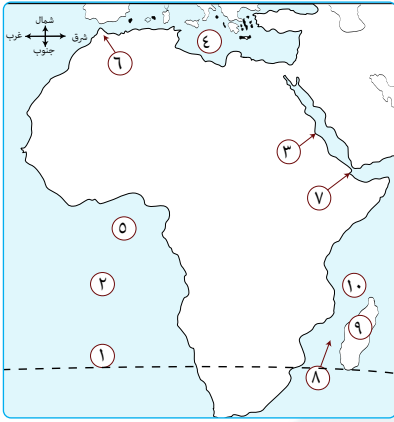
س ٦ امامك خريطة صماء اكتب مدلول الأرقام عليها :



أ قارة آسيا:

- ١ دائرة .....
- ٢ المحيط .....
- ٣ المحيط .....
- ٤ بحر .....
- ٥ خليج .....
- ٦ مضيق .....
- ٧ جزر .....
- ٨ شبه جزيرة .....
- ٩ جزر .....
- ١٠ جبال .....

١١ شبه جزيرة .....



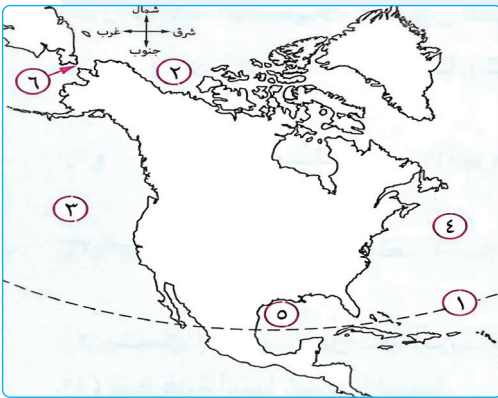
ب) قارة إفريقيا:

- ١ مدار .....
- ٢ المحيط .....
- ٣ البحر .....
- ٤ البحر .....
- ٥ خليج .....
- ٦ مضيق .....
- ٧ مضيق .....
- ٨ مضيق .....
- ٩ جزيرة .....
- ١٠ دولة .....



ج) قارة أوروبا:

- ١ الرقم ٦ يشير إلى .....
- ٢ الرقم ١ يمثل دائرة عرض رئيسية .....
- ٣ يمثل مضيق البسفور رقم .....
- ٤ الرقم ٢ يشير إلى المحيط .....
- ٥ يمثل البحر المتوسط الرقم .....



د) قارة أمريكا الشمالية:

- ١ مدار .....
- ٢ المحيط .....
- ٣ المحيط .....
- ٤ المحيط .....
- ٥ خليج .....
- ٦ مضيق .....



هـ) قارة أمريكا الجنوبية:

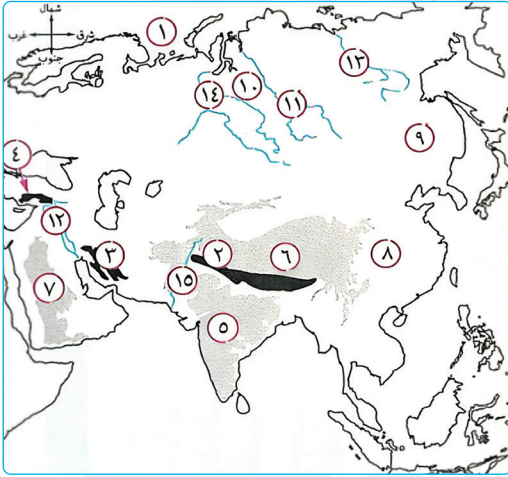
- ١ دائرة .....
- ٢ مدار .....
- ٣ المحيط .....
- ٤ المحيط .....
- ٥ البحر .....
- ٦ مضيق .....

و قارة أستراليا:



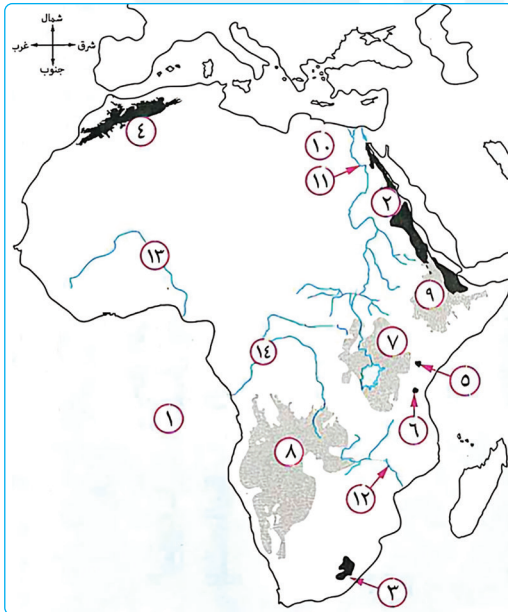
- ١ الرقم ٤ يمثل بحر .....
- ٢ يمثل الخليج الأسترالي الكبير الرقم .....
- ٣ أكبر محيطات العالم مساحة رقم .....
- ٤ جزيرة نيوزيلندا الشمالية رقم .....
- ٥ جزيرة تسمانيا رقم .....
- ٦ الرقم ١ يشير إلى دائرة عرض .....

ز قارة آسيا:

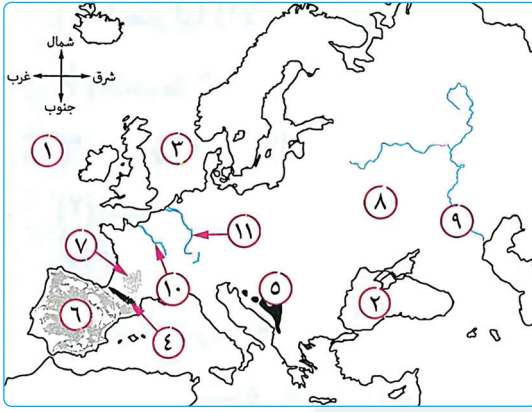


- ١ المحيط .....
- ٢ جبال .....
- ٣ جبال .....
- ٤ جبال .....
- ٥ هضبة .....
- ٦ هضبة .....
- ٧ هضبة .....
- ٨ سهل .....
- ٩ سهول .....
- ١٠ سهول .....
- ١١ نهر .....
- ١٢ نهر .....
- ١٣ نهر .....
- ١٤ نهر .....
- ١٥ نهر .....

ح قارة إفريقيا:

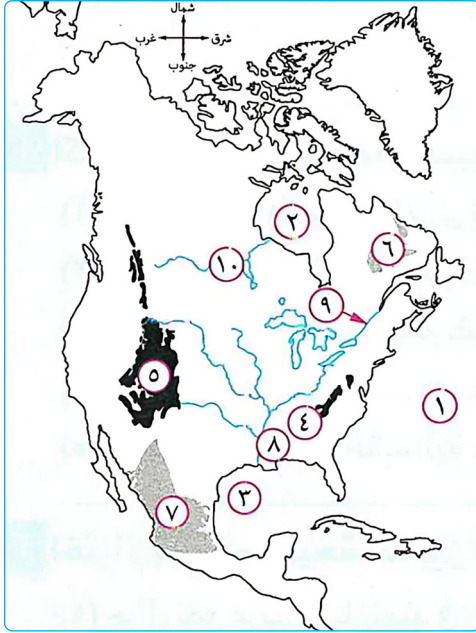


- ١ المحيط .....
- ٢ جبال .....
- ٣ جبال .....
- ٤ جبال .....
- ٥ جبل .....
- ٦ جبل .....
- ٧ هضبة .....
- ٨ هضبة .....
- ٩ هضبة .....
- ١٠ سهل صحراوي .....
- ١١ نهر .....
- ١٢ نهر .....
- ١٣ نهر .....
- ١٤ نهر .....



ط قارة أوروبا:

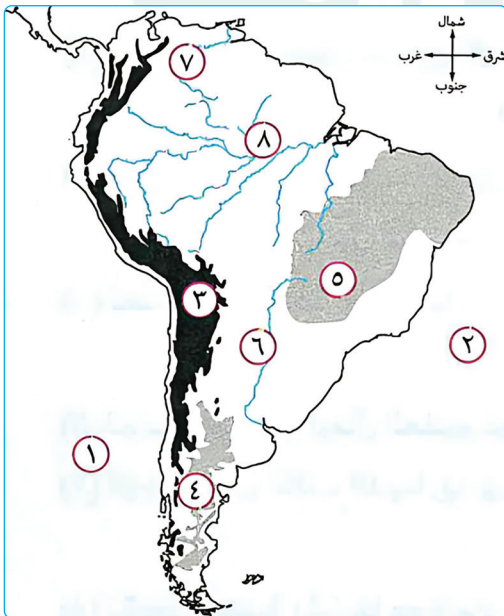
- ١ المحيط .....  
 ٢ البحر .....  
 ٣ بحر .....  
 ٤ جبال .....  
 ٥ جبال .....  
 ٦ هضبة .....  
 ٧ هضبة .....  
 ٨ السهل .....  
 ٩ نهر .....  
 ١٠ نهر .....  
 ١١ نهر .....



ك قارة أمريكا الشمالية:

- ١ المنطقة المظلمة رقم ٧ تمثل .....  
 ٢ يمثل خليج المكسيك رقم .....  
 ٣ هضبة لبرادور تتمثل في رقم .....  
 ٤ أعلى جبال القارة يمثلها رقم .....  
 ٥ جبال الأبلاش يمثلها رقم .....  
 ٦ نهر نلسن يمثلها رقم .....  
 ٧ حوض نهر المسيسيبي يمثلها رقم .....

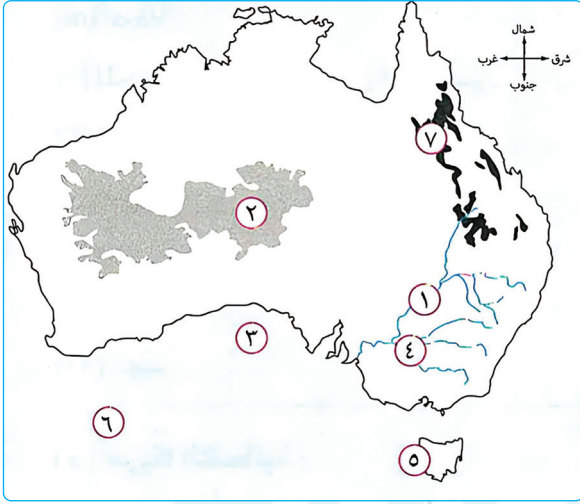
٨ يشير الرقم ٩ إلى نهر .....  
 ٩ خليج هدسن يشير إليه رقم .....



ل قارة أمريكا الجنوبية:

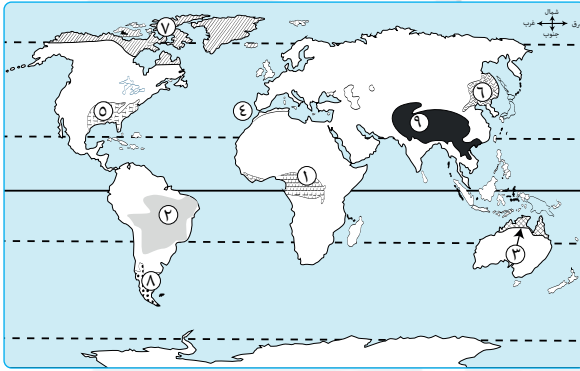
- ١ المحيط .....  
 ٢ المحيط .....  
 ٣ جبال .....  
 ٤ هضبة .....  
 ٥ هضبة .....  
 ٦ سهول .....  
 ٧ نهر .....  
 ٨ نهر .....

م قارة أستراليا:



- ١ المحيط الهندي يحمل الرقم .....
- ٢ يشير الرقم ٣ إلى الخليج .....
- ٣ جبال الحاجز الكبير تحمل رقم .....
- ٤ يشير الرقم ٤ إلى الهضبة .....
- ٥ نهر دارلنج يحمل رقم .....
- ٦ نهر ميري يحمل رقم .....
- ٧ يشير الرقم ٥ إلى جزيرة .....

ن خريطة العالم:



- ١ إقليم مناخي .....
- ٢ إقليم مناخي .....
- ٣ إقليم مناخي .....
- ٤ إقليم مناخي .....
- ٥ إقليم مناخي .....
- ٦ إقليم مناخي .....
- ٧ إقليم مناخي .....
- ٨ إقليم مناخي .....
- ٩ إقليم مناخي .....

## مراجعة الوحدة الثانية

س ١ اختر الإجابة الصحيحة مما بين القوسين:

- ١ ينتمي السكان في مصر والمغرب والجزائر الى .....  
(المجموعة الألبية - سكان حوض البحر المتوسط - النيليون الحاميون - النوردية الشمالية)
- ٢ يتمثل السكان الأصليون لدولة الولايات المتحدة الأمريكية من السلالة .....  
(الزنجية - القوقازية - المغولية - النوردية)
- ٣ يعيش السكان الذين ينتمون الى المجموعة النوردية بدول شمال قارة .....  
(آسيا - أوربا - أستراليا - إفريقيا)
- ٤ يتقارب سكان الجزر البريطانية في الصفات الجسمية الخارجية مع سكان .....  
(تونس - اليابان - جزر إندونيسيا - ألاسكا)
- ٥ تتميز ..... بالبشرة الداكنة والأنف العريض والشعر الأجدع.  
(الزنجية - القوقازية - المغولية - النوردية)
- ٦ تتركز السلالة المغولية في قارة .....  
(إفريقيا - آسيا - أوربا - أستراليا)
- ٧ البشرة البيضاء النوردية إحدى صفات .....  
(الهوتنتوت - مجموعة التنجوس - الإسكيمو - المجموعة النوردية الشمالية)
- ٨ يعد الزوج من نماذج السلالات النقية في صحراء .....  
(إريزونا - كلهارى - أتاكاما - الربع الخالي)
- ٩ السلالة الأقل نسبة في العالم هي الأكثر انتشارًا في قارة .....  
(أوربا - إفريقيا - أستراليا - آسيا)
- ١٠ أحد أقسام السلالة الزنجية .....  
(النوردية - التنجوس - الألبية - الهوتنتوت)
- ١١ تتركز في جنوب شرق آسيا السلالة .....  
(المغولية - الزنجية - المغولية - النوردية)
- ١٢ من السلالات غير النقية .....  
(الإسكيمو - العرب - الأستراليون الأصليون - الهنود الحمر)
- ١٣ الزراعة في الأمريكيتين كان لها تأثير اجتماعي سيئ على السلالة .....  
(القوقازية - النوردية - المغولية - الزنجية)

- ١٤ ينتمي سكان إنجلترا وفرنسا إلى .....
- (سكان البحر المتوسط - المجموعة النوردية - المجموعة الألبية - البانتو)
- ١٥ تمثل السلالتان الزنجية والمغولية من سكان العالم .....
- (الثالث - النصف - الثلثين - ثلاثة أرباع)
- ١٦ يجري نهر الجانج في دولة .....
- (الصين - الهند - روسيا - منغوليا)
- ١٧ تعد أكثر دول قارة آسيا سكاناً دولتا .....
- (السعودية والفلبين - الهند والصين - الهند وإندونيسيا - اليابان وتركيا)
- ١٨ تعتبر جزر الفلبين من المناطق .....
- (المتعددة - متوسطة - قليلة - مرتفعة)
- ١٩ من مناطق تركيز السكان في أمريكا الجنوبية سهول نهر .....
- (المسيبي - الأمازون - الأورينوكو - النيجر)
- ٢٠ يبلغ عدد سكان .....
- طبقاً لتقديرات ٢٠١٤ م حوالي ٧,٢ مليار نسمة.
- (إفريقيا - آسيا - أوروبا - العالم)
- ٢١ تؤثر الغابات الموسمية سلباً على توزيع السكان في .....
- (غرب أوروبا - جنوب إفريقيا - شرق أوروبا - شمال أستراليا)
- ٢٢ يتركز سكان أستراليا على السواحل .....
- حيث المدن الكبرى.
- (الشمالية - الجنوبية - الشرقية - الغربية)
- ٢٣ تعد أكثر مناطق العالم ازدحاماً بالسكان .....
- (بتاجونيا - شبه الجزيرة العربية - جزيرة جاوة - دول البرزخ)
- ٢٤ يتركز السكان في كندا بالمدن الكبرى مثل مدينة .....
- (شيكاغو - نيويورك - مونتريال - لوس أنجلوس)
- ٢٥ من أقل قارات العالم الجديد سكاناً: (آسيا - أوروبا - أمريكا الشمالية - أمريكا الجنوبية)
- ٢٦ من الدول قليلة السكان في أوروبا .....
- (ألمانيا - النرويج - بريطانيا - فرنسا)
- ٢٧ السبب الرئيسي لتجمع السكان حول نهر المسيسيبي هو .....
- (اعتدال المناخ - النشاط التعديني - خصوبة التربة - وجود المدن الصناعية الكبرى)

- ٢٨ تقع أكثر الجزر ازدحامًا بالسكان .....
- (جنوب دائرة الاستواء - جنوب مدار الجدي - شمال مدار السرطان - غرب خط جرينتش)
- ٢٩ أكبر دول قارة أمريكا الجنوبية سكانًا .....
- (الأرجنتين - كولومبيا - بوليفيا - البرازيل)
- ٣٠ يقل السكان في بعض السهول الفيضية مثل سهول نهر .....
- (اليانجتي - المسيسيبي - الفرات - الأمازون)
- ٣١ سجل أعلى معدل مواليد في العالم بقارة .....
- (آسيا - إفريقيا - أمريكا الشمالية - أمريكا الجنوبية)
- ٣٢ تصل نسبة قوة العمل في مجال الزراعة إلى ٨٠٪ في الدول .....
- (الغنية - النامية - المتقدمة - المتطورة)
- ٣٣ تعتبر دولة ..... من الدول ذات الرعاية الطبية المنخفضة.
- (السعودية - مصر - فرنسا - اثيوبيا)
- ٣٤ تصل معدلات ..... إلى ٨ أفراد في الألف على المستوى العالمي.
- (المواليد - الهجرة - الوفيات - الأمية)
- ٣٥ يتساوى معدل المواليد مع الوفيات في قارة .....
- (آسيا - إفريقيا - أستراليا - أوروبا)
- ٣٦ أقل نسب من السكان البالغين توجد في قارة .....
- (آسيا - إفريقيا - أستراليا - أوروبا)
- ٣٧ من أمثلة الدول ذات الدخل الاقتصادي فوق المتوسط .....
- (تركيا - البرازيل - أوكرانيا - الهند)
- ٣٨ الفئة العمرية التي تعتبر أساس تقدم وعمران الدول .....
- (صغار السن - المتوسطة - كبار السن - الأطفال)
- ٣٩ من الدول الصناعية ذات الدخل الاقتصادي المرتفع دول .....
- (البرازيل وبيرو - الهند وباكستان - غرب أوروبا - شرق إفريقيا)
- ٤٠ من الدول ذات الرعاية الطبية الفائقة .....
- (الإمارات - نيبال - النيجر - روسيا)

- ٤١ أقل نصيب للفرد من الدخل القومي يوجد بقارة .....  
(إفريقيا - آسيا - أوروبا - أستراليا)
- ٤٢ أقل نسبة للعاملين بالزراعة توجد بقارة .....  
(أستراليا - إفريقيا - آسيا - أمريكا الجنوبية)
- ٤٣ يصل معدل الزيادة الطبيعية إلى الصفر في قارة .....  
(إفريقيا - آسيا - أوروبا - أستراليا)
- ٤٤ يزداد عدد الأطباء بالنسبة للسكان بصورة كبيرة جداً في دولة .....  
(الأردن - النيجر - روسيا - الإمارات)

س ٢ ضع علامة (✓) أمام العبارة الصحيحة، وعلامة (X) أمام العبارة غير الصحيحة:

- ١ انتشر الإنسان في قارات العالم المختلفة في أواخر عصر البليستوسين. ( )
- ٢ سكان شمال إفريقيا ينتمون إلى السلالة الزنجية. ( )
- ٣ أكثر قارات العالم في تركيز السلالة الزنجية بها هي قارة أستراليا. ( )
- ٤ تَنَمِّي جَمَاعَةُ التَّنْجُوسِ فِي سَيِّرِيَا إِلَى السَّلَالَةِ الْمُغُولِيَّةِ. ( )
- ٥ يَخْتَلِفُ البَشَرُ فِي صِفَاتِهِمُ الوَرَائِيَّةِ تَبَعًا لِسَلَالَاتِهِمْ. ( )
- ٦ يبلغ عدد الزوج نحو ١٠٪ من جملة سكان العالم. ( )
- ٧ ينتمي سكان الصين إلى السلالة القوقازية. ( )
- ٨ أغلبية العرب ينتمون إلى السلالة الزنجية. ( )
- ٩ لا توجد دولة واحدة في العالم يتكون شعبها من سلالة واحدة. ( )
- ١٠ كان المحيط الاطلنطي بمثابة جسراً لهجرات الزوج الاجبارية قديماً. ( )
- ١١ يرجع السبب الاساسى وراء تركيز السكان بمدينة لندن الى المناخ السائد. ( )
- ١٢ يقل عدد السكان في سهول البمباس بالأرجنتين. ( )
- ١٣ يرتبط توزيع السكان في قارة أوروبا بالتقدم الحضارى. ( )
- ١٤ جزيرة اندونيسيا هي اكثر مناطق العالم ازدحاماً. ( )
- ١٥ يقل عدد السكان في دولتي فنلندا والنرويج حيث المناطق الجبلية الوعرة. ( )

- ١٦ ) يتركز سكان الولايات المتحدة الامريكية في عدة مناطق كالساحل الشمالى الشرقى. ( )
- ١٧ ) سهول سيبيريا من المناطق التي يقل بها السكان بسبب وعورة السطح. ( )
- ١٨ ) شبه الجزيرة العربية من المناطق التي يقل بها السكان. ( )
- ١٩ ) تخرج هجرات غير شرعية من آسيا تتجه معظمها الى دول اكثر تقدماً. ( )
- ٢٠ ) تعد البرازيل اكبر دول قارة أمريكا الجنوبية سكاناً. ( )
- ٢١ ) يتشابه مستوى الرعاية الطبية في كل من الأردن والامارات ونيبال. ( )
- ٢٢ ) يرتفع معدل المواليد في الدول المتقدمة. ( )
- ٢٣ ) تعتبر روسيا من الدول ذات الرعاية الطبية المنخفضة. ( )
- ٢٤ ) ترتفع نسبة فئة صغار السن في معظم دول قارة إفريقيا. ( )
- ٢٥ ) تنتمى مصر الى الدول ذات الدخل الاقتصادى اقل من المتوسط. ( )
- ٢٦ ) الدول ذات الاقتصاد المرتفع تعتمد على النشاط الصناعى. ( )
- ٢٧ ) ترتفع نسبة الزيادة الطبيعية للسكان في مصر. ( )
- ٢٨ ) اعلى نسبة من السكان البالغين توجد في دول غرب أوروبا. ( )
- ٢٩ ) تعد مصر والمغرب من الدول ذات الرعاية الطبية الفائقة. ( )
- ٣٠ ) تعتبر قارة أمريكا الشمالية اقل قارات العالم في نسبة الوفيات. ( )
- ٣١ ) تتنوع الحياة النباتية في إقليم المناخ الجبلى. ( )
- ٣٢ ) يختلف الإقليم المعتدل البارد شرق القارات في نصف الكرة الأرضية الشمالى. ( )
- ٣٣ ) يتعرض إقليم مناخ غرب أوروبا لعواصف مدارية مثل التيفون. ( )

س ٣ اكتب ما تشير إليه كل عبارة فيما يلي:

- ١ ) مجموعة بشرية تتشابه في صفاتها الجسمية الخارجية. (.....)
- ٢ ) سلالة بشرية يمثلون ٧٠% من قارة إفريقيا ويتميزون بالبشرة الداكنة. (.....)
- ٣ ) سلالة بشرية تشمل معظم سكان الصين وجنوب شرق آسيا. (.....)
- ٤ ) سلالة بشرية من اقسامها الالبية والنوردية والبحر المتوسط. (.....)

٥ الهجرات الخارجية التي تتم من خلال وسائل غير قانونية والهروب من الحدود.

(.....)

٦ من المدن الكبرى التي يتركز بها السكان بأستراليا.

(.....)

٧ هضبة يقل بها السكان في جنوب أمريكا الجنوبية.

(.....)

٨ علم دراسة السكان من حيث النمو والتوزيع والتركيبة السكاني.

(.....)

٩ فئة عمرية تضم الرضع والأطفال وتقل أعمارها عن 15 عامًا.

(.....)

١٠ دولة إفريقية ذات رعاية طبية مرتفعة.

(.....)

١١ عدد الأفراد في سن العمل والقادرين عليه والذين يعملون فعلياً أو يبحثون عن عمل.

(.....)

١٢ نتائج الفرق بين معدل المواليد ومعدل الوفيات.

(.....)

١٣ دراسة عدد ونسبة كل مجموعة من سكان منطقة ما وفقاً لفئات عمرية محددة.

(.....)

١٤ قارة من قارات العالم القديم بها أعلى معدلات للزيادة الطبيعية.

(.....)

١٥ دولة بأمريكا الجنوبية ذات دخل اقتصادي أقل من المتوسط.

(.....)

#### س ٤ صوّب ما تحته خط فيما يلي:

١ تعيش **جماعة التنجوس** في شمال كندا وآلاسكا.

(.....)

٢ يعد مضيق بيرنج معبراً للتواصل بين أبناء **السلالة النوردية**.

(.....)

٣ تعرضت **السلالة المغولية** للهجرات الإجبارية للأمريكيتين.

(.....)

٤ تنتمي جماعة النيليون الحاميون إلى **السلالة القوقازية**.

(.....)

٥ ينتمي معظم العرب إلى **السلالة الزنجية**.

(.....)

٦ يقل السكان في المناطق الصحراوية مثل منطقة الصحراء الكبرى في قارة **آسيا**.

(.....)

٧ تعد دولتا **السودان واليابان** أكبر دولتين في العالم من حيث عدد السكان.

(.....)

٨ تعد قارة **أمريكا الشمالية** أكبر قارات العالم من حيث السكان.

(.....)

٩ أكبر دول أمريكا الجنوبية سكاناً هي دولة **الأرجنتين**.

(.....)

- ١٠ يقل السكان في أمريكا الشمالية في دول البرزخ مثل **المكسيك**. (.....)
- ١١ يتركز سكان المكسيك في المدن الرئيسية خاصة مدينة **مونتريال**. (.....)
- ١٢ يقل السكان في شبه الجزيرة العربية بسبب **وعورة السطح**. (.....)
- ١٣ من المناطق التي يتركز بها السكان في الأرجنتين سهول **الأورينوكو**. (.....)
- ١٤ تتميز قارة **أوروبا** بمعدل مواليد مرتفع. (.....)
- ١٥ تعتمد بعض الدول في قارة أوروبا على التصنيع النامي مثل **ألمانيا**. (.....)
- ١٦ تعد هايتي من الدول ذات الدخل الاقتصادي **فوق المتوسط**. (.....)
- ١٧ تتميز دولة **الصومال** بارتفاع نصيب الفرد من الدخل القومي. (.....)
- ١٨ العلم الذي يعني دراسة السكان ونموهم وتوزيعهم هو علم **الجغرافيا**. (.....)
- ١٩ الإمارات العربية المتحدة من الدول ذات الرعاية الطبية **الفائقة**. (.....)
- ٢٠ دولة **مصر** من الدول النامية التي تصل نسبة العاملين بالزراعة لـ ٨٠%. (.....)

س ٥ أجب عن الأسئلة التالية:

١ **بم تفسر:** نشأة السلالات البشرية المختلفة؟

٢ **دلل:** عدم وجود سلالة نقية في الوقت الحاضر إلا في المجتمعات البدائية.

٣ **ما النتائج المترتبة على:** إنشاء الأوربيين مزارع القطن وقصب السكر في الماضي بالأمريكتين.

٤ **ما المقصود بـ:** السلالة البشرية؟

٥ **بم تفسر:** زيادة نسبة السلالة المغولية عن ٤٠٪ من سكان العالم؟

٦ **أعط مثالاً:** لا توجد دولة في العالم يتكون شعبها من سلالة واحدة.

٧ **قارن بين:** السلالة الزنجية والسلالة القوقازية من حيث المميزات.

المقارنة	السلالة الزنجية	السلالة القوقازية
المميزات	.....	.....

٨ **دَلِّ:** توجد سلالات نقية في قارتي إفريقيا وأمريكا الجنوبية.

٩ **بِمَ تفسر:** اختلاف سكان العالم في صفاتهم الجسمية الخارجية؟

١٠ **حدِّد المختلف مع ذكر السبب:** الهنود الحمر - الأفزام - البانتو - البوشمن والهوتنتوت.

١١ **ما العلاقة بين:** الهجرات الإجبارية القسرية للزواج والنشاط الاقتصادي للأمريكيتين؟

١٢ **حدد السلالة البشرية المنتشرة في كل منطقة من المناطق الآتية :**

(١) شمال كندا وآلاسكا ..... (٢) سيبيريا واليابان .....

(٣) غرب ووسط أوروبا ..... (٤) شمال الصحراء الكبرى .....

(٥) المناطق الاستوائية بإفريقيا .....

(٦) جنوب شرق آسيا ..... (٧) دول شمال أوروبا .....

(٨) منغوليا .....

١٣ **دَلِّ:** تعد آسيا أكبر قارات العالم سكاناً.

١٤ **ما النتائج المترتبة على:** زيادة السكان في معظم دول قارة آسيا؟

١٥ **ما المقصود بـ:** الهجرات الغير شرعية؟

١٦ **دَلِّ:** يؤثر المناخ في توزيع سكان قارة إفريقيا.

١٧ **بم تفسر:** يتركز سكان العالم في المدن الكبرى؟

١٨ **ما النتائج المترتبة على:** وقوع قارة إنتركيتيكا أقصى جنوب الكرة الأرضية (بالنسبة لتوزيع السكان).

١٩ **ما العلاقة بين:** التضاريس وتوزيع السكان في قارة آسيا.

٢٠ **أيد بالأدلة الجغرافية:** توجد علاقة بين قلة السكان وكل من الحرارة والتضاريس بقارة أوروبا.

٢١ **بم تفسر:** يتركز السكان في منطقة البحيرات العظمى بالولايات المتحدة الأمريكية.

٢٢ **بم تفسر:** قلة عدد السكان في المناطق الشمالية لقارة أوروبا.

٢٣ **في أي المناطق التالية يتركز بها السكان وأيها يقل بها السكان؟ مع ذكر السبب :**

• سهول لابلاتا:

• غرب أستراليا:

• مدينة لندن:

٢٤ **ما المقصود بـ:** ديموجرافيا؟

٢٥ **بم تفسر:** ارتفاع معدلات المواليد في قارة إفريقيا بشكل كبير؟

٢٦ **بم تفسر:** تقل معدلات الزيادة الطبيعية في الدول المتقدمة؟

٢٧ **ما النتائج:** ارتفاع نسبة صغار السن في الدول النامية؟

٢٨ **دلل** : يقل مستوى السكن والتغذية والخدمات الصحية في معدلات الوفيات بالعالم.

٢٩ **ما المقصود بالزيادة الطبيعية؟**

٣٠ **بم تفسر**: تختلف الخصائص الاقتصادية لسكان العالم؟

٣١ **أعط تفسيرا**: زيادة عدد كبار السن في الدول المتقدمة.

٣٢ **ما النتائج**: التقدم الصناعي في قارة أوروبا؟

٣٣ **دلل**: تضاريس القارة الإفريقية لها تأثير كبير في توزيع السكان بقارة إفريقيا.

٣٤ **بم تفسر**: يتركز السكان في أستراليا على السواحل الشرقية؟

٣٥ **ما مدى مصداقية العبارة**: يقل عدد السكان في غرب وشمال أستراليا؟

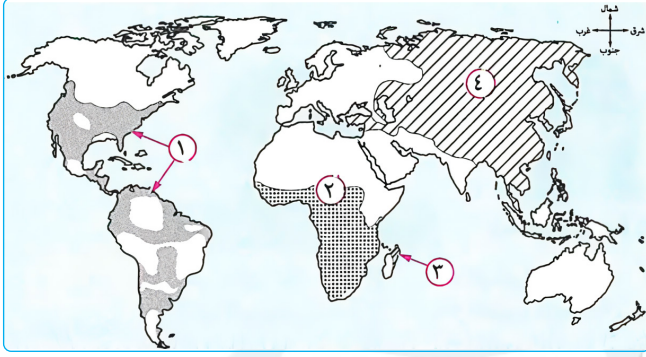
٣٦ **رتب القارات التالية من الأقل سكاناً إلى الأكثر سكاناً**:

(أمريكا الجنوبية - آسيا - أوروبا - أمريكا الشمالية)

٣٧ **صنف الدول التالية من حيث الدخل الاقتصادي**:

- |                    |                             |
|--------------------|-----------------------------|
| ..... (١) الكونغو  | ..... (٢) دول شرق أوروبا    |
| ..... (٣) مصر      | ..... (٤) دول الخليج العربي |
| ..... (٥) أوكرانيا | ..... (٦) باكستان           |
| ..... (٧) المكسيك  |                             |

س ٦ أمامك خريطة صماء اكتب مدلول الأرقام عليها:



- أ
- ١ رقم ١ يمثل السلالة .....
  - ٢ السلالة المغولية يمثلها
  - الرقمين ..... و .....
  - ٣ السلالة الزنجية يمثلها
  - الرقم .....



- ب
- ١ السلالة المغولية يمثلها
  - رقم .....
  - ٢ السلالة الزنجية يمثلها
  - الرقم .....
  - ٣ السلالة القوقازية يمثلها
  - الرقم .....

ج قارة أوروبا:



- ١ منطقة تركيز سكاني .....
- ٢ منطقة تركيز سكاني .....
- ٣ منطقة تركيز سكاني .....
- ٤ منطقة يقل بها السكان .....
- ٥ منطقة يقل بها السكان .....
- ٦ منطقة يقل بها السكان .....

١ ٥ يتركز السكان



بسهول نهر .....

٢ السلالة البشرية

السائدة .....

٣ منطقة يقل بها

السكان .....

٤ منطقة تضاريسية يقل

بها السكان .....

١ ٥ أقل قارات العالم في معدلات المواليد يمثلها الرقم .....

٢ يمثل الرقم .....

٣ يشير الرقم .....

لعام ٢٠١٤م.

٤ يشير الرقم .....

إلى أكثر من ٩٥٪

٥ يمثل رقم ٢ قارة ذات رعاية طبية فائقة وهي .....

٦ يشير الرقم .....

٧ القارة التي يوجد بها أعلى نصيب من الدخل القومي يمثلها الرقم .....



## مراجعة على الوحدة الثالثة

س ١ اختر الإجابة الصحيحة مما بين القوسين:

- ١ تحطم الأسطول المملوكي عام ١٥٠٩م في معركة .....  
(مرج دابق - الريدانية - ديو - جالديران)
- ٢ أعلن السلطان سليم الأول الحرب على المماليك عندما استولى على إمارة .....  
(حمص - حلب - ذي القادر - دمشق)
- ٣ عانت الدولة المملوكية أواخر القرن الـ ١٥م من أزمات اقتصادية  
مع انهيار النشاط .....  
(الزراعي - الصناعي - التجاري - الرعوي)
- ٤ اتسمت الحياة الفكرية والثقافية في مصر خلال الحكم العثماني بـ .....  
(التقدم - الازدهار - الجمود - التطور)
- ٥ أي مما يلي كان خارج سيطرة الدولة المملوكية قبل الصدام مع العثمانيين؟ .....  
(حلب - دمشق - مكة - تبريز)
- ٦ انتقلت خلافة العالم الإسلامي إلى الدولة العثمانية بعد معركة .....  
(ديو البحرية - جالديران - مرج دابق - الريدانية)
- ٧ فشلت حركة علي بك الكبير وعادت مصر ولاية عثمانية تحت حكم .....  
(محمد بك أبو الذهب - الشيخ ظاهر العمر - محمد كريم - محمد بك الألفي)
- ٨ كان ..... سبباً مشتركاً في تدهور الصناعة والتجارة في مصر أثناء حكم العثمانيين.  
(تعسف الملتزمين - تدهور الزراعة - إهمال الطرق - الكشف الجغرافية)
- ٩ ضمت الطبقة الوسطى من المجتمع المصري أثناء الحكم العثماني .....  
(الأتراك - المماليك - كبار التجار - الفلاحين)
- ١٠ سيطرت عناصر ..... على حكم الأقاليم في العهد العثماني.  
(الأتراك - الشركاسة - المماليك)
- ١١ تغيرت تبعية مصر السياسية بعد معركة .....  
(جالديران - مرج دابق - الريدانية - ديو)
- ١٢ استفادت عاصمة الدولة العثمانية اقتصادياً بشكل مباشر من خبرات المصريين .....  
(الزراعية - الصناعية - التجارية - السياسية)

- ١٣ كانت معركة مرج دابق ١٥١٦م بالنسبة للدولة المملوكية ذات أهداف.....  
(هجومية - دفاعية - اقتصادية - توسعية)
- ١٤ استعان بهم السلطان العثماني في تولي شئون الإدارة المحلية في مصر.....  
(الأتراك - المصريون - المماليك - الشركاسة)
- ١٥ استولى..... على إمارة ذي القادر المملوكية أوائل القرن الـ ١٦م.  
(السلطان الغوري - طومان باي - سليم الأول - ظاهر العمر)
- ١٦ أول من تصدى للحملة الفرنسية على مصر.....  
(المماليك - العثمانيون - الإنجليز - المصريون)
- ١٧ فر مراد بك بعد هزيمته من الفرنسيين في معركة إمبابة إلى.....  
(الشرقية - الإسكندرية - الصعيد - الشام)
- ١٨ بدأ التنافس الاستعماري بين إنجلترا وفرنسا في القرن الـ.....  
(١٥ - ١٦ - ١٧ - ١٨)
- ١٩ واجه أهالي الإسكندرية الحملة الفرنسية ١٧٩٨م بزعامة.....  
(خورشيد باشا - عمر مكرم - محمد كريم - خسرو باشا)
- ٢٠ تعد الحملة الفرنسية جزءاً من التنافس بين إنجلترا وفرنسا على.....  
(طرق التجارة الخارجية - المستعمرات - المناصب العليا - ضرب التجارة العثمانية)
- ٢١ ترك نابليون الحملة في مصر لنائبه..... وعاد لفرنسا.  
(مينو - كليبر - ديبيوي - نلسون)
- ٢٢ قامت ثورة القاهرة الأولى ضد القائد الفرنسي.....  
(نابليون - كليبر - مينو - نلسون)
- ٢٣ فشل نابليون في فتح عكا بسبب مقاومة أهلها بقيادة.....  
(أحمد باشا الجزار - مراد بك - سليمان الحلبي - محمد بك الألفي)
- ٢٤ رحل نابليون سراً بعد معركة.....  
(أبي قير البحرية - أبي قير البرية - شبراخيت - إمبابة)
- ٢٥ ترتب على اكتشاف حجر رشيد.....  
(التعرف على التاريخ المصري القديم - إعداد كتاب وصف مصر - توجيه أنظار إنجلترا نحو مصر - إنشاء المجمع العلمي المصري)

- ٣٦ ربط الوالي العثماني مصيره بمصير المماليك بعد معركة .....
- (أبي قير البرية - إمبابة - شبراخيت - أبي قير البحرية)
- ٣٧ حدث فراغ سياسي في حكم مصر بعد معركة .....
- (أبي قير البرية - إمبابة - شبراخيت - أبي قير البحرية)
- ٣٨ منذ اليوم الأول للحملة الفرنسية أعلن نابليون بونابرت بكل صراحة
- أنه جاء لمحاربة .....
- (الأتراك - المصريين - المماليك - إنجلترا)
- ٣٩ من نتائج هزيمة المماليك في موقعة إمبابة فرار مراد بك إلى جهة .....
- (الشمال - الجنوب - الشرق - الغرب)
- ٣٠ «الانتصار أو الموت لا مكان للاستسلام» شعار رفعته .....
- بعد مذبحة يافا.
- (القاهرة - الأستانة - عكا - تبريز)
- ٣١ العامل المشترك لقيام المصريين بالثورات ضد الولاة العثمانيين
- وزعماء المماليك هو .....
- سلسلة كتب الاستعاز
- (فرض الضرائب - اضطهاد الزعامة الشعبية - النزاع على السلطة - المطالبة بالاستقلال)
- ٣٢ أصدر السلطان العثماني فرماناً عام ١٨٠٦م بنقل محمد علي إلى .....
- (قولة - سالونيك - المورة - دمشق)
- ٣٣ نفي عمر مكرم عام ١٨٠٩م إلى مدينة .....
- (دمياط - الإسكندرية - أسوان - رشيد)
- ٣٤ قام محمد علي أثناء ثورة الشعب المصري ١٨٠٤م باقتراح تعيين .....
- والياً على مصر.
- (محمد بك الألفي - عمر مكرم - خورشيد باشا - محمد بك أبو الذهب)
- ٣٥ سعت بريطانيا في مطلع القرن التاسع عشر إلى تولية حكم مصر
- لحلفائها من .....
- (المماليك - المصريين - العثمانيين - الفرنسيين)
- ٣٦ ازدادت أحوال مصر سوءاً خلال الفترة من ١٨٠١ إلى ١٨٠٥م بسبب .....
- (ظهور شخصية محمد علي - الأزمات الاقتصادية المتتالية - تدخل الزعامة الشعبية في السياسة - الصراع على السلطة)
- ٣٧ حاولت إنجلترا عزل محمد علي بطرق .....
- (سياسية واقتصادية - اجتماعية - سياسية وعسكرية - عسكرية واقتصادية)
- ٣٨ كان عزل خورشيد باشا وتعيين محمد علي عام ١٨٠٥م انتصاراً لإرادة .....
- (العثمانيين - المماليك - المصريين - الإنجليز)

- ٣٩ لولا موقف الزعامة الشعبية من فرمان ١٨٠٦م لأصبح محمد علي والياً في قارة.....  
(آسيا - إفريقيا - أوروبا - أستراليا)
- ٤٠ تخلص محمد علي من ..... في مذبحه القلعة.  
(الزعامة الشعبية - المماليك - الأتراك - خورشيد)
- ٤١ أسهم رفاة الطهطاوي وعلي مبارك بعد عودتهما من أوروبا في استمرار النهضة.....  
(العسكرية - الثقافية - السياسية - الاقتصادية)
- ٤٢ قام محمد علي بتشديد المطبعة الأميرية في.....  
(الإسكندرية - أسوان - بولاق - القلعة)
- ٤٣ ارتفعت مكانة مصر دولياً بعد حروب محمد علي في.....  
(اليونان - الشام - شبه الجزيرة العربية - السودان)
- ٤٤ تضمن الفرمان الثاني لعام ١٨٤١م ولاية محمد علي على.....  
(مصر - السودان - الشام - شبه الجزيرة العربية)
- ٤٥ من أبرز أعضاء البعثات العلمية إلى أوروبا.....  
(علي بك الكبير - محمد عبيد - رفاة الطهطاوي - علي زيور)
- ٤٦ توترت العلاقة بين محمد علي والسلطان العثماني بعد حروب.....  
(الجزيرة - السودان - الشام - المورة)
- ٤٧ بدأ محمد علي بتجنيد.....  
(المصريين - السودانيين - المماليك - العثمانيين)
- ٤٨ زادت فكرة استقلال محمد علي عن الدولة العثمانية بعد.....  
(سيطرته على شبه الجزيرة العربية - حروبه بالشام - تنظيمه للإدارة بمصر - حروبه باليونان)
- ٤٩ كان مقر الحكومة المركزية في مصر أثناء حكم محمد علي في مدينة.....  
(الإسكندرية - القاهرة - الجيزة - أسوان)
- ٥٠ كان هدف محمد علي من جمع الصبية هو إلحاقهم ب.....  
(المجال الزراعي - المجال الصناعي - المجال التجاري - البعثات التعليمية)

س ٢ ضع علامة (✓) أمام العبارة الصحيحة، وعلامة (X) أمام العبارة غير الصحيحة:

- ١ تعرضت دولة المماليك لتدهور اقتصادي نتيجة لاكتشاف طريق رأس الرجاء الصالح. ( )
- ٢ انتهى الصدام بين الدولتين الصفوية والعثمانية بهزيمة السلطان سليم الأول. ( )
- ٣ «الاتحاد قوة» يصعب تطبيق هذه المقولة في مطلع القرن الـ ١٦م على المماليك. ( )
- ٤ تجنب السلطان العثماني سليم الأول الصدام مع الدول الأوروبية. ( )

- ٥ هزمت جيوش طومان باي في موقعة مرج دابق. ( )
- ٦ كان الحكم العثماني نكبة حضارية واقتصادية على مصر. ( )
- ٧ تم زراعة الأرض في بداية الحكم العثماني عن طريق الالتزام. ( )
- ٨ اتسمت الحياة الفكرية والثقافية في مصر خلال حكم العثمانيين بالتطور والازدهار. ( )
- ٩ حمل نظام الحكم العثماني في ثنياه عوامل ضعفه. ( )
- ١٠ تراوحت مدة بقاء الوالي العثماني في مصر ما بين سنة إلى ثلاث سنوات. ( )
- ١١ انهزم الفرنسيون أمام المماليك في معركة شبراخيت. ( )
- ١٢ اقتصرت مقاومة المصريين للحملة الفرنسية على الوجه البحري. ( )
- ١٣ سهلت مذبحه يافا البشرية التي ارتكبها نابليون السيطرة على عكا. ( )
- ١٤ تعد الحملة الفرنسية على مصر والشام جزءاً من التنافس الاستعماري بين إنجلترا وفرنسا. ( )
- ١٥ استخدم المماليك الأسلحة الحديثة في مواجهة القوات الفرنسية. ( )
- ١٦ أيقظت الحملة الفرنسية على مصر الروح القومية لدى المصريين. ( )
- ١٧ توقفت حركة التجارة الخارجية لمصر نتيجة موقعة أبي قير البحرية. ( )
- ١٨ وافقت الحكومة البريطانية على اتفاقية العريش عام ١٨٠٠م. ( )
- ١٩ حققت الحملة الفرنسية أهدافها الاستعمارية في مصر. ( )
- ٢٠ كان أول لقاء للمماليك بالحملة الفرنسية في مدينة الإسكندرية. ( )
- ٢١ كانت ثورة الشعب المصري عام ١٨٠٤م مكسباً سياسياً لمحمد علي. ( )
- ٢٢ سعت بريطانيا لتولية محمد بك أبو الذهب بدلاً من محمد علي. ( )
- ٢٣ يعد تولي محمد علي حكم مصر حدثاً مهماً في تاريخ مصر الحديث. ( )
- ٢٤ شهدت مصر حالة من الاستقرار السياسي عقب خروج الحملة الفرنسية. ( )
- ٢٥ جاهر السلطان العثماني بالانضمام إلى العلماء والمشايخ بعد ثورة ١٨٠٤م. ( )
- ٢٦ تحمل المصريون عبء مقاومة حملة فريزر ١٨٠٧م. ( )
- ٢٧ اتخذت إنجلترا موقفاً عدائياً من محمد علي منذ توليه حكم مصر. ( )
- ٢٨ قام محمد علي بنفي عمر مكرم إلى رشيد عام ١٨٠٩م. ( )
- ٢٩ ظهرت أطماع إنجلترا في مصر عقب خروج الحملة الفرنسية. ( )
- ٣٠ رفض السلطان العثماني طلب بريطانيا نقل محمد علي من ولاية مصر. ( )
- ٣١ طبق محمد علي نظام الاحتكار ليتمكن من منافسة الدول الأوروبية في سوق التجارة الدولية. ( )

- ٣٢ من أبرز أعضاء البعثات العلمية علي مبارك. ( )
- ٣٣ قام محمد علي بجمع الصبية للعمل بدون مقابل في مصانع الدولة. ( )
- ٣٤ أصدر محمد علي صحيفة الوقائع المصرية. ( )
- ٣٥ زادت قبضة الحكومة المصرية على الأنشطة الاقتصادية خلال حكم محمد علي. ( )
- ٣٦ من شروط معاهدة لندن تثبيت حكم محمد علي على السودان. ( )
- ٣٧ بسبب فرمان ١٨٤١م أصبح حكم مصر ديمقراطياً. ( )
- ٣٨ قسم محمد علي مصر إدارياً إلى سبع مديريات. ( )
- ٣٩ اختلفت طبقة الحكام في مصر قبل مجيء الحملة الفرنسية وبعد تولية محمد علي. ( )
- ٤٠ الاهتمام بالجيش كان محور سياسة محمد علي الإصلاحية. ( )
- س ٣ اكتب ما تشير إليه كل عبارة مما يلي:

- ١ انتفاع الفلاح بزراعة الأرض وليس له حق التصرف فيها. (.....)
- ٢ العاصمة التي دخلها السلطان سليم الأول عقب انتصاره في معركة جالديران. (.....)
- ٣ طريق بحري يوصل بين الشرق والغرب عن طريق الدوران حول إفريقيا. (.....)
- ٤ معركة انتهت بعدها دولة المماليك في مصر عام ١٥١٧م. (.....)
- ٥ إمارة بادر السلطان سليم الأول بالاستيلاء عليها. (.....)
- ٦ رفض الشعوب للاحتلال بمظاهرة ودفعه عن البلاد بمختلف الوسائل. (.....)
- ٧ رحيل قوات الاحتلال عن البلد المحتل. (.....)
- ٨ اتفاقية عقدت بين الفرنسيين والعثمانيين عام ١٨٠٠م ورفضها الإنجليز. (.....)
- ٩ فئة من المصريين استهدفها نابليون لتدريبهم على نظام مجالس الشورى. (.....)
- ١٠ أمر سلطاني يصدر من قبل سلطان الدولة العثمانية واجب التنفيذ. (.....)
- ١١ مكان اجتمع فيه زعماء الشعب المصري وقرروا عزل خورشيد وتولية محمد علي. (.....)
- ١٢ نظام تقوم فيه الحكومة متمثلة في محمد علي بتحديد نوع الغلات التي تزرع ونوع (.....)
- المصنوعات التي تنتج وتحديد أثمان شرائها وأثمان بيعها في السوق. (.....)
- ١٣ من المنشآت التي أنشأها محمد علي على نهر النيل لتحسين طرق الري. (.....)
- ١٤ اتجه محمد علي لتجنيدهم وأثبتوا كفاءتهم في ميادين القتال الخارجية. (.....)
- ١٥ حروب خاضها محمد علي للقضاء على الحركة الوهابية بها. (.....)

- ١ كانت مدينة تبريز عاصمة الدولة المملوكية. (.....)
- ٢ تمكن السلطان سليم الأول من هزيمة الصفويين في معركة ديو البحرية. (.....)
- ٣ قاد القوات المملوكية التي هزمت خارج مصر ١٥١٦م السلطان طومان باي. (.....)
- ٤ أصبحت مصر ولاية عثمانية بعد هزيمة المماليك في معركة مرج دابق. (.....)
- ٥ لإخضاع الحجاز لنفوذ تحالف علي بك الكبير مع محمد بك أبو الذهب. (.....)
- ٦ زيادة سلطة الديوان والحامية العسكرية من عوامل قوة الحكم العثماني. (.....)
- ٧ خضعت مصر للحكم العثماني إلى ما يقرب من ثمانية قرون متتالية. (.....)
- ٨ تدهورت أوروبا حضارياً وعسكرياً أثناء حكم العثمانيين لمصر. (.....)
- ٩ اقتصر التعليم في مصر زمن حكم العثمانيين على العلوم العقلية. (.....)
- ١٠ كان العلماء وكبار التجار يمثلون الطبقة الدنيا في مصر العثمانية. (.....)
- ١١ أرسل العثمانيون أمهر الصناع المصريين إلى دمشق عاصمة الدولة العثمانية. (.....)
- ١٢ كان كليبر ينوي الإقامة في مصر وتحويلها إلى مستعمرة فرنسية. (.....)
- ١٣ بدأت أول مقاومة للحملة الفرنسية على مصر عند دخول نابليون دمياط. (.....)
- ١٤ نتيجة ثورة القاهرة الثانية ١٨٠٠ دمر الفرنسيون حي العباسية. (.....)
- ١٥ تفاوض كليبر مع الحكومة البريطانية في اتفاقية العريش ١٨٠٠م. (.....)
- ١٦ جاءت الحملة الفرنسية على مصر لقطع الطريق بين إنجلترا ومستعمراتها في المغرب. (.....)
- ١٧ شعر الجنود الفرنسيون أنهم محاصرون في مصر نتيجة ثورة القاهرة الأولى. (.....)
- ١٨ تمكن محمد علي من الانفراد تماماً بحكم البلاد بعد التخلص من الجنود الألبان. (.....)
- ١٩ تخلص محمد علي من الزعامة الشعبية في مذبحه القلعة. (.....)
- ٢٠ أصدر السلطان العثماني فرماناً عام ١٨٠٦م بنقل محمد علي إلى قولة. (.....)
- ٢١ نظم محمد علي الاقتصاد المصري على أساس نظام الالتزام. (.....)
- ٢٢ أنشأ خورشيد باشا القناطر على نهر النيل. (.....)
- ٢٣ أنشأ محمد علي المطبعة الأميرية في القلعة. (.....)
- ٢٤ تضمن إحدى فرامني ١٨٤١م ولاية محمد علي لحكم الشام. (.....)
- ٢٥ تعرف حروب محمد علي في بلاد الشام بالحروب الوهابية. (.....)

## س ٥ لَمَنْ تُنسب الأعمال التالية...؟

- ١ قام بهزيمة الدولة الصفوية والمملوكية لتوسيع الدولة العثمانية. (.....)
- ٢ قائد المماليك في معركة مرج دابق عام ١٥١٦م في بلاد الشام. (.....)
- ٣ قاد المماليك في معركة الريدانية عام ١٥١٧م في مصر. (.....)
- ٤ استقل بحكم مصر وصار الحاكم الفعلي للبلاد عام ١٧٦٨م. (.....)
- ٥ نائب علي بك الكبير الذي أرسله لغزو الشام واستطاع دخول دمشق. (.....)
- ٦ حاكم جنوب الشام الذي تحالف مع علي بك الكبير في حركته الاستقلالية. (.....)
- ٧ حاكم الإسكندرية الذي تصدى للحملة الفرنسية قبل أن تصل قوات المماليك. (.....)
- ٨ فر إلى الصعيد بعد معركة إمبابة عام ١٧٩٨م. (.....)
- ٩ فر مع الوالي العثماني إلى الشام بعد معركة إمبابة عام ١٧٩٨م. (.....)
- ١٠ قائد الأسطول الإنجليزي في موقعة أبي قير البحرية أغسطس ١٧٩٨م. (.....)
- ١١ قائد الحملة الفرنسية التي جاءت إلى مصر عام ١٧٩٨م. (.....)
- ١٢ حاكم مدينة القاهرة الفرنسي الذي قتل في أحداث ثورة القاهرة الأولى. (.....)
- ١٣ قاد ثورة القاهرة الثانية ضد الاحتلال الفرنسي مارس ١٨٠٠م. (.....)
- ١٤ تولى أمر الحملة الفرنسية بعد مقتل كليبر. (.....)
- ١٥ أنشأ الديوان العام ودواوين الأقاليم وديوان القاهرة. (.....)
- ١٦ كان السبب في إقناع الحكومة الفرنسية بإرسال حملة عسكرية إلى مصر. (.....)
- ١٧ خشي أن تصيب ثورة الشعب جنوده فانضم للعلماء والمشايخ. (.....)
- ١٨ قامت بريطانيا بإقناع السلطان العثماني بتوليته بدلاً من محمد علي. (.....)
- ١٩ قام محمد علي بنفيه عام ١٨٠٩م إلى دمياط. (.....)
- ٢٠ من أعضاء البعثات العلمية التي أرسلها محمد علي إلى أوروبا. (.....)
- ٢١ أشهر ضباط جيش نابليون استقدم للمدارس العسكرية التي أنشأها محمد علي. (.....)
- ٢٢ قام محمد علي بتجنيدهم في بداية الأمر. (.....)

س ٦ أجب عن الأسئلة التالية:

١ **بم تفسر:** تعرض دولة المماليك للتدهور الاقتصادي منذ أواخر القرن الـ ١٥م؟

.....

٢ **بم تفسر:** اتجاه العثمانيين نحو مصر والشام؟

.....

٣ **ماذا كان يحدث إذا:** لم يتم تحطيم الأسطول المملوكي في ١٩٠٥م؟

.....

٤ **ما النتائج المترتبة على:** هزيمة الجيوش المملوكية أمام العثمانيين؟

.....

٥ **حدّد أوجه الشبه والاختلاف بين:** معركة مرج دابق ١٥١٦م ومعركة الريدانية ١٥١٧م.

مقارنة	معركة مرج دابق	معركة الريدانية
أوجه الشبه	.....	.....
أوجه الاختلاف	.....	.....

٦ **دّل تاريخياً على:** معاناة الفلاح المصري أثناء الحكم العثماني للبلاد.

.....

٧ **ما رأيك في:** إرسال أمير الصناع المصريين إلى الأستانة أثناء الحكم العثماني؟

.....

٨ **بم تفسر:** تدهور التجارة الخارجية لمصر أثناء الحكم العثماني؟

.....

٩ **دّل:** معاناة صغار الحرفيين في مصر أثناء الحكم العثماني.

.....

١٠ **ما النتائج المترتبة على:** فشل حركة علي بك الكبير الاستقلالية بمصر؟

.....

١١ **بم تفسر:** اتسمت الحياة الفكرية والثقافية في مصر بالجمود والتخلف في ظل الحكم العثماني؟

.....

١٢ ماذا كان يحدث إذا: انتصر طومان باي في معركة الريدانية ١٥١٧م؟

.....

١٣ حدّد العلاقة بين: محمد بك أبو الذهب وعلي بك الكبير.

.....

١٤ ما نتائج: تطبيق الالتزام في مصر منتصف القرن السابع عشر الميلادي؟

.....

١٥ ما المقصود بـ: الانتفاع؟

.....

١٦ بمّ تفسر: مجيء الحملة الفرنسية إلى مصر ١٧٩٨م؟

.....

١٧ ما نتائج: ثورة القاهرة الأولى أكتوبر ١٧٩٨م؟

.....

١٨ رتّب الأحداث التاريخية من القديم إلى الحديث:

(الحملة الفرنسية على الشام - موقعة شبراخيت - ثورة القاهرة الثانية - اتفاقية العريش)

.....

١٩ قارن بين: دور عمر مكرم ومحمد كريم في مواجهة الاحتلال الفرنسي.

دور عمر مكرم في مواجهة الاحتلال الفرنسي	دور محمد كريم في مواجهة الاحتلال الفرنسي
.....	.....
.....	.....

٢٠ دلّل تاريخياً: فتحت الحملة الفرنسية أسرار الحضارة المصرية القديمة.

.....

٢١ بمّ تفسر: فشل نابليون في دخول عكا؟

.....

٢٢ ما النتائج المترتبة على: معركة إمبابة في يوليو ١٧٩٨م؟

.....

٢٣ ما العلاقة بين: الحملة الفرنسية والروح القومية للمصريين؟

.....

٣٤ **بمّ تفسر:** اصطحاب نابليون في حملته على مصر مجموعة من العلماء؟

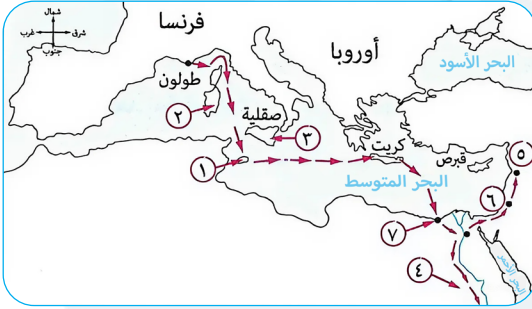
٣٥ **بمّ تفسر:** رحيل نابليون سرّاً إلى فرنسا؟

٣٦ **دَلّ تاريخياً:** كان لرفض إنجلترا اتفاقية العريش آثار عسكرية سلبية على العثمانيين.

٣٧ **استنتج السبب:** خلو القاهرة من أية قوة للدفاع عنها ضد الحملة الفرنسية يوليو ١٧٩٨ م.

٣٨ **ما العلاقة بين:** معركة أبي قير البحرية وثورة القاهرة الأولى؟

٣٩ **من الخريطة المقابلة استنتج:**



(١) يشير الرقم ٤ إلى منطقة أخفق نابليون

في إخضاعها بمصر وهي .....

(٢) يشير الرقم ..... إلى مدينة أعدم

نابليون جميع حاميتها.

(٣) يشير الرقم ..... إلى أول مدينة استولى

عليها نابليون في مصر.

٣٠ **أيدّ بالأدلة التاريخية:** ساهمت بريطانيا في فشل الحملة الفرنسية على الشام.

٣١ **ما المقصود بـ:** الفرمان؟

٣٢ **بمّ تفسر:** حملة فريزر على مصر عام ١٨٠٧ م؟

٣٣ **رتّب الأحداث التاريخية التالية من الحديث إلى القديم:**

(حملة فريزر - خروج الحملة الفرنسية من مصر - تولية محمد علي -

ثورة مارس ١٨٠٤ م - نفي عمر مكرم إلى دمياط)

٣٤ **ماذا كان يحدث إذا:** لم تقف الزعامة الشعبية بجانب محمد علي ضد فرمان ١٨٠٦م؟

٣٥ **ما نتائج:** اجتماع زعماء الشعب المصري بدار المحكمة في ١٣ مايو ١٨٠٥م؟

٣٦ **بم تفسر:** كان محمد علي مقيداً في بداية حكمه لمصر؟

٣٧ **بم تفسر:** تخلص محمد علي من المماليك؟

٣٨ **أيّد بالأدلة التاريخية:** فرضت الزعامة الشعبية إرادتها على السلطان العثماني ١٨٠٦م.

٣٩ **ما العلاقة بين:** المماليك وحملة فريزر؟

٤٠ **قارن بين:** فرمان ٥ يوليو ١٨٠٥م وفرمان يوليو ١٨٠٦م من حيث النصوص:

فرمان يوليو ١٨٠٦م	فرمان ٥ يوليو ١٨٠٥م	وجه المقارنة
.....	.....	النصوص
.....	.....	
.....	.....	

٤١ **ما المقصود بـ:** الاحتكار؟

٤٢ **برهن:** اهتمام محمد علي بإرسال البعثات التعليمية إلى أوروبا.

٤٣ **بم تفسر:** نشطت التجارة الداخلية والخارجية في عهد محمد علي؟

٤٤ **دلل تاريخياً:** اهتم محمد علي بالأسطول.

٤٥ **ما نتائج:** ضم محمد علي السودان؟

٤٦ ما العلاقة بين: حروب اليونان وتوتر العلاقة بين السلطان العثماني ومحمد علي؟

٤٧ بم تفسر: ازدهار الصناعة في عهد محمد علي؟

٤٨ ما نتيجة: حاجة محمد علي إلى موظفين في المصالح الحكومية؟

٤٩ دَلُّ تاريخياً: حاول محمد علي الاكتفاء الذاتي في التصنيع الحربي.

٥٠ وضح: تعددت نتائج حروب اليونان ١٨٢١ : ١٨٢٨ م سلباً وإيجابياً.

٥١ دَلُّ: اتسعت دولة محمد علي قبل معاهدة لندن ١٨٤٠ م فضمت أجزاء كبيرة في ثلاث قارات.

٥٢ بم تفسر: حروب محمد علي في الشام؟

٥٣ ما نتائج: المواجهة المباشرة بين محمد علي والدولة العثمانية في الشام؟

٥٤ ماذا كان يحدث إذا: لم تفرض الدول الأوروبية معاهدة لندن ١٨٤٠ م على محمد علي؟

٥٥ بم تفسر: نجاح محمد علي في تجنيد المصريين؟

## مراجعة على الوحدة الرابعة

س ١ اختر الإجابة الصحيحة مما بين القوسين:

- ١ بدأ أول خط حديدي في عهد عباس باشا الأول بين القاهرة و.....  
(الإسكندرية - دمياط - السويس - الجيزة)
- ٢ قام سعيد باشا بتطهير ترعة.....  
(الإبراهيمية - المحمودية - الإسماعيلية - المنصورية)
- ٣ عقد سعيد باشا أول قرض مع أحد البنوك.....  
(الفرنسية - الإيطالية - البريطانية - الألمانية)
- ٤ أصبح للفلاحين الحق في توريث الأراضي الزراعية في عهد.....  
(إبراهيم باشا - عباس باشا - سعيد باشا - الخديوي إسماعيل)
- ٥ توقفت في عهد..... حركة النهضة التي بدأت في عهد محمد علي.  
(الخديوي إسماعيل - الخديوي توفيق - عباس باشا - سعيد باشا)
- ٦ أولى المؤسسات النيابية وشبه النيابية في تاريخ مصر الحديثة مجلس.....  
(المشورة - شورى النواب - شورى القوانين - الشيوخ)
- ٧ بدأت الأزمة المالية في مصر في عهد..... (عباس - سعيد - إبراهيم - توفيق)
- ٨ أرسلت لجنة التحقيق العليا الأوربية بناء على طلب من.....  
(المراقبة الثنائية - صندوق الدين - بعثة كييف - الوزارة المختلطة)
- ٩ لجأ سعيد باشا للاستدانة من المرابين مقابل سندات على حساب.....  
(الولاة العثمانيين - الخزانة المصرية - الجمعية العمومية - البنوك الأجنبية)
- ١٠ أرسلت..... بعثة لدراسة أحوال مصر المالية ١٨٧٥م.  
(بريطانيا - روسيا - ألمانيا - إيطاليا)
- ١١ تطورت سرعة نقل المعلومات والأخبار بين المدن الرئيسية في مصر منذ عهد..... (عباس باشا - سعيد باشا - إبراهيم باشا - الخديوي إسماعيل)
- ١٢ كان إرسال بعثة كييف إلى مصر لحل الأزمة المالية بناء على رغبة.....  
(السلطة التنفيذية في مصر - إنجلترا - الدائنين الأوربيين - فرنسا)
- ١٣ اهتم سعيد باشا بالعدالة الاجتماعية والتي طبقها بين.....  
(الفلاحين - الأعيان - العمال - العسكريين)

- ١٤ كانت نسبة العاملين الأجانب في قناة السويس تمثل .....
- (الثالث - الربع - الخامس - الثمن)
- ١٥ هدفت المراقبة الثنائية إلى مراقبة مصر من الناحية .....
- (السياسية - العسكرية - الاقتصادية - الدينية)
- ١٦ بعد حادثة الإسكندرية كلف الخديوي توفيق .....
- (رياض باشا - نوبار باشا - راغب باشا - شريف باشا)
- ١٧ عين البارودي وزيرًا للحربية لأول مرة في عهد وزارة .....
- (رياض باشا - راغب باشا - شريف باشا - نوبار باشا)
- ١٨ عمد بعض الضباط .....
- بوزارة البارودي. (الفرنسيين - الشركاسة - الألبان - الإنجليز)
- ١٩ بعد عزل عثمان رفقي أصبح .....
- (عربي - البارودي - شريف - راغب)
- ٢٠ قدمت مطالب الأمة للخديوي توفيق بمشاركة الجيش مع الشعب
- في مظاهرة .....
- (قصر القبة - قصر رأس التين - الإسكندرية - عابدين)
- ٢١ طالبت إنجلترا وفرنسا في المذكرة المشتركة الثانية بإبعاد .....
- وزملائه خارج البلاد. (مصطفى كامل - محمد فريد - سعد زغلول - أحمد عربي)
- ٢٢ دعت الدول العظمى عام ١٨٨٢م إلى عقد مؤتمر .....
- للنظر في المسألة المصرية. (باريس - الأستانة - مونترو - الصلح)
- ٢٣ اتجهت القوات البريطانية إلى القاهرة بعد معركة .....
- (القصاصين - الإسكندرية - التل الكبير - كفر الدوار)
- ٢٤ يعد من عوامل فشل الثورة العرابية عدم إدراك عربي لأهمية .....
- (التفاهم مع القنصل الإنجليزي - قناة السويس - التعبئة الشعبية - الاستعداد العسكري)
- ٢٥ يعرف بأنه خطيب الثورة العرابية ولم تتمكن إنجلترا من اعتقاله هو .....
- (محمود سامي البارودي - عبد الله النديم - محمد عبيد - عبد الله الشرقاوي)
- ٢٦ تم الاحتلال البريطاني لأول مدينة مصرية في عهد وزارة .....
- (البارودي - رياض - شريف - راغب)
- ٢٧ قررت الحكومة البريطانية نفي زعماء الثورة العرابية إلى جزيرة .....
- (رودس - مالطة - سيلان - سيشل)
- ٢٨ أي من التالي يعد مراكز المقاومة للعرابين التي تصدوا فيها ضد الاحتلال؟ .....
- (القصاصين - كفر الدوار - التل الكبير - الإسكندرية)

- ٢٩ أراد العرابيون نفي الضباط الشراكسة المشاركين في المؤامرة التي دبرت ضدهم إلى .....  
(اليونان - السودان - الشام - سيلان)
- ٣٠ أغلب مطالب العرابيين في مظاهرة عابدين مطالب .....  
(سياسية - دينية - اقتصادية - اجتماعية)
- ٣١ أصبحت السلطة الفعلية بعد الاحتلال البريطاني في يد .....  
(الخدوي - السلطان العثماني - المعتمد البريطاني - رئيس الوزراء)
- ٣٢ توسع الاحتلال البريطاني بمصر في زراعة ..... اللازم للمصانع البريطانية.  
(الكتان - القطن - القمح - قصب السكر)
- ٣٣ نتيجة استغلال مصطفى كامل لحادثة دانشواي تم إقالة. (كرومر - ونجت - النبي - فريزر)
- ٣٤ نجح ..... في إجبار الحكومة المصرية على رفض مد امتياز قناة السويس أربعين سنة أخرى.  
(مصطفى كامل - سعد زغلول - محمد فريد - أحمد عرابي)
- ٣٥ نجحت بريطانيا في احتلالها لمصر بحجة أنها تقوم بـ .....  
(تنظيم تسديد الديون - حماية عرش الخديوي - حماية المصريين - تنفيذ أوامر السلطان)
- ٣٦ من الطبقات الاجتماعية التي ازدهرت في ظل الاحتلال البريطاني لمصر .....  
(الأعيان - العلماء - الصناع - الشراكسة)
- ٣٧ اعتمد مصطفى كامل في كفاحه داخل مصر ضد الإنجليز على .....  
(إيقاظ وعي المصريين - دعم فرنسا له - دعم السلطان العثماني - حشد القوى العسكرية)
- ٣٨ تم توقيع اتفاقية الحكم الثنائي للسودان عام ١٨٩٩ في عهد .....  
(الخدوي إسماعيل - الخديوي توفيق - الخديوي عباس حلمي الثاني - السلطان حسين كامل)
- ٣٩ أعلن مصطفى كامل تأسيس ..... رسمياً عام ١٩٠٧ م.  
(الحزب الوطني - مدارس الشعب الليلية - نقابات للعمال - جريدة اللواء)
- ٤٠ أكثر الفئات استفادة من الاحتلال البريطاني لمصر .....  
(الفلاحون - الصناع - التجار - الأعيان)
- ٤١ تم نفي سعد زغلول في مارس ١٩١٩ م إلى جزيرة .....  
(مالطة - سيلان - سيشل - قبرص)
- ٤٢ وافقت الدول المجتمعة في مؤتمر الصلح بـ ..... على الحماية البريطانية على مصر.  
(لندن - الأستانة - باريس - برلين)
- ٤٣ تضمن تصريح ٢٨ فبراير ١٩٢٢ م ..... تحفظات احتفظت بها بريطانيا لنفسها.  
(ثلاثة - أربعة - خمسة - ستة)

- ٤٤ أصبحت مصر عضواً في عصبة الأمم نتيجة لنصوص.....  
 (دستور ١٩٢٣م - دستور ١٩٣٠م - معاهدة ١٩٣٦م - معاهدة مونترو)
- ٤٥ ترتب على استقالة سعد زغلول تأليف وزارة جديدة برئاسة.....  
 (عدلي يكن - زيور باشا - إسماعيل صدقي - مصطفى النحاس)
- ٤٦ قبل إصدار تصريح ٢٨ فبراير كان أحمد فؤاد الأول يحمل لقب.....  
 (سلطان - ملك - خديوي - باشا)
- ٤٧ المندوب السامي البريطاني الذي أفرج عن سعد زغلول في إبريل ١٩١٩م هو.....  
 (ونجت - كرومر - اللبني - لي ستاك)
- ٤٨ أكثر المناطق تأثراً بإلغاء معاهدة ١٩٣٦م منطقة.....  
 (القناة - الإسكندرية - حي بولاق - حي الأزهر)
- ٤٩ طلب سعد زغلول من المندوب السامي البريطاني السماح له بالسفر إلى.....  
 (إنجلترا - الدولة العثمانية - فرنسا - ألمانيا)
- ٥٠ هددت بريطانيا بخلعه عن عرش مصر عام ١٩٤٢م.....  
 (محمد علي - عباس حلمي الثاني - الملك فؤاد - الملك فاروق)

س ٢ ضع علامة (✓) أمام العبارة الصحيحة، وعلامة (X) أمام العبارة غير الصحيحة:

- ١ تولى سعيد باشا حكم مصر في الفترة من ١٨٤٨م إلى ١٨٥٤م. ( )
- ٢ أصدر الخديوي إسماعيل مرسوماً بإنشاء صندوق الدين مايو ١٨٧٦م. ( )
- ٣ عقد سعيد باشا أول قرض مع أحد البنوك البريطانية عام ١٨٦٢م. ( )
- ٤ اشترط لصحة امتياز قناة السويس أن يصدق عليه السلطان العثماني. ( )
- ٥ تشكلت الوزارة المختلطة برئاسة نوبار باشا. ( )
- ٦ منحت الدولة العثمانية رعايا بعض الدول الأوروبية الامتيازات الأجنبية. ( )
- ٧ اهتم سعيد باشا بشئون الري والزراعة فاهتم بتطهير ترعة الإبراهيمية. ( )
- ٨ سار الخديوي إسماعيل على نهج عباس باشا في الاستدانة من الخارج. ( )
- ٩ تشابهت الوجة التوسعية في إفريقيا لكل من محمد علي والخديوي إسماعيل. ( )
- ١٠ كانت معظم شروط عقد الامتياز الثاني لحفر قناة السويس في صالح مصر. ( )
- ١١ أمر الخديوي توفيق بالقبض على عرابي وزملائه وإيداعهم في سجن قصر النيل. ( )
- ١٢ أدرك الخديوي توفيق منذ بداية حكمه قوة النفوذ الأجنبي في مصر. ( )

- ١٣ ) عقد ممثلو الدول العظمى مؤتمرًا بالآستانة للنظر في مشكلة الديون.
- ١٤ ) انتصرت القوات المصرية بقيادة عرابي في معركة التل الكبير.
- ١٥ ) ساعدت الظروف الدولية على فشل الثورة العرابية.
- ١٦ ) أدت حركة الجيش في منتصف يناير ١٨٨١م إلى إقالة عثمان رفقي.
- ١٧ ) وافق الخديوي توفيق على اللائحة الأساسية لمجلس النواب.
- ١٨ ) تم تشكيل وزارة جديدة بعد حادثة الإسكندرية عام ١٨٨٢م برئاسة أحمد عرابي.
- ١٩ ) جعل الاحتلال البريطاني جيش مصر قليل العدد بقيادة ضابط إنجليزي.
- ٢٠ ) بعد الاحتلال البريطاني لمصر أصبح المعتمد البريطاني الحاكم الفعلي للبلاد.
- ٢١ ) تولى محمد فريد رئاسة الحزب الوطني بعد وفاة مصطفى كامل.
- ٢٢ ) أيد الخديوي عباس حلمي الثاني مقاومة محمد فريد ضد الاحتلال في بداية الأمر.
- ٢٣ ) أيدت فرنسا عن الحركة الوطنية المصرية عقب الاتفاق الودي.
- ٢٤ ) فرضت سلطات الاحتلال سياسة تخدم المصالح البريطانية.
- ٢٥ ) من أعمال محمد فريد أنه طالب بإنشاء مجلس نيابي.
- ٢٦ ) لم يحترم الاحتلال البريطاني مجلس النواب الذي تم انتخابه عام ١٨٨١م وقام بإلغائه.
- ٢٧ ) اعترفت بريطانيا بمصر دولة مستقلة بعد تصريح ٢٨ فبراير ١٩٢٢م.
- ٢٨ ) أكد دستور ١٩٢٣م أن الأمة هي مصدر السلطات.
- ٢٩ ) تألف الوفد المصري برئاسة محمد فريد لعرض المطالب على مؤتمر الصلح.
- ٣٠ ) وقعت الحكومة المصرية برئاسة مصطفى النحاس باشا معاهدة ١٩٣٦م.
- ٣١ ) نجحت مفاوضات عدلي - كيرزون في وضع دستور يحقق مطالب المصريين.
- ٣٢ ) أعطى دستور ١٩٣٠م للملك المزيد من السلطات وأهدر سلطة الأمة.
- ٣٣ ) كان من شروط معاهدة ١٩٣٦م أنها تسري لمدة خمسين عامًا.

س ٣ اكتب ما تشير إليه كل عبارة فيما يلي:

- ١ ) لائحة أصدرها سعيد باشا لإصلاح أحوال الفلاحين. (.....)
- ٢ ) ديوان ألغي في عهد سعيد باشا. (.....)
- ٣ ) ترعة تم حفرها في عهد الخديوي إسماعيل. (.....)

- ٤ من المنشآت العلمية والتعليمية في عهد الخديوي إسماعيل عام ١٨٧٥ م. (.....)
- ٥ محاكم كانت تنظر في الجرائم التي يرتكبها الرعايا الأجانب ضد المصريين. (.....)
- ٦ محاكم كانت تفصل في القضايا المدنية والمنازعات العقارية بين المصريين والأجانب. (.....)
- ٧ بعثة أرسلت لدراسة سوء الأوضاع المالية في مصر. (.....)
- ٨ كان بمثابة خزانة فرعية للخزانة المصرية. (.....)
- ٩ وزارة أصدر الخديوي إسماعيل مرسومًا بتأليفها برئاسة نوبار باشا. (.....)
- ١٠ يعتبر تأسيسه بداية معرفة مصر المؤسسات النيابية في العصر الحديث. (.....)
- ١١ ثورة من أسبابها التدخل الأجنبي في شؤون مصر الداخلية والمؤثرات الغربية. (.....)
- ١٢ وزارة لم تتضمن حق المجلس في مناقشة الميزانية. (.....)
- ١٣ الاستيلاء على أرض الغير بالقوة. سلسلة كتب الأستاذ (.....)
- ١٤ معركة تمكن فيها العرابيون من صد هجمات القوات البريطانية. (.....)
- ١٥ معركة تمكنت القوات البريطانية من هزيمة الجيش المصري. (.....)
- ١٦ محصول زراعي توسعت في زراعته بريطانيا في مصر. (.....)
- ١٧ اتفاق نص على انفراد حكم بريطانيا لمصر مقابل حكم فرنسا لمراكش. (.....)
- ١٨ حادثة قام مصطفى كامل بالتنديد بها خارج البلاد مما أدى إلى استقالة اللورد كرومر. (.....)
- ١٩ أول حزب أنشئ في مصر. سلسلة كتب الأستاذ (.....)
- ٢٠ جريدة صدرت لتكون منبرًا للحركة الوطنية عام ١٩٠٠ م. (.....)
- ٢١ خضوع مصر المطلق للاحتلال البريطاني. (.....)
- ٢٢ جزيرة نفى إليها سعد زغلول لأول مرة في مارس ١٩١٩ م. (.....)
- ٢٣ تصريح اعترف بمصر دولة مستقلة وإلغاء الأحكام العرفية. (.....)
- ٢٤ دستور وسع سلطات الملك التشريعية والتنفيذية. (.....)
- ٢٥ أول وزارة برلمانية شكلت برئاسة سعد زغلول في يناير ١٩٢٤ م. (.....)

- ١ شجع **عباس باشا** البعثات الأجنبية في مصر على فتح مدارس لها في القاهرة والإسكندرية.  
(.....)
- ٢ نتج عن الأزمة المالية والتدخل الأجنبي في مصر إنشاء أول وزارة مسئولة برئاسة **إبراهيم باشا**.  
(.....)
- ٣ لعب الجانب الإنساني دورًا كبيرًا في حملات إسماعيل الحربية في **شرق أوروبا**.  
(.....)
- ٤ قام عباس الأول بإنشاء أول خط حديدي بين القاهرة و**السويس**.  
(.....)
- ٥ أصبح للفلاحين الحق في توريث الأرض الزراعية في عهد **محمد علي**.  
(.....)
- ٦ تم عقد أول قرض مصري من أحد البنوك **الأمريكية**.  
(.....)
- ٧ حصلت مصر على ١٥% من **أسهم** شركة قناة السويس.  
(.....)
- ٨ أعاد الخديوي **عباس حلمي** نظام المراقبة الثنائية ورفض الدستور.  
(.....)
- ٩ قامت إنجلترا بنفي عرابي بعد احتلالها مصر إلى جزيرة **مالطة**.  
(.....)
- ١٠ عرض شريف باشا على مجلس النواب اللائحة **السعيدية**.  
(.....)
- ١١ طالب العرابيون بزيادة عدد الجيش خلال **حادثة قصر النيل**.  
(.....)
- ١٢ عرفت **وزارة رياض باشا** بوزارة الثورة فبراير 1882م.  
(.....)
- ١٣ أدى كفاح مصطفى كامل إلى إقالة **السير ونجت** المعتمد البريطاني.  
(.....)
- ١٤ بعد أن أخذت فرنسا حكم **السودان** قامت بالاتفاق الودي مع إنجلترا.  
(.....)
- ١٥ أعلن الرئيس الأمريكي **كارتر** حق الشعوب في تقرير مصيرها.  
(.....)
- ١٦ رفضت بريطانيا إعطاء إذن لأعضاء الوفد المصري للسفر إلى مؤتمر **مديدي**.  
(.....)
- ١٧ من نتائج تصريح ٢٨ فبراير إعلان السلطان **حسين كامل** نفسه ملكًا على مصر.  
(.....)
- ١٨ شكل إسماعيل صدقي وزارة جديدة بإلغاء **دستور ١٩٣٠م**.  
(.....)
- ١٩ من نتائج معاهدة ١٩٣٦م إلغاء الامتيازات الأجنبية وفقًا لمؤتمر **سان ريمو**.  
(.....)
- ٢٠ قامت بريطانيا بمحاصرة قصر عابدين لإجبار الملك فاروق على تعيين **مصطفى كامل** للحكومة الجديدة.  
(.....)

- ١ بدأ في إنشاء أول خط حديدي بين القاهرة والإسكندرية عام ١٨٥٢م. (.....)
- ٢ أصدر اللائحة السعيدية لإصلاح أحوال الفلاحين الزراعية. (.....)
- ٣ ألغى ديوان المدارس وفي نفس الوقت شجع البعثات الأجنبية لفتح مدارس في مصر. (.....)
- ٤ منحه سعيد باشا عقدين لامتياز قناة السويس. (.....)
- ٥ توسع في إنشاء مصانع السكر بالوجه القبلي. (.....)
- ٦ إنشاء قصر عابدين وأنشأ الأوبرا المصرية. (.....)
- ٧ أرسلته إنجلترا على رأس بعثة لدراسة أسباب سوء الأوضاع المالية في مصر. (.....)
- ٨ كان يرأس الوزارة المختلطة التي ألفها الخديوي إسماعيل ١٨٧٨م. (.....)
- ٩ تولى حكم مصر بعد عزل الخديوي إسماعيل في عام ١٨٧٩م. (.....)
- ١٠ كانت الوزارة في عهده في حالة اقتصادية سيئة قبل الثورة العربية. (.....)
- ١١ ناظر الجهادية الذي كان يضطهد الضباط المصريين ولا يقوم بترقيتهم. (.....)
- ١٢ عين ناظرًا للجهادية بعد حادثة قصر النيل منتصف يناير ١٨٨١م. (.....)
- ١٣ تولى الوزارة بعد عزل رياض باشا وتصادم مع مجلس النواب في اللائحة الأساسية. (.....)
- ١٤ كلفه الخديوي توفيق بتأليف الوزارة في ٢٠ يونيو ١٨٨٢م. (.....)
- ١٥ قائد الثورة العربية في عام ١٨٨١م. (.....)
- ١٦ أراد تعطيل الملاحة في قناة السويس عام ١٨٨٢م. (.....)
- ١٧ أسس جريدة اللواء ١٩٠٠م وأعلن تأسيس الحزب الوطني ١٩٠٧م. (.....)
- ١٨ تمت إقالته بعد حادثة دنشواي بعد تنديد مصطفى كامل بها في الخارج. (.....)
- ١٩ كان يؤيد الحركة الوطنية في البداية ثم اتجه لموالات الاحتلال. (.....)
- ٢٠ طالب بإنشاء مجلس نيابي له سلطات واسعة وأنشأ نقابات للعمال. (.....)
- ٢١ المندوب السامي البريطاني الذي توجه إليه سعد زغلول لمقابلته. (.....)
- ٢٢ نفي في عهد الاحتلال البريطاني لأول مرة إلى جزيرة مالطة. (.....)
- ٢٣ الرئيس الأمريكي الذي أعلن مبادئه الأربعة عشر ومنها حق الشعوب في تقرير مصيرها. (.....)

- ٢٤ قامت الحكومة البريطانية بتعيينه بدلاً من السير ونجت. (.....)
- ٢٥ وزير المستعمرات البريطانية أرسلته إنجلترا للتفاوض مع الشعب المصري. (.....)
- ٢٦ رئيس الحكومة المصرية الذي تولى الوزارة في مارس عام ١٩٢١م. (.....)
- ٢٧ أعلن نفسه ملكاً على مصر بعد تصريح 28 فبراير ١٩٢٢م. (.....)
- ٢٨ شكل الوزارة من ثلاثين عضواً لإعداد دستور ١٩٢٣م. (.....)
- ٢٩ شكل الوزارة في ١٩٢٤م التي عرفت بوزارة الشعب. (.....)
- ٣٠ قام بتأليف الوزارة بعد استقالة سعد زغلول منها. (.....)
- ٣١ شكل وزارة جديدة قامت بإلغاء دستور ١٩٢٣م ووضع دستور ١٩٣٠م. (.....)
- ٣٢ دارت المفاوضات بينه وبين إنجلترا في معاهدة ١٩٣٦م. (.....)
- ٣٣ بعد معاهدة 1936م ازداد نفوذه في القصر واعتلاؤه عرش مصر. (.....)
- ٣٤ أطلق الحرية للشعب المصري للنضال المسلح ضد القوات البريطانية في القناة  
سلسلة كتب الأستاذ في أكتوبر ١٩٥١م. (.....)
- ٣٥ تولى رئاسة الحكومة المصرية بعد حادث ٤ فبراير ١٩٤٢م. (.....)

س ٦ أجب عن الأسئلة التالية:

١ ما النتائج: إصدار اللائحة السعيدية ١٨٥٨م؟

٢ دلل: كانت شروط عقد الامتياز الثاني لقناة السويس مجحفة للمصريين.

٣ بم تفسر: توقف حركة النهضة في عهد عباس الأول؟

٤ ما رأيك في: تأسيس الخديوي إسماعيل في مجلس شورى النواب عام ١٨٦٦م؟

٥ ما نتائج: إنشاء المحاكم القنصلية؟

٦ دلل: لم يكن خلفاء محمد علي على شاكلته من حيث القوة والوعي.

٧ **بم تفسر:** ازدياد التدخل الأجنبي في مصر في عهد الخديوي إسماعيل؟

٨ **ما المقصود بـ:** الامتيازات الأجنبية؟

٩ **حدد المختلف في العبارة مع ذكر السبب:**

(تطهير ترعة المحمودية - إلغاء ديوان المدارس - عقد الامتياز الأول لقناة السويس - حفر ترعة الإبراهيمية)

١٠ **قارن بين:** عباس باشا وسعيد باشا من حيث أهم الأعمال في النقل والمواصلات.

عهد سعيد باشا	عهد عباس باشا	المقارنة
	سلسلة كتب الاستاذ	أهم الأعمال في النقل والمواصلات

١١ **بم تفسر:** اتبع الخديوي إسماعيل سياسة الاقتراض؟

١٢ **ما النتائج:** قيام الحركة الوطنية في مصر بتوجيه الانتقادات للوزارة المختلطة؟

١٣ **دل:** تضمن حكم الخديوي إسماعيل العديد من التناقضات.

١٤ **وضح أوجه الشبه بين:** امتداد النقوذ المصري في إفريقيا في عهد محمد علي والخديوي إسماعيل.

١٥ **ما العلاقة بين:** امتياز حفر قناة السويس والزراعة شرق الدلتا؟

١٦ **ما تقييمك لمصادقية العبارة:**

تشابه الخديوي إسماعيل مع جده محمد علي في اهتمامه بتحسين شئون الري؟

١٧ **حدد الأثر الناتج عن:** زيادة التوتر بين وزارة البارودي والخديوي توفيق.

١٨ **دل:** حقق العرابيون بعض المكاسب بعد مظاهرة عابدين ٩ سبتمبر ١٨٨١م.

١٩ **ما الفرق بين:** اللائحة الأساسية في عهد وزارة شريف ١٨٨١م ووزارة البارودي ١٨٨٢م؟

٢٠ **في عهد من من رؤساء مصر...؟**

(١) مظاهرة عابدين ٩ سبتمبر ١٨٨١م. (.....)

(٢) تعيين عرابي وزيراً للجهادية والبحرية ١٨٨٢م. (.....)

(٣) إرسال إنجلترا وفرنسا للمذكرة المشتركة الأولى يناير ١٨٨٢م. (.....)

٢١ **ما العلاقة بين:** الأوضاع الداخلية لمصر ومؤتمر الآستانة؟

٢٢ **ماذا كان يحدث إذا:** وافق مجلس النواب على اللائحة الأساسية التي عرضها شريف باشا؟

٢٣ **بم تفسر:** قيام الثورة العرابية؟

٢٤ **ما المقصود بـ:** الاحتلال؟

٢٥ **وضح:** مطالب الأمة التي قدمها عرابي في مظاهرة عابدين للخديوي توفيق ١٨٨١م.

٢٦ **رتب الأحداث التالية من القديم إلى الحديث:**

(المذكرة المشتركة الأولى - مظاهرة عابدين - مؤتمر الآستانة - حادثة قصر النيل - حادثة الإسكندرية)

٢٧ **أيد تاريخياً:** شهد ميدان القتال في معركة التل الكبير بطولات مصرية خالدة.

٢٨ **بم تفسر:** الصدام بين عرابي والخديوي توفيق بعد احتلال الإنجليز لمدينة الإسكندرية؟

٢٩ ما النتائج: تواطؤ ديليسبس مع قيادة الجيش الإنجليزي ضد عربي؟

٣٠ ما العلاقة بين: مظاهرة عابدين والحياة النيابية في مصر؟

٣١ بم تفسر: مؤامرة الضباط الشراكسة؟

٣٢ قارن بين: المذكرة المشتركة الأولى والمذكرة المشتركة الثانية من حيث المطالب.

المذكرة المشتركة الثانية	المذكرة المشتركة الأولى	المقارنة
		المطالب

٣٣ ما المقصود بـ: الاتفاق الودي؟

٣٤ بم تفسر: تغيير السياسة الاقتصادية في مصر بعد الاحتلال البريطاني؟

٣٥ ما النتائج: تنفيذ مصطفى كامل بحادثة دنشواي عام ١٨٠٦ م.

٣٦ ما العلاقة بين: محمد فريد وحقوق العمال المصريين؟

٣٧ ما تقييمك لمصادقية العبارة:

أثرت موالة السلطة الحاكمة في مصر لسلطات الاحتلال البريطاني على كفاح محمد فريد؟

٣٨ بم تفسر: تدهور الحياة النيابية في مصر عقب الاحتلال البريطاني؟

٣٩ ما النتائج: معارضة محمد فريد مشروع مد امتياز قناة السويس أربعين سنة أخرى؟

٤٠ دلل: اتخذت بريطانيا عدة مبررات لاحتلال مصر.

٤١ **استنتج السبب:** ظهور الطبقة الحقيقية في التعليم بمصر خلال الاحتلال البريطاني.

٤٢ **حدد الأثر الناتج:** سياسة بريطانيا التي طبقتها في الزراعة بمصر.

٤٣ **حدد أوجه الشبه بين:** دور مصطفى كامل ومحمد فريد بالنسبة للتعليم.

٤٤ **بم تفسر:** توسع بريطانيا في زراعة القطن في مصر؟

٤٥ **ما المقصود بـ:** الحماية البريطانية؟

٤٦ **بم تفسر:** كانت ثورة ١٩١٩م ثورة شعبية شاملة؟

٤٧ **ما نتائج:** تصريح ٢٨ فبراير ١٩٢٢م؟

٤٨ **برهن:** أعطى دستور ١٩٢٣ للملك سلطات واسعة.

٤٩ **ما العلاقة بين:** الحرب العالمية الأولى وثورة ١٩١٩م؟

٥٠ **دل:** تناقض موقف الرئيس الأمريكي ولسن من قضايا الاستقلال.

٥١ **في عهد من من رؤساء مصر...؟**

- تشكيل لجنة من ثلاثين عضوًا لإعداد دستور ١٩٢٣م. (.....)

- افتتح البرلمان المصري في مارس ١٩٢٤م. (.....)

- انسحب الجيش المصري من السودان تنفيذًا لإنذار بريطانيا ١٩٢٤م. (.....)

٥٢ **بم تفسر:** إرسال الحكومة البريطانية لجنة ملنر ١٩١٩م؟

٥٣ **ما نتائج:** صدور دستور ١٩٣٠م؟

٥٤ **دل:** كان لدستور ١٩٢٣م العديد من المزايا ولكنه لم يخل من العيوب.

٥٥ **ما العلاقة بين:** معاهدة ١٩٣٦م والأوضاع المصرية بالسودان؟

٥٦ **بم تفسر:** لم يؤد تعدد الأحزاب بعد دستور ١٩٢٣م إلى إثراء الحياة النيابية في مصر.

٥٧ **ما النتائج:** نجاح فكرة التوكيلات من الأمة للوفد المصري ١٩١٩م.

٥٨ **ماذا كان يحدث إذا:** لم يتضمن تصريح ٢٨ فبراير ١٩٢٢ على التحفظات الأربعة؟

٥٩ **ما رأيك في:** موقف رجال الشرطة المصرية في ٢٥ يناير ١٩٥٢م؟

٦٠ اذكر بعض نصوص معاهدة ١٩٣٦م.

## الإجابات الاسترشادية

## مراجعة الوحدة الأولى

## السؤال الأول:

- ١ الهندي
- ٢ القطبي الشمالي
- ٣ المحيط الهندي
- ٤ إفريقيا
- ٥ البريطانية
- ٦ أورال
- ٧ أرافورا
- ٨ أمريكا الشمالية
- ٩ قزوين
- ١٠ باب المنذب
- ١١ اليابان
- ١٢ الشمالي
- ١٣ آسيا
- ١٤ الهادي
- ١٥ أنتاركتيكا
- ١٦ آسيا
- ١٧ الهادي
- ١٨ أنتاركتيكا
- ١٩ اليانجتسي
- ٢٠ زاجروس
- ٢١ بحر قزوين
- ٢٢ هضبة البحيرات الاستوائية
- ٢٣ أسبانيا
- ٢٤ الحبشة
- ٢٥ لبرادور
- ٢٦ لابلاتا
- ٢٧ المحيط الأطلنطي
- ٢٨ الصحراوية
- ٢٩ الأنديز
- ٣٠ تعدد روافده
- ٣١ الشمال الغربي
- ٣٢ الألب الدينارية
- ٣٣ الشرق
- ٣٤ آسيا
- ٣٥ غرب أوروبا
- ٣٦ الموسمي
- ٣٧ جزيرة مدغشقر
- ٣٨ جوز الهند
- ٣٩ الزان
- ٤٠ الشربين
- ٤١ إقليم التندرا
- ٤٢ التندرا
- ٤٣ آسيا
- ٤٤ الموقع الفلكي
- ٤٥ الزان
- ٤٦ إفريقيا
- ٤٧ الموقع الفلكي
- ٤٨ إفريقيا وأستراليا
- ٤٩ الصنوبر
- ٥٠ مناخ البحر المتوسط

## السؤال الثاني:

- |      |      |      |      |      |
|------|------|------|------|------|
| ✓ ١  | ✓ ٢  | × ٣  | × ٤  | × ٥  |
| ✓ ٦  | × ٧  | × ٨  | × ٩  | ✓ ١٠ |
| ✓ ١١ | × ١٢ | ✓ ١٣ | ✓ ١٤ | × ١٥ |
| ✓ ١٦ | × ١٧ | ✓ ١٨ | × ١٩ | × ٢٠ |
| × ٢١ | ✓ ٢٢ | ✓ ٢٣ | ✓ ٢٤ | ✓ ٢٥ |
| × ٢٦ | × ٢٧ | ✓ ٢٨ | × ٢٩ | × ٣٠ |

## السؤال الثالث:

- ١ الموقع الجغرافي
- ٢ أمريكا الشمالية
- ٣ الدول الجزرية
- ٤ أمريكا الجنوبية
- ٥ شبه جزيرة سيناء
- ٦ أستراليا
- ٧ أنتاركتيكا
- ٨ حوض النهر
- ٩ إفريقيا
- ١٠ الميزيتا
- ١١ الإقليم المناخي
- ١٢ الإقليم الجبلي
- ١٣ حشائش الإستبس
- ١٤ حشائش السافانا
- ١٥ البحر المتوسط

## السؤال الرابع:

- ١ آسيا
- ٢ أوروبا
- ٣ أستراليا
- ٤ الأطلنطي
- ٥ شبه جزيرة سيناء
- ٦ أنتاركتيكا
- ٧ التعرج
- ٨ البرانس
- ٩ الشرقية
- ١٠ بتاجونيا
- ١١ زاجروس
- ١٢ إفريقيا
- ١٣ إفروست
- ١٤ الصفصاف والبلوط
- ١٥ البحر المتوسط
- ١٦ النفضية
- ١٧ اللورانس
- ١٨ الاستوائي وشبه الاستوائي
- ١٩ الجبلي
- ٢٠ المتسلقة

## السؤال الخامس:

- ١ أدى إلى إنشاء الموانئ الطبيعية.
- ٢ حيث يحيط بها المحيطات من ثلاث جهات؛ من الشمال المحيط القطبي الشمالي، ومن الشرق المحيط الهادي، ومن الجنوب المحيط الهندي.
- ٣ هي الدول التي تتكون من جزيرة أو أكثر من جزيرة أو قد تكون جزءاً من جزيرة.
- ٤ أصبحت متجمدة وغير مأهولة بالسكان.
- ٥ حيث يحيط بها المياه من جميع الجهات؛ من الشمال بحر أرافورا، ومن الشرق المحيط الهادي، ومن الغرب والجنوب المحيط الهندي.
- ٦ بسبب موقع القارة القطبية الجنوبية أصبحت متجمدة وغير مأهولة بالسكان.
- ٧ غير صادقة لأن خط جرينتش يمر بثلاث قارات؛ وهي: أوروبا وإفريقيا وأنتاركتيكا.

- ٢٤ تمتد سهول المسيسيبي في جنوب أمريكا الشمالية حيث الأراضي الزراعية.
- ٢٥ وفقاً لعدة عوامل مؤثرة في مناخ القارة؛ منها: الموقع الفلكي والموقع الجغرافي والتضاريس.
- ٢٦ حيث يعيش بها حيوانات آكلة عشب وحيوانات آكلة لحوم.
- ٢٧ إن كليهما حار صيفاً وجاف شتاءً - أمطارهما صيفية - تنمو بهما حشائش السافانا.
- ٢٨ منطقة محددة على سطح الأرض لها خصائص مناخية معينة من حيث الحرارة والرياح والأمطار وغيرها من عناصر المناخ.
- ٢٩ حيث إن غرب ولاية كاليفورنيا تقع ضمن إقليم البحر المتوسط ذات الأمطار الشتوية.

- (١) الغابات الموسمية (٢) غابات البحر المتوسط
- (٣) الغابات المخروطية (٤) التندرا
- (٥) الغابات النفضية (٦) الغابات المخروطية
- (٧) الغابات الاستوائية (٨) غابات الإقليم الصيني
- ٣١ حيث تستغل كمراعٍ طبيعية.

المقارنة	إقليم البحر المتوسط	الإقليم الصيني
التشابه	أن كليهما ينمو بهما حشائش الإستبس - أشجارهما دائمة الخضرة - أن كليهما يقعان ضمن الأقاليم المعتدلة الدفيئة.	
الاختلاف	يوجد شرق القارات - منخفض الحرارة شتاءً.	يوجد غرب القارات - دافئ شتاءً.

المقارنة	إقليم غرب أوروبا	إقليم البحر المتوسط
الخصائص المناخية	دافئ صيفاً - بارد شتاءً	حار صيفاً - دافئ شتاءً
الخصائص النباتية	من أشجار الغابات النفضية أشجار الزان	من أشجار غابات البحر المتوسط الزيتون

- ٨ حيث يوجد بها العديد من الجزر؛ ومنها: جزر اليابان والفلبين وإندونيسيا.
- ٩ هو الموقع بالنسبة للأماكن الأخرى من بحر أو محيطات وقارات أو دول وغيرها.
- ١٠ نظراً لارتفاعها عن قمم الجبال.
- ١١ لأنها تتجمد في فصل الشتاء.
- ١٢ لأن هضبة الحبشة والبحيرات الاستوائية ينبع منها روافد نهر النيل إلى مصر وتصب بالبحر المتوسط.
- ١٣ أدى إلى ضيق السهول الساحلية في شرق أستراليا.
- ١٤ بسبب كثرة الجزر والتعاريح.
- ١٥ حيث يتشابهاً في وجود السلاسل الجبلية في غرب القارتين - وجود سهول ساحلية متسعة عند المحيط الأطلنطي وضيقة عند المحيط الهادي.
- ١٦ الأرض التي يجري فيها النهر أو أحد روافده أو تنحدر مياهه إليها.
- ١٧ حيث يوجد بها العديد من الهضاب مثل: جيانا والبرازيل وبتاجونيا.

- (١) المحيط القطبي الشمالي (٢) الخليج العربي
- (٣) البحر العربي (٤) البحر المتوسط
- (٥) خليج غينيا (٦) المحيط الأطلنطي
- (٧) بحر قزوين (٨) بحر الشمال
- (٩) البحر الأسود (١٠) خليج هدسن
- (١١) خليج سانت لورانس (١٢) خليج المكسيك
- (١٣) البحر الكاريبي (١٤) المحيط الأطلنطي
- (١٥) المحيط الأطلنطي (١٦) الخليج الأسترالي الكبير

١٩ لأنه يتكون معظمه من رواسب طينية تمثل تربة جيدة صالحة للزراعة كونتها الأنهار.

- (١) الأنهار (٢) الجبال (٣) الجبال
- (٤) الهضاب (٥) الأنهار (٦) الجبال
- (٧) الهضاب (٨) الجبال (٩) الجبال
- (١٠) الأنهار

٢١ لم ينبع روافد نهر النيل إلى مصر ولم تتكون السهول الفيضية لنهر النيل.

٢٢ حيث توجد جبال البرانس شمال أسبانيا، وجبال الألب الدينارية في شبه جزيرة البلقان.

٢٣ أدى إلى ضيق السهول الساحلية في قارة إفريقيا.

السؤال السادس:

- أ**
- ١ الاستواء
  - ٣ الهندي
  - ٥ البنغال
  - ٧ الفلبين
  - ٩ اليابان
  - ١١ الملايو
- ب**
- ١ الجدي
  - ٣ الأحمر
  - ٥ غينيا
  - ٧ باب المنذب
  - ٩ مدغشقر
- ج**
- ١ البحر الأسود
  - ٣ (٥)
  - ٥ (٣)
- د**
- ١ السرطان
  - ٣ الهادي
  - ٥ المكسيك
- هـ**
- ١ الاستواء
  - ٣ الأطلنطي
  - ٥ الكاريبي
- و**
- ١ أرافورا
  - ٣ (٢)
  - ٥ (٦)
- ز**
- ١ القطبي الشمالي
  - ٣ زاجروس
  - ٥ الدكن
  - ٧ شبه الجزيرة العربية
- ٢ القطبي الشمالي
- ٤ قزوين
- ٦ بيرنج
- ٨ العربية
- ١٠ أورال
- ٢ الأطلنطي
- ٤ المتوسط
- ٦ جبل طارق
- ٨ موزمبيق
- ١٠ جزر القمر
- ٢ القطبية الشمالية
- ٤ الأطلنطي
- ٢ القطبي الشمالي
- ٤ الأطلنطي
- ٦ بيرنج
- ٢ الجدي
- ٤ الهادي
- ٦ ماجلان
- ٢ (٥)
- ٤ (٨)
- ٦ مدار الجدي
- ٢ الهيمالايا
- ٤ طوروس
- ٦ التبت
- ٨ شرق الصين
- ٩ منشوريا
- ١١ ينسي
- ١٣ لينا
- ١٥ السند
- ح**
- ١ الأطلنطي
  - ٣ دراكنزبرج
  - ٥ كينيا
  - ٧ البحيرات الاستوائية
  - ٩ الحبشة (إثيوبيا)
  - ١١ النيل
  - ١٣ النيجر
- ط**
- ١ الأطلنطي
  - ٣ الشمال
  - ٥ الألب الدينارية
  - ٧ فرنسا الوسطى
  - ٩ الفولجا
  - ١١ الراين
- ي**
- ١ هضبة المكسيك
  - ٣ (٦)
  - ٥ (٤)
  - ٧ (٨)
  - ٩ (٢)
- ك**
- ٢ الأطلنطي
  - ٤ بتاجونيا
  - ٦ لابلاتا
  - ٨ الأمازون
  - ١ الهادي
  - ٣ الأنديز
  - ٥ البرازيل
  - ٧ أورينوكو
- ل**
- ١ (٦)
  - ٣ (٧)
  - ٥ (١)
  - ٧ تسمانيا
  - ٢ الأسترالي الكبير
  - ٤ الهضبة الغربية
  - ٦ (٤)
- ٢ سيبيريا
- ١٢ دجلة والفرات
- ١٤ أوب
- ٢ البحر الأحمر
- ٤ أطلس
- ٦ كلمنجارو
- ٨ جنوب إفريقيا
- ١٠ بحر الرمال العظيم
- ١٢ الزمبيزي
- ١٤ الكونغو
- ٢ الأسود
- ٤ البرانس
- ٦ الميزيتا
- ٨ الأوروبي العظيم
- ١٠ السين
- ٢ (٣)
- ٤ (٥)
- ٦ (١٠)
- ٨ سانت لورانس

السؤال الثاني:

- |      |      |      |      |      |
|------|------|------|------|------|
| ✓ ٥  | ✓ ٤  | X ٣  | X ٢  | ✓ ١  |
| ✓ ١٠ | ✓ ٩  | X ٨  | X ٧  | ✓ ٦  |
| X ١٥ | X ١٤ | ✓ ١٣ | X ١٢ | X ١١ |
| ✓ ٢٠ | ✓ ١٩ | ✓ ١٨ | X ١٧ | ✓ ١٦ |
| ✓ ٢٥ | ✓ ٢٤ | X ٢٣ | X ٢٢ | X ٢١ |
| X ٣٠ | X ٢٩ | ✓ ٢٨ | ✓ ٢٧ | ✓ ٢٦ |

السؤال الثالث:

- |                     |                       |
|---------------------|-----------------------|
| ٢ الزنجية           | ١ السلالة البشرية     |
| ٤ القوقازية         | ٣ المغولية            |
| ٦ سيدني             | ٥ الهجرات غير الشرعية |
| ٨ الديموجرافيا      | ٧ بتاجونيا            |
| ١٠ مصر              | ٩ صغار السن           |
| ١٢ الزيادة الطبيعية | ١١ قوة العمل          |
| ١٤ إفريقيا          | ١٣ التركيب العمري     |
|                     | ١٥ البرازيل           |

السؤال الرابع:

- |                      |                |
|----------------------|----------------|
| ٢ المغولية           | ١ الإسكيمو     |
| ٤ الزنجية            | ٣ الزنجية      |
| ٦ إفريقيا            | ٥ القوقازية    |
| ٨ آسيا               | ٧ الصين والهند |
| ١٠ هندوراس           | ٩ البرازيل     |
| ١٢ المناطق الصحراوية | ١١ مكسيكو      |
| ١٤ إفريقيا           | ١٣ البمباس     |
| ١٦ تحت المتوسط       | ١٥ أوكرانيا    |
| ١٨ الديموجرافيا      | ١٧ أستراليا    |
| ٢٠ إثيوبيا           | ١٩ المرتفعة    |

السؤال الخامس:

- ١ بسبب انتشار الإنسان في قارات العالم المختلفة خاصة (العالم القديم) ومع استقراره في البيئات المختلفة بدأ يؤثر فيها ويتأثر بها فظهرت اختلافات في الصفات الوراثية بين البشر من حيث (لون البشرة - طول القامة - حجم الرأس - شكل العين والأنف) وهنا نشأت السلالات البشرية.
- ٢ فنجد (١) بعض الزنوج قصار القامة: الذين يعيشون في غابات حوض الكونغو وصحراء كلهاري بإفريقيا لم يختلطوا بغيرهم من السلالات وفي طريقهم للانقراض .

م

- |                 |                            |
|-----------------|----------------------------|
| ٢ المداري الحار | ١ الاستوائي وشبه الاستوائي |
| ٤ البحر المتوسط | ٣ الموسمي                  |
| ٦ اللورانسى     | ٥ الصيني                   |
| ٨ غرب أوروبا    | ٧ التنديرا                 |
|                 | ٩ الجبلي                   |

مراجعة الوحدة الثانية

السؤال الأول:

- |                        |                              |
|------------------------|------------------------------|
| ٢ المغولية             | ١ سكان حوض البحر المتوسط     |
| ٤ تونس                 | ٣ أوروبا                     |
| ٦ آسيا                 | ٥ الزنجية                    |
| ٨ كلهاري               | ٧ المجموعة النوردية الشمالية |
| ١٠ الهوتنتوت           | ٩ إفريقيا                    |
| ١٢ العرب               | ١١ المغولية                  |
| ١٤ المجموعة الألبية    | ١٣ الزنجية                   |
| ١٦ الهند               | ١٥ النصف                     |
| ١٨ مرتفعة              | ١٧ الهند والصين              |
| ٢٠ العالم              | ١٩ الأورينوكو                |
| ٢٢ الشرقية             | ٢١ شمال أستراليا             |
| ٢٤ مونتريال            | ٢٣ جزيرة جاوة                |
| ٢٦ النرويج             | ٢٥ أمريكا الجنوبية           |
| ٢٨ جنوب دائرة الاستواء | ٢٧ خصوبة التربة              |
| ٣٠ الأمازون            | ٢٩ البرازيل                  |
| ٣٢ النامية             | ٣١ إفريقيا                   |
| ٣٤ الوفيات             | ٣٢ إثيوبيا                   |
| ٣٦ إفريقيا             | ٣٥ أوروبا                    |
| ٣٨ المتوسطة            | ٣٧ تركيا                     |
| ٤٠ روسيا               | ٣٩ غرب أوروبا                |
| ٤٢ أستراليا            | ٤١ إفريقيا                   |
| ٤٤ روسيا               | ٤٣ أوروبا                    |
|                        | ٤٥ باكستان                   |

- ١٢ (١) المغولية (٢) المغولية  
 (٣) القوقازية (٤) القوقازية  
 (٥) الزنجية (٦) المغولية  
 (٧) القوقازية (٨) المغولية
- ١٣ حيث يسكنها نحو ٦٠٪ من سكان العالم ويوجد بها أكبر دولتين في العالم من حيث عدد السكان مثل دولتي الصين والهند.
- ١٤ ترتب على ذلك مشكلات عديدة منها :  
 (١) نقص الغذاء (٢) قلة نصيب الفرد من الدخل القومي (٣) انخفاض مستوى المعيشة.  
 (٤) وجود هجرات غير شرعية تتجه في معظمها إلى الدول المتقدمة مثل دول أوروبا.
- ١٥ هي الهجرات الخارجية التي تتم من خلال وسائل غير قانونية والهروب من سلطات الحدود والإقامة غير الشرعية بالبلاد.
- ١٦ حيث يتركز السكان في المناطق ذات المناخ المعتدل كما في السواحل والمناطق مرتفعة السطح بينما يقل السكان في المناطق الاستوائية الحارة والمناطق الصحراوية.
- ١٧ بسبب وفرة فرص العمل - وفرة الخدمات والمناطق الصناعية.
- ١٨ أدى إلى خلوها من السكان بسبب شدة البرودة.
- ١٩ ليقول السكان في المناطق الجبلية الوعرة مثل المناطق وسط آسيا.
- ٢٠ يقل السكان في شمال أوروبا مثل فنلندا والنرويج بسبب شدة البرودة ويقل السكان في المناطق الجبلية بسبب وعورة السطح مثل جبال الألب.
- ٢١ لأنها منطقة موارد اقتصادية ضخمة.
- ٢٢ بسبب شدة البرودة.
- ٢٣ • يتركز بها السكان بسبب السهول الفيضية.  
 • يقل بها السكان بسبب الظروف الصحراوية.  
 • يتركز بها السكان بسبب المناطق الصناعية.
- ٢٤ علم دراسة السكان من حيث النمو والتوزيع والتركييب السكاني.

- (٢) الإسكيمو (سلالة مغولية): الذين يعيشون في صحاري التندرا الباردة شمال كندا.  
 (٣) الهنود الحمر (سلالة مغولية) الذين يعيشون في غابات وجبال أمريكا الجنوبية .  
 (٤) الأستراليون الأصليون (سلالة زنجية)  
 أدى إلى تعرض عدد كبير من زنوج إفريقيا للهجرات الإجبارية ضمن تجارة العبيد التي كانت سائدة في الماضي.  
 (٤) مجموعة بشرية تتشابه في صفاتها الجسمية الخارجية (الشكل الخارجي).  
 (٥) لأن النسبة الكبرى من سكان الصين ودول شرق وجنوب شرق آسيا (أكثر دول العالم سكاناً) ينتمون إلى السلالة المغولية.  
 (٦) الولايات المتحدة الأمريكية يضم شعبها سلالات مختلفة منها :  
 • السلالة المغولية: وهم الهنود الحمر الذين يمثلون السكان الأصليين.  
 • السلالة القوقازية: وهم السكان البيض القادمون من أوروبا .  
 • السلالة الزنجية : وهم القادمون عن طريق الهجرات الإجبارية من إفريقيا.

المقارنة	السلالة الزنجية	السلالة القوقازية
المميزات	البشرة الداكنة - الأنف العريض	البشرة البيضاء الوردية
	الشعر الأجدع - الشفاه الغليظة	الشعر المتموج - الشفاه الرفيعة

- ٨ فنجد (١) بعض الزنوج قصار القامة: الذين يعيشون في غابات حوض الكونغو وصحراء كلهاري بإفريقيا (٢) الهنود الحمر (سلالة مغولية) الذين يعيشون في غابات وجبال أمريكا الجنوبية.
- ٩ بسبب انصهار السلالات البشرية واختلاط الصفات الطبيعية التي تميز كل سلالة عن الأخرى.
- ١٠ الهنود الحمر لأنهم من أقسام السلالة المغولية وباقي العناصر من السلالة الزنجية.
- ١١ تعرض زنوج إفريقيا للهجرات الإجبارية للعمل في مزارع القطن والقصب والتبغ للأمريكتين.

السؤال السادس:

- أ
- ١ القوقازية (٣)  
٢ (٤) و (٣)
- ب
- ١ (٢)  
٢ (٣)  
٣ (١)
- ج
- ١ جزر اليابان  
٢ سهل وادي النيل  
٣ غرب أوروبا  
٤ دول البرزخ  
٥ هضبة بتاجونيا  
٦ غرب أستراليا
- د
- ١ المسيسيبي  
٢ سيبيريا  
٣ القوقازية  
٤ جبال الإنديز
- هـ
- ١ (٦)  
٢ (٤)  
٣ (٧)  
٤ (١) و (٨)  
٥ أمريكا الشمالية  
٦ (٩)  
٧ (٥)

مراجعة الوحدة الثالثة

السؤال الأول:

- ١ ديو  
٢ ذي القادر  
٣ التجاري  
٤ الجمود  
٥ تبريز  
٦ الريدانية  
٧ محمد بك أبو الذهب  
٨ تدهور الزراعة  
٩ كبار التجار  
١٠ الممالك  
١١ الريدانية  
١٢ الصناعة  
١٣ دفاعية  
١٤ الممالك  
١٥ سليم الأول  
١٦ المصريين  
١٧ الصعيد  
١٨ ١٧  
١٩ محمد كريم  
٢٠ المستعمرات  
٢١ كليبر  
٢٢ نابليون  
٢٣ أحمد باشا الجزائر  
٢٤ أبي قير البرية  
٢٥ التعرف على التاريخ المصري القديم  
٢٦ إمبابة  
٢٧ أبي قير البرية  
٢٨ الممالك  
٢٩ الجنوب

- ٢٥ بسبب انتشار الأمية والفقر في معظم دولها - الاعتماد على الزراعة البدائية والرعي - انتشار بعض العادات والتقاليد السلبية مثل الرغبة في إنجاب أكبر عدد من الأبناء والزواج المبكر للإناث.
- ٢٦ بسبب قلة معدلات المواليد والوفيات معاً.
- ٢٧ يترتب على ذلك تحمل هذه الدول ميزانية ضخمة من أجل توفير الغذاء والملبس والرعاية الصحية والتعليم وغيرها من الخدمات.
- ٢٨ حيث تقل معدلات الوفيات في الدول التي تراعى بها مستويات الوقاية الصحية وحماية البيئة من التلوث وتزداد معدلات الوفيات في الدول التي تقل فيها الرعاية الصحية وتنتشر فيها الأمراض.
- ٢٩ ناتج الفرق بين معدل المواليد ومعدل الوفيات.
- ٣٠ وذلك وفقاً لـ: تنوع الأنشطة الاقتصادية التي يقوم بها السكان في كل دولة - دخل السكان.
- ٣١ بسبب التقدم في مجالات الخدمات الصحية والتعليمية.
- ٣٢ أصبحت من الدول ذات الدخل الاقتصادي المرتفع
- ٣٣ حيث إن المناطق الجبلية الوعرة يقل بها توزيع السكان مثل جبال البحر الأحمر.
- ٣٤ بسبب وجود المدن الكبرى مثل سيدني والمناطق الصناعية الكبرى.
- ٣٥ صادقة؛ حيث في الوسط والغرب يقل السكان بسبب الظروف الصحراوية والشمال يقل السكان بسبب الغابات الموسمية وحشائش السافانا.
- ٣٦ (١) آسيا (٢) أوروبا (٣) أمريكا الشمالية (٤) أمريكا الجنوبية
- ٣٧ (١) دخل اقتصادي منخفض (٢) دخل اقتصادي فوق المتوسط (٣) دخل اقتصادي أقل من المتوسط (٤) دخل اقتصادي مرتفع (٥) دخل اقتصادي أقل من المتوسط (٦) دخل اقتصادي منخفض (٧) دخل اقتصادي فوق المتوسط

- ٦ ضعف  
٨ ازدهرت  
١٠ الوسطى  
١٢ مينو  
١٤ بولاق  
١٦ الهند  
١٨ المماليك  
٢٠ سالونيك  
٢٢ محمد علي  
٢٤ السودان
- ٥ الشيخ ظاهر العمر  
٧ أربعة  
٩ الشرعية  
١١ الأستانة  
١٣ الإسكندرية  
١٥ الدولة العثمانية  
١٧ أبي قير البحرية  
١٩ المماليك  
٢١ الاحتكار  
٢٣ بولاق  
٢٥ شبه الجزيرة العربية

السؤال الخامس:

- ٢ الغوري  
٤ علي بك الكبير  
٦ الشيخ ظاهر العمر  
٨ مراد بك  
١٠ نلسون  
١٢ ديبوي  
١٤ مينو  
١٦ القنصل الفرنسي  
١٨ محمد بك الألفي  
٢٠ علي باشا مبارك  
٢٢ السودانيين
- ١ سليم الأول  
٣ طومان باي  
٥ محمد بك أبو الذهب  
٧ محمد كريم  
٩ إبراهيم بك  
١١ نابليون  
١٣ عمر مكرم  
١٥ نابليون  
١٧ محمد علي  
١٩ عمر مكرم  
٢١ الكولونيل سيف

السؤال السادس:

- ١ بسبب اكتشاف طريق رأس الرجاء الصالح عام ١٤٩٨م - تحطم الأسطول المملوكي في معركة ديو البحرية عام ١٥٠٩م.  
٢ بسبب إدراك السلطان سليم الأول خطورة التوسع والصدام مع دول أوروبا؛ بسبب تفوقها حضارياً وعسكرياً على العثمانيين - رغبة السلطان سليم الأول في توسيع ممتلكات الدولة العثمانية في الشرق عن طريق الاستيلاء على مصر التي تمثل قلب العالم الإسلامي.  
٣ لم تتدهور أحوال المماليك اقتصادياً.  
٤ تحولت مصر من دولة مستقلة إلى ولاية عثمانية - انتقلت خلافة العالم الإسلامي الدينية والسياسية إلى الدولة العثمانية فأعلن السلطان سليم الأول نفسه

- ٣١ فرض الضرائب  
٣٣ دمياط  
٣٥ المماليك  
٣٧ سياسية وعسكرية  
٣٩ أوروبا  
٤١ الثقافية  
٤٣ اليونان  
٤٥ رفاعة الطهطاوي  
٤٧ السودانيين  
٤٩ القاهرة
- ٣٠ عكا  
٣٢ سالونيك  
٣٤ خورشيد باشا  
٣٦ الصراع على السلطة  
٣٨ المصريين  
٤٠ المماليك  
٤٢ بولاق  
٤٤ السودان  
٤٦ المورة  
٤٨ حروبه باليونان  
٥٠ المجال الصناعي

السؤال الثاني:

- ✓ ١  
✓ ٤  
X ٧  
✓ ١٠  
X ١٣  
✓ ١٦  
X ١٩  
X ٢٢  
X ٢٥  
X ٢٨  
✓ ٣١  
✓ ٣٤  
X ٣٧  
✓ ٤٠
- X ٢  
X ٥  
X ٨  
X ١١  
✓ ١٤  
✓ ١٧  
X ٢٠  
✓ ٢٣  
✓ ٢٦  
✓ ٢٩  
✓ ٣٢  
✓ ٣٥  
✓ ٣٨
- ✓ ٣  
✓ ٦  
✓ ٩  
X ١٢  
X ١٥  
X ١٨  
✓ ٢١  
X ٢٤  
✓ ٢٧  
X ٣٠  
X ٣٣  
X ٣٦  
✓ ٣٩

السؤال الثالث:

- ١ حق الانتفاع  
٣ رأس الرجاء الصالح  
٥ ذي القادر  
٧ الجلاء  
٩ العلماء  
١١ دار المحكمة  
١٣ ترعة المحمودية  
١٥ شبه الجزيرة العربية
- ٢ تبريز  
٤ الريدانية  
٦ المقاومة  
٨ اتفاقية العريش  
١٠ فرمان  
١٢ نظام الاحتكار  
١٤ المصريين
- ١ جالديران  
٤ الريدانية

السؤال الرابع:

- ١ الصفوية  
٣ الغوري

مستعمرة فرنسية في الشرق تكون قاعدتها مصر -  
 قطع الطريق بين إنجلترا ومستعمراتها في الهند.  
 أدى إلى إعدام الكثير من الأهالي والثوار - فرض  
 غرامات مالية على التجار والعلماء - شروع القوات  
 الفرنسية في تحصين مدينة القاهرة.

١٧ - موقعة شبراخيت ٢ - الحملة الفرنسية على الشام  
 ٣ - اتفاقية العريش ٤ - ثورة القاهرة الثانية

دور عمر مكرم في مواجهة الاحتلال الفرنسي	دور محمد كريم في مواجهة الاحتلال الفرنسي
قامت ثورة القاهرة الثانية بزعامه السيد عمر مكرم نقيب الأشراف وكانت في حي بولاق.	تصدى أهالي الإسكندرية للاحتلال الفرنسي بقيادة محمد كريم حاكم الإسكندرية.

٢٠ حيث من النتائج العلمية للحملة الفرنسية اكتشاف حجر  
 رشيد عام ١٧٩٩م، وترتب على ذلك التعرف على التاريخ  
 المصري القديم.

٢١ بسبب مقاومة واستبسال أهالي عكا بقيادة أحمد باشا  
 الجزائر - مساعدة الأسطول البريطاني وإمداده لعا  
 بالمؤن والذخائر.

٢٢ أدى إلى هزيمة المماليك وفرار مراد بك إلى الصعيد وفرار  
 إبراهيم بك والوالي العثماني إلى الشام.

٢٣ من نتائج الحملة الفرنسية سياسياً نمو الروح القومية  
 لدى المصريين؛ حيث تمسك المصريون بحقوقهم في  
 الحرية وفي اختيار حاكمهم بعد خروج الحملة.

٢٤ لدراسة أحوال مصر من جميع النواحي وكيفية استغلال  
 مواردها.

٢٥ بسبب تحالف الدول الأوروبية ضد فرنسا.

٢٦ حيث بعد رفض إنجلترا لاتفاقية العريش قام كليبر  
 بمهاجمة القوات العثمانية بعد أن سمح بدخولهم  
 القاهرة وأعادها متقهقرة إلى الشام مرة أخرى.

٢٧ وذلك بسبب هزيمة المماليك أمام الحملة الفرنسية في  
 معركتي شبراخيت وإمبابة وفرارهم بعدها.

٢٨ من نتائج معركة أبي قير البحرية حرمان الحملة من  
 إمدادات فرنسا لها فقام نابليون بفرض الضرائب

الفادحة على المصريين؛ مما دفع المصريين بالقيام  
 بثورة القاهرة الأولى عام ١٧٩٨م.

الحامي الوحيد للحرمين الشريفين وجميع رعايا  
 المسلمين - سيطر العثمانيون على العالم العربي من  
 الاتجاهين الآسيوي والإفريقي.

مقارنة	معركة مرج دابق	معركة الريدانية
أوجه الشبه	أن كليهما كانت بين المماليك والعثمانيين وكليهما انتهت بهزيمة المماليك وانتصار العثمانيين.	
أوجه الاختلاف	كانت سنة ١٥١٦ وكان قائد المماليك السلطان الغوري، وترتب عليها: أصبحت الشام ولاية عثمانية.	كانت سنة ١٥١٧ وكان قائد المماليك طومان باي، وترتب عليها: أصبحت مصر ولاية عثمانية.

٦ حيث عانى الفلاح من كثرة الضرائب المفروضة على  
 الأراضي الزراعية وشدة تعسف وظلم الملتزمين في  
 جمعها وإهمال الطبقة الحاكمة لتنظيم الري وإقامة  
 السدود وحفر الترعة.

٧ أعتقد أنه قرار لا يعجبني؛ لأن الصناعة في مصر  
 تدهورت وأصبحت يدوية بسيطة وجميعها رديئة.

٨ بسبب تحول الطريق التجاري بين الشرق والغرب إلى  
 طريق رأس الرجاء الصالح - منح الدولة العثمانية  
 الامتيازات الأجنبية للدول الأوروبية.

٩ حيث إن أمهر الحرفيين والصناع المصريين تم  
 إرسالهم إلى الأستانة عاصمة الدولة العثمانية وبقيت  
 الصناعة في مصر مع صغار الحرفيين بسيطة  
 وريئة.

١٠ أدى إلى إعادة مصر ولاية عثمانية تحت حكم شيخ  
 البلد محمد بك أبو الذهب.

١١ بسبب العزلة التي فرضها العثمانيون على مصر.

١٢ لم تصبح مصر ولاية عثمانية واستمرت دولة  
 مملوكية مستقلة.

١٣ قام علي بك الكبير بإرسال نائبه محمد بك أبو الذهب  
 لغزو الشام واستطاع دخول دمشق.

١٤ أدى إلى كثرة الضرائب على الفلاح المصري وتدهور  
 أحوال المجتمع الريفي في مصر.

١٥ أن ينتفع الفلاح بزراعة الأراضي وليس له حق  
 التصرف فيها.

١٦ لتعويض فرنسا عن فقدان مستعمراتها بإنشاء

- ٤٣ استمرار النهضة التعليمية بعد عودتهما من أوروبا. بسبب ازدهار الزراعة والصناعة والاستقرار الداخلي للبلاد.
- ٤٤ حيث أسس ترسانة بحرية لصناعة السفن في بولاق ثم في الإسكندرية وزودها بكافة أنواع الأسلحة - أعد أماكن لتدريب وتعليم البحارة والجنود.
- ٤٥ أدى إلى امتداد النفوذ المصري إلى جنوب السودان - إنشاء مدينة الخرطوم - اكتشاف منابع نهر النيل.
- ٤٦ من نتائج حروب اليونان علو مكانة مصر الدولية بسبب تفاوض الدول الأوروبية مع محمد علي مباشرة لإنهاء الحرب؛ مما أدى إلى توتر العلاقة بين محمد علي والسلطان العثماني.
- ٤٧ لأنه أقام المصانع الحكومية مثل مصانع الغزل والنسيج والورق والسكر - وجمع الصببة للعمل في مصانع الدولة بأجور رمزية فأصبحت بمثابة مدارس صناعية - الاستعانة بالخبرات الأجنبية وإرسال البعثات للخارج وترجمة الكتب الخاصة بمختلف الصناعات.
- ٤٨ أدى إلى اهتمام محمد علي بالتعليم والثقافة.
- ٤٩ حيث أنشأ ترسانة في القلعة لتصنيع الأسلحة وأنشأ القلاع في الإسكندرية ورشيد ودمياط للدفاع عن البلاد.
- ٥٠ من النتائج السلبية بحروب اليونان هزيمة جيش محمد علي وتحطيم الأسطول المصري في معركة نفارين ١٨٢٧ م - من النتائج الإيجابية لحروب اليونان ضم جزيرة كريت لولاية مصر وعلو مكانة مصر الدولية نتيجة لتفاوض الدول الأوروبية مع محمد علي لإنهاء الحرب.
- ٥١ حيث استطاع محمد علي السيطرة على شبه الجزيرة العربية وبلاد الشام، كما سيطر على مصر والسودان، بالإضافة إلى جزيرة كريت.
- ٥٢ بسبب توتر العلاقة بين محمد علي والسلطان العثماني بسبب: (١) تفاوض محمد علي مع القوى الأوروبية لتأمين انسحاب الجيش المصري من المورة. (٢) تصميم محمد علي على الانفصال والاستقلال بمصر.
- ٥٣ أدى إلى وصول القوات المصرية إلى الشام وأعلى الفرات - امتداد النفوذ المصري في بلاد الشام.
- ٥٤ كان محمد علي استمر في التوسعات والإمبراطورية التي تحت سيطرته.

- ٢٩ (١) الصعيد (٢) ٦ (٣) ٧
- ٣٠ حيث قامت بمساعدة أهالي عكا بالمؤن والذخائر ضد الحملة الفرنسية.
- ٣١ أمر سلطاني يصدر من قبل سلطان الدولة العثمانية واجب التنفيذ.
- ٣٢ بهدف احتلال مصر وخلق محمد علي من الحكم وتولية محمد بك الألفي.
- ٣٣ ١- نفي عمر مكرم إلى دمياط (١٨٠٩م). ٢- حملة فريزر (١٨٠٧م). ٣- تولية محمد علي (١٨٠٥م). ٤- ثورة مارس (١٨٠٤م). ٥- خروج الحملة الفرنسية من مصر (١٨٠١م).
- ٣٤ لقيام السلطان العثماني بنقل محمد علي إلى سالونيك وتعيين الوالي العثماني الذي جاء مع الأسطول.
- ٣٥ أدى إلى عزل خورشيد باشا وتعيين محمد علي على حكم مصر بعد أن أخذوا عليه العهود والمواثيق.
- ٣٦ حيث أخذت عليه الزعامة الشعبية العهود والمواثيق بأن يحكم بالعدل وألا يبرم أمراً إلا بمشورتهم.
- ٣٧ لأنه كان يرى أنهم يمثلون مصدرًا للقلق والفوضى.
- ٣٨ حيث قام السلطان العثماني بالرضوخ للزعامة الشعبية وتخليه عن فكرة نقل محمد علي وقام بتثبيتته على مصر؛ مما أدى إلى تدهور العلاقة بين بريطانيا والسلطان العثماني.
- ٣٩ قامت بريطانيا بإرسال حملة فريزر لخلق محمد علي وتولية محمد بك الألفي المملوكي حكم مصر.

وجه المقارنة	فرمان ٥ يوليو ١٨٠٥م	فرمان يوليو ١٨٠٦ م
النصوص	عزل خورشيد باشا وتعيين محمد علي على حكم مصر.	نقل محمد علي واليًا على سالونيك في مقدونيا - تسليم السلطة دون معارضة أو مقاومة إلى والٍ عثماني جاء مع الأسطول العثماني.

- ٤١ نظام تقوم فيه الحكومة متمثلة في محمد علي بتحديد نوع الغلات التي تزرع ونوع المصنوعات التي تنتج وتحديد أثمان شرائها وأثمان بيعها في السوق.
- ٤٢ حيث كان من أبرز أعضاء هذه البعثات رفاعة رافع الطهطاوي وعلي باشا مبارك اللذان أسهما في

السؤال الثالث:

- ١ اللائحة السعيدية ٢ ديوان التعليم
- ٣ ترعة الإبراهيمية ٤ الجمعية الجغرافية
- ٥ المحاكم القنصلية ٦ المختلطة
- ٧ بعثة كيب ٨ صندوق الدين
- ٩ الوزارة المختلطة ١٠ شورى النواب
- ١١ الثورة العربية ١٢ وزارة شريف
- ١٣ الاحتلال ١٤ كفر الدوار
- ١٥ التل الكبير ١٦ القطن
- ١٧ الاتفاق الودي ١٨ دانشواي
- ١٩ الحزب الوطني ٢٠ جريدة اللواء
- ٢١ الحماية البريطانية ٢٢ جزيرة مالطة
- ٢٣ تصريح ٢٨ فبراير ٢٤ دستور ١٩٣٠
- ٢٥ وزارة الشعب

السؤال الرابع:

- ١ سعيد ٢ نوبار باشا
- ٣ وسط إفريقيا ٤ الإسكندرية
- ٥ سعيد باشا ٦ البريطانية
- ٧ صافي أرباح ٨ توفيق
- ٩ سيلان ١٠ الأساسية
- ١١ مظاهرة عابدين ١٢ وزارة البارودي
- ١٣ اللورد كرومر ١٤ مراكش
- ١٥ ولسن ١٦ باريس
- ١٧ فؤاد الأول ١٨ دستور ١٩٢٣ م
- ١٩ مونترو ١٩٣٧ م ٢٠ مصطفى النحاس

السؤال الخامس:

- ١ عباس باشا ٢ سعيد باشا
- ٣ سعيد باشا ٤ فرديناند ديليبس
- ٥ الخديوي اسماعيل ٦ الخديوي إسماعيل
- ٧ مستر كيب ٨ نوبار باشا
- ٩ الخديوي توفيق ١٠ رياض باشا
- ١١ عثمان رفقي ١٢ البارودي
- ١٣ شريف باشا ١٤ راغب باشا
- ١٥ أحمد عرابي ١٦ أحمد عرابي
- ١٧ مصطفى كامل ١٨ اللورد كرومر
- ١٩ عباس حلمي الثاني ٢٠ محمد فريد
- ٢١ السير ونجت ٢٢ سعد زغلول
- ٢٣ ولسن ٢٤ الجنرال اللنبي
- ٢٥ اللورد ملنر ٢٦ عدلي يكن

٥٥ لأنهم أثبتوا كفاءة في الانتظام في التدريب وطاعة الأوامر العسكرية والتفوق في ميادين القتال الخارجية.

مراجعة الوحدة الرابعة

السؤال الأول:

- ١ الإسكندرية ٢ المحمودية ٣ البريطانية
- ٤ سعيد باشا ٥ عباس باشا ٦ شورى النواب
- ٧ سعيد ٨ المراقبة الثنائية
- ٩ الخزانة المصرية
- ١٠ بريطانيا ١١ سعيد باشا
- ١٢ السلطة التنفيذية في مصر
- ١٣ الفلاحين ١٤ الخمس
- ١٥ الاقتصادية ١٦ راغب باشا ١٧ رياض باشا
- ١٨ الشراكسة ١٩ البارودي ٢٠ عابدين
- ٢١ أحمد عرابي ٢٢ الأستانة

- ٢٣ التل الكبير
- ٢٤ التعبئة الشعبية ٢٥ عبد الله النديم
- ٢٦ راغب ٢٧ سيلان ٢٨ كفر الدوار
- ٢٩ السودان ٣٠ سياسية
- ٣١ المعتمد البريطاني
- ٣٢ القطن ٣٣ كرومر ٣٤ محمد فريد
- ٣٥ حماية عرش الخديوي ٣٦ الأعيان
- ٣٧ إيقاظ وعي المصريين
- ٣٨ الخديوي عباس حلمي الثاني ٣٩ الحزب الوطني

- ٤٠ الأعيان ٤١ مالطة ٤٢ باريس
- ٤٣ أربعة ٤٤ معاهدة ١٩٣٦ م
- ٤٥ زيور باشا ٤٦ سلطان ٤٧ اللنبي
- ٤٨ القناة ٤٩ فرنسا ٥٠ الملك فاروق

السؤال الثاني:

- |      |      |      |      |      |
|------|------|------|------|------|
| ✓ ٥  | ✓ ٤  | ✓ ٣  | ✓ ٢  | × ١  |
| × ١٠ | ✓ ٩  | × ٨  | × ٧  | ✓ ٦  |
| ✓ ١٥ | × ١٤ | × ١٣ | ✓ ١٢ | ✓ ١١ |
| ✓ ٢٠ | ✓ ١٩ | × ١٨ | × ١٧ | ✓ ١٦ |
| ✓ ٢٥ | ✓ ٢٤ | × ٢٣ | ✓ ٢٢ | ✓ ٢١ |
| ✓ ٣٠ | × ٢٩ | ✓ ٢٨ | ✓ ٢٧ | ✓ ٢٦ |
|      |      | × ٣٣ | ✓ ٣٢ | ✓ ٣١ |

- (٣) علاقة الخديوي بالسلطان العثماني القائمة على الهدايا وتقديم المال للحصول على الفرمانات التي يوسع بها نطاق حكمه مثل فرمان جعل العرش في أكبر أبنائه وفرمان زيادة الجيش.
- ٨ هي تسهيلات منحها الدولة العثمانية للدول الأجنبية تشجيعاً لهم للإقامة والتجارة.
- ٩ حفر ترعة الإبراهيمية لأنه من أعمال الخديوي إسماعيل وباقي الأعمال قام بها سعيد باشا.
- ١٠

المقارنة	عهد عباس باشا	عهد سعيد باشا
أهم الأعمال في النقل والمواصلات	- أصلح الطريق البري بين القاهرة والسويس - أنشأ أول خط حديدي بين القاهرة والإسكندرية.	- أتم الخط الحديدي بين القاهرة والإسكندرية الذي بدأه عباس - أنشأ خطاً حديدياً بين القاهرة والسويس.

- ١١ للوفاء بالتزاماته ومشروعاته.
- ١٢ مما أدى إلى قيام الخديوي إسماعيل بإقصاء الوزيرين الأجبيين عن الوزارة.
- إصدار مرسوم في أبريل ١٨٧٩ م بتسوية الديون طبقاً لما قرره اللائحة الوطنية.
- ١٣ حيث كانت فترة حكمه من أزهى الفترات تقدماً وعمراً في تاريخ مصر الحديث وكانت أيضاً من أخطر الفترات التي تعرضت لها مصر من تدخل أجنبي في شئونها بسبب الأخطاء التي أدت إلى تدهور مركزها المالي وانهايار استقلالها السياسي.
- ١٤ أن كليهما أرسل حملات عسكرية في إفريقيا استطاعت السيطرة على مياه النيل.
- ١٥ من شروط امتياز قناة السويس الثاني حفر ترعة لري الأراضي بجوارها شرق الدلتا.
- ١٦ صادقة لأن كليهما قام بحفر الترعة لتحسين طرق الري بالإضافة إلى إنشاء القناطر على النيل.
- ١٧ نتيجة لذلك تدخلت فرنسا وبريطانيا للمرة الثانية فقامتا بإرسال أسطولهما إلى الإسكندرية كما أرسلت المذكرة المشتركة الثانية لتدعم الخديوي توفيق ضد الحركة العسكرية.

- ٢٧ الملك فؤاد الأول
- ٢٨ عبد الخالق ثروت
- ٢٩ سعد زغلول
- ٣٠ زيور باشا
- ٣١ إسماعيل صدقي
- ٣٢ مصطفى النحاس
- ٣٣ الملك فاروق
- ٣٤ مصطفى النحاس

#### السؤال السادس:

- ١ بموجبها أصبح للفلاح الحق في توريث الأرض الزراعية.
- ٢ (١) تمنح الحكومة المصرية الشركة الحق في إنشاء قناة السويس وحفر ترعة المياه الصالحة للملاحة النيلية وإنشاء فرعين للري والشرب يستمدان مياههما من ترعة الإسماعيلية.
- (٢) تنازل الحكومة المصرية للشركة مجاناً عن جميع الأراضي المملوكة لها والمطلوبة لإنشاء القناة المالحة وترعة المياه العذبة.
- (٣) للشركة الحق في فرض ما تشاء من رسوم على السفن التي تمر في المياه المالحة أو الترعة العذبة.
- (٤) يكون أربعة أخماس (٨٠٪) العمال من المصريين.
- (٥) تحصل مصر على ١٥٪ من صافي الأرباح مقابل الأراضي والامتيازات الممنوحة للشركة.
- (٦) يصدق السلطان العثماني على امتياز حفر القناة شرطاً لصحته.
- ٣ لأنه أغلق معظم المدارس - وأغلق معظم المصانع - وخفض حجم الجيش - وعطل أعمال الترسانة البحرية في عهده.
- ٤ هذا العمل يعجبني لأنه يعد من التطورات الدستورية ويعد بداية تاريخ المؤسسات النيابية في مصر الحديثة.
- ٥ تنازل المصريين عن حقوقهم لأن أحكامها لا تستأنف إلا بالخارج.
- ٦ لأنهم لم يثبوا كفاءتهم في حكم البلاد - صدمتهم الموجة الغربية وانفلتت من أيديهم زمام الأمور - تأرجحوا في الميل بين إنجلترا وفرنسا والدولة العثمانية.
- ٧ (١) سياسية الاقتراض التي اتبعها الخديوي إسماعيل من الدول الأجنبية للوفاء بالتزاماته ومشروعاته.
- (٢) افتتح قناة السويس وقيام الخديوي إسماعيل بإقامة حفل ودعا إليه ملوك العالم وأنفق ببذخ على هذه الاحتفالات

- ٢٧ منها بطولات الضابط محمد عبيد الذي صمد بقواته أمام القوات البريطانية وقتلهم قتلاً شديداً إلى أن استشهد هو ومعظم رجاله في هذه المعركة.
- ٢٨ لأن عرابي بدأ في عمل استحكامات عسكرية ضد القوات البريطانية في كفر الدوار في نفس الوقت أمر الخديوي توفيق بالكشف عن الاستعدادات الحربية والحضور لسراي رأس التين بالإسكندرية فرفض عرابي واتهمه بمحاباة البريطانيين وترتب على ذلك أمر الخديوي بعزل عرابي من الحربية وحذر المصريين منه.
- ٢٩ أدى إلى مرورهم من القناة دون مراعاة للملاحة الدولية واحتلال مدينة الإسماعيلية واتخذوها قاعدة للدخول إلى داخل البلاد.
- ٣٠ من مطالب مظاهرة عابدين إنشاء مجلس نواب على النسق الأوروبي وتم عمل مجلس نواب في ديسمبر ١٨٨١م في عهد وزارة شريف باشا.
- ٣١ لاغتيال عرابي والضباط الوطنيين - للإطاحة بوزارة محمود سامي البارودي.
- ٣٢

المقارنة	المذكرة المشتركة الأولى	المذكرة المشتركة الثانية
المطالب	- رغبة بريطانيا وفرنسا في حل مجلس النواب. - تأييدهما التام للخديوي ضد الحركة الوطنية.	- إقالة وزارة البارودي. - إبعاد عرابي وزملائه خارج البلاد.

- ٣٣ اتفاق بين فرنسا وإنجلترا نص على انفراد إنجلترا بحكم مصر مقابل انفراد فرنسا بحكم مراكش.
- ٣٤ لأن الاحتلال البريطاني فرض سياسة اقتصادية تخدم مصالحه من خلال زراعة القطن وتصديره إلى المصانع البريطانية ومحاربة الصناعة المصرية بتسويق المنتجات البريطانية في الأسواق المصرية أدى إلى عزل اللورد كرومر أول وأقوى معتمد بريطاني في مصر.

- ١٨ حيث تم إزالة رياض باشا من الوزارة وتعيين شريف باشا وزيادة عدد الجيش وإنشاء مجلس النواب.
- ١٩ اللائحة الأساسية في عهد وزارة شريف باشا لم تتضمن حق المجلس في مناقشة الميزانية بينما اللائحة في عهد وزارة البارودي نصت على مبدأ مسئولية الوزارة أمام مجلس النواب وحق المجلس في مناقشة الميزانية وإقرارها.
- ٢٠ - الخديوي توفيق - الخديوي توفيق
- ٢١ بسبب حادثة الإسكندرية بين أحد الرعايا الأجانب والأهالي المصرية والأوضاع الداخلية غير المستقرة عقد ممثلو الدول العظمى مؤتمر الأستانة للنظر في المسألة المصرية.
- ٢٢ لم يحدث جدال بين شريف باشا وبين مجلس النواب - لم يقدم شريف باشا استقالته - لم ترسل بريطانيا وفرنسا المذكرة المشتركة الأولى.
- ٢٣ بسبب
- (١) ازدياد التدخل الأجنبي في شئون مصر نتيجة القروض وفقدان مصر نصيبها من أسهم شركة قناة السويس.
- (٢) المؤثرات الفكرية الغربية التي أدت إلى نمو الوعي القومي وتطورت إلى المطالبة بالدستور والحكم النيابي.
- (٣) سوء أحوال مصر الاقتصادية في عهد وزارة رياض باشا.
- (٤) اضطهاد عثمان رفقي ناظر الجهادية للضباط المصريين وعدم ترقيتهم.
- ٢٤ الاستيلاء على أرض الغير بالقوة.
- ٢٥ (١) إسقاط حكومة رياض باشا المستبدة (٢) تشكيل مجلس نواب على النسق الأوروبي (٣) زيادة عدد الجيش إلى ١٨ ألف جندي
- ٢٦ حادثة قصر النيل - مظاهرة عابدين - المذكرة المشتركة الأولى - حادثة الإسكندرية - مؤتمر الأستانة.

- ٣٣ طالب محمد فريد بإنشاء نقابات للعمال كما طالب بإنشاء مدارس ليلية لتعليم العمال والفقراء.
- ٣٧ صادقة حيث أصبح محمد فريد يجاهد ضد الاحتلال والخيوي والمطالبة بالجملة والدستور.
- ٣٨ حيث قام الاحتلال البريطاني بحل مجلس النواب الذي انتخب عام ١٨٨١م ووضع مجالس لا سلطة لها مثل مجلس شورى القوانين ثم الجمعية العمومية ثم الجمعية التشريعية.
- ٣٩ أدى إلى أن نجح في تأييد من الرأي العام في إجبار الحكومة المصرية على دعوة مجلس شورى القوانين والجمعية العمومية لمناقشة طلب الشركة وأدى إلى رفض الحكومة المصرية طلب الشركة.
- ٤٠ حيث احتلت بريطانيا مصر بحجة :  
- حماية الخديو وتدعيم سلطته - تأمين حياة الأجانب ومصالحهم - القضاء على الثورة العربية.
- ٤١ بهدف تخريج مجموعة من الموظفين للعمل في المصالح الحكومية والإدارات.
- ٤٢ أدى إلى التوسع في زراعة محصول القطن وتصديره إلى المصانع البريطانية ومحاربة الصناعة المصرية بتسويق المنتجات البريطانية في الأسواق المصرية.
- ٤٣ أن كليهما اهتمتا بالتعليم فقام مصطفى كامل بإنشاء الجامعة المصرية وقام محمد فريد بالمطالبة بإنشاء مدارس ليلية للعمال والفقراء.
- ٤٤ لتوفير المادة الخام اللازمة للمصانع البريطانية.
- ٤٥ خضوع مصر المطلق للاحتلال البريطاني.
- ٤٦ لأنه شارك في الثورة جميع فئات وعناصر الشعب المصري مما يؤكد على الوحدة الوطنية.
- ٤٧ ترتب على ذلك: (١) أعلن السلطان فؤاد الأول نفسه ملكًا على مصر مارس ١٩٢٢م. (٢) أعيدت وزارة الخارجية المصرية.
- (٣) شكلت وزارة عبد الخالق ثروت لجنة من ثلاثين عضوًا لإعداد الدستور الذي عرف بدستور ١٩٢٣م.
- ٤٨ حيث أعطى له سلطات واسعة إزاء السلطين التشريعية والتنفيذية فكان من حقه حل البرلمان والدعوة لانتخابات جديدة.
- ٤٩ الإجراءات العنيفة التي اتخذتها سلطات الاحتلال البريطاني في مصر أثناء الحرب العالمية الأولى كانت أحد عوامل قيام المصريين بثورة ١٩١٩م.
- ٥٠ حيث كان ينادي بحق الشعوب في تقرير مصيرها ومن ناحية أخرى اعترف في مؤتمر الصلح بالحماية البريطانية على مصر.
- ٥١ - الملك فؤاد - الملك فؤاد - الملك فؤاد
- ٥٢ لإقناع الشعب المصري بالحماية البريطانية على مصر.
- ٥٣ أعطى للملك سلطات واسعة مما جعل المصريين يقومون بالعديد من المظاهرات لإلغائه واضطر الملك فؤاد الأول إلى الرضوخ لمطالب الأمة وإعادة دستور ١٩٢٣م.
- ٥٤ **من مزاياه:** كان خطوة في تقرير مبدأ الأمة مصدر السلطات - وضع نهاية الحكم المطلق - قرر مبدأ المساواة بين جميع المصريين في الحقوق والواجبات واحترام الحريات العامة.
- من عيوبه:** أعطى الملك سلطات واسعة إزاء السلطين التشريعية والتنفيذية فكان من حقه حل البرلمان والدعوة لانتخابات جديدة.
- ٥٥ من نصوص معاهدة ١٩٣٦م استمرار حكم السودان وفقًا لاتفاقية الحكم الثنائي ١٨٩٩م مع عودة القوات المصرية إلى السودان.
- ٥٦ لأنها كانت أداة للقصر الملكي ولبريطانيا لتحقيق مصالحها دون النظر لمصالح الشعب المصري.
- ٥٧ أصبح الوفد المصري بزعامة سعد زغلول يمثل الأمة.
- ٥٨ لم يكن من حق بريطانيا تأمين المواصلات في مصر ولم يكن من حقه الدفاع عن أي اعتداء أو تدخل أجنبي ولم يكن من حقه حماية الأقليات أو حماية المصالح الأجنبية.
- ٥٩ قرار جيد ورائع من رجال الشرطة للدفاع عن بلدهم ورفضهم التسليم لقوات الاحتلال.
- ٦٠ (١) جلاء القوات البريطانية عن القاهرة وجميع الجهات الأخرى عدا منطقة قناة السويس.  
(٢) وضع مصر موانئها ومطاراتها وطرق مواصلاتها تحت تصرف بريطانيا في حالة الحرب.  
(٣) تعهد الحكومة المصرية ببناء الثكنات والمعسكرات والطرق والكباري اللازمة للقوات البريطانية.
- (٤) مساعدة بريطانيا لمصر للانضمام لعصبة الأمم.  
(٥) استمرار إدارة السودان وفقًا لاتفاقية الحكم الثنائي ١٨٩٩م.  
(٦) أن تسري هذه المعاهدة لمدة ٢٠ عامًا.