

ستدياد

المراجعة النهائية

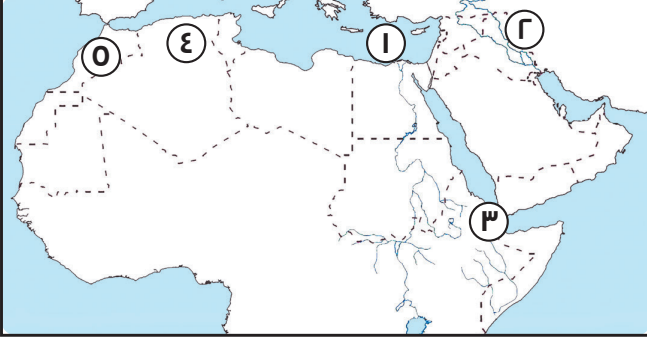
الابتدائي
الصف
السادس
6

2026
الدراسات
الاجتماعية

الفصل الدراسي الأول

امتحان 1

1 أمامك خريطة صماء للوطن العربي، وضع ما تدل عليه الأرقام:



- 1 البحر
- 2 جبال
- 3 مضيق
- 4 إقليم مناخي
- 5 أولى الدول العربية إنتاجًا للفوسفات

2 اختر الإجابة الصحيحة مما بين القوسين:

- (ثقافية - ترفيهية - علاجية - دينية)
(الجزائر - تونس - السعودية - المغرب)
(ضانا - سيوة - عين صالح - عين ماعين)
(السودان - ليبيا - لبنان - السعودية)
(الزراعة - الرعي - الصناعة - السياحة)

- 1 زيارة عين ماعين تُعد سياحة
- 2 من الدول العربية في إنتاج الدواجن
- 3 واحة توجد في الجزائر
- 4 يمتد بحر الرمال العظيم بين دولتي مصر و
- 5 عمل الرسول (ﷺ) بحرفة وهو في بيت عمه.

3 صوب ما تحته خط:

- 1 يدخل الحديد في صناعة الأسمدة والطوب الحراري.
- 1 مصر أكبر الدول العربية في إنتاج البترول.
- 1 تسقط الأمطار جنوب الوطن العربي في فصل الربيع.
- 1 عمل عثمان بن عفان على تنظيم الشرطة.
- 1 كان عمر بن الخطاب هو صاحب الرسول (ﷺ) في رحلة الهجرة.

4 اكتب ما تشير إليه كل عبارة مما يلي:

- ()
()
()
()
()

- 1 أصغر دولة عربية من حيث المساحة.
- 2 سياحة تعتمد على زيارة الأماكن بهدف الاستشفاء.
- 3 مشروع تنمية زراعية جنوب الوادي في الصحراء الغربية.
- 4 إقليم مناخي يمتد في الأجزاء الشمالية للوطن العربي.
- 5 سهول فيضية توجد في دولتي مصر والسودان.

5 حدد المعدن الذي تعتمد عليه الصناعات الآتية:

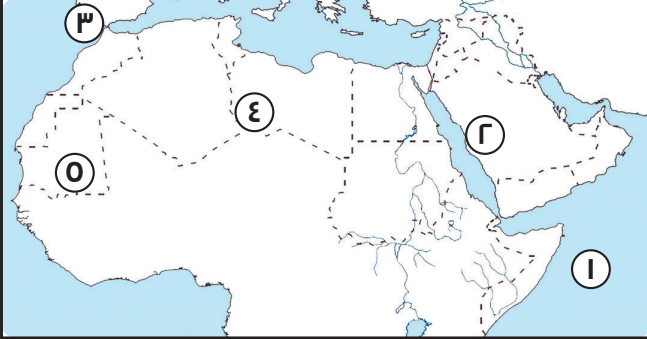
- 1 صناعة القطارات والسيارات.
- 2 مواد الطلاء.
- 3 العملات.
- 4 الأجهزة الإلكترونية.
- 5 الصناعات الكيماوية.

٦ **أجب عما يلي:**

- ١ **بم تفسر:** - أمر الرسول أصحابه بالهجرة إلى الحبشة؟
- تكون الكثبان الرملية؟
- ٢ **ما النتائج المترتبة على:** مخالفة الرماة أوامر الرسول في غزوة أحد؟
- ٣ **دل:** تتعدد مصادر المياه العذبة في الوطن العربي.
- ٤ **وضح أهمية صحيفة المدينة.**
- ٥ **ما المقصود بالتصحر؟**

امتحان ٢

١ أمامك خريطة صماء للوطن العربي، وضع ما تدل عليه الأرقام:



١ المحيط

٢ هضبة

٣ مضيق

٤ إقليم مناخي

٥ أولى الدول العربية إنتاجاً للحديد

٢ أكمل العبارات الآتية:

١ تقع جبال _____ في شمال الوطن العربي.

٢ محمية _____ توجد في دولة مصر.

٣ أكبر الدول العربية من حيث المساحة _____

٤ أكبر الدول العربية في تربية الإبل _____

٥ تواجه الزراعة في الوطن العربي عدة مشكلات، مثل: مشكلة _____

٣ اكتب كلمة "صح" أمام العبارة الصحيحة، وكلمة "خطأ" أمام العبارة غير الصحيحة:

١ تتنوع مصادر الثروة السمكية في الوطن العربي. (_____)

٢ ترتفع درجة الحرارة كلما ارتفعنا ١٥٠ مترًا على سطح البحر. (_____)

٣ الرعي الجائر للحيوانات يساهم في زيادة المساحات الخضراء. (_____)

٤ تقل الحرارة في وطننا العربي كلما اتجهنا جنوبًا. (_____)

٥ نقضت قريش عهدها مع النبي (ﷺ) بالاعتداء على قبيلة خزاعة. (_____)

٤ من هو...؟

١ أمره أبو بكر الصديق بجمع القرآن الكريم بعد حروب الردة. (_____)

٢ تزوجها الرسول قبل نزول الوحي. (_____)

٣ أمر بإنشاء ديوان بيت المال. (_____)

٤ ثالث الخلفاء الراشدين. (_____)

٥ وضع التقويم الهجري. (_____)

٥ حدد نوع السياحة عند زيارة الأماكن التالية:

١ زيارة عين ماعين في الأردن. _____

٢ زيارة المحميات الطبيعية. _____

٣ زيارة المسجد الحرام بالسعودية. _____

٤ زيارة مدينة الأقصر. _____

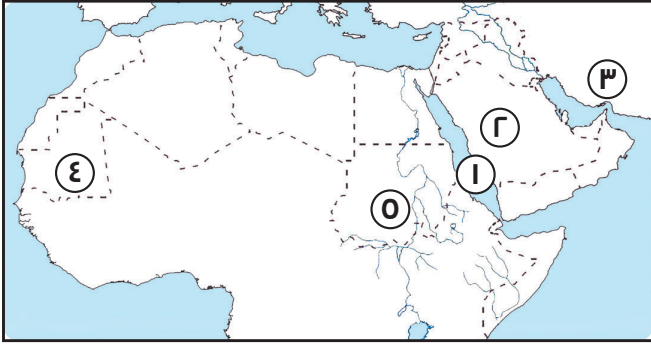
٥ زيارة الشواطئ في مصر وجزر القمر. _____

٦ أجب عما يلي:

- ١ **بم تفسر:** - أهمية صلح الحديبية للدعوة الإسلامية؟
- تكوّن السهول الفيضية على جانبي الأنهار؟
- ٢ **ما النتائج المترتبة على:** الموقع الفلكي للوطن العربي؟
- ٣ **دل:** تمتد أرض الوطن العربي في أكثر من قارة.
- ٤ **وضح أهم المشكلات التي تواجه الثروة السمكية في الوطن العربي.**
- ٥ **ما العلاقة بين التعرية الهوائية وبحر الرمال العظيم؟**

امتحان ٣

١ أمامك خريطة صماء للوطن العربي، وضع ما تدل عليه الأرقام:



- ١ البحر
٢ جبال
٣ مضيق
٤ إقليم مناخي
٥ أولى الدول العربية في تربية الأبقار

٢ أكمل العبارات الآتية:

- ١ نزل سيدنا جبريل على الرسول (ﷺ) وهو في سن
٢ تم صلح الحديبية بين والرسول (ﷺ).
٣ يحل فصل الصيف على الوطن العربي عند تعامد الشمس على
٤ تمتد جبال الحجاز في الجناح العربي
٥ استشهد علي بن أبي طالب على يد

٣ اكتب كلمة "صح" أمام العبارة الصحيحة، وكلمة "خطأ" أمام العبارة غير الصحيحة:

- ١ تُعد السعودية أولى الدول العربية في إنتاج البترول. (.....)
٢ يكفي إنتاج اللحوم حاجة السكان. (.....)
٣ تسقط الأمطار على شمال الوطن العربي في فصل الشتاء. (.....)
٤ قام الخليفة هارون الرشيد ببناء مدينة سامراء. (.....)
٥ قام علي بن أبي طالب بتنظيم الشرطة. (.....)

٤ اكتب ما تشير إليه كل عبارة مما يلي:

- ١ ظهرت على يده الدعوة العباسية. (.....)
٢ محيط يحد الوطن العربي من جهة الغرب. (.....)
٣ أكبر دولة عربية من حيث المساحة. (.....)
٤ مشروع زراعي في مصر يهدف لاستصلاح أكثر من مليون فدان. (.....)
٥ سياحة تشمل زيارة الشواطئ، والاستمتاع بالطبيعة. (.....)

٥ صف الظواهر التضاريسية الآتية حسب عوامل تشكيلها:

- ١ جبال أطلس. ٢ الكثبان الرملية. ٣ سهول دجلة والفرات.
٤ جبال الحجاز. ٥ وادي الدواسر.

٦ أجب عما يلي:

١ بم تفسر: - الأهمية الدينية للوطن العربي؟

٢ ما النتائج المترتبة على:

أ- استشهاد عدد كبير من حفظة القرآن أثناء حروب الردة.

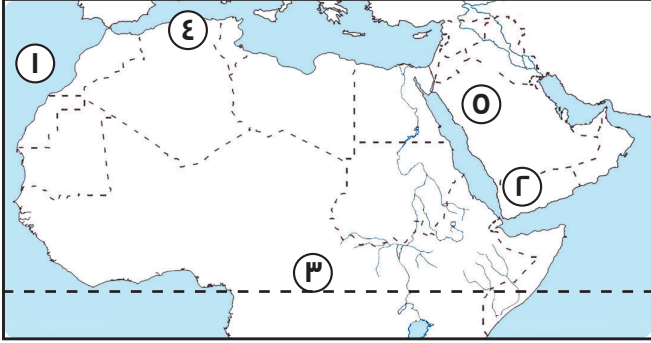
ب- معركة الزاب الأكبر ١٣٢ هـ.

٤ وضح جهود الدول العربية للتغلب على مشكلات الزراعة.

٥ ما العلاقة بين الأودية الجافة والتعرية المائية؟

امتحان ٤

١ أمامك خريطة صماء للوطن العربي، وضع ما تدل عليه الأرقام:



١ المحيط

٢ هضبة

٣ دائرة عرض

٤ إقليم مناخي

٥ أولى الدول العربية في إنتاج البترول

٢ أكمل العبارات الآتية:

١ أمر الخليفة بجمع القرآن الكريم في مصحف واحد

٢ نزلت رسالة الإسلام على الرسول (ﷺ) وهو في غار

٣ قطع الأشجار يؤدي إلى ظهور مشكلة

٤ توجد واحة سيوة في دولة

٥ قام بتعريب الدواوين في الدولة الإسلامية.

٣ اكتب كلمة "صح" أمام العبارة الصحيحة، وكلمة "خطأ" أمام العبارة غير الصحيحة:

١ اتجهت الدول العربية لاستصلاح الأراضي الزراعية.

٢ تشمل المحاصيل السكرية قصب السكر، القمح.

٣ قام عمر بن الخطاب بوضع التقويم الهجري.

٤ تعرف الغزوات بأنها خروج الجيش للقتال بدون النبي (ﷺ).

٥ هاجر الرسول (ﷺ) مع أصحابه إلى الحبشة.

٤ اكتب ما تشير إليه كل عبارة مما يلي:

١ مدينة نقل إليها علي بن أبي طالب مقر الخلافة.

٢ إقليم مناخي يشغل معظم مساحة الوطن العربي.

٣ أشهر القبائل العربية في مكة.

٤ دولة عربية تعرضت لأكبر موجة جفاف.

٥ وزع الظاهرات الجغرافية الآتية حسب موقعها في قارة آسيا أو قارة إفريقيا:

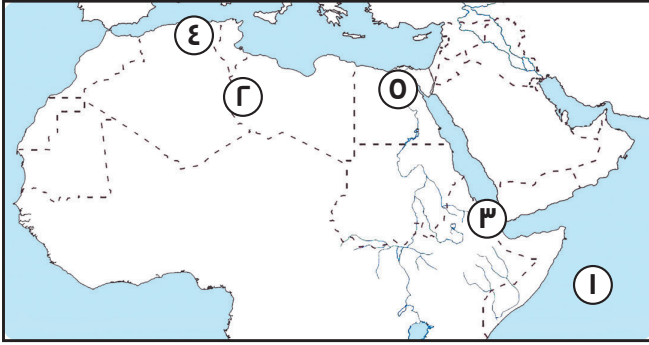
- ١ جبال زاغروس.
- ٢ بحر الرمال العظيم.
- ٣ هضبة نجد.
- ٤ جبال البحر الأحمر.
- ٥ وادي الدواسر.

٦ أجب عما يلي:

- ١ **بم تفسر:** - تحول نصر المسلمين إلى هزيمة في غزوة أحد؟
- الأهمية الاقتصادية للثروة الحيوانية؟
- ٢ **ماالنتائج المترتبة على:** طول سواحل دولة المغرب؟
- ٣ **دل على:** مرت الدعوة الإسلامية بعدة مراحل.
- ٤ **ما العلاقة بين:** الجفاف والأنشطة الاقتصادية؟

امتحان ٥

١ أمامك خريطة صماء للوطن العربي، وضع ما تدل عليه الأرقام:



١ المحيط

٢ هضبة

٣ مضيق

٤ إقليم مناخي

٥ أولى الدول العربية إنتاجاً للقمح

٢ أكمل العبارات الآتية:

١ الصحراء الكبرى تحد الوطن العربي من جهة

٢ تم فتح مصر في عهد الخليفة

٣ يمر في جنوب الوطن العربي دائرة عرض رئيسية هي

٤ تم إنشاء مدينة نيوم الخضراء في دولة

٥ زيارتك لعيون موسى سياحة

٣ اكتب كلمة "صح" أمام العبارة الصحيحة، وكلمة "خطأ" أمام العبارة غير الصحيحة:

١ دولة الإمارات الأولى عربياً في إنتاج الفوسفات.

٢ مصر أكبر دولة عربية في إنتاج الأسماك من المزارع السمكية.

٣ تنخفض الحرارة في وطننا العربي في المناطق الداخلية صيفاً.

٤ تعرضت الصومال لأكبر موجة جفاف.

٥ رحبت قريش بالدعوة الإسلامية.

٤ اكتب ما تُشير إليه كل عبارة مما يلي:

١ ممر ملاحي عالمي مهم يقع في مصر.

٢ حركات باطنية أدت إلى تكوين جبال البحر الأحمر.

٣ حشائش تنمو في الإقليم المداري.

٤ أنشأ سوق الوراقين في بغداد.

٥ سياحة تتضمن زيارة مدينة الأقصر في مصر.

5 **صنف الدول الآتية حسب الجدول:**

مصر - الإمارات - جزر القمر - السعودية - العراق - تونس

دول الجناح الآسيوي	دول الجناح الإفريقي

6 **أجب عما يلي:**

- 1 **بم تفسر:** - اختيار أبو بكر خليفة للمسلمين بعد وفاة الرسول؟
- حدوث مشكلة التصحر؟
- 2 **ما النتائج المترتبة على:** حدوث السيول؟
- 3 **دل:** يؤثر اتجاه المرتفعات على كمية المطر.
- 4 **وضح جهود الدولة العربية لتنمية الثروة السمكية.**

امتحان 1

1 أمامك خريطة صماء للوطن العربي، وضع ما تدل عليه الأرقام:

- 1 المتوسط
2 زاجروس
3 ياب المنذب
4 البحر المتوسط
5 المغرب
6 افتر:
1 علاجية
2 عين صالح
3 الرعي

3 ضُوب ما تحته خط:

- 1 الفوسفات
2 السعودية
3 الصيف
4 على بن أبي طالب
5 أبي بكر الصديق

4 اكتب ما تشير إليه العبارة:

- 1 البحرين
2 مشروع توشكي
3 سياحة علاجية
4 اقليم البحر المتوسط
5 سهول نهر النيل

5 حدّد المعدن الذي تعتمد عليه الصناعات الآتية:

- 1 الحديد
2 الذهب
3 المنجنيز
4 الكبريت
5 الحديد

6 أجب عما يلي:

- 1 لأنها فيها ملك عادل لا يظلم عنده أحد.
2 بسبب التعرية الهوائية.
3 تحول نصر المسلمين إلى هزيمة
4 أجب بنفسك

امتحان 2

1 أمامك خريطة صماء للوطن العربي، وضع ما تدل عليه الأرقام:

- 1 الهندي
2 جبل طارق
3 موريتانيا
4 نجر
5 طوروس
6 الجزائر
7 ندرة المياه العذبة

3 أكتب كلمة صح وكلمة خطأ:

- 1 صح
2 خطأ
3 خطأ
4 خطأ

4 من هو ...؟

- 1 زيد بن ثابت
2 السيدة خديجة بنت خويلد
3 عمر بن الخطاب
4 عثمان بن عفان
5 عمر بن الخطاب

4 حدّد نوع السياحة:

- 1 سياحة علاجية
2 سياحة دينية
3 سياحة بيئية
4 سياحة ثقافية
5 سياحة ترفيهية

1 أجب عما يلي:

- 1 لأن الرسول (ﷺ) تمكن من نشر دعوته خارج شبه الجزيرة العربية .
2 بسبب ترسيب المواد العالقة بها
3 أجب بنفسك
4 حيث يوجد دول في قارة آسيا ودول في قارة إفريقيا
5 أجب بنفسك
6 تؤدي التعرية الهوائية إلى تكون الكثبان الرملية مثل بحر الرمال العظيم

امتحان 3

1 أمامك خريطة صماء للوطن العربي، وضع ما تدل عليه الأرقام:

- 1 الأحمر
2 عسير
3 هرمز
4 المداري الحار
5 السودان

2 أكمل:

- 1 الأربعين
2 قریش
3 مدار السرطان
4 الأسيوي
5 على يد عبد الرحمن بن ملجم

3 أكتب كلمة صح وكلمة خطأ:

- 1 صح
2 خطأ
3 صح
4 خطأ

4 اكتب ما تشير إليه العبارة:

- 1 أبي مسلم الخرساني
2 المحيط الأطلنطي
3 الجزائر
4 مشروع الدلتا الجديدة
5 السياحة الترفيهية

5 صف الظواهر التضاريسية:

- 1 التوائية
2 تعرية هوائية
3 تعرية مائية
4 انكسارية
5 تعرية مائية

6 أجب عما يلي:

- 1 لوجود أماكن مقدسة - مهد الديانات السماوية.
2 أمر أبو بكر الصديق زيد بن ثابت بجمع القرآن الكريم.
3 سقوط الدولة الأموية وظهور الدولة العباسية
4 أجب بنفسك
5 التعرية المائية هي سبب تكون الأودية الجافة

امتحان 4

1 أمامك خريطة صماء للوطن العربي، وضع ما تدل عليه الأرقام:

- 1 الأطلنطي
2 حضرموت
3 دائرة الاستواء
4 البحر المتوسط
5 السعودية

2 أكمل:

- 1 عثمان بن عفان
2 حراء
3 التصحر
4 مصر
5 عبد الملك بن مروان

3 أكتب كلمة صح وكلمة خطأ:

- 1 صح
2 خطأ
3 صح
4 خطأ
5 خطأ

4 اكتب ما تشير إليه العبارة:

- 1 الكوفة
2 الاقليم الصحراوي الحار
3 قبيلة قریش
4 الصومال

0 **وزع الظواهر الجغرافية:**

- 1 آسيا 2 إفريقيا 3 آسيا
4 إفريقيا 5 آسيا

1 **أجب عما يلي:**

- 1 1 لمخالفة الرماة أوامر الرسول (ﷺ) ونزلهم من فوق الجبل
2 أجب بنفسك
1 أصبحت المغرب أولى الدول العربية في إنتاج الأسماك
3 : 4 أجب بنفسك

5 **امتحان**1 **أمامك خريطة صماء للوطن العربي، وضع ما تدل عليه الأرقام:**

- 1 الهندي 2 إفريقيا الشمالية
3 باب المنذب 4 البحر المتوسط
5 مصر

2 **أكمل:**

- 1 الجنوب 2 عمر بن الخطاب
3 دائرة الاستواء 4 السعودية
5 علاجية

3 **أكتب كلمة صح وكلمة خطأ:**

- 1 خطأ 2 صح 3 خطأ
4 صح 5 خطأ

4 **أكتب ما تشير إليه كل عبارة:**

- 1 قناة السويس 2 حركات إنكسارية
3 حشائش السافانا 4 هارون الرشيد
5 سياحة ثقافية

5 **صنف الدول الآتية:**

- دول الجناح الإفريقي : مصر - جزر القمر - تونس
دول الجناح الآسيوي : الامارات - السعودية - العراق

6 **أجب عما يلي:**

- أجب بنفسك