


بِسْمِ اللَّهِ الرَّحْمَنِ الرَّحِيمِ

الصف : الأول
الحصة :
الاسم :

المادة / رياضيات
التاريخ / / / 14
الموضوع / التهيئة

- لون الشاحنة بالأصفر والكرة بالأزرق والطائر بالأسود
والوردة بالأحمر




بِسْمِ اللَّهِ الرَّحْمَنِ الرَّحِيمِ

الصف : الأول
الحصة :
الاسم :

المادة / رياضيات
التاريخ / / / 14
الموضوع / التصنيف وفق خاصية واحدة

ضع حول الشيء داخل الإطار الذي له نفس الصفة

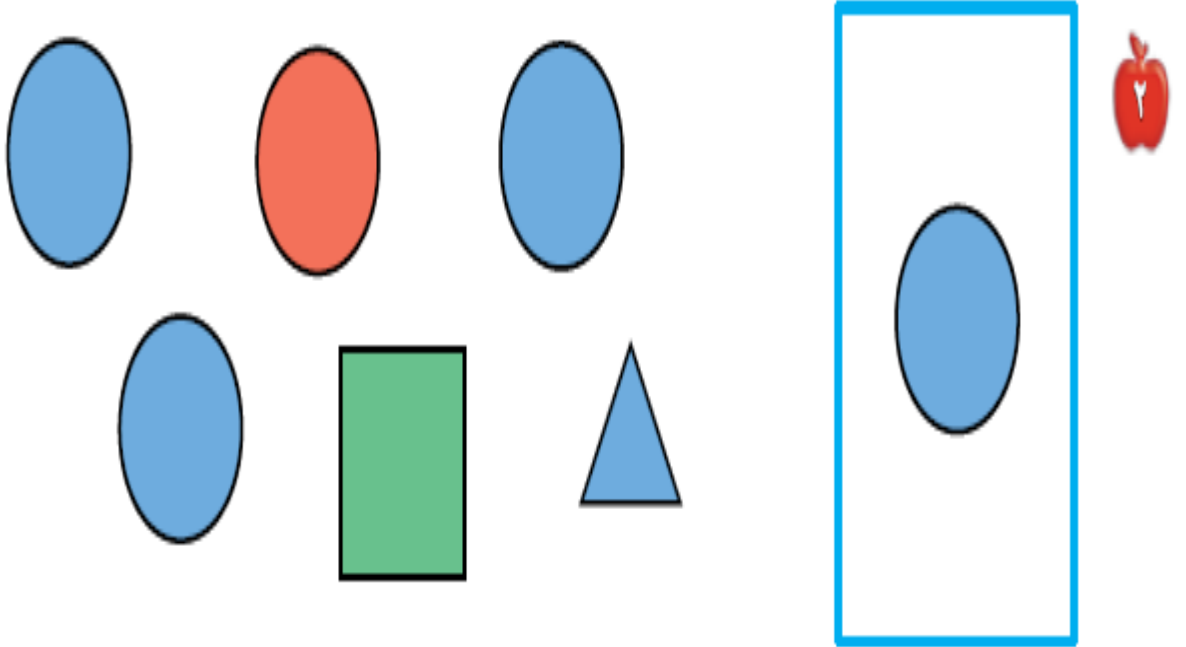
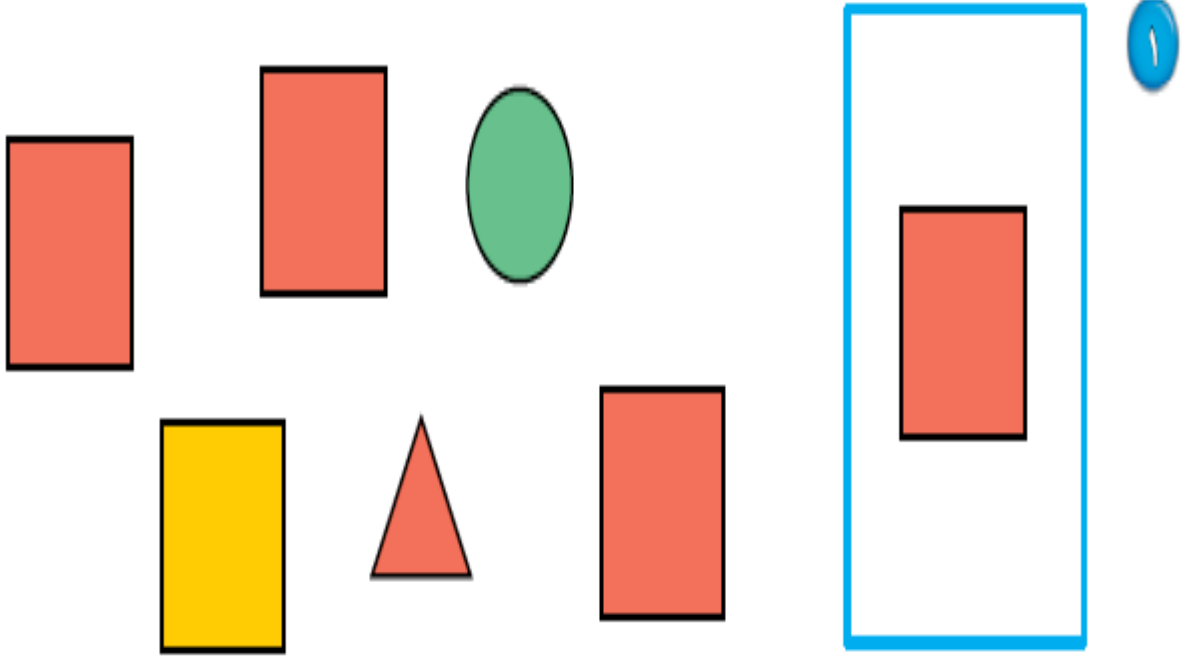


بِسْمِ اللَّهِ الرَّحْمَنِ الرَّحِيمِ

الصف : الأول
الحصة :
الاسم :

المادة / رياضيات
التاريخ / / / 14
الموضوع / التصنيف وفق أكثر من خاصية

ضع  حول الشكل المماثل و علامة × حول الشكل المختلف

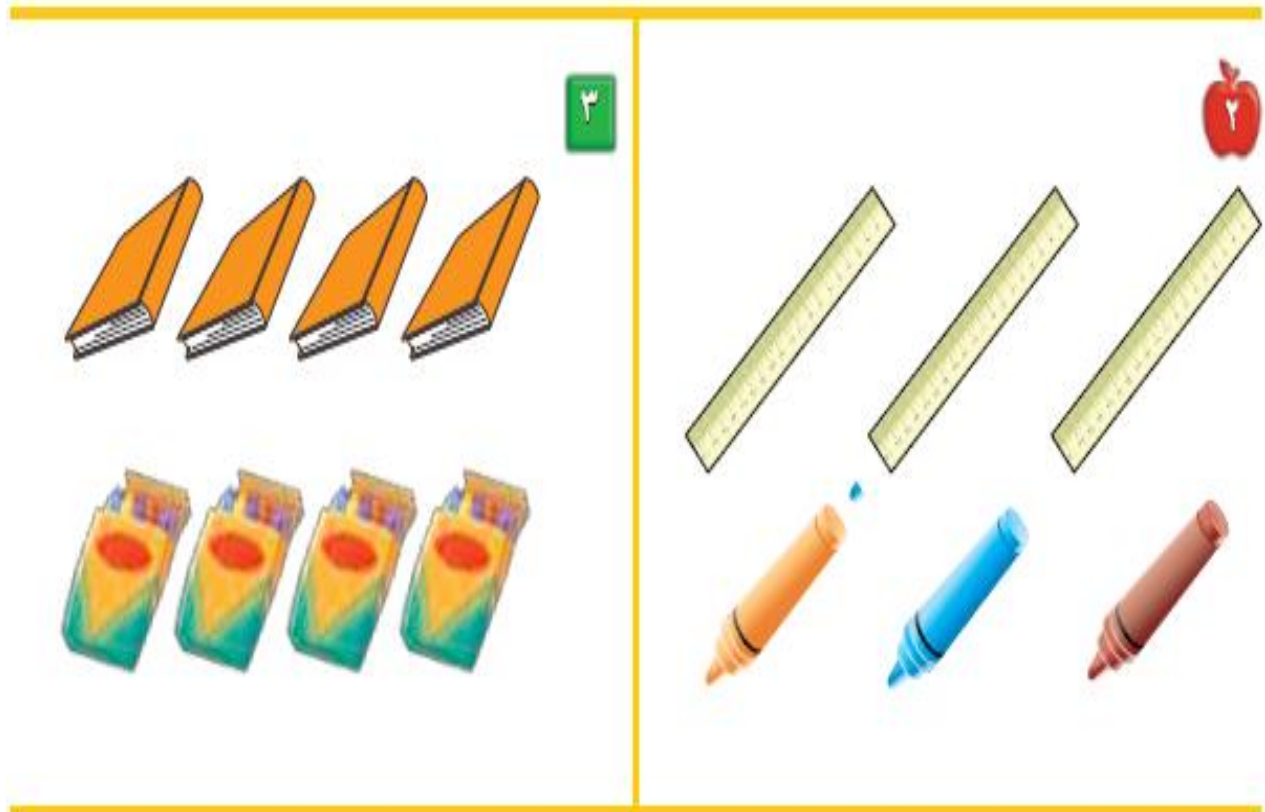


بِسْمِ اللَّهِ الرَّحْمَنِ الرَّحِيمِ

الصف : الأول
الحصة :
الاسم :

المادة / رياضيات
التاريخ / / / 14
الموضوع / التصنيف وفق أكثر من خاصية

صل بخط بين المجموعتين المتقابلتين




بِسْمِ اللَّهِ الرَّحْمَنِ الرَّحِيمِ

الصف : الأول
الحصة :
الاسم :

المادة / رياضيات
التاريخ / / / 14
الموضوع / التصنيف (أكثر من وأقل من)

صل بخط بين المجموعتين وضع حول المجموعة التي عناصرها أكثر



بِسْمِ اللَّهِ الرَّحْمَنِ الرَّحِيمِ

الصف : الأول
الحصة :

الاسم :

المادة / رياضيات

التاريخ / / / 14

الموضوع / الأعداد 1 ، 2 ، 3

عد المربعات ثم لونها



--	--	--



--	--	--



--	--	--



--	--	--



--	--	--

بِسْمِ اللَّهِ الرَّحْمَنِ الرَّحِيمِ

الصف : الأول
الحصة :


الاسم :

المادة / رياضيات

التاريخ / / / 14

الموضوع / قراءة الأعداد (1 ، 2 ، 3)

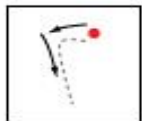
عد الأشياء وانطق العدد ثم اكتبه ثلاث مرات



واحد



ثلاثة



اثنان



بِسْمِ اللَّهِ الرَّحْمَنِ الرَّحِيمِ

الصف : الأول
الحصة :

الاسم :

المادة / رياضيات

التاريخ / / / 14

الموضوع / العدادان 4 ، 5

ارسم 4 تفاحات على الشجرة الأولى و 5 تفاحات على الشجرة الثانية



بِسْمِ اللَّهِ الرَّحْمَنِ الرَّحِيمِ

الصف : الأول
الحصّة :
الاسم :

المادة / رياضيات
التاريخ / / / 14
الموضوع / قراءة العددين 4 ، 5 وكتابتها

عد الأشياء وانطق العدد ثم اكتب العدد ثلاث مرات

3



أَرْبَعَةٌ

5



خَمْسَةٌ

4



أَرْبَعَةٌ

5



4















بِسْمِ اللَّهِ الرَّحْمَنِ الرَّحِيمِ

الصف : الأول
الحصة :
الاسم :

المادة / رياضيات
التاريخ / / / 14
الموضوع / قِرَاءَةُ أَعْدَادِ صِفْرٍ، وَكِتَابَتُهُ

عد الكرات في كل رسمة وعاء ثم قل العدد واكتبه

بِسْمِ اللَّهِ الرَّحْمَنِ الرَّحِيمِ

الصف : الأول
الحصة :
الاسم :

المادة / رياضيات
التاريخ / / / 14
الموضوع / الأعداد 6 ، 7 ، 8

عد الأشياء وقل العدد واستعمل قطع العد الملونة لتمثيل العدد



1



7



8

بِسْمِ اللَّهِ الرَّحْمَنِ الرَّحِيمِ

الصف : الأول
الحصة :


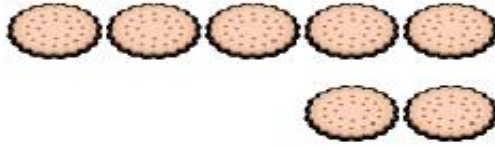
الاسم :

المادة / رياضيات

التاريخ / / / 14

الموضوع / قراءة الأعداد 6 ، 7 ، 8 وكتابتها

عد الأشياء وقل العدد ووضح عددها

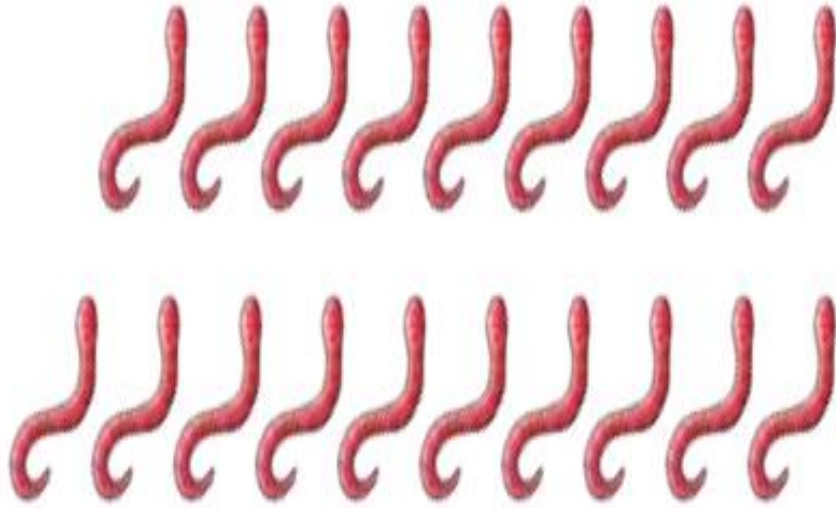


بِسْمِ اللَّهِ الرَّحْمَنِ الرَّحِيمِ

الصف : الأول
الحصّة :
الاسم :

المادة / رياضيات
التاريخ / / / 14
الموضوع / أَلْعَدَانِ 9 ، 10

عد المجموعات ثم قل عددها ثم حوط المجموعة التي عدد عناصرها 9 باللون الأحمر
والمجموعة التي عدد عناصرها 10 باللون الأزرق



بِسْمِ اللَّهِ الرَّحْمَنِ الرَّحِيمِ

الصف : الأول
الحصة :
الاسم :

المادة / رياضيات
التاريخ / / / 14
الموضوع / قراءة العددين 9 - 10

عد الحيوانات وقل العدد ثم اكتب العدد في المكان المخصص



٣



بِسْمِ اللَّهِ الرَّحْمَنِ الرَّحِيمِ

الصف : الأول
الحصة :
الاسم :

المادة / رياضيات
التاريخ / / / 14
الموضوع / مقارنة الأعداد حتى 10

عد الأشياء في كل مجموعة ثم اكتب عددها وضع × على المجموعة الأقل

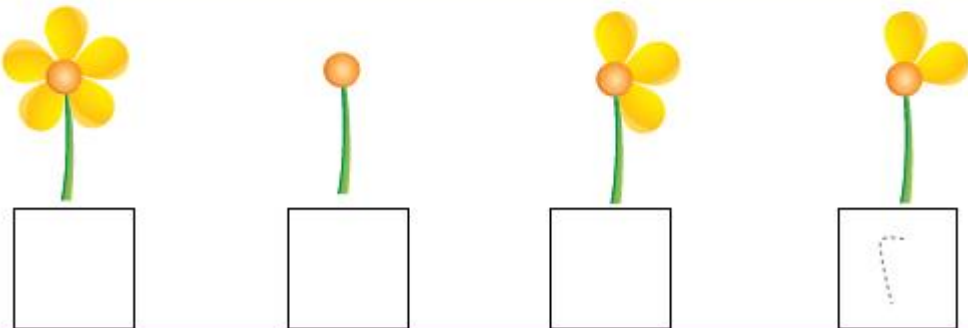
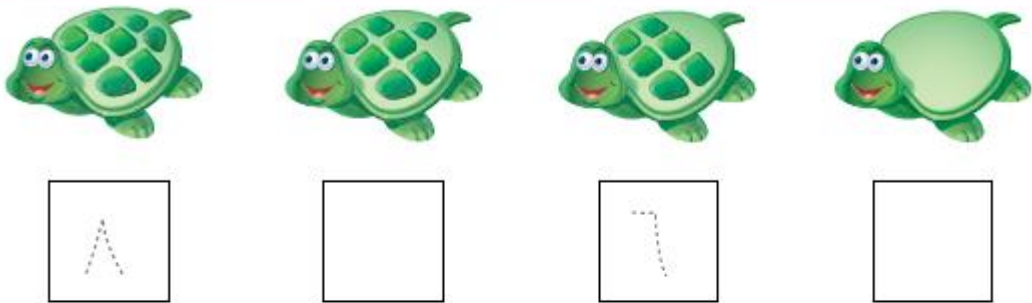
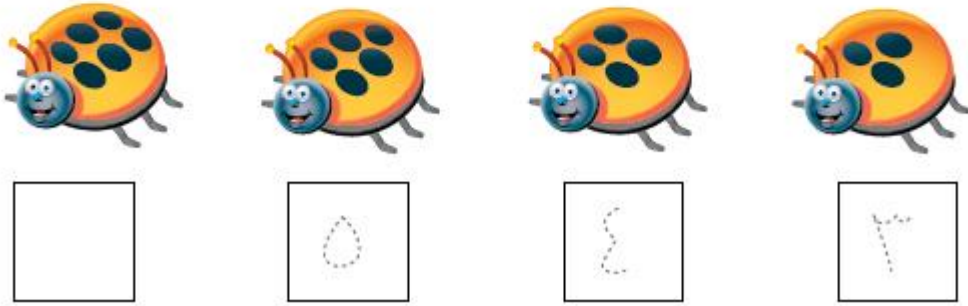
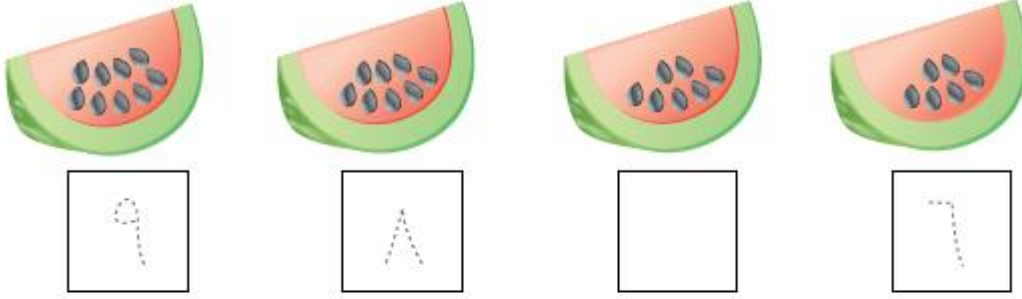


بِسْمِ اللَّهِ الرَّحْمَنِ الرَّحِيمِ

الصف : الأول
الحصة :
الاسم :

المادة / رياضيات
التاريخ / / / 14
الموضوع / ترتيب الأعداد حتى 10

عد الأشياء ثم مرر قلمك على الأعداد المنقطة واكتب الأعداد المفقودة



بِسْمِ اللَّهِ الرَّحْمَنِ الرَّحِيمِ

الصف : الأول
الحصة :
الاسم :

المادة / رياضيات
التاريخ / / / 14
الموضوع / العدد الترتيبي

اذكر ترتيب كل نسر وضع على النسر السادس و على النسر الثالث



بِسْمِ اللَّهِ الرَّحْمَنِ الرَّحِيمِ


الصف : الأول
الحصّة :

المادة / رياضيات
التاريخ / / / 14

الاسم :

الموضوع / الفصل الثالث (الأعداد حتى 20)

عد الجزرات وحبّات الفلفل واكتب عددها



بِسْمِ اللَّهِ الرَّحْمَنِ الرَّحِيمِ

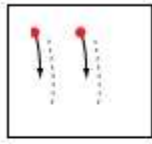
الصف : الأول
الحصّة :

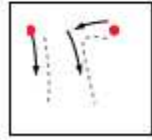
المادة / رياضيات
التاريخ / / / 14

الاسم :

الموضوع / العدان 11 ، 12

عد الأشياء وانطق العدد ومرر قلمك على العدد المنقط واكتبه





بِسْمِ اللَّهِ الرَّحْمَنِ الرَّحِيمِ


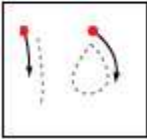

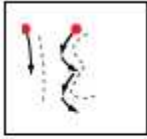
الصف : الأول
الحصّة :

المادة / رياضيات
التاريخ / / / 14

الاسم :

الموضوع / الأعداد 13 ، 14 ، 15

عد الأشياء وانطق العدد ومرر قلمك على العدد المنقط واكتبه



بِسْمِ اللَّهِ الرَّحْمَنِ الرَّحِيمِ

الصف : الأول
الحصّة :

المادة / رياضيات
التاريخ / / / 14

الاسم :

الموضوع / أبحث عن نمط

عد الريش ثم اكتب العدد وحدد النمط



بِسْمِ اللَّهِ الرَّحْمَنِ الرَّحِيمِ



الصف : الأول
الحصّة :

المادة / رياضيات
التاريخ / / / 14





الاسم :

الموضوع / الأعداد 18 ، 19 ، 20

عد الأشياء واكتب العدد وتمرر قلمك على العدد المنقط واكتبه



1



3

بِسْمِ اللَّهِ الرَّحْمَنِ الرَّحِيمِ





الصف : الأول
الحصّة :


المادة / رياضيات
التاريخ / / / 14

الاسم :

الموضوع / مقارنة الأعداد حتى 20

عد الأشياء في كل طبق و اكتب عددها وضعي × على العدد الذي يمثل المجموعة الأكبر

			
<input type="text"/>	<input type="text"/>	<input type="text"/>	<input type="text"/>



بِسْمِ اللَّهِ الرَّحْمَنِ الرَّحِيمِ

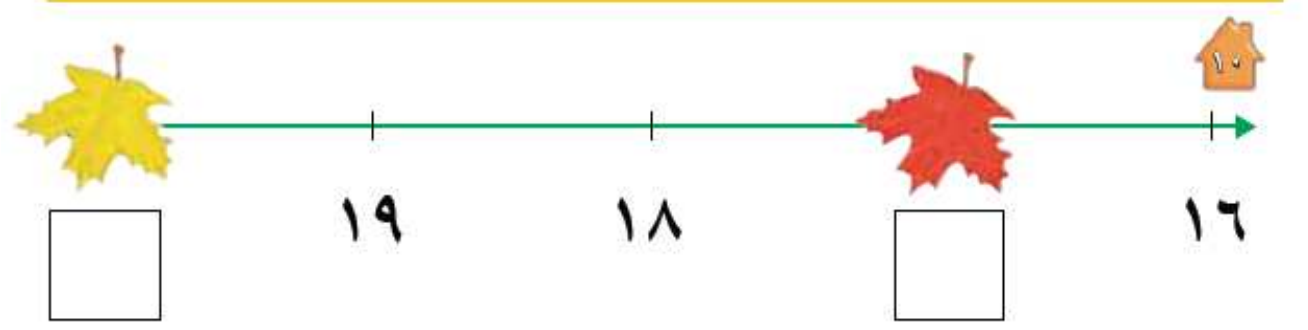

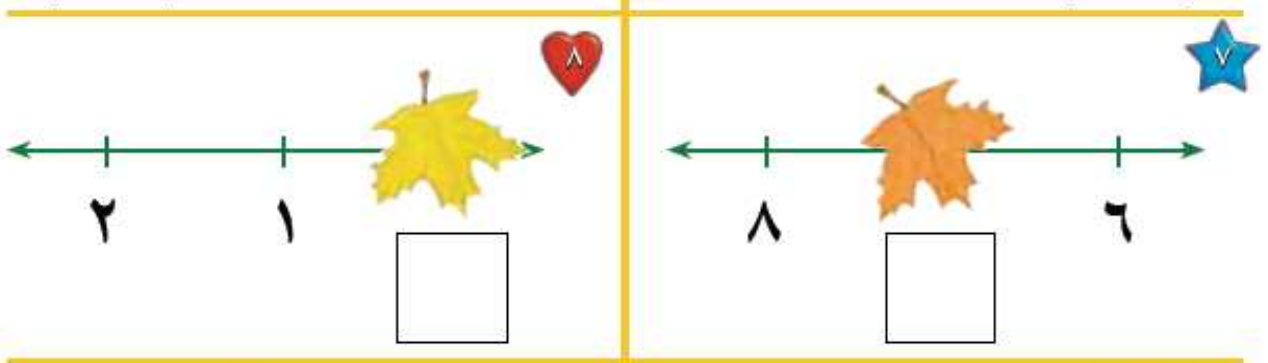
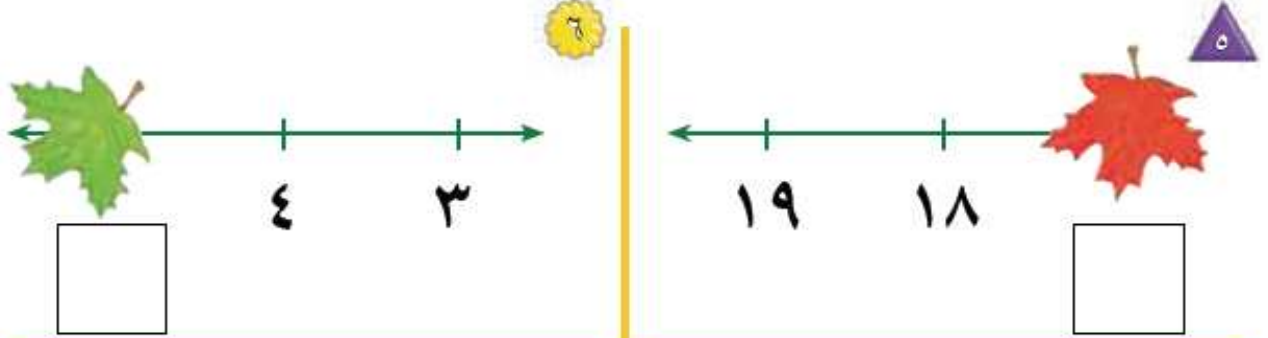
الصف : الأول
الحصّة :

المادة / رياضيات
التاريخ / / / 14

الاسم :

الموضوع / ترتيب العدد حتى 20 .

أكتب العدد المفقود في الفراغ



بِسْمِ اللَّهِ الرَّحْمَنِ الرَّحِيمِ


الصف : الأول
الحصّة :

المادة / رياضيات
التاريخ / / / 14

الاسم :

الموضوع / الفصل الرابع (الجمع)

لاحظ الصورة واكتب عدد التفاحات



بِسْمِ اللّٰهِ الرَّحْمٰنِ الرَّحِیْمِ

الصف : الأول
الحصّة :

المادة / رياضيات
التاريخ / / / 14

الاسم :

الموضوع / قصص الجمع

احك قصة عددية مستعملاً قطع العدد واكتب عدد الحيوانات



ثَعَالِبَ _____



غَزَالًا _____



فَرَأَشَةً _____

بِسْمِ اللَّهِ الرَّحْمَنِ الرَّحِيمِ

الصف : الأول
الحصة :

المادة / رياضيات
التاريخ / / / 14

الاسم :

الموضوع / تمثيل الجمع

استعمل ورقة العمل 3 وقطع العد لإيجاد (الكل) المجموع

جزء	جزء
٥	٤
الكل	



جزء	جزء
٢	٣
الكل	



جزء	جزء
٥	٥
الكل	



جزء	جزء
٢	٥
الكل	



جزء	جزء
٢	٤
الكل	



جزء	جزء
٣	١
الكل	



جزء	جزء
٣	٣
الكل	



جزء	جزء
٢	١
الكل	



بِسْمِ اللَّهِ الرَّحْمَنِ الرَّحِيمِ

الصف : الأول
الحصّة :

المادة / رياضيات
التاريخ / / / 14

الاسم :

الموضوع / جمل الجمع

استعمل المكعبات لتمثيل جملة الجمع واكتبها



— () — () —



— () — () —



— () — () —



— () — () —



— () — () —



— () — () —

بِسْمِ اللَّهِ الرَّحْمَنِ الرَّحِيمِ

الصف : الأول
الحصّة :

المادة / رياضيات
التاريخ / / / 14

الاسم :

الموضوع / جمع الصفر

اكتب ناتج الجمع



$$\underline{\quad} = 0 + 3$$



$$\underline{\quad} = 0 + 5$$



$$\underline{\quad} = 1 + 0$$



$$\underline{\quad} = 0 + 6$$

$$\underline{\quad} = 8 + 0$$



$$\underline{\quad} = 0 + 7$$



$$\underline{\quad} = 1 + 2$$



$$\underline{\quad} = 3 + 3$$



بِسْمِ اللَّهِ الرَّحْمَنِ الرَّحِيمِ

الصف : الأول
الحصّة :

المادة / رياضيات
التاريخ / / / 14

الاسم :

الموضوع / أهل المسألة

مثل قصص الجمع لإيجاد الناتج



$$\underline{\hspace{2cm}} = \underline{\hspace{2cm}} + \underline{\hspace{2cm}}$$



$$\underline{\hspace{2cm}} = \underline{\hspace{2cm}} + \underline{\hspace{2cm}}$$



$$\underline{\hspace{2cm}} = \underline{\hspace{2cm}} + \underline{\hspace{2cm}}$$

بِسْمِ اللَّهِ الرَّحْمَنِ الرَّحِيمِ

الصف : الأول
الحصّة :

المادة / رياضيات
التاريخ / / / 14

الاسم :

الموضوع / تكوين الأعداد 4، 5، 6

استعمل قطع العد الكرة الحمراء والصفراء وضعهما في مجموعتين لتكوين العدد 4 ثم لون واكتب الأعداد

تكوّن العدد 4				
التّاج	مِساوي		زائد	
	=		+	
4	=	—	+	—
4	=	—	+	—





بِسْمِ اللَّهِ الرَّحْمَنِ الرَّحِيمِ

الصف : الأول
الحصة :

المادة / رياضيات
التاريخ / / / 14

الاسم :

الموضوع / تكوين الأعداد 7 ، 8 ، 9

استعمل قطع العد الكرة الحمراء والصفراء وضعهما في مجموعتين لتكوين العدان 8 ، 9 ثم
لون واكتب الأعداد

بِسْمِ اللَّهِ الرَّحْمَنِ الرَّحِيمِ

الصف : الأول
الحصّة :

المادة / رياضيات
التاريخ / / / 14

تكوّن العدد ٩				
الناتج	يُسَاوِي	زائد		
٩	=	— + —		
٩	=	— + —		
٩	=	— + —		
٩	=	— + —		
٩	=	— + —		
٩	=	— + —		
٩	=	— + —		



تكوّن العدد ٨				
الناتج	يُسَاوِي	زائد		
٨	=	— + —		
٨	=	— + —		
٨	=	— + —		
٨	=	— + —		
٨	=	— + —		
٨	=	— + —		
٨	=	— + —		



الاسم :

الموضوع / تكوين الأعداد 10 ، 11 ، 12

استعمل قطع العد الكرة الحمراء والصفراء ثم ارسم دوائر واكتب العدد

بِسْمِ اللَّهِ الرَّحْمَنِ الرَّحِيمِ

الصف : الأول
الحصّة :

المادة / رياضيات
التاريخ / / / 14



$$10 = \text{---} + \text{---}$$



$$10 = \text{---} + \text{---}$$



$$11 = \text{---} + \text{---}$$



$$11 = \text{---} + \text{---}$$



$$12 = \text{---} + \text{---}$$



$$12 = \text{---} + \text{---}$$



$$12 = \text{---} + \text{---}$$



$$11 = \text{---} + \text{---}$$

الاسم :

الموضوع / الجمع الرأسي

اكتب الأعداد ثم أوجد الناتج

بِسْمِ اللَّهِ الرَّحْمَنِ الرَّحِيمِ

الصف : الأول
الحصّة :

المادة / رياضيات
التاريخ / / / 14



$$\begin{array}{r} \square \\ \square + \\ \hline \square \end{array}$$



$$\text{---} = \text{---} + \text{---}$$



$$\begin{array}{r} \square \\ \square + \\ \hline \square \end{array}$$



$$\text{---} = \text{---} + \text{---}$$

