



الصف الثالث  
( تدريبات اثنائية 2024-2025 ) ( الوحدة 7 )

الاسم: \_\_\_\_\_ الشعبة \_\_\_\_\_

(2) الدرجة

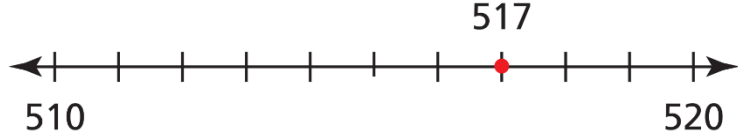
السؤال رقم (1)

قرب العدد 517 إلى أقرب عشرة

A 500

B 510

C 520



(2) الدرجة

السؤال رقم (2)

قدر لأقرب مئة.

A تقريباً 200

B تقريباً 300

C تقريباً 600

$$\begin{array}{r} 584 \rightarrow \underline{\hspace{2cm}} \\ - 347 \rightarrow \underline{\hspace{2cm}} \\ \hline \end{array}$$

(2) الدرجة

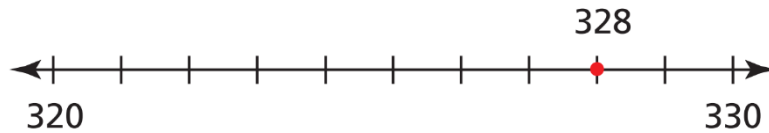
السؤال رقم (3)

قرب العدد 328 إلى أقرب عشرة.

A 300

B 320

C 330



(2) الدرجة

السؤال رقم (4)

قدر لأقرب مئة.

A تقريباً 800

B تقريباً 700

C تقريباً 900

$$\begin{array}{r} 859 \rightarrow \underline{\hspace{2cm}} \\ - 114 \rightarrow \underline{\hspace{2cm}} \\ \hline \end{array}$$

السؤال رقم (5)

اكتب العدد الناقص.


$$30 + 40 = 40 + \underline{\quad}$$

$$(48 + 27) + 3 = \underline{\quad} + (27 + 3)$$

$$89 + \underline{\quad} = 89$$

قدر ناتج الجمع بالتقريب لأقرب مئة.

$$\begin{array}{r} 579 \rightarrow \underline{\quad} \\ + 313 \rightarrow \underline{\quad} \\ \hline \underline{\quad} \\ \hline \underline{\quad} \end{array}$$



فخورة فيج حيل

السؤال رقم (6)

أجمع، و استعمل العملية العكسية للتحقق من الإجابة.

$$\begin{array}{r} 445 \\ - 121 \\ \hline \square\square\square \end{array}$$

$$+ \begin{array}{r} \square\square\square \\ 121 \\ \hline \square\square\square \end{array}$$



ممتازة عفيه عليج

السؤال رقم (7)

A. اكتب العدد الناقص.

a)  $20 + \square = 13 + 20$

b)  $(49 + \square) + 10 = 49 + (23 + 10)$

c)  $58 + \square = 58$

B. قدر ناتج الجمع بالتقريب إلى أقرب مئة.

$$\begin{array}{r} 396 \longrightarrow \dots\dots\dots \\ + 124 \longrightarrow \dots\dots\dots \\ \hline \underline{\quad} \longrightarrow \dots\dots\dots \end{array}$$



السؤال رقم (8)

أجمع، و استعمل العملية العكسية للتحقق من الإجابة.

$$\begin{array}{r} 263 \\ + 522 \\ \hline \square\square\square \end{array}$$

$$\begin{array}{r} \square\square\square \\ - 522 \\ \hline \square\square\square \end{array}$$

السؤال رقم (5)

اكتب العدد الناقص.


$$9 + 40 = 40 + \underline{\quad}$$

$$(1 + 2) + 3 = \underline{\quad} + (2 + 3)$$

$$4 + \underline{\quad} = 4$$

قدر ناتج الجمع بالتقريب لأقرب مئة.

$$\begin{array}{r} 655 \rightarrow \underline{\quad} \\ + 220 \rightarrow \underline{\quad} \\ \hline \underline{\quad} \\ \underline{\quad} \end{array}$$



فخورة فيج حيل

