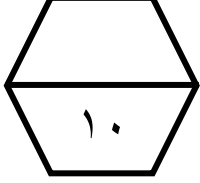
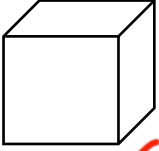





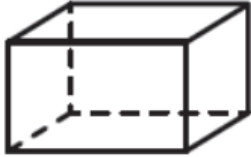
اسم الطالب /

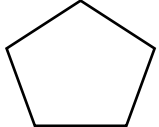



ورقة عمل (الأسبوع الرابع) للصف الرابع الابتدائي الفصل الدراسي الثاني للعام الدراسي ١٤٤٧ هـ

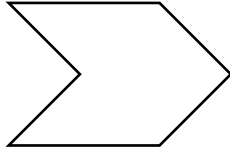
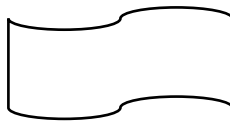


المهارات
الأشكال الثلاثية الأبعاد
الأشكال الثنائية لأبعاد
خطة حل المسألة " البحث عن نمط "

ما اسم كل مجسم مما يأتي :							
د	ج	ب	أ	١			
							
مكعب	مخروط	منشور ثلاثي	اسطوانة				

حدد عدد الأوجه، والأحرف، والرؤوس للشكل التالي :	
٢	 الأوجه : ٦ الأحرف : ١٢ الرؤوس : ٨

ما اسم كل من المضلعات التالية :							
د	ج	ب	أ	٣			
							
خماسي	مثلث	رباعي	ثمانى				

أي الشكلين التاليين يعد مضلعاً ؟			
أ	ب	٤	
			

أوجد العدد المفقود. ثم اكتب قاعدة النمط : ٥ ، ٧ ، ٩ ، ١١ ، ، ١٥	
العدد المفقود هو ١٣	قاعدة النمط هي ٢ +