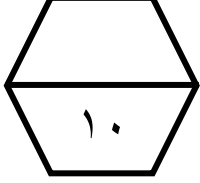
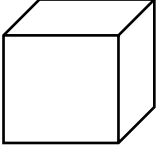





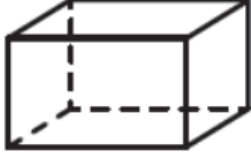
اسم الطالب / .....

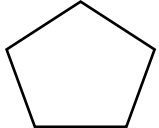



ورقة عمل ( الأسبوع الرابع ) للصف الرابع الابتدائي الفصل الدراسي الثاني للعام الدراسي ١٤٤٧ هـ

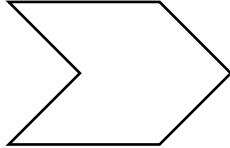
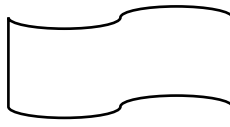


المهارات
الأشكال الثلاثية الأبعاد
الأشكال الثنائية لأبعاد
خطة حل المسألة " البحث عن نمط "

ما اسم كل مجسم مما يأتي :								
	د		ج		ب		أ	١
.....		.....		.....		.....		

حدد عدد الأوجه، والأحرف، والرؤوس للشكل التالي :		
	الأوجه : ..... الأحرف : ..... الرؤوس : .....	٢

ما اسم كل من المضلعات التالية :								
	د		ج		ب		أ	٣
.....		.....		.....		.....		

أي الشكلين التاليين يعد مضلعا ؟				
	ب		أ	٤

أوجد العدد المفقود. ثم اكتب قاعدة النمط : ٥ ، ٧ ، ٩ ، ١١ ، ..... ، ١٥		
العدد المفقود هو .....	قاعدة النمط هي .....	٥