



**مراجعة**


**دراسات اجتماعية**

**امتحان الشهر الأول**

**فبراير ومارس**

**4**

**سمير الغريب مذكرات تعليمية**



السؤال الأول: اختر الإجابة الصحيحة

- (1) من المحافظات المزدهمة بالسكان .....
- (أ) سوهاج (ب) البحيرة (ج) القاهرة (د) الوادي الجديد
- (2) يعمل معظم سكان محافظة سوهاج في .....
- (أ) الزراعة (ب) الرعي (ج) الخدمات (د) النشاط الصناعي
- (3) من المحافظات قليلة السكان .....
- (أ) سوهاج (ب) البحيرة (ج) القاهرة (د) الوادي الجديد
- (4) عاصمة مصر هي مدينة .....
- (أ) سوهاج (ب) البحيرة (ج) القاهرة (د) الوادي الجديد
- (5) تمثل نسبة الأطفال في مصر ..... عدد السكان.
- (أ) ربع (ب) ثلث (ج) نصف (د) خمس
- (6) يقوم ..... بنقل الأشخاص والبضائع من مكان لآخر.
- (أ) الطبيب (ب) السائق (ج) المعلم (د) الشرطي
- (7) يحافظ ..... على الأمن.
- (أ) الطبيب (ب) السائق (ج) المعلم (د) الشرطي
- (8) يعالج ..... المرضى.
- (أ) الطبيب (ب) السائق (ج) المعلم (د) الشرطي
- (9) يجهز ..... المتعلمين لكل المهن بفهم العلوم وبناء العقول.
- (أ) الطبيب (ب) السائق (ج) المعلم (د) الشرطي
- (10) مشاركة الجميع في صنع القرار يعلمنا .....
- (أ) التعاون (ب) التردد (ج) الهروب (د) الكسل

## اختر الإجابة الصحيحة

سمير الغريب مذكرات تعليمية

- (11) أول خطوة صنع القرار السليم هي .....
- (أ) تنفيذ القرار (ب) جمع المعلومات (ج) تحديد المشكلة (د) وضع البدائل
- (12) اختيار قائد للفصل من نماذج صنع القرار على مستوى .....
- (أ) الأسرة (ب) المجتمع (ج) المدرسة (د) النادي
- (13) عاصمة دولة كندا هي .....
- (أ) طوكيو (ب) أوتاوا (ج) واشنطن (د) باريس
- (14) تم بناء برج القاهرة في عهد الرئيس .....
- (أ) السادات (ب) مبارك (ج) عبد الناصر (د) السيسي
- (15) تم بناء برج القاهرة على شكل زهرة .....
- (أ) اللوتس (ب) الياسمين (ج) النرجس (د) الفل
- (16) تشتهر قرية .....
- (أ) جراح (ب) الحرانية (ج) تونس (د) أخميم
- (17) تشتهر قرية .....
- (أ) جراح (ب) الحرانية (ج) تونس (د) أخميم
- (18) تشتهر قرية .....
- (أ) جراح (ب) الحرانية (ج) تونس (د) أخميم
- (19) تشتهر مدينة .....
- (أ) جراح (ب) الحرانية (ج) تونس (د) أخميم
- (20) أنشأت وزارة .....
- (أ) التعليم (ب) الزراعة (ج) الصناعة (د) الثقافة
- (21) توجد مدينة المحلة الكبرى الصناعية في محافظة .....
- (أ) القاهرة (ب) الإسكندرية (ج) الشرقية (د) الغربية

## السؤال الثاني: اكتب كلمة (صواب) أو كلمة (خطأ) أمام كل عبارة

- (1) محافظة القاهرة هي أكبر محافظات مصر سكاناً. ( )
- (2) تتشابه محافظات مصر في الخصائص السكانية. ( )
- (3) تمثل فئة كبار السن الفئة العمرية الكبيرة لسكان مصر. ( )
- (4) يختلف عدد السكان بين المحافظات المصرية. ( )
- (5) يعمل سكان محافظة القاهرة في الزراعة والرعي. ( )
- (6) يعمل معظم السكان في سوهاج في الصناعة. ( )
- (7) يختلف تركيب السكان بين محافظات مصر. ( )
- (8) تحتاج المهن إلى التعاون بين الأفراد، والعمل المنظم. ( )
- (9) يقوم صانع المحتوى بتصميم البرامج الإلكترونية. ( )
- (10) الزراعة تعمل على ربط المنتج بالمستهلك. ( )
- (11) يجب احترام أصحاب المهن. ( )
- (12) تحتاج مهن المستقبل إلى مهارة التكنولوجيا. ( )
- (13) مهنة الطبيب والمعلم من المهن الخدمية. ( )
- (14) لو اختفت مهنة التجارة لن نجد السلع في الأسواق. ( )
- (15) مشاركة الجميع في صنع القرار يعلمنا التعاون. ( )
- (16) المشاركة في صنع القرار يفقدنا الثقة في النفس. ( )
- (17) القرار الصحيح لا يحتاج إلى جمع المعلومات. ( )
- (18) المشاركة في صنع القرارات تعلمنا تحمل النتائج. ( )
- (19) المشاركة في صنع القرار تعلمنا الشعور بالمسئولية. ( )

## اكتب كلمة (صواب) أو كلمة (خطأ) أمام كل عبارة

سمير الغريب مذكرات تعليمية

- ( ) (20) صنع القرار لا يؤثر على وضع المجتمع.
- ( ) (21) احترام آراء الآخرين يعزز ويقوي روح الفريق والتعاون.
- ( ) (22) يشتهر شعب كندا باللفظ واحترام ثقافات العالم.
- ( ) (23) الجنيه المصري هو عملة دولة كندا.
- ( ) (24) تم بناء برج القاهرة في عهد الرئيس محمد أنور السادات.
- ( ) (25) تغطي الغابات نصف مساحة كندا.
- ( ) (26) يختلف عدد الذكور عن الإناث داخل المحافظة الواحدة.
- ( ) (27) ترتفع نسبة التعليم في محافظة القاهرة.
- ( ) (28) ترتبط مهنة الزراعة بالعلاقة بين الإنسان والبيئة.
- ( ) (29) تُغطي الغابات كل مساحة كندا.
- ( ) (30) إحدى خطوات صنع القرار تحديد المشكلة وجمع المعلومات.
- ( ) (31) يشتهر حي الجمالية بالقاهرة بحرفة الحفر على الخشب.
- ( ) (32) تشتهر قرية الحرائية بالجيزة بصناعة الفخار.
- ( ) (33) تتمثل أهمية الحرف التراثية في قيمتها الحضارية والاقتصادية.
- ( ) (34) استخدم المصري القديم الأخشاب في الأعمال الفنية.
- ( ) (35) يتم صناعة المفروشات والملابس من الصوف والحريز والقطن.
- ( ) (36) يمكننا صناعة الفخار من الرمال.
- ( ) (37) توفر الحرف التراثية فرص عمل وتحافظ على التراث.
- ( ) (38) كل المهن مفيدة للمجتمع، ويجب احترامها.

السؤال الثالث: أكمل العبارات التالية بما يناسبها من كلمات

سمير الغريب مذكرات تعليمية

- (1) يقل عدد سكان في بعض المحافظات مثل: ..... و.....
- (2) التركيب السكاني هو تصنيف السكان حسب ..... و.....
- (3) تختلف المهن في مصر من محافظة لأخرى حسب .....
- (4) يقوم ..... بتوصيل السلع والمنتجات إلى الناس.
- (5) إحدى المهن المستقبلية ويصمم صاحبها البرامج .....
- (6) يقوم العامل بتحويل المواد الخام إلى .....
- (7) يعمل الفلاحون بزراعة ..... ، وتربية .....
- (8) الشخص الذي يقوم بعلاج المرضى هو .....
- (9) المشاركة في صنع القرار يجعلنا نشعر ب.....
- (10) أولى خطوات صنع القرار السليم .....
- (11) المشاركة في صنع القرار تعزز .....
- (12) أحد أمثلة اتخاذ القرار في الأسرة .....
- (13) قرار اختيار قائد الفصل مثال على .....
- (14) عملة دولة كندا هي .....
- (15) صمم المهندس ..... برج القاهرة.
- (16) تتعاون مصر مع كندا في مجال ..... و.....
- (17) إحدى فئات السكان تزيد أعمارهم عن 65 عامًا .....
- (18) محافظة الوادي الجديد من المحافظات ..... السكان.
- (19) المهنة التي يقوم صاحبها بتحويل المواد الخام إلى منتجات .....
- (20) المهنة التي يقوم صاحبها بتصميم التطبيقات الإلكترونية .....
- (21) تنتج كندا كميات كبيرة من محصول .....

سمير الغريب مذكرات تعليمية

### أكمل العبارات التالية بما يناسبها من كلمات

(22) التفكير في إيجابيات وسلبيات كل خيار يساعد على .....

(23) عند المشاركة في صنع القرار نتعلم عدة قيم منها ..... و

(24) توجد حرفة الحفر على الخشب بمدينة القاهرة بحي .....

(25) استخدم المصري القديم خامات البيئة في صنع السجاد اليدوي مثل .....

(26) أنشأت مصر عدة مراكز للحرف التراثية بالفسطاط منها مركز .....

### السؤال الرابع: اكتب ما تشير إليه العبارة

(1) تصنيف السكان إلى مجموعات حسب النوع أو العمر. (.....)

(2) محافظة مصرية يعمل معظم سكانها في الزراعة. (.....)

(3) هو تحديد بدائل متعددة واختيار الأفضل منها لحل مشكلة تحقيق هدف معين.

(.....)

### السؤال الخامس: رتب خطوات صنع القرار التالية

- التفكير في إيجابيات وسلبيات كل بديل. (.....)

- اختيار أفضل البدائل. (.....)

- تحديد المشكلة أو الهدف. (.....)

- جمع المعلومات. (.....)

- وضع بدائل لحل المشكلة أو تحقيق الهدف. (.....)

### السؤال السادس: حدد صاحب المهنة التي بدونها يحدث هذا

(1) تنتشر القمامة في الشارع. (.....)

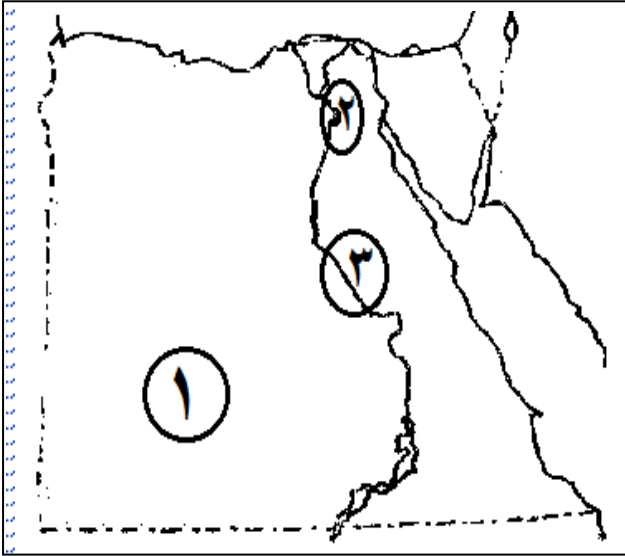
(2) ينتشر الجهل والتخلف. (.....)

(3) تنتشر الأمراض ولا نجد من يعالج الناس. (.....)

(4) لا نجد من يقوم بإصلاح السيارات. (.....)

(5) تنتشر الفوضى ويغيب الاستقرار والأمن. (.....)

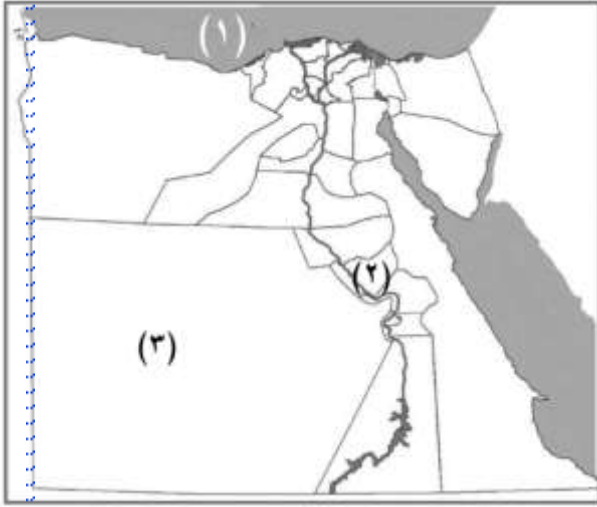
سمير الغريب مذكرات تعليمية



السؤال السابع: (أ) لاحظ الخريطة المقابلة، ثم اختر

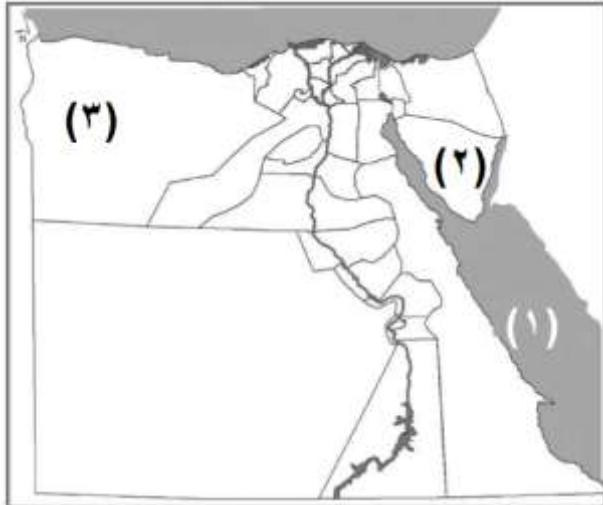
- (1) محافظة صحراوية قليل السكان  
.....  
(القاهرة - سوهاج - الوادي الجديد)
- (2) أكبر محافظات مصر سكاناً  
.....  
(القاهرة - سوهاج - الوادي الجديد)
- (3) محافظة متوسطة السكان عُرفت بأبيدوس  
.....  
(القاهرة - سوهاج - الوادي الجديد)

(ب) لاحظ الخريطة المقابلة ، ثم أجب



- (1) البحر  
.....
- (2) محافظة يتركز سكانها في القرى.  
.....
- (3) أكبر محافظات مصر مساحة ومن أقلها  
سكاناً  
.....

(ج) لاحظ الخريطة المقابلة ، ثم أجب



- (1) البحر  
.....
- (2) محافظة قليلة السكان  
.....
- (3) محافظة شمال غرب مصر  
.....

سمير الغريب مذكرات تعليمية

## السؤال الثامن: بم تفسر...؟

(1) محافظة القاهرة هي أكبر محافظات مصر سكاناً؟

(2) قلة عدد السكان في محافظة الوادي الجديد؟

(3) شهرة مدينة (أون) قديماً؟

(4) يزيد عدد الشباب في بعض المحافظات؟

(5) للزراعة أهمية كبيرة في حياتنا؟

(6) ظهور مهن جديدة لم تكن موجودة من قبل؟

(7) للتجارة أهمية كبيرة في حياتنا؟ مذكرات تعليمية

(8) لعامل النظافة أهمية كبيرة في حياتنا؟

(9) أهمية التفكير قبل اتخاذ أي قرار؟

(10) أهمية المشاركة في صنع القرار؟

(11) تصميم وبناء برج القاهرة على شكل زهرة اللوتس؟

(12) أهمية مشاركة الأطفال في القرارات الأسرية؟

(13) للمدرسة دور كبير في صنع القرار؟

(14) ارتفاع عدد السكان في محافظة القاهرة؟

(15) قامت مصر قديمًا باستيراد الأشجار؟

(16) للحرف التراثية أهمية اقتصادية كبيرة؟

(17) تقيم الدولة معرض (تراثنا) بشكل سنوي؟

(18) إنشاء مراكز للحرف التقليدية بالفسطاط؟ تعليمية

(19) الأهمية الحضارية للحرف التراثية؟

(20) قيام مصر باستيراد الأخشاب من الخارج؟

(21) ازدهار صناعة الزجاج في مصر؟

(22) أهمية الفخار في حياة المصري القديم؟

## السؤال التاسع: ما النتائج المترتبة على...؟

(1) توافر فرص التعليم في بعض المحافظات المصرية؟

(2) قلة الموارد المائية العذبة في بعض المحافظات المصرية؟

(3) التطور التكنولوجي في حياتنا؟

(4) قلة المياه في محافظة الوادي الجديد؟

(5) كثرة الإنجاب في بعض المحافظات؟

(6) مشاركة الجميع في صنع القرار؟

(7) ندرة الأشجار في مصر؟ الغريب مذكرات تعليمية

(8) اهتمام مصر بالحرف التراثية؟

(9) تركيز السكان في محافظة القاهرة؟

(10) جمع المعلومات قبل اتخاذ القرار؟

(11) اهتمام مصر بالحرف التراثية؟

## السؤال العاشر: ماذا يحدث إذا...؟

(1) اختفت مهنة الطبيب من المجتمع؟

(2) تم اتخاذ قرار دون جمع المعلومات؟

(3) مشاركة الجميع في صنع القرار؟

(4) غاب عامل النظافة؟

(5) قل الاهتمام بالتكنولوجيا الحديثة؟

(6) زاد الاهتمام بالحرف التراثية؟

## السؤال الحادي عشر: ما المقصود ب...؟ تعليمية

(1) التركيب السكاني:

(2) صنع القرار:

(3) الحرف التراثية:

## السؤال الثاني عشر: ما أوجه التشابه والاختلاف بين...؟

(1) الشرطي والطبيب؟

## السؤال الثالث عشر: ما العلاقة بين...؟

(1) التكنولوجيا والمهن المستقبلية؟

(2) قرية الحرائية، والسجاد اليدوي؟

(3) المهندس والمواد الخام؟

(4) التعاون بين افراد الأسرة وصناعة القرار؟

(5) الصناعة والتجارة؟

(6) صنع القرار وتنمية مهارات الأطفال؟

(7) الماء وعدد السكان في أي مكان؟ مذكرات تعليمية

## السؤال الرابع عشر: قارن بين ...

(1) دور الطبيب، ودور الشرطي في خدمة الناس.

(2) الزراعة والصناعة من حيث المنتجات.

(11) عمل المعلم، وعمل الطبيب.

## السؤال الخامس عشر: أجب عما يأتي

(1) ما دور مهندس الطاقة المتجددة في حياتنا؟

سمير الغريب سميير الغريب مذكرات تعليمية

(2) ما هي الخطوة الأولى في صنع القرار السليم؟

(3) اذكر أهم المعالم السياحية في كندا.

(4) اذكر أهم الحرف التراثية في مصر.

سمير الغريب سميير الغريب مذكرات تعليمية

(5) وضح جهود مصر في الحفاظ على الحرف التراثية.

(6) لماذا ترتفع نسبة التعليم في محافظة القاهرة؟

(7) اذكر اسم قرية تشتهر بصناعة السجاد اليدوي، وقرية تشتهر بصناعة الزجاج.

سمير الغريب سميير الغريب مذكرات تعليمية

(8) ما أهمية الحرف التراثية؟

## الإجابات

## السؤال الأول: اختر الإجابة الصحيحة

|    |         |    |               |    |               |
|----|---------|----|---------------|----|---------------|
| 1  | القاهرة | 2  | الزراعة       | 3  | الوادي الجديد |
| 4  | القاهرة | 5  | ثلث           | 6  | السائق        |
| 7  | الشرطي  | 8  | الطبيب        | 9  | المعلم        |
| 10 | التعاون | 11 | تحديد المشكلة | 12 | المدرسة       |
| 13 | أوتواو  | 14 | عبد الناصر    | 15 | اللوتس        |
| 16 | تونس    | 17 | الحرانية      | 18 | جراح          |
| 19 | إخميم   | 20 | الثقافة       | 21 | الغربية       |

## السؤال الثاني: اكتب كلمة (صواب) أو كلمة (خطأ)

|    |   |    |   |    |   |    |   |    |   |
|----|---|----|---|----|---|----|---|----|---|
| 1  | ✓ | 2  | ✗ | 3  | ✓ | 4  | ✗ | 5  | ✗ |
| 6  | ✗ | 7  | ✓ | 8  | ✓ | 9  | ✗ | 10 | ✗ |
| 11 | ✓ | 12 | ✓ | 13 | ✓ | 14 | ✓ | 15 | ✓ |
| 16 | ✗ | 17 | ✗ | 18 | ✓ | 19 | ✓ | 20 | ✗ |
| 21 | ✓ | 22 | ✓ | 23 | ✗ | 24 | ✗ | 25 | ✓ |
| 26 | ✓ | 27 | ✓ | 28 | ✓ | 29 | ✗ | 30 | ✓ |
| 31 | ✓ | 32 | ✗ | 33 | ✓ | 34 | ✓ | 35 | ✓ |
| 36 | ✗ | 37 | ✓ | 38 | ✓ |    |   |    |   |

## السؤال الثالث: أكمل العبارات التالية بما يناسبها من كلمات

|    |                          |    |                   |    |                   |
|----|--------------------------|----|-------------------|----|-------------------|
| 1  | جنوب سيناء/الوادي الجديد | 2  | النوع / العمر     | 3  | النشاط الاقتصادي  |
| 4  | عامل التوصيل             | 5  | مبرمج الحاسوب     | 6  | منتجات            |
| 7  | المحاصيل / الأبقار       | 8  | الطبيب            | 9  | المسئولية         |
| 10 | تحديد المشكلة            | 11 | الثقة بالنفس      | 12 | مكان قضاء الإجازة |
| 13 | صنع القرار في المدرسة    | 14 | الدولار           | 15 | نعوم شبيب         |
| 16 | التعليم والهجرة          | 17 | كبار السن         | 18 | قليلة             |
| 19 | العمال والمهندسون        | 20 | مطور التطبيقات    | 21 | القمح             |
| 22 | اختيار أفضل الحلول       | 23 | التعاون والاحترام | 24 | الجمالية          |
| 25 | الكتان والصوف            | 26 | مركز الخزف        |    |                   |

## السؤال الرابع: اكتب ما تشير إليه العبارة

(1) التركيب السكاني سمر (2) سوهاج مذكرات تعليمية (3) صنع القرار

## السؤال الخامس: رتب خطوات صنع القرار التالية

بالترتيب من أعلى (4)، (5)، (1)، (2)، (3).

## السؤال السادس: حدد صاحب المهنة التي بدونها يحدث هذا

(1) عامل النظافة (2) المعلم (3) الطبيب (4) الميكانيكي (5) الشرطي

## السؤال السابع: (أ) لاحظ الخريطة المقابلة، ثم اختر

(1) الوادي الجديد (2) القاهرة (3) سوهاج

## السؤال السابع: (ب) لاحظ الخريطة المقابلة، ثم اختر

(1) المتوسط (2) سوهاج (3) الوادي الجديد

## السؤال السابع: (ج) لاحظ الخريطة المقابلة، ثم اختر

(1) البحر الأحمر (2) جنوب سيناء (3) مرسى مطروح

## السؤال الثامن: بم تفسر...؟

- (1) لأنها عاصمة مصر وبها الوزارات والمصالح الحكومية ويتوفر بها فرص عمل.
- (2) لأنها منطقة صحراوية تقل بها المياه العذبة.
- (3) كانت مركزا للعلم والثقافة، وعمل السكان بها في الكتابة والتعليم والصناعة.
- (4) بسبب الهجرة الداخلية بين المحافظات.
- (5) من أهم الركائز الأساسية في تقدم البلاد؛ لأنها توفر الغذاء الذي نحتاج إليه.
- (6) بسبب التقدم العلمي والتكنولوجي.
- (7) تساعد التجارة على تلبية ما نحتاج إليه، وتوفير السلع والبضائع.
- (8) ينظف الشوارع.
- (9) من أجل اختيار أفضل البدائل والحلول للمشكلات.
- (10) مشاركة الجميع في صنع القرار يعلمنا التعاون وتحمل المسؤولية.
- (11) لأنها أحد رموز الحضارة المصرية القديمة.
- (12) حتى يتعلموا التعاون وتحمل المسؤولية والثقة بالنفس.
- (13) المدرسة مكان مهم نتعلم فيه أن نشارك في صنع القرارات.
- (14) لأنها عاصمة مصر وبها الوزارات والمصالح الحكومية ويتوفر بها فرص عمل.
- (15) بسبب ندرة الأشجار في مصر.
- (16) توفر فرص عمل، تحافظ على ثقافة وتراث مصر.
- (17) ليعرض الحرفيون منتجاتهم أمام الجمهور.
- (18) بهدف إحياء الحرف التراثية ومساعدة الحرفيين.
- (19) تحافظ على ثقافة وتراث مصر، و تظهر حضارة مصر القديمة.
- (20) بسبب ندرة الأشجار في مصر.
- (21) لاستخدامها في صناعة التُحف والأكواب وتزيين المساجد والقصور.
- (22) صنع منه المصري القديم الأواني والأكواب.

## السؤال التاسع: ما النتائج المترتبة على...؟

- (1) زيادة الهجرة الداخلية للشباب إليها.
- (2) قلة السكان وقلة النباتات.
- (3) ظهور مهن جديدة لم تكن موجودة من قبل.
- (4) قلة السكان.
- (5) تزداد نسبة الأطفال في بعض المحافظات.
- (6) شعور الجميع بالمسئولية، والتعاون والثقة بالنفس.
- (7) استيراد الأشجار والأخشاب من الخارج.
- (8) توفر فرص عمل، والحفاظ على ثقافة وتراث مصر.
- (9) أصبحت محافظة القاهرة هي أكبر محافظات مصر سكاناً.
- (10) معرفة إيجابيات وسلبيات كل البدائل واختيار الحل الأفضل.
- (11) توفر فرص عمل، والحفاظ على ثقافة وتراث مصر.

## السؤال العاشر: ماذا يحدث إذا...؟

- (1) تنتشر الأمراض ولا نجد من يعالج الناس.
- (2) لا نستطيع صنع القرار السليم.
- (3) نتعلم تحمل المسئولية والتعاون.
- (4) تنتشر القمامة في الشارع.
- (5) نتأخر عن العالم ولا نتقدم في المستقبل.
- (6) توفر فرص عمل، والحفاظ على ثقافة وتراث مصر.

## السؤال الحادي عشر: ما المقصود ب...؟

- (1) **التركيب السكاني:** تصنيف السكان إلى مجموعات حسب النوع أو العمر.
- (2) **صنع القرار:** تحديد بدائل متعددة واختيار الأفضل منها لحل مشكلة.
- (3) **الحرف التراثية:** صناعات يدوية تعتمد على المواد الخام المحلية والأيدي العاملة.

### السؤال الثاني عشر: ما أوجه التشابه والاختلاف بين...؟

(1) التشابه: **الشرطي**: يقدم خدمة للمجتمع. **الطبيب**: يقدم خدمة للمجتمع.

الاختلاف: **الشرطي**: يحافظ على الأمن. **الطبيب**: يعالج المرضى.

### السؤال الثالث عشر: ما العلاقة بين...؟

(1) المهن المستقبلية ظهرت بسبب التقدم العلمي والتكنولوجي.

(2) قرية الحرائية تشتهر بصناعة السجاد اليدوي.

(3) يقوم المهندس بتحويل المواد الخام إلى منتجات.

(4) يتعاون أفراد الأسرة في صناعة القرار.

(5) توفر الصناعة السلع والبضائع للتجار.

(6) اشترك الأطفال في صنع القرار ينمي مهارات الطفل.

(7) يزيد عدد السكان في المكان الي يتوافر فيه الماء.

### السؤال الرابع عشر: قارن بين...؟

(1) **الطبيب**: يعالج المرضى، **والشرطي**: يحافظ على الأمن.

(2) **الزراعة**: توفر المحاصيل والخضروات، **والصناعة**: توفر السلع والمنتجات.

(11) **المعلم**: يجهز المعلم المتعلمين لكل المهن، **الطبيب**: يعالج المرضى.

### السؤال الخامس عشر: أجب عما يأتي

(1) يعمل على إنتاج الطاقة النظيفة للمحافظة على البيئة من التلوث.

(2) تحديد المشكلة.

(3) برج CN تورنتو.

(4) الحفر على الخشب، الفخار، السجاد اليدوي، الزجاج...

(5) أنشأت الدولة مراكز ومعارض ومهرجانات؛ للحفاظ على الحرف التراثية.

(6) لاهتمام الأسر بالتعليم.

(7) **السجاد اليدوي**: الحرائية بالجيزة، **صناعة الزجاج**: جراح بالدقهلية.

(8) توفر فرص عمل، تحافظ على ثقافة وتراث مصر.