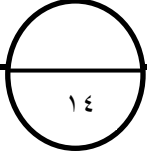


اختبار منتصف الفصل الدراسي الثاني - لمادة الرياضيات - الصف الثاني

٢٠

الاسم : الفصل : ثاني

اختاري الإجابة الصحيحة فيما يلي (إجابة واحدة فقط)



١- ناتج ضرب $١٣٥ \times ٦٤ = \dots\dots$ ؟

أ	٨٦٤٠	ب	٢٣٤	ج	٥٠٠	د	٥
---	------	---	-----	---	-----	---	---

٢- ناتج ضرب $٣٢٤ \times ٢٦١ = \dots\dots$ ؟

أ	٤٩٠٠	ب	٨٤٥٦٤	ج	٨١٠٠	د	٢٣٠٠
---	------	---	-------	---	------	---	------

٣- يوفر عامل ٦٥٠ ريالاً شهرياً من مرتبه كم يوفر في سنة كاملة ؟

أ	٣٤٠٠	ب	٧٨٠٠	ج	٦٠٠٠	د	٤٥٠٠
---	------	---	------	---	------	---	------

٤- قَدري الناتج واختاري الإجابة المناسبة : $٥٧ \times ٦ = \dots\dots$ ؟

أ	٦٢٠	ب	٨٤٢	ج	٣٤٢	د	٣٢٠
---	-----	---	-----	---	-----	---	-----

٥- وزعنا ٣٦ كتاباً على أربعة رفوف ، كم كتاباً في الرف الواحد ؟

أ	٦ كتب	ب	٧ كتب	ج	٨ كتب	د	٩ كتب
---	-------	---	-------	---	-------	---	-------

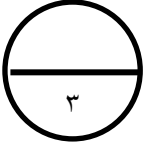
٦- أوجدني ناتج قسمة $٢٥ \div ٥ = \dots\dots$ ؟

أ	٤	ب	٧	ج	٦	د	٥
---	---	---	---	---	---	---	---

٧- في مركز تعليم الكبار وزعنا ٧٢ قلماً على ٨ دارسين كم قلماً أخذ كل دارس ؟

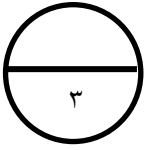
أ	٤ أقلام	ب	٨ أقلام	ج	٧ أقلام	د	٩ أقلام
---	---------	---	---------	---	---------	---	---------

السؤال الثاني :



ضعي كلمة صح أمام العبارة الصحيحة وكلمة خطأ أمام العبارة الخاطئة :

١	العدد ٧٢ مقرباً إلى أقرب عشرة يساوي ٨٠ .
٢	نستعمل التقدير للتحقق من معقولية ناتج الضرب .



السؤال الثالث: أوجدى ناتج التقدير :

$$\begin{array}{r} \boxed{} \leftarrow 304 \\ \times \\ \boxed{} \leftarrow 291 \\ \hline \boxed{} \end{array}$$

انتهت الاسئلة

تمنياتي لكن بالتوفيق والنجاح

معلمة المادة /