

الثالث الثانوي الأدبي

خرائط كتاب التاريخ

انقل إلى ورقة إجابتك الأرقام المحددة على الخريطة اكتب المسمى المناسب لها ؟

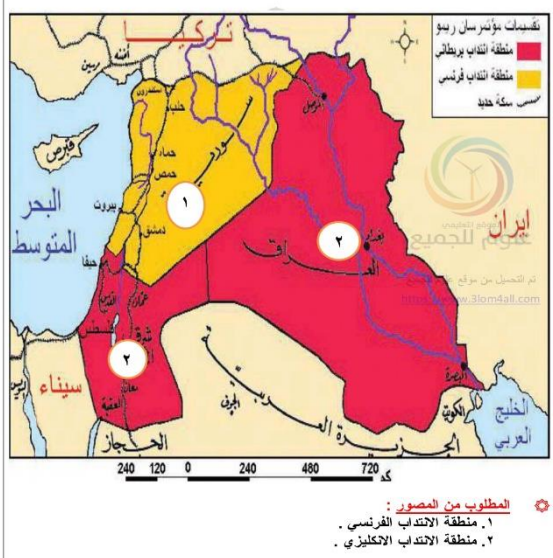
الهضبة التاريخية ١ : تقسيمات اتفاقية سايكس بيكو الصفحة: ١٧



- المطلوب من المصور :**
- ١ . منطقة النفوذ الفرنسي .
 - ٢ . منطقة النفوذ الانكليزي .
 - ٣ . منطقة دولية .
 - ٤ . المنطة العربية (أ ب) .

انقل إلى ورقة إجابتك الأرقام المحددة على الخريطة اكتب المسمى المناسب لها ؟

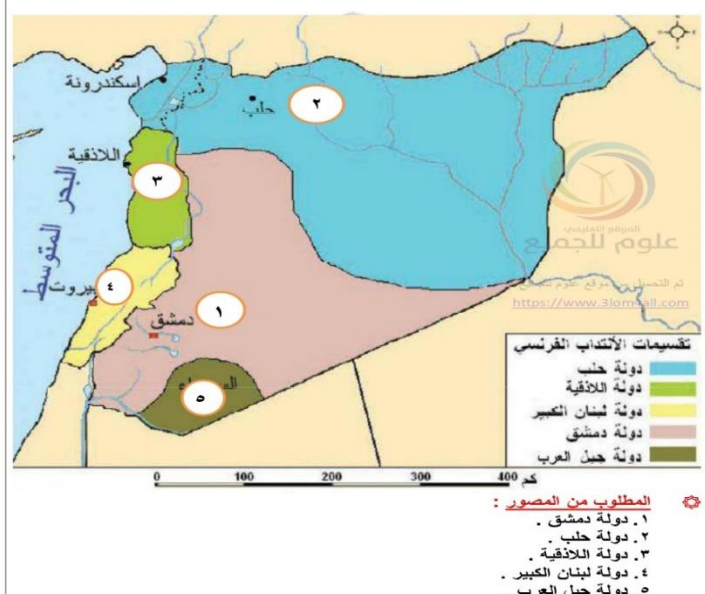
الهضبة التاريخية ٢ : تقسيم بلاد الشام وفق مقررات سان ريمو الصفحة: ١٩



- المطلوب من المصور :**
- ١ . منطقة الانتداب الفرنسي .
 - ٢ . منطقة الانتداب الانكليزي .

انقل إلى ورقة إجابتك الأرقام المحددة على الخريطة اكتب المسمى المناسب لها ؟

الهضبة التاريخية ٣ : تقسيم الاحتلال الفرنسي لسورية الصفحة: ٣٤



- المطلوب من المصور :**
- ١ . دولة دمشق .
 - ٢ . دولة حماة .
 - ٣ . دولة اللاذقية .
 - ٤ . دولة لبنان الكبير .
 - ٥ . دولة جبل العرب .

ز. هجر جازي

ز. هجر جازي

انقل إلى ورقة إجابتك الأرقام المحددة على الخريطة اكتب المسمى المناسب لها ؟

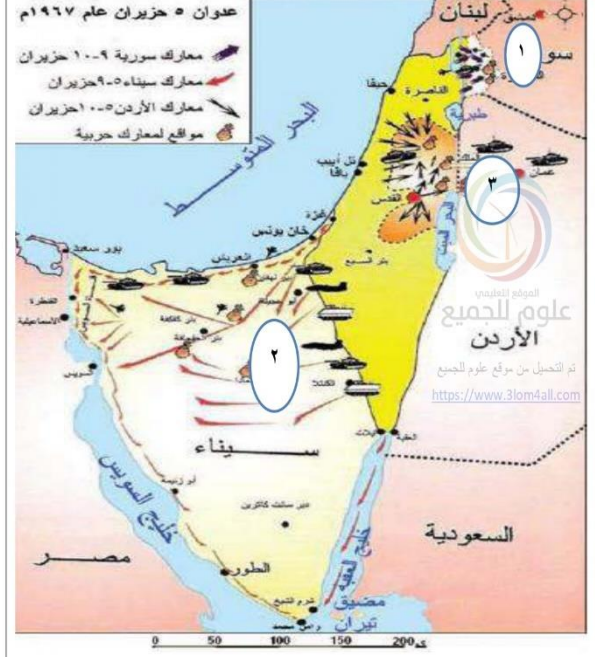
انقل إلى ورقة إجابتك الأرقام المحددة على الخريطة اكتب المسمى المناسب لها ؟

الصفحة: ٦١

الهجور التاريخي: ٦: دولة لبنان الكبير

الصفحة: ٥٣

الهجور التاريخي: ٥: معارك عدوان حزيران عام ١٩٦٧م



المطلوب من المصور:

١. متصرفية جبل لبنان .
٢. منطقة ضمت إلى جبل لبنان من ولاية بيروت .
٣. مناطق ضمت من سورية إلى لبنان .

المطلوب من المصور:

١. معارك الجبهة السورية .
٢. معارك الجبهة المصرية .
٣. معارك الجبهة الأردنية .

انقل إلى ورقة إجابتك الأرقام المحددة على الخريطة اكتب المسمى المناسب لها ؟

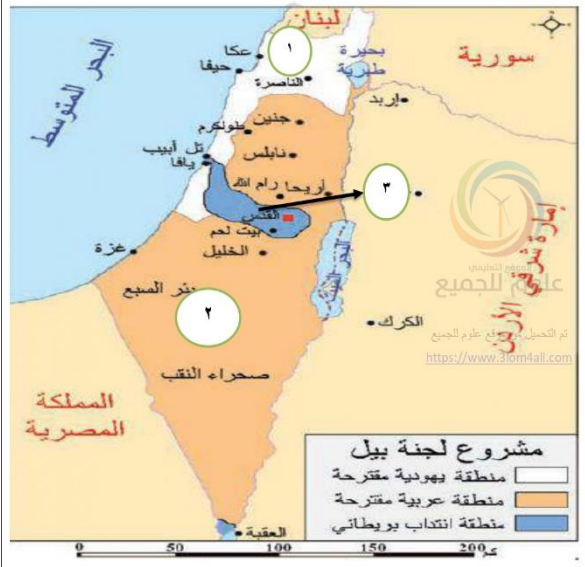
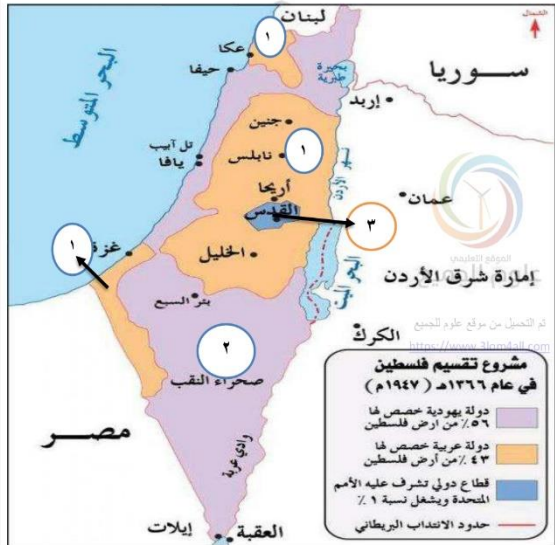
انقل إلى ورقة إجابتك الأرقام المحددة على الخريطة اكتب المسمى المناسب لها ؟

الصفحة: ٨٢

الهجور التاريخي: ٨: مشروع تقسيم فلسطين

الصفحة: ٧٧

الهجور التاريخي: ٧: مشروع لجنة بيل



المطلوب من المصور:

١. دولة عربية .
٢. دولة يهودية .
٣. منطقة دولية - تحت نفوذ الانتداب البريطاني (القدس) .

المطلوب من المصور:

١. منطقة يهودية مقترحة .
٢. منطقة عربية مقترحة .
٣. منطقة انتداب بريطاني .

انقل إلى ورقة إجابتك الأرقام المحددة على الخريطة اكتب المسمى المناسب لها ؟

الصفحة: ٩٨

الصور التاريخية ٩ : الحملة البريطانية لاحتلال العراق

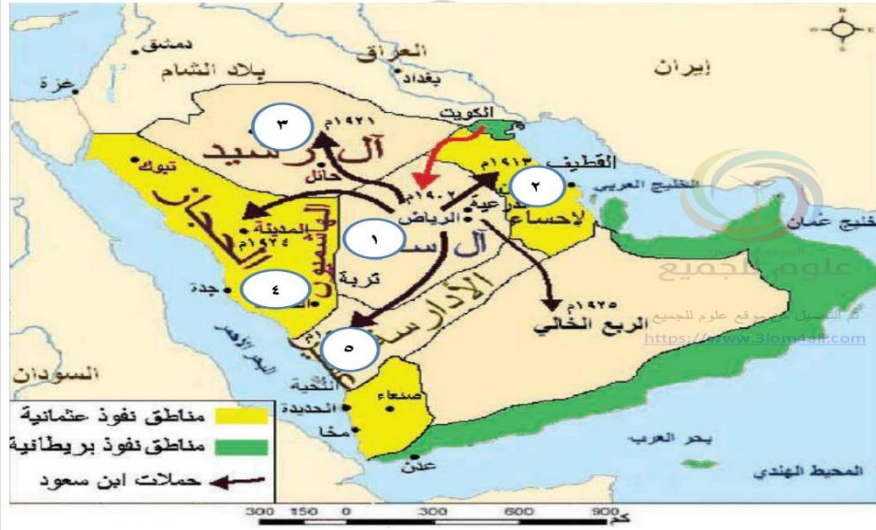


المطلوب من المصور :

١. مرحلة الأولى (البصرة _ ١٩١٤ م) .
٢. مرحلة الثانية (الكوت ، بغداد _ ١٩١٦-١٩١٧ م) .
٣. المرحلة الثالثة (الموصل _ ١٩١٨ م) .

انقل إلى ورقة إجابتك الأرقام المحددة على الخريطة اكتب المسمى المناسب لها ؟

الصور التاريخية ١٠ : مراحل تشكل المملكة السعودية الصفحة: ١١٠

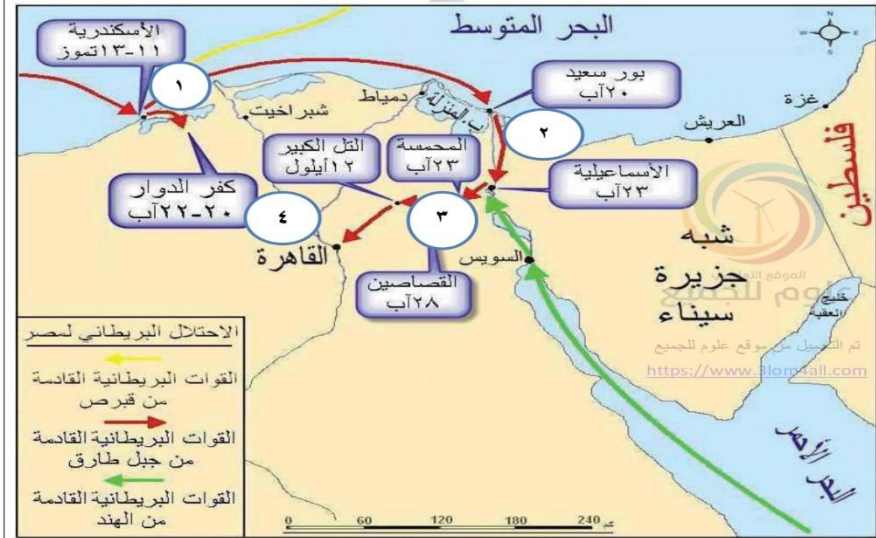


المطلوب من المصور :

١. استعادة نجد عام ١٩٠٢ م .
٢. ضم الأحساء عام ١٩١٣ م .
٣. ضم حائل عام ١٩٢١ م .
٤. ضم الحجاز عام ١٩٢٦ م .
٥. ضم منطقة عسير عام ١٩٣٠ م .

انقل إلى ورقة إجابتك الأرقام المحددة على الخريطة اكتب المسمى المناسب لها ؟

الصور التاريخية ١١ : الحملة البريطانية لاحتلال مصر الصفحة: ١٣٧

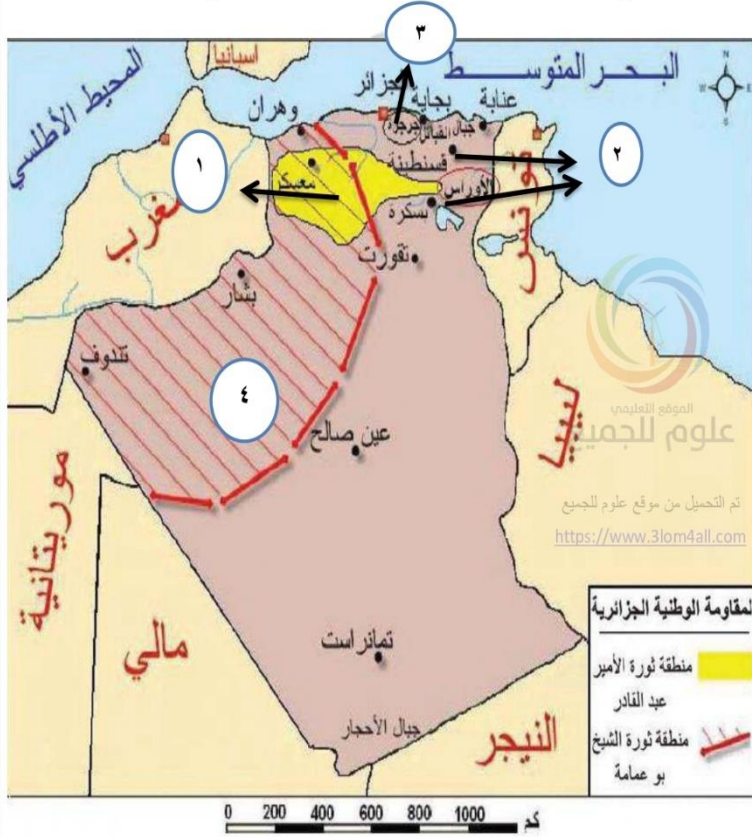


المطلوب من المصور :

١. احتلال الاسكندرية ١٣ تموز .
٢. عبور البريطانيين مدن القناة بورسعيد والاسماعيلية ٢٠-٢٣ آب .
٣. معارك المحمية والقصاصين ٢٣ و ٢٨ آب .
٤. معركة التل الكبير واحتلال القاهرة ١٢ أيلول .

انقل إلى ورقة إجابتك الأرقام المحددة على الخريطة اكتب المسمى المناسب لها ؟

الصفحة: ١٧٣ **الهصور التاريخي ١٣ : الثورات الجزائرية ضد الاحتلال الفرنسي**



المطلوب من المصور :

1. منطقة ثورة عبد القادر الجزائري .
2. منطقة ثورة محمد المقراني .
3. منطقة ثورة لالا فاطمة .
4. منطقة ثورة أولاد سيدي الشيخ ، بوعمامة .

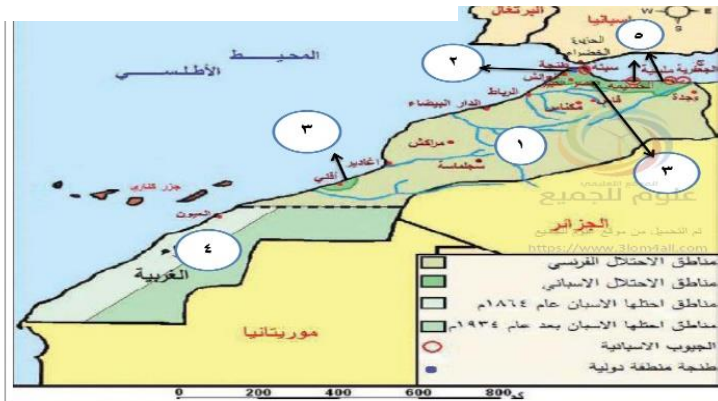
انقل إلى ورقة إجابتك الأرقام المحددة على الخريطة اكتب المسمى المناسب لها ؟

الصفحة: ١٥٧ **الهصور التاريخي ١٢ : التقسيم الاستعماري للصومال**



المطلوب من المصور :

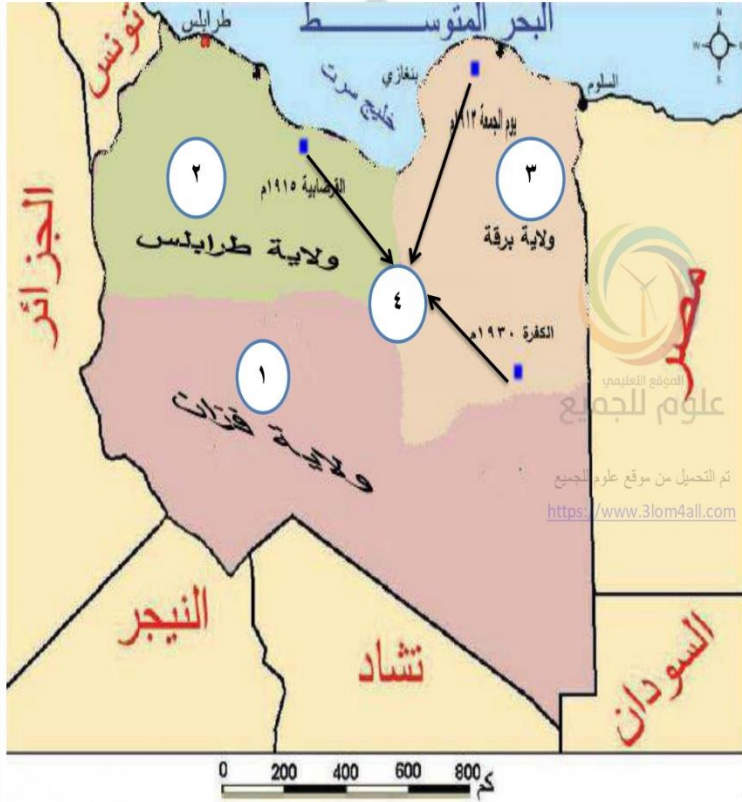
1. الصومال الفرنسي .
2. الصومال الإيطالي .
3. الصومال الإنجليزي .
4. المحمية الإيطالية .



المطلوب من المصور :

1. منطقة الاحتلال الفرنسي .
2. منطقة دولية (طنجة) .
3. منطقة الريف - أفقي (تحت الاحتلال الاسباني - الاخضر الغامق) .
4. منطقة الاحتلال الاسباني .
5. الجيوب الاسبانية (سبتة - مليلة) .

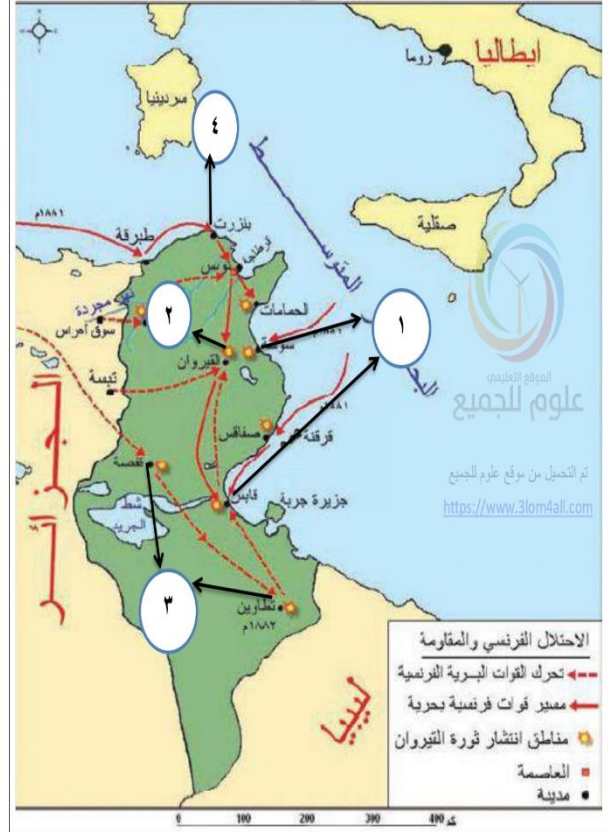
الهضور التاريخي ١٥ : تقسيم ليبيا و الثورات ضد الاحتلال الايطالي الصفحة: ١٩٩



المطلوب من المصور :

١. ولاية فزان (تحت الوصاية الفرنسية) .
٢. ولاية طرابلس (تحت الوصاية الإيطالية) .
٣. ولاية برقة (تحت الوصاية البريطانية) .
٤. معارك عمر المختار والثوار .

الهضور التاريخي ١٤ : مراحل احتلال فرنسا تونس الصفحة: ١٨٦



المطلوب من المصور :

١. الحملة البحرية ١٨٨١م (قابس - سوسة - صفاقس) .
٢. ثورة القيروان .
٣. انتشار الثورة (قفصة - تطوين) .
٤. فاعدة بجزيرة .