



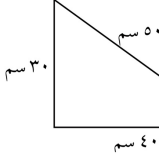
ورقة عمل الصف الثالث .

اسم الطالبة:

الصف:



أجدُ مُحيطَ الأشكالِ الآتية:



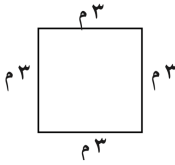
(ب) ١١٠ سم

(د) ١٤٠ سم

(أ) ٨٠ سم

(ج) ١٢٠ سم

✓



(ب) ١٠ م

(د) ١٢ م

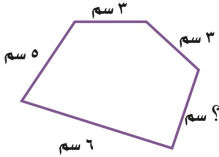
أجدُ مُحيطَ الشَّكْلِ المُجاوِرِ.

(أ) ٩ م

(ج) ١١ م

✓

مُحيطُ الشَّكْلِ أَذْنَاهُ يُساوِي ٢١ سم، فَمَا طُولُ الصُّلْعِ المَجْهُولِ؟



أختارُ أَفْضَلَ تَقْدِيرٍ لِكُلِّ مِمَّا يَأْتِي:

طُولُ مِسْوَكٍ:

(د) ١٠ كلم

(ج) ١٠ م

(ب) ١٠ سم

(أ) ١٠ ملم

ارْتِفَاعُ شَجَرَةٍ:

(د) ٤ ملم

(ج) ٤ كلم

(ب) ٤ سم

(أ) ٤ م

