



الأسبوع	الدرس	المادة	الصف	تدريبات	التاريخ
1	الموارد الاقتصادية	الدراسات الاجتماعية	التاسع .....	علاجية	05 – 01/08 /2026م

اختر الإجابة الصحيحة لكل من الأسئلة من 1 إلى 11 وذلك بوضع علامة x داخل المربع المجاور للإجابة الصحيحة.

تعليمات

1- " كل ما يمكن أن يستغله الإنسان لإشباع حاجاته " يشير التعريف السابق لمفهوم:

التعدين المناخ الصخور الموارد الاقتصادية 

2- النشاط الاقتصادي الذي يستأثر وحده بنسبة 70 % من مجموع الموارد المائية المستخدمة:

الزراعة الصناعة إنتاج الطاقة الاستهلاك البشري 

3- العنصر الوحيد الذي يربط جميع القطاعات الاقتصادية ببعضها البعض هو:

المياه التربة الغابات مصادر الطاقة 

4- يتمثل المصدر الرئيس للطلب على المياه للاستهلاك البشري في سكان مناطق:

البدو الحضر الريف القرية 

5- أي الأسباب الآتية يعد من الأسباب الطبيعية لمشكلة المياه؟

زيادة عدد السكان والطلب على المياه تعرض المياه الجوفية للاستنزاف والنضوب تناقص المياه العذبة نتيجة الأنشطة الاقتصادية تغير المناخ العالمي وزيادة الجفاف والفيضانات



6- أكثر الأسباب المسؤولة عن تدهور التربة هو:

الصناعة

الرعي الجائر

قطع الأشجار الجائر

سوء الأساليب الزراعية

7- أي الأشجار الآتية تعد الخام الرئيس لإنتاج الورق؟

البوط

الأبنوس

الصنوبرية

الماهو جني

8- أكثر الغابات التي تتعرض للتدهور نتيجة الاسراف في القطع هي:

الباردة

الاستوائية

المدارية

المعتدلة

9- أي الغابات الآتية ازدادت مساحتها نتيجة عمليات الاستزراع والإحلال؟

الباردة

الاستوائية

المدارية

المعتدلة

10- بلغت نسبة مساحة التربة التي تعرضت للتدهور من إجمالي مساحة التربة العالمية نحو:

28 %

30 %

33 %

35 %

11- أكثر قارات العالم التي تتركز فيها الغابات:

آسيا

أفريقيا

أوروبا

أمريكا الجنوبية



## تعليمات

عند الإجابة على الأسئلة من 12 إلى 15 ، اكتب إجابتك في الفراغ المخصص للإجابة:

		12	وضح خصائص الموارد الاقتصادية.
			الإجابة: 1- الندرة فهي تتأثر بزيادة السكان. 2- قابلية المورد لإنتاج أكثر من سلعة مثل الأرض تستخدم للإنتاج الزراعي والصناعي. 3- تحتاج السلعة لأكثر من مورد لإنتاجها مثل المحاصيل الزراعية تحتاج للأرض والمياه ورأس المال.
		13	ما أسباب مشكلة المياه.
			الإجابة: 1- زيادة عدد السكان . 2- استنزاف المياه الجوفية . 3- تغير المناخ العالمي . 4- تناقص المياه العذبة.
		14	عدد مجالات الطلب على الموارد المائية.
			الإجابة: 1- الزراعة . 2- الاستهلاك البشري . 3- إنتاج الطاقة . 4- الصناعة .
		15	وضح أساليب تحقيق الاستغلال الأمثل للموارد المائية.
			الإجابة: 1- استخدام أساليب ري حديثة . 2- دعم البحوث العلمية . 3- إنشاء السدود والحواجز .





الأسبوع	الدرس	المادة	الصف	تدريبات	التاريخ
2	تابع الموارد الاقتصادية	الدراسات الاجتماعية	التاسع .....	علاجية	11 - 15 / 01 / 2026م

اختر الإجابة الصحيحة لكل من الأسئلة من 1 إلى 05 وذلك بوضع علامة x داخل المربع المجاور للإجابة الصحيحة.

تعليمات

1- أكثر المعادن نمواً في حجم الإنتاج العالمي:

 النحاس

 الحديد

 البوكسيت

 الفوسفات

2- أكثر الصناعات تلويثاً للبيئة:

 الأثاث

 الورق

 السيارات

 صهر المعادن

3- أي مما يلي يعد من مصادر الطاقة الغير متجددة؟

 الفحم

 الرياح

 الشمسية

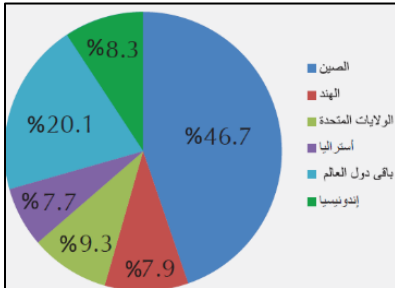
 الكهرومائية

4- يشير المخطط البياني المقابل لتصدر الصين دول العالم في إنتاج:

 الفحم

 النحاس

 البترول


 الغاز الطبيعي


5- يشير المخطط البياني المقابل لتصدر أمريكا دول العالم في إنتاج:

 الفحم

 النحاس

 البترول

 الغاز الطبيعي




تعليمات عند الإجابة على الأسئلة من 6 إلى 8 ، اكتب إجابتك في الفراغ المخصص للإجابة:

		6	وضح أهمية الموارد المعدنية.
			الإجابة: 1- مصدر مهم للدخل . 2- تستخدم كمادة خام في الصناعات . 3- يمكن تجميعها وصهرها وتشكيلها من جديد .
		7	اذكر العوامل المؤثرة في التعدين.
			الإجابة: 1- رؤوس الأموال المتاحة . 2- السياسات البيئية . 3- الموقع الجغرافي للمواد الخام .
		8	بم تفسر يعد الغاز الطبيعي من أهم مصادر الطاقة في وقتنا الحاضر.
			الإجابة: 1- أقل تلويثاً للبيئة . 2- سهولة نقله وتخزينه . 3- تعدد استخداماته .



اسم الطالب: .....

التاريخ	تدريبات	الصف	المادة	الدرس	الأسبوع
18 – 2026 /01/22م	علاجية	التاسع .....	الدراسات الاجتماعية	الموارد المعدنية	3

اختر الإجابة الصحيحة لكل من الأسئلة من 1 إلى 07 وذلك بوضع علامة x داخل المربع المجاور للإجابة الصحيحة.

تعليمات

1- أي مصادر الطاقة الآتية تعد من المتجددة؟

النفط الفحم الكهرمائية الغاز الطبيعي 

2- يشير المخطط البياني المقابل لتصدر أمريكا دول العالم في إنتاج:

الفحم النحاس البتترول الغاز الطبيعي 

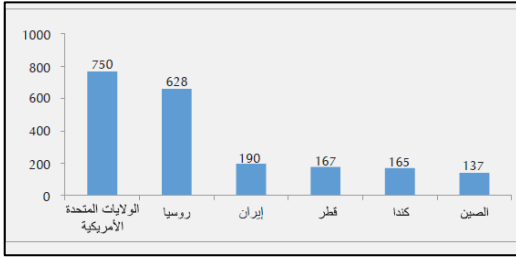
3- ترتيب دولة قطر عالمياً في إنتاج الغاز الطبيعي:

الأول الثاني الثالث الرابع 

4- أولى دول العالم في إنتاج الطاقة الكهرمائية:

كندا الصين البرازيل هولندا 

5- أي الموارد الآتية ساعدت على جذب السكان لإقامة مدينة في المياه المتجمدة في شمالي كندا؟

النفط الفحم اليورانيوم الغاز الطبيعي 



6- أي الموارد الآتية ساعدت على تركيز السكان شمال تشيلي على ارتفاع 3000 متر في جبال الانديز؟

النفط

النحاس

اليورانيوم

الغاز الطبيعي

7- أي الموارد الآتية ساعدت على تركيز السكان في وسط أوروبا وشرق الولايات المتحدة الأمريكية؟

النفط

الفحم

اليورانيوم

الغاز الطبيعي



## تعليمات

عند الإجابة على الأسئلة من 8 إلى 11 ، اكتب إجابتك في الفراغ المخصص للإجابة:

		8	وضح مميزات الطاقة الكهرومائية.
			الإجابة: 1- يمكن نقلها لمسافات طويلة وبتكلفة أقل . 2- صديقة للبيئة . 3- رخص أسعارها .
		9	ما الدول الرائدة في توليد الطاقة الكهرومائية ، وطاقة الرياح.
			الإجابة: أ- الطاقة الكهرومائية: الصين – كندا – البرازيل . ب- طاقة الرياح: هولندا – بلجيكا – الدنمارك .
		10	دلل على تأثير الزيادة السكانية على الموارد الاقتصادية.
			الإجابة: 1- ارتفاع الطلب على الموارد . 2- زيادة حجم إنتاج الموارد . 3- سوء استخدام الموارد والقضاء عليها .

		11	دلل على تأثير الموارد الاقتصادية على توزيع السكان.
			الإجابة: 1- تشجع المياه على تركيز السكان " 70 % من السكان يعيشون على الزراعة " . 2- تؤدي خصوبة التربة لتركيز السكان بقرب الأنهار " التربة السمكية " . 3- تجذب المعادن ومصادر الطاقة السكان مثل حقول النفط والفحم والمعادن الثمينة .



الأسبوع	الدرس	المادة	الصف	تدريبات	التاريخ
4	الثورة الصناعية	الدراسات الاجتماعية	التاسع .....	علاجية	25 - 01/29 / 2026 م

تعليمات  
اختر الإجابة الصحيحة لكل من الأسئلة من 1 إلى 05 وذلك بوضع علامة x داخل المربع المجاور للإجابة الصحيحة.

1- تم اختراع المحرك البخاري على يد:

ديزل

جوتنبرغ

جيمس واط

توماس إديسون

2- أسبق الدول الأوروبية إلى الثورة الصناعية:

فرنسا

ألمانيا

إيطاليا

بريطانيا

3- يتضح تأثير الأنهار سريعة الجريان على قيام الثورة الصناعية في بريطانيا من خلال:

الاستقرار السياسي

إدارة آلات المصانع

جعلتها في مأمن من الغزو

توفير المواد الخام للصناعة

4- أي طبقات المجتمع الآتية التي سيطرت على توجه الحكومات الأوروبية؟

العامة

النبلاء

العسكريين

الرأسمالية

5- السبب في اندلاع الثورات في أوروبا خلال القرن التاسع عشر ضد النظام الرأسمالي هو:

زيادة النشاط الاستعماري

ظهور الحركة النسائية

ظهور الأفكار الاشتراكية

خروج النساء والأطفال للعمل



تعليمات عند الإجابة على الأسئلة من 6 إلى 09 ، اكتب إجابتك في الفراغ المخصص للإجابة:

			6	اذكر عوامل قيام الثورة الصناعية في بريطانيا.						
				الإجابة: 1- الاستقرار السياسي . 2- الموقع الجغرافي. 3- المستعمرات البريطانية .						
			7	قارن بين دور العوامل الآتية في قيام الثورة الصناعية لدى بريطانيا:						
				<table border="1"> <thead> <tr> <th>المستعمرات البريطانية</th> <th>وجود الأنهار</th> <th>العامل</th> </tr> </thead> <tbody> <tr> <td>وفرت المواد الخام اللازمة للصناعة وسوقاً لتصريف المنتجات</td> <td>استخدام مساقط المياه في إدارة آلات المصانع</td> <td>دوره في قيام الثورة الصناعية</td> </tr> </tbody> </table>	المستعمرات البريطانية	وجود الأنهار	العامل	وفرت المواد الخام اللازمة للصناعة وسوقاً لتصريف المنتجات	استخدام مساقط المياه في إدارة آلات المصانع	دوره في قيام الثورة الصناعية
المستعمرات البريطانية	وجود الأنهار	العامل								
وفرت المواد الخام اللازمة للصناعة وسوقاً لتصريف المنتجات	استخدام مساقط المياه في إدارة آلات المصانع	دوره في قيام الثورة الصناعية								
			8	ما النتائج السياسية المترتبة على الثورة الصناعية.						
				الإجابة: 1- سيطرة الرأسمالية على توجه الحكومات . 2- ظهور الأفكار الاشتراكية . 3- ضاعفت الدول الأوروبية نشاطها الاستعماري .						
			9	ما النتائج الاقتصادية المترتبة على الثورة الصناعية.						
				الإجابة: 1- تطور الإنتاج الصناعي والزراعي . 2- تطور وسائل المواصلات . 3- ازدهار التجارة وزيادة الإنتاج .						



التاريخ	تدريبات	الصف	المادة	الدرس	الأسبوع
1 - 02/5 / 2026م	علاجية	التاسع .....	الدراسات الاجتماعية	الثورة الصناعية	5

اختر الإجابة الصحيحة لكل من الأسئلة من 1 إلى 05 وذلك بوضع علامة x داخل المربع المجاور للإجابة الصحيحة.

تعليمات

1- أول الدول لحاقاً بركب الثورة الصناعية:

فرنسا أمريكا المانيا اسبانيا 

2- وصلت الثورة الصناعية إلى الولايات المتحدة الأمريكية في مطلع القرن الميلادي:

17 18 19 20 

3- أي القرارات الآتية أصدرتها الجمعية الوطنية عام 1789 م؟

إلغاء الملكية إعلان الجمهورية تشكيل لجنة لوضع الدستور إعلان حقوق الانسان والمواطن 

4- أي المظاهر الآتية تعبر عن سوء الأحوال الاقتصادية في فرنسا قبل الثورة؟

ضعف شخصية الملك غياب العدالة في الضرائب كثرة الحروب الخارجية تقسيم المجتمع إلى طبقات 

5- قامت الثورة الفرنسية ضد الملك:

فيليب نابليون بونابرت لويس الخامس عشر لويس السادس عشر



## تعليمات

عند الإجابة على الأسئلة من 6 إلى 08 ، اكتب إجابتك في الفراغ المخصص للإجابة:

		6	ما النتائج الاجتماعية المترتبة على الثورة الصناعية.
			الإجابة: 1- زيادة عدد سكان المدن . 2- خروج النساء والأطفال للعمل . 3- ظهور الحركة النسائية في أوروبا .
		7	ما الأسباب السياسية للثورة الفرنسية.
			الإجابة: 1- ضعف شخصية الملك لويس السادس عشر . 2- كثرة الحروب التي خاضتها فرنسا .
		8	عدد طبقات المجتمع الفرنسي قبل الثورة.
			الإجابة: 1- الأشراف . 2- رجال الدين . 3- العامة ( وسطى – دنيا ) .



الأسبوع	الدرس	المادة	الصف	تدريبات	التاريخ
6	الثورة الصناعية	الدراسات الاجتماعية	التاسع .....	علاجية	8 - 02/12 /2026م

اختر الإجابة الصحيحة لكل من الأسئلة من 1 إلى 09 وذلك بوضع علامة x داخل المربع المجاور للإجابة الصحيحة.

تعليمات

1- أي المفكرين الآتية ساهموا في الثورة الفرنسية؟

فولتير

روبسبير

شكسبير

مايكل انجلو

2- أي القرارات الآتية أصدرها المؤتمر الوطني عام 1792 م؟

إلغاء الملكية

المساواة بين الفرنسيين

تشكيل حكومة الإدارة

إعلان حقوق الانسان والمواطن

3- أي الأسباب الآتية أحد الأسباب السياسية للثورة الفرنسية؟

ضعف شخصية الملك

غياب العدالة في الضرائب

انتقاد المفكرين الفرنسيين

تقسيم المجتمع إلى طبقات

4- اختلف نواب الطبقة العامة مع نواب الطبقتين الممتازتين عندما دعاهم الملك لويس السادس عشر للبحث عن:

مخرج للأزمة المالية 1789م

مساعدة الأمريكيين في استقلالهم

وضع حد للحروب الفرنسية

مساواة طبقات المجتمع الفرنسي

5- تحولت فرنسا من الجمهورية للامبراطورية عام :

1801 م

1802 م

1803 م

1804 م



6- تولى حزب اليعاقبة السلطة في فرنسا خلال النظام الجمهوري بقيادة:

فولتير

مونتسكيو

روبسبير

نابليون بوناپرت

7- انتهت الثورة الفرنسية بعد الانقلاب الذي قام به:

فولتير

مونتسكيو

روبسبير

نابليون بوناپرت

8- عدد أعضاء حكومة الإدارة الفرنسية:

4

5

6

7

9- استمرت الثورة الفرنسية لمدة:

4 أعوام

6 أعوام

8 أعوام

10 أعوام



تعليمات عند الإجابة على الأسئلة من 10 إلى 12 ، اكتب إجابتك في الفراغ المخصص للإجابة:

		عدد مراحل الثورة الفرنسية.	10												
الإجابة:															
<p>1- الملكية الدستورية .</p> <p>2- النظام الجمهوري .</p> <p>3- حكومة الإدارة .</p>															
		ما النتائج المترتبة على الثورة الفرنسية.	11												
الإجابة:															
<p>1- سياسية : قضت على النظام الملكي وأقامت الجمهوري .</p> <p>2- اجتماعية : أقرت العدالة وحرية الرأي والتعبير والمساواة .</p> <p>3- اقتصادية : أزلت النظام الاقطاعي وأقامت الرأسمالي .</p>															
		رتب الأحداث التاريخية الآتية من الأقدم إلى الأحدث بحسب تسلسلها الزمني الصحيح:	12												
( حكومة الإدارة - سقوط سجن الباستيل - الإمبراطورية الفرنسية - إعلان الجمهورية الفرنسية )															
		<table border="1"> <tr> <td>الإمبراطورية الفرنسية</td> <td>حكومة الإدارة</td> <td>إعلان الجمهورية الفرنسية</td> <td>سقوط سجن الباستيل</td> </tr> <tr> <td>←</td> <td></td> <td></td> <td></td> </tr> <tr> <td>1804 م</td> <td>1794 م</td> <td>1792 م</td> <td>1789 م</td> </tr> </table>	الإمبراطورية الفرنسية	حكومة الإدارة	إعلان الجمهورية الفرنسية	سقوط سجن الباستيل	←				1804 م	1794 م	1792 م	1789 م	
الإمبراطورية الفرنسية	حكومة الإدارة	إعلان الجمهورية الفرنسية	سقوط سجن الباستيل												
←															
1804 م	1794 م	1792 م	1789 م												