

ما اسم الأشكال
التالية :

• مخروط.

• كرة.

• مكعب .



أحَوِّطُ الأشكالَ الَّتِي تَتَّفِقُ مَعَ الوَصْفِ :

١ وَجْه • حَرْف ١ رَأْس




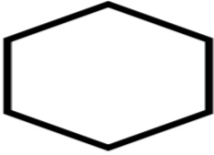

السؤال الثاني : أ/ صفي الأشكال المستوية التالية

.....أضلاع.

..... رؤوس .



• أحوط الأشكال التي لها نفس الاسم (شبه منحرف) ؟



• أحوط الأشكال الناتجة عن الشكل التالي :

مثلث

شبه منحرف

مربع



- يتشابه الشكل المربع وشبه المنحرف أن لهما:

..... أضلاع رؤوس

