







السؤال الأول : اصل الاشكال بما يناسبها :

<ul style="list-style-type: none"> • مخروط. • كرة. • مكعب . 	•		-١
	•		-٢
	•		-٣


السؤال الثاني : أ/ صفي الاشكال المستوية التالية :

..... أضلاع .	 أضلاع .	
..... رؤوس رؤوس .	

ب / صح ✓ ام خطأ ✗ أمام العبارات التالية :

- ١- المربع □ شكل مستوي له ٤ اضلاع و٤ رؤوس . ()
- ٢- الدائرة ○ لها ٣ أضلاع و٣ رؤوس . ()
- ٣- يسمى هذا الشكل  أسطوانة . ()

السؤال الثالث : اختار الاشكال التي يمكن الحصول عليها عند قص النقاط:

١-  مُتَوَازِي أَضْلَاحٍ مُثَلَّثٌ مُرَبَّعٌ

٢-  مُسْتَطِيلٌ مُرَبَّعٌ مُثَلَّثٌ