

أولاً: اختر الإجابة الصحيحة في كل مما يأتي وانقلها إلى ورقة اجابتك:

٥٦٠

١- الجبل الذي يقسم سهول الفرات والجزيرة إلى قسمين هو:			
أ- جبل الشيخ	ب- جبل الأقرع	ج- جبل عبد العزيز	د- جبل البشري
٢- أكثر المحافظات السورية إنتاجاً للقمح هي:			
أ- الحسكة	ب- درعا	ج- طرطوس	د- حماه
٣- التركيب الذي يهدف لمعرفة نسب توزع السكان على قوة العمل:			
أ- العمري	ب- النوعي	ج- الاقتصادي	د- الحالة التعليمية
٤- أوسع أنواع الترب في الوطن العربي هي:			
أ- المتوسطة	ب- الصحراوية	ج- الفيضية	د- الغدقة
٥- الرياح المسببة للأمطار المتوسطة في الوطن العربي هي:			
أ- الشرقية	ب- الجنوبية الغربية	ج- الغربية	د- الشمالية الشرقية
٦- مرفأ سورية الأول يوجد في مدينة:			
أ- طرطوس	ب- حلب	ج- اللاذقية	د- حمص

ثانياً: ضع كلمة (صح) أمام العبارة الصحيحة وكلمة (غلط) أمام العبارة المغلوطة.

٥٣٠

- أ- تقع واحة أوباري في دولة مصر. ()
ب- اكتشفت أول أبجدية في العالم في سورية في منطقة دير الزور. ()
ت- تعد التضاريس من الأسس البشرية للتقسيم الإقليمي. ()

ثالثاً: أجب عن السؤالين الآتيين:

٥٥٠

- ١- أعط تفسيراً علمياً دقيقاً للعبارة الآتية:
أ- محدودية المسطحات المائية في تعديل مناخ الوطن العربي؟
ب- قلة الأراضي الصالحة للزراعة في إقليم ليبيا أو (ضعف الإنتاج الزراعي في ليبيا)؟
ت- فسر تركيز زراعة الحمضيات في السهول الساحلية وغور الأردن؟
٢- أكمل خريطة المفاهيم الآتية:



٥٨٠

رابعاً: أجب عن أربع من الأسئلة الآتية:

١. ما أهم مشاريع الري في سورية؟
٢. كيف يتوزع السكان في الوطن العربي من حيث الكثافة؟
٣. وازن بين تربة البحر المتوسط والتربة البنية في سوريا من حيث (الانتشار-المشكلات)؟
٤. ما الصفات التضاريسية لحوضه دمشق (الامتداد - الأقسام)؟
٥. صنف أنواع البحيرات في الوطن العربي مع الأمثلة؟

خامساً: حلل النص التالي ثم أجب عن الأسئلة التالية:

٥٤٠

يعاني الوطن العربي من سوء ترشيد استخدام الموارد المائية المتاحة، وهذا يتطلب تكافل الجهود العربية وتكاملها من أجل الحد من سوء استثمار المياه اللازمة للإنتاج الزراعي، ومن الوسائل الكفيلة بتحقيق الأمن المائي العربي: تعزيز التعاون المائي بين الدول العربية، وإقامة المشاريع المشتركة وحمايتها من السلب، وإعداد الدراسات العلمية الدقيقة للوضع المائي العربي بهدف تنمية الموارد المائية، والكشف عن مصادر مائية جديدة، واختيار وسائل التنقية الحديثة والمتطورة لترشيد استهلاك المياه، وحماية المياه من التلوث والهدر.

٥٤٠

- ١- ما المشكلة الواردة في النص؟
٢- استنتج من النص مفهوم الأمن المائي العربي.
٣- اقترح حلولاً لتحقيق الأمن المائي في الوطن العربي.
٤- ما هي النتائج المترتبة عن سوء استغلال الموارد المائية؟
سادساً: ارسم مصوراً للجمهورية العربية السورية بحدوده البرية والبحرية وثبت عليه:

١- مجرى نهر الفرات ٢- مدينة حمص ٣- مدينة القنيطرة

(انتهت الأسئلة)

السؤال الاول: اختر الإجابة الصحيحة في كل مما يأتي وانقلها إلى ورقة اجابتك:

١- تتركز مصائد الأسماك في الوطن العربي على سواحل:			
أ- ليبيا	ب- المغرب العربي	ج- السودان	د- بلاد الشام
٢- تقوم صناعة القضبان الحديدية في سورية بمدينة:			
أ- دمشق	ب- دير الزور	ج- حلب	د- حماه
٣- التركيب الذي يهدف لمعرفة نسب توزع السكان على قوة العمل:			
أ- العمري	ب- النوعي	ج- الإقتصادي	د- الحالة التعليمية
٤- التربة التي تنتشر في حوضه دمشق وسبخة الجبول هي:			
أ- المتوسطية	ب- الصحراوية	ج- الفيضية	د- الغدقة
٥- يصب نهر الأعوج في:			
أ- منخفض العتيبة	ب- منخفض الهيجانة	ج- البحر المتوسط	د- بحيرة مسعدة
٦- الدولة العربية الأولى بإنتاج الصمغ هي:			
أ- سورية	ب- السعودية	ج- مصر	د- السودان

السؤال الثاني: ضع كلمة (صح) أمام العبارة الصحيحة وكلمة (غلط) أمام العبارة المغلوطة.

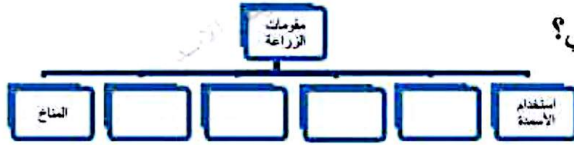
١. تشغل سورية القسم الجنوبي من بلاد الشام. ()
٢. يشرف إقليم شبه الجزيرة العربية على أكثر من مضيق مائي في الوطن العربي. ()
٣. تعد الجبال المظهر التضريسي الأكثر مساحة في الوطن العربي. ()

السؤال الثالث: أجب عن السؤالين الآتيين:

١- أعط تفسيراً علمياً دقيقاً للعبارة الآتية:

- أ- ضعف المؤثرات البحرية في منطقة البادية السورية؟
- ب- تركز تربية الأبقار في القسم الأفريقي من الوطن العربي؟
- ت- تناقص عدد البدو باستمرار في الوطن العربي؟

٢- أكمل خريطة المفاهيم الآتية:



السؤال الرابع: أجب عن أربعة فقط من الأسئلة الآتية:

- ١- ما الأهمية الحضارية والدينية للوطن العربي؟
- ٢- ما الصفات التضاريسية لهضبة حوران البركانية (الامتداد - الأقسام)؟
- ٣- ما أنواع الينابيع في الوطن العربي؟ وأين تنتشر؟
- ٤- وازن بين نهر الفرات ونهر العاصي من حيث (المنبع - المصب)؟
- ٥- أين يقع السد العالي في مصر وما أهميته؟

السؤال الخامس: حلل النص التالي ثم أجب عن الأسئلة التالية:

تعاني المدن العربية من عدة مشكلات أهمها تضخم المدن حيث يتزايد عدد سكان الوطن العربي مرة كل ٢٥ سنة وقد ترتب على هذه الزيادة زيادة الطلب على الغذاء وفرص العمل فظهرت مشكلات السكن العشوائي ومشكلة التلوث البيئي نتيجة الازدحام الشديد والاستثمار العشوائي للموارد فتزايدت نسبة الغازات والنفايات وما رافقها من مشكلات أضرت بالإنسان والحيوان والنبات مشكلة المواصلات والمرور نتيجة توسع المدن وتزايد وسائل النقل ومشكلة التلوث الضوضائي.

١. ما المقصود بالسكن العشوائي؟

٢. فسر زيادة نسبة التلوث في المدن العربية؟

٣. ما أهم المشكلات التي تعانيها المدن العربية؟

٤. ما الإجراءات الواجب اتباعها من قبل الحكومات العربية للحد من ظاهرة تضخم المدن؟

السؤال السادس: ارسم مصوراً للجمهورية العربية السورية بحدوده البرية والبحرية وثبت عليه:

- ١- مجرى نهر العاصي
- ٢- مدينة حلب
- ٣- جبل عبد العزيز

((انتهت الأسئلة))

أولاً: اختر الإجابة الصحيحة في كل مما يأتي وانقلها إلى ورقة اجابتك:

١- من أقسام هضبة حوران البركانية:

أ- الغوطة ب- جبل العرب ج- المرج د- الحماد

٢- تهب رياح السموم في الوطن العربي على:

أ- مصر ب- المغرب ج- ليبيا د- بلاد الشام

٣- تعد بحيرة طبريا من البحيرات:

أ- الصناعية ب- الطبيعية ج- الطبيعية الصناعية د- كل ماسبق صحيح

٤- ينبع نهر السن من:

أ- جبال تدمر ب- جبال لبنان الشرقية ج- جبال حلب د- جبال اللاذقية

٥- يعد الأقليم الصحراوي منطقة انتقالية بين الإقليمين:

أ- المتوسطي والاستوائي ب- الاستوائي والمداري ج- المتوسطي والمداري د- المداري والصحراوي

٦- يحد الوطن العربي من جهة الغرب:

أ- البحر المتوسط ب- الخليج العربي ج- خليج عدن د- المحيط الأطلسي

ثانياً: ضع كلمة (صح) أمام العبارة الصحيحة وكلمة (غلط) أمام العبارة المغلوطة:

- أ- أكبر المحاصيل الزراعية في سورية مساحة هي البقوليات. ()
ب- تتركز مصائد الإسفنج في الوطن العربي على سواحل الخليج العربي. ()
ج- تتميز المناطق الداخلية في الوطن العربي بكثافة سكانية مرتفعة جداً. ()

ثالثاً: أجب عن السؤالين الآتيين:

١- أعط تفسيراً علمياً دقيقاً للعبارة الآتية:

١. علل عدم وصول مياه نهر الأعوج إلى مصبه في منخفض الهيجانة؟

٢. علل تعد السهول الساحلية أفضل المناطق الزراعية والتجارية والسياحية في تونس؟

٣. علل عدم كفاية إنتاج الوطن العربي سكانه من الحبوب؟

٢- أكمل خريطة المفاهيم الآتية:

رابعاً: أجب عن أربعة فقط من الأسئلة الآتية:

- ١- وازن بين البيئة المتوسطية الرطبة والبيئة المتوسطية شبه الرطبة في سورية من حيث (الانتشار - الأمطار)
٢- صنف الجبال في الوطن العربي وفق أسباب تشكلها مع ذكر مثال لكل منها؟
٣- ما أنماط معيشة السكان في سورية؟
٤- عرف المصطلحات التالية (التربة - الأودية السيلية)
٥- ما الأهمية الحضارية لسورية؟

خامساً: حلل النص التالي ثم أجب عن الأسئلة التالية :

تعاني الترب لاسيما في المناطق الداخلية من سورية من مشكلة تملح التربة ، نتيجة الإدارة الخاطئة للأراضي الزراعية ، ففي حالات الري التقليدي (الري بالغمر) في المناطق الداخلية الحارة والجافة ، حيث التبخر مرتفع تؤدي كثرة المياه إلى حل كمية من الأملاح من الطبقات العميقة للتربة وجلبها إلى السطح ، بعد تبخر المياه تترسب الأملاح ويتكرر هذه العملية تتراكم الأملاح على سطح التربة وتخرج من دائرة الاستثمار الزراعي ويستدعي ذلك عملية استصلاح لها من أجل إعادة استثمارها وهي عملية مكلفة تحتاج الى سق فنوات تصريف إجراء عمليات غسل للتربة.

١- ما المشكلة الواردة في النص؟

٢- عرف تملح التربة؟

٣- ما أسباب التملح؟

٤- كيف تتم معالجة مشكلة تملح التربة؟

سادساً: ارسم مصوراً للجمهورية العربية السورية بحدوده البرية والبحرية وثبت عليه مع التسمية:

١- مجرى نهر السن ٢- مدينة اللاذقية ٣- مدينة السويداء

((انتهت الأسئلة))

أولاً: الجغرافية:

السؤال الأول: اختر الإجابة الصحيحة في كل مما يأتي وانقلها إلى ورقة اجابتك:
(لكل إجابة صحيحة ٠ ادرجات)

١. من أقسام هضبة حوران البركانية:			
أ. الغوطة	ب. جبل العرب	ج. المرج	د. الحماد
٢. تهب رياح السموم في الوطن العربي على:			
أ. مصر	ب. المغرب	ج. ليبيا	د. بلاد الشام
٣. تعد بحيرة طبريا من البحيرات:			
أ. الصناعية	ب. الطبيعية	ج. الطبيعية الصناعية	د. كل ماسبق صحيح
٤. ينبع نهر السن من:			
أ. جبال تدمر	ب. جبال لبنان الشرقية	ج. جبال حلب	د. جبال اللاذقية
٥. يعد الأقليم الصحراوي منطقة انتقالية بين الإقليمين:			
أ. المتوسطي والاستوائي	ب. الاستوائي والمداري	ج. المتوسطي والمداري	د. المداري والصحراوي
٦. يحد الوطن العربي من جهة الغرب:			
أ. البحر المتوسط	ب. الخليج العربي	ج. خليج عدن	د. المحيط الأطلسي

السؤال الثاني: ضع كلمة (صح) أمام العبارة الصحيحة وكلمة (غلط) أمام العبارة المغلوطة.

(لكل إجابة صحيحة ٠ ادرجات)

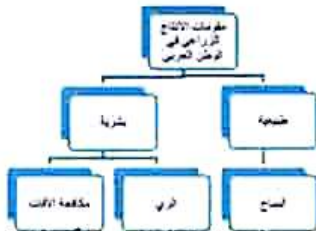
- أ - أكبر المحاصيل الزراعية في سورية مساحة هي البقوليات (غلط)
ب - تتركز مصائد الإسفنج في الوطن العربي على سواحل الخليج العربي (غلط)
ج - تتميز المناطق الداخلية في الوطن العربي بكثافة سكانية مرتفعة جداً (غلط)
- السؤال الثالث: أجب عن السؤالين الآتيين:
(لكل تفسير ٠ ادرجات)

١. أعط تفسيراً علمياً دقيقاً للعبارة الآتية:

- ١- علل عدم وصول مياه نهر الأعوج إلى مصبه في منخفض الهيجانة؟
- بسبب ازدياد استثمار مياهه في الزراعة وشق الأقينية المائية.
٢- علل تعد السهول الساحلية أفضل المناطق الزراعية والتجارية والسياحية في تونس؟
- بسبب خصوبة التربة وتوافر المياه وهي الواجهة المطللة على العالم الخارجي.
٣- علل عدم كفاية انتاج الوطن العربي سكانه من الحبوب؟
- بسبب التزايد الكبير والسريع لعدد السكان وتزايد هجرة سكان الريف إلى المدينة وتحول الأراضي التي تزرع بالحبوب، إلى زراعة الأشجار المثمرة.

٢. أكمل خريطة المفاهيم الآتية:

(٢٠ درجة، لكل مربع فارغ ٥ درجات)



السؤال الرابع: أجب عن أربعة فقط من الأسئلة الآتية: (لكل سؤال ٢٠ درجة)

١- وازن بين البيئة المتوسطية الرطبة والبيئة المتوسطية شبه الرطبة في سورية من حيث (الانتشار - الأمطار)

البيئة	الانتشار	الأمطار
المتوسطية الرطبة	الساحل والجبال الساحلية	بين ٨٠٠-١٢٠٠ ملم/سنة
المتوسطية شبه الرطبة	الأجزاء الداخلية الغربية إلى الشرق من الجبال الساحلية - أعالي هضبة الجولان - أقصى شمال شرق سورية	بين ٥٠٠-٨٠٠ ملم/سنة

(٥ درجات لكل موازنة)

٢- صنف الجبال في الوطن العربي وفق أسباب تشكلها مع ذكر مثال لكل منها؟

- ١) الجبال الالتوائية: جبال الأطلس في المغرب العربي
 - ٢) الجبال الانكسارية: (المرتفعات الشرقية والغربية للبحر الأحمر)
 - ٣) الجبال الالتوائية - الانكسارية: (جبال بلاد الشام)
 - ٤) الجبال القديمة: تيبستي والأحجار في الجزائر
 - ٥) الجبال البركانية: كجبال السراة في اليمن وجبل العرب في سورية
- (درجتان لكل نوع ودرجتان على المثال)

٣- ما أنماط معيشة السكان في سورية؟

١- المجموعة الأولى: البدو: هم سكان البادية تقل أعدادهم باستمرار بسبب تشجيع الدولة على استقرارهم والعمل في الزراعة.

٢- المجموعة الثانية: الحضر: وتضم

أ- سكان الأرياف والقرى ويعتمدون في معيشتهم على الزراعة وتربية الحيوان تتناقص أعدادهم باستمرار بسبب الهجرة إلى المدينة ونسبتهم نصف سكان سورية.

ب- سكان المدينة: يعملون في الصناعة والخدمات.

(١٠ درجات لكل مجموعة)

٤- عرف المصطلحات التالية (التربة - الأودية السيلية)

التربة: هي الطبقة السطحية الرقيقة من القشرة الأرضية، وهي مركب عضوي ومعدني تنمو فيه النباتات وتعيش فيه بعض الكائنات الحية، تتألف من فتات صخري، مواد عضوية، كائنات حية، ماء وهواء.

الأودية السيلية: هي مجار مائية مؤقتة تجري فيها المياه في موسم الأمطار وتجف بعد توقف الهطول.

(١٠ درجات لكل مصطلح)

٥- ما الأهمية الحضارية لسورية؟

- وجود آثار أوغاريت التي قدمت أول أبجدية في العالم.
- وجود آثار تدمر وحلب ودمشق وإدلب التي شهدت نشاطا تجاريا سببه موقع سوريا.
- مرور معظم طرق القوافل التجارية على محطاتها كطريق الحرير.
- إسهامها في بناء الحضارة الإنسانية.

(٥ درجات لكل تعداد)

السؤال الخامس: حلل النص التالي ثم أجب عن الأسئلة التالية: (١٠ درجات لكل سؤال)

تعاني التربة لاسيما في المناطق الداخلية من سورية من مشكلة تملح التربة ، نتيجة الإدارة الخاطئة للأراضي الزراعية ، ففي حالات الري التقليدي (الري بالغمر) في المناطق الداخلية الحارة والجافة ، حيث التبخر مرتفع تؤدي كثرة المياه إلى حل كمية من الأملاح من الطبقات العميقة للتربة وجلبها إلى السطح ، بعد تبخر المياه تترسب الأملاح ويتكرر هذه العملية تتراكم الأملاح على سطح التربة وتخرج من دائرة الاستثمار الزراعي ويستدعي ذلك عملية استصلاح لها من أجل إعادة استثمارها وهي عملية مكلفة تحتاج إلى سق فنوات تصريف إجراء عمليات غسل للتربة.

١- ما المشكلة الواردة في النص؟

- تملح التربة

٢- عرف تملح التربة؟

- هو تراكم الأملاح على سطح التربة نتيجة التبخر المرتفع في المناطق التي تستخدم أسلوب الري بالغمر والتي تؤدي كثرة المياه إلى حل كمية من الأملاح من الطبقات العميقة للتربة وجلبها إلى السطح، بعد تبخر المياه تترسب الأملاح ويتكرر هذه العملية تتراكم الأملاح على سطح التربة وتخرج من دائرة الاستثمار الزراعي

٣- ما أسباب التملح؟

١- الري المفرط وغير الصحيح ٢- تبخر المياه ٣- سوء الصرف الزراعي

٤- كيف تتم معالجة مشكلة تملح التربة؟

١- غسل التربة ٢- اتباع أساليب الري الحديثة ٣- زراعة نباتات مقاومة للملوحة.

السؤال السادس: ارسم مصوراً للجمهورية العربية السورية بحدوده البرية والبحرية وثبت عليه:

(٦) نهر العاصي ٢- مدينة حلب ٣- مدينة درعا

(الشكل ٢٥ درجة والمسميات ١٥ درجة)

أولاً: الجغرافية:

السؤال الأول: اختر الإجابة الصحيحة في كل مما يأتي وانقلها إلى ورقة اجابتك:
(لكل إجابة صحيحة ١٠ درجات)

١- تتركز مصائد الأسماك في الوطن العربي على سواحل:	أ- ليبيا	ب- المغرب العربي	ج- السودان	د- بلاد الشام
٢- تقوم صناعة القضبان الحديدية في سورية بمدينة:	أ- دمشق	ب- دير الزور	ج- حلب	د- حماه
٣- التركيب الذي يهدف لمعرفة نسب توزع السكان على قوة العمل:	أ- العمري	ب- النوعي	ج- الاقتصادي	د- الحالة التعليمية
٤- التربة التي تنتشر في حوضه دمشق وسبخة الجبول هي:	أ- المتوسطية	ب- الصحراوية	ج- الفيضية	د- الغدقة
٥- يصب نهر الأعوج في:	أ- منخفض العتيبة	ب- منخفض الهيجانة	ج- البحر المتوسط	د- بحيرة مسعدة
٦- الدولة العربية الأولى بإنتاج الصمغ هي:	أ- سورية	ب- السعودية	ج- مصر	د- السودان

السؤال الثاني: ضع كلمة (صح) أمام العبارة الصحيحة وكلمة (غلط) أمام العبارة المغلوطة.
(لكل إجابة صحيحة ١٠ درجات)

١. تشغل سورية القسم الجنوبي من بلاد الشام (غلط)
٢. يشرف إقليم شبه الجزيرة العربية على أكثر من مضيق مائي في الوطن العربي (صح)
٣. تعد الجبال المظهر التضاريسي الأكثر مساحة في الوطن العربي (غلط)

السؤال الثالث: أجب عن السؤالين الآتيين: (لكل تفسير ١٠ درجات)

- ١- أعط تفسيراً علمياً دقيقاً للعبارات الآتية:
 - ضعف المؤثرات البحرية في منطقة البادية السورية؟
 - بسبب البعد عن البحر ووجود الحواجز الجبلية، وارتفاع المدى الحراري.
 - تركز تربية الأبقار في القسم الأفريقي من الوطن العربي؟
 - بسبب اتساع المراع في السودان وزراعة البرسيم في مصر ووجود النباتات السهبية في المغرب.
 - تناقص عدد البدو باستمرار في الوطن العربي؟
 - بسبب تشجيع الدولة لهم على الاستقرار والعمل في الزراعة إلى جانب الرعي.

٢ - أكمل خريطة المفاهيم الآتية:

(٢٠ درجة ، لكل مربع فارغ ٥ درجات)



السؤال الرابع: أجب عن أربع من الأسئلة الآتية: (لكل سؤال ٢٠ درجة)
١- ما الأهمية الحضارية والدينية للوطن العربي؟ (لكل أهمية ١٠ درجات)

الأهمية الحضارية: يعد مهد الحضارات القديمة (السومرية، الكنعانية، المصرية).

الأهمية الدينية (الروحية): يعد مهد الديانات السماوية الثلاث (اليهودية -المسيحية - الإسلامية).

٢- ما الصفات التضاريسية لهضبة حوران البركانية (الامتداد - الأقسام)؟

الامتداد: تمتد بين حوضه دمشق والحرمون في الشمال ووادي الأردن في الغرب والحماد في الشرق .
 الأقسام : ١- قسم شرقي: جبل العرب ٢- قسم أوسط: سهل حوران. ٣- قسم غربي: هضبة الجولان.

(الامتداد ١٠ درجات - الأقسام ١٠ درجات)

٣- ما أنواع الينابيع في الوطن العربي؟ وأين تنتشر؟

١-الينابيع العذبة: في الوديان والواحات، مثل الخابور والأردن في بلاد الشام وأم الربيع في المغرب.

٢-الينابيع المعدنية: في المناطق البركانية، مثل ينابيع العليل في العراق وليف في تونس.

(لكل نوع ١٠ درجات -النوع ٥ درجات والمثال ٥ درجات)

٤- وازن بين نهر الفرات ونهر العاصي من حيث (المنبع - المصب)؟ (٥ درجات لكل مقارنة)

اسم النهر	المنبع	المصب
نهر الفرات	ينبع من هضبة أرمينيا في تركيا	يصب في شط العرب / الخليج العربي
نهر العاصي	ينبع من هضبة بعلبك في لبنان	خليج السويدية في البحر المتوسط

١- أين يقع السد العالي في مصر وما أهميته؟ (١٠ درجات للموقع و ١٠ درجات للأهمية)

- أقيم على نهر النيل جنوب مدينة أسوان.

- أهميته: درء أخطار الفيضان -زيادة مساحة الأراضي المروية -توليد الطاقة الكهربائية

السؤال الخامس: حال النص التالي ثم أجب عن الأسئلة التالية: (١٠ درجات لكل سؤال)

تعاني المدن العربية من عدة مشكلات أهمها تضخم المدن حيث يتزايد عدد سكان الوطن العربي مرة كل ٢٥ سنة وقد ترتب على هذه الزيادة زيادة الطلب على الغذاء وفرص العمل فظهرت مشكلات السكن العشوائي ومشكلة التلوث البيئي نتيجة الازدحام الشديد والاستثمار العشوائي للموارد فتزايدت نسبة الغازات والنفايات وما رافقها من مشكلات أضرت بالإنسان والحيوان والنبات مشكلة المواصلات والمرور نتيجة توسع المدن وتزايد وسائل النقل ومشكلة التلوث الضوضائي.

١- ما المقصود بالسكن العشوائي؟

هو تجمعات نشأت دون تخطيط حول المدن الكبرى تتدنى فيها الخدمات الاجتماعية والصحية وترتفع الكثافة السكانية.

٢- فسر زيادة نسبة التلوث في المدن العربية؟

نتيجة الازدحام الشديد والاستثمار العشوائي للموارد فتزايدت نسبة الغازات والنفايات وما رافقها من مشكلات أضرت بالإنسان والحيوان والنبات مشكلة المواصلات والمرور نتيجة توسع المدن وتزايد وسائل النقل ومشكلة التلوث الضوضائي.

٣- ما أهم المشكلات التي تعانيها المدن العربية؟

١- تضخم المدن مشكلة ٢-السكن العشوائي ٣-التلوث البيئي. ٤-مشكلة المواصلات والمرور

٤- ما الإجراءات الواجب اتباعها من قبل الحكومات العربية للحد من ظاهرة تضخم المدن؟

- بناء الأبراج السكنية.
- توسيع رقعة الأراضي السكنية.
- تحقيق التوازن بين حجم السكان وكثافتهم والموارد المتاحة.
- تشجيع تربية الثروة الحيوانية.
- بناء المصانع والمعامل في الريف

أولاً: الجغرافية:

السؤال الأول: اختر الإجابة الصحيحة في كل مما يأتي وانقلها إلى ورقة اجابتك:

(لكل إجابة صحيحة ٠ ادرجات)

١- الجبل الذي يقسم سهول الفرات والجزيرة إلى قسمين هو:			
أ- جبل الشيخ	ب- جبل الأقرع	ج- جبل عبد العزيز	د- جبل البشري
٢- أكثر المحافظات السورية إنتاجاً للقمح هي:			
أ- الحسكة	ب- درعا	ج- طرطوس	د- حماه
٣- التركيب الذي يهدف لمعرفة نسب توزع السكان على قوة العمل:			
أ- العمري	ب- النوعي	ج- الاقتصادي	د- الحالة التعليمية
٤- أوسع أنواع الترب في الوطن العربي هي:			
أ- المتوسطية	ب- الصحراوية	ج- الفيضية	د- الغدقة
٥- الرياح المسببة للأمطار المتوسطية في الوطن العربي هي:			
أ- الشرقية	ب- الجنوبية الغربية	ج- الغربية	د- الشمالية الشرقية
٦- مرفأ سورية الأول يوجد في مدينة:			
أ- طرطوس	ب- حلب	ج- اللاذقية	د- حمص

السؤال الثاني: ضع كلمة (صح) أمام العبارة الصحيحة وكلمة (غلط) أمام العبارة المغلوطة.

(لكل إجابة صحيحة ٠ ادرجات)

١. تشغل سورية القسم الجنوبي من بلاد الشام (صح)
 ٢. يشرف إقليم شبه الجزيرة العربية على أكثر من مضيق مائي في الوطن العربي (غلط)
 ٣. تعد الجبال المظهر التضريسي الأكثر مساحة في الوطن العربي (غلط)
- السؤال الثالث: أجب عن السؤالين الآتيين: (لكل تفسير ٠ ادرجات)

١- أعط تفسيراً علمياً دقيقاً للعبارات الآتية:

١- محدودية المسطحات المائية في تعديل مناخ الوطن العربي؟

بسبب ضيقها وعدم تغلغل الرياح الممطرة نحو الداخل نتيجة مسابرة بعض السواحل لهذه الرياح ، أو تعامدها مع السلاسل الجبلية.

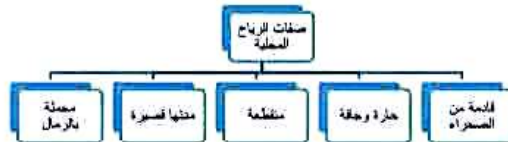
٢- قلة الأراضي الصالحة للزراعة في إقليم ليبيا أو (ضعف الإنتاج الزراعي في ليبيا)؟

بسبب اتساع مساحة الصحراء فيه، وسيطرة الجفاف.

٣- فسر تركز زراعة الحمضيات في السهول الساحلية وغور الأردن؟

بسبب توافر شروط زراعتها مثل الحرارة العالية والتربة الخصبة.

٢ - أكمل خريطة المفاهيم الآتية:



(٢٠ درجة ، لكل مربع فارغ ٥ درجات)

السؤال الرابع: أجب عن أربع من الأسئلة الآتية: (لكل سؤال ٢٠ درجة)

١- ما أهم مشاريع الري في سورية؟ (لكل مشروع ٥ درجات)

- ١- مشروع سد الفرات: أكبر مشاريع الري في سورية يقع عند الطبقة غرب الرقة، يشكل خلفه بحيرة الطبقة.
- ٢- مشاريع نهر العاصي: منها مشروع الغاب / العشارنة - سد الرستن ومحددة - سد بحيرة قطينة.
- ٣- مشروع السن: يأمن مياه الشرب والري لمحافظة اللاذقية.
- ٤- سد الوحدة: يقع في محافظة درعا على نهر اليرموك وخلفه بحيرة السد.

٢- كيف يتوزع السكان في الوطن العربي من حيث الكثافة؟ (يكتفى بكتابة فكرتين لكل فكرة ١٠ درجات)

- ١- مناطق مرتفعة الكثافة: الأودية النهرية وفي السهول الساحلية بسبب توافر الموارد الطبيعية كالنفط.
 - ٢- مناطق متوسطة الكثافة: المرتفعات والمناطق الداخلية بسبب النشاط الزراعي أو الرعوي.
 - ٣- مناطق نادرة الكثافة: البيئة الصحراوية باستثناء الواحات لتواجد المياه الجوفية.
- ٣- وازن بين تربة البحر المتوسط والتربة البنية في سوريا من حيث (الانتشار-المشكلات)؟

التربة	الانتشار	المشكلات
البحر المتوسط	الساحل والجبال الساحلية - غربي القنيطرة	الانجراف المائي - الحرائق
البنية	جنوب غرب سورية - سهول العاصي - أقصى شمال شرق سورية	التشقق نتيجة الجفاف

(٥ درجات لكل مقارنة)

٤- ما الصفات التضاريسية لحوضه دمشق (الامتداد - الأقسام)؟

- الامتداد: من الغرب جبال الحرمون ومن الشمال قاسيون والقلمون ومن الشرق البادية ومن الجنوب هضبة حوران البركانية.
- الأقسام: غربي خصب يسمى الغوطة وشرقي أقل خصوبة يسمى المرج.

(الامتداد ١٠ درجات - الأقسام ١٠ درجات)

٥- صنف أنواع البحيرات في الوطن العربي مع الأمثلة؟

- ١- طبيعية: تشكلت بفعل مؤثرات باطنية (بحيرة طبريا في فلسطين) أو بفعل ظاهرة الترسيب (بحيرة المنزلة في مصر).
- ٢- صناعية: شكلها الإنسان خلف السدود مثل بحيرة ناصر خلف السد العالي في مصر.

(لكل نوع ١٠ درجات - النوع ٥ درجات والمثال ٥ درجات)

خامساً: حلل النص التالي ثم أجب عن الأسئلة التالية: (لكل سؤال ١٠ درجات)

يعاني الوطن العربي من سوء ترشيد استخدام الموارد المائية المتاحة، وهذا يتطلب تكافل الجهود العربية وتكاملها من أجل الحد من سوء استثمار المياه اللازمة للإنتاج الزراعي، ومن الوسائل الكفيلة بتحقيق الأمن المائي العربي: تعزيز التعاون المائي بين الدول العربية، وإقامة المشاريع المائية المشتركة وحمايتها من السلب، وإعداد الدراسات العلمية الدقيقة للوضع المائي العربي بهدف تنمية الموارد المائية، والكشف عن مصادر مائية جديدة، واختيار وسائل التنقية الحديثة والمتطورة لترشيد استهلاك المياه، وحماية المياه من التلوث والهدر.

١- ما المشكلة الواردة في النص؟ مشكلة نقص المياه.

٢- استنتج من النص مفهوم الأمن المائي العربي.

قدرة الدولة أو المجتمع على توفير مياه آمنة، مستدامة، وذات جودة مقبولة بكميات كافية لتلبية احتياجات

السكان، الزراعة، والصناعة. يضمن هذا المفهوم حماية الموارد المائية، وإدارة المخاطر المرتبطة بالمياه.

٣- اقترح حلولاً لتحقيق الأمن المائي في الوطن العربي.

١- ترشيد المياه ٢- حماية المياه من الهدر والتلوث ٣- الوعي المائي العربي ٤- الكشف عن مصادر مائية

جديدة ٥- تعزيز التعاون المائي بين الدول العربية ٦- إقامة المشاريع المائية المشتركة ٧- التوصل إلى

حلول مائية مع دول الجوار ٨- تنمية الموارد المائية

٤- ما هي النتائج المترتبة عن سوء استغلال الموارد المائية؟

١- نقص الماء ٢- فقدان الأمن المائي ٣- انخفاض نصيب الفرد من المياه ٤- تراجع الزراعة