



التاريخ	الدرس	الأسبوع
1 / 5 - 1 / 8 / 2026 م	الموارد والأنشطة الاقتصادية والتنمية المستدامة	1

اختر الإجابة الصحيحة لكل من الأسئلة من 1 إلى 4 وذلك بوضع علامة X داخل المربع المجاور للإجابة الصحيحة.

تعليمات

1- تتركز معظم مصايد الأسماك في دولة قطر على الساحل:

- الشرقي
 الغربي
 الشمالي
 الجنوبي

2- أي من المحاصيل الآتية الأكثر تحقيقاً للاكتفاء الذاتي في دولة قطر؟

- التمور
 الفاكهة
 الأعلاف
 الخضروات

3- أكثر الحيوانات التي يرببها المزارعون في دولة قطر:

- الإبل
 الماعز
 البقر
 الأغنام



تعليمات عند الإجابة على الأسئلة من 7 إلى 11، اكتب إجابتك في الفراغ المخصص للإجابة:

تعليمات

	7	ما التحديات التي تواجه النشاط الزراعي في دولة قطر؟
		<p>1- قلة الأراضي القابلة للزراعة</p> <p>2- موقع دولة قطر في النطاق الصحراوي الجاف</p> <p>3- ارتفاع ملوحة المياه الجوفية بسبب تزايد كميات السحب وقلة التعويض</p> <p>3- قلة الاستثمار في القطاع الزراعي</p>
	8	وضح جهود دولة قطر من أجل تحقيق تنمية القطاع الزراعي.
		<p>1- إنشاء المحميات الزراعية.</p> <p>2- جذب رؤوس الأموال الوطنية للاستثمار في قطاع الزراعة.</p> <p>3- تقديم الدعم اللازم لتنمية المنتج الزراعي المحلي من خلال عقد البرامج والمؤتمرات</p> <p>4- دعم لعدد من المشاريع والمبادرات مثل مشروع الإحصاء الزراعي.</p>
	9	وضح التحديات التي تواجه الانتاج الحيواني في دوله قطر.
		<p>1- محدودية مساحة المراعي الطبيعية.</p> <p>2- قلة مزارع الأعلاف والموارد المائية.</p> <p>3- الظروف المناخية الحارة.</p> <p>4- تدني انتاج السلالات الحيوانية المحلية</p>



	دلل على جهود دولة قطر من أجل تحقيق تنمية الثروة السمكية.	10
	<p>1- سن القوانين للمحافظة على مصايد الأسماك والبيئة البحرية.</p> <p>2- إنشاء المزارع السمكية التجارية التي تسهم في زيادة الإنتاج السمكي.</p> <p>3- استكشاف مصائد سمكية جديدة في المياه الإقليمية لدولة قطر .</p> <p>4- إنشاء مركز أبحاث لتنمية الثروة السمكية.</p>	



التاريخ	الدرس	الأسبوع
1 / 11 – 15 / 1 / 2026 م	الموارد والأنشطة الاقتصادية والتنمية المستدامة	2

اختر الإجابة الصحيحة لكل من الأسئلة من 1 إلى 3 وذلك بوضع علامة X داخل المربع المجاور للإجابة الصحيحة.

تعليمات

1- اقل اعداد الحيوانات عددا في دولة قطر هي:

الجمال

الماعز

الخيول

الأغنام

2- أكبر حقول الغاز الطبيعي المنفرد غير المصاحب في العالم:

البندق

الريان

الشاهين

غاز الشمال

3- حقل البترول البري الوحيد في دولة قطر:

دخان

الريان

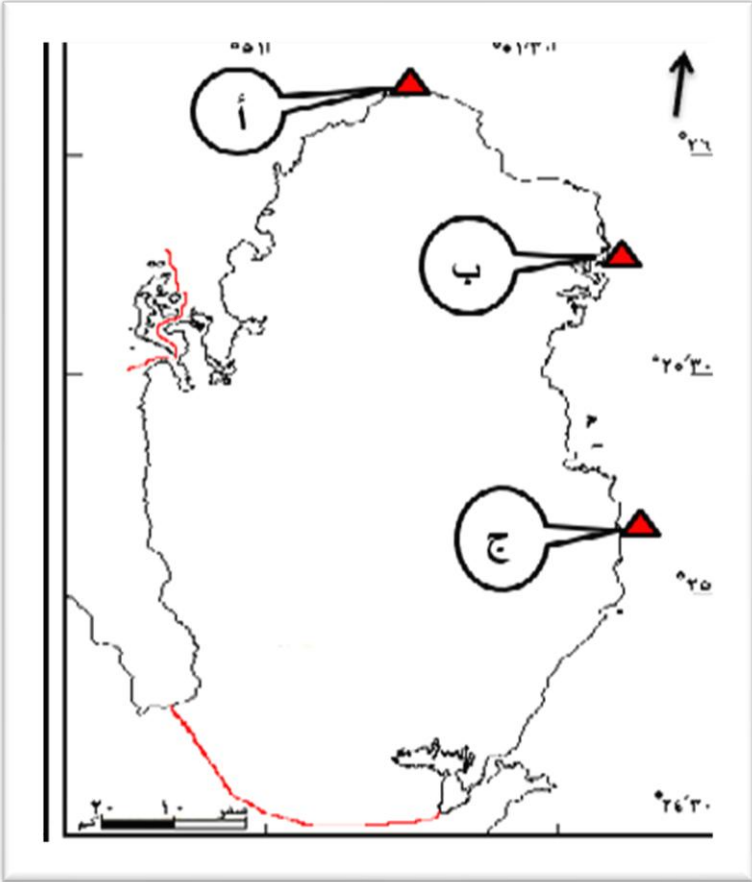
الكركرة

العد الشرقي



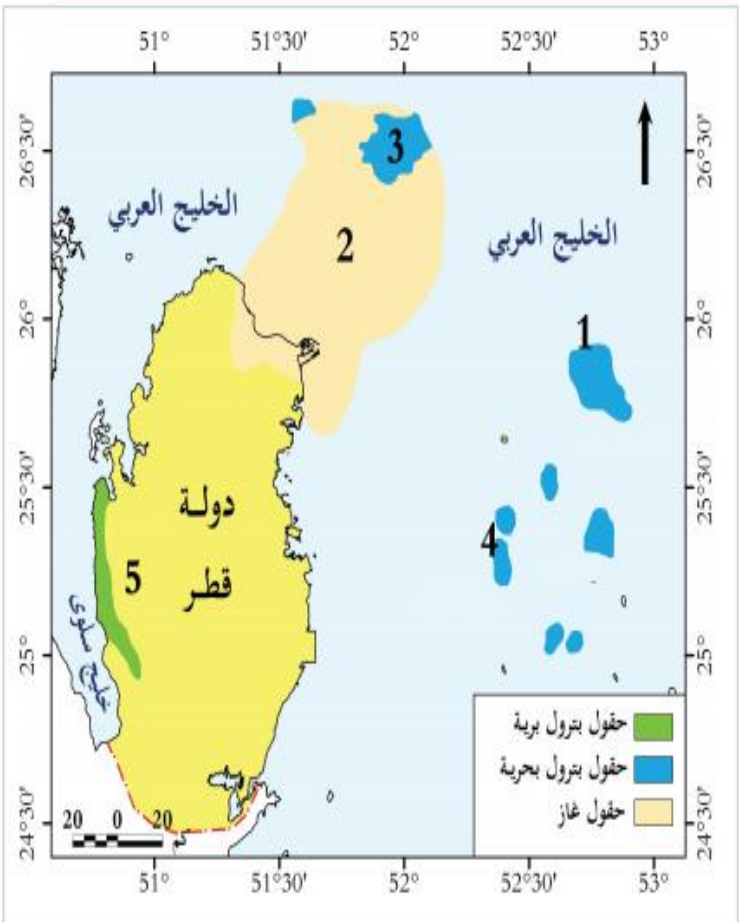
عند الإجابة على الأسئلة من 7 إلى 11، اكتب إجابتك في الفراغ المخصص للإجابة:

تعليمات

	وضح جهود دولة قطر لتشجيع الإنتاج الحيواني.	7
	<p>1- تحسين السلالات المحلية وتوفير الرعاية البيطرية.</p> <p>2- إنشاء شركة مختصة للاستثمار الخارجي في مجال الثروة الحيوانية " حصاد الغذائية</p> <p>2- زيادة الإنتاج المحلي عن طريق القطاع الخاص " مجمعات العزب".</p> <p>4- إقامة مزارع متطورة لتربية الحيوانات مثل الركبة وأم قرن.</p>	
	اكتب أسماء موانئ الصيد التي تشير إليها الرموز على خريطة دولة قطر أدناه:	8
		<p>أ- ميناء: الرويس</p> <p>ب- ميناء: الذخيرة</p> <p>ج- ميناء: الوكرة</p>



	عدد حقول البترول البحرية في دولة قطر.	9
		• الشاهين. 2- الريان. 3- الخليج. 4- أبو الحنين. 5- ميدان محزم.

	من خلال خريطة دولة قطر الصماء التي أمامك أكتب ما تشير إليه الأرقام :-	10
		1- حقل بترول : الخليج 2- حقل غاز : الشمال 3- حقل بترول: الشاهين 4- حقل بترول: العد الشرقي الجنوبي 5- حقل بترول : الريان



	11	وضح جهود دولة قطر لتحقيق الاستدامة في مصادر الطاقة.
<p>1- الاستغلال الأمثل للنفط والغاز.</p> <p>2- تطوير صناعة الغاز كمصدر للطاقة النظيفة في دولة قطر.</p> <p>3- الاحتفاظ باحتياطي استراتيجي من النفط والغاز لتحقيق الأمن الوطني.</p>		



التاريخ	الدرس	الأسبوع
1 / 18 – 1 / 22 / 2026 م	الموارد والأنشطة الاقتصادية والتنمية المستدامة	3

اختر الإجابة الصحيحة لكل من الأسئلة من 1 إلى 4 وذلك بوضع علامة X داخل المربع المجاور للإجابة الصحيحة.

تعليمات

1- تحتل دولة قطر المركز الرابع عالميا في إنتاج:

الشحوم

الزيوت

البترول

الغاز الطبيعي

2- أحدث مدينة صناعية في دولة قطر :

الدوحة

أم باب

مسيعةيد

رأس لفان

3- عملية تبادل السلع بين الدولة ودول العالم على شكل صادرات وواردات يشير المفهوم السابق إلى:

الواردات

الصادرات

المصاريف

التجارة الخارجية



4- أهم شريك تجاري لدولة قطر مجموعة:

الدول العربية

الدول الآسيوية

الدول الإفريقية

دول مجلس التعاون الخليجي



تعليمات عند الإجابة على الأسئلة من 7 إلى 14، اكتب إجابتك في الفراغ المخصص للإجابة:

تعليمات

7	وضح أسباب اهتمام دولة قطر بالصناعة الوطنية.
	<p>1- وفرة البترول والغاز الطبيعي كمصدر للطاقة ومواد خام. 2- توفير فرص عمل ورفع مستوى الدخل والمعيشة للمواطنين. 3- تنويع مصادر الدخل وتقليل الاعتماد على البترول والغاز 4- استثمار الأموال الوطنية بشكل آمن وبعيد عن المخاطر الخارجية</p>
8	عدد أهم الصناعات التي تشتهر بها دولة قطر.
	<p>الغاز الطبيعي المسال. 2- تكرير البترول. 3- البتروكيماويات 4- الحديد والصلب 5- الأسمت 6- الألومنيوم</p>
9	وضح جهود دولة قطر للنهوض بالنشاط الصناعي.
	<p>1- تنمية وتدعيم القطاع الصناعي بما يحقق تنوع مصادر الدخل. 2- تشجيع الاستثمار في القطاع الصناعي وتوفير البيئة الداعمة لذلك. 3- بناء مدن صناعية في دولة قطر وربطها ببنية تحتية قوية. 4- دعم وتشجيع الصناعات الوطنية من خلال عقد منتدى ووزارة الطاقة 4- اجراء الأبحاث العلمية لتطوير تقنيات صناعة النفط والغاز الطبيعي</p>

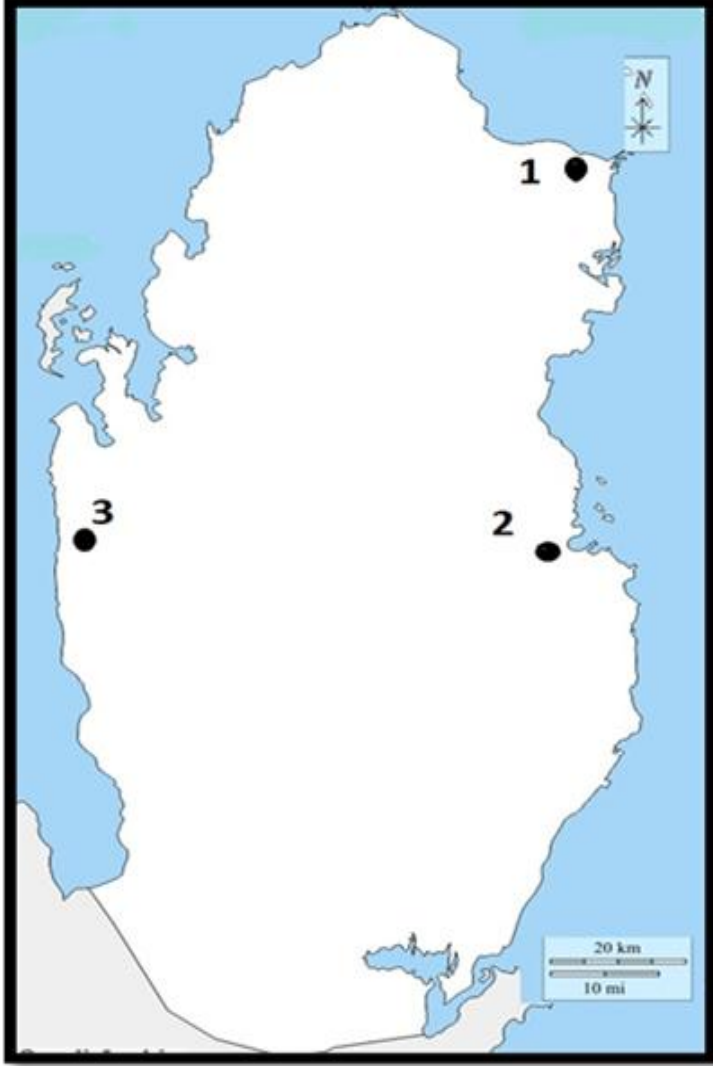


	10	وضح كيفية تطبيق مبدأ الاستدامة في القطاع الصناعي في دولة قطر.
		<p>1- تقليل نسبة التلوث الناتج عن المصانع وذلك من خلال استخدام أجهزة لتنقية الهواء في مداخن المصانع كما في منطقة رأس لفان.</p> <p>2- تخفيض حرارة المياه المستخدمة لتبريد الآلات في المصانع للمحافظة على البيئة البحرية والثروة السمكية.</p> <p>3- إعادة تدوير مخلفات المصانع والحديد المستعمل.</p>
	11	عرف المفاهيم والمصطلحات التالية :
		<p>التجارة الخارجية : عملية تبادل السلع بين الدولة ودول العالم الأخرى على شكل صادرات وواردات.</p> <p>التجارة الداخلية : عملية تبادل السلع من خلال عمليات البيع والشراء داخل الدولة.</p>
	12	اذكر أهم الصادرات القطرية.
		<p>1- المواد الكيماوية.</p> <ul style="list-style-type: none">• الوقود المعدني• زيوت التشحيم.
	13	عدد أبرز الواردات القطرية.
		<p>1- الآلات والماكينات ومعدات النقل.</p> <p>2- الأغذية والحيوانات الحية.</p> <p>3- المواد الكيماوية.</p>



اكتب أسماء المدن الصناعية الآتية حسب أرقامها على خريطة دولة قطر الصماء التي أمامك:

14



1- رأس لفان

2- الدوحة

3- أم باب



اختر الإجابة الصحيحة لكل من الأسئلة من 1 إلى 4 وذلك بوضع علامة X داخل المربع المجاور للإجابة الصحيحة.

تعليمات

1- يعد طريق الشمال بدولة قطر من الطرق :

الخدمية

الرئيسية

الثانوية

الشريانية

2- تعد زيارة السائحين للمدينة التعليمية في دولة قطر من السياحة:

الثقافية

العلاجية

الترفيهية

الرياضية

3- "انتقال الافراد والمجموعات من مكان اقامتهم الى مكان اخر لتحقيق هدف معين وتكون إقامة مؤقتة" يقصد به:

الاستثمار

السياحة

الهجرة

الميزان التجاري



4- أي من الآتي تعتبر من اهم صادرات دولة قطر؟

الماكينات

الأغذية

الحديد الخام

الوقود المعدني

تعليمات

عند الإجابة على الأسئلة من 4 إلى 08، اكتب إجابتك في الفراغ المخصص للإجابة:

4	عدد أنواع النقل البري في دولة قطر.
	<p>1- طرق السيارات</p> <p>2 - سكك الحديد القطرية " الريل "</p> <p>3- النقل بالأنابيب.</p>
5	وضح المزايا المشجعة للاستثمار في دولة قطر.
	<p>1- الاستقرار السياسي ووفرة الأمن والأمان.</p> <p>2 - وفرة وسائل المواصلات بأنواعها المختلفة.</p> <p>3- مرونة قوانين استقدام العمالة.</p> <p>4- عدم وجود ضرائب على استيراد الآلات للمشاريع الوطنية.</p>



التاريخ	الدرس	الأسبوع
1 / 25 - 1 / 29 / 2026 م	الشيخ علي بن عبدالله آل ثاني والشيخ أحمد بن علي آل ثاني	4

تعليمات
اختر الإجابة الصحيحة لكل من الأسئلة من 1 إلى 4 وذلك بوضع علامة X داخل المربع المجاور للإجابة الصحيحة.

1- أول وزارة استُحدثت في دولة قطر عام 1957 هي:

العدل

المالية

الصحة

المعارف

2- تأسس بنك قطر الوطني في عهد الشيخ:

جاسم بن محمد بن ثاني

عبدالله بن جاسم آل ثاني

علي بن عبدالله آل ثاني

أحمد بن علي آل ثاني

3- أول من لقب بالأمير في قطر الشيخ:

جاسم بن محمد بن ثاني

عبدالله بن جاسم آل ثاني

علي بن عبدالله آل ثاني

أحمد بن علي آل ثاني



4- أصبحت قطر عضوا في جامعة الدول العربية ومنظمة الأمم المتحدة في عام:

1970م

1971م

1972م

1973م

عند الإجابة على الأسئلة من 4 إلى 6، اكتب إجابتك في الفراغ المخصص للإجابة:

تعليمات

4	وضح أهم الخدمات الأساسية التي تم إنشاؤها في عهد الشيخ علي بن عبد الله آل ثاني.
	<p>1- إنشاء محطة لتحلية المياه عام 1953</p> <p>2 - إنشاء الطرق عام 1954 م.</p> <p>3- إنشاء محطة توليد الكهرباء عام 1954 م.</p> <p>4- افتتاح مستشفى الرمييلة 1957م.</p>
5	ما النتائج المترتبة على إلغاء معاهدة الحماية مع بريطانيا عام 1971م.
	<p>1- تحولت قطر إلى امارة مستقلة وتغير لقب الحاكم إلى "أمير</p> <p>2- إقامة معاهدة صداقة وتعاون بين دولة قطر وبريطانيا</p> <p>3- أصبحت دولة قطر عضواً في جامعة الدول العربية ومنظمة الأمم المتحدة 1971م</p> <p>4- أقامت دولة قطر علاقات صداقة مع دول العالم</p>



بين أبرز ملامح التطور الاقتصادي أثناء حكم الشيخ أحمد بن علي آل ثاني.	6
1-زيادة الموارد المالية. 2-اكتشاف عدد كبير من حقول النفط البحرية. 5-تأسيس بنك قطر الوطني (QNB)	

التاريخ	الدرس	الأسبوع
2 / 5 - 2 / 1 2026 م	الشيخ علي بن عبد الله آل ثاني والشيخ أحمد بن علي آل ثاني	5

اختر الإجابة الصحيحة لكل من الأسئلة من 1 إلى 3 وذلك بوضع علامة X داخل المربع المجاور للإجابة الصحيحة.

تعليمات

1- ولد الشيخ خليفة بن حمد آل ثاني في مدينة:

الخور

الدوحة

الريان

الوكرة

2- تم إنشاء وكالة الانباء القطرية (قنا) عام:

1970م

1975م

1980م

1985م



3- يعد من إنجازات الشيخ خليفة بن حمد آل ثاني في المجال السياسي:

إقرار الدستور الدائم

رفع الرقابة عن الاعلام

تشكيل مجلس الشورى

اجراء أول انتخابات نيابية

عند الإجابة على الأسئلة من 4 إلى 6، اكتب إجابتك في الفراغ المخصص للإجابة:

تعليمات

4	بيّن جهود الشيخ خليفة بن حمد آل ثاني لتحقيق النهضة الإعلامية بدولة قطر.
	<p>1- تطوير الإذاعة والتلفزيون.</p> <p>2- إنشاء وزارة الإعلام والثقافة عام 1972م</p> <p>3- إنشاء وكالة الأنباء القطرية) قنا (عام 1975 م.</p> <p>4- افتتاح أول متحف في قطر (متحف قطر الوطني) عام 1975م</p>
5	اذكر جهود الشيخ خليفة بن حمد آل ثاني في المجال الاجتماعي بدولة قطر.
	<p>1- تحسن أحوال الموظفين ورعاية العجزة والأرامل</p> <p>2- تطوير التعليم وتأسيس جامعة قطر عام 1973م</p> <p>3- إنشاء مؤسسة حمد الطبية عام 1979م</p>
6	عدد إنجازات السياسة الخارجية في عهد الشيخ خليفة بن حمد آل ثاني في دولة قطر.
	<p>1- مشاركة الشيخ خليفة بن حمد آل ثاني في إنشاء مجلس التعاون الخليجي عام 1981م</p> <p>2- تقوية العلاقات الخارجية مع الدول العربية والإسلامية</p> <p>3- دعم القضايا العربية (القضية الفلسطينية)</p>



التاريخ	الدرس	الأسبوع
2 / 8 – 2 / 12 / 2026 م	الشيخ خليفة بن حمد آل ثاني وأهم أعماله	6

اختر الإجابة الصحيحة لكل من الأسئلة من 1 إلى 3 وذلك بوضع علامة X داخل المربع المجاور للإجابة الصحيحة.

تعليمات

1- أي مما يلي تعد من إنجازات الشيخ خليفة بن حمد آل ثاني في مجال التعليم؟

جامعة قطر

أول مدرسة نظامية

انشاء وزارة المعارف

مؤسسة قطر للتربية والتعليم

2- تم انشاء شركة قطر للغاز المسال عام

1980م

1984م

1988م

1992م

3- يُعد تحسن أحوال موظفي الدولة من الإنجازات:

الثقافية

الإدارية

السياسية

الاجتماعية



تعليمات

عند الإجابة على الأسئلة من ، اكتب إجابتك في الفراغ المخصص للإجابة:

	اذكر القرارات التي أصدرها الشيخ خليفة بن حمد آل ثاني لدعم الاقتصاد الوطني.	4
	<p>1- امتلاك الدولة لشركات البترول العاملة في قطر</p> <p>2- انشاء المؤسسة العامة القطرية للبترول</p> <p>3- انشاء شركة قطر للغاز المسال عام 1984م</p> <p>4- اصدار العملة الوطنية (الريال القطري)</p>	

انتهت الأسئلة