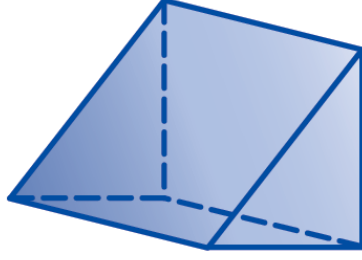


١ حدد اسم المجسم التالي وأذكر عدد أوجهه وأحرفه ورؤوسه؟ ٤ درجات



عدد الأوجه

اسم المجسم

.....

.....

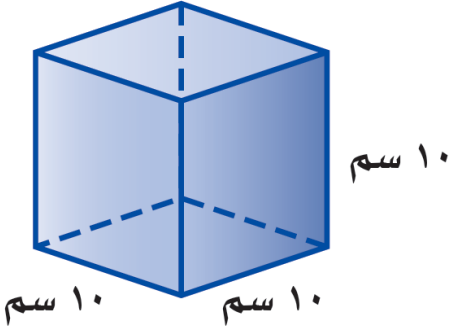
عدد الرؤوس

عدد الأحرف

.....

.....

٢ من خلال الشكل المقابل حجم المنشور = ٢ درجتان



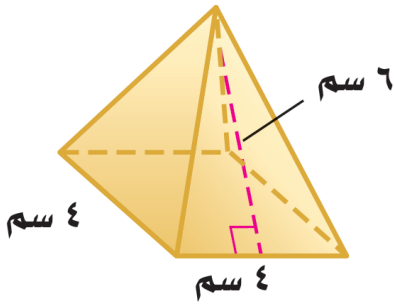
١٠ سم

١٠ سم

١٠ سم

٣ من خلال الشكل المقابل المساحة الجانبية للهرم = ٢ درجتان

٤ من خلال الشكل المقابل المساحة الكلية للهرم =



٤ سم

٤ سم

٦ سم

انتهت الأسئلة

😊 مع تمنياتنا لكم بالتوفيق والنجاح الدائم 😊

معلم المادة /