

اختبار مادة الرياضيات للصف الثالث الابتدائي (الفترة ٢ - الفصل الدراسي الثاني ١٤٤٧ هـ)

اسم الطالب	الصف	ثالث /
------------	-------	------	--------------

٥	
---	--

❖ السؤال ١ اختر الإجابة الصحيحة:

١	الوحدة الأنسب لقياس طول (سيارة):
أ	السنتيمتر (سم)
ب	المتري (م)
ج	الكيلومتر (كلم)

٢	الوحدة الأنسب لقياس سعة (ملعقة):
أ	المليتر (مل)
ب	المتري (م)
ج	الليتر (ل)

٣	مجسم له وجهان:
أ	المكعب
ب	المخروط
ج	الأسطوانة

٤	مجسم ليس له أوجه ، ولا أحرف ، ولا رؤوس:
أ	الكرة
ب	الهرم
ج	متوازي المستطيلات

٥	مضلع له ٦ أضلاع و ٦ زوايا:
أ	خماسي الأضلاع
ب	سداسي الأضلاع
ج	رباعي الأضلاع

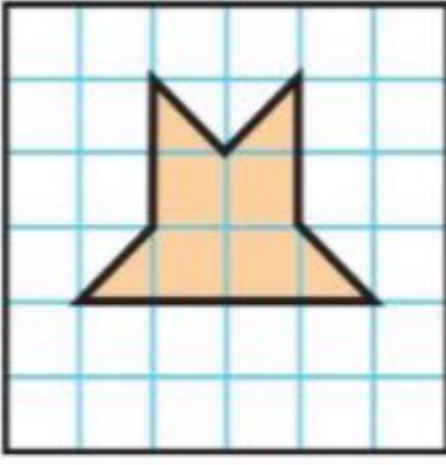
٥	
---	--

❖ السؤال ٢

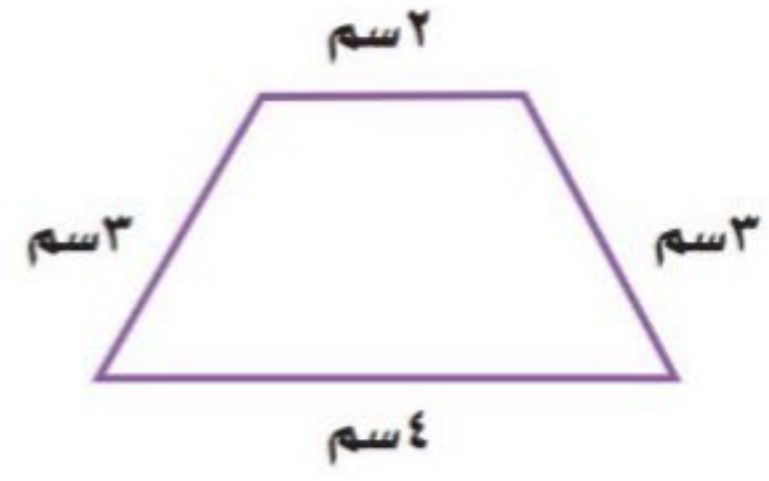
الإجابة	ضع علامة (✓) أمام العبارة الصحيحة ، وعلامة (✗) أمام العبارة الخطأ:
	١ يستعمل المتري (م) والكيلومتر (كلم) لقياس الأطوال والمسافات الكبيرة .
	٢ المجسم له طول وعرض وارتفاع .
	٣ يقاس الحجم بالوحدات المربعة .
	٤ المحيط هو طول الإطار الخارجي لشكل .
	٥ الشكل المستوي هو شكل ثنائي الأبعاد له طول وعرض .

أقلب الورقة

ب أوجد مساحة الشكل الآتي :




أ أوجد محيط الشكل الآتي :



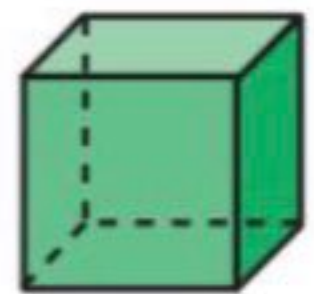
د أكتب الزمن الذي تشير إليه الساعة الرقمية:



ج أوجد حجم المجسم الآتي :



ه أسمى المجسمات الآتية :



و أسمى الأشكال الآتية :

