



اجتماعيات

الفصل الثاني

7

الصف السابع



2026-2025



مذكرات
النجاح
طريقك للنجاح



69398804

الوحدة الأولى

١	السكان في الوطن العربي.
٣	النمو والتركيبية السكانية في الوطن العربي
٥	توزيع وكثافة السكان في الوطن العربي.
٨	نمط وحياة السكان في الوطن العربي.
١٠	السكان في دولة الكويت.

الوحدة الثانية

١٢	الموارد الاقتصادية (النفط والغاز الطبيعي - الثروة المعدنية)
١٤	غذاء واقتصاد (الثروة الحيوانية - الثروة المائية - الزراعة)
١٦	القطاعات الاقتصادية (الصناعة - التجارة - الخدمات)
١٨	الموارد الخفية في الوطن العربي
٢٠	موارد وثروات دولة الكويت

الوحدة الثالثة

٢٢	المشكلات الطبيعية التي تواجه دول الوطن العربي
٢٤	المشكلات السياسية التي تواجه دول الوطن العربي
٢٦	المشكلات الاجتماعية التي تواجه دول الوطن العربي
٢٨	المشكلات الاقتصادية التي تواجه دول الوطن العربي
٣٠	المشكلات والتحديات التي تواجه دولة الكويت

الوحدة الرابعة

٣٢	الرؤى المستقبلية في الوطن العربي
٣٤	نموذج لرؤية عربية - دولة الكويت
٣٧	مشاريع مستقبلية في الوطن العربي
٣٩	المستقبل الرقمي في الوطن العربي
٤١	التكامل في الوطن العربي

❁ ضع خطاً تحت الخيار الصحيح من بين الخيارات التي تلي كل عبارة:

١. < العنصر الأهم في نشأة المجتمعات هو:

الموارد الطبيعية المياه الإنسان المناخ

٢. < من المجموعات البشرية التي يتكون منها سكان الوطن العربي:

العرب الأكراد الأمازيغ جميع ما سبق

٣. < الآية الكريمة (هو أنشأكم من الأرض واستعمركم فيها) تدعو إلى:

الهجرة العمل وإعمار الأرض السفر التجارة

٤. < قوة الإنتاج والاستهلاك ومحرك للتنمية ضمن الأهمية:

سياسية اجتماعية اقتصادية علمية وثقافية

❁ أكمل العبارات التالية بما يناسبها ما يلي:

١. < توحد سكان الوطن العربي عبر التاريخ من خلال الدين - اللغة - الثقافة.

٢. < من المجموعات البشرية في الوطن العربي الأكراد - التركمان - الأمازيغ.

٣. < من أهمية السكان السياسية منح الدولة نفوذاً سياسياً قوياً.

❁ اكتب المصطلح الدال على العبارات التالية:

١. < مجموعة من الأفراد الذين يعيشون في إقليم جغرافي محدد ويرتبطون بعلاقات عرقية واجتماعية واقتصادية فيما بينهم (السكان).

٢. < المجموعات البشرية المتنوعة التي يتكون منها سكان الوطن العربي مثل العرب والأكراد والتركمان والنوبيين والأمازيغ. (الأصول السكانية في الوطن العربي).

❁ اكتب صحيح بجانب العبارات الصحيحة وخطاً أمام العبارات غير الصحيحة:

١. < الإنسان هو العنصر الأهم في بناء المجتمعات. (صحيحة)

٢. < يتكون سكان الوطن العربي من أصل واحد فقط. (خطأ)

٣. < السكان قوة إنتاجية واستهلاكية في الاقتصاد. (صحيحة)

٤. < الابتكار والاختراعات من الأهمية الاجتماعية للسكان (خطأ)

٥. < يساهم السكان في الدفاع عن الوطن. (صحيحة)

٦. < لا علاقة للسكان ببناء المؤسسات والخدمات المجتمعية. (خطأ)

قارن حسب الجدول التالي:

دور السكان	المجال
منح الدولة نفوذاً سياسياً قوياً والدفاع عن الوطن	الأهمية السياسية
قوة إنتاجية واستهلاكية ومحرك للتنمية الاقتصادية	الأهمية الاقتصادية
تشكيل هوية المجتمع والمساهمة في بناء المؤسسات والخدمات المجتمعية	الأهمية الاجتماعية
الابتكار والاختراعات والبحث العلمي وتعزيز الوحدة الثقافية	الأهمية العلمية والثقافية



ضع خطاً تحت الخيار الصحيح من بين الخيارات التي تلي كل عبارة:

١. < من عوامل النمو السكاني في الوطن العربي:

الزيادة الطبيعية فقط الزيادة غير الطبيعية فقط الزيادة الطبيعية وغير الطبيعية الهجرة فقط

٢. < من أسباب الزيادة الطبيعية للسكان:

الحروب النزاعات الهجرة تحسن الرعاية الصحية

٣. < من أسباب الزيادة غير الطبيعية للسكان:

تحسن مستوى المعيشة البحث عن فرص العمل تحسن الرعاية الصحية ارتفاع مستوى التعليم

٤. < ينقسم التركيب النوعي للسكان إلى:

ذكور وإناث أطفال وكبار سن شباب وأطفال بالغين وصغار

٥. < التركيب العمري لفئة الشباب:

صفر-١٤ ١٥-٦٥ ٦٥ فأكثر جميع ما سبق

أكمل العبارات التالية بما يناسبها ما يلي:

١. < تعد التركيبية السكانية مؤشراً يعكس خصائص السكان في المجتمع.
٢. < ينقسم التركيب السكاني إلى التركيب النوعي والتركيب العمرى.
٣. < الفئة العمرية من (٠ - ١٤ سنة) تسمى فئة الأطفال.
٤. < الفئة العمرية من (٦٥ سنة فأكثر) تسمى فئة كبار السن.

اكتب المصطلح الدال على العبارات التالية:

١. < التغير في عدد السكان بالزيادة أو النقصان خلال فترة زمنية معينة (النمو السكاني).
٢. < توزيع السكان حسب الجنس إلى ذكور وإناث. (التركيب النوعي).
٣. < توزيع السكان حسب الفئات العمرية المختلفة (التركيب العمري).

اكتب صحيح بجانب العبارات الصحيحة وخطأ أمام العبارات غير الصحيحة:

١. < يهتم العلماء بدراسة النمو السكاني لمعرفة التغير في أعداد السكان. (صحيحة)
٢. < الزيادة الطبيعية تعود إلى البحث عن فرص العمل. (خطأ)
٣. < تحسن الرعاية الصحية من أسباب زيادة السكان. (صحيحة)
٤. < التركيب النوعي يقسم السكان إلى أطفال وشباب وكبار السن. (خطأ)

✿ قارن حسب الجدول التالي:

التقسيم	نوع التركيب السكاني
ذكور - إناث	التركيب النوعي
أطفال - شباب - كبار السن	التركيب العمري

✿ فرق بين السبب والنتيجة لعوامل النمو السكاني:

السبب	النتيجة
تحسن الرعاية الصحية	زيادة عدد السكان (زيادة طبيعية)
ارتفاع مستوى الدخل	زيادة عدد السكان (زيادة طبيعية)
البحث عن فرص العمل	زيادة السكان بالهجرة (زيادة غير طبيعية)
الهروب من النزاعات	انتقال السكان (زيادة غير طبيعية)



❁ ضع خطاً تحت الخيار الصحيح من بين الخيارات التي تلي كل عبارة:

١. < يبلغ عدد سكان الوطن العربي تقريباً:
 ١٠٠ مليون نسمة ٢٥٠ مليون نسمة أكثر من ٤٥٠ مليون نسمة ٥٠ مليون نسمة
٢. < من العوامل الطبيعية المؤثرة في توزيع السكان:
 الصناعة التجارة المدارس وفرة المياه
٣. < من العوامل البشرية المؤثرة في توزيع السكان:
 المناخ فرص العمل التضاريس خصوبة التربة
٤. < من المناطق ذات الكثافة السكانية العالية:
المناطق السهلية المناطق الصحراوية المناطق الجبلية المناطق القاحلة
٥. < من المناطق ذات الكثافة السكانية المنخفضة:
 السواحل الصحاري السهول المدن

❁ أكمل العبارات التالية بما يناسبها ما يلي:

١. < يمتد الوطن العربي على مساحة شاسعة.
٢. < من آثار ارتفاع الكثافة السكانية ازدهام المدن الكبرى.
٣. < الكثافة السكانية تساوي عدد السكان ÷ المساحة.
٤. < يعيش معظم سكان الوطن العربي قرب السواحل والأنهار.

❁ اكتب المصطلح الدال على العبارات التالية:

١. < انتشار السكان في مناطق مختلفة من سطح الأرض (توزيع السكان).
٢. < عدد السكان بالنسبة إلى المساحة التي يعيشون عليها. (الكثافة السكانية).

❁ اكتب صحيح بجانب العبارات الصحيحة وخطاً أمام العبارات غير الصحيحة:

١. < يتوزع سكان الوطن العربي بشكل متقارب في جميع مناطقه. (خطأ)
٢. < خصوبة التربة من العوامل الطبيعية المؤثرة في توزيع السكان. (صحيحة)
٣. < المناطق الصحراوية ذات كثافة سكانية مرتفعة. (خطأ)
٤. < المناطق الساحلية من المناطق ذات كثافة سكانية مرتفعة. (صحيحة)
٥. < لا تؤثر الخدمات مثل المدارس والمستشفيات في توزيع السكان. (خطأ)

احسب الكثافة السكانية لدولة جيبوتي حسب قانون الكثافة

عدد السكان ١,١٨٤,٠٧٦ نسمة مساحة جيبوتي ٢٣,١٨٠ كم^٢

$$\text{الكثافة السكانية} = \text{عدد السكان} \div \text{المساحة} = \frac{1,184,076}{23,180} = ٥١,٠٨ \text{ نسمة/كم}^2$$

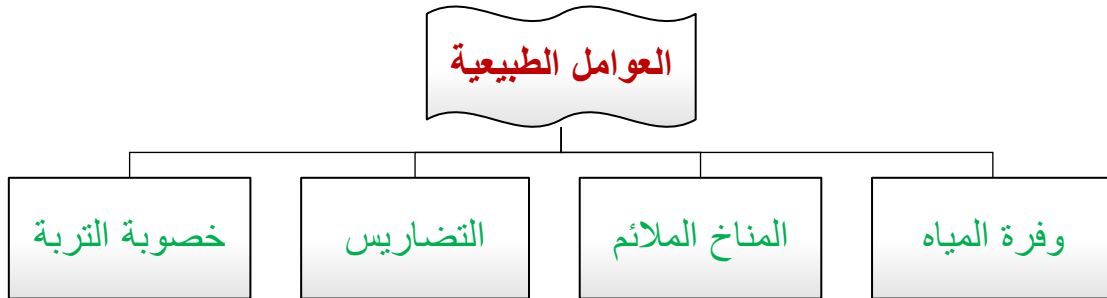
قارن حسب الجدول التالي:

الكثافة السكانية	نوع المنطقة
كثافة سكانية عالية	المناطق السهلية
كثافة سكانية عالية	المناطق الساحلية
كثافة سكانية منخفضة	المناطق الصحراوية
كثافة سكانية منخفضة	المناطق الجبلية

ارسم مخطط سهمي للعوامل البشرية المؤثرة في توزيع السكان.



ارسم مخطط سهمي للعوامل الطبيعية المؤثرة في توزيع السكان.



اكتب مدلول الصور التالية:



المناطق الساحلية



المناطق الجبلية

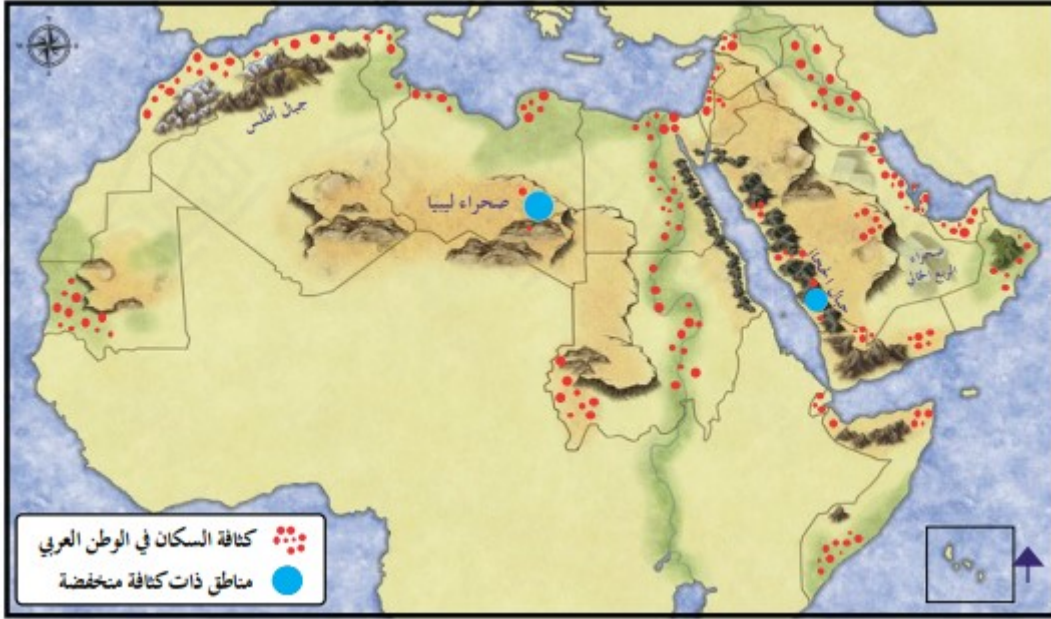


المناطق الصحراوية



المناطق السهلية

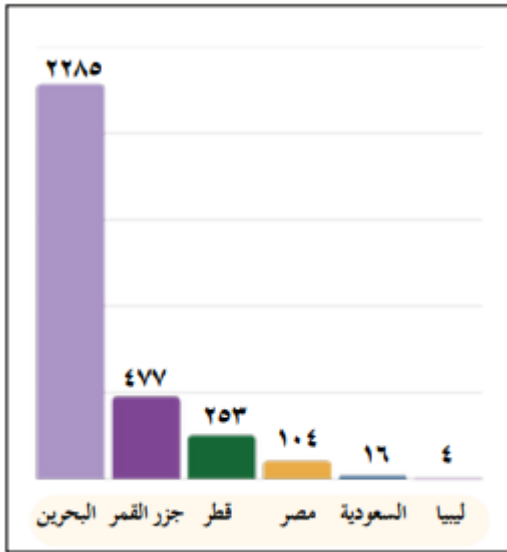
❁ لاحظ خريطة الوطن العربي ثم أجب على الأسئلة التالية:



١. ماذا تمثل النقاط الحمراء؟ أماكن الكثافة السكانية في الوطن العربي
٢. اكتب المناطق ذات كثافة سكانية منخفضة.

صحراء ليبيا - جبال الحجاز

❁ لاحظ الرسم البياني الذي أمامك شكل ثم نفذ المطلوب منك:



١. الدولة الأعلى في الكثافة السكانية: البحرين
٢. الدولة الأقل في الكثافة السكانية: ليبيا
٣. استنتج نوع العلاقة بين (السكان - المساحة) في البحرين. علاقة عكسية؛ فكلما صغرت المساحة وزاد عدد السكان ارتفعت الكثافة السكانية.

❁ عدد الآثار المترتبة على ارتفاع الكثافة السكانية.

- ١) ازدحام المدن الكبرى.
- ٢) التلوث
- ٣) ارتفاع تكاليف المعيشة.
- ٤) الضغط على الخدمات.

❁ ضع خطاً تحت الخيار الصحيح من بين الخيارات التي تلي كل عبارة:

١. < تختلف أنماط حياة السكان في الوطن العربي تبعاً لـ:

عدد السكان	<u>بيئاتهم المختلفة</u>	مساحة الدولة	نوع الحكومة
------------	-------------------------	--------------	-------------
٢. < يعتمد سكان الصحراء (البدو) في معيشتهم على:

الصناعة	التجارة	<u>تربية الإبل والأغنام</u>	الزراعة فقط
---------	---------	-----------------------------	-------------
٣. < يعتمد سكان الريف في معيشتهم على:

<u>الزراعة وتربية الحيوانات</u>	التجارة فقط	الصناعة فقط	السياحة فقط
---------------------------------	-------------	-------------	-------------
٤. < يعمل سكان المدن غالباً في:

الزراعة فقط	تربية الحيوانات	<u>التجارة والصناعة والخدمات</u>	الرعي
-------------	-----------------	----------------------------------	-------
٥. < سجلت منظمة اليونسكو عام ٢٠٢٢م (حذاء الإبل) ضمن:

التراث العالمي المادي	<u>التراث العالمي غير المادي</u>	التراث الطبيعي	التراث المعماري
-----------------------	----------------------------------	----------------	-----------------

❁ أكمل العبارات التالية بما يناسبها ما يلي:

١. < يعيش سكان الريف والقرى قرب الأراضي الزراعية ومصادر المياه.
٢. < من مظاهر العادات والتقاليد في الوطن العربي كرم الضيافة.
٣. < يتنوع الزي العربي تبعاً لـ المناخ والعادات والتقاليد.
٤. < ريف لبناني يعتمد سكانه على الزراعة وتربية الحيوانات اسمه البقاع.
٥. < صحراء في العراق يعتمد سكانها على تربية الإبل والأغنام والتنقل اسمها السماوة.
٦. < سجلت اليونسكو (حذاء الإبل) ضمن قائمة التراث غير المادي عام ٢٠٢٢.
٧. < من أمثلة الزي العربي الدشداشة – القفطان – البرنوس.
٨. < من مظاهر الثقافة غير المادية الأمثال الشعبية – الحكايات الشعبية – الأغاني.

❁ اكتب المصطلح الدال على العبارات التالية:

١. < أشكال حياة السكان المختلفة التي تتأثر بالبيئة مثل حياة البدو وسكان الريف وسكان المدن. (أنماط السكان).
٢. < أساليب حياة يتبعها المجتمع وتعبّر عن ثقافته مثل الاحتفالات وكرم الضيافة. (العادات والتقاليد).
٣. < عناصر ثقافية تنتقل شفهاً بين الأجيال مثل اللغة والأمثال والحكايات الشعبية (الثقافة غير المادية).

✿ اكتب صحيح بجانب العبارات الصحيحة وخطاً أمام العبارات غير الصحيحة:

١. < يعتمد سكان الصحراء على الرعي والتنقل بحثاً عن الماء والكلأ. (صحيحة)
٢. < يعمل سكان المدن غالباً في الرعي. (خطأ)
٣. < الزي العربي واحد في جميع مناطق الوطن العربي. (خطأ)
٤. < تنتقل بعض عناصر الثقافة الشعبية شفهيّاً بين الأجيال. (صحيحة)

✿ قارن حسب الجدول التالي:

طبيعة العمل	مكان العيش	نمط السكان
تربية الإبل والأغنام والتنقل	الصحارى	سكان الصحراء (البدو)
الزراعة وتربية الحيوانات	قرب الأراضي الزراعية ومصادر المياه	سكان الريف والقرى
الخدمات والتجارة والصناعة	المدن والمناطق العمرانية	سكان المدن (الحاضرة)

✿ ضع خطاً تحت الخيار الصحيح من بين الخيارات التي تلي كل عبارة:

١. < تعد دولة الكويت من الدول:

كبيرة المساحة	<u>صغيرة المساحة</u>	متوسطة المساحة	الجبلية
---------------	----------------------	----------------	---------
٢. < ازداد عدد السكان في دولة الكويت بعد:

اكتشاف الغاز	<u>اكتشاف النفط</u>	إنشاء المدارس	تطور الزراعة
--------------	---------------------	---------------	--------------
٣. < بلغ عدد سكان دولة الكويت تقريباً عام ٢٠٢٥:

مليون نسمة	ثلاثة ملايين نسمة	<u>خمسة ملايين نسمة</u>	عشرة ملايين نسمة
------------	-------------------	-------------------------	------------------
٤. < يتركز معظم سكان الكويت في:

<u>المناطق الساحلية</u>	المناطق الصحراوية	المناطق الجبلية	المناطق الزراعية
-------------------------	-------------------	-----------------	------------------
٥. < ترتفع الكثافة السكانية في منطقتي:

الجهراء والأحمدي	الفروانية والعارضية	كيفان والدعية	<u>السالمية والمهبولة</u>
------------------	---------------------	---------------	---------------------------

✿ أكمل العبارات التالية بما يناسبها ما يلي:

١. < سبب ارتفاع الكثافة السكانية في بعض مناطق الكويت هو توفر السكن منخفض التكلفة والخدمات.
٢. < تقل الكثافة السكانية في الكويت في المناطق الصحراوية.
٣. < يعد الموروث الشعبي في الكويت جزءاً مهماً من الثقافة.
٤. < تتمسك دولة الكويت بالعادات والتقاليد المستمدة من الدين الإسلامي والمجتمع العربي.

✿ اكتب المصطلح الدال على العبارات التالية:

١. < مجموعة العادات والتقاليد والفنون التي تنتقل من جيل إلى آخر في المجتمع. (الموروث الشعبي).
٢. < فرقة فنون شعبية كويتية لجمع وأداء الفن الشعبي الكويتي والحفاظ عليه (فرقة التلفزيون).

✿ اكتب صحيح بجانب العبارات الصحيحة وخطاً أمام العبارات غير الصحيحة:

١. < تعد دولة الكويت من الدول الكبيرة في المساحة. (خطأ)
٢. < تشكل فئة الشباب الشريحة الأكبر من سكان الكويت. (صحيحة)
٣. < يعيش معظم سكان الكويت في المناطق الصحراوية. (خطأ)
٤. < لا تهتم المدارس بنقل التراث الشعبي للأجيال. (خطأ)
٥. < عدد الذكور أكبر من عدد الإناث في الكويت. (صحيحة)

عدد الجهود المبذولة من قبل الدولة للحفاظ على الموروث الشعبي.

(١) تنظيم المعارض والفعاليات.

(٢) إنتاج برامج وثائقية وتاريخية.

(٣) إدراج الموروث ضمن الكتب المدرسية والبرامج الإذاعية.

لاحظ الدوائر البيانية ثم أجب عن المطلوب:



١. فئة **الذكور** هي الأكبر في التركيب النوعي لسكان دولة الكويت.
٢. فئة **الشباب** هي الأكبر في التركيب العمري لسكان دولة الكويت.
٣. فئة كبار السن هي **الأقل** في التركيب العمري لسكان دولة الكويت.

لاحظ خريطة دولة الكويت ثم أجب على الأسئلة التالية:

المناطق الأكثر كثافة سكانية في الكويت هي **السالمية والمهولة**



❁ ضع خطاً تحت الخيار الصحيح من بين الخيارات التي تلي كل عبارة:

١. < يسهم الوطن العربي في الإنتاج العالمي من النفط بنسبة تقارب:

١٠% ٤٠% ٢٦% ٦٠%

٢. < تمتلك الدول العربية من الاحتياطي العالمي للنفط حوالي:

٢٠% ٣٥% ٥٣% ٧٠%

٣. < تعد المملكة العربية السعودية من أكبر الدول:

المستوردة للنفط المصدرة للنفط المنتجة للفحم المستهلكة للنفط

٤. < من أهم الدول المنتجة للغاز الطبيعي:

قطر العراق الأردن لبنان

٥. < يستخدم الحديد في صناعة:

الحلي الأسمدة الفولاذ والآلات الوقود

٦. < يستخدم الذهب في صناعة:

الأسمدة الآلات المفاعلات النووية المجوهرات والحلي

❁ أكمل العبارات التالية بما يناسبها ما يلي:

١. < تعد الثروات أساس نهضة الدول وتقدمها.

٢. < يعد الغاز الطبيعي مصدر طاقة رئيسي يسمى بـ الطاقة النظيفة.٣. < يستخدم الفوسفات في صناعة الأسمدة الزراعية.٤. < يستخدم النحاس في الصناعات الكهربائية والإلكترونية.

❁ اكتب المصطلح الدال على العبارات التالية:

١. < القيمة النقدية التي تحصل عليها الدولة من أنشطة الإنتاج والخدمات في مختلف المجالات خلال

فترة زمنية (الدخل).٢. < المعادن التي تستخرج من باطن الأرض وتستخدم في الصناعات المختلفة. (الثروة المعدنية).

✿ اكتب صحيح بجانب العبارات الصحيحة وخطأ أمام العبارات غير الصحيحة:

١. < الثروات الطبيعية تساعد على بناء اقتصاد قوي. (صحيحة)
٢. < النفط من الموارد غير المهمة في الوطن العربي. (خطأ)
٣. < يسمى الغاز الطبيعي الطاقة النظيفة لأنه أقل تلوثاً للبيئة. (صحيحة)
٤. < يستخدم النحاس في الصناعات الكهربائية والإلكترونية. (صحيحة)
٥. < تستخرج معظم الثروات المعدنية من باطن الأرض. (صحيحة)

✿ قارن حسب الجدول التالي:

المعدن	الاستخدام
الحديد	صناعة الفولاذ والآلات والمعدات
الفوسفات	صناعة الأسمدة الزراعية
الذهب	صناعة الحلي والمجوهرات
النحاس	الصناعات الكهربائية والإلكترونية
اليورانيوم	تشغيل المفاعلات النووية

✿ لاحظ الخريطة ثم أكمل البيانات الناقصة في الجدول.



الدولة	المعدن
السعودية - موريتانيا	اليورانيوم
ليبيا- الجزائر	الحديد
السودان- اليمن	الذهب
المغرب- عُمان	النحاس
سورية- مصر	الفوسفات

❁ ضع خطاً تحت الخيار الصحيح من بين الخيارات التي تلي كل عبارة:

١. < تنوعت الثروة الحيوانية والمائية والزراعية في الوطن العربي بسبب:
زيادة عدد السكان < تنوع المناخ وتوفر المياه < كثرة المصانع < قلة الموارد الطبيعية
٢. < الحيوان الأكثر انتشاراً في الوطن العربي هو:
الأبقار < الإبل < الأغنام < الجاموس
٣. < تمثل الإبل من الثروة الحيوانية في الوطن العربي نسبة:
٥% < ١٠% < ١٥% < ٢٠%
٤. < الدولة التي تُعرف بقلب الثروة الحيوانية في الوطن العربي:
مصر < السودان < المغرب < اليمن
٥. < من المحاصيل العلفية في الوطن العربي:
القمح < البن < الفاكهة < البرسيم
٦. < اشتهر ميناء المخا في اليمن بتصدير:
التمر < البن < القمح < الشعير

❁ أكمل العبارات التالية بما يناسبها ما يلي:

١. < من المحاصيل الغذائية في الوطن العربي الحبوب - الفاكهة - الخضروات.
٢. < من المحاصيل العلفية البرسيم - الرودس - الشعير.
٣. < اشتهر ميناء المخا في اليمن بتصدير البن الذي عرف باسم موكا.



❁ اكتب المصطلح الدال على العبارات التالية:

١. < الحيوانات التي يربئها الإنسان للاستفادة منها في الغذاء مثل اللحوم والألبان وغيرها (الثروة الحيوانية).
٢. < الكائنات الموجودة في البحار والأنهار مثل الأسماك والموارد البحرية التي يستفيد منها الإنسان (الثروة المائية).
٣. < محاصيل زراعية تُزرع بهدف بيعها والحصول على دخل مالي (المحاصيل النقدية).

❁ صنف المحاصيل التالية (الزعفران - الإيلنج - الموز - البن - اللبان) في مكانها الصحيح في الجدول:

الدولة	عُمان	اليمن	الصومال	المغرب	جزر القمر
نوع المحصول	اللبان	البن	الموز	الزعفران	الإيلنج

❁ ارسم مخطط سهمي لأنواع الثروة المائية.



✿ اقرأ الآية ﴿١٤﴾ من سورة النحل ثم استخرج منها منافع البحر.

قال تعالى: ﴿وَهُوَ الَّذِي سَخَّرَ الْبَحْرَ لِتَأْكُلُوا مِنْهُ لَحْمًا طَرِيًّا وَتَسْتَخْرِجُوا مِنْهُ حَبْلًا حَلِيَّةً تَلْبَسُونَهَا وَتَرَى الْفُلْكَ مَوَاجِرَ فِيهِ وَلِتَبْتَغُوا مِنْ فَضْلِهِ، وَالْعَلَّكُمْ تَشْكُرُونَ﴾

منافع البحر هي: الغذاء، الزينة (الحلي)، الملاحة بالسفن، وطلب الرزق والتجارة.

✿ اكتب صحيح بجانب العبارات الصحيحة وخطأ أمام العبارات غير الصحيحة:

١. < الأبقار هي الحيوان الأكثر انتشاراً في الوطن العربي. (خطأ)
٢. < تشتهر السودان بتفوقها في أعداد الماشية وتنوعها. (صحيحة)
٣. < المحاصيل العلفية تُزرع من أجل بيعها فقط. (خطأ)
٤. < اشتهر ميناء المخا في اليمن بتصدير البن. (خطأ)

✿ قارن حسب الجدول التالي:

وجه المقارنة	المحاصيل الغذائية	المحاصيل النقدية	المحاصيل العلفية
الهدف من زراعتها	غذاء الإنسان	بيعها للحصول على دخل	تغذية الحيوانات
أمثلة	الحبوب - الفاكهة - الخضروات	البن - القمح	البرسيم - الرودس - الشعير

✿ لاحظ الخريطة ثم اكتب أسماء الدول حسب نوع الثروة في الجدول التالي:



الثروة	الأسماك	الملح البحري	اللؤلؤ الطبيعي	الأعشاب البحرية
الدولة	المغرب	مصر	البحرين	تونس

❁ ضع خطاً تحت الخيار الصحيح من بين الخيارات التي تلي كل عبارة:

١. < تُعد الصناعة من أهم القطاعات الاقتصادية لأنها:
توفر الغذاء < أساس النشاط الاقتصادي للدولة < تنشط السياحة < تدعم الزراعة
٢. < من عوامل قيام الصناعة:
رأس المال < المواد الخام < الأيدي العاملة < جميع ما سبق

٣. < من أمثلة الصناعات الاستخراجية:
الملابس < السجاد < النفط والمعادن < الأغذية
٤. < من أمثلة الصناعات التحويلية:
النفط < المعادن < السجاد < الأغذية والملابس

٥. < التجارة التي تشمل الصادرات والواردات تسمى:
تجارة داخلية < تجارة إلكترونية < تجارة خارجية < تجارة محلية

❁ أكمل العبارات التالية بما يناسبها ما يلي:

١. < من القطاعات الاقتصادية في الوطن العربي الصناعة - التجارة - الخدمات.
٢. < عمليات البيع والشراء التي تتم عبر الإنترنت تسمى التجارة الإلكترونية.
٣. < الصناعة التي تعتمد على المهارة اليدوية تسمى الصناعة الحرفية.
٤. < تنقسم التجارة إلى تجارة داخلية وتجارة خارجية وتجارة إلكترونية.
٥. < من أنواع الخدمات سياحية - تعليمية - نقل ومواصلات - صحية.

❁ اكتب المصطلح الدال على العبارات التالية:

١. < تحويل المواد الخام إلى سلع وبضائع يمكن الاستفادة منها (الصناعة).
٢. < تبادل السلع مقابل المال بين الأفراد أو الدول. (التجارة).

❁ اكتب صحيح بجانب العبارات الصحيحة وخطاً أمام العبارات غير الصحيحة:

١. < شهد الوطن العربي تطوراً في مجالات الصناعة والتجارة والخدمات. (صحيحة)
٢. < الصناعة تعني استخراج المعادن فقط. (خطأ)
٣. < الصناعة الحرفية تعتمد على التقنية الحديثة. (خطأ)
٤. < تختلف الخدمات بين الدول بسبب اختلاف الموارد الطبيعية والموقع الجغرافي لكل دولة. (صحيحة)



عدد عوامل قيام الصناعة.

- ١) رأس المال
- ٢) المواد الخام
- ٣) الأيدي العاملة
- ٤) وسائل النقل والأسواق

قارن حسب الجدول التالي:

وجه المقارنة	الصناعة الحرفية	الصناعة الاستخراجية	الصناعة التحويلية
التعريف	تعتمد على المهارة اليدوية	تعتمد على استخراج الموارد من الأرض أو البحر	تعتمد على تحويل المواد الخام باستخدام التقنية
أمثلة	السجاد - دبغ الجلود	النفط - المعادن	الأغذية - الملابس

اكتب نوع الصناعة التي تعبر عنها الصور التالية:



الصناعة التحويلية



الصناعة الحرفية



الصناعة الاستخراجية

هذه المذكرة لا تشمل كامل الكتاب
لطلب المذكرة كاملة

65598824