

الدراسات الاجتماعية

نماذج اختبارات الأضواء

لشهر إبريل

الفصل الدراسي الثاني

المف

4

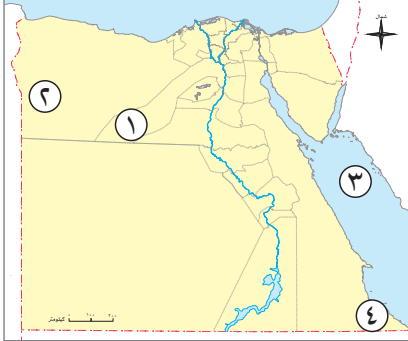
الابتدائي

2026



نموذج 1

(١) أمامك خريطة صماء لمصر، اكتب ما تدل عليه الأرقام:



- ١ محافظة يقع بها هرم سقارة.....
- ٢ منطقة بها سياحة علاجية.....
- ٣ البحر.....
- ٤ محمية.....

(ب) ما العلاقة بين: المحميات الطبيعية والسياحة البيئية.

(١) أكمل العبارات الآتية بما يناسبها من كلمات:

- ١ يعد من أقدم الأديرة في العالم دير.....
- ٢ من أشهر محاصيل رواندا الزراعية البن و.....
- ٣ اتخذ الرئيس.....قرار حرب أكتوبر عام ١٩٧٣م.

(ب) بم تفسر...؟

- ١ أهمية جبانة منف كموقع تراث عالمي.
- ٢ اعتقاد إسرائيل أن خط بارليف لا يمكن اختراقه.

(١) اكتب كلمة (صواب) أمام العبارة الصحيحة، وكلمة (خطأ) أمام العبارة غير الصحيحة:

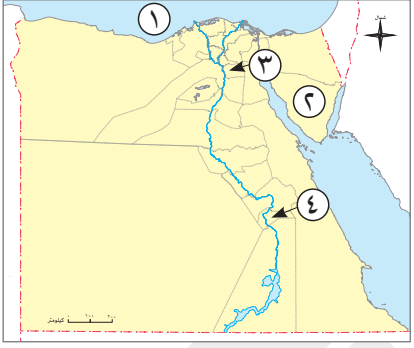
- ١ تقع مدينة طيبة في محافظة البحر الأحمر. (.....)
- ٢ تعد السياحة من أهم المجالات الاقتصادية في مصر. (.....)
- ٣ لم تتطور وسائل النقل من العصور القديمة حتى الآن. (.....)

(ب) دلل على صحة العبارات الآتية:

- ١ مرت وسائل النقل بمراحل تطور كبيرة.
- ٢ تضم مدينة طيبة العديد من المواقع الأثرية.

نموذج 2

السؤال الأول (١) أمامك خريطة صماء لمصر، اكتب ما تدل عليه الأرقام:



- ١ البحر.....
- ٢ محافظة بها دير سانت كاترين.....
- ٣ محافظة بها قلعة صلاح الدين.....
- ٤ محافظة تقع بها مدينة طيبة.....

(ب) ما المقصود بـ: السياحة العلاجية.

السؤال الثاني (١) اختر الإجابة الصحيحة مما بين القوسين:

- ١ وزير الحربية والقائد العام للجيش في حرب أكتوبر.....
(سعد الدين الشاذلى - أحمد إسماعيل - محمد عبد الغنى الجمسى - محمد حسنى مبارك)
- ٢ أى مما يلى يعد من جهود الدولة في مجال السياحة.....
- ٣ (عدم الكتابة على الآثار - إكرام السائحين وحسن معاملتهم - ترميم وتطوير المناطق الأثرية - المحافظة على نظافة المكان)
من الآثار التى تضمها جبانة منف.....
- ٣ (وادى الملوك - معبد فيلة - هرم سقارة - وادى الحيتان)

(ب) ما النتائج المترتبة على...؟

- ١ الضربة الجوية المصرية في حرب أكتوبر ١٩٧٣م.....
- ٢ إقامة مشروع الصوت والضوء بمنطقة أهرامات الجيزة.....

السؤال الثالث (١) صوب ما تحته خط:

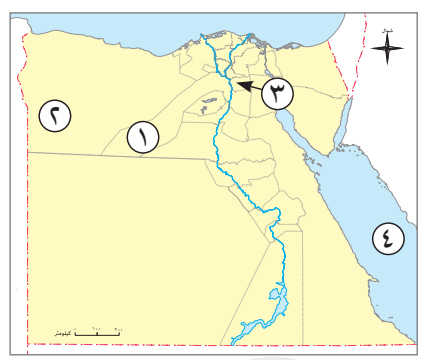
- ١ استخدام المصريين الدبابات لعبور قناة السويس.
- ٢ يقع وادى الحيتان في محافظة الشرقية.
- ٣ تعد زيارة محمية جبل علبة إحدى صور السياحة العلاجية.

(ب) بم تفسر...؟

- ١ أهمية اليونسكو لمواقع التراث العالمى.
- ٢ أهمية المتحف القومى للحضارة المصرية.

نموذج 3

السؤال الأول (١) أمامك خريطة صماء لمصر، اكتب ما تدل عليه الأرقام:



- ١ محافظة بها جبانة منف
 - ٢ منطقة بها سياحة علاجية
 - ٣ محافظة بها جامع أحمد بن طولون
 - ٤ البحر
- (ب) ما المقصود بـ: السياحة.

السؤال الثاني (١) اختر الإجابة الصحيحة مما بين القوسين:

- ١ عادة وطنية يقوم بها الشعب في رواندا
- ٢ زيارة محمية رأس محمد تعتبر نوع من أنواع السياحة (الثقافية - الترفيهية - العلاجية - البيئية)
- ٣ تقام عروض الصوت والضوء بمنطقة (الأقصر - الإسكندرية - أهرامات الجيزة - أسوان)

(ب) دلل على صحة العبارات الآتية:

- ١ يتمتع دير سانت كاترين بأهمية كبيرة
- ٢ تعد حرب أكتوبر المجيدة عام ١٩٧٣م من أعظم الأحداث في تاريخ مصر الحديث

السؤال الثالث (١) أكمل العبارات الآتية بما يناسبها من كلمات:

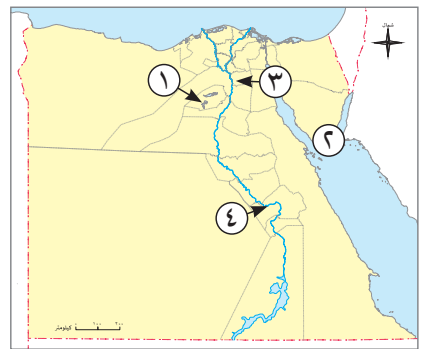
- ١ يقع طريق الكباش بمحافظة
- ٢ صنعت القوارب الخشبية قديماً بغرض
- ٣ أقامت إسرائيل تحصينات كثيرة على قناة السويس عرفت باسم

(ب) بم تفسر..؟

- ١ أهمية منطقة آثار النوبة كموقع تراث عالمي؟
- ٢ تعد السياحة من أهم المجالات الاقتصادية في مصر

نموذج 4

السؤال الأول (١) أمامك خريطة صماء لمصر، اكتب ما تدل عليه الأرقام:



- ١ محافظة بها وادى الحيتان.....
- ٢ محمية.....
- ٣ عاصمة مصر.....
- ٤ نهر.....

(ب) دلل على صحة العبارة الآتية: تتنوع مواقع السياحة الترفيهية بمصر.

السؤال الثاني

(١) اكتب كلمة (صواب) أمام العبارة الصحيحة، وكلمة (خطأ) أمام العبارة غير الصحيحة:

- ١ توسعت مدينة القاهرة لتضم الفسطاط والقطائع والعسكر. (.....)
- ٢ منتدى شباب العالم أحد صور السياحة البيئية. (.....)
- ٣ سميت رواندا بدولة الألف تل لكثرة الأودية بها. (.....)

(ب) ما النتائج المترتبة على..؟

- ١ حرب أكتوبر ١٩٧٣م.
- ٢ وجود البحيرات الملحية في سيوة.

السؤال الثالث

(١) أكمل العبارات الآتية بما يناسبها من كلمات:

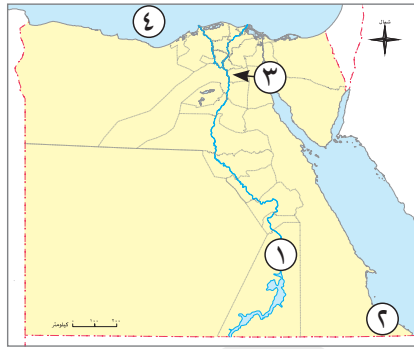
- ١ ديرا الأنبا سمعان من الأماكن الأثرية التي يضمها موقع.....
- ٢ الانتقال من دولة لأخرى بغرض الترفيه أو العلاج يسمى.....
- ٣ احتلت إسرائيل عام ١٩٦٧م شبه جزيرة.....

(ب) قارن بين: مدينة طيبة وآثار النوبة من حيث المحافظة والآثار التي توجد في كل منهما:

وجه المقارنة	مدينة طيبة	آثار النوبة
المحافظة		
الآثار التي توجد في كل منهما		

نموذج 5

السؤال الأول (١) أمامك خريطة صماء لمصر، اكتب ما تدل عليه الأرقام:



- ١ محافظة بها دير الأنبا سمعان
- ٢ محمية
- ٣ محافظة يوجد بها مقياس النيل الترائي
- ٤ البحر

(ب) ما العلاقة بين: السياحة و الدخل القومي لمصر.

.....

السؤال الثاني (١) صوب ما تحته خط:

- ١ تقع جبانة منف بالقرب من ميت غمر.
- ٢ تقع محمية رأس محمد في محافظة البحر الأحمر.
- ٣ القائد الأعلى للقوات المسلحة في حرب أكتوبر هو الفريق سعد الدين الشاذلي.

(ب) بم تفسر...؟

- ١ انضمام منطقة أبو مينا لقائمة المواقع التراثية العالمية
- ٢ إقامة الجنود جسورًا عائمة في حرب أكتوبر ١٩٧٣م

السؤال الثالث (١) اختر الإجابة الصحيحة مما بين القوسين:

- ١ تعد العيون الكبرى في سيناء أحد مواقع السياحة (الثقافية - العلاجية - البيئية - الترفيهية)
- ٢ أحد مجالات التعاون الحالي بين مصر ورواندا (السياحة - التعليم - الصناعة - الطاقة)
- ٣ الموقع الطبيعي الوحيد في مصر ضمن قائمة التراث العالمي هو (جبانة منف - وادي الحيتان - مدينة طيبة - القاهرة التاريخية)

(ب) ما المقصود بكل من...؟

- ١ الحرف التراثية:
- ٢ السياحة الخارجية:

الدراسات الاجتماعية

إجابات نماذج اختبارات الأضواء

لشهر إبريل

الفصل الدراسي الثاني

المف

4

الابتدائي

2026



نموذج 1

السؤال الأول

(١)

- ١ الجيزة.
- ٢ سيوة.
- ٣ الأحمر.
- ٤ جبل علبة.

(ب) حيث أن المحميات الطبيعية مثل : محمية رأس محمد في شبه جزيرة سيناء ومحمية جبل علبة بمحافظة البحر الأحمر تعد من مواقع السياحة البيئية في مصر.

السؤال الثاني

(١)

- ١ سانت كاترين.
- ٢ الشاي.
- ٣ محمد أنور السادات.

(ب)

- ١ لأنها تضم أهرامات الجيزة وهرم سقارة وغيرها من الآثار المصرية القديمة.
- ٢ لأنه من أقوى وأخطر الخطوط الدفاعية في العالم في ذلك الوقت.

السؤال الثالث

(١)

- ١ (خطأ).
- ٢ (صواب).
- ٣ (خطأ).

(ب)

- ١ حيث بدأت باستخدام الحيوانات وانتهت بوسائل النقل الحديثة.
- ٢ حيث أنها تضم معبد الكرنك ومعبد الدير البحرى ووادي الملوك.

نموذج 2

السؤال الأول

(١)

١ المتوسط.

٢ جنوب سيناء.

٣ القاهرة.

٤ الأقصر.

(ب) هي زيارة مكان بغرض تلقي العلاج.

السؤال الثاني

(١)

١ أحمد إسماعيل.

٢ ترميم وتطوير المناطق الأثرية.

٣ هرم سقارة.

(ب)

١ قامت بتدمير مراكز القيادة والمطارات التي كانت تستخدمها إسرائيل وبعدها بدأ جنود مصر الأبطال عبور قناة السويس ليحرروا أرض سيناء.

٢ تم تنفيذ المشروع في العديد من المناطق الأثرية الأخرى.

السؤال الثالث

(١)

١ القوارب الصغيرة.

٢ الفيوم.

٣ البيئية.

(ب)

١ تهدف اليونسكو إلى حماية مواقع التراث العالمي والحفاظ عليها، لما تمثله من أهمية كبيرة في حضارات الشعوب وثقافتهم.

٢ يضم آثارًا من مختلف عصور التاريخ المصري.

نموذج 3

السؤال الأول

(١)

- ١ الجيزة.
- ٢ سيوة.
- ٣ القاهرة.
- ٤ الأحمر.

(ب) الانتقال من مكان إلى آخر بغرض الترفيه أو العلاج أو الاستكشاف.

السؤال الثاني

(١)

- ١ أوموغاندا.
- ٢ البيئية.
- ٣ أهرامات الجيزة.

(ب)

١ حيث يعد من أقدم الأديرة في العالم، وتمثل منطقة كاترين أهمية كبيرة للديانات السماوية الثلاث.

٢ لم تكن حرب أكتوبر مجرد معركة عسكرية لاسترداد الأرض التي استولى عليها الجيش الإسرائيلي، بل كانت معركة للدفاع عن الهوية والكرامة والانتماء.

السؤال الثالث

(١)

- ١ الأقصر.
- ٢ الصيد / النقل.
- ٣ خط بارليف.

(ب)

١ لأنها تضم آثاراً من مختلف العصور التاريخية في مصر، حيث تضم معبدى أبو سمبل ومعبد فيلة من الحضارة المصرية القديمة، كما تضم دير الأنبا سمعان وتضم المقبرة الإسلامية.

٢ لأنها تساهم في زيادة الدخل القومي - توفر فرص العمل للشباب.

نموذج 4

السؤال الأول

(1)

- ١ الفيوم.
٢ رأس محمد.
٣ القاهرة.
٤ النيل.

(ب) حيث يأتي السائحون لزيارة شواطئنا الجذابة على البحرين الأحمر والمتوسط، والاستمتاع برحلات السفارى فى الصحراء المصرية، والتنزه على نهر النيل.

السؤال الثانى

(1)

- ١ (صواب).
٢ (خطأ).
٣ (خطأ).

(ب)

١ انتصار الجيش المصرى وهزيمة الجيش الإسرائيلى، وقضى الجيش المصرى على الأسطورة المزعومة بأن الجيش الإسرائيلى لا يقهر.
٢ أدى إلى زيادة مجيء السياح للبحيرات الملحية بغرض تلقي العلاج.

السؤال الثالث

(1)

- ١ آثار النوبة.
٢ سياحة خارجية.
٣ سيناء.

(ب)

وجه المقارنة	مدينة طيبة	آثار النوبة
المحافظة	محافظة الأقصر.	محافظة أسوان.
الآثار التى توجد فى كل منهما	تضم معبد الكرنك ومعبد الدير البحرى ووادى الملوك.	تضم معبدى أبو سمبل ومعبد فيلة من الحضارة المصرية القديمة، كما تضم دير الأنبا سمعان وتضم المقبرة الإسلامية.

السؤال الأول

(١)

- ١ أسوان .
٢ جبل علية .
٣ القاهرة .
٤ المتوسط .

(ب) تعد السياحة من أهم المجالات الاقتصادية في مصر، حيث تساهم في زيادة الدخل القومي .

السؤال الثاني

(١)

- ١ ميت رهينة .
٢ شبه جزيرة سيناء .
٣ محمد أنور السادات .

(ب)

- ١ لأنها تضم بقايا الكنائس والأديرة والمنازل حول قبر القديس مارمينا والمنطقة مزيج من الحضارات القديمة .
٢ لتسير عليها الدبابات .

السؤال الثالث

(١)

- ١ العلاجية .
٢ التعليم .
٣ وادي الحيطان .

(ب)

- ١ هي صناعات يدوية تعتمد على المواد الخام المحلية ومهارة الأيدي العاملة .
٢ هي الانتقال من دولة إلى دولة أخرى لعدة أغراض، منها: الترفيه، أو العلاج، أو الاستكشاف .