



أولاً : التاريخ : (300 درجة)

السؤال الأول : أجب عن الأسئلة الآتية : (140 درجة )

1- اختر الإجابة الصحيحة مما يأتي وانقلها إلى ورقة إجابتك :

1- وضع لبنان في اتفاقية سان ريمو 1920م تحت الانتداب :

أ	البريطاني	ب	الفرنسي	ج	الإيطالي	د	الإسباني
---	-----------	---	---------	---	----------	---	----------

2- مؤسس الحزب الوطني في مصر :

أ	جمال الدين الأفغاني	ب	عبد الرحمن الكواكبي	ج	مصطفى كامل	د	سعد زغول
---	---------------------	---	---------------------	---	------------	---	----------

3- تم طرد الاحتلال البرتغالي من مسقط عام 1698م على يد :

أ	دولة اليعاربة	ب	تحالف القواسم	ج	آل الرشيد	د	العتوب
---	---------------	---	---------------	---	-----------	---	--------

2- ضع كلمة ( صح ) أمام العبارة الصحيحة ، وكلمة ( غلط ) أمام العبارة المغلوطة لكل مما يأتي :

أ- ( ) اتبعت فرنسا في جزر القمر الإسلامية سياسة التمييز العنصري .

ب- ( ) أسس المملكة العربية السعودية عبد العزيز بن سعود .

ج- ( ) فرضت فرنسا الحماية على تونس في معاهدة باردو ( القصر السعيد ) عام 1881م .

3- رتب الأحداث التاريخية الآتية حسب تسلسلها الزمني بدءاً بالأقدم :

(1- جلاء الاحتلال الفرنسي عن سورية 2- إعلان النظام الجمهوري 3- عدوان 29 أيار 4- الإضراب الستيني )

4- علل ثلاثة مما يأتي فقط :

1- احتلال بريطانيا عدن عام 1839م .

2- قيام انقلاب 14 تموز في العراق 1958م .

3- ظهور المسألة الشرقية في القرن التاسع عشر .

4- شن بريطانيا عدة حملات بحرية ضد القواسم في القرن التاسع عشر .

السؤال الثاني : أجب عن أربعة من الأسئلة الآتية : (120 درجة ) (30 درجة لكل سؤال )

1- عدد بنود معاهدة التحالف البريطانية الأردنية عام 1946م.

2- ما توصيات لجنة بيل لتقسيم فلسطين عام 1937م ؟

3- عدد أسباب الاحتلال الفرنسي للجزائر عام 1830م .

4- بيّن أبرز المشكلات التي واجهت سورية بعد الاستقلال .

5- صنف سياسة الاستعمار الإيطالي في ليبيا من الناحيتين الاقتصادية والثقافية .

السؤال الثالث : أجب عن أحد السؤالين الآتيين : (40 درجة)

أولاً-قارن في جدول بين مقررات المؤتمر السوري العام لعام 1919م، وتوصيات لجنة كينغ – كراين 1919م .

ثانياً- عدد بنود معاهدة بين بريطانيا و مصر عام 1936 .

ثانياً : الجغرافية : (300 درجة)

السؤال الأول : اختر الإجابة الصحيحة لست من الأسئلة السبعة الآتية ثم انقلها إلى ورقة إجابتك :

1- يصل مضيق باب السلام ( هرمز ) بين :

أ	البحر المتوسط والمحيط الأطلسي	ب	بحر العرب والبحر الأحمر	ج	البحر الأحمر والبحر المتوسط	د	الخليج العربي وخليج عُمان
---	-------------------------------	---	-------------------------	---	-----------------------------	---	---------------------------

2- المظهر التضريسي الأكثر انتشاراً في الوطن العربي هو :

أ	الجبال	ب	الهضاب	ج	السهول الساحلية	د	السهول الفيضية
---	--------	---	--------	---	-----------------	---	----------------

3- يقع الإقليم المناخي المتوسطي الجاف في سورية في :

أ	الغوطة	ب	هضبة حلب	ج	البادية	د	الساحل السوري
---	--------	---	----------	---	---------	---	---------------

4- من مشكلات التربة البنية المصفرة :

أ	تملح التربة	ب	ارتفاع نسبة الجبس	ج	انجراف التربة	د	الجفاف
---	-------------	---	-------------------	---	---------------	---	--------

5- الإقليم الجغرافي الذي يخترقه خط الاستواء من جنوبيه هو :

أ	بلاد الشام	ب	شبه الجزيرة العربية	ج	القرن الإفريقي	د	ليبيا
---	------------	---	---------------------	---	----------------	---	-------

يتبع في الصفحة الثانية

6- مرور البضائع من دولة إلى دولة عبر دولة أخرى يسمّى :

أ ) تجارة خارجية ب ) تجارة العبور ( ترانزيت ) ج ) الميزان التجاري د ) تجارة داخلية

7- يستخرج الملح الصخري في سورية من مناجم :

أ ) تبني ب ) جبّول ج ) الشرقية د ) البوّارة

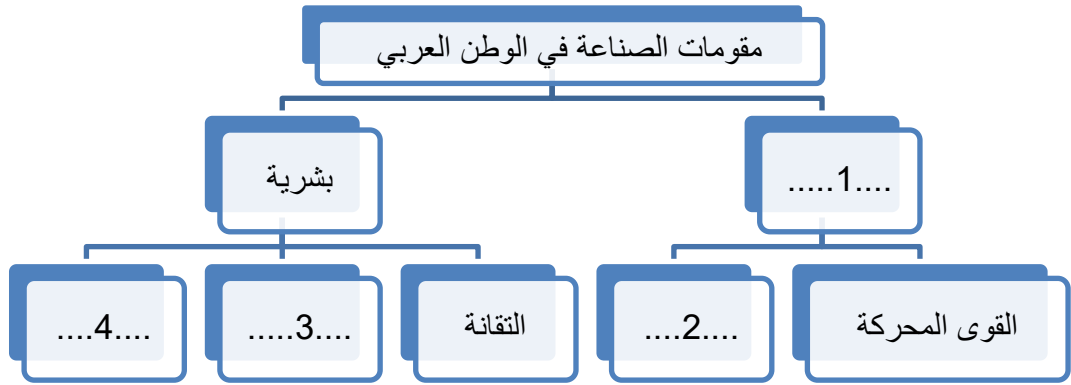
السؤال الثاني : ضع كلمة ( صح ) أمام العبارة الصحيحة ، وكلمة ( غلط ) أمام العبارة المغلوطة لثلاث من العبارات الآتية بعد نقلها إلى ورقة إجابتك :

- 1- ( ) تعد بحيرة مسعدة من البحيرات الصناعية في الجولان السوري المحتل .
- 2- ( ) تكلفة استخراج النفط في المغرب العربي أكبر منها في المشرق العربي لوجوده على أعماق أكبر .
- 3- ( ) تتميز التجارة الداخلية بين أقطار الوطن العربي بالضعف ومنافسة البضائع الأجنبية لها .
- 4- ( ) تتطابق حدود الأقاليم الجغرافية للوطن العربي مع الحدود الحالية للبلدان العربية .

السؤال الثالث : فسّر ثلاثاً من العبارات الآتية تفسيراً علمياً دقيقاً :

- أ- الأهمية الجغرافية لموقع إقليم بلاد الشام .
- ب - ارتفاع درجات الحرارة في معظم أرجاء الوطن العربي صيفاً .
- ج - أهمية زراعة القطن في سورية .
- د-الاحتلال الإسرائيلي لهضبة الجولان السورية .

السؤال الرابع : أكمل خريطة المفاهيم الآتية بما يناسبها :



السؤال الخامس : أجب عن أربعة من الأسئلة الآتية :

- 1- ماذا يحيط بحوضه دمشق من الجهات الأربع وما أقسامها ؟ .
- 2- ما الجهود التي تبذلها الدول لتحديث إدارة المراعي ؟ .
- 3 - حدد العامل المساهم في كل مما يأتي :  
أ- تركيز صناعة الألمنيوم في البحرين – ب. تربية الأبقار في مصر .
- 4- ما الآثار السلبية والإيجابية للسياحة ؟ .
- 5- قارن بين سد الفرات والسد العالي من حيث : الموقع – كمية المياه المخزنة – الفوائد .

السؤال السادس حلل النص الآتي ثم أجب عن الأسئلة :

تبلغ مساحة سورية ( 185.182 كم<sup>2</sup> ) ، وقُدّر عدد السكان عام 2012م بحوالي 23 مليون نسمة ، بمعدل نمو طبيعي وقدره ( 27.5 ) بالألف سنوياً ، حيث ترتفع الكثافة في السهول وأودية الأنهار ، وتقل في البادية وتتوسط في المناطق الداخلية والشرقية ، وبسبب ظروف الحياة الصعبة هاجر السكان من مناطقهم ، منهم من هاجر من الريف إلى المدينة ومنهم من هاجر خارج الوطن إلى البلاد العربية أو الأجنبية ، بحثاً عن حياة أفضل ، فظهرت على أطراف المدن مشكلات عدة ، وقد أدت هجرة أصحاب الكفاءات لافتقار الدولة للخبرات التي هي بأمر الحاجة إليها .

- 1- ما المقصود بمعدل النمو الطبيعي ؟ .
- 2- استنتج أسباب ارتفاع الكثافة السكانية في أودية الأنهار وقلتها في البادية .
- 3- ما المشكلات المتوقعة للهجرة الداخلية من الريف إلى المدينة ؟ .
- 4- اقترح حلولاً مناسبة للحد من الهجرة بنوعها الداخلية والخارجية .

السؤال السابع : ارسم خريطة الجمهورية العربية السورية مسمياً الحدود البرية والبحرية وثبت عليها مع التسمية ما

- يأتي : 1- موقع محافظة دمشق . 2- موقع لاستخراج النفط في الجزيرة السورية . 3- موقع لزراعة الحمضيات .
- 4- موقع مدينة تدمر الأثرية .

- انتهت الأسئلة -



30 درجة

أولاً : التاريخ : (300 درجة)

السؤال الأول : أجب عن الأسئلة الآتية : (140 درجة )

1- اختر الإجابة الصحيحة مما يأتي وانقلها إلى ورقة إجابتك :

1- وضع لبنان في اتفاقية سان ريمو 1920م تحت الانتداب :	ب	الفرنسي
2- مؤسس الحزب الوطني في مصر :	ج	مصطفى كامل
3- تم طرد الاحتلال البرتغالي من مسقط عام 1698م على يد :	أ	دولة اليعاربة

30 درجة

يخسر التلميذ درجة السؤال إن كتب أكثر من إجابة أو أكثر من رمز / لكل إجابة صحيحة 10 درجات /

2- ضع كلمة ( صح ) أمام العبارة الصحيحة ، وكلمة ( غلط ) أمام العبارة المغلوطة لكل مما يأتي :

أ- ( صح ) اتبعت فرنسا في جزر القمر الإسلامية سياسة التمييز العنصري .

ب- ( غلط ) أسس المملكة العربية السعودية عبد العزيز بن سعود .

ج- ( غلط ) فرضت فرنسا الحماية على تونس في معاهدة باردو ( القصر السعيد ) عام 1881م .

/ لكل إجابة صحيحة 10 درجات /

20 درجة

3- رتب الأحداث التاريخية الآتية حسب تسلسلها الزمني بدءاً بالأقدم :

(1- جلاء الاحتلال الفرنسي عن سورية 2- إعلان النظام الجمهوري 3- عدوان 29 أيار 4- الإضراب الستيني )

إعلان النظام الجمهوري - الإضراب الستيني - عدوان 29 أيار - جلاء الاحتلال الفرنسي عن سورية

أو ( 2 - 4 - 3 - 1 )

/ لكل حدث في مكانه الصحيح 5 درجات /

60 درجة

4- علل ثلاثة مما يأتي فقط : ( لكل تعليل 20 درجة )

1- احتلال بريطانيا عدن عام 1839م .

1- خوفاً من توسع محمد علي باشا في شبه الجزيرة العربية 2- خوفاً على طريق الهند 3- لتكون قاعدة لاحتلال المناطق الداخلية .

/ يكتفى بفكرتين لكل فكرة 10 درجات /

2- قيام انقلاب 14 تموز في العراق 1958م .

1- رداً على ربط العراق بسياسة الأحلاف الاستعمارية 2 - تأمر حكامه على الوحدة السورية المصرية .

3 . لإهمال الشؤون الاجتماعية والاقتصادية .

/ يكتفى بفكرتين لكل فكرة 10 درجات /

3- ظهور المسألة الشرقية في القرن التاسع عشر .

1- نتيجة ضعف الدولة العثمانية 2- التنافس الاستعماري بين الدول الأوروبية .

/ لكل فكرة 10 درجات /

4- شنّ بريطانيا عدة حملات بحرية ضدّ القواسم في القرن التاسع عشر .

1- لسقوط الدولة السعودية الأولى الداعمة للقواسم 2- لإجبار القواسم السفن البريطانية على دفع الرسوم الجمركية لهم .

3- مقاومة القواسم لهم .

/ يكتفى بفكرتين لكل فكرة 10 درجات /

السؤال الثاني : أجب عن أربعة من الأسئلة الآتية : (120 درجة ) ( 30 درجة لكل سؤال )

1- عدد بنود معاهدة التحالف البريطانية الأردنية عام 1946م .

1- إلغاء الانتداب البريطاني . 2- إلغاء معاهدة عام 1928م . 3- السماح ببقاء بعض القوات البريطانية في الأردن .

4- تحويل الأردن إلى مملكة بزعامه الملك عبد الله .

/ يكتفى بثلاثة بنود لكل بند 10 درجات /

120

درجة

2- ما توصيات لجنة بيل لتقسيم فلسطين عام 1937م ؟  
تقسيم فلسطين إلى 1- دولة يهودية تشمل الأراضي الخصبة . 2- دولة عربية ما بقي من فلسطين . 3- الأماكن المقدسة والمنطقة الشمالية الغربية من خليج العقبة تحت الانتداب البريطاني . 4- تحديد الهجرة . 5- منع انتقال الأراضي من العرب إلى اليهود .

**/ يكتفى بثلاثة بنود لكل بند 10 درجات /**

3- عدد أسباب الاحتلال الفرنسي للجزائر عام 1830م .  
1- سوء الأوضاع الداخلية للجزائر 2- إهمال الدايات شؤون البلاد . 3- ضعف إمكانات الجزائر الدفاعية وتراجع قوتها البحرية 4- لجعل الجزائر قاعدة للإمبراطورية الفرنسية في إفريقيا . 5- للقضاء على التفوق البريطاني في البحر المتوسط 6- لإشغال الشعب الفرنسي بنصر خارجي . 7- السيطرة على موارد الجزائر الغنية .

**/ يكتفى بثلاثة بنود لكل بند 10 درجات /**

4- بين أبرز المشكلات التي واجهت سورية بعد الاستقلال .  
1- تقوية الجيش الوطني وتسليحه . 2- إصلاح نظام التعليم . 3- نكبة فلسطين وقيام الكيان الصهيوني 1948، والانقلابات العسكرية . 4- تعرض سورية للأحلاف الاستعمارية العسكرية 5- النهوض بالاقتصاد وال عمران .

**/ يكتفى بثلاثة بنود لكل بند 10 درجات /**

5- صنف سياسة الاستعمار الإيطالي في ليبيا من الناحيتين الاقتصادية والثقافية .  
اقتصادياً : 1. احتكرت الصناعة والتجارة - 2. استولت على الأراضي الخصبة ووزعتها على المهاجرين الإيطاليين ثقافياً : 1- حاربت اللغة العربية 2 - نشرت اللغة الإيطالية .

**/ لكل تصنيف صحيح 7.5 درجة /**

**السؤال الثالث : أجب عن أحد السؤالين الآتيين ( 40 درجة )**

أولاً-قارن في جدول بين مقررات المؤتمر السوري العام لعام 1919م، وتوصيات لجنة كينغ - كراين 1919م .

مقررات المؤتمر السوري العام عام 1919م	توصيات لجنة كينغ- كراين 1919م
1. قرر استقلال سورية ووحدتها بما فيها فلسطين ولبنان	1. قرر استقلال سورية والعراق والإبقاء على وحدتهما
2. رفض سايكس بيكو ووعده بلفور	2. رفض تحويل فلسطين لدولة يهودية
3. الاحتجاج على قرارات مؤتمر الصلح بوضع سورية والعراق تحت الانتداب	3. وضع سورية تحت الانتداب الأمريكي والعراق تحت الانتداب البريطاني
4. قبول مساعدة مالية من أمريكا وبريطانيا فقط	4. ....

(يكتفى بأربع أفكار في كل جانب لكل فكرة 5 درجات - يجب أن تتقابل كل فكرة بما يقابلها و عند عدم تقابل فكرة العمود الأول مع فكرة العمود الثاني لا ينال الطالب الدرجة /

ثانياً- عدد بنود معاهدة بين بريطانيا و مصر عام 1936 .

- 1- اعتراف بريطانيا باستقلال مصر استقلالاً تاماً
- 2- إبقاء عشرة آلاف جندي في منطقة القناة .
- 3- إلغاء الامتيازات الأجنبية في مصر .
- 4- العمل على قبولها في عصبة الأمم المتحدة .
- 5- استمرار وضع السودان تحت الحكم الثنائي المصري - البريطاني .

**يكتفى بأربع أفكار لكل فكرة عشر درجات**

**ثانياً : الجغرافية : ( 300 درجة )**

**السؤال الأول : اختر الإجابة الصحيحة لست من الأسئلة السبعة الآتية وانقلها إلى ورقة إجابتك :**

1- يصل مضيق باب السلام ( هرمز ) بين :			
د	الخليج العربي		
	وخليج عُمان		
2- المظهر التضريسي الأكثر انتشاراً في الوطن العربي هو :			
	ب	الهضاب	
3- يقع الإقليم المناخي المتوسطي الجاف في سورية في :			
	ج	البادية	
4- من مشكلات التربة البنية المصفرة :			
د	الجفاف		
5- الإقليم الجغرافي الذي يخترقه خط الاستواء من جنوبه هو :			
	ج	القرن الإفريقي	

6- مرور البضائع من دولة إلى دولة عبر دولة أخرى يسمّى :

ب تجارة العبور (ترانزيت)

7- يستخرج الملح الصخري في سورية من مناجم :

أ تبني

يخسر التلميذ درجة السؤال إن كتب أكثر من إجابة أو أكثر من رمز / لكل إجابة صحيحة 10 درجات /

السؤال الثاني : ضع كلمة ( صح ) أمام العبارة الصحيحة ، وكلمة ( غلط ) أمام العبارة المغلوطة لثلاث من العبارات الآتية :

- 1- ( غلط ) تعد بحيرة مسعدة من البحيرات الصناعية في الجولان السوري المحتل .
- 2- ( غلط ) تكلفة النفط في المغرب العربي أكبر منها في المشرق العربي لوجوده على أعماق أكبر .
- 3- ( صح ) تتميز التجارة الداخلية بين أقطار الوطن العربي بالضعف ومناقسة البضائع الأجنبية لها .
- 4- ( غلط ) تتطابق حدود الأقاليم الجغرافية للوطن العربي مع الحدود الحالية للبلدان العربية .

/ لكل إجابة صحيحة 10 درجات /

30-درجة

السؤال الثالث :فسّر ثلاثاً من العبارات الآتية تفسيراً علمياً دقيقاً . ( لكل تفسير 10 درجات )

أ- الأهمية الجغرافية لموقع إقليم بلاد الشام .

- 1- لكونه منفذاً لآسيا الغربية والوسطى على المتوسط 2- الجسر الذي يصل آسيا بإفريقيا. 3- تمر به أقصر الطرق البرية لأوروبا.

/ يكتفى بفكرتين لكل فكرة صحيحة 5 درجات/

ب - ارتفاع درجات الحرارة في معظم أرجاء الوطن العربي صيفاً .  
لتعتمد أشعة الشمس صيفاً على المنطقة الواقعة بين خط الاستواء ومدار السرطان.

/للإجابة الصحيحة 10 درجات/

ج - أهمية زراعة القطن في سورية .

- 1- يسهم في رفع قيمة الصادرات 2- يزود خزينة الدولة بالعملة الأجنبية 3- يُعد عصب الصناعة النسيجية 4- تُستخدم بقايا حلجه في صناعات أخرى ( زيوت وأعلاف )

/ يكتفى بفكرتين لكل فكرة صحيحة 5 درجات/

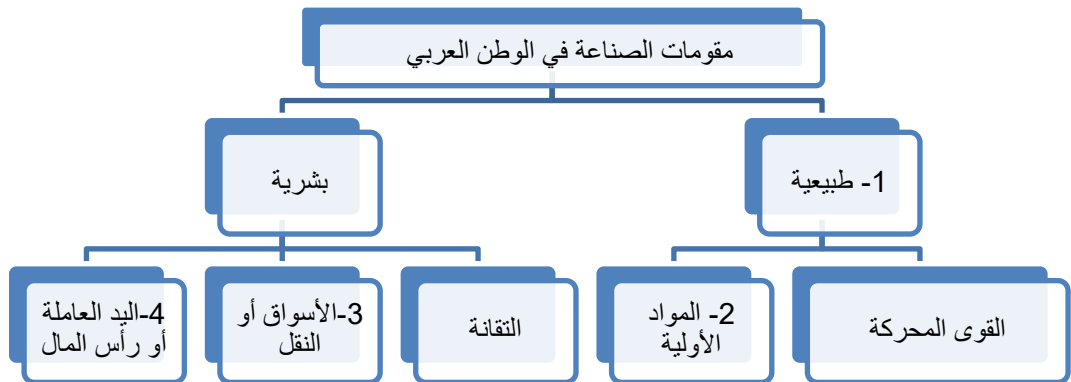
د-الاحتلال الإسرائيلي لهضبة الجولان السورية .

- 1-أغنى الأراضي السورية لوفرة مياهها (بحيرة طبريا و مسعدة ) 2-خصوبتها الزراعيّة

/ لكل فكرة صحيحة 5 درجات/

20-درجة

السؤال الرابع : أكمل خريطة المفاهيم الآتية بما يناسبها :



80-درجة

/ لكل إجابة صحيحة 5 درجات/

السؤال الخامس : أجب عن أربعة من الأسئلة الآتية : ( لكل سؤال 20 درجة )

- 1- ماذا يحيط بحوضه دمشق من الجهات الأربع ؟
- 1- يحدها من الغرب جبل الحرمون 2- ومن الشرق أطراف البادية 3- ومن الشمال جبلا قاسيون والقلمون 4- ومن الجنوب هضبة حوران البركانية .

/ لكل فكرة 5 درجات /

2- ما الجهود التي تبذلها الدول لتحديث إدارة المراعي ؟

1- استزراع مباشر لبذور الأعلاف في المراعي . 2- إصدار قوانين منع زراعة المراعي . 3- حفر الآبار وتوفير مياه الشرب للقطعان . 4- تثبيت الكثبان الرملية وزحف الصحراء . 5- مكافحة حرائق الأعشاب .

/ يكتفى بأربع أفكار لكل فكرة 5 درجات /

3 - حدد العامل المساهم في كل مما يأتي :

- أ- تركيز صناعة الألمنيوم في البحرين : الاعتماد على الكهرباء المنتجة من الغاز الطبيعي .  
ب- تربية الأبقار في مصر : لزراعة البرسيم

/ لكل إجابة صحيحة 10 درجات /

4- ما الآثار السلبية والإيجابية للسياحة ؟ .

- 1- الإيجابية : تنوع مصادر الدخل الوطني ، وبناء المحميات الطبيعية ، والتعريف بالثقافات الأخرى .  
2- السلبية : ارتفاع الأسعار وتدهور البيئة .

/ يكتفى بفكرة إيجابية واحدة وفكرة سلبية واحدة لكل منهما 10 درجات /

5- قارن بين سد الفرات والسد العالي من حيث : الموقع – كمية المياه المخزنة – الفوائد .

الموقع	سد الفرات	السد العالي
خلف بحيرة الرقة في منطقة الطبقة في الرقة بسورية (2.5 درجة)	على نهر النيل جنوبي أسوان في مصر (2.5 درجة)	
14 مليار م <sup>3</sup> مكعب (2.5 درجة)	130 مليار م <sup>3</sup> مكعب (2.5 درجة)	
ري المزروعات - توليد الطاقة الكهربائية - تأمين مياه الشرب للمنطقة الشرقية وحلب . ( 5 درجات - لكل فائدة 2.5 درجة - يكتفى بفائدتين )	ري المزروعات - توليد الطاقة الكهربائية بنحو 10 مليار ك و س . ( 5 درجات - لكل فائدة 2.5 درجة - يكتفى بفائدتين )	

السؤال السادس : حلل النص الآتي ثم أجب عن الأسئلة :

1- ما المقصود بمعدل النمو الطبيعي ؟. 5 درجات  
هو الفرق بين معدل الولادات والوفيات .

/ للإجابة الصحيحة 5 درجات /

2- استنتج أسباب ارتفاع الكثافة السكانية في أودية الأنهار وقلتها في البادية . 10 درجات  
أودية الأنهار : للتربة الخصبة وتوافر المياه .  
البادية : لقسوة المناخ - للحرارة المرتفعة - قلة الخدمات وفرص العمل .

/ 10 درجات لكل إجابة صحيحة 5 درجات يكتفى بفكرة واحدة لكل سبب /

3- ما المشكلات المتوقعة للهجرة الداخلية من الريف إلى المدينة ؟. 5 درجات  
1- تضخم المدن . 2- السكن العشوائي . 3- تلوث البيئة . 4- الضوضاء . 5- الضغط على الموارد .  
6- تراجع الزراعة في الريف .

/ يكتفى بفكرتين لكل منها 2.5 درجة /

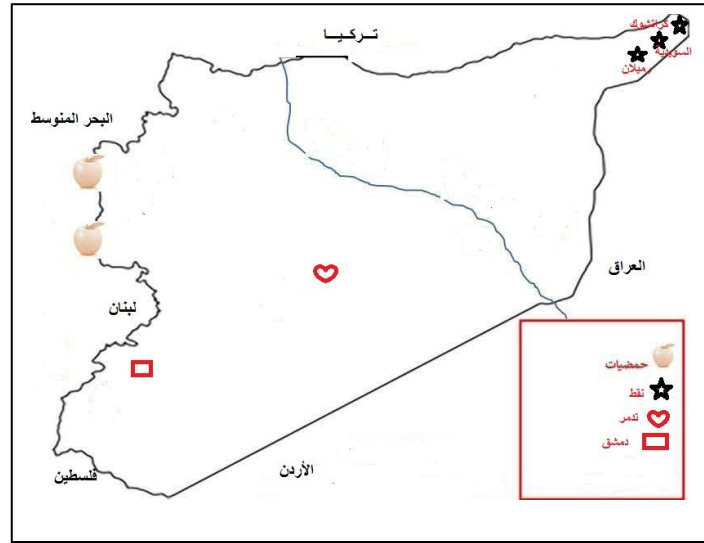
4- اقترح حلولاً مناسبة للحد من الهجرة بنوعها الداخلية والخارجية . 10 درجات  
تنمية الأرياف - توفير الخدمات للريف - توفير فرص عمل - تشجيع أصحاب الخبرات وتقديم الحوافز والتسهيلات لهم . توفير الأمن والأمان .

/ يكتفى بفكرتين لكل منها 5 درجات /

السؤال السابع: ارسم خريطة الجمهورية العربية السورية مسمياً الحدود البرية والبحرية وثبت عليها مع التسمية ما

50 درجة

- يأتي :  
1- موقع محافظة دمشق . 2- موقع لاستخراج النفط في الجزيرة السورية .  
3- موقع لزراعة الحمضيات . 4- موقع مدينة تدمر الأثرية .



18 / درجة لرسم الهيكل دون إفراط أو تفريط – درجتان لكل واحدة من الحدود البرية والبحرية = 12 د  
5 درجات لكل تسمية صحيحة /

- انتهى سلم التصحيح -



أولاً : التاريخ : (300 درجة)

السؤال الأول : أجب عن الأسئلة الآتية : (140 درجة )

30 درجة

1- اختر الإجابة الصحيحة مما يأتي وانقلها إلى ورقة إجابتك :

1- تم وضع الساحل السوري حسب اتفاقية (سايكس -بيكو) تحت النفوذ:					
أ	الإنكليزي	ب	الفرنسي	ج	الدولي
د	الإيطالي				
2- قاد الثورة الفلسطينية الكبرى عام 1936م المجاهد :					
أ	عمر البيطار	ب	فوزي القاوقجي	ج	عبد القادر الحسني
د	عز الدين القسام				
3- قاد المقاومة ضد بريطانيا في الخليج العربي :					
أ	دولة اليعاربة	ب	عرب القواسم	ج	آل الرشيد
د	أمير الكويت				

30 درجة

2- ضع كلمة ( صح ) أمام العبارة الصحيحة ، وكلمة ( غلط ) أمام العبارة المغلوطة لكل مما يأتي :

- أ- ( ) قاد الثورة الوطنية في الصومال عام 1899م ضد الاحتلال البريطاني محمد عبدالله حسن (الملا).  
ب- ( ) أعلن النظام الجمهوري في اليمن الجنوبي عام 1968م برئاسة علي عبد الله صالح..  
ج- ( ) من أسباب الحرب الأهلية الأولى في لبنان خوف الولايات المتحدة الأمريكية من امتداد الأفكار الوحديّة له.  
3- رتب الأحداث التاريخية الآتية حسب تسلسلها الزمني بدءاً بالأقدم :

20 درجة

- ( أ- العدوان الثلاثي على مصر . ب- ثورة عرابي . ج- الوحدة السوريّة المصريّة . د- تأميم قناة السويس . )  
4- علل ثلاثة مما يأتي فقط :

60 درجة

1- ضعف الحركة الوطنيّة في الأردن قبيل الحرب العالميّة الثانية.

2- قيام الثورة السوريّة المباركة في آذار عام 2011 م.

3- تمتع مدينة القدس بمكانة متميزة خلال الحكم العثماني .

4- التنافس الاستعماري على شبه الجزيرة العربيّة.

السؤال الثاني : أجب عن أربعة من الأسئلة الآتية : (120 درجة ) (30 درجة لكل سؤال )

120 درجة

1- عدّد بنود إنذار غورو 14 تموز 1920 م .

2- ما مضمون معاهدة عام 1930م بين العراق وبريطانيا ؟

3- ما أعمال الحبيب بورقيبة على الصّعيد الداخلي في تونس؟

4- بيّن مضمون الكتاب الأبيض الثالث الذي أصدرته بريطانيا عام 1939م.

5- ما المطالب التي تقدمت بها حكومة رياض الصلح للمندوب السامي الفرنسي في لبنان عام 1943م؟

السؤال الثالث : أجب عن أحد السؤالين الآتيين (40 درجة)

40 درجة

أولاً-وازن في جدول بين سياسة فرنسا الاستعماريّة في كلّ من سوريّة والجزائر من الناحيتين (الاقتصادية -الثقافيّة ) .

ثانياً-ما الخطوات التي اتبعتها بريطانيا لفرض سيطرتها على الخليج العربي ؟

ثانياً : الجغرافية : (300 درجة)

60 درجة

السؤال الأول : اختر الإجابة الصحيحة لست من الأسئلة الآتية ثم انقلها إلى ورقة إجابتك :

1- من الحدود الغربيّة للوطن العربي:					
أ	المحيط الأطلسيّ	ب	البحر المتوسط	ج	جبال زاغروس
د	المحيط الهندي				
2- يسود في سورية المناخ:					
أ	المتوسطي	ب	الاستوائي	ج	الصحراوي
د	القاري				
3- - يتركز صيد اللؤلؤ في الوطن العربيّ في مياه:					
أ	البحر الأحمر	ب	الخليج العربيّ	ج	المحيط الأطلسيّ
د	البحر المتوسط				
4- أعلى قمة جبليّة في سورية :					
أ	القلمون	ب	الحرمون	ج	العرب
د	اللاذقيّة				
5- الدولة العربيّة الأولى بإنتاج خام الحديد هي :					
أ	مصر	ب	المغرب	ج	موريتانيا
د	الجزائر				

6- من التحديات التي تواجه الصناعة العربية أنها :

أ	استهلاكية	ب	تعتمد على الزراعة	ج	ضعيفة الإدارة	د	منشأتها صغيرة
---	-----------	---	-------------------	---	---------------	---	---------------

7- من أنواع السياحة الترفيهية في الوطن العربي :

أ	التجوال في المناطق الصحراوية و الجبلية	ب	زيارة المحميات الطبيعية	ج	زيارة الينابيع المعدنية	د	زيارة الأماكن التاريخية
---	--	---	-------------------------	---	-------------------------	---	-------------------------

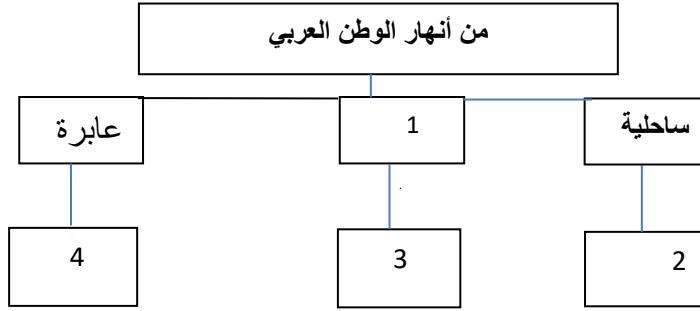
السؤال الثاني : ضع كلمة ( صح ) أمام العبارة الصحيحة ، وكلمة ( غلط ) أمام العبارة المغلوطة لثلاث من العبارات الآتية بعد نقلها إلى ورقة إجابتك :

- 1- ( ) يصل مضيق باب السلام (هرمز) بين الخليج العربي و خليج عُمان والمحيط الهندي .
- 2- ( ) أصغر أقاليم الوطن العربي من حيث المساحة إقليم العراق .
- 3- ( ) أهم الصناعات الكيماوية في سورية صناعة الإسمنت .
- 4- ( ) من فوائد المواصلات في سورية تنشيط السياحة .

السؤال الثالث :فسّر ثلاثاً من العبارات الآتية تفسيراً علمياً دقيقاً :

- أ- أهمية زراعة الزيتون في سورية .
- ب - تزايد الهجرة الداخلية (من الريف إلى المدينة) في الوطن العربي .
- ج- قلة الموانئ الطبيعية في الوطن العربي .
- د-عدم وصول مياه نهر بردى إلى منخفض العتبية .

السؤال الرابع : أكمل خريطة المفاهيم الآتية بما يناسبها :



السؤال الخامس :أجب عن أربعة من الأسئلة الآتية :

- 1- أين تقع حماة؟ وماهي أهميتها؟
- 2- ما أهم الأخطار التي تهدد الأمن المائي في سورية (دون شرح) ؟
- 3- صنّف مقومات الصناعة في الوطن العربي إلى طبيعية وبشرية .
- 4- انسب العواصم الآتية إلى الدول التي تقع فيها ( مقديشو - المنامة - نواكشوط - مسقط ) .
- 5- وازن بين سكان البدو وسكان الريف في الوطن العربي من حيث: الانتشار- نوع المسكن - النشاط الاقتصادي - سبب تناقص أعدادهم .

السؤال السادس : حلل النص الآتي ثم أجب عن الأسئلة :

تتميز الجبال الساحلية في سورية بأمطار غزيرة تزيد عن 700 ملم سنوياً، وقد أدى تناقص الغطاء النباتي وقطع أشجار الغابات لانجراف مائي للتربة في السفوح الجبلية مع العلم أن هذه التربة صالحة لزراعة الأشجار المثمرة والخضار، والمنطقة ذات طبيعة جميلة.

- 1- فسّر غزارة الأمطار في المنطقة الجبلية الساحلية .
- 2- ما نوع التربة في هذه المنطقة ؟
- 3- ما أهم مشكلات التربة في هذه المنطقة؟ ما الحل المناسب لها ؟
- 4- اقترح نشاطاً اقتصادياً في منطقة الجبال الساحلية.

السؤال السابع ارسم خريطة الجمهورية العربية السورية مسمياً الحدود البرية والبحرية وثبت عليها مع التسمية ما يأتي :

- 1- ميناء اللاذقية .
- 2- نهر الفرات .
- 3- موقع مدينة حلب .
- 4- حقل نفط التيم .

.....  
- انتهت الأسئلة -

30درجة

30درجة

20درجة

80درجة

30درجة

50درجة



أولاً : التاريخ : (300 درجة)

السؤال الأول : أجب عن الأسئلة الآتية : ( 140 درجة )

1- اختر الإجابة الصحيحة مما يأتي وانقلها إلى ورقة إجابتك :

1- تم وضع الساحل السوري حسب اتفاقية (سايكس -بيكو) تحت النفوذ:					
	ب	الفرنسي			
2- قاد الثورة الفلسطينية الكبرى عام 1936م المجاهد :					
	د	عز الدين القسام			
3- قاد المقاومة ضد بريطانيا في الخليج العربي :					
	ب	عرب القواسم			

يخسر التلميذ درجة السؤال إن كتب أكثر من إجابة أو أكثر من رمز / لكل إجابة صحيحة 10 درجات /

2- ضع كلمة ( صح ) أمام العبارة الصحيحة ، وكلمة ( غلط ) أمام العبارة المغلوطة لكل مما يأتي :

- أ- ( صح ) قاد الثورة الوطنية في الصومال عام 1899م ضد الاحتلال البريطاني محمد عبدالله حسن (الملا).  
ب- ( غلط ) أعلن النظام الجمهوري في اليمن الجنوبي عام 1968م برئاسة علي عبد الله صالح.  
ج- ( صح ) من أسباب الحرب الأهلية الأولى في لبنان خوف الولايات المتحدة الأمريكية من امتداد الأفكار الوجودية .

/ لكل إجابة صحيحة 10 درجات /

3- رتب الأحداث التاريخية الآتية حسب تسلسلها الزمني بدءاً بالأقدم :

- ( أ- العدوان الثلاثي على مصر . ب- ثورة عرابي . ج- الوحدة السورية المصرية . د- تأميم قناة السويس . )  
ب- ثورة عرابي د- تأميم قناة السويس أ- العدوان الثلاثي على مصر ج- الوحدة السورية المصرية

/ لكل حدث في مكانه الصحيح 5 درجات /

4- علل ثلاثة مما يأتي فقط : (لكل تعليل 20 درجة)

- 1- ضعف الحركة الوطنية في الأردن قبيل الحرب العالمية الثانية.  
1- بسبب اتفاق بريطانيا والأمير عبد الله بن الحسين على إصدار قانون النفي والإبعاد بحق كل من يشكل خطراً على الأمن و النظام 2- فرض رقابة شديدة على الصحف .

/ فكرتان لكل فكرة صحيحة 10 درجات /

2- قيام الثورة السورية المباركة في آذار عام 2011 م.

- 1- احتكار السلطة من قبل الأسرة الحاكمة وشمولية الحكم 2- امتهان كرامة الشعب السوري ومصادرة الحريات  
3- تردي الحالة الاقتصادية والمعيشية إلى درجة الفقر الشديد 4- الرقابة الشديدة على حرية الرأي والتعبير  
5- انطلاق الربيع العربي في بعض الدول العربية 6- السبب المباشر اعتقال مجموعة من أطفال مدينة درعا وسجنهم

/يكتفى بفكرتين لكل فكرة صحيحة 10 درجات /

3- تمتع مدينة القدس بمكانة متميزة خلال الحكم العثماني .

- 1- نظراً لأهميتها الدينية 2- لموقعها المهم

/ فكرتان لكل فكرة صحيحة 10 درجات /

4- التنافس الاستعماري على شبه الجزيرة العربية.

- 1- موقع شبه الجزيرة العربية على طريق التجارة العالمية إلى الهند 2- اكتشاف النفط بكميات كبيرة فيها .

/ فكرتان لكل فكرة صحيحة 10 درجات /

السؤال الثاني : أجب عن أربعة من الأسئلة الآتية : ( 120 درجة ) ( 30 درجة لكل سؤال )

1- عدّد بنود إنذار غورو 14 تموز 1920 م .

- 1- التصرف بسكة حديد رياق حلب 2- إلغاء التجنيد الإجباري 3- قبول الانتداب 4- قبول العملة الورقية السورية التي أصدرتها فرنسا 5- تأديب المجرمين الذين كانوا أشد أعداء لفرنسا "يقصد الثوار" .

/ يكتفى بثلاث أفكار لكل فكرة صحيحة 10 درجات /

2- ما مضمون معاهدة عام 1930م بين العراق وبريطانيا؟

- 1- اعتراف بريطانيا باستقلال العراق استقلالاً تاماً 2- يُقدّم العراق لبريطانيا تسهيلات في طرق المواصلات أثناء الحرب  
3- تنتشاور الدولتان في الشؤون الخارجية 4- تسمح لبريطانيا بإبقاء قاعدتين جويّتين (الحبانية والزبير) في العراق 5- مدة المعاهدة 25 عاماً.

/ يكتفى بثلاث أفكار لكل فكرة صحيحة 10 درجات /

30 درجة

30 درجة

20 درجة

60 درجة

120

درجة

- 3- ما أعمال الحبيب بورقيبة على الصعيد الداخلي في تونس؟  
 1- التخلّص من معارضيهِ  
 2- وضع برنامج للإصلاح الاقتصادي والاجتماعي  
 3- تأميم الأراضي الزراعيّة  
 4- أصدر قوانين لتحرير المرأة-5 إلغاء الملكية ( حكم البايات )  
 / يكتفى بثلاث أفكار لكل فكرة صحيحة 10 درجات /

4- بين مضمون الكتاب الأبيض الثالث الذي أصدرته بريطانيا عام 1939م.  
 1- تقام دولة فلسطينية مستقلة 2- يقسم فيها العرب واليهود السلطة الحكومية 3- ترتبط بريطانيا بعد عشر سنوات بمعاهدة 4- تبلغ الهجرة اليهودية 75 ألف نسمة في الأعوام الخمسة التالية

/ يكتفى بثلاث أفكار لكل فكرة صحيحة 10 درجات /

- 5- ما المطالب التي تقدمت بها حكومة رياض الصلح للمندوب السامي الفرنسي في لبنان عام 1943م؟  
 1- إنهاء الانتداب 2- تدعيم الاستقلال 3- تعديل الدستور 4- جعل اللغة العربية اللغة الرسمية.

/ يكتفى بثلاث أفكار لكل فكرة صحيحة 10 درجات /

40 درجة

**السؤال الثالث : أجب عن أحد السؤالين الآتيين ( 40 درجة )**

أولاً- وازن في جدول بين سياسة فرنسا الاستعمارية في كلّ من سورية والجزائر من الناحيتين (الاقتصادية -الثقافية).

السياسة الاقتصادية الفرنسية في الجزائر	السياسة الاقتصادية الفرنسية في سورية	الاقتصادية
-سيطرت على مقدرات البلاد ووظفتها لخدمة مصانعها. -صادرت الأراضي ومنحتها للمهاجرين الفرنسيين -جعلت الجزائر سوقاً لتصريف بضائعها. 10 درجات - يكتفى بفكرتين لكل فكرة 5 درجات	-عزلت الداخل السوري عن البحر لخنقه اقتصادياً. -نهبت خيرات البلاد ومواردها 10 درجات - يكتفى بفكرتين لكل فكرة 5 درجات	
-حاربت اللغة العربية -جعلت التعليم باللغة الفرنسية. 10 درجات - يكتفى بفكرتين لكل فكرة 5 درجات	-حاربت اللغة العربية -فرضت لغتها وثقافتها 10 درجات - يكتفى بفكرتين لكل فكرة 5 درجات	الثقافية

ثانياً- ما الخطوات التي اتبعتها بريطانيا لفرض سيطرتها على الخليج العربي ؟

- 1- عملت على إبعاد كلّ من يشكل خطراً على تجارتها و طرق مواصلاتها إلى الهند  
 2- بدأت تتخلص من البرتغاليين 3- منعت الفرنسيين من الاتصال مع سلطان مسقط ( سلطان بن أحمد )  
 4- سارعت إلى عقد معاهدة معه عام 1800م تعهد فيها بعدم التعامل مع فرنسا .

/ يكتفى بأربع أفكار لكل فكرة صحيحة 10 درجات /

**ثانياً : الجغرافية : ( 300 درجة )**

**السؤال الأول : اختر الإجابة الصحيحة لست من الأسئلة السبعة الآتية ثم انقلها إلى ورقة إجابتك :**

60 درجة

1- من الحدود الغربية للوطن العربي:	أ	المحيط الأطلسي
2- يسود في سورية المناخ:	أ	المتوسطي
3- يتركز صيد اللؤلؤ في الوطن العربي في مياه:	ب	الخليج العربي
4- أعلى قمة جبلية في سورية :	ب	الحرمون
5- الدولة العربية الأولى بإنتاج خام الحديد هي :	ج	موريتانيا
6- من التحديات التي تواجه الصناعة العربية أنها :	ج	ضعيفة الإدارة
7- من أنواع السياحة الترفيهية في الوطن العربي :	أ	التجوال في المناطق الصحراوية و الجبلية

يخسر التلميذ درجة السؤال إن كتب أكثر من إجابة أو أكثر من رمز / لكل إجابة صحيحة 10 درجات /

السؤال الثاني : ضع كلمة ( صح ) أمام العبارة الصحيحة ، وكلمة ( غلط ) أمام العبارة المغلوطة لثلاث من العبارات الآتية :

- 1- ( صح ) يصل مضيق باب السلام (هرمز) بين الخليج العربي وخليج عُمان والمحيط الهندي .
- 2- ( غلط ) أصغر أقاليم الوطن العربي من حيث المساحة إقليم العراق .
- 3- ( غلط ) أهم الصناعات الكيماوية في سورية صناعة الإسمنت .
- 4- ( صح ) من فوائد المواصلات في سورية تنشيط السياحة .

/ لكل إجابة صحيحة 10 درجات /

السؤال الثالث : فسّر ثلاثاً من العبارات الآتية تفسيراً علمياً دقيقاً . ( لكل تفسير 10 درجات )

- 1- أهمية زراعة الزيتون في سورية .
- 2- أهمية الغذائية والصناعية والتصديرية -نسبة الأراضي المزروعة بالزيتون 63 % من مساحة أراضي الأشجار المثمرة - يعتبر ثالث أكبر المحاصيل بعد القمح والقطن في سورية .

/ يكتفى بفكرتين لكل فكرة صحيحة 5 درجات /

- ب - تزايد الهجرة الداخلية (من الريف إلى المدينة) في الوطن العربي .
- 1- نتيجة للتطور العمراني والاقتصادي السريع الذي حصل في المدن في شتى مجالات الحياة -2 نتيجة لعجز الأرياف عن مواكبة نموها الطبيعي وتحسين أوضاعها من جهة أخرى.

/ فكرتان لكل فكرة صحيحة 5 درجات /

- ج- قلة الموانئ الطبيعية في الوطن العربي .

بسبب قلة الخلجان الصالحة لإقامة موانئ.

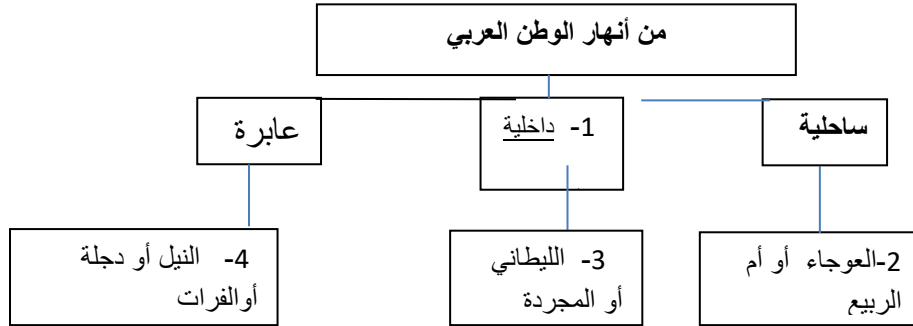
/ للإجابة الصحيحة 10 درجات /

- د- عدم وصول مياه نهر بردى إلى منخفض العتبية .

- 1- بسبب حفر أعداد كبيرة من الآبار في حوضه -2- الاعتماد الكبير عليه في مياه الشرب لمنطقة دمشق -3- في الوقت الذي تتضاعف فيه مصادر تغذيته بسبب موجات الجفاف المتعاقبة -4- مما أدى إلى انخفاض مستوى المياه الجوفية في حوضه .

/ فكرتان لكل فكرة صحيحة 5 درجات /

السؤال الرابع : أكمل خريطة المفاهيم الآتية بما يناسبها :



/ لكل إجابة صحيحة 5 درجات ويكتفى بذكر مثال واحد /

السؤال الخامس : أجب عن أربعة من الأسئلة الآتية : ( لكل سؤال 20 درجة )

- 1- أين تقع حماة؟ وماهي أهميتها؟

تقع: على نهر العاصي في منطقة زراعية. (10 درجات)

- أهميتها: 1- قامت فيها صناعة القضبان الحديدية -2- تُعد سوقاً مهمّة بين البدو والحضر.

(10 درجات لكل أهمية 5 درجات) .

- 2- ما أهم الأخطار التي تهدد الأمن المائي في سورية (دون شرح)؟

- 1- محدودية الموارد المائية -2- تزايد معدلات النمو السكاني -3- التوزيع الجغرافي غير المتوازن ما بين مصادر المياه المتوافرة ومناطق الاستهلاك. -4- عدم تطبيق تقنيات الري الحديثة.

/ أربع أفكار لكل فكرة صحيحة 5 درجات /

- 3- صنّف مقومات الصناعة في الوطن العربي إلى طبيعية وبشرية .

طبيعية : المواد الأولية - القوى المحركة .

بشرية : الأسواق - النقانة - النقل - اليد العاملة - رأس المال .

/ للطبيعية فكرتان لكل فكرة 5 درجات ومثلها للبشرية /

- 4- انسب العواصم الآتية إلى الدول التي تقع فيها ( مقديشو - المنامة - نواكشوط - مسقط ) .

- 1- مقديشو: الصومال 2- المنامة: البحرين 3- نواكشوط: موريتانيا 4- مسقط: سلطنة عُمان

/ لكل إجابة صحيحة 5 درجات /

5- وازن بين سكان البدو وسكان الريف في الوطن العربي من حيث: الانتشار- نوع المسكن - النشاط الاقتصادي - سبب تناقص أعدادهم .

سكان الريف	سكان البدو	
القرى والمزارع	البوادي والصحاري	الانتشار
بيوت من الطين أو الحجر أو الإسمنت	يسكنون الخيام	نوع المسكن
الزراعة وتربية الحيوان	الرعي وتربية الحيوانات	النشاط الاقتصادي
بسبب الهجرة من الأرياف إلى المدن	بسبب تشجيع الدول العربية لهم على الاستقرار والعمل بالزراعة إلى جانب الرعي أو في الأنشطة الاقتصادية الأخرى.	سبب تناقص الأعداد

/ لكل إجابة صحيحة 2.5 درجة/

**السؤال السادس : حلل النص الآتي ثم أجب عن الأسئلة :**

1- فسّر غزارة الأمطار في المنطقة الجبلية الساحلية . (10 درجات )  
لأنّ السفوح الجبلية الساحلية المواجهة للبحر تتعامد مع الرياح الغربية المحملة بالأمطار.

/ للإجابة الصحيحة 10 درجات/

2- ما نوع التربة في هذه المنطقة ؟ ( 5 درجات )  
تربة البحر المتوسط الحمراء.

/ للإجابة الصحيحة 5 درجات/

3 - ما أهم مشكلات التربة في هذه المنطقة؟ ما الحل المناسب لها ؟ (10 درجات )  
تعاني هذه التربة من مشكلة الانجراف المائي على السفوح الجبلية.

/ للإجابة الصحيحة 5 درجات/

الحل: إعادة تشجير المناطق الحراجية - أو نشر الوعي بضرورة حماية الغابات من الاحتطاب والحرائق  
/ أو أي إجابة صحيحة يكتفى بفكرة واحدة 5 درجات/

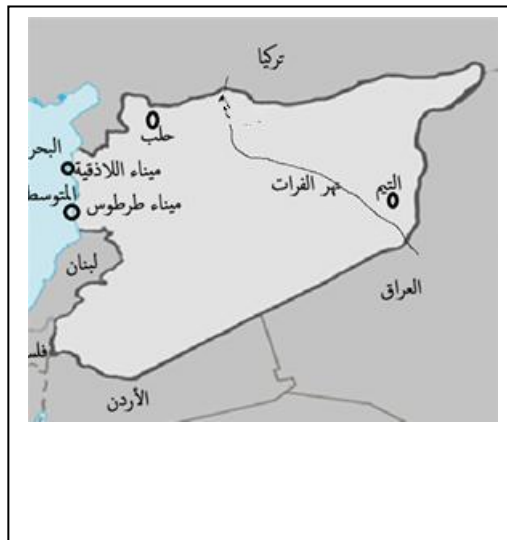
4- اقترح نشاطاً اقتصادياً في منطقة الجبال الساحلية. (5 درجات )  
أي مشروع سياحي (مطاعم - فنادق - منتجعات سياحية.....) أو مشاريع للتوسع بزراعة الأشجار المثمرة والخضار.  
أو أي مشروع مناسب يكتفى بنشاط اقتصادي واحد

/ للإجابة الصحيحة 5 درجات/

**السؤال السابع: ارسم خريطة الجمهورية العربية السورية مسمياً الحدود البرية والبحرية وثبت عليها مع التسمية ما**

**يأتي :**

1- ميناء اللاذقية . 2- نهر الفرات . 3- موقع مدينة حلب . 4- حقل نفط التيم .



/ 18 درجة لرسم الهيكل دون إفراط أو تقريط - درجتان لكل واحدة من الحدود البرية والبحرية = 12د  
5 درجات لكل تسمية صحيح

- انتهى سلم التصحيح -

30درجة

50درجة



أولاً : التاريخ : (300 درجة)

السؤال الأول : أجب عن الأسئلة الآتية : (140 درجة)

1- اختر الإجابة الصحيحة مما يأتي وانقلها إلى ورقة إجابتك :

1- عقد المؤتمر الصهيوني الأول 1897 في مدينة:						
أ	ميونخ	ب	برلين	ج	بال	د
2- قاد معركة التل الكبير ضد الاحتلال البريطاني :						
أ	محمد البارودي	ب	الخدوي توفيق	ج	أحمد عرابي	د
3- جعل الشيخ ماء العينين مركز ثورته الموريتانية في :						
أ	الصحراء الغربية	ب	جبال الأوراس	ج	جبال الريف	د

30 درجة

2- ضع كلمة ( صح ) أمام العبارة الصحيحة ، وكلمة ( غلط ) أمام العبارة المغلوطة لكل مما يأتي :

أ- ( ) قامت ثورة يافا 1921 بسبب اعتداء الصهاينة على حائط البراق .

ب- ( ) قاد الثورة السورية الكبرى 1925م إبراهيم هنانو .

ج- ( ) انطلقت ثورة محمد المقراني 1871 في الجزائر من جبال القبائل .

3- رتب الأحداث التاريخية الآتية حسب تسلسلها الزمني بدءاً بالأقدم :

20 درجة

(1- مؤتمر سان ريمو 2- اتفاقية سايكس بيكو 3- مؤتمر الصلح 4- وعد بلفور)

4- علل ثلاثة مما يأتي فقط :

1- قيام الإضراب الستيني في سورية 1936م .

2- اندلاع ثورة محمد بن عبد الله حسن (الملا) في الصومال .

3- قيام ثورة 1954م في تونس .

4- رغبة فرنسا في احتلال موريتانيا .

60 درجة

السؤال الثاني : أجب عن أربعة من الأسئلة الآتية : (120 درجة) (30 درجة لكل سؤال)

1- بين مضمون خطاب فيصل في مؤتمر الصلح في باريس 1919م.

2- اذكر بنود اتفاقية تشرشل عبد الله عام 1921 م .

3- ما مضمون اتفاقية الحكم الثنائي في السودان 1899؟

4- عدد بنود اتفاقية إيفيان 1962 في الجزائر .

5- ما أسباب ثورة شباط ٢٠١١م في ليبيا ؟

120 درجة

السؤال الثالث : أجب عن أحد السؤالين الآتيين : (40 درجة)

أولاً-قارن في جدول بين معاهدة 1930 بين العراق وبريطانيا ومعاهدة 1936 بين فرنسا و سورية .

ثانياً-أذكر توصيات لجنة أنغلو الأمريكية في فلسطين عام 1946.

ثانياً : الجغرافية : (300 درجة)

60 درجة

السؤال الأول : اختر الإجابة الصحيحة لست من الأسئلة السبعة الآتية ثم انقلها إلى ورقة إجابتك :

1- من أقاليم الوطن العربي في الجناح الآسيوي :						
أ	ليبيا	ب	القرن الإفريقي	ج	بلاد الشام	د
2- تعاني التربة البنية المصفرة المحيطة بأطراف البادية من :						
أ	ارتفاع نسبة الجبس	ب	تشقق التربة	ج	الانجراف	د
3- الرياح المحلية في بلاد الشام تسمى :						
أ	القبلي	ب	السموم	ج	الشرقي	د
4- مدينة فيها صناعة القضبان الحديدية :						
أ	حماة	ب	حلب	ج	اللاذقية	د
5- أهم الزراعات في الوطن العربي وأكثرها انتشاراً :						
أ	الأرز	ب	التبغ	ج	القمح	د

6- من المقومات الطبيعية للسياحة :

أ	الأماكن الدينية	ب	الغابات	ج	الأثار	د	الخدمات
---	-----------------	---	---------	---	--------	---	---------

7- تنتشر مصائد الإسفنج في الوطن العربي على سواحل :

أ	الخليج العربي	ب	البحر الأحمر	ج	المحيط الهندي	د	المتوسط
---	---------------	---	--------------	---	---------------	---	---------

السؤال الثاني : ضع كلمة ( صح ) أمام العبارة الصحيحة ، وكلمة ( غلط ) أمام العبارة المغلوطة لثلاث من العبارات الآتية :

30درجة

- 1- ( ) تصنف جبال الأطلس على أنها جبال انكسارية .
- 2- ( ) تنخفض الكثافة السكانية في السهول الساحلية للجزائر .
- 3- ( ) تمتد سورية في نطاق المنطقتين الحارة والمعتدلة الحارة .
- 4- ( ) من فوائد إقامة سدّ السنّ تأمين مياه الشرب و الري لمحافظة اللاذقية .

30درجة

السؤال الثالث :فسّر ثلاثاً من العبارات الآتية تفسيراً علمياً دقيقاً :

أ - أهمية إقليم وادي النيل.

ب - عدم كفاية الوطن العربي من إنتاجه للحبوب.

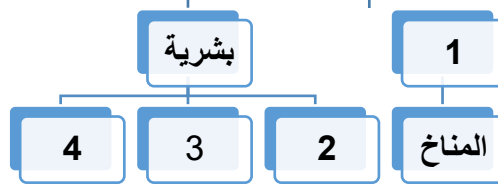
ج - أهمية معدن الرصاص .

د- عدم وصول مياه نهر الأعوج إلى منخفض الهيجانة في معظم السنوات .

20درجة

السؤال الرابع : أكمل خريطة المفاهيم الآتية بما يناسبها :

### مقومات الإنتاج الزراعي في الوطن العربي



80درجة

السؤال الخامس : أجب عن أربعة من الأسئلة الآتية :

1- عدد الصفات العامة لمناخ الوطن العربي .

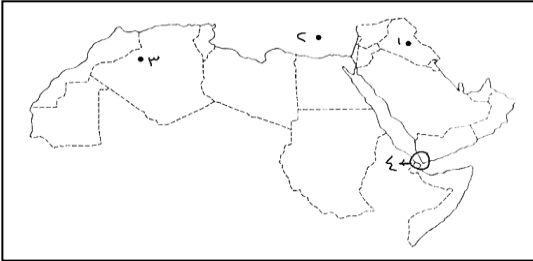
2- تحدث عن سهول الجزيرة والفرات : امتدادها ، أقسامها .

3- قارن بين السهول الساحلية والسهول الفيضية في الوطن العربي .  
من حيث : الموقع - آلية التشكل .

4- تحدث عن زراعة الزيتون في سورية.

5- من خلال الرسم المجاور للوطن العربي سمّ ما تمثله الأرقام :

(1- عاصمة هذه الدولة . 2- اسم هذا البحر . 3- حقل الغاز في هذا البلد . 4- اسم المضيق .)



30درجة

السؤال السادس : حلل النص الآتي ثم أجب عن الأسئلة :

للثروات الباطنية أهمية استراتيجية تمس الأمن القومي والاستقلال والرفاهية . وتقدر الدراسات أن الاحتياطي العربي من النفط يمثل نصف الاحتياطي العالمي وربعه من الغاز و تأتي دول الخليج في مقدمة الدول المنتجة للنفط وعلى رأسها المملكة العربية السعودية . وبسبب ميزات النفط العربي فإن تكلفة إنتاج برميل واحد من النفط العربي أقل بحوالي عشر مرات من تكلفة إنتاج برميل واحد من النفط الأمريكي .

1- انسب حقول النفط التالية إلى دولها العربية : الغوار - كركوك .

2- عدد ميزات النفط العربي بشكل عام .

3- ما أهمية الإيرادات العائدة للصادرات الضخمة من الثروات الباطنية ؟

4- ما التغيرات الجوهرية التي طرأت لصالح الغاز الطبيعي ؟

50درجة

السؤال السابع : ارسم خريطة الجمهورية العربية السورية مسمياً الحدود البرية والبحرية وثبت عليها مع التسمية ما يأتي :

- 1- موقع مدينة حمص . 2- منجم فوسفات خنيفس . 3- نهر الفرات . 4- حقل نفط السويدية .

- انتهت الأسئلة



أولاً : التاريخ : (300 درجة)

السؤال الأول : أجب عن الأسئلة الآتية : ( 140 درجة )

1- اختر الإجابة الصحيحة مما يأتي وانقلها إلى ورقة إجابتك :

1- عقد المؤتمر الصهيوني الأول 1897 في مدينة:

ج بال

2- قاد معركة التل الكبير ضد الاحتلال البريطاني :

ج أحمد عرابي

3- جعل الشيخ ماء العينين مركز ثورته الموريتانية في :

د هضبة الأدرار

يخسر التلميذ درجة السؤال إن كتب أكثر من إجابة أو أكثر من رمز / لكل إجابة صحيحة 10 درجات /

2- ضع كلمة ( صح ) أمام العبارة الصحيحة ، وكلمة ( غلط ) أمام العبارة المغلوطة لكل مما يأتي :

أ- ( غلط ) قامت ثورة يافا 1921 بسبب اعتداء الصهاينة على حائط البراق .

ب- ( غلط ) قاد الثورة السورية الكبرى 1925م إبراهيم هنانو .

ج- ( صح ) انطلقت ثورة محمد المقراني 1871 في الجزائر من جبال القبائل .

/ لكل إجابة صحيحة 10 درجات /

3- رتب الأحداث التاريخية الآتية حسب تسلسلها الزمني بدءاً بالأقدم :

(1- مؤتمر سان ريمو 2- اتفاقية سايكس بيكو 3- مؤتمر الصلح 4- وعد بلفور)

الحل : 2- اتفاقية سايكس بيكو 4- وعد بلفور 3- مؤتمر الصلح 1- مؤتمر سان ريمو

/ لكل حدث في مكانه الصحيح 5 درجات /

4- علل ثلاثة مما يأتي فقط : ( لكل تعليل 20 درجة )

1- قيام الإضراب الستيني في سورية 1936م .

1- بسبب تعطيل فرنسا لعمل المجلس النيابي والعودة للحكم المباشر . 2- رفض المجلس مشروع المعاهدة الفرنسية .

/ فكرتان لكل فكرة صحيحة 10 درجات /

2- اندلاع ثورة محمد بن عبد الله حسن (الملا) في الصومال .

1- بسبب سياسة بريطانيا التعسفية و 2- رغبة الصوماليين بالوحدة والتحرر .

/ فكرتان لكل فكرة صحيحة 10 درجات /

3- قيام ثورة 1954م في تونس .

1- رغبة الشعب التونسي بالحرية والاستقلال 2- لتأثرها بالثورة الجزائرية 3- لهزائم فرنسا في الهند الصينية (فيتنام)

/ يكتفى بفكرتين لكل فكرة صحيحة 10 درجات /

4- رغبة فرنسا في احتلال موريتانيا .

1- مهاجمة الموريتانيين لمراكزها التجارية على نهر السنغال 2- رغبتها في احتكار تجارة موريتانيا

3- القضاء على منافسة الإنكليز لتجارتها في المنطقة

/ يكتفى بفكرتين لكل فكرة صحيحة 10 درجات /

السؤال الثاني : أجب عن أربعة من الأسئلة الآتية : ( 120 درجة ) ( 30 درجة لكل سؤال )

1- بيّن مضمون خطاب فيصل في مؤتمر الصلح في باريس 1919م .

1- أكد حق العرب في الاستقلال 2- ندد باتفاقية سايكس بيكو ووعد بلفور 3- طالب بإرسال لجنة لاستطلاع رأي السكان

/ ثلاث أفكار لكل فكرة صحيحة 10 درجات /

2- اذكر بنود اتفاقية تشرشل عبد الله عام 1921 م .

1- إقامة إمارة شرق الأردن بزعامة عبد الله 2- تكون مستقلة إدارياً 3- أن تستشير المندوب البريطاني المقيم في

القدس 4- تساعد بريطانيا مادياً .

/ يكتفى بثلاث أفكار لكل فكرة صحيحة 10 درجات /

3- ما مضمون اتفاقية الحكم الثنائي في السودان 1899م؟

1- أنهت السيادة العثمانية على السودان 2- جعلت الحاكم العام بريطانياً ونائبه مصرياً 3- تتحمل الحكومة المصرية

نفقات المشاريع في السودان 4- يرفع العلم المصري والإنكليزي على الدوائر الحكومية .

/ يكتفى بثلاث أفكار لكل فكرة صحيحة 10 درجات /

30 درجة

30 درجة

20 درجة

60 درجة

120

درجة

4- عدد بنود اتفاقية إيفيان 1962 في الجزائر .

1- اعتراف فرنسا باستقلال الجزائر 2- إجراء انتخابات لتقرير مستقبل البلاد 3- منح فرنسا امتيازات عسكرية ومالية واقتصادية 4- تخيير المستوطنين الفرنسيين بين البقاء في الجزائر كمواطنين جزائريين أو معاملتهم كجالية أجنبية .

/ يكتفى بثلاث أفكار لكل فكرة صحيحة 10 درجات /

5- ما أسباب ثورة شباط 2011م في ليبيا؟

1- حكم القذافي البلاد حكماً استبدادياً وقمع الحريات وأودع الأحرار السجون 2- ارتكب مجازر عديدة بحق الشعب الليبي ( مجزرة سجن بو سليم ) 3- ما عاناه الشعب الليبي من مساوئ حكمه.

/ يكتفى بثلاث أفكار لكل فكرة صحيحة 10 درجات /

**السؤال الثالث : أجب عن أحد السؤالين الآتيين : ( 40 درجة )**

أولاً- قارن في جدول بين معاهدة 1930 بين العراق وبريطانيا ومعاهدة 1936 بين فرنسا و سورية .

40درجة

معاهدة 1936م في سورية	معاهدة 1930 في العراق
1 استقلال سورية التام	1- اعتراف بريطانيا باستقلال العراق
2- يسود بين سورية وفرنسا سلم و صداقة دائمان	2- .....
3-تتشاوران في الشؤون الخارجية	3- تتشاور الدولتان في الشؤون الخارجية
4-مسؤولية حفظ الأمن والنظام داخل سورية على مسؤولية الحكومة السورية	4- .....
5- تتساعد الدولتان في حالة الحرب	5- (تتساعدان في حالة الحرب)
6- تقدم سورية التسهيلات في أراضيها وطرق مواصلاتها لفرنسا	6-يقدم العراق لبريطانيا تسهيلات في طرق المواصلات أثناء الحرب
7- يحق لفرنسا إقامة قاعدتين جويتين	7-تسمح لبريطانيا إبقاء قاعدتين جويتين .. الحبانية والزيبر
8-مدة المعاهدة 25 عاماً	8- مدة المعاهدة 25 عاماً

(يكتفى بأربع أفكار في كل جانب لكل فكرة 5 درجات -يجب أن تتقابل كل فكرة بما يقابلها و عند عدم تقابل فكرة العمود الأول مع فكرة العمود الثاني لا ينال الطالب الدرجة /

ثانياً-أذكر توصيات لجنة أنغلو الأمريكية في فلسطين عام 1946 .

1-إبقاء فلسطين تحت الانتداب إلى أن توضع تحت وصاية الأمم المتحدة .  
2-إلغاء الكتاب الأبيض الثالث . 3-دخول مئة ألف يهودي إلى فلسطين . 4-رفع القيود عن انتقال الأراضي الفلسطينية للصهاينة .

/ أربع أفكار لكل فكرة صحيحة 10 درجات /

**ثانياً : الجغرافية : (300 درجة )**

60درجة

**السؤال الأول : اختر الإجابة الصحيحة لست من الأسئلة السبعة الآتية ثم نقلها إلى ورقة إجابتك :**

1- من أقاليم الوطن العربي في الجناح الآسيوي :					
		ج	بلاد الشام		
2- تعاني التربة البنية المصحرة المحيطة بأطراف البادية من :					
		د	الجفاف		
3- الرياح المحلية في بلاد الشام تسمى :					
		ب	السموم		
4- مدينة فيها صناعة القضبان الحديدية :					
				أ	حماة
5- أهم الزراعات في الوطن العربي وأكثرها انتشاراً :					
		ج	القمح		
6- من المقومات الطبيعية للسياحة :					
			الغابات		
7- تنتشر مصائد الإسفنج في الوطن العربي على سواحل :					
		د	المتوسط		

30درجة

يخسر التلميذ درجة السؤال إن كتب أكثر من إجابة أو أكثر من رمز / لكل إجابة صحيحة 10 درجات /

**السؤال الثاني : ضع كلمة ( صح ) أمام العبارة الصحيحة ، وكلمة ( غلط ) أمام العبارة المغلوطة لثلاث من العبارات الآتية :**

- 1- ( غلط ) تصنف جبال الأطلس على أنها جبال انكسارية .
- 2- ( غلط ) تنخفض الكثافة السكانية في السهول الساحلية للجزائر .

- 3- ( صح ) تمتد سورية في نطاق المنطقتين الحارة والمعتدلة الحارة .  
4- ( صح ) من فوائد إقامة سدّ السنّ تأمين مياه الشرب و الري لمحافظة اللاذقية .

/ لكل إجابة صحيحة 10 درجات /

**السؤال الثالث: فسّر ثلاثاً من العبارات الآتية تفسيراً علمياً دقيقاً . ( لكل تفسير 10 درجات )**

أ - أهمية إقليم وادي النيل.

- 1- يعدّ الجسر البري الذي يصل آسيا العربية بأفريقيا 2- ويصل إفريقيا الإستوائية بالبحر المتوسط 3- الحضارة المصرية القديمة والأهرامات تستقطب السياح 4- المرجان في البحر الأحمر جعلها ذا شأن في السياحة العالمية  
5- يعدّ الإقليم سلة الغذاء العربي 6- وجود قناة السويس أهم الممرات المائية في العالم.

/ يكتفى بفكرتين لكل فكرة صحيحة 5 درجات /

ب - عدم كفاية الوطن العربي من إنتاجه للحبوب.

- 1- التزايد الكبير والسريع لعدد السكان 2- تزايد هجرة سكان الريف الى المدن 3- تحول الأراضي التي تزرع بالحبوب لزراعة الأشجار المثمرة والخضراوات.

/ يكتفى بفكرتين لكل فكرة صحيحة 5 درجات /

ج - أهمية معدن الرصاص .

يدخل في صناعة البطاريات السائلة وأسلاك الكهرباء .

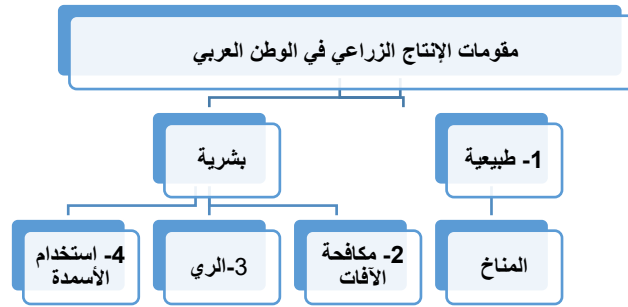
/ للإجابة الصحيحة 10 درجات /

د- عدم وصول مياه نهر الأعوج إلى منخفض الهيجانة في معظم السنوات .

1-ازدياد استثمار مياه النهر في الزراعة 2-شق الأقنية المائية .

/ لكل فكرة صحيحة 5 درجات /

**السؤال الرابع :أكمل خريطة المفاهيم الآتية بما يناسبها :**



/ لكل إجابة صحيحة 5 درجات /

**السؤال الخامس : أجب عن أربعة من الأسئلة الآتية : ( لكل سؤال 20 درجة )**

1- عدد الصفات العامة لمناخ الوطن العربي .

- 1- الجفاف 2- عدم انتظام كميات الأمطار ومواعيد هطولها 3- ارتفاع المدى الحراري في المناطق الداخلية  
4- انقسام السنة إلى فصلين واضحين هما الصيف والشتاء .

/ يكتفى بفكرتين لكل فكرة صحيحة 10 درجات /

2- تحدث عن سهول الجزيرة والفرات : امتدادها ، أقسامها .

تمتد : شمال شرق سورية بين نهري الفرات ودجلة

ويقسمها : جبلا عبد العزيز وسنجان إلى الجزيرة العليا في الشمال والجزيرة الدنيا في الجنوب ( بادية الجزيرة)

/للامتداد 10 درجات و للأقسام 10 درجات /

3- قارن بين السهول الساحلية والسهول الفيضية في الوطن العربي : من حيث : الموقع - آلية التشكل .

السهول	الموقع	آلية التشكل
السهول الساحلية	تلي السواحل	بفعل الحت والترسيب الشاطئي أو من لحقيات الأنهار والسيول
السهول الفيضية	على جوانب الأنهار	الترسيب النهري

/للكل إجابة صحيحة 5 درجات /

4- تحدث عن زراعة الزيتون في سورية.

- 1- تأتي في مقدمة الأشجار المثمرة لأهميتها الغذائية والصناعية والتصديرية 2- تسعى الدولة إلى التوسع في زراعته في كل المحافظات 3- نسبة الأرض المزروعة بالزيتون 63% من الأراضي المزروعة بالأشجار المثمرة .

30درجة

20درجة

80درجة

4- يعد محصول الزيتون ثالث أكبر محصول بعد القطن والقمح في سورية .

/ يكتفى بفكرتين لكل فكرة صحيحة 10 درجات /

5- من خلال الرسم المجاور للوطن العربي سم ما تمثله الأرقام .

(1) - عاصمة هذه الدولة . ( بغداد ) 2- اسم هذا البحر ( البحر المتوسط ) .

3- حقل الغاز في هذا البلد . ( حاسي الرمل ) 4- اسم المضيق ( باب المندب )

/ لكل إجابة صحيحة 5 درجات /

**السؤال السادس: حلل النص الآتي ثم أجب عن الأسئلة :**

1- أنسب حقول النفط التالية إلى دولها العربية : الغوار : السعودية - كركوك : العراق . (5 درجات)

/ لكل إجابة صحيحة 2.5 درجات /

2- عدد ميزات النفط العربي بشكل عام . (10 درجات)

جودة أنواعه - انخفاض نسبة الكبريت فيه - تنوع مشتقاته - قربه من موانئ التصدير ومصافي التكرير - توفر الأيدي العاملة الرخيصة - تكلفة إنتاجه أرخص بعشر أضعاف النفط الأمريكي.

/ يكتفى بفكرتين لكل فكرة صحيحة 5 درجات /

3- ما أهمية الإيرادات العائدة للصادرات الضخمة من الثروات الباطنية ؟ (5 درجات)

1- فوائدها شملت جوانب الحياة الاقتصادية والاجتماعية والسياسية 2- حرّكت قطاعات الاقتصاد وأمدتها بمواد الطاقة

3- لها أثر في تنمية قطاع الخدمات ( صحة - تعليم - سياحة ) 4- انعكست على رفاهية واستقرار المجتمع وأكسبته القوة

/ يكتفى بفكرتين لكل فكرة صحيحة 2.5 درجات /

4- ما التغيرات الجوهرية التي طرأت لصالح الغاز الطبيعي ؟ (10 درجات)

1- برونه كوقود أقل تلويثاً للبيئة لجانب قيمته الحراري 2- إمكانية استخدامه كمادة خام في الصناعة البترو كيميائية

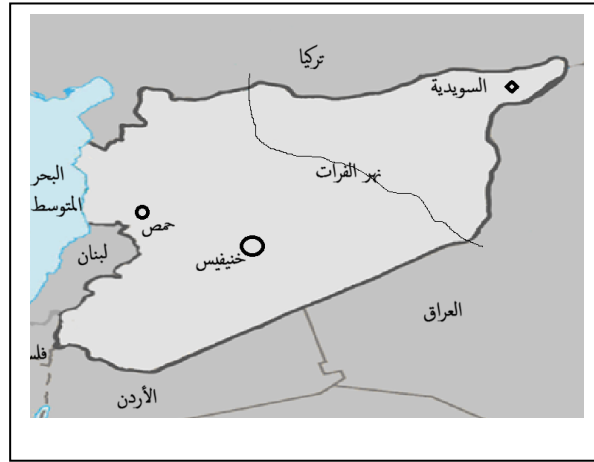
فضلاً عن استخدامه مصدراً للطاقة 3- نجاح نقله بعد تسييله بالناقلات المبردة لتصديره للخارج

/ يكتفى بفكرتين لكل فكرة صحيحة 5 درجات /

**السؤال السابع : ارسم خريطة الجمهورية العربية السورية مسمياً الحدود البرية والبحرية وثبت عليها مع التسمية ما**

**يأتي :**

1- موقع مدينة حمص . 2- منجم فوسفات خنيفس 3- نهر الفرات . 4- حقل نفط السويدية .



/ 18 درجة لرسم الهيكل دون إفراط أو تفريط - درجتان لكل واحدة من الحدود البرية والبحرية = 12د

5 درجات لكل تسمية صحيحة

- انتهى سلم التصحيح -



أولاً : التاريخ : (300 درجة)

السؤال الأول : أجب عن الأسئلة الآتية : (140 درجة)

1- اختر الإجابة الصحيحة مما يأتي وانقلها إلى ورقة إجابتك :

1- أعاد بناء الدولة السعودية الثانية :							
أ	محمد بن سلمان	ب	عبد العزيز بن سعود	ج	تركي بن عبد الله	د	محمد بن سعود
2- تم احتلال خليج عدن عام 1839 من قبل :							
أ	فرنسا	ب	بريطانيا	ج	إيطاليا	د	إسبانيا
3- وقعت جيبوتي تحت سيطرة النفوذ :							
أ	الفرنسي	ب	البريطاني	ج	الإيطالي	د	الأثيوبي

30 درجة

2- ضع كلمة ( صح ) أمام العبارة الصحيحة ، وكلمة ( غلط ) أمام العبارة المغلوطة لكل مما يأتي :

- أ- ( ) كانت حرب الخليج الأولى بين العراق والكويت عام 1990 م .  
ب- ( ) من توصيات لجنة كينغ كراين انتداب فرنسا على سورية .  
ج- ( ) زاد الملك طلال من صلاحيات البرلمان في الأردن .  
3- رتب الأحداث التاريخية الآتية حسب تسلسلها الزمني بدءاً بالأقدم :  
(1- مجزرة حماة . 2- قيام الجمهورية المتحدة . 3- الثورة السورية المباركة . 4- انقلاب 8 آذار . )  
4- علل ثلاثة مما يأتي فقط :

20 درجة

60 درجة

1- إعلان غورو تأسيس دولة لبنان الكبير 1920م .

2- تراجع النفوذ البريطاني في المملكة العربية السعودية بعد الحرب العالمية الثانية .

3- تدبير بريطانيا فتنة الإسكندرية .

4- فشل الجنرال ديغول في قمع الثورة الجزائرية الكبرى .

السؤال الثاني : أجب عن أربعة من الأسئلة الآتية : (120 درجة) (30 درجة لكل سؤال)

1- عدد أعمال الحكومة العربية في عهد فيصل (1918 - 1920) .

2- قارن بين توصيات مشروع الأكرية و مشروع الأقلية في الأمم المتحدة عام 1947م .

3- اذكر بنود اتفاقية الحكم الثنائي 1899م .

4- ما مضمون المعاهدة التي وقعت بريطانيا مع أمراء ومشايخ الخليج عام 1820م ؟

5- ما أعمال المندوب اليهودي هربرت صموئيل الذي عينته بريطانيا لتنفيذ وعد بلفور .

120 درجة

40 درجة

السؤال الثالث : أجب عن أحد السؤالين الآتين : (40 درجة)

أولاً-قارن في جدول بين سياسة فرنسا الاستعمارية في المغرب وسياستها في تونس من الناحيتين : ( الاقتصادية - الثقافية ) .

ثانياً-ما قرارات مؤتمر بالتيمور الصهيوني عام 1942؟

ثانياً : الجغرافية : (300 درجة)

السؤال الأول : اختر الإجابة الصحيحة لست من الأسئلة السبعة الآتية ثم انقلها إلى ورقة إجابتك :

1- تهب رياح الخماسين في الوطن العربي على :							
أ	المغرب	ب	مصر	ج	بلاد الشام	د	ليبيا
2- يمتد الإقليم المداري شمال خط الاستواء بين درجتين عرض :							
أ	( 8 - 15 درجة )	ب	( 8 - 12 درجة )	ج	( 5-14 درجة )	د	( 8-23 درجة )
3- منجم خوربيقة للفوسفات يوجد في :							
أ	سورية	ب	المغرب	ج	تونس	د	الأردن
4- تعرف بمدينة النواير :							
أ	اللاذقية	ب	طرطوس	ج	حماة	د	حمص
5- من مصادر المياه السطحية :							
أ	الآبار	ب	الينابيع	ج	الأنهار	د	الأمطار

يتبع في الصفحة الثانية

6- تحتل المرتبة الأولى في إنتاج الحبوب في الوطن العربي :

أ المغرب ب مصر ج بلاد الشام د ليبيا

7- يستخرج الغاز الجاف في سورية من حقل :

أ جبسة ب السويدية ج العشارنة د الشرقية

السؤال الثاني : ضع كلمة ( صح ) أمام العبارة الصحيحة ، وكلمة ( غلط ) أمام العبارة المغلوطة لثلاث من العبارات الآتية بعد نقلها إلى ورقة إجابتك :

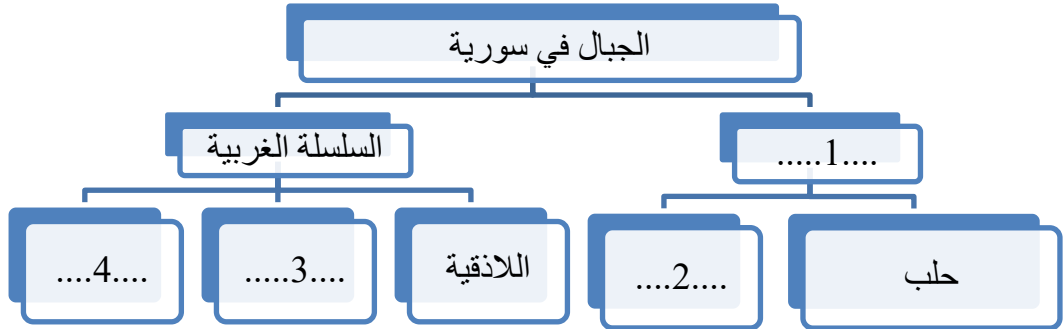
- 1- ( ) تنخفض الكثافة السكانية في البيئة الصحراوية باستثناء الواحات .
- 2- ( ) يقصد بـ ( التركيب النوعي ) تقسيم السكان بحسب الأعمار .
- 3- ( ) ينقسم الوطن العربي إلى سبعة أقاليم مناخية .
- 4- ( ) يعد الوطن العربي المصدر الثاني في العالم للأقطان طويلة التيلة .

السؤال الثالث : فسر ثلاثاً من العبارات الآتية تفسيراً علمياً دقيقاً :

- أ- انخفاض أعداد الماعز بشكل عام في سورية .
- ب- زيادة نسبة التلوث في المدن العربية .
- ج - أهمية النقل في الوطن العربي .

د- انتشار مشكلة تملح التربة في المناطق الداخلية في سوريا ؟

السؤال الرابع : أكمل الخارطة المفاهيمية الآتية :



السؤال الخامس : أجب عن أربعة من الأسئلة الخمسة الآتية :

- 1- عدد المشكلات التي تعاني منها الزراعة في سورية .
- 2- ما المقصود بالمفاهيم الآتية : أ - هجرة العقول ب - التعدين ؟
- 3- بين أهمية إقليم المغرب العربي .
- 4- قارن بين التربة المدارية والتربة الحقيّة في الوطن العربي من حيث : ( الانتشار - المشكلات وأسبابها ) .
- 5- تحدث عن هضبة حوران البركانية من حيث ( الامتداد - الأقسام ) .

السؤال السادس : حلل النص الآتي ثم أجب عن الأسئلة :

تحتل الصناعة المرتبة الثانية في الوطن العربي بعد الزراعة ، ولها أثرٌ كبير في رفع مستوى المعيشة وقد عرف العرب منذ القديم الصناعات اليدوية التي تعتمد على الآلات البسيطة . ومن أشهرها صناعة السجاد والزجاج ، أما الصناعات الحديثة ، فتعتمد على الآلات والتقنيات الحديثة .

- 1- عرف الصناعة .
- 2- فسر: تحظى الصناعات التقليدية ( اليدوية ) بالرعاية .
- 3- تواجه الصناعات العربية عدة تحديات ، وضّح ذلك .
- 4- برأيك ما المقومات ( الطبيعية و البشرية ) التي تتطلبها الصناعات النسيجية في سورية ( اذكر اثنين فقط لكل نوع )؟

السؤال السابع : ارسم خريطة الجمهورية العربية السورية مسمياً الحدود البرية والبحرية وثبت عليها مع التسمية ما يأتي :

- 1- موقع مدينة درعا . 2- مجرى نهر بردى . 3- حقل رميلان . 4- حقل خنيفيس .

.....

- انتهت الأسئلة -

30درجة

30درجة

20درجة

80درجة

30درجة

50د



أولاً : التاريخ : (300 درجة)

السؤال الأول : أجب عن الأسئلة الآتية : ( 140 درجة )

1- اختر الإجابة الصحيحة مما يأتي وانقلها إلى ورقة إجابتك :

1- أعاد بناء الدولة السعودية الثانية :				
	ج	تركي بن عبد الله		
2- تم احتلال خليج عدن عام 1839 من قبل :				
	ب	بريطانيا		
3- وقعت جيبوتي تحت سيطرة النفوذ :				
	أ	الفرنسي		

يخسر التلميذ درجة السؤال إن كتب أكثر من إجابة أو أكثر من رمز / لكل إجابة صحيحة 10 درجات /

2- ضع كلمة ( صح ) أمام العبارة الصحيحة ، وكلمة ( غلط ) أمام العبارة المغلوطة لكل مما يأتي :

- أ- ( غلط ) كانت حرب الخليج الأولى بين العراق والكويت عام 1990 م .  
ب- ( غلط ) من توصيات لجنة كينغ كراين انتداب فرنسا على سورية .  
ج- ( صح ) زاد الملك طلال من صلاحيات البرلمان في الأردن .

/ لكل إجابة صحيحة 10 درجات /

3- رتب الأحداث التاريخية الآتية حسب تسلسلها الزمني بدءاً بالأقدم :

- (1- مجزرة حماة . 2- قيام الجمهورية المتحدة . 3- الثورة السورية المباركة . 4- انقلاب 8 آذار . )  
2- قيام الجمهورية المتحدة . 4- انقلاب 8 آذار . 1- مجزرة حماة . 3- الثورة السورية المباركة

/ لكل حدث في مكانه الصحيح 5 درجات /

4- علل ثلاثة مما يأتي فقط : ( لكل تعليل 20 درجة )

- 1- إعلان غورو تأسيس دولة لبنان الكبير 1920 م .  
1-رداً على مقررات المؤتمر السوري 1920م الذي أكد وحدة سورية الطبيعية 2- عملاً بمقررات مؤتمر سان ريمو .  
/ فكرتان لكل فكرة صحيحة 10 درجات /  
2- تراجع النفوذ البريطاني في المملكة العربية السعودية بعد الحرب العالمية الثانية .  
1- نتيجة الخلاف على مناطق النفط وقضية فلسطين وحلف بغداد 2- ظهور النفوذ الأمريكي سياسياً واقتصادياً .  
/ فكرتان لكل فكرة صحيحة 10 درجات /

3- تدبير بريطانيا فتنة الإسكندرية .

- 1- تمهيداً للاحتلال 2- لتغطية تدخلها في شؤون مصر 3- لتثبيت أن أحمد عرابي غير قادر على ضبط الأمن  
/ يكتفى بفكرتين لكل فكرة صحيحة 10 درجات /

4- فشل الجنرال ديغول في قمع الثورة الجزائرية الكبرى .

- 1- صمود الثوار 2- الدعم العربي وخاصة من سورية ومصر .

/ فكرتان لكل فكرة صحيحة 10 درجات /

السؤال الثاني : أجب عن أربعة من الأسئلة الآتية : ( 120 درجة ) ( 30 درجة لكل سؤال )

1- عدد أعمال الحكومة العربية في عهد فيصل ( 1918 – 1920 ) .

- 1- تأسيس مجلس للشورى 2- تنظيم القضاء 3- إصدار جريدة رسمية (العاصمة) 4- إنشاء المجمع العلمي العربي  
5- جعل اللغة العربية لغة الإدارة والمدارس .

/ ثلاث أفكار لكل فكرة صحيحة 10 درجات /

2- قارن بين توصيات مشروع الأكرثية و مشروع الأقلية في الأمم المتحدة عام 1947 م .

- مشروع الأكرثية : أوصى بتقسيم فلسطين إلى دولتين عربية ويهودية . - قيام وحدة اقتصادية بينهما .  
مشروع الأقلية : قيام دولة اتحادية مستقلة عربية يهودية عاصمتها القدس .

/ ثلاث أفكار لكل فكرة صحيحة 10 درجات /

3- اذكر بنود اتفاقية الحكم الثنائي 1899م.

- 1- إنهاء السيادة العثمانية على السودان 2- يكون الحاكم العام بريطانياً ونائبه مصرياً 3- تتحمل الحكومة المصرية نفقات المشاريع الإنتاجية في السودان 4- يرفع العلمان المصري والإنكليزي على الدوائر الحكومية .

/ يكتفى بثلاث أفكار لكل فكرة صحيحة 10 درجات /

30 درجة

30 درجة

20 درجة

60 درجة

120

درجة

4- ما مضمون المعاهدة التي وقعتها بريطانيا مع أمراء ومشايخ الخليج عام 1820م ؟  
 1- عدم القيام بعمليات الجهاد البحري وعدم إعاقة الملاحة البريطانية 2- عدم الإتجار بالسلح أو إدخاله إلى الخليج العربي 3- عدم التنازل عن أي قطعة أرض من الخليج العربي دون موافقة بريطانيا .  
 / يكتفى بثلاث أفكار لكل فكرة صحيحة 10 درجات /

5- ما أعمال المندوب اليهودي هربرت صموئيل الذي عينته بريطانيا لتنفيذ وعد بلفور ؟  
 1- السماح لليهود بالهجرة وامتلاك الأراضي 2- الاعتراف بالوكالة اليهودية 3- جعل اللغة العبرية لغة رسمية  
 4- إقامة المدارس والجامعات العبرية 5- تسليح الصهاينة وإقامة المنظمات الإرهابية ( الهاغانا ) لتهجير العرب .  
 / يكتفى بثلاث أفكار لكل فكرة صحيحة 10 درجات /

### السؤال الثالث : أجب عن أحد السؤالين الآتيين : ( 40 درجة )

أولاً قارن في جدول بين سياسة فرنسا الاستعمارية في المغرب وسياستها في تونس من الناحيتين : ( الاقتصادية – الثقافية )

سياسة فرنسا الاستعمارية في المغرب	سياسة فرنسا في تونس
الاقتصادية	1- سيطرت على الأراضي الخصبة 2- ----- 3- -----
الثقافية	1- حاربت اللغة العربية 2- فرضت لغتها 3- أهملت التعليم
10 (درجات) – يكتفى بفكرة واحدة	1- صادرت الأراضي من التونسيين ومنحتها للمهاجرين الفرنسيين 2- استولت شركاتها على الأسواق التونسية 3- أهملت الصناعة 10 (درجات) – يكتفى بفكرة واحدة
10 (درجات) – يكتفى بفكرة واحدة	1- حاربت اللغة العربية 2- نشرت لغتها 3- ----- 10 (درجات) – يكتفى بفكرة واحدة

ثانياً- ما قرارات مؤتمر بالتميمور الصهيوني عام 1942؟

1- لا بديل لليهود سوى إنشاء وطن قومي في فلسطين 2- رفض الكتاب الأبيض الثالث . 3- إنشاء جيش يهودي  
 4- إطلاق الهجرة اليهودية . 5- جعل فلسطين تحت سيطرة الوكالة اليهودية .  
 / يكتفى بأربع أفكار لكل فكرة صحيحة 10 درجات /

### ثانياً : الجغرافية : ( 300 درجة )

السؤال الأول : اختر الإجابة الصحيحة مما يأتي وانقلها إلى ورقة إجابتك :

1- تهب رياح الخماسين في الوطن العربي على :	ب	مصر
2- يمتد الإقليم المداري شمال خط الاستواء بين درجتي عرض :	أ	( 8 – 15 درجة )
3- منجم خوربيقة للفوسفات يوجد في :	ب	المغرب
4- تعرف بمدينة النواير :	ج	حماة
5- من مصادر المياه السطحية :	ج	الأنهار
6- تحتل المرتبة الأولى في إنتاج الحبوب في الوطن العربي :	ب	مصر

- يستخرج الغاز الجاف في سوريا من حقل :

أ	جبسة
---	------

يخسر التلميذ درجة السؤال إن كتب أكثر من إجابة أو أكثر من رمز / لكل إجابة صحيحة 10 درجات /

السؤال الثاني : ضع كلمة ( صح ) أمام العبارة الصحيحة ، وكلمة ( غلط ) أمام العبارة المغلوطة لثلاث من العبارات الآتية :

1- ( صح ) تنخفض الكثافة السكانية في البيئة الصحراوية باستثناء الواحات .

40 درجة

60 درجة

30 درجة

- 2- ( غلط ) يقصد بـ ( التركيب النوعي ) تقسيم السكان بحسب الأعمار .  
 3- ( غلط ) ينقسم الوطن العربي إلى سبعة أقاليم مناخية .  
 4- ( غلط ) يعد الوطن العربي المصدر الثاني في العالم للأقطان طويلة التيلة .

30 درجة

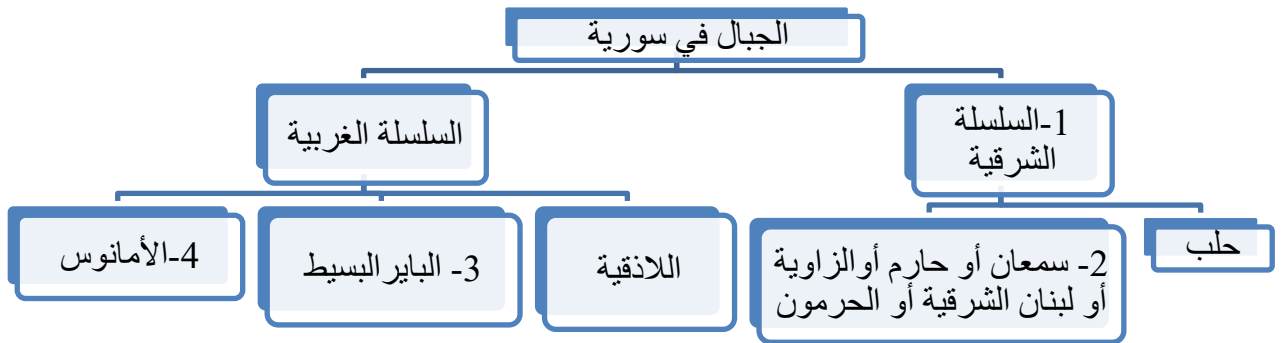
/ لكل إجابة صحيحة 10 درجات /

**السؤال الثالث : فسّر ثلاثاً من العبارات الآتية تفسيراً علمياً دقيقاً . ( لكل تفسير 10 درجات )**

- أ- انخفاض أعداد الماعز بشكل عام في سورية .  
 1- بسبب السياسة المتبعة لحماية المناطق الحراجية الجبلية 2- انخفاض الطلب على لحومها .  
 / فكرتان لكل فكرة صحيحة 5 درجات /  
 ب- زيادة نسبة التلوث في المدن العربية .  
 1- بسبب الازدحام الشديد 2- الاستثمار العشوائي للموارد 3- تزايد نسبة الغازات والنفايات 4- وسائل النقل .  
 / يكتفى بفكرتين لكل فكرة صحيحة 5 درجات /  
 ج - أهمية النقل في الوطن العربي .  
 1- لأهميته في التبادل الحضاري 2- لأهميته في النهضة الاقتصادية والعمرانية  
 3- توحيد أجزاء الدولة الواحدة 4- ربط بلدان الوطن العربي ببعضها وبالعالم الخارجي .  
 / يكتفى بفكرتين لكل فكرة صحيحة 5 درجات /  
 د-فسر انتشار مشكلة تملح التربة في المناطق الداخلية في سورية .  
 1- الإدارة الخاطئة للأراضي الزراعية 2- الري بالغمر في المناطق الداخلية الحارة و الجافة 3- التبخر المرتفع.  
 / يكتفى بفكرتين لكل فكرة صحيحة 5 درجات /

20 درجة

**السؤال الرابع : أكمل خريطة المفاهيم الآتية بما يناسبها :**



/ لكل إجابة صحيحة 5 درجات - يكتفى بمثال واحد /

80 درجة

**السؤال الخامس أجب عن أربعة من الأسئلة الآتية : ( لكل سؤال 20 درجة )**

- 1- عدد المشكلات التي تعاني منها الزراعة في سورية .  
 1- انخفاض نسبة العاملين في الزراعة لتوجه اليد العاملة لقطاعات أخرى 2- محدودية الموارد المائية  
 3 - معظمها زراعة بعلية ( لا تتجاوز الأراضي المروية 29 % ) 4- تملح التربة نتيجة سوء التصريف مثل الغاب ووادي الفرات 5 - تدهور التربة 6- الجفاف 7- قصور السياسات الزراعية مما يؤدي إلى تسويق بعض المنتجات بأسعار لا تتناسب مع تكاليف إنتاجها .  
 / يكتفى بأربع أفكار و لكل فكرة صحيحة 5 درجات /  
 2- ما المقصود بالمفاهيم الآتية : أ - هجرة العقول ب - التعدين ؟  
 - هجرة العقول : هجرة أصحاب الكفاءات والمهارات الجامعية العلمية والتقنية .  
 - التعدين : استخراج الثروات الباطنية من باطن الأرض .  
 / لكل مفهوم صحيح 10 درجات /  
 3- بين أهمية إقليم المغرب العربي .  
 1- يتحكم بمضيق جبل طارق 2- يمتلك أراضي زراعية خصبة 3- المركز الأول في صيد الأسماك و الإسفنج  
 4- وجود ثروات باطنية حديد و نفط و فوسفات .  
 / يكتفى بفكرتين لكل فكرة صحيحة 10 درجات /

4- قارن بين التربة المدارية والتربة اللحيية في الوطن العربي من حيث : ( الانتشار – المشكلات وأسبابها )

الانتشار	المشكلات وأسبابها
وسط السودان أوفي اليمن أو عمان (5 درجات – يكتفى بمكان واحد)	غسيل التربة (2.5 درجة) بسبب غزارة الأمطار فتقل خصوبتها (2.5 درجة) يكتفى بمشكلة واحدة مع سببها .
في أودية الأنهار أودلتا النيل أو المنخفضات (5 درجات – يكتفى بمكان واحد)	ترتفع فيها نسبة الأملاح (2.5) بسبب سوء التصريف (2.5) - يكتفى بمشكلة واحدة مع سببها.

5- تحدث عن هضبة حوران البركانية من حيث ( الامتداد – الأقسام ) .

الامتداد : تمتد بين حوضه دمشق و الحرمون شمالاً (4 درجات) و وادي الأردن غرباً (درجتان) وتندمج مع صحراء الحماد شرقاً ( درجتان).

الأقسام : قسمها الشرقي يضم جبل العرب (4 درجات) - قسمها الأوسط : يضم سهل حوران (4 درجات) - قسمها الغربي يضم هضبة الجولان (4 درجات) .

**السؤال السادس حل النص الآتي ثم أجب عن الأسئلة :**

تحتل الصناعة المرتبة الثانية في الوطن العربي بعد الزراعة , ولها أثر كبير في رفع مستوى المعيشة وقد عرف العرب منذ القديم الصناعات اليدوية التي تعتمد على الآلات البسيطة . ومن أشهرها صناعة السجاد والزجاج , أما الصناعات الحديثة , فتعتمد على الآلات والتقنيات الحديثة .

1- عرف الصناعة . (5 درجات)

هي العمليات التي يتم من خلالها تحويل المادة من حالتها الأولية إلى مادة أكثر نفعاً للإنسان.

/ للإجابة الصحيحة 5 درجات /

2- فسر: تحظى الصناعات التقليدية ( اليدوية ) بالرعاية . (5 درجات)

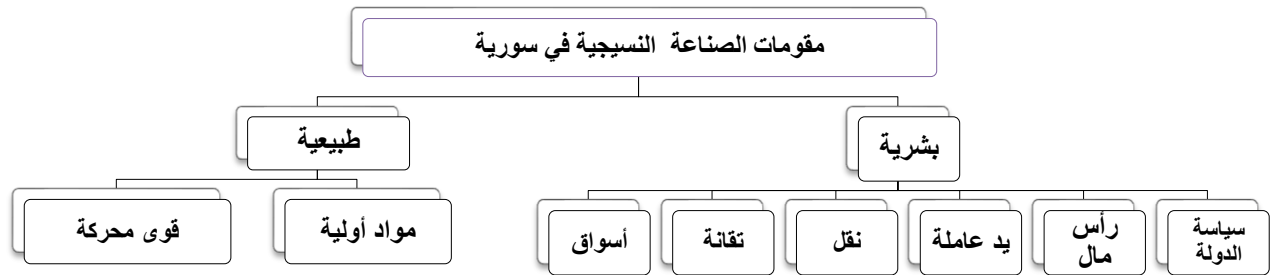
لأهميتها السياحية (2.5 درجة) والتعريف بالتراث الحضاري (2.5 درجة)

3- تواجه الصناعات العربية عدة تحديات , وضّح ذلك . (10 درجات)

1- ضعف الإدارة وعدم قدرتها على الارتقاء بالمنتج وتسويقه 2 – ضعف الثقة بالمنتج الوطني على الرغم من جودته .  
3 – منافسة البضائع الأجنبية 4 – ضعف الحماية الجمركية 5 -لجوء بعض الدول إلى الأسواق الأجنبية لتأمين حاجاتها.

/ يكتفى بأربع أفكار لكل فكرة 2.5 درجة /

4- برأيك ما المقومات ( الطبيعية و البشرية ) التي تتطلبها الصناعات النسيجية في سورية ( ذكر اثنين فقط لكل نوع )؟ (10 درجات) .

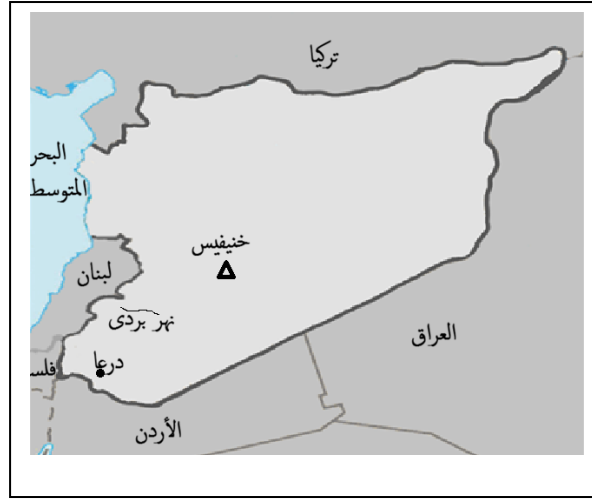


/ للمقومات الطبيعية /5 درجات – لكل منها 2.5 درجة /والمقومات البشرية /5 درجات – لكل منها 2.5 درجة/

السؤال السابع: ارسم خريطة الجمهورية العربية السورية مسمياً الحدود البرية والبحرية وثبت عليها مع التسمية ما

يأتي:

- 1- موقع مدينة درعا . 2- مجرى نهر بردى . 3- حقل رميلان . 4- حقل خنيفس .



18 / درجة لرسم الهيكل دون إفراط أو تفريط – درجتان لكل واحدة من الحدود البرية والبحرية = 12د  
5 درجات لكل تسمية صحيحة /

- انتهى سلم التصحيح -