

مدرسة الأندلس الخاصة للبنات  
العام الأكاديمي 2025/2024  
نهاية الفصل الدراسي الثاني



أوراق عمل إثرائية وإجاباتها  
الحوسبة وتكنولوجيا المعلومات

الصف: الثاني

اسم الطالبة/.....

الصف والشعبة /.....



نستطيع أن ترى العالم باستخدام برنامج .....

1.3

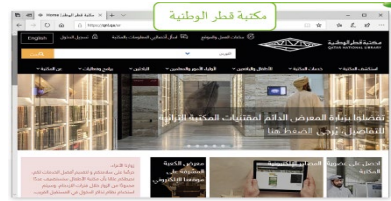


A



B

1



C

يمكنك زيارة المتاحف بزيارة متحف .....

1.4

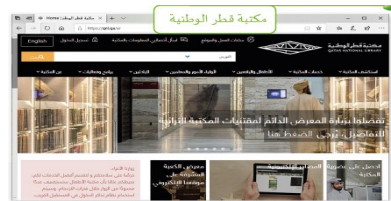


A



B

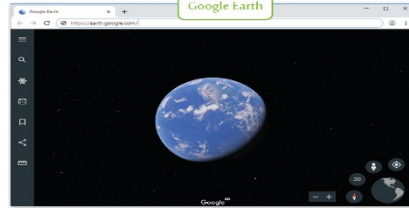
1



C

نستطيع استكشاف مكتبة الأطفال بزيارة .....

1.5

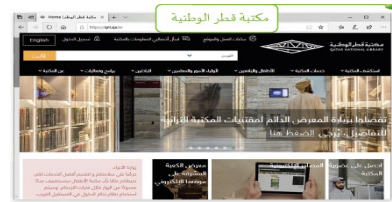


A



B

1



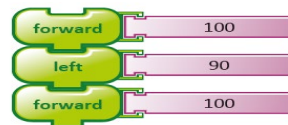
C

الأوامر هي التعليمات التي تتلقاها الحواسيب لتستطيع تأدية مهامها:

1.6



A



B


1



C

<p>ما هو البرنامج الذي يستخدم أوامر بسيطة في إنشاء برنامج لرسم أشكال هندسية ورسومات فنية؟</p>	1.7
	A
	B
	C
<p>ما هو الأمر الذي يستخدم لتحريك السلحفاة إلى الأمام:</p> 	1.8
	A
	B
	C

 <p>ما هو الأمر الذي يستخدم لتحريك السلحفاة إلى الخلف:</p>	<p>1.9</p>	
	<p>A</p>	
	<p>B</p>	<p>1</p>
	<p>C</p>	
 <p>ما هو الأمر الذي يستخدم لاستدارة السلحفاة إلى اليمين:</p>	<p>1.10</p>	
	<p>A</p>	
	<p>B</p>	<p>1</p>
	<p>C</p>	

 <p>ما هو الأمر الذي يستخدم لاستدارة السلحفاة إلى اليسار:</p>	<p>1.11</p>
	<p>A</p>
	<p>B</p>
	<p>C</p>

1

الأسئلة المقالية:

السؤال الثاني: صل العمود (أ) مع ما يناسبه من العمود (ب) :

(ب)	(أ)
	أمر التحرك الي الخلف
	أمر التحرك الي الامام
	أنواع المعلومات " نص "
	أنواع المعلومات " صورة "
	أمر الالتفاف الي اليمين
	أمر الالتفاف الي اليسار

السؤال الثالث: أجب عن الأسئلة التالية:

ارسم هنا



اكتب اسم الشكل: مربع

أ- تتبع الخطوات التالية وارسم الشكل؟

1. ارسم خطأً.
2. استدر لليمين.
3. ارسم خطأً بنفس القياس.
4. استدر لليمين.
5. ارسم خطأً بنفس القياس.
6. استدر لليمين.
7. ارسم خطأً بنفس القياس.
8. استدر لليمين.

ب - تتبع الخطوات التالية وارسم مستطيل؟

ارسم هنا



اكتب اسم الشكل : مستطيل

1. ارسم خطأً بطول 60 سم.
2. استدر لليمين.
3. ارسم خطأً بطول 20 سم.
4. استدر لليمين.
5. ارسم خطأً بطول 60 سم.
6. استدر لليمين.
7. ارسم خطأً بطول 20 سم.
8. استدر لليمين.

انتهت الأسئلة