

مدرسة الأندلس الخاصة للبنات  
العام الأكاديمي 2025/2024  
نهاية الفصل الدراسي الثاني



أوراق عمل إثرائية وإجاباتها  
الحوسبة وتكنولوجيا المعلومات  
الصف: الثاني

اسم الطالبة/.....  
الصف والشعبة /.....

السؤال الأول: الأسئلة الموضوعية:

اختار الإجابة الصحيحة:



تستخدم صفحات الويب أنواع مختلفة من المعلومات منها " النص ":		1.1
المها هو نوع من الطيأ الصحراوية التي تقطن شبه الجزيرة العربية وأجزاء مختلفة من قارة أفريقيا، وللحفاظ على حيوان المها العربي من الانقراض أقامت دولة قطر العديد من المحميات الطبيعية.	A	1
	B	
	C	

تستخدم صفحات الويب أنواع مختلفة من المعلومات منها " الصورة ":		1.2
المها هو نوع من الطيأ الصحراوية التي تقطن شبه الجزيرة العربية وأجزاء مختلفة من قارة أفريقيا، وللحفاظ على حيوان المها العربي من الانقراض أقامت دولة قطر العديد من المحميات الطبيعية.	A	1
	B	
	C	

نستطيع أن ترى العالم باستخدام برنامج .....

1.3

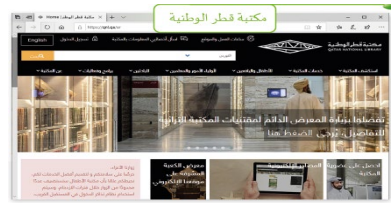


A



B

1



C

يمكنك زيارة المتاحف بزيارة متحف .....

1.4

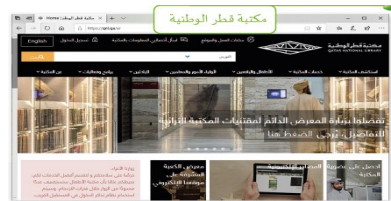


A



B

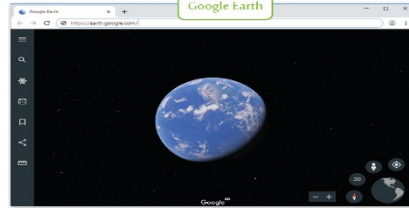
1



C

نستطيع استكشاف مكتبة الأطفال بزيارة .....

1.5

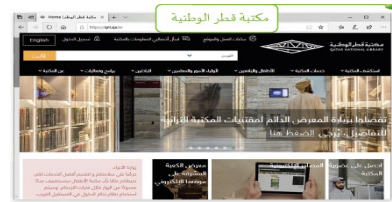


A



B

1



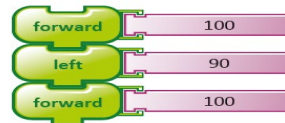
C

الأوامر هي التعليمات التي تتلقاها الحواسيب لتستطيع تأدية مهامها:

1.6



A



B

1



C

<p>ما هو البرنامج الذي يستخدم أوامر بسيطة في إنشاء برنامج لرسم أشكال هندسية ورسومات فنية؟</p>	<p>1.7</p>
<p></p>	<p>A</p>
<p></p>	<p>B</p>
<p></p>	<p>C</p>
<p>ما هو الأمر الذي يستخدم لتحريك السلحفاة إلى الأمام:</p> <p></p>	<p>1.8</p>
<p></p>	<p>A</p>
<p></p>	<p>B</p>
<p></p>	<p>C</p>

 ما هو الأمر الذي يستخدم لتحريك السلحفاة إلى الخلف:		1.9
	A	
	B	1
	C	
 ما هو الأمر الذي يستخدم لاستدارة السلحفاة إلى اليمين:		1.10
	A	
	B	1
	C	

	<p>ما هو الأمر الذي يستخدم لاستدارة السلحفاة إلى اليسار:</p>	<p>1.11</p>
	<p></p>	<p>A</p>
	<p></p>	<p>B</p>
	<p></p>	<p>C</p>

1

الأسئلة المقالية:

السؤال الثاني: صل العمود (أ) مع ما يناسبه من العمود (ب) :

(ب)	(أ)
	أمر التحرك الي الخلف
	أمر التحرك الي الامام
	أنواع المعلومات " نص "
<p><b>قلعة الزبارة</b></p> <p>تعد هذه القلعة محاذرة لمدينة الزبارة الساحلية المحاطة بسور و يوجد تاريخها إلى القرن العشرين، وتعتبر أحدث وأهم معالم موقع الزبارة الأثري. أحد مواقع التراث العالمي لدى اليونسكو. وهي مثال أجمل للثقافة العموية التقليدية، حيث كانت جدرانها اللقح مسكها حذاء وأساساً تعمل على صد الغزاة، وتساعد في الحفاظ على برودة الغرف خلال فصل الصيف الحار. ويضم هذا الموقع المهم قصوراً سكنية ومساحد ومقابر ذات أهمية وأكواخاً للصيدين وشوارع وحدارناً دقائقة مزدوجة ومباني وقناة ومغاري.</p>	أنواع المعلومات " صورة "
	أمر الالتفاف الي اليمين
	أمر الالتفاف الي اليسار

السؤال الثالث: أجب عن الأسئلة التالية:

ارسم هنا

أ- تتبع الخطوات التالية وارسم الشكل؟

1. ارسم خطأً.
2. استدر لليمين.
3. ارسم خطأً بنفس القياس.
4. استدر لليمين.
5. ارسم خطأً بنفس القياس.
6. استدر لليمين.
7. ارسم خطأً بنفس القياس.
8. استدر لليمين.

اكتب اسم الشكل \_\_\_\_\_

ب - تتبع الخطوات التالية وارسم مستطيل؟

1. ارسم خطأً بطول 60 سم.
2. استدر لليمين.
3. ارسم خطأً بطول 20 سم.
4. استدر لليمين.
5. ارسم خطأً بطول 60 سم.
6. استدر لليمين.
7. ارسم خطأً بطول 20 سم.
8. استدر لليمين.

ارسم هنا

اكتب اسم الشكل \_\_\_\_\_

انتهت الأسئلة