

4

20  
26



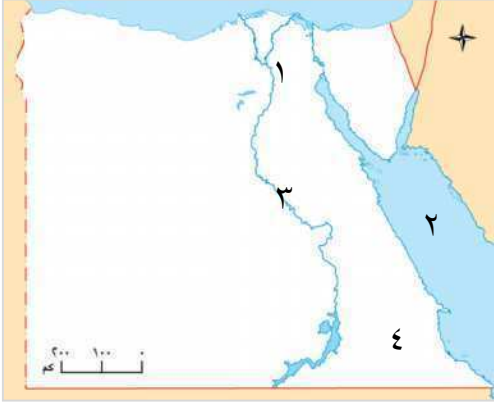
# الدراسات الاجتماعية

الصف الرابع الابتدائي

اختبارات آخر العام

## الاختبار الأول

مجاب عنه



١ ( أ ) أمامك خريطة صماء لمصر وضع عليها ما يلي :

- ١- محافظة ..... بها الجامع الأزهر الشريف.
- ٢- البحر .....
- ٣- نهر .....
- ٤- الصحراء .....

( ب ) بم تفسر... ؟

١- مجئ الكثير من السياح إلى مصر.

٢- أهمية جمع المعلومات قبل اتخاذ أي قرار.

٢ ( أ ) اكتب كلمة (صح) أمام العبارة الصحيحة، وكلمة (خطأ) أمام العبارة غير الصحيحة :

- ١- من المهن الخدمية في المجتمع مهنة الفلاح والصيد. ( )
- ٢- يعد دير سانت كاترين من أقدم الأديرة في مصر. ( )
- ٣- يختلف عدد السكان من محافظة إلى أخرى. ( )
- ٤- تتعدد الحرف التراثية في مصر. ( )

( ب ) ما النتائج المترتبة على... ؟

١- تطوير طريق الكباش .

٢- هزيمة مصر عام ١٩٦٧م.

٣ ( أ ) اختر الإجابة الصحيحة مما بين القوسين :

- ١- اختيار رئيس الوحدة المحلية في القرية من القرارات .....  
( الفردية - الجماعية - الأسرية - المجتمعية )
- ٢- يقوم ..... باختكار ألعابًا إلكترونية جديدة.  
( مطور التطبيقات - مبرمج الحاسوب - مصمم الألعاب - الطبيب )
- ٣- السياحة ..... تشمل الاستمتاع بالشواطئ ورحلات السفارى.  
( الثقافية - الترفيهية - البيئية - العلاجية )
- ٤- موقع ..... هو الموقع الطبيعي الوحيد في مصر ضمن قائمة التراث العالمي.  
( منطقة أبو مينا - القاهرة التاريخية - وادى الحيتان - آثار النوبة )

( ب ) حدد :

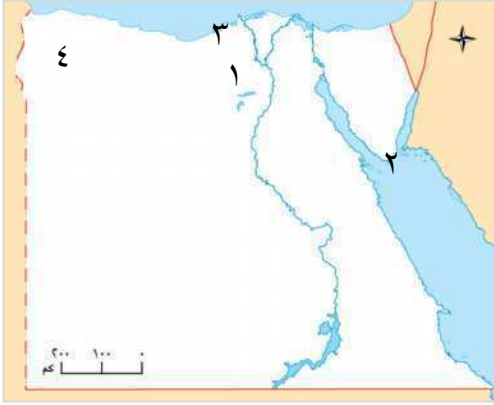
- بعض الإجراءات التي اتخذتها مصر للتخطيط لحرب أكتوبر ١٩٧٣م.

٤ (أ) أكمل العبارات التالية بما يناسبها من كلمات:

- ١- استخدم الإنسان قديماً الدواب في نقل..... و.....
  - ٢- يساعد..... قبل صنع القرار على اختيار الأفضل.
  - ٣- أنشأت وزارة الثقافة مركز الحرف التقليدية في مدينة.....
  - ٤- ظهرت أول..... في مصر عام ١٨٩٩م.
- (ب) وضح:
- جهود الدولة لتطوير وسائل النقل والمواصلات.

الاختبار الثاني

مجاب عنه



١ (أ) أمامك خريطة صماء لمصر اكتب مدلول الأرقام:

- ١- محافظة..... يوجد بها جبانة منف.
- ٢- مدينة ساحلية.....
- ٣- محافظة..... يوجد بها منطقة أبو مينا.
- ٤- واحة..... يوجد بها البحيرات الملحية.

(ب) ماذا يحدث إذا؟

- ١- لم تنتصر مصر في حرب أكتوبر ١٩٧٣م.
- ٢- لم تظهر مهن المستقبل.

٢ (أ) اكتب كلمة (صح) أمام العبارة الصحيحة، وكلمة (خطأ) أمام العبارة غير الصحيحة:

- ١- اهتم "محمد على" بالتعليم فأنشأ المدارس الحديثة لتعليم العلوم واللغات. ( )
- ٢- من المعالم السياحية في دولة رواندا برج إن سول. ( )
- ٣- تعلمنا المشاركة في صنع القرار مهارة حل المشكلات. ( )
- ٤- يوجد في مصر خمس مواقع ضمن التراث العالمي لليونسكو. ( )

(ب) قارن بين:

- السياحة العلاجية والسياحة البيئية من حيث التعريف مع ذكر مثال.

وجه المقارنة	السياحة العلاجية	السياحة البيئية
التعريف	.....	.....
مثال	.....	.....

٣ ( أ ) اكتب كلمة (صح) أمام العبارة الصحيحة وكلمة (خطأ) أمام العبارة غير الصحيحة :

- ١- استخدم المصري القديم الرمال في صناعة الحفر على الخشب. ( )
- ٢- قديماً كان يتعلم الأطفال في مدارس ملحقة بالمعابد تسمى الكتاتيب. ( )
- ٣- العملات الورقية أكثر خفة وأسهل في الاستخدام. ( )
- ٤- يهدف النقل المستدام إلى تقليل نسبة التلوث. ( )

(ب) اذكر:

- جهود الدولة لتطوير العملية التعليمية في العصر الحالى.

٤ ( أ ) اكتب ما تشير إليه العبارات التالية:

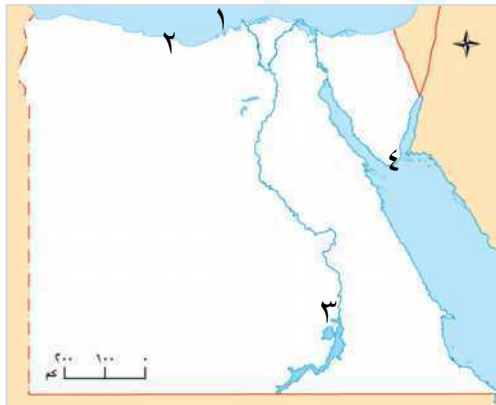
- ١- الانتقال من مكان إلى آخر بغرض الترفيه أو العلاج. (.....)
- ٢- قرية تشتهر بصناعة الزجاج في مصر. (.....)
- ٣- صناعات يدوية تعتمد على المواد الخام المحلية ومهارة الأيدي العاملة. (.....)
- ٤- وسيلة لشراء السلع والخدمات تحمل قيمة محددة ومعترف بها داخل الدولة. (.....)

(ب) وضح:

- مراحل تطور العملات النقدية في مصر.

## الاختبار الثالث

مجاب عنه



١ ( أ ) أمامك خريطة صماء لمصر اكتب مدلول الأرقام:

- ١- البحر .....
- ٢- مدينة جديدة سياحية .....
- ٣- مدينة بها آثار النوبة .....
- ٤- مدينة .....

(ب) أجب عن الأسئلة التالية :

١- وضح : بعض العلاقات بين مصر ورواندا.

٢- اذكر : أمثلة لأهم الحرف التراثية في مصر.

٢ (أ) اكتب كلمة (صح) أمام العبارة الصحيحة وكلمة (خطأ) أمام العبارة غير الصحيحة :

- ١- تختلف المهن من محافظة لأخرى حسب طبيعة النشاط الاقتصادي بها. ( )
- ٢- يقوم المهندسون بعرض المنتجات في الأسواق والمحلات. ( )
- ٣- تعد زيارة معبد أبو سمبل بأسوان سياحة بيئية. ( )
- ٤- من المؤسسات التعليمية المهمة في العصر الإسلامي مكتبة الإسكندرية. ( )

(ب) قارن بين:

- دور الفريق سعد الدين الشاذلي واللواء محمد عبد الغني الجمسي في التخطيط والإعداد لحرب أكتوبر ١٩٧٣م.

دور الفريق سعد الدين الشاذلي	دور اللواء محمد عبد الغني الجمسي
.....	.....
.....	.....

٣ (أ) اختر الإجابة الصحيحة مما بين القوسين:

- ١- محافظة ..... من المحافظات قليلة السكان. ( الجيزة - المنيا - شمال سيناء - البحيرة )
- ٢- تشتهر قرية تونس بالفيوم بصناعة ..... ( الحفر على الخشب - الفخار والخزف - السجاد اليدوي - الزجاج )
- ٣- توجد محمية رأس محمد في محافظة ..... ( الوادي الجديد - شمال سيناء - جنوب سيناء - الإسكندرية )
- ٤- توجد منطقة ..... في الإسكندرية. ( القاهرة التاريخية - أبو مينا - جبانة منف - وادي الحيتان )

(ب) بم تفسر...؟

١- الأهمية الاقتصادية للمواقع التراثية.

.....

٢- أهمية المهن المستقبلية.

.....

٤ (أ) اكتب ما تشير إليه العبارات التالية :

- ١- منظمة تهتم بحماية مواقع التراث العالمي والحفاظ عليها. (.....)
- ٢- من أكبر المعارض السنوية في مصر حيث يعرض منتجات الحرف التراثية. (.....)
- ٣- سياحة تهتم بالمناظر الطبيعية وزيارة المحميات. (.....)
- ٤- الانتقال من دولة إلى دولة أخرى لغرض العلاج أو الاستكشاف. (.....)

(ب) ما النتائج المترتبة على ...؟

١- تعدد المواقع الأثرية في مصر.

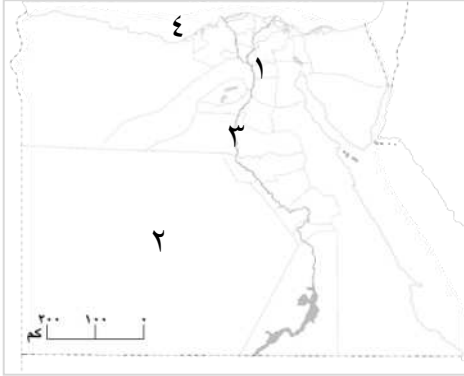
.....

٢- اهتمام "محمد على" بالتعليم في مصر.

.....

## الاختبار الرابع

مجاب عنه



١ ( أ ) أمامك خريطة لمحافظة مصر.

اكتب مدلول الأرقام عليها :

- ١- أعلى محافظات مصر سكاناً .....
- ٢- أكبر محافظات مصر مساحة .....
- ٣- نهر .....
- ٤- البحر .....

( ب ) أجب عن الأسئلة التالية :

١- ما المقصود بـ: الحرف التراثية؟

٢- **وضح** : جهود الدولة في الاهتمام بوسائل النقل والمواصلات.

٣- **اذكر** : دور اللواء فؤاد ذكرى في حرب أكتوبر ١٩٧٣م.

٢ ( أ ) اختر الإجابة الصحيحة مما بين القوسين :

- ١- تقع جبانة منف في محافظة ( الشرقية - الأقصر - الجيزة - الإسكندرية )
- ٢- كان المصريون القدماء يتعلمون في ( بيوت الحياة - المعابد - المقابر - الأديرة )
- ٣- ترتفع نسبة الإناث عن الذكور في بعض المحافظات المصرية بمقدار ( متساوى - بسيط - كبير - واسع )
- ٤- كان الفريق أول ( محمد عبد الغني الجمسي - أحمد إسماعيل - سعد الدين الشاذلى - عبد المنعم رياض ) هو وزير الحرية قبل حرب أكتوبر ١٩٧٣م.

( ب ) أجب عن الأسئلة التالية :

١- **حدد** : أهم المعالم السياحية في كندا.

٢- **وضح** : أهمية استخدام العملات النقدية.

٣ ( أ ) أكمل العبارات الآتية بما يناسبها من كلمات :

- ١- من أهم معايير تصميم العملات النقدية ..... و .....
- ٢- العملة الرسمية لدولة الولايات المتحدة الأمريكية هي .....
- ٣- الاستمتاع برحلات السفاري في الصحراء المصرية يعد سياحة .....
- ٤- أولى خطوات صنع القرار السليم هي .....

(ب) بم تفسر....؟

١- للمدرسة دور كبير في صنع القرار.

.....

٢- شهرة مدينة (أون) قديماً.

.....

٤ (أ) اكتب كلمة (صح) أمام العبارة الصحيحة، وكلمة (خطأ) أمام العبارة غير الصحيحة :

١- تدعم العملات النقدية العلاقات الاقتصادية بين الدول. ( )

٢- كان المصريون القدماء يتعلمون في بيوت الحياة. ( )

٣- ترتفع نسبة الإناث عن الذكور في بعض المحافظات المصرية. ( )

(ب) ما النتائج المترتبة على ...؟

١- إنشاء مشروع الصوت والضوء.

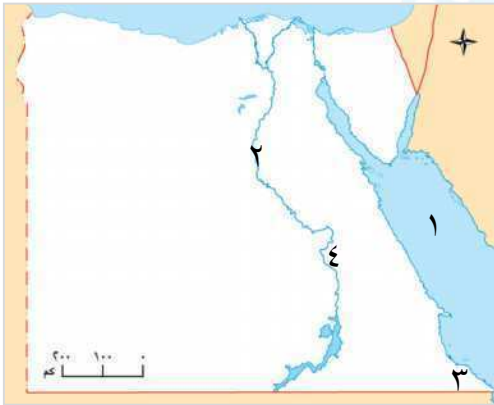
.....

٢- اهتمام الدولة بالتعليم.

.....

## الاختبار الخامس

مجاب عنه



١ (أ) أمامك خريطة صماء لمصر.

اكتب مدلول الأرقام الموقعة عليها:

١- البحر.....

٢- نهر.....

٣- محمية طبيعية.....

٤- مدينة أثرية قديمة.....

(ب) بم تفسر...؟

١- ارتفاع نسبة المتعلمين في محافظة القاهرة.

.....

٢- أهمية الاعتزاز والفخر بالعملة الوطنية.

.....

٢ ( أ ) أكمل العبارات التالية بما يناسبها من كلمات :

- ١- عملة الاتحاد الأوروبي هي .....
- ٢- يستخدم ..... في صناعة الزجاج.
- ٣- توجد في دولة رواندا أعماق بحيرة في إفريقيا وهي بحيرة .....
- ٤- سعى المصريون لاستعادة ..... بعد احتلالها من العدو الإسرائيلي.

( ب ) ماذا يحدث إذا ؟

١- لم يتم إنشاء خطوط مترو الأنفاق في مصر.

٢- اختفت مهنة عامل النظافة.

٣ ( أ ) اكتب ما تشير إليه العبارات التالية:

- ١- صناعات يدوية تعتمد على المواد الخام المحلية ومهارة الأيدي العاملة. (.....)
- ٢- الانتقال إلى مكان آخر داخل الدولة بغرض الترفيه. (.....)
- ٣- صناعة يدوية تعتمد على الطين ويتم تشكيله ثم حرقه في أفران ليصبح صلبًا. (.....)
- ٤- مهن جديدة لم تكن موجودة من قبل بفضل التقدم العلمي والتكنولوجي. (.....)

( ب ) ما العلاقة بين ؟

١- الصناعة والتجارة.

٢- السياحة واقتصاد مصر.

٤ ( أ ) أكمل العبارات التالية بما يناسبها من كلمات :

- ١- من أنواع السياحة في مصر من حيث الغرض سياحة ..... و .....
- ٢- تعد قرية تونس في محافظة الفيوم من أشهر مراكز صناعة .....
- ٣- استخدم الإنسان قديمًا ..... في نقل الأشخاص والبضائع.
- ٤- تضع الدول ..... على عملاتها لمنع التزوير.


( ب ) قارن بين :

- السياحة الداخلية والسياحة الخارجية من حيث المفهوم مع ذكر مثال.

وجه المقارنة	السياحة الداخلية	السياحة الخارجية
المفهوم	.....	.....
مثال	.....	.....

4

20  
26



# الدراسات الاجتماعية

الصف الرابع الابتدائي

الإجابات النموذجية

## الإجابات النموذجية

## إجابة الاختبار الأول

ج ١: (أ)

- ١- القاهرة. ٢- الأحمر.  
٣- النيل. ٤- الشرقية.

(ب)

- ١- بسبب: تمتع مصر بكل مقومات السياحة الطبيعية والبشرية والاستمتاع بأنواع السياحة المختلفة (الثقافية - الترفيهية - العلاجية - المعارض والمهرجانات - البيئية).  
٢- للتأكد من صحة المعلومات حتى تتخذ قرارات سليمة.

ج ٢: (أ)

- ١- خطأ. ٢- صح. ٣- صح. ٤- صح.

(ب)

- ١- ساعد على حماية المنطقة وتطويرها لجذب المزيد من السياح.  
٢- أدى إلى عدم استسلام المصريين للهزيمة وبدأ الجيش الاستعداد لاسترداد أرضنا من خلال مجموعة من الاستعدادات لتحقيقه النصر كما قامت مصر بحرب الاستنزاف التي كانت طريقاً لنصر أكتوبر ١٩٧٣م.

ج ٣: (أ)

- ١- الجماعية. ٢- مصمم الألعاب.  
٣- الترفيهية. ٤- وادي الحيتان.

(ب)

بعض الإجراءات التي اتخذتها مصر لحرب

أكتوبر ١٩٧٣م تمثلت في :

- ١- حرب الاستنزاف التي كانت بمثابة معارك شجاعة على طول قناة السويس.  
٢- الحصول على معلومات عن العدو عن طريق جهود المخابرات المصرية.

- ٣- التنظيم الداخلي للجيش بالتدريب المكثف ومحاكاة النماذج المستهدفة ووضع خطة عبور قناة السويس.

ج ٤: (أ)

- ١- الأفراد والبضائع.  
٢- تحديد البدائل المتعددة.  
٣- الفسطاط.  
٤- عملة ورقية.

(ب)

جهود الدولة لتطوير وسائل النقل والمواصلات:

- ١- تطوير السكك الحديدية.  
٢- بناء شبكة الطرق والكباري لتقليل الازدحام والوقت.  
٣- التوسع في خطوط مترو الأنفاق.  
٤- إنشاء قطار المونوريل.  
٥- تطوير الموانئ والمطارات.

## إجابة الاختبار الثاني

ج ١: (أ)

- ١- الجيزة. ٢- شرم الشيخ.  
٣- الإسكندرية. ٤- سيوة.

(ب)

- ١- لم تسترد مصر أرضها التي احتلتها إسرائيل عام ١٩٦٧م ولم تسترد كرامة الجندي المصري والعربي.

- ٢- سيظل المجتمع متأخرًا لا يواكب التقدم والتكنولوجيا الحديثة ولم تصبح الحياة أسهل.

ج ٢: (أ)

- ١- صح. ٢- خطأ.  
٣- صح. ٤- خطأ.

## إجابة الاختبار الثالث

ج ١: (أ)

- ١- المتوسط . ٢- العلمين الجديدة .  
٣- أسوان . ٤- شرم الشيخ .

(ب)

- ١- بدأت العلاقة بين مصر ورواندا مع نشأت  
الاتحاد الإفريقي ولديها تعاون مع مصرفي  
مجالات الزراعة والتعليم والصحة .  
٢- أمثلة لأهم الحرف التراثية في مصر :  
- النسيج اليدوي - المشغولات النحاسية -  
حرفة الحفر على الخشب - السجاد اليدوي -  
الفخار - الزجاج وغيرها من الحرف التراثية .

ج ٢: (أ)

- ١- صح . ٢- خطأ . ٣- خطأ . ٤- خطأ .

(ب)

دور اللواء محمد عبد الغنى الجمسى	دور الفريق سعد الدين الشاذلي
كان رئيس هيئة عمليات القوات المسلحة في حرب أكتوبر ١٩٧٣ .	كان رئيس أركان القوات المسلحة في حرب أكتوبر ١٩٧٣ .

ج ٣: (أ)

- ١- شمال سيناء . ٢- الفخار والخزف .  
٣- جنوب سيناء . ٤- أبو ميناء .

(ب)

١- لأنها :

- ١- تساعد على دراسة وفهم التاريخ المصرى .  
٢- توفر فرص عمل للشباب في السياحة .  
٣- تساهم في زيادة الدخل القومى .  
٢- لأنها : تساعد في توفير الوقت والمجهود ، كما  
أنها ستقود العالم في المستقبل .

(ب)

وجه المقارنة	السياحة العلاجية	السياحة البيئية
التعريف	هي زيارة مكان ما بغرض تلقى العلاج .	هي سياحة الغرض منها التعرف على مظاهر الطبيعة الخلاصة .
مثال	العيون الكبريتية في سيناء - البحيرات المالحة في سيوة - الرمال الساخنة في الصحراء الغربية .	زيارة محمية رأس محمد في جنوب سيناء - محمية جبل علبة بمحافظة البحر الأحمر .

ج ٣: (أ)

- ١- خطأ . ٢- خطأ . ٣- صح . ٤- صح .

(ب)

- حيث تعمل الدولة على :

- ١- بناء مدارس جديدة لتقليل الكثافة في الفصول .  
٢- تطوير المناهج الدراسية .  
٣- تجهيز الفصول بوسائل تعليم حديثة .  
٤- تدريب المعلمين والاهتمام بالجامعات .  
٥- إضافة علوم جديدة تتناسب مع تكنولوجيا  
العصر .

ج ٤: (أ)

- ١- السياحة . ٢- جراح بالدقهلية .  
٣- الصناعات الحرفية . ٤- العملة النقدية .

(ب)

- حيث بدأت بنظام المقايضة ثم ظهرت في  
مصر العملات المعدنية منذ آلاف السنين  
وكانت تصنع من الذهب أو الفضة أو النحاس  
ثم ظهرت العملة الورقية لتكون أخف وأسهل  
في الاستخدام .

ج ٤: (أ)

١- منظمة اليونسكو.

٢- معرض تراثنا للحرف التراثية.

٣- السياحة البيئية.

٤- السياحة الخارجية.

(ب)

١- ساعد على مجيء السياح من كل بلاد العالم

لرؤية المواقع الأثرية المتنوعة في مصر.

٢- ساعد على إنشاء المدارس الحديثة وتدريب

العلوم المختلفة مثل الرياضيات والهندسة

والطب وإرسال البعثات العلمية للخارج مما

ساهم في تطوير التعليم في مصر حتى تم

إنشاء جامعة القاهرة عام ١٩٠٨م.

## إجابة الاختبار الرابع

ج ١: (أ)

١- القاهرة.

٢- الوادي الجديد.

٣- النيل.

٤- المتوسط.

(ب)

١- هي صناعات يدوية تعتمد على المواد الخام

المحلية ومهارة الأيدي العاملة.

٢- ١- تطوير السكك الحديدية.

٢- تطوير شبكة الطرق والكبارى.

٣- توسيع خطوط مترو الأنفاق.

٤- إنشاء المونوريل والقطار الكهربائي.

٥- تطوير الموانئ البحرية.

٦- تطوير المطارات.

٣- كان قائد القوات البحرية أثناء حرب أكتوبر

١٩٧٣م.

ج ٢: (أ)

١- الجيزة.

٢- بيوت الحياة.

٣- كبير.

٤- أحمد إسماعيل.

(ب)

١- من أشهر معالم كندا السياحية : برج C.N

تورنتو - منتزه بانف الوطنى .

٢- لأنها: أخف وزناً وأسهل في الاستخدام.

ج ٣: (أ)

١- الأمان والسهولة والجمال .

٢- الدولار . ٣- ترفيهية .

٤- تحديد المشكلة أو الهدف .

(ب)

١- حيث تساعد على :

١- وضع قواعد الصف مع المعلم .

٢- اختيار قائد الفصل .

٣- اختيار نشاط مدرسي نشارك فيه وتجعلنا

هذه المشاركة نشعر بالمسئولية ونفهم

معنى التعاون واحترام آراء الآخرين .

٢- حيث كانت مدينة (أون) أول عاصمة لمصر

الموحدة ، كما أنه أقيم فيها أول جامعة في

العالم القديم .

ج ٤: (أ)

١- صح . ٢- صح . ٣- صح .

(ب)

١- أدى إلى: تنظيم عروض ليلية تحكى تاريخ

المنطقة وأثارها بعدة لغات وبعد ذلك

تم تنفيذ المشروع في عديد من

المناطق الأثرية الأخرى .

٢- أدى إلى: رفع مستوى الطالب المصري ومواكبة

التعليم الحديث مما ساعد على تطوير

المدارس والمناهج العلمية .

## إجابة الاختبار الخامس

ج ١: (أ)

١- الأحمر . ٢- النيل .

٣- جبل علبة . ٤- الأقصر .

ج ٤: (أ)

- ١- الثقافية والعلاجية .
- ٢- الفخار والخزف .
- ٣- الدواب .
- ٤- علامة مائية .

(ب)

وجه المقارنة	السياحة الداخلية	السياحة الخارجية
المفهوم	هي الانتقال من مكان إلى آخر داخل بلدنا لأغراض منها الترفيه أو العلاج أو الاستكشاف .	هي الانتقال من دولة إلى أخرى لعدة أغراض منها الترفيه أو العلاج أو الاستكشاف .
مثال	زيارة الآثار المصرية أو الذهاب إلى مدينة شرم الشيخ .	زيارة السائحين من الدول الأخرى لمصر .

(ب)

- ١- بسبب: اهتمام الأسر بالتعليم .
- ٢- لأن: احترام العملة الوطنية واجب وطني فهي رمز من رموز الدولة .

ج ٢: (أ)

- ١- اليورو .
- ٢- الرمال البيضاء .
- ٣- كيفو .
- ٤- سيناء .

(ب)

- ١- لم نلبى احتياجات السكان في التنقل وسيزيد الازدحام المروري .
- ٢- ستزيد النفايات ونفقد المنظر الجمالي وبالتالي يزيد التلوث .

ج ٣: (أ)

- ١- الصناعات الحرفية .
- ٢- السياحة الترفيهية .
- ٣- حرفة الفخار .
- ٤- المهن المستقبلية .

(ب)

- ١- حيث توفر الصناعة المنتجات اللازمة للتجارة بها في الأسواق الداخلية والخارجية .
- ٢- حيث توفر السياحة فرص العمل للشباب مما يساهم في زيادة الدخل القومي كما أنها المصدر الأول للعملات الأجنبية وبالتالي ازدهار الاقتصاد المصري .