



تاسع سوريا 2026

تم تحميل ونشر هذا الملف بواسطة أكبر قناة تعليمية لطلاب الصف التاسع في سوريا عبر تطبيق التيليجرام ، يمكنك الوصول للقناة عبر الرابط أدناه

 <https://t.me/Y1148Tasea>



60

كشكول

لكامل
الكتاب

مادة

الاجتماعيات

2026

الصف التاسع - طبعة

إعداد المدرس

أيمن الحسين



مادة الجغرافيا كامل الكتاب - منهاج إدلب و دمشق .

السلام عليكم ورحمة الله تعالى وبركاته

طلاب وطالبات التاسع الغوالي حيّاكم الله جميعاً . أسأل الله تعالى أن يكون هذا العام الدراسي عام تميّز ونجاح وأن يرزقكم وذويكم تذوق لذة النجاح والتميز .

إنّ كشكول مادة الجغرافيا هو عبارة عن تلخيص شامل ودقيق ومركّز لكل فقرات الكتاب بطريقة السؤال والجواب إضافة للموازنات والتعاليل والتنبيهات الامتحانية والأسئلة الاستنتاجية . فعند دراستك من الكشكول ثق تماماً عزيزي الطالب أنك تدرس دون أن تنقص أي معلومة من الكتاب . أسأل الله تعالى أن يكون هذا العمل عند حسن ظنكم وأن يكون سبباً في تفوقكم .

لطلب المساعدة في كافة مواد الصف التاسع يرجى التواصل على رقمي الموجود في وصف قناتي على اليوتيوب: بالعلم نرتقي مع الأستاذ أيمن الحسين .
حيث تحتوي القناة على شرح عملي ومميز لمواد الصف التاسع
كل الأمنيات بالتوفيق والمحبة والتميز

يرجى مراجعة المحذوفات و الانتباه على أيّ الدروس مطلوبة وأيّها محذوفة قبل البدء بدراسة الملخص

ملاحظة هامة جداً : - هذا الملخص مخصص للطلاب ال ذين يرغبون في الحصول على العلامة التامة في المادة .

. لقد نشرت نسخة ثانية مبسطة من هذا الملخص يضمن فيها الطالب 55 علامة تقريباً مخصصة للطلاب الذين يبحثون عن نجاح مشرّف في المادة .

لوحة الشرف

العلامة المستحقة	رقم الاككتاب	الاسم الثلاثي
60	78711	ياسمين ياسين الحماده
60	83488	ريانة نورجان موقتاي
60	58311	إبراهيم خالد الدرويش
60	72093	شيماء فوزي الخطيب
60	82156	مرام رامز الرسلان
60	243467	خالد عبد الوهاب غزال
60	244050	منذر بشار العلي
60	243469	صهيب فؤاد حمادة
60	242953	علي الشيخ إسماعيل
59	101237	رهام عمر الحز
59	82699	مروة إبراهيم الحسن
59	72076	بتول بسام جديع
59	50457	فاطمة وليد خيرالله
59	78095	إسراء جمال سرحان
59	51901	راما محمد العمر
59	264289	هند خالد طياوي
59	259100	إسراء عبدالله حاج إبراهيم
59	242672	مصطفى زاهر الحناك

اللهم اني استودعك ما قرأت وما حفظت

طلابي الغوالي يجب عليكم أولاً حفظ أسماء الدول العربية وعواصمها إضافة لمصور الجمهورية العربية السورية

بشكل ممتاز مع كافة تحدياته الخارجية والداخلية , حيث سأذكر التحديات المطلوبة لاحقاً بالتفصيل .

ممکن يُطلب في الامتحان رسم مصور الوطن العربي وذلك حسب ما تقرره وزارة التربية في كل عام دراسي .

الدولة	العاصمة	الدولة	العاصمة
سوريا	دمشق	البحرين	المنامة
لبنان	بيروت	قطر	الدوحة
فلسطين	القدس	الإمارات	أبو ظبي
الأردن	عمان	سلطنة عمان	مسقط
العراق	بغداد	اليمن	صنعاء
السعودية	الرياض	مصر	القاهرة
الكويت	الكويت	السودان	الخرطوم
الصومال	مقديشو	ليبيا	طرابلس
جيبوتي	جيبوتي	المملكة المغربية	الرباط
جزر القمر	موروني	تونس	تونس
الجزائر	الجزائر	موريتانيا	نواكشوط
إريتريا	أسمره	-----	-----

- 1 – **الموقع الفلكي** : يمتد الوطن العربي بين 1,30 درجة جنوب خط الاستواء . و 37,30 درجة شمال خط الاستواء و بين خطي الطول 60 شرق غرينتش و 17 غرب غرينتش . وبالتالي يمتد الوطن العربي على 77 خط من خطوط الطول .
- 2 – **الموقع الجغرافي** : للوطن العربي حدود طبيعية تفصله عمّا يجاوره إذ يحده من الشمال البحر المتوسط و تركيا . ومن الجنوب بحر العرب والمحيط الهندي ومرتفعات أثيوبيا وأوغندا جنوب السودان . لتبدأ بعدها الصحراء العربية الكبرى حتى مصب نهر السنغال في المحيط الأطلسي . ومن الشرق تفصله جبال زاغروس والخليج العربي وخليج عُمان عن إيران. ومن الغرب المحيط الأطلسي . حيث تبلغ مساحة الوطن العربي 14 مليون كم² , (14000000 كم²)
- تنبيه : المعلومات السابقة غالباً تأتي على شكل سؤال اختيار من متعدد أو صح وخطأ وهي هامة جداً .
دورة 2017 - 2016
- 3 – علل عدم تطابق الحدود السياسية الحالية للوطن العربي مع حدوده الطبيعية ؟ .
هاااام
- بسبب تجاوزات الدول المجاورة وما رسمته الدول الاستعمارية من حدود اصطناعية بين أقطاره
- 4 – علل الأهمية الجغرافية (الاستراتيجية) للوطن العربي :
2025 - هااام
- أ – وقوعه بين قارات العالم جعله طريقاً للمواصلات البرية والبحرية والجوية .
ب - إشرافه على بحار ومحيطات مهمة .
ج – تحكمه بمضائق بحرية هامة .
- 5 - أذكر أهم المضائق التي يتحكم بها الوطن العربي :
هاااام
- أ – مضيق باب السلام (هرمز) : يصل بين الخليج العربي وخليج عُمان والمحيط الهندي .
ب – مضيق باب المندب : يصل بين البحر الأحمر وخليج عدن والمحيط الهندي .
ج – مضيق جبل طارق : يصل بين المحيط الأطلسي والبحر المتوسط .
ع – قناة السويس : تربط بين البحر المتوسط والبحر الأحمر .
- دورة 2022
- 6 – علل تُعد قناة السويس أهم ممر مائي في العالم :
هاااام
- لكونها تختصر طرق الملاحة العالمية بين القارات . ونشوء عدد من المدن الجديدة عليها مثل بور سعيد والإسماعيلية
- 7- علل الأهمية الاقتصادية للوطن العربي :
دورة 2019
- أ – امتداده الكبير على مساحات واسعة .
ب – تنوع ووفرة غلاته الزراعية والمراعي .

ج - تنوع ثرواته الباطنية . د - اكتشاف النفط وتوفر رؤوس الأموال .

8 - علل تنوع غلات الوطن العربي الزراعية : بسبب امتداده الكبير على مساحات واسعة .

9 - علل الأهمية الروحية والثقافية للوطن العربي أو علل للوطن العربي بُعداً روحياً وثقافياً : **دورة 2020**

- بسبب كونه مهد الديانات السماوية (الإسلامية - اليهودية - المسيحية) والحضارات القديمة :
(السومرية والكنعانية و المصرية) .

10 - علل الأهمية الكبيرة للوطن العربي : لأنه مهد للحضارات والديانات السماوية وبسبب اكتشاف النفط في أراضيه .

11 - علل سعي الدول الاستعمارية إلى السيطرة على الوطن العربي : لأنه مهد للحضارات والديانات السماوية وبسبب اكتشاف النفط في أراضيه .

12 - علل خلق الدول الاستعمارية المشكلات بين دول الوطن العربي حتى يومنا هذا .

- بسبب سعي الدول الاستعمارية لإضعاف دول الوطن العربي والسيطرة عليها .

معلومات من الدرس .

- يشغل الوطن العربي موقع القلب بالنسبة إلى قارات (آسيا - أفريقيا - أوروبا) .

- أهم المناطق المغتصبة فلسطين والجولان العربي السوري . - تفصل جبال طوروس الوطن العربي عن تركيا .

- تبلغ مساحة الوطن العربي % 10 من مساحة العالم (اليابسة) .

- يقع 74 % من الوطن العربي في القسم الإفريقي . - يقع 26 % من الوطن العربي في القسم الآسيوي .

دورة 2021 - عملت الدول الاستعمارية على عدم تثبيت الحدود الطبيعية للوطن العربي .

- عمل الموقع الجغرافي للوطن العربي على جعل الوطن العربي طريقاً برياً وبحرياً وجوياً .



حل التدريبات والأنشطة

أولاً : اختر الإجابة الصحيحة مما يلي :

أ – عمل الموقع الجغرافي على جعل الوطن العربي طريقاً :
برية – بحرية – جوية – كل ما سبق صحيح .

ب – يحد الوطن العربي من جهة الغرب : المحيط الأطلسي .

ج – يمتد الوطن العربي شمال خط الاستواء حتى درجة العرض : 37,30 درجة .

ثانياً : ضع إشارة (√) أمام العبارة الصحيحة و صحح العبارة الغلط فيما يأتي.

أ – عملت الدول الاستعمارية على تثبيت الحدود الطبيعية للوطن العربي : خطأ .

الصواب : عملت الدول الاستعمارية على عدم تثبيت الحدود الطبيعية للوطن العربي .

ب – عزز اكتشاف النفط وتوافر رؤوس الأموال الأهمية الروحية والثقافية للوطن العربي : خطأ .

الصواب : عزز اكتشاف النفط وتوافر رؤوس الأموال الأهمية الاقتصادية للوطن العربي .

ج – من المضائق المهمة التي تصل بين البحر المتوسط والمحيط الأطلسي قناة السويس . خطأ .

الصواب : مضيق جبل طارق .

ثالثاً : فسر الأهمية الاستراتيجية للوطن العربي : الإجابة موجودة في السؤال الرابع من الدرس .

سوريا أهمية الموقع و عبقرية الإنسان

الدرس الثاني

1 - الموقع الفلكي : تمتد سوريا بين درجتي عرض 19, 32 درجة جنوب جبل العرب . و 30, 37 درجة في عين ديوار شمال خط الاستواء . وبين خطي الطول (35 , 37) و (23 , 42) درجة شرق غرينتش .

2 - الموقع الجغرافي : تشغل سوريا الجزء الشمالي من بلاد الشام حيث يحدها من الشمال تركيا ومن الجنوب الأردن ومن الغرب لبنان والبحر المتوسط ومن الشرق العراق وبادية الشام . حيث تبلغ مساحة سوريا 185182 كيلو متر مربع .

3 - علل أهمية الموقع الجغرافي لسوريا : 2016

أ - تعد سوريا طريقاً برياً يصل شبه الجزيرة العربية بأوروبا . 2022

ب - اكتشاف النفط في أراضيها ووجود خليج الاسكندرون الواسع الاستراتيجي .

4 – علل أضحت سوريا هدفاً للأطماع الاستعمارية منذ القدم وحتى يومنا هذا :

- بسبب موقعها الاستراتيجي الهام واكتشاف النفط في أراضيها .

5 - تحدث عن أثر سوريا في الحضارة الإنسانية أو علل الأهمية الحضارية لسوريا .

- قدمت أوغاريت أول أبجدية في العالم . إضافة إلى غنى سوريا بالآثار مثل أثار تدمر ودمشق وحلب وإدلب التي

شهدت معظمها نشاطاً تجارياً كبيراً **سببه** موقع سوريا بين الشرق والغرب ، واعتماد معظم طرق القوافل التجارية على واحاتها ومحطاتها التجارية كطريق الحرير . وما يزال هذا الموقع حتى يمتد هذا يمنحها أهمية حضارية في العالم وما هذا إلا دليل على عظمة حضارتها وجذورها الموعلة في القدم ، ومثال على إسهامها في بناء الحضارة الإنسانية الإسلامية .

6 - بين أهمية الجولان بالنسبة لسوريا أو تكلم عن الجولان السوري المحتل . **دورة 2020**

- هو جزء من التراب السوري تبلغ مساحته 1200 كيلو متر مربع . احتله العدو الصهيوني عام 1967 م . حيث تشكل أراضي الجولان أقدم جبل الشيخ الشرقية وهو أغنى الأراضي السورية بسبب تربته الخصبة ومياهه الوفيرة كبحيرة طبرية ومسعدة . من قرى الجولان : مجدل - شمس - مسعدة - بقعاثا - عين قنية - العجر .

7 - علل أو فسر الاحتلال الإسرائيلي للجولان العربي السوري : **دورة 2018**

- لخصوبة أراضيه ووفرة مياهه كبحيرة طبرية ومسعدة . وموقعه الاستراتيجي الهام .

حل الأنشطة والتدريبات

أولاً : اختر الإجابة الصحيحة مما يلي :

1 - تمتد سوريا بين درجتي عرض : (32,19 و 37,30 درجة) .

ثانياً : ضع صح أمام العبارة الصحيحة . وضح العبارة الغلط فيما يلي :

1 - تشغل سوريا الجزء الشمالي من بلاد الشام : **صح** .

2 - كانت القوافل التجارية تمر بسوريا عبر طريق الحرير : **صح** .

ثالثاً : فسر كلاً مما يأتي :

1 - أهمية الموقع الجغرافي لسوريا :

الإجابة موجودة في السؤال الثالث من الدرس .

2 - الاحتلال الإسرائيلي للجولان :

الإجابة موجودة في السؤال السابع من الدرس .



الصورة (7) مدينة أوغاريت

كانت مدينة أوغاريت عاصمةً لمملكة سورية القديمة في الألف الثاني قبل الميلاد، وتقع على بعد 13 كم شمال اللاذقية، وقد اكتشفت في عام 1928 مصادفةً ؛ عندما اصطدمت سكةً محراث فلاح من أهالي رأس شمرة بحجارة ضخمة تبين فيما بعد أنها سقفٌ لمدفن أثري، بدأت بعدها أعمال التنقيب الأثرية في الموقع برئاسة عالم الآثار الفرنسي "كلود شيفر".

أسس التقسيم الإقليمي للوطن العربي

الدرس الثالث

1 - ماذا يُقصد بالتقسيم الإقليمي : إظهار أوجه التشابه والاختلاف بين الأمكنة بناءً على أسس طبيعية وبشرية .

2 - عرف الإقليم واذكر الأسس التي اعتمدها العلماء في تقسيم الوطن العربي إلى أقاليم جغرافية : **2021**

- الإقليم : هو مساحة من الأرض تمتلك مجموعة من الخصائص الطبيعية والبشرية التي تميزها من الأقاليم المجاورة .

- الأسس التي اعتمدها العلماء في تقسيم الوطن العربي إلى أقاليم جغرافية هي :

أ - مظاهر طبيعية : كالتضاريس والمناخ وتوزيع اليابسة والبحر .

ب - مظاهر بشرية : كتوزيع السكان والكثافة السكانية .

3 - علل تقسيم العلماء الوطن العربي إلى أقاليم جغرافية : لتسهيل دراسة الوطن العربي نظراً لاتساع مساحته .

هاااااااا

4 - علل عدم تطابق حدود الأقاليم الجغرافية للوطن العربي مع الحدود الحالية للبلدان العربية :

- بسبب التجزئة التي مزقت أقاليم الوطن العربي وأسهمت في اغتصاب أجزاء منه .

5 - عدد الأقاليم الجغرافية في الوطن العربي : إقليم بلاد الشام - إقليم العراق - إقليم شبه الجزيرة العربية .

إقليم وادي النيل - إقليم القرن الإفريقي - إقليم ليبيا - إقليم المغرب العربي .

6 - علل أهمية إقليم شبه الجزيرة العربية . أو تحدث عن أهمية إقليم شبه الجزيرة العربية .

أ - يتميز بحدود طبيعية جغرافية واضحة . ب - مُحاط بالماء من ثلاث جهات , الخليج العربي من الشرق

والبحر الأحمر من الغرب , وبحر العرب من الجنوب , ما عدا الجهة الشمالية . فهي يابسة وتسمى ببادية الشام (الحماة)

ج - تحيط به ثلاثة ممرات مائية هي : (مضيق هرمز - مضيق باب المندب - مضيق قناة السويس) .

ح - امتلاكه ثروات نفطية ضخمة . خ - توجد فيه قبلة المسلمين (الكعبة المُشرفة) .

7- علل يتميز إقليم وادي النيل بحدوده طبيعية واضحة : بسبب مرور نهر النيل وروافده فيه .

8 - علل نشوء أقدم الحضارات واستقرارها في إقليم وادي النيل أو علل قيام ازدهار الزراعة في إقليم وادي النيل .

- بسبب وفرة الماء وتواجد التربة الخصبة والمناخ المعتدل .

9- علل الوطن العربي يُشكل كُلاً لا يتجزأ رغم أقاليمه السبعة أو علل الوطن العربي يُشكل إقليماً طبيعياً وبشرياً واحداً :

- لأن الصحراء الممتدة من الخليج العربي إلى المحيط الأطلسي تُشكل رابطاً طبيعياً بين أقاليمه . إضافة للغة العربية

الواحدة والأصل الواحد والثقافة المُشتركة .

2023

هاااااااا

معلومات من الدرس :

- في الوطن العربي سبعة أقاليم . - الأقاليم الطبيعية للوطن العربي لا تشكل سبباً لتجزئته .

- إقليم شبه الجزيرة العربية مُحاط بالماء من ثلاث جهات عدا الجهة الشمالية .

- يتميز إقليم شبه الجزيرة العربية بحدوده الطبيعية الواضحة .

- نشأت أقدم الحضارات الإنسانية المستقرة في إقليم وادي النيل .

- يوجد الربع الخالي في إقليم شبه الجزيرة العربية . ويوجد سهل الغاب في بلاد الشام (سوريا) .

- توجد في القسم الآسيوي الأقاليم الجغرافية الآتية : إقليم بلاد الشام - إقليم بلاد الرافدين - إقليم شبه الجزيرة العربية .

- توجد في القسم الإفريقي الأقاليم الجغرافية الآتية : إقليم وادي النيل - إقليم القرن الإفريقي - إقليم ليبيا - إقليم المغرب العربي .

3,170 مليون كم مربع	السعودية الكويت البحرين - قطر الإمارات العربية سلطنة عمان اليمن	- يشرف على مضائق بحرية هامة . - اكتشاف احتياطي ضخم من النفط والغاز على المستوى العالمي . - مقصد الحجاج من كل دول العالم . دورة 2020	الجزء الجنوبي الشرقي من الوطن العربي في آسيا العربية . دورة 2020	شبه الجزيرة العربية
3,507 مليون كم مربع	مصر السودان	جسر بري يصل آسيا العربية بإفريقيا وكذلك يصل إفريقيا الاستوائية بالبحر المتوسط - فيه حضارات مصرية قديمة إضافة للأهرامات. - فيه قناة السويس التي تعد أهم مضيق وممر مائي في العالم . يعد الإقليم سلة الغذاء العربي .	الجزء الشمالي الشرقي من قارة إفريقيا .	وادي النيل
783 ألف كم مربع	الصومال جيبوتي جزر القمر الإسلامية أريتريا	له موقع جغرافي متميز يُشرف من الشرق على البحر الأحمر ومضيق باب المندب و خليج عدن والمحيط الهندي , ويحده من الشمال السودان ومن الغرب الحبشة وكينيا . تعد سواحله من المصائد البحرية العربية الهامة .	يمتد على الساحل الشرقي لإفريقيا	القرن الإفريقي
1,759 مليون كم مربع	ليبيا	- صلة وصل بين إقليم وادي النيل وإقليم والمغرب العربي . وكذلك بين دول إفريقيا الوسطى والبحر المتوسط . - يمتلك ثروات نفطية ضخمة . - غنى سواحله بالأسماك والإسفنج .	يتوسط الساحل الشمالي لإفريقيا	ليبيا دورة 2019
4, 25 مليون كم مربع بما فيها الصحراء الغربية	المملكة المغربية الجزائر تونس موريتانية	- يحده من الشمال والشرق البحر المتوسط ومن الغرب المحيط الأطلسي . يتحكم بمضيق جبل طارق . - امتلاكه أراضي زراعية خصبة . - يحتل المركز الأول عربياً في صيد الأسماك والاسفنج . - توافر ثروات باطنية مهمة كالحديد والنفط والفسفات دورة 2018-2021	الجزء الشمالي الغربي من الوطن العربي من إفريقيا العربية .	المغرب العربي

- عزيزي الطالب أغلب الأسئلة من هذا الدرس إما موازنة بين إقليمين أو اختيار من متعدد أو اختر الإجابة الصحيحة
فيرجى الانتباه جيداً وأخذ الحيطة والحذر. ومن هذا المنطلق وضعت المعلومات على شكل جداول لسهولة الحفظ .

أسئلة الدرس

- 1 - علل وجود أقاليم جغرافية عدّة تتوزع على جناحي الوطن العربي الآسيوي والإفريقي .
- بسبب مساحة الوطن العربي الشاسعة .
- 2- علل أهمية إقليم بلاد الشام الجغرافية : لكونه منفذ لآسيا الوسطى و الغربية على البحر المتوسط . والجسر الذي يصل آسيا بإفريقيا . وتمر عبره أقصر الطرق البرية إلى أوروبا عبر الأناضول .
- 3 - علل أهمية إقليم بلاد الشام التاريخية : بسبب تواجد فيه عدة مواقع تاريخية هامة مثل تدمر في سوريا ، والبتراء في الأردن
- 4 - علل أهمية إقليم بلاد الشام الدينية : لأنه يضم مدن دينية هامة مثل القدس وبيت لحم مهد السيد المسيح . إضافة لمدينة دمشق عاصمة الأمويين و أقدم عاصمة في التاريخ , و التي تُعد رابطاً لثقافات وحضارات عدّة تعاقبت على المنطقة .
- 4 - علل أهمية إقليم العراق الزراعية : بسبب مرور نهري دجلة والفرات بأراضيه و تربته الخصبة .
- 5 - علل أهمية إقليم العراق التاريخية : بسبب نشوء حضارات متعاقبة على أراضيه لها أثر عظيم في الحضارة الإنسانية مثل : الحضارة (البابلية – الأكادية) .
- 6 - علل أهمية إقليم شبه الجزيرة العربية التاريخية والدينية : أ - الموطن الأصلي للقبائل العربية .
ب - مركز انطلاق رسالة الإسلام إلى كل بقاع الأرض .
ج - مقصد الحجاج من كل بلاد العالم .
- 7 - علل أهمية إقليم شبه الجزيرة العربية الإستراتيجية : إشرافه على مضائق بحرية مهمة عالمياً .
- 8 - علل أهمية إقليم شبه الجزيرة العربية الاقتصادية : بسبب اكتشاف الاحتياطي الأضخم من النفط و الغاز على المستوى العالمي في أراضيه .
- 9 - علل إقليم وادي النيل ذا شأن في السياحة العالمية أو عدد مقومات السياحة في إقليم وادي النيل .
- بسبب الحضارة المصرية القديمة والأهرامات وانتشار المرجان في البحر الأحمر و وجود قناة السويس فيه .
- 10 - علل الأهمية الإستراتيجية لإقليم وادي النيل : لأنه يُعتبر سلة غذاء الوطن العربي و وجود قناة السويس فيه .
- 11 - علل يعاني معظم سكان إقليم القرن الإفريقي من سوء التغذية والمجاعة :
- بسبب استخدام الوسائل البدائية في الزراعة والصيد . إضافة للصراعات والحروب الأهلية .
- 12- علل ضعف الإنتاج الزراعي في ليبيا :
- بسبب اتساع المساحات الصحراوية . وقلة الأراضي الزراعية فيه التي تقدر بحوالي 5% من المساحة العامة للبلاد.
- 13 - علل تنوع الغلات الزراعية والمراعي في الوطن العربي :
- بسبب امتداده الكبير على مساحات واسعة وتنوع أقاليمه المناخية والنباتية .



معلومات من الدرس

- يُعد إقليم بلاد الشام بوابة آسيا العربية على أوروبا .
- يعد إقليم العراق (بلاد الرافدين) منبع الحضارات .
- تفصل جبال زاغروس وطوروس إقليم العراق عن إيران وتركيا , ويندمج في بادية الشام من الغرب .
- وصحراء شبه الجزيرة العربية من الجنوب .
- يُطل إقليم العراق على الخليج العربي . بطول 90 كم . ويعد إقليم عربستان غرب إيران امتداداً طبيعياً للعراق
- انطلقت رسالة الإسلام من إقليم شبه الجزيرة العربية الذي يُعد الموطن الأصلي للعرب .
- يعد إقليم وادي النيل الجسر البري الذي يصل بين آسيا العربية بإفريقيا .
- الإقليم الذي يعد سلة غذاء الوطن العربي : هو إقليم وادي النيل .
- انفصل جنوب السودان عن شماله عام : 2011 م .
- يعد خليج سرت أهم مظهر جغرافي في إقليم ليبيا .
- يطل إقليم ليبيا على خليج سرت .
- يخترق خط الاستواء إقليم القرن الإفريقي من جنوبه .
- أكبر أقاليم الوطن العربي مساحة هو إقليم : المغرب العربي .
- أصغر أقاليم الوطن العربي مساحة هو إقليم : بلاد الشام .

2023

مساحة كل دولة عربية

الدولة	سوريا	لبنان	الأردن	فلسطين	السعودية	الكويت	البحرين
المساحة بكم ²	185,182	10,452	89,342	27,090	2,249,000	17,812	622
الدولة	قطر	الإمارات	سلطنة عمان	اليمن	مصر	السودان	الصومال
المساحة بكم ²	22,014	83,600	314,000	482,683	1,001,449	2,505,813	637,657
الدولة	إريتريا	جيبوتي	جزر القمر	المغرب	الجزائر	تونس	موريتانيا
المساحة بكم ²	120,000	23,200	2,171	248,000	2,381,000	163,610	1,085,000

حل الأنشطة والتدريبات

أولاً : ضع إشارة (√) امام العبارة الصحيحة وإشارة (×) امام العبارة الغلط فيما يأتي :

1 – انطلقت رسالة الإسلام من إقليم شبه الجزيرة العربية : √

2- يُعد إقليم وادي النيل الجسر الذي يصل آسيا بإفريقيا : √

3 – يقع الإقليم الليبي في شرقي الوطن العربي : ×

ثالثاً : انسب المدن الآتية إلى دولها : - القدس : فلسطين . - المنامة : البحرين . - القاهرة : مصر .

- الرباط : المغرب . - مقديشو : الصومال .

ثالثاً : أعطِ تفسيراً لكل مما يأتي :

1 – أهمية إقليم بلاد الشام الدينية : - لأنه يضم مدن دينية هامة مثل القدس وبيت لحم مهد السيد المسيح . إضافة لمدينة دمشق عاصمة الأمويين و أقدم عاصمة في التاريخ .

2 – ضعف الإنتاج الزراعي في ليبيا :

- بسبب اتساع المساحات الصحراوية . وقلة الأراضي الزراعية فيه التي تقدر بحوالي 5% من المساحة العامة للبلاد

3 – الأهمية الزراعية لإقليم العراق : - بسبب مرور نهري دجلة والفرات فيه و تربته الخصبة .

رابعاً : اذكر ثلاثة مقومات سياحية في إقليم وادي النيل :

أ - الحضارة المصرية القديمة . ب – وجود الأهرامات . ج - وجود المرجان في البحر الأحمر .

خامساً : وازن بين إقليمي شبه الجزيرة العربية وليبيا من حيث : الموقع والأهمية الاقتصادية :

الإقليم	الموقع	الأهمية الاقتصادية
شبه الجزيرة العربية	- الجزء الجنوبي الشرقي من الوطن العربي في آسيا العربية . دورة 2020	- يشرف على مضائق بحرية هامة . - اكتشاف احتياطي ضخم من النفط والغاز على المستوى العالمي . - مقصد الحجاج من كل دول العالم . دورة 2020
ليبيا دورة 2019	- يتوسط الساحل الشمالي لإفريقيا.	- يمتلك ثروات نفطية ضخمة . - غنى سواحلها بالأسماك والإسفنج .

حل أنشطة الوحدة الأولى وتدريباتها

أولاً : أكمل الفراغات بالعبارات الجغرافية المناسبة :

1 – يتميز الوطن العربي بموقع فلكي مميز .

2 – سوريا هي الجزء الشمالي من إقليم بلاد الشام .

3 – قامت الدول الاستعمارية ترسيخاً لتجزئة الوطن العربي بزرع حدود اصطناعية في قلبه .

ثانياً : أكمل خريطة المفاهيم الآتية التي تمثل الحدود الطبيعية للوطن العربي :



ثالثاً : وضح المقصود بمفهوم الإقليم :

- هو مساحة من الأرض تمتلك مجموعة من الخصائص الطبيعية والبشرية التي تميزها عن الأقاليم الأخرى.

رابعاً : رتب أقاليم الوطن العربي بحسب مساحة كل منها :

الإقليم	بلاد الشام	العراق	القرن الإفريقي	ليبيا	شبه الجزيرة العربية	وادي النيل	المغرب العربي
المساحة	402 ألف كيلو متر مربع	435 ألف كيلو متر مربع	783 ألف كيلو متر مربع	1,759 مليون كيلو متر مربع	3,170 مليون كيلو متر مربع	3,507 مليون كيلو متر مربع	4,25 مليون كيلو متر مربع

خامساً : أعط تفسيراً علمياً لكل مما يأتي :

1 – أهمية الموقع الجغرافي للوطن العربي :

أ – وقوعه بين قارات العالم جعله طريقاً للمواصلات البرية والبحرية والجوية .

ب- إشرافه على بحار ومحيطات مهمة . ج – تحكمه بمضائق بحرية هامة .

2 - الأهمية الروحية والثقافية للوطن العربي :

- بسبب كونه مهد الديانات السماوية (الإسلامية - اليهودية - المسيحية) والحضارات القديمة .

3 - تنوع الغلات الزراعية والمراعي في الوطن العربي : بسبب امتداده الكبير على مساحات واسعة وتنوع أقاليمه المناخية والنباتية .

الوحدة الثانية

الوحدات التضاريسية في الوطن العربي

الدرس الأول

دورة 2020

1 - ما صفات السواحل في الوطن العربي :

أ - تشكل معظم حدود الوطن العربي .

ب - هي سواحل طويلة قليلة الخلجان والجزر .

ج - قلة الأماكن الصالحة لإقامة موانئ طبيعية .

2- علل : على الرغم من طول السواحل العربية إلا أنها فقيرة بالموانئ الطبيعية : بسبب قلة الرؤوس و الخلجان والجزر

مقارنة دورة 2018

3 - تحدث عن السهول الساحلية والسهول الفيضية في الوطن العربي :

السهول الساحلية

- تكونت بفعل الحت والترسيب الشاطئي , ومن الحقيبات التي رسبتها الأنهار والسيول . وتظهر على شكل شريط يختلف

اتساعه بحسب اقتراب المرتفعات الجبلية وأطراف الهضاب من الساحل . و تختلف خصوبتها تبعاً لاختلاف الظروف المناخية فالسهل الساحلي في موريتانيا شبه صحراوي قليل السكان , أما السهول الساحلية لبلاد الشام كثيفة السكان .

السهول الفيضية :

- تكونت تربتها على جوانب الأنهار نتيجة الترسيب النهري . وتمتاز بخصوبة تربتها المتجددة (علل) بسبب استمرار تجدد

الترسيب النهري الذي يؤدي إلى تجدد التربة . مما جعلها مراكز زراعية وحضارية منذ القدم كسهول الرافدين والنيل

4 - علل تفاوت اتساع الشريط الساحلي العربي :

- بحسب اقتراب وابتعاد المرتفعات الجبلية وأطراف الهضاب من الساحل .

5 - صنف جبال الوطن العربي من حيث نشأتها وتشكلها . أو تحدث عن الجبال في الوطن العربي من حيث النشأة

(انتبه قد يأتي سؤال صح و خطأ أو اختيار من متعدد)

دورة 2025

والتشكل .

أ - جبال التوائية : كجبال الاطلس في المغرب العربي .

2021

ب - جبال انكسارية : كالمرتفعات الشرقية والغربية للبحر الأحمر

ج - جبال التوائية تعرضت للانكسارات : كسلسلة جبال بلاد الشام .

6- عدد الصفات العامة للجبال في الوطن العربي :

هااام

- أ - تشكل إطاراً طبيعياً يحيط بالوطن العربي .
ج - تتألف من سلسلتين متوازيتين ساحلية و داخلية .
ب - معظم صخورها **كلسية** , تساير السواحل .
ح - تحصر بينها هضاب او سهول او أودية .

7 - ما صفات السلاسل الساحلية في الوطن العربي :

هااام

- أ - تتصف بانحدارها اللطيف نحو البحر .
ج - تخصصها ببعض الزراعات وتأثيرها في النشاط السياحي .
ح - تحصر كل سلسلتين هضاباً كهضبة الشطوط في سلاسل الأطلس , أو تحصر سهولاً وأودية وحفرأً انهدامية .
8 - علل استقطاب السكان من السهول الساحلية الضيقة إلى السلاسل الجبلية الساحلية في الوطن العربي :

دورات هaaaaaaaaاام

- ب - ومناخها المعتدل .
ج - بسبب انحدارها اللطيف نحو البحر ومناخها المعتدل وتخصصها ببعض الزراعات .
9 - علل تنوع الهضاب في الوطن العربي : بسبب عوامل التعرية والتغيرات المناخية .
10- ما صفات الهضاب في الوطن العربي أو تحدث عن الهضاب في الوطن العربي .

- أ - تشغل الهضاب معظم مساحة الوطن العربي .
ب - كان الوطن العربي هضبة واحدة ممتدة من وادي الفرات شمالاً حتى بحر العرب جنوباً .
ج - تتشكل البحر الأحمر قسماًها إلى هضبتين أساسيتين هما :

- 1 - الهضبة العربية الإفريقية .
2 - هضبة شبه الجزيرة العربية .
ح - تأثرت هذه الهضاب بعوامل التعرية والحت والتغيرات المناخية .

2022

11 - عدد أهم المظاهر التضريسيّة للهضاب الداخلية في الوطن العربي :

- أ - الصحارى بأنواعها : حجرية وحصوية ورملية كالصحراء الكبرى .
ب - منخفضات : كمنخفض الجوف وواحة سيوة في مصر وأوباري في ليبيا .
ج - أودية جافة : كوادي الرّمة .
خ - الكتل الجبلية المنعزلة : كجبل شُمر وطويق في السعودية .

12- تحدث عن وادي الرّمة في شبه الجزيرة العربية أو علل أهمية وادي الرّمة في شبه الجزيرة العربية :

- يعد أهم المظاهر الطبيعية في هضبة نجد وأكبر وأطول أودية شبه الجزيرة العربية , حيث يقوم بتصريف مياه سيول هضبة نجد .

13- علل يتمتع الوطن العربي بموارد هائلة من الطاقة الشمسية: بسبب تعامد الشمس على أغلب اقطاره وكثرة الأيام التي تظهر فيها الشمس .

معلومات من الدرس :

- أعلى قمة في الوطن العربي هي قمة **طوبقال** في جبال الاطلس المتواجدة في المملكة المغربية
- اخفض منطقة على سطح الأرض هو البحر الميت (413 م) دون سطح البحر.
- تعد جبال سراة اليمن ذات مظاهر **بركانية** .
- تقع جزيرة جربة قبالة السواحل **التونسية** .
- يقع خليج سرت في **ليبيا** .
- السهول الساحلية الموريتانية شبه صحراوية **قليلة السكان** .
- تتألف معظم مساحة الوطن العربي من **هضاب** .
- توجد واحة أباري في **ليبيا** .
- تقع جبال تيبسي والأحجار القديمة في **جنوب أفريقيا العربية** .
- توجد واحة الجوف و سيوة في **مصر** .
- السهول الساحلية في بلاد الشام خصبة **كثيفة السكان** .

حل الأنشطة والتدريبات

أولاً: ضع إشارة (√) أمام العبارة الصحيحة وإشارة (×) أمام العبارة الغلط فيما يلي :

- 1 - سواحل الوطن العربي غنية بالموانئ : ×
 - 2 - أدى تشكل **البحر المتوسط** إلى انقسام الوطن العربي تضاريسياً إلى هضبتين أساسيتين : ×
 - 3 - تُعد المرتفعات الشرقية والغربية للبحر الأحمر جبالاً التوائية وفقاً لتشكلها : ×
- ثانياً : سجل في دفترك ثلاث فكر تبين الصفات العامة للجبال في الوطن العربي .
- أ - تشكل إطاراً طبيعياً يحيط بالوطن العربي .
 - ب - معظم صخورها **كلسية** - تساير السواحل .
 - ج - تتألف من سلسلتين متوازيتين ساحلية و داخلية .
- ثالثاً : أكمل العبارات الجغرافية الآتية بالكلمات المناسبة :
- 1 - تمتاز السواحل العربية **بطولها وبقلة الأماكن الصالحة لإقامة موانئ طبيعية** كما أن الجزر المقابلة لها **قليلة** العدد والأهمية .
 - 2 - تظهر الجبال في جهات عدة من الوطن العربي . ولا سيما عند **أطرافه باستثناء بعض الكتل المنفردة** .

رابعاً : قارن بين السهول الساحلية والسهول الفيضية . وفق العناصر الموجودة في الجدول الآتي :

السهول	الموقع	آلية التشكل
السهول الساحلية	جوانب البحار.	تشكلت بفعل الحت والترسيب الشاطئي .
السهول الفيضية	جوانب الأنهار.	تشكلت بفعل الحت والترسيب النهري .

1 - عدد الوحدات التضاريسية في سوريا :

أ - المنطقة الساحلية .

ب - المنطقة الجبلية الغربية .

ج - منطقة المقعرات الالتوائية والحفر الانهدامية .

د - منطقة الهضاب والسهول الداخلية .

2- تكلم عن المنطقة الساحلية وامتدادها في سوريا :

- تشغل الجهة الغربية من سوريا ممتدة بين خليج السويدية شمالاً و مصب نهر الكبير الجنوبي جنوباً .

ويلي الساحل شريطاً من السهول الساحلية تشكلت نتيجة الحت والترسيب الشاطئي. وتختلف صفات الساحل والسهول

الساحلية بين شمال اللاذقية وجنوبها .

دورة 2016

- في **شمال اللاذقية**: تقترب سلسلة الجبال الغربية من البحر مما أدى الى وجود سواحل صخرية مرتفعة كثير التعاريج

تكثر فيها الرؤوس والخلجان . كخليج (السويدية) الذي يعد أهم الخلجان (علل) نظراً لاتساعه وحمايته من الرياح .

- في **جنوب اللاذقية**: فهي واسعة رملية قليلة التعاريج والارتفاع (علل) لابتعاد السلاسل الجبلية عن الساحل

كسهول جبلة . المقابلة لجزيرة أرواد .

(قد يأتي من الفقرة السابعة تعليل أو موازنة بين ساحلي اللاذقية الشمالي والجنوبي)

هاااااا

3- تكلم عن المنطقة الجبلية الغربية في سوريا :

- تعرضت غربي سوريا لحركات التوائية انكسارية أدت إلى تشكل سلسلتين جبليتين متوازيتين يغلب عليهما الصخور

الكلسية وتحصران بينهما مقعرات وحفر انهدامية بحيث تتجه السلسلتان من الشمال إلى الجنوب .

وتتألف المنطقة الجبلية الغربية في سوريا من :

أ - **سلسلة الجبال الساحلية الغربية**: تتألف من ثلاث كتلٍ أعلاها جبال الأمانوس و البايير و البسيط والأقوع تليها جبال

اللاذقية التي تنتهي عند نهر الكبير الجنوبي .

ب - **سلسلة الجبال الشرقية الداخلية**: تستمر حتى منخفض الحولة وأهم جبالها جبل حلب و جبل الزاوية وسلسلة جبال

2023-2024

لبنان الشرقية وفيها جبل الحرمون (جبل الشيخ) الذي يعد **أعلى قمة** جبلية في سوريا

بارتفاع (2814 م). وتتفرع عن سلسلة جبال لبنان الشرقية جبال القلمون .

ملاحظة: تتصف سفوح السلسلتين الساحلية الغربية والشرقية الداخلية بانحدارهما بشدة نحو منطقة المقعرات والحفر الانهدامية الواقعة بينهما . إضافة أنها تضم سهولاً كسهل الغاب المتطاوول ما بين جبال اللاذقية غرباً وجبل الزاوية شرقاً .

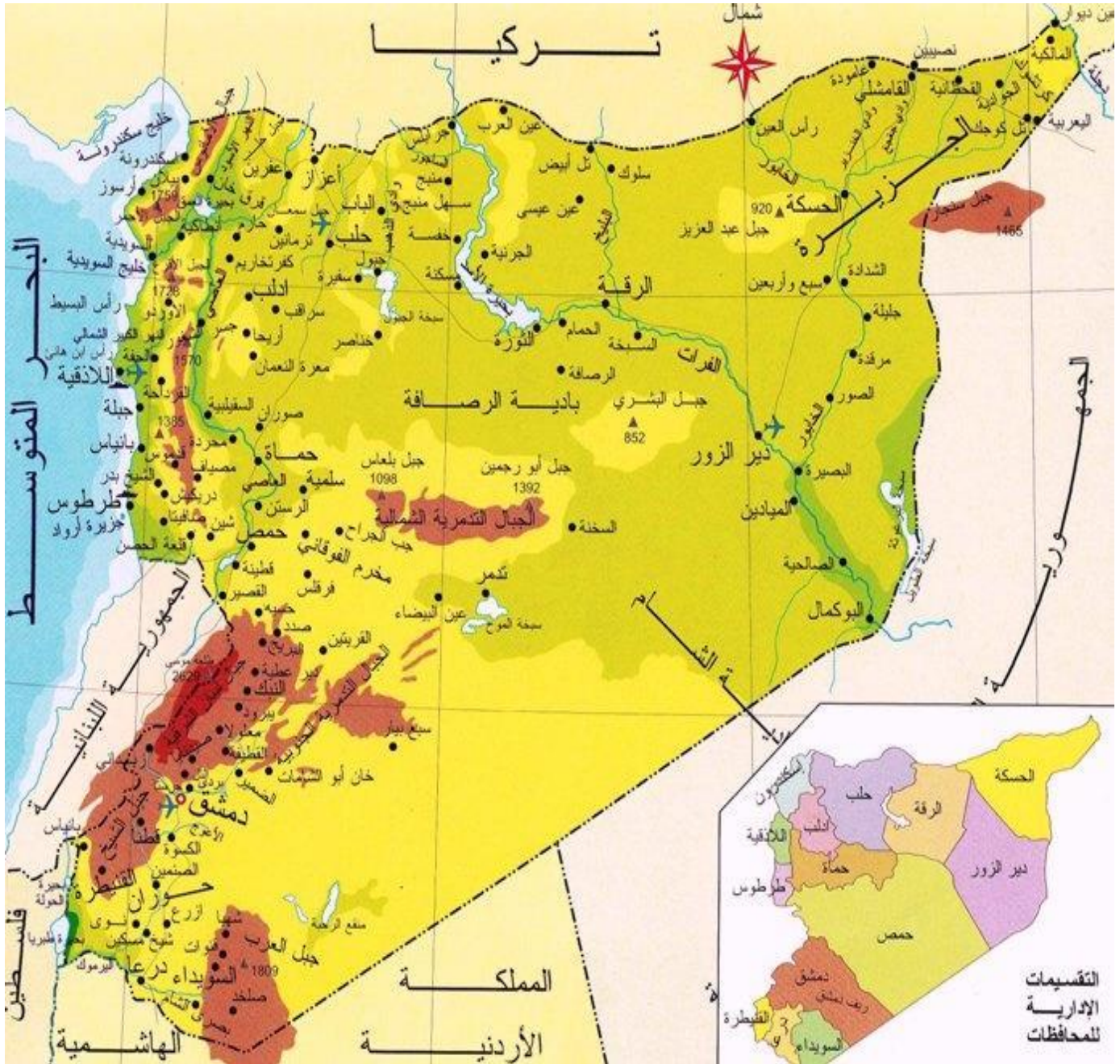
9- علل أهمية حوضه تدمر :

- لغناها بالموارد الطبيعية كالمراعي والملح والثروات الباطنية كمناجم الفوسفات وحقول الغاز .

معلومات من الدرس :

- يقع خليج السويدية بين رأس الخنزير ورأس البسيط .

- يُعد سهل الغاب المصدر الرئيس للخطر الزلزالي في سوريا وغرب بلاد الشام عموماً .



- **الجبال المهمة في الامتحان :** جبال اللاذقية - جبل العرب - جبل عبد العزيز - جبل الشيخ - الجبال التدمرية

- جبال الامانوس - جبل البشري . إضافة لسهل الغاب الذي يمتد غربي إدلب .

- **عزيزي الطالب :** انتبه لتحديد مواقع الجبال سيأتي تحديد موقع إحداها على الخريطة في الامتحان .

فما عليك في الامتحان إلا أن تكتب اسم الجبل في منتصف موقع الجبل , فأنت لست مطالب برسم امتداد الجبل على الخريطة أثناء الامتحان .

- أ - الجفاف وعدم انتظام كمية الأمطار ومواعيد هطولها .
 ب - ارتفاع الحرارة في معظم المناطق الداخلية .
 ج - انقسام السنة الى فصلين واضحين الصيف والشتاء .
 5- علل ارتفاع الحرارة في معظم أرجاء الوطن العربي :
 - بسبب تعامد أشعة الشمس صيفاً على المنطقة الواقعة بين خط الاستواء ومدار السرطان .
 6 - علل تناقص درجات الحرارة في جنوب الوطن العربي : بسبب الأمطار الصيفية التي تسببها الرياح الموسمية المدارية الرطبة
 7- علل تناقص درجات الحرارة في شمال الوطن العربي : بسبب الابتعاد عن مدار السرطان مع تعرض الأجزاء الشمالية لرياح من اتجاهات مختلفة تغلب عليها الرياح الغربية .
 8 - علل ارتفاع درجات الحرارة شتاءً في الأجزاء الجنوبية من الوطن العربي :
 - بسبب تعامد أشعة الشمس على المنطقة الواقعة بين خط الاستواء ومدار الجدي .
 8 - علل تناقص درجات الحرارة شتاءً في شمال الوطن العربي :
 - بسبب تعرض معظم بلدان الوطن العربي لرياح غربية وشمالية وشرقية .
 9 - علل تناقص درجات الحرارة في المناطق الداخلية من الوطن العربي : بسبب البُعد عن المؤثرات البحرية .
 10 - علل الأطراف الشمالية للوطن العربي معتدلة الحرارة :
 - لأن البحر يُعدل حرارة الأطراف الشمالية برياحه الغربية المحملة بالأمطار .

2017 - 2022 - 2025

- 11- ما صفات الرياح المحلية في الوطن العربي في فصلي الربيع والخريف .
 أ - هي رياح حارة وجافة لمدة قصيرة .
 ب - متقطعة قادمة من الصحراء .
 ج - محملة بالرمال تُسمى بأسماء محلية .
 (قد يأتي سؤال تكلم عن الرياح المحلية أو عرف الرياح المحلية أو ما صفات الرياح المحلية فالجواب واحد)

دورات سابقة هالام

12- ما أسماء الرياح المحلية في الوطن العربي :

السموم في بلاد الشام - الخماسين في مصر - الهبوب في السودان - الشراقي في المغرب - القبلي في ليبيا .

دورة 2018

13- ما نظام الأمطار في الوطن العربي :

- أ - النظام المتوسطي : تهطل فيه الأمطار في فصل الشتاء بسبب الرياح الغربية الرطبة .
 ب - النظام المداري : تهطل فيه الأمطار في فصل الصيف بسبب الرياح الجنوبية الغربية (المدارية الموسميّة) .

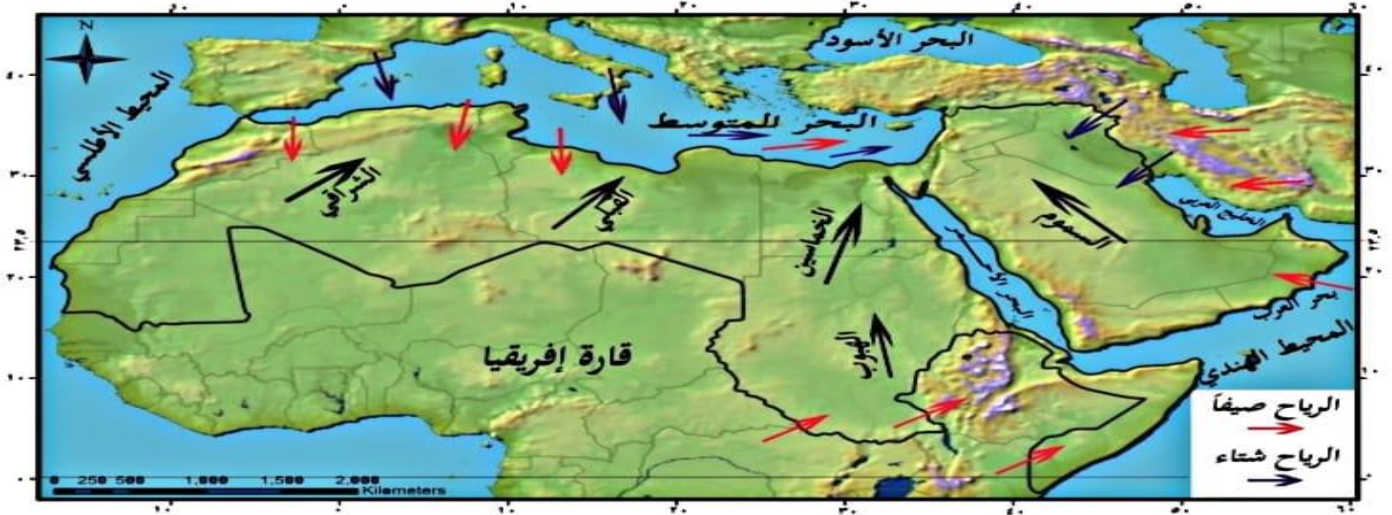
معلومات من الدرس :

هالام

- تتناقص درجات الحرارة في فصل الشتاء في الأجزاء الشمالية من الوطن العربي .

هالام

- ترتفع درجات الحرارة في فصل الشتاء في الأجزاء الجنوبية من الوطن العربي .



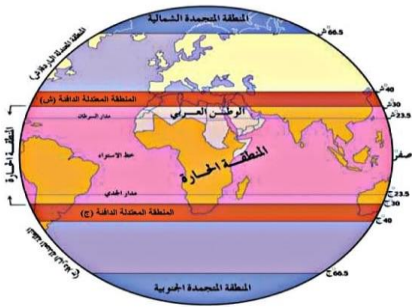
الخريطة (3) الرياح صيفاً وشتاءً والرياح المحلية في الوطن العربي

حل الأنشطة والتدريبات

أولاً : اختر الإجابة الصحيحة مما يأتي :

- 1 - يقع الوطن العربي في المنطقتين الحراريتين : **الحارة والمعتدلة الحارة** .
- 2 - تهب رياح السموم في الوطن العربي على : **بلاد الشام** .
- 3 - تتناقص درجات الحرارة في فصل الشتاء في الوطن العربي باتجاه : **الشمال** .

ثانياً : أكمل خريطة المفاهيم الآتية :



الشكل (4) المناطق الحرارية

صفات الرياح المحلية في الوطن العربي

حارة جافة	رياح محلية	تهب لفترة قصيرة	متقطعة قادمة من الصحراء	محملة بالرمال
-----------	------------	-----------------	-------------------------	---------------

ثالثاً : ما الصفات العامة لمناخ الوطن العربي :

- أ - ارتفاع الحرارة في معظم المناطق الداخلية .
 - ب - انقسام السنة الى فصلين واضحين الصيف والشتاء .
 - ج - عدم انتظام كمية الأمطار ومواعيد هطولها إضافة للجفاف .
- رابعاً : أعط تفسيراً لكل مما يلي :

- 1 - هطول الأمطار في فصل الصيف في الوطن العربي : - بسبب الرياح الموسمية المدارية الرطبة .
- 2 - تتناقص درجات الحرارة صيفاً في الوطن العربي ابتداءً من مدار السرطان بالاتجاه جنوباً .
- بسبب هطول الأمطار الصيفية التي تسببها الرياح الموسمية المدارية الرطبة .

عزيزي الطالب هذا الدرس يحوي على معلومات كثيرة ومتشعبة . ولكي أسهل عليك حفظ المعلومات رأيت من الأفضل أن أضع معلومات الدرس على شكل جدول لأنه سيأتي منه سؤال موازنة في الامتحان غالباً .

الإقليم	الامتداد والانتشار	الحرارة	هطول الأمطار	النباتات	الحيوانات
المتوسطي دورة 2017 2025	يمتد شمالي الوطن العربي بين درجتي عرض (37,30) درجة و (28 درجة) شمال خط الاستواء	في الصيف حار جاف وفي الشتاء معتدل ماطر	أمطاره شتوية تقل باتجاه الداخل	غابات الصنوبر والأرز والسنديان	غزلان سناجب أرانب
الصحراوي دورة 2017 2025	يمتد بين درجتي عرض (15 - 28) درجة شمال خط الاستواء يشغل 80% من مساحة الوطن العربي	أشد الأقاليم حرارة فالحرارة مرتفعة في أغلب الفصول	أمطاره نادرة غير منتظمة تسقط في أوقات قصيرة . يعد أكثر الأقاليم جفافاً	النخيل الشوكيات أعشاب حولية	الإبل الزواحف الصحراوية
المداري	يمتد بين درجتي عرض (8 - 15) درجة شمال خط الاستواء	حار دائماً	تهطل فيه الأمطار في الصيف تطول مدة هطولها في الجنوب لتصل إلى تسعة أشهر هام دورة سابقة	أعشاب السافانا الماهوجاني أشجار الهاشباب	أسود زرافات فيلة
الموسمي	في مرتفعات اليمن وعمان	-----	-----	-----	-----
الاستوائي وشبه الاستوائي	أقى جنوب السودان والصومال	-----	-----	-----	-----

عزيزي الطالب إن طلب منك في الامتحان فكرة جزئية من أي إقليم ستجدها ضمن الجدول وإذا طلب منك التحدث عن إقليم ما بشكل عام فاكتب كامل المعلومات الوارد في الجدول عن الإقليم . وانتبه صديقي من الأسئلة الاختيارية فهي كثيرة الورود في الامتحان من هذا الدرس .

1 - علل تنوع النباتات في الإقليم المتوسطي : بسبب اختلاف كميات الأمطار الهائلة عليه .

بعض المعلومات الواردة في الدرس :

1 - جميع الأقاليم المناخية في الوطن العربي حارة باستثناء الإقليم المتوسطي .

2 - يغطي الإقليم المتوسطي معظم السهول الساحلية التوسطية والأطلسية والمناطق الجبليّة المطلة عليها .

2018 - يستخرج الصمغ العربي من أشجار الهاشاب .

2021 - يتواجد الإقليم الاستوائي وشبه الاستوائي في أقصى جنوب السودان والصومال .

5 - يتواجد الإقليم الموسمي في مرتفعات اليمن وعمان .

6 - يعد الإقليم الصحراوي منطقة انتقالية بين الإقليم المتوسطي والإقليم المداري .

دورة سابقة

حل الأنشطة والتدريبات

أولاً : اختر الإجابة الصحيحة مما يلي :

1 - تهطل الأمطار في الإقليم المداري في الوطن العربي في : فصل الصيف .

2 - يعد الإقليم الصحراوي منطقة انتقالية بين الإقليمين : المتوسطي والمداري .

3 - يُستخرج الصمغ العربي من أشجار : الهاشاب .

ثانياً : وازن بين الإقليمين المتوسطي والصحراوي وفق عناصر الدول الآتي . الموازنة موجودة في الدرس سابقاً لا داعي لتكرارها .

المناخ و البيئات الطبيعية في سوريا

الدرس الخامس

هاااام دورة 2020

1 - ما الصفات التي يتميز بها مناخ سوريا :

أ - وجود فصلين واضحين هما صيف حار جاف وشتاء مائل للبرودة رطب .

ب - الحرارة تزداد صيفاً من الساحل نحو المناطق الداخلية . وتنخفض شتاءً من الساحل نحو المناطق الداخلية .

ج - الرياح في الصيف تكون غربية رطبة في المناطق الساحلية . أما في الشتاء فتهب رياح غربية تسبب هطول الأمطار .

وتهب في بعض أيامه رياح شمالية وشمالية شرقية باردة جافة تسبب الصقيع .

أما في الخريف والربيع تهب رياح السموم التي تكون حارة محملة بالأتربة والغبار .

ح - الأمطار شتوية وفيرة في الغرب والشمال بسبب القرب من البحر وتتناقص نحو الشرق و الجنوب بسبب الابتعاد عن البحر .

2 - عرف الجفاف : هو فترة من الوقت قد تمتد لأشهر أو سنوات بحيث يتعرض جزء من الأرض لنقص في هطول

الأمطار محدثاً ضرراً كبيراً في التربة والمحاصيل والحيوانات والبشر .

3 - علل ضعف المؤثرات البحرية نحو المناطق الداخلية والبادية في سوريا :

- بسبب اتجاه الجبال الساحلية الموازية للساحل وارتفاعها .

دورة 2021

4 - علل تقسيم العلماء مناخ سوريا إلى أربعة مُناخات :

- بسبب وجود الجبال الساحلية وارتفاعها , وانفتاح البادية السورية على المؤثرات القارية من جهة الشرق .

5- عدد المُناخات في سوريا :

أ - المناخ المتوسطي الرطب .

ب - المناخ المتوسطي شبه الرطب .

ج - المناخ المتوسطي شبه الجاف .

د - المناخ المتوسطي الجاف .

6 - عدد مناطق الاستقرار الزراعي في سوريا :

أ - **منطقة الاستقرار الأولى** : أمطارها أكثر من 350 مم في العام . تنقسم إلى قسمين :

1- منطقة معدل أمطارها أكثر من 600 مم . وتكون الزراعات البعلية فيها مضمونة سنوياً .

2 - منطقة معدل أمطارها ما بين 350 إلى 600 مم . حيث يمكن ضمان موسمين في كل ثلاثة سنوات .

أهم محاصيلها الزراعية القمح والبقوليات .

ب - **منطقة الاستقرار الثانية** : معدل أمطارها ما بين 250 - 350 مم ولا تقل عن 250 مم . ويمكن ضمان موسمي

شعير في كل ثلاثة سنوات .

ج - **منطقة الاستقرار الثالثة** : معدل الامطار يزيد عن 250 مم يمكن ضمان موسم أو موسمين كل ثلاثة سنوات .

أهم محصول فيها هو الشعير .

ع - **منطقة الاستقرار الرابعة** (الهامشية) : معدل أمطارها ما بين 200 - 250 مم . ولا يقل عن 200 مم .

لا تصلح لإلزراعة الشعير أو للمراعي الدائمة .

ق - **منطقة الاستقرار الخامسة** (البادية) : تشغل **55%** من أراضي سوريا . غير صالحة للزراعة .

إنما هي منطقة مراعي طبيعية .

7 - علل الغابات تقوم بحماية البيئة **أو** علل أهمية الغابات .

- لأنها تحمي التربة من الانجراف وتنقي الجو من الغبار وتطلق غاز الاكسجين وتمتص غاز ثنائي أكسيد الكربون .

8 - علل تُعد البيئة المتوسطية الجافة أكثر البيئات **جفافاً** :

- بسبب بعدها عن البحر وتواجد الحواجز الجبلية التي تمنع وصول المؤثرات البحرية إلى المناطق الداخلية .

9 - علل سفوح الجبال المواجهة للبحر كالجبال الساحلية تلتقي كمية من المطر أكثر من الكتل الجبلية الداخلية :

- بسبب اتجاه الكتل الجبلية الذي يؤثر في توزيع الأمطار .

معلومات من الدرس

دورة 2016 - 2022

- يسود في سوريا المناخ المتوسطي

-مُنَاخ سوريا معتدل دافئ .

- تهب على سوريا في فصل الشتاء رياح غربية تسبب **هطول الأمطار** .

- تهب على سوريا رياح شمالية وشمالية شرقية باردة جافة تسبب **موجات صقيع**

حل الأنشطة والتدريبات

أولاً : اختر الإجابة الصحيحة مما يلي :

- 1 – تهب على سوريا في فصل الشتاء رياح غربية تسبب : **الأمطار** .
- 2 – يسود في سوريا المناخ : **المتوسطي** .

ثانياً : ضع إشارة (√) بجانب العبارة الصحيحة وإشارة (×) بجانب العبارة الغلط فيما يأتي :

- أ – تمتد سوريا في نطاق المنطقتين الحارة والمعتدلة الباردة : **×** .
- ب – تتناقص الحرارة صيفاً من الساحل نحو الداخل ومن الشمال إلى الجنوب : **×** .
- ثالثاً : بم تُفسر ضعف المؤثرات البحرية في المنطقة الداخلية والبادية :
- بسبب ابتعاد المناطق الداخلية عن البحر و ارتفاع الجبال الساحلية الموازية للساحل السوري .
- رابعاً : قارن بين البيئة المتوسطية الرطبة والبيئة المتوسطية الجافة وفق عناصر الجدول الآتي :
المقارنة موجودة في الدرس بشكل واضح .

الموارد المائية في الوطن العربي

الدرس السادس

1 – علل أهمية المياه في الوطن العربي : بسبب تأثيرها في توزيع السكان والنشاط الاقتصادي .

2 – المياه في الوطن العربي تنقسم إلى قسمين هما :

أ – **مياه جوفية** : وتستخرج هذه المياه إما :

طبيعياً : كالينابيع العذبة في الوديان والواحات وأغزرها الينابيع الفوكلوزية في الصخور الكلسية مثل ينابيع الخابور والأردن في بلاد الشام وأم الربيع في المغرب العربي .

إضافة إلى الينابيع المعدنية في المناطق البركانية وهي ينابيع حارة **نفيد** في العلاج وتساهم في دعم السياحة مثل :

ينابيع **العليل** في العراق و**ليف** في تونس . **2022**

بشرياً : وهي استخراج المياه الجوفية عن طريق حفر الإنسان الآبار في الأرض وتسمى بالفجّارات في سوريا والأفلاج في شبه الجزيرة العربية .

ملاحظة : الفجّارات : هي قنوات باطنية يحفرها الإنسان في المناطق السفحية ذات الصخور الكلسية لجلب المياه من

مسافات بعيدة . **2024**

ب - مياه سطحية : وتشمل

1 - البحيرات : وتُصنّف في مجموعتين :

- بحيرات طبيعية : تشكلت إما بفعل مؤثرات باطنية كبحيرة طبريا . أو بفعل الترسيب كبحيرة المنزلة في مصر .
- بحيرات صناعية : حيث قام الانسان بتشكيلها خلف السدود مثل بحيرة ناصر التي بنيت خلف السد العالي .

2 - الأنهار : وتصنف الأنهار في الوطن العربي الى :

أ - أنهار ساحلية : تنبع من الجبال الساحلية وتصب في البحر أو المحيط . تتصف بأنها قصيرة شديدة الانحدار وغير منتظمة الجريان ومنها نهر العوجاء في بلاد الشام وأم الربيع في المغرب العربي .

ب - أنهار داخلية : تنبع من المرتفعات الداخلية وتجري بين السلاسل الجبلية وتصب في البحار والبحيرات .

وهي أكثر طولاً وغزارةً من الأنهار الساحلية. أهمها نهر الليطاني في بلاد الشام ونهر المجرية في المغرب العربي .

ج - أنهار عابرة : تنبع من خارج الوطن العربي وتجري في أراضيها وتصب في بحاره كنهـر الفرات ودجلة والنيل .

3 - الأودية السيلية : هي مجارٍ مائية مؤقتة تجري فيها المياه في موسم الامطار وتجف بعد توقف الهطول. 2022-2025

مثل وادي الصواب في بلاد الشام ووادي الرمة في شبه الجزيرة العربية ووادي درعه في المغرب .

3 - ما الوسائل الكفيلة بتحقيق الأمن المائي في الوطن العربي :

2021

- تعزيز التعاون المائي بين الدول العربية وإقامة المشاريع المائية المشتركة .

- السعي للمحافظة على المياه و حمايتها والتوصل لحلّول مائية مع دول الجوار .

- ترشيد استهلاك المياه وحمايتها من التلوث والهدر .

- اختيار وسائل التنقية الحديثة لترشيد استهلاك المياه .

4 - ما المشكلات التي يواجهها الأمن المائي العربي :

- الجفاف وتلوث المياه وسوء استخدام الموارد المائية وسلب المياه من قبل دول الجوار .

5 - تحدث عن توزيع المياه السطحية في الوطن العربي :

- 38,5 % من مجموع المياه السطحية المتاحة عربياً في إقليمي حوض النيل والقرن الإفريقي.

- 37 % في إقليمي بلاد الشام والرافدين .

- 19,7 % في إقليمي ليبيا والمغرب العربي .

- 4,8 % في إقليم شبه الجزيرة العربية .

6 - فسر أهمية الأودية السيلية : تساهم في تخزين مياه السيول .

7 - فسر أهمية الينابيع المعدنية : تساهم في جذب السياح وتعد مراكز للاستشفاء .

دورة سابقة

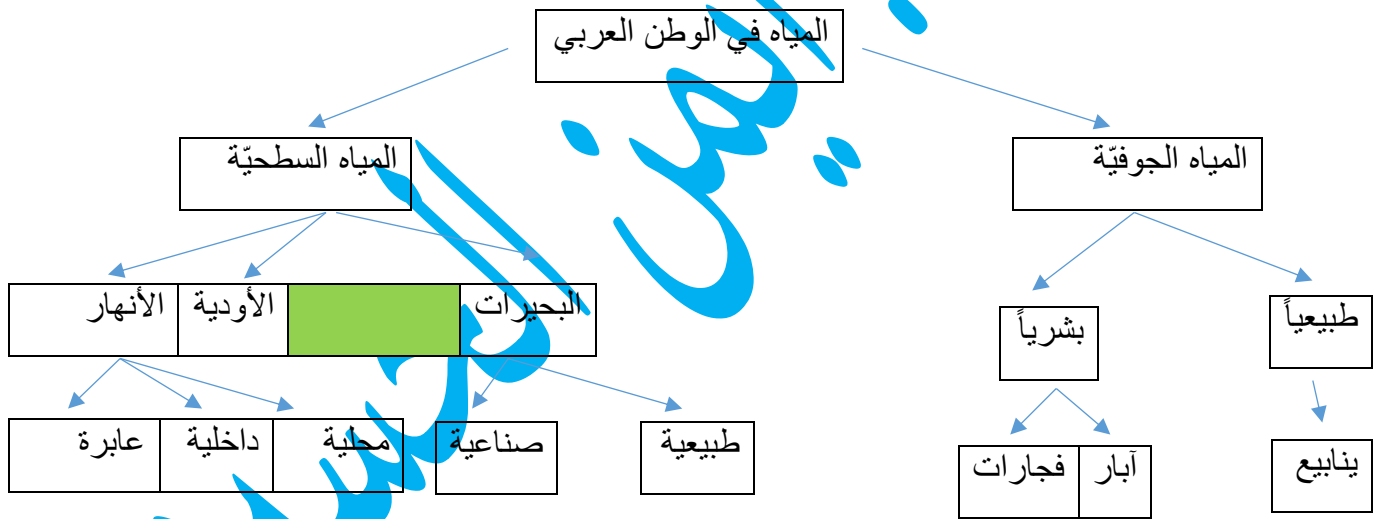
معلومات من الدرس :

- يقع حوالي 80 % من مساحة الوطن العربي في المناطق المناخية الجافة وشبه الجافة .
- الوطن العربي فقير بمياهه مقارنة بمساحته الواسعة .
- من أشكال المياه السطحية السبخات والخبرات .
- أطول نهر في العالم هو نهر النيل بطول : 6657 كم مربع .

حل الأنشطة والتدريبات

أولاً : اختر الإجابة الصحيحة مما يأتي :

- 1 - تُعد بحيرة طبريا من البحيرات : **الطبيعية** .
 - 2 - من مصادر المياه السطحية : **الأنهار** .
 - 3 - من الوسائل الكفيلة بتحقيق الأمن المائي العربي : التعاون العربي - الحفاظ على المياه وحمايتها - إقامة المشاريع المائي المشتركة : **كل ما سبق صحيح** .
- ثانياً : أكمل الفراغات الآتية بالعبارات المناسبة .
- تُصنف أنهار الوطن العربي إلى أنهار **ساحلية** وأنهار **داخلية** وأنهار **عابرة** . - **الأودية السيلية** هي مجارٍ مائية مؤقتة .
- ثالثاً : أكمل خريطة المفاهيم الآتية بالعبارات الجغرافية الآتية .



رابعاً : ما أهم المشكلات التي تواجه الأمن المائي :

الجفاف وتلوث المياه وسوء استخدام الموارد المائية وسلب المياه من قبل دول الجوار .

5- تحدث عن بحيرة قطينة : تقع على بعد 12 كم إلى الجنوب الغربي من مدينة حمص , تشكلت البحيرة من تجمع مياه نهر العاصي خلف لسان بازلتني حيث تخرج منه قناتان لري سهول حمص وحماة . وتوفر البحيرة المياه لمعمل توليد الطاقة الحرارية ومصنع الأسمدة . وقد أصبحت البحيرة موقعاً سياحياً .

6 - تحدث عن المياه الجوفية في سوريا :

- هي مياه تتجمع في باطن الأرض ويتم استخراجها إلى سطح الأرض إما :

- **بشريا** عن طريق حفر الآبار العادية و الارتوازية . أو تخرج بشكل **طبيعي** إلى سطح الأرض على شكل ينابيع حارة كينابيع الشيخ عيسى في إدلب وأبو رباح في حمص . و إما ينابيع باردة للشرب كنبع عين **الفيجة** في ريف دمشق ونبع **السن** في اللاذقية .

7 - ما المخاطر التي تهدد الأمن المائي في سوريا .

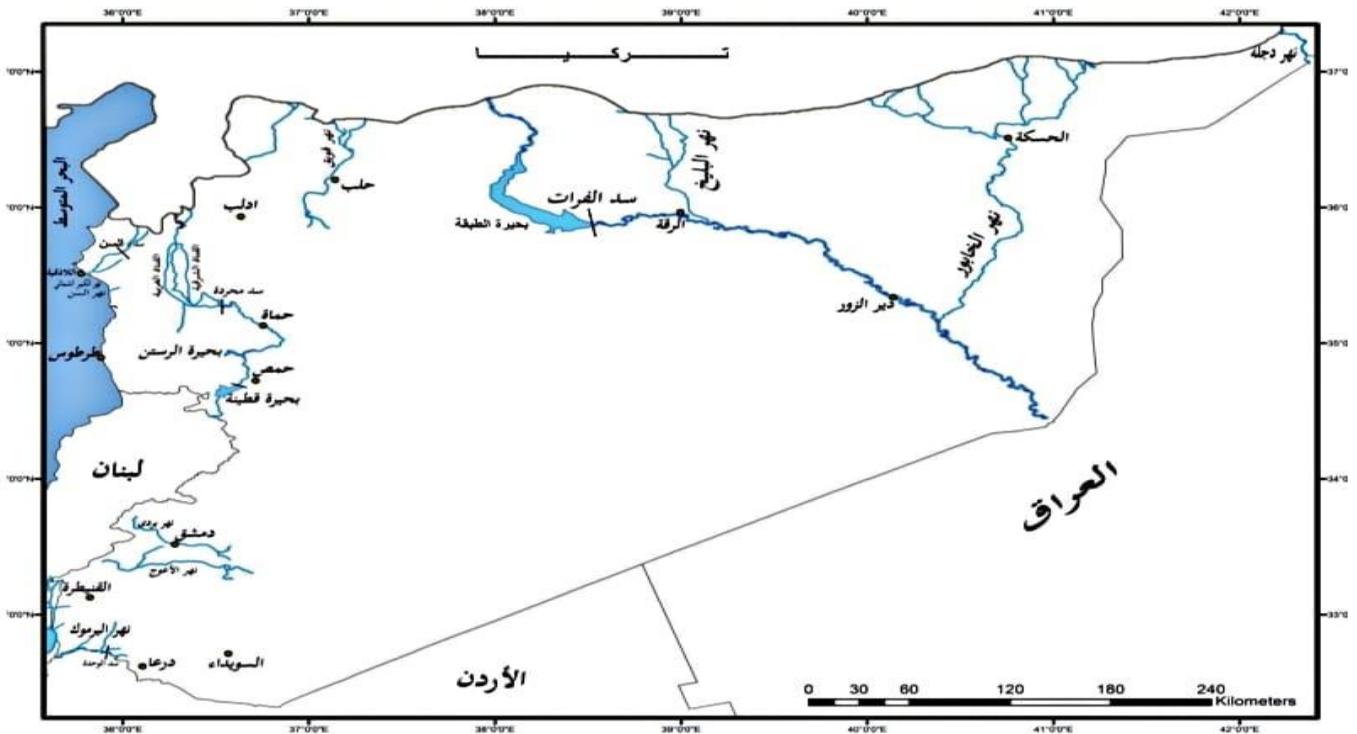
أ - قلة ومحدودية الموارد المائية (علل) **بسبب** سيطرة البيئة الجافة وشبه الجافة على معظم الأراضي السورية

ب - تزايد النمو السكاني وزيادة الطلب على الماء .

ج - التوزيع الجغرافي غير المتوازن بين مصادر المياه المتوافرة ومناطق الاستهلاك .

ف - عدم تطبيق تقنيات الري الحديث في الزراعة . حيث تصل نسبة المياه المستخدمة في الزراعة 89 % من استهلاك المياه الإجمالي في سوريا .

8 - علل تدهور بساتين الغوطة في حوضه دمشق: بسبب استنزاف الموارد المائية وزحف التصحر نحو الأراضي الخصبة



الخريطة (3) مشاريع الري في سورية

- عزيزي الطالب يجب التركيز على رسم مجرى الأنهار والبحيرات في الخريطة بشكل جيد وخاصة مجرى نهر الفرات وروافده ونهر العاصي . كل سنة سيأتي رسم مجرى نهر منها في الامتحان .

حل الأنشطة والتدريبات

أولاً : اختر الإجابة الصحيحة مما يأتي :

1 – ينبع نهر السن من : **جبال اللاذقية** .

2 – تُستخرج المياه الجوفية باستثمارها بشرياً عن طريق : **الآبار** .

3 – بحيرة مسعدة من البحيرات : **الطبيعية** .

ثانياً : ما المقصود بالمياه الجوفية – عملية حصاد المياه :

- المياه الجوفية : هي مياه تتجمع في باطن الأرض ويتم استخراجها لسطح الأرض إما بشرياً أو طبيعياً .

- عملية حصاد المياه : هي عملية حجز مياه الأمطار وتخزينها في أوقات سقوطها بطرق عدة واستخدامها عند الحاجة .

رابعاً : وازن بين كل من نهري العاصي والسن من حيث : المنبع – الطول – المصب – الغزارة . موضحاً ذلك في جدول

النهر	المنبع	الطول	المصب	الغزارة
العاصي	هضبة بعلبك	571 كيلو	البحر المتوسط	87 متر مكعب في الثانية .
السن	جبال اللاذقية	6 كيلو متر	البحر المتوسط	12 متر مكعب في الثانية .

التربة في الوطن العربي

الدرس الثامن

دورة 2017

1- عرف التربة واذكر أقسامها :

هي الطبقة السطحية الرقيقة من القشرة الأرضية تتألف من فتاة صخري ومواد عضوية وكائنات حية وماء وهواء .

أقسامها : سطح خارجي – طبقة سطحية – طبقة تحت السطحية – طبقة الصخر الأم .

أنواع التربة في الوطن العربي

أ – **التربة المتوسطية** : تنتشر في السهول الساحلية المتوسطية والجبال المظلة على البحر المتوسط في بلاد الشام وليبيا والمغرب العربي . حيث تُعد هذه التربة غنية بالمواد العضوية **بسبب** كثافة الغطاء النباتي . وهي صالحة لزراعة الخضار والأشجار المثمرة **وتعاني** هذه التربة من مشكلة انجرافها في المناطق الجبلية **بسبب** تراجع الغطاء النباتي الغابي وكثرة الأمطار الغزيرة في المناطق الجبلية الساحلية .

ب – **التربة الصحراوية** : تغطي **85 %** من مساحة الوطن العربي . حيث تكوّن نطاقاً عريضاً يمتد امتداداً متصلاً من المحيط الأطلسي غرباً إلى الخليج العربي شرقاً . مناخها حار جاف معظم العام وهي من أفقر التربة بالمواد العضوية **بسبب** قلة الغطاء النباتي والأشجار فيها . غير مناسبة للزراعة إلا في بعض الواحات .
تكثر فيها الكثبان الرملية والصحارى الحصوية والحجرية .

ج - **التربة المدارية** : تنتشر في وسط السودان وجنوبه وجنوبي الصومال وفي اليمن وعمان وفي مناطق وجود السافانا وهي تربة خصبة (علل) لغناها بالمواد العضوية والغطاء النباتي . وتعاني هذه التربة من عملية غسل وإزالة العناصر المغذية للنباتات بسبب غزارة الأمطار مما يجعلها أقل خصوبة .

دورة 2019

د - **التربة للحقبة** : لها أهمية زراعية عظيمة تتواجد في أودية الأنهار ودلتا النيل والمنخفضات الداخلية . وهي تربة غنية بالعناصر المعدنية وترتفع فيها نسبة الاملاح قرب مصبات الأنهار (علل) بسبب التصريف السيئ وهي صالحة لأغلب الزراعات .

2 - علل انجراف التربة المتوسطة : بسبب تراجع أعداد الأشجار وغزارة الأمطار .

3 - عرف التصحر واذكر أسبابه : 2021

التصحر هو تدهور الأراضي بسبب الجفاف وسوء استعمالها . مما يؤدي إلى إخراج الأراضي الزراعية والمراعي والغابات من دوائر الاستثمار .

- أسباب التصحر هي : الرعي الجائر وقطع أشجار الغابات والتوسع العمراني وتملح التربة .

4 - ما الأساليب التي اتبعتها البلاد العربية لتثبيت الكثبان الرملية والحد من زحف الصحراء :

أ - زراعة المصدات الريحية . ب - رش الكثبان الرملية بالإسفلت .

حل الأنشطة والتدريبات

أولاً : ما الأقسام الرئيسية للتربة :

أقسامها : سطح خارجي - طبقة سطحية - طبقة تحت السطحية - طبقة الصخر الام .

ثانياً: ما أنواع التربة في الوطن العربي . - التربة المتوسطة - التربة الصحراوية - التربة المدارية - التربة للحقبة .

ثالثاً : عرف التصحر : التصحر هو تدهور الأراضي بسبب الجفاف وسوء استعمالها مما يؤدي إلى إخراج الأراضي الزراعية والمراعي والغابات من دائرة الاستثمار .

التربة في سوريا

الدرس التاسع

1- علل تعاني التربة في المناطق الداخلية السورية من مشكلة تملح وانجراف التربة :

- بسبب طرق الري التقليدية والاستعمال الخاطئ للأراضي الزراعية وقطع الأشجار.

أنواع التربة في سوريا والمشكلات التي تعاني منها

أ - **تربة البحر المتوسط الحمراء** : تنتشر على امتداد الشريط الساحلي والجبالي الساحلية وغرب القنيطرة , حيث تزيد كمية الأمطار على 700 ملم سنوياً . وهي تربة صالحة لأغلب الزراعات من أشجار وخضار وقمح وشعير .

تعاني هذه التربة من الانجراف المائي على السفوح الجبلية (علل) بسبب تزايد قطع الأشجار وانتشار حرائق الغابات .

ب - التربة البنية المحمّرة : تنتشر جنوب غربي سوريا وفي حوض العاصي وأقصى شمال شرقي سوريا . في المناطق ذات معدل الأمطار السنوي بين 300 - 700 ملم . تعد أفضل الترب لزراعة القمح والشعير والعدس واللوزيات وتُزرع فيها التفاحيات في المرتفعات واللوزيات في المناطق السهليّة والمنحدرات وتعاني هذه التربة من التشقق في أوقات الجفاف .

ج - التربة البنية المصفّرة :

- تشكل شريط يحيط بأطراف البادية في المناطق ذات معدل الأمطار السنوي بين 200-300 ملم . وهي صالحة للزراعة البعلية من شعير وخضروات و زيتون وفسق حلي وكروم . إذا توافرت مياه الري لها , وهي تربة تعاني من الجفاف .

غ - التربة الصحراوية : تغطي **مساحة** سوريا وتصنف إلى :

1 - التربة الصحراوية الجبسية : تشكل الجزء الأكبر من البادية السورية وتنتشر في القسم الأوسط والأدنى من الجزيرة السورية بحيث تنمو فيها نباتات مقاومة للجفاف . وتعاني من ارتفاع نسبة الجبس فيها الذي يشكل طبقات صلبة مما يجعلها لا تصلح إلا لمراعٍ طبيعية .

2 - التربة الصحراوية : تنتشر في مناطق البادية السورية التي يقل معدل أمطارها السنوي عن 150 ملم . ويسودها فصل جفاف طويل جداً . هي تربة جافة لا تصلح للزراعة تنمو فيها نباتات مقاومة للجفاف كالشوكيات وتعاني من مشكلات تدهور الغطاء النباتي والرعي الجائر وانجراف التربة والاحتطاب .

ف - التربة اللحية : تشكلت بسبب الترسيب النهري والانجراف المائي , تنتشر في الأراضي المجاورة للأنهار مثل نهر الفرات والخابور وهي صالحة لزراعة القطن والشوندر السكري والقمح والخضراوات والأشجار المثمرة . وتعاني هذه التربة من ملوحة التربة (علل) : بسبب تبخر المياه بفعل حرارة الشمس وترسب الأملاح .

ق - التربة الغدقة : تنتشر على شكل جزر متفرقة كحوضه دمشق وسبخة الجبول تزرع بعض أراضيها بالخضروات والشعير . وتعاني من تملح التربة بسبب سوء استعمالات الري كما هو الحال في بعض الأماكن من حوضي الفرات والغاب قد يأتي سؤال عدد الترب في سوريا وشرح واحدة منها أو قدياتي مقارنة بين نوعين من التربة .

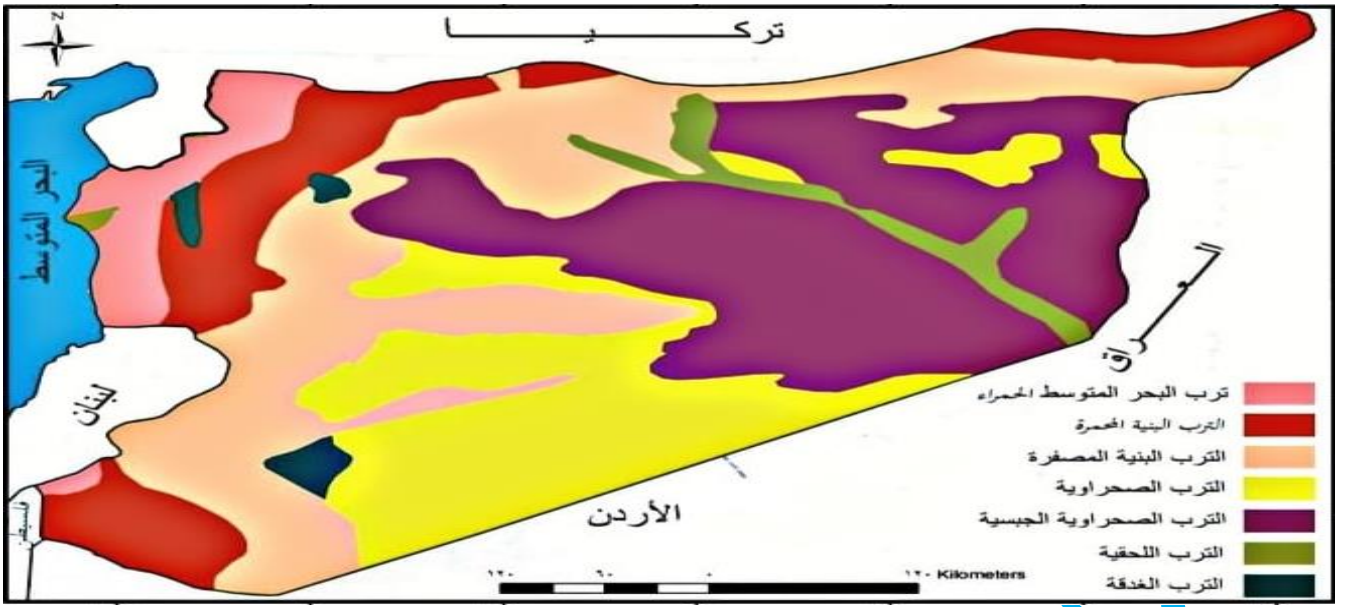
أو سؤال صح وخطأ أو اختيار من متعدد . يرجى أخذ الحيطة والحذر .

2- ما المشكلات التي تعاني منها التربة في سوريا :

مشكلة تملح التربة نتيجة كثرة انحلال الأملاح من الطبقات العميقة للتربة إلى السطح بعد تبخر المياه بفعل الحرارة بحيث تترسب الأملاح .

3 - علل يجب المحافظة على البادية السورية وإزالة المشكلات الرئيسية التي تعاني منها .

لأن البادية السورية هي صمام الأمان بالنسبة إلى الثروة الحيوانية .



أنواع التُّرب في الجمهورية العربية السورية - ممكن أن يأتي في الامتحان تحديد موقع إحدى أنواع التُّرب على الخريطة

حل الأسئلة والتدريبات

أولاً : عدد أنواع التُّرب في سوريا : - تربة البحر المتوسط - التربة البنية المحمرة - التربة البنية المصفرة - التربة الصحراوية - التربة اللحقية - التربة الغدقة .

ثانياً : قارن بين كل من التربة البنية المصفرة والتربة الصحراوية :

أ - التربة البنية المصفرة :

- تشكل شريط يحيط بأطراف البادية وهي صالحة للزراعة البعلية من شعير وخضروات وزيتون وفسنق حلي وكرمة .
إذا توافرت مياه الري لها , وهي تربة تعاني من الجفاف .

ب - التربة الصحراوية :

- تنتشر في مناطق البادية السورية هي تربة جافة لا تصلح للزراعة تنمو فيها نباتات مقاومة للجفاف كالشوكيات .
وتعاني من مشكلات تدهور الغطاء النباتي والرعي الجائر وانجراف التربة والاحتطاب .

ثالثاً : كيف تتم معالجة مشكلة تملح التربة :

أ - استخدام أساليب الري الحديث .
ب - استخدام الأسمدة العضوية التي تزيد من خصوبة التربة .

حل أنشطة الوحدة الثانية وتدريباتها

أولاً : اختر الإجابة الصحيحة مما يلي :

1 - من أقسام حوضه دمشق : **المرج** .

2 - من أقسام البادية : **بادية الجزيرة** .

3 - تقع جزيرة (أبو موسى) في : **الخليج العربي** .

4 - تهب رياح القبلي في الوطن العربي على : **ليبيا** .

5 – يمتد الإقليم المداري شمال خط الاستواء بين درجتَي عرض : (15- 8 درجة) .

6 – من مصادر المياه السطحية : **الأنهار** .

7 – يتألف معظم الوطن العربي من : **الهضاب** .

8 – التربة التي تُغطي المساحة الأكبر من الوطن العربي هي التربة : **الصحراوية** .

ثانياً : ضع إشارة (√) أمام العبارة الصحيحة وإشارة (×) أمام العبارة الغلط فيما يأتي .

أ – يتصف مناخ سوريا بوجود فصلين واضحين : **√**

ب – يقع جبل العرب في حوضه دمشق : **×**

ج – تُغطي التربة الصحراوية نحو نصف مساحة سوريا : **√**

ح – تُغطي التربة الصحراوية 20% من مساحة الوطن العربي : **×**

غ – تنتشر التربة الحمراء في جنوب شرقي سوريا : **×**

ثالثاً : ما المقصود بالمفاهيم الآتية :

أ – التربة : هي الطبقة السطحية الرقيقة من القشرة الأرضية وتتألف من فُتات صخري وماء وهواء وكائنات حية .

ب - الأودية السيلية : مجارٍ مائية مؤقتة تجري فيها المياه في موسم الامطار وتجف بعد توقف الهطول .

ج – الأنهار العابرة : هي انهار تنبع من خارج الوطن العربي وتجري في أرضيه وتصب في بحاره .

ع – حصاد المياه : هي العملية التي تُستخدم في حجز مياه الأمطار وتخزينها في أوقات سقوطها بطرائق مختلفة . وإعادة استخدامها عند الحاجة إليها .

ق – تملح التربة : هي تبخر مرتفع للمياه حيث تؤدي كثرة المياه إلى حل كمية من الأملاح من الطبقات العميقة للتربة وجلبها للسطح .

رابعاً : أعطِ تفسيراً علمياً لكل مما يلي :

أ – ضيق السهول الساحلية شمال مدينة اللاذقية : بسبب اقتراب سلسلة الجبال الغربية من البحر .

ب – تفاوت اتساع الشريط الساحلي في الوطن العربي :- بسبب اقتراب المرتفعات الجبلية وأطراف الهضاب من الساحل .

ج – محدودية الموارد المائية في سوريا : بسبب سيطرة البيئة الجافة وشبه الجافة على معظم الأراضي السورية .

خ – ضعف وصول المؤثرات البحرية نحو المنطقة الداخلية في سوريا :

- بسبب وجود الجبال الموازية للساحل مما يمنع وصول المؤثرات نحو الداخل .

ف – تمتع الوطن العربي بموارد هائلة من الطاقة الشمسية : بسبب موقعه الفلكي المميز وتعادم الشمس على معظم أقطاره .

خامساً : ما أقسام هضبة حوران البركانية :

أ – القسم الشرقي : الذي يندمج مع الحماد ويزترفع ليشكل جبل العرب .

ب – القسم الأوسط : الذي يُشكل سهل حوران .

ج – القسم الغربي : الذي تشغله هضبة الجولان .

سادساً : قارن بين الأنهار الساحلية والأنهار الداخلية وفق العناصر الموجودة في الجدول الآتي :

المنبع	المصب	الطول	
من الجبال الساحلية	في البحر أو المحيط	قصيرة	الأنهار الساحلية
من المرتفعات الداخلية	في البحار والبحيرات	أكثر طولاً وغزارة من الأنهار الساحلية	الأنهار الداخلية

الوحدة الثالثة

الموارد البشرية في الوطن العربي

الدرس الأول

- 1 - علل الزيادة السكانية في الوطن العربي : بسبب الزيادة الطبيعية في حركة المواليد وانخفاض عدد الوفيات إضافة الى الهجرة الوافدة والتطور الاقتصادي والتعليمي والصحي .
- 2 - ماذا يترتب على الزيادة السكانية في الوطن العربي :
تدفق أعداد جديدة من اليد العاملة إلى سوق العمل . تطوير المرافق التعليمية والصحية والإدارية . زياد حجم الخدمات وشبكة المواصلات .
- 3 - ما الأسباب التي أدت الى انخفاض عدد الوفيات في الوطن العربي .
بسبب التطور الاقتصادي والثقافي والتعليمي والصحي في الكثير من الدول لعربية .
- 4 - علل ارتفاع معدل الولادات في الوطن العربي :
بسبب العادات والتقاليد الاجتماعية التي تشجع على الزواج المبكر وزيادة عدد الأولاد .
- 5 - ما الخصائص السكانية للوطن العربي .

2023-2025

أ - التركيب النوعي : وهو تقسيم السكان حسب الجنس إلى ذكور وإناث ولا يوجد اختلاف كبير

بين الدول العربية في نسبة النوع باستثناء الدول النفطية التي يكثر فيها نسبة الذكور بسبب الهجرة الوافدة .

ب - التركيب العمري : وهو تقسيم السكان بحسب الأعمار إلى فئات عمرية هي :

- فئة الفتيان : أقل من 15 سنة . - فئة الراشدين : من 15 إلى 64 سنة . - فئة المسنين : فوق 64 سنة .

ويتصف التركيب العمري للوطن العربي بفتوة السكان وذلك نتيجة لارتفاع عدد الولادات وانخفاض عدد الوفيات .

إذ تشكل نسبة الفتيان نحو 40% . ونسبة الراشدين 54% .

ج - الحالة التعليمية : وفيها يتم تقسيم السكان بحسب الوضع التعليمي : أمي - أساسي - ثانوي - جامعي - ماجستير..

ولعل تحسن المستوى التعليمي يدل على مستوى الخدمات التعليمية التي تقدمها الدولة لأبنائها .

د - التركيب الاقتصادي : ويهدف الى تقسيم السكان على حسب قوة العمل على الشكل الاتي :

- قوة عاملة وهي الذين يعملون في مختلف القطاعات الاقتصادية .

- قوة غير عاملة (البطالة) وهم الذين لا عمل لديهم ولكنهم في حالة بحث عن عمل ويُطلق عليهم اسم البطالة الناشطة

أو انهم يقومون بعمل موسمي ويُطلق عليهم اسم البطالة المقنّعة .

6 - عرف مفهوم قوة العمل : هي جميع السكان القادرين على العمل سواء أكانوا يعملون أم لا يعملون والذين تتراوح أعمارهم ما بين (15 إلى 65) سنة .

7- عرف الهجرة وعدد أشكالها :

هااااااااااام

الهجرة : هي انتقال السكان أفراداً أو جماعات من مكان الى آخر بحثاً عن حياة أفضل .

أشكال الهجرة في الوطن العربي .

أ - الهجرة الداخلية : وهي الهجرة التي تكون ضمن الدولة الواحدة مثل الهجرة من الريف إلى المدينة وقد تزايد هذا

النوع من الهجرة بسبب (علل) التطور العمراني والاقتصادي السريع في المدن في شتى مجالات الحياة وعجز الأرياف عن مواكبة نموها الطبيعي وتحسين أوضاعها .

وهناك أيضا الهجرة وهو الهجرة من المدينة إلى المدينة بحيث تكون هجرة من مدينة صغرى إلى مدينة كبرى مثل الهجرة

إلى عواصم الدول . مما أدى إلى مشكلة تضخم العواصم (علل) بسبب الهجرة إليها وعدم توافر برامج عمرانية

واقصادية كافية لاستيعاب المهاجرين الجدد . ومن أشكال الهجرة الداخلية : الهجرة بين دول الوطن العربي .

كهجرة العمالة العربية إلى الدول النفطية .

سؤال : ما المشكلات التي تعاني منها المدن والعواصم العربية :

- تفاقم أزمة السكن وارتفاع أثمان الأراضي والإيجارات - أزمت النقل وحوادث المرور والعجز في المرافق العامة .

الهجرة الخارجية : وهي نوعان :

أ - هجرة إلى الوطن العربي :

كهجرة الآسيويين غير العرب والأوربيين الى البلاد العربية النفطية خاصة . ولها تأثير كبير في النسيج الاجتماعي العربي ولعل أخطر هجرة إلى الوطن العربي هي هجرة اليهود نحو فلسطين وإقامة الكيان الصهيوني فيها .

ب - هجرة من الوطن العربي :

- كهجرة العمالة والأدمغة العربية الى دول أوربا وأمريكا حيث لها آثار سلبية على الدول العربية اقتصادياً واجتماعياً . .

8 - علل يتصف التركيب السكاني في الوطن العربي بفتوة السكان : بسبب ارتفاع عدد الولادات وانخفاض عدد الوفيات .

معلومات من الدرس :

- يشكل سكان الوطن العربي % 5 من سكان العالم .
- نسبة الفتیان في الوطن العربي : 40 % .
- نسبة الراشدين في الوطن العربي : 54 % .
- معدل النمو الطبيعي : هو الفرق بين معدلي الولادات والوفيات .

حل الأنشطة والتدريبات

السؤال الأول : أكمل العبارات الآتية :

- تصنف التراكيب السكانية في الوطن العربي إلى : التركيب النوعي – التركيب العمري – التركيب الاقتصادي .
 - من الآثار السلبية لهجرة العمالة الآسيوية إلى الدول النفطية لها تأثير على النسيج الاجتماعي إضافة لاختلاف العادات والتقاليد .
- السؤال الثاني : ما المقصود بكل مما يأتي :

- أ – التركيب النوعي : هو تقسيم السكان بحسب الجنس إلى ذكور وإناث .
- ب – الهجرة الداخلية : هي الهجرة التي تتم ضمن الدولة الواحدة كالهجرة من الريف إلى المدينة .

الدرس الثاني الموارد البشرية في الجمهورية العربية السورية إمكانات ملائمة للتنمية

- 1- عرف تعداد السكان : هو إحصاء شامل للسكان من حيث النوع والتعليم والإقامة والعمل كل عشر سنوات .
- 2- علل ارتفاع عدد الولادات في سوريا : بسبب الدين والعادات والتقاليد السائدة وانخفاض نسبة التعلم .
- 3- ماذا يترتب على زيادة نسبة الأطفال والشباب بين السكان :
- زيادة الإنفاق وتوفير متطلبات الحياة من صحة وتعليم . إضافة لضبط نمو السكان ونشر الوعي السكاني .
- 4 - تكلم عن الكثافة السكانية في سوريا وتوزعها :
- تقدر الكثافة السكانية بنحو 125 نسمة / كم² . ويُعد الماء والمطر سببين أساسيين في توزع السكان . حيث ترتفع الكثافة في السهول وأودية الأنهار والمناطق الساحلية وغوطة دمشق وذلك بسبب (علل) تركيز النشاط السكاني وتوافر المياه والتربة الخصبة . وتقل الكثافة في البادية بسبب (علل) قسوة المناخ والجفاف .
- 5- ما التركيب العمري لسكان سوريا :

- أ – فئة الأطفال والفتيان : أعمارهم أقل من 15 سنة وتبلغ نسبتهم نحو 39.5 % من مجموع السكان وهم الفئة المستهلكة
- ب – فئة الشباب و الناضجين : أعمارهم من 15 – 64 سنة وتبلغ نسبتهم 57.2 % وهم الفئة المنتجة .
- ج – فئة المسنين : أعمارهم فوق 65 وتبلغ نسبته 3,3 % من السكان وهم فئة مستهلكة .

أ - الهجرة الداخلية : وهي إما هجرة مؤقتة كهجرة الطلاب إلى الجامعات . أو هجرة دائمة كهجرة سكان الريف إلى المدينة من أجل العمل وتحسين ظروف حياتهم . ونتج عنه تضخم المدن وظهور السكن العشوائي .

ب - الهجرة الخارجية :

- 1- هجرة إلى داخل الوطن العربي : كهجرة المهندسين والأطباء والأساتذة إلى دول الخليج العربي لتحسين أوضاعهم المعيشية .
- 2 - هجرة إلى خارج الوطن العربي : نحو الدول الأوروبية وهي ناتجة عن تردي الأوضاع السياسية والاقتصادية للبلاد العربية ومنها هجرة العقول وهي هجرة أصحاب الكفاءات الجامعية العلمية والتقنية. وقد تراجعت هذه الهجرة بسبب تحسن الوضع الداخلي للبلاد ووضع بعض دول المهجر القيود الشديدة على المهاجرين إليها .

7 - عرف السكن العشوائي :

2021

- هو تجمعات نشأت من دون تخطيط حول المدن الكبرى . تتدنى فيها الخدمات الاجتماعية والصحية وترتفع فيها الكثافة السكانية .

8 - ما أسباب السكن العشوائي :

2021

- فقدان التوازن بين التخطيط والنمو السكاني . وضعف الفاعلية بتنفيذ التخطيط العمراني .

9 - ما الحلول التي وضعتها الدولة لتخفيف ظاهرة تضخم المدن والسكن العشوائي :

هااااا

- أ - بناء الأبراج وتوسيع رقعة الأراضي السكنية .
- ب - اقامت المنشآت الصناعية والحرفية .
- ج - تأمين شبكة من الطرق المعبدة .
- ح - تأمين الخدمات التعليمية والمدارس .

10- ما الحلول التي وضعتها الدولة لتخفيف الهجرة من الريف إلى المدينة :

هااااا

- أ - بناء المستشفيات العامة في كل مجموعة قرى .
- ب - تشجيع الزراعة . وتقديم المعونات المالية لهذا القطاع .
- ج - التشجيع على الثروة الحيوانية .
- ع - تأمين شبكة الاتصالات والإنترنت .
- ح - بناء المصانع والمعامل المرتبطة بالزراعة والثروة الحيوانية .

11 - ما الآثار السلبية لهجرة أصحاب العقول من سوريا :

- ضياع الطاقات الإنتاجية والعلمية . - ضياع الموارد الإنسانية والمالية العربية التي أنفقت على تعليم الكفاءات .
 - ضعف الإنتاج العلمي وتدهوره في البلدان العربية بالمقارنة مع الإنتاج العلمي للعرب المهاجرين إلى البلدان الغربية
- معلومات من الدرس : تقدر نسبة الذكور في سوريا بنحو : 51 % - تقدر نسبة الإناث في سوريا بنحو : 49 %

حل الأنشطة والتدريبات

أولاً : اختر الإجابة الصحيحة مما يأتي :

- 1 - ترتفع الكثافة السكانية في سوريا في : غوطة دمشق .
- 2 - تُقدر نسبة الأطفال من سكان سوريا بنحو : 39,5% .
- 3 - تُقدر نسبة الإناث في سوريا بنحو : 49% .

ثانياً : ما المقصود بالمفاهيم الآتية :

- 1 – هجرة العقول : هي هجرة أصحاب الكفاءات والمهارات الجامعية العلمية والتقنية .
 - 2 – السكن العشوائي : هو تجمعات نشأت من دون تخطيط حول المدن الكبرى . تتدنى فيها الخدمات الاجتماعية والصحية وترتفع فيها الكثافة السكانية .
- ثالثاً : كيف يُمكن لبلدك أن تستثمر الكفاءات البشرية التي يمتلكها ويحد من هجرتها إلى الخارج في رأيك .
- يتم استثمار الكفاءات من خلال إيجاد فرص عمل مناسبة . وتأمين حياة كريمة لهم وتنمية القدرات العقلية لديهم واستثمارها بالشكل الأمثل . وتأمين مراكز البحث والتطوير العلمي المناسبة لكل اختصاص .

اختلاف بينات الوطن العربي أوجد أنماط معيشة مختلفة

الدرس الثالث

- 1 – عرف الكثافة السكانية : هي متوسط عدد السكان لكل كيلو متر مربع . وتساوي عدد السكان على المساحة .
- 2- تكلم عن الكثافة السكانية في الوطن العربي :
- ترتفع الكثافة السكانية حول أودية الأنهار وفي السهول الساحلية وفي أماكن توافر النفط وتتوسط في المرتفعات والمناطق الداخلية التي تسمح بقيام نشاط زراعي أو رعوي . ويندر عدد السكان في المناطق الصحراوية باستثناء الواحات التي تتوافر فيها المياه الجوفية .
- 3- عرف البدو أو تكلم عن البدو : هم سكان البادية والصحراء يتنقلون بحثاً عن الطعام والماء بحيث يسكنون الخيام ويعملون في الرعي وتربية الحيوانات . ونسبتهم ما يقارب 1% من السكان .
- 4 – علل تناقص أعداد البدو :
بسبب تشجيع الدول العربية لهم على الاستقرار والعمل في الزراعة والأنشطة الاقتصادية الأخرى .
- 5- تكلم عن سكان الريف في الوطن العربي :
- هم سكان القرى والمزارع يعملون بالزراعة وتربية الحيوانات يمثلون 45% من مجموع سكان الوطن العربي . وهم في تناقص مستمر بسبب الهجرة إلى المدن رغم الجهود المبذولة لتوفير الخدمات التعليمية والصحية .
- 6 - تكلم عن سكان المدن في الوطن العربي :
- يشكلون 54% من السكان وتعتمد حياتهم على الصناعة والتجارة والخدمات ويشهد الوطن العربي كثافة سكانية في المدن أدت إلى العديد من المشكلات .

7 - ما المشكلات التي تعاني منها مدن الوطن العربي :

- أ - تضخم المدن والتزايد المتسارع في عدد السكان .
 ب - زيادة الطلب على الغذاء والصحة والتعليم والعمل .
 ج - ظهور مشكلة السكن العشوائي . وأحياء الصفيح وأحياء المقابر . وتزايد وسائل النقل ومشكلة التلوث الضوضائي .
 خ - الازدحام الشديد و مشكلة المواصلات و تلوث البيئة .
 ح - الازدحام الشديد والاستثمار العشوائي للموارد وتزايد نسبة الغازات والنفايات وتلوث الهواء .
 8 - ما أسباب زيادة التلوث البيئي في المدن العربية : بسبب الازدحام الشديد والاستثمار العشوائي للموارد .
 9- عرف السياسات السكانية : هي مجموعة الإجراءات الهادفة إلى تحسين حياة الأفراد في المجتمع من جميع الجوانب في الحاضر والمستقبل .
 10- ما هي السياسات السكانية المتبعة في الوطن العربي :
 أ - تحقيق التوازن بين كثافة السكان وكثافة الموارد المتاحة .
 ب - إنشاء مؤسسات تشرف على تطبيق برامج السياسات السكانية كمؤسسات تنظيم الأسرة ورعاية الأم والطفل والنهوض بالمرأة الريفية .

دورة 2021

11- علل الكثافة السكانية المرتفعة في السهول الساحلية الشرقية والشمالية في تونس :

- بسبب خصوبة الأراضي وتوافر المياه وكون تلك المناطق تمثل الواجهة المطلة على العالم الخارجي .
 12 - علل انخفاض الكثافة السكانية في الشمال الغربي لتونس : بسبب وعورة المنطقة والجفاف الشديد .

دورة 2016

13 - ما النتائج المترتبة على تزايد الأحياء العشوائية في المدن :

- الكثافة السكانية العشوائية . - تدني مستوى الخدمات الاجتماعية والصحية والتعليمية . - ظهور المخالفات العشوائية .

حل الأنشطة والتدريبات

أولاً : اختر الإجابة الصحيحة مما يأتي :

- 1 - يُمثل سكان الريف من سكان الوطن العربي نحو : **45 %** .
 2 - أدت زيادة معدلات النمو السكاني في الوطن العربي إلى ظهور عدة مشكلات سكانية أهمها : **تضخم المدن** .
 ثانياً : املأ الفراغات الآتية بما يتناسب من العبارات الجغرافية .
 - يمثل سكان المدن **54 %** من مجموع السكان في الوطن العربي , وهم يعملون في **الصناعة والتجارة والخدمات** .
 ثالثاً : فسر ما يأتي :

1 - زيادة نسبة التلوث في المدن : نتيجة الازدحام الشديد والاستثمار العشوائي للموارد .

2 - الكثافة السكانية المرتفعة في السهول الساحلية التونسية :

- بسبب خصوبة الأراضي وتوافر المياه وكون تلك المناطق تُمثل الواجهة المطلة على العالم الخارجي .

حل الأنشطة والتدريبات

أولاً : اختر الإجابة الصحيحة مما يأتي :

1 - مرفأ سوريا الأول يوجد في : **اللاذقية** .

ب - تقوم صناعة القضبان الحديدية في مدينة : **حماة** .

ثانياً : أكمل الآتي :

1 - سكان الأرياف هم سكان : **القرى والمزارع ويعتمدون في معيشتهم على الزراعة وتربية الحيوانات** .

2 - تُعد حماة سوقاً مهمة بين **البدو والحضر** .

ثالثاً : فسر ما الآتي :

أ - اختلاف أنماط المعيشة في سوريا : بسبب تعدد المناطق التضريسيّة وتنوع المناخ .

حل أنشطة الوحدة الثالثة وتدريباتها

أولاً : ضع إشارة (✓) أمام العبارة الصحيحة وإشارة (✗) أما العبارة الغلط فيما يأتي :

1 - يُمثل سكان الريف غالبية سكان الوطن العربي : ✗

2 - تجذب الخدمات المتوافرة في لمدن أهل الريف إليها : ✓

ثانياً : أكمل الفراغات الآتية بالعبارات الجغرافية المناسبة :

1 - عدد سكان الوطن العربي 360 مليون نسمة .

ملاحظة : (عدد السكان هنا حسب إحصاء عام 2013 كما في الكتاب) .

2 - معدل النمو السكاني في الوطن العربي **يبلغ نحو 19 بالألف عام 2009** والمعدل العالمي **يبلغ نحو 14 بالألف في العام نفسه** .

3 - المناطق المرتفعة الكثافة السكانية : **تكون حول الأودية النهرية وفي السهول الساحلية** .

4 - المناطق المتوسطة الكثافة : **تكون في المرتفعات والمناطق الداخلية** .

5 - من مشكلات المدن العربية ظهور : **تضخم المدن ، السكن العشوائي - التلوث البيئي** .

ثالثاً : ما المقصود بكل من :

أ - الهجرة الداخلية : هي الهجرة التي تم ضمن الدولة الواحدة كالهجرة من الريف إلى المدينة .

ب - الهجرة الخارجية : هي الهجرة التي تكون إلى خارج الوطن العربي كهجرة أصحاب الكفاءات إلى الدول الأوربية

رابعاً : ما المفهوم الجغرافي الدال على ما يأتي :

1 - عدد السكان مقسوماً على المساحة : **الكثافة السكانية** .

2 - انتقال الفرد من منطقة إلى أخرى داخل دولته : **الهجرة الداخلية** .

خامساً : أعطِ تفسيراً لكل مما يأتي :

- 1 - ندرة السكان في منطقة الربع الخالي في شبه الجزيرة العربية : بسبب قلة الموارد المائية والأراضي الصالحة للزراعة
- 2 - ارتفاع الكثافة السكانية في وادي النيل ودلتا النيل : بسبب المناخ المعتدل وتوفر المياه والتربة الخصبة .
- 3 - تناقص أعداد البدو في البلاد العربية : بسبب تشجيع الدول العربية لهم على الاستقرار والعمل في الزراعة والأنشطة الاقتصادية .

4 - ظهور الأحياء العشوائية : بسبب فقدان التوازن بين التخطيط والنمو السكاني إضافة إلى ضعف الفاعلية بتنفيذ التخطيط العمراني .

سادساً : ما النتائج المترتبة على : 1 - تزايد الأحياء العشوائية حول المدن :

- زيادة الطلب على الغذاء والكساء والصحة والتعليم . وظهور مشكلة التلوث البيئي .
- 2 - استمرار الهجرة من الريف إلى المدن : - تضخم المدن وظهور السكن العشوائي .
- زيادة الطلب على الخدمات والتعليم والصحة . - الازدحام السكاني ومشكلة المواصلات .

الوحدة الرابعة

الوطن العربي حياة زراعية مزدهرة

الدرس الأول

- 1 - علل أهمية الزراعة بالنسبة لدول الوطن العربي والسكان :
 - أ - اعتماد اقتصاد أغلب الدول العربية على **الزراعة** .
 - ب - تسهم في الدخل الوطني .
 - ج - يعمل فيها ما يتجاوز ثلث اليد العاملة في مختلف القطاعات .
- 2 - ما مقومات الزراعة في الوطن العربي **أو** ما الأعمال التي قام بها المزارع العربي لتحسين ظروف الزراعة . **هاالم**
 - أ - استخدام الأسمدة .
 - ب - مكافحة الآفات الزراعية وتحسين أصناف البذار .
 - ج - استخراج المياه لري مناطق زراعية جديدة وزراعتها .
 - ع - تحسين إنتاج بعض المناطق المزروعة سابقاً .
 - ح - التضاريس والتربة والمناخ .
- 3 - علل أهمية الري في الوطن العربي : بسبب
 - أ - غلبة الجفاف والحرارة وقلة الموارد المائية .
 - ب - شح مياه الأنهار وخاصة عندما تزداد الحاجة إلى الري .
- 4 - علل بناء الدول العربية سدود ومشاريع ري جديدة : بسبب قلة الموارد المائية وشح مياه الأنهار عندما تزداد الحاجة إلى الري . **هاالم**

إضافة لزراعة الموز في الصومال وغور الأردن .

- **علل** انتشار زراعة الحمضيات في السهول الساحلية المتوسطة والأطلسية وغور الأردن :

- بسبب المناخ المعتدل المناسب لزراعة الحمضيات والتربة الخصبة وتوفر المياه .

3 - الخضروات : تنتشر زراعتها حول المدن والسهول الساحلية وأودية الأنهار تعتمد في زراعتها على الري ويستفاد

من الفائض في الصناعات الغذائية .

4 - القطن : أهم الغلات الصناعية في الوطن العربي , يزرع معظمه مروياً وأجود أنواعه طويل التيلة الناعم

ويعد الوطن العربي المصدر **الأول** في العالم للأقطان طويلة التيلة .

- من المحاصيل الزراعية الصناعية في الوطن العربي : الشوندر السكري في المغرب , وقصب السكر والسهم والبقول السوداني في مصر .

9 - علل اهتمام الوطن العربي بالثروة الحيوانية : لأنها تعد إنتاجاً زراعياً متجدداً من اللحوم والألبان والأصواف والجلود .

10- ما المشكلات التي تعاني منها المراعي في الوطن العربي :

أ - الرعي الجائر . ب - الحرائق الموسمية . ج - التوسع في الزراعة الآلية والتقليدية .

ح - تكرار الجفاف واتساع ظاهرة التصحر .

2023 11- ما الجهود المبذولة لتحديث إدارة المراعي في الوطن العربي :

أ - الاستزراع المباشر لبذور الأعلاف في المناطق الرعوية . ب - سن قوانين تحرم زراعة المناطق الرعوية .

ج - التوسع في حفر الآبار وتوفير مياه الشرب لقطعان الماشية في المناطق الرعوية .

ح - تثبيت الكثبان الرملية وإيقاف الزحف الصحراوي . ع - الحد من آثار حرائق الأعشاب .

12- علل تنوع مراعي الثروة الحيوانية في الوطن العربي :

- بسبب اختلاف الظروف المناخية في الوطن العربي وتباين مواعيد سقوط الأمطار وكمياتها.

13 - علل انتشار تربية الأبقار في القسم الإفريقي من الوطن العربي : نظراً لاتساع مناطق حشائش السافانا في السودان .

وانتشار زراعة البرسيم في مصر . وانتشار النباتات السهبية في المغرب .

تنبیه : قد يأتي تعليل عن انتشار تربية الأبقار في كل دولة على حدة : السودان , مصر , المغرب يرحى أخذ الحيطة والحذر .

هالالم **معلومات من الدرس :**

- الوطن العربي مهد الزراعة الأول . ومنه انتقلت الزراعة إلى العالم القديم .

- تعد **الزراعة** الحرفة الرئيسية لسكان الوطن العربي .

- أهم الزراعات في الوطن العربي وأكثرها انتشاراً **زراعة القمح** .

- شهدت أودية الأنهار الكبرى مثل النيل والفرات ودجلة المظاهر الأولى لنشوء الزراعة .

- تشكل الأغنام نسبة 44% من نسبة الحيوانات في الوطن العربي . وتحتل المرتبة الأولى مع الماعز وتنتشر تربيتها في بلاد المغرب والسودان والعراق وسوريا **علل** لوفرة المراعي .

- تشكل الماعز نسبة 36% من نسبة الحيوانات في الوطن العربي .

- تشكل الأبقار نسبة 16% من نسبة الحيوانات في الوطن العربي . تحتل المرتبة الثانية وتتركز في القسم الإفريقي من الوطن العربي .

- تشكل الإبل نسبة 3% من نسبة الحيوانات في الوطن العربي . وتنتشر في الصومال وشبه الجزيرة العربية .

- يشكل الجاموس نسبة 1% من نسبة الحيوانات في الوطن العربي . وينتشر في مصر والعراق .

- تنتشر مصائد الأسماك في سواحل المغرب العربي وعمان واليمن .

- تنتشر مصائد الإسفنج على سواحل البحر المتوسط . - تنتشر مصائد اللؤلؤ على سواحل الخليج العربي . 2023

حل الأنشطة والتدريبات

أولاً : اختر الإجابة الصحيحة مما يأتي :

1 – لا يزال اقتصاد أغلب الدول العربية يقوم على : **الزراعة** .

2 – أغنى الدول العربية من حيث عدد الأبقار هي : **السودان** .

3 – أهم الزراعات في الوطن العربي وأكثرها انتشاراً هي : **القمح** .

ثانياً : أكمل خريطة المفاهيم الآتية بالعبارات المناسبة :

أ – التزايد السكاني الكبير والسريع في عدد السكان .

عوامل بشرية

عوامل طبيعية

اليدين العاملة

الري

التربة الخصبة

ثالثاً : فسر عدم كفاية إنتاج الوطن العربي سكانه من الحبوب : بسبب أ – التزايد السكاني الكبير والسريع في عدد السكان ب – تزايد هجرة سكان الريف إلى المدن . ج – تحويل الأراضي التي تزرع بالحبوب إلى زراعة الأشجار المثمرة والخضروات

- 1 - أذكر أهمية الزراعة بالنسبة للجمهورية العربية السورية :
- أ - تسهم في تحقيق الاكتفاء الذاتي في معظم المنتجات الزراعية .
 ب - تحقيق الأمن الغذائي في سوريا .
 ج - ترفد الصناعات بالكثير من المواد الخام اللازمة لها .
 ح - دخول عدد من المنتجات الزراعية في قائمة **الصادرات الاستراتيجية** مثل القطن والقمح .
 ح - تنشيط النقل والتسويق والخدمات الزراعية .
- 2 - عرف الاكتفاء الذاتي : هو قدرة المجتمع على تحقيق الاعتماد الكامل على الموارد والإمكانات الذاتية في إنتاج كل احتياجاته الغذائية محلياً .
- 3 - عرف مفهوم الأمن الغذائي : هو توفير الغذاء بالكم والنوع والتكلفة إلى جميع فئات المجتمع على مختلف مستويات دخلهم .

- 4 - عدد المعوقات والمشكلات التي تعاني منها الزراعة في سوريا :
- أ - محدودية الموارد المائية إذ لا تتجاوز الأراضي المروية نسبة 29,2% .
 ب - تملح التربة بحيث تظهر هذه المشكلة في الأراضي المروية الخصبة **نتيجة** سوء تصريف المياه .
 ج - تدهور التربة : فهي تتميز بافتقارها لعناصر الأزوت والفوسفور . ح - الجفاف : ويعد أهم المشكلات السلبية للزراعة
 ع - قصور السياسات الزراعية في بعض الأحيان مما يؤدي إلى تسويق بعض المحاصيل بأسعار لا تتناسب مع تكاليف الإنتاج .
 5 - علل فقدان التربة إلى العديد من العناصر الغذائية اللازمة للنبات : بسبب ظاهرة التكتيف الزراعي .
 6 - تحدث أو أذكر العوامل الطبيعية والبشرية التي تؤثر في الزراعة السورية .

أ - العوامل الطبيعية :

- **المناخ المتوسطي** : بما فيه من عناصر تحدد أنواع الإنتاج الزراعي التي يمكن أن تنجح زراعتها ضمن البيئات الطبيعية الموجودة في سوريا .
- **نظام الأمطار** : التي تهطل في الشتاء إضافة لمعدلها السنوي وتوزعها وآلية سقوطها .
- **التضاريس** : وتتنوع من سهول ساحلية وداخلية أو على ضفاف الأنهار وجبال حُوت إلى مدرجات كما في الجبال الساحلية الغربية .
- ب - العوامل البشرية** : وتتجلى في مشاريع الري كشق القنوات وحفر الآبار وإقامة السدود .

7 - عدد المناطق الزراعية في سوريا :

- أ - حزام ساحلي على طول الساحل السوري على البحر المتوسط .
 ب - منطقة جبلية محاذية له .
 ج - حزام واسع للزراعة البعلية وفيه مناطق مروية يلتف بشكل نصف دائري حول البادية السورية بمراعيا الطبيعية .
 8 - علل انتشار زراعة الكروم والزيتون والتفاح في الجبال الساحلية الغربية : بسبب المناخ المناسب لهذه الزراعات .

حل الأنشطة والتدريبات

أولاً : ضع إشارة (√) أمام العبارة الصحيحة و صحح العبارة الغلط فيما يأتي :

1 – أكبر مشاريع الري في سوريا هو سد العشارنة : × (الصواب : سد الفرات) .

2 – تؤثر التربة في أنواع الإنتاج الزراعي : √ .

3 – يعمل نحو 50% من الأيدي العاملة السورية في الزراعة : × . (الصواب : 17%)

ثانياً : أكمل المخطط بالعبارات المناسبة :

فوائد سد الفرات : زيادة الرقعة المروية – توليد الطاقة الكهربائية – تنظيم جريان النهر – تأمين مياه الشرب لمناطق حلب

ثالثاً : ما أهمية الزراعة في سوريا : الإجابة موجودة في السؤال الأول من الدرس .

رابعاً : وضح مشكلات الزراعة في سوريا ضمن المخطط الآتي : الإجابة موجودة في السؤال الرابع من الدرس .

الإنتاج الزراعي ثروة وطنية مهمة في سوريا

الدرس الثالث

المحاصيل الزراعية في الجمهورية العربية السورية

تصنف المحاصيل الزراعية في سوريا إلى :

أ – **المحاصيل الحقلية** : ومنها الحبوب وفي مقدمتها القمح الذي يشغل أكبر مساحة من الأراضي الزراعية .

إذ يشكل نسبة 57% من مساحة الأراضي المزروعة بالحبوب . ومعظمه يزرع غير مروى في المناطق التي تزيد

معدلات الهطول المطري عن 300 ملم سنوياً . وتأتي الحسكة في مقدمة المحافظات المنتجة للقمح تليها حلب .

وهو من النوع القاسي المرغوب في الأسواق العالمية .

- الشعير : يزرع في مناطق القمح والمناطق الأقل مطراً وخصوبة . بحيث يخصص أغلب إنتاجه لتغذية المواشي .

- البقوليات : ومنها العدس وشغل نسبة 47 % من المساحة المزروعة بالبقوليات .

- الحُمص : يأتي في المرتبة الثانية في البقوليات وتشكل نسبة الأراضي المزروعة فيه حوالي 33% من مساحة

الأراضي المزروعة بالبقوليات . وهو من المزروعات الشتوية .

ب – **المحاصيل الصناعية** :

- القطن : الذي يسهم في رفع قيمة الصادرات ويزود خزينة الدولة بالعملة الأجنبية , إضافة لكونه عصب الصناعات

النسيجية , كما تستخدم بقايا حلجه في صناعة الزيوت والأعلاف . وهو محصول مروى حيث يزرع في الحسكة

ودير الزور وسهول حلب . وتشكل نسبة الأراضي المزروعة بالقطن 57 % من مجموع مساحة أراضي المحاصيل

الصناعية .

-الشوندر السكري : يزرع في مناطق زراعة القطن , له دور هام في الأمن الغذائي وتحقيق الاكتفاء الذاتي من مادة السكر وتقليل الكميات المستوردة من السكر إضافة إلى أهميته الصناعية .

قد يأتي سؤال في الامتحان : علل أهمية محصول زراعي ما في سوريا

ج - **الخضار** : هي مزروعات مروية تنتشر في كل المحافظات وخاصة قرب المدن لتلبية احتياجاتها الغذائية المتزايدة ولأن معظم الخضار سريع التلف لذا يحتاج إلى نقله لسوق الاستهلاك مباشرة . اما الفائض من الإنتاج فينقل إلى مصانع الكونسروة لتعليبه .

خ - **الأشجار المثمرة** : الزيتون : تسعى الدولة إلى التوسع في زراعته علل بسبب أهميته الغذائية والصناعية والتصديرية تشكل نسبة الأراضي المزروعة بالزيتون حوالي 63 % من مساحة أراضي الأشجار المثمرة .

ويعد الزيتون ثالث أكبر المحاصيل الزراعية بعد القطن والقمح في سوريا .

- 2025
- التفاح : يزرع على سفوح المناطق الجبلية كسفوح الزبداني وجبل العرب والجبال الساحلية .
 - الكرمة : تزرع في السفوح الجبلية قليلة الارتفاع وبعض المناطق الداخلية .
 - المشمش والجوز : يزرع في سهل الغاب وغوطة دمشق .
 - الحمضيات : تزرع في المنطقة الساحلية ووادي اليرموك .

تصنيف الثروة الحيوانية في الجمهورية العربية السورية

أ - **الثروة الحيوانية المنتجة للحلوم** : حيث يعتمد قطاع الإنتاج الحيواني بشكل أساسي على الأغنام والأبقار والماعز لإنتاج الحليب واللحوم والجلود والصوف . وتعد تربية المواشي عامل استقرار اقتصادي واجتماعي للمجتمع الريفي . بسبب اعتماده عليها في الحياة المعيشية . وينتشر نمط الرعي المتنقل في مناطق واسعة في سوريا وخاصة في البادية وقد انتشرت طرق التربية الحديثة باستخدام تقنيات متطورة في تحسين الأنواع و الأعلاف وتوفير الخدمات البيطرية .

الأنواع الحيوانية :

- **الأغنام** : وهي من سلالة العواس المشهورة بلحومها وصوفها وحليبها وتتأثر أعداد قطعان الأغنام بتذبذب كميات الأمطار .
- **الماعز** : انخفضت أعدادها بسبب السياسة المتبعة لحماية المناطق الحراجية إضافة إلى انخفاض الطلب على لحومها
- **الأبقار** : ازداد الاهتمام بتربيتها في سوريا لأنها تشكل مصدراً كبيراً لإنتاج الحليب وقد تم إدخال أصناف جديدة وتأمين الأعلاف المركزة .

- الثروة الحيوانية الزراعية :

- إذ يزداد نشاط تربية الدواجن على نطاق واسع مما حقق تأمين احتياجات السكان من البيض واللحوم . ويربى في أغلب المناطق بالطرائق الحديثة . أما الثروة السمكية فهي تسهم في نسبة قليلة من الإنتاج الحيواني مما دفع الدولة إلى زيادة الاهتمام بتطوير الاستزراع السمكي وإنشاء هيئة عامة للثروة السمكية مقرها اللاذقية .
- **علل** تذبذب إنتاج القمح في الجمهورية العربية السورية : لتأثر إنتاج القمح بكميات هطول الأمطار الغير منتظمة .

حل الأنشطة والتدريبات

أولاً : ضع إشارة (√) أمام العبارة الصحيحة و صحح العبارة الغلط فيما يأتي :

- 1 - يُزرع القمح في المنطقة الساحلية فقط : **× في الحسكة وحلب .**
 - 2 - نحصل من بذور القطن على زيوت نباتية غذائية : **√**
 - 3 - توجد أراضي الحزيرة السورية بزراعة التفاح : **× زراعة القطن والشوندر السكري والحبوب .**
- ثانياً : ما أهمية زراعة الزيتون في سوريا : ثالث أكبر المحاصيل وله أهمية غذائية و صناعية وتصديرية .
- ثالثاً : ما أنماط تربية الحيوان في سوريا :
- أ - نمط الرعي المتنقل .
ب - طرائق التربية الحديثة ضمن مزارع متخصصة .

الكنوز الدفينة في الوطن العربي (مصادر الطاقة)

الدرس الرابع

- 1 - علل أهمية الصادرات الضخمة من الخامات والثروات النفطية : لأنها حركت قطاعات الاقتصاد وأمدتها بمواد الطاقة والمواد الأولية وقدمت لها الدعم المادي اللازم لإنشائها وتطويرها .
- 2 - علل تشكل المصائد البترولية في الوطن العربي : بسبب العلاقة بين اليابس والماء وبقايا الكائنات الحية والنباتية والحيوانية وعمليات الإرساب إضافة للضغط والحرارة .
- 3 - عرف المصطلحات الآتية :
 - أ - **التعدين** : (الصناعات الاستخراجية) استخراج الثروات الباطنية من باطن الأرض .
 - ب - **الاحتياطي العالمي** : هو المخزون في باطن الأرض من المادة ولم تُستثمر بعد .
 - ج - **الأوبك** : هي منظمة عالمية ترعى مصالح الدول المنتجة والمصدرة للنفط .
 - ع - **الأوبك** : منظمة عربية تضم الدول العربية المنتجة للنفط .
- 4 - تحدث عن أحواض النفط في الوطن العربي :

هااااام

تتوزع في عدة مناطق وينقسم كل حوض إلى عدة حقول وآبار وأشهرها :

حقل الغوار في السعودية - حقل كركوك في العراق - حقل العُدّ الشرقيّ على الساحل الشرقي لقطر وهو حقل بحري .

حقل زلطن (ناصر) في ليبيا .
- 5 - تحدث عن صفات النفط العربي :

هااااام

أ - جودة أنواعه .
ب - وجوده على أعماق قليلة وغزارة آباره .
ج - قلة تكاليف استخراجه .
ح - قربه من موانئ التصدير ومصافي التكرير .

ع - توفر الأيدي العاملة .

6 - علل جودة أنواع النفط العربي : بسبب انخفاض نسبة الكبريت فيه وتنوع مشتقاته .

7 - علل قلة تكاليف إنتاج نفط **المشرق العربي** : بسبب وجوده في أعماق قليلة وغازة آباره .

8 - علل يتميز نفط **المغرب العربي** بقلة تكاليف استخراجة مقارنة مع نفط المشرق العربي رغم وجوده على أعماق كبيرة

- بسبب قربه من الأسواق الأوروبية والأمريكية . وقربه من موانئ التصدير ومصافي التكرير وتوفر الأيدي العاملة الرخيصة .

9 - علل تكاليف إنتاج برميل واحد من النفط العربي أقل عشر مرات من تكلفة إنتاج برميل نفط أمريكي :

- بسبب تميز النفط العربي بجودة الأنواع وتنوع المشتقات وقربه من موانئ التصدير ومصافي التكرير وتوفر الأيدي العاملة الرخيصة .

10 - تحدث عن الغاز الطبيعي في الوطن العربي والتغيرات الجوهريّة التي طرأت لصالح الغاز الطبيعي :

- يلي النفط من ناحية الانتشار ويستخرج إما مع النفط أو منفرداً وأهم حقوله **حاسي الرمل في الجزائر** وهو أحد الحقول

العالمية العملاقة . الذي يُسهم مع حقول الإمارات والسعودية في إنتاج ثلاثة أرباع الإنتاج العربي من الغاز الذي بلغ

تقريباً 15% من الإنتاج العالمي .

أما التغيرات الجوهريّة التي طرأت مع مرور الوقت لصالح الغاز الطبيعيّ فهي .

أ - بروز أهمية الغاز بوصفه وقوداً أقلّ تلويثاً للبيئة من النفط , إضافة لقيمتة الحرارية العالية .

ب - التمكن من استخدامه في الصناعات البتروكيماوية ومصدراً للطاقة والوقود .

ج - نجاح نقله بعد تسييله بالناقلات المبردة لتصديره إلى الخارج . إضافة لاستخدامه في تحلية ماء البحر .

11 - علل تزايد أهمية الغاز بوصفه مصدراً للطاقة : **هاااالم**

- بسبب كونه أقلّ تلويثاً للبيئة من النفط إضافة لقيمتة الحرارية العالية واستخدامه في الصناعات البتروكيماوية .

12 - تحدث عن الفحم الحجري في الوطن العربي .

- عُثر عليه في بعض بلدان الوطن العربي في كميات قليلة وغالبها ليس من الأنواع الممتازة كما في المغرب والجزائر

ومصر بحيث تستخدمه مصر في صناعة الحديد والصلب والصناعات البتروكيماوية .

معلومات من الدرس :

- يقدر الاحتياطي العربي من النفط نصف الاحتياطي العالمي بنسبة 57.8 % .

- يقدر الاحتياطي العربي من الغاز ربع الاحتياطي العالمي .

- السعودية الأولى عربياً في إنتاج النفط . والثالثة عالمياً . بحيث تسهم مع العراق والإمارات والكويت بنحو ثلثي الإنتاج

العربي البالغ حوالي 30% من الإنتاج العالمي للنفط .

الحقول النفطية في الوطن العربي

اسم الحقل	الدولة التي يتواجد فيها
سيدي قاسم	المغرب
حاسي الرمل - حاسي مسعود - عجيلة	الجزائر
بورما	تونس
مبروك - زلطن (ناصر) - سرير	ليبيا
العلمين - بلاعيم	مصر
رميلان - التيم	سوريا
كركوك - البصرة	العراق
البرقان	الكويت
البقيق - غوار	السعودية
الياب	الإمارات
العَدّ الشرقي	قطر
الشمال	تتقاسمه قطر وإيران
ناطح	عُمان

حل الأنشطة والتدريبات

- أولاً : أكمل المخطط الآتي للدول المنتجة للنفط : لا يأتي هذا السؤال في الامتحان .
- ثانياً : أعطِ تفسيراً لما يأتي :
- 1 - قلة تكاليف استخراج النفط في المشرق العربي : بسبب وجوده على أعماق قليلة وغازة أباره .
 - 2 - تزايد أهمية الغاز بوصفه مصدر للطاقة :
- بسبب كونه أقل تلويثاً للبيئة من النفط إضافة لقيمته الحرارية العالية واستخدامه في الصناعات البتروكيمياوية .

1 - علل أهمية الثروة المعدنية في اقتصادات بعض الدول العربية :

- لأن وجودها يسمح بقيام صناعات تعدينية . تشكل أساس النهضة الاقتصادية والتنمية .

2 - تحدث عن تصنيف المعادن في الوطن العربي :

أ - **مجموعة المعادن الفلزية** : المعادن القابلة للطرق والسحب والقادرة على توصيل الحرارة والكهرباء وأهم أنواعها :

- المعادن الحديدية (الحديد الخام - المنغنيز) .

- المعادن غير الحديدية (النحاس - الرصاص) .

- المعادن الثمينة (الذهب - الفضة) .

ب - **مجموعة المعادن اللافلزية** : هي المعادن التي لا تضم الصفات السابقة لمجموعة المعادن الفلزية وتضم :

- معادن الأسمدة الكيماوية (الفوسفات , البوتاس , الكبريت) .

- الأملاح التبخيرية (ملح الطعام) والخامات ومواد البناء مثل الرمل والحجر الجيري والبازلت .

3 - علل انتشار صناعة صهر الألمنيوم و الإسمنت ومواد البناء في البحرين ومصر :

- بسبب ارتباطها المباشر باحتياجات الإنشاء والتعمير في معظم الدول العربية .

الثروات المعدنية في الوطن العربي

أ - **خامات الحديد** : أكثر المعادن استخداماً في الصناعة (خبز الصناعة) وأكثرها رخصاً بحيث يُصنع منها الصلب

الذي يشكل أساس الصناعات الثقيلة كالآلات والجسور وحديد البناء ووسائل النقل .

حيث يتركز ثلاثة أرباع الاحتياطي من خام الحديد في إقليم المغرب العربي . لاسيما في **موريتانيا** .

(منجم كدية الجل وأكجوجت يقدمان 40 % تقريباً من الإنتاج العربي لخام الحديد) .

ملاحظة : لا تمتلك موريتانيا إمكانية تصنيع خامات الحديد المُستخرج من أراضيها لذلك تقوم بتصديره بالكامل تقريباً .

ب - **المنغنيز** : يدخل في صناعة الصلب ليكسبه الصلابة ومقاومة التآكل , ويدخل في الصناعات الكيماوية ومواد

الطلاء . وتأتي **المملكة المغربية** في مقدمة الدول العربية المنتجة لخامات المنغنيز ثم تليها مصر بحيث يستثمر من

حقول الصحراء الشرقية وجنوب سيناء .

ج - **الزنك والرصاص** : يتلازم وجود هذين العنصرين في الطبيعة , بحيث تعود أهمية الرصاص **كونه** يدخل في

صناعة البطاريات السائلة وأسلاك الكهرباء . أمّا الزنك يدخل في صناعة هياكل السيارات والأجهزة المنزلية .

أهم الدول المنتجة للرصاص والزنك **تونس والمملكة المغربية** .

ح - **الألمنيوم** : أكثر المعادن استخداماً وينتشر في السعودية وليبيا ومعظم المناطق الصحراوية . وتتركز صناعته في

مصر بمدينة (نجع حمادي) وذلك **بسبب** احتياج عمليات تعدين الألمنيوم إلى كميات كبيرة من الكهرباء بحيث يعتمد

ب - **الغار الطبيعي** : بشكله الجاف في حقول (جبسة والتدمرية) , والرطب من حقل (السويدية) .

ويُستهلك معظم الإنتاج في الداخل السوري , واعتماداً على تكرير النفط والغاز يتم إنتاج كميات من الكبريت في السويدية إضافة إلى إنتاج الإسفلت من مكانه الطبيعية في جبل البشري وفي كفرة شمال شرقي اللاذقية .

ج - **السجيل الزيتي** : يتكون من صخور رسوبية متشربة بالمواد العضوية حيث يتوافر في القلمون و حوران (وادي اليرموك) .

ح - **الفوسفات** : يتم استثمارها من منطقة تدمر (خنيفس والشرقية) بحيث يُنقل عبر السكك الحديدية إلى ميناء طرطوس للتصدير بعد أن يمر في حمص لتزويد معمل السماد باحتياجاته .

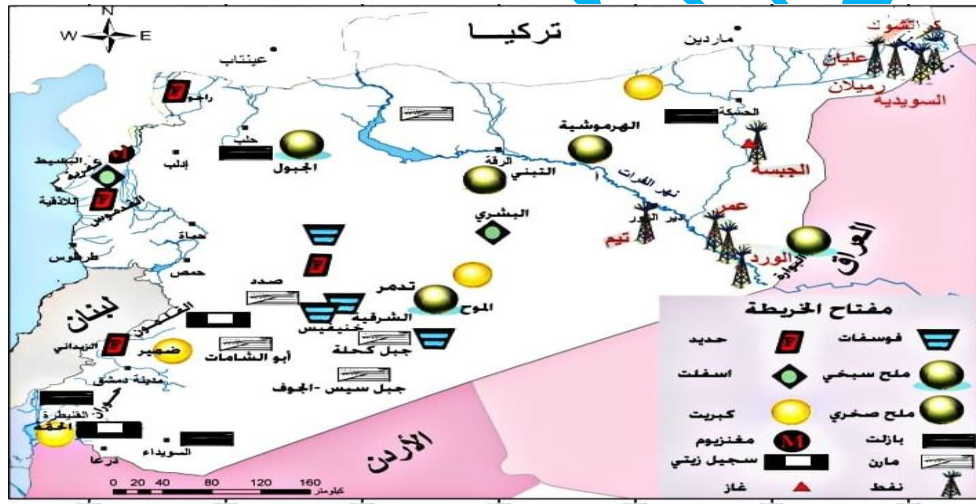
ع - **الملح** : يُنتج من مصدرين : - الملح الصخري النقي: من دير الزور في حقل التبني .

- ملح الملاحات : الأقل نقاوة يُستخرج من البوارة والجبسة والجبول .

ق - خامات الحديد والكروم والمنغنيز في مناطق الجبال الغربية . مثل راجو والقدموس .

معلومات من الدرس : - احتياطي سوريا من النفط يشكل 3% من احتياطي الكويت .

2023



الخريطة (7) تُورِّعُ الثروات الباطنية المعدنية في سورية

حل الأنشطة والتدريبات

- أولاً : ضع إشارة (√) أمام العبارة الصحيحة وصحح العبارة الغلط فيما يأتي :
- 1 - يُستثمر الفوسفات في سوريا من مناجم التبني : × **يُستثمر من منطقة تدمر (خنيفس والشرقية) .**
 - 2 - تختص حقول السويدية بإنتاج الغاز الجاف : × **الغاز الرطب .**

حل أنشطة الوحدة الرابعة وتدريباتها

أولاً : ضع إشارة (√) أمام العبارة الصحيحة وإشارة (×) أما العبارة الغلط فيما يأتي :

- 1 - تحتل مصر المرتبة الأولى في الوطن العربي في إنتاج الحبوب : √ .
- 2 - تجود زراعة الحمضيات في سوريا في سفوح المناطق الجبلية (الزبداني وجبل العرب) : × .
- 3 - يُعد مشروع سد الفرات من أهم المشاريع في الوطن العربي : × .
- 4 - تُوجد خامات للحديد والكروم في سوريا في منطقة تدمر (خنيفس) : × .

- 1 - تحدث عن أهمية الصناعة في الجمهورية العربية السورية :
- هاااااام
- تعد الصناعة في سوريا رافداً من روافد الناتج الوطني , إذ تعمل على رفع المستوى المعيشي للسكان وتوفير فرص عمل لأعداد كبيرة من الأيدي العاملة , كما تُسهم في تطوير الزراعة والتجارة والنقل .
- 2 - ما المقومات الأساسية للصناعة في الجمهورية العربية السورية (الطبيعية والبشرية) .
- 2025
- أ- **مقومات طبيعية** : حيث تتمثل بالمواد الخام ولعل أهمها القطن والشوندر السكري والفاكهة والزيتون . إضافة للفوسفات والنفط والغاز والكهرباء .
- ب - **مقومات بشرية** : كتوافر اليد العاملة ورأس المال واتساع السوق الاستهلاكية .
- 3 - ما الخطط التي وضعتها الدولة لتطوير الصناعة في الجمهورية العربية السورية .
- هااااام
- أ - إنشاء المدن الصناعية مثل مدينة عدرا في ريف دمشق . وحسباً في حمص . والشيخ نجار في حلب .
- ب - حماية المنتجين والمستهلكين وتمنع الاحتكار . ج - تطوير الطاقة البشرية بما يخدم الاقتصاد الوطني .

الصناعات الحديثة في سوريا :

- **الصناعات الاستخراجية** : كاستخراج النفط والغاز والفوسفات والإسفلت والملح ومواد البناء .
- **الصناعات التحويلية** : تتميز بتنوعها وانتشارها في مختلف أنحاء سوريا ومنها :
- أ - **الصناعات الغذائية** : وتعتمد على الحاصلات الزراعية والحيوانية كصناعة السكر وتكرير السكر الخام تتركز في حمص وإدلب (**علل**) بسبب توفر المصانع واليد العاملة , إضافة إلى صناعة الزيوت النباتية في دمشق وحلب وحماة واللاذقية .
- ب - **الصناعات النسيجية** : وهي من الصناعات المهمة من حيث عدد العمال والمعامل ورأس المال . وتشمل نسج القطن والصوف بحيث تتركز في حلب ودمشق .
- ج - **صناعة مواد البناء** : وتعتمد على الإسمنت وتتركز في أغلب المحافظات وتزايد الطلب عليها باستمرار بسبب الحركة العمرانية النشطة .
- ح - **الصناعات المعدنية** : تعتمد على الحديد المستورد والحديد الخردة و تشمل صناعة القضبان الحديدية في حماة وصناعة الجرارات في حلب , وتجميع السيارات والأدوات الكهربائية .
- خ- **الصناعات البتروكيماوية والكيمائية** :
- ومنها صناعة تكرير النفط التي تؤمن حاجة سوريا من مشتقات النفط , وتتركز في مصفاة حمص التي تبلغ طاقتها الإنتاجية نحو : 5,7 مليون طن سنوياً , إضافةً لمصفاة بانياس وطاقتها الإنتاجية نحو 6 مليون طن سنوياً .
- وتنقل المشتقات النفطية إلى دمشق وحلب واللاذقية بالأنايب , وتؤمن الصناعة الكيماوية حاجة سوريا من الأسمدة بحيث أقيم معمل للسماد الأزوتي ومعمل للسماد الفوسفاتي في **حمص** .

حل الأنشطة والتدريبات

أولاً : أكمل الخريطة المفاهيمية الآتية :

أنواع الصناعات

الصناعات التحويلية

- الصناعات الغذائية – الصناعات النسيجية
- صناعة مواد البناء – الصناعات المعدنية .

الصناعات الاستخراجية

- النفط - الغاز
- الفوسفات – الإسفلت

ثانياً : ما مقومات الصناعة في سوريا : الإجابة موجودة في السؤال الثاني من الدرس .

ثالثاً : كيف أسهمت سياسة الدولة في تشجيع الصناعة :

- أ – إنشاء المدن الصناعية الكبرى .
- ب – إتاحة الفرص للمستثمرين العرب في دخول سوق الإنتاج وتأمين الأراضي والخدمات بأسعار مخفضة .
- ج – تأمين أراضي سكنية للعمال إضافة لكل الخدمات الأساسية .
- رابعاً : في رأيك ما المقومات (الطبيعية والبشرية) التي تتطلبها صناعة السكر في سوريا .
- أ – زيادة المساحات المزروعة و اختيار أصناف ممتازة للزراعة .
- ب - تطوير الكوادر البشرية وتدريبها على أحدث طرق الزراعة الحديثة .
- ج – إقامة المصانع المتطورة وتنوع أصناف الإنتاج .

الدرس الثالث المواصلات والتجارة في الوطن العربي .. نشاطان اقتصاديان متلازمان

1 – علل يعد الوطن العربي عقدة مواصلات برية وبحرية وجوية : كونه يتوسط قارات العالم القديم ويصل بينها .

2 – عرف النقل وبيّن أهميته في الوطن العربي :

النقل : هو العملية التي تؤمن حركة الأفراد والبضائع من مكان إلى آخر .

تبرز أهمية النقل في أثره في النهضة الاقتصادية والعمرانية وتوحيد أجزاء الدولة الواحدة وربط بلدان الوطن العربي ببعضها وبالعالم الخارجي .

3 – تحدث عن الطرق في الوطن العربي :

أ – **الطرق الساحلية** : وهي طرق مسابرة للبحر المتوسط والمحيط الأطلسي. والطرق التي تحاذي السواحل في شبه الجزيرة العربية .

ب – **الطرق الداخلية** : وهي الطرق التي تربط بين المناطق الداخلية .

ج – **السكك الحديدية** : وهي قليلة في الوطن العربي ولا تشكل شبكة واحدة **بسبب** اتساع المساحات الصحراوية الخالية من

السكان . وتعد شبكة وادي النيل من **أطول** الشبكات وأفضلها . وتربط شبكة المغرب المدن الساحلية ببعضها وبعض مناطق

الإنتاج في الداخل .

هاااااااااا

4 – تحدث عن الموانئ في الوطن العربي وأهميتها :

- لقد ساعد إشراف الوطن العربي على بحار ومحيطات مهمة في إقامة موانئ بحيث أنشأت الدول العربية موانئ حديثة ومتطورة بحيث خُصصت موانئ لنقل البضائع مثل ميناء **بيروت** وموانئ لنقل النفط مثل ميناء **رأس التنورة** .
ومرفأ لإصلاح السفن مثل ميناء **المنامة** .

هاااااا

5 – تحدث عن المطارات في الوطن العربي وأهميتها :

- لقد ساعد موقع الوطن العربي المتميز وصفاء سمائه على قيام عدد كبير من المطارات الحديثة المجهزة بأحدث التقنيات . ولعل أهم هذه المطارات : مطار القاهرة ومطار دبي ومطار جدة ومطار الدار البيضاء .

6 – تحدث عن التجارة في الوطن العربي وأهميتها :

- التجارة هي تبادل السلع والمنتجات بين المناطق المنتجة والمناطق المُستهلكة . بحيث تحتل التجارة المرتبة **الثالثة** من بين النشاطات الاقتصادية في الوطن العربي بعد الزراعة والصناعة . وتُقسم إلى :

أ – تجارة داخلية : تقوم على تبادل السلع والمنتجات بين أقطار الوطن العربي . وتتصف بالضعف **بسبب** واقع التجزئة العربية وتشابه المنتجات بين الدول العربية ، ومنافسة البضائع الأجنبية للبضائع العربية .

ب – تجارة خارجية : تقوم على تبادل السلع والمنتجات بين الدول العربية ودول العالم . وتتصف بضعفها في مجال المواد المُصنعة . **بسبب** ضعف الإمكانيات العربي في مجال التصنيع . ويعتمد الوطن العربي بشكل كبير على التجارة الخارجية وذلك **بسبب** الاعتماد على تجارة المواد الخام وخاصة النفط .

7 – عرف الميزان التجاري وتحدث عن صادرات وواردات الوطن العربي :

- الميزان التجاري : هو الفرق بين قيمة الصادرات وقيمة الواردات ، بحيث يكون رابحاً إذا كانت قيمة الصادرات أكبر من قيمة الواردات . ويكون خاسراً إذا كانت قيمة الواردات أكبر من قيمة الصادرات .

أهم الصادرات العربية : المواد الزراعية الخام من قطن والصبغ إضافة للمواد الرعوية الخام من جلود وحيوانات إضافة للخامات الأخرى مثل الحديد والفوسفات والنفط .

أهم واردات الوطن العربي : المواد المُصنَّعة والأدوات الكهربائية ووسائل النقل والأدوية والمعدات الطبية والمواد الغذائية .

- ويعد الميزان التجاري في معظم دول الوطن العربي **خاسراً** ما عدا الدول النفطية .

حل الأنشطة والتدريبات

أولاً : فسر ما يأتي :

1 - أهمية المواصلات في الوطن العربي :

- لها أثر في النهضة الاقتصادية والعمرانية وتوحيد أجزاء الدولة الواحدة وربط بلدان الوطن العربي ببعضها وبالعالم الخارجي .

2 - قيام عدد كبير من المطارات الحديثة في الوطن العربي : بسبب موقعه المتوسط وصفاء سمائه .

3 - فقر الوطن العربي بالسكك الحديدية : بسبب اتساع المساحات الصحراوية الخالية من السكان .

ثانياً : قارن وفق الجدول الآتي بين الصادرات والواردات في الوطن العربي :

الواردات	الصادرات
المواد المصنعة والأدوات الكهربائية ووسائل النقل والأدوية والمعدات الطبية والمواد الغذائية .	المواد الخام الزراعية والرعية وخامات الحديد والفوسفات و النفط .

المواصلات والتجارة في سوريا

الدرس الرابع

2023 - 2025

1 - تحدث عن أهمية النقل والمواصلات في الجمهورية العربية السورية :

- لها دور كبير في تسهيل انتقال الأفراد وتنشيط السياحة والتنمية . إضافة لربط أجزاء الدولة ببعضها من جهة وبالوطن العربي والعالم من جهة أخرى . إضافة لربط مناطق الإنتاج بمناطق الاستهلاك والتصدير والنقل . كنقل النفط من مناطق الجزيرة العليا إلى مصفاة حمص والتصدير من ميناء اللاذقية إلى جهة ثالثة .

2- تحدث عن طرق المواصلات في سوريا وتصنيفها :

- طرق المواصلات البرية : وأهمها طرق السيارات ومعظمها من الطرق المزدوجة وتتمحور في ثلاثة طرق رئيسية هي :

أ - **الطريق الساحلية** : تمتد بموازاة الساحل من خليج الاسكندرون إلى الحدود اللبنانية جنوباً ولها أهمية سياحية .

ب - **الطريق الداخلية** : وعقدة مواصلاتها مدينة **حمص** وتمتد بموازاة الطريق الساحلية من حلب إلى درعا ومنها إلى الأردن .

ج - **الطريق الشرقية** : عقدة مواصلاتها **دير الزور** وتتفرع منها طريق إلى دمشق وأخرى من حلب إلى القامشلي ثم إلى العراق .

3 - تحدث عن خطوط السكك الحديدية في سوريا :

- أهمها خط حمص طرابلس وخط الموصل المحاذي للحدود التركية وخط حلب اللاذقية وخط حلب القامشلي وخط مناجم الفوسفات حمص طرطوس .

4 - تحدث عن الموانئ في الجمهورية العربية السورية :

- تمتلك سوريا عدة موانئ أهمها ميناء **اللاذقية** وهو مخصص للتصدير والاستيراد وميناء **طرطوس** الذي يختص

بتصدير النفط والفوسفات . وميناء **بانياس** الذي يختص بتصدير النفط .

2023

5 - تحدث عن المطارات في الجمهورية العربية السورية :

- تمتلك سوريا عدة مطارات أهمها مطار دمشق الدولي الي يُعد من المطارات المهمة في العالم **بسبب** موقع سوريا الاستراتيجي . واستخدامه من معظم شركات الطيران العالمية . وهناك مطارات ثانوية في حلب والقامشلي واللاذقية ودير الزور .

6 - تحدث عن التجارة وأهميتها في الجمهورية العربية السورية :

- تعد التجارة أهم الركائز الأساسية للتنمية ورافداً هاماً في الموازنة العامة للدولة بحيث يخدمها توافر الموانئ والمراكز التجارية إضافة إلى نسبة العاملين فيها وخبرتهم ويتصف الميزان التجاري في سوريا بالعجز الكبير حيث أنه بدأ يتدنى **نتيجة** لنجاح خطط التنمية والإجراءات التي قامت بها الدولة وتطوير الصناعة الاستراتيجية وعائدات السياحة وأموال المغتربين وتجارة العبور (الترانزيت) .

7 - ما تجارة العبور (الترانزيت) وما أثرها في التنمية الاقتصادية وأهميتها لسوريا :

2023

- تجارة العبور (الترانزيت) : هي مرور البضائع التي تصل إلى دولة ما عن طريق البر أو البحر أو الجو ليعاد شحنها إلى دولة أخرى مع خضوعها لإجراءات جمركية مختصرة مقارنة بتلك الإجراءات الخاصة بإدخال البضائع الأجنبية إلى داخل الدولة .

- أهمية تجارة الترانزيت لسوريا : تساهم في دعم خزينة الدولة بالقطع الأجنبي وتنشط الحركة الاقتصادية في الدولة .

حل الأنشطة والتدريبات

أولاً : أكمل الجمل الآتية بالعبارات المناسبة :

- أهم محاور طرق السيارات في سوريا الطريق : الطريق الساحلية والطريق الداخلية والطريق الشرقية .

- تتصف التجارة السورية بتزايد حركة الواردات وتناقص الصادرات وبميزان تجاري خاسر .

ثانياً : أكمل خريطة المفاهيم الآتية :

الموانئ في سوريا

ميناء اللاذقية	ميناء طرطوس	ميناء بانياس
مخصص للتصدير والاستيراد	يختص بتصدير النفط والفوسفات	يختص بتصدير النفط

ثالثاً : فسر ما يأتي :

1 - أهمية المواصلات في سوريا : لها دور كبير في تسهيل انتقال الأفراد وتنشيط السياحة والتنمية .

إضافة لربط أجزاء الدولة ببعضها من جهة وبالوطن لعربي والعالم من جهة أخرى . إضافة لربط مناطق الإنتاج بمناطق الاستهلاك والتصدير والنقل .

2 - أهمية مطار دمشق الدولي : بسبب موقع سوريا الاستراتيجي واستخدام المطار من قبل معظم شركات الطيران العالمية

3 - أهمية تجارة العبور (الترانزيت) في القطر العربي السوري : تساهم في دعم خزينة الدولة من القطع الأجنبي وتنشط الاقتصاد الوطني .

السياحة نافذة العرب إلى العالم

الدرس الخامس

هاااااااا

1 - عرف السياحة واذكر مقوماتها في الوطن العربي :

هي انتقال مؤقت للأفراد أو الجماعات من مكان إلى آخر. طلباً لفوائد ترفيهية أو روحية أو فكرية . **أما مقوماتها فهي :**

أ - **المقومات الطبيعية :** حيث تلبى جانباً كبيراً من أذواق السياح **بسبب** تنوع البيئات الطبيعية وتميزها , فهناك البيئة المتوسطة بمناخها المعتدل . والبيئة الصحراوية بما فيها من غرائب الطبيعة .

إضافة لما يضمه الوطن العربي من جميع أشكال التضاريس كالجبال والسهول والمنخفضات كالبحر الميت الذي يعد **أخفض** بقاع الأرض , إضافة لإشراقه على عدد من البحار والمحيطات وقربه من آسيا وإفريقيا وأوروبا .

ب - **مقومات بشرية :** تتمثل في غنى الوطن العربي بالمناطق الأثرية وما تحتويه المتاحف من كنوز أثرية تعود للحضارات البابلية والآشورية في العراق , والفينيقية والرومانية في ليبيا .

إضافة للخدمات الفندقية والمطاعم وما يتمتع به الإنسان العربي من كرم الضيافة .

2 - عدد أنواع السياحة في الوطن العربي وشرحها :

أ - السياحة الدينية : وهي زيارة الأماكن المقدسة كمدينة مكة المكرمة والقدس .

ب - السياحة العلاجية : وهي سياحة بقصد العلاج من أمراض الجسد والترويح عن النفس , وتعتمد على ينابيع المعدنية والكبريتية ورمال البحر الميت في الأردن , وحمامات السخنة في اليمن . إضافة للحصول على الخدمات الطبية المميزة .

ج - السياحة الترفيهية : هي زيارة المناطق الطبيعية والبحار بغرض الاستمتاع والترفيه حيث تتم ممارسة أنواع من الهوايات مثل الصيد والغوص والتجوال في المناطق الصحراوية والجبلية .

ح - السياحة العلمية : وتشمل دراسة مظاهر طبيعية معينة كحركة الطيور وهجرتها العالمية وزيارة المحميات الطبيعية كمحمية الفيوم في مصر إضافة لزيارة المغائر. كمغارة جعيتا في لبنان التي أطلق عليها **لؤلؤة** السياحة اللبنانية لما تشكله من محطة سياحية هامة لجذب السياح .

ح - السياحة الثقافية : وهي زيارة الدول التي تتمتع بمقومات تاريخية وحضارية كثيرة .

3 - ما آثار السياحة في الوطن العربي :

- الآثار الإيجابية : كتتنوع مصادر الدخل الوطني وزيادة القطع الأجنبي والاهتمام في البيئة وحمايتها والاطلاع على ثقافات الشعوب الأخرى .

الآثار السلبية : تتمثل بارتفاع الأسعار وسوء استخدام الموارد الطبيعية والتلوث بأنواعه المختلفة .

حل الأنشطة والتدريبات

أولاً : ضع إشارة (√) أمام العبارة الصحيحة وإشارة (×) أمام العبارة الغلط فيما يأتي :

1 المقومات الطبيعية للسياحة تتمثل في توافر البنى التحتية كالمطارات ووسائل النقل : ×

2 – من المناطق الطبيعية السياحية الأماكن المقدسة : √

3 – من الآثار السلبية للسياحة في الوطن العربي انخفاض الأسعار : ×

ثانياً : أكمل العبارات الجغرافية الآتية :

- 1 – السياحة العلاجية تعني : وهي سياحة بقصد العلاج من أمراض الجسد والترويح عن النفس , وتعتمد على الينابيع المعدنية والكبريتية ورمال البحر الميت في الأردن , وحمامات السخنة في اليمن . إضافة للحصول على الخدمات الطبية المميزة .
 - 2 – المقومات البشرية للسياحة : تتمثل في غنى الوطن العربي بالمناطق الأثرية وما تحتويه المتاحف من كنوز أثرية تعود للحضارات البابلية والآشورية في العراق , والفينيقية والرومانية في ليبيا . إضافة للخدمات الفندقية والمطاعم وما يتمتع به الإنسان العربي من كرم الضيافة
 - 3 – السياحة العلمية : وتشمل دراسة مظاهر طبيعية معينة كحركة الطيور وهجرتها العالمية وزيارة المحميات الطبيعية كمحمية الفيوم في مصر إضافة لزيارة المعائر.
- ثالثاً : أكمل خريطة المفاهيم الآتية : آثار السياحة : الإجابة موجودة في السؤال الثالث من الدرس .

السياحة .. صناعة المستقبل في سوريا

الدرس السادس

1 – علل أهمية السياحة في الجمهورية العربية :

- تسهم السياحة في رفع مستوى المعيشة من خلال الانتعاش الاقتصادي الذي تجلبه , إضافة لجذب الاستثمارات الأجنبية المباشرة . واستيعاب نسبة كبيرة من الأيدي العاملة وبناء وتطوير البنى التحتية . كما تعد السياحة فرصة للتعرف بين الشعوب .

2 – ما مقومات السياحة في الجمهورية العربية السورية :

أ – المقومات الطبيعية : ومنها الفصول الأربعة , والسواحل المشمسة والحمامات الطبيعية مثل الحمة والحياة في وادي اليرموك في محافظة درعا . وغابات الفرنلق .

ب – المقومات البشرية : مثل الآثار كبصرى وتدمر والأماكن الدينية , إضافة لتوفر البنى التحتية كالمطارات ووسائل النقل وتطور القطاعات الصناعية. وتوافر الخدمات من مطاعم وفنادق ومراكز ترفيه .

ثالثاً : ما المقصود بالمفاهيم الآتية :

أ – الصناعة : هي العمليات التي يتم بواسطتها تحويل المادة من حالتها الأولية إلى مادة أكثر نفعاً للإنسان .

ب – النقل : هو العملية التي تؤمن حركة الأفراد والمعارف من مكان إلى آخر .

ج – التجارة : هي تبادل السلع والمنتجات بين المناطق المُنتجة والمناطق المُستهلكة .

ح - تجارة العبور (الترانزيت) : هي مرور البضائع التي تصل إلى دولة ما عن طريق البر أو الجو أو البحر .

لُيعاد شحنها إلى دولة أخرى مع خضوعها لإجراءات جمركية مُختصرة .

خ – السياحة العلمية : هي السياحة التي تشمل دراسات لمظاهر طبيعية معينة وزيارة المحميات الطبيعية والظواهر الطبيعية .

رابعاً : فسر ما يأتي :

1 – تطور الصناعة في سوريا : بسبب توفر المقومات الأساسية لقيام الصناعة إضافة إلى الاهتمام الكبير الذي أولته الدولة للقطاع الصناعي .

2 – أهمية الصناعة في سوريا : لأنها ترفع من المستوى المعيشي للسكان وتوفر فرص عمل كثيرة وتُسهم في تنشيط الزراعة والتجارة والنقل .

3 – فقر الوطن العربي بالسكك الحديدية : بسبب اتساع المساحات الصحراوية الخالية من السكان .

4 - قيام عدد كبير من المطارات الحديثة في الوطن العربي : بسبب موقع الوطن العربي المتوسط وصفاء سمائه .

5 – أهمية المواصلات في سوريا : لأن لها دور كبير في تسهيل انتقال الأفراد وتنشيط السياحة والتنمية وربط أجزاء الدولة بعضها ببعض من جهة وبالوطن العربي والعلم من جهة أخرى .

6 – أهمية صناعة النسيج في سوريا : لدورها في دعم الاقتصاد الوطني وتشغيل اليد العاملة .

7 – اهتمام الدول العربية بالصناعات اليدوية . بسبب أهميتها في السياحة والتعريف بالثقافة الحضارية العربي .

8 – التوسع في صناعة الإسمنت في الوطن العربي : بسبب التوسع العمراني والتطور في البناء وتنفيذ المشاريع الكبرى .

خامساً : وازن بين التجارة الداخلية والتجارة الخارجية وفق الجدول الآتي :

التجارة الخارجية	التجارة الداخلية	
هي تبادل السلع والمنتجات بين أقطار الوطن العربي ودول العالم .	هي تبادل السلع بين أقطار الوطن العربي .	التعريف
تتصف بضعفها في مجال المواد المُصنعة .	تتصف بالضعف وتشابه المنتجات منافسة البضائع الأجنبية .	الصفات

انتهى بعونه تعالى منهاج مادة الجغرافيا لطلاب الصف التاسع

أرجو من الله تعالى أن يكون هذا العمل المتواضع قد حقق طموحاتكم في البحث عن ملخص

شامل وسهل ومضمون العلامة التامة . يساعدهم على فهم واستيعاب المادة ويحقق لكم النجاح والتميز .

زميلكم الأستاذ : أيمن الحسين أبو يعرب

سوريا في : 25 - 5 - 2025

الأستاذ: أيمن الحسين