

جغرافيا

أوراق مكثفة - تاسع

المدرس ايفان حمو - صفحة تعليمية



0988677831 

2026



الدرس الأول : الوطن العربي موقع متميز وإمكانات كبيرة :

أتمتة

من بين الاجابات التالية هناك اجابة واحدة صحيحة قم باختيارها بدقة :

1. يمتد الوطن العربي بين 1,30 درجة جنوب خط الاستواء و :

1,30 درجة شمال خط الاستواء	37,30 درجة شمال خط الاستواء
1,30 درجة جنوب خط غرينتش	37,30 درجة جنوب خط غرينتش

2. يمتد الوطن العربي جنوب خط الاستواء حتى درجة العرض:

1,30 درجة	13,0 درجة
37,30 درجة	3,7 درجة

3. يمتد الوطن العربي شمال خط الاستواء حتى درجة العرض:

1,30 درجة	13,0 درجة
37,30 درجة	3,7 درجة

4. يمتد الوطن العربي بين خطي طول 60 شرق غرينتش و غرب غرينتش .

45	67
17	77

5. يمتد الوطن العربي شرق خط غرينتش حتى درجة طول :

40	60
17	77

6. عدد خطوط الطول التي يمتد عليها الوطن العربي :

45	60
17	77

7. عدد درجات العرض التي يمتد عليها الوطن العربي :

37,3	38,60
33,50	23,40

8. تبلغ مساحة الوطن العربي :

14 مليون كم ²	14 مليون كم
14 الف كم ²	14 الف كم

9. يصب نهر السنغال في :

البحر المتوسط	البحر الاحمر
المحيط الهادئ	المحيط الاطلسي

10. يحد الوطن العربي شمالاً :

المحيط الهادئ	المحيط الاطلسي
البحر المتوسط	البحر الاحمر

11. يحد الوطن العربي جنوباً :

المحيط الهادئ	المحيط الهندي
المحيط الاطلسي	البحر المتوسط

12. يحد الوطن العربي شرقاً سلسلة جبال تدعى :

أوغندة	اثيوبيا
زاغروس	هماليا

13. يحد الوطن العربي غرباً :

المحيط الاطلسي	المحيط الهادي
المحيط الهندي	تركيا

14. تبلغ مساحة الوطن العربي من مساحة اليابسة العالم :

30%	10%
70%	90%

15. تبلغ نسبة القسم الافريقي من الوطن العربي :

74%	10%
26 %	70%

16. تبلغ نسبة القسم الاسيوي من الوطن العربي :

74 %	10%
26%	70%

17. مضيق يصل بين الخليج العربي وعمان والمحيط الهندي :

باب المندب	قناة السويس
جبل طارق	هرمز

18. مضيق يصل بين البحر الاحمر وخليج عدن :

باب المندب	قناة السويس
جبل طارق	باب السلام

19. يصل مضيق جبل طارق بين المحيط الاطلسي و :

البحر الاحمر	المحيط الهادئ
البحر المتوسط	البحر الاسود

20. جميع المضائق التالي تعتبر مضائق طبيعية ماعدا :

باب المندب	قناة السويس
جبل طارق	باب السلام

21. تصل قناة السويس بين :

البحر المتوسط والبحر الاحمر	البحر الاحمر والبحر الاسود
البحر المتوسط والمحيط الاطلسي والبحر الاحمر	البحر المتوسط والمحيط الاطلسي

22. من المدن الجديدة التي نشأت بفضل قناة السويس :

دمشق والقاهرة	بور سعيد والاسماعيلية
الاسكندرية وخرطوم	بيروت والجيزة

23. من الحضارات القديمة الموجودة في الوطن العربي :

السومرية	المصرية
الكنعانية	كل ماسبق

24. عمل الموقع الجغرافي على جعل الوطن العربي طريقاً :

برياً	جويماً
بحرياً	كل ما سبق

25. عزز اكتشاف النفط وتوفر رؤوس الأموال أهمية :

الروحية	الاقتصادية
السياسية	الدينية

26. عزز وجود الحضارات القديمة والديانات السماوية البعد :

الروحي والثقافي	الروحي والسياسي
السياسي والاقتصادي	الديني والاقتصادي

أعطى تفسيراً علمياً لكل مما يلي :

27. قام الاستعمار بتقسيم البلاد ورسم حدودها السياسية :
لضمان هيمنته عليها من خلال اقتطاع أجزاء واسعة منه
وزرع الكيان الصهيوني في قلب الوطن العربي .
28. لا تنطبق الحدود السياسية الحالية للوطن العربي مع حدوده الطبيعية :
بسبب التجاوزات التي أصابته من قبل الدول المجاورة و
رسم الدول الاستعمارية حدود اصطناعية بين اقطاره .
29. الموقع الاستراتيجي للوطن العربي جعله طريقاً برياً و بحرياً و جويماً بامتياز :
بسبب اشرافه على بحار ومحيطات مهمة و تحكمه بمضائق بحرية هامة .

اجب عن الاسئلة الآتية بدقة ووضوح :

30. عدد المزايا الرئيسية التي كانت سبباً في سعي الاستعمار للسيطرة على الوطن العربي

- أ- يشغل الوطن العربي موقع القلب بالنسبة إلى القارات (اسيا أفريقيا – اوربا) .
ب- مهد الحضارات والديانات السماوية .
ت- اكتشاف النفط في اراضيه .

31. عدد الدول والبحار والمحيطات التي تحد الوطن العربي من جهاته الاربعة :

- أ- شمالاً : البحر المتوسط وتركيا .
ب- جنوباً : بحر العرب والمحيط الهندي ومرتفعات اثيوبيا و أوغندا جنوب السودان والصحراء العربية الكبرى .
ت- شرقاً : جبال زاغروس و خليج العربي و خليج عمان و ايران
ث- غرباً : المحيط الأطلسي .

32. عدد الاسباب التي جعلت الوطن العربي ذو أهمية جغرافية استراتيجية :

- أ- موقعه الاستراتيجي جعله طريقاً برياً و بحرياً و جويماً بامتياز .
ب- إشرافه على بحار ومحيطات هامة .
ت- تحكمه بمضائق بحرية هامة .
(باب المنذب – باب السلام – جبل طارق – قناة السويس)

33. صمم جدول مقارنة بين المضائق الطبيعية والصناعية الموجودة في الوطن العربي من حيث المناطق التي تصلها:

المضيق	طبيعته	الوصل
باب السلام (هرمز)	طبيعي	يصل بين الخليج العربي و عُمان و المحيط الهندي .
باب المنذب	طبيعي	يصل بين البحر الأحمر و خليج عدن و المحيط الهندي .
جبل طارق	طبيعي	يصل بين المحيط الأطلسي و البحر المتوسط .
قناة السويس	صناعي	يصل بين البحر المتوسط و البحر الأحمر .

34. ما أهمية قناة السويس الاستراتيجية :

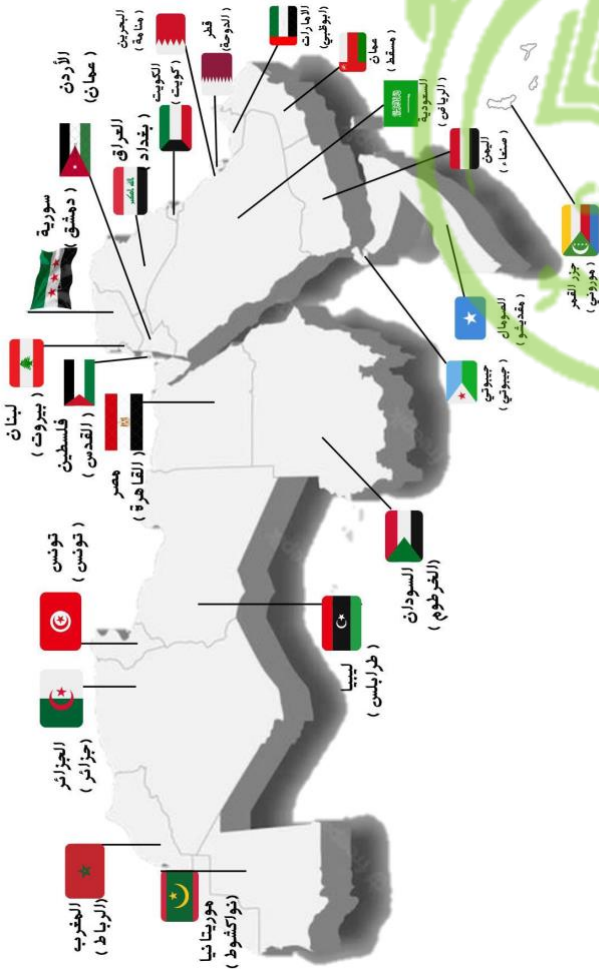
- أ- ادت إلى اختصار طرق الملاحة العالمية بين قارات العالم .
ب- نشوء مدن عديدة من المدن الجديدة كبورسعيد والاسماعيلية .

35. ما اهم المناطق المغتصبة من قبل الكيان الغاصب في الوطن العربي :

- دولة فلسطين .
36. عدد أهمية الوطن العربي الاقتصادية :
أ- تنوع الغلات الزراعية .
ب- وفرة المراعي .
ت- تنوع الثروات الباطنية .
ث- اكتشاف النفط وتوفر رؤوس الاموال .
37. عدد أهمية الوطن العربي روحياً وثقافياً :

- أ- وجود الحضارات القديمة مثل الحضارة السومرية والكنعانية والمصرية .
ب- مهد الديانات السماوية (الاسلامية و المسيحية و اليهودية)

خريطة الوطن العربي بدولها وعواصمها (للحفظ)



الدرس الثاني : سورية , أهمية الموقع وعبقريّة الإنسان :

الموقع

تمتد سورية بين درجتي عرض 32,19 درجة جنوب جبل العرب و 37,30 درجة في عين ديوار شمال خط الاستواء ، وبين خطي الطول 35,37 درجة و 42,23 درجة شرق غرينتش .

الأتمتة

من بين الاجابات التالية هناك اجابة واحدة صحيحة قم باختيارها بدقة :

1. تمتد سورية بين درجتي عرض 32,19 درجة جنوب :

جبل العرب	جبال زاغروس
عين ديوار	البحر المتوسط

2. تمتد سورية شرق غرينتش بين خطي الطول :

32,19 و 37,30	32,30 و 30,70
35,37 و 42,23	45,23 و 33,15

3. يحد سورية من جهة الشمال :

اردن	تركيا
لبنان	عراق

4. يحد سورية من جهة الجنوب :

اردن	تركيا
لبنان والبحر المتوسط	عراق

5. يحد سورية من الغرب :

اردن	تركيا
لبنان والبحر المتوسط	عراق

6. يحد سورية من الشرق :

اردن	تركيا
لبنان والبحر المتوسط	عراق

7. تبلغ مساحة سورية :

185182 كم ²	182185 كم ²
185182 كم	182186 كم

8. أول أبجدية في العالم التي اكتشفت بسورية كانت :

المصرية	العربية
أوغاريت	المايا

9. تم اكتشاف أبجدية أوغاريت عام :

1925	1927
1926	1928

10. عالم الآثار الذي نقب عن مدينة أوغاريت يدعى :

كارلوس انشلوتي	ماركس ريشفورد
كلود شيفر	كيفن دي برون

11. احتل العدوان الصهيوني الجولان عام :

1967 حزيران	1966 حزيران
1968 حزيران	1977 حزيران

12. تشغل سورية في بلاد الشام الجزء :

جنوبي	شرقي
شمالي	غربي

13. كانت عاصمة المملكة السورية القديمة في الألف الثاني قبل الميلاد :

دمشق	أوغاريت
بابل	حلب

14. تقع بحيرة طبريا ومسعدة في :

الجولان	دمشق
تدمر	شرق سورية

التعاليل

أعطى تفسيراً علمياً لكل مما يلي :

15. أهمية الموقع الجغرافي لسورية :

لأنه طريق بري يصل شبه الجزيرة العربية بأوروبا و طريق لنقل النفط عبر أراضيها وموانئه إلى أوروبا .

16. أهمية سورية في الحضارة الإنسانية .

أ- أوغاريت التي قدمت أول حضارة أبجدية في العالم .

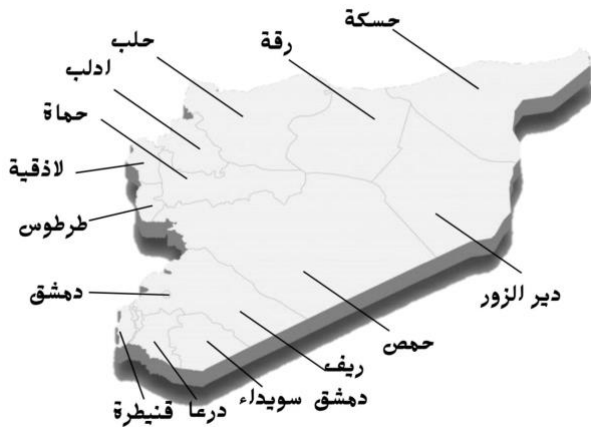
ب- النشاط التجاري الكبير لسبب موقعه بين الغرب والشرق .

ت- اعتماد معظم الطرق القوافل التجارية على واحاتها ومحطاتها كطريق الحرير .

17. احتلال الكيان الصهيوني للجولان .

لغنى أراضيها ووفرة مياها (بحيرة طبريا ومسعدة) وخصوبة تربتها الزراعية .

خريطة سورية (للحفظ)



من بين الاجابات التالية هناك اجابة واحدة صحيحة قم باختيارها بدقة :

١. مساحة من الأرض تمتلك مجموعة من الخصائص الطبيعية والبشرية التي تميزها .

المناخ	الأقليم
التضاريس	الطقس

٢. يقسم الوطن العربي إلى :

خمسة أقاليم	ستة أقاليم
سبعة أقاليم	ثمانية أقاليم

٣. من المظاهر الطبيعية التي تميز الأقليم جغرافياً :

التضاريس	المناخ
توزع البر والبحر	كل ماسبق صحيح

٤. توزع السكان والكثافة السكانية من مظاهر الأقليم :

النشورية	الطبيعية
الاقتصادية	السياسية

٥- من الأقاليم التي لها حدود طبيعية واضحة :

اقليم وادي النيل	اقليم شبه الجزيرة العربية
اقليم العراق	اقليم شرق الفرات

٦. يحد اقليم شبه الجزيرة العربية من الشمال :

بحر العرب	بحر الاحمر
خليج عربي	بادية الشام (الحماة)

٧. يحد اقليم شبه الجزيرة العربية من الشرق :

بحر العرب	بحر الاحمر
خليج العربي	بادية الشام

٨. يحد اقليم شبه الجزيرة العربية من الغرب :

بحر العرب	بحر الاحمر
خليج العربي	بادية الشام

٩. يحد اقليم شبه الجزيرة العربية من الجنوب :

بحر العرب	بحر الاحمر
خليج العربي	بادية الشام

١٠. توجد فيه قبلة المسلمين (الكعبة المشرفة) في اقليم

بلاد الشام	ليبيا
وادي النيل	شبه الجزيرة العربية

١١. يقع سهل الغاب في اقليم :

بلاد الشام	شبه الجزيرة العربية
وادي النيل	المغرب العربي

١٢. يقع الربع الخالي في اقليم :

بلاد الشام	ليبيا
شبه الجزيرة العربية	وادي النيل

١٣. من الاسباب التي ادت الى نشوء حضارة في إقليم وادي النيل :

التعداد السكاني	التضاريس
الولادات	التربة الخصبة وتوفر المياه

١٤. اقليم شبه الجزيرة العربية محاط بالمياه من :

جهة	جهتين
ثلاث جهات	اربع جهات

الاسئلة

اجب عن الاسئلة الآتية بدقة ووضوح :

١٥. قسم العلماء الوطن العربي الى اقاليم عدة عددها :

القسم الافريقي : إقليم المغرب العربي – إقليم ليبيا – إقليم وادي النيل - اقليم القرن الافريقي

القسم الاسيوي : اقليم بلاد الشام – اقليم شبه الجزيرة العربية – اقليم بلاد الرافدين .

١٦. قسم العلماء الأقاليم وفق مظاهر عدة عددها :

مظاهر طبيعية : تضاريس ومناخ وتوزع البر والبحر .

مظاهر بشرية: توزع السكان والكثافة السكانية .

١٧. لماذا لا تتطابق حدود الأقاليم الجغرافية للوطن العربي مع الحدود الحالية للبلدان العربية :

بسبب التجزئة التي مزقت أقاليم الوطن العربي واسهمت في اغتصاب اجزاء منه .

١٨. اذكر المناطق المحيطة الاربعة بأقليم شبه الجزيرة العربية :

له حدود طبيعية واضحة حيث محاط بالماء من ثلاث جهات ،

أ. شرقاً : خليج العربي . ت. جنوباً : بحر العرب .

ب. غرباً : البحر الاحمر . ث. شمالاً : بادية الشام (الحماة)

١٩. اذكر النقاط التي جعلت اقليم شبه الجزيرة العربية ذو اهمية كبيرة :

أ- محاط بالمياه من ثلاث جهات .

ب- يتحكم بممرات مائية مهمة (هرمز – باب المندب – قناة السويس)

ت- ثروات نفطية ضخمة .

ث- توجد فيها قبلة المسلمين (الكعبة المشرفة) .

٢٠. عدد اسباب نشوء اقدم الحضارات في اقليم وادي النيل :

التربة الخصبة و المياه الوفيرة .

٢١. ما سبب ازدهار الزراعة في وادي النيل :

التربة الخصبة و توفر المياه .

٢٢. عدد النقاط المشتركة بين اقاليم الوطن العربي :

اللغة العربية و الاصل الواحد و الثقافة المشتركة .

إقليم بلاد الشام

- يعد بوابة آسيا العربية على أوروبا .
- **الموقع :**

يقع إقليم بلاد الشام في الجزء الشمالي الغربي من آسيا العربية.

• **عدد اسباب الأهمية الجغرافية لإقليم بلاد الشام :**

- أ- منفذاً لآسيا الوسطى والغربية على البحر المتوسط، والجسر الذي يصل آسيا بإفريقيا.
- ب- وتمر عبره أقصر الطرق البرية إلى أوروبا عبر الأناضول
- **عدد اسباب الأهمية التاريخية لإقليم بلاد الشام :**
- أ- لاحتوائه على عدة آثار متنوعة، كمدينة تدمر في سورية والبتراء في الأردن .

• **عدد اسباب الأهمية الدينية لإقليم بلاد الشام :**

- أ- لأنه يضم مدناً دينية مهمة مثل: القدس، وبيت لحم مهد السيد المسيح.
- ب- وتعد مدينة دمشق عاصمة الأمويين رابطاً لثقافات وحضارات عدة تعاقبت على المنطقة.
- **انذكر الدول المكونة للإقليم مع ذكر مساحة كل منها :**

تبلغ مساحة إقليم بلاد الشام نحو 402 ألف كم²

الدولة	سورية	لبنان	الاردن	فلسطين
العاصمة	دمشق	بيروت	عمان	القدس
المساحة كم ²	185 182	10 452	89 342	27 090

إقليم العراق (بلاد الرافدين)

- يعد منبع الحضارات .
- **الموقع :**

- أ- يقع في الجزء الشمالي الشرقي من الوطن العربي في آسيا العربية .
- ب- الشمال الشرقي : يحده سلسلة جبال زاغروس وطوروس التي تفصله عن إيران وتركيا .
- ت- غرباً : يندمج مع بادية الشام
- ث- جنوباً : تحده صحراء شبه الجزيرة العربية .
- ج- ويعد إقليم عربستان في جنوب غرب إيران امتداداً طبيعياً للعراق .

• **عدد اسباب نشوء حضارات متعاقبة في إقليم العراق :**

بسبب موقع الإقليم ومرور نهري دجلة والفرات بأراضيه على توافر المياه والتربة الخصبة، مما أعطاه أهمية زراعية كبيرة لذلك أسهم في نشوء حضارات متعاقبة على أراضيه .

• **الدول المكونة :**

- دولة واحدة وهي جمهورية العراق
- عاصمتها : بغداد
- مساحتها : 435 ألف كم².

إقليم شبه الجزيرة العربية

- المواطن الأصلي للعرب ومنطلق رسالة الإسلام.
- **الموقع :**
- تقع شبه الجزيرة العربية في الجزء الجنوبي الشرقي من الوطن العربي في آسيا العربية.
- **عدد اسباب الأهمية التاريخية والدينية لإقليم شبه الجزيرة العربية .**
- أ- انطلقت منها رسالة الإسلام إلى كل بقاع الأرض.
- ب- وهي مقصد للحجاج من كل الدول.
- **عدد اسباب الأهمية الاستراتيجية والاقتصادية لإقليم شبه الجزيرة العربية :**
- أ- له أهمية استراتيجية تتمثل في إشرافها على مضائق هامة مثل باب المندب وباب السلام .
- ب- وأهمية اقتصادية لوجود الاحتياطي الضخم من النفط والغاز على المستوى العالمي في أراضيه.
- **الدول المكونة والمساحة :**

تبلغ مساحة الإقليم نحو 3,170 مليون كم²

الدولة	المملكة العربية السعودية	دولة الكويت	دولة قطر	الإمارات العربية المتحدة
العاصمة	الرياض	الكويت	الدوحة	ابو ظبي
المساحة كم ²	2,249,000	17,812	22,014	83,600

الدولة	سلطنة عمان	الجمهورية اليمنية
العاصمة	مسقط	صنعاء
المساحة كم ²	314,000	482,683

إقليم وادي النيل

- يعد الاقليم سلة الغذاء العربي .
- **الموقع :**

يشغل إقليم وادي النيل الجزء الشمالي الشرقي من قارة إفريقيا، ويُعد الجسر البري الذي يصل آسيا العربية بإفريقيا، وكذلك إفريقيا الاستوائية بالبحر المتوسط .

• **عدد اسباب الأهمية السياحية لإقليم وادي النيل :**

وجود الحضارة المصرية القديمة والأهرامات التي تستقطب السياح، كما أدى انتشار المرجان في البحر الأحمر .

• **عدد اسباب الأهمية الاستراتيجية لإقليم وادي النيل :**

لوجود قناة السويس، أهم المضائق المائية في العالم .

إقليم المغرب العربي

الموقع :

يقع إقليم المغرب العربي في الجزء الشمالي الغربي من الوطن العربي من إفريقيا العربية، ويحده من الشمال والشرق البحر المتوسط، ومن الغرب المحيط الأطلسي.

عدد اسباب الأهمية الاستراتيجية والاقتصادية لإقليم المغرب :

- ولموقعه أهمية كبيرة، لتحكمه بمضيق جبل طارق، الذي يصل بين البحر المتوسط والمحيط الأطلسي.
- ويملك الإقليم أراضي زراعية خصبة.
- ويحتل المركز الأول في الوطن العربي على صعيد صيد الأسماك والإسفنج.
- وكذلك للإقليم مراتب مهمة في إنتاج الثروات الباطنية كالحديد والنفط والفوسفات.

الدول المكونة والمساحة :

تبلغ مساحته نحو 4,25 مليون كم 2 بما فيها الصحراء الغربية

الدولة	المملكة المغربية	الجمهورية الجزائرية	الجمهورية التونسية	الجمهورية الموريتانية
العاصمة	الرباط	الجزائر	تونس	نواكشوط
المساحة	248,000	2,381,000	163,610	1,085,000

الدول المكونة والمساحة :

وتبلغ مساحته نحو 3,507 مليون كم 2

الدول	جمهورية مصر	جمهورية السودان
العاصمة	القاهرة	الخرطوم
المساحة كم ²	1,001,449	2,505,813

إقليم القرن الأفريقي

الموقع :

- يحده من الشرق : على البحر الأحمر ومضيق باب المندب وخليج عدن والمحيط الهندي
- ويحده من الشمال : السودان .
- ويحده من الغرب : الحبشة وكينيا .
- ومن الجنوب : يخرقه خط الاستواء

ما الاسباب التي جعلت السكان تعاني من المجاعات بالرغم من موقعه المناخي الجيد للزراعة سواحله البحرية المهمة:

- بسبب استخدام الوسائل البدائية في الزراعة والصيد .
- قلة التمويل .
- وجود الصراعات والحروب الأهلية بينهم .

الدول والمساحة :

تبلغ مساحة الإقليم نحو 783 ألف كم 2

الدول	الجمهورية الصومالية	دولة اريتريا	جزر القمر	جمهورية جيبوتي
العاصمة	مقديشو	اسمره	موروني	جيبوتي
المساحة	637,657	120,000	2,171	23,200

إقليم ليبيا

الموقع :

يتوسط الساحل الشمالي الإفريقي صلة وصل بين إقليم وادي النيل وإقليم المغرب العربي، وكذلك بين دول إفريقيا الوسطى والبحر المتوسط .

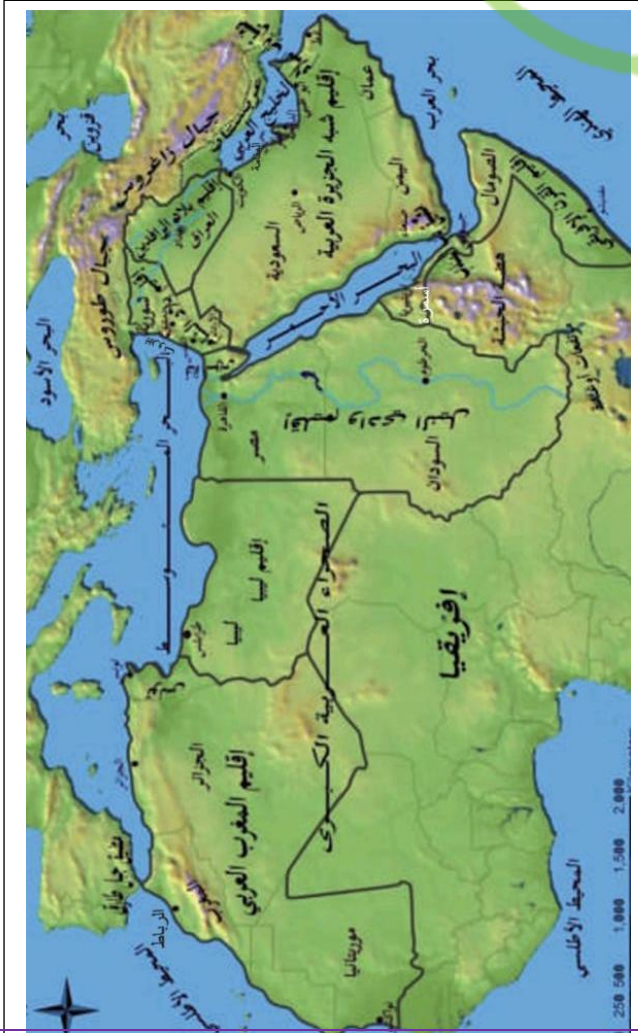
ما سبب قلة الأراضي الصالحة للزراعة في إقليم ليبيا :

بسبب اتساع مساحة الصحراء فيه . حيث نسبة الأراضي الصالحة للزراعة فقط 5%

- عدد اسباب الأهمية الاقتصادية لإقليم ليبيا :
- ويملك الإقليم ثروة نفطية كبيرة إلا أن الأراضي الصالحة للزراعة فيه قليلة
- كما تمتاز سواحلها بغناها بالإسفنج والأسماك.
- ما هي أهم المظاهر الجغرافية لإقليم ليبيا :
- إذ يُعد خليج سرت الواسع أهم مظهر جغرافي فيها .

الدول المكونة والمساحة :

تبلغ مساحة الإقليم نحو 1,759 مليون كم 2، وتشغله دولة واحدة هي ليبيا وعاصمتها مدينة طرابلس



الدرس الاول : الوحدات التضاريسية في الوطن

العربي:

من بين الاجابات التالية هناك اجابة واحدة صحيحة قم باختيارها بدقة :

أتمة

1. تشكل معظم حدود الوطن العربي :

الجبال	الوديان
السواحل	الهضاب

2. يقع خليج سرت في :

ليبيا	جزائر
مصر	تونس

3. تتكون السهول الساحلية بفعل :

الترسيب النهري	الترسيب الشاطئي
الترسيبات البركانية	التعرية

4. اعلى قمة في الوطن العربي هي قمة :

قمة ايفرست	قمة طوبقال
قمة هماليا	قمة جبل طارق

5. اخفض منطقة على سطح الأرض :

وادي عنت	البحر الميت
البحر الاحمر	سهول حوران

6. تعد جبال الاطلس في المغرب العربي جبال :

التوائية	انكسارية
التوائية تعرضت للانكسار	سهلية

7. تعد المرتفعات الشرقية والغربية للبحر الاحمر :

التوائية	انكسارية
التوائية تعرضت للانكسار	سهلية

8. تعد سلاسل بلاد الشام :

التوائية	انكسارية
التوائية تعرضت للانكسار	سهلية

9. تتألف من بعض الكتل الجبلية المنفردة :

مرتفعات جبل طارق	جبال الاطلس
جبال تيبستي	سلاسل بلاد الشام

10. تشكل سلاسل الجبال في الوطن العربي سلسلتين

متوازيتين :

ساحلية	داخلية
ساحلية وداخلية	ساحلية و بحرية .

11. من الجبال البركانية في الوطن العربي :

جبال مسعدة	جبال سراة اليمن
جبال انقرة	هضبة الشطوط

12. معظم صخور المرتفعات الجبلية في الوطن العربي :

رملية	ملحية
طينية	كلسية

13. أكبر أودية شبه الجزيرة العربية وأطولها :

وادي الرمة	وادي ارمنيا
وادي النيل	وادي دجلة

التعاليل

اعطى تفسيراً علمياً لكل مما يلي :

14. تتميز السلاسل الساحلية بأثرها في النشاط السياحي :

لأنها تتميز بانحدار لطيف نحو البحر ومناخ معتدل مما ادت الى استقطاب السكان مم السهول الساحلية الضيقة.

15. انقسام الوطن العربي الى هضبتين اساسيتين هضبة

عربية افريقية وهضبة شبه الجزيرة العربية :

بسبب تشكل البحر الأحمر .

16. تنوع المظاهر الجغرافية التي تشغل سطح الهضاب في

الوطن العربي :

بسبب تعرضها لعوامل متعددة مثل التعرية والحت

والتغيرات المناخية .

الاسئلة

اجب عن الاسئلة الآتية بدقة ووضوح :

17. عدد أهم الجزر الموجودة في الوطن العربي :

جزيرة جربة أمام الساحل التونسي – جزيرة البحرين – جزيرة

ابو موسى في الخليج العربي .

18. صمم جدول مقارنة بين السهول الساحلية ضمن مدينة

اللاذقية من حيث (الموقع – التشكيل – الخصوبة) :

السهل	سهول ساحلية	سهول فيضية
الموقع	يلي السواحل البحرية	جوانب الانهار
التشكيل	بفعل الحت والترسيب الشاطئي	نتيجة للترسيب النهري
الخصوبة	تختلف باختلاف ظروفها المناخية	خصوبة عالية متجددة

19. صنف جبال الوطن العربي من حيث اسباب التشكل :

جبال التوائية : كجبال الاطلس في المغرب العربي .

جبال انكسارية : كالمرتفعات الشرقية والغربية للبحر الاحمر .

جبال التوائية تعرضت للانكسار : سلاسل بلاد الشام .

20. عدد انواع المظاهر الجغرافية التي تشغل سطح

الهضاب في الوطن العربي :

الصحارى بأنواعها – المنخفضات – وأودية جافة –

كتل جبلية منعزلة .

الدرس الثاني : الوحدات التضاريسية في سورية :

أتمتة

من بين الاجابات التالية هناك اجابة واحدة صحيحة قم باختيارها بدقة :

1. تقع المنطقة الساحلية في سورية من الجهة :

الشرقية	الغربية
الشمالية	الجنوبية

2. يعد م اهم الخلجان في سورية :

خليج اسكندرون	خليج سيناء
خليج عدن	خليج العربي

3. تقع جزيرة ارواد قبالة :

الساحل الشمالي للاذقية	الساحل الجنوبي للاذقية
الساحل الشمالي لطرطوس	الساحل الجنوبي لطرطوس

4. تنتهي جبال اللاذقية عند نهر :

الفرات	السن
الكبير الجنوبي	الكبير الشمالي

5. يعد المصدر الرئيس للخطر الزلزالي في سورية :

سهل الغاب	جبل الشيخ
غوطة دمشق	سهل حوران

6. من أهم جبال السلسلة الشرقية في سورية :

حلب	الزاوية
جبل الشيخ	كل ماسبق

7. يحيط حوضه دمشق من الغرب :

جبال الحرمون	جبال قاسيون والقلمون
اطراف البادية	هضبة حوران

8. يحيط حوضه دمشق من الشمال :

جبال الحرمون	جبال قاسيون والقلمون
اطراف البادية	هضبة حوران

9. يحيط حوضه دمشق من الجنوب :

جبال الحرمون	جبال قاسيون والقلمون
اطراف البادية	هضبة حوران

10. يحيط حوضه دمشق من الشرق :

جبال الحرمون	جبال قاسيون والقلمون
اطراف البادية	هضبة حوران

11. تعد هضبة حوران من الهضاب :

الرملية	البركانية
الكلسية	الطينية

12. يقع جبل العرب في القسم الشرقي من :

بادية الشام	جبال اللاذقية
حوض دمشق	هضبة حوران

13. تقع هضبة الجولان في القسم من هضبة حوران:

الشمالي	الجنوبي
الغربي	الشرقي

14. قامت حضارة ايبلا في منطقة :

الهضبة الشمالية الجنوبية	الهضبة الشمالية الغربية
الهضبة الجنوبية الغربية	الهضبة الجنوبية الشرقية

15. تشتهر سهول حمص وحماة وحمص بزراعة :

الفجل	الأرز
القطن	قصب السكر

16. تمتد سهول الجزيرة والفرات :

شمال جنوب سورية	شمال غرب سورية
جنوب شرق سورية	شمال شرقي سورية

17. تعد من أكثر المناطق الجغرافية السورية اتساعاً :

البادية	الهضبة الشمالية الغربية
جبال الساحل	سهول الجزيرة

18. تتداخل البادية في الجنوب الغربي مع :

حوض دمشق فقط	هضبة حوران فقط
حوض دمشق وهضبة حوران	سهول الجزيرة

19. من اهم أقسام حوضه دمشق :

الغوطة	بادية الشام
الحماد	سهل حوران

20. من أقسام البادية :

سهل العمق	الحماد
هضبة الجولان	الغوطة

21. من جبال السلسلة الساحلية الغربية في سورية :

جبل الحرمون	جبل حلب
جبل الزاوية	جبال البائر والبيسط

22. تقع سهول حمص وحماة في :

هضبة الجولان	حوضه دمشق
الهضبة الشمالية الغربية	الجزيرة العليا

التعاليل

اعطي تفسيراً علمياً لكل مما يلي :

23. تباين صفات الساحل في مدينة اللاذقية بين شمال المدينة وجنوبها ؟

لان في شمالها ادى اقتراب سلسله الجبال الغربية من البحر الى وجود سواحل صخرية مرتفعة كثيرة التعاريج .

24. وجود سواحل صخرية مرتفعة كثيرة التعاريج في شمال مدينة اللاذقية ؟

بسبب اقتراب سلسله الجبال الغربية من البحر .

25. اهمية خليج اسكندرون في لواء اسكندرون المحتل ؟

لاتساعه وحمايته من الرياح .

26. محاولة العدو الصهيوني في القسم الذي احتله من هضبة الجولان تشويه تاريخه ؟

لمحاولة منه لطمس تاريخ المنطقة الذي يثبت عروبته وانتماءها الى الوطن الام سورية .

5. يغلب على الوطن العربي الطابع :

الاستوائي	الرطب
البارد الماطر	الصحراوي وقلة الأمطار

6. تتناقص درجات الحرارة في فصل الشتاء في الوطن العربي باتجاه :

الغرب	الشمال الغربي
الجنوب الغربي	الشمال

التعلييل

اعطي تفسيراً علمياً لكل مما يلي :

7. بالرغم من كثرة المسطحات المائية في الوطن العربي

الا ان اسهامه في تعديل مناخه محدود نسبياً ؟
بسبب ضيق المسطحات المائية التي تتخلله إضافة إلى عدم تغلغل الرياح الممطرة نحو الداخل نتيجة مسابرة بعض السواحل لهذه الرياح كما في شمال افريقيا أو تعامدها مع السلاسل الجبلية لينحصر تأثيرها في السفوح المواجهة لها كما في بلاد الشام .

8. تؤثر التضاريس من حيث ارتفاعها بالمناخ ؟

بسبب زيادة الرطوبة وانخفاض درجات الحرارة مع الارتفاع مقارنة بمحيطها الجاف والمرتفع للحرارة .

9. تكون درجات الحرارة مرتفعة في معظم ارجاء الوطن العربي صيفاً ؟

بسبب تعامد اشعة الشمس صيفاً على المنطقة الواقعة بين خط الاستواء ومدار السرطان .

10. تكون درجات الحرارة مرتفعة في معظم الاجزاء الجنوبية من الوطن العربي شتاءً ؟

بسبب تعامد اشعا الشمس على المنطقة الواقعة بين خط الاستواء ومدار الجدي .

الاسئلة

اجب عن الاسئلة الآتية بدقة ووضوح .

11. عدد أهم العوامل المؤثرة في مناخ الوطن العربي :

- الامتداد الكبير على درجات العرض .
- تكته وطبيعة مظاهر سطحه .
- عدد صفات العامة لمناخ في الوطن العربي :
- الجفاف .
- عدم انتظام كمية الامطار ومواعيد هطولها .
- ارتفاع المدى الحراري في معظم المناطق الداخلية
- انقسام السنة الى فصلين واضحين هما الصيف والشتاء .

13. تختلف اسماء الرياح المحلية الحارة الجافة تبعا لبلد

المنشأ وضح ذلك :

- السموم (بلاد الشام)
- الخماسين (مصر)
- الشراقي (مغرب)
- القبلي (ليبيا)
- الهبوب (السودان)

27. عدد الوحدات التضاريسية في سورية :

- المنطقة الساحلية .
- المنطقة الجبلية الغربية .
- منطقة المقعرات الالتوائية والحفر الانهدامية .
- منطقة الهضاب والسهول الداخلية .

28. وازن بين المنطقة الساحلية الموجودة في شمال مدينة

اللاذقية وجنوبها من حيث (نوع الساحل - التعاريج - اتساع السهول الساحلية)

المنطقة	الشمالية	الجنوبية
نوع الساحل	صخرية	رملية
التعاريج	كثيرة التعاريج	قليلة التعاريج
اتساع السهول	ضيقة	واسعة

29. مما تتألف سلسلة الجبال الساحلية الغربية :

من ثلاث كتل اعلاها الأمانوس ثم جبال البايير والبسيط والاقرع وتليها جبال اللاذقية .

30. عدد أقسام البادية السورية :

- بادية الشام (في الشمال)
- الحماد (في الجنوب)
- الجبال التدمرية (في الوسط)

الدرس الثالث : المناخ في الوطن العربي :

من بين الاجابات التالية هناك اجابة واحدة صحيحة قم باختيارها بدقة :

1. يقع الوطن العربي في المنطقتين الحراريتين :

الحارة والمعتدلة الدافئة	الحارة والحارة جدا
الدافئة والباردة	الباردة والمعتدلة

2. تسبب الرياح الموسمية المدارية الرطوبة :

الأمطار الشتوية	الأمطار الصيفية
الأمطار الربيعية	الأمطار الخريفية

3. شتاءً تتعامد اشعة الشمس على المنطقة الواقعة بين خط الاستواء و :

مدار السرطان	المنطقة المتجمدة الجنوبية
مدار الجدي	المنطقة المتجمدة الشمالية

4. تكون الحرارة في الاجزاء الجنوبية من الوطن العربي شتاءً :

منخفضة	مرتفعة
معتدلة	باردة

10. سجلت في الإقليم الصحراوي أعلى درجة حرارة في مدينة العريضة في :

مصر	تونس
جزائر	ليبيا

11. يتصف بأنه حار جاف صيفاً ومعتدل مطر شتاءً :

الإقليم الصحراوي	الإقليم المتوسطي
الإقليم المداري	الإقليم شبه المداري

12. يتصف بأنه حار دائماً وأمطار صيفية غزيرة :

الإقليم الصحراوي	الإقليم المتوسطي
الإقليم المداري	الإقليم شبه المداري

13. أحد أهم مصادر الصمغ العربي :

البطم	الأرز
السرو	الهشاب والطلح

14. تستخدم في صناعة الأثاث :

أعشاب السافانا	أشجار الماهوجاني
أشجار الموز	الهشاب والطلح

15. يسود في مرتفعات اليمن وعمان الإقليم :

الموسمي	الصحراوي
المداري	الاستوائي

16. يسود الإقليم الاستوائي وشبه الاستوائي في أقصى جنوب :

اليمن وعمان	السودان والصومال
جزائر وتونس	ليبيا

17. تهطل الأمطار في الإقليم المداري في الوطن العربي في:

فصل الصيف	فصل الشتاء
فصل الربيع	كل ما سبق صحيح

التعاليل اعطى تفسيراً علمياً لكل مما يلي :

18. التنوع النباتي ضمن الإقليم المتوسطي ؟
لاختلاف كمية الأمطار ضمن الإقليم .

الاسئلة اجب عن الاسئلة الآتية بدقة ووضوح :

19. يقع الوطن العربي بين ثلاثة أقاليم مناخية رئيسية عددها :

- الإقليم المداري
- الإقليم المتوسطي
- الإقليم الصحراوي

14. عدد صفات الرياح المحلية في الوطن العربي :

- حارة وجافة
- محملة بالرمال
- مدتها قصيرة
- متقطعة
- قادمة من الصحراء

الدرس الرابع : الأقاليم المناخية والنباتية في الوطن العربي :

أتمتة

من بين الاجابات التالية هناك اجابة واحدة صحيحة قم باختيارها بدقة :

1. يمتد الإقليم المتوسطي شمال خط الاستواء بين درجتي عرض :

37,30 و 28 درجة	37,30 و 22 درجة
37,40 و 28 درجة	37,30 و 20 درجة

2. تنتشر غابات الصنوبر والسنديان والأرز في الإقليم :

المداري	المتوسطي
الصحراوي	القطبي

3. تنتشر شجيرات البطم في الإقليم المتوسطي على :

السفوح الخارجية للجبال	المناطق الداخلية
الغابات المتوسطة	السفوح الداخلية للجبال

4. تنمو في المناطق الداخلية من الإقليم المتوسطي :

الأعشاب الحولية	أشجار البطم
السنديان	القطن

5. يشكل منطقة انتقالية بين الإقليمين المتوسطي والمداري :

الإقليم شبه المداري	الإقليم القطبي
الإقليم الصحراوي	الإقليم الاستوائي

6. يمتد الإقليم الصحراوي شمال خط الاستواء بين درجتي العرض :

15 - 18 درجة	15 - 28 درجة
3,5 - 87 درجة	12 - 83 درجة

7. يشغل الإقليم الصحراوي من مساحة الوطن العربي :

60%	70%
80%	90%

8. يعتبر أشد الأقاليم حرارة ومصدر للطاقة الشمسية المتجددة ويعتبر اشد الأقاليم جفافاً :

الإقليم الصحراوي	الإقليم المداري
الإقليم الاستوائي	الإقليم المتوسط

9. من الحرف النشطة في الإقليم الصحراوي :

الصيد	الرعي
صيد السمك	الحدادة

20. ما أثر الإنسان على النباتات الطبيعية في الإقليم

المداري :

قام بقطع اشجار الغابات وتحويل مساحات من السافانا إلى أراضي زراعية بعد ان كانت موطناً للعديد من الحيوانات .

21. وازن بين الإقليم المتوسطي والصحراوي والمداري من حيث (الامتداد - الحرارة - الهطل - النبات)

الإقليم	المتوسطي	الصحراوي	المداري
الامتداد	(28 – 37,30)	(15-28)	(8-15)
شمال خط الاستواء	شمال خط الاستواء	شمال خط الاستواء	شمال خط الاستواء
الحرارة	صيف حار جاف شتاء معتدل مطر	اشد الأقاليم حرارة وجفاف	حار دائماً
الهطل	تختلف كمية الامطار	امطار نادرة وقصيرة وغير منتظمة	أمطار صيفية غزيرة لمدة تسعة اشهر
النبات	نباتات متنوعة	نباتات منجملة للحرارة ومقاومة للجفاف	غابات مدارية
مثال	البطم	النخيل	الماهوجاني

الدرس الخامس : المناخ والبيئات في سورية :

من بين الاجابات التالية هناك اجابة واحدة صحيحة قم باختيارها بدقة :

أتمتة

1. يتميز مناخ سورية بوجود فصلين واضحين هما :

صيف حار جاف وشتاء مائل للبرودة رطب	صيف حار رطب وشتاء بارد جاف
صيف مطر وشتاء بارد معتدل	صيف حار رطب وشتاء معتدل

2. تزداد الحرارة صيفاً في سورية :

من الداخل نحو الساحل	من الساحل نحو الداخل
في الساحل وثابتة من الداخل	من الداخل وثابتة في الساحل

3. تنخفض الحرارة شتاءً في سورية :

من الجنوب الى الشمال	من الشمال الى الجنوب
من الشرق إلى الغرب	من الغرب إلى الشرق

4. تهب على سورية في فصل الشتاء رياح غربية تسبب:

الغبار	الصقيع
الأمطار	الأترية

5. تهب على سورية في فصل الشتاء رياح شمالية شرقية باردة وجافة تسبب :

الغبار	الصقيع
الأمطار	الأترية

6. تهب على سورية في فصل الربيع والخريف رياح السموم المحلية تسبب :

الغبار وضرر المزروعات	الصقيع
الأمطار	الأترية

7. يسود سورية المناخ :

الاستوائي	المتوسطي
المداري	الصحراوي

8. تقع سورية فلكياً بين درجتي عرض شمالاً :

37.20 – 32.19	36.50 – 32.15
33.13 – 36.45	32.30 – 37.20

9. فترة من الوقت يتعرض في اثنائها جزء من الارض لنقص في الهطول المطري مما تسبب ضرراً :

الصقيع	الجفاف
الرياح	الأقليم

10. تقع البادية السورية في منطقة الاستقرار :

الثانية	الثالثة
الرابعة	الخامسة

11. تشغل البادية السورية من اراضي سورية نسبة :

66%	44%
55%	33%

اعطي تفسيراً علمياً لكل مما يلي :

التعاليل

12. حدث سلسلة جبال الساحل من وصول المؤثرات

البحرية نحو المنطقة الداخلية في سورية :

بسبب اتجاهها الموازي للساحل وارتفاعها

13. يؤثر اتجاه الكتل الجبلية في توزيع كمية الامطار في سورية :

سورية :

لأن سفوح الجبال المواجهة للبحر كالجبال الساحلية

تتلقى كمية اكبر من المطر من الكتل الجبلية الداخلية .

14. البيئة المتوسطية الجافة اكثر البيئات جفافاً :

لبعدها عن البحر - ووجود الحواجز الجبلية التي تعوق

وصول المؤثرات البحرية الى الداخل والمدى الحراري

فيها كبير .

اجب عن الاسئلة الآتية بدقة ووضوح :

الاسئلة

15. عدد صفات رياح السموم المحلية في سورية :

• تهب في فصلي الربيع والخريف .

• حارة محملة بالأترية والغبار .

• تلحق الضرر بالمزروعات .

16. يتأثر المناخ في سورية بعوامل عدة عدد أهمها :

العامل الفلكي و العامل الجغرافي

17. قسم سورية الى اربع مناخات :

• المناخ المتوسطي الرطب .

• المناخ المتوسطي شبه الرطب .

• المناخ المتوسطي شبه الجاف .

• المناخ المتوسطي الجاف .

18. صمم جدول مقارنة بين مناطق الاستقرار الزراعي في سورية من حيث كمية الهطول والمحاصيل الرئيسية .

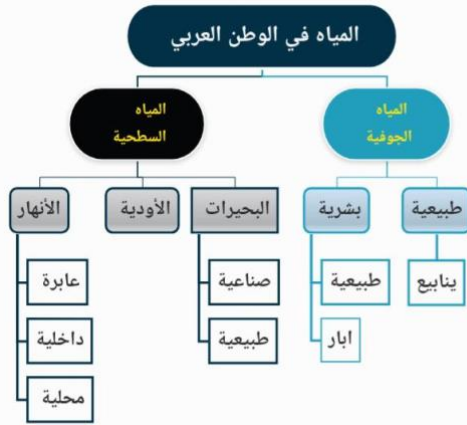
منطقة	الهطول	النباتات
الاستقرار الاولي	اكثر من 350 مم سنويا وتقسم الى منطقتين : * اكثر من 600 مم * بين 350 - 600 مم	القمح والبقوليات ومحاصيل صيفية
الاستقرار الثانية	بين 250-350 مم سنويا	الشعير
الاستقرار الثالثة	يزيد عن 250 مم سنويا	الشعير و احيانا بقوليات
الاستقرار الرابعة	بين 200 - 250 مم	الشعير والمراعي الدائمة
الاستقرار الخامسة	اقل من 200 مم سنويا	لا تصلح للزراعة فقط مراعي طبيعية

19. ما دور الغابات في حماية البيئة السورية :

- تعمل على حماية التربة من الانجراف .
 - تنقية الجو من الغبار والملوثات السامة .
 - امتصاص غاز ثاني الكربون وإطلاق غاز الأوكسجين.
20. وازن بين البيئة المتوسطة الرطبة والبيئة المتوسطة الجافة من حيث (الامتداد - كمية الامطار - النبات الطبيعي - الحيوانات) .

البيئة الطبيعية	الامتداد	الامطار	النبات	الحيوان
البيئة المتوسطة الرطبة	تشمل منطقة الساحل والجبال الساحلية	وفيرة الامطار من 800 الى اكثر من 1200 ملم	الغابات (شوح - سرو - صنوبر)	النسر السوري السنجاب الأرنب ضبع ..
البيئة المتوسطة شبه الرطبة	تشمل الاجزاء الداخلية الغربية الى الشرق من الجبال الساحلية	من 500 ملم حتى 800 ملم	البلوط السنديان البطم الدفلة	حيوانات البيئة الرطبة
البيئة المتوسطة شبه الجافة	اجزاء شمالية من منطقة الجزيرة	ما بين 200 الى 500 ملم	نباتات معمرة نباتات حولية بفوائد طبية	ثعلب ابن اوى النمس
البيئة المتوسطة الجافة	تشمل البادية السورية	اقل من 200 مم	الشيخ الثنان الرغل	سريرة العور كالغزلان والارانب

الدرس السادس : الموارد المائية في الوطن العربي :



أتمتة
من بين الاجابات التالية هناك اجابة واحدة صحيحة قم باختيارها بدقة :

1. من الاساليب القديمة لاستثمار المياه الجوفية :

الري بالتنقيط	الفجارات
الري	السدود

2. تُعدّ الينابيع العذبة من مصادر المياه :

السطحية	الجوفية
النهرية	سطحية و جوفية

3. ينابيع حارة تفيد في العلاج والسياحة :

الينابيع المعدنية	الينابيع الكلسية
الينابيع الملحية	الينابيع الكربونية

4. من الينابيع المعدنية التي تفيد في العلاج :

الخابور	ام الربيع
العليل و ليف	طبريا

5. من البحيرات الطبيعية التي تشكلت بفعل مؤثرات باطنية :

بحيرة ناصر	بحيرة المنزلة
بحيرة مسعدة	بحيرة طبريا

6. من البحيرات الطبيعية التي تشكلت بفعل ظاهرة الترسيب :

بحيرة ناصر	بحيرة المنزلة
بحيرة مسعدة	بحيرة طبريا

7. من البحيرات الصناعية التي شكلها الإنسان خلف السدود :

بحيرة ناصر	بحيرة المنزلة
بحيرة مسعدة	بحيرة طبريا

8. مجاري مائية مؤقتة تجري فيها المياه في موسم الامطار وتجف بعد التوقف :

الأنهار العابرة	الأنهار الساحلية
الأودية السيلية	الأنهار الداخلية

17. قارن بين الانهار الساحلية - الداخلية - العابرة ، من حيث المنبع - المصب - الطول - مثال:

الانهار	المنبع	المصب	الطول	مثال
الساحلية	الجبال الساحلية	البحر او المحيط	قصيرة	العوجاء (بلاد الشام) ام الربيع (المغرب)
الداخلية	المرتفعات الداخلية	البحار و البحيرات او حفر مغلقة	اكثر طولاً من الساحلية	الليطاني (بلاد الشام) المجردة (المغرب)
العابرة	من خارج الوطن العربي	البحر	طويلة جدا	الفرات دجلة النيل

18. عدد الوسائل الكفيلة بتحقيق الأمن المائي العربي :

- تعزيز التعاون المائي بين الدول العربية .
 - إقامة مشاريع مائية مشتركة .
 - سعي الدول العربية إلى المحافظة على المياه وحمايتها من السلب .
 - التواصل إلى حلول مائية مع دول الجوار .
 - إعداد الدراسات العلمية الدقيقة للوضع المائي العربي بهدف تنمية الموارد المائية .
 - الدراسات الجيولوجية للأراضي للكشف عن مصادر مائية جيدة .
 - اختيار وسائل التقنية الحديثة والمتطورة لترشيد استهلاك المياه .
 - حماية المياه من التلوث والهدر .
 - الوعي المائي العربي وتعميق ثقافة ترشيد المياه .
19. ما أهم المشكلات التي تواجه الأمن المائي العربي ؟
- سوء ترشيد استخدام الموارد المائية المتاحة .
 - فقر الموارد المائية .
 - سوء استثمار المياه اللازمة للإنتاج الزراعي .

20. صنف أنهار الوطن العربي :

تصنف انهار الوطن العربي إلى انهار ساحلية و انهار داخلية و انهار عابرة وأودية السيلية وهي مجاري مؤقتة .

9. تعد السبخات والخبرات من اشكال المياه :

المياه الجوفية	المياه السطحية
الوديان	المرتفعات

10. يعد اطول نهر في العالم :

نهر النيل	نهر الفرات
نهر السن	نهر دجلة

11. من الأودية السيلية في بلاد الشام :

الرمة	الصواب
درعه	الفرات

12. من الاودية السيلية في شبه الجزيرة العربية :

الرمة	الصواب
درعه	الفرات

13. من الأودية السيلية في المغرب العربي :

الرمة	الصواب
درعه	الفرات

الاسئلة

اجب عن الاسئلة الآتية بدقة ووضوح :

14. ما تأثير وفرة المياه على النشاط البشري ؟
تجمع السكان - تنوع اشكال الاستثمار - وازدهار الحضارة .
15. املأ الجدول بما يناسبه : الخابور - أم الربيع - العليل - ليف - الفجارات - الأفلاج .

الينابيع	طبيعتها	البلد
الخابور	طبيعية	الأردن
ام الربيع	طبيعية	المغرب العربي
العليل	طبيعية	العراق
ليف	طبيعية	تونس
الفجارات	بشرية	سورية
الأفلاج	بشرية	شبه الجزيرة العربية

16. قارن بين البحيرات الطبيعية والصناعية من حيث

- التشكل مع ذكر مثال واحد فقط على كل نوع .
- بحيرات طبيعية : تشكلت إما بفعل مؤثرات باطنية كبحيرة طبريا أو بفعل ظاهرة الترسيب كبحيرة المنزلة في مصر .
 - بحيرات صناعية : شكلها الإنسان خلف السدود كبحيرة ناصر خلف السد العالي .

الدرس السابع : موارد سورية المائية :

أتمتة

من بين الاجابات التالية هناك اجابة واحدة صحيحة قم باختيارها بدقة :

1. يعد من اهم مصادر المياه السطحية في سورية :

نهر الفرات	نهر السن
نهر دجلة	نهر العاصي

2. تعتمد سورية على نهر الفرات بنسبة :

60%	70%
80%	90%

3. من روافد نهر الفرات اليسارية :

العتيبة	البلخ و الخابور
دجلة	السن

4. من الانهار الحدودية في سورية :

نهر الفرات	نهر دجلة
نهر السن	نهر بردى

5. ينبع من هضبة بعلبك في لبنان :

نهر الفرات	نهر دجلة
نهر العاصي	نهر السن

6. يروي سهول حمص وحماة وادلب :

نهر الفرات	نهر دجلة
نهر العاصي	نهر السن

7. يؤمن مياه الشرب لمدينتي اللاذقية وطرطوس :

نهر الفرات	نهر دجلة
نهر العاصي	نهر السن

8. يعد الشريان المائي الأهم في حوضه دمشق :

نهر الفرات	نهر بردى
نهر السن	نهر دجلة

9. من الانهار التي لها سبع فروع تروي غوطة دمشق :

نهر الفرات	نهر بردى
نهر السن	نهر دجلة

10. ثاني أهم الأنهار في حوضه دمشق :

نهر الفرات	نهر دجلة
نهر الأعوج	نهر بردى

11. من الأنهار التي تسير الحدود السورية الأردنية :

نهر الأعوج	نهر بردى
نهر اليرموك	نهر السن

12. من روافد نهر الفرات اليمينية :

البلخ	الخابور
الساجور	السن

13. من الوسائل المستخدمة لتنمية البادية السورية :

الرعي	التسميد
التشجير	عملية حصاد المياه

14. من أهم البحيرات الطبيعية في سورية :

مسعدة و قطينة	شط العرب
الطبقة	الساجور

15. من أكبر البحيرات الصناعية في سورية :

مسعدة	الطبقة
شط العرب	الساجور

16. تعد حمامات الشيخ عيسى في محافظة ادلب من مصادر:

البحيرات الصناعية	البحيرات الطبيعية
المياه الجوفية الحارة	المياه الجوفية الباردة

17. من أهم الينابيع السياحية ومراكز الاستشفاء في سورية :

السن	أبو رياح
عين الفيحة	الساجور

18. من الينابيع المسؤولة عن تأمين مياه الشرب في محافظة ريف دمشق :

السن	أبو رياح
عين الفيحة	الساجور

19. من الينابيع المسؤولة عن تأمين مياه الشرب في محافظة اللاذقية :

نبع السن	أبو رياح
عين الفيحة	الساجور

20. تستخرج المياه الجوفية باستثمارها بسرياً عن طريق :

الينابيع	البحيرات
الآبار	الأنهار

21. بحيرات مسعدة من البحيرات :

الصناعية	الطبيعية
الانهدامية	كل ماسبق صحيح

التعليق اعطى تفسيراً علمياً لكل مما يلي :

22. يعاني نهر بردى حالياً من انخفاض غزارة مياهه ؟

بسبب حفر أعداد كبيرة من الآبار في حوضه ، والاعتماد الكبير عليه في مياه الشرب لمنطقة دمشق ، موجات الجفاف المتعاقبة .

23. مياه نهر الأعوج في معظم السنوات لا يصل الى نهاية

مصبه في منخفض الهيجانة ؟

بسبب زيادة استثمار مياه النهر في الزراعة وشق الأفتية المائية .

24. محدودة الموارد المائية في سورية : بسبب سيطرة

البيئة الجافة وشبه الجافة على معظم الأراضي السورية.

25. أهمية الأودية السيلية :

لها أهمية كبيرة في عملية حصاد المياه ضمن البادية السورية لإعادة استخدام كل قطرة بكفاءة عالية.

الدرس الثامن : التربة في الوطن العربي :

أتمتة من بين الاجابات التالية هناك اجابة واحدة صحيحة قم باختيارها بدقة :

1. طبقة التربة المكونة من مواد عضوية ناتجة عن تحلل أوراق النبات :

السطح الخارجي	الطبقة السطحية
طبقة تحت سطحية	طبقة الصخر الأم

2. من الترب الغنية بالمواد العضوية لكثافة الغطاء النباتي

التربة المتوسطة	التربة الصحراوية
التربة المدارية	التربة للحقية

3. تغطي 85% تقريباً من مساحة الوطن العربي:

التربة المتوسطة	التربة الصحراوية
التربة المدارية	التربة للحقية

4. تعد من افقر الترب بالمواد العضوية :

التربة المتوسطة	التربة الصحراوية
التربة المدارية	التربة للحقية

التعاليل اعطى تفسيراً علمياً لكل مما يلي :

- تعاني التربة المتوسطة من مشكلة انجرافها في المناطق الجبلية : بسبب تقهقر الغطاء النباتي الغابي والأمطار الغزيرة في المناطق الجبلية الساحلية .
- تعد الترب المتوسطة من الترب الغنية بالمواد العضوية : بسبب كثافة الغطاء النباتي .
- تعد الترب المدارية من الترب الخصبة . لغناها بالمواد العضوية .
- انخفاض خصوبة الترب المدارية في الأمطار الغزيرة : لتعرض التربة لعمليات الغسل وإزالة عناصرها المغذية للنبات .
- ارتفاع نسبة الأملاح في الترب للحقية قرب مصبات الأنهار : بسبب التصريف السيئ .

الاسئلة اجب عن الاسئلة الآتية بدقة ووضوح :

10. عرف التربة وعدد الطبقات التي تتكون منها :

هي الطبقة السطحية الرقيقة من القشرة الأرضية وتتألف من فئات صخري و مواد عضوية وكائنات حية وماء وهواء وتتكون من

طبقة سطح خارجي تتوضع عليه أوراق النباتات المتساقطة وفضلات الحيوانات ،

وتليها الطبقة السطحية المكونة من مواد عضوية ناتجة عن تحلل أوراق النبات ،

ومن ثم طبقة تحت سطحية يغلب تركيبها الفئات الصخري

ثم طبقة الصخر الام .

26. أهمية الينابيع المائية ؟

- مراكز استشفاء وجذب السياح .
- تامين مياه الشرب لمناطق عدة .

الاسئلة اجب عن الاسئلة الآتية بدقة ووضوح :

27. عرف عملية حصاد المياه :

بأنها تلك العملية التي تستخدم في حجز مياه الأمطار وتخزينها في أوقات سقوطها بطرائق مختلفة وإعادة استخدامها عند الحاجة إليها .

28. وازن بين كل من نهر الفرات و دجلة و العاصي و السن و بردى و الاعوج و اليرموك من حيث : المنبع - الطول - المصب - الغزارة ، في جدول مناسب .

النهر	المنبع	المصب	الطول	الغزارة
الفرات	هضبة أرمينيا في تركيا	شط العرب	2335 كم	835 م ³ /ثا
دجلة	الأراضي التركية		1718 كم	
العاصي	هضبة بعلبك في لبنان	خليج السويدية في البحر المتوسط	571 كم	87 م ³ /ثا
السن	جبال اللاذقية	البحر المتوسط	6 كم	12 م ³ /ثا
بردى	سهل الزبداني	منخفض العنتبية	71 كم	27 م ³ /ثا
الأعوج	جبل الشيخ	منخفض الهيجانة	70 كم	2,5 م ³ /ثا
اليرموك	عدد من الأودية الغربية لجبل العرب و حوران والجولان		65 كم	

29. عدد اساليب عملية الحصاد المستخدمة في سورية :

إقامة السدود والحفر التجميعية .

30. عرف المياه الجوفية مع ذكر طرق استخراجها :

هي المياه التي تتجمع في باطن الأرض في خزانات للمياه الجوفية أو في الفراغات والشقوق بين الصخور ، وتخرج هذه المياه إلى السطح طبيعياً على شكل ينابيع عادية أو معدنية تتوزع في عدة مناطق .

31. عدد أهم الأخطار التي تهدد الأمن المائي في سورية :

- محدودية الموارد المائية .
- تزايد معدلات النمو السكاني .
- التوزيع الجغرافي غير المتوازن ما بين مصادر المياه المتوفرة ومناطق الاستهلاك .
- عدم تطبيق تقنيات الري الحديثة .

الدرس التاسع : التربة في سورية :

من بين الاجابات التالية هناك اجابة واحدة
صحيحة قم باختيارها بدقة :

أتمتة

1. من التربة التي تنتشر في الشريط الساحلي لسورية :

تربة البنية المحمرة	تربة البحر المتوسط الحمراء
التربة الصحراوية	تربة البنية المصفرة

2. من التربة التي تعاني من مشكلة الانجراف المائي على السفوح الجبلية :

تربة البنية المحمرة	تربة البحر المتوسط الحمراء
التربة الصحراوية	تربة البنية المصفرة

3. من التربة التي تنتشر في الأراضي البركانية :

تربة البنية المحمرة	تربة البحر المتوسط الحمراء
التربة الصحراوية	تربة البنية المصفرة

4. تعد من افضل التربة لزراعة المحاصيل الشتوية :

تربة البنية المحمرة	تربة البحر المتوسط الحمراء
تربة الصحراوية	تربة البنية المصفرة

5. من التربة التي تعاني من مشكلة تشقق التربة في وقت الجفاف :

تربة البنية المحمرة	تربة البحر المتوسط الحمراء
تربة الصحراوية	تربة البنية المصفرة

6. تعد التربة البنية المصفرة في سورية :

تزرع فيها التفاحيات	تزرع فيها المحاصيل الشتوية
صالحة للزراعات البعلية	تصلح مراعي فقط

7. اكبر المخاطر التي تهدد انتاجية التربة البنية المصفرة هو :

التملح	الصقيح
التصحّر	الجفاف

8. تغطي نحو نصف مساحة سورية :

تربة البحر المتوسط الحمراء	تربة البنية المحمرة
تربة البنية المصفرة	تربة صحراوية

9. من التربة التي تصلح فقط مراعي طبيعية :

التربة الحمراء	التربة البنية المحمرة
التربة الصحراوية الجبسية	التربة الصحراوية

10. التربة التي لا تصلح للزراعة ابدأ :

تربة البحر المتوسط الحمراء	تربة البنية المحمرة
تربة البنية المصفرة	تربة صحراوية

11. تعد صمام الامان بالنسبة الى الثروة الحيوانية :

المنطقة الجنوبية	المنطقة الساحلية
الغوطة الشرقية	البادية السورية

12. تتشكل بفعل مسببات الانجراف المائي والترسيب النهري :

التربة اللحية	التربة الغدقة
التربة الصحراوية	التربة الحمراء

11. عدد أنواع التربة في الوطن العربي ؟

- التربة المتوسطة .
- التربة الصحراوية .
- التربة المدارية .
- التربة اللحية .

12. عدد العوامل المؤثرة في توزيع انواع التربة في الوطن العربي :

- امتداد الأقاليم المناخية .
- عمليات الحت والترسيب التي تقوم بها الأنهار .
- 13. صمم جدول مقارنة بين انواع التربة في الوطن العربي من حيث مناطق الانتشار - غناها بالمواد العضوية .

التربة	مناطق الانتشار	المادة العضوية
المتوسطة	في المناطق المطلة على البحر المتوسط	غنية بالمواد العضوية
الصحراوية	الصحراء	أفقر التربة بالمادة العضوية
المدارية	- وسط السودان وجنوبه - جنوب الصومال - يمن عمان - مناطق وجود السافانا	غنية بالمواد العضوية .
اللحية	أودية الأنهار	غنية بالمواد العضوية

14. عرف التصحر :

بانه تدهر الأراضي بسبب الجفاف وسوء استعمالها مما يؤدي إلى إخراج الأراضي الزراعية والمراعي والغابات من دائرة الاستثمار .

15. عدد اسباب التصحر :

- الرعي الجائر .
- قطع الغابات .
- التوسع العمراني .
- التملح

16. عدد بعض الطرق المستخدمة للحد من زحف الصحراء وتثبيت الكثبان الرملية :

زراعة المصدات الريحية - رش الكثبان الرملية بالإسفلت .

13. من المشاكل التي تعاني منها التربة اللحية :

الجفاف	الملوحة
التصحّر	الانجراف

14. تنتشر على شكل جزر متفرقة موزعة على أراضي سورية :

التربة الصحراوية	التربة اللحية
التربة المتوسطية	التربة الغدقة

التعاليل اعطى تفسيراً علمياً لكل مما يلي :

15. تعاني التربة اللحية في سورية من مشكلة الملوحة :

بسبب تبخر المياه وترسب الأملاح .

16. تعاني التربة الغدقة في سورية من مشكلة الملوحة في بعض الأراضي :

بسبب تبخر المياه وترسب الأملاح بسبب سوء استعمالات الري .

17. خروج مساحات كبيرة من الاستثمار الزراعي في

حوض الفرات والغاب : بسبب الملوحة المرتفعة .

18. تعاني التربة ولاسيما في المناطق الداخلية من سورية من مشكلة التملح :

نتيجة الإدارة الخاطئة للأراضي الزراعية .

الإسئلة اجب عن الاسئلة الآتية بدقة ووضوح :

19. عدد المشكلات التي تعاني منها تربة البادية :

- تدهور غطاءها النباتي الطبيعي .
- الانجراف الريحي .
- الرعي الجائر .
- الاحتطاب المؤدي الى ازالة الغطاء النباتي .

20. اشرح الية تملح التربة :

في حالات الري التقليدي في المناطق الداخلية الحارة والجافة حيث التبخر المرتفع تؤدي كثرة المياه إلى حل كمية من الأملاح من الطبقات العميقة للتربة وجلبها إلى السطح بعد تبخر المياه وترسب الأملاح

21. كيف يتم معالجة مشكلة تملح التربة :

عن طريق شق قنوات تصريف وإجراء عمليات غسيل للتربة .

22. صمم جدول مقارنة بين انواع التربة في سورية من

حيث : مناطق الانتشار - معدل الأمطار - المزروعات - المشاكل المهدة ان وجدت .

مشاكل تعاني منها	المزروعات	معدل الامطار	الانتشار	التربة
- الانجراف المائي - قطع الغابات - انتشار الحرائق	- جميع انواع الاشجار المثمرة والخضار - المحاصيل الحقلية	700 ملم سنوياً	- في الشريط الساحلي والجبالي الساحلية - وغرب القنيطرة	البحر المتوسط الحمراء
تشقق التربة في أوقات الجفاف	- المحاصيل الشتوية والصفية - التفاحيات واللوزيات	300 - 700 ملم سنوياً	- جنوب غربي سورية - أقصى شمال شرقي سورية	البنية المحمرة
الجفاف	- الزراعات البعلية . - الزراعات البعلية كالشعير - اشجار اللوزيات والتين والفسق والحلي	200-300 ملم سنوياً	على شكل شريط من الجنوب الى الشمال الشرقي محيطة بأطراف البادية	البنية المصفرة
- الجفاف - تدهور الغطاء النباتي - الانجراف الريحي	مراعي طبيعية	- صحراوية جبسية معدلها اقل من 200 مم - صحراوية اقل من 150 ملم	البادية السورية	الصحراوية
الملوحة	القطن والشوندر السكري قمح والخضروات والاشجار المثمرة	-	الاراضي المجاورة لنهري الفرات والخابور	اللحية
الملوحة	الخضروات والمحاصيل المتحملة للملوحة كالبنندورة والشعير	-	جزر متفرقة على الأراضي السورية	الغدقة

السؤال الأول : اختر الإجابة الصحيحة :

- 1) تعتمد عمليات التخطيط للتنمية الاقتصادية والاجتماعية والعمرائية في اي دولة على (حجم مواردها البشرية)
- 2) يشكل نسبة سكان الوطن العربي من مجموع سكان العالم (5%)
- 3) الفرق بين معدلي الولادات والوفيات هو (معدل النمو الطبيعي)
- 4) تقسيم السكان بحسب الجنس إلى ذكور واناث (التركيب النوعي)
- 5) تقسيم السكان بحسب الأعمار إلى فئات عمرية (التركيب العمري)
- 6) يتسم التركيب العمري في الوطن العربي ب (فتوة السكان)
- 7) تقسيم السكان حسب الوضع التعليمي (الحالة التعليمية)
- 8) جميع السكان القادرين على العمل سواء أكانوا يعملون أم لا يعملون والذين تتراوح أعمارهم بين 15 - 65 هو مفهوم (قوة العمل)
- 9) نسب توزيع السكان على قوة العمل (التركيب الاقتصادي) .
- 10) الذين يعملون في مختلف القطاعات الاقتصادية (قوة عاملة)
- 11) القوة الغير عاملة (البطالة)
- 12) الذين لا عمل لهم ولكن يمكن أن يكونوا في حالة بحث عن العمل (البطالة الناشطة)
- 13) الذين يقومون بعمل موسمي (بطالة مؤقتة)
- 14) انتقال السكان من مكان إلى آخر طلباً لحياة أفضل (الهجرة)
- 15) الهجرة التي تتم ضمن دولة واحدة (الهجرة الداخلية)
- 16) الهجرة من الريف إلى المدينة هي هجرة (داخلية)
- 17) الهجرة من مدينة إلى مدينة ضمن نفس الدولة هي هجرة (داخلية)
- 18) الهجرة بين دول الوطن العربي هي هجرة (داخلية)
- 19) هجرة الآسيويين غير العرب والأوربيين نحو البلاد العربية ولاسيما النفطية هي هجرة (خارجية)
- 20) عدد سكان الوطن العربي (360 مليون نسمة)

- 21) يمتلك الوطن العربي إمكانات بشرية ضخمة : نتيجة استمرار ارتفاع معدلات النمو السكاني فيه ولاسيما ضمن فئة الفتية والشباب والهجرة الوافدة .

- 22) ارتفاع نسبة هجرة العقول في الوطن العربي ؟ بسبب ظهور مشكلات في مختلف المجالات الاقتصادية والخدمية ناتجة عن الفائض البشري .
- 23) انخفاض معدلات الوفيات في كثير من الدول العربية ؟ بسبب التطور الاقتصادي والثقافي والتعليمي والصحي .
- 24) بالرغم من انخفاض عدد الوفيات إلا ان معدلات المواليد بقت مرتفعة ؟ بسبب انماط حياة المجتمع العربي وعاداتهم وتقاليدهم وتاريخهم ونظمهم القبلية والاجتماعية التي تشجع الزواج المبكر وزيادة عدد الأولاد .
- 25) اختلاف الدول النفطية بالتركيب النوعي وزيادة عدد الذكور فيها : بسبب الهجرة الوافدة .
- 26) يتسم التركيب العمري في الوطن العربي بفتوة السكان ؟ بسبب معدلات الانجاب العالية بانخفاض متتال في الوفيات .
- 27) يعد تركيب السكان حسب الحالة التعليمية من المؤشرات الضرورية ؟ لأنه يعكس ما تقدمه الدولة لأبنائها من خدمات تعليمية ومحو الأمية في المستقبل
- 28) تزايد الهجرة الداخلية في مختلف أرياف الوطن العربي ؟ نتيجة للتطور العمراني والاقتصادي السريع الذي حصل في المدن في شتى مجالات الحياة و نتيجة لعجز الأرياف عن مواكبة نموها الطبيعي وتحسين أوضاعها من جهة أخرى .
- 29) يشهد الوطن العربي اليوم مشكلة تضخم المدن ولاسيما العواصم بشكل كبير ؟ نتيجة الهجرة إليها وعدم توافر برامج عمرانية واقتصادية كافية في أغلب العواصم العربية
- 30) تعد هجرة الكفاءات وهجرة الادمغة من الوطن العربي أخطر أنواع الهجرة : لما لها من اثار سلبية في التقدم الاقتصادي والاجتماعي على الدول العربية .

- 31) عدد الآثار الإيجابية لزيادة عدد السكان :
 1. امتلاك قوة بشرية كبيرة جداً .
 2. تدفق اعداد جديدة من اليد العاملة إلى سوق العمل .
 3. ظهور المشاريع التنموية .
 4. توسع وتطور المرافق التعليمية والصحية والثقافية والإدارية .
 5. توفير إمكانات لزيادة حجم الخدمات وشبكة المواصلات .
- 32) عدد أنواع التركيب الاقتصادي في الوطن العربي :
 1. قوة عاملة : الذين يعملون في مختلف القطاعات الاقتصادية .
 2. قوة غير عاملة (البطالة)

- (15) تقدر نسبة الاطفال في سورية بنحو (39.5%)
 (16) تقدر نسبة الشباب الناضجين في سورية بنحو (57%)
 (17) تقدر نسبة المسنين بسورية بنحو (3.3%)

التعاليل

- (18) ارتفاع النمو السكاني في سورية عام 2012 ؟
 بسبب ارتفاع نسبة الولادات وتدني نسبة الوفيات.
 (19) ارتفاع نسبة الولادات في سورية ؟ بسبب العادات والتقاليد وانخفاض نسبة التعليم وارتفاع الخدمات الصحية .
 (20) ترتفع الكثافة السكانية في السهول وأودية الأنهار ؟ لتوافر المياه والأمطار والترربة الخصبة .
 (21) تقل الكثافة السكانية في منطقة البادية ؟ لقسوة المناخ والجفاف
 (22) تضاعلت الهجرة الخارجية في سورية بعد القرن التاسع عشر ؟ نتيجة تحسين الأوضاع الداخلية وقيام بلاد المهجر بفرض قيود شديدة على الهجرة إليها

الاسئلة

- (23) ماذا ينتج عن النمو السكاني في سورية ؟ زيادة في نسبة الأطفال والشباب – زيادة الإنفاق لتوفير متطلبات الحياة – اتخاذ إجراءات لضبط نمو السكان ونشر الوعي السكاني .
 (24) تحدث عن الكثافة السكانية في سورية : ترتفع الكثافة في السهول وأودية الأنهار والمنطقة الساحلية وغوطة دمشق وتقل في البادية لقسوة المناخ والجفاف .
 (25) عدد أنواع الهجرة الداخلية في سورية :
 • هجرة مؤقتة : تتمثل في هجرة الطلبة إلى الجامعات والهجرة الموسمية للعمل الزراعي
 • هجرة دائمة : تتمثل في ترك سكان الريف قراهم والانتقال للمدينة للعمل .
 (26) تحدث عن التركيب العمري لسكان سورية :
 • فئة المستهلكة : تتضمن فئة الاطفال والفتيان والمسنين .
 • فئة المنتجة : تتضمن فئة الشباب الناضجين .
 (27) ما الاثار الناتجة عن الهجرة الدائمة ؟ تضخم مدن القطر وظهور السكن العشوائي .
 (28) عدد أسباب السكن العشوائي في سورية :
 فقدان التوازن بين التخطيط والنمو السكاني – اسباب تقنية عن ضعف الفاعلية بتنفيذ التخطيط العمراني .

3. البطالة الناشطة : الذين لا عمل لهم ولكن يمكن أن يكونوا في حالة بحث عن عمل .
 4. بطالة مقنعة : الذين يقومون بعمل موسمي .
 (33) عدد أنواع الهجرة :
 1. الهجرة الداخلية : وتقسّم إلى :
 • هجرة داخل الدولة الواحدة .
 • هجرة بين دول الوطن العربي .
 2. الهجرة الخارجية : وتقسّم إلى :
 • هجرة إلى الوطن العربي : هجرة اليهود الاستيطانية إلى فلسطين . و هجرة العمال الأجنبية
 • هجرة من الوطن العربي : كهجرة الكفاءات.
 (34) صنف التراكيب السكانية في الوطن العربي :
 التركيب النوعي – التركيب العمري – التركيب الاقتصادي – الحالة التعليمية
 (35) عدد الاثار السلبية لهجرة العمالة الاسيوية إلى الدول النفطية ؟ اختلاف العادات والتقاليد وتأثيرها الكبير في النسيج الاجتماعي .

الدرس الثاني : الموارد البشرية في الجمهورية العربية السورية إمكانات ملائمة للتنمية .

الأمثلة

- (1) تعد من أقدم مواطن الإعمار البشري (سورية)
 (2) احصاء شامل للسكان من حيث النوع والتعليم والإقامة والعمل في فترة معينة (تعداد السكان)
 (3) يتم إجراء احصاء لتعداد السكان كل (10 سنوات)
 (4) العامل الرئيسي لتوزع السكان في سورية هو (الماء و المطر)
 (5) تتركز الكثافة السكانية في سورية في منطقة (الساحل وغوطة دمشق)
 (6) اقل المناطق في الكثافة السكانية في سورية هي (البادية)
 (7) يتم تصنيف الأطفال والفتيان ضمن (الفئة المستهلكة)
 (8) يتم تصنيف الشباب والناضجين (الفئة المنتجة)
 (9) يتم تصنيف فئة المسنين ضمن (الفئة المستهلكة)
 (10) الفئة المستهلكة هي الفئة التي تشمل كلاً من (الاطفال والمسنين)
 (11) تبلغ نسبة الذكور في سورية (51%)
 (12) تبلغ نسبة الإناث في سورية (49%)
 (13) تجمعات نشأت من دون تخطيط حول المدن الكبرى (السكن العشوائي)
 (14) هجرة أصحاب الكفاءات والمهارات الجامعية العلمية والتقنية (هجرة العقول)

29) عدد الحلول التي وضعتها الدولة في سورية

للتخفيف من ظاهرة تضخم المدن ؟

اقامة منشآت صناعية وحرفية وتأمين شبكة من الطرق المعبدة تربط بين قرية وأخرى وتربط الريف بالمدينة وتأمين خدمات التعليمية و بناء الأبراج وتوسيع رقعة الأراضي السكنية .

30) عدد الحلول بعض من الحلول لتخفيف الهجرة من الريف إلى المدينة :

1. بناء مستشفيات عامة في كل مجموعة قري ،وتقديم الأدوية اللازمة .
 2. تشجيع الزراعة وتربية الثروة الحيوانية .
 3. تقديم المعونات المالية اللازمة والقروض لكل من يقوم بالعمل بالزراعة .
 4. بناء المعامل والمصانع التي ترتبط بالزراعة او بالثروة الحيوانية .
 5. تأمين شبكات اتصال في الريف وخدمات الانترنت .
- 31) عدد الآثار السلبية لهجرة العقول :
1. ضياع الجهود والطاقات الإنتاجية والعلمية لهذه العقول
 2. تبديد الموارد الإنسانية والمالية التي انفقت على تعليمه
 3. ضعف الانتاج العلمي والبحثي وتدهوره في البلدان العربية بالمقارنة مع الإنتاج العلمي للعرب المهاجرين إلى البلاد الغربية .

10) تبلغ نسبة سكان الريف في الوطن العربي (45%)

11) مجموعة من السكان تعتمد حياتهم على الصناعة والتجارة والخدمات (سكان المدن)

12) تبلغ نسبة سكان المدن في الوطن العربي (54%)

13) هي مجموعة الاجراءات التي تهدف إلى تحسين حياة الأفراد في المجتمع من جميع جوانبها في الحاضر والمستقبل (السياسات السكانية)

التعالي

14) السهول الساحلية الشرقية والشمالية تمثل أفضل

المناطق الزراعية في تونس ؟ لخصوبة أراضيها وتوافر المياه فيها .

15) تناقص المستمر لأعداد البدو في الدول العربية ؟ بسبب

تشجيع الدول العربية لهم على الاستقرار والعمل في الزراعة بجانب الرعي أو في الأنشطة الاقتصادية الأخرى .

16) تناقص المستمر لأعداد سكان الريف في الوطن العربي

؟ بسبب الهجرة من الريف إلى المدينة

17) انتشار التلوث البيئي الكبير في المدن العربية :

نتيجة الازدحام الشديد والاستثمار العشوائي للموارد فتزايد نسبة الغازات والأبخرة والنفايات وتلوث الهواء والماء والغذاء .

الاسئلة

18) تحدث عن توزع السكان والكثافة السكانية في الوطن العربي :

1. ترتفع الكثافة السكانية : حول الأودية النهرية وفي السهول الساحلية وحيث تتوافر الموارد الطبيعية كالنفط
 2. تنوسط الكثافة السكانية : في المرتفعات والمناطق الداخلية التي تسمح بقيام نشاط زراعي أو رعي .
 3. تقل الكثافة السكانية : في البيئات الصحراوية باستثناء الواحات التي توجد فيها المياه الجوفية .
- 19) عدد أهم المشكلات التي تعاني منها المدن العربية :
1. تضخم المدن وتزايد سكان الوطن العربي بشكل متسارع
 2. زيادة الطلب على الغذاء والكساء والصحة والتعليم .
 3. ازدياد الطلب على العمل .
 4. ظهور مشكلات كالسكن العشوائي وأحياء الصفيح وأحياء المقابر
 5. انتشار مشكلات التلوث البيئي نتيجة الازدحام الشديد والاستثمار العشوائي للموارد .

الأمثلة

- 1) متوسط عدد السكان لكل كيلومتر مربع وتساوي عدد السكان على المساحة (الكثافة السكانية)
- 2) ترتفع الكثافة السكانية في الوطن العربي (حول الأودية النهرية و السهول الساحلية - توافر الموارد الطبيعية)
- 3) تنوسط الكثافة السكانية في الوطن العربي في (المرتفعات والمناطق الداخلية)
- 4) تندر الكثافة السكانية في البيئات (الصحراوية)
- 5) تمثل أفضل المناطق الزراعية في تونس (السهول الساحلية الشرقية والشمالية)
- 6) تتوزع المناطق الوعرة نسبياً في تونس (الشمال الغربي)
- 7) سكان البوادي والصحاري ينتقلون بحثاً عن الكلاً والماء ويسكنون الخيام ويعملون في الرعي وتربية الحيوان (البدو)
- 8) تبلغ نسبة البدو في الوطن العربي (1%)
- 9) سكان القرى والمزارع وترتبط حياتهم بالزراعة وتربية الحيوان (سكان الريف)

التعاليل

- 16) تتناقص اعداد البدو باستمرار في سورية ؟ بسبب تشجيع الدولة على استقرارهم وتحويلهم إلى العمل في الزراعة .
- 17) اختلاف انماط المعيشة في سورية ؟ بسبب تنوع المناخ وتعدد المناطق التضاريسية .

الاسئلة

- 18) يقسم السكان في سورية إلى مجموعتين اساسيتين اذكرهما :
- المجموعة الأولى : هم البدو .
 - المجموعة الثانية : هم الحضر و سكان المدن .

6. ظهور مشكلات المواصلات والمرور نتيجة توسع المدن وارتفاع مستوى الحياة فيها .
7. ظهور مشكلات التلوث الضوضائي الناتج عن الأصوات المنبعثة من وسائل النقل .
- 20) ما السياسات السكانية في الوطن العربي :
1. تحقيق التوازن بين حجم السكان وكثافتهم والموارد المتاحة
 2. توفير مستوى حياة أفضل .
 3. انشاء مؤسسات تشرف على تطبيق برامج السياسات السكانية كمؤسسة تنظيم الأسرة ورعاية الأم والطفل والنهوض بالمرأة الريفية .

الدرس الرابع : أنماط مختلفة للمعيشة في سورية :

الأتمة

- 1) هم سكان البادية وهوامش المعمورة (البدو)
- 2) يطلق على سكان الأرياف وسكان القرى والمزارع بـ (الحضر)
- 3) يعتمد سكان الحضر في معيشتهم على (الزراعة وتربية الحيوان)
- 4) تقارب نسبتهم نصف سكان سورية (الحضر)
- 5) يعملون في الصناعة والخدمات (سكان المدن)
- 6) العاصمة السياسية والإدارية للجمهورية العربية السورية (دمشق)
- 7) تعد اقدم عاصمة مأهولة في التاريخ (دمشق)
- 8) تقع شمالي سورية في موقع متوسط عند ملتقى الطرق التجارية (حلب)
- 9) تعد أكبر المراكز الصناعية فضلاً عن كونها مركزاً ثقافياً (حلب)
- 10) تقع وسط القطر العربي السوري بين البادية والبحر المتوسط (حمص)
- 11) هي مركز صناعي وثقافي وفيها جامع خالد ابن الوليد (حمص)
- 12) تعد مدينة النواعير في سورية وتقع على نهر العاصي (حماة)
- 13) قامت فيها صناعة القضبان الحديدية وتعد سوقاً مهمة بين البدو والحضر (حماة)
- 14) يعد مرفأ سورية الأول (اللاذقية)
- 15) تقع شمالي مصب نهر الكبير الشمالي (اللاذقية)

أولاً : أختار الإجابة الصحيحة :

- 1) أول نشوء للزراعة في الوطن العربي كان في (**أودية الأنهار الكبرى**)
- 2) عدد العاملين في القطاع الزراعي في الوطن العربي (**أكثر من ثلث اليد العاملة**)
- 3) من طرق الري التي لجأ إليها المزارع (**استجرار المياه الجوفية**)
- 4) تعد الغذاء الرئيسي لمعظم سكان الوطن العربي (**الحبوب**)
- 5) تشغل زراعتها نصف أراضي الزراعة للوطن العربي (**الحبوب**)
- 6) الدولة التي تحتل المرتبة الأولى في إنتاج الحبوب (**مصر**)
- 7) أهم المحاصيل الزيتية في الوطن العربي (**الزيتون**)
- 8) تنتشر زراعة الزيتون في (**السهول الساحلية المتوسطة والسفوح الجبلية**)
- 9) من أهم الأشجار المثمرة في الوطن العربي (**الحمضيات**)
- 10) تنتشر زراعة الحمضيات في (**غور الأردن**)
- 11) تنتشر زراعة النخيل في (**واحات شبه الجزيرة العربية**)
- 12) تنتشر زراعة الموز في (**الصومال**)
- 13) من المحاصيل التي تنتشر زراعتها حول المدن (**الخضروات**)
- 14) تعد من أهم المحاصيل الصناعية (**القطن**)
- 15) تبلغ نسبة الأغنام في الوطن العربي (**44%**)
- 16) تبلغ نسبة الماعز في الوطن العربي (**36%**)
- 17) تبلغ نسبة الأبقار في الوطن العربي (**16%**)
- 18) تبلغ نسبة الإبل في الوطن العربي (**3%**)
- 19) تبلغ نسبة الجواميس في الوطن العربي (**1%**)
- 20) تحتل المرتبة الأولى في الثروة الحيوانية (**الأغنام والماعز**)
- 21) تحتل المرتبة الثانية في الثروة الحيوانية (**الأبقار**)
- 22) الدول التي تتفوق بأعداد الجواميس (**مصر والعراق**)
- 23) تنتشر بأعداد كبيرة في كل من (**الصومال وشبه الجزيرة العربية**)
- 24) لا يزال اقتصاد اغلب الدول العربية يقوم على (**الزراعة**)

ثانياً : أعطي تفسيراً علمياً مناسباً لكل من :

- 25) أهمية مشاريع الري في الوطن العربي .
بسبب قسوة المناخ الجاف في معظم أراضي الوطن العربي وقلة الموارد المائية السطحية ولاسيما الأنهار التي يوافق موسم شحها الوقت الذي تزداد فيه الحاجة للزراعة .
- 26) نقص الماء اللازم للري في أراضي الوطن العربي .
نتيجة تذبذب معدلات الأمطار وتكرار الجفاف .
- 27) ظهور مشاكل التصحر في أراضي الوطن العربي .
نتيجة لغزو الصحراء مناطق زراعية واسعة .
- 28) لا يكفي إنتاج الوطن العربي سكانه من الحبوب .
بسبب التزايد الكبير والسريع لعدد السكان و تزايد الهجرة من الريف إلى المدينة ، تحول الأراضي التي تزرع بالحبوب إلى زراعة الأشجار المثمرة والخضروات .
- 29) تدهور المراعي الطبيعية في الوطن العربي .
- بسبب الرعي الجائر .
- الحرائق الموسمية .
- التوسع في الزراعة الآلية والتقليدية .
- حالات الجفاف المتكررة .
- اتساع ظاهرة التصحر .
- 30) التنوع الكبير في مراعي الثروة الحيوانية ؟
بسبب اختلاف الظروف المناخية في الوطن العربي وتباين مواعيد سقوطها وكمياتها .
- 31) الانتشار الكبير لتربية الأغنام في المغرب والسودان والعراق وسورية ؟
لتوافر المراعي الطبيعية .
- 32) الانتشار الكبير لتربية الأبقار في القسم الأفريقي ؟
- لانتساع المراعي في (السودان) .
- انتشار حشائش السافانا في (مصر) .
- لزراعة البرسيم في (بلاد المغرب) .
- لسيادة النباتات السهبية .

ثالثاً : اجب عن الاسئلة التالية :

(33) ما أهمية الزراعة في الوطن العربي :

1. الوطن العربي مهد الزراعة الأول ومنه انتقلت إلى مناطق العالم القديم .
2. الحرفة الرئيسية لسكانه .
3. النشوء الأول للزراعة كان في اودية الانهار الكبرى للوطن العربي .
4. يعتمد اقتصاد اغلب الدول العربية من حيث الإسهام في الدخل الوطني على الزراعة .
5. عدد العاملين فيها يتجاوز ثلث اليد العاملة .

(34) عدد مقومات الزراعة في الوطن العربي :

1. مقومات طبيعية :
 - المناخ .
 - التربة .
 - التضاريس .
2. مقومات بشرية :
 - استخدام الأسمدة .
 - مكافحة الآفات .
 - الري .

(35) أملأ الجدول بما يناسبه :

السد	النهر	الموقع
السد العالي	النيل	مصر
سد الرمادي	الفرات	العراق
سد الفرات	الفرات	سورية
سد سناء	النيل	سودان
سد بين الويدان	ام الربيع	المغرب
سد وادي الغريب	الثلييف	الجزائر

(36) عدد اسباب أهمية السد العالي في مصر :

- يهدف إلى درء أخطار الفيضانات .
- زيادة مساحة الأراضي المروية .
- توليد طاقة كهربائية بنحو ١٠ مليار كيلو واط ساعي.

(37) ما معوقات (مشكلات) الزراعة في الوطن العربي ؟

1. نقص الماء اللازم للري الناتج عن تذبذب معدلات الأمطار وتكرار الجفاف .
2. مشكلة التصحر نتيجة لغزو الصحراء مناطق زراعية واسعة .
3. الزحف العمراني .
4. تملح التربة .
5. تفكك ملكية الاراضي التي سببت تدني نسب الإنتاج الزراعي .

(38) ما الحلول لتخفيف من اثار الجفاف قبل حدوثه ؟

1. بناء السدود في المواقع المناسبة للاستفادة من المياه الفائضة في فترات الجفاف .
2. تفعيل برامج الاستمطار ودعم المشاريع الرائدة في هذا المجال .
3. إعادة تدوير المياه ودعم معالجة مياه الصرف .
4. تطبيق تقنيات الري الحديث .

(39) تحدث عن زراعة الحبوب في الوطن العربي .

- الغذاء الرئيسي لمعظم سكان الوطن العربي كالقمح والشعير .
- تشغل زراعتها نصف مساحة الأراضي الزراعية في الوطن العربي.
- مصر تعد مقدمة الدول المنتجة .

(40) تحدث عن زراعة الخضروات في الوطن العربي .

- تنتشر زراعتها حول المدن في السهول الساحلية وأودية الأنهار .
- تعتمد في زراعتها على الري .
- يستفاد من الفائض في الصناعات الغذائية .

(41) تحدث عن زراعة القطن في الوطن العربي .

- أهم الغلات الصناعية .
- يزرع معظمه مروياً .
- يصنف حسب طول أليافه ونعومتها وأجودها طويل التيلة الناعم .
- الوطن العربي المصدر الأول لأقطان طويلة التيلة .

(42) املأ الجدول بما يناسبه .

المحاصيل	الانتشار
القمح	معظم الأراضي الزراعي في الوطن العربي
الشعير	معظم الأراضي الزراعية في الوطن العربي
الزيتون	السهول الساحلية المتوسطة والسهول الجبلية (سورية – المغرب – تونس)
الحمضيات	السهول الساحلية المتوسطة والأطلسية (غور الأردن)
النخيل	الواحات (شط العرب العراق – الهفوف السعودية – ليبيا – المغرب)
الموز	(الصومال – غور الأردن)
الخضروات	حول المدن حيث الكثافة السكانية
القطن	الأراضي المروية غالباً
الثوندر السكري	(المغرب)
قصب السكر	(مصر)

(43) ما الجهود المبذولة في الوطن العربي لتحديث إدارة المراعي .

1. الاستزراع المباشر لبذور الأعلاف في المناطق الرعوية .
2. سن قوانين تحرم زراعة المناطق الرعوية وتحديد مناطق الزراعة .
3. التوسع في حفر الآبار وتوفير مياه الشرب لقطعان الماشية في المناطق الرعوية .

(19) من طرق الري الحديثة (الري بالتنقيط والرش)

تعاليل

ثانياً : أعطي تفسيراً علمياً لكل مما يلي :

(20) انخفاض نسبة اليد العاملة في القطاع الزراعي في سورية .

بسبب توجه اليد العاملة إلى قطاع الخدمات أو الأنشطة الاقتصادية الأخرى .

(21) انتشار التملح في الأراضي المروية ؟

بسبب سوء تصريف المياه .

(22) تدهور الترب السورية ؟

لافتقارها إلى عنصر الأزوت والفسفور و التكتيف الزراعي

الاسئلة

ثالثاً : أجب عن الاسئلة التالية :

(23) ما أهمية الزراعة في سورية ؟

1. تحقيق الاكتفاء الذاتي من معظم المنتجات الزراعية .
2. تحقيق الأمن الغذائي.
3. تزويد الصناعة بالكثير من المواد الخام .
4. لها أهمية في الثروة الوطنية .
5. دخول عدد من المنتجات الزراعية في قائمة الصادرات السورية الاستراتيجية كالقطن والقمح .
6. تنمي الأنشطة الأخرى غير الزراعية كالنقل والتسويق والخدمات المستخدمة في الإنتاج الزراعي .

(24) عدد معوقات (مشكلات) الزراعة في سورية :

1. تملح التربة نتيجة سوء التصريف
2. محدودية الموارد المائية
3. تدهور التربة .
4. الجفاف .
5. قصور السياسات الزراعية كتسويقها بأسعار لا تتناسب مع تكاليف انتاجها .

(25) عدد مقومات الزراعة في سورية :

- عوامل طبيعية : المناخ المتوسطي – نظام المطر – التضاريس .
- عوامل بشرية : الري .

(26) كيف يؤثر نظام المطر على الزراعة في سورية .

حيث يعد نظام المطر السائد الشتوي ومعدله السنوي وتوزيعه الفصلي والكيفية التي يسقط بها ذات تأثير على واقع الزراعة .

4. تثبيت الكثبان الرملية ، وإيقاف الزحف الصحراوي .

5. الحد من آثار حرائق الأعشاب .

(44) املأ الجدول بما يناسبه :

الثروة الحيوانية	مناطق الانتشار
الأغنام	المغرب والسودان والعراق وسورية
الماعز	المغرب والسودان والعراق وسورية
الأبقار	القسم الأفريقي (السودان – مصر – المغرب)
الجواميس	مصر و العراق
مصائد الأسماك	سواحل المغرب – عمان و اليمن
مصائد الاسفنج	سواحل المتوسط
اللؤلؤ	سواحل الخليج العربي

الدرس الثاني : الزراعة قلب الاقتصاد في سورية :

الأمثلة

أولاً : اختر الإجابة الصحيحة :

- (1) المحرك الاساسي للحياة الاقتصادية في معظم البلدان العربية (الزراعة)
- (2) من المحاصيل الاستراتيجية في سورية (القطن والقمح)
- (3) هو قدرة المجتمع على تحقيق الاعتماد الكامل على الموارد والإمكانات الذاتية في انتاج كل احتياجاته الغذائية محلياً (الاكتفاء الذاتي)
- (4) يعنى بتوفير الغذاء بالكَم والنوع والتكلفة إلى جميع فئات المجتمع على مختلف مستويات دخلهم (الامن الغذائي)
- (5) تشغل نسبة قطاع الزراعة في سورية (١٧ ٪)
- (6) يشغل قطاع التجارة في سورية نسبة (١٦ ٪)
- (7) يشغل قطاع الصناعة في سورية (١٦ ٪)
- (8) ينتج عن سوء تصريف التربة (التملح)
- (9) تبلغ نسبة الأراضي المروية في سورية (٢٩.٢ ٪)
- (10) من اسباب تدهور التربة (التكتيف الزراعي)
- (11) العامل الذي يحدد نوع الانتاج الزراعي ونجاحه (المناخ)
- (12) من المدن التي تشكلت على سد الفرات (الطبقة)
- (13) من الأحواض المروية التي تشكلت على سد الفرات (حوض البليخ)
- (14) من السدود التي اقيمت على نهر العاصي (سد الرستن و سد محردة)
- (15) يعتمد مشروع ري حمص – حماة على مياه سد (بحيرة قطينة)
- (16) من السدود التخزينية في سورية (سد الرستن و سد محردة)
- (17) يؤمن مياه الري والشرب لمحافظة اللاذقية (نهر السن)
- (18) من السدود المهمة في محافظة درعا (سد الوحدة)

27) صنف المناطق الزراعية في سورية من حيث التضاريس؟

1. حزام ساحلي على طول الساحل السوري المتوسط
 2. مناطق جبلية محاذية للساحل .
 3. حزام واسع للزراعة البعلية ومناطق مروية يلتف بشكل نصف دائري حول البادية السورية بمراعيها الطبيعية
- 28) عدد طرق الري في سورية؟
- كشك القنوت – حفر الابار – اقامة السدود .

29) تحدث عن اهمية مشروع سد الفرات في سورية .

1. تشكل خلفه بحيرة الطبقة حيث تخزن نحو ١٤ مليار متر مكعب ماء
 2. زيادة الرقعة المروية .
 3. توليد الطاقة الكهربائية .
 4. تنظيم جريان نهر الفرات .
 5. إقامة قرى و مدن جديدة كالتبقة
 6. قيام مزارع نموذجية في الأحواض المروية .
 7. تأمين مياه الشرب لمناطق واسعة من محافظة حلب .
- 30) تحدث عن أهمية مشاريع نهر العاصي في سورية .
1. تحفيف مساحات واسعة من مستنقعات الغاب واستصلاحها .
 2. بناء سدود تخزينية مما زاد الاراضي الزراعية المروية.
 3. إقامة مشروع ري حمص – حمص .
- 31) ما أهمية السدود المقامة في بطون الأودية؟

حجز مياه السيول المتشكلة من سقوط الامطار العاصفية القليلة ، والاستفادة منها في سقاية المواشي وتغذية المياه الجوفية .

32) ما أهمية طرق الري الحديثة؟

1. تكفل ري المزارع .
2. الحفاظ على المياه من الهدر .
3. حماية التربة من التملح .

الدرس الثالث : الإنتاج الزراعي ثروة وطنية مهمة في سورية .

الأتمتة

أولاً : اختر الإجابة الصحيحة .

- 1) يأتي في مقدمة محاصيل الحبوب في سورية (القمح)
- 2) تشكل نسبة الاراضي المزروعة بالقمح من اراضي المزروعة بالحبوب بسورية (٥٧٪)
- 3) يزرع القمح بعلأ في الاراضي التي تزيد فيها نسبة الأمطار عن (٣٠٠ ملم سنوياً)

4) تأتي في مقدمة المدن المنتجة للقمح في سورية (الحسكة)

- 5) تحتل المرتبة الثانية في انتاج القمح في سورية (حلب)
- 6) تشتهر سورية بزراعة القمح وخاصة النوع (الفاسي)
- 7) يحتل المرتبة الثانية من حيث زراعة محاصيل الحبوب في سورية (الشعير)
- 8) يخصص جزء كبير من زراعته لتغذية المواشي (الشعير)
- 9) اهم المحاصيل التي تدخل في الدورة الزراعية (البقوليات)
- 10) تشغل زراعة البقوليات من المساحة المزروعة في سورية (٦٪)
- 11) يشغل العدس من مساحة البقوليات المزروعة (٤٧٪)
- 12) يحتل المرتبة الأولى في المحاصيل البقولية في سورية (العدس)
- 13) يحتل المرتبة الثانية في مجموع البقوليات في سورية (الحمص)
- 14) تبلغ نسبة زراعة الحمص من مساحة البقوليات المزروعة (٣٣٪)
- 15) اهم المحاصيل الاستراتيجية الصناعية (القطن)
- 16) يعد عصب الصناعات النسيجية (القطن)
- 17) يعد محصول القطن من المحاصيل (المروية)
- 18) تشكل نسبة الاراضي المزروعة بالقطن من مساحة أراضي المحاصيل الصناعية (٥٧٪)
- 19) ينقل فائض الناتج عن موسم الخضروات الى (مصانع الكونسروة)
- 20) يمكن انتاج محاصيل الخضار خارج أوقات موسمها عن طريق (البيوت البلاستيكية)
- 21) تحتل المرتبة الأولى ضمن الاشجار المثمرة في سورية (الزيتون)
- 22) تشكل نسبة اشجار الزيتون من مجموع مساحة أراضي الاشجار المثمرة في سورية (٦٣٪)
- 23) يحتل المرتبة الاولى زراعياً في سورية (القمح)
- 24) يحتل المرتبة الثانية زراعياً في سورية (القطن)
- 25) يحتل المرتبة الثالثة زراعياً في سورية (الزيتون)
- 26) يزرع التفاح في سورية في (سفوح المناطق الجبلية)
- 27) الأشجار المثمرة التي تزرع في الغوطة (المشمش والجوز)
- 28) تزرع الحمضيات في سورية في (المناطق الساحلية و وادي اليرموك)
- 29) يعتمد قطاع الانتاج الحيواني في سورية بشكل اساسي على (الأغنام و الأبقار و الماعز)
- 30) يتذبذب انتاج اعداد الحيوانات بسورية بسبب (موجات الجفاف)
- 31) اشهر سلالات الأغنام بسورية هي سلالة (العواس)
- 32) من الانشطة التجارية الحيوانية المنتشرة بشكل واسع في سورية (تربية الدواجن)
- 33) تسهم بنسبة ضئيلة من الانتاج الحيواني (تربية الأسماك)

ثانياً : اعطي تفسيراً علمياً لكل مما يلي .

(34) تذبذب إنتاج القمح في الاراضي السورية ؟

لتأثرها بكمية الأمطار الهائلة .

(35) اهمية المحاصيل البقولية في الدورة الزراعية ؟

لأنها تزيد من خصوبة التربة ، وتعد حلاً بديلاً للأسمدة الأزوتية ، وعاملاً مهماً في غذاء الإنسان والحيوان .

(36) تنتشر زراعة الخضار في المناطق القريبة من المدن فقط .

تلبية لحاجات الغذائية المتزايدة للمدن – ولأن معظم الخضار سريعة التلف تحتاج إلى نقله إلى اسواق الاستهلاك بسرعة .

(37) يحتل الزيتون مقدمة الأشجار المثمرة .

لأهميته الغذائية والصناعية والتصديرية .

(38) تتأثر اعداد القطعان بسورية بكميات الأمطار .

لما لها دور في توافر المراعي .

(39) انخفاض اعداد الماعز بسورية .

بسبب السياسة المتبعة لحماية المناطق الجبلية الحراجية و انخفاض الطلب على لحومها .

(40) ازدياد الاهتمام بتربية الأبقار في سورية ؟

لأنها تشكل مصدراً كبيراً مهماً لإنتاج الحليب .

ثالثاً : اجب عن الاسئلة التالية .

(41) ما الأهمية الاستراتيجية لمحصول القطن في سورية .

1. رفع قيمة الصادرات عن طريق تصدير جزء منه .
2. يزود خزينة الدولة بالعملة الاجنبية .
3. يعد عصب الصناعات النسيجية .
4. يستخدم بقايا حلجه في صناعات أخرى .

(42) ما الأهمية الاستراتيجية لمحصول الشوندر السكري في سورية .

1. له دور كبير في تأمين الأمن الغذائي .
2. الاسهام في تحقيق الاكتفاء الذاتي من مادة السكر .

3. تقليل الكميات المستوردة منه .

4. له أهمية صناعية كبيرة .

(43) ما أنماط تربية الحيوانات في سورية .

- نمط المجتمع الريفي .
- نمط الرعي المتنقل .

الدرس الرابع : الكنوز الدفينة في الوطن العربي) مصادر الطاقة (

أولاً : اختر الإجابة الصحيحة في كل مما يأتي :

- (1) تشكلت المصائد البترولية بعمليات (الإرساب)
- (2) استخراج الثروات الباطنية من باطن الأرض (التعدين)
- (3) هو المخزون في باطن الأرض من المادة ولم يستثمر بعد (الاحتياطي العالمي)
- (4) منظمة عالمية ترعى مصالح الدول المنتجة والمصدرة للنفط (الأوبك)
- (5) منظمة عربية تضم الدول العربية المنتجة للنفط (الأوبك)
- (6) من الحقول النفطية البحرية في الوطن العربي (العد الشرقي في قطر)
- (7) يقع حقل غوار النفطية في (السعودية)
- (8) يقع حقل كركوك النفطي في (العراق)
- (9) يقع حقل زلطن – ناصر - النفطي في (ليبيا)
- (10) تأتي في مقدمة الدول العربية المنتجة للنفط والثالثة عالمياً (السعودية)
- (11) تسهم العراق والسعودية والكويت من إنتاج النفط العالمي (30%)
- (12) يتميز بوجوده على أعماق قليلة وغازة آباره (نفط المشرق العربي)
- (13) تنتشر آباره النفطية على اعماق كبيرة (نفط المغرب العربي)
- (14) تكلفة إنتاج برميل واحد من النفط العربي اقل من تكلفة إنتاج برميل واحد من النفط الامريكي بحوالي (عشر مرات)
- (15) يلي النفط من حيث سعة الانتشار الجغرافي (الغاز الطبيعي)
- (16) الغاز المرافق للنفط في الآبار نفسها (الغاز الرطب)
- (17) الغاز المتشكل في حقول منفردة (الغاز الجاف)
- (18) اهم حقول الغاز العالمية في الوطن العربي (حقل حاسي الرمل في الجزائر)

التعاليل

ثانياً : اعطي تفسيراً علمياً لكل مما يلي :

(21) بالرغم من وجود نفط المغرب العربي على اعماق كبيرة إلا أن تكاليف استخراجه أقل .

نظراً لقربه من الأسواق الأوروبية والأمريكية

(22) قلة تكاليف استخراج النفط في المشرق العربي .

لوجوده على أعماق قليلة و غزارة آباره .

(23) تزايد أهمية الغاز بوصفه مصدراً للطاقة .

لأنه أقل تلوثاً على البيئة بجانب قيمته الحرارية العالية .

الأسئلة

ثالثاً : اجب عن الأسئلة التالية

(24) ما الأهمية الاستراتيجية للثروات الباطنية في الوطن العربي .

1. أهمية استراتيجية تمس الأمن القومي والاستقلال والرفاهية .
 2. وجود احتياط هائل من مصادر الطاقة في مختلف أقاليم الوطن العربي .
 3. يقدر احتياط العربي بحوالي نصف الاحتياط العالمي من النفط وربعه من الغاز .
 4. إيرادات كبيرة من الصادرات على الناتج المحلي الإجمالي للدول العربية .
 5. حركت كل قطاعات الاقتصاد وأمدته بمواد الطاقة والمواد الأولية .
 6. قدمت الدعم المادي اللازم لقطاعات الاقتصاد .
 7. وذات اثر كبير في تنمية قطاع الخدمات .
- (25) كيف تشكلت المصائد البترولية ؟

ترتبط نشأة البترول في الوطن العربي بالعلاقة ما بين اليابسة والماء وبقايا الكائنات الحية النباتية والحيوانية المرتبطة بذلك وبعمليات الإرساب وما اسفر عن ذلك من ضغط وحرارة في خلال الأزمنة الجيولوجية .

(26) ما مميزات النفط العربي عن غيره ؟

- جودة انواعه .
- انخفاض نسبة الكبريت فيه .
- تنوع مشتقاته .

- قربه من موانئ التصدير ومصافي التكرير
 - توفر أيدي عاملة رخيصة
- (27) عدد اشكال انتشار حقول الغاز الطبيعي :
- الغاز الرطب : ينتشر بشكل مرافق للنفط في الآبار .
 - الغاز الجاف : ينتشر بشكل منفرد بحقول خاصة .

(28) عدد ثلاث تغيرات جوهرية لصالح الغاز الطبيعي برزت مع مرور الوقت :

1. بروز أهمية الغاز بوصفه وقوداً أقل تلويثاً للبيئة من النفط ، إلى جانب قيمته الحرارية العالية .
2. امكن استخدامه كمادة خام في الصناعات البتروكيميائية ، فضلاً عن استخدامه مصدراً للطاقة والوقود .
3. نجاح نقله بعد تسييله بالناقلات المبردة لتصديره إلى الخارج ، ويستخدم في الخليج العربي لتحلية مياه البحر.

الدرس الخامس : الكنوز الدفينة في الوطن العربي (المعادن)

الأمثلة

أولاً : اختر الإجابة الصحيحة :

- (1) يسهم قطاع التعدين في نسب مهمة من الناتج المحلي الإجمالي لـ (موريتانيا , مغرب , اردن , تونس)
- (2) المعادن القابلة للطرق والسحب والقدرة على توصيل الحرارة والكهرباء (المعادن الفلزية)
- (3) من المعادن الغير حديدية (النحاس و الرصاص)
- (4) من المعادن الثمينة (الذهب و الفضة)
- (5) من المعادن النادرة (اليورانيوم)
- (6) من المعادن الحديدية (الحديد الخام و المنغنيز)
- (7) المعادن الغير قابلة للطرق والسحب (المعادن اللافلزية)
- (8) تعد من أكثر المعادن استخداماً في الصناعة وأكثرها رخصاً (الحديد)
- (9) يسمى بخبز الصناعة (الحديد)
- (10) يشكل اساس الصناعات الثقيلة كالآلات والجسور ووسائل النقل (الصلب)
- (11) يتركز نحو ثلاث أرباع الاحتياطي من خام الحديد في (إقليم المغرب العربي وخاصة موريتانيا)
- (12) يدخل في صناعة الصلب لإكسابه الصلابة ومقاومة التآكل (المنغنيز)
- (13) يدخل في الصناعات الكيميائية ومواد الطلاء (المنغنيز)

لاعتماده على الكهرباء المنتجة من الغاز الطبيعي لتوافره فيهما .

الدرس السادس : ثرواتنا الباطنية في سورية أرصدة مستقبلية .

الآتمة

أولاً : اختر الإجابة الصحيحة في كل مما يلي :

- 1) يلقب بالذهب الرمادي (الفوسفات)
- 2) يلقب بالذهب الأسود (النفط)
- 3) تتركز خامات النفط في سورية في منطقتي (الجزيرة والفرات)
- 4) من اهم حقول النفط في مناطق الجزيرة السورية (السويدية و كراتشوك و رميلان)
- 5) من اهم حقول النفط في حقول الفرات في سورية هي (التيم و عمر و الورد و العشارة)
- 6) بلغ انتاج النفط الخام في سورية عام ٢٠١٠ حوالي (٣٩٠ الف برميل يومياً)
- 7) ينتشر الغاز الطبيعي بشكله الجاف في سورية في حقول (جبسة و التدمرية)
- 8) ينتشر الغاز الطبيعي بشكله الرطب في سورية في حقول (السويدية)
- 9) يتم انتاج كميات من الكبريت في حقول (السويدية)
- 10) يتم انتاج الإسفلت في سورية في كل من (جبل البشري وكفرية شمال شرقي اللاذقية)
- 11) ومن الخامات التي يتزايد إنتاجها لاستخدامها في مجال الطاقة (السجيل الزيتي)
- 12) يتكون من صخور رسوبية متشربة بالمواد العضوية (السجيل الزيتي)
- 13) ينتشر السجيل الزيتي في سورية في كل من (حوران والقلمون)
- 14) يتم استثمار خامات الفوسفات في منطقة (تدمر)
- 15) توجد خامات الحديد والكروم والمنغنيز في سورية في مناطق (الجبال الغربية مثل راجو والقدموس)
- 16) من الصخور المنتشرة في سورية وتستخدم في عمليات البناء (الصخور الجصية والمارنية)
- 17) تستخدم لصناعة الزجاج والاسمنت (الرمال الكوارتزية)
- 18) من الصخور التي تستخدم في صناعة الأجر والقرميد والسيراميك و البورسلان (الغضار)
- 19) يستخدم لصناعة احجار البناء وأحجار الزينة وأرصفة الطرقات والإسمنت (البازلت)

- 14) تأتي في مقدمة الدول العربية المنتجة للمنغنيز (المغرب)
- 15) يدخل في صناعة البطاريات السائلة وأسلاك الكهرباء (الرصاص)
- 16) يدخل في صناعة هياكل السيارات والأجهزة المنزلية (الزنك)
- 17) اهم الدول المنتجة للرصاص والزنك (المملكة المغربية و تونس)
- 18) اكثر المعادن استخداماً وانتشاراً (الألمنيوم)
- 19) ينتشر الألمنيوم في (معظم المناطق الصحراوية كسعودية و ليبيا)
- 20) أهم الثروات المعدنية الباطنية في الوطن العربي (الفوسفات)
- 21) المعدن الذي يشكل اكثر من ثلث الاحتياط العالمي وربع الانتاج العالمي تقريباً (الفوسفات) .
- 22) يدخل في صناعة الأسمدة و دبغ الجلود والمبيدات الحشرية (الفوسفات) .
- 23) تأتي في مقدمة الدول المنتجة للفوسفات (المغرب)
- 24) اهم حقول الفوسفات في المغرب (الخوريقة و اليوسفية)
- 25) ينتشر النحاس في (المغرب)
- 26) يحتل المرتبة الأولى بإنتاج الذهب عربياً (سلطنة عمان)
- 27) يحتل المرتبة الثانية في انتاج الذهب عربياً (السودان)
- 28) يحتل المرتبة الثالثة في انتاج الذهب عربياً (مصر)
- 29) تحتل المرتبة الأولى عربياً في انتاج البوتاس (الأردن)

التعليق

ثانياً : أعط تفسيراً علمياً لكل مما يلي :

- 30) للثروة المعدنية أهمية في بعض الاقتصاديات العربية .
لأن وجودها يسمح بقيام صناعات تعدينية وتشكل أساس النهضة الاقتصادية والتنمية وتسهم في نسب مهمة من الناتج المحلي الإجمالي لبعض الدول .
- 31) التوسع في صناعة الاسمنت و مواد البناء ؟
لارتباطها المباشر باحتياجات الإنشاء والتعمير في معظم الدول العربية .
- 32) تتركز صناعة الألمنيوم في مدينة نجع حمادي في مصر ؟
لأنه يعتمد على كهرباء السد العالي لأن عملية تعدينه تحتاج إلى كميات كبيرة من الكهرباء .
- 33) انتشار تعدين الألمنيوم في البحرين و السعودية .

ثانياً : اعط تفسيراً علمياً :

- (20) تكون الثروات الباطنية طرفاً حاسماً في معادلة الإنماء الاقتصادي والاجتماعي الذي تسعى إليه سورية
1. لدورها في تحسين الأراضي الزراعية وزيادة خصوبتها بتحويل الفوسفات إلى أسمدة .
 2. تحريك المصانع وإنارة المنشآت العمرانية باستخدام النفط
 3. زيادة مصادر الدخل الوطني بتصديرها .
 4. اسهامها في تطوير الاقتصاد السوري وتحسين مستوى الخدمات .

ثالثاً : اجب عن الاسئلة التالية :

- (21) عدد مصادر الملح في سورية :
- الملح الصخري : ملح نقي من التبنني قرب دبر الزور .
 - ملح الملاحات : من البوارة والجبول والجبسة وهو اقل نقاوة

الدرس الأول : الصناعة في الوطن العربي بين الواقع والإبداع .

الأمثلة

أولاً : ختر الإجابة الصحيحة :

- 1) تحتل الصناعة في الوطن العربي المرتبة (الثانية)
- 2) تعتمد الصناعات القديمة على (الآلات البسيطة والصناعات اليدوية)
- 3) أشهر الصناعات القديمة في الوطن العربي (صناعة السجاد والزجاج)
- 4) العملية التي يتم بواسطتها تحويل المادة من حالتها الأولية إلى مادة أكثر نفعاً (الصناعة)
- 5) مقومات الصناعة كالموارد الزراعية والثروات الباطنية هي (مواد أولية)
- 6) النفط والغاز والكهرباء والطاقة الشمسية هي بمثابة (قوى محرّكة)
- 7) تأتي بشكل رئيسي من العوائد النفطية في الوطن العربي (رؤوس الأموال)
- 8) تتوافر أعداد كبيرة منها ويجري تدريبها وتأهيلها (الأيدي العاملة)
- 9) الصناعات التي مارسها الصانع العربي منذ القدم (الصناعات التقليدية)
- 10) من الدول التي اشتهرت بصناعة السجاد (تونس)
- 11) من الدول التي برزت فيها صناعة التطريز (الأردن)
- 12) اشتهرت الكويت قديماً بصناعة و نجارة (السفن الشراعية)
- 13) لعبت الصناعات القديمة دوراً في الوقت الحاضر لأهميتها في (التعريف بالتراث الحضاري العربي)
- 14) أكثر الصناعات الحديثة انتشاراً (الصناعات الغذائية)
- 15) أهم الصناعات الغذائية التي تعتمد على الحاصلات الزراعية والرعي (صناعة السكر)
- 16) تعتمد صناعة السكر على (الشوندر السكري وقصب السكر)
- 17) تصنع الزيوت النباتية من (الزيتون وبذور القطن)
- 18) تحتل المرتبة الأولى في تكرير النفط (السعودية)
- 19) تعتمد صناعة الأسمدة على (الفوسفات والنفط)
- 20) أهم دعومات التقدم الصناعي الحديث (صناعة الحديد والصلب)
- 21) من الصناعات التي بدأت حديثاً بالانتشار (صناعة الألمنيوم)
- 22) تعد من أهم الصناعات الهندسية (صناعة تجميع السيارات)

التعاليل

ثانياً : أعطي تفسيراً علمياً لكل مما يلي

(23) أهمية الصناعات النسيجية .

لأنها تعد من أقدم الصناعات ولها أهمية كبيرة من حيث عدد العاملين فيها وعدد المعامل ورؤوس الأموال المستثمرة وانتشارها في معظم الدول العربية .

(24) أهمية صناعة الاسمنت في وقتنا الحاضر .

لدورها الكبير في تطوير البناء وتنفيذ المشاريع لذلك هي في توسع مستمر .

(25) أهمية صناعة الأسمدة في الوطن العربي .

لأثرها في التنمية الزراعية .

الاسئلة

ثالثاً : اجب عن الاسئلة التالية :

(26) عدد مقومات الصناعة :

- مقومات بشرية : الأسواق - التقانة - النقل - اليد العاملة - رأس المال .
- مقومات طبيعية : المواد الأولية - القوى المحركة .

(27) عدد أهم التحديات التي تواجه الصناعة العربية .

1. ضعف الإدارة وعدم قدرتها على الارتقاء بالمنتج وتسويقه .
2. ضعف الثقة بالمنتج الوطني على الرغم من جودته .
3. منافسة البضائع الأجنبية .
4. ضعف الحماية الجمركية .
5. لجوء بعض الدول العربية إلى الأسواق الأجنبية لتأمين احتياجاتها .

(28) عدد الطرق المقترحة لتطوير الصناعات العربية :

1. تشجيع المشروعات العربية المشتركة للاستفادة من مجال تنوع الموارد المالية والتقنية والأولية .
2. استثمار فوائد السوق الواسعة .
3. دعم صناعات الإلكترونيات والمعادن .
4. الإهتمام بإقامة صناعات تصديرية رئيسية .
5. تحفيز القطاع الخاص نحو المشاركة بفعاليات في برامج التصنيع وتأكيد أهمية التخصص ولاسيما في المشروعات الصناعية .

(29) املأ الجدول بما يناسبه :

الصناعة	اهم الدول المصنعة
السجاد	تونس
التطريز	الأردن
السفن الشراعية	الكويت
السكر	مصر والسودان
الزيوت النباتية	مصر و المغرب
حفظ اللحوم والأسماك	المغرب والامارات
تكرير النفط	السعودية
صناعة الأسمدة	دول الخليج ومصر ومغرب
صناعة الحديد والصلب	مصر سعودية والجزائر
صناعة الألمنيوم	مصر و البحرين والامارات
تجميع السيارات	سورية و مصر والجزائر

(٣٠) قارن بين الصناعات التقليدية والحديثة من حيث (الصفات - الأنواع)

الصفات	الصناعات التقليدية	الصناعات الحديثة
الصفات	تعتمد على الآلات البسيطة والخامات المتوفرة محلياً والمهارات اليدوية المكتسبة	تعتمد على الآلات والتقنيات الحديثة وتشغيل عدد كبير من العمال وتتخصص كل مجموعة بجزء التصنيع
الأنواع	السجاد والتطريز	صناعة السكر والزيوت النباتية

الدرس الثاني : الصناعة في سورية إبداع وتطوير .

الأتمتة

أولاً : اختر الإجابة الصحيحة .

- 1) تتمثل بالمواد الخام وأهمها المواد الخام الزراعية (مقومات طبيعية)
- 2) يعد النفط والغاز والكهرباء من (مصادر الطاقة)
- 3) من المواد الخام المعدنية (الفوسفات والحديد)
- 4) من المدن الصناعية في ريف دمشق (عدرا)
- 5) من المدن الصناعية في حمص (حسيبا)
- 6) من المدن الصناعية حلب (الشيخ نجار)
- 7) من الصناعات اليدوية القديمة التي اشتهرت فيها سورية (صناعة الفخار والنسيج)
- 8) نشأت الصناعات الحديثة في سورية بفضل (الأموال الوطنية والحماية الجمركية)
- 9) تعتمد على الحاصلات الزراعية و الحيوانية (الصناعات الغذائية)

التعاليل

ثانياً : اعطي تفسيراً علمياً لكل من ما يلي .

(27) تعد الصناعة في سورية رافداً مهماً من روافد الناتج الوطني السوري .

إذ تعمل على رفع المستوى المعيشي للسكان وتوفير فرص عمل لأعداد كبيرة من الأيدي العاملة كما تسهم في تطوير الأنشطة الاقتصادية الأخرى كالزراعة والتجارة والنقل

(28) أهمية الصناعات النسيجية في سورية :

لأنها من الصناعات العريقة والمهمة من حيث عدد عمالها ومعاملها ورأس المال الموظف فيها .

ثالثاً : اجب عن الاسئلة التالية :

(29) عدد مقومات الصناعة في سورية :

- مقومات طبيعية : المواد الأولية و مصادر الطاقة .
- ومقومات بشرية : الايدي العاملة ورأس المال والاسواق الاستهلاكية وسياسات الدولة و النقل .

(30) عدد انواع الصناعات الحديثة في سورية :

- الصناعات الاستخراجية : مثل الغاز والنفط والفوسفات والاسفلت والملح ومواد البناء
- الصناعات التحويلية : مثل الصناعات الغذائية والصناعات النسيجية و الصناعات المعدنية و الصناعات البتروكيميائية والكيميائية و صناعة مواد البناء .

(31) كيف اسهمت سياسة الدولة في تشجيع الصناعة في سورية .

- انشأت المدن الصناعية .
- تكفلت بحماية المنتجين و المستهلكين .
- منعت الاحتكار .
- تطوير الطاقة البشرية .

الدرس الثالث : المواصلات والتجارة في الوطن العربي
نشاطان اقتصاديان متلازمان

اولاً : اختر الإجابة الصحيحة :

- (1) العملية التي تؤمن حركة الأفراد والبضائع والمعارف من مكان إلى آخر (النقل)
- (2) اهم القوافل التجارية التي عبرت الوطن العربي (طريق الحرير)
- (3) شبكة متصلة تربط أقطار الوطن العربي من ناحية والعالم الخارجي من ناحية اخرى (طرق السيارات)
- (4) الطرق المسايرة للبحر المتوسط والمحيط الاطلسي (الطرق الساحلية)
- (5) الطرق التي تربط بين المناطق الداخلية (الطرق الداخلية)
- (6) اطول شبكات الطرق وافضلها في الوطن العربي (شبكة وادي النيل)
- (7) تربط شبكة المواصلات في المغرب العربي (المدن الساحلية ببعضها)

(8) اشهر الموانئ التي خصصت لنقل البضائع (ميناء)

(بيروت)

(9) من الموانئ التي خصصت لنقل النفط (ميناء رأس)

(التنورة)

(10) من الموانئ التي اشتهرت بإصلاح السفن (المنامة)

(11) تبادل السلع والمنتجات بين المناطق المنتجة والمناطق

المستهلكة (التجارة)

(12) تحتل المرتبة الثالثة بين نشاطات الاقتصادية في الوطن

العربي (التجارة)

(13) تقوم على تبادل السلع والمنتجات بين أقطار الوطن

العربي (تجارة داخلية)

(14) تقوم على تبادل السلع والمنتجات بين اقطار الوطن

العربي ودول العالم (تجارة خارجية)

(15) تتصف التجارة الخارجية في الوطن العربي بضعفها

في مجال (المواد المصنعة)

(16) الفرق بين قيمة الصادرات وقيمة الواردات (الميزان)

(التجاري)

(17) يكون الميزان التجاري رابحاً اذا كانت (قيمة)

(الصادرات اكبر من قيمة الواردات)

(18) يكون الميزان التجاري خاسراً إذا كانت (قيمة)

(الواردات اكبر من قيمة الصادرات)

(19) يعد الميزان التجاري في معظم البلاد العربية خاسراً

ماعدا في (الدول النفطية)

ثانياً : اعطي تفسيراً علمياً .

(20) يعد الوطن العربي عقدة مواصلات برية وبحرية وجوية .

لتوسطه قارات العالم القديم .

(21) اهتمت الدول العربية بإنشاء طرق حديثة تربط بينها .

لتنشيط التبادل التجاري والاقتصادي والاجتماعي والثقافي فيما بينها .

(22) السكك الحديدية في الوطن العربي قليلة ولا تشكل شبكة واحدة متصلة .

لاتساع المساحات الصحراوية الخالية من السكان

(23) شهرت الوطن العربي بإقامة موانئ منذ القدم

لإشرافه على بحار ومحيطات مهمة .

(24) قيام عدد كبير من المكارم الحديثة في الوطن العربي.

بسبب موقعه المتوسط بين قارات العالم وصفاء سمائه .

(25) يعتمد الوطن العربي اعتماداً واضحاً على التجارة الخارجية .

بسبب الاعتماد على تجارة المواد الخام ولاسيما النفط .

التعاليل

ثانياً : اعطي تفسيراً علمياً لكل مما يلي :

(5) يعد مطار دمشق الدولي من المطارات المهمة في العالم .

نظراً لموقع القطر الاستراتيجي واستخدامه من قبل معظم شركات الطيران العالمية .

(6) تدني العجز في ميزان التجاري السوري .

نتيجة لنجاح خطط التنمية والاجراءات التي قامت بها الدول وتطوير الصناعة الاستخراجية وعائدات السياحة وأموال المغتربين وتجارة العبور

الاسئلة

ثالثاً : اجب عن الاسئلة التالية :

(7) ما دور المواصلات في سورية .

1. دورها الكبير في تسهيل انتقال الأفراد وتنشيط السياحة والتنمية .

2. ربط اجزاء الدولة ببعضها البعض من جهة وبالوطن العربي والعالم من جهة ثانية .

3. ربط مناطق الانتاج بمناطق الاستهلاك والتصدير .

(8) تحدث عن الطرق البرية في سورية :

1. الطريق الساحلية : تمتد بموازاة الساحل من خليج اسكندرون إلى الحدود اللبنانية جنوباً وذو اهمية سياحية

2. الطرق الداخلية : تمتد بموازاة الطريق الساحلية من حلب إلى درعا ومنها إلى الأردن . عقدتها حمص

3. الطريق الشرقية : تنفرع منه طريق إلى دمشق وأخرى إلى حلب إلى القامشلي ومنه إلى العراق و عقدتها دير الزور

(9) عدد أهم خطوط السكك الحديدية في سورية :

خط حمص طرابلس - خط حلب الموصل محاذياً الحدود التركية - خط حلب لاذقية - خط حلب قامشلي - خط مناجم الفوسفات حمص طرطوس .

(10) عدد أهم الموانئ في سورية :

- ميناء اللاذقية : يختص للتصدير والاستيراد .

- ميناء طرطوس : يختص بتصدير النفط والفوسفات .

- ميناء بانياس : يختص بتصدير النفط .

الاسئلة

ثالثاً : اجب عن الاسئلة التالية

(26) ما اهمية عمليات النقل في الوطن العربي

1. لأهميته في التبادل الحضاري والنهضة الاقتصادية والعمرائية .

2. توحيد اجزاء الدولة الواحدة .

3. ربط بلدان الوطن العربي ببعضها وبالعالم الخارجي

(27) عدد أهم المطارات الموجودة في الوطن العربي .

مطار القاهرة - مطار دبي - مطار جدة .

(28) عدد المشكلات التي تعاني منها التجارة الداخلية في الوطن العربي .

بسبب واقع التجزئة - تشابه المنتجات بين اقطار الوطن العربي - ومنافسة البضائع الأجنبية للبضائع العربية .

(29) قارن بين الصادرات والواردات في الوطن العربي .

الواردات	الصادرات
• مواد مصنعة	• مواد خام زراعية
• ادوات كهربائية	(قطن - صمغ)
• وسائل نقل	• مواد رعوية
• ادوية ومعدات طبية	(جلود - حيوانات)
• مواد غذائية	• وخامات
	(حديد - فوسفات - نפט)

الدرس الرابع : المواصلات والتجارة في سورية :

الأمثلة

اولاً : اختر الإجابة الصحيحة :

(1) يمتد بموازاة الساحل من خليج اسكندرون إلى الحدود اللبنانية جنوباً (الطريق الساحلي)

(2) عقدة المواصلات الداخلية في سورية (حمص)

(3) عقدة المواصلات الشرقية في سورية (دير الزور)

(4) مرور البضائع التي تصل إلى دولة ما عن طريق البر أو البحر أو الجو ليعاد شحنها إلى دولة أخرى (تجارة العبور)

12) تحدث عن المقومات الطبيعية السياحية للوطن

العربي:

- تتنوع البيئات الطبيعية في الوطن العربي وكل منها يحوي نمط مناخي ونباتي وحيواني مميز .
- البيئة المتوسطة بمناخها المعتدل والبيئة الصحراوية تتميز بغرائب طبيعية .
- يضم الوطن العربي اشكال التضاريس جميعها من جبال وسهول ومنخفضات تميزها عن جميع بقاع العالم .
- يشرف على عدد من البحار والمحيطات و يتوسط قارات العالم الثالث (اسيا - أوروبا - افريقيا)

13) تحدث عن المقومات البشرية السياحية للوطن العربي:

- تتمثل بغناه بالمناطق الأثرية وما تحويه متاحفه من أوابد و كنوز تعود إلى حضارات متنوعة .
- وجود البنية الخدمية التي تتمثل في شبكة النقل والمواصلات والخدمات الفندقية والمطاعم .
- وجود عنصر الامان وما يتمتع به الإنسان العربي من حب للأخر وكرم في الضيافة .

14) عدد أنواع السياحة في الوطن العربي :

- سياحة دينية : زيارة الأماكن المقدسة كمدينة مكة .
- سياحة علاجية : سياحة العلاج من أمراض الجسد والترويح عن النفس .
- سياحة ترفيهية : زيارة المناطق الطبيعية والبحار بغرض الاستمتاع والاصطياف والترفيه .
- سياحة علمية : تشمل دراسات لمظاهر طبيعية معينة كحركة الطيور وهجرتها العالمية .
- سياحة ثقافية : تتركز على زيارة الدول التي تتمتع بمقومات تاريخية وحضارية كثيرة .

15) عدد آثار السياحة في الوطن العربي :

- آثار ايجابية : كتنوع مصادر الدخل الوطني وزيادة القطع الأجنبي و الاهتمام بالبيئة وحمايتها والاطلاع على ثقافات الشعوب الأخرى .
- آثار سلبية : كارتفاع الاسعار وسوء استخدام الموارد الطبيعية والتلوث بأنواعه المختلفة .

11) ما دور التجارة في حياة سورية الاقتصادية ؟

- تعد التجارة إحدى الركائز الأساسية للتنمية .
- تعد رافداً مهماً للموازنة العامة للدولة .
- يخدمها توافر الموانئ والمراكز التجارية إضافة إلى نسبة العاملين فيها وخبراتهم .

12) ما تعريف تجارة العبور ؟ وما أثرها في التنمية الاقتصادية في سورية ؟

تجارة العبور (الترانزيت) : هو مرور البضائع التي تصل إلى دولة ما عن طريق البر أو البحر أو الجو ليعاد شحنها إلى دولة أخرى مع خضوعها لإجراءات جمركية مختصرة مقارنة بتلك الإجراءات الخاصة بإدخال البضائع الأجنبية إلى داخل الدولة ولها أهمية كبيرة في زيادة العائدات الاقتصادية لسورية

الدرس الخامس : السياحة نافذة العرب إلى العالم .

الأمثلة

أولاً : اختر الإجابة الصحيحة :

- انتقال مؤقت للأفراد أو الجماعات من مكان لآخر طلباً للترفيه (السياحة)
- أخفض نقطة على وجه الأرض (البحر الميت)
- زيارة الأماكن المقدسة كمدينة مكة (سياحة دينية)
- سياحة العلاج من أمراض الجسد والترويح عن النفس (سياحة علاجية)
- زيارة المناطق الطبيعية والبحار بغرض الاستمتاع والاصطياف والترفيه (سياحة ترفيهية)
- تشمل دراسات لمظاهر طبيعية معينة (سياحة علمية)
- تتركز على زيارة الدول التي تتمتع بمقومات تاريخية وحضارية كثيرة (السياحة الثقافية)
- يطلق عليها لؤلؤة السياحة في لبنان (مغارة جعينا)
- تنتشر الحمامات السخنة في (اليمن)

الاسئلة

ثالثاً : اجب عن الاسئلة التالية :

10) عدد معوقات السياحة في الوطن العربي .

ضعف البنية التحتية والخدمات الأساسية .

11) عدد مقومات السياحة في الوطن العربي :

- المقومات الطبيعية
- المقومات البشرية

الدرس السادس : السياحة صناعة المستقبل في سورية

الأتمتة

أولاً : اختر الإجابة الصحيحة في كل مما يلي :

- 1) من الحمامات الطبيعية في سورية (**الحمة في وادي يرموك**)
- 2) يقع حمام الحياة في (**درعا**)
- 3) تعد من أهم المدن الأثرية الرومانية والنبطية والإسلامية في العالم (**بصرى الشام**)

التعاليل

ثانياً : اعطي تفسيراً علمياً لكل مما يلي :

- 4) تعد السياحة من اهم موارد الدخل الوطني في سورية .
لأهميتها في رفع مستوى المعيشة من خلال الانتعاش الاقتصادي الذي تجلبه ، تعد قطاع رئيسي لجلب الاستثمارات الأجنبية المباشرة ، تشغيل نسبة كبيرة من الايدي العاملة ، يسهم في بناء البنية التحتية وتطويرها ، وتعد اداة اجتماعية بما توفره من فرص للتعارف والتألف بين الشعوب .

الاسئلة

ثالثاً : اجب عن الاسئلة التالية :

- 5) عدد مقومات السياحة في سورية :
 - مقومات طبيعية : مثل الظروف المناخية وتمايز الفصول ، السواحل المشمسة والحمامات الطبيعية ، والغابات
 - المقومات البشرية : مثل الجوانب التاريخية كالأثار ، والأماكن الدينية وتوفر البنى التحتية ، وتطور القطاعات الصناعية والتجارية كالبنوك ، وتوافر الخدمات كالبريد والمطاعم والفنادق ومراكز الترفيه والتسلية وتطور وسائل الإعلام .
- 6) عدد أهم المعالم الحضارية في سورية :
مدينة تدمر – أفاميا – الرصافة – قنوات إيبلا وماري وأوغاريت
- 7) عدد أهم القلاع التاريخية في سورية :
قلعة الحصن – قلعة المرقب – قلعة شيزر – قلعة الكهف – قلعة حلب .

8) عدد أهم الأماكن الدينية في سورية :

الجامع الأموي – مقام السيدة زينب والسيدة رقية .

9) عدد أهم المصايف الجبلية في سورية :

وادي العيون – بلودان – الزبداني – بقين – جبل الاربعين – سلمى – الدريكيش – مشتى الحلو – صلنفة – الكفرون – كسب – القدموس – صافيتا – رأس البسيط – مصياف – وادي بردى – معلولا – صيدنايا .

10) عدد أهم المتاحف في سورية :

متحف دمشق الوطني – متحف درعا – متحف قلعة بصرى – البانوراما – متحف تدمر – متحف السويداء – متحف الرقة – متحف دمشق التاريخي – متحف التقاليد الشعبية .

11) عدد المساهمات السياسية للدولة في تطوير السياحة:

1. اهتمت الدولة بالسياحة وأنشأت وزارة السياحة .
2. أقامت المنشآت السياحية والمعارض والمهرجانات .
3. اصدرت النشرات التي تُعرف بنهضة القطر وتطوره .
4. الاستفادة الأمثل من مقومات السياحة الترفيهية والثقافية والدينية والأثرية .

* يوجد ملف للخرائط لا تنسى دراسته .

* يوجد ملف للنماذج لا تنسى دراسته .

المدرس ايفان حمو – صفحة تعليمية .