

الدراسات الاجتماعية

نماذج امتحانات الأضواء النهائية

الفصل الدراسي الثاني

الفصل الدراسي الثاني

المف

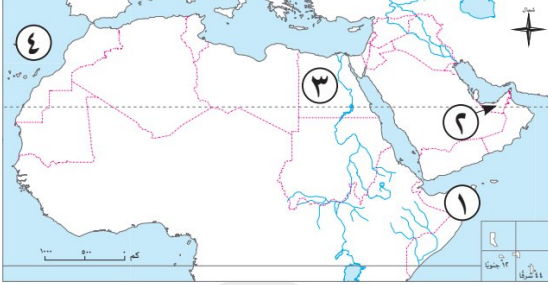
6

الابتدائي

2026

نموذج 1

السؤال الأول (١) أمامك خريطة صماء للوطن العربي، اكتب مدلول الأرقام المشار إليها:



- ١ دولة يرتفع بها معدل الوفيات.....
- ٢ دولة ترتفع بها نسبة التعليم.....
- ٣ توجد محطة جبل الزيت في دولة.....
- ٤ مسطح مائي.....

(ب) ما المقصود بكل من..؟

- ١ إعادة التدوير:
- ٢ السيرة الذاتية:

السؤال الثاني (١) اكتب كلمة (صواب) أمام العبارة الصحيحة، وكلمة (خطأ) أمام العبارة غير الصحيحة:

- ١ قامت فرنسا باحتلال فلسطين عام ١٩١٧م. (.....)
- ٢ استضافة الإمارات مؤتمر اكسبو عام ٢٠٢٠م، ركز على الاستدامة والطاقة النظيفة. (.....)
- ٣ يُعد رسول الله ﷺ أول قاضٍ في الإسلام. (.....)

(ب) بم تفسر..؟

- ١ سُميت فاطمة الفهرية بأُم البنين. (.....)
- ٢ قيام بعض الدول العربية بتصدير بعض منتجاتها كمواد خام. (.....)

السؤال الثالث (١) أكمل العبارات الآتية بما يناسبها من كلمات:

- ١ عاصمة مصر قبل الفتح الإسلامي كانت مدينة.....
- ٢ مدينة سعودية تعتمد على التكنولوجيا والذكاء الاصطناعي.....
- ٣ يعيش نحو ٣٩٪ من سكان الوطن العربي في دول الجناح.....
- ٤ عقد مؤتمر الشباب الأول بمصر عام ٢٠١٦م في مدينة.....

(ب) ما النتائج المترتبة على..؟

١ اتفاقية منطقة التجارة الحرة العربية الكبرى ١٩٩٧م.

٢ انخفاض منسوب فيضان النيل في عهد المستنصر بالله.

السؤال الرابع (١) اختر الإجابة الصحيحة مما بين القوسين:

١ من أشهر سلاطين المماليك..... (صلاح الدين - سيف الدين قطز - كافور - جوهر الصقلي)

٢ يزداد عدد الوفيات ويقل متوسط عمر الفرد في بعض الدول مثل.....

(الأردن - السعودية - السودان - الإمارات)

٣ يُعد الفارابي أحد المخترعين في الحضارة الإسلامية؛ لأنه اخترع.....

(أدوات جراحة - آلة القانون - رسم الخرائط - الأشكال الهندسية)

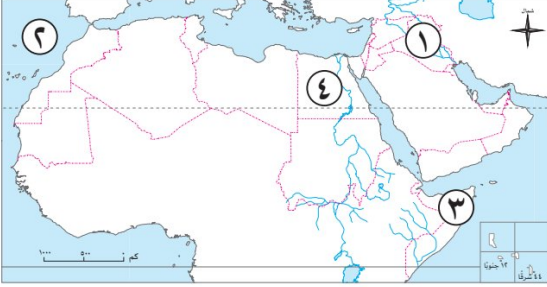
(ب) دلل على صحة العبارات الآتية:

١ برع المسلمون في علم الرياضيات.

٢ تواجه الصناعة في الوطن العربي العديد من التحديات.

نموذج 2

السؤال الأول (١) أمامك خريطة صماء للوطن العربي، اكتب مدلول الأرقام المشار إليها:



- ١ منطقة تركيز سكاني بالوطن العربي هي سهول
- ٢ مسطح مائي
- ٣ دولة تقل بها نسب التعليم
- ٤ دولة بها مجمع الحديد والصلب بجلوان

(ب) ما النتائج المترتبة على..؟

- ١ قرار مجلس الأمن عام ١٩٤٧م.

- ٢ ضعف التشريعات البيئية.

السؤال الثاني (١) صوب ما حته خط:

- ١ نجحت الحملة الصليبية الثالثة في تأسيس ثلاث إمارات صليبية.
- ٢ شرح ابن النفيس وظائف القلب والكليتين.
- ٣ يعيش نحو ٦١٪ من سكان الوطن العربي في الجناح الآسيوي.

(ب) بم تفسر..؟

- ١ سقوط الدولة الطولونية بعد وفاة أحمد بن طولون.

- ٢ الهجرة الوافدة لدول الخليج العربي.

السؤال الثالث (١) أكمل العبارات الآتية بما يناسبها من كلمات:

- ١ جعل معاوية بن أبي سفيان نظام الحكم
- ٢ أحد مشروعات الطاقة الشمسية بالسعودية
- ٣ أنشئ ديوان البريد في عصر الدولة
- ٤ تشتهر صحراء عمان بأنها

(ب) دلل على صحة العبارات الآتية :

١) اهتم المسلمون بالعلوم منذ عهد رسول الله ﷺ.

٢) يزيد عدد السكان بالسهول الفيضية في الوطن العربي.

السؤال الرابع (١) اختر الإجابة الصحيحة مما بين القوسين:

١) من المقومات الطبيعية للصناعة (المواد الخام - رأس المال - الأسواق - الأيدي العاملة)

٢) تعد القضية الفلسطينية من القضايا (الاجتماعية - السياسية - الاقتصادية - البيئية)

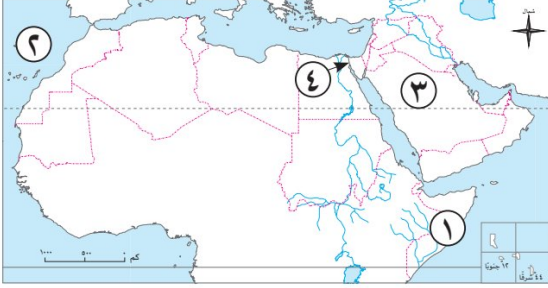
٣) توفي السلطان الصالح نجم الدين أيوب قبل معركة (عين جالوت - حطين - المنصورة - اليرموك)

(ب) **قارن بين:** الصناعات الاستخراجية والصناعات التحويلية من حيث المصطلح وذكر أمثلة لكل صناعة.

وجه المقارنة	الصناعات الاستخراجية	الصناعات التحويلية
المصطلح
الأمثلة

نموذج 3

السؤال الأول (١) أمامك خريطة صماء للوطن العربي، اكتب مدلول الأرقام المشار إليها:



- ١ دولة يرتفع بها معدل الوفيات.....
- ٢ المحيط.....
- ٣ دولة تشتهر بالصناعات البتروكيميائية.....
- ٤ ممر ملاحى عالمى.....

(ب) بم تفسر..؟

- ١ تزايد عدد السكان على سواحل الخليج العربي والبحر الأحمر.

.....

- ٢ طلب عمرو بن العاص من أمير المؤمنين فتح مصر.

.....

السؤال الثاني (١) اكتب ما تشير إليه العبارات الآتية:

- ١ شكل بياني يمثل توزيع السكان حسب العمر والنوع في فترة زمنية محددة. (.....)
- ٢ هم المسيحيون واليهود، وقد أحسن المسلمون معاملتهم، ومارسوا شعائرهم بحرية. (.....)
- ٣ مبنى منيع يُبنى على موقع يصعب الوصول إليه، ويكون مقراً للحكم. (.....)

(ب) ما النتائج المترتبة على..؟

- ١ تصدير الوطن العربي المواد الخام بدلاً من تصنيعها.

.....

- ٢ الحملة الصليبية السابعة.

.....

السؤال الثالث (١) اكتب كلمة (صواب) أمام العبارة الصحيحة، وكلمة (خطأ) أمام العبارة غير الصحيحة:

- ١ كان من مهام الوزير في الدولة الإسلامية الإشراف على النظام الإدارى للدولة. (.....)
- ٢ علم الفقه يهتم بجمع وتصنيف الأحاديث النبوية. (.....)
- ٣ الدفاع عن الوطن من واجبات الشباب. (.....)
- ٤ التنمية المستدامة مسئولية فردية لا تقوم على التعاون بين الأفراد والدولة. (.....)

(ب) دلل على صحة العبارات الآتية:

١ تساهم مصرفي الاقتصاد الأخضر.

.....

٢ تعددت أعمال صلاح الدين الأيوبي في مصر.

.....

(١) أكمل العبارات الآتية بما يناسبها من كلمات:

السؤال الرابع

١ أسست فاطمة الفهرية مسجد.....بالمغرب.

٢ تنتشر الصناعات البترولية والبتروكيميائية في منطقة.....بالوطن العربي.

٣ المغول قبائل رعوية تسكن وسط.....

(ب) أجب عما يلي:

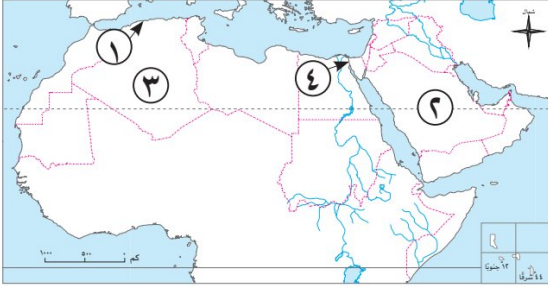
١ حدد: المقومات البشرية للصناعة في الوطن العربي.

.....

٢ ما العلاقة بين: التغيرات المناخية والاقتصاد الأخضر.

.....

السؤال الأول (١) أمامك خريطة صماء للوطن العربي، اكتب مدلول الأرقام المشار إليها:



- ١ منطقة ذات كثافة سكانية مرتفعة.....
- ٢ دولة يرتفع بها مستوى الرعاية الصحية.....
- ٣ دولة تقوم بها صناعة الغزل والنسيج.....
- ٤ ممر ملاحى عالمى.....

(ب) ما المقصود بكل من...؟

- ١ التجارة الخارجية:
- ٢ الحصن:

السؤال الثانى (١) لمن تنسب الأعمال الآتية...؟

- ١ عالم مسلم أسس علم الجبر. (.....)
- ٢ أول خلفاء الدولة الفاطمية في مصر. (.....)
- ٣ أسس مدينة القطائع واتخذها عاصمة لدولته. (.....)

(ب) بم تفسر...؟

- ١ سقوط الدولة الفاطمية.
- ٢ أهمية تكرير البترول والغاز الطبيعي في الوطن العربي.

السؤال الثالث (١) اختر الإجابة الصحيحة مما بين القوسين:

- ١ تشمل الصادرات العربية للخارج..... (الأدوية - الآلات - الغاز الطبيعي - التكنولوجيا الحديثة)
- ٢ من الدول العربية التى أصبحت مركزاً عالمياً للتجارة وإعادة التصدير..... (الإمارات - الكويت - المغرب - البحرين)
- ٣ أحد مجالات التعاون بين مصر وسنغافورة هي..... (التجارة - الطاقة - الزراعة - الصناعة)
- ٤ أحد المعابر الذى كان ملوك أوروبا يرسلون أبناءهم إليها لتلقى العلم..... (مصر - جزيرة صقيلة - بلاد الشام - الأندلس)

(ب) ما النتائج المترتبة على..؟

١ استخدام الري بالتنقيط والرش.

٢ موقعة عين جالوت.

(ا) صوب ما تحته خط:

السؤال الرابع

١ من أهداف البعد الاقتصادي تشجيع الإنتاج العالمي.

٢ يقل عدد السكان في الوطن العربي في المناطق الساحلية.

٣ قام هولوكو بقتل الخليفة العباسي الواثق.

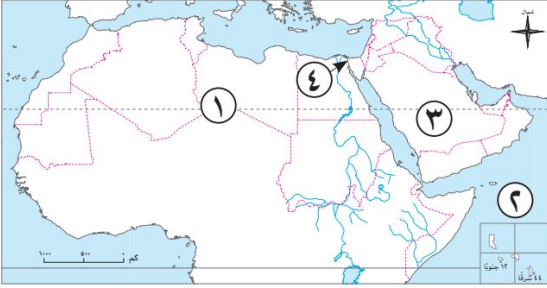
(ب) دلل على صحة العبارات الآتية:

١ وجود تحديات تواجه التنمية المستدامة في الوطن العربي.

٢ تطور الصناعة في الحضارة الإسلامية.

نموذج 5

السؤال الأول (١) أمامك خريطة صماء للوطن العربي، اكتب مدلول الأرقام المشار إليها:



- ١ منطقة نادرة السكان.....
- ٢ المحيط.....
- ٣ دولة يقل بها عدد الوفيات.....
- ٤ قناة.....

(ب) ما العلاقة بين...؟

- ١ النمو السكاني والخدمات الصحية.

.....

- ٢ الحصن والدولة.

.....

السؤال الثاني (١) اختر الإجابة الصحيحة مما بين القوسين:

- ١ من أهم صادرات الوطن العربي إلى الخارج.....
 - ٢ . أسس الحسن بن الهيثم علم.....
 - ٣ تقع مدينة الجبيل الصناعية بدولة.....
- (السيارات - المعدات - البترول - الآلات)
(البصريات - الفلك - الكيمياء - الطب)
(سوريا - المغرب - السعودية - الكويت)

(ب) ما النتائج المترتبة على..؟

- ١ تأسيس فاطمة الفهرية مؤسسات علمية.

.....

- ٢ استقلال أحمد بن طولون بحكم مصر.

.....

السؤال الثالث (١) أكمل العبارات الآتية بما يناسبها من كلمات:

- ١ أسست أول محطة للطاقة الشمسية في الوطن العربي عام ١٩١٣م في.....
- ٢ وقع صلاح الدين هدنة مع ملك.....
- ٣ تبادل السلع بين الدول العربية يسمى.....
- ٤ اتخذ محمد بن طغج الإخشيد عاصمة لدولته مدينة.....

(ب) دلل على صحة العبارات الآتية:

١ برع علماء المسلمين في مجال الطب.

.....

٢ يختلف توزيع السكان في الوطن العربي.

.....

(١) اكتب كلمة (صواب) أمام العبارة الصحيحة، وكلمة (خطأ) أمام العبارة غير الصحيحة:

السؤال الرابع

١ من أهداف التنمية المستدامة الحفاظ على حقوق الأجيال القادمة. (.....)

٢ انتهت معركة حطين ٥٨٣هـ بانتصار الصليبيين. (.....)

٣ تعد وحدة التاريخ واللغة والثقافة أحد العوامل البشرية لتحقيق التكامل الاقتصادي العربي. (.....)

(ب) حدد أوجه الشبه والاختلاف بين: مدينة نيوم والعاصمة الإدارية الجديدة.

وجه المقارنة	نيوم	العاصمة الإدارية الجديدة
الشبه
الاختلاف