

اليوم	
التاريخ	
المادة	رياضيات
الفترة	الأولى

اختبار مادة الرياضيات للصف الأول الابتدائي (الفترة الثانية) الفصل الدراسي (الثاني) للعام ١٤٤٧ هـ

اسم الطالب / ة
الصف:	أولى /
الدرجة المستحقة	٢٠

<p>السؤال الأول: اكتب عدد الآحاد والعشرات ثم اكتب العدد</p> <table border="1"> <tr> <th>عَشْرَات</th> <th>آحَاد</th> </tr> <tr> <td> <input type="checkbox"/><input type="checkbox"/><input type="checkbox"/><input type="checkbox"/><input type="checkbox"/><input type="checkbox"/><input type="checkbox"/><input type="checkbox"/><input type="checkbox"/><input type="checkbox"/><input type="checkbox"/> <input type="checkbox"/><input type="checkbox"/><input type="checkbox"/><input type="checkbox"/><input type="checkbox"/><input type="checkbox"/><input type="checkbox"/><input type="checkbox"/><input type="checkbox"/><input type="checkbox"/> <input type="checkbox"/><input type="checkbox"/><input type="checkbox"/><input type="checkbox"/><input type="checkbox"/><input type="checkbox"/><input type="checkbox"/><input type="checkbox"/><input type="checkbox"/><input type="checkbox"/> </td> <td> <input type="checkbox"/> <input type="checkbox"/> <input type="checkbox"/> </td> </tr> </table> <p>_____ آحَادٍ _____ عَشْرَاتٍ _____ أَرْبَعَةٌ وَثَلَاثُونَ</p>	عَشْرَات	آحَاد	<input type="checkbox"/> <input type="checkbox"/> <input type="checkbox"/> <input type="checkbox"/> <input type="checkbox"/> <input type="checkbox"/> <input type="checkbox"/> <input type="checkbox"/> <input type="checkbox"/> <input type="checkbox"/> <input type="checkbox"/> <input type="checkbox"/> <input type="checkbox"/> <input type="checkbox"/> <input type="checkbox"/> <input type="checkbox"/> <input type="checkbox"/> <input type="checkbox"/> <input type="checkbox"/> <input type="checkbox"/> <input type="checkbox"/> <input type="checkbox"/> <input type="checkbox"/> <input type="checkbox"/> <input type="checkbox"/> <input type="checkbox"/> <input type="checkbox"/> <input type="checkbox"/> <input type="checkbox"/> <input type="checkbox"/> <input type="checkbox"/>	<input type="checkbox"/> <input type="checkbox"/> <input type="checkbox"/>	<p>السؤال الثاني: قدر عدد المكعبات، ثم أوجد العدد الحقيقي</p> <p>التقدير: _____</p> <p>العدد الحقيقي: _____</p>
عَشْرَات	آحَاد				
<input type="checkbox"/> <input type="checkbox"/> <input type="checkbox"/> <input type="checkbox"/> <input type="checkbox"/> <input type="checkbox"/> <input type="checkbox"/> <input type="checkbox"/> <input type="checkbox"/> <input type="checkbox"/> <input type="checkbox"/> <input type="checkbox"/> <input type="checkbox"/> <input type="checkbox"/> <input type="checkbox"/> <input type="checkbox"/> <input type="checkbox"/> <input type="checkbox"/> <input type="checkbox"/> <input type="checkbox"/> <input type="checkbox"/> <input type="checkbox"/> <input type="checkbox"/> <input type="checkbox"/> <input type="checkbox"/> <input type="checkbox"/> <input type="checkbox"/> <input type="checkbox"/> <input type="checkbox"/> <input type="checkbox"/> <input type="checkbox"/>	<input type="checkbox"/> <input type="checkbox"/> <input type="checkbox"/>				

<p>السؤال الثالث: أجب عما يلي</p> <p>(أ) اكتب العدد الذي يسبق مباشرة العدد المعطى</p> <p>30, 31, 32, 33, 34, 35</p> <p>32, _____</p>	<p>(ب) اكتب العدد الذي يلي مباشرة العدد المعطى</p> <p>40, 41, 42, 43, 44, 45</p> <p>42, _____</p>
<p>(ج) اكتب العدد الذي يقع بين العددين</p> <p>90, 91, 92, 93, 94, 95, 96</p> <p>92, _____, 94</p>	

<p>السؤال الرابع: استخدم العد القفزي لحل مايلي</p> <p>٢، ٤، ٦، ٨، ١٢، ١٦</p> <p>٥، ١٠، ١٥، ٢٠، _____، _____، ٣٥</p>	<p>١٠، ٢٠، _____، ٥٠</p>
---	--------------------------

اليوم	
التاريخ	
المادة	رياضيات
الفترة	الأولى

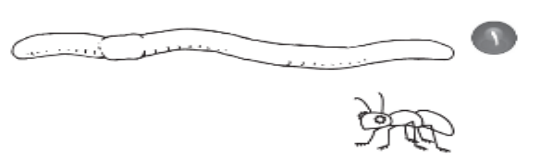

السؤال الخامس: أجب عما يلي

١- أكتب < أو > أو = في ○ :

٩٤ ○ ٧٤

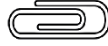
٤٨ ○ ٥١

٢- حوِّط الكلمة المناسبة (أطول من ، أقصر من) للمقارنة بين الأطوال




قَلَمُ التَّخْطِيطِ (أَطْوَلُ مِنْ ، أَقْصَرُ مِنْ) قَلَمِ الرَّصَاصِ.

النَّمْلَةُ (أَطْوَلُ مِنْ ، أَقْصَرُ مِنْ) الدُّوْدَةِ.

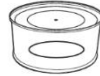
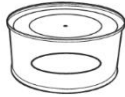


٣- أيها الأخف



٤- أيها الأثقل:

٥- حوِّط الأكثر سرعة



٦- لدى كل من عمرو و بدر ١٠ ريالات ، فكم ريالاً لديهما ؟

.....

٧- اكتب الأعداد في المسألة التالية بالترتيب

لدى ماهر ١٠ ريالات ولدى فهد ٣٥ ريالاً ولدى بدر ١٦ ريالاً

..... ، ،

اليوم	
التاريخ	
المادة	رياضيات
الفترة	الأولى


السؤال الخامس: أجب عما يلي

١- أكتب < أو > أو = في ○ :

٩٤ > ٧٤

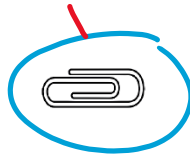
٤٨ < ٥١

٢- حوِّط الكلمة المناسبة (أطول من ، أقصر من) للمقارنة بين الأطوال




قَلَمُ التَّخْطِيطِ (أَطْوَلُ مِنْ ، أَقْصَرُ مِنْ) قَلَمِ الرَّصَاصِ.

النَّمْلَةُ (أَطْوَلُ مِنْ ، أَقْصَرُ مِنْ) الدُّوْدَةِ.

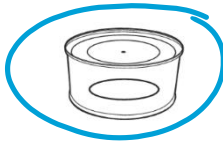


٣- أيها الأخف



٤- أيها الأثقل:

٥- حوِّط الأكثر سعة



٦- لدى كل من عمرو و بدر ١٠ ريالات ، فكم ريالاً لديهما ؟

٢٠

٧- اكتب الأعداد في المسألة التالية بالترتيب

لدى ماهر ١٠ ريالات ولدى فهد ٣٥ ريالاً ولدى بدر ١٦ ريالاً

٣٥ ، ١٦ ، ١٠