



## الدرس الأول : التخطيط العمراني

### 1 - ما المقصود بالتخطيط العمراني ؟

توجيه استخدام الأراضي وتنميتها بهدف تلبية احتياجات جميع فئات المجتمع

### 2 - عدد مراحل التخطيط العمراني .

أ - دراسة الوضع القائم      ب - تحليل ومراجعة المعلومات      ج - الحلول والتنبيه

### 3 - وضح أهمية التخطيط العمراني .

أ - إعادة توزيع السكان      ب - تنظيم النمو العمراني      ج - تنظيم عملية استخدام الأرض

### 4 - عدد العوامل المؤثرة في التخطيط العمراني .

أ - العوامل الطبيعية      ب - العوامل الديموغرافية " السكانية "      ج - العوامل الاقتصادية

### 5 - أذكر العوامل الطبيعية المؤثرة في التخطيط العمراني .

أ - الموقع الجغرافي      ب - التركيب الجيولوجي      ج - مظاهر السطح      د - المناخ      هـ - النبات الطبيعي

### 6- بم تفسر يعتبر الموقع أهم العوامل الطبيعية المؤثرة في التخطيط العمراني سواء في المدينة أو القرية بسبب :

أ - يحدد موقع السكن وبعده عن مراكز الخدمات      ب - يحدد مظهر المنطقة وخصائصها المميزة

### 7 - وضح أهمية دراسة موقع المنطقة بالنسبة للتخطيط العمراني .

أ - فهم التوزيع الجغرافي للسكان      ب - فهم النمط العمراني السائد

### 8 - قارن بين الآثار المباشرة وغير المباشرة للتركيب الجيولوجي .

الآثار المباشرة للتركيب الجيولوجي	الآثار غير المباشرة للتركيب الجيولوجي
أ - معرفة صلاحية الصخور للبناء	أ - معرفة الثروات المعدنية
ب - تحديد ارتفاعات المباني	ب - معرفة ملائمة التربة للزراعة
ج - إنشاء الطرق والسكك الحديدية	ج - تحديد المياه الجوفية الصالحة للاستخدام البشري

### 9 - بم تفسر يجب أن تكون المناطق العمرانية خالية من الانحدارات الشديدة ؟

أ - تسهيل عملية تسوية الأرض عند البناء      ب - تسهيل إنشاء المرافق

### 10 - بم تفسر تعد السهول أكثر مظاهر سطح الأرض تأثيرًا على التخطيط العمراني وأكثر المناطق جذبًا للسكان ؟

أ - استواء السطح      ب - توفر موارد المياه      ج - توفر التربة الخصبة الصالحة للزراعة

### 11 - دلل على صحة العبارة " ليست كل السهول صالحة للعمران " .

أ - وجود بعض السهول الصحراوية الصخرية      ب - يقل السكان في سهول الأمازون لوجود الغابات الاستوائية

**12 - بم تفسر توجد بعض المناطق الجبلية المزدهمة بالسكان ؟**

أ - توفر التربة الخصبة في مناطق الأودية الجبلية      ب - اعتدال المناخ فوق النطاقات الجبلية في الأقاليم الحارة

**13 - وضح أثر موارد المياه السطحية في عملية التخطيط العمراني ؟**

أ - تزويد السكان بمياه الشرب      ب - اختيار مواقع العمران بعيداً عن مناطق السيول      ج - ري الأراضي الزراعية

**14 - ما أثر عناصر المناخ على عملية التخطيط العمراني ؟**

أ - تحديد شكل المباني      ب - اختيار مواد البناء      ج - تحديد المواقع الصناعية والسكانية

**15 - بم تفسر يهتم المخططون بالخصائص السكانية للمراكز العمرانية عند وضع المخططات ؟**

أ - تؤثر على أعداد المناطق العمرانية      ب - تخطيط المساكن والخدمات

**16 - ما الخطوات الواجبة عند التخطيط العمراني لمنطقة ما ؟**

أ - دراسة معدلات النمو السكاني      ب - دراسة توزيع السكان لتحديد مناطق الضغط السكاني

**17 - بم تفسر للعوامل الاقتصادية تأثير كبير في التخطيط العمراني ؟**

أ - تحدد وظيفة المدينة      ب - تحقيق عملية التنمية البشرية

**18 - أذكر التقنيات المستخدمة في عمليات التخطيط العمراني .**

أ - الاستشعار عن بعد      ب - نظم المعلومات الجغرافية      ج - استخدام الحاسب الآلي

**19 - ما فوائد التقنيات المستخدمة في التخطيط العمراني ؟**

أ - نقل وتحليل المعلومات      ب - الإخراج النهائي للدراسات بدقة عالية      ج - التطور العمراني والحضاري

**20 - ما المقصود بالاستشعار عن بعد ؟**

هو عملية الكشف عن الخصائص الطبيعية لمنطقة ما ،

**21 - وضح أهمية الاستشعار عن بعد في التخطيط العمراني .**

أ - توفير المعلومات الدقيقة

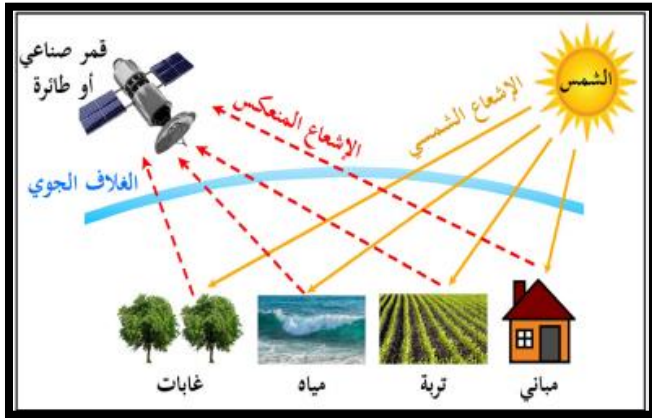
ب - وضع خطط عمرانية للمستقبل

ج - دراسة محاور النمو العمراني

د - مراقبة التغيرات الحضرية للمدن

**22 - عدد مجالات تطبيق الاستشعار عن بعد في التخطيط العمراني .**

أ - تحليل استخدام الأرض      ب - تحليل التركيب الجيولوجي      ج - دراسة تلوث البيئة والكوارث الطبيعية



## 23 - وضع أهمية صور الأقمار الصناعية في المجالات الآتية .

دراسة الكوارث الطبيعية	تحليل التركيب الجيولوجي	تحليل استخدام الأرض
<p><u>تفيد صور الأقمار الصناعية في :</u></p> <p>1 - تحديد مصادر التلوث البيئي</p> <p>2 - اختيار أنسب مواقع العمران</p> <p>3 تقدم معلومات دقيقة عن أشكال الكثبان الرملية</p>	<p><u>تتيح صور الأقمار الصناعية ما يلي</u></p> <p>1 - تقديم معلومات دقيقة للتركيب الجيولوجي</p> <p>2 - تحديد أنواع</p>	<p><u>تفيد صور الأقمار الصناعية في :</u></p> <p>1 - تحديد استخدامات الأراضي</p> <p><u>س - قارن بين استخدامات الأرض في</u></p> <p>أ - المدن</p> <p>مساحات مبنية - صناعية - تجارية -</p> <p>مطارات - متنزهات - طرق (</p> <p>ب - الريف</p> <p>مناطق مزرعة - مساحات بور -</p> <p>أنواع المحاصيل</p>



## 24 - ما المقصود بنظم المعلومات الجغرافية ؟

نظام قائم على الحاسوب مصمم لجمع البيانات الجغرافية وتخزينها

## 25 - عدد استخدامات نظم المعلومات الجغرافية في التخطيط العمراني .

- أ - تقييم استخدام الأرض
- ب - تقييم الخدمات الصحية
- ج - تقييم الطرق والمرور
- د - تحديد اتجاهات النمو العمراني

\* ظهر مفهوم التنمية المستدامة في أوائل الثمانينيات وركز على القضايا والمشكلات البيئية العالمية المعاصرة

\* التنمية المستدامة : هي تلبية احتياجات الحاضر دون المساس بقدرة الأجيال القادمة على تلبية احتياجاتهم الخاصة

## 26 - ما أهم المشكلات الناتجة عن النمو الحضري ؟

- أ - ارتفاع إيجار السكن
- ب - قلة المناطق الخضراء
- ج - مشكلات العمالة والنقل

## 27 - عدد أهداف التخطيط العمراني المستدام .

- أ - وضع خطط التنمية لضمان مجتمعات قابلة للعيش
- ب - حماية البيئة والحفاظ على الموارد الطبيعية

## 28 - ما المقصود بالمدن الذكية المستدامة ؟

مدن تستخدم تكنولوجيا المعلومات والاتصالات لتحسين نوعية الحياة وكفاءة العمليات والخدمات الحضرية والقدرة على المنافسة ( مدينة مشيرب - 2014 )

## 29 - عدد شروط التخطيط العمراني المستدام .

- أ - الاعتماد على مصادر الطاقة البديلة
- ب - إنشاء مساحات خضراء مفتوحة
- ج - تنويع خيارات النقل

## الدرس الثاني : النمو الحضري

1 - ينقسم سكان العالم حسب نمط المعيشة إلى بدو وحضر

2 - المدينة عبارة عن حيز جغرافي يتميز بتركز مكاني له نشاطاته غير الزراعية " صناعية - تجارية - خدمية "

3 - وضح أسس التمييز بين الريف والمدينة .

أ - السكاني      ب - الاقتصادي      ج - الإداري      د - التاريخي      هـ - الشكلي

أ - الأساس السكاني يعتمد على العدد الإجمالي للسكان والكثافة السكانية

مثال : تحدد السويد عدد سكان المدن 200 نسمة و كندا وتشيلي 1000 و الهند 5000 و اليابان 30 ألف

ب - الأساس الاقتصادي وهو نسبة سكان المدينة الذين يمارسون التجارة والصناعة

مثال : روسيا 85% - إيطاليا 50% - الهند 75%

ج - الأساس الإداري : يعتمد على إعلان حكومي بتحديد المناطق العمرانية سواء مدن أو ريف وقد اعتمدته دولة قطر

د - الأساس التاريخي : يرتبط بنشأة المدينة ودورها في التاريخ

مثال الزبارة في قطر - البتراء في الأردن - مدائن صالح في السعودية

هـ - الأساس الشكلي : يعتمد على الشكل الخارجي والتنظيم المكاني

4 - بم تفسر لا يمكن الاعتماد على الأساس التاريخي للتمييز بين الريف والمدينة ؟

أ - كثير من المدن أصبحت أطلال      ب - تحولها إلى محلات عمرانية

5 - بم تتميز المدينة عن القرية ؟

أ - يوجد في المدينة قلب تجاري      ب - مباني المدينة أكثر ارتفاعاً      ج - شوارع المدينة أكثر اتساعاً

6 - النمو الحضري هو التغير في أعداد السكان الذين يعيشون في المدن خلال فترة زمنية معينة

7 - ما عوامل نمو السكان في المدن ؟

أ - الزيادة الطبيعية للسكان      ب - الهجرة الداخلية والخارجية

\* ارتفعت نسبة سكان الحضر من إجمالي سكان العالم من 13.3% عام 1900 م إلى 56.2% عام 2020

8 - عدد عوامل النمو الحضري في العصر الحديث .

أ - الثورة الزراعي      ب - الثورة الصناعية      ج - الثورة التكنولوجية      د - الزيادة الطبيعية وغير الطبيعية

9 - ما نتائج استخدام الآلات الزراعية على النمو الحضري ؟ " بدأت الثورة الزراعية في غرب أوروبا "

أ - تقليل حجم العمالة بالريف      ب - زيادة أعداد المهاجرين إلى المدن      ج - زيادة أعداد سكان المدن

10 - ساهمت الثورة الصناعية بدور كبير في زيادة أعداد سكان المدن ، وضح ذلك .

أ - استخدام الآلات في الصناعة      ب - توطن المصانع في المدن

**11 - ما النتائج المترتبة على توطن المصانع في المدن ؟**

أ - زيادة أعداد المهاجرين من الريف للمدن ب - تقدم وسائل النقل والمواصلات

**12 - ما أثر الثورة التكنولوجية على النمو الحضري ؟**

1 - زيادة قدرة المدن على جذب السكان ب - استخدام الوسائل التكنولوجية في مختلف الميادين

**13 - التحضر هو** نمو أعداد المدن إضافة إلى الطابع العمراني للمدينة ، مما يؤدي إلى انتقال سكان الريف للمدن

**14 - درجة التحضر تعنى** نسبة سكان المدن إلى المجموع الكلي للسكان **درجة التحضر في قطر 99.23%**

**15 - المقصود باستخدامات الأرض هو** التوزيع المكاني لوظائف المدينة

**16 - صنف استخدامات الأرض في المدن .**

أ - سكني ب - وسائل النقل ج - تجاري د - صناعي هـ - استخدامات عامة و - أراضي خالية

\* يشغل **الاستخدام السكني** أكبر نسبة من الأرض في أي مدينة بالعالم ويصل إلى **40%** من استخدام الأرض في أمريكا

\* تحتل المساحة المخصصة **للتنقل** المركز الثاني في الدول المتقدمة وتصل إلى **33%** من استخدام الأرض في أمريكا

\* تشغل **الاستخدامات العامة** للمدن حوالي **15%** من مساحة المدن

\* تمثل **الأراضي الخالية** احتياطي النمو للمدينة في المستقبل

\* يستحوذ **الاستخدام التجاري** للأرض على أفضل المواقع في المدينة .

**17 - بم تفسر توجد الأراضي الخالية عند نهايات الكتلة العمرانية للمدن ومتناثرة بين أجزاء الكتل السكنية ؟**

أ - وجود مناطق شديدة الانحدار ب - وجود أراضي غير مستوية

**18 - قارن بين الاستخدامات الصناعية والتجارية للأرض .**

الاستخدامات التجارية للأرض	الاستخدامات الصناعية للأرض
- تشمل 5% من مساحة المدن - المتاجر - مراكز التسوق - البنوك	- تبلغ 6% من مساحة الأرض - صناعات ثقيلة - صناعات خفيفة - مخازن

**19 - بم تفسر تحتل المساحة المخصصة للتنقل المركز الثاني في الدول المتقدمة ؟**

أ - زيادة أعداد السكان ب - ارتفاع الدخل ج - زيادة استخدام وسائل النقل

**20 - أذكر أهم الاستخدامات العامة في المدن .**

أ - مناطق الترفيه والاستجمام ب - المؤسسات الحكومية والخدمية ج - أراضي مخصصة لأغراض دينية

## الدرس الثالث : المشكلات الحضرية

### 1 - عدد المشكلات الناتجة عن النمو الحضري .

- أ - ارتفاع أسعار السكن      ب - الفقر والبطالة      ج - التنوع العرقي      د - الازدحام المروري  
هـ - العشوائيات السكنية      و - التلوث والتدهور البيئي      ز - المياه والصرف الصحي

### 2 - بم نفسر تعتبر مشكلة ارتفاع أسعار السكن من أهم مشكلات المدن الكبرى ؟

- أ - الزيادة السكانية الكبيرة      ب - زيادة الطلب على الوحدات السكنية      ج - ارتفاع تكاليف البناء

### 3 - ما النتائج المترتبة على ارتفاع أسعار السكن ؟

- أ - انتشار الإسكان العشوائي      ب - زيادة المشكلات البيئية      ج - انخفاض المستوى الصحي

### 4 - ما الإجراءات التي اتخذتها بعض الدول لحل مشكلة ارتفاع أسعار السكن ؟

- أ - إنشاء المدن الجديدة      ب - منح القروض الميسرة للمواطنين      ج - استبدال المنازل القديمة بمنازل حديثة

### 5 - تنشأ مشكلة العشوائيات في      أ - في اطراف المدن الكبرى      ب - في فراغات المدينة

### 6 - بم تفسر ظهور مشكلة العشوائيات السكنية ؟

- أ - زيادة معدلات النمو السكاني      ب - نقص أعداد الوحدات السكنية

### 7 - بم تفسر يتعرض سكان المناطق العشوائية للكثير من الأمراض والأوبئة ؟

- أ - بسبب التزاحم والتلوث      ب - ضيق المساكن      ج - قلة الخدمات الصحية      د - افتقار شروط النظافة

### 8 - وضح جهود بعض الدول لحل مشكلة العشوائيات السكنية ؟

- أ - تحسين أوضاع المناطق العشوائية      ب - إيجاد تجمعات سكنية بديلة      ج - إحاطة المدن بأحزمة خضراء

### 9 - ما النتائج المترتبة على تزايد الطلب على العمل وقلة المعروض منه ؟

- أ - ارتفاع معدلات البطالة      ب - انخفاض مستوى الأجور      ج - زيادة معدلات الفقر

\* تقل معدلات البطالة في مدن الدول المتقدمة إلى ( أقل من 3 % ) بينما ترتفع إلى 30% في بعض الدول النامية

### 10 - ما النتائج المترتبة على انتشار الفقر والبطالة ؟

- أ - انخفاض مستوى المعيشة      ب - هجرة الكفاءات والعقول      ج - ارتفاع معدل الجريمة      د - انتشار الأمراض النفسية

### 11 - ما الحلول التي اتخذتها بعض الدول لمواجهة مشكلة الفقر والبطالة ؟

- أ - توفير احتياجات الفقراء الأساسية      ب - تعليم مهارات سوق العمل      ج - توفير فرص العمل

**12 - عدد مظاهر التلوث .**

- أ - تلوث الهواء والماء  
ب - التلوث الضوضائي  
ج - التلوث البصري  
د - زيادة أعداد وسائل النقل

**13 - ما أسباب تلوث الهواء في المدن الكبرى ؟**

\* يتشابه تلوث الهواء والتلوث الضوضائي في التسبب في حدوث أمراض القلب

**14 - عدد أسباب التلوث الضوضائي .**

- أ - زيادة حركة المرور  
ب - استخدام آلات التنبيه  
ج - السكك الحديدية  
د - الحفلات والأسواق

**15 - ما النتائج المترتبة على التلوث الضوضائي ؟**

- أ - إصابة الجهاز السمعي  
ب - الإصابة بأمراض القلب  
ج - اضطرابات النوم  
د - ضعف الإدراك للأطفال

**16 - عدد أسباب التلوث البصري .**

- أ - بناء المناطق العشوائية  
ب - تراكم النفايات الصلبة  
ج - أعمال الحفر  
د - المباني القديمة

**17 - ما الإجراءات والحلول التي اتخذتها بعض الدول لحل مشاكل التلوث ؟**

- أ - حل مشكلة الازدحام المروري  
ب - استخدام وسائل طاقة متجددة  
ج - زيادة المساحات الخضراء

**18 - بم تفسر تواجه بعض المدن أزمة في إدارة مرافق الصرف الصحي ؟**

- أ - عجز أنظمة الصرف عن تلبية احتياجات السكان  
ب - عجز محطات معالجة الصرف عن التنقية

ج - تصريفها في الأنهار والبحيرات والبحار

**19 - وضح كيف تواجه الدول مشاكل المياه والصرف الصحي .**

- أ - تطوير شبكات المياه  
ب - ترشيد استهلاك المياه  
ج - التوسع في إنشاء محطات معالجة الصرف

**20 - عدد أهم مشكلات المرور .**

- أ - ازدحام الطرق وتكدس السيارات  
ب - الحوادث المرورية  
ج - التلوث الناتج عن حركة المرور

**21 - ما النتائج المترتبة على الازدحام المروري في المدن ؟**

- أ - زيادة استهلاك الوقود  
ب - ارتفاع نسبة تلوث الهواء  
ج - ارتفاع تكاليف النقل  
د - التأثير على الصحة النفسية

**22 - ما الإجراءات التي اتخذتها بعض الدول لمواجهة مشكلة الازدحام المروري ؟**

- أ - بناء الأنفاق والجس  
ب - تحسين شبكات الطرق  
ج - إنشاء مواقف متعددة

**23 - ما المشكلات الناتجة عن التنوع العرقي في المدن ؟**

- أ - التمييز  
ب - عدم المساواة الاجتماعية

**24 - ما النتائج المترتبة على التمييز وعدم المساواة لمشكلة التنوع العرقي؟**

أ - زيادة اعداد الفقراء      ب - تزايد الصراعات ومشاعر الغضب لدى الأقليات

**25 - ما الحلول والمقترحات لمواجهة مشكلة التنوع العرقي؟**

أ - احترام الهوية الثقافية      ب ضمان الحد الأدنى للأجور      ج - دعم برامج التعليم لأبناء الأقليات

\* تستحوذ مدينة الدوحة على نحو 40% من السكان تليها الريان 25% ثم الوكرة 12%

**1 - عدد أهداف رؤية قطر الوطنية 2030 م .**

أ - تصبح قطر دولة متقدمة قادرة على تحقيق التنمية المستدامة      ب - تأمين العيش الكريم للقطريين

**2 - عدد الركائز الأساسية للتنمية المستدامة في دولة قطر 2030 م .**

أ - التنمية البيئية      ب - التنمية الاقتصادية      ج - التنمية الاجتماعية      د - التنمية البشرية

**3 - ما أسباب ارتفاع أسعار السكن في دولة قطر؟**

أ - زيادة الخدمات في مراكز المدن      ب - التكلفة الباهظة لشبكات الطرق والبنية التحتية

**5 - وضح جهود دولة قطر لحل مشكلة ارتفاع أسعار السكن؟**

أ - توفير أراضي للاستخدام السكني      ب - تحديد مواصفات السكن للمقيمين      ج - تخصيص مساكن مجانية للقطريين

**6 - ما أسباب ظهور مشكلة الازدحام المروري في دولة قطر؟**

أ - عدم استخدام وسائل النقل العام      ب - تركز الخدمات في مركز المدينة      ج - ارتفاع معدل امتلاك السيارات الخاصة

**7 - ما الجهود التي تبذلها دولة قطر لحل أزمة الازدحام المروري؟**

أ - توزيع أماكن الخدمات      ب - توفير شبكة طرق متطورة      ج - مراقبة الطرق      د - توفير وسائل نقل جماعي

**8 - وضح جهود دولة قطر لمواجهة تلوث البيئة .**

أ - الانضمام إلى الاتفاقيات الدولية      ب - إنشاء المحميات الطبيعية      ج - زراعة أحزمة خضراء      د - نشر الوعي البيئي

**9 - وضح جهود دولة قطر لمواجهة مشكلة المياه العذبة .**

أ - إقامة مشروعات الخزانات الكبرى      ب - ري المساحات الخضراء بمياه الصرف الصحي

ج - نشر الوعي بتوفير استهلاك موارد المياه العذبة

## الدرس الرابع : المقومات الطبيعية للدولة

\* تنقسم قارات العالم إلى أكثر من **195 دولة** مختلفة في المساحة والشكل .

### 1 – ما المقصود بالدولة؟

وحدة سياسية تشغل مساحة جغرافية ذات حدود محددة منظمة ، تضم سكاناً دائمين ، وتحكمها حكومة تمارس سيادتها على شؤونها الداخلية والخارجية .

### 2 – عدد أركان الدولة .

التعريف		أركان الدولة
مساحة اليابس التي يستقر عليها الشعب ، ويمارسون عليها أنشطتهم الاقتصادية		الإقليم
السكان الذين يعيشون على أرض الدولة ، وتجمعهم خصائص تميزهم عن الشعوب الأخرى		الشعب
هي المسؤولة عن تشريع وتطبيق القوانين وإدارة وتنظيم شؤون الدولة وحفظ الأمن بها		السلطة
تعني السلطة القانونية العليا ، ولها جانبان		السيادة
السيادة الخارجية	السيادة الداخلية	
أن تكون الدولة مستقلة ولا تتأثر بإرادة سلطة خارجية	السلطة العليا للدولة على جميع أراضيها وسكانها	

### 3 - تستمد الدولة قوتها من خلال مجموعة من المقومات الطبيعية . وضح ذلك / عدد المقومات الطبيعية للدولة .

أ – الموقع      ب – المساحة      ج – الشكل      د – التضاريس      هـ – المناخ      و – النبات الطبيعي

### 4 – بم تفسر يعد الموقع من أهم المقومات الطبيعية للدولة ؟

أ – يؤثر على المقومات الطبيعية الأخرى      ب – يؤثر على علاقات الدولة

### 5 – المقصود بالموقع الفلكي يعني الموقع بالنسبة لخطوط الطول ودوائر العرض

### 6 – بم تفسر يؤثر الموقع بالنسبة لدوائر العرض في قوة الدولة ؟

أ – يؤثر في مناخ الدولة      ب – يحدد النبات الطبيعي      ج – يؤثر في الأنشطة البشرية

### 7 – الموقع الجغرافي للدولة يعني الموقع بالنسبة لليابس والمساحات المائية والدول والأخرى

### 8 – بم تفسر يعد الموقع الجغرافي عنصر مهم من عناصر قوة الدولة ؟

أ – يؤثر على مناخ الدولة      ب – يحدد مصالحها وحالتها الاقتصادية والسياسية

### 9- عدد الدول من حيث موقعها بالنسبة للمساحات المائية .

أ – دول بحرية      ب – دول برية داخلية حبيسة

**10 - المقصود بالدول البحرية** هي الدول التي تقع على مسطحات مائية مفتوحة تصلها بالعالم الخارجي .

**11 - تختلف الدول من حيث طول وعدد الجهات البحرية التي تطل عليها ، وضح ذلك**

أ - دول تطل على مسطح واحد : مثل تشيلي والبرازيل بجهات بحرية طويلة / السودان وألمانيا بجهات بحرية قصيرة

ب - دول تطل على مسطحين مائتين : السعودية - المغرب - فرنسا

ج - دول شبه جزرية : الهند - إيطاليا

د - الجزر : بريطانيا - اليابان - أيسلندا

**12 - وضح أهمية الموقع الساحلي للدولة .**

أ - سهولة الاتصال مع العالم الخارجي ب - زيادة النشاط التجاري والسياحي ج - زيادة الثروات البحرية

**13 - ما المقصود بالدول الحبيسة ؟**

هي الدول التي لا ساحل لها على المحيطات والبحار الخارجية ، وتتصل بالعالم الخارجي بحرًا عن طريق المرور في أراضي دول الجوار .

**14 - أذكر أمثلة للدول الحبيسة في العالم .**

أ - النمسا وسويسرا في أوروبا ب - كازاخستان وأفغانستان في آسيا

ج - النيجر ومالي في إفريقيا د - بوليفيا وباراجواي في أمريكا الجنوبية

**15 - أذكر المشكلات التي تعاني منها الدول الحبيسة .**

الاقتصادية	1 - تحكم الدول الساحلية في تجارتها	2 - ارتفاع تكاليف النقل
السياسية	1 - تدخل الدول المجاورة المتصلة بالبحر في شؤونها	
الحضارية	1 - العزلة الحضارية والثقافية نظرًا لصعوبة الاتصال مع دول العالم	

**16 - الموقع بالنسبة للدول المجاورة** يعني علاقة الدولة بالدول التي تشترك معها في الحدود البرية

**17 - وضح تأثير موقع الدولة بالنسبة للدول المجاورة على قوة الدولة .**

أ - يوجد دول يجاورها عدد قليل من الدول ( البرتغال يجاورها إسبانيا - كندا تجاورها الولايات المتحدة )

ب - يوجد دول يجاورها عدد كبير من الدول ( الصين 14 دولة - البرازيل 10 دول - السودان 7 دول )

ج - الدول المتجاورة المتعادلة في القوة تقلل الانفاق في التسليح

د - الحدود البعيدة بين الدول تقلل النزاعات والحروب مثل الدول الجزرية ( المملكة المتحدة )

**18 - ما النتائج المترتبة على مجاورة عدد كبير من الدول لبعضها ؟**

أ - تحقيق التعاون ب - زيادة القوة " غرب أوروبا " ج - أحيانًا وجود مشكلات " السودان "

**19 - الموقع الإستراتيجي** الذي يضيف للمنطقة التي تسيطر عليه ميزة عسكرية وسياسية واقتصادية وقت السلم والحرب

## 20 - أذكر مناطق المضائق البحرية التي تقع على الطرق التجارية المهمة .

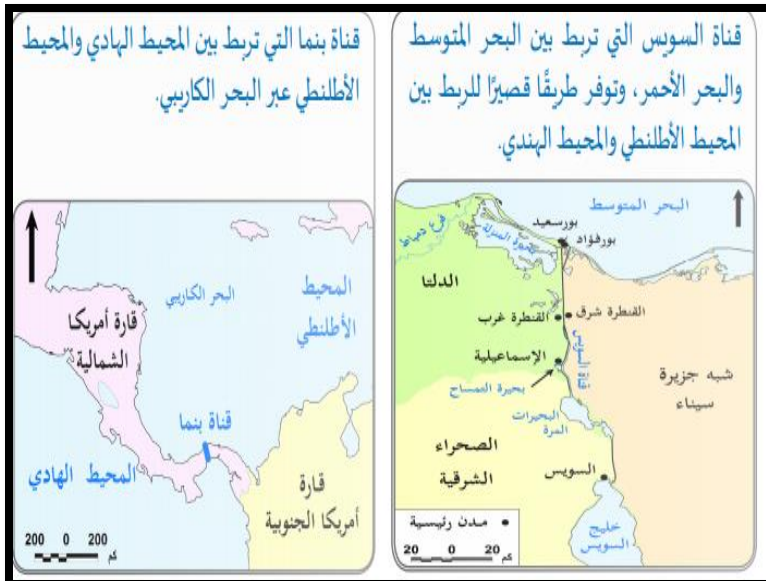


## 21 - أذكر أهم القنوات المائية في العالم .

- أ - قناة السويس " تصل البحر الأحمر بالمتوسط "
- ب - قناة بنما " تصل المحيط الهادي بالأطلنطي عبر البحر الكاريبي "

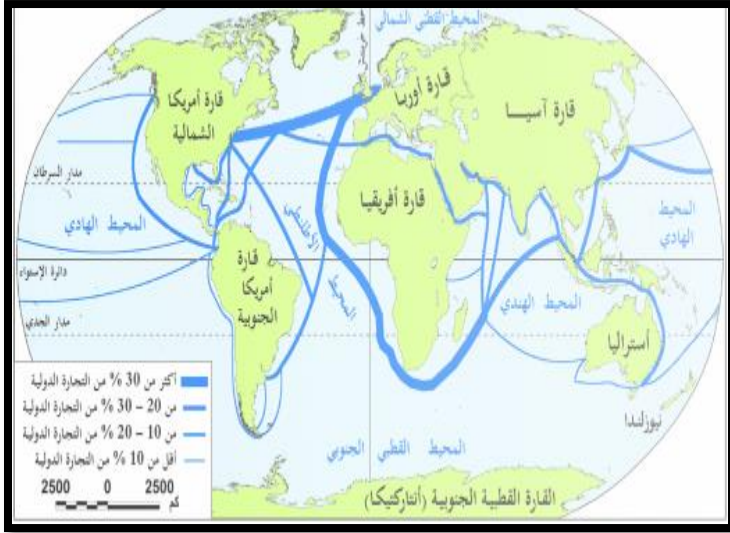
## 22- قارن بين الموقع المركزي والموقع الهامشي

الموقع الهامشي	الموقع المركزي
يوجد على الأطراف بعيداً عن الأقاليم الصناعية وطرق التجارة الدولية	هو الموقع المتوسط جغرافيا أهميته
	1 - سهولة الاتصال
	2 - قيام علاقات تجارية



\* تتغير قيمة الموقع بمرور الزمن مثل موقع المحيط الأطلنطي الشمالي

### 23 - اكتسب المحيط الأطلنطي الشمالي أهمية كبيرة في العصور الحديثة ؟



أ - موقعه المتوسط بين إقليمين صناعيين هما دول غرب أوروبا وشرق أمريكا الشمالية

ب - الكثافة المرورية الضخمة للسفن والطيران

وهذا عكس الموقع الهامشي مثل استراليا ونيوزيلندا

### 24 - وضح أثر المساحة على قوة الدولة .

الآثار الإيجابية للمساحة الصغيرة للدولة	الآثار الإيجابية للمساحة الكبيرة للدولة
1 - سهولة الإدارة وفرض السيطرة على أجزاء الدولة 2 - تنمية جميع الموارد وارتفاع المستوى الاقتصادي 3 - التجانس والترابط البشري	1 - تنوع الموارد الطبيعية ومصادر الطاقة والمعادن 2 - ضم أعداد كبيرة من السكان وبالتالي يصعب احتلالها 3 - تحقيق الأمن والدفاع

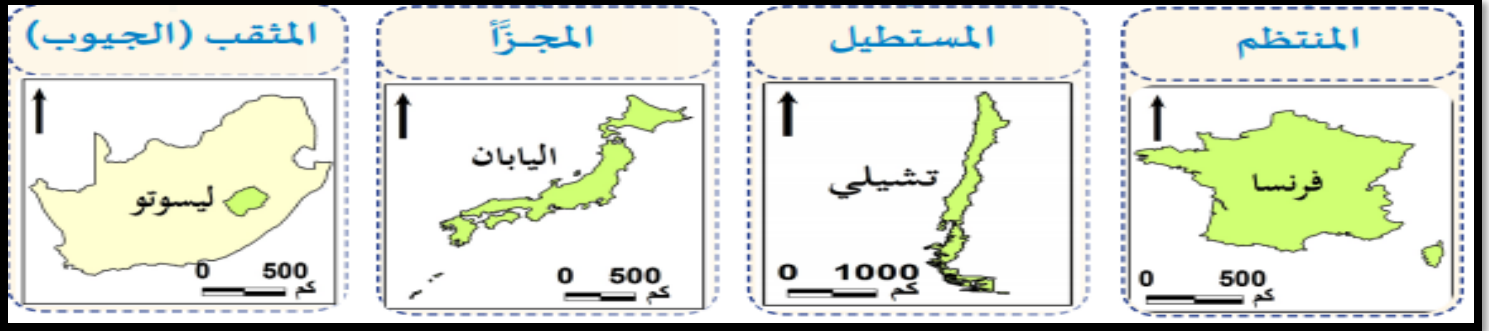
الآثار السلبية للمساحة الصغيرة للدولة	الآثار السلبية للمساحة الكبيرة للدولة
1 - سهولة الاختراق والاحتلال 2 - فقد السيادة لحساب الدول الكبرى	1 - كثرة الإنفاق على الأمن والطرق 2 - تمثل عائق أمام الأمن الداخلي

### 25 - ما العوامل المؤثرة على فعالية المساحة في قوة الدولة ؟

- أ - تناسب أعداد السكان مع المساحة  
ب - توزيع السكان متناسب  
ج - التجانس البشري للسكان  
د - المستوى الحضاري للسكان

### 26 - وضح كيف يؤثر شكل الدولة على قوتها السياسية والاقتصادية ؟

- أ - الاستراتيجية العسكرية والإدارة الداخلية  
ب - درجة ترابط الأجزاء الداخلية  
ج - استغلال الموارد الطبيعية  
د - درجة ترابط السكان



هي الدول التي تضم بين أراضيها دولة أو أكثر وتحتويها تمامًا

مثال ( إيطاليا التي تضم دولاً قزمية مثل سان مارينو - الفاتيكان )

وكذلك جنوب إفريقيا التي تضم دولة ليسوتو )

تكون دول الجيوب الداخلية تابعة كلية للدولة المحيطة بها من الناحية السياسية والاقتصادية ولذلك تسعى للحفاظ على علاقات ودية معها

هو الشكل الذي تكون فيه الدولة مكونة من جزأين أو أكثر

### عيوب الدول المجزأة

- 1 - صعوبة إدارة الدولة
- 2 - قلة احتكاك السكان

### أنواع الدول المجزأة

#### 1 - بحرية مجزأة

تتمثل في الدول الجزرية والتي تأخذ شكل الأرخيل مثل ( اليابان - الفلبين - إندونيسيا )

#### 2 - برية مجزأة

تضم جزءًا قاريًا وتفصل بينهما دولة أخرى مثل ألاسكا الأمريكية وتفصل بينهما كندا

#### 3 - برية بحرية مجزأة

تضم جزءًا قاريًا وجزءًا بحريًا مثل إيطاليا التي تضم جزيرتي سردينيا وصقلية

يطلق على الدولة التي يتعدى طولها ستة أضعاف عرضها مثال ( تشيلي - السويد - النرويج - إيطاليا )

### مزايا الشكل المستطيل

- 1 - يساهم في التنوع المناخي
- 2 - تنوع الموارد الطبيعية
- 3 - زيادة الإنتاج الزراعي

### عيوب الشكل المستطيل

- 1 - صعوبة الدفاع عن أطراف الدولة
- 2 - صعوبة تأمين الحدود البرية
- 3 - صعوبة إدارة الدولة
- 4 - عزلة بعض المدن وعدم تجانس السكان

أقرب الأشكال للدائرة مثال ( فرنسا - بلجيكا - بولندا - كينيا )

### مزايا الشكل المنتظم

- 1 - فرض السيطرة والسيادة على كل مساحة الدولة
- 2 - سهولة إدارة الدولة وإنشاء شبكة نقل ومواصلات جيدة
- 3 - سهولة الدفاع عن الدولة وتأمينها
- 4 - دعم ترابط وتجانس السكان

**28- من خلال الخريطة التضاريسية للعالم يتضح لنا أن هناك اختلافًا كبيرًا بين مظاهر السطح من دولة لأخرى :**

أ - دول أراضيها سهلية : هولندا - الدانمارك - ألمانيا

ب - دول جبلية : سويسرا - اليابان

ج - دول متنوعة التضاريس : الولايات المتحدة الأمريكية - روسيا - الصين - فرنسا

**29 - تعد المظاهر التضاريسية من العوامل المؤثرة في قوة الدولة ، وضح ذلك .**

أ - تؤثر في توزيع السكان

ب - تؤثر في طبيعة النشاط البشري

ج - تتحكم في نظام التصريف المائي

د - تؤثر في استثمار موارد الدولة المائية والمعدنية

**30 - وضح الآثار الإيجابية للسهول على قوة الدولة .**

أ - تضم أجود أنواع التربة

ب - مد شبكات النقل

ج - تحتوي على مصادر الطاقة

د - سهولة إدارة الدولة

\* بالرغم من مميزات السهول إلا أن وجودها يصعب على الدولة مواجهة الغزو لأنها مناطق مفتوحة يسهل عبورها .

**31 - عدد أشهر السهول في العالم .**

( السهل الأوروبي العظيم - سهل مري ودارلنج شرق استراليا - سهل لابلاتا في الأرجنتين - المسيسيبي في أمريكا )

**32 - بم تفسر تعد الأنهار أحد العوامل المؤثرة في قوة الدولة ؟**

أ - مصدر للري والشرب والصناعة

ب - وسيلة رخيصة لنقل البضائع

ج - من مصادر الطاقة المتجددة

**32 - ما الآثار التي قد تترتب على كثرة عدد الدول المشتركة في نهر واحد ؟**

أ - حدوث المشكلات السياسية

ب - مشكلات حدودية بين الدول بسبب تغير مجاريها

**33 - قارن بين الآثار الإيجابية والآثار السلبية للمناطق الجبلية .**

الآثار السلبية للمناطق الجبلية	الآثار الإيجابية للمناطق الجبلية
1 - قلة الإنتاج الزراعي للدولة	1 - موانع طبيعية يصعب على الجيوش عبورها
2 - صعوبة الاتصال بين أجزاء الدولة	2 - تشكل حدودًا طبيعية بين الدول
3 - صعوبة إدارة أقاليم الدولة	3 - يوجد بها ثروات المعدنية
4 - لجوء الجماعات الانفصالية إليها	4 - مصدرًا للدخل القومي بسبب السياحة الجبلية
	" جبل الشيخ في لبنان - جبال الألب في أوروبا "

**34 - ما الأقاليم المناخية بالولايات المتحدة الأمريكية ؟**

أ - المناخ الصحراوي الحار

ب - مناخ البحر المتوسط

ج - مناخ الصحاري المعتدل

**35 - وضح أثر المناخ على قوة الدولة .**

أ - المناخ المتنوع يساعد على تنوع الزراعة

ب - المناخ المعتدل يساعد على الاستقرار البشري

ج - المناخ شديدة البرودة يؤدي إلى تجمد التربة

د - المناخ الحار الرطب يؤدي إلى قلة القدرة على العمل

**36 - ما أهمية الصحارى في الوقت الحالى ؟**

أ - استخراج المعادن " الذهب في صحراء استراليا "

\* تعد الغابات درعًا واقياً للشعوب من هجمات الأعداء

\* تنتشر الغابات في روسيا وكندا والبرازيل والدول الاسكندنافية

**37 - يعد النبات الطبيعي مصدر قوة للدولة . وضح ذلك .**

أ - مصدر للموارد الطبيعية      ب - توفر فرص عمل للسكان في الرعي      ج - مصدر غذائي قليل التكلفة للحيوانات

\* يدخل النبات الطبيعي في صناعة الأدوية ومستحضرات التجميل

\* يدخل المطاط في صناعة الإطارات

\* تدخل الأخشاب في صناعة الأثاث وبناء السفن والورق والوقود والفحم النباتي

---

الدرس الخامس – المقومات البشرية والاقتصادية للدولة

1 – عدد المقومات البشرية للدولة .

أ – السكان "العنصر الحاسم" ب – التنظيم السياسي ج – القوة العسكرية

2 – قارن بين إيجابيات وسلبيات الحجم السكاني الكبير .

سلبيات الحجم السكاني الكبير	إيجابيات الحجم السكاني الكبير
1 – صعوبة توفير الخدمات	1 – زيادة القوة البشرية العاملة
2 – صعوبة توفير الغذاء للسكان	2 – زيادة العلماء والمبدعين
3 – ضعف الترابط بين السكان	3 – وجود سوق استهلاكي داخلي
4 – صعوبة توفير فرص العمل	4 – ضخامة أعداد القوة العسكرية

3 – ما النتائج المترتبة على التوزيع المنتظم للسكان في جميع أرجاء الدولة ؟

أ – الاستثمار الجيد للموارد الطبيعية والبشرية ب – تعزيز سيادة الدولة على كل أراضيها

4 – ما النتائج المترتبة على التركيز الشديد للسكان في المدن الكبرى للدولة ؟

أ – استنزاف الموارد الطبيعية ب – عزلة بعض السكان

5 – ما النتائج المترتبة على زيادة معدلات النمو السكاني عن موارد الدولة ؟

أ – ارتفاع معدلات البطالة – قلة مستوى الخدمات الصحية والتعليمية ب – هجرة السكان من الدولة

6 – قارن بين الآثار الإيجابية والآثار السلبية للهجرة الدولية على الدول المرسل والمستقبل .

وجه المقارنة	الدول المرسل للمهاجرين	الدول المستقبل للمهاجرين
الآثار الإيجابية	1 – تخفيف مشكلة البطالة 2 – زيادة الدخل القومي	1 – توفير الأيدي العاملة 2 – زيادة الدخل القومي واستغلال موارد الدولة
الآثار السلبية	1 – حرمان الدولة من الكفاءات العلمية 2 – اختلال التركيب العمري والنوعي	1 – النمو السريع للسكان 2 – عدم تجانس السكان ( مشكلات اجتماعية ) 3 – اختلال التركيب العمري والنوعي

7 – عدد خصائص السكان .

أ – التركيب العمري ب – التركيب النوعي ج – التركيب الاتنوجرافي د – المستوى التعليمي

8 – التركيب العمري هو توزيع السكان طبقاً للفئات العمرية المختلفة ( صغار السن – الشباب – كبار السن )

## 9 - وضح تأثير التركيب العمري على قوة الدولة .

في الدول المتقدمة	في الدول النامية
1 - <u>تتخفف نسبة صغار السن بسبب انخفاض معدلات المواليد - وترتفع نسبة كبار السن بسبب جودة المستوى الصحي</u>	<u>ترتفع نسبة صغار السن ونسبة الشباب بسبب ارتفاع معدلات المواليد ، وينتج عن ذلك</u>
2 - <u>تتناقص أعداد السكان في بعض الدول بسبب الانخفاض الشديد لمعدلات المواليد</u>	1 - ارتفاع معدلات الإعالة 2 - انتشار البطالة

10 - التركيب النوعي هو يقصد به نسبة الذكور إلى نسبة الإناث في الدولة .

11 - ما العوامل المؤثرة في التركيب النوعي للدولة ؟ أ - الحروب ب - الهجرة الدولية

12 - وضح النتائج المترتبة على تعدد القوميات والمذاهب داخل الدولة الواحدة ؟

أ - ظهور دعوات الانفصال ب - إشاعة الاضطرابات الداخلية ج - عدم الاستقرار الداخلي

13 - ما المقصود باللغة ؟ وسيلة التفاهم وتبادل الآراء والأفكار وتسجيل تاريخ الأمة ونقل تراثها .

14 - ما النتائج المترتبة على تعدد اللغات في الدولة الواحدة ؟

أ - الضعف والتفكك ب - ظهور المشكلات السياسية والاجتماعية

\* هناك دول تتحدث لغة واحدة مثل الوطن العربي والسويد والنرويج

\* وهناك دول تتعدد فيها اللغات مثل الهند وإندونيسيا وجنوب إفريقيا ونيجيريا وبلجيكا ولوكسمبورج

15 - وضح أقسام الدول وفقاً للتركيب الديني مع إعطاء أمثلة .

أ - دول يعتنق 90% من سكانها ديناً واحداً ( الدول العربية عدا لبنان - إندونيسيا - إيران - فرنسا )

ب - دول يعتنق من 60 : 80% من سكانها ديناً واحداً ( أمريكا - ألبانيا )

ج - دول تتعدد فيها الأديان ( كندا )

16 - ما النتائج المترتبة على اختلاف السلالة والعرق داخل الدولة الواحدة ؟

أ - قيام حركات التمرد والانفصال ب - تهديد الأمن ج - عدم الاستقرار السياسي والاقتصادي

17 - من أمثلة المشكلات العرقية النفرقة العنصرية في : أ - جنوب إفريقيا ب - الولايات المتحدة

18 - يساهم التعليم في بناء قوة الدولة . وضح ذلك .

أ - زيادة إنتاجية الدولة ب - بناء الديمقراطية ج - زيادة القدرة على الابتكار الاقتصادي والعسكري

19 - وضح أثر التقدم التكنولوجي للدولة على قوتها السياسية .

أ - زيادة القدرة العسكرية ب - زيادة القدرة الاقتصادية ج - التحكم بالقرارات الاقتصادية العالمية

20 - وضح كيف يمكن تقييم دور الحكومة وتأثيرها على قوة الدولة .

أ - كفاءة الإدارات الحكومية ب - القدرة على اتخاذ القرار وتنفيذه ج - القدرة على فرض السيطرة

## 21 - ما العوامل التي تعتمد عليها قوة الدولة العسكرية ؟

أ - مستوى التعليم والمهارة لأفراد الجيش      ب - كفاءة القيادة العسكرية      ج - المستوى التكنولوجي للأسلحة  
\* تسعى الدول إلى زيادة قوتها العسكرية من خلال عقد التحالفات كبديل لسياسة التسلح المنفردة التي تستنزف موارد اقتصادية هائلة مثل حلف شمال الأطلسي " الناتو " الذي يعتبر من أهم الأحلاف العسكرية العالمية .

## 22 - عدد المقومات الاقتصادية للدولة .

أ - الزراعة والمواد الغذائية      ب - المعادن ومصادر الطاقة      ج - الإنتاج الصناعي      د - النقل والمواصلات  
23 - صنف الدول من حيث إنتاجها للغذاء .

أ - دول تكفي نفسها ( ليس لها نصيب في تجارة الغذاء في العالم ) مثل " فرنسا "  
ب - دول يزيد إنتاجها الزراعي عن حاجة سكانها مثل " الولايات المتحدة الأمريكية "  
ج - دول يقل إنتاجها الزراعي عن حاجة سكانها مثل " معظم الدول النامية "

## 24 - بم تفسر تسعى الحكومات لدعم إنتاج الحبوب الغذائية السائدة ؟

أ - لتحقيق الأمن الغذائي      ب - لتحقيق الاستقرار الداخلي      ج - عدم التعرض للضغوط الخارجية

## 25 - عدد مبادرات دولة قطر لتحقيق الأمن الغذائي . 13 مبادرة

أ - زيادة إنتاج الخضراوات      ب - زيادة إنتاج اللحوم الحمراء والأسماك      ج - تحديد إنتاج الدواجن

## 26 - ما النتائج المترتبة على تطبيق استراتيجية الأمن الغذائي في دولة قطر ؟

أ - الحد من هدر الغذاء      ب - زيادة جودة الغذاء      ج - ضمان وجود الغذاء لمدة 6 شهور      د - الوصول للاكتفاء الذاتي

\* المعدن الرئيس الذي تقوم عليه كثير من الصناعات هو الحديد

\* معادن تدخل في الصناعات الحربية النحاس - الألومنيوم - القصدير - النيكل - المنجنيز - الكبريت - الكروم

\* معادن ذات قيمة اقتصادية مالية الذهب - الفضة - الألماس

## 27 - وضح آثار امتلاك الدولة لمصادر الطاقة على قوتها السياسية .

أ - تستخدم في جميع الأنشطة الاقتصادية      ب - تحريك وسائل النقل والمواصلات      ج - التدفئة والإنارة

## 28 - بم تفسر يعد البترول من أهم مصادر الطاقة وأهم أسباب الصراعات الدولية ؟ أول بئر 1859 م

أ - شريان الصناعة والنقل      ب - عنصر حيوي في السلم والحرب      ج - زاد أهمية الدول المنتجة له

## 29 - ما النتائج المترتبة على وجود شبكة جيدة للنقل والمواصلات ؟

أ - توزيع الخدمات الحكومية      ب - ربط أجزاء الدولة      ج - سهولة حركة الجيوش      د - استغلال الموارد

## 30 - عدد أهداف التكتلات الاقتصادية .

أ - زيادة حجم التجارة      ب - الرفاهية الاقتصادية للشعوب      ج - الاستفادة من مهارات الفنيين      د - تنويع الإنتاج

### 31 - عدد عناصر قوة الدولة .

عسكرية	تنظيمية	ديموغرافية	علاقات خارجية	ربط واتصال	اقتصادية	مورفولوجية
معدات عسكرية حجم انفاق عسكري	تنفيذ قانون استقرار داخلي وخارجي	عدد السكان تركيب عمري ونوعي تماسك قومي	منظمات دولية أحلاف عسكرية تكتلات اقتصادية	وسائل نقل نظم اتصال	امتلاك تقنية حديثة علاقات تجارية	المساحة الموقع التضاريس

### 32 - قارن بين الاتحاد الأوروبي ومجلس التعاون الخليجي .

وجه المقارنة	الاتحاد الأوروبي	مجلس التعاون الخليجي
التعريف	اتحاد اقتصادي سياسي يتكون من 27 دولة تخضع لالتزامات وامتيازات العضوية	منظمة سياسية واقتصادية إقليمية تضم 6 دول من دول شبه الجزيرة العربية
عدد الأعضاء	27 عضو بعد خروج بريطانيا	6 دول
النشأة	1992 م بعد توقيع معاهدة " ماستريخت "	1981 م في اجتماع عُقد في أبوظبي
الشعار	يتكون من 12 نجمة ذهبية على شكل دائرة	
المقر	بروكسل - بلجيكا	الرياض
المساحة	4 مليون كم <sup>2</sup> ( 40% من مساحة أوروبا )	2.4 مليون كم <sup>2</sup> ( 15% من مساحة الوطن العربي )
السكان	450 مليون نسمة ( 7% من سكان العالم )	53 مليون نسمة
الأهداف	1 - تحقيق الاستقرار الاقتصادي 2 - تعزيز الجوانب الأمنية 3 - تعزيز العدالة الاجتماعية 4 - تعزيز الثقافة الإنسانية	1 - التكامل بين الدول الأعضاء 2 - تعميق الروابط بين الشعوب 3 - وضع أنظمة متماثلة في مختلف الميادين 4 - دفع عجلة التقدم العلمي في الصناعة
الأهمية	1 - أقوى سوق اقتصادي عالمي 2 - يستحوذ على 16% من التجارة العالمية 3 - يمتلك عملة موحدة " اليورو " 4 - يمتلك قوة بشرية كبيرة	1 - يشكل 1.9% من الاقتصاد العالمي . <b>المركز 13 عالمياً</b> 2 - ينتج خمس الإنتاج العالمي من البترول 3 - الأول عالمياً في إنتاج النفط 4 - الثاني عالمياً في إنتاج الغاز 5 - يمتلك قوة بشرية كبيرة

## الدرس السادس – الحدود السياسية للدول ومشكلاتها

**1 – الحدود السياسية** هي الخطوط التي تحدد أبعاد الدولة الجغرافية ومساحتها كدولة مستقلة

**2 – المياه الإقليمية** هي المسطحات المائية التي تشرف عليها الدولة

**3 – المجال الجوي** طبقات الجو العليا التي تغطي أراضي الدولة ومياهها الإقليمية

**4 – التخوم** مناطق غير مأهولة بالسكان كالصحاري والجبال وتستخدم كحواجز طبيعية تفصل بين الدول

**5 – وضح كيف يتم تحديد الحدود بين الدول ؟**

أ – من خلال الوثائق القانونية      ب – الرسم على الخرائط      ج – التحديد بأشياء مادية " جدران – أسوار "

**6 – ما الفرق بين الحدود السياسية والتخوم ؟**

م	الحدود السياسية	التخوم
1	ظاهرة بشرية حديثة	ظاهرة طبيعية في الماضي " عصور قديمة ووسطى "
2	ظاهرة قانونية	ليس لها أساس قانوني
3	غير ثابتة وتتغير بعد الصراعات والحروب	ثابتة لأنها ظاهرة طبيعية
4	خط متفق عليه بين الدولتين المتجاورتين	مناطق جغرافية لها مساحة وتضم موارد طبيعية " الجبال – الغابات – الصحاري "

**7 – عدد وظائف الحدود السياسية .**

أ – الأمن والحماية      ب – حماية الإنتاج الاقتصادي      ج – وظيفة قانونية للحد

**8 – وضح دور الحدود السياسية في توفير الأمن والحماية .**

أ – تحدد مناطق نفوذ الدول      ب – توفير الأمن للشعب من خلال الدفاع العسكري على الحدود

**9 – بم تفسر لا تقتصر الوظيفة الأمنية للحدود على النواحي العسكرية ؟ " لها نواحي مدنية "**

أ – إقامة نقاط التفتيش      ب – إقامة مناطق الحجر الصحي والزراعي      ج – مراقبة دخول الأفراد والبضائع

**10 – وضح دور الحدود السياسية في حماية الإنتاج الاقتصادي .**

أ – حماية النظام الاقتصادي ب – تحدد الأراضي التي يحق للدولة استغلالها اقتصاديًا      ج – منع تضارب مصالح الدول

**11 – وضح كيف تحافظ الوظيفة القانونية للحدود السياسية على سيادة الدولة .**

أ – تحديد القوانين التي يخضع لها أفراد الدولة      ب – تنظيم انتقال الأفراد والأفكار

**12 – تلعب الحدود السياسية دورًا مهمًا في تنظيم عملية التبادل التجاري . وضح ذلك .**

أ – مراقبة السلع والبضائع عبر الحدود      ب – فحص المنتجات المستوردة      ج – فرض الرسوم الجمركية

**13 - عدد أنواع الحدود السياسية / ما الفرق بين التصنيف التكويني والتصنيف المورفولوجي للحدود السياسية .**

التصنيف التكويني " الوظيفي "	التصنيف المورفولوجي " الشكلي "
يعتمد على ربط نشأة الحدود السياسية بوقت الاستيطان البشري لمنطقة الحد مثال ( الحدود السابقة - الحدود اللاحقة " التالية " - الحدود المنطبعة " المفروضة "	يعتمد على أساس مكانها ، ومدى ثباتها فوق سطح الأرض ومدى ارتباطها بالظواهر الطبيعية والبشرية مثال ( الحدود الطبيعية - الحدود الهندسية )

**14 - وضح أنواع الحدود السياسية من حيث التصنيف التكويني أو الوظيفي .**

- أ - الحدود السابقة :** نشأت قبل الاستيطان البشري لمنطقة الحد ، مثال / الحدود بين كندا والولايات المتحدة الأمريكية
- ب - الحدود اللاحقة :** تم تحديدها بعد تعمير منطقة الحدود ووضعت بناء على اللغة أو الدين ، مثال حدود باكستان والهند
- ج - الحدود المنطبعة :** تم تحديدها بعد مفاوضات بين الدول المتنازعة ووضعتها الدول الاستعمارية ، مثال آسيا وأفريقيا
- 15 - وضح أنواع الحدود السياسية من حيث التصنيف المورفولوجي أو الشكلي .**
- " طبيعية - بشرية "**

وجه المقارنة	الحدود الطبيعية	الحدود البشرية
التعريف	هي التي تسير مع ظواهر طبيعية مختلفة	هي التي صنعها الإنسان ورسمت على أساس عرقي أو ثقافي
الأنواع	أ - بحرية ج - بحيرية	أ - اثوغرافية ب - هندسية

**16 - بم تفسر تعد الحدود الطبيعية من أقوى الحدود التي تفصل بين الدول ؟**

- أ - يصعب اختراقها
- ب - حواجز طبيعية أمام حركة السكان

**17 - بم تفسر كانت الجبال دائماً من أفضل الظواهر الطبيعية المستخدمة لترسيم الحدود ؟**

- أ - تشكل خطوط دفاع قوية
- ب - وعرة وقليلة السكان وعائق أمام حركة البشر

**18 - ما أثر التطور التكنولوجي على الحدود الجبلية ؟**

- أ - قلت القيمة الدفاعية للجبال بسبب تطور السلاح
- ب - قلت قدرة الجبال على فصل السكان بسبب الأنفاق والجسور

**19 - أعط أمثلة للحدود الجبلية بين الدول .**

- أ - جبال الهيمالايا بين الهند والصين
- ب - جبال الأنديز بين تشيلي والأرجنتين
- ج - جبال البرانس بين فرنسا وإسبانيا
- د - جبال الألب بين إيطاليا والنمسا

**20 - وضح عيوب الحدود الجبلية .**

- أ - العزلة الثقافية لبعض السكان
- ب - إعاقة حركة الهجرة الفصلية للرعاة
- ج - مشكلات ترسيم الحدود

## 22 - قارن بين إيجابيات وسلبيات الحدود النهرية .

الإيجابيات	السلبيات
1 - ملامح طبيعية واضحة 2 - يصعب على الجيوش 3 - مجاري الأنهار الوسطى والدنيا تصلح حدًا سياسيًا	1 - قد تغير الأنهار مجاريها بسبب النحت والإرساب 2 - لا تصلح الأجزاء العليا من النهر أن تكون حدًا سياسيًا طبيعيًا بسبب تعدد روافده وجريانه في مناطق مرتفعة 3 - صعوبة تحديد الحد الفاصل في النهر

## 23 - وضح طرق تحديد الحدود النهرية .

أ - الالتزام بإحدى ضفتي النهر      ب - الالتزام بخط المنتصف      ج - الالتزام بخط العمق الملاحي

## 24 - بم تفسر تعد الحدود البحرية أقل في مشكلاتها عن الأنهار ؟

أ - اتساع المسطح المائي واستقرار حركة المياه      ب - سهولة تحديد الحدود الدولية في المناطق الوسطى للبحيرة

## 23 - وضح طرق تحديد الحدود البحرية ؟

أ - حدود تتفق مع الخط الأوسط للبحيرة      ب - حدود تقسم البحيرة وفقاً لاتفاق دولي

\* زادت المشكلات المتعلقة بتحديد المياه الإقليمية والدولية بين الدول بسبب توجه هذه الدول لاستغلال الثروات الاقتصادية

## 24 - وضح نطاقات المياه البحرية من خط الساحل إلى داخل البحر .

أ - المياه الداخلية : تضم الخليج ومصب النهر والبحيرات الساحلية

ب - المياه الإقليمية :

- تمتد مسافة 12 ميل بحري وتمارس الدولة فيها الصيد والتجارة واستخراج الثروات الطبيعية

- ترفع السفن أعلام الدولة التي دخلت مياهها الإقليمية

ج - المياه الملاصقة : تلي المياه الإقليمية وتراقب حركة الملاحة البحرية

د - المنطقة الاقتصادية الخالصة : تمتد إلى 200 ميل بحري وتستغل الدولة الموارد الطبيعية

- تمتد إلى 200 ميل بحري

هـ - أعلى البحار ( المياه الدولية ) : الملاحة حق للجميع والثروات متاحة لمن يستطيع استغلالها

## 25 - ما المشكلات المتعلقة بالحدود البحرية ؟

أ - تحديد اتساع المياه الإقليمية

ج - حق المرور في الخلجان

ب - تحديد المناطق الاقتصادية الخالصة

د - استغلال الموارد الاقتصادية في منطقة الرصيف القاري

