

في سلسلة البروفيسور

# الدراسات الاجتماعية

• للمرحلة الابتدائية والإعدادية •

ثالثة إعدادي

إعداد مستر أحمد المراكبي

: للتواصل والاستفسار :

مناح التعاقد عليها للسادة المدرسين





## بنك أسئلة البروفيسور الشامل في مادة " الدراسات الاجتماعية "

## علي مقررات " الفصل الدراسي الثاني "

## الجغرافيا

## أولا

## السؤال الأول

ضع علامة ( ✓ ) أمام العبارة الصحيحة و علامة ( × ) أمام العبارة غير الصحيحة

- ١- تعد قارة اوربا اولي قارات العالم في انتاج القمح . ( )
- ٢- يزرع المطاط والارز في جنوب نيجيريا . ( )
- ٣- يزرع قصب السكر في كل قارات العالم . ( )
- ٤- ترتبط كثير من الانشطة التي يمارسها الاسنان بالموارد الزراعية ( )
- ٥- تعد الصين المركز الاول في انتاج القمح ( )
- ٦- تتركز زراعة القطن في قارة اوربا وتعد الهند من اكبر الدول المنتجة له . ( )
- ٧- تعتمد اوربا على قصب السكر في انتاج السكر . ( )
- ٨- يوجد الرعي البدائي شمال قارتي اوربا واسيا في صحارى التندرا الباردة ( )
- ٩- يوجد الرعي التجاري في مناطق الحشائش القصيرة بأمريكا الشمالية . ( )
- ١٠- تعتبر الهند اكبر دولة في انتاج اللحوم الحمراء ( )
- ١١- تعد قارة اسيا اكبر قارات العالم انتاجا للقمح والقطن . ( )
- ١٢- توجد بقارة اسيا اولي دول العالم في انتاج الدواجن ( )
- ١٣- تعتبر الولايات المتحدة الامريكية اولي الدول في انتاج الاسماك ( )
- ١٤- تتساوى الدول المتقدمة مع الدول النامية في معدل استهلاك المعادن . ( )
- ١٥- يتركز سكان نيجيريا في الجنوب . ( )
- ١٦- تمثل الصين المركز الاول في انتاج القمح . ( )
- ١٧- تنتج نيجيريا الفحم من المنطقة الشرقية . ( )
- ١٨- تعد دولة تايلاند اولي دول العالم في انتاج المطاط الطبيعي . ( )
- ١٩- تعد نيجيريا اكبر دول افريقيا من حيث عدد السكان . ( )

مراجعة + بنك أسئلة



- ٢٠- تعتبر الالبان المنتج الثاني المهم للثروة الحيوانية . ( )
- ٢١- تعتبر المانيا اقل الدول الاوروبية من حيث عدد السكان . ( )
- ٢٢- تعد استراليا اكبر دول العالم فى انتاج الفحم . ( )
- ٢٣- تعد مصر من اكبر الدول المنتجة للألبان فى العالم . ( )
- ٢٤- يتم انتاج الكهرباء الحرارية من الفحم او البترول او الغاز الطبيعي ( )
- ٢٥- من مناطق الجذب السياحي فى المانيا منطقة جبال الالب . ( )
- ٢٦- تحتل بيرو المركز الاول فى تربية الاغنام عالميا . ( )
- ٢٧- تقع المانيا فى شرق القارة الاوروبية . ( )
- ٢٨- تعتبر الهند اكبر دول العالم فى انتاج اللحوم . ( )
- ٢٩- تغطي الغابات نحو ثلث مساحة المانيا ونيجيريا ومصدرا للاخشاب . ( )
- ٣٠- معظم الانتاج السمكي فى العالم من المصايد العذبة . ( )
- ٣١- تحد النمسا وسويسرا دولة المانيا من جهة الشمال . ( )
- ٣٢- تشتهر استراليا بأجود انواع الصوف فى العالم . ( )
- ٣٣- الدول المنتجة للبوكسيت ليست هى الدول المصنعة للبترول . ( )
- ٣٤- زامبيا اكبر دول قارة امريكا الجنوبية فى انتاج النحاس . ( )
- ٣٥- تعد امريكا الشمالية اكثر قارات العالم انتاجا للطاقة النووية تليها اوربا . ( )
- ٣٦- يعتبر الغاز الطبيعي من مصادر الطاقة النظيفة التى لا تلوث البيئة . ( )
- ٣٧- تنقسم الصناعة على اساس مدى تركزها وجودتها الى خفيفة او ثقيلة ( )
- ٣٨- يعد البترول من مصادر الطاقة النظيفة والرخيصة فى العالم . ( )
- ٣٩- تأتي العراق فى المركز الاول فى الانتاج العالمى للبترول . ( )
- ٤٠- من المقومات البشرية لقيام وتطور الصناعة المواد الخام . ( )
- ٤١- من اهم المناطق الصناعية فى اقليم روسيا جزيرة هنشو . ( )
- ٤٢- تعد البحيرات العظمى من المراكز الصناعية الحديثة بأمريكا الشمالية . ( )
- ٤٣- يعتبر النشاط الصناعى قمة الأنشطة الاقتصادية المتطورة فى العالم . ( )
- ٤٤- اكبر الاقاليم الصناعية فى العالم الجديد اقليم شرق اسيا . ( )
- ٤٥- التطور العلمى وراس المال من العوامل الطبيعية لقيام الصناعة . ( )
- ٤٦- يتركز سكان الهند فى السهول الساحلية والفيضية ( )

مراجعة + بنك أسئلة



- ٤٧- نيودلهي هي العاصمة التجارية للهند ومومباي هي العاصمة السياسية . ( )
- ٤٨- تستورد مصر من الهند الفوسفات والقطن . ( )
- ٤٩- يسود المناخ المدارى الحار فى اقصى جنوب شرق البرازيل . ( )
- ٥٠- تنمو حشائش السافانا فى حوض الامازون بالبرازيل . ( )
- ٥١- يتركز سكان البرازيل على الساحل الشمالى الشرقى حيث المدن الرئيسية . ( )
- ٥٢- تتركز الصناعة فى جنوب غرب البرازيل قرب مدينتى ساو باولو وريودي جانيرو . ( )
- ٥٣- برازيليا هي العاصمة القديمة للبرازيل وتعد واحدة من اجمل مدن العالم . ( )
- ٥٤- اقتصاد نيجيريا اقتصاد متقدم يعتمد على الزراعة فى المقام الاول . ( )
- ٥٥- يزرع المطاط والارز فى جنوب نيجيريا . ( )
- ٥٦- تأتى نيجيريا فى المركز الثانى لإنتاج الارز فى افريقيا بعد مصر . ( )
- ٥٧- ابوجا العاصمة القديمة بينما لاجوس اكبر المدن النيجيرية . ( )
- ٥٨- تقتصر الصادرات المصرية الى نيجيريا على المواد الخام . ( )
- ٥٩- يسود المانيا مناخ غرب اوربا الممطر طوال العام خاصة فى الشمال . ( )
- ٦٠- تقع مدينة ميونخ عاصمة اقليم بافاريا غرب المانيا . ( )
- ٦١- يطلق على المرتفعات الشرقية جبال روكى . ( )
- ٦٢- مدينة برمنجهام من اهم المدن الصناعية فى منطقة شمال شرق الولايات الامريكية . ( )
- ٦٣- تعد الولايات المتحدة الامريكية اولى دول العالم فى صناعة الطائرات . ( )
- ٦٤- شيكاغو اكبر الموانئ الامريكية على ساحل المحيط الهادى . ( )
- ٦٥- نيويورك ميناء مهم يطل على المحيط الهادى . ( )

اختر الإجابة الصحيحة مما بين القوسين

السؤال الثاني

- ١- من المحاصيل ذات الطبيعة الخاصة ..... ( القمح - القطن - البن - الارز ) .
- ٢- يحد نيجيريا من الشمال دولة..... ( النيجر - السنغال - الكونغو - جنوب افريقيا ) .
- ٣- تعد قارة اسيا اولى قارات العالم فى انتاج ..... ( البنجر - الذرة - القطن - ج ما سبق ) .



- ٤- تعد مدينة.....العاصمة القديمة وكبرى المدن النيجيرية .  
( إيبادان - لاجوس - أبوجا - النيجر ) .
- ٥- من اهم محاصيل الالياف.....  
( القطن - الذرة - الشاي - المطاط ) .
- ٦- تنتشر الزراعة البسيطة فى المناطق .....  
( المعتدلة الباردة - الباردة - الحارة - المعتدلة )
- ٧- من المحاصيل التي تستخدم فى تصنيع إطارات السيارات.....  
(الكتان - القطن - الجوت - المطاط الطبيعي) .
- ٨- تعتبر دولة .....أكبر دول العالم إنتاجا للشاي .  
(الولايات المتحدة الأمريكية - الصين - البرازيل - روسيا)
- ٩- يصعب استخدام الآلات والمكينه الزراعية فى مناطق الزراعة .....  
( البسيطة - العلمية - البدائية - الكثيفة ) .
- ١٠- من أهم محاصيل الألياف .....  
( الشاي - الذرة - المطاط - القطن ) .
- ١١- أولى دول العالم إنتاجا للمطاط الطبيعي .....  
( تايلاند - الهند - البرازيل - الصين ) .
- ١٢- من أهم دول افريقيا فى انتاج القطن .....  
( تونس - مصر - تشاد - نيجيريا ) .
- ١٣- ينتج قصب السكر فى كل قارات العالم عدا قارة .....  
( اسيا - أفريقيا - أوربا - أستراليا ) .
- ١٤- أكبر دولة منتجة للبنجر فى قارة أفريقيا هى .....  
( السعودية - نيجيريا - جنوب افريقيا - مصر ) .
- ١٥- تحتل دولة .....المركز الأول عالميا فى إنتاج اللحوم الحمراء والأسماك معا .  
( الصين - أستراليا - فرنسا - الهند )
- ١٦- ترتبط تربية .....بالمراعي التجارية الواسعة .  
( الجاموس - الرنة - الأغنام - الخيل ) .

مراجعة + بنك أسئلة



١٧- أكبر دول العالم المربية للأغنام دولة .....

( استراليا - مصر - بريطانيا - الصين ) .

١٨- يسود الرعي التجاري في دولة ..... بأمریکا الجنوبية

( كولومبيا - الأرجنتين - بيرو - شيلي ) .

١٩- تنتج قارة ..... ثلثي الانتاج العالمي من القطن .

( امريكا الشمالية الجنوبية - امريكا الجنوبية - افريقيا - اسيا ) .

٢٠- يأتي ٤/٣ انتاج العالم من الفحم في قارتي .....

( اوروبا واسيا - اسيا واستراليا - اوروبا وافريقيا - امريكا الشمالية واسيا ) .

٢١- اولى الدول في انتاج النحاس .....

( الهند - الولايات المتحدة الامريكية - الصين - شيلي ) .

٢٢- تحتل قارة ..... المركز الثاني عالميا في انتاج الطاقة النووية .

( اوروبا - افريقيا - امريكا الشمالية - استراليا )

٢٣- المصدر الاول و الرئيسي للطاقة المستخدمة في العالم حتى اوائل القرن ال ٢٠م .....

( البترول - الطاقة الكهربائية - الفحم - الرياح ) .

٢٤- تعد دولة ..... أولى دول العالم انتاجا للبترول .

( الولايات المتحدة الامريكية - قطر - الصين - السعودية ) .

٢٥- دولة ..... اكبر دول العالم انتاجا للحديد

( كندا - المانيا - فرنسا - الصين )

٢٦- يعد ..... الخام الرئيسي لمعدن الالومنيوم .

( الحديد - البوكسيت - النحاس - الرصاص )

٢٧- يستخدم كل ما يلي في انتاج الكهرباء الحرارية ماعدا .....

( البترول - الشلالات - الفحم - الغاز الطبيعي )

٢٨- تعد ..... احد مراكز الصناعة في شرق اسيا

( البرازيل - كندا - كوريا - تايلاند )

٢٩- استراليا اولى دول العالم انتاجا لخام .....

( النحاس - اليورانيوم - الالومنيوم - الحديد )



٣٠- تحتل دولة .....المركز الاول فى انتاج الاسماك فى العالم

(السويد - الصين - الهند - النرويج ) .

٣١- توجد خمس دول عربية تنتج الطاقة الكهربائية من الرياح تتقدمها مصر وتليها .....

(تونس - العراق - المغرب - الجزائر ) .

٣٢- يزرع فى قارة اوربا جميع المحاصيل الزراعية عدا محصول .....

( الذرة - البنجر - القمح - قصب السكر ) .

٣٣- من المقومات الطبيعية للصناعة توافر.....

( الاسواق - التطور العلمي - رأس المال - المواد الخام ) .

٣٤- اكبر الاقاليم الصناعية فى العالم الجديد اقليم .....

( شرق اسيا - روسيا واوكرانيا - غرب ووسط اوربا - شمال شرق الولايات المتحدة ) .

٣٥- تقع اهم مراكز الصناعة الحديثة فى جنوب شرق اسيا فى دولة.....

( شيلي - ماليزيا - المكسيك - فنزويلا ) .

٣٦- يقل عدد السكان فى نيجيريا فى.....

( هضبة جوس - دلتا النيجر - الولاية الغربية - السهول الشمالية ) .

٣٧- تعتبر من اكبر دول العالم انتاجا للشاي.....

( البرازيل - الصين - روسيا - الولايات ) .

٣٨- تعد تايلاند اولي دول العالم انتاجا ل.....

( الشاي - البن - السكر - المطاط الطبيعي ) .

٣٩- تنتشر الزراعة الكثيفة بالمناطق.....

( الحارة والمعتدلة - الحارة - المعتدلة - الباردة ) .

٤٠- تعد.....من اكبر دول تربية للأبقار .

( الصين - اليابان - الهند - العراق ) .

٤١- المصدر الرئيسي للحوم لغالبية سكان العالم .....

( الجاموس - البقر - الابل - الماعز ) .

٤٢- تعد الصين من اكبر الدول تربية ل.....

( الابقار - الاغنام - الماعز - الابل ) .



مراجعة + بنك أسئلة

- ٤٣ - تعد ثاني الدول انتاجا للحوم الحمراء.....  
( الصين - الهند - الولايات المتحدة - كندا ) .
- ٤٦ - تشتهر.....بإنتاج الاصواف .  
( استراليا - اوروبا - اسيا - افريقيا ) .
- ٤٧ - يعد من اهم المعادن المستخدمة في الصناعة معدن.....  
( النحاس - الحديد - الرصاص - الزنك ) .
- ٤٨ - تحتل قارة.....المركز الثاني عالميا في انتاج الطاقة النووية .  
( اوروبا - امريكا الشمالية - امريكا الجنوبية - استراليا ) .
- ٤٩ - تعتبر.....ثاني دول العالم انتاجا للفحم .  
( الصين - الهند - الولايات المتحدة الامريكية - روسيا ) .
- ٥٠ - من اهم الدول العربية في انتاج الطاقة من الرياح دولة.....  
( السعودية - ليبيا - تونس - مصر ) .
- ٥١ - من الدول المستوردة للحديد دولة.....  
( الهند - بريطانيا - موريتانيا - البرازيل ) .
- ٥٢ - اهم دول انتاج النحاس في قارة اسيا.....  
( هولندا - فرنسا - روسيا - الصين ) .
- ٥٣ - اتسع اقليم شمال شرق الولايات المتحدة ليشمل.....  
( الابلاش - دلتا المسيسيبي - روكي - البحيرات العظمي ) .
- ٥٤ - من المقومات البشرية لقيام الصناعة.....  
( المواد الخام - مصادر الطاقة - الاسواق - الموقع ) .
- ٥٥ - توجد اهم مراكز الصناعات الحديثة في امريكا الشمالية بدولة.....  
( كوبا - شيلي - بنما - المكسيك ) .
- ٥٦ - من اكبر مراكز الصناعة في اقليم غرب ووسط اوروبا الصناعي.....  
( سيبيريا - بريطانيا - البحيرات العظمي - موسكو ) .
- ٥٧ - تقع اهم مراكز الصناعة الحديثة في امريكا الشمالية بدولة.....  
( فنزويلا - شيلي - ماليزيا - المكسيك ) .



- ٥٨- دولة ميانمار تحد دولة الهند من جهة .....
- ( الجنوب الشرقى - الشمال الغربى - الجنوب الغربى - الشمال الشرقى ) .
- ٥٩- تقع معظم دولة ..... داخل حدود دولة الهند .
- ( ميونخ - بنجلاديش - باكستان - نيبال ) .
- ٦٠- تنمو الغابات ..... على السواحل الغربية والشرقية للهند .
- ( الاستوائية - الباردة - الموسمية - المعتدلة ) .
- ٦١- تعد دولة الهند اهم دول العالم فى تربية .....
- ( الماعز - الابل - الجاموس - الابقار ) .
- ٦٢- اهم مدن الساحل الغربى فى الهند ومن اكبر الموانئ والمدن الصناعية مدينة.....
- ( مومباى - نيودلهى - كلكتا - حيدرآباد ) .
- ٦٣- تستورد مصر من الهند.....
- ( الجلود - الفوسفات - غزل القطن - الاسمدة الخام ) .
- ٦٤- يسود سطح البرازيل المظهر.....
- ( الهضبى - السهلى - الصحراوى - الجبلى ) .
- ٦٥- تعد مدينة ..... أهم موانئ البرازيل على المحيط الاطلنطى.
- ( ريودى جانيرو - ميناؤوس - برازيليا - ساوپاولو ) .
- ٦٦- تقع هضبة البرازيل فى وسط.....البرازيل .
- ( شمال - جنوب - شرق - غرب ) .
- ٦٧- تقع دولة نيجيريا على ساحل خليج.....
- ( غينيا - المكسيك - بسكاي - بنغال ) .
- ٦٨- اهم الواردات المصرية من نيجيريا.....
- ( الحديد - السيارات - الحبوب الزيتية - اللحوم ) .
- ٦٩- يحد نيجيريا من جهة الشرق دولتي .....
- ( الكامبيرون وتشاد - الكامبيرون وبنين - النيجر وبنين - النيجر والكامبيرون ) .
- ٧٠- يحد نيجيريا من جهة الغرب دولة .....
- ( بنين - جوس - لاجوس - غينيا ) .

مراجعة + بنك أسئلة



٧١- تعتبر مدينة ..... هي العاصمة الاقتصادية لدولة نيجيريا .

( بنين - جوس - لاجوس - غينيا ) .

٧٢- يستخرج البترول فى دولة نيجيريا من المنطقة القريبة من الساحل فى .....

( الشمال الشرقي - الجنوب الشرقي - الشمال الغربي - الجنوب الغربي )

٧٣- تأتي فى المركز الثاني أهمية بعد لأجوس .....

( ابوجا - ايادان - لاجوس - مينائوس )

٧٤- تنمو حشائش ..... فى شمال نيجيريا

( البرارى - التندرا - الاستبس - السافانا )

مراجعة + بنك أسئلة

٧٥- الأطراف الجنوبية فى نيجيريا تقع فى نطاق المناخ .....

( الاستوائي - المعتدل - البارد - المدارى )

٧٦- تعتبر نيجيريا أولى دول أفريقيا انتاجا لـ .....

( الأرز - الفول السوداني - الذرة - المطاط ) .

٧٧- تنتشر الغابات المخروطية والنفضية بألمانيا فى .....

( جبال الألب - السهول الوسطى - السهول الشمالية - جبال الفوج ) .

٧٨- العاصمة السياسية لألمانيا مدينة .....

( هامبورج - ميونخ - برلين - بريمن )

٧٩- على قمة جبلية بألمانيا فى جبال .....

( الانديز - روكي - الالب - الهيمالايا )

٨٠- يحد ألمانيا من جهة الغرب دولة .....

( بولندا - التشيك - الدنمارك - فرنسا ) .

٨١- تعتبر مدينة ..... عاصمة إقليم بافاريا بألمانيا .

( برلين - ميونخ - هامبورج - بريمن ) .

٨٢- العمود الفقري للاقتصاد الالمانى هو .....

( الزراعة - التجارة - الصناعة - التعدين ) .

٨٣- تحد النمسا وسويسرا دولة ألمانيا من جهة .....

( الشرق - الغرب - الشمال - الجنوب ) .



٨٤- تستورد مصر من ألمانيا.....

( الآلات - البترول - الغاز الطبيعي - الملابس ) .

٨٥- تصب معظم الانهار بدولة ألمانيا فى .....

(البحر الاحمر - البحر المتوسط - البحر الاسود - بحر الشمال )

٨٦- تقع ألمانيا .....قارة أوروبا .

(شمال - جنوب - شرق - غرب )

٨٧- يحد الولايات المتحدة الأمريكية من الغرب .....

(المحيط الهادى - المحيط الهندى - المحيط الأطلنطى - القطب الشمالى )

٨٨- تعتبر شيكاغو اكبر مدن السهول الوسطى بالولايات المتحدة الأمريكية وتقع على بحيرة ....

( انتاريو - ايرى - هورن - متشجن ) .

٨٩- تنمو .....بالساحل الجنوبى الشرقى ودلتا نهر الميسسىبى

(الغابات النفضية - الغابات المخروطية - غابات الاقليم الصينى - الغابات المدارية ) .

### صوب ما تحته خط

### السؤال الثالث

١- يستخدم معظم انتاج الذرة بأمريكا الشمالية **كغذاء للإنسان** .

٢- تعد قارة اسيا اكبر قارات العالم انتاجا **للشاي** من الغابات الاستوائية .

٣- الظروف الطبيعية لا تتناسب زراعة قصب السكر بأمريكا الشمالية .

٤- تعد قارة **أوروبا** اولي قارات العالم فى تربية الابقار .

٥- تعد **الصين** اولي دول العالم انتاجا للدواجن .

٦- يعد البوكسيت الخام الرئيسى لمعدن **النحاس** .

٧- اكبر دول العالم فى انتاج الفحم هي **روسيا** .

٨- الكهرباء المولدة من السد العالي كهرباء **حرارية** .

٩- تتوافر صناعة الالمونيوم فى الدول **النامية** .

١٠- اولي قارات العالم فى انتاج الغاز الطبيعي قارة **استراليا** .

١١- تعد جمهورية كوريا من دول اقليم **روسيا واورانيا** الصناعى .

١٢- التطور العلمى من المقومات **الطبيعية** للصناعة فى العالم.



- ١٣- اهم الصناعات الحديثة في دول الخليج العربي الصناعات اليدوية .
- ١٤- من المناطق الصناعية في اقليم شرق اسيا الجزيرة اليابانية جاوة .
- ١٥- المناطق الصناعية في اقليم الاورال تنتمي الي غرب ووسط اورويا الصناعي .
- ١٦- يدخل صناعة الجوت فى صناعة الخبز .
- ١٧- تعد قارة اورويا اولى قارات العالم انتاجا للقمح.
- ١٨- تتركز زراعة بنجر السكر فى قارة اسيا وامريكا الشمالية .
- ١٩- تعد قارة افريقيا اكثر القارات انتاجا للقطن .
- ٢٠- ينتج معظم المطاط فى قارة امريكا الجنوبية وتعد دولة شيلي اولى دول العالم انتاجا له .
- ٢١- يرعى حيوان الرنة فى صحارى اريزونا الحارة .
- ٢٢- ثاني دول العالم انتاجا للبتروول الهند .
- ٢٣- معظم الصناعات فى دول الخليج العربي صناعات الالكترونية .
- ٢٤- تعد مصر و تونس من اهم المراكز الصناعية الحديثة فى افريقيا .
- ٢٥- تنتج اكثر من ثلث انتاج العالم من الاسماك دولة إندونيسيا .
- ٢٦- تمتد سهول الهندوستان على خليج البنغال شرق الهند .
- ٢٧- تعد الهند اولى دول العالم سكانا .
- ٢٨- السكان الاصليون لدولة البرازيل من العناصر السوداء .
- ٢٩- العاصمة الجديدة للبرازيل هي ريودى جانيرو .
- ٣٠- تستورد مصر من البرازيل المعادن وخاصة الفوسفات .
- ٣١- تغطى الغابات الموسمية الجزء الجنوبي من دولة نيجيريا .
- ٣٢- يحد دولة نيجيريا من الجنوب المحيط الهندي .
- ٣٣- تعد نيجيريا ثالثة دول افريقيا سكانا .
- ٣٤- مدينة ايبادان هي العاصمة الاقتصادية لدولة نيجيريا .
- ٣٥- تقع نيجيريا فى غرب افريقيا وعاصمتها لاجوس .
- ٣٦- يقع معظم نيجيريا ضمن نطاق المناخ الاستوائي .
- ٣٧- تقع المانيا فى قارة اسيا ويحدها من الشمال دولة الدنمارك و بحر قزوين .
- ٣٨- من اهم الانهار التى تجرى فى المانيا نهر السين .
- ٣٩- تغطى الغابات ثلث مساحة المانيا واهمها الغابات الاستوائية والمدارية .

مراجعة + بنك أسئلة



٤٠ - تعد مدينة **ميونخ** عاصمة المانيا .

٤١ - تحتل **الولايات المتحدة** المركز الاول في انتاج الاسماك .

٤٢ - يسود المانيا اراضي منخفضة في الشمال ومرتفعات **جبال الهيمالايا** في الجنوب .

٤٣ - توجد **جبال البرانس** في دولة المانيا وفيها اعلي القمم الجبلية .

٤٤ - يسود المانيا الاتحادية مناخ غرب اوربا الممطر طوال العام خاصة في **الجنوب** .

٤٥ - **ولاية الاسكا** هي مجموعة من الجزر تقع وسط المحيط الهادى .

٤٦ - توجد بالولايات المتحدة اراضى زراعية خصبة حيث سهول نهر **سانت لورانس** فى الوسط .

٤٧ - يوجد مقر الامم المتحدة فى **واشنطن** .

مراجعة + بنك أسئلة

بم تفسر

السؤال الرابع

١ - مارس البشر العديد من الانشطة الاقتصادية البدائية في الماضي .

٢ - اهمية الغابات في نيجيريا .

٣ - يعد القطن في مصر والسودان من اجود انواع القطن في العالم .

٤ - تعرف الزراعة التجارية العلمية بنظام الزراعة الواسعة .

٥ - اهمية الثروة الحيوانية .

٦ - زيادة معدل الاستهلاك العالمي من اللحوم .

٧ - تتميز الصناعة الالمانية بالجودة والتنوع .

٨ - انخفاض اعداد العاملين بالرعي البدائي .



٩- ارتفاع اسعار البترول عالميا .

١٠- اهمية الفحم الاقتصادية .

١١- تصدر الدول النامية خام البوكسيت الي الدول المتقدمة .

١٢- تقدم الصناعة في اوربا .

مراجعة + بنك اسئلة

١٣- تطورات الصناعة تطورا مذهلا في الدول المتقدمة .

١٤- يعد اقليم شمال شرق الولايات المتحدة من اكبر الاقاليم الصناعية في العالم الجديد .

١٥- تتطلب الزراعة الكثيفة أيدي عاملة وفيرة ؟

١٦- شهرة القطن المصري ؟ او يعد القطن في مصر من اجود أنواع القطن في العالم ؟

١٧- تحتل استراليا والصين المراكز الاولى في تربية الاغنام؟

١٨- يعتبر البترول اهم مصادر الطاقة ؟

١٩- توافر مراكز صناعية عديدة في دول اوربا ؟

٢٠- قلة عدد القائمين بحرفة الرعي البدائي في صحارى شبه الجزيرة العربية وبادية الشام .



٢١- للفحم اهمية كبيرة منذ القرن ال ١٨ الميلادي وحتى الوقت الحالي ؟

٢٢- تتركز زراعة الشاي فى شرق اسيا ؟

٢٣- اسعار البترول فى زيادة مستمرة ؟

٢٤- قيام بعض الدول بصيد الحيتان ؟

مراجعة + بنك اسئلة

٢٥- تقدم الصناعة فى الدول المتقدمة ؟

٢٦- تركز زراعة بنجر السكر فى قارتي اوروبا وامريكا الشمالية ؟

٢٧- تحتل الصين واندونيسيا المركز الاول فى انتاج الاسماك ؟

٢٨- توطن صناعة الألومنيوم فى الدول المتقدمة ؟

٢٩- صعوبة استخدام الآلات و الميكنة الزراعية فى الزراعة الكثيفة ؟

٣٠- ينتج قصب السكر فى كل قارات العالم ماعدا قارة أوربا ؟

٣١- انتشار سواحل الاسماك على سواحل شمال غرب أوربا ؟

٣٢- تنوع الانشطة الاقتصادية فى الهند .



٣٣- توجد بالهند ثروة حيوانية ضخمة .

٣٤- القيمة الاقتصادية المحدودة للأبقار فى الهند .

٣٥- تفوق الهند فى صناعة الحديد والصلب .

٣٦- لجوء الهند للطاقة النووية والكهربائية .

مراجعه + بنك أسئلة

٣٧- شهدت الهند قفزات سريعة فى تطور الصناعة .

٣٨- تعاني البرازيل من قلة عدد السكان رغم ان سكانها يمثلون نصف سكان قارة امريكا الشمالية .

٣٩- تركز السكان فى البرازيل فى الساحل الجنوبي الشرقي .

٤٠- تعد البرازيل من الدول المنتجة للأسماك .

٤١- ارتفاع الكثافة السكانية فى هضبة جوس بنيجيريا .

٤٢- قلة السكان فى دلتا نهر النيجر جنوب نيجيريا

٤٣- يعتبر اقتصاد نيجيريا اقتصاد نامي .

٤٤- تنتج نيجيريا الاسماك بكميات كبيرة .

٤٥- انتشار اعداد كبيرة من الابقار والاغنام والماعز في نيجيريا .



٤٦ - أهمية الغابات في ألمانيا .

٤٧ - تعد الزراعة من الأنشطة الاقتصادية الهامة في ألمانيا .

٤٨ - جذب المرتفعات الوسطى للسياح في ألمانيا .

٤٩ - تطور الصناعة الألمانية بعد الحرب العالمية الثانية .

مراجعه + بنك أسئلة

٥٠ - تعد مدينة ميونخ احد اهم المدن بدوية ألمانيا .

٥١ - تنوع المناخ بالولايات المتحدة الأمريكية .

٥٢ - تركّز نحو ٥٠% من سكان الولايات المتحدة الأمريكية في إقليم نيوانجلند .

٥٣ - ارتفاع الكثافة السكانية في الكثير من المناطق الغربية بالولايات المتحدة الأمريكية .

٥٤ - ضخامة الانتاج الزراعي في الولايات المتحدة الأمريكية .

٥٥ - تعد الولايات المتحدة الأمريكية القوة الاقتصادية الاولى في العالم

٥٦ - قلة عدد السكان في ولاية الاسكا بالولايات المتحدة الأمريكية



## ما النتائج المترتبة علي

## السؤال الخامس

١- معرفة الانسان الزراعة منذ اقدم العصور .

٢- صغر مساحة الحقول الزراعية في الزراعة الكثيفة .

٣- الوحدة الاقتصادية الاوروبية .

مراجعة: بنك أسئلة

٤- توافر مقومات الصناعة في اقليم شمال شرق الولايات المتحدة .

٥- استخدام الطرق العلمية والآلات في الزراعة والعلمية والتجارية ؟

٦- رخص ثمن الغاز الطبيعي وقلة تلوثه؟

٧- توافر المراعي الطبيعية في دولة الصين ؟

٨- انتشار التعليم بين القبائل في دول وسط اسيا ؟

٩- وجود المناخ الاستوائي والمدارى في قارة اسيا بالنسبة لإنتاج الموارد الزراعية ؟

١٠- وقوع الصين على المحيط الهادي ووجود الانهار؟

١١- الاهتمام بالتعليم وتطوير البحث العلمي بالهند .



١٢ - اشرف الهند على مسطحات مائية بجبهات ساحلية طويلة .

١٣ - افتقار الهند للبتروك كمصدر من مصادر الطاقة .

١٤ - امتلاك البرازيل ثروة حيوانية كبيرة .

١٥ - وجود حشائش السافانا فى نيجيريا .

١٦ - جريان نهر النيجر داخل نيجيريا .

١٧ - كثافة الغابات فى دلتا النيجر .

١٨ - وجود التلال واليانبيع بالمرتفعات الوسطى فى المانيا .

١٩ - تعدد الانشطة الاقتصادية فى المانيا .

٢٠ - وقوع شمال المانيا فى نطاق مناخ غرب اوربوا مناخيا .

٢١ - استخدام المانيا التكنولوجيا والاساليب العلمية الحديثة فى الانشطة الاقتصادية .

٢٢ - اتساع مساحة الولايات المتحدة الامريكية وتنوع تضاريسها .

٢٣ - وفرة الموارد الطبيعية وتنوعها بالولايات المتحدة الامريكية .

مراجعة + بنك أسئلة



## اكتب المصطلح الجغرافي

## السؤال السادس

- ١- زراعة يعمل بها عدد قليل من السكان في مناطق صغيرة ومعزولة .
- ٢- يقصد بها زراعة الارض اكثر من مرة في العام الواحد لإشباع حاجة السكان المحليين من الغذاء .
- ٣- منتج حيواني تعد الهند اكبر دول العالم انتاجا له .
- ٤- توجد في المحيطات ويتم صيدها للاستفادة من شحومها ولحومها .
- ٥- يعد اهم مصادر الطاقة لارتباطه بالتنمية الاقتصادية والاجتماعية والعلاقات السياسية .
- ٦- طاقة تنتج من الامواج وحركة المد والجزر فى بعض الدول المتقدمة .
- ٧- اقليم صناعي يضم جزيرة هنشو وجمهورية كوريا .
- ٨- سهول ساحلية بالهند تمتد على ساحلها الغربي .
- ٩- مدينة انشئت على نهر الامازون لإعادة توزيع السكان فى البرازيل نحو الداخل .
- ١٠- مدينة نيجيريا تعد مركزا للتجارة والتعليم والمواصلات .
- ١١- من اكبر الاقاليم التضاريسية بألمانيا وهو جزء من السهل الأوربي العظيم .
- ١٢- سهول تمتد بالولايات المتحدة الامريكية من اقليم البحيرات العظمى شمالا حتى خليج المكسيك جنوبا .
- ١٣- اولى الدول الصناعية السبع وتعتبر القوة الاقتصادية الاولى فى العالم .

## دل على صحة العبارة

## السؤال السابع

- ١- تفوق قارة اسيا في انتاج الثروة الحيوانية .
- ٢- تسبق عملية التعدين العديد من العمليات المهمة ؟
- ٣- اصبح الغاز الطبيعي يستخدم على نطاق واسع من العالم ؟



٤ - هناك علاقة بين الانتاج الحيواني والصناعة ؟

٥ - صناعة الالومنيوم تحتاج الى عدة مقومات لقيامها ؟

٦ - كان لتطور الانشطة الاقتصادية تأثير سلبي علي الرعي البدائي بقارة اسيا .

٧ - غني نيجيريا بمصادر الطاقة .

٨ - غني نيجيريا بمصادر الطاقة .

٩ - واجهت الهند المشكلة السكانية بسياسات تنوعيه مختلفة .

١٠ - تنوع العلاقات الاقتصادية بين مصر والهند .

١١ - سكان البرازيل خليط من معظم الاجناس .

١٢ - وفرة الثروات المعدنية ومصادر الطاقة فى نيجيريا

١٣ - تنوع المناخ والنبات الطبيعي في نيجيريا .

١٤ - ارتباط مصر مع نيجيريا بعلاقات قوية .

مراجعة + بنك أسئلة



١٥ - اختلاف توزيع السكان في نيجيريا من مكان لآخر .

١٦ - دليل علي صحة العبارة ترتبط مصر والمانيا بعلاقات ثقافية وعلمية .

١٧ - ضخامة الانتاج وتنوع الصناعات في الولايات المتحدة الامريكية .

مراجعة + بنك اسئلة

١٨ - ترتبط مصر مع الولايات المتحدة الامريكية بعلاقات قوية في مختلف المجالات .

ما العلاقة بين

السؤال الثامن

١ - زيادة انتاج الاسماك والتطور التكنولوجي .

٢ - ظهور البترول في شبه الجزيرة العربية وحرفة الرعي التقليدي .

٣ - ضخالة المياه الساحلية وانتاج الاسماك .

٤ - حركة المد والجزر والكهرباء .

٥ - استخدامات البترول واسعاره .

٦ - البوكسيت والالمونيوم .



٧- الغاز الطبيعي والكهرباء .

٨- الامواج والكهرباء .

٩- الصناعة ، الدول المتقدمة ؟

١٠- الالومنيوم ، الطاقة الكهربائية ؟

مراجعة + بنك اسئلة

١١- التقدم العلمي ، الرعي التجاري ؟

١٢- مناخ نيجيريا ، ونتاجها الحيواني .

١٣- المناخ الاستوائي ، والاشباب فى نيجيريا .

اجب عن الاسئلة التالية

السؤال التاسع

١- حدد اهم مناطق انتشار حرفة صيد الاسماك .

٢- حدد سبب شهرة كلا من برلين .

٣- ما مقترحاتك من اجل التوسع في انتاج الطاقة النظيفة في مصرنا الغالية .

٤- حدد مقومات الصناعة الطبيعية والبشرية .



٥- حدد سبب شهرة هامبورج .

.....

٦- حدد اهم المراكز الصناعية الحديثة في العالم .

.....

٧- حدد سبب شهرة ميونخ .

.....

## قارن بين

مراجعة + بنك أسئلة

## السؤال العاشر

١- الحديد ، النحاس من حيث الأهمية واولي الدول المنتجة .

--	--

٢- الزراعة البسيطة ، والزراعة الكثيفة من حيث :-

( مناطق انتشارها ، خصائصها )

الزراعة الكثيفة	الزراعة البسيطة	
		خصائصها
		اماكن انتشارها



٣- الفحم ، البترول ، من حيث :-  
( الأهمية ، اولى الدول المنتجة )

البترول	الفحم	الأهمية
مراجعة + بنك أسئلة		الأهمية
		اولى الدول

٤- الابقار ، الاغنام من حيث :-  
( الأهمية ، اولى الدول المنتجة )

الابقار	الاغنام	أهميتها
		أهم القارات والدول المرية



٥- القمح ، قصب السكر من حيث :-

( الأهمية ، اولى الدول المنتجة )

القمح	قصب السكر	
		أهميتها
		أهم القارات والدول المربية
مراجعة + بنك أسئلة		

٦- حركة المد والجزر ، الغاز الطبيعي من حيث:-  
( نوع الكهرباء المتولدة عن كل منهما )

.....

.....

٧- صناعة الالومنيوم ، صناعة الاسلاك الكهربائية من حيث :-  
( المادة الخام الرئيسية فى انتاج كل منهما ، اولى الدول المنتجة لمادة الخام )

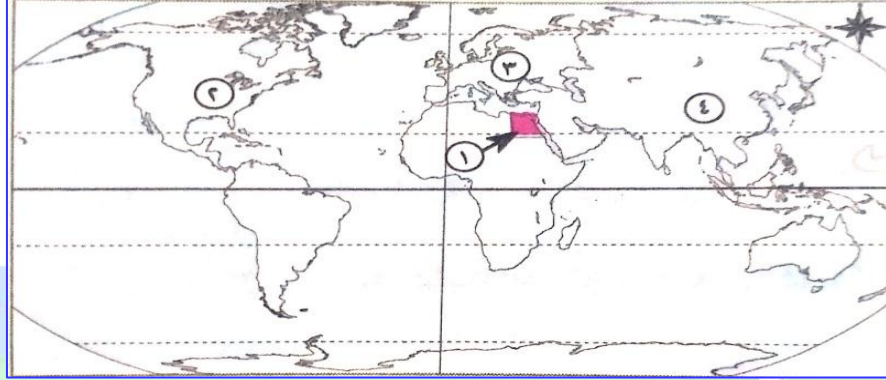
الالومنيوم	الاسلاك الكهربائية	
		المادة الخام
		اولى الدول المنتجة



الخرائط

السؤال الحادي عشر

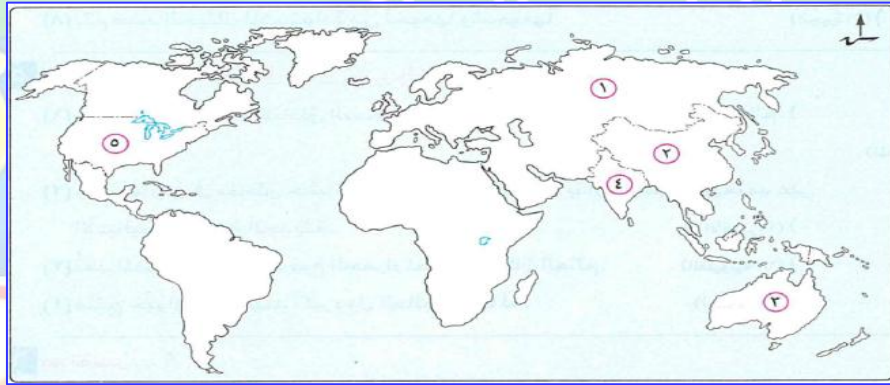
١: امامك خريطة صماء للعالم اكتب ما تشير اليه الارقام :



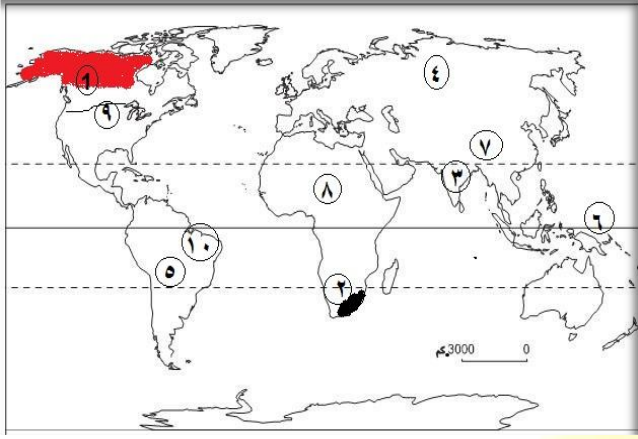
+ بنك أسئلة

- ١ - اولي دول القارة في انتاج القمح.....
- ٢ - اكبر قارات العالم في انتاج الذرة .....
- ٣ - اكبر قارات العالم في انتاج البنجر .....
- ٤ - اكبر قارات العالم في انتاج المطاط .....

٢: امامك خريطة صماء للعالم اكتب ما تشير اليه الارقام :



- ١ - اولي القارات في تربية الابقار .....
- ٢ - اولي دول العالم في انتاج اللحوم الحمراء .....
- ٣ - اولي قارات العالم في انتاج الصوف .....
- ٤ - اولي دول العالم في انتاج الدواجن .....

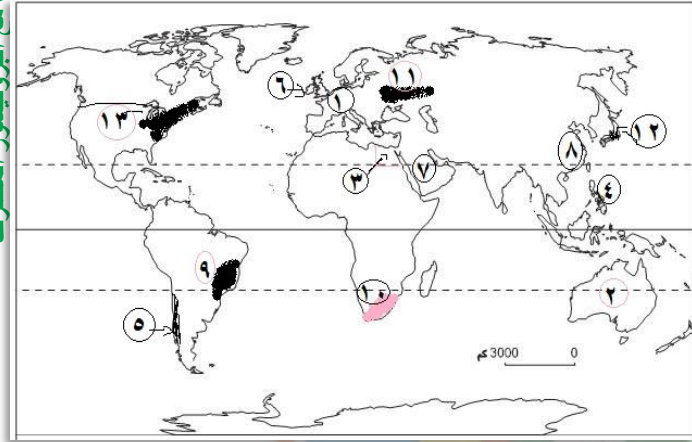


٣- أمامك خرائط صماء اكتب مدلول الأرقام عليها

- ١- نوع الزراعة السائدة.....
- ٢- نوع الزراعة السائدة.....
- ٣- نوع الزراعة السائدة.....
- ٤- أولى القارات لإنتاج القمح والقطن.....
- ٥- ثاني قارات العالم فى تربية الأبقار.....
- ٦- دائرة عرض.....
- ٧- أولى الدول لإنتاج اللحوم الحمراء.....
- ٨- ثاني القارات فى إنتاج المطاط الطبيعي.....
- ٩- من أهم قارات البنجر.....
- ١٠- أولى الدول فى إنتاج قصب السكر.....

مراجعة + بنك أسئلة

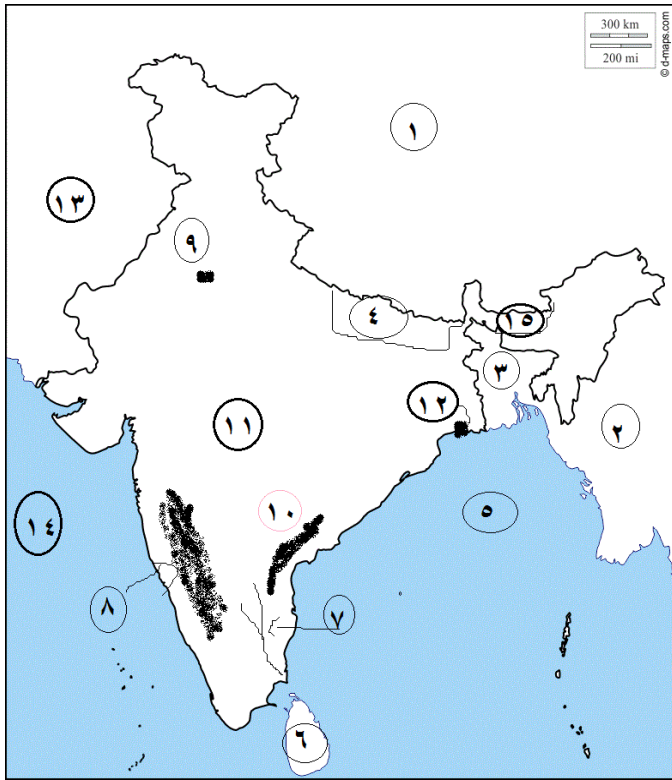
س ٤ : أمامك خرائط صماء اكتب مدلول الأرقام عليها



- ١- أولى القارات المنتجة للطاقة النووية.....
- ٢- أولى الدول المنتجة للبوكسيت.....
- ٣- أولى الدول المنتجة للكهرباء.....
- ٤- الزراعة السائدة.....
- ٥- أولى الدول المنتجة للنحاس.....
- ٦- دولة مستوردة للحديد.....
- ٧- أولى الدول المنتجة للبتترول.....
- ٨- أولى الدول المنتجة للفحم والحديد.....
- ٩- من المراكز الصناعية الحديثة.....
- ١٠- من المراكز الصناعية الحديثة.....
- ١١- إقليم صناعي.....
- ١٢- من مراكز إقليم شرق آسيا.....
- ١٣- أكبر الأقاليم الصناعية فى العالم الجديد.....



(١) خريطة صماء لدولة الهند :-



١. دولة .....
٢. دولة .....
٣. دولة .....
٤. دولة .....
٥. خليج .....
٦. جزيرة .....
٧. نهر .....
٨. جبال .....
٩. العاصمة .....
١٠. جبال .....
١١. هضبة .....
١٢. مدينة .....
١٣. دولة .....
١٤. البحر .....
١٥. دولة .....

(٢) خريطة صماء لدولة البرازيل :-



١. دولة .....
٢. دولة .....
٣. نهر .....
٤. دولة .....
٥. دولة .....
٦. دولة .....
٧. دولة .....
٨. دولة .....
٩. مدينة .....
١٠. مدينة .....
١١. العاصمة .....
١٢. دائرة .....
١٣. دولة .....
١٤. المحيط .....

مستز احمد المراكبي

مستز احمد المراكبي

الدراسات تختلف مع البروفيسور المحترف

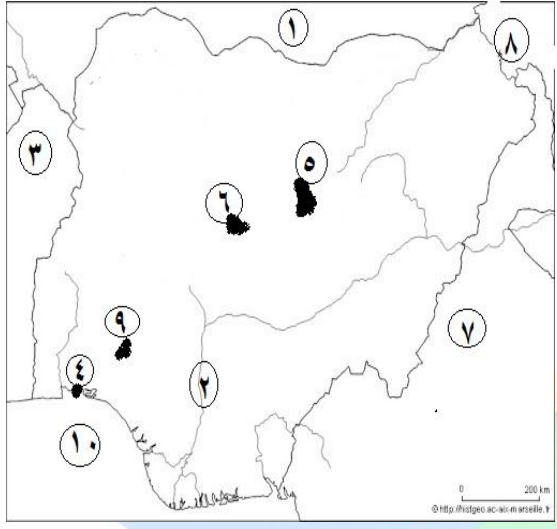
الدراسات تختلف مع البروفيسور المحترف

البروفيسور / احمد المراكبي

البروفيسور / احمد المراكبي

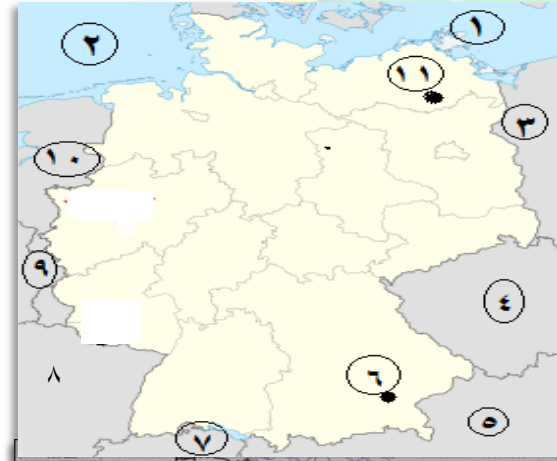


٣) أمامك خريطة دولة نيجيريا :-

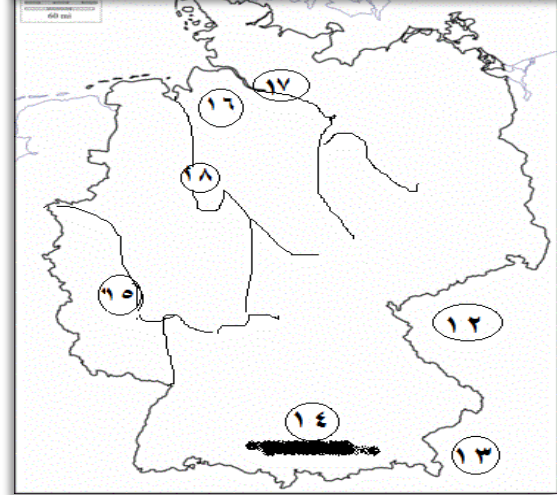


١. دولة .....
٢. نهر .....
٣. مدينة .....
٤. دولة .....
٥. هضبة .....
٦. العاصمة .....
٧. دولة .....
٨. دولة .....
٩. مدينة .....
١٠. خليج .....

٤) أمامك خريطة لدولة ألمانيا :-



١. البحر .....
٢. البحر .....
٣. دولة .....
٤. دولة .....
٥. دولة .....
٦. عاصمة اقليم بافاريا .....
٧. دولة .....
٨. دولة .....
٩. دولة .....
١٠. دولة .....
١١. العاصمة السياسية .....
١٢. دولة .....
١٣. دولة .....
١٤. جبل .....
١٥. نهر .....
١٦. السهل .....
١٧. نهر .....
١٨. نهر .....



مستر احمد المراكبي

مستر احمد المراكبي

الدراسات تختلف مع البروفيسور المحترف

الدراسات تختلف مع البروفيسور المحترف

البروفيسور / احمد المراكبي

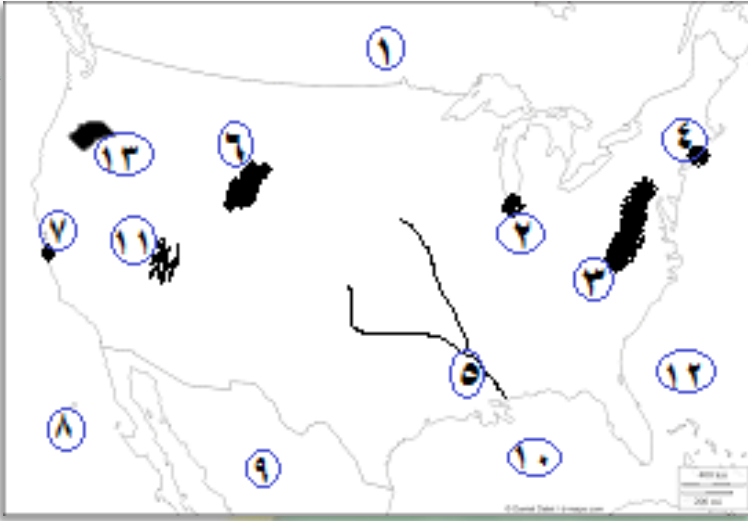
البروفيسور / احمد المراكبي



(٥) امامك خريطة صماء لدولة الولايات المتحدة الامريكية:-

مستر احمد المراكبي

مستر احمد المراكبي



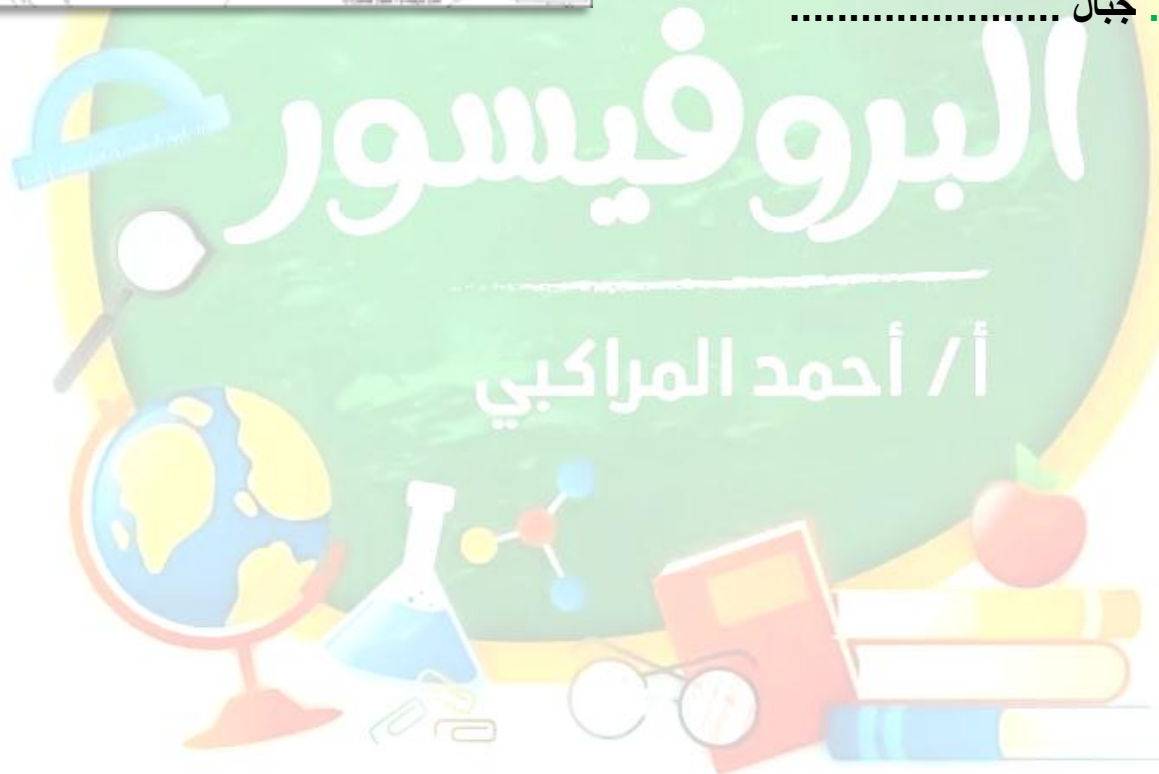
١. دولة .....
٢. مدينة .....
٣. جبال .....
٤. مدينة .....
٥. نهر .....
٦. جبال .....
٧. مدينة .....
٨. المحيط .....
٩. دولة .....
١٠. خليج .....
١١. هضبة .....
١٢. المحيط .....
١٣. جبال .....

الدراسات تختلف مع البروفيسور المحترف

الدراسات تختلف مع البروفيسور المحترف

البروفيسور / احمد المراكبي

البروفيسور / احمد المراكبي



أ / أحمد المراكبي





## التاريخ

## ثانيا

## السؤال الأول

ضع علامة ( ✓ ) أمام العبارة الصحيحة و علامة ( × ) أمام العبارة غير الصحيحة

- ١- محاصرة لقصر عابدين كانت في سبتمبر ١٩٥٢ م . ( )
- ٢ - حلت حكومة ثورة ٢٣ يوليو الأحزاب السياسية القائمة آنذاك . ( )
- ٣- كانت تجربة الوحدة بين مصر وسوريا في فبراير ١٩٥٨ م . ( )
- ٤ - كان الهدف من ثورة يوليو التخلص من الاحتلال الفرنسي . ( )
- ٥ - شكل مجلس الأمة بناء علي دستور ١٩٥٦ م . ( )
- ٦- اذيع البيان الاول لثورة ٢٣ يوليو بصوت محمد نجيب . ( )
- ٧- رفض الملك فاروق مغادرة البلاد هو واسرته قبل الموعد المحدد له . ( )
- ٨ - ألغت ثورة يوليو ١٩٥٢م دستور ١٩٢٣ م . ( )
- ٩- سعت امريكا لتأييد فكرة انشاء وطن قومي لليهود واصدرت وعد بلفور . ( )
- ١٠ - صدر عام ١٩٥٤م أول دستور بعد ثورة ١٩٥٢ م . ( )
- ١١ - يعتبر الفريق عبد المنعم رياض من شهداء حرب الاستنزاف . ( )
- ١٢- اول دولة اعترفت بقيام دولة اسرائيل هي الولايات المتحدة الامريكية . ( )
- ١٣ - يعد حزب الوفد من أقوى احزاب مرحلة ما بعد ثورة يوليو ١٩٥٢ م . ( )
- ١٤ - كانت مساندة مصر لثورة الجزائر من اسباب العدوان الثلاثي ٥٦ م . ( )
- ١٥ - مرحلة التنظيم السياسي الواحد كانت في الفترة من ١٩٥٣م - ١٩٧٦م . ( )
- ١٦ - طلبت مصر من قوات الطوارئ الانسحاب عام ١٩٦٧ م . ( )
- ١٧ - تزعم مصطفى كامل حزب الإصلاح . ( )
- ١٨ - الحزب الوطني بزعامة مصطفى كامل من أحزاب مرحلة ما بعد ثورة ١٩١٩م . ( )
- ١٩ - لعبت المرأة المصرية دورا كبيرا في الحياة السياسية منذ عام ١٩١٩م . ( )
- ٢٠- اعطي الرئيس السادات اشارة بدء حرب اكتوبر ١٩٧٣م . ( )
- ٢١ - حصلت المرأة علي حق الانتخاب والترشح لأول مرة في دستور ١٩٥٦م . ( )



- ٢٢ - انتهت حرب اكتوبر ١٩٧٣م نظرية الامن الاسرائيلية . ( )
- ٢٣ - ظهرت أول صحيفة نسائية مصرية علي يد هدي شعراوي . ( )
- ٢٤ - حزب الامة تزعمه الفيلسوف المفكر علي يوسف . ( )
- ٢٥ - يعرف خط الدفاع الاسرائيلي في هضبة الجولان خط بارليف . ( )
- ٢٦ - اظهرت حرب ١٩٧٣م اهمية استخدام سلاح النفط العربي . ( )
- ٢٧ - اخترقت المدرعات السورية خط الوان في هضبة الجولان ٧٣م . ( )
- ٢٨ - اصدار دستور ١٩٧١م كان اجراء لتهيئة الجبهة الداخلية . ( )
- ٢٩ - عارضت مصر اتفاق اوسلو ١٩٩٣م . ( )
- ٣٠ - اعلن الرئيس السادات عن مبادرة للسلام عام ١٩٧٦م . ( )
- ٣١ - فشل مؤتمر كامب ديفيد بين السادات وبيجين ولم يصل الي نتائج . ( )
- ٣٢ - شاركت مصر بفاعلية في مؤتمر مدريد للسلام في ١٩٩١م . ( )
- ٣٣ - تحقق الانسحاب الاسرائيلي من سيناء ٢٥ ابريل ١٩٨٢م . ( )
- ٣٤ - كانت معاهدة السلام بين مصر واسرائيل بمشاركة ورعاية اسبانيا . ( )
- ٣٥ - اكدت الاحداث بعد ثورة ٢٥ يناير ان الجيش هو قوة مساندة الشعب . ( )
- ٣٦ - من الاسباب الاقتصادية للثورة استمرار العمل بقانون الطوارئ . ( )
- ٣٧ - ادي سوء الاوضاع الاجتماعية في مصر الي قيام ثورة ٢٥ يناير . ( )
- ٣٨ - من مقدمات ثورة ٣٠ يونيو عدم ارتياح الشعب للتغيرات السياسية بعد ثورة يناير ٢٠١١م . ( )
- ٣٩ - تسلم السلطة في يوليو ٢٠١٣م المستشار عدلي منصور . ( )
- ٤٠ - ساهمت التكنولوجيا المتطورة في اندلاع ثورة ٢٥ يناير . ( )

مراجعة + بنك أسئلة

اختر الاجابة الصحيحة مما بين القوسين

السؤال الثاني

- ١ - من اهم انجازات ثورة ٢٣ يوليو ١٩٥٢م في المجال السياسي..... (بناء السد العالي - مجانية التعليم - قوانين التأمينات الاجتماعية - تأميم شركة قناة السويس )
- ٢ - أسس مجلس المشورة والمجلس العالي..... ( محمد علي - الخديو إسماعيل - الملك فاروق - الخديو توفيق )
- ٣ - حاصر الانجليز في فبراير ٤٢م قصر عابدين لإجبار فاروق علي تعيينه رئيس للحكومة. ( سعد زغلول - مصطفى النحاس - شريف باشا - رياض باشا )



٤ - بموجب دستور ١٩٥٦م تم تشكيل مجلس..... عام ١٩٥٧م .

( المشورة - الأمة - شوري النواب - شوري القوانين ) .

٥ - القضاء علي الاقطاع احد انجازات ثورة ٢٣ يوليو في المجال.....

(السياسي - الاقتصادي - الاجتماعي - العربي والدولي ) .

٦ - من المجالس النيابية التي أنشئت في ظل الاحتلال البريطاني لمصر.....

( مجلس شوري القوانين - الجمعية العمومية - الجمعية التشريعية - جميع ما سبق ) .

٧- بموجب اذاعة البيان الاول لثورة ٢٣ يوليو ١٩٥٢م اصبحت جميع قطاعات الجيش تحت سيطرته.....

( جمال عبد الناصر - محمد نجيب - السادات - الملك فاروق ) .

مراجعه + بنك أسئلة

٨ - أصدر الرئيس السادات الدستور الدائم ١٩٧١م للتأكيد علي.....

( سيادة القانون - استقلال القضاء - التعددية الحزبية - كل ما سبق ) .

٩- تأسيس حركة عدم الانحياز من انجازات ثورة ٢٣ يوليو ٥٢م في المجال.....

(السياسي - الاقتصادي - الاجتماعي - الدولي ) .

١٠ - أنشا الخديو اسماعيل أول مدرسة لتعليم البنات عام ١٨٧٣م استجابة لدعوة.....

( علي مبارك - رفاة الطهطاوي - محمد فريد - مصطفى كامل ) .

١١- رفضت الدول العربية مشروع تقسيم..... عام ١٩٤٧م .

( فلسطين - مصر - السودان - سوريا ) .

١٢ - أول مدرسة في مصر لتعليم البنات.....

( الخديوية - التوفيقية - السنية - السعيدية ) .

١٣- اعلن اليهود قيام دولة..... في ١٥ مايو ١٩٤٨م .

( فلسطين - سوريا - اسرائيل - بريطانيا ) .

١٤ - عين الرئيس السادات وزيرة الشؤون الاجتماعية..... عام ١٩٧١م .

( جميلة حافظ - حكمت أبوزيد - عائشة راتب - هدي شعراوي ) .

١٥- وضعت فلسطين تحت الانتداب البريطاني طبقا لقرارات مؤتمر..... ١٩٢٠م .

( سان ريمو - الاستانة - مدريد - باندونج ) .

١٦ - حصلت علي منصب رئيس اللجنة التشريعية بمجلس الشعب.....

( هدي شعراوي - حكمت أبوزيد - عائشة راتب - امال عثمان ) .



١٧- من ابشع الجرائم الصهيونية بفلسطين مذبحه.....

( رفح - بيت لحم - دير ياسين - القدس ) .

١٨ - قيام الشعب بانتخاب ممثلين له لإدارة البلاد المقصود به.....

( الدستور - الحياة النيابية - البرلمان - النقابات العمالية ) .

١٩ - اشترك في العدوان الثلاثي علي مصر كل من اسرائيل وبريطانيا و.....

( المانيا - ايطاليا - الولايات المتحدة - فرنسا ) .

٢٠ - تم تزوير الانتخابات..... لعام ٢٠١٠ م لصالح الحزب الوطني .

( العالمية - البرلمانية - الاتحادية - الرئاسية ) .

مراجعة + بنك أسئلة

٢١ - التطبيق غير السليم لسياسة الخصخصة من الاسباب..... لقيام ثورة يناير .

( السياسية - الاجتماعية - الاقتصادية - الثقافية ) .

٢٢ - تخلي..... عن الحكم يوم الجمعة ١١ فبراير ٢٠١١ م .

( محمد مرسي - حسني مبارك - محمد نجيب - عدلي منصور ) .

٢٣ - تنحي الرئيس مبارك عن الرئاسة وتسلم..... ادارة البلاد .

( المجلس العسكري - المحكمة الدستورية - مجلس الشعب - مجلس الشوري ) .

٢٤ - سيطر..... على جميع قطاعات الجيش المصري بعد اذاعة البيان الاول لثورة ٢٣ يوليو .

( محمد نجيب - جمال عبدالناصر - أنور السادات - عبدالمنعم رياض ) .

٢٥ - شارك مصر فى تشكيل حركة عدم الانحياز كل من اندونيسيا ويوغسلافيا (سابقا) و.....

( الصين - الهند - كينيا - العراق ) .

٢٦ - وافقت هيئة الامم المتحدة عام ١٩٤٧م على.....

( تقسيم فلسطين - تقسيم القدس - الانتداب البريطاني على فلسطين - انسحاب اليهود من فلسطين ) .

٢٧ - امتنعت..... عن التصويت على مشروع تقسيم فلسطين عام ١٩٤٧م .

( بريطانيا - الولايات المتحدة الامريكية - الاتحاد السوفيتي - فرنسا ) .

٢٨ - بعد فشل العدوان الثلاثي على مصر انسحبت اسرائيل عام ١٩٥٧م من.....

( غزة وسيناء - السويس - الضفة الغربية لنهر الاردن - بورسعيد ) .

٢٩ - استولت اسرائيل على هضبة الجولان عقب.....

( حرب فلسطين - العدوان الثلاثي ١٩٥٦م - عدوان ٥ يونيه ١٩٦٧م - حرب الاستنزاف ) .

٣٠- كانت تجربة الوحدة بين مصر وسوريا من نتائج .....

( عدوان ٥ يونيه ١٩٦٧م - حرب الاستنزاف - حرب فلسطين عام ١٩٤٨م - العدوان الثلاثي ) .

٣١- كانت مصر خلال حرب الاستنزاف تقوم بالقصف المستمر ل.....بالمدفعية .

( خط بارليف - خط الوان - المدمرة ايلات - الضفة الغربية للقناة ) .

٣٢- كانت معاهدة السلام بين مصر واسرائيل عام ١٩٧٩م برعاية.....

( روسية - امريكية - اوربية - عربية ) .

٣٣- يوجد مقر الامانة العامة للأمم المتحدة بمدينة.....

( روما - جنيف - لاهى - نيويورك ) .

مراجعة + بنك أسئلة

٣٤- يعد .....اعلى سلطة داخل جامعة الدول العربية .

( الامانة العامة - مجلس الجامعة - اللجان الدائمة - مجلس الوصاية ) .

### لمن تنسب الأعمال الآتية

### السؤال الثالث

١- قام بتأسيس تنظيم الضباط الاحرار للقيام بثورة يوليو ١٩٥٢ م .

٢- إصدار قانون الأحزاب السياسية في يونيو ١٩٧٧م .

٣- تنازل له والده عن عرش مصر ١٩٥٢م .

٤- إصدار أول مجلة نسائية مصرية هي ( الريحانة ) ١٩٠٧م .

٥- اذاع البيان الاول لثورة يوليو ١٩٥٢م من دار الاذاعة المصرية .

٦- تعيين عائشة راتب وزيرة للشئون الاجتماعية ١٩٧١م .

٧- اول رئيس للجمهورية المصرية في يونيو ١٩٥٣م .

٨- أنشا مجلس المشورة .

٩- وافق علي مطالب ثورة يوليو ١٩٥٢م وغادر البلاد .

١٠- أنشأ مجلس شوري النواب ١٨٦٦م .

١١- انتهت انتدابها علي فلسطين ١٩٤٨م .

١٢- أشار علي الخديو إسماعيل بإنشاء مدرسة السنية لتعليم البنات .

١٣- اصدرت تصريحاً تعهدت فيه بريطانيا انشاء وطن قومي لليهود .

١٤- أصدر الدستور الدائم لمصر عان ١٩٧١م .

١٥- قدم مبادرة عرفت ب اسمه لوقف اطلاق النار لحل النزاع سلميا .



- ١٦ - انتخبت رئيسا للجنة الوفد المركزية للسيدات ١٩٢٠ م .
- ١٧- من مراحل اعادة بناء القوات المسلحة استشهد خلالها الفريق اول عبد المنعم رياض .
- ١٨ - أول وزيرة للشئون الاجتماعية بمصر ١٩٦٢ م .
- ١٩- كان رئيسا لأركان القوات المسلحة في ديسمبر ١٩٧٣ م .
- ٢٠ - أنشأ أول مدرسة لتعليم البنات في مصر عام ١٨٧٣ م .
- ٢١- قاد سلاح الطيران في حرب اكتوبر ١٩٧٣ م .
- ٢٢ - شاركت في الحياة النيابية وشغلت منصب رئيس اللجنة التشريعية بمجلس الشعب .
- ٢٣- وزير الحربية وقائد القوات المسلحة في حرب اكتوبر ١٩٧٣ م .
- ٢٤ - قام بإعداد دراسة عن انسب التوقيتات للقيام بعمليات حربية .
- ٢٥ - عقد معاهدة السلام مع اسرائيل عام ١٩٧٩ م .
- ٢٦ - اصدرت حكما بأحقية مصر في طابا سبتمبر ١٩٨٨ م .
- ٢٧ - بادر بزيارة اسرائيل عام ١٩٧٧ م ودعا للسلام العادل .
- ٢٨ - الرئيس الامريكى الذي دعا مصر واسرائيل لعقد مؤتمر كامب ديفيد .
- ٢٩ - عين عائشة راتب وزيرة للشئون الاجتماعية عام ١٩٧١ م .
- ٣٠ - تولى رئاسة الحكومة المصرية فى فبراير ١٩٤٢ م .
- ٣١ - قام بتنفيذ خطة عبور القوات المصرية لقناة السويس وتحطيم خط بارليف .

مراجعة + بنك أسئلة

## أكمل العبارات الآتية

## السؤال الرابع

- ١ - ( بارليف - الجسمي - الوان - سعد الدين الشاذلي - احمد اسماعيل - الدفر سوار ) .
- ١- يعرف خط الدفاع الإسرائيلي في هضبة الجولان باسم.....
- ٢- تولي الفريق ..... منصب رئيس هيئة عمليات القوات المسلحة عام ١٩٧٢ م .
- ٣- ساعدت الولايات المتحدة اسرائيل في احداث ثغرة ..... خلال حرب اكتوبر .
- ٤- يعرف خط الدفاع الاسرائيلي في سيناء علي طول القناة ب اسم .....
- ٥- شارك الفريق ..... في وضع خطة العبور وتحطيم خط بارليف .
- ٢ - ( السادات - كامب ديفيد - امريكية - مدريد - التحرير الفلسطينية - طابا - اسرائيل ) .
- ١- تم توقيع اتفاقية اوسلو عام ١٩٩٣ م بين منظمة ..... و .....
- ٢- الارض مقابل السلام مبدأ دعا اليه مؤتمر .....



- ٣- اعلن الرئيس ..... عن مبادرة السلام عام ١٩٧٧ م .
- ٤- استردت مصر سيناء كاملة ١٨٨٢م عدا مدينة .....
- ٥- دعا الرئيس الامريكي كارتر في سبتمبر ١٩٧٨م الي اجتماعات في .....
- ٦- كانت معاهدة السلام بين مصر واسرائيل برعاية .....
- ١- رحلت القوات ..... عن مصر بعد احتلال دام ٧٤ عاما .
- ٢- تم اصدار قانون الاصلاح ..... الاول عام ١٩٥٢م .
- ٣- عدم الانضمام الي اي من الكتلتين الشرقية والغربية يسمى .....
- ٤- تنازل الملك فاروق عن العرش لابنه .....
- ٥- من عوامل قيام ثورة يوليو ٥٢م استمرار الاحتلال .....
- ٦- حاصر الانجليز في فبراير قصر عابدين لإجبار ..... على تعيين ..... رئيسا للحكومة .
- ٧- ساهمت ثورة ٢٣ يوليو ١٩٥٢م على المستوى العربي في تحقيق استقلال كل من .....
- ٨- قام الشعب الفلسطيني بثورة ١٩٥٢م بقيادة .....
- ٩- نص مشروع تقسيم فلسطين ١٩٤٧م على تدويل منطقة .....
- ١٠- سعت بريطانيا لتأييد فكرة انشاء وطن قومي لليهود في فلسطين فأصدرت .....
- ١١- بموجب دستور ١٩٥٦م تم تشكيل مجلس ..... عام ١٩٥٧
- ١٢- يتمثل الجهاز القضائي للأمم المتحدة في .....
- ١٣- انشا محمد علي مجلس ..... ، والمجلس .....

## مراجعة + بنك أسئلة

بم تفسر

السؤال الخامس

- ١- قيام ثورة يوليو ١٩٥٢م .

- ٢- لم يحقق مجلس المشورة في عصر محمد علي حياة نيابية سليمة .

- ٣- تأسيس تنظيم الضباط الاحرار .



٤ - شهدت مصر نهضة نسائية في مختلف المجالات في فترة ما بعد ١٩٠٢م حتى ثورة ١٩٥٢م .

٥ - فساد النظام الملكي قبل ثورة ١٩٥٢م .

٦ - إصدار الرئيس السادات دستور ١٩٧١م .

٧ - أهمية فلسطين للشعوب العربية .

٨ - يعتبر عصر الخديوي إسماعيل بداية تعليم البنات في مصر الحديثة .

٩ - هزيمة الجيوش العربية في حرب فلسطين ١٩٤٨م .

١٠ - فشل العدوان الثلاثي علي مصر ١٩٥٦م .

١١ - قيام حرب أكتوبر ١٩٧٣م .

١٢ - اقامة معابر علي طول قناة السويس في حرب أكتوبر ١٩٧٣م .

١٣ - أهمية الضربات الجوية في حرب أكتوبر ١٩٧٣م .

١٤ - انتصار العرب في حرب أكتوبر ١٩٧٣م .

١٥ - عقد مؤتمر كامب ديفيد ١٩٧٨م .

مراجعة + بنك أسئلة



١٦- عقد مؤتمر للسلام في مدريد بإسبانيا عام ١٩٩١ م .

١٧- انسحاب اسرائيل من طابا ١٩٨٩ م

١٨- تشكيل الشعب المصري لما عرف باللجان الشعبية اثناء ثورة ٢٥ يناير .

١٩- يعد الجيش المصري هو الضامن هو الضامن لثورة ٢٥ يناير .

مراجعه + بنك اسئله

٢٠- اعتبار الانتخابات البرلمانية ٢٠١٠م مخالفة لإرادة الشعب .

٢١- محاصرة قوات الاحتلال البريطاني لقصر عابدين فى فبراير ١٩٤٢م

٢٢- مشاركة مصر فى مؤتمر مدريد للسلام عام ١٩٩١م

٢٣- موافقة الملك فاروق على مطالب الثورة ٢٣ يوليو ١٩٥٢م

٢٤- عجز الاحزاب السياسية عن التعبير عن ارادة الشعب المصري ومطالبه قبل الثورة يوليو ١٩٥٢م .

٢٥- لم تحقق معاهدة ١٩٣٦م الاستقلال الحقيقى لمصر .

٢٦- اعداد وتخطيط مصر وسوريا لحرب اكتوبر ١٩٧٣م .

٢٧- هزيمة العرب فى حرب ٥ يونيه ١٩٦٧م .



٢٨- قيام ثورتي ٢٥ يناير ٢٠١١م، و٣٠ يونيو ٢٠١٣م .

٢٩- ثورة ٣٠ يونيو ٢٠١٣م .

٣٠- مبادرة زيارة الرئيس السادات لإسرائيل عام ١٩٧٧م .

مراجعة + بنك أسئلة

٣١- عودة طابا للسيادة المصرية ١٩٨٩م .

٣٢- سوء الاحوال الاجتماعية فى مصر قبيل ثورة ٢٣ يوليو ١٩٥٢م .

٣٣- اغلاق مصر خليج العقبة امام الملاحة الاسرائيلية .

٣٤- اعلان مصر وقوفها بجانب سوريا عام ١٩٦٧م .

٣٥- صدور قانون الاصلاح الزراعي الاول سبتمبر ١٩٥٢م .

٣٦- فشل العدوان الثلاثي على مصر عام ١٩٥٦م .



٣٧- تدهور الأوضاع الاقتصادية في مصر قبل ثورة ٢٥ يناير ٢٠١١ .

مستر احمد المراكبي

مستر احمد المراكبي

ما النتائج المترتبة علي

السؤال السادس

١- انشاء السد العالي .

مراجعة + بنك أسئلة

٢ - ثورة ٢٣ يوليو بالنسبة للمرأة المصرية .

٣- اهتمام ثورة يوليو بالمرأة .

٤ - صدور دستور ١٩٢٣ م .

٥- مؤتمر سان ريمون بإيطاليا ١٩٢٠ م .

٦ - صدور دستور ١٩٥٦ م بعد ثورة يوليو ١٩٥٢ م .

٧- قرار تقسيم فلسطين .

٨ - دعوة رفاة الطهطاوي لتعليم المرأة .

٩- التنسيق بين مصر وسوريا في حرب ١٩٧٣ م .

١٠- اجتماع وزراء النفط العرب بالكويت اثناء حرب اكتوبر ١٩٧٣ م .

الدراسات تختلف مع البروفيسور المحترف

الدراسات تختلف مع البروفيسور المحترف

البروفيسور / احمد المراكبي

البروفيسور / احمد المراكبي



١١- توقيع معاهدة السلام مارس ١٩٧٩ م .

١٢- قرار التحكيم الدولي في سبتمبر ١٩٨٨ .

١٣- اتفاقية اوسلو ١٩٩٣ م .

١٠- مواقع التواصل الاجتماعي مثل فيس بوك في ثورة ٢٥ يناير .

مراجعه + بنك اسئله

١٤- الاضطراب الامني الذي حدث في ثورة ٢٥ يناير .

١٥- تنحي مبارك عن الحكم في ١١ فبراير ٢٠١١ م .

١٦- التطبيق غير السليم لسياسة الخصخصة في مصر .

١٧- اجتماع وزارة النفط العربي بالكويت اثناء حرب اكتوبر ١٩٧٣ م .

١٨- ثورة ٣٠ يونيه ٢٠١٣ م .

١٩- معركة رأس العش .

٢٠- العدوان الإسرائيلي ٥ يونيه ١٩٦٧ م .



٢١- عقد مؤتمر مدريد للسلام عام ١٩٩١ م .

٢٢- مؤتمر كامب ديفيد سبتمبر ١٩٧٨ م .

٢٣- توقيع اتفاقية الجلاء فى اكتوبر ١٩٥٤ م .

٢٤- تدهور الاوضاع الاجتماعية والاقتصادية والاجتماعية فى عهد الرئيس الاسبق مبارك .

مراجعة + بنك اسئلة

٢٥- حرب الاستنزاف ١٩٦٩ م .

٢٦- رفض اسرائيل تنفيذ قرار مجلس الامن رقم ٢٤٢ .

٢٧- تطبيق الهدنة فى حرب فلسطين عام ١٩٤٨ م .

٢٨- اهتمام ثورة ٢٣ يوليو ١٩٥٢ بمجال الزراعة والصناعة .

٢٩- تقديم الولايات المتحدة الامريكية معلومات عسكرية لإسرائيل اثناء حرب اكتوبر .

٣٠- الضربة الجوية الناجحة التي قام بها سلاح الطيران المصري فى حرب ١٩٧٣ م .

٣١- بناء حائط من الصواريخ على الضفة الغربية لقناة السويس خلال حرب الاستنزاف .



## صوب ما تحته خط

## السؤال السابع

- ١- من انجازات ثورة يوليو تحقيق اول تجربة عربية في الوحدة بين مصر وفلسطين .
- ٢- قام محمد نجيب ب اذاعة البيان الاول للثورة .
- ٣- تزعم جمال عبد الناصر حركة ضباط عرفت ب اسم حركة عدم الانحياز .
- ٤- استجاب الخديو اسماعيل لدعوة رفاة الطهطاوي وانشأ صحيفة نسائية .
- ٥- عقدت اول قمة افريقية عام ١٩٦٤م في السودان .
- ٦- عقد مدينة جنيف مقر منظمة الامم المتحدة .
- ٧- عين الرئيس السادات حكمت ابو زيد وزيرة للشئون الاجتماعية عام ١٩٧١م .
- ٨- الادارة المحلية في مصر ضمن عناصر السلطة التشريعية .

مراجعة + بنك أسئلة

## دلل تاريخيا علي صحة العبارات الآتية

## السؤال الثامن

- ١- اهتمام ثورة ٢٣ يوليو بحقوق العمال .
- ٢- معاهدة ١٩٣٦م لم تحقق الاستقلال الحقيقي لمصر .
- ٣- للسلام مزايا عديدة لمصر ولوطننا العربي .
- ٤- نجاح ثورة يوليو ١٩٥٢م في تحقيق اهدافها في القضاء على الاستعمار واعوانه .



٥- كان للقوات المسلحة دورا كبيرا في ثورة ٢٥ يناير ٢٠١١ م .

مستر احمد المراكبي

مستر احمد المراكبي

دور الولايات المتحدة الأمريكية في الحرب	
	عسكرياً
	سياسياً

مراجعة + بنك أسئلة

الدراسات تختلف مع البروفيسور المحترف

الدراسات تختلف مع البروفيسور المحترف

٧- كان للانتخابات البرلمانية عام ٢٠١٠ دورامها في قيام ثورة ٢٥ يناير .

٨- ساندت الولايات المتحدة الامريكية اسرائيل في حرب اكتوبر ١٩٧٣ م .

٩- تعتبر بريطانيا صانعة مشكلة فلسطين .

١٠- لجأت مصر في الطرق السلمية لاستعادة طابا .

البروفيسور / احمد المراكبي

البروفيسور / احمد المراكبي



١١- كان للأمم المتحدة دور كبير في تقسيم فلسطين عام ١٩٤٧ م .  
عرضت بريطانيا حل القضية الفلسطينية على هيئة الأمم المتحدة التي وافقت عام ١٩٤٧ م على  
تقسيم فلسطين إلى :

١٢- عدم التزام اليهود بالهدنة كام سببا في تفوقهم في حرب ١٩٤٨ م.

مراجعة بنك أسئلة

١٣- اختلفت الكتابات وتعددت الآراء حول ثورة ٢٣ يوليو ١٩٥٢ م .

البروفيسور  
أ / أحمد المراكبي

١٤- كان لمعاهدة ١٩٣٦ م اثر في تدهور الاحوال الاقتصادية في مصر.

١٥- حققت ثورة ٢٣ يوليو ١٩٥٢ هدفها في القضاء على الاقطاع .





١٦- كان لثورة ٢٣ يوليو ١٩٥٢م انجازات فى المجال الزراعي .

مستر احمد المراكبي

مستر احمد المراكبي

١٧- كان عدوان ٥ يونيه ١٩٦٧م كارثة عربية .

مراجعه + بنك اسئله

١٨- كان يوم ١١ فبراير ٢٠١١م يوم تاريخي فى حياة الشعب المصري .

١٩- قامت مصر بتهيئة الجبهة الداخلية قبل حرب اكتوبر ١٩٧٣م .

٢٠- لفلسطين اهمية كبيرة فى كل قلب عربي .

٢١- حققت ثورة ٢٣ يوليو ١٩٥٢م اهدافها فى مجال الصناعة .

الدراسات تختلف مع البروفيسور المحترف

الدراسات تختلف مع البروفيسور المحترف

البروفيسور / احمد المراكبي

البروفيسور / احمد المراكبي





٢٢- حققت ثورة ٢٣ يوليو ١٩٥٢ هدفها في المجال العربي والدولي .

مستر احمد المراكبي

مستر احمد المراكبي

٢٣- حققت ثورة ٢٣ يوليو ١٩٥٢ هدفها في تحقيق انجازات اجتماعية .

مراجعه + بنك اسئلة

الدراسات تختلف مع البروفيسور المحترف

الدراسات تختلف مع البروفيسور المحترف

٢٤- فساد النظام الملكي في مصر من عوامل ثورة ٢٣ يوليو ١٩٥٢ م .

٢٥- شهدت مرحلة ما بعد ثورة ١٩ م حتي ثورة يوليو نهضة نسائية .

أجب عن الأسئلة الآتية

السؤال التاسع

١- ما العلاقة بين ؟ معاهدة الدفاع المشترك ١٩٨٥ م وعدوان يونيو ١٩٦٧ م .

٢- ما العلاقة بين صدور دستور ١٩٢٣ م والحياة النيابية في مصر .

٣- اثبت صحة العبارة بالأدلة تعتبر بريطانيا صانعة مشكلة فلسطين .

البروفيسور / احمد المراكبي

البروفيسور / احمد المراكبي



٤- ماذا كان يحدث إذا أهملت الدولة مكانة المرأة في الفترة من ٨١م حتى الان .

٥- حدد الدول التي ساعدت علي استيلاء اليهود علي فلسطين .

٦- ما العلاقة بين الولايات المتحدة الامريكية وثغرة الدفر سوار .

٧- ماذا كان يحدث اذا لم تقم حرب ١٩٧٣م .

مراجعة + بنك اسئلة

٨- وضح الدعم العربي لمصر وسوريا اثناء حرب اكتوبر ١٩٧٣م .

٩- اثبت بالأدلة التاريخية: انتهت حرب اكتوبر ١٩٧٣م نظرية الامن الإسرائيلية .

١٠- ما لعلاقة بين : التطور التكنولوجي وقيام ثورة ٢٥ يناير ٢٠١١م .

١١- ما العلاقة بين : القوات المسلحة واستقرار الاوضاع في مصر في ٣٠ يونيو .

١٢- ما العلاقة بين : سياسة الانفتاح الاقتصادي وثورة ٢٥ يناير ٢٠١١م

١٣- وضح دور الانتخابات البرلمانية عام ٢٠١٠م في قيام ثورة يناير ٢٠١١م .

١٤- اسباب تدهور الاوضاع الاقتصادية في مصر قبيل ٢٥ يناير .

١٥- رأيك في دور اللجان الشعبية التي شكلها الشعب المصري اثناء ثورة ٢٥ يناير .

١٦- لماذا تعد ثورة ٢٥ يناير ٢٠١١م من الثورات الفريدة في تاريخ مصر الحديث .



## السؤال العاشر

## قارن بين

١- قرار مجلس الامن ٢٤٢ - معاهدة السلام عام ١٩٧٩ م .

معاهدة السلام ٧٩	مجلس الامن ٢٤٢
مراجعة + بنك أسئلة	

٢- مؤتمر مدريد للسلام - اتفاقية اوسلو ، من حيث النتائج والاهداف .

اتفاقية اوسلو	مدريد للسلام	المؤتمر
		الاهداف
		النتائج

٣- قارن بين ( العدوان الثلاثي علي مصر ١٩٥٦م وعدوان ٥ يونيو ١٩٦٧م من حيث : الاسباب والنتائج ) .

يونيو ٦٧	الثلاثي ٥٦	العدوان
		الاسباب
		النتائج



٤ - رتب الاحداث التالية من القديم الى الحديث/ رتب العبارات طبقا لأولوية حدوثها : -

- حل الاحزاب السياسية
- هزيمة الجيش العربي فى حرب فلسطين
- الوحدة بين مصر واسرائيل
- الغاء الملكية و اعلان الجمهورية
- توقيع اتفاقية اوسلو

- تأميم شركة قناة السويس
- استعادة مصر طابا
- تخلى الرئيس الاسبق مبارك عن الرئاسة
- حدوث ثغرة الدفر سوار
- اتفاقية الجلاء بين مصر وبريطانيا

٥ - اعد كتابة العبارات الاتية بعد تصويبها ؟.....؟

- ١ - اغلقت مصر فى مايو ١٩٦٧ م خليج السويس فى وجه الملاحه الاسرائيلية .
- ٢ - حصلت المرأة على حق الانتخابات والترشح فى دستور ١٩٢٣ م .
- ٣ - عقد مؤتمر كامب ديفيد على اساس الارض مبدا السلام .
- ٤ - وضعت فلسطين تحت الانتداب البريطانى بمقتضى مؤتمر المائدة المستديرة ١٩٢٠ م .
- ٥ - تم تدمير المدمرة الاسرائيلية ايلات بسلاح المدفعية المصرية فى اكتوبر ١٩٦٧ م .
- ٦ - اقامة الوحدات الصحية والجمعيات الزراعية فى انجازات ثورة ٢٣ يوليو ١٩٥٢ م فى المجال السياسى .
- ٧ - تزعم جمال عبد الناصر مجموعة من ضباط الجيش المصرى عرفوا باسم حركة عدم الانحياز .
- ٨ - تعد ثورة ٢٣ يوليو ١٩٥٢ م من الثورات الفريدة فى التاريخ بسبب مساهمة التكنولوجيا المتقدمة وسائل الاتصال الحديثة .
- ٩ - دعا الرئيس الأمريكى كارتر فى سبتمبر ١٩٧٨ م الى عقد اجتماعات فى مؤتمر مدريد للسلام .
- ١٠ - أذيع اول بيان لثورة ٢٣ يوليو ١٩٥٢ م باسم جمال عبد الناصر .
- ١١ - اثرت حرب اكتوبر ١٩٧٣ م سلبا على العلاقات الدولية لبعض الدول مثل استراليا واوروبا وافريقيا .
- ١٢ - انشأ محمد على بعض المجالس الصورية منها مجلس شورى النواب ١٨٦٦ م .
- ١٣ - شغلت عائشة راتب منصب وزيرة للشئون الاجتماعية عام ١٩٧١ م فى عهد محمد انور السادات .



" اهداء هذا العمل الي روح جدي نسالكم الفاتحة والدعاء

مع اطيب الامنيات بالنجاح والتوفيق عام دراسي سعيد

اسال الله العظيم رب العرش العظيم ان يعم علينا الخير وان يرزقنا  
ويهدينا الي كل خير لما يحب ويرضي "

"" غير مسموح نهائيا وأبدا لأي حد من :

مركز ( الواسطي - بني سويف ) استخدام هذه المراجعة غير الطلاب  
اللي معايا فقط سواء في مادة **العربي** أو **الدراسات** و**حسبي الله ونعم**  
**الوكيل** في أي طالب أو ولي أمر ياخذ هذه المراجعة ويطبعها بدون  
استئذان أو أي وجه حق حقي ومش مسامح فيه نهائيا وخصيم أي حد  
يوم القيامة يعمل كذا ""

"" غير مسموح لأي مدرس يقوم بالتعديل علي المذكرة أو ينسبها  
لنفسه ""

"" تابعونا مع 200 ألف عبر جروبنا علي الفيس بوك

و 40 الاف عبر قناة التليجرام ""

اسم الجروب ← البروفيسور - أ / احمد المراكبي

متاح التعاقد علي المذكرة ب اسم وبيانات السادة المعلمين

للتواصل واتس فقط : 01016058940

في سلسلة البروفيسور

# الدراسات الاجتماعية

• للمرحلة الابتدائية والإعدادية •

ثالثة إعدادي

إعداد مستر أحمد المراكبي

: للتواصل والاستفسار :

مناح التعاقد عليها للسادة المدرسين





## بنك أسئلة البروفيسور الشامل في مادة " الدراسات الاجتماعية "

### علي مقررات " الفصل الدراسي الثاني "

#### الجغرافيا

#### أولا

#### السؤال الأول

ضع علامة ( ✓ ) أمام العبارة الصحيحة و علامة ( × ) أمام العبارة غير الصحيحة

- ١- تعد قارة **أوروبا** اولي قارات العالم في انتاج القمح . **اسيا** مراجعة + بنك أسئلة ( × ) .
- ٢- يزرع المطاط والارز في جنوب نيجيريا . ( ✓ ) .
- ٣- يزرع قصب السكر في **كل** قارات العالم . **عدا أوروبا** ( × ) .
- ٤- ترتبط كثير من الانشطة التي يمارسها الاسنان بالموارد الزراعية ( ✓ ) .
- ٥- تعد الصين المركز الاول في انتاج القمح ( ✓ ) .
- ٦- تتركز زراعة القطن في قارة **أوروبا** وتعد الهند من اكبر الدول المنتجة له . **اسيا** ( × ) .
- ٧- تعتمد اوربا على **قصب** السكر في انتاج السكر . **بنجر السكر** ( × ) .
- ٨- يوجد الرعى البدائي شمال قارتي اوربا واسيا في صحارى التندرا الباردة ( ✓ ) .
- ٩- يوجد الرعى التجاري في مناطق الحشائش القصيرة بأمريكا الشمالية . ( ✓ ) .
- ١٠- تعتبر **الهند** اكبر دولة في انتاج اللحوم الحمراء **الصين** ( × ) .
- ١١- تعد قارة اسيا اكبر قارات العالم انتاجا للقمح والقطن . ( ✓ ) .
- ١٢- توجد بقارة **اسيا** اولي دول العالم في انتاج الدواجن **امريكا الشمالية** ( × ) .
- ١٣- تعتبر **الولايات المتحدة** الامريكية اولي الدول في انتاج الاسماك **الصين** ( × ) .
- ١٤- تتساوى الدول المتقدمة مع الدول النامية في معدل استهلاك المعادن . **لا تتساوى** ( × ) .
- ١٥- يتركز سكان نيجيريا في **الجنوب** . **الغرب** ( × ) .
- ١٦- تمثل الصين المركز الاول في انتاج القمح . ( ✓ ) .
- ١٧- تنتج نيجيريا الفحم من المنطقة الشرقية . ( ✓ ) .
- ١٨- تعد دولة تايلاند اولي دول العالم في انتاج المطاط الطبيعي . ( ✓ ) .
- ١٩- تعد نيجيريا اكبر دول افريقيا من حيث عدد السكان . ( ✓ ) .



- ٢٠- تعتبر الألبان المنتج الثاني المهم للثروة الحيوانية . ( ✓ )
- ٢١- تعتبر ألمانيا **أقل** الدول الأوروبية من حيث عدد السكان . أكبر ( × )
- ٢٢- تعد **أستراليا** أكبر دول العالم في إنتاج الفحم . الصين ( × )
- ٢٣- تعد **مصر** من أكبر الدول المنتجة للألبان في العالم . الهند ( × )
- ٢٤- يتم إنتاج الكهرباء الحرارية من الفحم أو البترول أو الغاز الطبيعي ( ✓ )
- ٢٥- من مناطق الجذب السياحي في ألمانيا منطقة **جبال الألب** . المرتفعات الوسطى ( × )
- ٢٦- تحتل **بيرو** المركز الأول في تربية الأغنام عالمياً . الصين ( × )
- ٢٧- تقع ألمانيا في **شرق** القارة الأوروبية . غرب ( × )
- ٢٨- تعتبر الهند أكبر دول العالم في إنتاج **اللحوم** . الألبان ( × )
- ٢٩- تغطي الغابات نحو ثلث مساحة ألمانيا ونيجيريا ومصدراً للأخشاب . ( ✓ )
- ٣٠- معظم الإنتاج السمكي في العالم من المصايد **العزبية** . المالحة ( × )
- ٣١- تحد النمسا وسويسرا دولة ألمانيا من جهة **الشمال** . الجنوب ( × )
- ٣٢- تشتهر أستراليا بأجود أنواع الصوف في العالم . ( ✓ )
- ٣٣- الدول المنتجة للبوكسيت ليست هي الدول المصنعة للبترول . ( ✓ )
- ٣٤- **زامبيا** أكبر دول قارة أمريكا الجنوبية في إنتاج النحاس . شيلي ( × )
- ٣٥- تعد **أمريكا الشمالية** أكثر قارات العالم إنتاجاً للطاقة النووية تليها **أوروبا** . العكس ( × )
- ٣٦- يعتبر الغاز الطبيعي من مصادر الطاقة النظيفة التي لا تلوث البيئة . ( ✓ )
- ٣٧- تنقسم الصناعة على أساس مدى تركزها وجودتها إلى خفيفة أو ثقيلة حسب نوعيتها ( × )
- ٣٨- يعد **البترول** من مصادر الطاقة النظيفة والرخيصة في العالم . الغاز الطبيعي ( × )
- ٣٩- تأتي **العراق** في المركز الأول في الإنتاج العالمي للبترول . السعودية ( × )
- ٤٠- من المقومات **البشرية** لقيام وتطور الصناعة المواد الخام . الطبيعية ( × )
- ٤١- من أهم المناطق الصناعية في إقليم **روسيا** جزيرة هنشو . شرق آسيا ( × )
- ٤٢- تعد **البحيرات العظمى** من المراكز الصناعية الحديثة بأمريكا الشمالية . كندا والمكسيك ( × )
- ٤٣- يعتبر النشاط الصناعي قمة الأنشطة الاقتصادية المتطورة في العالم . ( ✓ )
- ٤٤- أكبر الأقاليم الصناعية في العالم الجديد إقليم شرق **إسبانيا** . الولايات المتحدة الأمريكية ( × )
- ٤٥- التطور العلمي وراس المال من العوامل **الطبيعية** لقيام الصناعة . البشرية ( × )
- ٤٦- يتركز سكان الهند في السهول الساحلية والفيضية ( ✓ )



- ٤٧- **نيودلهي** هي العاصمة التجارية للهند ومومباي هي العاصمة السياسية **مومباي** - نيودلهي ( × ) .
- ٤٨- **تستورد** مصر من الهند الفوسفات والقطن **تصدر** مصر الى الهند ( × ) .
- ٤٩- يسود المناخ المدارى الحار فى **اقصى جنوب** شرق البرازيل **السهول الشرقية** وهضبة البرازيل ( × ) .
- ٥٠- تنمو حشائش السافانا فى **حوض الامازون** بالبرازيل **فوق** هضبة البرازيل ( × ) .
- ٥١- يتركز سكان البرازيل على الساحل **الشمالي الشرقي** حيث المدن الرئيسية **الجنوبي الشرقي** ( × ) .
- ٥٢- تتركز الصناعة فى **جنوب غرب** البرازيل قرب مدينتى ساو باولو وريودي جانيرو . **جنوب شرق** ( × ) .
- ٥٣- **برازيليا** هي العاصمة القديمة للبرازيل وتعد واحدة من اجمل مدن العالم **ريودي جانيرو** ( × ) .
- ٥٤- اقتصاد نيجيريا اقتصاد **متقدم** يعتمد على الزراعة فى المقام **الاول اقتصاد نامي** ( × ) .
- ٥٥- يزرع المطاط والارز فى جنوب نيجيريا . ( ✓ ) .
- ٥٦- تأتى نيجيريا فى المركز الثانى لإنتاج الارز فى افريقيا بعد مصر . ( ✓ ) .
- ٥٧- ابوجا العاصمة **القديمة** بينما لاجوس اكبر المدن النيجيرية . **الجديدة** ( × ) .
- ٥٨- **تقتصر** الصادرات المصرية الى نيجيريا على المواد الخام . **العديد من المصنوعات** ( × ) .
- ٥٩- يسود المانيا مناخ غرب اوربا الممطر طوال العام خاصة فى الشمال . ( ✓ ) .
- ٦٠- تقع مدينة ميونخ عاصمة اقليم بافاريا **غرب المانيا** . **جنوب المانيا** ( × ) .
- ٦١- يطلق على المرتفعات الشرقية **جبال روكى** . **جبال الابلاش** ( × ) .
- ٦٢- مدينة برمنجهام من اهم المدن الصناعية فى منطقة **شمال** شرق الولايات الامريكية . **جنوب** ( × ) .
- ٦٣- تعد الولايات المتحدة الامريكية اولى دول العالم فى صناعة الطائرات . ( ✓ ) .
- ٦٤- **شيكاغو** اكبر الموانئ الامريكية على ساحل المحيط الهادى . **سان فرانسيسكو** ( × ) .
- ٦٥- نيويورك ميناء مهم يطل على المحيط **الهادى** . **المحيط الاطلنطى** ( × ) .

اختر الإجابة الصحيحة مما بين القوسين

السؤال الثانى

- ١- من المحاصيل ذات الطبيعة الخاصة ..... ( القمح - القطن - **البن** - الارز ) .
- ٢- يحد نيجيريا من الشمال دولة..... ( **النيجر** - السنغال - الكونغو - جنوب افريقيا ) .
- ٣- تعد قارة اسيا اولى قارات العالم فى انتاج ..... ( **البنجر** - الذرة - **القطن** - ج ما سبق ) .



- ٤ - تعد مدينة.....العاصمة القديمة وكبرى المدن النيجيرية .  
 ( إيبادان - لاجوس - أبوجا - النيجر ) .
- ٥ - من اهم محاصيل الالياف.....  
 ( القطن - الذرة - الشاي - المطاط ) .
- ٦ - تنتشر الزراعة البسيطة فى المناطق .....  
 ( المعتدلة الباردة - الباردة - الحارة - المعتدلة )
- ٧ - من المحاصيل التي تستخدم فى تصنيع إطارات السيارات.....  
 (الكتان - القطن - الجوت - المطاط الطبيعي ) .
- ٨ - تعتبر دولة ..... أكبر دول العالم إنتاجا للشاي .  
 (الولايات المتحدة الأمريكية - الصين - البرازيل - روسيا)
- ٩ - يصعب استخدام الآلات والمكينه الزراعية فى مناطق الزراعة .....  
 ( البسيطة - العلمية - البدائية - الكثيفة ) .
- ١٠ - من أهم محاصيل الألياف .....  
 ( الشاي - الذرة - المطاط - القطن ) .
- ١١ - أولى دول العالم إنتاجا للمطاط الطبيعي .....  
 ( تايلاند - الهند - البرازيل - الصين ) .
- ١٢ - من أهم دول افريقيا فى انتاج القطن .....  
 ( تونس - مصر - تشاد - نيجيريا ) .
- ١٣ - ينتج قصب السكر فى كل قارات العالم عدا قارة .....  
 ( اسيا - أفريقيا - أوربا - أستراليا ) .
- ١٤ - أكبر دولة منتجة للبنجر فى قارة أفريقيا هى .....  
 ( السعودية - نيجيريا - جنوب افريقيا - مصر ) .
- ١٥ - تحتل دولة .....المركز الأول عالميا فى إنتاج اللحوم الحمراء والأسماك معا .  
 ( الصين - أستراليا - فرنسا - الهند )
- ١٦ - ترتبط تربية .....بالمراعي التجارية الواسعة .  
 ( الجاموس - الرنة - الأغنام - الخيل ) .

مراجعة + بنك أسئلة



١٧- أكبر دول العالم المربية للأغنام دولة .....

( استراليا - مصر - بريطانيا - **الصين** ) .

١٨- يسود الرعي التجاري فى دولة .....بأمريكا الجنوبية

( كولومبيا - **الأرجنتين** - بيرو - شيلي ) .

١٩- تنتج قارة .....ثلثي الانتاج العالمي من القطن .

( امريكا الشمالية الجنوبية - امريكا الجنوبية - افريقيا - **اسيا** ) .

٢٠- يأتي ٤/٣ انتاج العالم من الفحم فى قارتي .....

( **اوروپا واسيا** - اسيا واستراليا - اوروبا وافريقيا - امريكا الشمالية واسيا ) .

٢١- اولى الدول فى انتاج النحاس .....

( الهند - الولايات المتحدة الامريكية - الصين - **شيلي** ) .

٢٢- تحتل قارة .....المركز الثاني عالميا فى انتاج الطاقة النووية .

( اوروبا - افريقيا - **امريكا الشمالية** - استراليا )

٢٣- المصدر الاول و الرئيسى للطاقة المستخدمة فى العالم حتى اوائل القرن ال ٢٠م .....

( البترول - الطاقة الكهربائية - **الفحم** - الرياح ) .

٢٤- تعد دولة .....أولى دول العالم انتاجا للبترول .

( الولايات المتحدة الامريكية - قطر - الصين - **السعودية** ) .

٢٥- دولة .....أكبر دول العالم انتاجا للحديد

( كندا - المانيا - فرنسا - **الصين** )

٢٦- يعد ..... الخام الرئيسى لمعدن الألومنيوم .

( الحديد - **اليوكسيت** - النحاس - الرصاص )

٢٧- يستخدم كل ما يلى فى انتاج الكهرباء الحرارية ماعدا .....

( البترول - **الشلالات** - الفحم - الغاز الطبيعي )

٢٨- تعد .....احد مراكز الصناعة فى شرق اسيا

( البرازيل - كندا - **كوريا** - تايلاند )

٢٩- استراليا اولى دول العالم انتاجا لخام .....

( النحاس - اليورانيوم - **الألومنيوم** - الحديد )



٣٠- تحتل دولة .....المركز الاول فى انتاج الاسماك فى العالم

(السويد - **الصين** - الهند - النرويج ) .

٣١- توجد خمس دول عربية تنتج الطاقة الكهربائية من الرياح تتقدمها مصر وتليها .....

(تونس - العراق - **المغرب** - الجزائر ) .

٣٢- يزرع فى قارة اوروبا جميع المحاصيل الزراعية عدا محصول .....

( الذرة - البنجر - القمح - **قصب السكر** ) .

٣٣- من المقومات الطبيعية للصناعة توافر .....

( الاسواق - التطور العلمي - رأس المال - **المواد الخام** ) .

٣٤- اكبر الاقاليم الصناعية فى العالم الجديد اقليم .....

( شرق اسيا - روسيا واوكرانيا - غرب ووسط اوروبا - **شمال شرق الولايات المتحدة** ) .

٣٥- تقع اهم مراكز الصناعة الحديثة فى جنوب شرق اسيا فى دولة .....

( شيلي - **ماليزيا** - المكسيك - فنزويلا ) .

٣٦- يقل عدد السكان فى نيجيريا فى .....

( هضبة جوس - **دلتا النيجر** - الولاية الغربية - السهول الشمالية ) .

٣٧- تعتبر من اكبر دول العالم انتاجا للشاي .....

( البرازيل - **الصين** - روسيا - الولايات ) .

٣٨- تعد تايلاند اولي دول العالم انتاجا ل .....

( الشاي - البن - السكر - **المطاط الطبيعي** ) .

٣٩- تنتشر الزراعة الكثيفة بالمناطق .....

( **الحارة والمعتدلة** - الحارة - المعتدلة - الباردة ) .

٤٠- تعد .....من اكبر دول تربية للأبقار .

( الصين - اليابان - **الهند** - العراق ) .

٤١- المصدر الرئيسي للحوم لغالبية سكان العالم .....

( الجاموس - **البقر** - الابل - الماعز ) .

٤٢- تعد الصين من اكبر الدول تربية ل .....

( الابقار - **الاغنام** - الماعز - الابل ) .



- ٤٣ - تعد ثاني الدول انتاجا للحوم الحمراء.....  
( الصين - الهند - الولايات المتحدة - كندا ) .
- ٤٦ - تشتهر.....بإنتاج الاصواف .  
( استراليا - اوروبا - اسيا - افريقيا ) .
- ٤٧ - يعد من اهم المعادن المستخدمة في الصناعة معدن.....  
( النحاس - الحديد - الرصاص - الزنك ) .
- ٤٨ - تحتل قارة.....المركز الثاني عالميا في انتاج الطاقة النووية .  
( اوروبا - امريكا الشمالية - امريكا الجنوبية - استراليا ) .
- ٤٩ - تعتبر.....ثاني دول العالم انتاجا للفحم .  
( الصين - الهند - الولايات المتحدة الامريكية - روسيا ) .
- ٥٠ - من اهم الدول العربية في انتاج الطاقة من الرياح دولة.....  
( السعودية - ليبيا - تونس - مصر ) .
- ٥١ - من الدول المستوردة للحديد دولة.....  
( الهند - بريطانيا - موريتانيا - البرازيل ) .
- ٥٢ - اهم دول انتاج النحاس في قارة اسيا.....  
( هولندا - فرنسا - روسيا - الصين ) .
- ٥٣ - اتسع اقليم شمال شرق الولايات المتحدة ليشمل.....  
( الابلاش - دلتا المسيسيبي - روكي - البحيرات العظمي ) .
- ٥٤ - من المقومات البشرية لقيام الصناعة.....  
( المواد الخام - مصادر الطاقة - الاسواق - الموقع ) .
- ٥٥ - توجد اهم مراكز الصناعات الحديثة في امريكا الشمالية بدولة.....  
( كوبا - شيلي - بنما - المكسيك ) .
- ٥٦ - من اكبر مراكز الصناعة في اقليم غرب ووسط اوروبا الصناعي.....  
( سيبيريا - بريطانيا - البحيرات العظمي - موسكو ) .
- ٥٧ - تقع اهم مراكز الصناعة الحديثة في امريكا الشمالية بدولة.....  
( فنزويلا - شيلي - ماليزيا - المكسيك ) .

مراجعة + بنك أسئلة



- ٥٨ - دولة ميانمار تحدها دولة الهند من جهة .....
- ( الجنوب الشرقي - الشمال الغربي - الجنوب الغربي - الشمال الشرقي ) .
- ٥٩ - تقع معظم دولة ..... داخل حدود دولة الهند .
- ( ميونخ - بنجلاديش - باكستان - نيبال ) .
- ٦٠ - تنمو الغابات ..... على السواحل الغربية والشرقية للهند .
- ( الاستوائية - الباردة - الموسمية - المعتدلة ) .
- ٦١ - تعد دولة الهند اهم دول العالم فى تربية .....
- ( الماعز - الابل - الجاموس - الابقار ) .
- ٦٢ - اهم مدن الساحل الغربى فى الهند ومن اكبر الموانئ والمدن الصناعية مدينة.....
- ( مومباى - نيودلهى - كلكتا - حيدرآباد ) .
- ٦٣ - تستورد مصر من الهند.....
- ( الجلود - الفوسفات - غزل القطن - الاسمدة الخام ) .
- ٦٤ - يسود سطح البرازيل المظهر.....
- ( الهضبي - السهلى - الصحراوى - الجبلى ) .
- ٦٥ - تعد مدينة ..... أهم موانئ البرازيل على المحيط الاطلنطلى.
- ( ريودى جانيرو - ميناؤوس - برازيليا - ساوياولو ) .
- ٦٦ - تقع هضبة البرازيل فى وسط..... البرازيل .
- ( شمال - جنوب - شرق - غرب ) .
- ٦٧ - تقع دولة نيجيريا على ساحل خليج.....
- ( غينيا - المكسيك - بسكاي - بنغال ) .
- ٦٨ - اهم الواردات المصرية من نيجيريا.....
- ( الحديد - السيارات - الحبوب الزيتية - اللحوم ) .
- ٦٩ - يحد نيجيريا من جهة الشرق دولتي .....
- ( الكاميرون وتشاد - الكاميرون وبنين - النيجر وبنين - النيجر والكاميرون ) .
- ٧٠ - يحد نيجيريا من جهة الغرب دولة .....
- ( بنين - جوس - لاجوس - غينيا ) .

مراجعة + بنك أسئلة



٧١- تعتبر مدينة ..... هي العاصمة الاقتصادية لدولة نيجيريا .

( بنين - جوس - **لاجوس** - غينيا ) .

٧٢- يستخرج البترول فى دولة نيجيريا من المنطقة القريبة من الساحل فى .....

( الشمال الشرقي - **الجنوب الشرقي** - الشمال الغربي - الجنوب الغربي )

٧٣- تأتى فى المركز الثاني أهمية بعد لأجوس .....

( ابوجا - **ايبادان** - لاجوس - ميناؤوس )

٧٤- تنمو حشائش ..... فى شمال نيجيريا

( البرارى - التندرا - الاستبس - **السافانا** )

مراجعة + بنك أسئلة

٧٥- الأطراف الجنوبية فى نيجيريا تقع فى نطاق المناخ .....

( **الاستوائي** - المعتدل - البارد - المدارى )

٧٦- تعتبر نيجيريا أولى دول أفريقيا انتاجا لـ .....

( الأرز - الفول السوداني - الذرة - **المطاط** ) .

٧٧- تنتشر الغابات المخروطية والنفضية بألمانيا فى .....

( **جبال الألب** - السهول الوسطى - السهول الشمالية - جبال الفوج ) .

٧٨- العاصمة السياسية لألمانيا مدينة .....

( هامبورج - ميونخ - **برلين** - بريمن )

٧٩- على قمة جبلية بألمانيا فى جبال .....

( الانديز - روكي - **الالب** - الهيمالايا )

٨٠- يحد المانيا من جهة الغرب دولة .....

( بولندا - التشيك - الدنمارك - **فرنسا** ) .

٨١- تعتبر مدينة ..... عاصمة إقليم بافاريا بألمانيا .

( برلين - **ميونخ** - هامبورج - بريمن )

٨٢- العمود الفقري للاقتصاد الالماني هو .....

( الزراعة - التجارة - **الصناعة** - التعدين ) .

٨٣- تحد النمسا وسويسرا دولة المانيا من جهة .....

( الشرق - الغرب - الشمال - **الجنوب** )



٨٤- تستورد مصر من ألمانيا.....

( الالات - البترول - الغاز الطبيعي - الملابس ) .

٨٥- تصب معظم الانهار بدولة ألمانيا فى .....

(البحر الاحمر - البحر المتوسط - البحر الاسود - بحر الشمال )

٨٦- تقع ألمانيا .....قارة اوربا .

(شمال - جنوب - شرق - غرب )

٨٧- يحد الولايات المتحدة الامريكية من الغرب .....

(المحيط الهادى - المحيط الهندي - المحيط الأطلنطي - القطب الشمالي )

٨٨- تعتبر شيكاغو اكبر مدن السهول الوسطى بالولايات المتحدة الامريكية وتقع على بحيرة ....

( انتاريو - ايرى - هورن - متشجن ) .

٨٩- تنمو .....بالساحل الجنوبى الشرقى ودلتا نهر الميسيسى

(الغابات النفضية - الغابات المخروطية - غابات الاقليم الصينى - الغابات المدارية ) .

### صوب ما تحته خط

### السؤال الثالث

١- يستخدم معظم انتاج الذرة بأمريكا الشمالية كغذاء للإنسان . كعلف للماشية

٢- تعد قارة اسيا اكبر قارات العالم انتاجا للشاي من الغابات الاستوائية . المطاط

٣- الظروف الطبيعية لا تتناسب زراعة قصب السكر بأمريكا الشمالية . اوربا

٤- تعد قارة اوربا اولي قارات العالم فى تربية الابقار . اسيا

٥- تعد الصين اولي دول العالم انتاجا للدواجن . الولايات المتحدة

٦- يعد اليوكسيت الخام الرئيسى لمعدن النحاس . الألمونيوم

٧- اكبر دول العالم فى انتاج الفحم هي روسيا . الصين

٨- الكهرباء المولدة من السد العالي كهرباء حرارية . مائية

٩- تتوافر صناعة الالمونيوم فى الدول النامية . المتقدمة

١٠- اولي قارات العالم فى انتاج الغاز الطبيعى قارة استراليا . اوربا

١١- تعد جمهورية كوريا من دول اقليم روسيا واورانيا الصناعى . شرق اسيا الصناعى

١٢- التطور العلمى من المقومات الطبيعية للصناعة فى العالم . البشرية

١٣- اهم الصناعات الحديثة فى دول الخليج العربى الصناعات البديوية . البترولية



- ١٤- من المناطق الصناعية في اقليم شرق اسيا الجزيرة اليابانية **جاوة** . **هنشو**
- ١٥- المناطق الصناعية في اقليم الاورال تنتمي الي **غرب ووسط اوروبا** الصناعي . روسيا واوكرانيا
- ١٦- يدخل صناعة الجوت فى صناعة **الخيز** . **المنسوجات**
- ١٧- تعد قارة **اوروپا** اولى قارات العالم انتاجا للقمح . **اسيا**
- ١٨- تتركز زراعة بنجر السكر فى قارة **اسيا** وامريكا الشمالية . **اوروپا**
- ١٩- تعد قارة **افريقيا** اكثر القارات انتاجا للقطن . **اسيا**
- ٢٠- ينتج معظم المطاط فى قارة **امريكا الجنوبية** وتعد دولة **شيلي** اولى دول العالم انتاجا له . **اسيا - تايلاند**
- ٢١- يربى حيوان الرنة فى صحارى **اريزونا الحارة** . **التندرا الباردة**
- ٢٢- ثاني دول العالم انتاجا للبتترول **الهند** . **الصين**
- ٢٣- معظم الصناعات فى دول الخليج العربي صناعات **الكترونية** . **بترولية**
- ٢٤- تعد مصر و **تونس** من اهم المراكز الصناعية الحديثة فى افريقيا . **جنوب افريقيا**
- ٢٥- تنتج اكثر من ثلث انتاج العالم من الاسماك دولة **اندونيسيا** . **الصين**
- ٢٦- تمتد سهول **الهندوستان** على خليج البنغال شرق الهند . **كروماندل**
- ٢٧- تعد الهند **اولى** دول العالم سكانا . **ثاني**
- ٢٨- السكان الاصليون لدولة البرازيل من **العناصر السوداء** . **الهنود الحمر**
- ٢٩- العاصمة الجديدة للبرازيل هي **ريوى جانيرو** . **برازيليا**
- ٣٠- تستورد مصر من البرازيل المعادن وخاصة **الفوسفات** . **الحديد**
- ٣١- تغطى الغابات **الموسمية** الجزء الجنوبي من دولة نيجيريا . **الاستوائية والمدارية**
- ٣٢- يحد دولة نيجيريا من الجنوب **المحيط الهندي** . **المحيط الأطلنطي**
- ٣٣- تعد نيجيريا **ثالثة** دول افريقيا سكانا . **أكبر**
- ٣٤- مدينة **ايبادان** هي العاصمة الاقتصادية لدولة نيجيريا . **لاجوس**
- ٣٥- تقع نيجيريا فى غرب افريقيا وعاصمتها **لاجوس** . **أبوجا**
- ٣٦- يقع معظم نيجيريا ضمن نطاق **المناخ الاستوائى** . **المناخ المدارى**
- ٣٧- تقع المانيا فى قارة **اسيا** ويحدها من الشمال دولة الدنمارك و **بحر قزوين** . **اوربا - بحر الشمال**
- ٣٨- من اهم الانهار التى تجرى فى المانيا نهر **السين** . **الراين**
- ٣٩- تغطى الغابات ثلث مساحة المانيا واهمها الغابات **الاستوائية والمدارية** . **النفضية والمخروطية**
- ٤٠- تعد مدينة **ميونخ** عاصمة المانيا . **برلين**



- ٤١ - تحتل **الولايات المتحدة** المركز الاول في انتاج الاسماك . **الصين**
- ٤٢ - يسود المانيا اراضي منخفضة في الشمال ومرتفعات **جبال الهيمالايا** في الجنوب . **جبال الألب**
- ٤٣ - توجد **جبال البرانس** في دولة المانيا وفيها اعلي القمم الجبلية . **جبال الألب**
- ٤٤ - يسود المانيا الاتحادية مناخ غرب اوربا الممطر طوال العام خاصة في **الجنوب** . **الشمال**
- ٤٥ - **ولاية الاسكا** هي مجموعة من الجزر تقع وسط المحيط الهادى . **هاواي**
- ٤٦ - توجد بالولايات المتحدة اراضى زراعية خصبة حيث سهول نهر **سانت لورانس** فى الوسط . **المسيبى**
- ٤٧ - يوجد مقر الامم المتحدة فى **واشنطن** . **نيويورك**

## السؤال الرابع

## بم تفسر

## مراجعة + بنك أسئلة

- ١- مارس البشر العديد من الانشطة الاقتصادية البدائية في الماضي .
- إشباع حاجته الضرورية كالغذاء .**
- ٢- اهمية الغابات في نيجيريا .
- تعد مصدرا للأخشاب والكثير من المحاصيل الأستوائية مثل المطاط والكاكاو ونخيل الزيت .**
- ٣- يعد القطن في مصر والسودان من اجود انواع القطن في العالم .
- لأن القطن في مصر والسودان من القطن طويل التيلة .**
- ٤- تعرف الزراعة التجارية العلمية بنظام الزراعة الواسعة .
- لأنها تهدف إلي الإنتاج التجاري الضخم .**
- ٥- اهمية الثروة الحيوانية .
- تعد مصدرا رئيسيا للحوم والألبان والجلود والصوف في العالم .**
- ٦- زيادة معدل الاستهلاك العالمي من اللحم .
- بسبب ارتفاع مستوى المعيشة في كثير من دول العالم وازدياد أعداد السكان .**
- ٧- تتميز الصناعة الالمانية بالجودة والتنوع .
- بسبب توافر المراكز العلمية المتطورة - تدفق الاستثمارات الوطنية والاجنبية .**
- ٨- انخفاض اعداد العاملين بالرعي البدائي .
- بسبب توطين البدو وتحولهم إلي العمل في استخراج البترول .**
- ٩- ارتفاع اسعار البترول عالميا .
- بسبب زيادة الطلب عليه وتعدد استخداماته .**



١٠ - أهمية الفحم الاقتصادية .

كان عماد الثورة الصناعية - يستخدم في توليد الكهرباء - لا يزال يستخدم كمصدر رئيسي للصناعة .

١١ - تصدر الدول النامية خام البوكسيت الي الدول المتقدمة .

لأن الدول المتقدمة لا تمتلك مقومات صناعة الألمونيوم .

١٢ - تقدم الصناعة في اوربا .

بسبب وفرة المواد الخام ومصادر الطاقة واستخدام التكنولوجيا الحديثة .

١٣ - تطورات الصناعة تطورا مذهلا في الدول المتقدمة .

بسبب استخدام الاساليب العلمية في الصناعة - تطبيق الأبحاث والتجارب العلمية في الاختراع .

مراجعة + بنك أسئلة

١٤ - يعد اقليم شمال شرق الولايات المتحدة من اكبر الاقاليم الصناعية في العالم الجديد .

بسبب وفرة المواد الخام ومصادر الطاقة وتنوعت الصناعات واستخدام التكنولوجيا الحديثة .

١٥ - تتطلب الزراعة الكثيفة أيدى عاملة وفيرة ؟

لأنها تتم من خلال عمليات عديدة مثل بذر الحبوب والري وتنقية الحشائش .

١٦ - شهرة القطن المصري ؟ او يعد القطن فى مصر من اجود أنواع القطن فى العالم ؟

لأن معظمه من أنواع القطن طويل التيلة .

١٧ - تحتل استراليا والصين المراكز الاولى فى تربية الاغنام؟

بسبب وفرة الحشائش .

١٨ - يعتبر البترول اهم مصادر الطاقة ؟

ينتج منه العديد من المشتقات بعد تكريره مثل : ( البنزين - السولار ) .

و ترتبط به التنمية الاقتصادية والاجتماعية والعلاقات السياسية حيث يشكل البترول والغاز

الطبيعي : يشكلون نحو ٥٥ % من الطاقة المستخدمة فى العالم .

١٩ - توافر مراكز صناعية عديدة فى دول اوربا ؟

بسبب توافر فى دول أوروبا بشكل عام كل مقومات الصناعة

٢٠ - قلة عدد القائمين بحرفة الرعي البدائي فى صحارى شبه الجزيرة العربية وبادية الشام .

بسبب توطين البدو لاماكن تدفق البترول .

٢١ - للفحم اهمية كبيرة منذ القرن ال ١٨ الميلادي وحتى الوقت الحالي ؟

لأنه يستخدم فى توليد الكهرباء - مصدر رئيسي للصناعة فى الدول الصناعية الكبرى .



٢٢- تتركز زراعة الشاي في شرق اسيا ؟

لتوافر الظروف المناخية الملائمة لزراعة مثل - أمطار غزيرة. - تربة خصبة خفيفة. مناخ حار. - هواء رطب .

٢٣- اسعار البترول في زيادة مستمرة ؟

بسبب زيادة الطلب على البترول لأنه من المواد القابلة للنفاد .

٢٤- قيام بعض الدول بصيد الحيتان ؟

للحيتان اهمية كبيرة للاستفادة من شحومها ولحومها .

٢٥- تقدم الصناعة في الدول المتقدمة ؟

الدول المتقدمة تتطور فيها الصناعة تطور مذهل لأنها تأخذ بالأساليب العلمية وتطبق الأبحاث والتجارب العلمية في الاختراع لتطوير وتحديث المنتجات الصناعية بشكل مستمر .

٢٦- تركز زراعة بنجر السكر في قارتي اوربيا وامريكا الشمالية ؟

بسبب توافر الظروف الملائمة كالمناخ والتربة لزراعة بنجر السكر .

٢٧- تحتل الصين وإندونيسيا المركز الاول في انتاج الاسماك ؟

بسبب طول الساحل على البحار والمحيطات وتقدم وسائل الصيد .

٢٨- توطن صناعة الألومنيوم في الدول المتقدمة ؟

بسبب توافر مقومات الصناعة في الدول المتقدمة مثل : ١ ) وفرة الطاقة الكهربائية .

٢ ) خبرة علمية وفنية متطورة . ٣ ) سوق محلية وخارجية تستوعب الانتاج .

٢٩- صعوبة استخدام الآلات و الميكنة الزراعية في الزراعة الكثيفة ؟

لضيق مساحة الحقول الزراعية .

٣٠- ينتج قصب السكر في كل قارات العالم ماعدا قارة أوربيا ؟

لان قصب السكر محصول مدارى حار وقارة اوربيا توجد في المنطقة المعتدلة .

٣١- انتشار سواحل الاسماك على سواحل شمال غرب أوربيا ؟

بسبب توافر العوامل الطبيعية والبشرية شمال غرب اوربيا .

٣٢- تنوع الانشطة الاقتصادية في الهند .

بسبب توافر الموارد الاقتصادية زراعية وحيوانية ومعدنية .

### مراجعة + بنك أسئلة

الدول المتقدمة تتطور فيها الصناعة تطور مذهل لأنها تأخذ بالأساليب العلمية وتطبق الأبحاث والتجارب العلمية في الاختراع لتطوير وتحديث المنتجات الصناعية بشكل مستمر .

٢٦- تركز زراعة بنجر السكر في قارتي اوربيا وامريكا الشمالية ؟

بسبب توافر الظروف الملائمة كالمناخ والتربة لزراعة بنجر السكر .

٢٧- تحتل الصين وإندونيسيا المركز الاول في انتاج الاسماك ؟

بسبب طول الساحل على البحار والمحيطات وتقدم وسائل الصيد .

٢٨- توطن صناعة الألومنيوم في الدول المتقدمة ؟

بسبب توافر مقومات الصناعة في الدول المتقدمة مثل : ١ ) وفرة الطاقة الكهربائية .

٢ ) خبرة علمية وفنية متطورة . ٣ ) سوق محلية وخارجية تستوعب الانتاج .

٢٩- صعوبة استخدام الآلات و الميكنة الزراعية في الزراعة الكثيفة ؟

لضيق مساحة الحقول الزراعية .

٣٠- ينتج قصب السكر في كل قارات العالم ماعدا قارة أوربيا ؟

لان قصب السكر محصول مدارى حار وقارة اوربيا توجد في المنطقة المعتدلة .

٣١- انتشار سواحل الاسماك على سواحل شمال غرب أوربيا ؟

بسبب توافر العوامل الطبيعية والبشرية شمال غرب اوربيا .

٣٢- تنوع الانشطة الاقتصادية في الهند .

بسبب توافر الموارد الاقتصادية زراعية وحيوانية ومعدنية .



٣٣- توجد بالهند ثروة حيوانية ضخمة .

بسبب كثرة المراعي ويوجد بها أكبر عدد من الأبقار فى العالم وأعداد كبيرة من الجاموس والأغنام .

٣٤- القيمة الاقتصادية المحدودة للأبقار فى الهند .

بسبب تحريم الديانة الهندوسية أكل لحوم الأبقار .

٣٥- تفوق الهند فى صناعة الحديد والصلب .

لان الهند هي ثالث دول العالم إنتاجاً للحديد الذى يعد أساس قيام صناعة الحديد والصلب فى الهند .

٣٦- لجوء الهند للطاقة النووية والكهربائية .

لافتقارها للبتروول ومصادر الطاقة الأخرى .

٣٧- شهدت الهند قفزات سريعة فى تطور الصناعة .

بسبب توافر مقومات الصناعة بها و الاهتمام بالتعليم والبحث العلمي .

٣٨- تعاني البرازيل من قلة عدد السكان رغم ان سكانها يمثلون نصف سكان قارة امريكا الشمالية .

بسبب أن عدد السكان لا يتناسب مع مساحة البرازيل حيث توجد مناطق شبه خالية من السكان مثل سهول الأمازون .

٣٩- تركز السكان فى البرازيل فى الساحل الجنوبي الشرقي .

حيث توجد المدن الرئيسية مثل : ريو دي جانيرو العاصمة القديمة ساوباولو .

٤٠- تعد البرازيل من الدول المنتجة للأسماك .

بسبب امتلاكها سواحل طويلة على المحيط الأطلنطي والبحر الكاريبي ووجود نهر الأمازون .

٤١- ارتفاع الكثافة السكانية فى هضبة جوس بنيجيريا .

لوجود الأراضي الزراعية والمراعي ومناطق التعدين ..

٤٢- قلة السكان فى دلتا نهر النيجر جنوب نيجيريا

لوجود الغابات الكثيفة والظروف المناخية القاسية .

٤٣- يعتبر اقتصاد نيجيريا اقتصاد نامي .

لأنها تعتمد على الزراعة فى المقام الأول .

٤٤- تنتج نيجيريا الاسماك بكميات كبيرة .

لأنها تتمتع بساحل غينيا وبها أنهار وبحيرات بالداخل .

مراجعة + بنك أسئلة



٤٥ - انتشار اعداد كبيرة من الابقار والاعنام والماعز في نيجيريا .

بسبب المراعي وحشائش السافانا الغنية .

٤٦ - اهمية الغابات في المانيا .

تعد مصدرا للأخشاب ومنتجات الغابات الأخرى .

٤٧ - تعد الزراعة من الأنشطة الاقتصادية الهامة في المانيا .

يعمل بها نحو ٣ % من القوي العاملة - تعتمد علي التكنولوجيا الحديثة .

٤٨ - جذب المرتفعات الوسطى للسياح في المانيا .

لأن تكثر بها التلال والينابيع المائية .

٤٩ - تطور الصناعة الالمانية بعد الحرب العالمية الثانية .

بسبب توافر المراكز العلمية المتقدمة . توافر مقاومات الصناعة . وتدفق الاستثمارات .

٥٠ - تعد مدينة ميونخ احد اهم المدن بدوية المانيا .

لأنها اكبر ثالث دول المانيا سكانا ومقر عدد من الشركات والمصانع الالمانية .

٥١ - تنوع المناخ بالولايات المتحدة الامريكية .

بسبب اتساع الولايات المتحدة وتنوع تضاريسها .

٥٢ - تركز نحو ٥٠ % من سكان الولايات المتحدة الامريكية في اقليم نيوانجلند .

بسبب : ( ١ ) وجود المدن الكبرى مثل نيويورك .

( ٢ ) وجود المناطق الصناعية والتجارية الكبرى .

٥٣ - ارتفاع الكثافة السكانية في الكثير من المناطق الغربية بالولايات المتحدة الامريكية .

بسبب وجود مناطق صناعية ومدن كبرى مثل (سان فرانسيسكو - لوس أنجلوس ) ، وجود مناطق

زراعية .

٥٤ - ضخامة الانتاج الزراعي في الولايات المتحدة الامريكية .

بسبب : ( ١ ) اعتماد الزراعة على التكنولوجيا الحديثة .

( ٢ ) وجود أراضي زراعية خصبة وواسعة في :

• الجنوب الشرقي • سهول نهر المسيسيبي في الوسط • الوادي الأوسط بكاليفورنيا .

مراجعة + بنك أسئلة



٥٥- تعد الولايات المتحدة الأمريكية القوة الاقتصادية الأولى في العالم بسبب : ( ١ ) توافر كل مقومات الصناعة.

( ٢ ) تسهم بكميات كبيرة من الإنتاج العالمي لعدة صناعات مثل :  
• صناعة الصلب - صناعة الألومنيوم - صناعة السيارات.

• تحتل المرتبة الأولى عالمياً في إنتاج : الطائرات- الأقمار الصناعية- سفن الفضاء.

٥٦- قلة عدد السكان في ولاية الاسكا بالولايات المتحدة الأمريكية بسبب شدة البرودة .

مراجعة + بنك أسئلة

ما النتائج المترتبة علي

السؤال الخامس

١- معرفة الانسان الزراعة منذ اقدم العصور .

عرف معها الاستقرار علي ضفاف الأنهار .

٢- صغر مساحة الحقول الزراعية في الزراعة الكثيفة .

الاعتماد علي الأيدي العاملة وصعوبة استخدام الآلات الزراعية .

٣- الوحدة الاقتصادية الأوروبية .

التكامل في الجوانب الاقتصادية والصناعية وحماتها جمرkia - تقدمها تجاريا .

٤- توافر مقومات الصناعة في اقليم شمال شرق الولايات المتحدة .

أصبحت أكبر الأقاليم الصناعية في العالم الجديد .

٥- استخدام الطرق العلمية والآلات في الزراعة والعلمية والتجارية ؟

يؤدي الى قلة التكاليف وقلة عدد العمال .

٦- رخص ثمن الغاز الطبيعي وقلة تلوثه؟

يؤدي الى استخدامه على نطاق واسع كبديل لمصادر الطاقة الاخرى .

٧- توافر المراعي الطبيعية في دولة الصين ؟

تصبح الصين اولى دول العالم للأغنام .

٨- انتشار التعليم بين القبائل في دول وسط اسيا ؟

يؤدي الى قلة العاملين بالرعي والتوجه الى العمل بالزراعة والصناعة والتجارة .



- ٩- وجود المناخ الاستوائي والمدارى فى قارة اسيا بالنسبة لإنتاج الموارد الزراعية ؟
- تصبح اسيا اولى القارات انتاجا للقطن والمطاط الطبيعي .
- ١٠- وقوع الصين على المحيط الهادي ووجود الانهار؟
- تصبح الصين اولى دول العالم انتاجا للأسماك حيث تنتج اكثر من ثلث الانتاج العالمي .
- ١١- الاهتمام بالتعليم وتطوير البحث العلمي بالهند .
- ادى الى قفز وتطور دولة الهند سريعا فى مجال الصناعة .
- ١٢- اشراف الهند على مسطحات مائية بجبهات ساحلية طويلة .
- تصبح الهند من الدول الرئيسية المنتجة للأسماك .
- ١٣- افتقار الهند للبتروك كمصدر من مصادر الطاقة .
- ادى الى لجوء الهند لاستخدام الطاقة النووية والكهربائية .
- ١٤- امتلاك البرازيل ثروة حيوانية كبيرة .
- اصبحت البرازيل من الدول المنتجة والمصدرة للحوم .
- ١٥- وجود حشائش السافانا فى نيجيريا .
- ادى الى امتلاك دولة نيجيريا اعداد كبيرة من الابقار والاعنام والماعز .
- ١٦- جريان نهر النيجر داخل نيجيريا .
- إدى الى زراعة محصول الأرز فى دلتا النهر .
- ١٧- كثافة الغابات فى دلتا النيجر .
- أصبحت تمثل مصدرا مهما للأخشاب .
- ١٨- وجود التلال واليانبيع بالمرتفعات الوسطى فى المانيا .
- أصبحت من عوامل الجذب السياحي .
- ١٩- تعدد الانشطة الاقتصادية فى المانيا .
- أصبحت من أكبر الدول الاقتصادية فى العالم .
- ٢٠- وقوع شمال المانيا فى نطاق مناخ غرب اوربا مناخيا .
- سادت الأمطار به طول العام متأثرا بالمحيط الأطلنطي وبحر الشمال .
- ٢١- استخدام المانيا التكنولوجيا والاساليب العلمية الحديثة فى الانشطة الاقتصادية .
- ادى الى تقدم الزراعة وتربية الماشية والاعنام فى حظائر بأساليب حديثة وتطور الصناعة لتوافر المراكز العلمية المتقدمة .

مراجعة + بنك أسئلة



- ٢٢- اتساع مساحة الولايات المتحدة الامريكية وتنوع تضاريسها .  
 ادى الى تنوع المناخ وتنوع النبات الطبيعي من منطقة لأخرى .  
 ٢٣- وفرة الموارد الطبيعية وتنوعها بالولايات المتحدة الامريكية .  
 ادى الى تعدد الانشطة الاقتصادية وضخامة الانتاج وزيادة القوة الاقتصادية للولايات المتحدة .

## اكتب المصطلح الجغرافي

## السؤال السادس

- ١- زراعة يعمل بها عدد قليل من السكان في مناطق صغيرة ومعزولة . الزراعة البدائية البسيطة  
 ٢- يقصد بها زراعة الارض اكثر من مرة في العام الواحد لإشباع حاجة السكان المحليين من الغذاء .  
 الزراعة الكثيفة  
 ٣- منتج حيواني تعد الهند اكبر دول العالم انتاجا له . الألبان  
 ٤- توجد في المحيطات ويتم صيدها للاستفادة من شحومها ولحومها . الأسماك  
 ٥- يعد اهم مصادر الطاقة لارتباطه بالتنمية الاقتصادية والاجتماعية والعلاقات السياسية . البترول  
 ٦- طاقة تنتج من الامواج وحركة المد والجزر فى بعض الدول المتقدمة . الطاقة الكهرومائية  
 ٧- اقليم صناعي يضم جزيرة هنشو وجمهورية كوريا . اقليم شرق اسيا  
 ٨- سهول ساحلية بالهند تمتد على ساحلها الغربي . سهول ملبار  
 ٩- مدينة انشئت على نهر الامازون لإعادة توزيع السكان فى البرازيل نحو الداخل . ميناؤوس  
 ١٠- مدينة نيجيريا تعد مركزا للتجارة والتعليم والمواصلات . ايبادان  
 ١١- من اكبر الاقاليم التضاريسية بألمانيا وهو جزء من السهل الأوربي العظيم . السهل الألماني الشمالي  
 ١٢- سهول تمتد بالولايات المتحدة الامريكية من اقليم البحيرات العظمى شمالا حتى خليج المكسيك جنوبا . السهول الوسطى  
 ١٣- اولى الدول الصناعية السبع وتعتبر القوة الاقتصادية الاولى فى العالم . الولايات المتحدة الامريكية



## السؤال السابع

## دلل علي صحة العبارة

- ١- تفوق قارة اسيا في انتاج الثروة الحيوانية .  
حيث تحتل قارة اسيا المركز الاول في عدد الأبقار .
- ٢- تسبق عملية التعدين العديد من العمليات المهمة ؟  
البحث والكشف عن الخامات ( المعادن أو مصادر الطاقة ) .  
إعداد المنجم لعملية الاستخراج والتعدين مثل : ( مد الخطوط الحديدية والطرق - إنشاء مساكن للعاملين ) ، ثم بعد ذلك تتم مرحلة الإنتاج والنقل والتوزيع .
- ٣- اصبح الغاز الطبيعي يستخدم على نطاق واسع من العالم ؟  
بحيث انه يستخدم فى : - الصناعة على نطاق واسع . - الاستخدامات المنزلية .  
- توليد الطاقة الكهربائية . - وقود للسيارات بديلاً للبنزين للحد من تلوث البيئة .
- ٤- هناك علاقة بين الانتاج الحيواني والصناعة ؟  
حيث ان الثروة الحيوانية مصدراً لكثير من المواد الخام المستخدمة فى الصناعة كالجلود والصوف .
- ٥- صناعة الالومنيوم تحتاج الى عدة مقومات لقيامها ؟  
حيث يوجد عدة مقومات هي : ١ ) وفرة الطاقة الكهربائية .  
٢ ) خبرة علمية وفنية متطورة . ٣ ) سوق محلية وخارجية تستوعب الانتاج .
- ٦- كان لتطور الانشطة الاقتصادية تأثير سلبي علي الرعي البدائي بقارة اسيا .  
حيث تحول عدد كبير للعمل في الصناعة وترك حرفة الرعي .
- ٧- غني نيجيريا بمصادر الطاقة .  
يوجد الفحم بالمنطقة الشرقية و تنتج ٣% من الإنتاج العالمي للبترول علي الساحل الجنوبي الشرقي .
- ٨- غني نيجيريا بمصادر الطاقة .  
يوجد الفحم بالمنطقة الشرقية و تنتج ٣% من الإنتاج العالمي للبترول علي الساحل الجنوبي الشرقي .
- ٩- واجهت الهند المشكلة السكانية بسياسات تنوعيه مختلفة .  
حيث اهتمت بالتعليم وتطوير البحث العلمي مما ادى الى تطور الزراعة والصناعة .

مراجعة + بنك أسئلة



- ١٠- تنوع العلاقات الاقتصادية بين مصر والهند .  
حيث توجد علاقات سياسية واقتصادية وثقافية .  
تصدر مصر الى الهند القطن والاسمدة والفوسفات والجلود .  
تستورد مصر من الهند غزل القطن والشاي والسمسم ووسائل النقل .
- ١١- سكان البرازيل خليط من معظم الاجناس .  
حيث يتكون سكان البرازيل من الهنود الحمر ، والاورييون ، والعناصر السوداء .
- ١٢- وفرة الثروات المعدنية ومصادر الطاقة في نيجيريا  
حيث يوجد معدن القصدير في هضبة جوس ، الفحم في المنطقة الشرقية ، والبتترول من الساحل الجنوب الشرقي .
- ١٣- تنوع المناخ والنبات الطبيعي في نيجيريا .  
حيث يسود المناخ الاستوائي في الجنوب وحشائش السافانا في الشمال .
- ١٤- ارتباط مصر مع نيجيريا بعلاقات قوية .  
تصدر مصر لها الأسمدة والمعدات الثقيلة وتستورد السلع الغذائية خاصة الحبوب الزيتية .
- ١٥- اختلاف توزيع السكان في نيجيريا من مكان لآخر .  
يتركزون في السهول الشمالية وهضبة جوس لقيام الزراعة ويقلوا بالجنوب لظروف مناخية .
- ١٦- دال علي صحة العبارة ترتبط مصر والمانيا بعلاقات ثقافية وعلمية .  
تتمثل في هيئة التبادل العلمي الألمانية - معهد الأثار الألماني - الجامعة الألمانية بالقاهرة .
- ١٧- ضخامة الانتاج وتنوع الصناعات في الولايات المتحدة الامريكية .  
تعد الولايات المتحدة القوة الاقتصادية الأولى في العالم لأنها تمتلك موارد طبيعية وفيرة ومتنوعة مما أدى إلى تنوع الأنشطة الاقتصادية وضخامة الإنتاج حيث تتوافر الأراضي الزراعية في سهول نهر المسيسيبي وتعتمد على التكنولوجيا الحديثة .
- ١٨- ترتبط مصر مع الولايات المتحدة الامريكية بعلاقات قوية في مختلف المجالات .  
حيث توجد اتفاقيات بين البلدين في اطار التعاون الاقتصادي والثقافي العلمي وتوجد اتفاقيات بين البلدين منها اتفاقية التجارة الحرة واتفاقية الكويز وتستورد مصر من الولايات المتحدة منتجات تكنولوجياية حديثة وطائرات .



## السؤال الثامن

## ما العلاقة بين

١- زيادة انتاج الاسماك والتطور التكنولوجي .

حيث سهلت التكنولوجيا صيد الأسماك مما زاد الانتاج .

٢- ظهور البترول في شبه الجزيرة العربية وحرفة الرعي التقليدي .

تحول عدد كبير من العمل في الرعي إلى العمل في استخراج البترول .

٣- ضحالة المياه الساحلية وانتاج الاسماك .

تؤدي ضحالة المياه إلى نقص الإنتاج .

٤- حركة المد والجزر والكهرباء .

حيث تستخدم في توليد الطاقة الكهربائية .

٥- استخدامات البترول واسعاره .

كثرة استخداماته أدت إلى رفع اسعاره لزيادة الطلب عليه .

٦- البوكسيت والالومنيوم .

يدخل البوكسيت في صناعة الألومنيوم .

٧- الغاز الطبيعي والكهرباء .

يستخدم في توليد الطاقة الكهربائية .

٨- الامواج والكهرباء .

يستخدم في توليد الطاقة الكهربائية .

٩- الصناعة ، الدول المتقدمة ؟

الدول المتقدمة التي تطورت بها الصناعة بسبب المقومات الصناعية الحديثة والاساليب العلمية الحديثة .

١٠- الالومنيوم ، الطاقة الكهربائية ؟

يصنع الالومنيوم في الدول المتقدمة التي يتوافر بها طاقة كهربائية .

١١- التقدم العلمي ، الرعي التجاري ؟

انتشار العلم والتقدم العلة والاعتماد على الاساليب العلمية الحديثة ادى الى الرعي التجاري .

١٢- مناخ نيجيريا، ونتاجها الحيواني .

تقع معظم نيجيريا ضمن المناخ المدارى الذى ساهم فى نمو حشائش السافانا وتستغل هذه

الحشائش كمراعى تربي عليها الابقار والماعز والاعنام .

مراجعة + بنك أسئلة



١٣- المناخ الاستوائي ، والاشخاب فى نيجيريا .  
الاطراف الجنوبية فى نيجيريا تقع ضمن المناخ الاستوائي فيعد ذلك سببا فى وجود الغابات الاستوائية مما يجعلها مصدرا للأشخاب .

اجب عن الاسئلة التالية

السؤال التاسع

مراجعة + بنك أسئلة

- ١- حدد اهم مناطق انتشار حرفة صيد الاسماك .  
سواحل شمال غرب اوربا - سواحل أمريكا الشمالية - سواحل أمريكا الجنوبية .
- ٢- حدد سبب شهرة كلا من برلين .  
كانت العاصمة السياسية ل ألمانيا .
- ٣- ما مقترحاتك من اجل التوسع فى انتاج الطاقة النظيفة فى مصرنا الغالية .  
العمل على إنشاء محطات توليد هذه الطاقة .
- ٤- حدد مقومات الصناعة الطبيعية والبشرية .  
طبيعية : المواد الخام - مصادر الطاقة - الموقع المتميز .  
بشرية : الأيدي العاملة - التطور العلمي - الأسواق - راس المال .
- ٥- حدد سبب شهرة هامبورج .  
أهم موانئ ألمانيا وقريبة من بحر الشمال .
- ٦- حدد اهم المراكز الصناعية الحديثة فى العالم .  
إقليم غرب ووسط اوربا - شمال شرق الولايات المتحدة - روسيا واوكرانيا - شرق اسيا .
- ٧- حدد سبب شهرة ميونخ .  
بها مقر عدد من الشركات والمصانع الألمانية العالمية .



## السؤال العاشر

## قارن بين

١- الحديد ، النحاس من حيث الأهمية واولي الدول المنتجة .

الحديد : أهم المعادن المستخدمة في الصناعة واولي الدول الصين

النحاس : يستخدم في صناعة الأسلاك والأدوات الكهربائية واولي الدول شيلى

## مراجعة + بنك أسئلة

٢- الزراعة البسيطة ، والزراعة الكثيفة من حيث :-  
( مناطق انتشارها ، خصائصها )

الزراعة الكثيفة	الزراعة البسيطة	
<p>(١) صغر مساحة الحقول الزراعية مما أدى إلى : صعوبة استخدام الآلات والمكينه الزراعية.</p> <p>(٢) تتطلب أيدي عاملة وفيرة لأنها تتم من خلال عمليات عديدة مثل : ( بذر الحبوب والري وتنقية الحشائش ).</p> <p>(٣) زراعة الأرض بأكثر من محصول فى العام الواحد.</p>	<p>(١) ضيق المساحة المزروعة وتباعدها عن بعضها البعض.</p> <p>(٢) يقوم بها عدد قليل من السكان.</p> <p>(٣) يستخدم فيها أدوات بدائية بسيطة.</p> <p>(٤) تمارس لتوفير الاحتياجات الغذائية للسكان المحليين دون وجود فائض للتصدير.</p>	خصائصها
المناطق الحارة والمعتدلة	<p>في مناطق صغيرة ومعزولة كما في :</p> <ul style="list-style-type: none"> <li>المناطق الحارة على هوامش الغابات الاستوائية.</li> <li>بعض مناطق حشائش السافانا.</li> </ul>	اماكن انتشارها



٣- الفحم ، البترول ، من حيث :-

( الأهمية ، اولى الدول المنتجة )

البترول	الفحم	
مصدر رئيسي للصناعة فى الدول الصناعية الكبرى. يستخدم فى توليد الكهرباء.	١ ينتج منه العديد من المشتقات بعد تكريره مثل : ( البنزين - السولار ) . ٢ ترتبط به التنمية الاقتصادية والاجتماعية والعلاقات السياسية حيث يشكل <b>البترول والغاز الطبيعي</b> : يشكلون نحو 55 % من الطاقة المستخدمة فى العالم.	الأهمية
• الصين : اولى دول العالم إنتاجاً للفحم. - الهند : ثالث دول العالم إنتاجاً للفحم. الولايات المتحدة : ثاني دول العالم إنتاجاً للفحم.	السعودية : اولى دول العالم فى الإنتاج ٢ روسيا : ثاني دول العالم إنتاجاً. ٣ الولايات المتحدة : ثالث دول العالم إنتاجاً.	اولى الدول

مراجعة + بنك أسئلة

٤- الابقار ، الاغنام من حيث :-

( الأهمية ، اولى الدول المنتجة )

الابقار	الاغنام	
- تعد المصدر الرئيسي للحوم الحمراء لغالبية سكان العالم وتدخل بنسبة كبيرة فى التجارة الدولية.	- تربي من أجل الحصول على لحومها وأصوافها.	أهميتها
قارة آسيا : هي اولى قارات العالم وأهم دولها : الهند. قارة أمريكا الجنوبية : هي ثاني قارات العالم.	ترتبط تربيتها بالمراعي التجارية الواسعة وتتركز فى : • الصين : اولى دول العالم . • الهند . • أستراليا .	أهم القارات والدول المربية

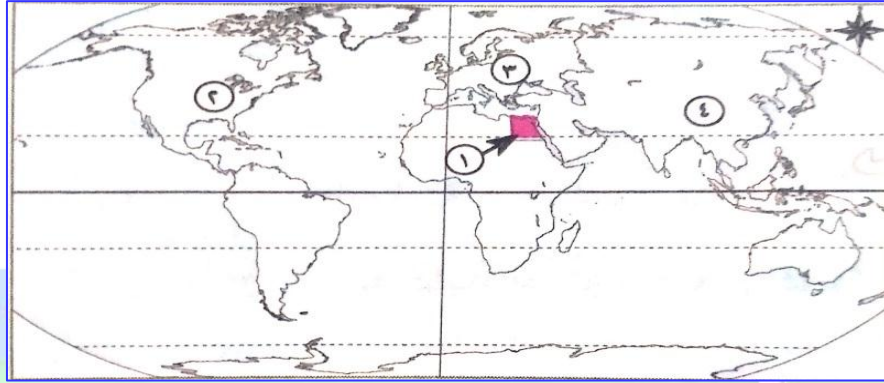




الخرائط

السؤال الحادي عشر

١: امامك خريطة صماء للعالم اكتب ما تشير اليه الارقام :



+ بنك أسئلة

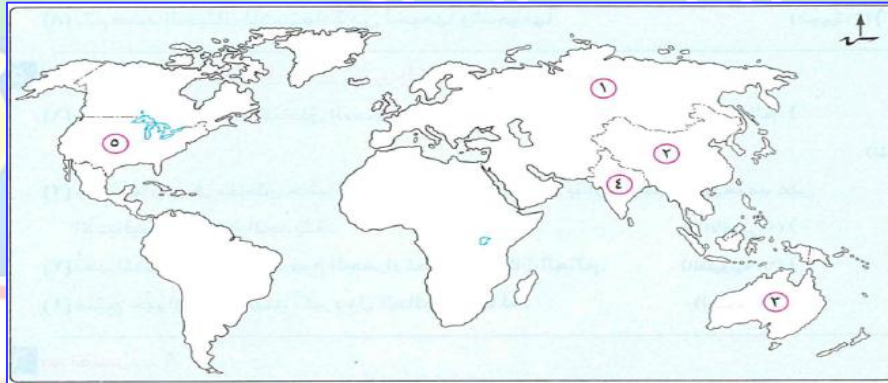
١- اولي دول القارة في انتاج القمح **مصر**

٢- اكبر قارات العالم في انتاج الذرة **امريكا الشمالية**

٣- اكبر قارات العالم في انتاج البنجر **اوروبا**

٤- اكبر قارات العالم في انتاج المطاط **اسيا**

٢: امامك خريطة صماء للعالم اكتب ما تشير اليه الارقام :

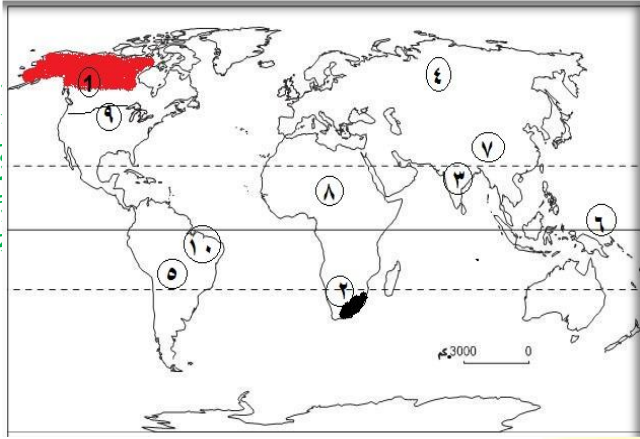


١- اولي القارات في تربية الابقار **اسيا**

٢- اولي دول العالم في انتاج اللحوم الحمراء **الصين**

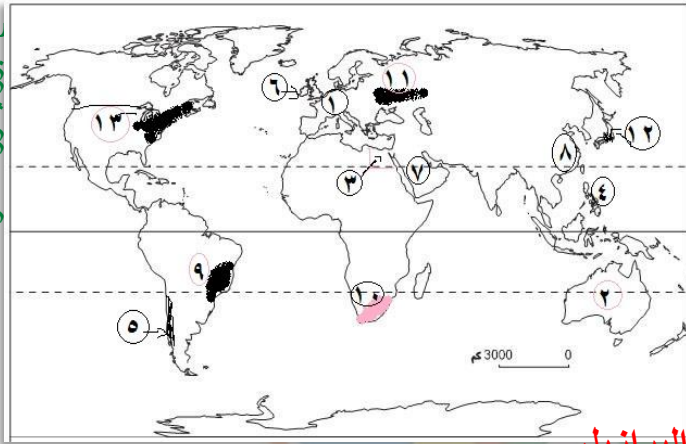
٣- اولي قارات العالم في انتاج الصوف **استراليا**

٤- اولي دول العالم في انتاج الدواجن **الولايات المتحدة الامريكية**



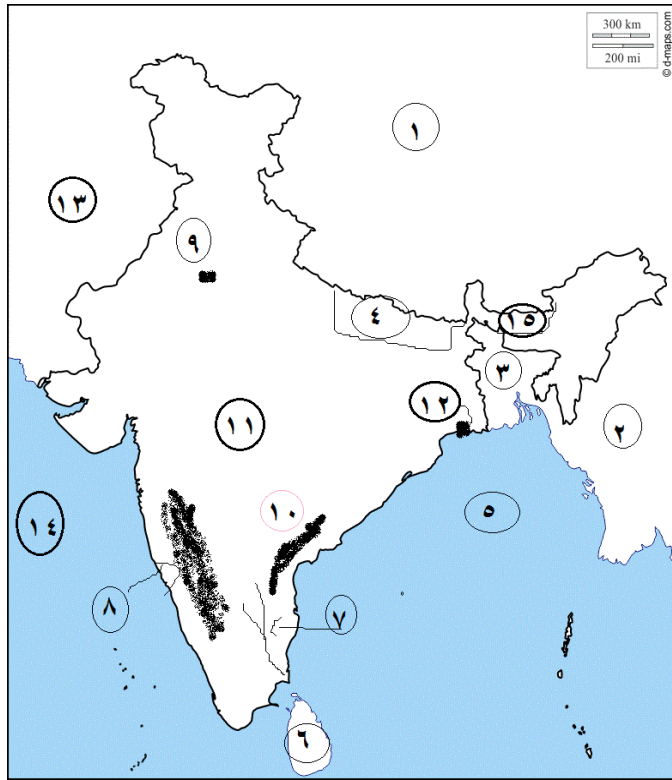
## مراجعة + بنك أسئلة

- ٣- أمامك خرائط صماء اكتب مدلول الأرقام عليها
- ١- نوع الزراعة السائدة..... البسيطة
  - ٢- نوع الزراعة السائدة..... تجارية
  - ٣- نوع الزراعة السائدة..... كثيفة
  - ٤- أولى القارات لإنتاج القمح والقطن اسيا
  - ٥- ثاني قارات العالم فى تربية الأبقار امريكا الجنوبية
  - ٦- دائرة عرض ..... الاستواء
  - ٧- أولى الدول لإنتاج اللحوم الحمراء الصين
  - ٨- ثاني القارات فى انتاج المطاط الطبيعي افريقيا
  - ٩- من اهم قارات البنجر..... امريكا الشمالية
  - ١٠- أولى الدول فى انتاج قصب السكر..... البرازيل
- س ٤ : أمامك خرائط صماء اكتب مدلول الأرقام عليها



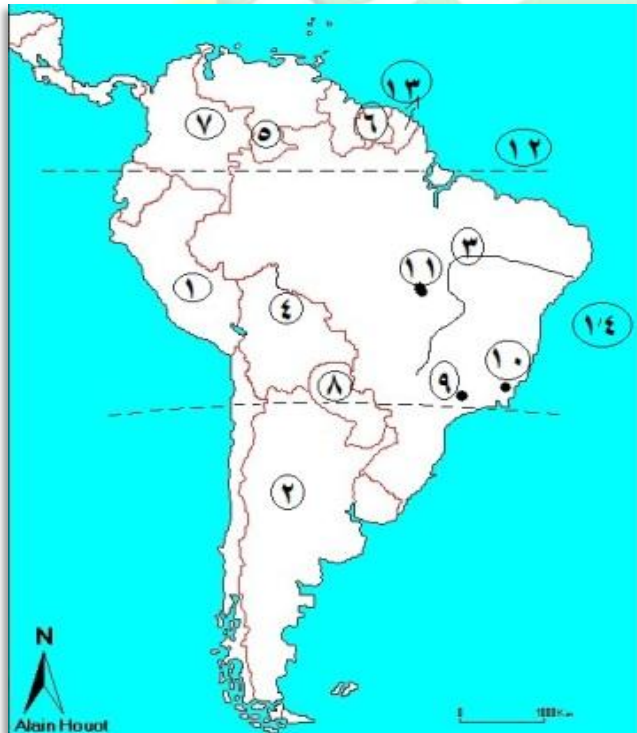
- ١٤- أولى القارات المنتجة للطاقة النووية اوروبا
- ١٥- أولى الدول المنتجة للبوكسيت استراليا
- ١٦- أولى الدول المنتجة للكهرباء... مصر
- ١٧- الزراعة السائدة..... بسيطة
- ١٨- أولى الدول المنتجة للنحاس..... شيلي
- ١٩- دولة مستوردة للحديد..... بريطانيا
- ٢٠- أولى الدول المنتجة للبتترول..... الهند
- ٢١- أولى الدول المنتجة للفحم والحديد الصين
- ٢٢- من المراكز الصناعية الحديثة البرازيل
- ٢٣- من المراكز الصناعية الحديثة جنوب افريقيا
- ٢٤- اقليم صناعي..... روسيا واوكرانيا
- ٢٥- من مراكز اقليم شرق اسيا جزيرة هنشو باليابان
- ٢٦- أكبر الاقاليم الصناعية فى العالم الجديد اقليم شمال شرق الولايات المتحدة

## (٦) خريطة صماء لدولة الهند :-



- |             |               |
|-------------|---------------|
| ١٦. دولة    | الصين         |
| ١٧. دولة    | ميانمار       |
| ١٨. دولة    | بنجلاديش      |
| ١٩. دولة    | نيبال         |
| ٢٠. خليج    | البنغال       |
| ٢١. جزيرة   | سيلان         |
| ٢٢. نهر     | كوفرى         |
| ٢٣. جبال    | الغات الغربية |
| ٢٤. العاصمة | نيودلهى       |
| ٢٥. جبال    | الغات الشرقية |
| ٢٦. هضبة    | الدكن         |
| ٢٧. مدينة   | كلكتا         |
| ٢٨. دولة    | باكستان       |
| ٢٩. البحر   | العربي        |
| ٣٠. دولة    | بوتان         |

## (٧) خريطة صماء لدولة البرازيل :-



- |             |               |
|-------------|---------------|
| ١٥. دولة    | بيرو          |
| ١٦. دولة    | الارجنتين     |
| ١٧. نهر     | ساو فرانسيسكو |
| ١٨. دولة    | بوليفيا       |
| ١٩. دولة    | فنزويلا       |
| ٢٠. دولة    | سورينام       |
| ٢١. دولة    | كولومبيا      |
| ٢٢. دولة    | بارجواى       |
| ٢٣. مدينة   | ساو باولو     |
| ٢٤. مدينة   | ريودى جانيرو  |
| ٢٥. العاصمة | برازيليا      |
| ٢٦. دائرة   | مدار الجدى    |
| ٢٧. دولة    | جيانا         |
| ٢٨. المحيط  | الأطلسي       |

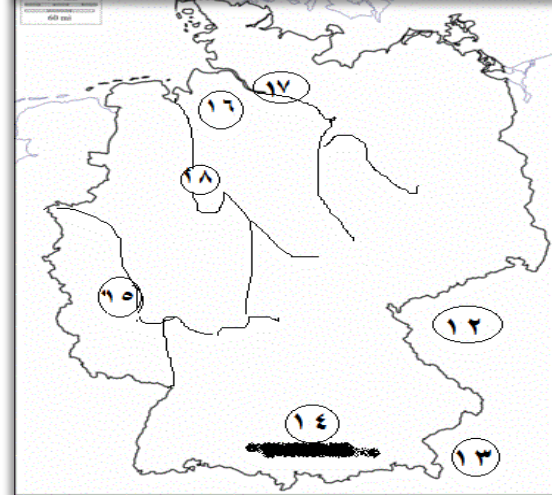
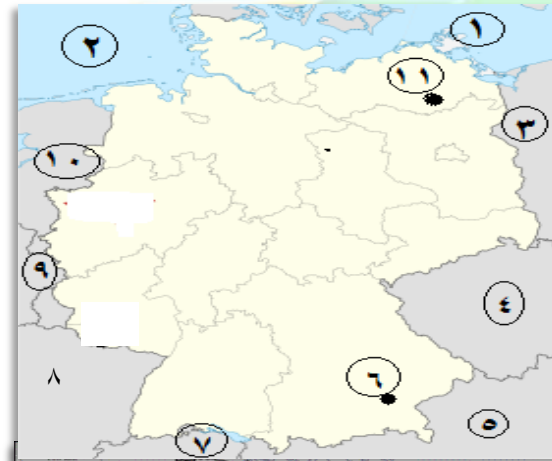
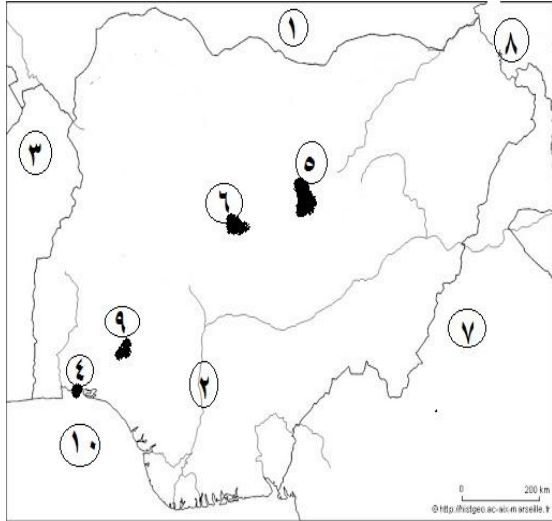


## (٨) أمامك خريطة دولة نيجيريا :-

- |    |         |           |
|----|---------|-----------|
| ١١ | دولة    | النيجر    |
| ١٢ | نهر     | النيجر    |
| ١٣ | مدينة   | بنين      |
| ١٤ | دولة    | لاجوس     |
| ١٥ | هضبة    | جوس       |
| ١٦ | العاصمة | ابوجا     |
| ١٧ | دولة    | الكاميرون |
| ١٨ | دولة    | تشاد      |
| ١٩ | مدينة   | ايبادان   |
| ٢٠ | خليج    | غينيا     |

## (٩) أمامك خريطة لدولة ألمانيا :-

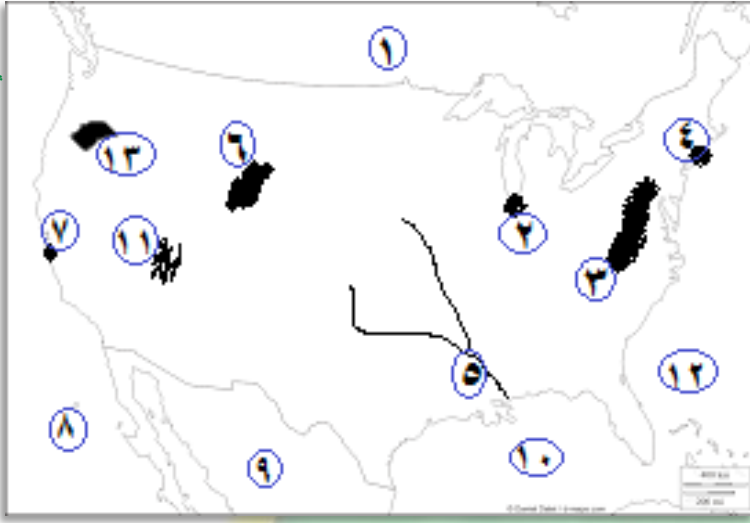
- |    |                     |            |
|----|---------------------|------------|
| ١٩ | البحر               | البلطى     |
| ٢٠ | البحر               | بحر الشمال |
| ٢١ | دولة                | بولندا     |
| ٢٢ | دولة                | التشيك     |
| ٢٣ | دولة                | النمسا     |
| ٢٤ | عاصمة اقليم بافاريا | ميونخ      |
| ٢٥ | دولة                | سويسرا     |
| ٢٦ | دولة                | فرنسا      |
| ٢٧ | دولة                | بلجيكا     |
| ٢٨ | دولة                | هولندا     |
| ٢٩ | العاصمة السياسية    | برلين      |
| ٣٠ | دولة                | التشيك     |
| ٣١ | دولة                | النمسا     |
| ٣٢ | جبل                 | الالب      |
| ٣٣ | نهر                 | الراين     |
| ٣٤ | السهل               | الالمانى   |
| ٣٥ | نهر                 | الب        |
| ٣٦ | نهر                 | فيزر       |





## ١٠) امامك خريطة صماء لدولة الولايات المتحدة الامريكية:-

مستر احمد المراكبي

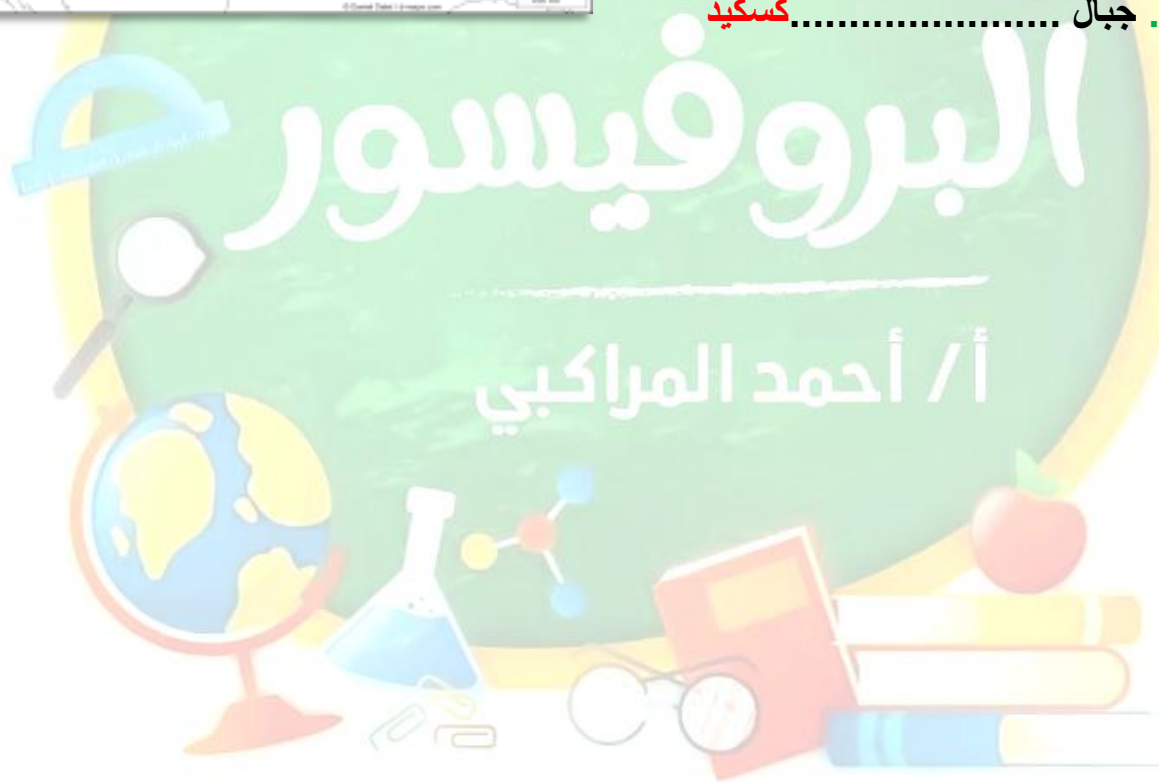


١٤. دولة..... **كندا**  
 ١٥. مدينة..... **شيكاغو**  
 ١٦. جبال..... **الابلاش**  
 ١٧. مدينة..... **نيويورك**  
 ١٨. نهر..... **المسيبى**  
 ١٩. جبال..... **روكى**  
 ٢٠. مدينة..... **سان فرانسيسكو**  
 ٢١. المحيط..... **الهادى**  
 ٢٢. دولة..... **المكسيك**  
 ٢٣. خليج..... **المكسيك**  
 ٢٤. هضبة..... **كلورادو**  
 ٢٥. المحيط..... **الأطلنطي**  
 ٢٦. جبال..... **كسكيد**

مستر احمد المراكبي

الدراسات تختلف مع البروفيسور المحترف

الدراسات تختلف مع البروفيسور المحترف



البروفيسور / احمد المراكبي

البروفيسور / احمد المراكبي





## ثانيا

## التاريخ

## السؤال الأول

ضع علامة ( ✓ ) أمام العبارة الصحيحة و علامة ( × ) أمام العبارة غير الصحيحة

- ١- محاصرة لقصر عابدين كانت في سبتمبر ١٩٥٢ م . فبراير ١٩٤٢ م . ( × )
- ٢ - حلت حكومة ثورة ٢٣ يوليو الأحزاب السياسية القائمة آنذاك . ( ✓ )
- ٣- كانت تجربة الوحدة بين مصر وسوريا في فبراير ١٩٥٨ م . مراجعة + بنك أسئلة ( ✓ )
- ٤ - كان الهدف من ثورة يوليو التخلص من الاحتلال الفرنسي . البريطاني . ( × )
- ٥ - شكل مجلس الأمة بناء علي دستور ١٩٥٦ م . ( ✓ )
- ٦- اذيع البيان الاول لثورة ٢٣ يوليو بصوت محمد نجيب . السادات . ( × )
- ٧- رفض الملك فاروق مغادرة البلاد هو واسرته قبل الموعد المحدد له . وافق . ( × )
- ٨ - ألغت ثورة يوليو ١٩٥٢ م دستور ١٩٢٣ م . ( ✓ )
- ٩- سعت امريكا لتأييد فكرة انشاء وطن قومي لليهود واصدرت وعد بلفور . بريطانيا . ( × )
- ١٠ - صدر عام ١٩٥٤ م أول دستور بعد ثورة ١٩٥٢ م . ١٩٥٦ م . ( × )
- ١١ - يعتبر الفريق عبد المنعم رياض من شهداء حرب الاستنزاف . ( ✓ )
- ١٢ - اول دولة اعترفت بقيام دولة اسرائيل هي الولايات المتحدة الامريكية . ( ✓ )
- ١٣ - يعد حزب الوفد من أقوي احزاب مرحلة ما بعد ثورة يوليو ١٩٥٢ م . أضعف . ( × )
- ١٤ - كانت مساندة مصر لثورة الجزائر من اسباب العدوان الثلاثي ٥٦ م . ( ✓ )
- ١٥ - مرحلة التنظيم السياسي الواحد كانت في الفترة من ١٩٥٣ م - ١٩٧٦ م . ( ✓ )
- ١٦ - طلبت مصر من قوات الطوارئ الانسحاب عام ١٩٦٧ م . ( ✓ )
- ١٧ - تزعم مصطفى كامل حزب الإصلاح . الحزب الوطني . ( × )
- ١٨ - الحزب الوطني بزعامة مصطفى كامل من أحزاب مرحلة ما بعد ثورة ١٩١٩ م . قبل ( × )
- ١٩ - لعبت المرأة المصرية دورا كبيرا في الحياة السياسية منذ عام ١٩١٩ م . ( ✓ )
- ٢٠ - اعطي الرئيس السادات اشارة بدء حرب اكتوبر ١٩٧٣ م . ( ✓ )
- ٢١ - حصلت المرأة علي حق الانتخاب والترشح لأول مرة في دستور ١٩٥٦ م . ( ✓ )



- ٢٢ - انتهت حرب اكتوبر ١٩٧٣م نظرية الامن الاسرائيلية . ( ✓ )
- ٢٣ - ظهرت أول صحيفة نسائية مصرية علي يد هدي شعراوي . جميلة حافظ . ( × )
- ٢٤ - حزب الامة تزعمه الفيلسوف المفكر علي يوسف . احمد لطفي السيد . ( × )
- ٢٥ - يعرف خط الدفاع الاسرائيلي في هضبة الجولان خط بارليف . الوان . ( × )
- ٢٦ - اظهرت حرب ١٩٧٣م اهمية استخدام سلاح النفط العربي . ( ✓ )
- ٢٧ - اخترقت المدرعات السورية خط الوان في هضبة الجولان ٧٣م . ( ✓ )
- ٢٨ - اصدار دستور ١٩٧١م كان اجراء لتهيئة الجبهة الداخلية . ( ✓ )
- ٢٩ - عارضت مصر اتفاق اوسلو ١٩٩٣م . أيدت . ( × )
- ٣٠ - اعلن الرئيس السادات عن مبادرة للسلام عام ١٩٧٦م . ( × )
- ٣١ - فشل مؤتمر كامب ديفيد بين السادات وبيجين ولم يصل الي نتائج . نجح . ( × )
- ٣٢ - شاركت مصر بفاعلية في مؤتمر مدريد للسلام في ١٩٩١م . ( ✓ )
- ٣٣ - تحقق الانسحاب الاسرائيلي من سيناء ٢٥ ابريل ١٩٨٢م . ( ✓ )
- ٣٤ - كانت معاهدة السلام بين مصر واسرائيل بمشاركة ورعاية اسبانيا . الولايات المتحدة ( × )
- ٣٥ - اكدت الاحداث بعد ثورة ٢٥ يناير ان الجيش هو قوة مساندة الشعب . ( ✓ )
- ٣٦ - من الاسباب الاقتصادية للثورة استمرار العمل بقانون الطوارئ . السياسية . ( × )
- ٣٧ - ادي سوء الازوضاع الاجتماعية في مصر الي قيام ثورة ٢٥ يناير . ( ✓ )
- ٣٨ - من مقدمات ثورة ٣٠ يونيو عدم ارتياح الشعب للتغيرات السياسية بعد ثورة يناير ٢٠١١م . ( ✓ )
- ٣٩ - تسلم السلطة في يوليو ٢٠١٣م المستشار عدلي منصور . ( ✓ )
- ٤٠ - ساهمت التكنولوجيا المتطورة في اندلاع ثورة ٢٥ يناير . ( ✓ )

## اختر الاجابة الصحيحة مما بين القوسين

## السؤال الثاني

- ١ - من اهم انجازات ثورة ٢٣ يوليو ١٩٥٢م في المجال السياسي.....
- (بناء السد العالي - مجانية التعليم - قوانين التأمينات الاجتماعية - تأميم شركة قناة السويس ) .
- ٢ - أسس مجلس المشورة والمجلس العالي.....
- ( محمد علي - الخديو إسماعيل - الملك فاروق - الخديو توفيق ) .
- ٣ - حاصر الانجليز في فبراير ٤٢م قصر عابدين لإجبار فاروق علي تعيينه رئيس للحكومة.
- ( سعد زغلول - مصطفى النحاس - شريف باشا - رياض باشا ) .



٤ - بموجب دستور ١٩٥٦م تم تشكيل مجلس..... عام ١٩٥٧م .

( المشورة - **الأمة** - شوري النواب - شوري القوانين ) .

٥ - القضاء علي الاقطاع احد انجازات ثورة ٢٣ يوليو في المجال.....

(السياسي - الاقتصادي - **الاجتماعي** - العربي والدولي ) .

٦ - من المجالس النيابية التي أنشئت في ظل الاحتلال البريطاني لمصر.....

( مجلس شوري القوانين - الجمعية العمومية - الجمعية التشريعية - **جميع ما سبق** ) .

٧- بموجب اذاعة البيان الاول لثورة ٢٣ يوليو ١٩٥٢م اصبحت جميع قطاعات الجيش تحت سيطرته.....

( جمال عبد الناصر - **محمد نجيب** - السادات - الملك فاروق ) .

مراجعه + بنك أسئلة

٨ - أصدر الرئيس السادات الدستور الدائم ١٩٧١م للتأكيد علي.....

( سيادة القانون - استقلال القضاء - التعددية الحزبية - **كل ما سبق** ) .

٩- تأسيس حركة عدم الانحياز من انجازات ثورة ٢٣ يوليو ٥٢م في المجال.....

(السياسي - الاقتصادي - الاجتماعي - **الدولي** ) .

١٠ - أنشا الخديو اسماعيل أول مدرسة لتعليم البنات عام ١٨٧٣م استجابة لدعوة.....

( علي مبارك - **رفاعة الطهطاوي** - محمد فريد - مصطفى كامل ) .

١١- رفضت الدول العربية مشروع تقسيم..... عام ١٩٤٧م .

( **فلسطين** - مصر - السودان - سوريا ) .

١٢ - أول مدرسة في مصر لتعليم البنات.....

( الخديوية - التوفيقية - **السنية** - السعيدية ) .

١٣- اعلن اليهود قيام دولة..... في ١٥ مايو ١٩٤٨م .

( فلسطين - سوريا - **اسرائيل** - بريطانيا ) .

١٤ - عين الرئيس السادات وزيرة الشؤون الاجتماعية..... عام ١٩٧١م .

( جميلة حافظ - حكمت أبوزيد - **عائشة راتب** - هدي شعراوي ) .

١٥- وضعت فلسطين تحت الانتداب البريطاني طبقا لقرارات مؤتمر..... ١٩٢٠م .

( **سان ريمو** - الاستانة - مدريد - باندونج ) .

١٦ - حصلت علي منصب رئيس اللجنة التشريعية بمجلس الشعب.....

( هدي شعراوي - حكمت أبوزيد - عائشة راتب - **امال عثمان** ) .



١٧- من ابشع الجرائم الصهيونية بفلسطين مذبحه.....

( رفح - بيت لحم - **دير ياسين** - القدس ) .

١٨ - قيام الشعب بانتخاب ممثلين له لإدارة البلاد المقصود به.....

( الدستور - **الحياة النيابية** - البرلمان - النقابات العمالية ) .

١٩ - اشترك في العدوان الثلاثي علي مصر كل من اسرائيل وبريطانيا و.....

( المانيا - ايطاليا - الولايات المتحدة - **فرنسا** ) .

٢٠ - تم تزوير الانتخابات..... لعام ٢٠١٠ م لصالح الحزب الوطني .

( العالمية - **البرلمانية** - الاتحادية - الرئاسية ) .

مراجعة + بنك أسئلة

٢١ - التطبيق غير السليم لسياسية الخصخصة من الاسباب..... لقيام ثورة يناير .

( السياسية - الاجتماعية - **الاقتصادية** - الثقافية ) .

٢٢ - تخلي..... عن الحكم يوم الجمعة ١١ فبراير ٢٠١١ م .

( محمد مرسي - **حسني مبارك** - محمد نجيب - عدلي منصور ) .

٢٣ - تنحي الرئيس مبارك عن الرئاسة وتسلم..... ادارة البلاد .

( **المجلس العسكري** - المحكمة الدستورية - مجلس الشعب - مجلس الشوري ) .

٢٤ - سيط..... على جميع قطاعات الجيش المصري بعد اذاعة البيان الاول لثورة ٢٣ يوليو .

( **محمد نجيب** - جمال عبدالناصر - أنور السادات - عبدالمنعم رياض ) .

٢٥ - شارك مصر فى تشكيل حركة عدم الانحياز كل من اندونيسيا ويوغسلافيا (سابقا) و.....

( الصين - **الهند** - كينيا - العراق ) .

٢٦ - وافقت هيئة الامم المتحدة عام ١٩٤٧م على.....

( **تقسيم فلسطين** - تقسيم القدس - الانتداب البريطاني على فلسطين - انسحاب اليهود من فلسطين ) .

٢٧ - امتنعت..... عن التصويت على مشروع تقسيم فلسطين عام ١٩٤٧م .

( **بريطانيا** - الولايات المتحدة الامريكية - الاتحاد السوفيتي - فرنسا ) .

٢٨ - بعد فشل العدوان الثلاثي على مصر انسحبت اسرائيل عام ١٩٥٧م من.....

( **غزة وسيناء** - السويس - الضفة الغربية لنهر الاردن - بورسعيد ) .

٢٩ - استولت اسرائيل على هضبة الجولان عقب.....

( حرب فلسطين - العدوان الثلاثي ١٩٥٦م - **عدوان ٥ يونيه ١٩٦٧م** - حرب الاستنزاف ) .



٣٠- كانت تجربة الوحدة بين مصر وسوريا من نتائج .....

( عدوان ٥ يونيه ١٩٦٧م - حرب الاستنزاف - حرب فلسطين عام ١٩٤٨م - **العدوان الثلاثي** ) .

٣١- كانت مصر خلال حرب الاستنزاف تقوم بالقصف المستمر ل.....بالمدفعية .

( خط بارليف - خط الوان - **المدمة ايلات** - الضفة الغربية للقناة ) .

٣٢- كانت معاهدة السلام بين مصر واسرائيل عام ١٩٧٩م برعاية.....

( روسية - **امريكية** - اوربية - عربية ) .

٣٣- يوجد مقر الامانة العامة للأمم المتحدة بمدينة.....

( روما - جنيف - لاهى - **نيويورك** ) .

مراجعة + بنك أسئلة

٣٤- يعد .....اعلى سلطة داخل جامعة الدول العربية .

( الامانة العامة - **مجلس الجامعة** - اللجان الدائمة - مجلس الوصاية ) .

### لمن تنسب الأعمال الآتية

### السؤال الثالث

- ١- قام بتأسيس تنظيم الضباط الاحرار للقيام بثورة يوليو ١٩٥٢ م . **جمال عبد الناصر**
- ٢- إصدار قانون الأحزاب السياسية في يونيو ١٩٧٧م . **محمد انور السادات**
- ٣- تنازل له والده عن عرش مصر ١٩٥٢م . **أحمد فؤاد الثاني**
- ٤- إصدار أول مجلة نسائية مصرية هي ( الريحانة ) ١٩٠٧م . **جميلة حافظ**
- ٥- اذاع البيان الاول لثورة يوليو ١٩٥٢م من دار الاذاعة المصرية . **محمد أنور السادات**
- ٦- تعيين عائشة راتب وزيرة للشئون الاجتماعية ١٩٧١م . **محمد انور السادات**
- ٧- اول رئيس للجمهورية المصرية في يونيو ١٩٥٣م . **محمد نجيب**
- ٨- أنشأ مجلس المشورة . **محمد علي**
- ٩- وافق علي مطالب ثورة يوليو ١٩٥٢م وغادر البلاد . **الملك فاروق**
- ١٠- أنشأ مجلس شوري النواب ١٨٦٦م . **الخدو اسماعيل**
- ١١- انتهت انتدابها علي فلسطين ١٩٤٨م . **بريطانيا**
- ١٢- أشار علي الخديو إسماعيل بإنشاء مدرسة السنية لتعليم البنات . **رفاعة الطهطاوي**
- ١٣- اصدرت تصريحاً تعهدت فيه بريطانيا انشاء وطن قومي لليهود . **بريطانيا وعد بلفور**
- ١٤- أصدر الدستور الدائم لمصر عان ١٩٧١م . **محمد أنور السادات**
- ١٥- قدم مبادرة عرفت ب اسمه لوقف اطلاق النار لحل النزاع سلميا . **روجرز**



١٦ - انتخبت رئيسا للجنة الوفد المركزية للسيدات ١٩٢٠ م . **هدي شعراوي**

١٧- من مراحل اعادة بناء القوات المسلحة استشهد خلالها الفريق اول عبد المنعم رياض . حرب الاستنزاف

١٨ - أول وزيرة للشئون الاجتماعية بمصر ١٩٦٢ م . **حكمت أبو زيد**

١٩- كان رئيسا لأركان القوات المسلحة في ديسمبر ١٩٧٣ م . **الفريق سعد الدين الشاذلي**

٢٠ - أنشأ أول مدرسة لتعليم البنات في مصر عام ١٨٧٣ م . **الخدوي اسماعيل**

٢١- قاد سلاح الطيران في حرب اكتوبر ١٩٧٣ م . **محمد حسني مبارك**

٢٢ - شاركت في الحياة النيابية وشغلت منصب رئيس اللجنة التشريعية بمجلس الشعب . **امال عثمان**

٢٣- وزير الحربية وقائد القوات المسلحة في حرب اكتوبر ١٩٧٣ م . **المشير احمد اسماعيل**

٢٤- قام بإعداد دراسة عن انساب التوقيعات للقيام بعمليات حربية . **الفريق محمد عبد الغني الجمسي**

٢٥- عقد معاهدة السلام مع اسرائيل عام ١٩٧٩ م . **الرئيس السادات**

٢٦- اصدرت حكما بأحقية مصر في طابا سبتمبر ١٩٨٨ م . **محكمة العدل الدولية**

٢٧- بادر بزيارة اسرائيل عام ١٩٧٧ م ودعا للسلام العادل . **السادات**

٢٨- الرئيس الامريكى الذي دعا مصر واسرائيل لعقد مؤتمر كامب ديفيد . **كارتر**

٢٩- عين عائشة راتب وزيرة للشئون الاجتماعية عام ١٩٧١ م . **محمد انوار السادات**

٣٠- تولى رئاسة الحكومة المصرية فى فبراير ١٩٤٢ م . **مصطفى النحاس**

٣١- قام بتنفيذ خطة عبور القوات المصرية لقناة السويس وتحطيم خط بارليف . **سعد الدين الشاذلي**

### أكمل العبارات الآتية

### السؤال الرابع

١ - ( بارليف - الجمسي - الوان - سعد الدين الشاذلي - احمد اسماعيل - الدفر سوار ) .

١- يعرف خط الدفاع الإسرائيلي في هضبة الجولان باسم **خط الوان** .

٢- تولى الفريق **الجمسي** منصب رئيس هيئة عمليات القوات المسلحة عام ١٩٧٢ م .

٣- ساعدت الولايات المتحدة اسرائيل في احداث ثغرة **الدفر سوار** خلال حرب اكتوبر .

٤- يعرف خط الدفاع الاسرائيلي في سيناء علي طول القناة ب اسم **بارليف** .

٥- شارك الفريق **سعد الدين الشاذلي** في وضع خطة العبور وتحطيم خط بارليف .

٢ - ( السادات - كامب ديفيد - امريكية - مدريد - التحرير الفلسطينية - طابا - اسرائيل ) .

١- تم توقيع اتفاقية اوسلو عام ١٩٩٣ م بين منظمة التحرير الفلسطينية و **اسرائيل** .

٢- الارض مقابل السلام مبدأ دعا اليه مؤتمر **مدريد** .



- ٣- اعلن الرئيس السادات عن مبادرة السلام عام ١٩٧٧ م .
- ٤- استردت مصر سيناء كاملة ١٨٨٢م عدا مدينة طابا .
- ٥- دعا الرئيس الامريكي كارتر في سبتمبر ١٩٧٨م الي اجتماعات في كامب ديفيد .
- ٦- كانت معاهدة السلام بين مصر واسرائيل برعاية الولايات المتحدة الأمريكية .
- ١- رحلت القوات البريطانية عن مصر بعد احتلال دام ٧٤ عاما .
- ٢- تم اصدار قانون الاصلاح الزراعي الاول عام ١٩٥٢ م .
- ٣- عدم الانضمام الي اي من الكتلتين الشرقية والغربية يسمي حركة عدم الانحياز .
- ٤- تنازل الملك فاروق عن العرش لابنه أحمد فؤاد الثاني .
- ٥- من عوامل قيام ثورة يوليو ٥٢م استمرار الاحتلال البريطاني .
- ٦- حاصر الانجليز في فبراير قصر عابدين لإجبار الملك فاروق على تعيين مصطفى النحاس رئيسا للحكومة .
- ٧- ساهمت ثورة ٢٣ يوليو ١٩٥٢م على المستوى العربي في تحقيق استقلال كل من العراق واليمن
- ٨- قام الشعب الفلسطيني بثورة ١٩٥٢م بقيادة اللجنة العربية .
- ٩- نص مشروع تقسيم فلسطين ١٩٤٧م على تدويل منطقة القدس
- ١٠- سعت بريطانيا لتأييد فكرة انشاء وطن قومي لليهود في فلسطين فأصدرت وعد بلفور
- ١١- بموجب دستور ١٩٥٦م تم تشكيل مجلس الامة عام ١٩٥٧
- ١٢- يتمثل الجهاز القضائي للأمم المتحدة في محكمة العدل الدولية
- ١٣- انشا محمد علي مجلس المشورة ، والمجلس العالي .

مراجعة + بنك أسئلة

بم تفسر

السؤال الخامس

- ١- قيام ثورة يوليو ١٩٥٢م .
- استمرار الاحتلال البريطاني وتدخله في الشؤون - عدم وجود حياة ديمقراطية - سوء الاحوال الاقتصادية والاجتماعية - فساد النظام الملكي .
- ٢- لم يحقق مجلس المشورة في عصر محمد علي حياة نيابية سليمة .
- حيث كان مجلس استشاري صوري لا سلطة له .
- ٣- تأسيس تنظيم الضباط الاحرار .
- للقيام بثورة تقضي علي الفساد وتحرر الوطن من الاستعمار .



٤ - شهدت مصر نهضة نسائية في مختلف المجالات في فترة ما بعد ١٩م حتى ثورة ٥٢م .  
بسبب مشاركة المرأة في المظاهرات وانتخاب هدي شعراوي لرئاسة لجنة الوفد المركزية - التحاق المرأة بالجامعات .

٥ - فساد النظام الملكي قبل ثورة ١٩٥٢م .

بسبب الاستبداد بالحكم - انتشار الرشاوي .

٦ - إصدار الرئيس السادات دستور ١٩٧١م .

للتأكيد علي سيادة القانون واستقلال القضاء وإقرار التعددية الحزبية .

٧- أهمية فلسطين للشعوب العربية .

ولد بها السيد المسيح عيسي - مسري سيدنا محمد - اولي القبلتين وثالث الحرمين الشريفين .

٨ - يعتبر عصر الخديوي إسماعيل بداية تعليم البنات في مصر الحديثة .

لأنه أنشأ اول مدرسة لتعليم البنات ( مدرسة السنية ) .

٩- هزيمة الجيوش العربية في حرب فلسطين ١٩٤٨م .

بسبب خيانة اليهود ونقض الهدنة التي أعلنتها الولايات المتحدة واستأنفت القتال .

١٠- فشل العدوان الثلاثي علي مصر ١٩٥٦م .

بسبب تنديد الامم المتحدة والولايات بالعدوان - تهديد الاتحاد السوفيتي بالتدخل العسكري - المقاومة .

١١- قيام حرب اكتوبر ١٩٧٣م .

بسبب رفض اسرائيل جميع نداءات السلام - التصميم المصري السوري علي إزالة اثار النكسة .

١٢- اقامة معابر علي طول قناة السويس في حرب اكتوبر ١٩٧٣م .

حتى يتمكن الجنود من العبور .

١٣- اهمية الضربات الجوية في حرب اكتوبر ١٩٧٣م .

ساعدت علي عبور اليات عسكرية إلي سيناء ودمرت خط بارليف .

١٤- انتصار العرب في حرب اكتوبر ١٩٧٣م .

قرر وزراء العرب خفض انتاج البترول - حظر تصدير البترول إلي الولايات المتحدة الأمريكية .

١٥- عقد مؤتمر كامب ديفيد ١٩٧٨م .

للتوصل إلي اتفاق للسلام بين مصر وإسرائيل .

١٦- عقد مؤتمر للسلام في مدريد بإسبانيا عام ١٩٩١م .

لحل الصراع العربي الإسرائيلي علي أساس مبدأ الأرض مقابل السلام .



١٧- انسحاب اسرائيل من طابا ١٩٨٩م

نتيجة حكم محكمة العدل الدولية بعودة طابا إلي أرض مصر .

١٨- تشكيل الشعب المصري لما عرف باللجان الشعبية اثناء ثورة ٢٥ يناير .

لحماية المنشآت ومواجهة أعمال السرقة والنهب .

١٩- يعد الجيش المصري هو الضامن هو الضامن لثورة ٢٥ يناير .

حيث قام بحماية الثورة وأمن المواطنين وممتلكاتهم .

٢٠- اعتبار الانتخابات البرلمانية ٢٠١٠م مخالفة لإرادة الشعب .

حيث تم تزوير النتيجة لصالح الحزب الوطني .

٢١- محاصرة قوات الاحتلال البريطاني لقصر عابدين في فبراير ١٩٤٢م

لإجبار الملك فاروق على تعيين مصطفى النحاس باشا رئيساً للحكومة .

٢٢- مشاركة مصر في مؤتمر مدريد للسلام عام ١٩٩١م

حل الصراع العربي / الإسرائيلي على ضوء قرارات مجلس الأمن على أساس مبدأ الأرض مقابل السلام .

٢٣- موافقة الملك فاروق على مطالب الثورة ٢٣ يوليو ١٩٥٢م

لأنه أدرك أن الجيش والشعب يكرهان حكمه وتخلي الإنجليز عنه .

٢٤- عجز الاحزاب السياسية عن التعبير عن ارادة الشعب المصري ومطالبه قبل الثورة يوليو ١٩٥٢م .

بسبب فساد النظام الملكي بجانب فساد الأحزاب و زيادة الصراع بين الأحزاب من أجل الوصول إلى الحكم .

٢٥- لم تحقق معاهدة ١٩٣٦م الاستقلال الحقيقي لمصر .

بسبب استمرار الاحتلال البريطاني وتدخله في شئون مصر الداخلية ومحاصرة القوات البريطانية قصر عابدين

فبراير ١٩٤٢م لإجبار الملك فاروق على تعيين مصطفى النحاس باشا رئيساً للحكومة .

٢٦- اعداد وتخطيط مصر وسوريا لحرب اكتوبر ١٩٧٣م .

رغبة مصر وسوريا على استرداد شبه جزيرة سيناء والجولان ومحو آثار نكسة يونيو ١٩٧٦م .

٢٧- هزيمة العرب في حرب ٥ يونيو ١٩٦٧م .

بسبب : (1) نقص التدريب وعدم توافر الأسلحة المتطورة للقوات المصرية.

( ٢ ) التفوق العسكري لإسرائيل خاصة سلاح الجو .

( ٣ ) استخدام اسرائيل عنصر المفاجأة في ضرب المطارات المصرية بعد أن صورت أجهزة

تجسس أمريكا المواقع المصرية .

(٤) مساندة الولايات المتحدة وبعض دول أوروبا لإسرائيل عسكرياً وسياسياً واقتصادياً .



٢٨- قيام ثورتى ٢٥ يناير ٢٠١١ م، و٣٠ يونيه ٢٠١٣ م .

ثورة ٢٥ يناير بسبب تدهور الاوضاع الاقتصادية ، وتدهور الاوضاع الاجتماعية ، واستمرار العمل بقانون الطوارئ ، وتدهور الاحوال الصحية والتعليمية .

٢٩- ثورة ٣٠ يونيه ٢٠١٣ م .

بسبب ان السياسات الجديدة فى عهد محمد مرسى لم تحقق حلول للمشكلات التي عانى منها الشعب المصري واستمرار سوء الاحوال الاقتصادية .

٣٠- مبادرة زيارة الرئيس السادات لإسرائيل عام ١٩٧٧ م .

### مراجعة + بنك أسئلة

إنهاء الصراع / العربي والإسرائيلي .

٣١- عودة طابا للسيادة المصرية ١٩٨٩ م .

بسبب اصدار هيئة التحكيم بمحكمة العدل الدولية سبتمبر ١٩٨٨ م حكمها لصالح مصر وعادت طابا إلى السيادة المصرية فى مارس ١٩٨٩ م فى عهد الرئيس محمد حسنى مبارك .

٣٢- سوء الاحوال الاجتماعية فى مصر قبيل ثورة ٢٣ يوليو ١٩٥٢ م .

بسبب الصراعات السياسية بين الاحزاب وظاهرة الاقطاع مما جعل فئة قليلة تمتلك اراضى .

٣٣- اغلاق مصر خليج العقبة امام الملاحة الاسرائيلية .

حصارا للاقتصاد الذى يفرضه العرب على اسرائيل .

٣٤- اعلان مصر وقوفها بجانب سوريا عام ١٩٦٧ م .

تطبيقا لاتفاقية الدفاع المشترك بين مصر وسوريا .

٣٥- صدور قانون الاصلاح الزراعي الاول سبتمبر ١٩٥٢ م .

للقضاء على الإقطاع من خلال تحديد الملكية الزراعية بنحو ٥٠ فدان للفرد مما زاد من تملك الفلاحين للأراضي الزراعية .

٣٦- فشل العدوان الثلاثي على مصر عام ١٩٥٦ م .

١ ( المقاومة الباسلة من الجيش والشعب المصري .

٢ ( وقوف الشعوب العربية بجانب مصر .

٣ ( تهديد الاتحاد السوفيتي بالتدخل لوقف العدوان .

٤ ( رفض الولايات المتحدة الأمريكية استخدام القوة فى حل النزاعات .

٥ ( تنديد الأمم المتحدة بالعدوان .



- ٣٧- تدهور الأوضاع الاقتصادية في مصر قبل ثورة ٢٥ يناير ٢٠١١ .  
 لتطبيق سياسة الانفتاح الاقتصادي بدون ضوابط علمية والتطبيق غير السليم لسياسة الخصخصة حيث تم بيع مؤسسات الدولة بأقل من سعرها الحقيقي لصالح فئة معينة من رجال الأعمال .

## ما النتائج المترتبة علي

## السؤال السادس

## مراجعة + بنك أسئلة

- ١- انشاء السد العالي .
- حماية مصر من خطر الفيضان وتوليد الكهرباء .
- ٢ - ثورة ٢٣ يوليو بالنسبة للمرأة المصرية .  
 حصلت علي حق الانتخاب والترشح وأصبحت عضوا بالبرلمان المصري .
- ٣- اهتمام ثورة يوليو بالمرأة .  
**ترشح المرأة في مجلس الأمة وتولي المناصب الرفيعة .**
- ٤ - صدور دستور ١٩٢٣ م .  
**إنشاء مجلس النواب والشيوخ .**
- ٥- مؤتمر سان ريمون بإيطاليا ١٩٢٠ م .  
 السماح بهجرة الكثير من يهود العالم إلي فلسطين - انتقال ملكية الارض من عرب فلسطين لليهود .
- ٦ - صدور دستور ١٩٥٦ م بعد ثورة يوليو ١٩٥٢ م .  
 إنشاء مجلس الأمة - أعطي المرأة حق الترشح في البرلمان وحق تولي المناصب القيادية الهامة .
- ٧- قرار تقسيم فلسطين .  
**رفض العرب لقرار التقسيم - رفض انجلترا التصويت - قيام اليهود بعدة مجازر كدير ياسين .**
- ٨ - دعوة رفاة الطهطاوي لتعليم المرأة .  
**إنشاء الخديوي إسماعيل مدرسة السنية .**
- ٩- التنسيق بين مصر وسوريا في حرب ١٩٧٣ م .  
 تم تدمير خط بارليف - وخط الوان حيث بدأ الهجوم بنفس التوقيت مما ادي للانتصار .
- ١٠- اجتماع وزراء النفط العرب بالكويت اثناء حرب اكتوبر ١٩٧٣ م .  
**تم وقف تصدير النفط مما ادي للضغط علي الولايات المتحدة لوقف المساعدات لإسرائيل .**
- ١١- توقيع معاهدة السلام مارس ١٩٧٩ م .  
 الانسحاب الاسرائيلي من سيناء ماعدا طابا .



١٢- قرار التحكيم الدولي في سبتمبر ١٩٨٨ .

عودة طابا للسيادة المصرية بقرار محكمة العدل الدولية .

١٣- اتفاقية اوسلو ١٩٩٣ م .

أيدت مصر الاتفاقية حيث تتعلق بالانسحاب الاسرائيلي من الاراضي المحتلة .

١٠- مواقع التواصل الاجتماعي مثل فيس بوك في ثورة ٢٥ يناير .

كان لها دور كبير في إشعال ثورة الخامس والعشرين من يناير وتجمع الشباب عليها .

١٤- الاضطراب الامني الذي حدث في ثورة ٢٥ يناير .

نزول الجيش المصري للشوارع وتشكيل اللجان الشعبية .

١٥- تنحي مبارك عن الحكم في ١١ فبراير ٢٠١١ م .

تسلم المجلس العسكري حكم البلاد .

١٦- التطبيق غير السليم لسياسة الخصخصة في مصر .

ادى الى ارتفاع الاسعار ، وانضمام الكثير من العاملين لصفوف لبطالة .

١٧- اجتماع وزارة النفط العربي بالكويت اثناء حرب اكتوبر ١٩٧٣ م .

ادى الى خفض انتاج البترول وحظر الصادرات النفطية الى الولايات المتحدة لطلب الرئيس

الأمريكي مساعدات لإسرائيل .

١٨- ثورة ٣٠ يونيه ٢٠١٣ م .

ادى الى عزل محمد مرسي وتسليم السلطة للمستشار عدلي منصور رئيس المحكمة الدستورية العليا .

١٩- معركة رأس العش .

ادى الى نجاح القوات المسلحة المصرية في هزيمة القوات الإسرائيلية عند محاولة احتلال مدينة بورفؤاد .

٢٠- العدوان الإسرائيلي ٥ يونيه ١٩٦٧ م .

ادى الى نجاح اسرائيل فى احتلال :

١ ( قطاع غزة .

٢ ( مدينة القدس العربية .

٣ ( الضفة الغربية لنهر الأردن .

٤ ( هضبة الجولان فى سوريا .

٥ ( شبه جزيرة سيناء حتى الضفة الشرقية لقناة السويس .

مراجعة + بنك أسئلة



- ٢١- عقد مؤتمر مدريد للسلام عام ١٩٩١ م .
- ادى مؤتمر مدريد للسلام الى حدوث مفاوضات سرية بين إسرائيل ومنظمة التحرير الفلسطينية .
- ٢٢- مؤتمر كامب ديفيد سبتمبر ١٩٧٨ م .
- ادى الى التوصل الى اطار اتفاق معاهدة السلام بين مصر واسرائيل .
- ٢٣- توقيع اتفاقية الجلاء فى اكتوبر ١٩٥٤ م .
- ادى الى جلاء القوات البريطانية عن مصر فى ١٨ يونيه ١٩٥٦م بعد احتلال دام ٧٤ عاما .
- ٢٤- تدهور الاوضاع الاجتماعية والاقتصادية والاجتماعية فى عهد الرئيس الاسبق مبارك .
- ترتب على ذلك تخلى الرئيس الاسبق محمد حسنى مبارك عن الرئاسة فى ١١ فبراير ٢٠١١م
- وتسليم ادارة البلاد الى المجلس الاعلى للقوات المسلحة .
- ٢٥- حرب الاستنزاف ١٩٦٩ م .
- تدخل الولايات المتحدة حيث قدم روجرز وزير خارجيتها مبادرة لوقف اطلاق النار تمهيدا لحل النزاع سلميا .
- ٢٦- رفض اسرائيل تنفيذ قرار مجلس الامن رقم ٢٤٢ .
- ادى الى اندلاع حرب اكتوبر بين مصر وسوريا ضد اسرائيل .
- ٢٧- تطبيق الهدنة فى حرب فلسطين عام ١٩٤٨ م .
- ادى الى عدم التزام اليهود بالهدنة حيث قاموا بتفوية قواتهم من حيث العدد والتدريب والتسلح مما وادى الى تراجع وهزيمة القوات العربية .
- ٢٨- اهتمام ثورة ٢٣ يوليو ١٩٥٢ بمجال الزراعة والصناعة .
- ادى الى تطور النشاط الاقتصادي .
- ٢٩- تقديم الولايات المتحدة الامريكية معلومات عسكرية لإسرائيل اثناء حرب اكتوبر .
- ترتب على ذلك مساعدة اسرائيل فى احداث ثغرة فى منطقة الدفر سوار .
- ٣٠- الضربة الجوية الناجحة التي قام بها سلاح الطيران المصري فى حرب ١٩٧٣ م .
- ادى الى تحطيم اعداد كبيرة من الطائرات والمعدات العسكرية .
- ٣١- بناء حائط من الصواريخ على الضفة الغربية لقناة السويس خلال حرب الاستنزاف .
- ترتب على ذلك منع اختراق الطائرات الإسرائيلية للأجواء المصرية .

مراجعة + بنك أسئلة



## السؤال السابع

## صوب ما تحته خط

- ١- من انجازات ثورة يوليو تحقيق اول تجربة عربية في الوحدة بين مصر وفلسطين . سوريا
- ٢- قام محمد نجيب ب اذاعة البيان الاول للثورة . السادات
- ٣- تزعم جمال عبد الناصر حركة ضباط عرفت ب اسم حركة عدم الانحياز . الضباط الاحرار
- ٤- استجاب الخديو اسماعيل لدعوة رفاة الطهطاوي وانشأ صحيفة نسائية . مدرسة السنية
- ٥- عقدت اول قمة افريقية عام ١٩٦٤م في السودان . مصر
- ٦- عقد مدينة جنيف مقر منظمة الامم المتحدة . نيويورك
- ٧- عين الرئيس السادات حكمت ابو زيد وزيرة للشئون الاجتماعية عام ١٩٧١م . عائشة راتب
- ٨- الادارة المحلية فى مصر ضمن عناصر السلطة التشريعية . التنفيذية

مراجعة + بنك أسئلة

## السؤال الثامن

## دلل تاريخيا علي صحة العبارات الآتية

- ١- اهتمام ثورة ٢٣ يوليو بحقوق العمال .
- حيث قامت بتحديد ساعات العمل - اشراك العمال بمجالس إدارة الشركات .
- ٢- معاهدة ١٩٣٦م لم تحقق الاستقلال الحقيقي لمصر .
- حيث قامت القوات البريطانية بمحاصرة قصر عابدين لإجبار الملك علي تعيين النحاس .
- ٣- للسلام مزايا عديدة لمصر ولوطننا العربي .
- ( ١ ) الاستقرار الداخلي للدول العربية.
- ( ٢ ) دفع عجلة التنمية الاقتصادية والاجتماعية وإصلاح البنية الأساسية للبلاد.
- ( ٣ ) تشجيع رؤوس الأموال العربية والأجنبية على الاستثمار فى مصر والدول العربية.
- ( ٤ ) تنشيط حركة السياحة مما يؤدى إلى : زيادة الدخل القومي توفير العملات الأجنبية .
- ( ٥ ) إقامة المشروعات وتحقيق التنمية فى مصر والدول العربية.
- ٤- نجاح ثورة يوليو ١٩٥٢م فى تحقيق اهدافها فى القضاء على الاستعمار واعوانه .
- ( ١ ) إلغاء دستور ١٩٢٣ فى ديسمبر ١٩٥٢ م .
- ( ٢ ) حل الأحزاب السياسية فى يناير ١٩٥٣ م . ( ٣ ) إلغاء الملكية وإعلان الجمهورية وتعيين اللواء محمد نجيب أول رئيس لجمهورية مصر العربية فى يونيو ١٩٥٣ م .

٥- كان للقوات المسلحة دورا كبيرا في ثورة ٢٥ يناير ٢٠١١ م .

دور الولايات المتحدة الأمريكية في الحرب	
١ ) أقامت جسراً جويّاً لتقديم المساعدات لإسرائيل. ٢ ) قدمت معلومات عسكرية لإسرائيل ساعدتها في إحداث ثغرة في منطقة الدفرسوار.	عسكرياً
مالياً قدمت مساعدات مالية ضخمة لإسرائيل.	
تدخلت مع الدول الأعضاء في مجلس الأمن وتم إصدار القرار رقم ( ٣٣٨ ) الذي نص على وقف جميع الأعمال الحربية بدءاً من يوم ٢٢ أكتوبر ١٩٧٣ م ، وبعدها بدأت مفاوضات بين الطرفين ( المصري والإسرائيلي ) .	سياسياً

حيث كان تم الاستعانة بالقوات المسلحة بهدف :

- حماية وتأمين الممتلكات العامة والخاصة .

- المحافظة على أمن المواطنين .

٧- كان للانتخابات البرلمانية عام ٢٠١٠ دوراً مهماً في قيام ثورة ٢٥ يناير .

حيث حصل الحزب الوطني الحاكم على ٩٧ % من مقاعد مجلس الشعب وبهذا خلا المجلس من أي معارضة وطنية .

٨- ساندت الولايات المتحدة الأمريكية إسرائيل في حرب أكتوبر ١٩٧٣ م .

٩- تعتبر بريطانيا صانعة مشكلة فلسطين .

قامت بريطانيا بإصدار وعد بلفور واتخذت بريطانيا عدة إجراءات لتنفيذ وعد بلفور تمثلت في :

١ ) السماح بهجرة أعداد كبيرة من اليهود من جميع أنحاء العالم إلى فلسطين .

٢ ) السماح بانتقال ملكية الأراضي من عرب فلسطين لليهود عن طريق الشراء .

١٠- لجأت مصر في الطرق السلمية لاستعادة طابا .

أصدرت هيئة التحكيم بمحكمة العدل الدولية سبتمبر ١٩٨٨ م حكمها لصالح مصر وعادت طابا

إلى السيادة المصرية في مارس ١٩٨٩ م في عهد الرئيس محمد حسنى مبارك .



١١- كان للأمم المتحدة دور كبير في تقسيم فلسطين عام ١٩٤٧ م .  
عرضت بريطانيا حل القضية الفلسطينية على هيئة الأمم المتحدة التي وافقت عام ١٩٤٧ م على

تقسيم فلسطين إلى ١ دولة عربية.

٢ دولة يهودية.

٣ منطقة دولية حيث تم وضع القدس تحت إدارة دولية.

١٢- عدم التزام اليهود بالهدنة كام سببا في تفوقهم في حرب ١٩٤٨ م.

لم يلتزم اليهود بالهدنة واخترقوها وبدأوا في تقوية قواتهم من حيث العدد والتسليح والتدريب .  
بدأ القتال مرة أخرى وظهر تفوق اليهود على جميع جبهات القتال مما أدى إلى تراجع وهزيمة الجيوش العربية .

١٣- اختلفت الكتابات وتعددت الآراء حول ثورة ٢٣ يوليو ١٩٥٢ م .

يرى بعض المؤرخون :

أنها تكتسب أهمية كبيرة لما تركته من آثار على أغلب الحركات التحررية في المنطقة العربية بشكل خاص، وفي العالم بشكل عام ، ومشاركة قادتها في تأسيس حركات دولية مثل حركة عدم الانحياز والحياد الإيجابي .

يرى مؤرخون آخرون :

أنها لم تبدأ عندما تأسس تنظيم ضباط الأحرار ، وتحركت قيادة الثورة للسيطرة على مقرات الإذاعة والجيش، وإنما كان ذلك مكملاً لما قام به الشعب المصري من ثورة ضد الفساد والاحتلال وسوء الحكم منذ الثورة العراقية وثورة ١٩١٩ م وحتى قيام ثورة ٢٣ يوليو ١٩٥٢ م .

١٤- كان لمعاهدة ١٩٣٦ م اثر في تدهور الاحوال الاقتصادية في مصر.

حيث : أدى توقيع معاهدة ١٩٣٦ م إلى :

• جعل مصر ميداناً لمعارك الحرب العالمية الثانية.

• استنزاف موارد مصر الاقتصادية لخدمة بريطانيا وحلفائها.

• مما أدى إلى : ( ١ ) إرهاب الاقتصاد المصري . ( ٢ ) زيادة معاناة الشعب المصري .

١٥- حققت ثورة ٢٣ يوليو ١٩٥٢ هدفها في القضاء على الإقطاع .

القضاء على الإقطاع من خلال إصدار قانون الإصلاح الزراعي الأول في سبتمبر ١٩٥٢ م ثم إصدار قوانين

أخرى و حددت الملكية الزراعية بنحو ٥٠ فدان للفرد مما زاد من تملك الفلاحين للأراضي الزراعية .



١٦- كان لثورة ٢٣ يوليو ١٩٥٢م انجازات فى المجال الزراعي .

اهتمت الثورة بالزراعة وقامت بالاتي :

١ ( التوسع فى استصلاح الأراضي الصحراوية لزيادة الأراضي الزراعية .

٢ ( إنشاء السد العالي وافتتاحه عام ١٩٧١م .

١٧- كان عدوان ٥ يونيه ١٩٦٧م كارثة عربية .

حيث تم هزيمة العرب ونجاح إسرائيل فى احتلال :

١ ( قطاع غزة .

٣ ( الضفة الغربية لنهر الأردن .

٢ ( مدينة القدس العربية .

٤ ( هضبة الجولان فى سوريا .

٥ ( شبه جزيرة سيناء حتى الضفة الشرقية لقناة السويس .

١٨- كان يوم ١١ فبراير ٢٠١١م يوم تاريخي فى حياة الشعب المصري .

حيث الرئيس مبارك عن الرئاسة فى ١١ فبراير ٢٠١١م وسلم إدارة شئون البلاد للمجلس

الأعلى للقوات المسلحة فخرجت ملايين الجماهير تحتفل .

١٩- قامت مصر بتهيئة الجبهة الداخلية قبل حرب اكتوبر ١٩٧٣م .

حيث قامت بتهيئة الجبهة الداخلية فى مصر عن طريق :

١ ( تجهيز الجيش وتسليحه بأحدث الأسلحة وتدريبه عليها .

٢ ( إلغاء الحراسات والإجراءات المقيدة للحريات .

٣ ( رفع الرقابة عن الصحف .

٤ ( القضاء على مراكز القوى .

٥ ( إصدار دستور جديد للبلاد " دستور ١٩٧١م " .

٢٠- لفلسطين اهمية كبيرة فى كل قلب عربي .

فلسطين هي دولة عربية لها أهمية خاصة فى قلوب العرب مسلمين ومسيحيين

لأن : ١ ( ولد فيها السيد المسيح عيسى عليه السلام .

٢ ( أسرى إليها بسيدنا محمد صلى الله عليه وسلم .

٣ ( بها المسجد الأقصى أولى القبلتين وثالث الحرمين .

٤ ( عاش فى فلسطين المسلمين والمسيحيين وقليل من اليهود .

مراجعة + بنك أسئلة



٢١- حققت ثورة ٢٣ يوليو ١٩٥٢ هدفها في مجال الصناعة .

اهتمت الثورة بالصناعة وقامت بالاتي :

١ ( إنشاء المصانع مثل مصنع الحديد والصلب في حلوان ومصنع الأسمدة في أسوان .

٢ ( الاهتمام بالتعليم الصناعي ومراكز التدريب المهني .

٣ ( الاهتمام بالبحث والتنقيب عن البترول وإنشاء معامل تكرير البترول .

٢٢- حققت ثورة ٢٣ يوليو ١٩٥٢ هدفها في المجال العربي والدولي .

١ ( ساندت الدول العربية وبعض الدول الإفريقية لنيل الاستقلال مثل المغرب وتونس والجزائر

والسودان وكينيا والعراق واليمن والكويت .

مراجعة + بنك أسئلة

٢ ( ساندت حقوق الشعب الفلسطيني في إقامة دولة مستقلة عاصمتها القدس الشريف .

٣ ( قيام أول تجربة لتحقيق الوحدة العربية بين مصر وسوريا في فبراير ١٩٥٨ م .

٤ ( كسرت احتكار السلاح العالمي بعقد صفقة الأسلحة الشرقية .

٥ ( ساهمت في تشكيل حركة عدم الانحياز وظهر الدور الرائد لمصر مع الهند ويوغسلافيا سابقاً

وإندونيسيا في مؤتمر باندونج عام ١٩٥٥ م .

٢٣- حققت ثورة ٢٣ يوليو ١٩٥٢ هدفها في تحقيق انجازات اجتماعية .

١ ( القضاء على الإقطاع من خلال إصدار قانون الإصلاح الزراعي الأول في سبتمبر ١٩٥٢م

ثم إصدار قوانين أخرى . أحمد المراكبي

٢ ( مجانية التعليم : حيث تم جعل التعليم بالمجان بجميع مراحلها بما فيه التعليم الجامعي .

٣ ( إقامة الوحدات الصحية والجمعيات الزراعية .

٤ ( تحديد ساعات العمل وإشراك العمال في مجالس إدارة الشركات والمصانع وتحديد نسبة لهم

من الأرباح .

٥ ( إصدار قوانين التأمينات الاجتماعية والمعاشات للموظفين والعمال .

٦ ( منح المرأة عام ١٩٥٦م الحق في الانتخاب والترشح لمجلس الأمة ( مجلس النواب ) .

٢٤- فساد النظام الملكي في مصر من عوامل ثورة ٢٣ يوليو ١٩٥٢ م .

حيث تمثل بـ استبداد " ظلم " الملك فاروق بالحكم . انتشار الرشاوى كما حدث في صفقة الأسلحة

الفاسدة .



- ٢٥- شهدت مرحلة ما بعد ثورة ١٩م حتى ثورة يوليو نهضة نسائية .  
شاركت المرأة في المظاهرات وانتخاب هدي شعراوي لرئاسة لجنة الوفد المركزية .

## السؤال التاسع

## أجب عن الأسئلة الآتية

- ١- ما العلاقة بين ؟ معاهدة الدفاع المشترك ١٩٨٥م وعدوان يونيو ١٩٦٧م.  
حيث اعلنت مصر وقوفها بجانب سوريا وارسال قوات إلي سيناء .
- ٢- ما العلاقة بين صدور دستور ١٩٢٣م والحياة النيابية في مصر .  
حيث تضمن الدستور حرية تكوين الأحزاب السياسية وإنشاء برلمان يمثل السلطة التشريعية .
- ٣- اثبت صحة العبارة بالأدلة تعتبر بريطانيا صانعة مشكلة فلسطين .  
حيث قامت بإصدار وعد بلفور وهو وعد من لا يملك لمن لا يستحق .
- ٤- ماذا كان يحدث إذا أهملت الدولة مكانة المرأة في الفترة من ٨١م حتى الان .  
لم تشارك في الحياة النيابية ولم تتولي المناصب القيادية الهامة .
- ٥- حدد الدول التي ساعدت علي استيلاء اليهود علي فلسطين .  
بريطانيا - الولايات المتحدة الامريكية .
- ٦- ما العلاقة بين الولايات المتحدة الامريكية وثغرة الدفر سوار .  
حيث أن الولايات المتحدة هي من قامت بإحداث ثغرة الدفر سوار .
- ٧- ماذا كان يحدث اذا لم تقم حرب ١٩٧٣م .  
لم يتم انتهاء نظرية الامن الاسرائيلي واسطورة الجيش الذي لا يقهر .
- ٨- وضع الدعم العربي لمصر وسوريا اثناء حرب اكتوبر ١٩٧٣م .  
وقف تصدير النفط للضغط علي الدول الاوربية لوقف المساعدات .
- ٩- اثبت بالأدلة التاريخية: انهت حرب اكتوبر ١٩٧٣م نظرية الامن الإسرائيلية .  
حيث انهارت الخطوط الدفاعية والتحصينات القوية مثل خط بارليف .
- ١٠- ما لعلاقة بين : التطور التكنولوجي وقيام ثورة ٢٥ يناير ٢٠١١م .  
ساعدت التكنولوجيا علي إشتعال ثورة ال ٢٥ من يناير .
- ١١- ما العلاقة بين : القوات المسلحة واستقرار الاوضاع في مصر في ٣٠ يونيو .  
حيث قامت بحماية امن المواطنين وحماية الممتلكات والمنشآت .



١٢- ما العلاقة بين : سياسة الانفتاح الاقتصادي وثورة ٢٥ يناير ٢٠١١م

حيث تدهورت الاوضاع الاقتصادية ادى الى ثورة ٢٥ يناير.

١٣- وضح دور الانتخابات البرلمانية عام ٢٠١٠م في قيام ثورة يناير ٢٠١١م .

حيث تم تزوير ارادة الشعب وكان دورا هام في قيام الثورة .

١٤- اسباب تدهور الاوضاع الاقتصادية في مصر قبيل ٢٥ يناير .

اتباع سياسة الانفتاح الاقتصادي دون ضوابط علمية - التطبيق غير السليم لسياسة الخصخصة

١٥- رأيك في دور اللجان الشعبية التي شكلها الشعب المصري اثناء ثورة ٢٥ يناير .

كان لها دور عظيم حيث قامت بحماية المنشآت ومنع النهب والتخريب .

مراجعة + بنك أسئلة

١٦- لماذا تعد ثورة ٢٥ يناير ٢٠١١م من الثورات الفريدة في تاريخ مصر الحديث .

بسبب استخدام التكنولوجيا الحديثة ( الانترنت ) في حشد الثوار .

قارن بين

السؤال العاشر

١- قرار مجلس الامن ٢٤٢ - معاهدة السلام عام ١٩٧٩م .

معاهدة السلام ٧٩	مجلس الامن ٢٤٢
انسحاب إسرائيل الكامل من سيناء	إنهاء حالة الحرب بين إسرائيل والعرب
إنهاء حالة الحرب وحل المنازعة بالطرق السلمية	احترام سيادة دول المنطقة علي أراضيها
احترام كل طرف سيادة واستقلال الاخر	انسحاب اسرائيل من الاراضي التي احتلتها ٦٧
إقامة علاقات ودية	حرية الملاحة في الممرات الدولية
احترام حرية الملاحة في الممرات الدولية	إنشاء مناطق منزوعة السلاح



## ٢- مؤتمر مدريد للسلام - اتفاقية اوسلو ، من حيث النتائج والاهداف .

المؤتمر	مدريد للسلام	اتفاقية اوسلو
الاهداف	حل الصراع العربي الاسرائيلي كان علي أساس الارض مقابل السلام	حل الصراع العربي الاسرائيلي عن طريق المفاوضات
النتائج	حدوث مفاوضات اتسمت بالسرية في مدينة اوسلو	ايدت مر الاتفاقية التي تتعلق بالانسحاب الاسرائيلي من الاراضي المحتلة

### مراجعة + بنك أسئلة

## ٣- قارن بين ( العدوان الثلاثي علي مصر ١٩٥٦م وعدوان ٥ يونيو ١٩٦٧م من حيث : الاسباب والنتائج ) .

العدوان	الثلاثي ٥٦	يونيو ٦٧
الاسباب	مساعدة مصر لحركات التحرر الوطني تأميم شركة قناة السويس	ارسال قوات لسيناء ووقوف مصر بجانب سوريا
النتائج	فشل بسبب المقاومة الباسلة	استيلاء اسرائيل علي قطاع غزة

## ٤- رتب الاحداث التالية من القديم الى الحديث / رتب العبارات طبقا لألوية حدوثها : -

- حل الاحزاب السياسية ٢
- هزيمة الجيش العربي في حرب فلسطين ١
- الوحدة بين مصر واسرائيل ٤
- الغاء الملكية وعلان الجمهورية ٣
- توقيع اتفاقية اوسلو ٥

- تأميم شركة قناة السويس ٢
- استعادة مصر طابا ٤
- تخلى الرئيس الاسبق مبارك عن الرئاسة ٥
- حدوث ثغرة الدفرسوار ٣
- اتفاقية الجلاء بين مصر وبريطانيا ١



٥- اعد كتابة العبارات الآتية بعد تصويبها .....؟

- ١- اغلقت مصر فى مايو ١٩٦٧ م **خليج السويس** فى وجه الملاحة الاسرائيلية . **خليج العقبة**
- ٢- حصلت المرأة على حق الانتخابات والترشح فى **دستور ١٩٢٣م** . **دستور ١٩٥٦م**
- ٣- عقد مؤتمر **كامب ديفيد** على اساس الارض مبدا السلام . **مؤتمر مدريد**
- ٤- وضعت فلسطين تحت الانتداب البريطانى بمقتضى مؤتمر **المائدة المستديرة** ١٩٢٠م .

سان ريمو

٥- تم تدمير المدمرة الاسرائيلية ايلات **بسلاح المدفعية** المصرية فى اكتوبر ١٩٦٧م .

**الصواريخ البحرية المصرية**

٦- اقامة الوحدات الصحية والجمعيات الزراعية فى انجازات ثورة ٢٣ يوليو ١٩٥٢م فى **المجال السياسى** .

**المجال الاجتماعى**

٧- تزعم جمال عبد الناصر مجموعة من ضباط الجيش المصرى عرفوا باسم حركة **عدم الانحياز** .

**الضباط الاحرار**

٨- تعد ثورة **٢٣ يوليو ١٩٥٢م** من الثورات الفريدة فى التاريخ بسبب مساهمة التكنولوجيا

المتقدمة وسائل الاتصال الحديثة . **٢٥ يناير ٢٠١١م**

٩- دعا الرئيس الأمريكى كارتر فى سبتمبر ١٩٧٨م الى عقد اجتماعات فى مؤتمر **مدريد للسلام** .

**مؤتمر كامب ديفيد**

١٠- أذيع اول بيان لثورة ٢٣ يوليو ١٩٥٢م باسم **جمال عبد الناصر** . **محمد نجيب**

١١- اثرت حرب اكتوبر ١٩٧٣م سلبا على العلاقات الدولية لبعض الدول مثل **استراليا واوروپا وافريقيا** .

**اسيا**

١٢- انشأ **محمد على** بعض المجالس الصورية منها مجلس شورى النواب ١٨٦٦م .

**الخدو اسماعيل**

١٣- شغلت **عائشة راتب** منصب وزيرة للشئون الاجتماعية عام ١٩٧١م فى **محمد انور السادات** .

**حكمت ابو زيد - جمال عبد الناصر**



" اهداء هذا العمل الي روح جدي نسالكم الفاتحة والدعاء

مع اطيب الامنيات بالنجاح والتوفيق عام دراسي سعيد

اسال الله العظيم رب العرش العظيم ان يعم علينا الخير وان يرزقنا  
ويهدينا الي كل خير لما يحب ويرضي "

"" غير مسموح نهائيا وأبدا لأي حد من :

مركز ( الواسطي - بني سويف ) استخدام هذه المراجعة غير الطلاب  
اللي معايا فقط سواء في مادة **العربي** أو **الدراسات** وحسبي الله ونعم  
الوكيل في أي طالب أو ولي أمر ياخذ هذه المراجعة ويطلعها بدون  
استئذان أو أي وجه حق حقي ومش مسامح فيه نهائيا وخصيم أي حد  
يوم القيامة يعمل كذا ""

"" غير مسموح لأي مدرس يقوم بالتعديل علي المذكرة أو ينسبها  
لنفسه ""

"" تابعونا مع 200 ألف عبر جروبنا علي الفيس بوك

و 40 الاف عبر قناة التليجرام ""

اسم الجروب ← البروفيسور - أ / احمد المراكبي

متاح التعاقد علي المذكرة ب اسم وبيانات السادة المعلمين

للتواصل واتس فقط : 01016058940