

الدراسات الاجتماعية

# نماذج امتحانات الأضواء النهائية

الفصل الدراسي الثاني

الصف  
3  
الإعدادي  
الفصل الدراسي الثاني

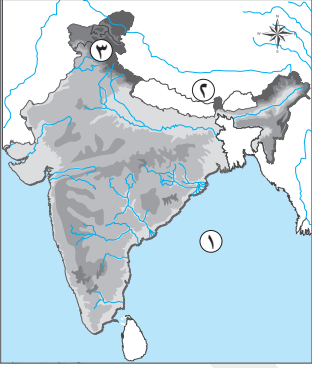
2026



# نموذج ١

## أولاً الجغرافيا

السؤال الأول: ( ١ ) أمامك خريطة صماء للهند، اكتب ما تدل عليه الأرقام:



- ١ خليج .....
- ٢ دولة .....
- ٣ جبال .....

(ب) بم تفسر...؟

١ تعتبر الزراعة من الأنشطة الاقتصادية الهامة في العالم.

٢ اعتبار الهند من الدول الرئيسية المنتجة للأسمك.

٣ تقدم الصناعة في إقليم غرب ووسط أوروبا.

(ج) اذكر نتيجة واحدة ترتبت على كل من:

١ الوحدة الاقتصادية الأوروبية .

٢ توافر فرص العمل بالمناطق الصناعية بألمانيا.

السؤال الثاني: ( ١ ) أكمل العبارات الآتية بما يناسبها من كلمات:

١ تعد دولة ..... أولى دول العالم في إنتاج اللحوم البيضاء لسد حاجة السكان من الغذاء.

٢ تعتبر مدينة ..... عاصمة إقليم بافاريا بألمانيا.

(ب) دلل على صحة العبارات الآتية:

١ تمتلك دولة البرازيل ثروة معدنية كبيرة.

٢ تتعدد المراكز الصناعية في إقليم روسيا وأوكرانيا الصناعي.

٣ علاقة مصر بالولايات المتحدة الأمريكية علاقة قوية في مختلف المجالات.

(ج) ما المقصود بكل من:

١ مصادر الطاقة:

٢ الرعى التجارى:

السؤال الثالث: ( ١ ) صوب ما تحته خط:

- ١ من إنجازات ثورة يوليو في المجال الاجتماعي إلغاء الملكية وإعلان الجمهورية.  
٢ تم عقد مؤتمر باندونج عام ١٩٥٥م بدولة يوغسلافيا .

(ب) ما النتائج المترتبة على...؟

- ١ فشل العدوان الثلاثي على مصر.

- ٢ تنحى الرئيس حسنى مبارك عن الحكم يوم ١١ فبراير ٢٠١١م.

- ٣ دعوة رفاة الطهطاوى لتعليم المرأة.

(ج) قارن بين: مؤتمر كامب ديفيد للسلام ومؤتمر مدريد للسلام من حيث الدولة المستضيفة والنتائج:

وجه المقارنة	مؤتمر كامب ديفيد	مؤتمر مدريد للسلام
الدولة المستضيفة	.....	.....
النتائج	.....	.....

السؤال الرابع: ( ١ ) اختر الإجابة الصحيحة مما بين القوسين:

- ١ تأسست الصحافة النسائية في مصر عام ١٩٠٧م على يد.....  
(حكمت أبو زيد - عائشة راتب - جميلة حافظ - هدى شعراوى)  
٢ يتولى السلطة التشريعية في مصر..... (رئيس الدولة - مجلس النواب - رئيس مجلس الوزراء - المحاكم المختلطة)  
٣ يوجد مقر الأمانة العامة للأمم المتحدة بمدينة..... (روما - نيويورك - جنيف - لاهاي)

(ب) بم تفسر...؟

- ١ إنشاء منظمة الأغذية والزراعة (الفاو).

- ٢ قيام حرب أكتوبر ١٩٧٣م.

- ٣ أهمية فلسطين لكل عربي مسلم أو مسيحي.

(ج) أجب عما يلي:

- ١ اذكر أهم الأحزاب التي تم تأسيسها في مرحلة ما قبل ثورة ١٩١٩م.

- ٢ ماذا كان يحدث إذا: - لم تستخدم الدول العربية البترول كسلاح في حرب أكتوبر؟

**السؤال الأول: ( 1 ) أمامك خريطة صماء للبرازيل، اكتب ما تدل عليه الأرقام:**



١ المحيط.....

٢ نهر.....

٣ مدينة.....

**(ب) ما النتائج المترتبة على...؟**

١ وقوع الهند في نطاق المناخ المدارى الحار.

٢ استخدام الآلات والطرق العلمية الحديثة في الزراعة التجارية.

٣ زيادة الطلب على البترول وتعدد استخداماته.

**(ج) قارن بين: الرعى البدائى (التقليدى) والرعى التجارى من حيث (مناطق انتشاره - خصائصه).**

وجه المقارنة	الرعى البدائى (التقليدى)	الرعى التجارى
مناطق انتشاره	..... .....	..... .....
خصائصه	..... .....	..... .....

**السؤال الثانى: ( 1 ) اكتب كلمة (صواب) أمام العبارة الصحيحة، وكلمة (خطأ) أمام العبارة غير الصحيحة، مع تصويب الخطأ:**

١ يجد الولايات المتحدة من الجنوب خليج المكسيك ودولة كندا. (.....)

٢ من المراكز الصناعية الحديثة في أمريكا الجنوبية دولة البرازيل. (.....)

**(ب) بم تفسر...؟**

١ أهمية الثروة الحيوانية.

٢ توطن صناعة الألومنيوم في الدول المتقدمة.

٣ يعد اقتصاد نيجيريا اقتصاداً نامياً.

(ج) أجب عما يلي:

١ ما العلاقة بين الثروة السمكية والتيارات المائية؟

٢ حدد أهم الواردات المصرية من دولة الهند.

## ثانياً التاريخ

السؤال الثالث: ( ١ ) أكمل العبارات الآتية بما يناسبها من كلمات:

١ تتمثل السلطة القضائية حالياً في مصر في .....

٢ أول مدرسة لتعليم البنات في مصر هي مدرسة .....

(ب) أجب عما يلي:

١ حدد أهداف ثورة ٢٣ يوليو ١٩٥٢م التي قامت من أجلها.

٢ اذكر أهداف حركة عدم الانحياز.

٣ ما العلاقة بين...؟ معاهدة ١٩٣٦م والحرب العالمية الثانية.

(ج) ما المقصود بكل مما يأتي...؟

١ اللجان الشعبية: .....

٢ دستور: .....

السؤال الرابع: ( ١ ) لمن تنسب الأعمال الآتية:

١ عينها الرئيس السادات وزيرة للشئون الاجتماعية عام ١٩٧١م. (.....)

٢ أنشأ مجلس شورى النواب في ديسمبر عام ١٨٦٦م. (.....)

٣ تولى رئاسة مصر بعد فوزه بالانتخابات الرئاسية التي أجريت عام ٢٠١٤م. (.....)

**(ب) دلل على صحة العبارات الآتية:**

١ لجأت مصر للطرق السلمية لاستعادة طابا .

.....

٢ كانت الحياة النيابية في عهد محمد علي صورية .

.....

٣ لم تكن ثورة ٢٥ يناير ٢٠١١م وليدة هذا التاريخ .

.....

**(ج) ماذا كان يحدث إذا...؟**

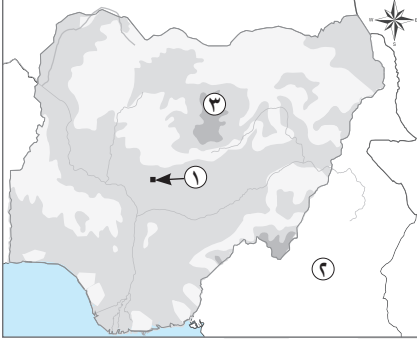
١ لم يتم تأميم شركة قناة السويس .

.....

٢ لم يستجب الملك فاروق لمغادرة البلاد .

.....

### السؤال الأول: ( ١ ) أمامك خريطة صماء لنيجيريا، اكتب ما تدل عليه الأرقام:



- ١ مدينة.....
- ٢ دولة.....
- ٣ هضبة.....

### (ب) بم تفسر...؟

١ يعد السهل الساحلى فى شمال ألمانيا من المناطق الاقتصادية المهمة.

.....

٢ انخفاض أعداد العاملين فى الرعى البدائى فى شبه الجزيرة العربية.

.....

٣ ارتفاع الكثافة السكانية فى المناطق الغربية قرب ساحل المحيط الهادى بالولايات المتحدة الأمريكية.

.....

### (ج) ما العلاقة بين...؟

١ دولة ألمانيا وإنتاج الطاقة النظيفة بمصر.

.....

٢ الزراعة الكثيفة والأيدى العاملة.

.....

### السؤال الثانى: ( ١ ) أكمل العبارات الآتية بما يناسبها من كلمات:

١ يأتى حوالى نصف إنتاج العالم من الأسماك من.....

٢ أكبر الموانئ وأهم مدن الساحل الغربى فى الهند مدينة.....

### (ب) دلل على صحة العبارات الآتية:

١ تتعدد العوامل البشرية التى تساعد على تطور حرفة صيد الأسماك.

.....

٢ ترتبط شهرة مدينة حيدرآباد بالجانب الدينى.

.....

٣ تنوع المناخ فى دولة البرازيل.

.....

(ج) ما المقصود بكلّ مما يأتي:

١ الزراعة التجارية والعلمية:

٢ النشاط التعديني:

## ثانياً التاريخ

السؤال الثالث: ( ١ ) صوب ما تحته خط:

١ بعد تأميم قناة السويس أصبحت الشركة تحت إدارة إنجليزية.

٢ شغلت هدى شعراوي منصب رئيس اللجنة التشريعية بمجلس الشعب.

(ب) بم تفسر...؟

١ تأسيس تنظيم الضباط الأحرار بمصر.

٢ هزيمة الجيوش العربية في حرب فلسطين.

٣ أهمية الدستور الدائم عام ١٩٧١م.

(ج) أجب عما يلي:

١ حدد وجه الشبه بين: نظرية الأمن الإسرائيلية على الجبهة المصرية والجبهة السورية.

٢ ما العلاقة بين...؟ حرب الاستنزاف ومبادرة روجرز.

السؤال الرابع: ( ١ ) اختر الإجابة الصحيحة مما بين القوسين:

١ تعد من الدول العربية التي قدمت دعماً عسكرياً لمصر وسوريا في حرب أكتوبر..... ( كينيا - اليمن - لبنان - الكويت )

٢ يوجد مقر محكمة العدل الدولية في دولة..... (إيطاليا - هولندا - سويسرا - أمريكا)

٣ ركزت أغلب أهداف ثورة ٢٣ يوليو ١٩٥٢م على المجالين.....

(الاجتماعي والثقافي - العسكري والعمراني - السياسي والاجتماعي - الاقتصادي والعسكري)

**(ب) ما النتائج المترتبة على...؟**

١ إنشاء مصر السد العالي.

.....

٢ إعلان اليهود قيام دولة إسرائيل ١٥ مايو ١٩٤٨م.

.....

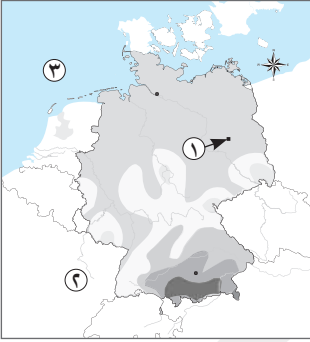
٣ مؤتمر مدريد عام ١٩٩١م.

.....

**(ج) قارن بين:** قرارات مؤتمر سان ريمو ١٩٢٠م وقرارات مؤتمر وزراء النفط العربي بالكويت ١٩٧٣م.

.....

**السؤال الأول: ( 1 )** أمامك خريطة صماء لألمانيا الاتحادية، اكتب ما تدل عليه الأرقام:



- ١ مدينة.....
- ٢ دولة.....
- ٣ بحر.....

**(ب) ما النتائج المترتبة على...؟**

١ انتشار حشائش الإستبس والسافانا في معظم قارات العالم.

٢ تعدد الأنشطة الاقتصادية لألمانيا.

٣ توافر مقومات الصناعة في منطقة شمال شرق الولايات المتحدة.

**(ج) قارن بين:** معدن الحديد والنحاس والبوكسيت من حيث (أكبر الدول - الأهمية).

وجه المقارنة	الحديد	النحاس	البوكسيت
أكبر الدول	.....	.....	.....
الأهمية	.....	.....	.....

**السؤال الثاني: ( 1 )** اكتب كلمة (صواب) أمام العبارة الصحيحة، وكلمة (خطأ) أمام العبارة غير الصحيحة، مع تصويب الخطأ:

١ تعتبر مدينة لاجوس العاصمة القديمة وأكبر المدن وأكثرها تكديسًا بالسكان في نيجيريا. (.....)

٢ تعد دولة نيجيريا أولى دول إفريقيا في إنتاج محصول الأرز. (.....)

**(ب) بم تفسر...؟**

١ شهرة أوروبا بزراعة بنجر السكر. (.....)

٢ قوة العلاقات الاقتصادية بين مصر والبرازيل. (.....)

٣ استيراد مصر للألبان من الخارج. (.....)

(ج) أجب عما يلي:

١ ما وجه الاختلاف بين الظروف الملائمة لزراعة قصب السكر وبنجر السكر.

.....

٢ «واجهت الهند المشكلة السكانية بسياسات تنموية»، فما هي؟

.....

## ثانياً التاريخ

السؤال الثالث: ( ١ ) لمن تنسب الأعمال الآتية:

١ دعا الخديو إسماعيل إلى إنشاء أول مدرسة لتعليم البنات. (.....)

٢ قام بإنشاء مجلس المشورة والمجلس العالی، وكان المجلس استشارياً لا سلطة له. (.....)

(ب) دلل على صحة العبارات الآتية:

١ اختلفت الكتابات وتعددت الآراء حول ثورة ٢٣ يوليو ١٩٥٢م.

.....

٢ شغلت المرأة في الفترة من ١٩٧١م إلى ١٩٨١م مناصب وزارية.

.....

٣ اهتمت ثورة ٢٣ يوليو ١٩٥٢م بالزراعة.

.....

(ج) ماذا كان يحدث إذا...؟

١ لم تقم ثورة ٢٥ يناير ٢٠١١م.

.....

٢ رفض العرب الهدنة أثناء حرب فلسطين ١٩٤٨م.

.....

السؤال الرابع: ( ١ ) أكمل العبارات الآتية بما يناسبها من كلمات:

١ «الأرض مقابل السلام» مبدأ دعا إليه مؤتمر.....

٢ تولت مصر رئاسة منظمة..... للمرة الثالثة في فبراير ٢٠١٩م.

٣ تنازل الملك فاروق عن العرش لابنه.....

**(ب) أجب عما يلي:**

١) وضح نتائج اتفاقية الجلاء عن مصر ١٩٥٦م.

.....

٢) اذكر عملاً واحداً لـ: المشير أحمد إسماعيل.

.....

٣) ما العلاقة بين: - انتهاء الحرب العالمية الأولى والوضع السياسي في فلسطين؟

.....

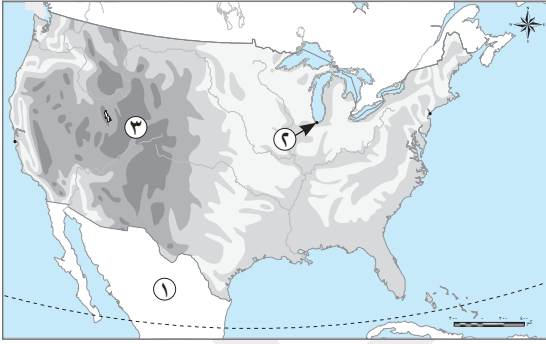
**(ج) ما المقصود بكل مما يأتي...؟**

١) المنظمة الإقليمية: .....

٢) مرحلة الصمود والتصدي: .....



**السؤال الأول: ( ١ ) أمامك خريطة صماء للولايات المتحدة الأمريكية، اكتب ما تدل عليه الأرقام:**



- ١ دولة.....
- ٢ مدينة.....
- ٣ جبال.....

**(ب) دلل على صحة العبارات الآتية:**

١ تتعدد العوامل التي تساعد على تطور حرفة صيد الأسماك.

٢ الوحدة الاقتصادية في أوروبا لها أهمية كبيرة.

٣ اختلاف توزيع السكان في نيجيريا من مكان لآخر.

**(ج) ما العلاقة بين...؟**

١ الطاقة الكهربائية وصناعة الألومنيوم.

٢ التوسع العمراني ومساحة الحشائش في دولة ألمانيا.

**السؤال الثاني: ( ١ ) صوب ما تحته خط:**

١ أولى قارات العالم إنتاجًا للطاقة النووية أمريكا الشمالية.

٢ يمثل سكان البرازيل ثلث عدد سكان قارة أمريكا الجنوبية.

**(ب) أجب عما يلي:**

١ قارن بين البترول والغاز الطبيعي من حيث الأهمية.

٢ ما المقصود بالزراعة الكثيفة؟

### (ج) بم تفسر...؟

١ شهرة أستراليا في إنتاج نسيج الصوف.

٢ قلة السكان في دلتا نهر النيجر.

٣ تركز زراعة البنجر في دول أوروبا.

## ثانياً التاريخ

### السؤال الثالث: ( ١ ) اختر الإجابة الصحيحة مما بين القوسين:

١ خرجت قرارات فرض الانتداب البريطاني على فلسطين في إبريل ١٩٢٠م من دولة.....

(إنجلترا - إسرائيل - الولايات المتحدة الأمريكية - إيطاليا)

٢ تم إسناد حكم مصر عقب عزل الرئيس محمد مرسي إلى.....

(حسني مبارك - عبدالفتاح السيسي - عدلي منصور - محمد نجيب)

٣ ساندت ثورة ١٩٥٢م دولاً إفريقية كثيرة لنيل الحرية والاستقلال، ومنها.....

(كينيا - إثيوبيا - أنجولا - مالي)

### (ب) ماذا كان يحدث إذا...؟

١ استجابت إسرائيل لقرار مجلس الأمن رقم ٢٤٢.

٢ لم يوجد دستور في الدولة.

### (ج) وضح:

١ الموضوعات التي بحثها مؤتمر كامب ديفيد.

٢ أهداف منظمة اليونسيف.

**السؤال الرابع: ( ا ) اكتب كلمة (صواب) أمام العبارة الصحيحة، وكلمة (خطأ) أمام العبارة غير الصحيحة:**

- ١ اتفقت مصر وإسرائيل على مبدأ التحكيم الدولي في قضية طابا. (.....)
- ٢ التطبيق السليم لسياسة الخصخصة أدى إلى ارتفاع الأسعار في مصر. (.....)
- ٣ تدمير المدمرة الإسرائيلية إيلات بصواريخ البحرية المصرية أثناء مرحلة حرب الاستنزاف. (.....)

**(ب) ما النتائج المترتبة على...؟**

- ١ صدور قوانين الإصلاح الزراعي .

.....

- ٢ عرض بريطانيا قضية فلسطين على هيئة الأمم المتحدة ١٩٤٧م.

.....

- ٣ صدور دستور ١٩٥٦م بالنسبة للمرأة في مصر.

.....

**(ج) اذكر عملاً لكل من:**

- ١ محمد أنور السادات: .....

- ٢ المشير أحمد إسماعيل: .....

## الدراسات الاجتماعية

# إجابات نماذج امتحانات الأضواء النهائية

الفصل الدراسي الثاني

الصف  
**3**  
الإعدادي  
الفصل الدراسي الثاني

2026



## نموذج ١

### أولاً الجغرافيا

#### السؤال الأول: ( ١ )

١ البنغال .

٢ الصين .

٣ الهيمالايا .

(ب)

١ لأنها:

- مصدر رئيس لغذاء الإنسان بجانب الأسماك والحيوانات وترتبط بها تربية الحيوان .

- مصدر هام للمواد الخام الزراعية التي تدخل في الصناعة مثل الألياف والمطاط .

٢ لأنها تطل على خلجان بجهات ساحلية طويلة .

٣ بسبب توافر مقومات قيام الصناعة الطبيعية والبشرية مثل : (وفرة المواد الخام ومصادر الطاقة والموقع المتميز والأيدى العاملة الماهرة والتطوير العلمى والسياسات الحكومية وتوافر الأسواق وتوافر رأس المال) .

(ج)

١ أدت إلى التكامل في الجوانب الاقتصادية والصناعية وحمايتها جمركياً وتدعيمها من جانب هيئة الاتحاد الأوروبي .

٢ أدى ذلك إلى تركيز السكان بالمناطق الصناعية .

#### السؤال الثاني: ( ١ )

١ الولايات المتحدة .

٢ ميونخ .

(ب)

١ حيث يوجد بها الكثير من المعادن التي يقوم عليها نشاط التعدين ومن أهم المعادن بها: الحديد - البوكسيت - المنجنيز .

٢ حيث من أهم هذه المراكز: مركز الصناعة في إقليم موسكو وما حوله وإقليم الأورال .

٣ - حيث يظهر ذلك في العديد من المجالات (التعاون الاقتصادى والتكنولوجى والثقافى والعلمى) .

- توجد اتفاقيات تجارية بين البلدين ، منها اتفاقية منطقة التجارة الحرة واتفاقية المناطق الصناعية المؤهلة (الكوين) .

- تستورد مصر من الولايات المتحدة منتجات تكنولوجية حديثة وأسلحة وطائرات وغيرها .

(ج)

١ هى القوى المحركة لحياة الإنسان فى جميع مجالات حياته .

٢ رعى يمارس فى مناطق الحشائش بقارات العالم ، ويعتمد على أحدث الأساليب العلمية ، ويتم فيه تربية حيوان المراعى لإنتاج الألبان واللحوم ، حيث يرفع كل نوع فى مزارع خاصة دون اختلاط بحيوانات أخرى .

السؤال الثالث: ( ١ )

١ السياسي . ٢ إندونيسيا .

(ب)

١ ترتب على ذلك :

- انسحاب القوات الإنجليزية والفرنسية من بورسعيد ٢٣ ديسمبر ١٩٥٦م .
- انسحاب القوات الإسرائيلية من قطاع غزة وسيناء أوائل عام ١٩٥٧م .
- وضع قوات طوارئ دولية بين مصر وإسرائيل عام ١٩٥٧م .
- إدراك الدول العربية خطورة الأطماع الإسرائيلية في السيطرة على العالم العربي فقامت الوحدة بين مصر وسوريا عام ١٩٥٨م حتى ١٩٦١م .

٢ أدى إلى تسلم المجلس الأعلى للقوات المسلحة أمور الحكم مما ترتب عليه خروج الجماهير بالملايين للاحتفال بهذا الحدث التاريخي .

٣ نتج عن ذلك استجابة الخديو إسماعيل لدعوة رفاة الطهطاوى فأنشأ أول مدرسة لتعليم البنات وهي مدرسة السنية .

(ج)

وجه المقارنة	مؤتمر كامب ديفيد للسلام	مؤتمر مدريد للسلام
الدولة المستضيفة	الولايات المتحدة الأمريكية	مدريد (عاصمة إسبانيا)
النتائج	التوصل إلى إطار اتفاق للسلام بين مصر وإسرائيل .	حدوث مفاوضات اتسمت بالسرية في مدينة أوسلو .

السؤال الرابع: ( ١ )

١ جميلة حافظ . ٢ مجلس النواب . ٣ نيويورك .

(ب)

١ للقضاء على الجوع في العالم ومساعدة البلدان الفقيرة والتنمية على تطوير وتحسين الإنتاج الزراعي والتغذية الجيدة .

٢ بسبب رفض إسرائيل جميع نداءات السلام والانسحاب من الأراضي التي احتلتها في العدوان الإسرائيلي ٥ يونيو ١٩٦٧م -

التصميم المصري السوري على إزالة آثار نكسة يونيو ١٩٦٧م (استرداد شبه جزيرة سيناء وهضبة الجولان) .

٣ ولد بها السيد المسيح - أولى القبليتين وثالث الحرمين الشريفين ، وإليها أسرى بسيدنا محمد ﷺ إلى المسجد الأقصى - موقعها

الجغرافي المتميز مما جعلها مطمعا للغزاة عبر العصور .

(ج)

١ الحزب الوطني ( برئاسة مصطفى كامل ) - حزب الأمة ( فيلسوفه المفكر أحمد لطفى السيد ) .

٢ لم يتم الضغط على الولايات المتحدة الأمريكية المساندة لإسرائيل في حرب ١٩٧٣م من خلال حظر الصادرات النفطية

لها - لم تظهر أهمية استخدام النفط العربي كسلاح سياسى واستراتيجى فى أكتوبر ١٩٧٣م - ولم تنتصر مصر فى الحرب .

## نموذج 2

### أولاً الجغرافيا

#### السؤال الأول: ( 1 )

١ الأطلنطي. ٢ الأمزون. ٣ برازيليا.

(ب)

١ يترتب على ذلك ارتفاع الحرارة إلى أكثر من ٣٠°م وسقوط أمطار موسمية صيفية غزيرة تقلان بالاتجاه شمالاً. ونتيجة لذلك، تنمو غابات موسمية على السواحل الشرقية والغربية للهند، بينما تنمو حشائش قصيرة فوق هضبة الدكن.  
٢ ترتب على ذلك:

- قلة التكاليف وقلة عدد العمالة الزراعية.

- الإنتاج التجاري الضخم.

٣ ترتب على ذلك زيادة أسعاره بصورة مستمرة.

(ج)

وجه المقارنة	الرعى البدائي (التقليدي)	الرعى التجارى
مناطق انتشاره	<ul style="list-style-type: none"><li>• الصحارى الحارة كما في:</li><li>- شبه الجزيرة العربية وبادية الشام بآسيا.</li><li>- شمال إفريقيا.</li><li>• دول وسط آسيا (حيث الصحارى المعتدلة).</li><li>• صحارى التندرا الباردة بآسيا وأوروبا (حيث يرعى حيوان الرنة).</li></ul>	<ul style="list-style-type: none"><li>• مناطق حشائش الإستبس والسافانا بقارات العالم في:</li><li>- الولايات المتحدة الأمريكية بأمريكا الشمالية: في مناطق الحشائش القصيرة (الإستبس) والتي تعرف بالبرارى.</li><li>- الأرجنتين بأمريكا الجنوبية.</li><li>- أستراليا.</li></ul>
خصائصه	يمارسه سكان المناطق الصحراوية في مساحات واسعة في قارات العالم، ويكون الرعى بشكل بدائى.	<ul style="list-style-type: none"><li>- يمارس في مناطق الحشائش في قارات العالم.</li><li>- يعتمد على أحدث الأساليب العلمية.</li><li>- يقوم عليه تربية حيوان المرعى لإنتاج اللحوم أو الألبان.</li><li>- يرعى به كل نوع من الحيوانات في مزارع خاصة دون الاختلاط بالحيوانات الأخرى.</li></ul>

#### السؤال الثانى: ( 1 )

١ (خطأ) دولة المكسيك.

٢ (صواب).

(ب)

- ١ لأنها تعد مصدرًا رئيسيًا لإنتاج اللحوم والألبان والجلود والصوف في العالم.
- ٢ بسبب توافر المقومات اللازمة لصناعاته من طاقة كهربائية وفيرة وخبرة فنية وعلمية متطورة وسوق محلية وخارجية تستوعب الإنتاج.
- ٣ لأنها تعتمد على الزراعة في المقام الأول رغم تنوع مواردها الاقتصادية.

(ج)

- ١ تتزايد كميات الأسمك في مناطق التقاء التيارات المائية الباردة والدفينة.
- ٢ غزل القطن - السمسم - الشاي - التوابل - قطع غيار وسائل النقل وغيرها.

## ثانيًا التاريخ

### السؤال الثالث: ( ١ )

- ١ المحاكم.
- ٢ السنية.

(ب)

- ١ القضاء على: (الاستعمار وأعدائه - الإقطاع - الاحتكار وسيطرة رأس المال على الحكم).
- إقامة: (جيش وطني قوى - عدالة اجتماعية - حياة ديمقراطية سليمة).
- ٢ عدم الانضمام إلى أي من الكتلتين الشرقية (المتمثلة في روسيا وحلفائها) والغربية (المتمثلة في أمريكا ودول أوروبا وحلفائها).
- ٣ حيث أن توقيع معاهدة ١٩٣٦م أدى إلى أن أصبحت مصر ميدانًا للحرب العالمية الثانية.

(ج)

- ١ لجان تشكلت في ثورة ٢٥ يناير؛ من أفراد المجتمع المصري بكل فئاته لحماية المنشآت والمناطق والمواطنين ومواجهة أعمال السرقة والحرق والترويع.
- ٢ الوثيقة الرسمية التي تحدد نظام الحكم في الدولة، وتحدد شكل واختصاصات المؤسسات الدستورية المختلفة.

### السؤال الرابع: ( ١ )

- ١ عائشة راتب.
- ٢ الخديو إسماعيل.
- ٣ عبد الفتاح السيسي.

(ب)

- ١ حيث اتفق الطرفان على مبدأ التحكيم الدولي وعرض القضية على محكمة العدل الدولية.
- ٢ حيث كانت المجالس التي أنشأها محمد على مجالس استشارية لا سلطة لها، وتمثلت في مجلس المشورة والمجلس العالی.
- ٣ حيث سبقتها حركات سياسية واحتجاجية مهدت لها.

(ج)

- ١ ظلت إدارة وأرباح القناة للشركة الأجنبية - لم تشارك إنجلترا في العدوان الثلاثي عام ١٩٥٦م على مصر.
- ٢ كان سيتم استخدام القوة من الضباط الأحرار ضد الملك فاروق.

## نموذج 3

### أولاً الجغرافيا

#### السؤال الأول: ( ١ )

- ١ أبوجا. ٢ الكمرون. ٣ جوس.

(ب)

١ لأنه جزء من السهل الأوروبي العظيم الذى يتميز بخصوبته وتجرى به عدة أنهار أهمها نهر الب ونهر الراين كما توجد به المدن الرئيسية ومن أهمها برلين العاصمة وهامبورج أكبر موانئ ألمانيا.

٢ بسبب توطين البدو لتدفق البترول.

٣ بسبب تركيز المناطق الصناعية والمدن الكبرى مثل: سان فرانسيسكو ولوس أنجلوس والمناطق الزراعية الخصبة.

(ج)

١ تقوم دولة ألمانيا بتمويل محطات توليد الكهرباء من الرياح فى مصر.

٢ تحتاج الزراعة الكثيفة إلى أيد عاملة وفيرة؛ وذلك لأن الزراعة الكثيفة تتم من خلال العديد من العمليات وهى بذر الحبوب والرى وتنقية الحشائش.

#### السؤال الثانى: ( ١ )

- ١ المياه المالحة / البحار والمحيطات. ٢ مومباى.

(ب)

١ حيث تتمثل هذه العوامل فى: توافر الموانئ لرسو سفن الصيد - توافر الخبرات الفنية والعلمية لصناعة المراكب وأدوات الصيد والثلاجات وغيرها - التوسع فى تربية الأسماك على أسس علمية حديثة.

٢ حيث تضم العديد من المراكز الإسلامية.

٣ حيث يسود:

- المناخ الاستوائى (شديد الحرارة طوال العام) فى حوض الأمزون والسهل الساحلى الشمالى.

- المناخ المدارى الحار فى السهول الشرقية وهضبة البرازيل.

- المناخ المعتدل الرطب فى أقصى جنوب شرقى البرازيل.

(ج)

١ زراعة تتم فى مزارع واسعة تستخدم فيها أحدث الآلات والطرق العلمية الحديثة وتهدف إلى الإنتاج التجارى الضخم.

٢ استخراج المعادن ومصادر الطاقة من فحم وبتروى وغاز طبيعى من باطن القشرة الأرضية أو بالقرب من السطح.

السؤال الثالث: ( ١ )

١) مصرية. ٢) آمال عثمان.

(ب)

١) للقضاء على الفساد وتحرير واستقلال مصر من الاحتلال البريطاني .

٢) بسبب: دعم الولايات المتحدة وبريطانيا لإسرائيل - عدم استعداد العرب للحرب عسكرياً.

٣) لأنه أكد على سيادة القانون واستقلال القضاء وإقرار مبادئ التعددية الحزبية.

(ج)

١) حيث قامت إسرائيل بإنشاء خط بارليف على الجبهة المصرية وخط مشابه له في هضبة الجولان في سوريا يعرف بخط ألون.

٢) قدم وزير الخارجية الأمريكي روجرز مبادرة عرفت بمبادرة «روجرز» لوقف إطلاق النار خلال حرب الاستنزاف تمهيداً لحل النزاع سلمياً.

السؤال الرابع: ( ١ )

١) الكويت. ٢) هولندا. ٣) السياسي والاجتماعي.

(ب)

١) أدى إلى حماية البلاد من الفيضان وتوليد الكهرباء.

٢) ترتب على ذلك تعدد الحروب والمواجهات بين إسرائيل والعرب منذ ذلك الحين مثل حرب فلسطين ١٩٤٨م.

٣) نتج عن ذلك حدوث مفاوضات اتسمت بالسرية في مدينة أوسلو.

(ج) مؤتمر سان ريمو ١٩٢٠م:

- أعطى لبريطانيا حق الانتداب البريطاني على فلسطين .

- قررت حكومة الانتداب البريطاني اتخاذ عدة إجراءات لتنفيذ وعد بلفور، منها: السماح بهجرة أعداد كبيرة من اليهود من

جميع أنحاء العالم إلى فلسطين - السماح بانتقال ملكية الأراضي من عرب فلسطين إلى اليهود عن طريق الشراء.

مؤتمر وزراء النفط العربي بالكويت ١٩٧٣م: خفض إنتاج البترول - حظر تصدير البترول (الصادرات النفطية) إلى الولايات

المتحدة و الدول المساندة لإسرائيل عندما طلب الرئيس الأمريكي مساعدات عاجلة لإسرائيل .

## نموذج 4

### أولاً الجغرافيا

#### السؤال الأول: ( 1 )

- ١ برلين .
- ٢ فرنسا .
- ٣ الشمال .

(ب)

- ١ أدى ذلك إلى قيام النشاط الرعوى، وأصبحت هذه المناطق مصدراً رئيسياً للثروة الحيوانية .
- ٢ أصبحت من أكبر الدول الاقتصادية في العالم .
- ٣ أصبحت منطقة شمال شرق الولايات المتحدة أكبر الأقاليم الصناعية في العالم الجديد .

(ج)

وجه المقارنة	الحديد	النحاس	البوكسيت
أكبر الدول	الصين	شيلي	أستراليا
الأهمية	يدخل فى صناعة الحديد والصلب - حديد التسليح .	يدخل فى صناعة الأسلاك والأدوات الكهربائية .	يعد الخام الرئيسى لصناعة الألومنيوم .

#### السؤال الثانى: ( 1 )

- ١ (صواب) .
- ٢ (خطأ) ثانى .

(ب)

- ١ لتوافر الظروف المناخية الملائمة لزراعته من درجة حرارة معتدلة وتربة ملائمة .
- ٢ بسبب وجود علاقات بين البلدين منذ القرن الـ ١٩ الميلادى حيث تصدر مصر للبرازيل الأقطان والمواد الغذائية والأثاث والمنسوجات والأسمدة وتستورد الحبوب الغذائية والسكر والحديد واللحوم والبن .
- ٣ لأن إنتاجها المحلى من الألبان لا يكفى حاجة السكان بسبب زيادة عدد السكان وزيادة الاستهلاك (عدم التوازن بين الإنتاج وأعداد السكان) .

(ج)

- ١ قصب السكر يحتاج إلى حرارة مرتفعة ومياه وفيرة لأنه من المحاصيل المدارية الحارة، بينما بنجر السكر يحتاج إلى ظروف أخرى حيث الحرارة المعتدلة .
- ٢ عن طريق الاهتمام بالتعليم وتطوير مراكز البحث العلمى الذى أدى إلى تطور الزراعة والصناعة .

السؤال الثالث: ( ١ )

١ رفاعة الطهطاوى . ٢ محمد على .

(ب)

١ حيث يرى بعض المؤرخين أنها تكتسب أهمية كبيرة لما تركته من أثر على أغلب الحركات التحريرية في المنطقة العربية بشكل خاص وفي العالم بشكل عام، ولما أسهم به قادتها من تأسيس لحركات دولية استمرت حتى اليوم، مثل: حركة عدم الانحياز والحياد الإيجابي.

- يرى مؤرخون آخرون أنها لم تبدأ عندما أسس جمال عبد الناصر تنظيم الضباط الأحرار أو عندما سيطرت قيادة الثورة على مقرات الجيش والإذاعة المصرية.

إنما كانت مكتملة لنضال طويل وممتد لشعب مصر، الذى ثار ضد الفساد والاحتلال وسوء الحكم منذ الثورة العربية وثورة ١٩١٩ م وحتى ثورة ٢٣ يوليو ١٩٥٢ م.

٢ حيث عين الرئيس السادات الدكتورة (عائشة راتب) وزيرة للشئون الاجتماعية عام ١٩٧١م.

٣ حيث تم: - التوسع في استصلاح الأراضى الصحراوية لزيادة رقعة الأراضى الزراعية.

- إنشاء السد العالى بهدف: حماية مصر من خطر الفيضان وتخزين المياه وتوليد الكهرباء.

(ج)

١ لما تنحى حسنى مبارك عن الحكم - لما تولى المجلس الأعلى للقوات المسلحة إدارة شئون البلاد .

٢ لم يتم مساعدة الولايات المتحدة الأمريكية لإسرائيل أثناء الهدنة وبالتالي لم تتفوق إسرائيل على الدول العربية.

السؤال الرابع: ( ١ )

١ مدريد للسلام . ٢ الاتحاد الإفريقى . ٣ أحمد فؤاد الثانى .

(ب)

١ رحيل القوات البريطانية عن مصر في يونيو ١٩٥٦ م بعد احتلال دام ٧٤ عامًا .

٢ - تولى القيادة العامة الموحدة للقوات المصرية السورية في حرب أكتوبر المجيدة ١٩٧٣م .

- تولى التخطيط والتنسيق على الجبهتين بدقة ومهارة عالية .

- قاد خطة الخداع لصرف أنظار إسرائيل عن التجهيزات الهجومية .

- حصل على وسام نجمة سيناء وهو أعلى الأوسمة العسكرية .

٣ قررت دول الحلفاء المنتصرة في الحرب العالمية الأولى وضع فلسطين تحت الانتداب البريطانى مع تنفيذ وعد بلفور .

(ج)

١ هى المنظمة التى تجمع عددًا من الدول المستقلة التى ترتبط ببعضها بروابط معينة .

٢ يقصد بها تصدى القوات المصرية للاعتداءات الإسرائيلية بعد هزيمة حرب يونيو ١٩٦٧م وتعد المرحلة الأولى لإعادة بناء القوات المسلحة المصرية .

## نموذج 5

### أولاً الجغرافيا

#### السؤال الأول: ( ١ )

- ١ المكسيك . ٢ شيكاغو . ٣ روكي .

(ب)

- ١ حيث تشتمل على عدة عوامل وهي:

- ضحالة المياه الساحلية وغناها بالمواد الغذائية .

- وفرة الخبرات الفنية والعلمية لصناعة المراكب وأدوات الصيد .

- التقاء التيارات البحرية الدافئة مع الباردة .

- التوسع في تربية الأسماك على أسس علمية حديثة .

- توافر الموانئ لرسو السفن .

- ٢ حيث أدت الوحدة الاقتصادية الأوروبية إلى تكامل دول أوروبا في الجوانب الاقتصادية والصناعية وحماتها جمركياً

وتدعيمها من جانب هيئة الاتحاد الأوروبي .

- ٣ حيث يتركز السكان في الغرب والسهول الشمالية وهضبة جوس ويقل عدد السكان في دلتا النيجر .

(ج)

- ١ تعتمد صناعة الألومنيوم على توافر الطاقة الكهربائية لتحويل البوكسيت إلى الألومنيوم .

- ٢ انكشفت مساحة الغابات في دولة ألمانيا نتيجة التوسع العمراني على حسابها .

#### السؤال الثاني: ( ١ )

- ١ أوروبا . ٢ نصف .

(ب)

١

الغاز الطبيعي	البترو	وجه المقارنة
- يعد من مصادر الطاقة الأقل تلويثاً والرخيصة في العالم . - يستخدم في الصناعة والاستخدامات المنزلية . - يستخدم في توليد الطاقة الكهربائية، ووقوداً للسيارات بديلاً عن البنزين للحد من التلوث البيئي .	- يعد أهم مصادر الطاقة لارتباطه بالتنمية الاقتصادية والاجتماعية وبالعلاقات السياسية . - يشكل نحو ٥٥٪ من الطاقة المستخدمة في العالم .	الأهمية

- ٢ زراعة الأرض أكثر من مرة في العام الواحد لإشباع حاجة السكان المحليين من الغذاء (الاستهلاك المحلي فقط) .

(ج)

- ٣ بسبب تربيتها أغنام المارينو الشهيرة بالأصواف .
- ٤ بسبب كثافة الغابات والظروف المناخية القاسية .
- ٥ بسبب ملائمة ظروف المناخ والتربة الزراعية بأوروبا لزراعة البنجر .

## ثانياً التاريخ

### السؤال الثالث: ( ١ )

١ إيطاليا. ٢ عدلى منصور. ٣ كينيا

(ب)

- ١ كانت إسرائيل ستسحب من الأراضى التي احتلتها عام ١٩٦٧م وبالتالي لم تقم حرب أكتوبر ١٩٧٣م .
- ٢ لم يتم تحديد نظام الحكم فى الدولة، ولم توجد مؤسسات دستورية بالدولة، وستعم الفوضى والاضطرابات بالدولة .

(ج)

- ١ وضع إطار اتفاق للسلام بين مصر وإسرائيل .
- ٢ حماية حقوق الأطفال ورفاهيتهم .

### السؤال الرابع: ( ١ )

١ (صواب). ٢ (خطأ). ٣ (خطأ).

(ب)

- ١ أدى إلى القضاء على الإقطاع .
- ٢ أدى ذلك إلى موافقة هيئة الأمم المتحدة على تقسيم فلسطين إلى دولة عربية ودولة يهودية ومنطقة دولية (القدس).
- ٣ أدى ذلك إلى حصول المرأة المصرية على حق الانتخاب والترشح وأصبحت عضواً بالبرلمان المصرى .

(ج)

- ١ أذاع أول بيان لثورة ٢٣ يوليو ١٩٥٢م باسم اللواء محمد نجيب .  
- تولى رئاسة الجمهورية بعد وفاة الرئيس جمال عبد الناصر فى عام ١٩٧٠م .  
- أعطى إشارة بدء حرب أكتوبر ١٩٧٣م .  
- بادربزيارة إسرائيل من أجل السلام ١٩٧٧م .  
- وقّع اتفاقية السلام مع إسرائيل ١٩٧٩م .
- ٢ - تولى التخطيط والتنسيق على الجبهتين المصرية والسورية بدقة ومهارة عالية .  
- قاد خطة الخداع لصرف أنظار إسرائيل عن التجهيزات الهجومية .  
- حصل على وسام نجمة سيناء وهو أعلى الأوسمة العسكرية .

# موقع الدكتور محمد رزق التعليمي

امسح الباركود بالهاتف لتثبيت  
التطبيق وتحميل كل الملازم مجاناً وبسرعة



## حمل التطبيق الآن



كورسات ونتائج امتحانات



ملازم ثانوي



ملازم اعدادي



ملازم ابتدائي



موقع الدكتور محمد رزق  
DR. MO. RAZK



D.M.RAZK

موقع الدكتور محمد رزق معلم الكيمياء التعليمي