

مدرسة الأندلس الخاصة للبنات
العام الأكاديمي 2026/2025



الوحدة الثانية

(مراجعة الوحدة الثانية: قارة أمريكا الجنوبية)

(غير مجابة)

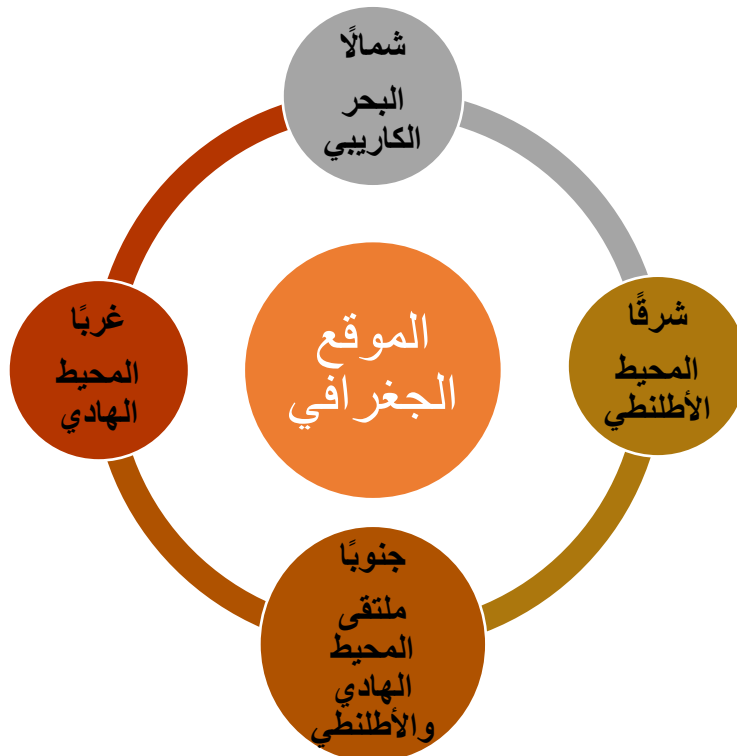
مادة الجغرافيا

الصف الحادي عشر أدبي

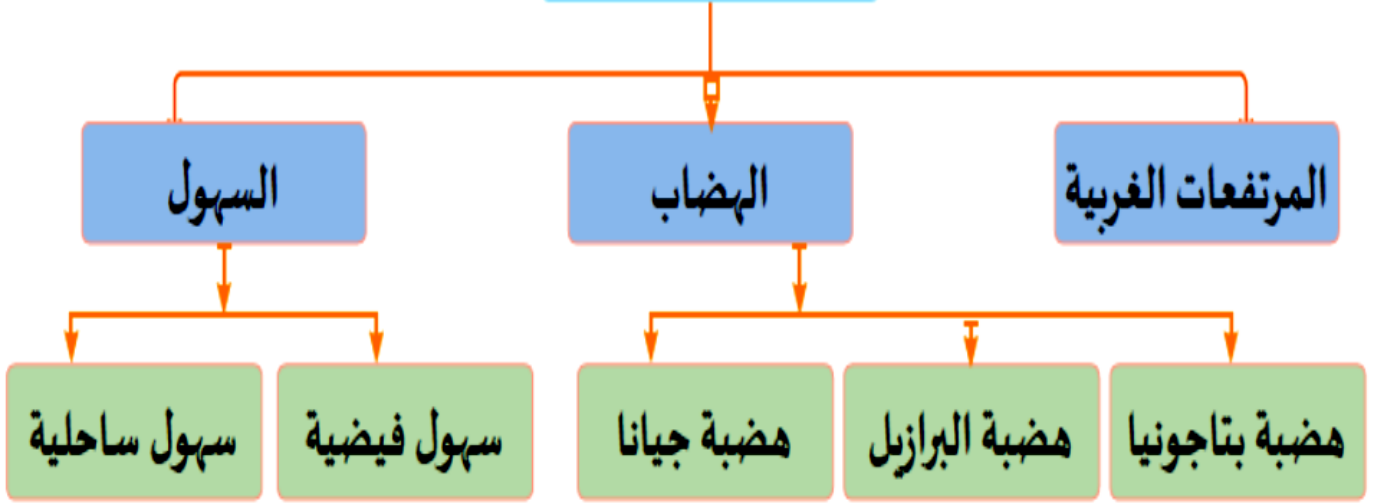
اسم الطالبة/.....

الصف والشعبة /.....

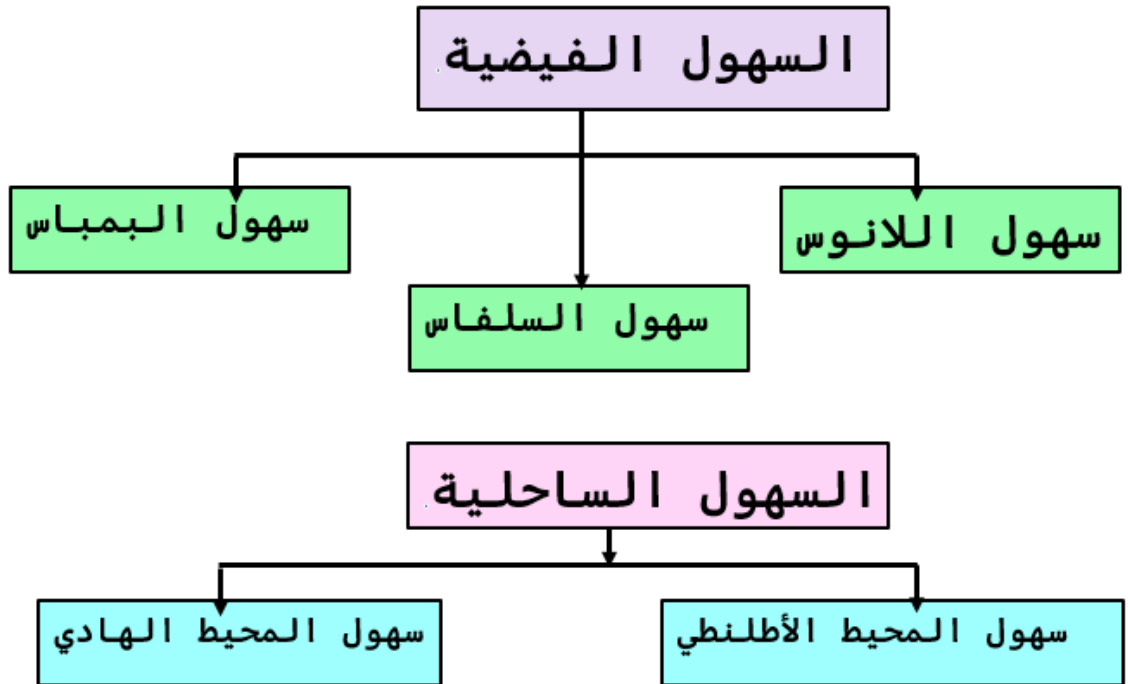
الوحدة الثانية: قارة أمريكا الجنوبية (الخصائص الطبيعية في قارة أمريكا الجنوبية)



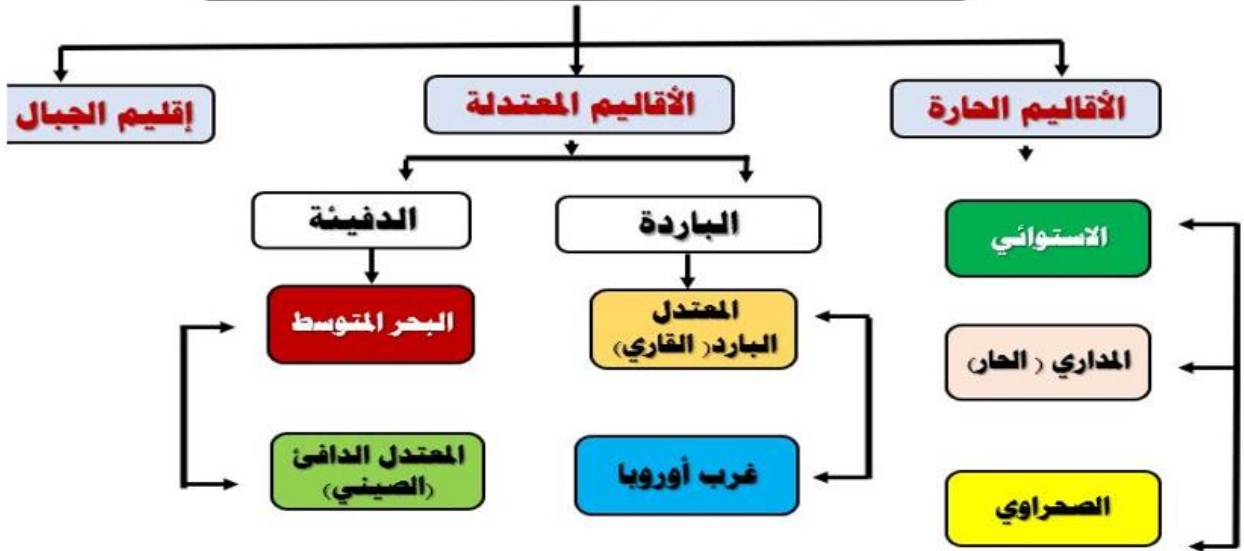
مظاهر السطح



3- السهول



الأقاليم المناخية في أمريكا الجنوبية.



الهضاب في قارة أمريكا الجنوبية

هضبة بتاجونيا	هضبة البرازيل	هضبة جيانا	وجه المقارنة الإمتداد الخصائص
تمتد جنوب شرق القارة	تمتد شرق القارة	تمتد شمال القارة	
1-تعد أقل هضاب القارة اتساعاً وارتفاعاً وأشدّها جفافاً؛ لوقوعها في منطقة ضغط مرتفع لا تجذب الرياح الممطرة إليها.	1-أكثر الهضاب ارتفاعاً واتساعاً 2-تقطعها العديد من الأنهار 3-يعيش بها عدد كبير من سكان البرازيل؛ نظراً لاستوائها واعتدال مناخها نتيجة الارتفاع	1-تتميز بأنها هضبة قليلة الارتفاع 2-تفصل بين حوض نهر الأورينوكو شمالاً والأمازون في الجنوب	

السهول في قارة أمريكا الجنوبية

سهول نهر لابلاتا (البمباس)	سهول السلفاس	سهول اللانوس
1-تمتد في جنوب القارة 2-تشغل معظم مساحة الأرجنتين وتجري بها أنهار (بارانا - بارجواي - لابلاتا) 3-تتميز بقيمتها الاقتصادية الكبرى؛ لانتشار المراعي بها	1-تعد أوسع السهول الفيضية في العالم 2-يجري بها نهر الأمازون الذي ينبع من جبال الإنديز ويصب في المحيط الأطلنطي 3-تتميز بوجود أكبر غابة استوائية في العالم.	1-تمتد أقصى شمال القارة 2-يجري بها نهر الأورينوكو وروافده، ويصب في المحيط الأطلنطي.

الوحدة الثانية: قارة أمريكا الجنوبية
(السكان في قارة أمريكا الجنوبية)

السكان في أمريكا الجنوبية

رابعاً: التوزيع
السكاني

توزيع السكان
في دول القارة

الكثافة السكانية

ثالثاً: التركيب
السكاني

العمر الوسيط

سن العمل

كبار السن

صغار السن

ثانياً: النمو
السكاني

العوامل المؤثرة
في النمو السكاني

الزيادة
الطبيعية

الزيادة
الغير
طبيعية

الهجرة

مواليد
وفيات

أولاً: أعداد
السكان

ترتيب قارة أمريكا
الشمالية من حيث
عدد السكان

تطور أعداد السكان
في أمريكا الشمالية

أعلى دول قارة
أمريكا الشمالية من
حيث عدد السكان

عوامل النمو السكاني

الزيادة الغير طبيعية

الهجرة الوافدة



الزيادة الطبيعية

معدل المواليد = معدل
الوفيات



الوحدة الثانية: قارة أمريكا الجنوبية
(الأنشطة الاقتصادية في قارة أمريكا الجنوبية)



قارن بين أنماط الزراعة في قارة أمريكا الجنوبية

وجه المقارنة	الزراعة التجارية	زراعة البحر المتوسط	الزراعة الانتقالية
الموقع	يتركز هذا النمط من الزراعة في الأرجنتين	ينتشر هذا النمط من الزراعة في المناطق الواقعة بين دائرتي عرض 30 : 40 درجة غرب قارة أمريكا الجنوبية في وادي تشيلي الأوسط.	تنتشر في المناطق الاستوائية والمدارية في القارة
الخصائص	يتخذ شكل هلال حول مصب نهر لابلاتا، وكذلك في مساحات متفرقة على سواحل شرق وشمال القارة	أهم المحاصيل الزراعية في هذا النمط: القمح والشعير شتاءً. الخضراوات والذرة والأرز صيفاً. أشجار الزيتون والموالح والتين والجوز واللوز والبندق وأشجار النخيل.	هي زراعة بدائية بسيطة تهدف إلى تحقيق الاكتفاء الذاتي

السؤال الأول: اختر الإجابة الصحيحة بين البدائل التالية :-

من الدول الشريطية في قارة أمريكا الجنوبية:	1
تشيلي	A
الأرجواي	B
الأرجنتين	C
كولومبيا	D

دائرة العرض الرئيسية التي تمر جنوب قارة أمريكا الجنوبية:	2
مدار الجدي	A
خط الاستواء	B
مدار السرطان	C
القطب الشمالي	D

يحد قارة أمريكا الجنوبية جنوباً التقاء مياه المحيطين الأطلنطي والمحيط:	3
الهندي	A
الهادي	B
المتجمد الشمالي	C
المتجمد الجنوبي	D

كانت أمريكا الجنوبية جزءاً من قارة:		4
آسيا	A	
إفريقيا	B	
أوروبا	C	
أمريكا الشمالية	D	

أكبر دول أمريكا الجنوبية مساحة دولة:		5
تشيلي	A	
البرازيل	B	
كولومبيا	C	
الأرجنتين	D	

تعد اللغة الإسبانية اللغة الرسمية لجميع دول القارة عدا دولة:		6
غويانا	A	
البرازيل	B	
الأرجنتين	C	
أوروغواي	D	

أكثر السهول اتساعاً في قارة أمريكا الجنوبية سهول:		7
البمباس	A	
السلفاس	B	
اللانوس	C	
بتاجونيا	D	

الأسئلة المقالية:
اجب عن الأسئلة التالية:

السؤال الأول: - ما أهمية غابات الأمازون.

1-.....

2-.....

السؤال الثاني: - وضح الأهمية الاقتصادية لسهول البمباس.

.....

السؤال الثالث:- ما النتائج المترتبة على؟
1. الموقع بالنسبة لدوائر العرض لقارة أمريكا الجنوبية.

1-.....

2-.....

السؤال الرابع:- ما النتائج المترتبة على ارتفاع جبال الإنديز.

.....

السؤال الخامس:- وضح الجهود الدولية للمحافظة على الغابات في قارة أمريكا الجنوبية

- 1-.....
- 2-.....
- 3-.....
- 4-.....
- 5-.....

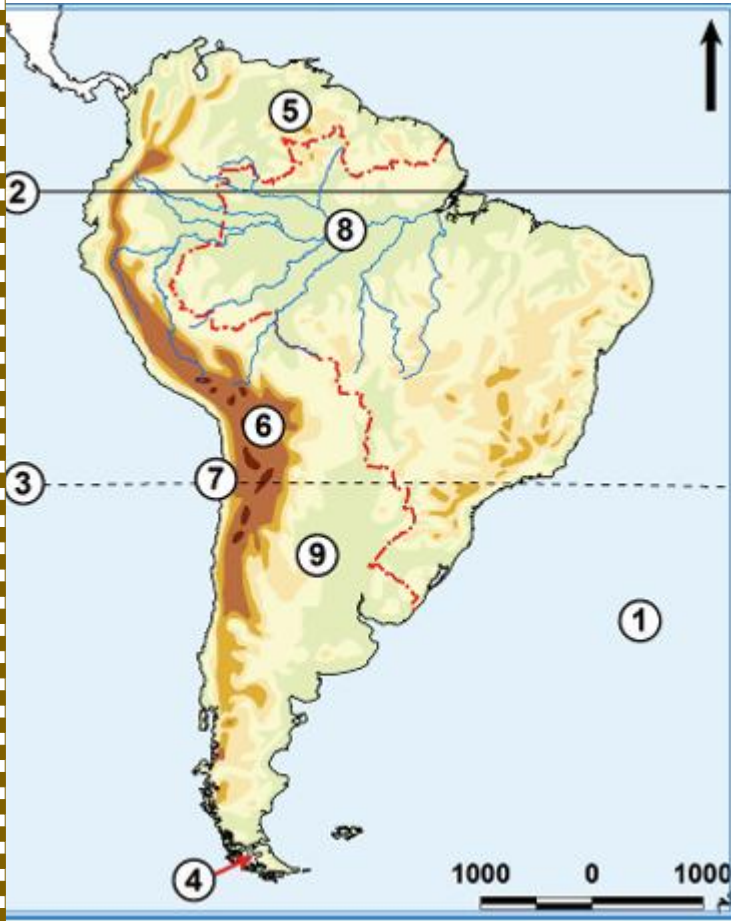
السؤال السادس:- قارن بين السهول الفيضية التالية في قارة أمريكا الجنوبية :

اللانوس	البمباس	السهول
.....	الموقع
.....	النهر الرئيس

السؤال السابع:- اذكر العوامل المؤثرة في مناخ قارة أمريكا الجنوبية

- 1-.....
- 2-.....
- 3-.....

السؤال الثامن :- أمامك خريطة صماء لقارة أمريكا الجنوبية ؟ أكتب ماتدل على الأرقام الموضحة عليها:



- 1- المحيط.....
- 2- دائرة.....
- 3- مدار.....
- 4- مضيق.....
- 5- هضبة.....
- 6- جبال.....
- 7- صحراء.....
- 8- نهر.....
- 9- سهول.....

السؤال الأول: اختر الإجابة الصحيحة بين البدائل التالية :-

الدولة التي تحتل المرتبة الأولى من حيث عدد السكان في قارة أمريكا الجنوبية:	1
بيرو	A
تشيلي	B
بوليفيا	C
البرازيل	D

المرتبة التي تحتلها قارة أمريكا الجنوبية بين قارات العالم من حيث عدد السكان:	2
الثانية	A
الثالثة	B
الرابعة	C
الخامسة	D

تتجه معدلات المواليد في قارة أمريكا الجنوبية بشكل عام نحو:	3
الثبات	A
التطابق	B
الارتفاع	C
الانخفاض	D

بلغ العمر الوسيط في قارة أمريكا الجنوبية نحو:		4
25 سنة	A	
45 سنة	B	
30.5 سنة	C	
40.5 سنة	D	

بلغت نسبة سكان أمريكا الجنوبية الذين في سن العمل (15-64) من إجمالي سكان القارة:		5
ربع	A	
ثلث	B	
نصف	C	
ثلثي	D	

الدولة التي تحتل المرتبة الخامسة عالميًا من حيث عدد السكان:		6
تشيلي	A	
البرازيل	B	
كولومبيا	C	
الأرجنتين	D	

الأسئلة المقالية:

اجب عن الأسئلة التالية:

السؤال الأول: - بم تفسر: إختلاف معدل المواليد بين دول قارة أمريكا الجنوبية.

- 1-.....
- 2-.....
- 3-.....
- 4-.....

السؤال الثاني: - بم تفسر إنخفاض الكثافة السكانية في حوض الأمازون.

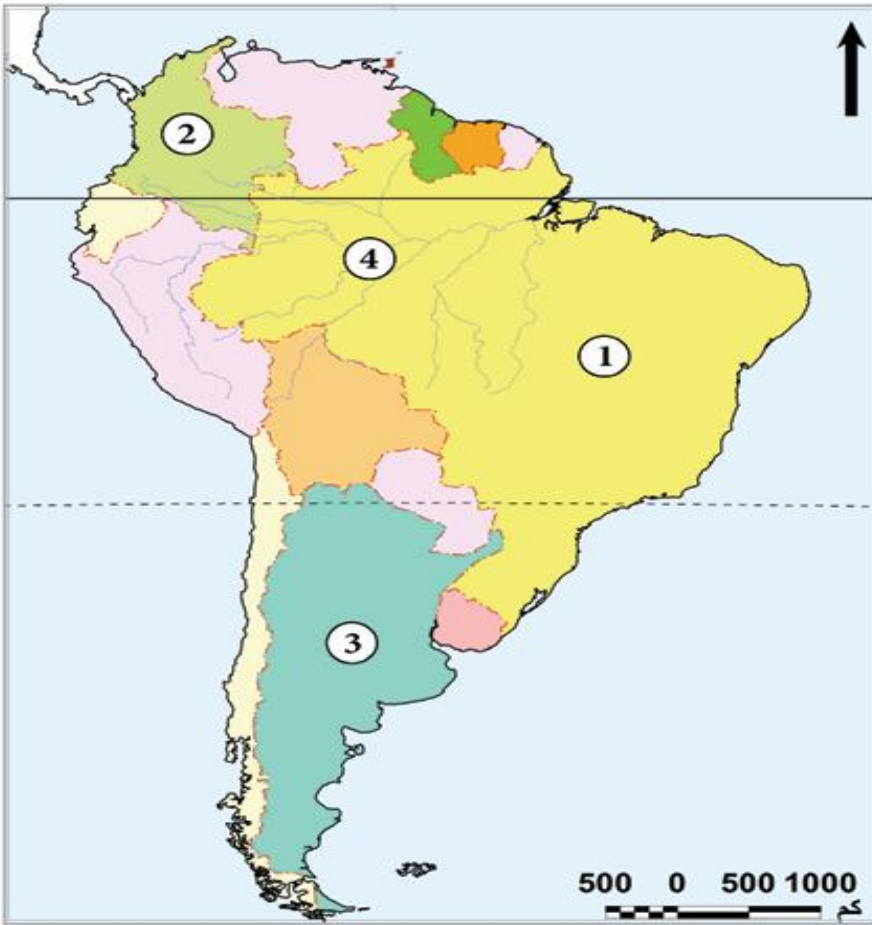
- 1-.....
- 2-.....

السؤال الثالث: - ما العلاقة بين الهجرة والنمو السكاني في قارة أمريكا الجنوبية؟

.....

السؤال الرابع:- أمامك خريطة صماء لقارة أمريكا الجنوبية أكتب مدلول الأرقام عليها:

- 1-دولة أولى دول القارة من حيث عدد السكان
- 2-دولة ثاني دول القارة من حيث عدد السكان
- 3-دولة ثالث دول القارة سكاناً
- 4-منطقة ذات كثافة سكانية منخفضة.....



السؤال الأول: اختر الإجابة الصحيحة بين البدائل التالية :-

1	توجد الزراعة التجارية في قارة أمريكا الجنوبية حول مصب نهر:
A	أورينكو
B	الأمازون
C	لابالاتا
D	المسيسبي

2	أولى دول قارة أمريكا الجنوبية في زراعة الأرز:
A	تشيلي
B	بوليفيا
C	البرازيل
D	الأرجنتين

3	أكثر دول قارة أمريكا الجنوبية في إنتاج الأسماك:
A	بيرو
B	تشيلي
C	البرازيل
D	باراجواي

تحتل البرازيل المركز الأول بقارة أمريكا الجنوبية في إنتاج معدن:		4
الحديد	A	
النحاس	B	
المنجنيز	C	
الفوسفات	D	

ما هي الدولة الأولى في قارة أمريكا الجنوبية في إنتاج القطن:		5
بيرو	A	
تشيلي	B	
البرازيل	C	
بوليفيا	D	

تُعد كولومبيا أولى دول قارة أمريكا الجنوبية إنتاجًا ل :		6
الفحم	A	
البترو	B	
الغاز الطبيعي	C	
الطاقة الكهرومائية	D	

الأسئلة المقالية:

اجب عن الأسئلة التالية:

السؤال الأول: - اذكر جهود دول قارة أمريكا الجنوبية لحل مشكلات الرعي والثروة الحيوانية.

- 1-.....
- 2-.....
- 3-.....
- 4-.....

السؤال الثاني: اذكر أنواع النقل والمواصلات قارة أمريكا الجنوبية.

- 1-.....
- 2-.....
- 3-.....

السؤال الثالث:- ما أسباب تطور الصناعة في قارة أمريكا الجنوبية؟

-
-

السؤال الرابع:- عدد أهم المعادن التي تدخل بالصناعة بقارة أمريكا الجنوبية.

..... -1

..... -2

السؤال الخامس:- اذكر جهود دول قارة أمريكا الجنوبية لتحقيق التنمية الزراعية المستدامة.

.....-1

.....-2

.....-3

.....-4

.....-5

.....-6

.....-7

السؤال السادس :- أمامك خريطة لقارة أمريكا الجنوبية صماء حدد عليها مايلي:

- 1- ميناء
- 2- دولة منتجة لنخيل الزيت
- 3- دولة منتجة للنحاس
- 4- أولى الدول في انتاج الأسماك
- 5- دولة تنتشر بها المراعي الطبيعية
- 6- ثاني الدول المنتجة للبتروال

