

مدرسة الأندلس الخاصة للبنات
العام الأكاديمي 2026/2025



الوحدة الثالثة

(مراجعة الوحدة الثالثة: بقارة أستراليا)

مادة الجغرافيا

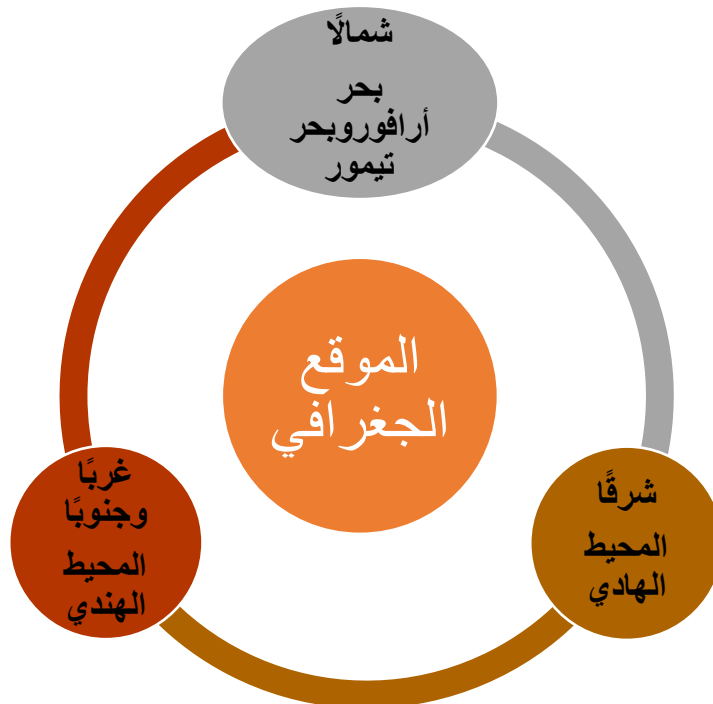
(مجابة)

الصف الحادي عشر أدبي

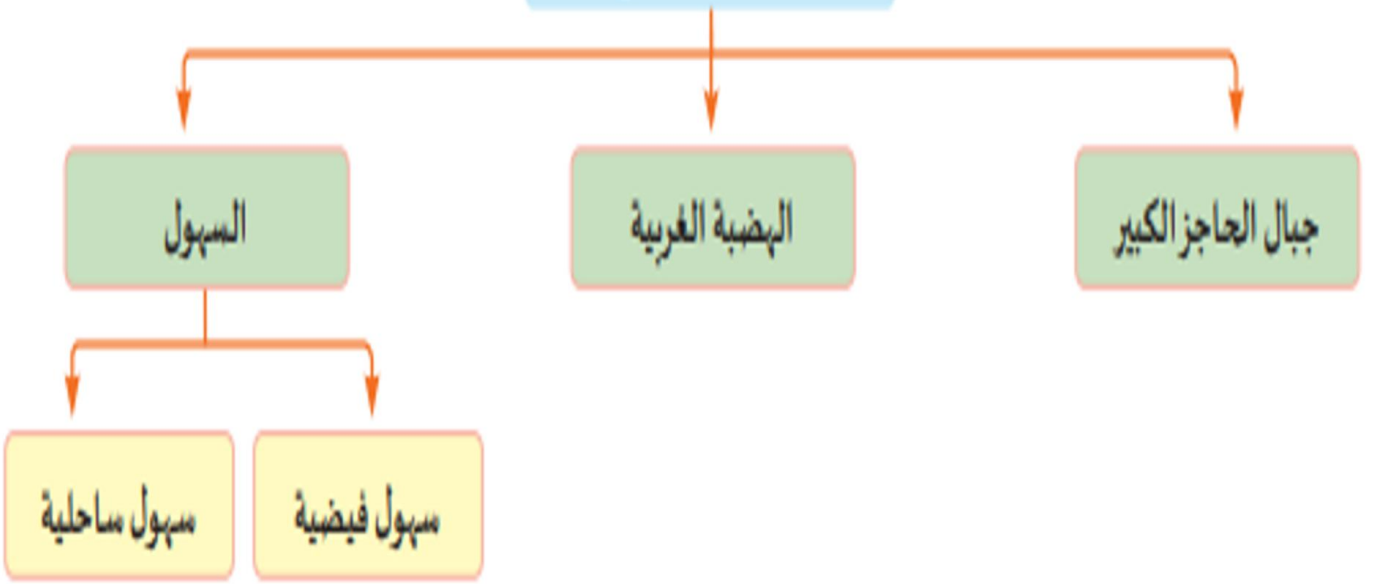
اسم الطالبة/.....

الصف والشعبة /.....

الوحدة الثالثة: قارة أستراليا
(الخصائص الطبيعية في قارة أستراليا)

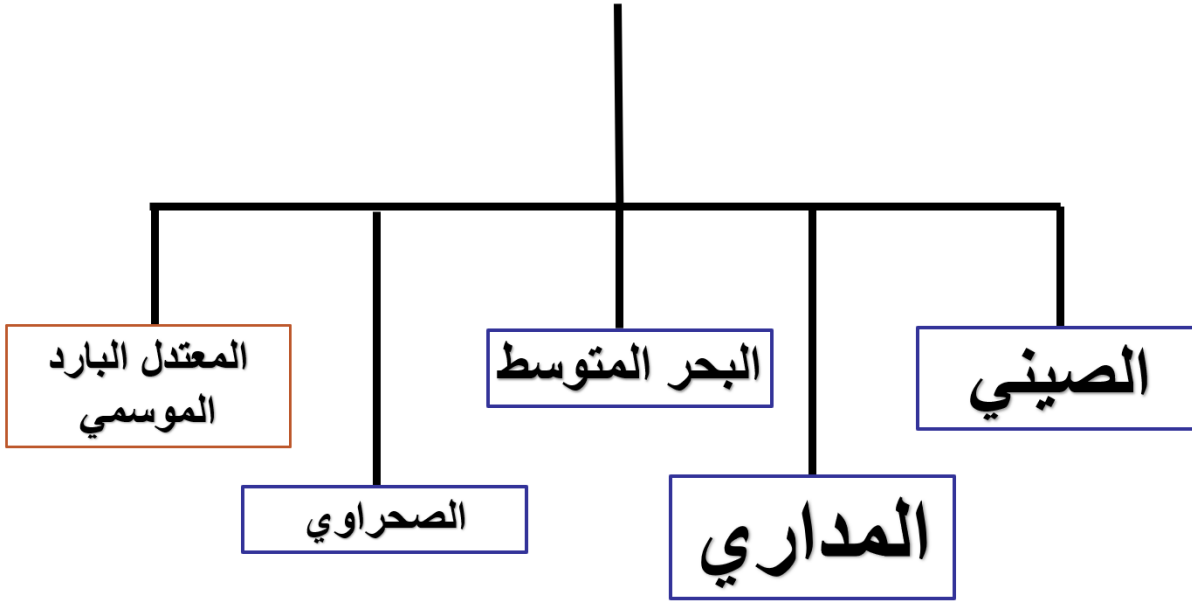


مظاهر السطح



الوحدة الثالثة: قارة أستراليا
عنوان الدرس: الخصائص الطبيعية لقارة أستراليا

الأقاليم المناخية في قارة أستراليا



المرتفعات في قارة أستراليا

المرتفعات الشرقية

تمتد في شكل قوس على طول القارة من الشمال إلى الجنوب في جهة الشرق.

تنحدر بشدة تجاه الساحل، وببطء تجاه الهضبة الغربية

تضم أعلى جبل في أستراليا (جبل كوسيبوسكو بارتفاع 2228 مترًا)

الهضبة الغربية

تمتد في الغرب وتشغل ثلثي مساحة القارة.

تنتشر بها التكوينات الرملية والصحراوية (مثل الصحراء الرملية الكبرى و صحراء فيكتوريا الكبرى).

توجد بها مرتفعات متفرقة مثل جبال مكدونالد وهمرسللي، وبحيرات مالحة.

الوحدة الثالثة: قارة أستراليا
(الأنشطة الاقتصادية في قارة أستراليا)



مجمع المدارس
Educational Compl
درسة الأندلس الخاص
ة ، ابتدائي ، إعداد

أنواع النقل في قارة أستراليا.

الوحدة الأولى : قارة أستراليا
عنوان الدرس: الأنشطة الاقتصادية في قارة أستراليا



3- النقل الجوي



2- النقل البحري



الطرق البرية



السكك الحديدية

السؤال الأول: اختر الإجابة الصحيحة بين البدائل التالية :-

1	من الجزر القريبة من قارة أستراليا جزيرة:
A	هاواي
B	تسمانيا
C	مدغشقر
D	جرينلاند

2	دائرة العرض الرئيسية التي تمر جنوب قارة أستراليا:
A	مدار الجدي
B	خط الاستواء
C	مدار السرطان
D	القطب الشمالي

3	يحد قارة أستراليا من جهة الشرق المحيط:
A	الهندي
B	الهادي
C	المتجمد الشمالي
D	المتجمد الجنوبي

يصب نهر دارلنج في:		4
بحر أرافورا	A	
خليج سبنسر	B	
المحيط الهادي	C	
المحيط الهندي	D	

يصل عدد دول قارة أستراليا إلى:		5
14	A	
15	B	
16	C	
12	D	

تشغل الهضبة الغربية من مساحة أستراليا:		6
ثلث	A	
ربع	B	
ثلثي	C	
نصف	D	

الأسئلة المقالية:
اجب عن الأسئلة التالية:

السؤال الأول: - عدد العوامل المؤثرة في مناخ قارة أستراليا.

- 1-الموقع بالنسبة لدوائر العرض
- 2-الموقع الجغرافي والمساحة
- 3-مظاهر السطح
- 4- التيارات البحرية

السؤال الثاني: - بم تفسر: ضيق السهول الساحلية في شرق أستراليا؟

لاقتراب المرتفعات أو بُعدها عن الساحل

السؤال الثالث:- ما النتائج المترتبة على؟

1. الموقع بالنسبة لدوائر العرض لقارة أستراليا.

- 1-وقوع القارة بالكامل في نصف الجنوبي من الكرة الأرضية
- 2-يمر بمنتصف القارة دائرة عرض رئيسية هي مدار الجدي
- 3-تقع بالكامل في النصف الشرقي من الكرة الأرضية

السؤال الرابع:- ما النتائج المترتبة على؟

امتداد مرتفعات الحاجز الكبير من الشمال إلى الجنوب

- 1 - إعاقة وصول التأثيرات البحرية الشرقية إلى داخل القارة.
- 2 - ارتفاع كميات الأمطار على السفوح الشرقية أكثر مطراً نتيجة الرياح التجارية الممطرة.
- 3- تغطية الجليد الأجزاء الجنوبية الشرقية من مرتفعات الحاجز الكبير .

السؤال الخامس:- اذكر الخصائص الجغرافية للمرتفعات الشرقية في قارة أستراليا.

1-تمتد في شكل قوس على طول القارة من الشمال إلى الجنوب في جهة الشرق.

2-تنحدر بشدة تجاه الساحل، وببطء تجاه الهضبة الغربية

3- تضم أعلى جبل في أستراليا (جبل كوسيووسكو بارتفاع 2228 مترًا)

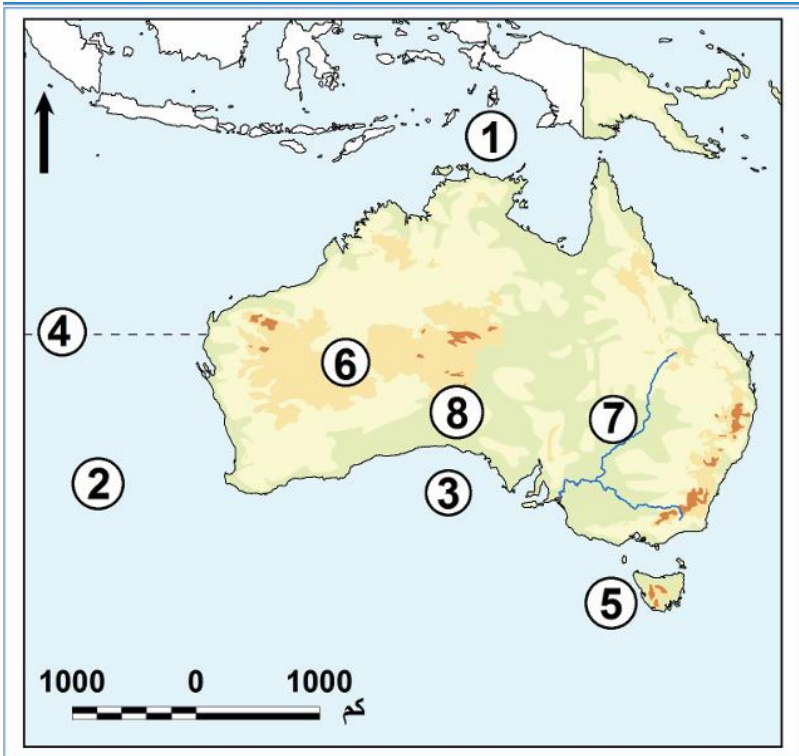
السؤال السادس:- اذكر الخصائص الجغرافية للهضبة الغربية في قارة أستراليا.

1- تمتد في الغرب وتشغل ثلثي مساحة القارة

2- تنتشر بها التكوينات الرملية والصحراوية (مثل الصحراء الرملية الكبرى وصحراء فيكتوريا الكبرى

3- توجد بها مرتفعات متفرقة مثل جبال مكدونالد وهمرسلي، وبحيرات مالحة

السؤال السادس :- أمامك خريطة صماء لقارة أستراليا أكتب ماتدل عليه الأرقام الموضحة عليها:



1- بحر أرافورا

2- المحيط الهندي

3- خليج سبنسر

4- مدار الجدي

5- جزيرة تسمانيا

6- الهضبة الغربية

7- نهر دارلنج

8- صحراء فيكتوريا

السؤال الأول: اختر الإجابة الصحيحة بين البدائل التالية :-

1	تتركز زراعة البحر المتوسط في أستراليا في الأجزاء:
A	الجنوبية الغربية
B	الجنوبية الشرقية
C	الشمالية الغربية
D	الشمالية الشرقية

2	تم نقل كثير من المحاصيل الزراعية إلى قارة أستراليا عن طريق المهاجرين:
A	الأفارقة
B	الأمريكيين
C	الأوروبيين
D	الآسيويين

3	أكثر المعادن إنتشارًا في قارة أستراليا هو معدن:
A	الذهب
B	الحديد
C	الرصاص
D	البوكسيت

تُعد حرفة الزراعة من أهم حرف السكان في قارة أستراليا، وأكثر أنواع الزراعة انتشاراً فيها هي :	4
الكثيفة	A
المتنقلة	B
التجارية	C
العلمية الواسعة	D

الأسئلة المقالية:

اجب عن الأسئلة التالية:

السؤال الأول: - اذكر أقسام المراعي في قارة أستراليا.

- 1- مراعي الشمال الصيفية
- 2- مراعي الداخل الجافة
- 3- مراعي الجنوب الغربي والجنوب الشرقي الشتوية

السؤال الثاني: عدد أنماط الزراعة في قارة أستراليا.

- 1- الزراعة التجارية
- 2- الزراعة الكثيفة
- 3- الزراعة الانتقالية
- 4- الزراعة لإنتاج الألبان
- 5- نمط زراعة البحر المتوسط

السؤال الثالث:- ما أهم الصادرات بقارة أستراليا؟

- 1 - المعادن الخام " الذهب والغاز الطبيعي وخام الحديد".
- 2 - السلع والمنتجات الزراعية مثل: السكر والحمص.
- 3 - المنتجات الحيوانية مثل: اللحم البقري والصوف.

السؤال الرابع:- عددي أهم الدول التي تتعامل تجاريًا مع أستراليا.

- 1- الصين
- 2- اليابان
- 3- بريطانيا
- 4- ألمانيا
- 5- الولايات المتحدة
- 6- كوريا الجنوبية

السؤال الخامس:- عددي أنواع الصناعة في قارة أستراليا

- 1 - الصناعات الثقيلة.
- 2 - الصناعات الخفيفة.