

مدرسة الأندلس الخاصة للبنات  
العام الأكاديمي 2026/2025



الوحدة الثانية

(مراجعة الوحدة الثانية: قارة أمريكا الجنوبية)

(مجابة)

مادة الجغرافيا

الصف الحادي عشر أدبي

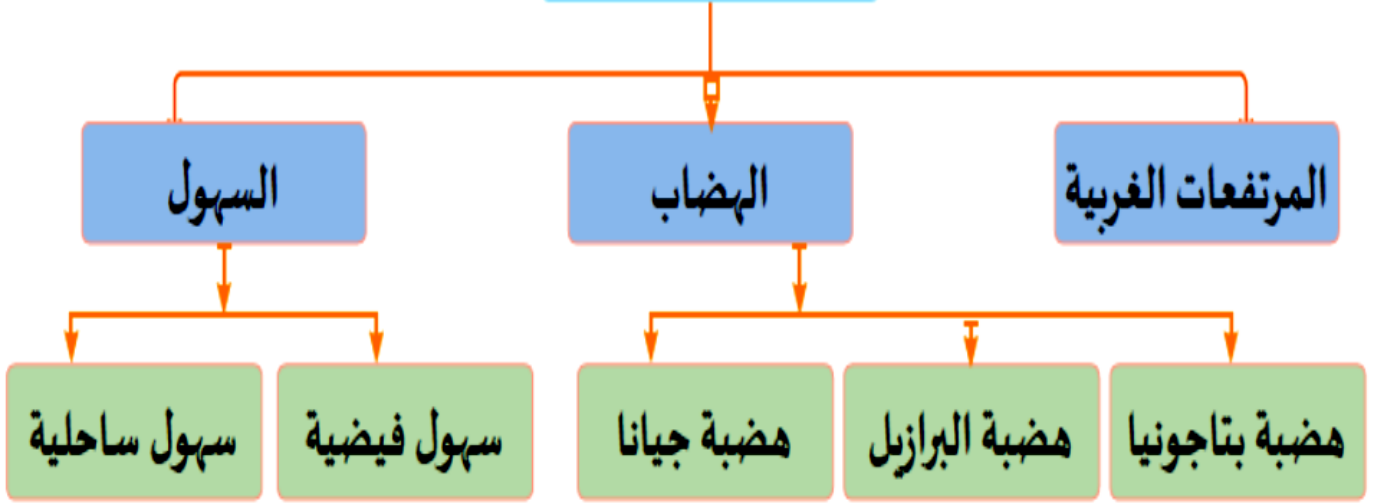
اسم الطالبة/.....

الصف والشعبة /.....

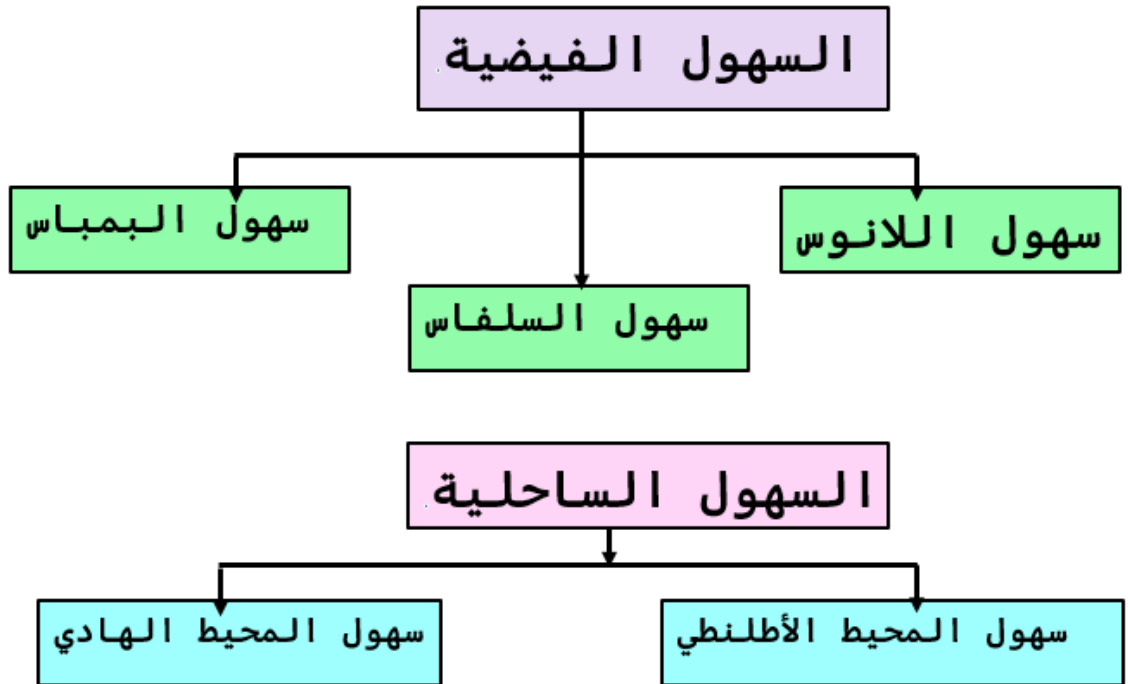
## الوحدة الثانية: قارة أمريكا الجنوبية (الخصائص الطبيعية في قارة أمريكا الجنوبية)



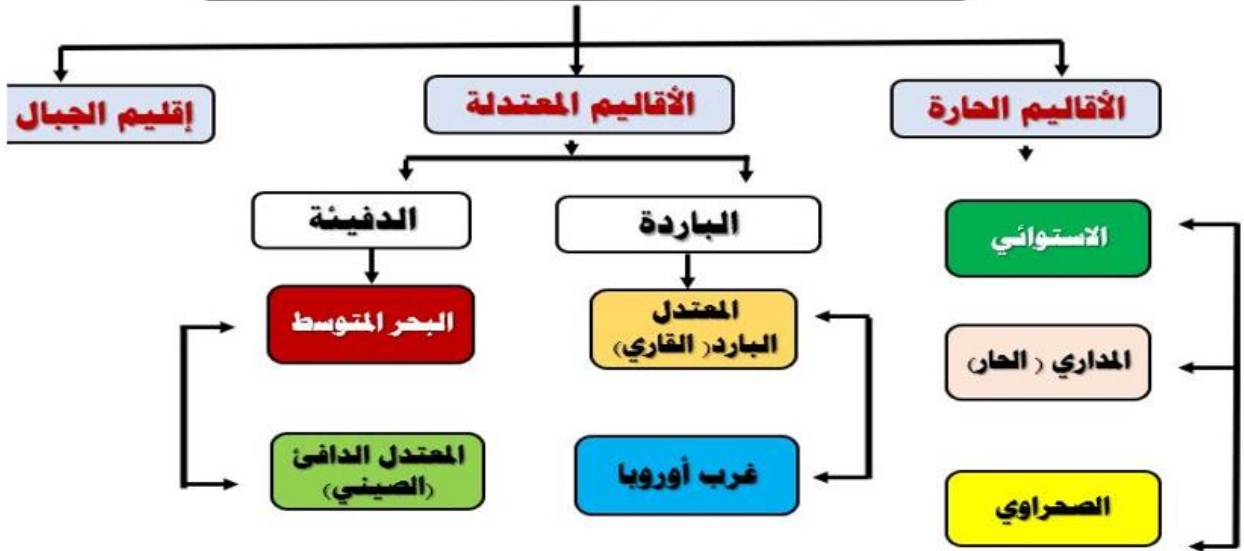
## مظاهر السطح



### 3- السهول



## الأقاليم المناخية في أمريكا الجنوبية.



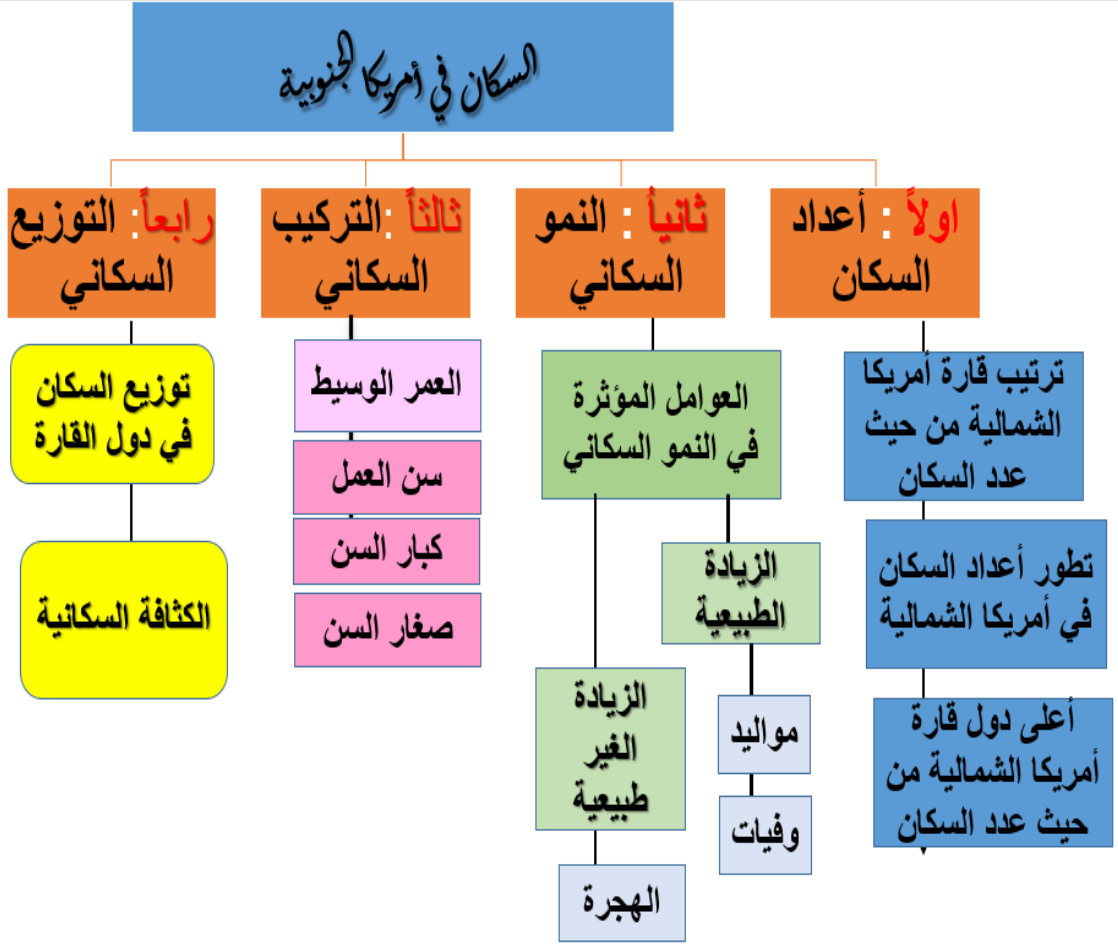
### الهضاب في قارة أمريكا الجنوبية

هضبة بتاجونيا	هضبة البرازيل	هضبة جيانا	وجه المقارنة
تمتد جنوب شرق القارة	تمتد شرق القارة	تمتد شمال القارة	الإمتداد
1-تعد أقل هضاب القارة اتساعاً وارتفاعاً وأشدّها جفافاً؛ لوقوعها في منطقة ضغط مرتفع لا تجذب الرياح الممطرة إليها.	1-أكثر الهضاب ارتفاعاً واتساعاً 2-تقطعها العديد من الأنهار 3-يعيش بها عدد كبير من سكان البرازيل؛ نظراً لاستوائها واعتدال مناخها نتيجة الارتفاع	1-تتميز بأنها هضبة قليلة الارتفاع 2-تفصل بين حوض نهر الأورينوكو شمالاً والأمازون في الجنوب	الخصائص

### السهول في قارة أمريكا الجنوبية

سهول نهر لابلاتا (البمباس)	سهول السلفاس	سهول اللانوس
1-تمتد في جنوب القارة 2-تشغل معظم مساحة الأرجنتين وتجري بها أنهار (بارانا - بارجواي - لابلاتا) 3-تتميز بقيمتها الاقتصادية الكبرى؛ لانتشار المراعي بها	1-تعد أوسع السهول الفيضية في العالم 2-يجري بها نهر الأمازون الذي ينبع من جبال الإنديز ويصب في المحيط الأطلنطي 3-تتميز بوجود أكبر غابة استوائية في العالم.	1-تمتد أقصى شمال القارة 2-يجري بها نهر الأورينوكو وروافده، ويصب في المحيط الأطلنطي.

الوحدة الثانية: قارة أمريكا الجنوبية  
(السكان في قارة أمريكا الجنوبية)



**عوامل النمو السكاني**

**الزيادة الغير طبيعية**

الهجرة الوافدة



**الزيادة الطبيعية**

معدل المواليد = معدل الوفيات



الوحدة الثانية: قارة أمريكا الجنوبية  
(الأنشطة الاقتصادية في قارة أمريكا الجنوبية)



قارن بين أنماط الزراعة في قارة أمريكا الجنوبية

وجه المقارنة	الزراعة التجارية	زراعة البحر المتوسط	الزراعة الانتقالية
الموقع	يتركز هذا النمط من الزراعة في الأرجنتين	ينتشر هذا النمط من الزراعة في المناطق الواقعة بين دائرتي عرض 30 : 40 درجة غرب قارة أمريكا الجنوبية في وادي تشيلي الأوسط.	تنتشر في المناطق الاستوائية والمدارية في القارة
الخصائص	يتخذ شكل هلال حول مصب نهر لابلاتا، وكذلك في مساحات متفرقة على سواحل شرق وشمال القارة	أهم المحاصيل الزراعية في هذا النمط: القمح والشعير شتاءً. الخضراوات والذرة والأرز صيفاً. أشجار الزيتون والموالح والتين والجوز واللوز والبندق وأشجار النخيل.	هي زراعة بدائية بسيطة تهدف إلى تحقيق الاكتفاء الذاتي

السؤال الأول: اختر الإجابة الصحيحة بين البدائل التالية :-

من الدول الشريطية في قارة أمريكا الجنوبية:	1
<input type="checkbox"/> تشيلي	A
<input type="checkbox"/> الأرجواي	B
<input type="checkbox"/> الأرجنتين	C
<input type="checkbox"/> كولومبيا	D

دائرة العرض الرئيسية التي تمر جنوب قارة أمريكا الجنوبية:	2
<input type="checkbox"/> مدار الجدي	A
<input type="checkbox"/> خط الاستواء	B
<input type="checkbox"/> مدار السرطان	C
<input type="checkbox"/> القطب الشمالي	D

يحد قارة أمريكا الجنوبية جنوباً التقاء مياه المحيطين الأطلنطي والمحيط:	3
<input type="checkbox"/> الهندي	A
<input type="checkbox"/> الهادي	B
<input type="checkbox"/> المتجمد الشمالي	C
<input type="checkbox"/> المتجمد الجنوبي	D

كانت أمريكا الجنوبية جزءاً من قارة:		4
آسيا	A	
إفريقيا	B	
أوروبا	C	
أمريكا الشمالية	D	

أكبر دول أمريكا الجنوبية مساحة دولة:		5
تشيلي	A	
البرازيل	B	
كولومبيا	C	
الأرجنتين	D	

تعد اللغة الإسبانية اللغة الرسمية لجميع دول القارة عدا دولة:		6
غويانا	A	
البرازيل	B	
الأرجنتين	C	
أوروغواي	D	

أكثر السهول اتساعاً في قارة أمريكا الجنوبية سهول:		7
البمباس	A	
السلفاس	B	
اللانوس	C	
بتاجونيا	D	

الأسئلة المقالية:  
اجب عن الأسئلة التالية:

السؤال الأول: - ما أهمية غابات الأمازون.

- 1-توفر خمس غاز الأوكسجين للكرة الأرضية.
- 2-تمتص نسبة وافرة من الملوثات والكربون، والتي تعتبر «حيوية» لمواجهة ظاهرة الاحتباس الحراري

السؤال الثاني: - وضح الأهمية الاقتصادية لسهول البمباس.

بسبب انتشار المراعي بها

السؤال الثالث:- ما النتائج المترتبة على؟

1. الموقع بالنسبة لدوائر العرض لقارة أمريكا الجنوبية.

- 1- وقوع معظم أجزاء القارة في النصف الجنوبي، بينما تقع أجزاءها الشمالية في النصف الشمالي.
- 2- مرور دائرتا عرض رئيسيتان بالقارة وهما دائرة الاستواء ومدار الجدي؛ مما أدى إلى تنوع المناخ وتنوع الغطاء النباتي والحيواني فيها.

السؤال الرابع:- ما النتائج المترتبة على ارتفاع جبال الإنديز.

- 1-إعاقة حركة النقل والمواصلات
- 2- صعوبة التبادل التجاري

**السؤال الخامس:- وضع الجهود الدولية للمحافظة على الغابات في قارة أمريكا الجنوبية**

- 1- تقديم مساعدات مادية للمساهمة في المحافظة على غابات الأمازون، وفق قرارات قمة المناخ 2019م.
- 2- استخدام الأقمار الصناعية العالمية لمراقبة الغابات الاستوائية ورصد الحرائق بها فور حدوثها.
- 3- مشاركة جميع دول العالم في جهود إطفاء حرائق الغابات الاستوائية.
- 4- تشجيع الدول في أمريكا الجنوبية على الاستثمار وبناء المدن بعيداً عن الغابات الاستوائية.
- 5- اتخاذ قرارات دولية بمعاينة دول القارة التي لا تحافظ على الغابات الاستوائية.

**السؤال السادس : قارني بين السهول الفيضية في قارة أمريكا الجنوبية من حيث:  
( الموقع – النهر الرئيس )**

اللانوس	البمباس	الانواع
أقصى شمال القارة	جنوب القارة وتشغل معظم مساحة الأرجنتين	الموقع
الأورينكو	بارانا – باراجواي - لابالاتا	النهر الرئيس



السؤال الأول: اختر الإجابة الصحيحة بين البدائل التالية :-

الدولة التي تحتل المرتبة الأولى من حيث عدد السكان في قارة أمريكا الجنوبية:	1
بيرو	A
تشيلي	B
بوليفيا	C
البرازيل	D

المرتبة التي تحتلها قارة أمريكا الجنوبية بين قارات العالم من حيث عدد السكان:	2
الثانية	A
الثالثة	B
الرابعة	C
الخامسة	D

تتجه معدلات المواليد في قارة أمريكا الجنوبية بشكل عام نحو:	3
الثبات	A
التطابق	B
الارتفاع	C
الانخفاض	D

بلغ العمر الوسيط في قارة أمريكا الجنوبية نحو:		4
25 سنة	A	
45 سنة	B	
30.5 سنة	C	
40.5 سنة	D	

بلغت نسبة سكان أمريكا الجنوبية الذين في سن العمل (15-64) من إجمالي سكان القارة:		5
ربع	A	
ثلث	B	
نصف	C	
ثلثي	D	

الدولة التي تحتل المرتبة الخامسة عالميًا من حيث عدد السكان:		6
تشيلي	A	
البرازيل	B	
كولومبيا	C	
الأرجنتين	D	

### الأسئلة المقالية:

اجب عن الأسئلة التالية:

#### السؤال الأول: - بم تفسر: إختلاف معدل المواليد بين دول قارة أمريكا الجنوبية.

- 1- إختلاف نوع المهاجرين لكل دولة بدول القارة فهناك مهاجرون أوروبيون لا يُقبلون على الإنجاب، عكس المهاجرين الأفارقة، يُقبلون على إنجاب العديد من الأطفال.
- 2- إختلاف مستوى تمكين الشباب والمرأة بين دول القارة.
- 3- تباين الدخل القومي بين الدول، وبالتالي إختلاف مستويات المعيشة، فقد سجلت دولة تشيلي أعلى دخل قومي على مستوى القارة، بينما جاء أدنى مستويات الدخل في بوليفيا.
- 4- ارتفاع معدل وفيات الأطفال بالدول ذات معدلات المواليد المرتفعة مثل دولة بوليفيا.

#### السؤال الثاني: - بم تفسر إنخفاض الكثافة السكانية في حوض الأمازون.

- 1- ارتفاع درجات الحرارة
- 2- وجود غابات كثيفة

#### السؤال الثالث: - ما العلاقة بين الهجرة والنمو السكاني في قارة أمريكا الجنوبية؟

لعبت الهجرة دورًا كبيرًا في نمو سكان قارة أمريكا الجنوبية؛ حيث استقبلت قارة أمريكا الجنوبية تيارات هجرة عديدة

السؤال الرابع:- أمامك خريطة صماء لقارة أمريكا الجنوبية أكتب مدلول الأرقام عليها:

- 1- دولة البرازيل أولى دول القارة من حيث عدد السكان
- 2- دولة كولومبيا ثاني دول القارة من حيث عدد السكان
- 3- دولة الأرجنتين ثالث دول القارة سكاناً
- 4- منطقة ذات كثافة سكانية منخفضة حوض الأمازون



السؤال الأول: اختر الإجابة الصحيحة بين البدائل التالية :-

أنت كفرد وورثت  
تحي نفسك

1	توجد الزراعة التجارية في قارة أمريكا الجنوبية حول مصب نهر:
A	أورينكو
B	الأمازون
C	لابالاتا
D	المسيبي

2	أولى دول قارة أمريكا الجنوبية في زراعة الأرز:
A	تشيلي
B	بوليفيا
C	البرازيل
D	الأرجنتين

3	أكثر دول قارة أمريكا الجنوبية في إنتاج الأسماك:
A	بيرو
B	تشيلي
C	البرازيل
D	باراجواي

4	تحتل البرازيل المركز الأول بقارة أمريكا الجنوبية في إنتاج معدن:
A	الحديد
B	النحاس
C	المنجنيز
D	الفوسفات

5	ما هي الدولة الأولى في قارة أمريكا الجنوبية في إنتاج القطن:
A	بيرو
B	تشيلي
C	البرازيل
D	بوليفيا

6	تُعد كولومبيا أولى دول قارة أمريكا الجنوبية إنتاجًا لـ :
A	الفحم
B	البترو
C	الغاز الطبيعي
D	الطاقة الكهرومائية

الأسئلة المقالية:

اجب عن الأسئلة التالية:

**السؤال الأول: - اذكر جهود دول قارة أمريكا الجنوبية لحل مشكلات الرعي والثروة الحيوانية.**

- 1- حفر الآبار لتوفير المياه لري المراعي، وخاصة في المناطق الجافة
- 2- اتباع النظم الرعوية المستدامة المتكاملة كما في كولومبيا
- 3- توفير الأعلاف، سواء من خلال التوسع في زراعة محصولي الذرة وفول الصويا، أو إصلاح المراعي الطبيعية
- 4- تحسين السلالات، وتوفير الرعاية البيطرية.

**السؤال الثاني: اذكر أنواع النقل والمواصلات قارة أمريكا الجنوبية.**

- 1- النقل البري
- 2- النقل المائي
- 3- النقل الجوي

**السؤال الثالث:- ما أسباب تطور الصناعة في قارة أمريكا الجنوبية؟**

- 1- اتساع مساحة القارة وتنوع مواردها الطبيعية وثرواتها المعدنية.
- 2- كثرة عدد السكان بالقارة، والذين يمثلون ثروة بشرية ساعدت على نمو اقتصاد القارة

**السؤال الرابع:- عدد أهم المعادن التي تدخل بالصناعة بقارة أمريكا الجنوبية.**

1- المنجنيز

2- الرصاص والزنك

**السؤال الخامس:- اذكر جهود دول قارة أمريكا الجنوبية لتحقيق التنمية الزراعية المستدامة.**

1- تحسين الري وإنشاء نظم ري حديثة، وكذلك تحسين شبكات الصرف.

2- بناء السدود الصغيرة للتغلب على مشكلة نقص المياه في بعض المناطق كما في بيرو.

3- تطبيق تكنولوجيا علم الوراثة الجديدة، واستخدام الآلات الزراعية الحديثة، والاستفادة من نتائج البحوث العلمية في مجال الزراعة وتنمية مهارات وبناء قدرات الفلاحين، لتطبيق الأساليب الزراعية الحديثة كما في تشيلي.

4- إدارة التربة من خلال اتباع نظام الدورات الزراعية، واستخدام الأسمدة، واستخدام بذور جيدة في الزراعة.

5- دعم المنظمات الدولية للقطاع الزراعي في بعض دول القارة لتنفيذ خطط التنمية الزراعية بالتعاون مع وزارات الزراعة بتلك الدول كما في بيرو والبرازيل

6- دعم الشباب الريفيين، والعمل على تحسين مستوى معيشتهم؛ لتشجيعهم على عدم ترك العمل بالزراعة.

7- تشجيع المشروعات الصغيرة والمتوسطة من خلال توفير المساعدات التقنية والمادية، والتدريب لتحسين إنتاجية واستدامة المزارع الأسرية.

السؤال السادس :- أمامك خريطة لقارة أمريكا الجنوبية صماء حدد عليها مايلي:

1- ميناء ساوباولو

2- دولة منتجة لنخيل الزيت كولومبيا

3- دولة منتجة للنحاس تشيلي

4- أولى الدول في إنتاج الأسماك بيرو

5- دولة تنتشر بها المراعي الطبيعية الأرجنتين

6- ثاني الدول المنتجة للبترول فنزويلا.

